

목록

01.10월_고3_사회(생활과윤리).....	1
02.10월_고3_사회(윤리와사상).....	5
03.10월_고3_사회(한국지리).....	9
04.10월_고3_사회(세계지리).....	13
05.10월_고3_사회(동아시아사).....	17
06.10월_고3_사회(세계사).....	21
07.10월_고3_사회(경제).....	25
08.10월_고3_사회(정치와법).....	29
09.10월_고3_사회(사회문화).....	33

제 4 교시

사회탐구 영역 (생활과 윤리)

성명		수험번호					3			제 [] 선택
----	--	------	--	--	--	--	---	--	--	----------


1. (가), (나)의 입장으로 가장 적절한 것은?

(가) 윤리학은 인간이 어떤 행위를 해야 하는가에 초점을 두고, 인간이 준수해야 할 보편적인 도덕규범을 정립하는 것을 목표로 삼아야 한다.
 (나) 윤리학은 인간이 어떻게 행위하고 있는가에 초점을 두고, 도덕 현상을 경험 과학적으로 조사하여 기술하는 것을 목표로 삼아야 한다.

- ① (가): 도덕적 삶으로 인도하는 행위 지침을 마련해야 한다.
- ② (가): 도덕 언어 분석을 윤리학의 핵심 목표로 삼아야 한다.
- ③ (나): 도덕적 문제 해결을 위한 도덕 이론을 정립해야 한다.
- ④ (나): 도덕규범의 타당성을 가치 중립적으로 검증해야 한다.
- ⑤ (가), (나): 도덕적 관습을 가치와 무관한 사실로 보아야 한다.

2. 그림의 강연자가 지지할 입장으로 적절하지 않은 것은?

인간은 외부 세계에서의 싸움에서 지쳤을 때 돌아와 긴장을 풀고 다시 나갈 수 있는 거주 공간을 필요로 합니다. 만약 인간에게서 그의 거주지의 평화를 박탈해 버린다면 인간의 내적인 해체는 불가피합니다. 그래서 사는 곳이 바뀌더라도 거주지의 질서와 집의 편안함을 새로운 장소에서 새롭게 만들어야 합니다. 인간은 거주 공간에서 진정한 자신의 존재 근거를 발견할 수 있습니다.



- ① 인간은 삶의 체험과는 분리된 점유물인 집에서 거주한다.
- ② 인간은 거주함으로써 자신의 참된 본질을 실현할 수 있다.
- ③ 인간은 사적인 거주 공간에서 마음의 평화를 이룰 수 있다.
- ④ 인간은 거주를 통해 외부의 위협으로부터 보호받을 수 있다.
- ⑤ 인간은 새로운 거주 공간에서도 자아를 상실하지 않을 수 있다.

3. ㉠에 들어갈 진술로 가장 적절한 것은?

인간이 상대의 성을 사용하는 것은 일종의 향유로서, 이러한 행위는 인간이 스스로를 사물로 만드는 것이며 인간이 갖는 고유한 인격체로서의 권리와 모순된다. 다만, 결혼이라는 조건하에서만 서로가 상대의 성을 사용하더라도 자기 자신을 사물로만 취급하는 것이 아니며 인격성을 상실하지도 않는다. 그런데 어떤 사람들은 성은 쾌락적 가치를 지니며 타인에게 해악을 주지 않는다면 서로가 동의한 성적 행위는 정당하다고 주장한다. 내가 보기에 이러한 주장은 ㉠은 점을 간과하고 있다.

- ① 성적 행위는 남에게 피해를 주지 않으면서 이루어져야 한다
- ② 성적 향유는 오직 부부라는 조건하에서만 정당화가 가능하다
- ③ 성은 성인들의 자발적 합의에 따라 자유롭게 추구해도 된다
- ④ 성적 행위는 사랑을 전제로 하지 않더라도 정당화될 수 있다
- ⑤ 성의 생식적인 가치보다 쾌락적인 가치를 더욱 중시해야 한다

4. 갑, 을, 병 사상가들의 입장으로 가장 적절한 것은? [3점]

갑: 실천 이성이 평화 상태를 직접적 의무로 부과하더라도 국가 간의 계약 없이 영원한 평화는 있을 수 없다. 모든 전쟁의 종식을 추구하는 평화 연맹이 있어야 한다.
 을: 국제 관계에서 국가 간 평화를 유지하는 방법은 세력 균형이다. 한 국가가 세력 균형의 유지와 재수립을 위해 사용하는 가장 주된 방법은 군비 경쟁이다.
 병: 군비 경쟁이 초래하는 전쟁이 사라져야 평화가 실현될 수 있다. 나아가 전쟁과 같은 직접적 폭력뿐만 아니라 구조적·문화적 폭력까지 제거해야 진정한 평화가 실현된다.

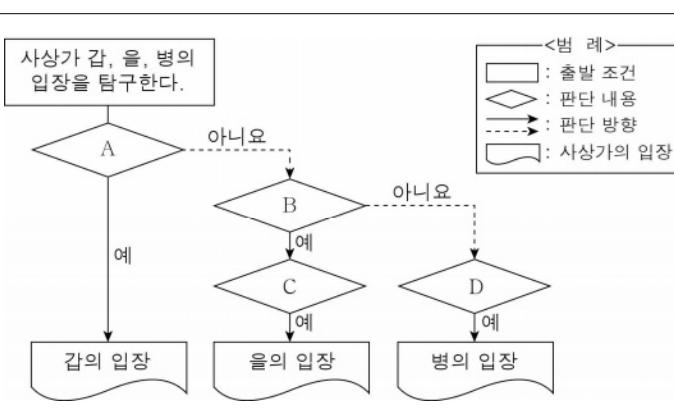
- ① 갑: 다수의 국제 연맹을 창설해야 항구적인 평화가 보장된다.
- ② 을: 인간의 본성에 근거하여 국제 관계를 이해해서는 안 된다.
- ③ 병: 구조적 폭력과 문화적 폭력은 항상 의도적으로 발생한다.
- ④ 갑, 을: 국가들 간의 모든 분쟁은 국제법으로 해결해야 한다.
- ⑤ 갑, 병: 진정한 평화의 실현을 위해 군비 경쟁을 삼가야 한다.

5. (가)의 갑, 을, 병 사상가들의 입장을 (나) 그림으로 탐구하고자 할 때, A ~ D에 들어갈 적절한 질문만을 <보기>에서 고른 것은? [3점]

(가)

갑: 대지 이용을 오직 경제적 문제로만 생각하지 말아야 한다. 대지를 경제적 관점뿐만 아니라 심미적·윤리적 관점에서도 검토해야 한다.
 을: 자연 존중의 태도를 이해하는 신념 체계가 생명 중심 관점이다. 생명 중심 관점에서는 모든 유기체를 목적론적 삶의 중심으로 생각한다.
 병: 동물 해방의 관점에서 우리는 종 차별주의를 벗어나 동물에게 불필요한 고통을 주지 않고 살아가야 한다.

(나)



< 보 기 >

㉠. A: 생명체는 인간의 평가로부터 독립된 가치를 지니는가?
 ㉡. B: 유정성이 없는 생명체들은 도덕적인 지위를 지니는가?
 ㉢. C: 모든 생명체는 의식적으로 목표와 목적을 추구하는가?
 ㉣. D: 동물의 고통과 인간의 동일한 고통을 동등하게 취급해야 하는가?

- ① ㉠, ㉡ ② ㉠, ㉢ ③ ㉡, ㉣ ④ ㉡, ㉣ ⑤ ㉢, ㉣

6. (가)의 갑, 을, 병 사상가들의 입장에서 서로에게 제기할 수 있는 비판을 (나) 그림으로 표현할 때, A~F에 해당하는 내용으로 가장 적절한 것은? [3점]

(가)	<p>갑: 인간은 태어날 때부터 타인을 지배하기를 좋아하지만, 비참한 자연 상태에서 벗어나 자기를 보존하고 만족스런 삶을 살기 위해 국가를 구성한다.</p> <p>을: 인간이 비교적 평화로운 자연 상태를 벗어나 각자의 생명, 자유, 재산을 평온하고 안전하게 향유하기 위해서는 국가가 필요하다.</p> <p>병: 인간의 행복 실현은 국가 속에서만 가능하다. 국가는 자연적 결사체의 최후 형태이자 최고선의 실현을 목표로 하는 가장 높은 단계이다.</p>
(나)	

- ① A: 군주가 아닌 입법부가 최고 통치 권력을 가짐을 간과한다.
- ② B: 준법의 의무는 명시적 동의를 통해서만 발생함을 간과한다.
- ③ B, D: 통치 권력은 절대적이고 자의적인 권력임을 간과한다.
- ④ C, E: 국가는 가족과 달리 선한 목적을 추구함을 간과한다.
- ⑤ D, F: 국가는 합리적인 개인들의 계약의 산물임을 간과한다.

7. 다음 토론의 핵심 쟁점으로 가장 적절한 것은? [3점]

<p>갑: 유전 공학의 발전으로 개발된 유전자 치료는 유전병을 치료할 수 있는 유일한 방법입니다. 유전자 치료는 인류의 고통을 줄일 수 있으므로 허용되어야 합니다.</p> <p>을: 동의합니다. 인류의 복지 증진을 위해 치료 목적의 유전적 개입을 허용해야 할 뿐만 아니라 부모의 선택에 따라 자녀의 유전적 자질을 강화하는 것도 허용해야 합니다.</p> <p>갑: 아닙니다. 유전자 강화를 통해 체력이나 지적 능력 등을 향상시키는 것은 자녀의 삶을 부모가 원하는 특정한 방향으로 유도하는 것입니다. 이는 후세대의 자율성을 침해하는 것이므로 허용되어서는 안 됩니다.</p> <p>을: 그렇지 않습니다. 후세대는 유전자 강화를 통해 향상된 체력이나 지적 능력 등을 이용해서 자신이 추구하는 삶의 목적을 달성할 수 있으므로, 유전자 강화는 자녀의 삶을 특정한 방향으로 유도하는 것이 아닙니다.</p>

- ① 유전자 치료는 인간의 이익을 위해 허용될 수 있는가?
- ② 유전 질환을 치료하려면 유전자 치료가 반드시 필요하나?
- ③ 유전적 강화는 후세대의 체력을 향상시킬 수 있는 기술인가?
- ④ 유전자 강화로 후세대의 삶을 특정 방향으로 유도해야 하는가?
- ⑤ 유전적인 자질을 향상시키는 유전자 강화는 허용될 수 있는가?

8. 갑, 을 사상가들의 입장만을 <보기>에서 있는 대로 고른 것은?

갑: 철인(哲人)들이 최고 지배자들이 되어 올바른 것을 가장 중대하고 가장 필요한 것으로 보고, 이를 받들고 증대시켜서 나라의 질서가 잡히게 해야 한다.

을: 명군(明君)이 백성의 생업을 관장함에 있어 부모 공양과 처자식 부양에 부족함이 없게 해야 백성을 선한 데로 이끌 수 있다. 백성은 향산이 없으면 향심도 없어진다.

— < 보 기 > —

ㄱ. 갑: 통치자는 좋음 자체를 모범으로 삼아 다스려야 한다.
 ㄴ. 을: 통치자는 백성의 삶의 기반인 향산을 보장해야 한다.
 ㄷ. 을: 통치자는 손수 농사를 짓고 다스리는 일도 해야 한다.
 ㄹ. 갑, 을: 통치자를 비롯한 모든 구성원은 자신의 사회적 직분을 이행해야 한다.

- ① ㄱ, ㄴ ② ㄱ, ㄷ ③ ㄷ, ㄹ
- ④ ㄱ, ㄴ, ㄹ ⑤ ㄴ, ㄷ, ㄹ

9. 다음을 주장한 사상가가 부정의 대답을 할 질문으로 옳은 것은?

명성을 추구하지 말고 모략을 일삼지 말아야 한다. 일의 책임자가 되지 말고 지혜의 주인이 되지 말아야 한다. 다함이 없는 도(道)를 체득하여 없음의 경지에서 노닐어야 한다. 지극한 사람[至人]의 마음 씀은 거울과 같아서 일부러 보내지도 않고 일부러 맞아들이지도 않는다. 그저 응할 뿐 간직하지 않는다.

- ① 자연의 섭리에 순응하고 선악을 객관적으로 분별해야 하는가?
- ② 천지 만물 어디에나 있는 도와 일치하는 삶을 살아야 하는가?
- ③ 마음을 비워 깨닫기 하고 타고난 본성에 따라 살아야 하는가?
- ④ 세속을 초월해 무엇에도 얽매이지 않는 삶을 추구해야 하는가?
- ⑤ 조용히 앉아 자신을 구속하는 일체의 것을 잊어버려야 하는가?

10. 갑, 을, 병 중에서 한 사람만이 긍정의 대답을 할 질문만을 <보기>에서 있는 대로 고른 것은? [3점]

갑: 이주민은 자신의 문화 정체성을 포기하고, 이주해 온 국가의 구성원이 되어 주류 사회의 일원으로 편입되어야 한다.

을: 다른 재료들이 섞여 각자 고유의 맛을 지키면서 하나의 샐러드가 되듯이 다양한 문화가 대등하게 조화되어야 한다.

병: 국수가 주된 내용물이지만 고명이 첨가됨으로써 국수 맛이 풍성해지듯이 주류 문화와 비주류 문화가 공존해야 한다.

— < 보 기 > —

ㄱ. 다양한 문화들은 사회 내에서 평등하게 공존해야 하는가?
 ㄴ. 이주민들의 서로 다른 문화적 정체성을 인정해야 하는가?
 ㄷ. 사회 통합은 문화 단일성을 전제로 이루어 나가야 하는가?
 ㄹ. 한 사회에는 중심점이 되는 주류 문화가 존재해야 하는가?

- ① ㄱ, ㄴ ② ㄱ, ㄷ ③ ㄴ, ㄹ
- ④ ㄱ, ㄷ, ㄹ ⑤ ㄴ, ㄷ, ㄹ

11. 다음 신문 칼럼의 입장만을 <보기>에서 있는 대로 고른 것은?

00신문 0000년 00월 00일

칼럼

오늘날에는 생사를 좌우하는 주요 신체 기능을 기계로 대체함으로써 심장 박동, 순환, 신진대사 등을 유지시키며 생명을 연장할 수 있게 되었다. 이는 죽음의 자연적 진행 과정을 기계적으로 조작할 수 있음을 의미한다. 그런데 회생 가능성이 없는 환자의 생명을 인위적으로 지속시키거나 단축시키는 것은 죽어가는 사람의 인간답게 죽을 권리를 침해하는 일이다. 인간의 존엄성에는 죽어가는 사람의 존엄성도 포함된다. 예컨대 불치병 환자에게 심폐 소생 장치를 연결하여 연명 치료를 지속하는 것보다 그 환자의 존엄성 유지를 위해 심폐 소생 장치를 연결하지 않는 것이 바람직하다.

— < 보 기 > —

ㄱ. 회생 불가능한 환자일지라도 존엄하게 대우해야 한다.
 ㄴ. 회생 불가능한 환자에 대한 적극적 안락사가 필요하다.
 ㄷ. 회생 불가능한 환자에게는 인간답게 죽을 권리가 있다.
 ㄹ. 회생 불가능한 환자 생명을 인위적으로 연장하면 안 된다.

- ① ㄱ, ㄴ ② ㄱ, ㄷ ③ ㄴ, ㄹ
 ④ ㄱ, ㄷ, ㄹ ⑤ ㄴ, ㄷ, ㄹ

12. 갑, 을 사상가들의 입장으로 적절하지 않은 것은? [3점]

갑: 사회 계약의 목적은 계약자들의 생명 보존에 있다. 남들을 희생시킴으로써 자기 생명을 보존하려는 사람은 필요하다면 남들을 위해 자기 생명도 내놓아야 한다. 사형도 같은 관점에서 고려해야 한다.
 을: 사회 계약의 산물인 법은 '최대 다수에 의해 공유된 최대 행복'의 목적에 비추어 평가해야 한다. 사형은 범죄 억제력이 낮고 잔혹함의 본보기를 제공하기 때문에 유해하다. 법은 스스로 살인죄를 범해서는 안 된다.

- ① 갑: 살인범은 생명권을 사회에 양도한 것으로 보아야 한다.
 ② 갑: 살인범은 법률적 인격체가 아닌 공공의 적으로 간주된다.
 ③ 을: 범죄 예방 효과는 형벌 타당성 평가의 기준이 될 수 없다.
 ④ 을: 살인범에 대한 사형은 유용하지도 않고 필요하지도 않다.
 ⑤ 갑, 을: 사형의 정당성은 사회 계약에 근거해 평가할 수 있다.

13. 다음을 주장한 사상가의 입장으로 가장 적절한 것은? [3점]

미는 도덕성의 상징이다. 바로 이 점에서 아름다움은 만족을 주며 모든 사람에게 동의를 요구하는 것이다. 누군가가 무엇인가를 아름답다고 한다면 이는 다른 사람들에게도 똑같은 만족을 요구하는 것이다. 이때 그는 단지 자기 자신만을 위해 판단하고 있는 것이 아니라 모든 사람을 위해 판단하고 있는 것이다.

- ① 미는 도덕과 달리 독립된 영역을 갖지 않는다.
 ② 미적 판단은 이해관계를 초월한 보편성을 지닐 수 있다.
 ③ 미의 판단 형식과 선의 판단 형식 간에는 유사성이 없다.
 ④ 미적 가치는 예술의 형식이 아닌 내용으로부터 도출된다.
 ⑤ 미적 즐거움은 이성에서 감성으로 나아가는 계기를 마련한다.

14. 다음을 주장한 사상가의 입장만을 <보기>에서 있는 대로 고른 것은?

의사소통이 이상적으로 이루어지기 위해서는 다음의 규칙들이 전제되어야 한다. 언어 능력과 행위 능력을 지닌 모든 주체가 담론에 참여할 수 있어야 하며, 참여한 모든 사람은 모든 주장을 문제시하여 담론의 내용으로 삼을 수 있어야 하고, 자신의 생각과 욕구를 표현할 수 있어야 한다. 이런 규칙들을 준수하며 실천적 담론에 참여하는 모든 당사자가 동등한 규범들만이 타당성을 가질 수 있다.

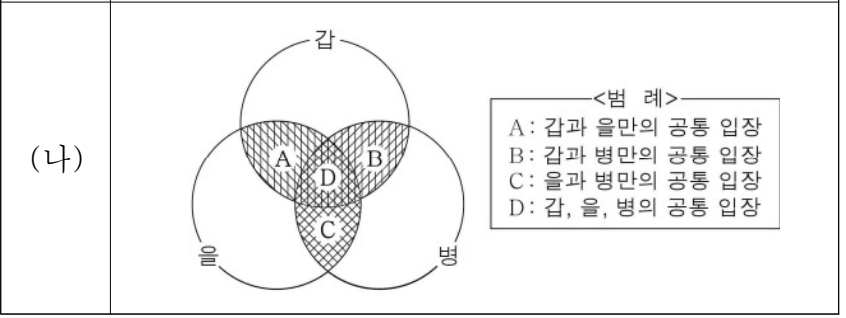
— < 보 기 > —

ㄱ. 규범이 정당화되려면 모든 담론 참여자가 합의해야 한다.
 ㄴ. 담론 참여자는 타인의 주장에 이의를 제기해서는 안 된다.
 ㄷ. 공정한 담론을 통해 합의된 준칙은 구속력을 지닐 수 있다.
 ㄹ. 담론의 공동 결의 과정에서 자신의 희망을 표현할 수 있다.

- ① ㄱ, ㄴ ② ㄱ, ㄷ ③ ㄴ, ㄹ
 ④ ㄱ, ㄷ, ㄹ ⑤ ㄴ, ㄷ, ㄹ

15. (가)의 갑, 을, 병 사상가들의 입장을 (나) 그림으로 표현할 때, A~D에 해당하는 적절한 진술만을 <보기>에서 있는 대로 고른 것은? [3점]

(가) 갑: 재산 소유 민주주의는 원초적 입장에서 채택된 정의의 두 원칙이 표현하는 모든 주요한 정치적 가치를 실현할 수 있다.
 을: 정치 공동체에서 부(富)를 전제적으로 사용하는 것은 부당하다. 어떤 사회적 가치도 다른 가치로 전환되어 다른 영역을 침해해서는 안 된다.
 병: 최소 국가는 정당화될 수 있는 국가로는 가장 포괄적인 국가이다. 이보다 더 포괄적인 국가는 개인의 소유 권리를 침해한다.



— < 보 기 > —

ㄱ. A: 국가가 사회적 약자를 위한 재분배 정책을 시행하는 것은 분배 정의에 위배되지 않는다.
 ㄴ. B: 부정의한 분배를 교정하기 위해 국가가 개입하는 것은 정당화될 수 있다.
 ㄷ. C: 과거의 상황이나 행위는 사물에 대한 현재의 응분의 자격을 발생시킬 수 없다.
 ㄹ. D: 재산과 소득의 균등 분배가 분배 정의 실현의 전제 조건은 아니다.

- ① ㄱ, ㄴ ② ㄱ, ㄹ ③ ㄴ, ㄷ
 ④ ㄱ, ㄷ, ㄹ ⑤ ㄴ, ㄷ, ㄹ

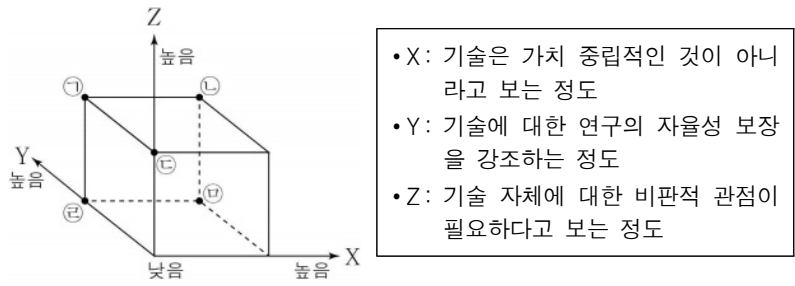
16. 갑, 을, 병 사상가들의 입장으로 적절하지 않은 것은? [3점]

갑: 우리는 국민이기 이전에 인간으로서 법보다 정의에 대한 존경심을 길러야 한다. 법에 대한 존경심 때문에 선량한 사람도 불의의 하수인이 되고 있다.
 을: 우리가 중단시키려는 악의 크기와 우리의 행위가 가져올 법과 민주주의에 대한 존중심의 감소 정도를 저울질해보고 불복종 여부를 판단해야 한다.
 병: 우리는 개인적인 도덕 원칙이나 종교적 교설이 아니라 정치 질서의 바탕에 깔려 있는 공유된 정의관에 의거하여 시민 불복종을 할 수 있다.

- ① 갑: 시민 불복종에 앞서 정부의 법 개정을 기다릴 필요는 없다.
- ② 을: 시민 불복종을 할 때 법치와 민주주의 원칙을 존중해야 한다.
- ③ 병: 시민 불복종은 효과적인 호소가 되도록 계획되어야 한다.
- ④ 갑, 병: 시민 불복종은 위법 행위이지만 양심적인 행위이다.
- ⑤ 을, 병: 시민 불복종은 다수결 원칙에 근거하여 행해져야 한다.

17. 갑 사상가의 입장에 비해 을 사상가의 입장이 갖는 상대적 특징을 그림의 ㉠~㉣ 중에서 고른 것은?

갑: 기술은 우리를 철저히 지배하고 있다. 오늘날 우리는 어디서나 기술에 붙들려 있다. 기술을 가치 중립적인 것으로 고찰하면 우리는 무방비 상태로 기술에 내맡겨진다.
 을: 기술은 수단일 뿐이며 그 자체는 선도 아니고 악도 아니다. 기술이 선한지 악한지는 인간이 기술로부터 무엇을 만들어 내고 기술을 어디에 사용하느냐에 달려 있다.



- ① ㉠ ② ㉡ ③ ㉢ ④ ㉣ ⑤ ㉣

18. 갑, 을 사상가들의 입장으로 가장 적절한 것은? [3점]

갑: 원조의 대상을 친소 관계를 바탕으로 결정하는 것은 이익 평등 고려의 원칙에 위배된다. 원조는 국가나 인종에 상관없이 절대 빈곤에 처한 사람들을 돕는 것이다.
 을: 원조의 목표는 사회들 간의 부와 복지의 수준을 조정하는 것이 아니다. 원조는 고통받는 사회가 질서 정연한 국제 사회의 구성원이 되도록 하는 것이다.

- ① 갑: 원조는 고통 감소 가능성에 대한 고려 없이 실시해야 한다.
- ② 갑: 원조는 각국의 부의 수준이 같아질 때까지 실시해야 한다.
- ③ 을: 원조 대상국은 불리한 여건으로 고통받는 사회로 국한된다.
- ④ 을: 원조 목적을 달성하기 위해서는 강제력의 사용도 허용된다.
- ⑤ 갑, 을: 원조의 주체는 민주적이면서 부유한 국가로 한정된다.

19. 갑, 을 사상가들의 입장에서 <사례> 속 A에게 해 줄 수 있는 조언으로 가장 적절한 것은?

갑: 의무란 도덕 법칙에 대한 존경심 때문에 반드시 어떤 행위를 할 수밖에 없는 것이다. 의무로부터 비롯된 행위만이 도덕적 가치를 갖는다.
 을: 두 가지 쾌락을 경험한 사람들이 그중 특정한 쾌락을 선호해야 한다는 도덕적 의무감과 상관없이 어느 한 쾌락을 확실히 선호한다면 그 쾌락이 더 바람직한 쾌락이다.

< 사례 >

A는 운영하던 회사가 어려워지자 돈을 갚을 수 없다는 것을 알면서도 친구에게 돈을 갚겠다는 거짓 약속을 하고 돈을 빌릴 것인가를 고민하고 있다.

- ① 갑: 거짓말해도 된다는 준칙은 보편화될 수 없음을 명심하세요.
- ② 갑: 자연적인 경향성에 따라 항상 정직해야 함을 명심하세요.
- ③ 을: 거짓말로 인한 결과는 고려할 필요가 없음을 명심하세요.
- ④ 을: 정직함은 유용성과 무관하게 도덕적인 것임을 명심하세요.
- ⑤ 갑, 을: 거짓말은 상황에 따라 허용될 수 있음을 명심하세요.

20. 다음 글의 입장에서 긍정의 대답을 할 질문만을 <보기>에서 있는 대로 고른 것은?

인터넷은 누구나 다양한 정보에 접근할 수 있게 함으로써 많은 사람들의 삶의 질 향상에 기여하고 있다. 하지만 정보 사회로의 변화에 적응하지 못하는 사람들이 사회적으로 소외되어 정보 격차가 발생하고 있다. 이러한 정보 격차로 인한 불평등을 완화하기 위해서는 사회적 차원에서 정보 소외 계층을 위해 정보 통신 기기를 보급하고 정보망을 구축할 필요가 있다. 그런데 이들이 인터넷 리터러시(internet literacy)가 부족하다면 온라인상에 무방비로 노출되어 사이버 범죄의 대상이 될 수 있으므로 이들의 정보 이해 및 표현 능력을 함양할 수 있는 교육 여건을 마련해야 할 것이다.

< 보기 >

- ㉠. 스마트 기기의 보급만으로 정보 격차가 해소되는가?
- ㉡. 정보 접근성을 확대하면 부의 평준화가 실현되는가?
- ㉢. 정보 소외 계층이 정보 이해력을 갖도록 도와야 하는가?
- ㉣. 정보화는 사회적 약자의 처지 개선에 기여할 수 있는가?

- ① ㉠, ㉡ ② ㉠, ㉢ ③ ㉢, ㉣
- ④ ㉠, ㉡, ㉣ ⑤ ㉡, ㉢, ㉣

* 확인 사항

○ 답안지의 해당란에 필요한 내용을 정확히 기입(표기)했는지 확인하십시오.

제 4 교시

사회탐구 영역 (윤리와 사상)

성명		수험번호				3			제 () 선택
----	--	------	--	--	--	---	--	--	----------

윤리와 사상

1. 다음 가상 편지를 쓴 고대 동양 사상가가 강조한 삶의 태도로 가장 적절한 것은?

○○께
 오늘은 지극한 덕(德)으로 다스려지는 세상에 대해 말씀드리고자 합니다. 그곳에서는 다 같이 무지(無知)하여 본래의 마음을 떠나지 않으며, 다 같이 욕심이 없으므로 소박합니다. 종래의 어짊[仁]과 의로움[義]은 성인(聖人)이 도(道)와 덕을 해쳐서 만든 것이니, 이는 나무의 순박함을 해쳐 술잔을 만든 것과 같습니다. ... (후략)

- ① 성인의 예법에 따라 소박하고 검소한 생활 습관을 기른다.
- ② 만물에 대한 분별적 관념을 버리고 자연의 순리를 따른다.
- ③ 천명(天命)에 따라 몸과 마음을 삼가는 신독(慎獨)에 힘쓴다.
- ④ 잃어버린 본래의 마음을 되찾고[求放心] 의로운 일을 쌓는다.
- ⑤ 탐욕을 고통의 근원으로 여기고 열반에 이르는 수행에 힘쓴다.

2. 고대 서양 사상가 갑, 을의 입장으로 가장 적절한 것은?

갑: 정의는 강자의 이익이다. 통치자는 자기에게 이익이 되는 것을 피치자에게 정의로운 것으로 선언하고, 이를 위반하는 자를 범법자나 불의한 자로 규정하여 처벌한다.
 을: 정의는 각자가 제 할 일을 하는 것이다. 국가의 세 계층인 통치자, 방위자, 생산자가 남의 일에 참견하지 않고 자신의 일을 하여 전체적으로 조화를 이룬 것이 정의이다.

- ① 갑: 정의는 현실 세계가 아니라 이상 세계에서 찾아야 한다.
- ② 갑: 법을 준수하는 것은 피치자에게 최대의 이익을 가져온다.
- ③ 을: 정의로운 국가에서 철학과 정치권력은 하나로 결합된다.
- ④ 을: 계층 간의 간섭은 배제해야 하지만 역할 교환은 해야 한다.
- ⑤ 갑, 을: 이성보다는 감각적 경험을 통해 정의를 파악해야 한다.

3. 사회사상가 갑, 을의 입장으로 가장 적절한 것은? [3점]

갑: 어느 누구도 나의 활동에 간섭하지 않을 때 참된 자유가 실현된다. 참된 자유는 다른 사람으로부터 방해받지 않고 행동할 수 있을 때 실현되며, 불간섭의 영역이 넓어질수록 자유의 영역도 넓어진다.
 을: 어느 누구도 나를 자의적으로 지배하지 않을 때 참된 자유가 실현된다. 참된 자유는 고립을 통해 얻어질 수 있는 간섭의 부재가 아니라, 상호작용하는 행위자들의 존재를 전제하는 비지배로서의 자유를 의미한다.

- ① 갑: 참된 자유는 소극적 자유가 아니라 적극적 자유이다.
- ② 갑: 개인은 사적 영역이 줄어들수록 더 많은 자유를 누린다.
- ③ 을: 비지배로서의 자유는 사회와 분리된 삶을 통해 실현된다.
- ④ 을: 어떤 간섭도 없어야 비지배로서의 자유가 완전히 실현된다.
- ⑤ 갑, 을: 법에 의한 통치는 참된 자유의 실현에 기여할 수 있다.

4. 그림은 고대 동양 사상가들의 가상 대화이다. 갑, 을의 입장에 대한 설명으로 옳은 것은?

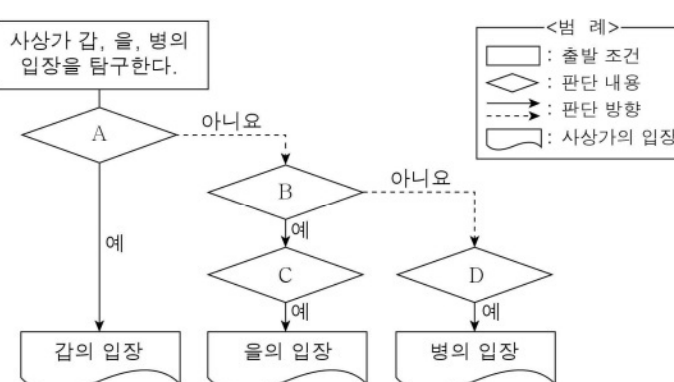
마음 수양은 욕구를 줄이는 것 [寡欲]보다 더 좋은 방법이 없습니다. 선한 본성을 따르면 대인(大人)이 되고, 육체적 감각을 따르면 소인(小人)이 됩니다.

마음 수양은 예(禮)에 따르는 것보다 더 빠른 길이 없습니다. 예는 성인(聖人)이 본성을 변화시키고 인위를 일으켜 만든 것이며, 나를 바르게 하는 것입니다.




- ① 갑은 소인과 달리 대인은 선한 본성을 갖고 태어난다고 본다.
- ② 갑은 모든 육체적 욕구를 제거해야 성인이 될 수 있다고 본다.
- ③ 을은 하늘을 도덕의 모범으로 삼아 예를 확립해야 한다고 본다.
- ④ 을은 백성들의 욕구는 예를 기준으로 조절되어야 한다고 본다.
- ⑤ 갑, 을은 도덕적 인식 능력은 마음 수양으로 형성된다고 본다.

5. (가)의 서양 사상가 갑, 을, 병의 입장을 (나) 그림으로 탐구하고자 할 때, A ~ D에 들어갈 질문으로 옳은 것은? [3점]

(가)	<p>갑: 사람들은 자연 상태에서 국가에 의한 구속을 스스로 부과한다. 이는 인간의 이기적 본성으로 인한 전쟁 상태에서 벗어나기 위함이다.</p> <p>을: 사람들은 자연 상태에서 비교적 평화롭게 살아가지만 불확실하게 향유하던 자연권을 확실히 보장받기 위해 자연법의 집행권을 사회에 양도한다.</p> <p>병: 사람들은 자연 상태에서 자유롭게 평등하지만 사유 재산의 발생으로 인해 불평등이 생기자 자신의 몸과 모든 힘을 일반 의지에 양도한다.</p>
(나)	<div style="border: 1px solid black; padding: 5px; margin-bottom: 10px;"> <p>사상가 갑, 을, 병의 입장을 탐구한다.</p> </div> <div style="border: 1px solid black; padding: 5px;"> <p style="text-align: right;"><범례></p> <p>□ : 출발 조건</p> <p>◇ : 판단 내용</p> <p>→ : 판단 방향</p> <p>○ : 사상가의 입장</p> </div> 

- ① A: 국가는 자연 상태에서의 불의를 극복하기 위한 합의체인가?
- ② B: 국가는 개인의 권리 양도 없이도 성립 가능한 공동체인가?
- ③ B: 국가는 개인의 자유와 권리 보호를 위한 계약의 산물인가?
- ④ C: 국가는 개인의 재산을 자의적으로 처분할 권한을 갖는가?
- ⑤ D: 국가는 공공의 이익을 추구하는 일반 의지를 대행하는가?

6. 다음을 주장한 고대 동양 사상가의 입장으로 옳지 않은 것은?

이것이 있기 때문에 저것이 있고, 이것이 일어나기 때문에 저것이 일어난다. 이 진리를 깨달으면 생사(生死)의 흐름을 끊을 수 있다. 비구들이여, 열심히 닦아 익히며 바른 법(法)과 계율로 정진하라. 정진하여 깨달음을 얻은 자는 번뇌가 불꽃처럼 일어나는 괴로움이라는 과보(果報)를 받지 않는다.

- ① 삼독(三毒)을 제거하면 해탈에 이를 수 있다.
- ② 무명(無明)을 성취하여 윤회에서 벗어나야 한다.
- ③ 선업(善業)을 쌓아 나가면 삶의 고통을 줄일 수 있다.
- ④ 연기(緣起)를 깨달아 나와 남을 차별하지 않아야 한다.
- ⑤ 중도(中道)를 닦아 오온(五蘊)에 대한 집착을 끊어야 한다.

7. 고대 서양 사상가 갑, 근대 서양 사상가 을의 입장만을 <보기>에서 있는 대로 고른 것은? [3점]

갑: 자제력 없는 사람은 악을 알고도 정념 때문에 악을 행할 수 있다. 그러나 자제력 있는 사람은 악을 알면 이성 때문에 악을 행하지 않는다. 이성은 사람의 고유한 기능이며 실천적 지혜는 영혼의 이성적 부분과 관련된 덕이다.
 을: 정념에 속박된 사람은 선을 알고도 악을 행할 수 있다. 그러나 이성에 인도되는 사람은 자기가 가장 중요하다고 인식하는 것만을 행한다. 후자가 품는 최고의 욕망은 자기와 신과 사물의 필연성을 인식하는 것이다.

< 보 기 >

- ㄱ. 갑: 인간의 모든 악행은 자제력 없음에서 비롯된다.
- ㄴ. 갑: 실천적 지혜가 있어야 절제의 덕을 갖출 수 있다.
- ㄷ. 을: 정념 발생의 질서를 이해하면 정념을 극복할 수 있다.
- ㄹ. 갑, 을: 이성을 탁월하게 발휘해야 행복을 누릴 수 있다.

- ① ㄱ, ㄴ ② ㄱ, ㄷ ③ ㄴ, ㄹ
- ④ ㄱ, ㄷ, ㄹ ⑤ ㄴ, ㄷ, ㄹ

8. 고대 동양 사상가 갑, 을의 입장으로 가장 적절한 것은?

갑: 천하에 도(道)가 있으면 예악(禮樂)과 정벌(征伐)이 천자로부터 나오고, 천하에 도가 없으면 예악과 정벌이 제후로부터 나온다. 군자(君子)는 도를 구할 뿐 밥을 구하지 않으며, 도를 걱정할 뿐 가난을 걱정하지 않는다.
 을: 천하에 도가 있으면 전쟁이 없으므로 말이 농사를 짓는데 쓰이고, 천하에 도가 없으면 전쟁이 그치지 않아 말이 전쟁터에서 새끼를 낳는다. 도는 무위(無爲)하며 성인(聖人)은 도 하나만을 지녀 천하의 본보기가 된다.

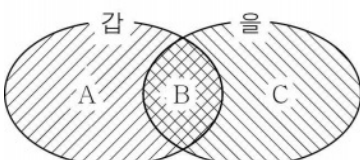
- ① 갑: 도는 각자가 자기 역할을 충실히 행할[正名] 때 실현된다.
- ② 갑: 도는 수행자가 자아조차 잊어버려야[坐忘] 체득될 수 있다.
- ③ 을: 도는 본성[性]을 교정하기 위해 성인이 제정한 규범이다.
- ④ 을: 도는 인(仁)과 예(禮)가 사라졌기 때문에 생겨난 것이다.
- ⑤ 갑, 을: 도는 만물의 시비선악(是非善惡)을 구별하는 기준이다.

9. 사회사상가 갑, 을의 입장으로 가장 적절한 것은? [3점]

갑: 민주주의는 시민이 지배하는 것을 의미하지 않으며 의미할 수도 없다. 민주주의는 시민의 표를 얻는 데 성공한 정치 엘리트가 모든 정치적 문제에 대한 결정권을 부여받는 제도적 장치일 뿐이다.
 을: 민주주의에서는 답론 규칙을 토대로 합리적 의사소통을 통해 시민 사회의 정치적 의지가 형성되어야 한다. 정책 결정의 과정은 공적 심의를 통해 이루어져야 하며, 이는 시민의 유대를 강화시킬 수 있다.

- ① 갑: 시민은 정치 엘리트를 승인하거나 부인할 기회가 없다.
- ② 갑: 정치 엘리트는 시민보다 비합리적인 결정을 하기 쉽다.
- ③ 을: 공적 심의가 이루어지는 공론장은 사회의 통합에 기여한다.
- ④ 을: 정책 결정의 과정은 답론 규칙을 따르지 않아도 정당하다.
- ⑤ 갑, 을: 민주주의는 시민의 직접적인 정치 참여로 완성된다.

10. (가)의 근대 서양 사상가 갑, 을의 입장을 (나) 그림으로 표현할 때, A~C에 해당하는 옳은 진술만을 <보기>에서 있는 대로 고른 것은? [3점]

(가)	갑: 도덕성은 이성적 판단의 대상이 아니다. 덕과 악덕이 유발하는 인상이나 소감을 통해서만 우리는 덕과 악덕의 차이를 확정할 수 있다. 을: 도덕성은 행위가 가져올 결과에 대한 애정 때문이 아니라 도덕 법칙에 대한 존경심 때문에 어떤 행위를 할 수밖에 없는 필연성에 달려 있다.
(나)	 <div style="border: 1px solid black; padding: 5px; margin-left: 20px;"> < 범례 > A: 갑만의 입장 B: 갑, 을의 공통 입장 C: 을만의 입장 </div>

< 보 기 >

- ㄱ. A: 도덕적 선악에 대한 구별은 쾌락과 고통에 의존한다.
- ㄴ. B: 도덕적 선악에 대한 구별은 보편성을 지닐 수 있다.
- ㄷ. C: 어떤 감정도 도덕적 행위를 하는 데 기여할 수 없다.
- ㄹ. C: 도덕적 의무의 이행과 자율적 행위는 양립할 수 없다.

- ① ㄱ, ㄴ ② ㄱ, ㄹ ③ ㄷ, ㄹ
- ④ ㄱ, ㄴ, ㄷ ⑤ ㄴ, ㄷ, ㄹ

11. 중세 서양 사상이 갑, 을의 입장으로 가장 적절한 것은? [3점]

갑: 최고선은 영원한 생명이며 최고악은 영원한 죽음이다. 영원한 생명을 얻으려면 선의지에 따라 살아야 하며 신의 도움이 필요하다. 신국(神國)의 시민은 영원한 생명을 목표로 삼으며 신을 따르는 삶을 살아간다.
 을: 선(善)은 행해져야 하고 악(惡)은 피해져야 한다는 것은 자연법의 제일 원리이다. 인간은 자신의 고유한 본성인 이성에 따라 선을 지향하는 성향, 즉 신에 대한 진리를 알고자 하고 사회에서 살려는 자연적 성향을 갖는다.

- ① 갑: 선의지를 발휘하면 신의 은총 없이도 원죄에서 벗어난다.
- ② 갑: 악은 인간의 의지로부터 비롯되며 선에 대립하는 실체이다.
- ③ 을: 자연법은 인간의 실천이성이 자율적으로 제정한 것이다.
- ④ 을: 자연적 성향에 대한 성찰로 신이 원하는 바를 알 수 있다.
- ⑤ 갑, 을: 신의 계시 없이 이성으로 신의 존재를 논증할 수 없다.

12. 다음을 주장한 근대 서양 사상의 입장만을 <보기>에서 있는 대로 고른 것은?

- 공화정에서 전쟁을 개시하려면 국민의 동의가 필요한데 국민은 전쟁의 재앙을 각오해야 하므로 전쟁을 꺼리게 된다. 공화정은 영원한 평화를 가져올 수 있는 체제이다.
- 개인들이 사회 계약에 기초하여 국가를 세우듯이, 국가들은 자발적으로 결성한 연방 체제에 기초하여 영원한 평화를 실현할 수 있다.

< 보 기 >

ㄱ. 모든 국가의 시민적 정치 체제는 공화정이 되어야 한다.
 ㄴ. 전쟁 억제력을 지닌 강력한 세계 정부를 수립해야 한다.
 ㄷ. 국제법은 개별 주권 국가들의 연방 체제에 기초해야 한다.
 ㄹ. 평화의 실현을 이성이 명령하는 도덕적 의무로 보아야 한다.

- ① ㄱ, ㄴ ② ㄱ, ㄹ ③ ㄴ, ㄷ
- ④ ㄱ, ㄷ, ㄹ ⑤ ㄴ, ㄷ, ㄹ

13. (가)의 현대 서양 사상이 갑, 을의 입장에서 볼 때, (나)의 ㉠에 들어갈 진술로 가장 적절한 것은?

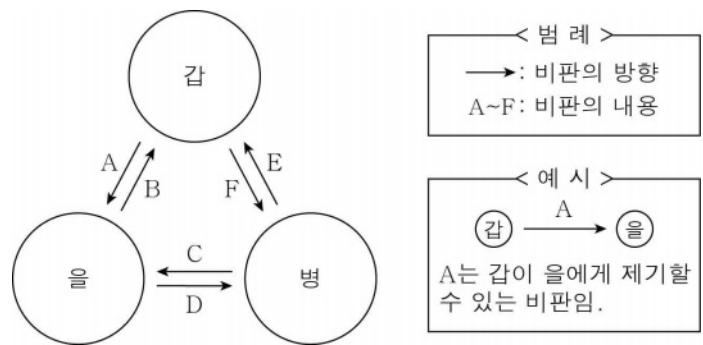
(가)	갑: 신 앞에 홀로 서는 것, 다시 말해 전적으로 자기 자신이 되는 것은 큰 노력과 큰 책임이 따르는 일이다. 이는 이성으로는 파악할 수 없는 일이다. 을: 인간의 본성을 구상하는 신이 없기에 인간은 스스로가 구상하는 무엇이며, 스스로가 원하는 무엇이다. 인간은 먼저 존재하고 그 후에 정의된다.
(나)	㉠ _____ . 그러면 바람직한 삶을 살 수 있다.

- ① 갑: 지성을 발휘하여 주관적 진리를 극복하라
- ② 갑: 윤리적 삶을 통해 절망에서 완전히 벗어나라
- ③ 을: 자신의 유한성을 깨닫고 절대자에게 의지하라
- ④ 을: 인간의 보편적 본성을 발견하고 온전히 실현하라
- ⑤ 갑, 을: 주체적 결단을 통해 참된 자기 자신이 되어라

[14~15] 갑은 중국 사상가, 을과 병은 한국 사상가들이다. 물음에 답하시오.

갑: 하늘이 명(命)한 본성[性]이자 마음의 본체인 양지(良知)는 자연히 대상을 환하게 알 수 있는 능력이다. 맹자가 말한 시비지심(是非之心)은 지(知)이며 모든 사람이 가지고 있으니 이른바 양지이다.
 을: 하늘이 명한 본성은 이(理)와 기(氣)가 부여된 것 중에서 이의 본연의 자리를 가리킨다. 그 가리키는 바가 이에 있고 기에 있지 않기에 순선하여 악이 없다. 사단은 이의 발현이므로 선하지 않음이 없다.
 병: 하늘이 명한 본성은 선을 좋아하고 악을 싫어한다. 본성이 선을 좋아하기에 측은(惻隱)·사양(辭讓)의 마음이, 악을 싫어하기에 수오(羞惡)·시비(是非)의 마음이 있다. 네 가지 마음을 확충하면 사덕을 이룰 수 있다.

14. 갑, 을, 병의 입장에서 서로에게 제기할 수 있는 비판을 그림으로 표현할 때, A~F에 해당하는 내용으로 가장 적절한 것은? [3점]



- ① A: 인간은 선을 알면서도 실천하지 않을 수 있음을 간과한다.
- ② B, D: 인간은 기질지성(氣質之性)을 지니고 있음을 간과한다.
- ③ C, E: 인간의 시비지심은 본성을 확충해야 획득됨을 간과한다.
- ④ D, F: 하늘이 인간에게 명한 본성이 곧 천리(天理)임을 간과한다.
- ⑤ E: 동물과 인간 모두에게 하늘이 양지를 부여했음을 간과한다.

15. 다음을 주장한 한국 사상의 입장에서 을에게 제기할 수 있는 비판으로 가장 적절한 것은? [3점]

측은해하는 마음은 애(哀)에 속하고, 부끄러워하고 미워하는 마음은 오(惡)에 속한다. 공경하는 마음은 구(懼)에 속하고, 옳음과 그름을 구별하는 마음은 희(喜)·노(怒)가 마땅한가 마땅하지 않은가를 아는 감정에 속한다. 칠정 이외에 사단이 따로 있는 것이 아니다.

- ① 악(惡)은 기질의 탁함과 치우침에서 비롯된 것임을 간과한다.
- ② 욕(欲)은 기에 근원을 두고서 드러나는 정(情)임을 간과한다.
- ③ 발(發)은 기만 가능하며 이는 발하는 근거일 뿐임을 간과한다.
- ④ 인(仁)은 남을 측은히 여기는 마음의 실마리[端]임을 간과한다.
- ⑤ 성(誠)은 경(敬)에 힘써야 나아갈 수 있는 경지임을 간과한다.

16. 고대 서양 사상이 갑, 을의 입장으로 가장 적절한 것은?

갑: 쾌락을 적극적으로 추구해도 좋은 유일한 경우는 심신에 고통을 주지 않는 경우이다. 충족하지 않아도 고통을 낳지 않는 욕구를 충족하려는 것은 헛된 생각에서 비롯된다.
 을: 쾌락에 휩쓸리지 않아야 한다. 무엇을 받아들이거나 피하려는 의지는 우리의 능력 안에 있다. 자연의 필연성을 받아들이고 정념의 지배에서 벗어나 이성애 따라 살아야 한다.

- ① 갑: 자연적이지 않은 욕구도 제한 없이 충족해야 한다.
- ② 갑: 사회 전체의 쾌락을 위해 공적인 삶에 헌신해야 한다.
- ③ 을: 이성을 온전하게 발휘하여 모든 정념을 제거해야 한다.
- ④ 을: 쾌락 그 자체는 선이지만 쾌락에 탐닉하지 않아야 한다.
- ⑤ 갑, 을: 평온한 마음을 갖기 위해 절제하는 삶을 살아야 한다.

17. 다음을 주장한 중국 사상의 입장만을 <보기>에서 고른 것은?

마음은 본성[性]과 감정[情]을 주재한다. 마음을 바르게 하려면 먼저 뜻을 정성스럽게 해야 하고, 뜻을 정성스럽게 하려면 먼저 앎을 극진히 해야 하며, 앎을 극진히 하려면 먼저 사물에 나아가 그 이치[理]를 궁구해야 한다.

< 보 기 >
 ㄱ. 격물(格物)을 통해 천리(天理)를 밝힐 수 있다.
 ㄴ. 마음은 사덕(四德)과 사단(四端) 모두를 포괄한다.
 ㄷ. 마음의 이치와 사물의 이치는 그 근원이 서로 다르다.
 ㄹ. 앎이 극진해지면 선과 악을 구분하는 능력이 생겨난다.

- ① ㄱ, ㄴ ② ㄱ, ㄷ ③ ㄴ, ㄷ ④ ㄴ, ㄹ ⑤ ㄷ, ㄹ

18. 다음을 주장한 근대 서양 사상의 입장에만 모두 '✓'를 표시한 학생은? [3점]

행복은 유일하게 바람직한 목적이다. 다른 모든 것은 이 목적을 달성하는 수단으로서만 바람직하다. 행복이란 쾌락을, 그리고 고통의 부재를 뜻한다. 우리의 궁극적 목적은 양과 질 모두의 측면에서 고통을 피하고 쾌락을 최대한 누리는 것이다.

입장	학생				
	갑	을	병	정	무
쾌락을 추구하는 인간의 본성은 도덕 원리의 기반이다.	✓	✓		✓	
쾌락의 질이 높아지면 쾌락의 양은 필연적으로 증가한다.	✓		✓		✓
행위의 동기는 행위의 도덕성을 판단하는 근거가 될 수 없다.		✓		✓	✓
행복의 총량을 증가시키더라도 자기희생은 아무런 가치를 갖지 못한다.			✓	✓	✓

- ① 갑 ② 을 ③ 병 ④ 정 ⑤ 무

19. 한국 불교 사상이 갑, 을의 입장만을 <보기>에서 있는 대로 고른 것은? [3점]

갑: 부처의 모든 가르침은 일심(一心)과 이문(二門)을 벗어나지 않는다. 진여문(眞如門)에 의지해 지행(止行)을 닦고 생멸문(生滅門)에 의지해 관행(觀行)을 닦아야 한다. 지와 관의 두 수행은 함께 이루어져야 한다.
 을: 선정(禪定)은 본체[體]이고 지혜(智慧)는 작용[用]이다. 선정이 곧 지혜이므로 고요하면서도 밝은 앎이 있고, 지혜가 곧 선정이므로 밝게 알면서도 항상 고요하다. 선정과 지혜의 두 수행은 함께 이루어져야 한다.

< 보 기 >
 ㄱ. 갑: 부처의 마음과 중생의 마음은 본래 하나이다.
 ㄴ. 을: 경전 공부 없이는 불성(佛性)을 자각할 수 없다.
 ㄷ. 을: 습기(習氣)가 있으면 선정과 지혜를 닦을 수 없다.
 ㄹ. 갑, 을: 각 종파가 추구하는 궁극적 진리는 다르지 않다.

- ① ㄱ, ㄴ ② ㄱ, ㄹ ③ ㄴ, ㄷ
- ④ ㄱ, ㄷ, ㄹ ⑤ ㄴ, ㄷ, ㄹ

20. 사회사상이 갑, 을, 병의 입장으로 가장 적절한 것은?

갑: 개인은 자신의 이익을 위해 노동 생산물이 최대 가치를 갖도록 노력할 뿐이다. 그러나 이를 통해 개인은 시장의 '보이지 않는 손'에 이끌려 사회의 이익을 증진하게 된다.
 을: 개인의 이익 추구하고 사회의 이익 증진이 항상 조화되는 방향으로 작동하는 것은 아니다. 자본주의의 결함을 보완하기 위해 정부는 투자의 사회화를 추구해야 한다.
 병: 개인이나 기업의 자유 경쟁이 계획 경제보다 우월하다. 자유 경쟁은 효율적이지만 계획 경제는 모든 과업에 대해 억지로 동의하도록 강요하여 노예의 길로 이끌 뿐이다.

- ① 갑: 정부는 국부 증대를 위해 계획 경제 체제를 확립해야 한다.
- ② 을: 시장 실패는 모든 생산 수단의 공유로써 해결되어야 한다.
- ③ 병: 정부는 유효 수요 창출을 위해 재정 지출을 확대해야 한다.
- ④ 갑, 병: 자유롭게 경쟁할 수 있는 시장 질서를 존중해야 한다.
- ⑤ 을, 병: 정부는 시장에 개입하여 완전 고용을 실현해야 한다.

* 확인 사항
 ○ 답안지의 해당란에 필요한 내용을 정확히 기입(표기)했는지 확인하십시오.

제 4 교시

사회탐구 영역 (한국지리)

성명		수험번호				3			제 () 선택
----	--	------	--	--	--	---	--	--	----------

1. 다음 글의 ㉠~㉣에 대한 옳은 설명만을 <보기>에서 고른 것은?

지리 정보는 지표 공간에 나타나는 다양한 지리적 현상과 관련된 정보로 ㉠ 공간 정보, 속성 정보, 관계 정보로 구성된다. 지리 정보는 지도, 문헌, ㉡ 현지 답사 등을 통해 수집하며, 최근에는 ㉢ 원격 탐사를 통한 수집도 활발해졌다. 지리 정보를 효과적으로 표현하기 위해 도표, 그래프, 통계 지도 등이 활용된다. 통계 지도에는 ㉣ 점묘도, 등치선도, 유선도 등이 있다. 최근 지리 정보 시스템(GIS)이 보편화되면서 최적 입지 결정에 ㉤ 중첩 분석이 활용되고 있다.

< 보 기 >

ㄱ. ㉠은 장소의 인문 및 자연 특성을 나타내는 정보이다.
 ㄴ. ㉡이 어려운 지역의 경우 ㉢을 통해 지리 정보를 수집할 수 있다.
 ㄷ. ㉢은 '우리나라 연평균 기온 분포'를 표현하기에 적합하다.
 ㄹ. ㉣은 각각의 지리 정보를 표현한 여러 장의 지도를 겹쳐서 분석하는 방법이다.

- ① ㄱ, ㄴ ② ㄱ, ㄷ ③ ㄴ, ㄷ ④ ㄴ, ㄹ ⑤ ㄷ, ㄹ

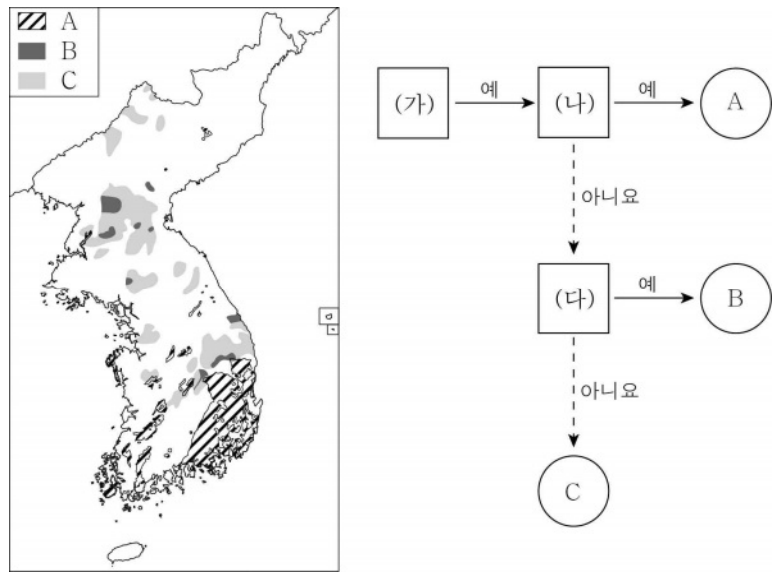
2. 다음 자료의 (가) 섬에 대한 설명으로 옳은 것은? [3점]

1730년대에 프랑스인이 제작한 조선왕국전도입니다. 이름은 다르게 표기했지만, (가)와/과 울릉도가 조선의 영토로 표현되어 있습니다.

당시 (가)을 부르던 이름인 '우산도(于山島)'의 한자를 '천산도(千山島)'로 혼동하여 '찬찬타오(Tchian-chan-tao)'로 표기하였군요.

- ① 우리나라 영토의 극동 지점이 있다.
 ② 종합 해양 과학 기지가 건설되어 있다.
 ③ 영해 설정 시 직선 기선의 기점이 된다.
 ④ 화구의 함몰로 형성된 나리 분지가 있다.
 ⑤ 최종 빙기에 한반도와 육지로 연결되어 있었다.

3. 지도는 A~C 지질 계통의 분포를 나타낸 것이다. 그림의 (가)~(다)에 들어갈 옳은 내용을 <보기>에서 고른 것은? (단, A~C는 각각 경상 누층군, 조선 누층군, 평안 누층군 중 하나임.) [3점]

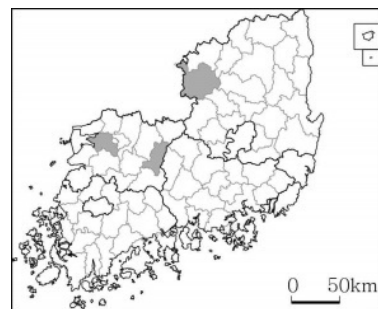
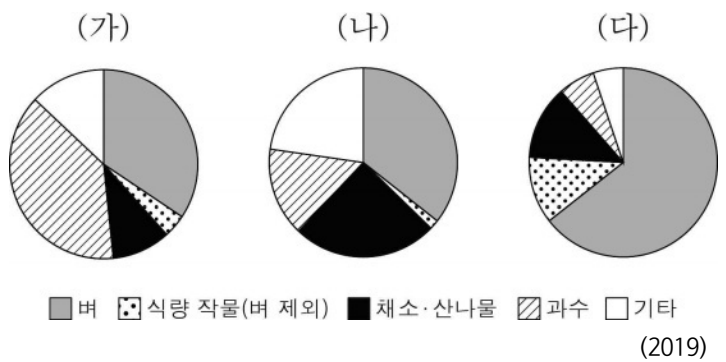


< 보 기 >

ㄱ. 퇴적암이 주로 분포하고 있습니까?
 ㄴ. 무연탄이 많이 매장되어 있습니까?
 ㄷ. 중생대 중기~말기에 형성되었습니까?

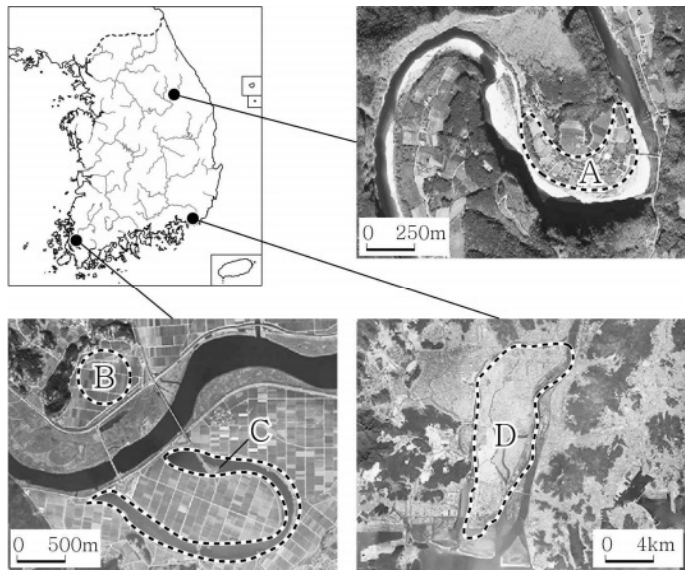
- | | | | | | | | |
|---|-----|-----|-----|---|-----|-----|-----|
| | (가) | (나) | (다) | | (가) | (나) | (다) |
| ① | ㄱ | ㄴ | ㄷ | ② | ㄱ | ㄷ | ㄴ |
| ③ | ㄴ | ㄱ | ㄷ | ④ | ㄴ | ㄷ | ㄱ |
| ⑤ | ㄷ | ㄱ | ㄴ | | | | |

4. 그래프는 지도에 표시된 세 지역의 영농 형태별 농가 수 비율을 나타낸 것이다. (가)~(다)에 대한 설명으로 옳은 것은?



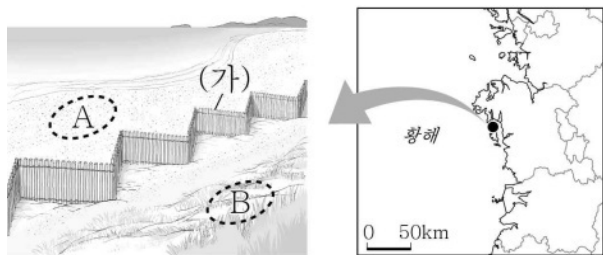
- ① (가)에서는 지평선 축제가 개최된다.
 ② (나)는 경상도라는 지명이 유래된 지역 중 하나이다.
 ③ (다)는 논 면적보다 밭 면적이 넓다.
 ④ (다)는 (나)보다 쌀과 맥류의 그루갈이가 활발하다.
 ⑤ 전체 농가 수는 (나) > (다) > (가) 순으로 많다.

5. 다음 자료의 A~D 지형에 대한 설명으로 옳지 않은 것은?



- ① A는 지반 융기의 영향을 받았다.
- ② B는 하천의 퇴적 작용으로 형성되었다.
- ③ C는 과거에 하천 유로의 일부였다.
- ④ D에서는 자연 제방과 배후 습지를 볼 수 있다.
- ⑤ A는 B보다 홍수 시 침수될 가능성이 높다.

6. 그림은 지도에 표시된 지역의 해안 지형과 구조물을 나타낸 것이다. 이에 대한 옳은 설명만을 <보기>에서 고른 것은? (단, A, B는 각각 사빈, 해안 사구 중 하나임.)



< 보 기 >

ㄱ. A는 주로 곳에 발달한다.
 ㄴ. B는 태풍이나 해일 피해를 완화해 주는 역할을 한다.
 ㄷ. A는 B보다 퇴적물의 평균 입자 크기가 크다.
 ㄹ. (가)는 B의 침식을 가속화시키는 역할을 한다.

- ① ㄱ, ㄴ ② ㄱ, ㄷ ③ ㄴ, ㄷ ④ ㄴ, ㄹ ⑤ ㄷ, ㄹ

7. 다음 자료의 ㉠~㉣에 대한 설명으로 옳은 것은?

㉠ 남한강 가운데 솟은 봉우리 3개는 단양 8경 중 으뜸인 '도담삼봉'이다. 도담삼봉은 ㉡ 석회암이 오랜 ㉢ 용식 작용을 받아 만들어진 지형이다. ㉣ 단양은 180여 개의 ㉣ 천연 동굴이 분포하는 등 지형학적 가치가 높아 13번째로 국가지질공원 인증을 받았다.

▲ 김홍도의 도담삼봉도

- ① ㉠의 하구에는 하굿둑이 건설되어 있다.
- ② ㉡은 시멘트 공업의 주원료로 이용된다.
- ③ ㉢은 물리적 풍화 작용에 해당한다.
- ④ ㉣에는 주로 흑갈색의 간대 토양이 분포한다.
- ⑤ ㉣은 용암이 냉각되는 과정에서 형성된다.

8. 다음 자료의 (가) 환경 문제가 지속될 경우 우리나라에 나타날 변화에 대한 추론으로 가장 적절한 것은?

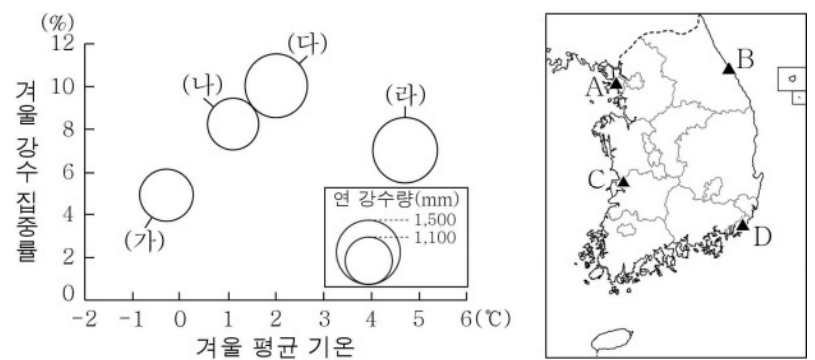
코끼리를 삼킨 보아뱀? 북극곰을 삼킨 플러그!

플러그를 뽑으면, 지구를 구할 수 있습니다. 이제, 외출하기 전 안 쓰는 플러그를 뽑아주세요. 당신의 작은 실천으로 (가)을/를 막을 수 있습니다. 북극곰을 살릴 수 있습니다.

- 2020년 기상청 공모전 최우수상 수상작 -

- ① 봄꽃의 개화 시기가 빨라진다.
- ② 열대야 발생 일수가 감소한다.
- ③ 하천의 결빙 일수가 증가한다.
- ④ 냉대림의 분포 면적이 넓어진다.
- ⑤ 사과 재배 적지가 저위도로 이동한다.

9. 그래프의 (가)~(라)에 해당하는 지역을 지도의 A~D에서 고른 것은? [3점]



* 겨울 평균 기온과 겨울 강수 집중률은 원의 중심값임.
 ** 1981 ~ 2010년의 평년값임.

- | | (가) | (나) | (다) | (라) |
|---|-----|-----|-----|-----|
| ① | A | B | C | D |
| ② | A | B | D | C |
| ③ | A | C | B | D |
| ④ | B | C | A | D |
| ⑤ | B | D | C | A |

10. 표의 (가)~(다) 신·재생 에너지로 옳은 것은? [3점]

<주요 지역의 신·재생 에너지별 생산량 비율> (단위: %)

신·재생 에너지	지역		전남		제주		경북	
	연도	2010	2019	2010	2019	2010	2019	
(가)		1.9	15.2	94.7	61.8	45.8	29.5	
(나)		63.3	81.9	5.3	37.9	26.9	61.4	
(다)		34.8	2.9	0.0	0.3	27.3	9.1	

* 수력에서 양수 발전은 제외함.
 ** 지역별 (가)~(다) 신·재생 에너지 생산량의 합을 100%로 한 것임.

- | | (가) | (나) | (다) | (가) | (나) | (다) |
|---|-----|-----|-----|-----|-----|-----|
| ① | 수력 | 풍력 | 태양광 | 수력 | 태양광 | 풍력 |
| ② | 수력 | 태양광 | 풍력 | 태양광 | 수력 | 풍력 |
| ③ | 태양광 | 풍력 | 수력 | 태양광 | 수력 | 태양광 |
| ④ | 태양광 | 수력 | 태양광 | 태양광 | 태양광 | 수력 |
| ⑤ | 태양광 | 태양광 | 수력 | 수력 | 수력 | 수력 |

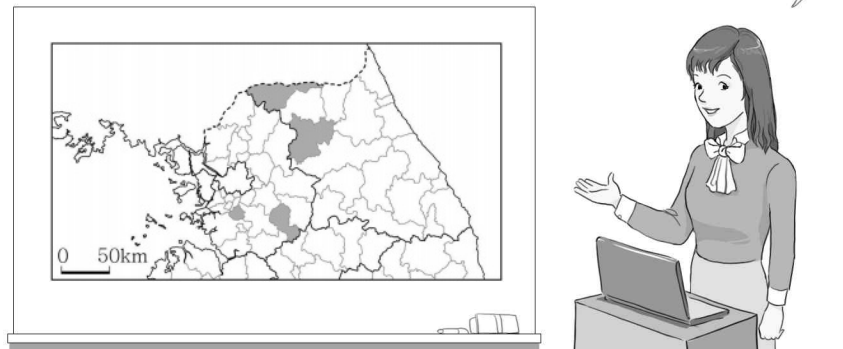
11. 다음 자료의 (가)~(다) 자연재해에 대한 설명으로 옳은 것은? (단, (가)~(다)는 각각 대설, 태풍, 황사 중 하나임.)

- 북동 기류의 영향으로 동해안에 [가]이/가 발생했다. 기상청은 빙판길이 생기는 곳이 많을 것이라며 교통 안전에 유의해 달라고 당부했다.
- 제9호 [나] '마이삭'이 새벽 3시경 포항을 관통하면서 피해가 속출했다. 마이삭은 순간 최대 풍속 44.6 m/s에 달하는 강풍을 동반하였다.
- 중국 내륙 지역에서 발원한 [다]이/가 유입되었다. 이에 따라 미세먼지 농도는 수도권과 충청권은 '매우 나쁨', 호남권과 제주권은 '나쁨'으로 나타났다.

- ① (가)에 대비한 전통 가옥 시설로 터돈움집을 들 수 있다.
- ② (나)는 서고동저형 기압 배치가 나타날 때 주로 발생한다.
- ③ (다)는 서해안보다 동해안에서 연 발생 일수가 많다.
- ④ (가)는 (나)보다 발생 1회당 피해액 규모가 크다.
- ⑤ (나)는 (다)보다 산사태를 발생시킬 가능성이 높다.

12. 다음은 한국지리 수업 장면의 일부이다. A~D 지역에 대한 옳은 설명만을 <보기>에서 고른 것은? [3점]

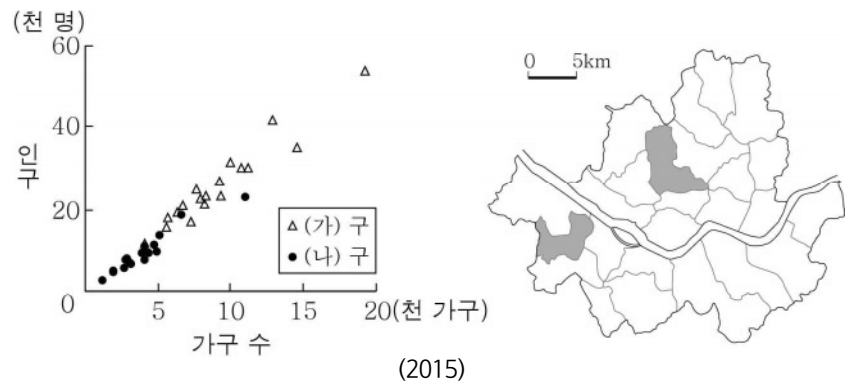
지도에 표시된 네 지역 중 A와 B는 경기, C와 D는 강원에 위치해 있습니다. A와 D에는 도청이 있으며, B와 C에서 생산된 쌀은 지리적 표시제 상품으로 등록되어 있습니다.



- < 보 기 >
- ㄱ. A에서는 도자기 축제가 개최되어 왔다.
 - ㄴ. D에는 용암 대지가 넓게 발달해 있다.
 - ㄷ. A는 B보다 서울로의 통근 인구가 많다.
 - ㄹ. C는 D보다 청장년층 인구의 성비가 높다.

- ① ㄱ, ㄴ ② ㄱ, ㄷ ③ ㄴ, ㄷ
- ④ ㄴ, ㄹ ⑤ ㄷ, ㄹ

13. 그래프는 지도에 표시된 두 구(區)의 행정동별 인구 특성을 나타낸 것이다. (가), (나)에 대한 설명으로 옳은 것은?



- ① (가)에는 도심이 위치해 있다.
- ② (나)는 주간 인구보다 상주인구가 많다.
- ③ (가)는 (나)보다 금융 기관 수가 많다.
- ④ (나)는 (가)보다 초등학교 학급 수가 많다.
- ⑤ (나)는 (가)보다 상업용지의 평균 지가가 높다.

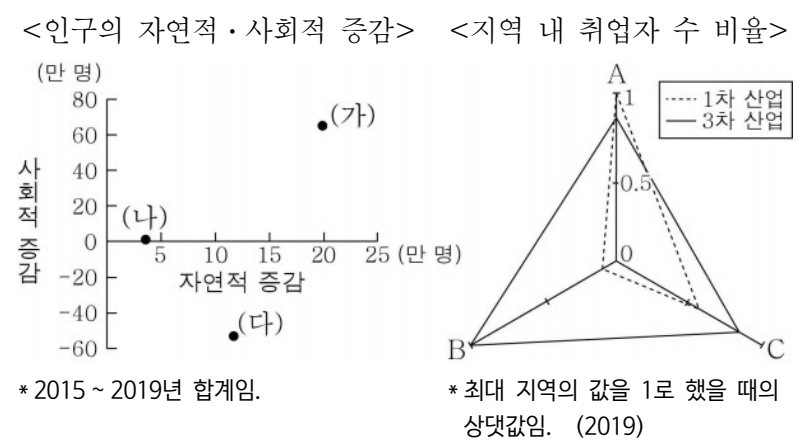
14. 표는 세 제조업의 영남권 내 출하액 상위 4개 지역을 나타낸 것이다. (가)~(다)에 대한 설명으로 옳은 것은? (단, (가)~(다)는 각각 섬유 제품(의복 제외), 자동차 및 트레일러, 전자 부품·컴퓨터·영상·음향 및 통신 장비 제조업 중 하나임.) [3점]

순위	(가)		(나)		(다)	
	지역	비율(%)	지역	비율(%)	지역	비율(%)
1	대구	28.6	울산	51.4	구미	87.5
2	구미	16.3	창원	10.9	부산	3.1
3	부산	14.1	경주	8.3	창원	2.5
4	울산	7.8	부산	7.2	대구	2.1

* 종사자 규모 10인 이상 사업체를 대상으로 함.
** 영남권 내 제조업별 출하액에서 차지하는 비율임. (2019)

- ① (가)는 관련 산업이 집적하는 종합 조립형 공업이다.
- ② (나)는 1960년대 우리나라 공업화를 주도하였다.
- ③ (가)는 (나)보다 최종 제품의 무게가 무겁다.
- ④ (가)는 (다)보다 전국 출하액이 많다.
- ⑤ (다)의 최종 제품은 (나)의 최종 제품보다 항공기로 수출되는 비율이 높다.

15. (가)~(다)를 A~C에서 고른 것은? (단, (가)~(다)와 A~C는 각각 경기, 서울, 인천 중 하나임.) [3점]

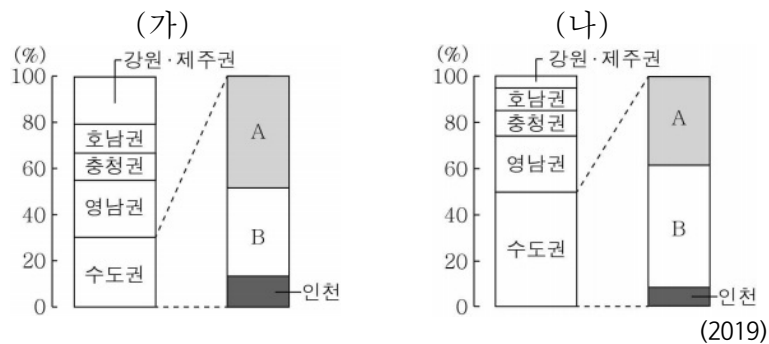


* 2015 ~ 2019년 합계임.

* 최대 지역의 값을 1로 했을 때의 상대값임. (2019)

- | | | | | | | | |
|---|-----|-----|-----|---|-----|-----|-----|
| | (가) | (나) | (다) | | (가) | (나) | (다) |
| ① | A | B | C | ② | A | C | B |
| ③ | B | C | A | ④ | C | A | B |
| ⑤ | C | B | A | | | | |

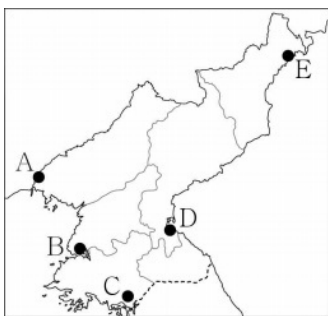
16. 그래프는 두 서비스업의 권역(지역)별 사업체 수 비율을 나타낸 것이다. 이에 대한 설명으로 옳은 것은? (단, (가), (나)는 각각 숙박업, 사업 지원 서비스 중 하나임.) [3점]



- ① A는 경기, B는 서울이다.
- ② (가)는 (나)보다 기업과의 거래 비율이 높다.
- ③ (가)는 (나)보다 대도시 도심으로 집중하는 경향이 강하다.
- ④ (가), (나) 모두 충청권이 영남권보다 사업체 수가 많다.
- ⑤ (가)는 (나)보다 전국 사업체 수에서 B가 차지하는 비율이 높다.

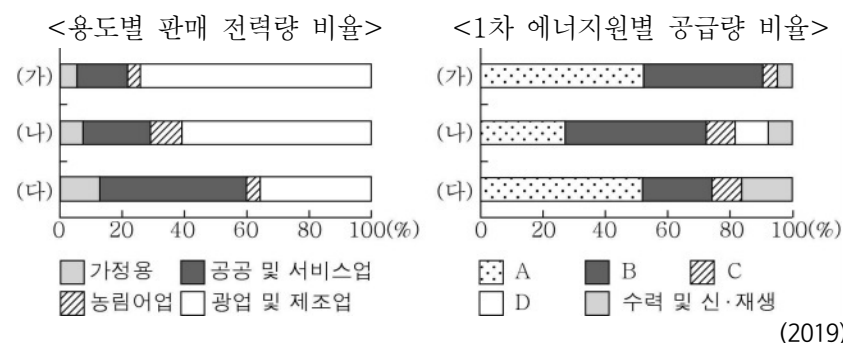
17. 다음은 북한의 어느 지역에 대해 스무고개를 하고 있는 장면이다. (가)에 해당하는 지역을 지도의 A~E에서 고른 것은?

학생	교사
한 고개: 관북 지방에 위치합니까?	→ 아니요
두 고개: 개방 지역에 해당합니까?	→ 예
세 고개: 남북 합작의 공업 단지가 조성되었습니까?	→ 아니요
네 고개: 경의선 철도의 종착역이 있습니까?	→ 예
다섯 고개: 이 지역은 (가)입니까?	→ 예



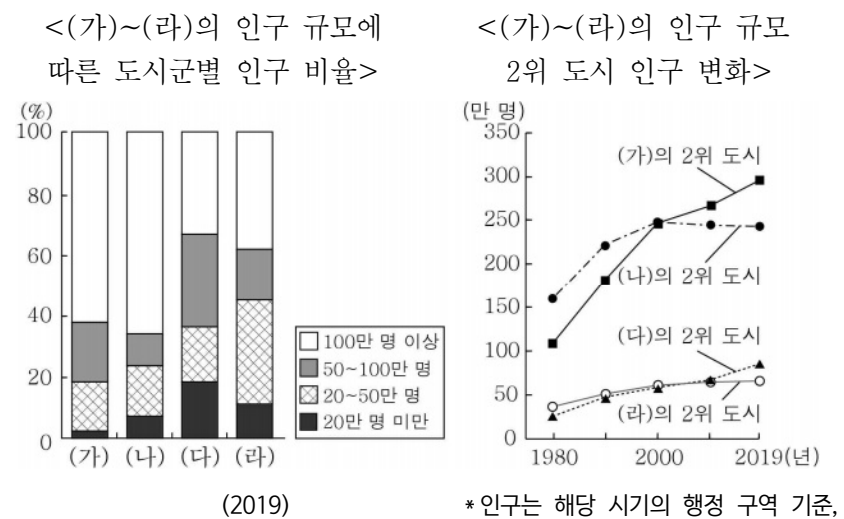
- ① A
- ② B
- ③ C
- ④ D
- ⑤ E

18. 그래프에 대한 설명으로 옳은 것은? (단, (가)~(다)는 각각 강원, 전남, 충남 중 하나이고, A~D는 각각 석유, 석탄, 원자력, 천연가스 중 하나임.) [3점]



- ① A는 우리나라 1차 에너지 중 소비량이 가장 많다.
- ② B는 수송용보다 가정용으로 많이 이용된다.
- ③ A는 C보다 연소 시 대기 오염 물질 배출량이 많다.
- ④ D는 B보다 우리나라에서 상용화된 시기가 이른다.
- ⑤ 지역 내 광업 및 제조업 판매 전력량 비율은 전남 > 충남 > 강원 순으로 높다.

19. 그래프의 (가)~(라) 권역에 대한 설명으로 옳은 것은? (단, (가)~(라)는 각각 수도권, 영남권, 충청권, 호남권 중 하나임.) [3점]



- ① (라)의 인구 규모 2위 도시는 광역시이다.
- ② (가)는 (나)보다 총인구가 많다.
- ③ (나)는 (라)보다 권역 내 촌락 인구 비율이 높다.
- ④ (다)는 (가)보다 인구 규모 1위 도시의 인구가 많다.
- ⑤ (가)는 영남권, (나)는 수도권, (다)는 충청권이다.

20. 다음 글의 ㉠~㉣에 대한 옳은 설명만을 <보기>에서 고른 것은?

㉠ 슬로시티로 지정된 서천군 한산면은 인구 유출과 ㉡ 저출산·고령화가 지속됨에 따라 인구가 감소하여 한산모시, 한산소곡주 등 한산의 전통문화가 사라질 위기에 놓여 있다. 이를 해결하기 위해 한산면은 도시의 삶기술과 촌락의 삶기술을 교환하는 '삶기술 프로젝트'를 실시하는 등 도시 청년들을 유인하기 위한 정책을 실시하고 있다. 그 결과 ㉢ 10년 이상 비어 있던 건물에 독립 서점, 사진관, 카페가 생기는 등 변화가 나타나고 있다. 이는 우리나라 ㉣ 지방 소멸 문제를 해결하기 위한 시사점을 제공하고 있다.

< 보 기 >
 가. ㉠의 사례로 전주를 들 수 있다.
 나. ㉡이 심화되면 중위 연령이 높아진다.
 다. ㉢은 철거 재개발의 사례에 해당한다.
 리. ㉣을 위해 수도권에 신도시를 건설하였다.

- ① 가, 나 ② 가, 다 ③ 나, 다 ④ 나, 리 ⑤ 다, 리

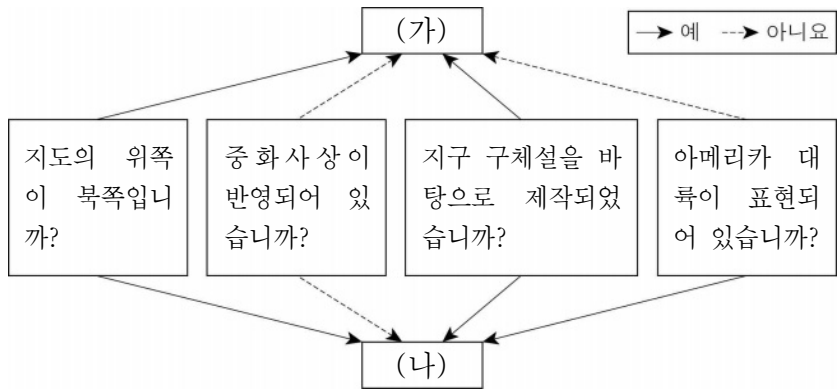
* 확인 사항
 ○ 답안지의 해당란에 필요한 내용을 정확히 기입(표기)했는지 확인하십시오.

제 4 교시

사회탐구 영역 (세계지리)

성명 수험번호 3 제 () 선택

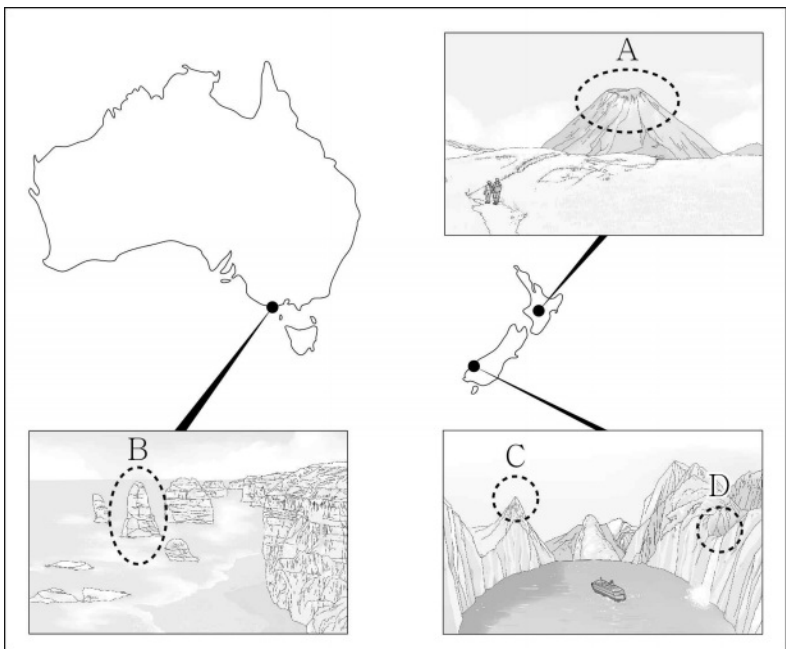
1. 그림은 두 지도의 특징을 나타낸 것이다. (가), (나) 지도를 <보기>에서 고른 것은?



- | | | | | | |
|---|-----|-----|---|-----|-----|
| | (가) | (나) | | (가) | (나) |
| ① | ㄱ | ㄴ | ② | ㄱ | ㄷ |
| ③ | ㄴ | ㄷ | ④ | ㄷ | ㄱ |
| ⑤ | ㄷ | ㄴ | | | |

2. 다음은 수행 평가 자료의 일부이다. A~D 지형에 대한 옳은 설명만을 <보기>에서 고른 것은?



<오세아니아의 다양한 지형을 그림으로 표현하기>



- 가. A는 점성이 작은 용암의 분출로 형성된 순상 화산이다.
 나. B는 파랑의 침식 작용으로 육지와 분리된 시 스택이다.
 다. C는 빙하의 침식 작용으로 형성된 호른이다.
 라. D는 용빙수에 의해 퇴적된 에스커이다.

- ① 가, 나 ② 가, 다 ③ 나, 다 ④ 나, 라 ⑤ 다, 라

3. 다음 자료는 두 국가의 지리 정보이다. 이에 대한 설명으로 옳은 것은? [3점]

구분	국가	(가)	(나)
㉠ 수도의 위·경도		14° 35'N, 120° 58'E	27° 42'N, 85° 20'E
추천 여행 기간		11 ~ 5월	9 ~ 11월
㉡ 독특한 교통수단		 미군이 쓰던 군용차를 개조해 만든 지프니	 자전거에 좌석이 연결되어 있는 사이클릭샤
주요 여행 지역		마닐라, 보홀(카르스트 지형인 원뿔 모양의 초콜릿 언덕이 있음.)	카트만두, 포카라(히말라야 만년설이 녹아 이룬 호수가 있음.)

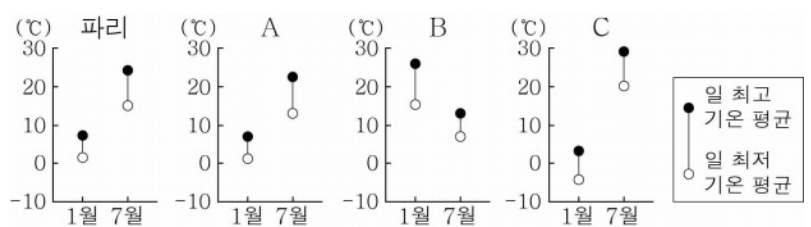
- ① (가)는 연중 편서풍의 영향을 받는다.
 ② (나)는 동남아시아 국가 연합(ASEAN) 회원국이다.
 ③ (가)는 (나)보다 크리스마스 섬의 비율이 높다.
 ④ (나)는 (가)보다 지열 발전량이 많다.
 ⑤ ㉠은 속성 정보, ㉡은 공간 정보에 해당한다.

4. 다음은 지리 보고서의 일부이다. (가)~(다)의 기후 그래프를 A~C에서 고른 것은? [3점]

<테니스 사례로 본 기후와 스포츠>

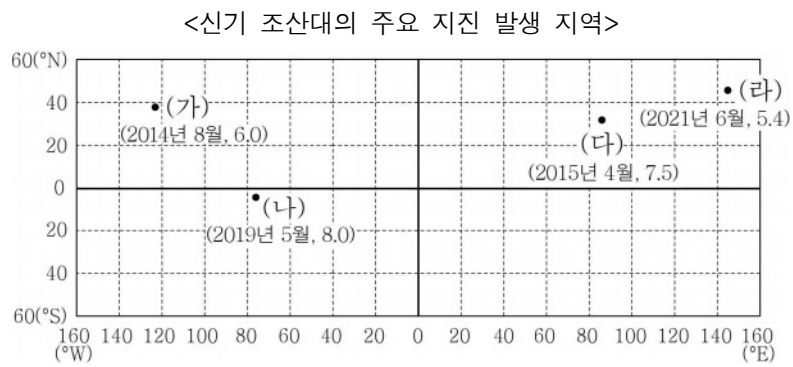
- 기원 및 특색 : 유럽에서 시작되었으며 날씨가 경기에 중요함.
- 세계 4대 메이저 대회 개최 도시의 특징
 - 기후 특징 : 온대 기후이며 강수량이 고른 편임.
 - 도시 위치, 개최 시기, 경기 현장의 모습

구분	위치	개최 시기	경기 현장의 모습
파리	대륙 서안	5월 말 ~ 6월 초	클레이(흙) 코트에서 뛰는 선수들이 신발 바닥에 묻은 흙을 계속 털어 내는 모습을 볼 수 있음.
(가)	대륙 서안	6월 말 ~ 7월 초	푸른 잔디 코트에서 진행되고, 기온이 높지 않아 긴 정장을 입은 관중들을 볼 수 있음.
(나)	대륙 동안	8월 말 ~ 9월 초	세계에서 테니스장 규모가 가장 크고, 불규칙 바운드가 적은 하드 코트에서 경기가 진행됨.
(다)	남반구	1월 말 ~ 2월 초	일 년 중 가장 먼저 열리는 메이저 대회로, 많은 유럽인들이 겨울 휴가차 방문하여 경기를 관람하기도 함.



- | | | | | | | | |
|---|-----|-----|-----|---|-----|-----|-----|
| | (가) | (나) | (다) | | (가) | (나) | (다) |
| ① | A | B | C | ② | A | C | B |
| ③ | B | C | A | ④ | C | A | B |
| ⑤ | C | B | A | | | | |

5. 다음 자료의 (가)~(라) 지역에 대한 설명으로 옳은 것은?



* 국경과 해안선을 삭제하고, 경위선망에 지진 발생 지역을 나타낸 것임.
** 괄호 안은 지진 발생 시기와 규모를 나타낸 것임.

- ① (가)는 새로운 지각이 형성되어 분리되는 곳이다.
- ② (나)는 두 판이 서로 어긋나 미끄러지는 경계에 위치한다.
- ③ (다)는 대륙판과 대륙판이 충돌하는 곳이다.
- ④ (라)는 판이 갈라지는 곳이다.
- ⑤ (다), (라)는 모두 '불의 고리'로 불리는 조산대에 위치한다.

6. 다음 자료의 ㉠~㉣에 대한 설명으로 옳은 것은?

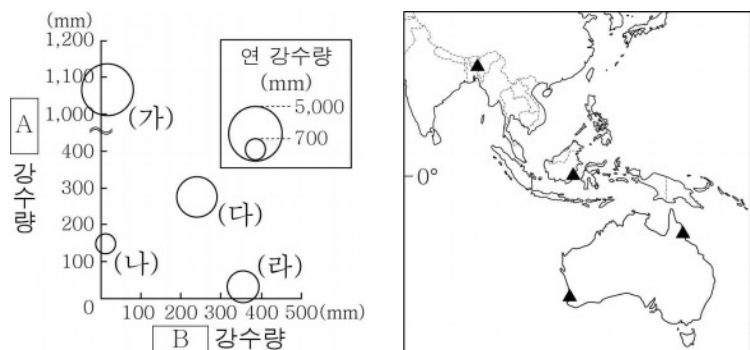
이란 ○○○ 지역 여행기

이 도시는 과거 실크로드 대상(隊商)들의 집결지였다. ㉠ 전통 가옥들이 즐비한 구시가지의 건물 지붕에는 굴뚝처럼 생긴 ㉡ 바드기르가 눈에 띄었다. ㉢ 이곳은 물이 부족하여 옛날부터 ㉣ 카나트라고 불리는 관개 시설이 발달해 있었다. 현지인의 집을 방문해 대추야자와 전통 요리인 ㉤ 압구시트를 맛볼 수 있었다.

▲ 바드기르

- ① ㉠의 지붕은 대체로 급경사의 형태를 띠고 있다.
- ② ㉡은 실내 공기를 정화하고 온도를 조절하는 시설이다.
- ③ ㉢의 이유는 연 증발량보다 연 강수량이 많기 때문이다.
- ④ ㉣의 물은 염분이 높아 농업용수로 부적합하다.
- ⑤ ㉤의 주재료는 돼지고기이다.

7. 그래프는 지도에 표시된 네 지역의 강수 특징을 나타낸 것이다. (가)~(라) 지역에 대한 설명으로 옳은 것은? (단, A, B는 각각 1월, 7월 중 하나임.) [3점]

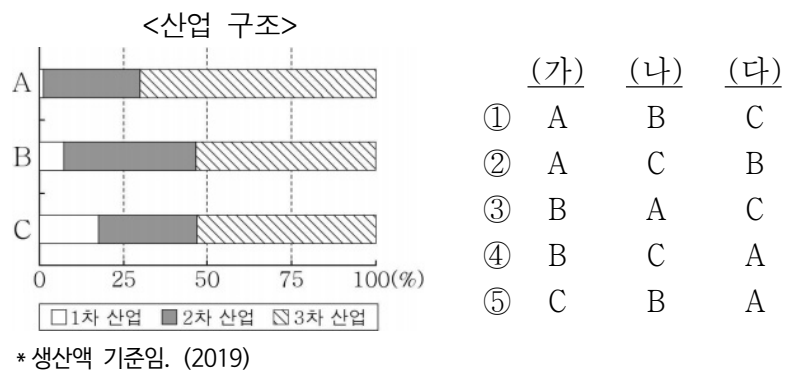


* A, B 강수량은 원그래프의 중심값임.

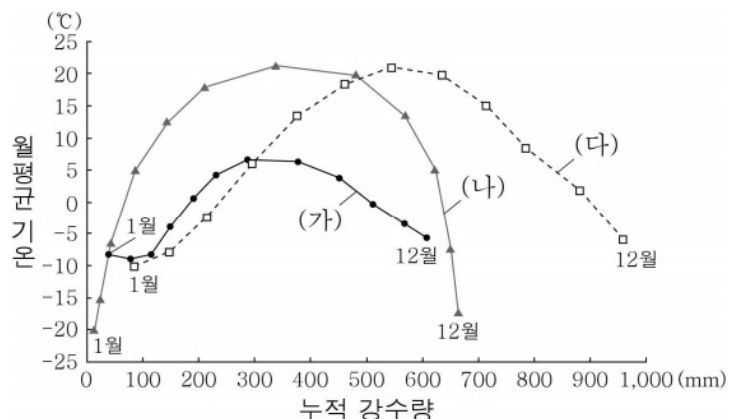
- ① (가)는 (다)보다 지형과 바람의 영향으로 연 강수량이 많다.
- ② (나)는 (라)보다 12~2월의 강수 집중률이 높다.
- ③ (다)는 (가)보다 기온의 연교차가 크다.
- ④ (나)는 A 시기에 아열대 고압대의 영향을 많이 받는다.
- ⑤ (라)는 (가)보다 B 시기에 낮의 길이가 짧다.

8. 다음 자료는 세 국가의 전통 의복을 나타낸 것이다. (가)~(다) 국가를 그래프의 A~C에서 고른 것은? (단, (가)~(다)와 A~C는 각각 인도, 일본, 중국 중 하나임.)

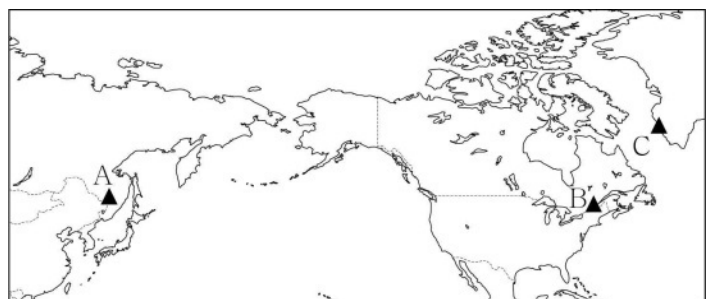
(가)	(나)	(다)
한랭한 기후가 나타나는 북방의 유목 문화에서 기원한 전통 의복임. 긴 상의가 발등까지 내려오는 옷으로, 말을 타기 편하게 옆트임이 있음.	더운 남부 지방에서 기원한 전통 의복임. 긴 천을 늘어뜨린 다름 다시 허리춤으로 올려 동여맨 옷으로, 힌두교 수행자의 복장으로 많이 사용됨.	고온 다습한 기후에 적합한 전통 의복임. 통풍이 잘 되는 얇은 천으로 만들어지는 소매가 넓은 옷으로, 목욕 후나 봄·여름 축제에서 주로 입음.



9. 그래프는 세 지역의 월평균 기온과 누적 강수량을 나타낸 것이다. 이에 대한 설명으로 옳은 것은? (단, (가)~(다)는 각각 지도에 표시된 A~C 지역 중 하나임.) [3점]

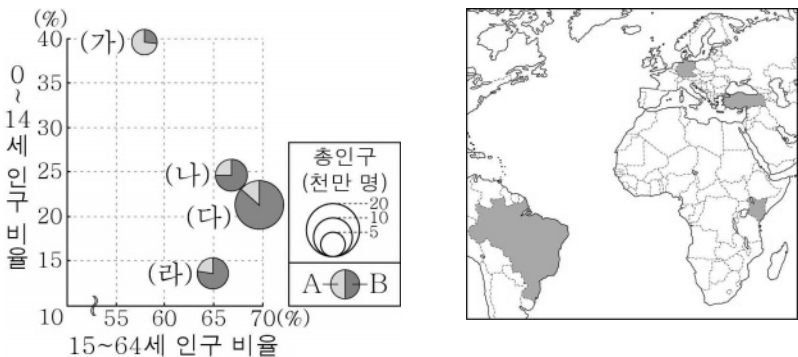


* 누적 강수량은 1월부터 해당 월까지의 강수량을 합한 값임.



- ① (가)에는 침엽수림인 타이가가 나타난다.
- ② (나)에는 개방적인 구조의 고상 가옥이 발달해 있다.
- ③ A는 B보다 연 강수량이 많다.
- ④ C는 A보다 기온의 연교차가 크다.
- ⑤ (가)는 C, (나)는 A, (다)는 B이다.

10. 그래프는 지도에 표시된 네 국가의 주요 특성을 나타낸 것이다. (가)~(라) 국가에 대한 설명으로 옳은 것은? (단, A, B는 각각 도시 인구, 촌락 인구 중 하나임.) [3점]



* 0~14세 인구 비율과 15~64세 인구 비율은 원그래프의 중심값임. (2018)

- ① (가)는 아프리카에, (다)는 유럽에 위치한다.
- ② (나)는 (가)보다 총부양비가 높다.
- ③ (나)는 (다)보다 도시 인구가 많다.
- ④ (라)는 (가)보다 합계 출산율이 높다.
- ⑤ (라)는 (나)보다 노년층 인구 비율이 높다.

11. (가), (나) 화석 에너지를 그림의 A~C에서 고른 것은?

○ 아랍 에미리트는 주로 (가) 수출로 부를 축적하였다. 최근 화석 에너지 중심의 경제 구조를 다변화하기 위해 두바이에 국제적인 금융 센터 및 관광 단지를 조성하였다.

○ 러시아는 (나)의 세계 최대 수출국으로 주로 육로 파이프라인을 통해 유럽 연합(EU)에 이를 공급한다. 최근 러시아는 주변국과의 갈등 및 국제 정세 불안정에 대응해 발트해, 흑해를 지나는 해저 파이프라인을 건설하고 있다.

현재 세계 1차 에너지 소비에서 가장 높은 비율을 차지합니까? 예 → A (가) (나) ① A B

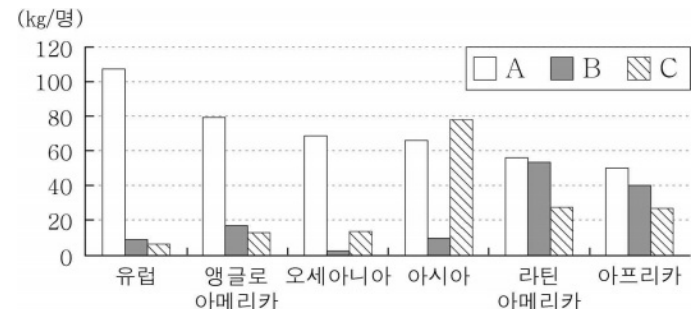
↓ 아니요 ② A C

냉동 액화 기술의 발달로 소비량이 급증하였습니까? 예 → B ③ B A

↓ 아니요 ④ B C

C ⑤ C B

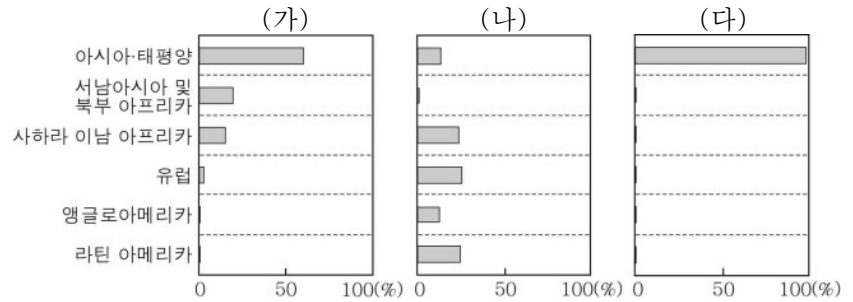
12. 그래프는 세 식량 작물의 지역(대륙)별 1인당 소비량을 나타낸 것이다. A~C에 대한 설명으로 옳은 것은? (단, A~C는 각각 밀, 쌀, 옥수수 중 하나임.) [3점]



* 1인당 소비량은 작물별 식(食)용으로 이용되는 소비량을 인구로 나눈 값임. (2019)

- ① A는 식용보다 사료용으로 소비되는 양이 많다.
- ② B의 세계 최대 생산국은 아시아에 위치한다.
- ③ A는 B보다 단위 면적당 생산량이 많다.
- ④ B는 C보다 세계에서 바이오 에너지로 이용하는 양이 많다.
- ⑤ C는 A보다 국제 이동량이 많다.

13. 그래프의 (가)~(다) 종교에 대한 설명으로 옳은 것은? (단, (가)~(다)는 각각 불교, 이슬람교, 크리스티교 중 하나임.)



* 각 종교의 지역(대륙)별 신자 수 비율을 나타낸 것임.

- ① (가)는 성지 순례를 종교적 의무로 한다.
- ② (나)의 대표적 성지는 롬비니와 부다가야이다.
- ③ (다)의 대표적 종교 경관은 십자가와 종탑이다.
- ④ (가)는 (나)보다 기원 시기가 이른다.
- ⑤ 세계 신자 수는 (가) > (나) > (다) 순으로 많다.

14. (가) 도시와 비교한 (나) 도시의 상대적 특징을 그림의 A~E에서 고른 것은?

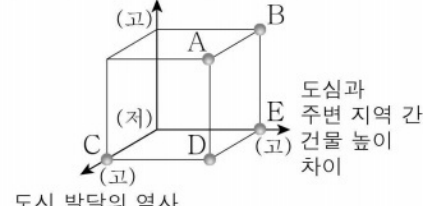
(가)

철을 재료로 하는 건축 시대로의 전환을 상징하는 에펠탑이 있고, 개선문 등이 유명하다.

(나)

국제 연합(UN) 본부가 있고, 증권 거래소가 있는 월가, 자유의 여신상 등이 유명하다.

세계 금융 시장에 끼치는 영향력



- ① A
- ② B
- ③ C
- ④ D
- ⑤ E

* '고'는 '큼, 오래됨'을 의미하고, '저'는 '작음, 짧음'을 의미함.

15. 다음 글의 (가), (나) 지역에 대한 옳은 설명만을 <보기>에서 고른 것은? [3점]

<매력적인 기후 지역을 찾아 떠나는 여행>

(가) 엘로나이프는 대표적인 오로라 관측지로, '천상의 커튼'이라 불리는 오로라를 감상할 수 있다. 하지만 백야 현상이 나타나는 시기에는 이를 관측하기 어렵다.

(나) 고비 사막의 '고비'는 '풀이 잘 자라지 않는 거친 땅'이라는 의미이다. 황량한 환경이지만 낙타 트레킹, 게르 체험 등을 할 수 있고, 아름다운 별도 감상할 수 있다.

< 보 기 >

ㄱ. (가)에는 유기물이 풍부한 체르노젬이 널리 분포한다.

ㄴ. (나)에서는 선상지, 와디 등의 지형을 볼 수 있다.


ㄷ. (가)는 (나)보다 고위도에 위치한다.

ㄹ. (가), (나)는 물리적 풍화보다 화학적 풍화가 활발하다.

- ① ㄱ, ㄴ ② ㄱ, ㄷ ③ ㄴ, ㄷ ④ ㄴ, ㄹ ⑤ ㄷ, ㄹ

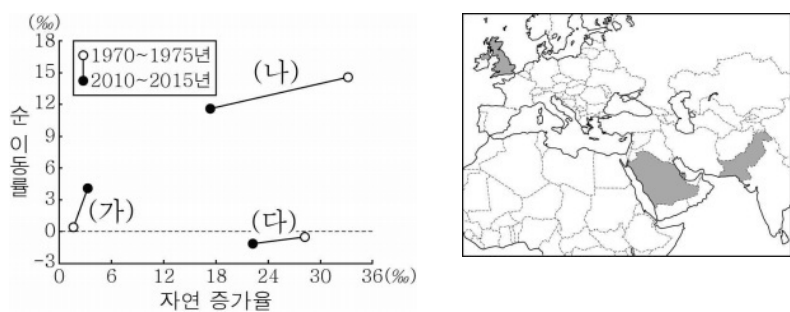
16. 다음 자료에서 설명하는 국가를 지도의 A~E에서 고른 것은?

잉카 문명이 발생한 곳으로, 구리, 금 등을 많이 수출한다. 쿠스코에 있는 한 마을에서는 판초를 입은 원주민과 고대 도시인 마추픽추, 원주민의 역사 등이 표현된 다양한 벽화들을 볼 수 있다.




- ① A
- ② B
- ③ C
- ④ D
- ⑤ E

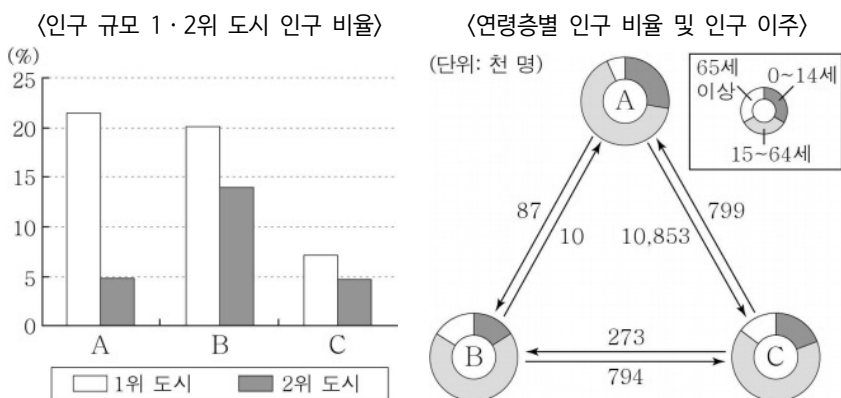
17. 그래프는 지도에 표시된 세 국가의 인구 지표 변화를 나타낸 것이다. (가)~(다) 국가에 대한 설명으로 옳은 것은? [3점]



*순 이동률 = (유입 인구 - 유출 인구) ÷ 총인구 × 1,000

- ① (나)에는 최상위 세계 도시가 있다.
- ② (다)는 2010~2015년에 인구가 감소하였다.
- ③ (가)는 (나)보다 15~64세 인구의 성비가 높다.
- ④ (나)는 (다)보다 인구 밀도가 높다.
- ⑤ (다)는 (가)보다 도시화율이 낮다.

18. 그래프의 A~C 국가에 대한 설명으로 옳은 것은? (단, A~C는 각각 멕시코, 미국, 캐나다 중 하나임.) [3점]



*각 국가의 도시 인구에서 국가별 인구 규모 1위, 2위 도시가 차지하는 비율을 나타낸 것임. (2015)
*연령층별 인구 비율은 2015년, 국가 간 인구 이주는 2020년 조사 자료임.

- ① A는 영어를 사용하는 인구 비율이 가장 높다.
- ② B의 퀘벡주에서는 언어 차이로 인한 갈등이 나타난다.
- ③ C는 중주 도시화 현상이 뚜렷하다.
- ④ A는 C보다 중위 연령이 높다.
- ⑤ 캐나다에서 미국으로의 인구 이주는 멕시코에서 미국으로의 인구 이주보다 많다.

19. 다음 자료에 대한 설명으로 옳지 않은 것은?

영어가 공용어인 A~D 국가 곳곳에는 과거 유럽인들이 남긴 흔적이 많다. A의 북쪽 호수는 ㉠○○여왕의 이름을 딴 '빅토리아호'이다. B의 수도인 빈트후크는 독일어로 '바람 많은 모퉁이'라는 뜻이다. ㉡ 동북쪽의 길게 튀어나온 B의 직선형 국경선도 특이하다.

최근 A와 B는 독특한 자연환경을 이용한 관광 산업이 발달하였다. A는 야생 동물이 서식하는 드넓은 초원을 보기 위해, B는 ㉢ 해안에 펼쳐진 멋진 사막을 보기 위해 많은 관광객이 찾는다. C와 D는 사하라 이남 아프리카 국가 중 상대적으로 경제 발전 수준이 높다. C는 다이아몬드, 금 등의 광물 자원, D는 남부의 산맥에 화석 에너지 자원이 풍부하게 매장되어 있다.

- ① ㉠은 과거 영국의 식민 지배와 관련이 있다.
- ② ㉡은 유럽 국가들의 이해관계에 따라 설정되었다.
- ③ ㉢에는 한류의 영향으로 안개가 자주 발생한다.
- ④ A는 C보다 1인당 국내 총생산이 많다.
- ⑤ D는 B보다 석탄 수출량이 많다.

20. 다음 글의 ㉠~㉣에 대한 옳은 설명만을 <보기>에서 있는 대로 고른 것은? [3점]

○ 코로나바이러스 감염증 - 19로 비대면 소비가 증가하면서 ㉠ 플라스틱 폐기물로 인한 환경 오염이 더욱 심화되고 있다. 국제 사회는 유해 폐기물의 국가 간 이동 규제를 목적으로 하는 ㉡의 통제 대상에 2021년부터 플라스틱 쓰레기를 포함하였다.
○ 과거 ㉢ 오존층을 파괴하는 화학 물질 사용으로 인해 남극 상공에 오존 홀이 커지면서 ㉣ 여러 심각한 문제가 나타났다. 이에 국제 사회는 1987년에 ㉤을/를 체결하여 오존층 파괴 물질의 사용 규제를 명시하였다.

< 보 기 >
㉠. ㉠을 줄이기 위해서는 플라스틱 사용량을 최소화하고, 재활용률을 높여야 한다.
㉡. ㉡에는 염화 플루오린화 탄소(CFCs)가 있다.
㉢. ㉢에는 호수 산성화로 인한 무생물화, 건물 부식 등이 있다.
㉣. ㉣은 바젤 협약, ㉤은 몬트리올 의정서이다.

- ① ㉠, ㉡
- ② ㉠, ㉢
- ③ ㉢, ㉣
- ④ ㉠, ㉡, ㉣
- ⑤ ㉡, ㉢, ㉣

* 확인 사항
○ 답안지의 해당란에 필요한 내용을 정확히 기입(표기)했는지 확인하십시오.

제 4 교시

사회탐구 영역(동아시아사)

성명		수험번호				3				제 () 선택
----	--	------	--	--	--	---	--	--	--	----------

1. (가)에 들어갈 문화유산으로 옳은 것은?

이것은 황허강 하류 지역에서 발달한 신석기 문화의 대표적인 토기입니다. 이 지역의 토기 제작 기술은 훗날 룡산 문화에 영향을 주었습니다.



2. (가) 국가에 대한 설명으로 옳은 것은? [3점]

'검은 도시' 카라호토!

카라호토는 탕구트족의 이원호가 건국한 (가)의 옛 도시로 변경을 방어하는 요새였으며, 비단길의 요지에 위치해 있었다. 13세기 몽골의 공격으로 도시의 일부가 파괴되었고, 20세기 전반 여러 차례의 발굴 결과 불상 등 수많은 유물과 (가)의 고유 문자로 기록된 다양한 문서가 발견되었다.

- ① 연운 16주를 차지하였다.
- ② 송으로부터 세폐를 받았다.
- ③ 정복지에 다루가치를 파견하였다.
- ④ 맹안·모극제와 주현제를 실시하였다.
- ⑤ 거란의 침입을 막아내고 강동 6주를 획득하였다.

3. (가) 인물에 대한 설명으로 옳은 것은?

달 밝은 밤에 고향 길 바라보니
 뜬 구름만 너울너울 흘러가네
 그 편에 감히 편지 한 장 부쳐 보지만
 바람 거세어 화답이 안 들리는구나
 ... (중략) ...
 이곳에는 기러기마저 없으니
 누가 소식 전하러 계림*으로 날아가리

* 계림: 신라의 다른 이름

이 시는 구법승 (가)의 여행기에서 인도 남천축 여정이 끝나는 부분에 기록되어 있으며, 타국에서 느끼는 고독함과 고향에 대한 그리움이 강하게 표현되어 있다.

- ① 일본에 계율을 전하였다.
- ② 신라 화엄종을 개창하였다.
- ③ 왕오천축국전을 저술하였다.
- ④ 쇼토쿠 태자의 스승이 되었다.
- ⑤ 장보고가 세운 법화원에 머물렀다.

4. (가)에 들어갈 내용으로 적절한 것은?

역사 인물 카드

- 인물 : ○○○○○
- 주요 활동
 - 수도를 카라코룸에서 대도로 옮김
 - 국호를 '원'으로 고침
 - 두 차례 일본 원정군 파병
 - (가)

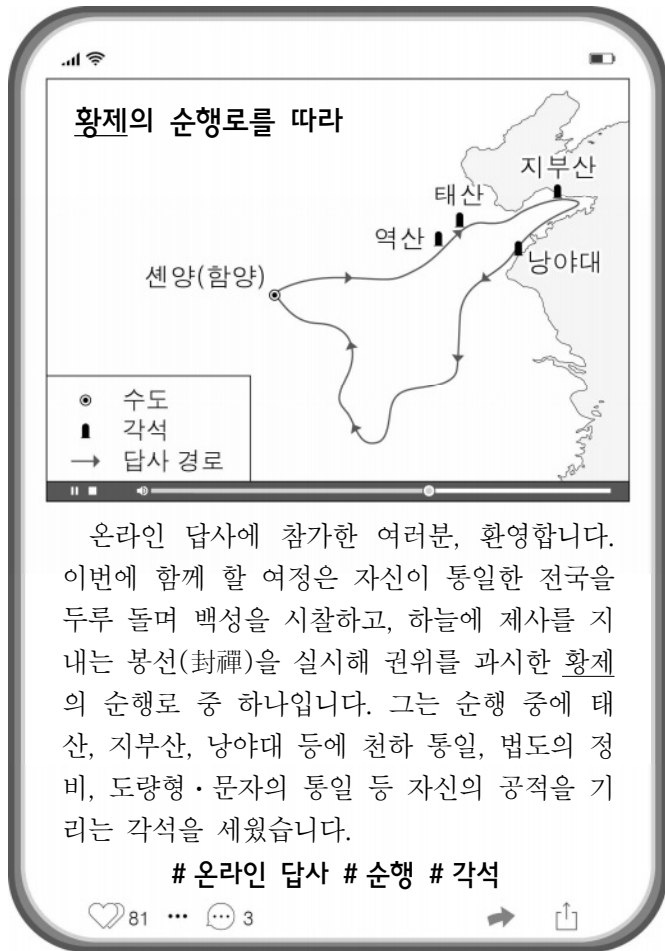
- ① 남송 정벌
- ② 별무반 편성
- ③ 팔기군 조직
- ④ 호라즘 정복
- ⑤ 무로마치 막부 수립

5. 자료에 나타난 시기의 동아시아 상황으로 옳은 것은? [3점]

타타르의 4만 기병이 금천영(錦川營)을 침입하였다. 이성량, 척계광 등이 이미 내각 대학사 장거정의 방략을 받아 함께 대비하고 방어하니, 적이 비로소 물러갔다. 이후 적이 수차례 침입하였지만 이성량 등이 이들을 패퇴시키고 변경 밖에서 적을 습격하여 참획(斬獲)한 바가 많았다.

- ① 지정은제가 실시되었다.
- ② 초량 왜관이 운영되었다.
- ③ 센고쿠 시대가 전개되었다.
- ④ 명의 황제가 몽골의 포로가 되었다.
- ⑤ 네덜란드 상인이 데지마에서 활동하였다.

6. 밑줄 친 '황제'에 대한 설명으로 옳은 것은?



- ① 남비엣을 정복하였다.
- ② 군국제를 마련하였다.
- ③ 쓰시마섬 토벌을 단행하였다.
- ④ 북주와 북제로부터 조공을 받았다.
- ⑤ 흉노에 대비해 만리장성을 축조하였다.

7. (가)에 대한 설명으로 옳은 것은? [3점]

○ 금과 원 이래로 황금이 점차 줄어들어 (가)이가 통화 화폐가 되었다. 명 초기에 (가)이가 부족하여 일시적으로 지폐를 만들기도 했으나, 오래 가지 못하였다. 그 후로 동전과 저울질되면서 사용된 것은 오직 이것뿐이다.

- 『석거여기』 -

○ 오늘날 지폐는 이미 통용되지 않고 동전만이 겨우 작은 교역에 사용될 뿐, 모든 조세 업무를 (가) 하나로 하였다. ...(중략)... 2백여 년 동안 천하의 (가)이가 수도 베이징으로 운송되었는데, 마치 물이 골짜기로 흘러가는 것과 같았다.

- 『명이대방록』 -

- ① 송대에 대량으로 일본에 수출되었다.
- ② 포르투갈인에 의해 일본에 처음 전래되었다.
- ③ 조선 후기 일본에 수출되는 주요 물품이었다.
- ④ 갈레온 무역을 통해 명으로 대량 수입되었다.
- ⑤ 징더전의 주요 생산품으로 외국에 수출되었다.

8. 밑줄 친 '황제' 재위 시기에 동아시아에서 볼 수 있는 모습으로 적절한 것은? [3점]

○ 황제는 말하였다. “지난날 우리 나라가 막 창업할 당시 돌궐은 매우 강성하여 상황(上皇) 고조께서 자신을 돌궐의 신하라고까지 칭했소. 나는 이 때문에 마음과 머리가 아프지 않은 적이 없었소.”

○ 항복한 돌궐의 군장들은 황제에게 ‘천가한(하늘의 카간)’이라는 칭호를 올렸다. 이에 상황 고조도 아들의 공적에 감탄하며 말하였다. “예전에 한(漢) 유방은 흉노에게 곤욕을 치렀지만 보복할 수 없었다. 내 아들은 힐리 카간을 사로잡고 돌궐을 복속시켰는데, 내가 무엇을 걱정하겠는가!”

- ① 가부기를 관람하는 상인
- ② 토번으로 가는 화번공주
- ③ 사서집주를 공부하는 학자
- ④ 전시를 직접 주관하는 황제
- ⑤ 삼국유사를 읽고 있는 승려

9. (가) 국가에 대한 설명으로 옳은 것은?

역사 드라마 시나리오

#15. (가)의 튀양 천도

대군을 이끌고 튀양에 도착한 황제. 설 새 없이 쏟아지는 큰비에 병사들은 겹을 먹어 전진할 엄두를 못 내고 있다.

신하들: (우르르 황제의 말 앞에 무릎을 꿇고, 조심스럽게) 폐하, 더 이상 전진하기 어렵습니다.

황제: (완전 무장을 한 채 말 위에 앉아) 너희들이 남쪽의 제(齊)를 정벌하는 것을 원치 않는다면 짐은 대신 이곳 튀양으로 천도를 하겠다.

신하들: (어쩔 수 없다는 듯이) 정 그러시다면 천도를 하십시오.

- ① 견당사를 파견하였다.
- ② 몽골 제일주의를 내세웠다.
- ③ 당과 연합하여 백제를 무너뜨렸다.
- ④ 선우 아래 좌현왕·우현왕을 두었다.
- ⑤ 5호 16국 시대의 혼란을 수습하였다.

10. (가), (나) 도사에서 있었던 사실로 옳은 것은? [3점]

○○ 조약	△△△ 조약
○ 청은 홍콩을 영국에 할양한다.	○ 조선은 자주국이며 일본과 동등한 권리를 가진다.
○ 청은 광저우, 샤먼, 푸저우, 닝보, <u>(가)</u> 의 다섯 항구를 개항한다.	○ 조선은 <u>(나)</u> 외에 두 항구를 개항한다.

- ① (가) - 경사 대학당이 설립되었다.
- ② (가) - 영국인이 신보를 창간하였다.
- ③ (나) - 여권통문이 발표되었다.
- ④ (나) - 아주 화친회가 조직되었다.
- ⑤ (가), (나) - 각국 최초의 철도가 부설되었다.

11. 자료에 나타난 전쟁의 배경으로 가장 적절한 것은?

홍타이지의 군대가 쳐들어왔으니 군사를 이끌고 속히 구원하라는 조정의 명령을 받았습니다. ...(중략)... 경상 감사에게 서신을 보냈는데 경기도 이전에 이미 당도하였으니 합세하는 것이 어떻겠느냐는 답장이 왔습니다. 이에 저는 우영(右營)과 호위병을 이끌고 남한산성을 향해 진군해서 경기도 용인 접경에 도달하였습니다. 그런데 경상도와 충청도에서 지원하러 온 군사가 크게 패했다는 소식이 전해져 왔습니다.

- ① 조선이 북벌 운동을 전개하였다.
- ② 이자성의 난으로 명이 멸망하였다.
- ③ 조선과 일본이 기유약조를 체결하였다.
- ④ 타이완이 반청 운동의 중심지가 되었다.
- ⑤ 조선이 청의 군신 관계 요구를 거부하였다.

12. 다음 화자에 대한 설명으로 옳은 것은?



기하(幾何)를 다루는 중국의 학자를 만나 보니 스스로 지식이 부족하지 않다고 믿고 있었다. 그러나 유독 『원론(The Elements)』에 대한 지식을 가진 사람들을 보지 못하였다. 서광계의 제안에 따라 내가 이 책의 내용을 구술하면, 서광계가 한문으로 기록하기로 하였다.

- ① 고사기전을 저술하였다.
- ② 시현력 제작에 앞장섰다.
- ③ 원명원 설계에 기여하였다.
- ④ 곤여만국전도를 제작하였다.
- ⑤ 혼일강리역대국도지도를 만들었다.

13. 밑줄 친 '이 책'이 편찬된 당시 동아시아에서 볼 수 있는 모습으로 적절한 것은? [3점]

우리는 폐, 간 및 위장의 위치와 생김새가 그때까지 믿어왔던 중국의 학설과 판이하게 다르다는 것을 알게 되었다. 의술을 업으로 살아왔는데, 의학의 기본이 되는 인체에 대해 몰랐다는 것은 정말 부끄러운 일이었다. 이제부터 몇몇한의사가 되기 위해 나 스키타 겐파쿠는 네덜란드 의학서 번역을 제안하였다. 우리는 료타쿠의 집에 모여서 번역하기 시작하였다. 몇 년 후 우리는 이 책을 완성하였다.

- ① 선비어 사용을 금지하는 황제
- ② 삼번의 난 진압에 동원된 병사
- ③ 사고전서 편찬에 참여하는 학자
- ④ 명과 감함 무역에 종사하는 상인
- ⑤ 세키가하라 전투에 참여하는 무사

14. (가) 정부에 대한 설명으로 옳은 것은?

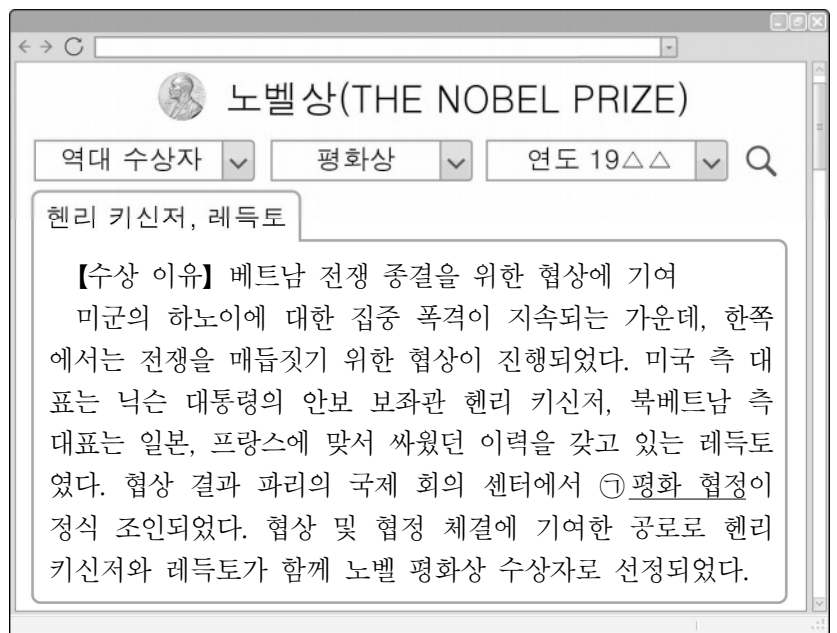
자료로 보는 동아시아사

하나, 천하의 정권을 조정에 돌려드려 정령이 반드시 조정으로부터 나오게 할 것.
 하나, 외국과 교류는 널리 공의(公議)를 모아 합당한 조약을 새로 세울 것.
 하나, 고래(古來)의 율령을 참작하여 영원히 이어질 헌법을 정할 것.

[해설] 반막부 세력이 정변을 일으키기 직전에 내세운 강령이다. 정변의 결과 (가)이/가 수립되었는데, 이 강령에서 주목되는 점은 불평등 조약의 개정을 위해 노력할 것과 헌법 제정을 내세운 점이다.

- ① 만민 공동회를 탄압하였다.
- ② 국가 총동원법을 제정하였다.
- ③ 흥정 헌법 대강을 발표하였다.
- ④ 미일 화친 조약을 체결하였다.
- ⑤ 이와쿠라 사절단을 파견하였다.

15. 밑줄 친 ㉠에 대한 설명으로 옳은 것은? [3점]



- ① 미군 철수의 내용을 담고 있다.
- ② 미일 안보 조약 체결에 영향을 주었다.
- ③ 닉슨이 중국을 방문하는 배경이 되었다.
- ④ 베트남 민주 공화국이 수립되는 계기가 되었다.
- ⑤ 북위 17도선을 경계로 베트남이 분단되는 결과를 가져왔다.

16. (가), (나) 운동에 대한 설명으로 옳은 것은? [3점]

반제국주의 민족 운동의 전개

1. (가)

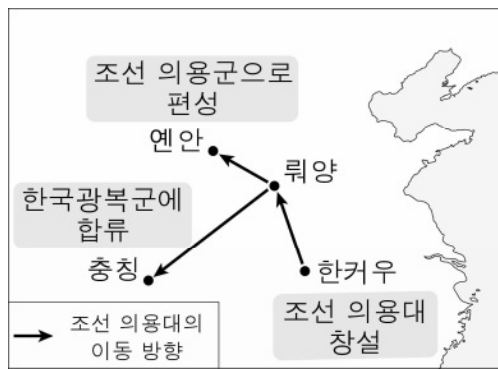
- 배경: 헌병 경찰을 앞세운 일제의 무단 통치, 민족 자결주의 등
- 전개: 만세 시위가 전국 및 국외로 확산, 일제의 무력 진압

2. (나)

- 배경: 신문화 운동, 파리 강화 회의에서 중국의 요구가 거부됨
- 전개: 베이징 대학생들이 반군벌·반일 시위 → 각지로 확산

- ① (가) - 민족 유일당 운동의 영향을 받았다.
- ② (가) - 대한민국 임시 정부의 주도로 시작되었다.
- ③ (나) - 제2차 국공 합작의 계기가 되었다.
- ④ (나) - 중국 국민당 창당에 영향을 주었다.
- ⑤ (가), (나) - 리튼 조사단의 조사 대상이 되었다.

17. 다음 이동이 있었던 시기를 연표에서 옳게 고른 것은?



(가)	(나)	(다)	(라)	(마)
-----	-----	-----	-----	-----

청일 전쟁 발발	의화단 운동 발생	국민 혁명군의 북벌 시작	만주 사변 발생	중일 전쟁 발발	일본 천황의 항복 선언
----------	-----------	---------------	----------	----------	--------------

- ① (가) ② (나) ③ (다) ④ (라) ⑤ (마)

18. 밑줄 친 '전쟁'의 결과로 옳은 것은?

이 그림은 영국의 부추김으로 러시아에 대항하는 일본의 모습을 나타낸 풍자화로 제1차 영일 동맹이 맺어지던 시기의 상황을 보여 준다. 당시 영국은 일본과 동맹을 맺어 동아시아에서 러시아의 남하를 견제하고자 하였다. 영국의 지원을 받은 일본은 러시아에 대한 견제를 강화하였으며, 한반도와 만주를 둘러싸고 러시아와 일본의 대립이 격화되면서 결국 일본의 도발로 전쟁이 발발하였다.

- ① 포츠머스 조약이 체결되었다.
- ② 타이완이 일본에 할양되었다.
- ③ 러시아가 연해주를 차지하였다.
- ④ 일본이 칭다오 지역을 차지하였다.
- ⑤ 러시아 등이 일본에 삼국 간섭을 하였다.

19. 밑줄 친 '재판'이 진행된 시기의 동아시아 상황으로 옳은 것은? [3점]

격동의 19△△년, 역사적인 재판이 시작되다.

재판장 윌리엄 웨브는 재판 개시를 알렸다. “우리에게 주어진 책임이 얼마나 큰지 충분히 인식하고 있다. 지금까지 이만큼 중요한 형사 재판은 없었다. ...(중략)... 이번에 기소돼 우리 눈앞에 앉아있는 피고인 도조 히데키, 미나미 지로 등은 과거 10여 년 동안 총리대신, 외무대신, 참모총장 등 일본의 지도자였던 사람들이다. 이들의 죄목은 평화에 대한 죄, 통상의 ‘전쟁법’에 대한 죄, 또는 인도(人道)에 대한 죄, 또는 이들 죄를 범하려고 공동 모의를 한 죄이다.”

- ① 6·25 전쟁이 일어났다.
- ② 포츠담 회담이 개최되었다.
- ③ 신헌법(평화 헌법)이 시행되었다.
- ④ 샌프란시스코 강화 조약이 체결되었다.
- ⑤ 중국 국민당이 타이완으로 근거지를 옮겼다.

20. (가), (나) 시기 사이의 동아시아 상황으로 옳은 것은? [3점]

(가) 베트남은 제6차 공산당 전당 대회에서 도이머이(Doi Moi)를 선포하였다. 당 서기장 쩌엥찐은 “조국의 모든 생산 잠재력을 자유화시키는 것을 도모해야 한다.”라고 말하였다.

(나) 덩샤오핑은 우창, 선전, 주하이, 상하이 등 남방의 경제 특구를 일일이 돌며 가는 곳마다 개혁·개방 정책의 지속과 심화를 요구하면서 “당의 기본 노선을 유지하며 백 년 동안 흔들리지 말자.”라고 강조하였다.

- ① 한국 - 제1차 경제 개발 5개년 계획을 실행하였다.
- ② 북한 - 합영법이 제정되었다.
- ③ 중국 - 텐안먼 사건이 일어났다.
- ④ 일본 - 미국 등과 플라자 합의를 하였다.
- ⑤ 베트남 - 베트남 사회주의 공화국을 수립하였다.

*** 확인 사항**

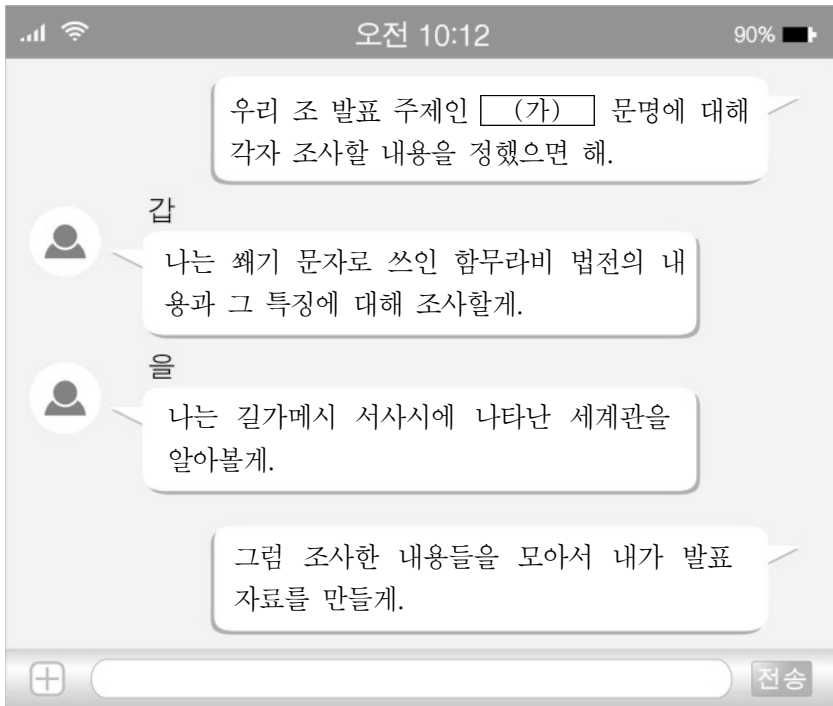
○ **답안지의 해당란에 필요한 내용을 정확히 기입(표기)했는지 확인하시오.**

제 4 교시

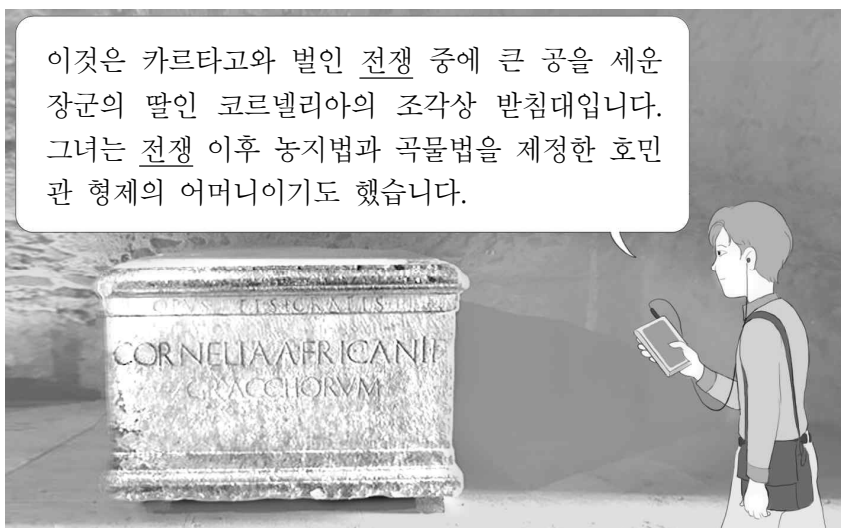
사회탐구 영역(세계사)

성명		수험번호				3				제 () 선택
----	--	------	--	--	--	---	--	--	--	----------

1. (가) 문명의 문화유산으로 옳은 것은?



2. 밑줄 친 '전쟁'에 대한 설명으로 옳은 것은? [3점]



- ① 옥타비아누스가 집권하는 계기가 되었다.
- ② 펠로폰네소스 동맹의 반발로 시작되었다.
- ③ 라티퐁디움 경영의 확대에 영향을 미쳤다.
- ④ 알렉산드리아 건설과 병행하며 전개되었다.
- ⑤ 호르텐시우스법이 제정되는 결과를 낳았다.

3. (가) 왕조에 대한 설명으로 옳은 것은?

문학으로 보는 중국사

변경(汴京)의 화려함을 추억해 보니
만리강산이 제왕의 집이었지.
구슬로 된 숲과 옥으로 된 궁전에
아침은 현악기와 관악기 소리로 시끄럽고
저녁은 생황과 비파 소리가 즐지었지.
변화한 도읍은 주인 없어 쓸쓸하고
덧없는 꿈은 오랑캐 땅의 모래바람에 둘러싸이네.

[작품 해설] 이 작품은 휘종이 (가)에 포로로 끌려가서 쓴 시의 일부이다. 화려했던 과거를 그리워하며 현재의 생활을 한탄하는 심경이 담겨 있다. 변경(카이펑)이 함락되고 휘종과 그의 아들 흠종이 포로로 끌려갔으나, 곧이어 조구가 황제로 즉위하고 임안(항저우)에 도읍함으로써 왕조의 명맥을 이어 갈 수 있었다.

- ① 지정은제를 시행하였다.
- ② 고구려 원정을 단행하였다.
- ③ 정화의 항해를 추진하였다.
- ④ 맹안 모극제를 마련하였다.
- ⑤ 장건을 대월지에 파견하였다.

4. (가) 시대에 있었던 사실로 옳은 것은? [3점]

일본사 Q&A

Q 질문
텐표 문화에 대해 알려주세요.

A 답변
텐표 문화는 (가) 시대 전반에 걸쳐 성행한 문화로, 쇼무 천황 때 연호인 '텐표'에서 그 명칭이 유래했어요. (가) 시대에는 건당사를 통해 유입된 중국 문화의 영향을 받은 귀족 문화가 유행했어요. 특히 한시가 귀족의 교양으로 자리 잡으며 한시집인 『회풍조』가 편찬되었어요. 그리고 한시 시형(詩形)의 영향을 받아 전통적인 시가에도 5·7조의 형식이 유행하였고, 이를 반영한 『만엽집』이 편찬되기도 했지요.

- ① 일본서기가 편찬되었다.
- ② 감합 무역이 실시되었다.
- ③ 원이 두 차례 침략하였다.
- ④ 다이카 개신이 단행되었다.
- ⑤ 산킨코타이 제도가 시행되었다.

5. (가) 인물에 대한 설명으로 옳은 것은?

(가) 은/는 니루 조직을 확대 개편하였다. 성년 남자 300명을 1니루로, 5개의 니루를 1잘란으로, 5개의 잘란을 1구사로 편제하였다. 구사를 한자로 '기(旗)'라고 표현하였는데, 처음에는 4개 기를 조직하여 황·홍·백·남의 상징색을 부여하였다. 이후 통치 범위가 확장되고 인구와 병사가 늘어나자, (가) 은/는 황·홍·백·남색 기를 정기(正旗)라 부르고, 각각의 깃발에 홍색이나 백색 테두리를 두른 것을 양기(讓旗)라고 구분해 모두 8기로 만들었다.

- ① 후금을 건국하였다.
- ② 군기처를 설치하였다.
- ③ 자금성을 건설하였다.
- ④ 사고전서를 편찬하였다.
- ⑤ 삼번의 난을 진압하였다.

6. (가) 왕조에 대한 설명으로 옳은 것은? [3점]

홀라구의 군대는 투석기로 바그다드의 망루를 부수었고 성벽 위로 올라갔다. ... (중략) ... 전쟁에서 패배한 칼리프와 세명의 아들 등은 와카프에서 최후를 맞았다. 홀라구는 칼리프 가문 사람들 중 발견된 자는 누구도 살려 두지 않았다. 이렇게 해서 권좌에 앉아 있던 (가) 칼리프들의 통치는 끊어지게 되었다.

- ① 마라타 동맹의 반란을 진압하였다.
- ② 시아파 이슬람교를 국교로 삼았다.
- ③ 군관구제와 둔전병제를 실시하였다.
- ④ 당과의 탈라스 전투에서 승리하였다.
- ⑤ 이집트의 맘루크 왕조를 정복하였다.

7. 밑줄 친 '이 제국'의 문화에 대한 설명으로 옳은 것은? [3점]

티무르의 후손으로 알려진 인물이 건국한 이 제국에서는 인도·이슬람 문화가 발전하였습니다. 이를 잘 보여 주는 후마윤 무덤에는 차도리 등의 인도 양식과 돔, 아치, 사분할 정원 등의 이슬람 양식이 함께 존재합니다.



- ① 우르두어가 사용되었다.
- ② 샤쿤탈라가 저술되었다.
- ③ 간다라 양식이 등장하였다.
- ④ 쿠티브 미나르가 건립되었다.
- ⑤ 아잔타 석굴 사원이 착공되었다.

8. (가) 인물에 대한 설명으로 옳은 것은?



왼쪽의 『드로고 전례서』는 엘킨의 필기법이 적용된 대표적인 서적이다. (가) 이/가 세운 아헨의 궁정 학교에 초빙된 엘킨은 그리스·로마의 고전을 필사하였다. 이 과정에서 단락의 시작 부분에만 로마식 알파벳을 크게 적고 나머지는 필기에 편하도록 고안한 소문자를 사용하였다. 이 방식은 650여 년 뒤 등장한 구텐베르크의 인쇄술과 결합되어 유럽에 보급되었다.

- ① 보름스 협약을 맺었다.
- ② 메르센 조약을 체결하였다.
- ③ 카롤루스 왕조를 개창하였다.
- ④ 투르·푸아티에 전투에서 승리하였다.
- ⑤ 교황으로부터 서로마 황제의 관을 받았다.

9. 다음 주장이 제기된 시기의 사회 모습으로 적절한 것은?

신이 천하의 지도를 놓고 살펴보니, 여섯 나라의 땅덩어리가 진(秦)보다 다섯 배나 크고 병사들은 열 배나 많습니다. 여섯 나라가 하나로 힘을 합쳐 서쪽으로 진을 공격하면, 진은 반드시 질 것입니다. ... (중략) ... 여섯 나라가 합종하여 함께 진에 맞서면, 진의 군대는 감히 함곡관으로 나와 산둥을 위협하지 못할 것입니다. - 『사기』 -

- ① 유가 사상가가 도덕 정치를 주장하였다.
- ② 원강, 룡먼 등에 석굴 사원이 축조되었다.
- ③ 서역의 영향을 받은 당삼채가 제작되었다.
- ④ 관리 선발을 위한 향거리선제가 실시되었다.
- ⑤ 이슬람 역법을 참고한 수시력이 편찬되었다.

10. 밑줄 친 '왕조'에 대한 설명으로 옳은 것은? [3점]

계간 세계사 특별 기고

호스로 1세, 그는 누구인가?

호스로 1세는 왕조의 전성기를 이끈 샤한샤로, 다방면에 걸친 업적을 남긴 인물이다. 그는 문학, 철학, 과학을 발전시켰으며 국교인 조로아스터교의 권위를 높였다. 대외적으로는 동쪽의 에프탈을 격파하였고, 서쪽의 비잔티움 제국을 제압하여 공물을 받기도 하였다.

- ① 이스파한을 수도로 삼았다.
- ② 밀레트 제도를 실시하였다.
- ③ 이슬람 세력에 의해 멸망하였다.
- ④ 이베리아반도까지 영토를 확장하였다.
- ⑤ 수사에서 사르디스까지 왕의 길을 건설하였다.

11. 밑줄 친 '공의회'에 대한 탐구 활동으로 가장 적절한 것은?



위클리프는 45개 조항에서, 그의 뜻을 따르는 후스는 30개 조항에서 명백한 이단으로 판명되었습니다.

후스의 처형을 결의한 우리 공의회의 결정은 타당합니다.


- ① 성상 파괴령의 반포 결과를 확인한다.
- ② 교회의 대분열이 수습되는 과정을 파악한다.
- ③ 쉘주크 튀르크와의 전쟁을 호소한 교황을 알아본다.
- ④ 루터파의 등장에 대한 로마 가톨릭교회의 대응을 조사한다.
- ⑤ 신성 로마 제국의 하인리히 4세가 파문된 배경을 살펴본다.

12. (가) 왕에 대한 설명으로 옳은 것은?

안할트 지역의 이 모병 포스터에는 입대 시 장려금을 지급하고 읽기와 쓰기, 춤, 펜싱 등도 가르쳐 준다는 내용이 쓰여 있네요. 이렇게 (가)이 입대를 장려한 이유는 무엇이었을까요?




당시에 (가)은/는 오스트리아와의 전쟁으로 차지한 슬레지엔을 둘러싸고 7년 전쟁을 치르고 있었습니다. 그래서 전쟁에 필요한 병력을 확보하기 위해 적극적으로 모병을 했습니다.



- ① 낭트 칙령을 폐지하였다.
- ② 레판토 해전에서 승리하였다.
- ③ 미국의 남북 전쟁을 지원하였다.
- ④ 상트페테르부르크를 건설하였다.
- ⑤ 국가 제일의 공복임을 자처하였다.

13. 다음 상황이 전개된 시기를 연표에서 옳게 고른 것은? [3점]



루퍼트는 의회파의 주요 기지였던 버밍엄을 공격하여 의회파의 전력에 큰 타격을 주었다. 찰스 1세는 그의 공로를 높이 평가하여 왕당파 군대의 총사령관으로 임명하였다. 하지만 루퍼트가 왕실령의 주요 거점인 브리스틀을 의회파 군대에 빼앗기자, 찰스 1세는 그를 총사령관직에서 해임하였다.

(가)	(나)	(다)	(라)	(마)
스튜어트 왕조 개창	권리 청원 승인	크롬웰의 호국경 취임	심사법 제정	권리 장전 승인
				하노버 왕조 개창

- ① (가)
- ② (나)
- ③ (다)
- ④ (라)
- ⑤ (마)

14. 밑줄 친 ㉠, ㉡ '혁명' 사이에 있었던 사실로 옳은 것은? [3점]

○ 프랑스 사회주의자들은 차르의 낡은 체제를 전복하고 임시 정부를 세운, 이들의 ㉠혁명을 환영한다. 두마는 국민들을 대표하는 진정한 의회가 됨으로써, 차르에 저항했던 정치범들을 석방함으로써 국민적 단합을 일구어 냈다.

○ 대중이 깨닫지 못한 채 마냥 반겼던 즉각 강화 외침과 그에 따른 모든 선동이 승리하였다. 이 승리는 오래갈 것인가? 최초의 소비에트 정부를 세운 ㉡혁명의 횃불이 꺼지지만 않는다면 승리는 지속될 수 있을 것이다.


- ① 피의 일요일 사건이 발생하였다.
- ② 신경제 정책(NEP)이 추진되었다.
- ③ 레닌의 주도로 코민테른이 조직되었다.
- ④ 러시아의 임시 정부가 전쟁을 지속하였다.
- ⑤ 소비에트 사회주의 공화국 연방이 수립되었다.

15. 밑줄 친 ㉠ 당시에 볼 수 있는 모습으로 적절한 것은? [3점]

휘그당이 의회의 다수당이 되면서 선거구 조정과 선거권 확대를 주요 내용으로 하는 ㉠법안이 의회를 통과하였다. 그 결과 부패 선거구가 폐지되었고 신흥 도시 지역에 선거구가 신설되어 맨체스터, 브래드퍼드 등의 대도시들은 처음으로 대표를 선출할 수 있게 되었다. 선거권도 확대되어 신흥 상공업자 등에게도 선거권이 부여되었다.

- ① 대륙 회의에 참여하는 식민지 대표
- ② 의원 선거에 입후보하는 가톨릭교도
- ③ 그리스의 독립 전쟁을 지원하는 지식인
- ④ 철혈 정책을 추진하는 프로이센의 재상
- ⑤ 크림 전쟁에 참전하는 오스만 제국의 군인

16. (가) 전쟁의 결과로 옳은 것은? [3점]



이 동판화에는 황실 정원인 원명원의 파괴 전 모습이 나타나 있다. 동양과 유럽의 건축 양식이 어우러졌던 원명원은 한때 황제가 기거하며 정무를 보기도 했던 곳이다.

하지만 (가) 전쟁 중 텐진에 이어 베이징을 점령한 영·프 연합군의 방화로 대부분 소실되었다.

- ① 공행 무역이 폐지되었다.
- ② 변법자강 운동이 추진되었다.
- ③ 주룽반도 일부가 영국에 할양되었다.
- ④ 외국 군대의 베이징 주둔이 허용되었다.
- ⑤ 상하이를 비롯한 5개 항구가 개항되었다.

17. 다음 상황이 나타난 배경으로 가장 적절한 것은? [3점]

베를린은 우리 소련의 점령 지구 내에 있으므로 경제적으로도 소련 점령 지역의 일부이다. 우리는 이 지역의 주민과 이익을 보호하기 위해 미국·영국·프랑스의 행위를 저지할 것이다. 이에 우리는 서방 국가가 베를린에 진입하는 육로 및 수로 교통에 대한 봉쇄 정책을 시행하기로 했다.

- ① 베를린 장벽이 건설되었다.
- ② 닉슨 독트린이 발표되었다.
- ③ 바르샤바 조약 기구가 결성되었다.
- ④ 빌리 브란트가 동방 정책을 시행하였다.
- ⑤ 서독 지역에 새로운 통화 제도가 도입되었다.

18. (가) 국가에 대한 설명으로 옳은 것은?



이 그림은 메인호 폭발 사고를 구실 삼아 에스파냐를 상대로 전쟁을 일으켜 쿠바를 빼앗으려는 (가)의 의도를 풍자하고 있다. 결국 에스파냐와의 전쟁에서 승리한 (가)은/는 쿠바를 보호국으로 만들었고, 팜을 차지하는 등 태평양 방면으로 세력을 확대하였다.

- ① 필리핀을 식민지로 삼았다.
- ② 범슬라브주의를 표방하였다.
- ③ 플라시 전투에서 패배하였다.
- ④ 두 차례 모로코 사건을 일으켰다.
- ⑤ 아프리카 종단 정책을 추진하였다.

19. 다음 내용이 발표된 전쟁 중에 있었던 사실로 옳은 것은?

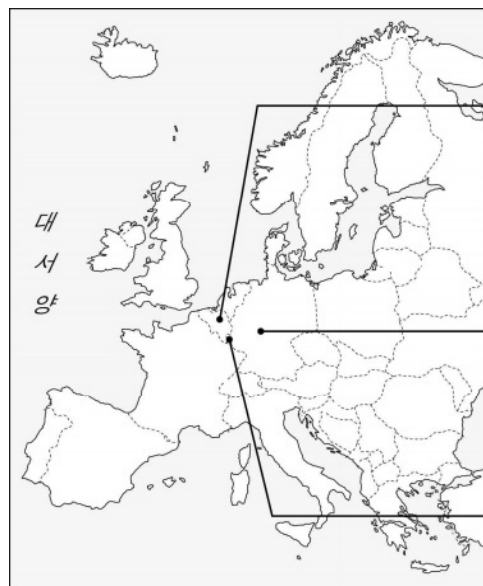


아이젠하워 대장의 지휘에 따라 연합군 공군의 지원을 받은 해군이 오늘 아침 프랑스 북부 해안에 육군을 상륙시키기 시작했습니다. 이 작전을 성공시켜 독일로부터 파리를 해방하겠습니다.

- ① 국제 연합이 출범하였다.
- ② 스탈린그라드 전투가 벌어졌다.
- ③ 독소 불가침 조약이 체결되었다.
- ④ 이탈리아가 국제 연맹을 탈퇴하였다.
- ⑤ 킬 군항의 해군들이 반란을 일으켰다.

20. (가) 기구에 대한 설명으로 옳은 것은?

< (가) 의 주요 조직 >



이사회
27개 회원국*의 정상 및 각료 등으로 구성되어 주요 정책 결정

중앙은행
공동 화폐 통화 정책 관리

법원
법률 해석 및 행위 적법성 검토

* 27개 회원국: 브렉시트(Brexit) 이후 27개국 체제로 운영

- ① 마셜 계획을 추진하였다.
- ② 제3 세계 형성을 주도하였다.
- ③ 상임 이사국에 거부권을 부여하였다.
- ④ 브레턴우즈 체제 성립에 기여하였다.
- ⑤ 마스트리흐트 조약 체결을 계기로 출범하였다.

* 확인 사항

- 답안지의 해당란에 필요한 내용을 정확히 기입(표기)했는지 확인하십시오.

제 4 교시

사회탐구 영역(경제)

성명		수험번호					3			제 () 선택
----	--	------	--	--	--	--	---	--	--	----------

1. 다음 사례에 대한 설명으로 옳은 것은? [3점]

갑은 동네 중고품 거래 앱에서 마음에 드는 상품 A~C를 찾았다. 각각의 편익을 금액으로 추정해 보니 A 선택과 B 선택은 동일하게 3만 원이고, C 선택은 7만 원이었다. 단, 갑은 A~C 중 하나만 선택할 수 있고, 다른 조건은 고려하지 않는다.

- ① A를 선택하는 것이 합리적이다.
- ② B 선택의 순편익은 양의 값을 가진다.
- ③ A 선택과 B 선택의 순편익을 더하면 0이다.
- ④ A 선택과 C 선택의 암목적 비용은 동일하다.
- ⑤ B 선택의 기회비용은 C 선택의 기회비용보다 작다.

2. 다음 자료에 대한 옳은 설명만을 <보기>에서 고른 것은? [3점]

(가)는 교역 전 갑국의 생산 가능 곡선, (나)는 교역 후 갑국과 을국의 공통된 소비 가능 곡선이다. a는 교역 전 갑국과 을국의 공통된 소비점이다. 갑국과 을국은 X재와 Y재만을 생산하고, 생산 가능 곡선은 직선이다. 양국 모두 비교 우위가 있는 재화의 생산에만 특화하고, 각국은 이득이 발생하는 경우에만 교역에 응한다. 단, 양국의 생산 요소의 양은 동일하고, 교역은 거래 비용 없이 양국 간에만 이루어지며, 생산된 재화는 모두 소비된다.

- < 보 기 >
- ㄱ. 갑국은 X재 생산, 을국은 Y재 생산에 절대 우위가 있다.
 - ㄴ. 을국의 최대 생산 가능한 Y재는 30개이다.
 - ㄷ. 을국의 Y재 1개 생산의 기회비용은 X재 3개이다.
 - ㄹ. 교역 후 갑국의 X재 1개 소비의 기회비용은 교역 전보다 감소했다.

- ① ㄱ, ㄴ ② ㄱ, ㄷ ③ ㄴ, ㄷ ④ ㄴ, ㄹ ⑤ ㄷ, ㄹ

3. 다음 수업 장면에 대한 옳은 설명만을 <보기>에서 고른 것은? (단, A는 원/달러 환율의 상승과 하락 중 하나이다.)

교사: A가 지속될 때 나타날 수 있는 양상을 발표해 보세요.
 갑: 우리나라를 방문하려는 미국인 관광객의 여행 경비 부담이 감소할 것입니다.
 을: 미국 유학 중인 자녀에게 학비를 송금하려는 우리나라에 있는 부모의 부담이 증가할 것입니다.
 병: 우리나라에서 생산하여 미국으로 수출하는 상품의 가격 경쟁력이 하락할 것입니다.
 정: _____ (가)
 교사: 세 명은 옳게 말했는데, ① 한 명은 옳지 않은 답을 말했어요.

- < 보 기 >
- ㄱ. A는 달러화 대비 원화 가치의 상승을 의미한다.
 - ㄴ. 우리나라 외환 시장에서 달러화 수요 증가는 A의 요인에 해당한다.
 - ㄷ. (가)에는 '우리나라 기업의 달러화 표시 외채 상환 부담이 증가할 것입니다.'가 들어갈 수 있다.
 - ㄹ. ①에 해당하는 학생은 을이다.

- ① ㄱ, ㄴ ② ㄱ, ㄷ ③ ㄴ, ㄷ ④ ㄴ, ㄹ ⑤ ㄷ, ㄹ

4. 다음은 경제 체제에 대한 수업 활동을 정리한 자료이다. 이에 대한 설명으로 옳은 것은?

<활동 규칙>

- 표의 특징이 전통 경제 체제에 해당하면 '●', 계획 경제 체제에 해당하면 '▣', 시장 경제 체제에 해당하면 '◇'를 표시한다.
- '●', '▣', '◇'를 옳게 표시하면 배정된 점수를 획득한다.

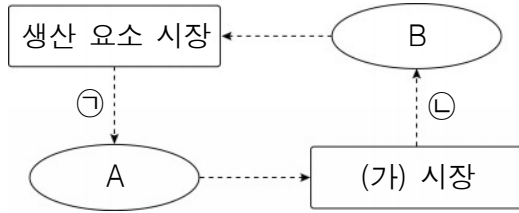
<학생 갑~병의 응답 결과>

경제 체제의 특징	갑	을	병
전통과 관습에 따라 경제 문제를 해결한다. (1점)	●	●	◇
생산 수단의 국·공유화를 원칙으로 한다. (2점)	◇	▣	▣
'보이지 않는 손'에 의한 자원 배분을 강조한다. (2점)	▣	●	◇
개별 경제 주체의 자유로운 의사 결정이 보장된다. (3점)	◇	◇	▣

- ① 갑이 획득한 점수의 합은 5점이다.
- ② 획득한 점수의 합이 가장 높은 학생은 을이다.
- ③ 옳게 답한 개수가 가장 많은 학생은 병이다.
- ④ 병과 달리 갑은 계획 경제 체제의 특징에 옳게 답하였다.
- ⑤ 시장 경제 체제의 특징에만 모두 옳게 답하면 4점을 획득한다.

경제

5. 그림은 화폐의 흐름으로 나타낸 민간 부분의 경제 순환이다. 이에 대한 설명으로 옳은 것은? (단, A, B는 서로 다른 경제 주체이다.)



- ① 노동이나 토지는 (가) 시장에서 거래된다.
- ② A는 이윤 극대화를 추구한다.
- ③ B는 생산 요소 시장에서 수요자이다.
- ④ 재화와 서비스는 ㉠에 해당한다.
- ⑤ 은행에 저축하여 받은 이자는 ㉡에 해당한다.

6. 그림은 갑국의 연도별 명목 GDP와 실질 GDP를 나타낸다. 이에 대한 분석으로 옳은 것은? (단, 물가 수준은 GDP 디플레이터로 측정한다.) [3점]



- ① 물가 수준은 2018년과 2019년이 같다.
- ② 경제 규모는 2016년이 2017년보다 크다.
- ③ 경제 성장률은 2017년과 2018년이 같다.
- ④ 2018년과 달리 2020년에는 전년에 비해 물가가 상승하였다.
- ⑤ 2020년에 전년 대비 명목 GDP 증가율은 경제 성장률보다 낮다.

7. 다음 자료에 대한 설명으로 옳은 것은? [3점]

갑 기업은 노동 비용과 생산 장비 임차료만 지출하여 X재를 생산한다. 생산 장비 임차료는 생산량에 관계없이 3만 원으로 일정하다. 단, X재의 시장 가격은 9만 원으로 일정하고, 생산된 X재는 모두 판매된다.

<X재의 생산량에 따른 평균 비용>

생산량(개)	1	2	3	4	5
평균 비용(만 원)	10	7	5	5	6

* 평균 비용 = 총비용 ÷ 수량

- ① 이윤이 극대화되는 생산량은 3개이다.
- ② 생산량이 5개일 때 이윤은 12만 원이다.
- ③ 생산량이 2개일 때 노동 비용은 11만 원이다.
- ④ 생산량을 1개씩 늘릴 때마다 추가적으로 지출하는 비용은 증가한다.
- ⑤ 생산 장비 임차료가 5배로 증가하면 생산을 하지 않는 것이 합리적이다.

8. 표는 인플레이션의 유형 A, B를 정리한 것이다. 이에 대한 설명으로 옳은 것은? (단, A, B는 각각 비용 인상 인플레이션과 수요 견인 인플레이션 중 하나이다.)

질문 \ 유형	A	B
총공급의 변동으로 인해 나타나는가?	아니요	예
(가)	예	아니요
(나)	아니요	아니요

- ① A는 비용 인상 인플레이션이다.
- ② A로 인해 스태그플레이션이 발생할 가능성이 높다.
- ③ 민간 투자 증가는 B의 발생 요인이다.
- ④ (가)에는 '실질 GDP의 증가를 동반하는가?'가 들어갈 수 있다.
- ⑤ (나)에는 '화폐의 실질 구매력이 상승하는가?'가 들어갈 수 없다.

9. 다음 자료에 대한 분석으로 옳은 것은? [3점]

표는 수요자 갑~병과 공급자 A~C로 구성된 X재 시장에서 수요자가 1개씩 추가로 구입할 때마다 지불하고자 하는 최대 지불 용의 금액과 공급자가 1개씩 추가로 판매할 때마다 받고자 하는 최소 요구 금액을 나타낸다.

구분	최대 지불 용의 금액(만 원)			최소 요구 금액(만 원)		
	갑	을	병	A	B	C
첫 번째 X재	5	5	5	2	3	4
두 번째 X재	0	0	0	3	4	5
세 번째 X재	0	0	0	4	5	6

- ① 총잉여는 7만 원이다.
- ② 시장 거래량은 1개이다.
- ③ 소비자 잉여는 3만 원이다.
- ④ 생산자 잉여는 B가 A보다 크다.
- ⑤ 가격이 5만 원이라면 공급량은 2개이다.

10. 다음 자료는 갑과 을의 형성 평가 답안 및 교사의 채점 결과이다. 이에 대한 설명으로 옳은 것은?

○ 형성 평가: 경기 침체 시 경제를 안정화하기 위한 재정 정책과 통화 정책의 수단을 각각 1가지씩 쓰시오.
○ 학생이 쓴 답안 및 교사의 채점 결과

학생	재정 정책	통화 정책	채점 결과
갑	㉠	㉡	2점
을	지급 준비율 인하	㉢	㉣

* 각 항목당 학생이 쓴 내용이 맞으면 1점, 틀리면 0점을 부여함.

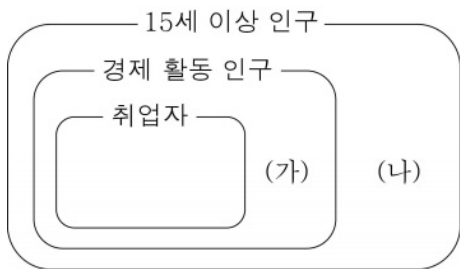
- ① ㉠에는 '정부 지출 축소'가 들어갈 수 있다.
- ② ㉠에는 총수요를 감소시키는 정책이 들어갈 수 있다.
- ③ ㉡에는 '국·공채 매각'이 들어갈 수 있다.
- ④ ㉢에 '세율 인하'가 들어간다면 ㉣에는 '2점'이 들어간다.
- ⑤ ㉣에 '1점'이 들어간다면 ㉣에는 '기준 금리 인하'가 들어갈 수 있다.

11. X재, Y재에 대한 설명으로 옳은 것은?

- X재는 비배제성과 비경합성을 동시에 갖는 재화이다.
- Y재는 '공유지의 비극'이 발생한다.

- ① X재는 '한산한 유료 도로'와 같은 특성을 갖는다.
- ② X재는 시장에 맡기면 충분히 공급되지 않는 문제가 발생한다.
- ③ Y재는 배제성은 있지만 경합성은 없다.
- ④ X재와 달리 Y재는 공공재에 해당한다.
- ⑤ Y재와 달리 X재는 대가를 지불하지 않고 소비할 수 있다.

12. 그림은 우리나라의 고용 지표와 관련된 인구 구성을 나타낸다. 이에 대한 옳은 설명만을 <보기>에서 고른 것은? (단, 15세 이상 인구는 일정하다.) [3점]

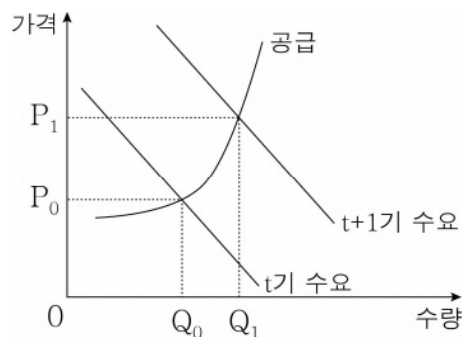


- < 보 기 >
- ㄱ. (가)와 (나)가 모두 감소하면 취업률은 상승한다.
 - ㄴ. (가)와 (나)가 모두 증가하면 고용률은 상승한다.
 - ㄷ. (가)가 일정할 때 (나)가 감소하면 실업률은 하락한다.
 - ㄹ. (나)가 일정할 때 (가)가 증가하면 경제 활동 참가율은 하락한다.

- ① ㄱ, ㄴ ② ㄱ, ㄷ ③ ㄴ, ㄷ ④ ㄴ, ㄹ ⑤ ㄷ, ㄹ

13. 다음 자료에 대한 분석으로 옳은 것은? [3점]

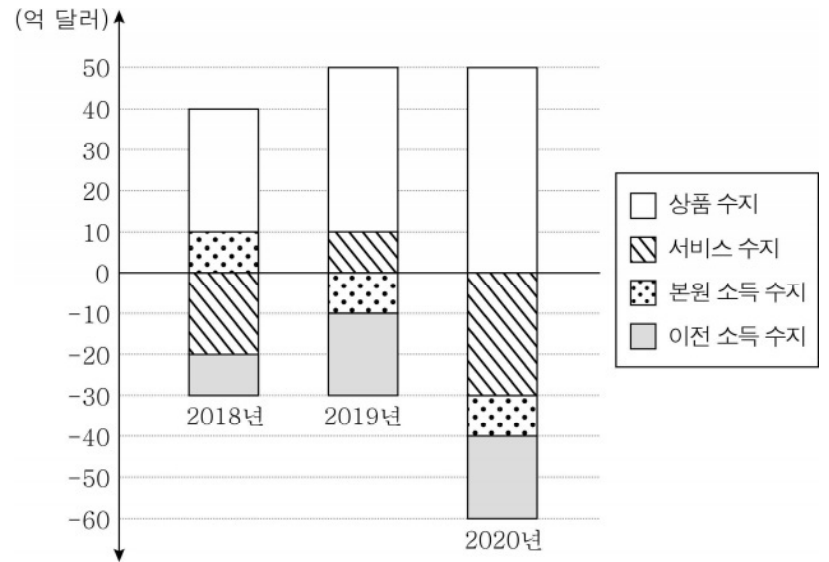
그림은 갑국에서 X재 수요가 증가하여 t기에 비해 t+1기에 X재 가격이 급등한 시장 상황을 나타낸다. 갑국 정부는 이 문제를 해결하고자 (가) 또는 (나)를 고려하고 있다.



- (가): P_0 을 상한으로 가격을 규제하는 정책
- (나): 공급자에게 X재 1단위당 $P_1 - P_0$ 만큼의 보조금을 지급하는 정책

- ① (가)는 X재 시장의 공급자를 보호하기 위한 정책이다.
- ② (나)를 시행하면 X재의 시장 가격이 P_0 으로 하락한다.
- ③ (나)를 시행하면 X재의 시장 거래량은 $Q_1 - Q_0$ 만큼 감소한다.
- ④ (가)보다 (나)를 시행할 때 X재의 시장 거래량이 많다.
- ⑤ (나)와 달리 (가)를 시행할 때 X재 시장에 초과 공급이 발생한다.

14. 그림은 갑국의 연도별 경상 수지를 나타낸다. 이에 대한 분석으로 옳은 것은?



- ① 무역 규모는 지속적으로 증가하였다.
- ② 2018년 해외 무상 원조 금액이 포함된 항목은 유출액보다 유입액이 많다.
- ③ 2018년과 달리 2019년 지식 재산권 사용료가 포함된 항목은 흑자이다.
- ④ 2019년에 비해 2020년 본원 소득 수지의 적자 폭이 증가하였다.
- ⑤ 2020년과 달리 2018년 경상 수지는 외환 보유액 감소 요인이다.

15. 다음 자료에 대한 옳은 설명만을 <보기>에서 고른 것은?

[3점]

표는 X재 시장에서 X재 수요 변동 전·후의 시장 상황을 나타낸다. X재 시장에서는 생산 측면의 외부 효과가 발생하고 있다. 단, X재는 수요와 공급 법칙을 따르며, 수요 곡선과 사적 비용만을 반영한 공급 곡선, 사회적 비용을 반영한 공급 곡선은 모두 직선이다.

구분	가격(달러)		거래량(만 개)	
	시장 가격	사회적 최적 가격	시장 거래량	사회적 최적 거래량
㉠ 수요 변동 전	5	7	5	3
㉡ 수요 변동 후	7	9	7	5

- < 보 기 >
- ㄱ. X재 생산의 사회적 비용은 사적 비용보다 작다.
 - ㄴ. ㉠의 경우, 세금 부과로 사회적 최적 수준에 도달했다면 징수된 세금의 총액은 6만 달러이다.
 - ㄷ. 세금 부과로 사회적 최적 수준에 도달했다면 징수된 세금의 총액은 ㉡의 경우가 ㉠의 경우보다 8만 달러 더 많다.
 - ㄹ. ㉠, ㉡의 경우 모두 세금 부과로 사회적 최적 수준에 도달했다면 부과된 세액은 X재 1개당 4달러이다.

- ① ㄱ, ㄴ ② ㄱ, ㄷ ③ ㄴ, ㄷ ④ ㄴ, ㄹ ⑤ ㄷ, ㄹ

16. 교사가 제시한 과제를 모두 옳게 수행한 학생만을 고른 것은?

○ 과제 : (가)~(다)에 들어갈 수 있는 적절한 내용을 쓰시오.
(단, 총수요 곡선은 우하향, 총공급 곡선은 우상향한다.)

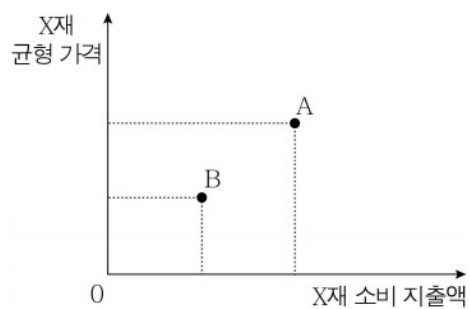
총수요 변동 요인 (가)	→	총수요 곡선 이동 방향 (나)	→	국민 경제 변화 양상 (다)
---------------------	---	------------------------	---	-----------------------

○ 학생의 과제 수행 결과

구분	(가)	(나)	(다)
갑	순수출 감소	왼쪽	물가 하락
을	민간 소비 증가	오른쪽	실질 GDP 증가
병	정부 지출 감소	오른쪽	물가 상승
정	원자재 가격 하락	왼쪽	실질 GDP 감소

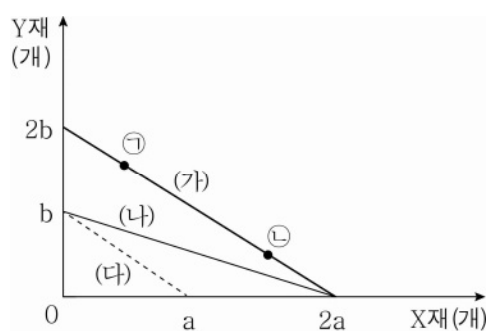
- ① 갑, 을 ② 갑, 병 ③ 을, 병 ④ 을, 정 ⑤ 병, 정

17. A, B는 X재 시장에서 발생 가능한 균형 가격과 소비 지출액의 조합을 나타낸다. 이에 대한 설명으로 옳은 것은? (단, X재는 정상재이고, 수요와 공급 법칙을 따른다.)



- ① X재의 대체재 가격이 상승하면 B에서 A로 이동할 수 있다.
 ② X재의 보완재 가격이 하락하면 A에서 B로 이동할 수 있다.
 ③ X재 수요자의 소득이 증가하면 A에서 B로 이동할 수 있다.
 ④ X재의 생산 요소 가격이 상승하면 A에서 B로 이동할 수 있다.
 ⑤ X재의 가격이 미래에 하락할 것으로 예상되면 B에서 A로 이동할 수 있다.

18. (가)는 현재 갑의 용돈으로 최대 소비 가능한 X재와 Y재의 조합을 연결한 직선이다. 이에 대한 설명으로 옳은 것은? [3점]



- ① 현재 Y재 1개 소비의 기회비용은 X재 b/a 개이다.
 ② 소비에 지출하는 비용은 ㉠이 ㉡보다 크다.
 ③ X재의 가격이 2배가 된다면 (가)는 (나)로 변화할 것이다.
 ④ 갑의 용돈이 현재 수준의 1/4로 줄어든다면 (가)는 (다)로 변화할 것이다.
 ⑤ X재의 가격과 Y재의 가격이 모두 2배가 된다면 (가)는 (다)로 변화할 것이다.

19. 다음은 조연 (가), (나)에 따른 갑의 포트폴리오 변화를 정리한 것이다. 이에 대한 설명으로 옳은 것은? (단, 금융 상품의 일반적인 특징만을 고려한다.)

t기		(가) ⇨	t+1기		(나) ⇨	t+2기	
요구불 예금	50%		주식	70%		채권	30%
저축성 예금	50%	채권	30%	요구불 예금	70%		

- ① t기에는 시세 차익을 기대할 수 있는 금융 상품이 있다.
 ② t+1기에는 이자 수익을 기대할 수 있는 금융 상품이 없다.
 ③ t+2기에는 예금자 보호 제도의 적용을 받을 수 있는 금융 상품이 없다.
 ④ (가)는 안전성보다 수익성을 높이는 방향으로 포트폴리오를 변경하라는 내용이었을 것이다.
 ⑤ (나)는 시세 차익과 배당 수익을 모두 기대할 수 있는 금융 상품의 비중을 높이라는 내용이었을 것이다.

20. 다음 자료에서 주사위를 세 번째까지 던진 결과에 대한 옳은 설명만을 <보기>에서 고른 것은? [3점]

갑~병은 게임판의 출발점에서 1, 2, 3이 두 번씩 적혀 있는 육면체 주사위를 한 번씩 번갈아 던져, 나온 수만큼 화살표 방향으로 각자의 말을 옮겨 해당 칸의 지시를 이행한다. 단, '물음표 카드 선택' 칸에 도착하면 물음표 카드를 뽑아 지시를 이행한다.

출발점	주식 배당금 10만 원 수령	공적 연금 정기 급여 20만 원 수령	아르바이트 월급 20만 원 수령	식당 운영 수입 50만 원 수령
공모전 상금 15만 원 수령	대출 이자 5만 원 납부	㉠ 물음표 카드 선택	재산세 10만 원 납부	

주사위를 세 번째까지 던진 결과	물음표 카드 (가)	물음표 카드 (나)
갑: 3 → 1 → 3 을: 2 → 3 → 1 병: 1 → 3 → 2	자녀 결혼 축하금! 게임 상대 모두로부터 5만 원씩 받으시오	점프 찬스! 앞으로 두 칸 이동하시오

< 보 기 >

ㄱ. 갑의 근로 소득은 70만 원이다.
 ㄴ. 을이 ㉠에서 (가)를 뽑았다면 을의 처분 가능 소득은 20만 원이다.
 ㄷ. 병이 ㉠에서 (나)를 뽑았다면 병은 갑과 달리 이전 소득이 있다.
 ㄹ. ㉠에서 을이 (나), 병이 (가)를 뽑았다면 비경상 소득은 을이 병보다 크다.

- ① ㄱ, ㄴ ② ㄱ, ㄷ ③ ㄴ, ㄷ ④ ㄴ, ㄹ ⑤ ㄷ, ㄹ

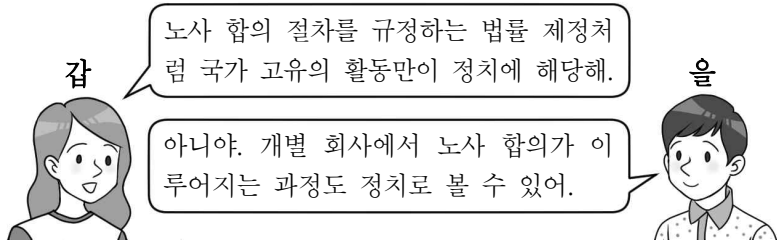
* 확인 사항
 ○ 답안지의 해당란에 필요한 내용을 정확히 기입(표기)했는지 확인하시오.

제 4 교시

사회탐구 영역(정치와 법)

성명		수험번호				3				제 () 선택
----	--	------	--	--	--	---	--	--	--	----------

1. 정치를 바라보는 갑, 을의 관점에 대한 설명으로 옳은 것은?



- ① 갑의 관점은 국가 형성 이전의 정치 현상을 설명하는 데 적합하다.
- ② 갑의 관점은 다원화된 현대 사회의 정치 현상을 설명하는 데 적합하다.
- ③ 을의 관점은 개인의 자선 활동을 정치라고 본다.
- ④ 갑의 관점은 을의 관점에 비해 정치 주체가 다양하다고 본다.
- ⑤ 갑, 을의 관점 모두 정부가 재난 지원금 예산을 편성하는 과정을 정치로 본다.

2. 밑줄 친 ㉠, ㉡에 대한 설명으로 옳은 것은?

㉠ 근대 사회의 법치주의는 집행과 사법이 의회에서 제정한 법률에 근거할 것만을 요구하고 그 법의 목적이나 내용은 문제 삼지 않는다는 비판을 받았다. 이에 따라 ㉡ 오늘날의 법치주의는 공권력의 행사가 법률에 근거해야 할 뿐만 아니라 그 법률의 목적과 내용도 정의에 부합해야 함을 강조한다.

- ① ㉠은 통치의 합법성뿐만 아니라 정당성도 중시한다.
- ② ㉡에서는 독재 정치가 나타날 가능성이 높다.
- ③ ㉠은 ㉡과 달리 법률에 의한 기본권 제한이 가능하다고 본다.
- ④ ㉡보다 ㉠에서 위헌 법률 심사 제도가 중시된다.
- ⑤ ㉠, ㉡ 모두 국가의 자의적 권력 행사 방지를 강조한다.

3. 표는 기본권 유형 A~C를 질문 (가), (나)에 따라 구분한 것이다. 이에 대한 설명으로 옳은 것은? (단, A~C는 각각 사회적권, 자유권, 청구권 중 하나이다.) [3점]

구분	A	B	C
(가)			★
(나)	★		

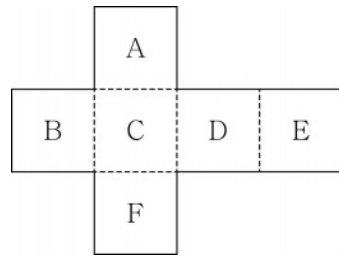
* 질문 (가), (나)에 대한 A~C의 응답은 '예' 또는 '아니요'이다.
 ** ★ 표시 칸에는 각 질문에 대한 A~C의 응답 중 나머지 두 개와 다른 응답이 들어간다.

- ① (가)에 '다른 기본권 보장을 위한 수단적 권리인가?'가 들어갈 수 없다.
- ② (나)에 '다른 기본권 보장의 전제 조건이 되는 본질적 권리인가?'가 들어갈 수 있다.
- ③ (가)에 '소극적 권리인가?'가 들어가면, (나)에 '공무 부담권이 포함되는 권리인가?'가 들어갈 수 있다.
- ④ A가 사회적권이라면, (나)에 '헌법에 열거되지 않아도 보장되는 포괄적 권리인가?'가 들어갈 수 있다.
- ⑤ C가 자유권이라면, (가)에 '국가의 존재를 전제로 하는가?'가 들어갈 수 있다.

4. 다음 수행 평가에서 교사의 안내대로 주사위를 완성하기 위해 A~F에 들어갈 내용을 옳게 배치한 학생은? [3점]

교사: 민주주의 발전 과정과 관련한 진술 (가)~(바)가 곁면에 적힌 주사위를 만들고자 합니다. (가)~(바) 중 3개는 옳은 진술이고, 나머지 3개는 틀린 진술입니다. 옳은 진술과 틀린 진술이 서로 반대편에 위치하도록 주사위 도면의 A~F에 배치해 보세요.

- (가) 근대 민주 정치에서 보통 선거 제도가 확립되었다.
- (나) 고대 아테네의 민주 정치는 치자와 피치자의 일치를 추구하였다.
- (다) 근대 민주 정치와 현대 민주 정치 모두 대의제에 기반을 두고 있다.
- (라) 현대 민주 정치는 근대 민주 정치와 달리 국민 주권주의를 바탕으로 한다.
- (마) 고대 아테네의 민주 정치와 근대 민주 정치 모두 천부인권 사상의 영향을 받았다.
- (바) 근대 민주 정치는 고대 아테네의 민주 정치와 달리 권력 분립의 원리를 강조하였다.



- | | | | | | | |
|------|-----|-----|-----|-----|-----|-----|
| | A | B | C | D | E | F |
| ① 갑: | (가) | (나) | (다) | (라) | (마) | (바) |
| ② 을: | (가) | (라) | (나) | (마) | (바) | (다) |
| ③ 병: | (나) | (다) | (라) | (바) | (마) | (가) |
| ④ 정: | (나) | (마) | (가) | (라) | (바) | (다) |
| ⑤ 무: | (다) | (마) | (나) | (가) | (라) | (바) |

5. 다음 대화를 통해 파악할 수 있는 우리나라 헌법 기관 A~D에 대한 설명으로 옳지 않은 것은?

갑: ○○법을 위반한 △△부 장관을 A가 해임해야 한다는 여론이 팽배해.
 을: 그래서 B와 C가 △△부 장관의 해임 건의를 고려하고 있다.
 갑: 난 B가 해임을 건의하는 게 좋다고 생각해. C와 달리 B의 해임 건의는 별도 의결 과정을 거칠 필요가 없잖아.
 을: 만약 B 또는 C의 해임 건의를 A가 수용하지 않으면, C가 D에 △△부 장관에 대한 탄핵 소추를 할 수도 있지.

- ① B는 국무 회의의 부의장이다.
- ② C는 조약의 체결 및 비준에 대한 동의권이 있다.
- ③ D의 재판관 9명 모두 A가 임명한다.
- ④ B와 C의 장(長)은 A가 임명한다.
- ⑤ D는 A, B에 대한 탄핵 심판권을 가진다.

정치와 법

6. 국제법의 법원(法源) A~C에 대한 옳은 설명만을 <보기>에서 있는 대로 고른 것은? (단, A~C는 각각 국제 관습법, 법의 일반 원칙, 조약 중 하나이다.)

- A와 달리 B, C는 국제 사회에서 포괄적 구속력을 갖는다.
- ‘국내 문제 불간섭’은 B에 해당한다.

< 보 기 >

ㄱ. 국가 또는 국제기구는 A의 체결 당사자가 될 수 있다.
 ㄴ. ‘신의 성실의 원칙’은 C에 해당한다.
 ㄷ. ‘문서 형식의 합의가 일반적인가?’라는 질문으로 B, C를 구분할 수 있다.
 ㄹ. A~C는 우리나라에서 헌법과 동등한 지위를 가진다.

- ① ㄱ, ㄴ ② ㄱ, ㄹ ③ ㄷ, ㄹ
 ④ ㄱ, ㄴ, ㄷ ⑤ ㄴ, ㄷ, ㄹ

7. 밑줄 친 ㉠~㉣에 대한 설명으로 옳은 것은? [3점]

내년 시행을 앞두고 있는 복지 정책 A에 소요되는 비용을 ㉠ 중앙 정부 외에 ㉡ 지방 자치 단체도 일정 비율만큼 부담하는 것으로 알려지자, ㉢ □□군 군수와 ㉣ □□군 의회는 “□□군은 재정 자립도가 너무 낮아 해당 비용을 부담할 여력이 없다.”라며 부담률을 낮춰 줄 것을 호소하고 있다. 또한 ㉤ ○○도지사는 “중앙 정부가 복지 정책 A에 소요되는 비용 일체를 부담해야 한다.”라고 주장하고 있다.

- ① ㉠과 ㉡은 수평적 권력 분립 관계에 있다.
 ② ㉢은 의결 기관, ㉣은 집행 기관이다.
 ③ ㉢, ㉣ 모두 주민 소환의 대상이 된다.
 ④ ㉤은 ㉢이 제정한 규칙의 범위 내에서 조례를 제정할 수 있다.
 ⑤ ㉤의 구성원은 ㉢과 달리 상대 다수 대표제로 선출된다.

8. 다음 자료에 대한 옳은 설명만을 <보기>에서 고른 것은?

○ 갑은 미신고 옥외 집회를 개최한 혐의로 기소 유예 처분을 받았다. 무죄를 주장하는 갑은 기소 유예 처분의 취소를 구하는 A를 □㉠에 청구하였다.
 ○ 을은 1심 재판 진행 중 재판의 전제가 된 도로 교통법의 해당 조항에 대해 위헌 법률 심판 제청을 신청했으나 기각되었다. 이에 을은 □㉡에 B를 청구하였는데, □㉢은 해당 조항에 대해 합헌 결정을 하였다.

< 보 기 >

ㄱ. ㉠은 상고심을 담당한다.
 ㄴ. 법원의 판결은 A의 청구 대상이 되지 않는다.
 ㄷ. 을뿐만 아니라 법원도 B를 청구할 수 있다.
 ㄹ. A는 권리 구제형 헌법 소원 심판, B는 위헌 심사형 헌법 소원 심판이다.

- ① ㄱ, ㄴ ② ㄱ, ㄷ ③ ㄴ, ㄷ ④ ㄴ, ㄹ ⑤ ㄷ, ㄹ

9. 다음 사례에 대한 법적 판단으로 옳은 것은? [3점]

○ 갑이 운영하는 음식점의 직원 을이 배달을 위해 오토바이를 운행하던 중에 부주의로 A를 치어 부상을 입혔다.
 ○ 병은 정이 소유한 건물을 빌려 음식점을 운영하고 있었는데, 어느 날 음식점의 창틀이 떨어져 B가 다쳤다.

- ① 을의 행위가 불법 행위로 성립해야 갑이 사용자의 배상 책임을 진다.
 ② 병과 정은 공동 불법 행위자의 책임을 진다.
 ③ 병이 면책되면 B가 손해 배상을 받을 방법은 없다.
 ④ A는 을이 아닌 갑에게 손해 배상을 청구해야 한다.
 ⑤ B의 손해에 대한 1차적 책임은 정에게 있다.

10. 다음 자료에 대한 분석으로 옳은 것은? [3점]

다음 표는 갑국의 t대 의회 의원 선거 결과이다.

(단위: 표)

구분	A당	B당	C당	D당
1 선거구	100	200	300	400
2 선거구	300	400	150	150
3 선거구	200	350	200	250
4 선거구	150	150	250	450
5 선거구	200	250	450	100
6 선거구	300	400	150	150
7 선거구	450	300	100	150
8 선거구	250	200	400	150
9 선거구	200	150	300	350
10 선거구	450	200	250	100

* 소선거구제를 적용하며, 투표율은 100%이고 무효표는 없다.

갑국은 t+1대 선거에서는 비례 대표제를 도입하면서 의회 의원 정수를 t대보다 40% 늘리기로 하였다. 변경안은 다음과 같으며, 별도의 정당 투표에서 예상되는 정당 득표율은 아래 표와 같다.

- 지역구 의원 선거: 기존 선거구를 1-2, 3-4, 5-6, 7-8, 9-10으로 통합하여 5개로 축소하고, 각 선거구별 1명씩 단순 다수 대표제로 선출한다.
 ○ 비례 대표 의원 선거: 비례 대표 의원 정수에 별도의 정당 투표에 따른 각 정당의 정당 득표율을 곱하여 산출된 수의 정수(整數)만큼 의석을 각 정당에 먼저 배분하고, 이후 잔여 의석은 소수점 이하의 수가 큰 순서대로 각 정당에 1석씩 배분한다.

정당	A당	B당	C당	D당
예상 정당 득표율(%)	28	33	23	16

* t+1대의 지역구 의원 선거 결과는 t대의 지역구 의원 선거 결과를 기준으로 판단하며, 비례 대표 의원 선거 결과는 예상 정당 득표율로 판단한다.

- ① t대에서 과반수 의석을 차지하는 정당이 나타난다.
 ② t+1대에서 C당은 B당과 달리 과소 대표된다.
 ③ t+1대에서 D당은 C당보다 비례 대표 의석이 1석 더 많다.
 ④ t대에 비해 t+1대에서 A당은 C당과 달리 불리해진다.
 ⑤ t대의 지역구 선거구제는 t+1대보다 사표가 많이 발생한다.

11. 다음 자료에 대한 설명으로 옳은 것은? (단, ○○국과 □□국은 모두 전형적인 정부 형태를 채택하고 있다.) [3점]

t기에 ○○국은 □□국과 달리 (가) 라는 것을 특징으로 하는 정부 형태를 채택하고 있었다. 그런데 ○○국은 t+1기에 t기와 달리 (나) 라는 것을 특징으로 하는 정부 형태로 변경하였으며, □□국은 정부 형태를 변경하지 않았다. 표는 시기별 정치 상황을 나타낸 것이다.

구분	○○국		□□국	
	t기	t+1기	t기	t+1기
원내 제1당	A당	B당	㉠	을당
원내 제1당의석수	130석	㉡	180석	140석
행정부 수반의 소속 정당	㉢	B당	갑당	㉣

* ○○국과 □□국 모두 의회 의석수는 300석으로 변함이 없다.

- ① ㉠이 '을당'이라면, t기에 □□국에서는 행정부 수반의 의회 해산권이 인정된다.
- ② ㉣이 'B당'이라면, t+1기에 ○○국에서는 행정부 수반의 임기가 엄격히 보장된다.
- ③ (가)에 '입법부에 의해 행정부가 구성된다.'가 들어가면, t+1기에 □□국에서는 여소야대 상황이 나타난다.
- ④ (가)에 '국가 원수와 행정부 수반이 동일인이다.'가 들어가면, ㉡에 151석 이상의 의석수가 들어가야 한다.
- ⑤ (나)에 '행정부가 법률안을 제출할 수 있다.'가 들어가면, ㉣은 '을당'이 될 수 없다.

12. 다음은 서술형 평가 문항에 대한 학생의 답안과 그에 대한 교사의 채점 결과이다. 이에 대한 설명으로 옳은 것은? (단, A~C는 각각 국제 사법 재판소, 안전 보장 이사회, 총회 중 하나이다.)

[서술형] 국제 연합의 주요 기관 A~C 중 하나를 선택하여 그 특징을 3가지 쓰시오. (옳은 내용 1개당 1점, 총 3점임.)

학생	선택	답안	점수
갑	A	<ul style="list-style-type: none"> ○ 모든 구성 국가는 거부권을 가진다. ○ 국제 연합의 실질적 의사 결정 기관이다. ○ (가) 	2점
을	B	<ul style="list-style-type: none"> ○ 국제 연합의 모든 회원국으로 구성된다. ○ (나) ○ 국제법에 따라 국가와 국가, 개인과 개인 간 분쟁을 해결한다. 	2점

- ① A의 모든 이사국은 2년마다 교체된다.
- ② C는 원칙적으로 국제 분쟁에 대한 강제적 관할권을 가진다.
- ③ B는 A와 달리 표결 시 1국 1표의 원칙을 적용한다.
- ④ (가)에 '서로 다른 국적을 가진 15명의 재판관으로 구성된다.'가 들어갈 수 있다.
- ⑤ (나)에 'C의 재판관 선출 권한을 갖는다.'가 들어갈 수 있다.

13. 다음 자료에 대한 옳은 설명만을 <보기>에서 고른 것은?

교사: 민법의 기본 원리에 대하여 발표해 보세요.
 갑: ㉠ 계약 자유의 원칙, ㉡ 과실 책임의 원칙, 소유권 절대의 원칙은 개인주의와 자유주의를 이념적 기반으로 합니다.
 을: _____ (가)
 병: 소유권 공공복리의 원칙에 따르면 개인의 재산권은 절대적 권리의 성격을 갖습니다.
 교사: ㉢ 두 사람만 옳게 발표했네요.

< 보 기 >

- ㄱ. ㉠에 따르면 현저히 불공정한 내용의 계약은 무효이다.
- ㄴ. 현대 민법에서 ㉡은 무과실 책임의 원칙으로 대체되었다.
- ㄷ. ㉢은 갑과 을이다.
- ㄹ. (가)에 '과실 책임의 원칙은 경제적 강자의 책임 회피 수단으로 악용될 수 있습니다.'가 들어갈 수 있다.

- ① ㄱ, ㄴ ② ㄱ, ㄷ ③ ㄴ, ㄷ ④ ㄴ, ㄹ ⑤ ㄷ, ㄹ

14. 다음 사례에 대한 법적 판단으로 옳은 것은? [3점]

17세인 A~C는 판매업자 D로부터 고가의 노트북을 구매하는 계약을 체결하였다. A는 부모의 동의를 얻지 않았고, B와 C는 모두 부모의 동의서를 제시하였으나, C는 동의서를 위조하여 제시하였다. 계약 체결 당시에 D는 A가 미성년자임을 알지 못했다.
 * A~C의 부모는 모두 법정 대리인이다.

- ① B의 부모는 계약을 취소할 수 있다.
- ② A의 부모와 C의 부모는 모두 계약을 취소할 수 있다.
- ③ B는 A와 달리 계약을 취소할 수 없다.
- ④ D는 A에게 계약 체결의 의사 표시를 철회할 수 없다.
- ⑤ D는 A에게 계약의 취소 여부에 대한 확답을 촉구할 수 있다.

15. 다음은 ○○법의 제정을 둘러싼 여러 정치 주체들의 활동을 시간순으로 나타낸 것이다. 이에 대한 설명으로 옳은 것은?

㉠ 언론	부정부패 방지를 요구하는 여론이 높아짐을 보도
㉡ 정당	여당인 □□당은 부정 청탁 및 금품 등 수수 금지를 규정하는 ○○법 제정을 위해 당정 협의회를 요구
㉢ 국회	(가)○○법 제정
㉣ 이익 집단	(나)○○법 적용 대상 완화를 요구하는 집회를 개최
㉤ 시민 단체	(다)○○법 적용 대상 확대를 요구하는 집회를 개최

- ① (가)는 정치 과정 중 투입에 해당한다.
- ② (나), (다) 모두 정치 과정 중 환류에 해당한다.
- ③ ㉡, ㉣은 정책 결정 기구에 해당한다.
- ④ ㉣은 ㉡과 달리 집단의 특수 이익을 추구한다.
- ⑤ ㉠은 ㉡, ㉢과 달리 여론을 형성하는 기능이 있다.

16. 밑줄 친 ㉠~㉣에 대한 옳은 설명만을 <보기>에서 있는 대로 고른 것은? [3점]

갑과 을은 자녀 A에 대한 친권과 양육권을 을이 갖기로 하고 ㉠협의를 이혼을 하였다. 이후 갑은 병과 재혼을 하면서, 병과 전 배우자인 정 사이에 태어난 ㉡B를 친양자로 입양하였다. 그런데 갑, 병이 함께 여행을 하던 중 사고를 당하여 ㉢갑은 즉시 사망하였고, ㉣병은 입원 중 사망하였다. 갑과 병은 유언을 남기지 않았고, 사고 당시 갑에게는 14억 원, 병에게는 10억 원의 재산이 있었다.

< 보 기 >
 ㄱ. 갑과 을은 ㉠을 위해 이혼 조정 절차를 거쳤을 것이다.
 ㄴ. ㉡으로 인해 정과 B의 친자 관계는 종료된다.
 ㄷ. ㉢으로 인해 A는 갑의 재산 중 4억 원을 법정 상속받는다.
 ㄹ. ㉣, ㉤의 결과 B의 최종 법정 상속액은 16억 원이다.

- ① ㄱ, ㄷ ② ㄱ, ㄹ ③ ㄴ, ㄷ
 ④ ㄱ, ㄴ, ㄹ ⑤ ㄴ, ㄷ, ㄹ

17. 다음 자료에 대한 설명으로 옳은 것은? [3점]

○ 갑은 상해죄 혐의로 체포되어 ㉠구속 적부 심사를 거친 후 구속된 상태에서 기소되었다. 이후 ㉡항소, 상고를 거쳐 대법원에서 갑에 대한 무죄가 확정되었다.
 ○ 을은 사기죄 혐의로 1심 법원에서 징역 2년을 선고받아 법정 구속되었고, 2심 법원에서 징역 2년에 집행 유예 3년을 선고받았다. 을과 검사는 상고를 하지 않았다.
 ○ 병은 절도죄 혐의로 ㉢구속 영장 실질 심사 후 구속 수사를 받았다. 검사는 병에게 기소 유예 처분을 하였다.

- ① 을은 1심 법원에서 징역이 부과되지 않는 형을 선고받았다.
 ② 갑은 을, 병과 달리 형사 보상을 청구할 수 있다.
 ③ ㉠에서 갑의 청구는 인용되었다.
 ④ ㉡은 모두 검사에 의해 이루어졌다.
 ⑤ ㉠은 판사, ㉢은 검사의 권한이다.

18. (가)에 들어갈 수 있는 법적 내용으로 옳은 것은?

Q: 저에게는 자녀 갑(16세)과 을(20세)이 있는데, 방학을 맞이하여 아르바이트를 한다고 하네요. 아르바이트를 처음 하기 때문에 부모로서 조언을 해 주고 싶은데 제가 근로 기준법을 잘 몰라서요. 법적 조언을 부탁드립니다.
 A: _____ (가)

- ① 을과 달리 갑의 근로 계약은 부모가 체결해야 합니다.
 ② 갑, 을 모두 독자적으로 임금을 청구할 수 있어요.
 ③ 갑, 을 모두 근로 계약을 체결할 때 부모의 동의서가 필요해요.
 ④ 갑, 을 모두 1주일에 최대 12시간 연장 근로를 할 수 있어요.
 ⑤ 원칙적으로 갑은 1주일에 40시간, 을은 1주일에 42시간 이내에서 근로할 수 있어요.

19. 다음 사례에 대한 옳은 법적 판단만을 <보기>에서 고른 것은?

갑(12세)은 불장난을 하다가 A의 창고를 태워 A에게 재산상 피해를 주었고, 을(16세)은 같은 학교에 다니는 학생을 폭행하여 전치 5주의 상해를 입혔다.

< 보 기 >
 ㄱ. 갑과 달리 을에게는 소년법상 보호 처분을 내릴 수 없다.
 ㄴ. 갑과 달리 을에게는 선도 조건부 기소 유예 처분을 내릴 수 있다.
 ㄷ. 갑이 민법상 책임 능력이 없다면, A는 갑의 부모에게 특수 불법 행위 책임을 물을 수 있다.
 ㄹ. 갑이 민법상 책임 능력이 있다면, A는 갑의 부모에게 일반 불법 행위 책임을 물을 수 없다.

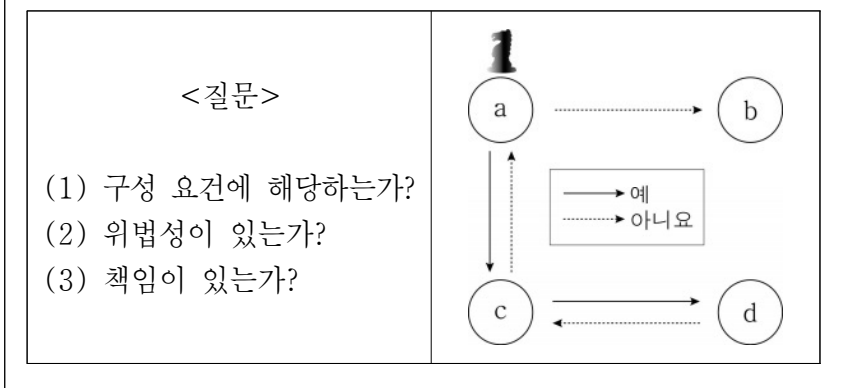
- ① ㄱ, ㄴ ② ㄱ, ㄷ ③ ㄴ, ㄷ ④ ㄴ, ㄹ ⑤ ㄷ, ㄹ

20. 다음 자료에서 갑~병의 말이 출발점(a) 다음에 이동한 경로로 옳은 것은? (단, 갑~병 모두 옳은 판단을 하였다.) [3점]

갑~병은 각각 아래의 무죄 판결 사례 카드를 배분받았다.

<갑>	<을>	<병>
법원은 A의 절도 행위가 자녀를 인질로 한 피할 수 없는 강요에 의한 행위라고 판단함.	B가 ○○법 위반 혐의로 재판 을 받던 중 헌법 재판소에서 ○○법에 대해 위헌 결정을 내림.	법원은 C의 폭행 행위에 대해 정당방위라고 판단함.

갑~병은 자신의 카드 사례에 대한 질문 (1)~(3)의 답을 차례대로 판단한 후, 그 답에 따라 아래 그림의 a에서 출발하여 각자의 말을 움직인다. 단, 해당 질문에 대한 답이 '아니요'이면 그 다음 질문은 진행하지 않는다.



- | | 갑 | 을 | 병 |
|---|-------|-------|-------|
| ① | b | c→a | c→d→c |
| ② | b | c→d→c | c→a |
| ③ | c→a | b | c→d→c |
| ④ | c→d→c | b | c→a |
| ⑤ | c→d→c | c→a | b |

* 확인 사항
 ○ 답안지의 해당란에 필요한 내용을 정확히 기입(표기)했는지 확인하시오.

제 4 교시

사회탐구 영역(사회·문화)

성명		수험번호				3			제 () 선택
----	--	------	--	--	--	---	--	--	----------

1. 밑줄 친 ㉠~㉣과 같은 현상의 일반적인 특징에 대한 설명으로 옳은 것은?

미국 북서부에서는 열돔 현상으로 인해 역대 최고 수준의 ㉠ 폭염이 발생하여 ㉡ 온열 질환으로 수많은 사람들이 응급실로 후송되었다. 한편, 서유럽에서는 ㉢ 저기압이 한 지역에 정체되어 기록적인 폭우가 쏟아지는 바람에 많은 인명 피해가 발생했다. ㉣ 기상학자들은 지구 온난화로 인한 이상 기후 현상이 앞으로도 자주 발생할 것이라고 경고하고 있다.

- ① ㉠과 같은 현상은 가치 함축성을 지닌다.
- ② ㉡과 같은 현상은 개연성을 갖는다.
- ③ ㉢과 같은 현상은 보편성과 특수성이 공존한다.
- ④ ㉣과 같은 현상은 존재 법칙으로 설명된다.
- ⑤ ㉠, ㉢과 같은 현상은 ㉡, ㉣과 같은 현상과 달리 경험적 자료를 통해 연구할 수 있다.

2. 표는 A와 B의 일반적인 특징을 비교한 것이다. 이에 대한 설명으로 옳은 것은? (단, A와 B는 각각 산업 사회와 정보 사회 중 하나이다.)

비교 기준	강함(높음)	약함(낮음)
가정과 일터의 분리 정도	B	A
(가)	A	B

- ① A는 B에 비해 구성원 간 대면 접촉 비중이 높다.
- ② A는 B에 비해 정보 제공자와 수용자 간 구분이 명확하다.
- ③ B는 A에 비해 지식 정보 산업의 비중이 높다.
- ④ B는 A에 비해 다품종 소량 생산 방식의 비중이 높다.
- ⑤ (가)에 '탈관료제 조직의 비중'이 들어갈 수 있다.

3. 밑줄 친 ㉠~㉣에 대한 설명으로 옳은 것은? [3점]

연구자 갑은 '고등학생의 ㉠ 학업 성취도에 ㉡ 꾸준한 운동이 미치는 영향'을 ㉢ 연구 주제로 설정하고, 고등학생의 학업 성취도에 꾸준한 운동이 긍정적인 효과가 있을 것이라는 가설을 세웠다. 그리고 평소 운동을 꾸준히 하지 않는 고등학생 100명을 모집하여 50명씩 ㉣ A 집단과 ㉣ B 집단으로 나누었다. 갑은 ㉣ 사전 검사를 실시한 후 6개월 동안 한 집단은 ㉣ 매일 20분씩 달리기를 하도록 하였고, 다른 한 집단은 평소처럼 생활하도록 하였다. 6개월 후 사후 검사를 실시하여 사전 검사 결과와 비교해 보니 A 집단과 달리 B 집단의 경우 학업 성취도가 유의미하게 향상되어 갑은 가설이 타당하다는 결론을 내렸다.

- ① ㉠은 독립 변인, ㉡은 종속 변인이다.
- ② ㉢에서 연구자의 가치 중립이 필수적이다.
- ③ ㉣은 통제 집단, ㉣은 실험 집단이다.
- ④ ㉣은 실험 처치 전 독립 변인을 측정하기 위한 검사이다.
- ⑤ ㉣은 종속 변인에 대한 조작적 정의를 바탕으로 한 실험 처치이다.

4. 밑줄 친 ㉠~㉣에 대한 설명으로 옳은 것은?

갑은 환경 문제에 관심이 많아 중학교 때부터 ㉠ 환경 운동 단체에 가입하여 적극적으로 활동하고 있다. ㉡ 고등학교 진학 후 모범적으로 학교생활을 해 온 갑은 2학년 때 ㉢ 학생회장으로 당선되었다. 하지만 갑은 학생회장으로서 교내 문제 해결보다 환경 운동에 치중하여 ㉣ 학생회 임원들과 ㉣ 갈등을 빚고 있다. 이런 상황에서 ㉡ 환경 운동 단체가 주최하는 캠페인과 학생회 대의원 회의 시간이 겹쳐 갑은 어떻게 할지 ㉣ 고민 중이다.

- ① ㉠은 갑의 내집단이지만 준거 집단은 아니다.
- ② ㉡은 1차적 사회화 기관이자 공식적 사회화 기관이다.
- ③ ㉢은 고등학생으로서 갑의 역할에 대한 보상이다.
- ④ ㉣은 아버지와 달리 성취 지위이다.
- ⑤ ㉣은 ㉣과 달리 갑의 역할 갈등에 해당한다.

5. 다음 자료에 대한 옳은 설명만을 <보기>에서 고른 것은? (단, A~C는 각각 낙인 이론, 머튼의 아노미 이론, 차별 교제 이론 중 하나이다.) [3점]

○ 게임 규칙: 갑~병은 각각 A~C 중 서로 다른 하나의 이론을 선택한다. 그리고 나서 아래 4장의 카드 중 자신이 선택한 일탈 이론에 부합하는 설명이 적힌 카드 2장을 고르면 우승자가 된다.

<카드 1>
2차적 일탈의 발생 과정에 주목한다.

<카드 2>
일탈 행동이 일탈자와의 교류를 통한 학습의 결과라고 본다.

<카드 3>
문화적 목표와 제도적 수단 간의 괴리를 일탈 행동의 원인으로 본다.

<카드 4>
일탈 행위자가 발생하는 상호 작용 과정을 중시한다.

○ 선택한 이론 및 카드와 우승자

구분	갑(우승자)	을	병
선택한 이론	A	B	C
선택한 카드	2, 4	1, 4	3, 4

○ 선택한 이론 및 카드와 우승자

구분	갑(우승자)	을	병
선택한 이론	A	B	C
선택한 카드	2, 4	1, 4	3, 4

< 보 기 >

- ㄱ. A는 일탈 행동에 대한 대책으로 사회 규범의 통제력 강화를 강조한다.
- ㄴ. B는 일탈 행동을 규정하는 객관적인 기준이 존재하지 않는다고 본다.
- ㄷ. C는 차별적 제제가 일탈 행동의 발생에 미치는 영향을 강조한다.
- ㄹ. B는 A, C와 달리 사회 구조적 차원에서 일탈 행동의 원인을 설명한다.

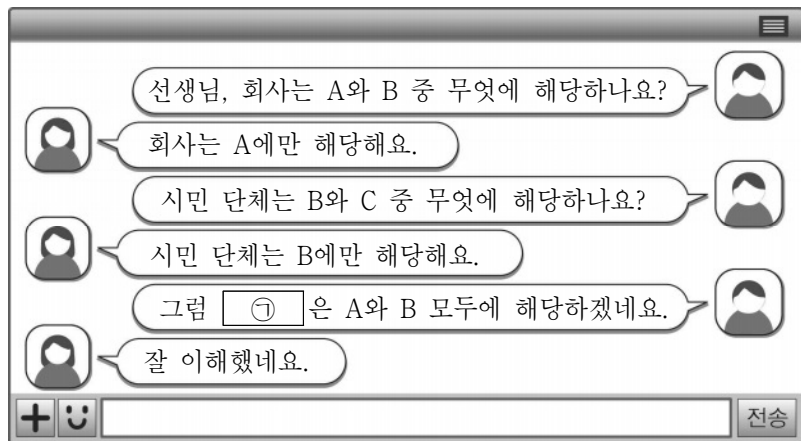
- ① ㄱ, ㄴ ② ㄱ, ㄷ ③ ㄴ, ㄷ ④ ㄴ, ㄹ ⑤ ㄷ, ㄹ

6. 밑줄 친 ㉠, ㉡에 대한 설명으로 옳은 것은?

20년 전 인종 차별 제도가 폐지된 갑국에서 최근 ㉠백인이 지배하던 시대로의 복귀를 추구하는 사회 운동과 ㉡흑인의 교육 기회 확대를 추구하는 사회 운동이 나타나고 있다.

- ① ㉠은 ㉡과 달리 사회 구성원 간 갈등을 초래할 수 있다.
- ② ㉡은 ㉠과 달리 사회 구조의 전면적인 변화를 추구한다.
- ③ ㉡은 ㉠과 달리 일부 집단만의 이익을 실현하고자 한다.
- ④ ㉠과 ㉡은 모두 사회 유지가 아닌 사회 변화를 목표로 한다.
- ⑤ ㉠과 ㉡은 모두 사회 구성원 전체가 참여해야 목표를 달성할 수 있다.

7. 다음 자료에 대한 설명으로 옳은 것은? (단, A~C는 각각 공식 조직, 비공식 조직, 자발적 결사체 중 하나이다.) [3점]



- ① ㉠에 '사내 노동조합'이 들어갈 수 있다.
- ② A는 C와 달리 비공식적 통제가 일반적이다.
- ③ B는 A와 달리 가입과 탈퇴가 자유롭지 않다.
- ④ C에 해당하지 않는 사회 집단은 A에 해당한다.
- ⑤ C는 A와 달리 구성원 간 형식적 관계가 지배적이다.

8. 밑줄 친 ㉠~㉣에 대한 옳은 설명만을 <보기>에서 고른 것은? [3점]

곤충의 유충을 즐겨 먹는 ㉠음식 문화를 가진 부족을 방문했을 때 ㉡부족 사람들은 남녀노소 가릴 것 없이 자연스럽게 벌의 유충을 먹고 있었다. 나는 그 모습에 거부감이 느껴졌지만 ㉢그들의 음식 문화가 짐승 고기를 금기시하는 종교 문화와 관련되어 있음을 알게 되면서 그들을 이해할 수 있게 되었다. ㉣곤충의 유충을 먹는 것을 혐오하는 사람이 이곳에 와서 현지 부족민들처럼 곤충 유충을 즐겨 먹게 되는 것을 보면, 음식에 대한 평가 기준은 상대적임을 알 수 있다.

< 보 기 >

- ㄱ. ㉠에서 '문화'는 넓은 의미로 사용되었다.
- ㄴ. ㉡에 부각되어 있는 문화의 속성은 한 사회 구성원 간 원활한 소통을 가능하게 한다.
- ㄷ. ㉢에는 문화의 변동성이 부각되어 있다.
- ㄹ. 문화 요소들의 연쇄적인 변동을 설명하는 데에는 ㉣이 아닌 ㉡에 부각되어 있는 문화의 속성이 적합하다.

- ① ㄱ, ㄴ ② ㄱ, ㄷ ③ ㄴ, ㄷ ④ ㄴ, ㄹ ⑤ ㄷ, ㄹ

9. A~C국에서 나타난 문화 변동에 대한 설명으로 옳은 것은?

- A국은 갑국의 식민 통치로부터 독립한 후 강력한 자국어 사용 정책을 펼쳐 일상생활에서 자국어를 사용하고 있다. 하지만 학문 분야에서는 갑국 언어도 함께 사용하고 있다.
- B국에서는 서적을 통해 소개된 갑국 종교를 믿는 사람들이 증가하면서 외관은 B국의 가옥 형태이고 내부 구조는 갑국 종교 양식을 따른 새로운 종교 건축물이 만들어졌다.
- C국에서는 돌 화폐를 거래 수단으로 사용하다가 C국에 들어온 갑국 상인들에 의해 갑국 주화가 유입되면서 모든 거래에서 돌 화폐 대신 갑국 주화를 사용하게 되었다.

- ① A국에서는 독립 이후 강제적 문화 접변이 나타났다.
- ② B국에서는 A국, C국과 달리 문화 융합이 나타났다.
- ③ A국, B국은 C국과 달리 외부 사회와의 접촉으로 새로운 문화 요소를 갖게 되었다.
- ④ B국, C국에서는 A국과 달리 문화 변동 이후 자기 문화의 정체성이 유지되었다.
- ⑤ A~C국에서는 모두 직접 전파에 의한 문화 변동이 나타났다.

10. 다음 자료에 대한 옳은 분석만을 <보기>에서 있는 대로 고른 것은? [3점]

자료는 갑국과 을국에서 자녀 세대 인구의 세대 간 이동 지수를 파악하기 위한 것이다. 단, 자녀 세대 모든 인구의 세대 간 이동 가능 횟수는 1번씩이다.

<갑국>

(단위: %)

구분	부모 계층			계	
	상층	중층	하층		
자녀 계층	상층	12	7	2	21
	중층	8	14	21	43
	하층	3	10	23	36
계	23	31	46	100	

<을국>

(단위: %)

구분	부모 계층			계	
	상층	중층	하층		
자녀 계층	상층	10	5	4	19
	중층	6	30	10	46
	하층	5	17	13	35
계	21	52	27	100	

- * 세대 간 이동 지수 = (자녀 세대 인구의 실제 세대 간 이동 거리의 합 / 자녀 세대 인구에서 나타날 수 있었던 세대 간 이동 가능한 최대 거리의 합) × 100
- * 세대 간 이동 거리는 상층과 중층, 중층과 하층 간에는 1이고 상층과 하층 간에는 2임.
- * 부모가 상층 또는 하층인 자녀의 세대 간 이동 가능한 최대 거리는 2이고, 부모가 중층인 자녀의 세대 간 이동 가능한 최대 거리는 1임.

< 보 기 >

- ㄱ. 갑국은 을국과 달리 세대 간 상승 이동한 자녀가 세대 간 하강 이동한 자녀보다 많다.
- ㄴ. 을국이 갑국보다 세대 간 이동 지수가 크다.
- ㄷ. 을국은 갑국과 달리 부모와 계층이 일치하는 자녀가 자녀 세대 인구의 과반수이다.
- ㄹ. 자녀 세대 계층별 인구 중 부모와 계층이 일치하는 자녀의 비율은 갑국, 을국 모두 중층이 가장 낮다.

- ① ㄱ, ㄷ ② ㄱ, ㄹ ③ ㄴ, ㄹ
- ④ ㄱ, ㄴ, ㄷ ⑤ ㄴ, ㄷ, ㄹ

11. 다음 자료에 대한 옳은 설명만을 <보기>에서 고른 것은? (단, A~C는 각각 문화 상대주의, 문화 상대주의, 자문화 중심주의 중 하나이다.) [3점]

표는 각 질문에 대한 응답 및 옳은 응답 수를 나타낸 것이다.

질문	응답			옳은 응답 수
	갑	을	병	
A는 문화 간 우열을 평가할 수 있다고 보는가?	아니요	㉠	예	2개
B는 자기 문화의 정체성을 상실하게 할 우려가 큰가?	예	예	아니요	㉡
C는 모든 문화가 고유한 가치를 지니고 있다고 보는가?	아니요	아니요	예	1개
(가)	아니요	예	아니요	2개

< 보 기 >

ㄱ. ㉠은 '아니요'이다.
 ㄴ. ㉡이 '1개'이면, A는 B와 달리 타문화 수용에 적극적이다.
 ㄷ. B는 C와 달리 문화의 다양성 보존에 유리하다.
 ㄹ. (가)에 'B는 A와 달리 국수주의로 이어질 가능성이 큰가?'가 들어가면, ㉡은 '2개'이다.

- ① ㄱ, ㄴ ② ㄱ, ㄷ ③ ㄴ, ㄷ ④ ㄴ, ㄹ ⑤ ㄷ, ㄹ

12. 다음 자료에 대한 옳은 분석만을 <보기>에서 있는 대로 고른 것은? (단, A와 B는 각각 국민연금 제도와 기초연금 제도 중 하나이다.) [3점]

표는 우리나라 (가), (나) 각 지역 인구 중 A, B 수급자 비율을 나타낸 것이다. 표에 따르면 (가) 지역에서 사회보험에 해당하는 제도의 수급자 중 공공 부조에 해당하는 제도의 수급자가 3/4을 차지한다. 단, (나) 지역의 인구는 (가) 지역 인구의 2배이다.

(단위: %)

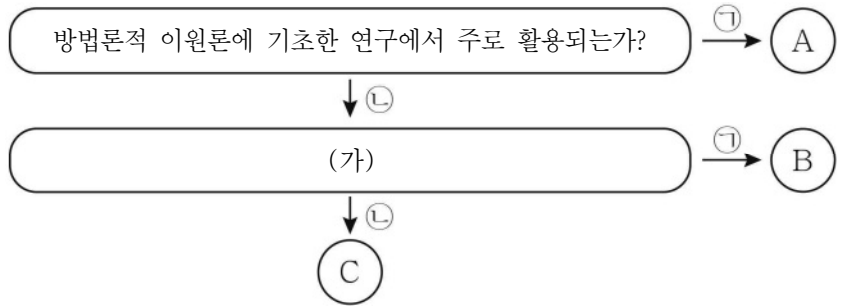
구분	(가) 지역	(나) 지역
A의 수급자	16	10
B의 수급자	12	15
A와 B 모두의 수급자	9	9

< 보 기 >

ㄱ. 사후 처방보다 사전 예방 성격이 강한 제도의 수급자는 (나) 지역이 (가) 지역의 2배보다 많다.
 ㄴ. 각 지역 인구 중 상호 부조의 원리에 기초한 제도의 수급자 비율은 (가) 지역이 (나) 지역보다 높다.
 ㄷ. A와 B 중 수익자 부담 원칙을 적용하는 제도의 수급자에만 해당하는 사람 수는 (나) 지역이 (가) 지역의 4배이다.
 ㄹ. (가)와 (나) 지역 전체에서 선별적 복지 이념에 기초한 제도의 수급자가 보편적 복지 이념에 기초한 제도의 수급자보다 많다.

- ① ㄱ, ㄷ ② ㄱ, ㄹ ③ ㄴ, ㄹ
 ④ ㄱ, ㄴ, ㄷ ⑤ ㄴ, ㄷ, ㄹ

13. 다음 자료에 대한 설명으로 옳은 것은? (단, A~C는 각각 면접법, 질문지법, 참여 관찰법 중 하나이다.)



* ㉠과 ㉡은 각각 '예'와 '아니요' 중 하나임.

- ① ㉠은 '예', ㉡은 '아니요'이다.
 ② (가)에 '표준화를 중시하는 자료 수집 방법인가?'가 들어갈 수 있다.
 ③ A는 주로 질적 자료 수집을 위해 활용된다.
 ④ B가 면접법이라면, (가)에 '의사소통이 곤란한 집단을 조사하는데 적합한가?'가 들어갈 수 있다.
 ⑤ C가 면접법이라면, (가)에 '연구자와 연구 대상자 간 언어적 상호 작용이 필수적인가?'가 들어갈 수 없다.

14. 다음 자료의 A, B에 대한 옳은 설명만을 <보기>에서 고른 것은? (단, A와 B는 각각 사회 명목론과 사회 실재론 중 하나이다.)

○ 서술형 문항: A와 다른 B의 주장을 3개 서술하시오. (옳은 주장 1개당 1점이고, 틀린 주장은 0점임.)
 ○ 학생 갑의 서술 내용과 채점 결과

답란	점수
개인은 사회에 대하여 자율성을 갖는다.	2점
사회는 개인의 외부에 실재한다.	
사회의 특성이 구성원들의 특성으로 환원될 수 있다.	

< 보 기 >

ㄱ. A는 사회가 개인보다 우월한 가치를 지닌다고 본다.
 ㄴ. B는 사회를 떠난 개인은 존재 의미를 갖기 어렵다고 본다.
 ㄷ. A는 B와 달리 사회 문제 해결책으로 제도 개선을 강조한다.
 ㄹ. B는 A와 달리 극단적일 경우 전체주의로 이어질 수 있다.

- ① ㄱ, ㄴ ② ㄱ, ㄷ ③ ㄴ, ㄷ ④ ㄴ, ㄹ ⑤ ㄷ, ㄹ

15. 사회·문화 현상을 바라보는 관점 A, B에 대한 설명으로 옳은 것은?

A는 사회 규범이 사회 전체의 필요를 반영하고 있다고 본다. 이와 달리 B는 사회 규범이 지배 계급만의 이익을 반영하고 있다고 본다.

- ① A는 사회가 본질적으로 변동을 지향한다고 본다.
 ② A는 사회의 균형 회복 능력을 강조하여 사회 문제의 발생 가능성을 부정한다.
 ③ B는 집단 간 갈등을 필연적인 현상으로 본다.
 ④ B는 개인에 대한 사회 구조의 영향력을 경시한다.
 ⑤ B는 A와 달리 사회를 유기체로 간주한다.

16. 다음 자료에 대한 옳은 설명만을 <보기>에서 고른 것은? (단, A와 B는 각각 순환론과 진화론 중 하나이다.)

교사: A와 구분되는 B의 의의와 한계를 설명해 보세요.
 갑: B의 의의는 흥망성쇠가 반복되는 사회 변동을 설명하는 데 적합하다는 점이고, 한계는 _____ (가)
 교사: B의 의의와 달리 한계는 잘못 설명했습니다.

— < 보 기 > —
 ㄱ. A는 모든 사회의 변동 방향이 동일하다고 본다.
 ㄴ. B는 과거보다 미래의 사회 변동을 설명하는 데 적합하다.
 ㄷ. A는 B와 달리 사회 변동이 곧 사회 발전이라고 본다.
 ㄹ. (가)에 '서구 중심적인 이론이라는 점입니다.'가 들어갈 수 없다.

- ① ㄱ, ㄴ ② ㄱ, ㄷ ③ ㄴ, ㄷ ④ ㄴ, ㄹ ⑤ ㄷ, ㄹ

17. 다음 자료에 대한 설명으로 옳은 것은? (단, (가)~(다)는 각각 반문화, 주류 문화, 하위문화 중 하나이다.) [3점]

표는 갑국에 존재하는 문화 A~C가 T 시기와 T+1 시기에 (가)~(다) 중 각각 무엇에 해당하는지를 나타낸 것이다.

구분	T 시기			T+1 시기		
	(가)	(나)	(다)	(가)	(나)	(다)
A	○	×	×	×	○	×
B	×	○	×	○	×	×
C	×	○	○	×	○	×

* ○: 해당함. ×: 해당하지 않음.

- ① T 시기에 A는 갑국의 하위문화에 해당한다.
 ② T 시기에 갑국에서 C를 향유하는 사람은 A를 향유하지 않는다.
 ③ T 시기와 달리 T+1 시기에 B는 갑국 전체 구성원 간 문화적 동질성을 드러내는 문화이다.
 ④ A~C 중 T 시기와 T+1 시기에 모두 갑국의 지배적인 문화에 저항하거나 대립하는 성격을 지닌 문화가 있다.
 ⑤ (나)는 (다)와 달리 시간이 흐르면서 (가)로 변화하기도 한다.

18. 다음 자료에 대한 설명으로 옳은 것은? (단, A와 B는 각각 갈등론과 기능론 중 하나이다.)

'㉠ 사회적 희소가치의 차등 분배는 정당한가?', '㉡ 사회 불평등 현상은 보편적인 현상인가?'라는 두 질문에 대한 A의 응답은 일치하고, B의 응답은 불일치한다.

- ① A는 직업 간에 사회적 기여도의 차이가 없음을 강조한다.
 ② B는 개인의 노력과 업적에 따라 계층이 결정된다고 본다.
 ③ A는 B와 달리 사회 불평등 현상을 병리적인 현상으로 본다.
 ④ B는 A와 달리 사회적 희소가치의 배분 기준이 사회적 합의를 반영하고 있다고 본다.
 ⑤ ㉠에 대한 A의 응답과 ㉡에 대한 B의 응답은 모두 '예'이다.

19. 다음 자료에 대한 분석으로 옳은 것은? (단, 1960년 대비 2020년에 부양 인구는 10% 감소하였다.) [3점]

<갑국의 유소년 부양비와 노령화 지수>

구분	1960년	1990년	2020년
유소년 부양비	40	30	20
노령화 지수	30	50	100

* 유소년 부양비 = $\frac{\text{유소년 인구}(0 \sim 14\text{세 인구})}{\text{부양 인구}(15 \sim 64\text{세 인구})} \times 100$
 * 노령화 지수 = $\frac{\text{노년 인구}(65\text{세 이상 인구})}{\text{유소년 인구}(0 \sim 14\text{세 인구})} \times 100$

- ① 1960년에 유소년 인구는 전체 인구의 30%를 넘는다.
 ② 2020년에 부양 인구는 노년 인구의 4배이다.
 ③ 1960년 대비 2020년에 노년 인구는 50% 증가하였다.
 ④ 부양 인구에 대한 노년 인구의 비는 2020년이 1960년의 2배보다 크다.
 ⑤ 전체 인구 중 유소년 인구와 노년 인구의 합이 차지하는 비율은 2020년이 1990년보다 높다.

20. 다음 자료에 대한 분석으로 옳은 것은? [3점]

표는 갑~병국의 여성 근로자 임금 차별 지수를 알아보기 위한 것이다.

구분	갑국	을국	병국
남성 근로자 임금 총액 대비 여성 근로자 임금 총액	3/5	5/4	3/5
남성 근로자 수 대비 여성 근로자 수	3/4	5/3	2/3

* 여성 근로자 임금 차별 지수 = 전체 근로자 임금 총액 중 여성 근로자 임금 총액의 비율 / 전체 근로자 중 여성 근로자의 비율
 * 여성 근로자 임금 차별 지수가 1보다 작은 경우 여성 근로자에 대한 임금 차별이 존재하고, 그 값이 0에 가까울수록 차별 정도가 심함.

- ① 여성 근로자 임금 차별 지수는 갑국이 을국보다 크다.
 ② 남성 근로자 평균 임금 대비 여성 근로자 평균 임금은 을국이 병국보다 크다.
 ③ 갑국과 병국 모두에서 여성 근로자 평균 임금은 남성 근로자 평균 임금의 60% 수준이다.
 ④ 여성 근로자 임금 차별 지수에 따르면 여성 근로자에 대한 임금 차별은 을국이 병국보다 심하다.
 ⑤ 갑~병국 모두에서 전체 근로자 중 여성 근로자 비율이 전체 근로자 임금 총액 중 여성 근로자 임금 총액 비율보다 낮다.

* 확인 사항
 ○ 답안지의 해당란에 필요한 내용을 정확히 기입(표기)했는지 확인하십시오.