

제 2 교시

수학 영역

5 지 선 다 형

1. $\log_3 x = 3$ 일 때, x 의 값은? [2점]

- ① 1 ② 3 ③ 9 ④ 27 ⑤ 81

2. $\int_0^3 (x+1)^2 dx$ 의 값은? [2점]

- ① 12 ② 15 ③ 18 ④ 21 ⑤ 24

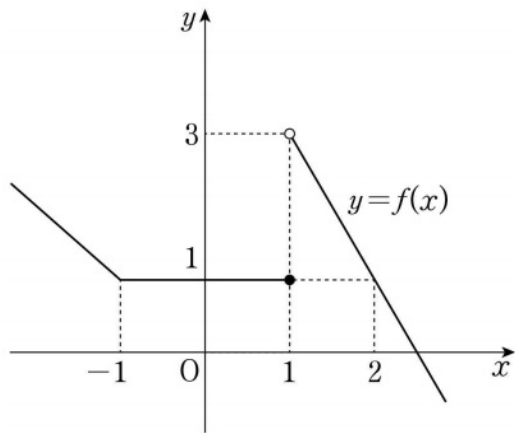
3. 함수 $y = \tan\left(\pi x + \frac{\pi}{2}\right)$ 의 주기는? [3점]

- ① $\frac{1}{2}$ ② $\frac{\pi}{4}$ ③ 1 ④ $\frac{3}{2}$ ⑤ $\frac{\pi}{2}$

4. 공차가 d 인 등차수열 $\{a_n\}$ 의 첫째항부터 제 n 항까지의 합이 $n^2 - 5n$ 일 때, $a_1 + d$ 의 값은? [3점]

- ① -4 ② -2 ③ 0 ④ 2 ⑤ 4

5. 함수 $y=f(x)$ 의 그래프가 그림과 같다.



함수 $(x^2+ax+b)f(x)$ 가 $x=1$ 에서 연속일 때, $a+b$ 의 값은?
(단, a, b 는 실수이다.) [3점]

- ① -2 ② -1 ③ 0 ④ 1 ⑤ 2

6. 곡선 $y=6^{-x}$ 위의 두 점 $A(a, 6^{-a})$, $B(a+1, 6^{-a-1})$ 에 대하여
선분 AB는 한 변의 길이가 1인 정사각형의 대각선이다. 6^{-a} 의
값은? [3점]

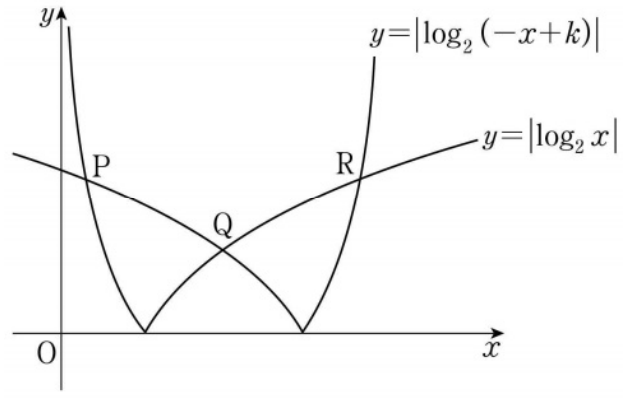
- ① $\frac{6}{5}$ ② $\frac{7}{5}$ ③ $\frac{8}{5}$ ④ $\frac{9}{5}$ ⑤ 2

7. 두 함수 $f(x)=|x+3|$, $g(x)=2x+a$ 에 대하여 함수
 $f(x)g(x)$ 가 실수 전체의 집합에서 미분가능할 때, 상수 a 의
값은? [3점]

- ① 2 ② 4 ③ 6 ④ 8 ⑤ 10

8. 2보다 큰 상수 k 에 대하여 두 곡선 $y = |\log_2(-x+k)|$, $y = |\log_2 x|$ 가 만나는 세 점 P, Q, R의 x 좌표를 각각 x_1, x_2, x_3 이라 하자. $x_3 - x_1 = 2\sqrt{3}$ 일 때, $x_1 + x_3$ 의 값은?
(단, $x_1 < x_2 < x_3$) [3점]

- ① $\frac{7}{2}$ ② $\frac{15}{4}$ ③ 4 ④ $\frac{17}{4}$ ⑤ $\frac{9}{2}$



9. 수열 $\{a_n\}$ 이 모든 자연수 n 에 대하여

$$a_n + a_{n+1} = 2n$$

을 만족시킬 때, $a_1 + a_{22}$ 의 값은? [4점]

- ① 18 ② 19 ③ 20 ④ 21 ⑤ 22

10. 최고차항의 계수가 1인 이차함수 $f(x)$ 와 3보다 작은 실수 a 에 대하여 함수 $g(x) = |(x-a)f(x)|$ 가 $x=3$ 에서만 미분가능하지 않다. 함수 $g(x)$ 의 극댓값이 32일 때, $f(4)$ 의 값은? [4점]

- ① 7 ② 9 ③ 11 ④ 13 ⑤ 15

11. 닫힌구간 $[0, 2\pi]$ 에서 정의된 함수 $f(x)$ 는

$$f(x) = \begin{cases} \sin x & \left(0 \leq x \leq \frac{k}{6}\pi\right) \\ 2\sin\left(\frac{k}{6}\pi\right) - \sin x & \left(\frac{k}{6}\pi < x \leq 2\pi\right) \end{cases}$$

이다. 곡선 $y=f(x)$ 와 직선 $y=\sin\left(\frac{k}{6}\pi\right)$ 의 교점의 개수를 a_k 라 할 때, $a_1+a_2+a_3+a_4+a_5$ 의 값은? [4점]

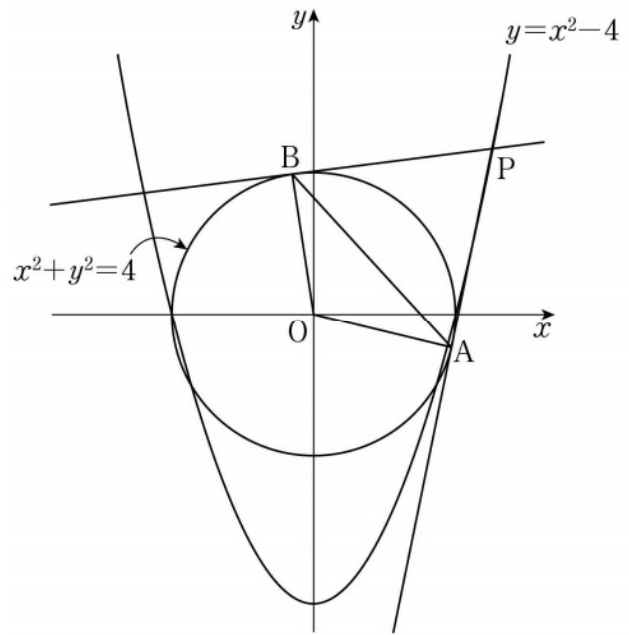
- ① 6 ② 7 ③ 8 ④ 9 ⑤ 10

12. 곡선 $y=x^2-4$ 위의 점 $P(t, t^2-4)$ 에서 원 $x^2+y^2=4$ 에 그은 두 접선의 접점을 각각 A, B라 하자. 삼각형 OAB의 넓이를 $S(t)$, 삼각형 PBA의 넓이를 $T(t)$ 라 할 때,

$$\lim_{t \rightarrow 2^+} \frac{T(t)}{(t-2)S(t)} + \lim_{t \rightarrow \infty} \frac{T(t)}{(t^4-2)S(t)}$$

의 값은? (단, O는 원점이고, $t > 2$ 이다.) [4점]

- ① 1 ② $\frac{5}{4}$ ③ $\frac{3}{2}$ ④ $\frac{7}{4}$ ⑤ 2



13. 실수 전체의 집합에서 정의된 함수 $f(x)$ 와 역함수가 존재하는 삼차함수 $g(x)=x^3+ax^2+bx+c$ 가 다음 조건을 만족시킨다.

모든 실수 x 에 대하여 $2f(x)=g(x)-g(-x)$ 이다.

<보기>에서 옳은 것만을 있는 대로 고른 것은? (단, a, b, c 는 상수이다.) [4점]

< 보 기 >

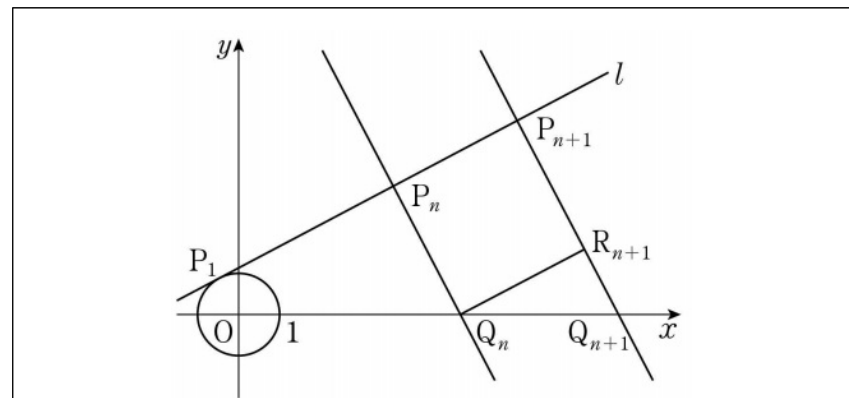
ㄱ. $a^2 \leq 3b$
 ㄴ. 방정식 $f'(x)=0$ 은 서로 다른 두 실근을 갖는다.
 ㄷ. 방정식 $f'(x)=0$ 이 실근을 가지면 $g'(1)=1$ 이다.

- ① ㄱ ② ㄱ, ㄴ ③ ㄱ, ㄷ
 ④ ㄴ, ㄷ ⑤ ㄱ, ㄴ, ㄷ

14. 모든 자연수 n 에 대하여 직선 $l: x-2y+\sqrt{5}=0$ 위의 점 P_n 과 x 축 위의 점 Q_n 이 다음 조건을 만족시킨다.

- 직선 P_nQ_n 과 직선 l 이 서로 수직이다.
- $\overline{P_nQ_n} = \overline{P_nP_{n+1}}$ 이고 점 P_{n+1} 의 x 좌표는 점 P_n 의 x 좌표보다 크다.

다음은 점 P_1 이 원 $x^2+y^2=1$ 과 직선 l 의 접점일 때, 2 이상의 모든 자연수 n 에 대하여 삼각형 OQ_nP_n 의 넓이를 구하는 과정이다. (단, O 는 원점이다.)



자연수 n 에 대하여 점 Q_n 을 지나고 직선 l 과 평행한 직선이 선분 $P_{n+1}Q_{n+1}$ 과 만나는 점을 R_{n+1} 이라 하면 사각형 $P_nQ_nR_{n+1}P_{n+1}$ 은 정사각형이다.

직선 l 의 기울기가 $\frac{1}{2}$ 이므로

$$\overline{R_{n+1}Q_{n+1}} = \text{[가]} \times \overline{P_nP_{n+1}}$$

이고

$$\overline{P_{n+1}Q_{n+1}} = (1 + \text{[가]}) \times \overline{P_nQ_n}$$

이다. 이때, $\overline{P_1Q_1}=1$ 이므로 $\overline{P_nQ_n} = \text{[나]}$ 이다.

그러므로 2 이상의 자연수 n 에 대하여

$$\overline{P_1P_n} = \sum_{k=1}^{n-1} \overline{P_kP_{k+1}} = \text{[다]}$$

이다. 따라서 2 이상의 자연수 n 에 대하여 삼각형 OQ_nP_n 의 넓이는

$$\frac{1}{2} \times \overline{P_nQ_n} \times \overline{P_1P_n} = \frac{1}{2} \times \text{[나]} \times (\text{[다]})$$

이다.

위의 (가)에 알맞은 수를 p , (나)와 (다)에 알맞은 식을 각각 $f(n), g(n)$ 이라 할 때, $f(6p)+g(8p)$ 의 값은? [4점]

- ① 3 ② 4 ③ 5 ④ 6 ⑤ 7

15. 최고차항의 계수가 4이고 $f(0)=f'(0)=0$ 을 만족시키는 삼차함수 $f(x)$ 에 대하여 함수 $g(x)$ 를

$$g(x) = \begin{cases} \int_0^x f(t)dt + 5 & (x < c) \\ \left| \int_0^x f(t)dt - \frac{13}{3} \right| & (x \geq c) \end{cases}$$

라 하자. 함수 $g(x)$ 가 실수 전체의 집합에서 연속이 되도록 하는 실수 c 의 개수가 1일 때, $g(1)$ 의 최댓값은? [4점]

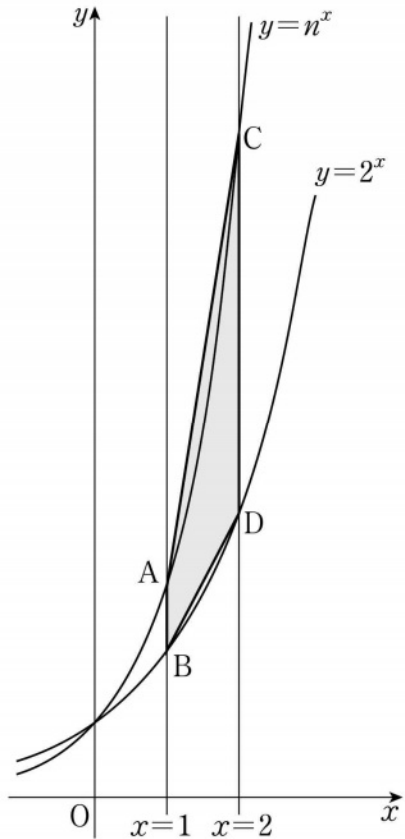
- ① 2 ② $\frac{8}{3}$ ③ $\frac{10}{3}$ ④ 4 ⑤ $\frac{14}{3}$

단답형

16. 함수 $f(x) = 2x^2 + ax + 3$ 에 대하여 $x=2$ 에서의 미분계수가 18일 때, 상수 a 의 값을 구하시오. [3점]

17. 수직선 위를 움직이는 점 P의 시각 $t(t \geq 0)$ 에서의 속도 $v(t)$ 가 $v(t) = 12 - 4t$ 일 때, 시각 $t=0$ 에서 $t=4$ 까지 점 P가 움직인 거리를 구하시오. [3점]

18. 그림과 같이 3 이상의 자연수 n 에 대하여 두 곡선 $y=n^x$, $y=2^x$ 이 직선 $x=1$ 과 만나는 점을 각각 A, B라 하고, 두 곡선 $y=n^x$, $y=2^x$ 이 직선 $x=2$ 와 만나는 점을 각각 C, D라 하자. 사다리꼴 ABDC의 넓이가 18 이하가 되도록 하는 모든 자연수 n 의 값의 합을 구하시오. [3점]



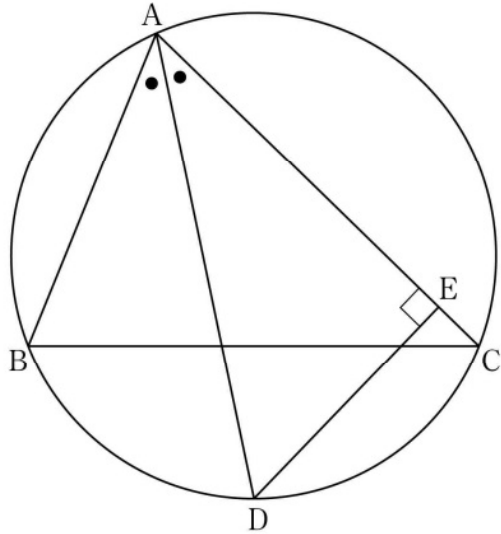
19. 수열 $\{a_n\}$ 이 다음 조건을 만족시킨다.

- (가) $a_{n+2} = \begin{cases} a_n - 3 & (n = 1, 3) \\ a_n + 3 & (n = 2, 4) \end{cases}$
- (나) 모든 자연수 n 에 대하여 $a_n = a_{n+6}$ 이 성립한다.

$\sum_{k=1}^{32} a_k = 112$ 일 때, $a_1 + a_2$ 의 값을 구하시오. [3점]

20. 최고차항의 계수가 1인 삼차함수 $f(x)$ 가 $f(0)=0$ 이고, 모든 실수 x 에 대하여 $f(1-x)=-f(1+x)$ 를 만족시킨다. 두 곡선 $y=f(x)$ 와 $y=-6x^2$ 으로 둘러싸인 부분의 넓이를 S 라 할 때, $4S$ 의 값을 구하시오. [4점]

21. $\overline{AB}=6$, $\overline{AC}=8$ 인 예각삼각형 ABC에서 $\angle A$ 의 이등분선과 삼각형 ABC의 외접원이 만나는 점을 D, 점 D에서 선분 AC에 내린 수선의 발을 E라 하자. 선분 AE의 길이를 k 라 할 때, $12k$ 의 값을 구하시오. [4점]



22. 양수 a 에 대하여 최고차항의 계수가 1인 삼차함수 $f(x)$ 와 실수 전체의 집합에서 정의된 함수 $g(x)$ 가 다음 조건을 만족시킨다.

(가) 모든 실수 x 에 대하여

$$|x(x-2)|g(x) = x(x-2)(|f(x)| - a)$$

이다.

(나) 함수 $g(x)$ 는 $x=0$ 과 $x=2$ 에서 미분가능하다.

$g(3a)$ 의 값을 구하시오. [4점]

제 2 교시

수학 영역(확률과 통계)

5 지 선 다 형

23. 확률변수 X 가 이항분포 $B\left(60, \frac{5}{12}\right)$ 를 따를 때, $E(X)$ 의 값은?
[2점]

① 10 ② 15 ③ 20 ④ 25 ⑤ 30

24. 두 사건 A 와 B 는 서로 배반사건이고
 $P(A) = \frac{1}{3}$, $P(A^c)P(B) = \frac{1}{6}$
 일 때, $P(A \cup B)$ 의 값은? (단, A^c 은 A 의 여사건이다.) [3점]

① $\frac{1}{2}$ ② $\frac{7}{12}$ ③ $\frac{2}{3}$ ④ $\frac{3}{4}$ ⑤ $\frac{5}{6}$

25. 같은 종류의 공책 10권을 4명의 학생 A, B, C, D에게 남김없이 나누어 줄 때, A와 B가 각각 2권 이상의 공책을 받도록 나누어 주는 경우의 수는? (단, 공책을 받지 못하는 학생이 있을 수 있다.) [3점]

- ① 76 ② 80 ③ 84 ④ 88 ⑤ 92

26. 한 개의 주사위를 두 번 던져서 나오는 눈의 수를 차례로 a, b 라 할 때, 두 수 a, b 의 최대공약수가 홀수일 확률은?

[3점]

- ① $\frac{5}{12}$ ② $\frac{1}{2}$ ③ $\frac{7}{12}$ ④ $\frac{2}{3}$ ⑤ $\frac{3}{4}$

27. 확률변수 X 는 정규분포 $N(8, 2^2)$, 확률변수 Y 는 정규분포 $N(12, 2^2)$ 을 따르고, 확률변수 X 와 Y 의 확률밀도함수는 각각 $f(x)$ 와 $g(x)$ 이다.

두 함수 $y=f(x)$, $y=g(x)$ 의 그래프가 만나는 점의 x 좌표를 a 라 할 때, $P(8 \leq Y \leq a)$ 의 값을 오른쪽 표준정규분포표를 이용하여 구한 것은? [3점]

z	$P(0 \leq Z \leq z)$
0.5	0.1915
1.0	0.3413
1.5	0.4332
2.0	0.4772

- ① 0.1359 ② 0.1587 ③ 0.2417
- ④ 0.2857 ⑤ 0.3085

28. 집합 $X = \{x | x \text{는 } 8 \text{ 이하의 자연수}\}$ 에 대하여 X 에서 X 로의 함수 f 중에서 임의로 하나를 선택한다. 선택한 함수 f 가 4 이하의 모든 자연수 n 에 대하여 $f(2n-1) < f(2n)$ 일 때, $f(1) = f(5)$ 일 확률은? [4점]

- ① $\frac{1}{7}$ ② $\frac{5}{28}$ ③ $\frac{3}{14}$ ④ $\frac{1}{4}$ ⑤ $\frac{2}{7}$

단답형

29. 숫자 1, 2, 3 중에서 모든 숫자가 한 개 이상씩 포함되도록 중복을 허락하여 6개를 선택한 후, 일렬로 나열하여 만들 수 있는 여섯 자리의 자연수 중 일의 자리의 수와 백의 자리의 수가 같은 자연수의 개수를 구하시오. [4점]

30. 주머니에 12개의 공이 들어 있다. 이 공들 각각에는 숫자 1, 2, 3, 4 중 하나씩이 적혀 있다. 이 주머니에서 임의로 한 개의 공을 꺼내어 공에 적혀 있는 수를 확인한 후 다시 넣는 시행을 한다. 이 시행을 4번 반복하여 확인한 4개의 수의 합을 확률변수 X 라 할 때, 확률변수 X 는 다음 조건을 만족시킨다.

$$(가) P(X=4) = 16 \times P(X=16) = \frac{1}{81}$$

$$(나) E(X) = 9$$

$V(X) = \frac{q}{p}$ 일 때, $p+q$ 의 값을 구하시오. (단, p 와 q 는 서로소인 자연수이다.) [4점]

* 확인 사항

- 답안지의 해당란에 필요한 내용을 정확히 기입(표기)했는지 확인하시오.

제 2 교시

수학 영역(미적분)

5 지 선 다 형

23. $\int_2^4 \frac{6}{x^2} dx$ 의 값은? [2점]

- ① $\frac{3}{2}$ ② $\frac{7}{4}$ ③ 2 ④ $\frac{9}{4}$ ⑤ $\frac{5}{2}$

24. 수열 $\{a_n\}$ 에 대하여 $\sum_{n=1}^{\infty} \frac{a_n - 4n}{n} = 1$ 일 때, $\lim_{n \rightarrow \infty} \frac{5n + a_n}{3n - 1}$ 의 값은? [3점]

- ① 1 ② 2 ③ 3 ④ 4 ⑤ 5

25. 좌표평면 위를 움직이는 점 P의 시각 $t(t > 2)$ 에서의 위치 (x, y) 가

$$x = t \ln t, \quad y = \frac{4t}{\ln t}$$

이다. 시각 $t = e^2$ 에서 점 P의 속력은? [3점]

- ① $\sqrt{7}$ ② $2\sqrt{2}$ ③ 3 ④ $\sqrt{10}$ ⑤ $\sqrt{11}$

26. 그림과 같이 길이가 2인 선분 A_1B 를 지름으로 하는 반원



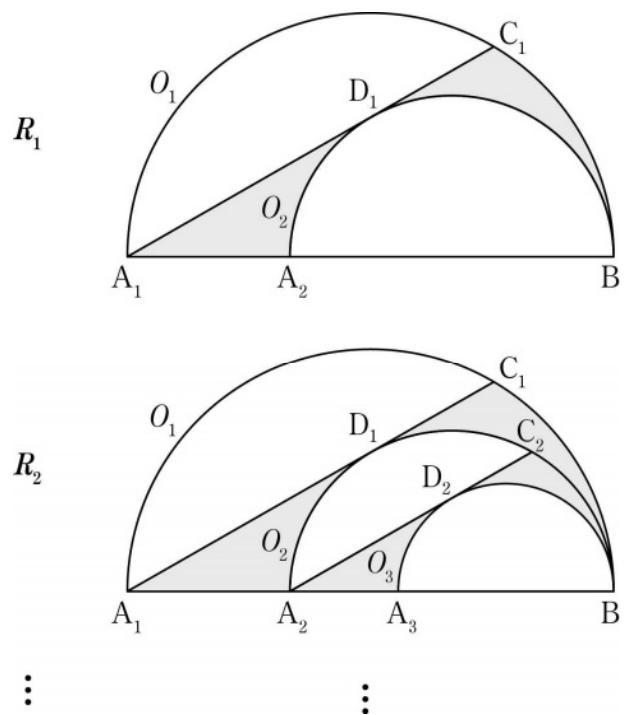
O_1 이 있다. 호 BA_1 위에 점 C_1 을 $\angle BA_1C_1 = \frac{\pi}{6}$ 가 되도록 잡고, 선분 A_2B 를 지름으로 하는 반원 O_2 가 선분 A_1C_1 과 접하도록 선분 A_1B 위에 점 A_2 를 잡는다. 반원 O_2 와 선분 A_1C_1 의 접점을 D_1 이라 할 때, 두 선분 A_1A_2 , A_1D_1 과 호 D_1A_2 로 둘러싸인 부분과 선분 C_1D_1 과 두 호 BC_1 , BD_1 로 둘러싸인 부분인  모양의 도형에 색칠하여 얻은 그림을 R_1 이라 하자.

그림 R_1 에서 호 BA_2 위에 점 C_2 를 $\angle BA_2C_2 = \frac{\pi}{6}$ 가 되도록 잡고, 선분 A_3B 를 지름으로 하는 반원 O_3 이 선분 A_2C_2 와 접하도록 선분 A_2B 위에 점 A_3 을 잡는다. 반원 O_3 과 선분 A_2C_2 의 접점을 D_2 라 할 때, 두 선분 A_2A_3 , A_2D_2 와 호 D_2A_3 으로 둘러싸인 부분과 선분 C_2D_2 와 두 호 BC_2 , BD_2 로 둘러싸인 부분인  모양의 도형에 색칠하여 얻은 그림을 R_2 라 하자.

이와 같은 과정을 계속하여 n 번째 얻은 그림 R_n 에 색칠되어 있는 부분의 넓이를 S_n 이라 할 때, $\lim_{n \rightarrow \infty} S_n$ 의 값은? [3점]



- ① $\frac{4\sqrt{3}-\pi}{10}$ ② $\frac{9\sqrt{3}-2\pi}{20}$ ③ $\frac{8\sqrt{3}-\pi}{20}$
 ④ $\frac{5\sqrt{3}-\pi}{10}$ ⑤ $\frac{9\sqrt{3}-\pi}{20}$

27. 미분가능한 함수 $f(x)$ 가 다음 조건을 만족시킨다.

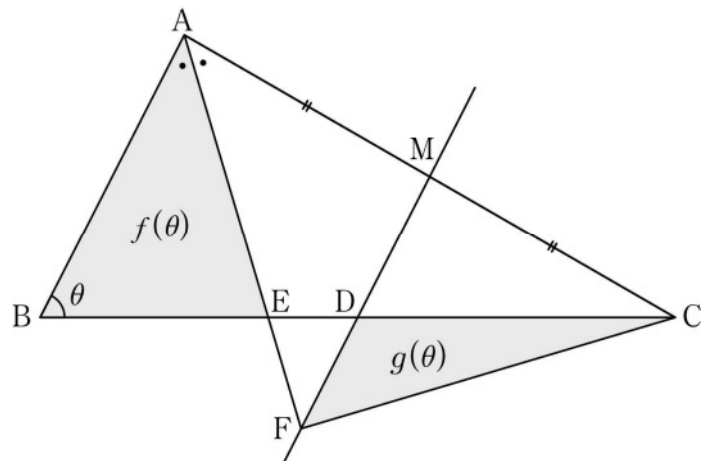
- (가) $x_1 < x_2$ 인 임의의 두 실수 x_1, x_2 에 대하여 $f(x_1) > f(x_2)$ 이다.
- (나) 닫힌구간 $[-1, 3]$ 에서 함수 $f(x)$ 의 최댓값은 1이고 최솟값은 -2이다.

$\int_{-1}^3 f(x)dx = 3$ 일 때, $\int_{-2}^1 f^{-1}(x)dx$ 의 값은? [3점]

- ① 4 ② 5 ③ 6 ④ 7 ⑤ 8

28. 그림과 같이 $\overline{AB}=1, \overline{BC}=2$ 인 삼각형 ABC 에 대하여 선분 AC 의 중점을 M 이라 하고, 점 M 을 지나고 선분 AB 에 평행한 직선이 선분 BC 와 만나는 점을 D 라 하자. $\angle BAC$ 의 이등분선이 두 직선 BC, DM 과 만나는 점을 각각 E, F 라 하자. $\angle CBA = \theta$ 일 때, 삼각형 ABE 의 넓이를 $f(\theta)$, 삼각형 DFC 의 넓이를 $g(\theta)$ 라 하자. $\lim_{\theta \rightarrow 0^+} \frac{g(\theta)}{\theta^2 \times f(\theta)}$ 의 값은? (단, $0 < \theta < \pi$)

[4점]



- ① $\frac{1}{8}$ ② $\frac{1}{4}$ ③ $\frac{1}{2}$ ④ 1 ⑤ 2

단답형

29. 함수 $f(x) = \sin(ax)$ ($a \neq 0$)에 대하여 다음 조건을 만족시키는 모든 실수 a 의 값의 합을 구하시오. [4점]

(가) $\int_0^{\pi} f(x) dx \geq \frac{1}{2}$

(나) $0 < t < 1$ 인 모든 실수 t 에 대하여

$$\int_0^{3\pi} |f(x) + t| dx = \int_0^{3\pi} |f(x) - t| dx$$

이다.

30. 서로 다른 두 양수 a, b 에 대하여 함수 $f(x)$ 를

$$f(x) = -\frac{ax^3 + bx}{x^2 + 1}$$

라 하자. 모든 실수 x 에 대하여 $f'(x) \neq 0$ 이고, 두 함수 $g(x) = f(x) - f^{-1}(x)$, $h(x) = (g \circ f)(x)$ 가 다음 조건을 만족시킨다.

(가) $g(2) = h(0)$

(나) $g'(2) = -5h'(2)$

$4(b-a)$ 의 값을 구하시오. [4점]

* 확인 사항

- 답안지의 해당란에 필요한 내용을 정확히 기입(표기)했는지 확인하시오.

제 2 교시

수학 영역(기하)

5 지 선 다 형

23. 두 벡터 $\vec{a}=(m-2, 3)$ 과 $\vec{b}=(2m+1, 9)$ 가 서로 평행할 때, 실수 m 의 값은? [2점]

- ① 3 ② 5 ③ 7 ④ 9 ⑤ 11

24. 좌표공간의 두 점 $A(-1, 1, -2)$, $B(2, 4, 1)$ 에 대하여 선분 AB 가 xy 평면과 만나는 점을 P 라 할 때, 선분 AP 의 길이는? [3점]

- ① $2\sqrt{3}$ ② $\sqrt{13}$ ③ $\sqrt{14}$ ④ $\sqrt{15}$ ⑤ 4

25. 양수 a 에 대하여 기울기가 $\frac{1}{2}$ 인 직선이 타원 $\frac{x^2}{36} + \frac{y^2}{16} = 1$ 과

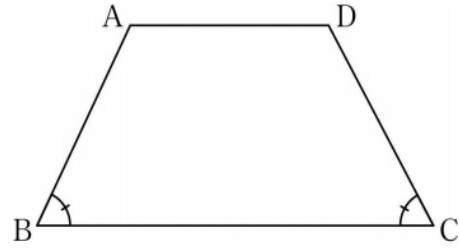
포물선 $y^2 = ax$ 에 동시에 접할 때, 포물선 $y^2 = ax$ 의 초점의 x 좌표는? [3점]

- ① 2 ② $\frac{5}{2}$ ③ 3 ④ $\frac{7}{2}$ ⑤ 4

26. 그림과 같이 변 AD가 변 BC와 평행하고 $\angle CBA = \angle DCB$ 인 사다리꼴 ABCD가 있다.

$$|\overline{AD}| = 2, |\overline{BC}| = 4, |\overline{AB} + \overline{AC}| = 2\sqrt{5}$$

일 때, $|\overline{BD}|$ 의 값은? [3점]



- ① $\sqrt{10}$ ② $\sqrt{11}$ ③ $2\sqrt{3}$ ④ $\sqrt{13}$ ⑤ $\sqrt{14}$

27. 좌표공간에 $OA=7$ 인 점 A가 있다. 점 A를 중심으로 하고 반지름의 길이가 8인 구 S와 xy 평면이 만나서 생기는 원의 넓이가 25π 이다. 구 S와 z 축이 만나는 두 점을 각각 B, C라 할 때, 선분 BC의 길이는? (단, O는 원점이다.) [3점]

- ① $2\sqrt{46}$ ② $8\sqrt{3}$ ③ $10\sqrt{2}$ ④ $4\sqrt{13}$ ⑤ $6\sqrt{6}$

28. 삼각형 ABC와 삼각형 ABC의 내부의 점 P가 다음 조건을 만족시킨다.

(가) $\vec{PA} \cdot \vec{PC} = 0, \frac{|\vec{PA}|}{|\vec{PC}|} = 3$

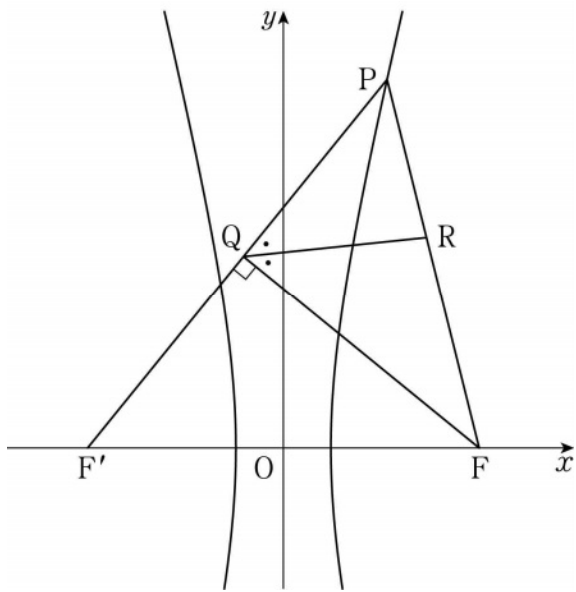
(나) $\vec{PB} \cdot \vec{PC} = -\frac{\sqrt{2}}{2} |\vec{PB}| |\vec{PC}| = -2|\vec{PC}|^2$

직선 AP와 선분 BC의 교점을 D라 할 때, $\vec{AD} = k\vec{PD}$ 이다. 실수 k 의 값은? [4점]

- ① $\frac{11}{2}$ ② 6 ③ $\frac{13}{2}$ ④ 7 ⑤ $\frac{15}{2}$

단답형

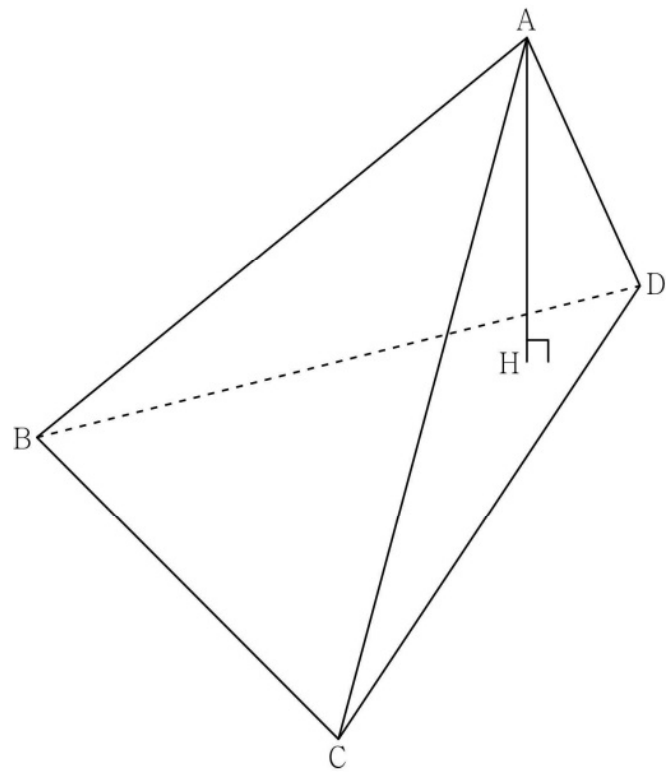
29. 그림과 같이 두 초점이 F, F'인 쌍곡선 $x^2 - \frac{y^2}{16} = 1$ 이 있다.
 쌍곡선 위에 있고 제1사분면에 있는 점 P에 대하여 점 F에서 선분 PF'에 내린 수선의 발을 Q라 하고, $\angle FQP$ 의 이등분선이 선분 PF와 만나는 점을 R라 하자. $4\overline{PR} = 3\overline{RF}$ 일 때, 삼각형 PF'F의 넓이를 구하시오. (단, 점 F의 x좌표는 양수이고, $\angle F'PF < 90^\circ$ 이다.) [4점]



30. 한 변의 길이가 4인 정삼각형 ABC를 한 면으로 하는 사면체 ABCD의 꼭짓점 A에서 평면 BCD에 내린 수선의 발을 H라 할 때, 점 H는 삼각형 BCD의 내부에 놓여 있다. 직선 DH가 선분 BC와 만나는 점을 E라 할 때, 점 E가 다음 조건을 만족시킨다.

- (가) $\angle AEH = \angle DAH$
- (나) 점 E는 선분 CD를 지름으로 하는 원 위의 점이고 $\overline{DE} = 4$ 이다.

삼각형 AHD의 평면 ABD 위로의 정사영의 넓이는 $\frac{q}{p}$ 이다.
 $p+q$ 의 값을 구하시오. (단, p 와 q 는 서로소인 자연수이다.) [4점]



* 확인 사항
 ○ 답안지의 해당란에 필요한 내용을 정확히 기입(표기)했는지 확인하시오.