

목록

2021검정_1회차_고등도덕_문제	1
2021검정_1회차_고등기술가정_문제	3
2021검정_1회차_고등체육_문제	5
2021검정_1회차_고등음악_문제	7
2021검정_1회차_고등미술_문제	9

제 7 교시

도 덕

1. 생명 윤리 영역의 윤리적 쟁점으로 가장 적절한 것은?

- ① 안락사를 허용해야 하는가?
- ② 예술과 도덕은 갈등할 수밖에 없는가?
- ③ 직업을 통해 어떻게 행복한 삶을 영위할 수 있는가?
- ④ 정보 사회에서 표현의 자유는 어디까지 허용해야 하는가?

2. ㉠, ㉡에 들어갈 용어로 알맞은 것은?

<칸트(Kant, I.)의 도덕 법칙>

- 네 의지의 준칙이 언제나 동시에 (㉠) 입법의 원리가 되도록 행위하라.
- 너 자신이나 다른 사람의 인격을 언제나 동시에 (㉡) 으로 대우하라.

- | | | | |
|----------|----------|----------|----------|
| ㉠ | ㉡ | ㉠ | ㉡ |
| ① 상대적 수단 | ② 보편적 목적 | ③ 보편적 수단 | ④ 상대적 목적 |

3. 공리주의 관점으로 옳은 것을 <보기>에서 고른 것은?

<보기>

- ㄱ. 행위의 동기 강조
- ㄴ. 유용성의 원리 강조
- ㄷ. 보편타당한 도덕 법칙 추구
- ㄹ. 최대 다수의 최대 행복의 원리 추구

- ① ㄱ, ㄴ ② ㄱ, ㄷ ③ ㄴ, ㄹ ④ ㄷ, ㄹ

4. 통일 한국이 지향하는 보편적 가치가 아닌 것은?

- ① 평화 ② 인권 ③ 차별 ④ 자유

5. (가), (나)에 들어갈 내용으로 적절하지 않은 것은?

<인간 개체 복제의 윤리적 쟁점>

찬성 논거	반대 논거
(가)	(나)
⋮	⋮

- ① (가): 가족 관계를 명확하게 할 수 있다.
- ② (가): 불임 부부의 고통을 해소할 수 있다.
- ③ (나): 인간의 존엄성을 훼손할 수 있다.
- ④ (나): 자연의 고유한 질서를 해칠 수 있다.

6. 다음에서 설명하는 사상은?

- 도덕적 인격 완성 강조
- 대동 사회(大同社會)를 이상 사회로 제시
- 이상적 인간상으로 성인(聖人), 군자(君子)를 제시

- ① 유교 ② 도가 ③ 법가 ④ 불교

7. ㉠에 들어갈 성(性)의 가치로 적절한 것은?

생식적 가치	성(性)은 새로운 생명을 탄생시키는 원천이다.
㉠	성(性)은 남녀 상호 간의 존중과 배려를 실현해 준다.

- ① 교환적 가치 ② 인격적 가치
③ 수단적 가치 ④ 물질적 가치

8. 교사의 질문에 대한 대답으로 적절하지 않은 것은?

시민 불복종의 사례에는 무엇이 있을까요? 교사

학생 1 나치의 유대인 대학살이 있습니다.

학생 2 간디의 소금 행진이 있습니다.

학생 3 소로의 세금 납부 거부 운동이 있습니다.

학생 4 마틴 루서 킹의 흑인 차별 철폐 운동이 있습니다.

- ① 학생 1 ② 학생 2 ③ 학생 3 ④ 학생 4

9. 부부간의 바람직한 윤리적 자세를 <보기>에서 고른 것은?

<보기>

- ㄱ. 서로 존중하고 협력해야 한다.
- ㄴ. 배려하며 부족함을 보완해야 한다.
- ㄷ. 능력 차이를 인정하여 위계 질서를 세워야 한다.
- ㄹ. 경제 활동은 남성이, 육아는 여성이 담당해야 한다.

- ① ㄱ, ㄴ ② ㄱ, ㄷ ③ ㄴ, ㄹ ④ ㄷ, ㄹ

10. 다음 내용과 관련된 공자의 사상은?

“임금은 임금다워야 하고, 신하는 신하다워야 하며, 부모는 부모다워야 하고, 자식은 자식다워야 한다.”

- ① 겸애(兼愛) ② 정명(正名) ③ 무위(無爲) ④ 해탈(解脫)

11. 예술에 대한 도덕주의 입장으로 가장 적절한 것은?

- ① 순수 예술론을 지지한다.
- ② 예술의 독립성만을 강조한다.
- ③ 예술에 대한 윤리적 규제를 반대한다.
- ④ 예술은 교훈적인 본보기를 제공해야 한다.

12. 다음에서 소개하는 윤리 사상가는?

◆ 도덕 인물 카드 ◆

- 미국의 신학자로 사회 윤리를 강조함
- 사회 구조와 제도 개선의 필요성을 강조함
- 저서 : 『도덕적 인간과 비도덕적 사회』

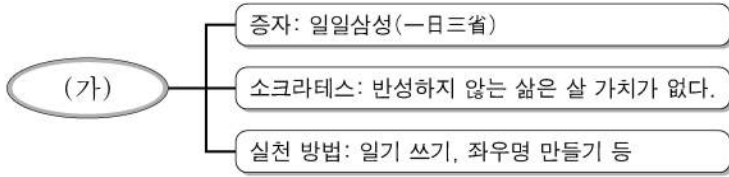
- ① 노직 ② 벤담 ③ 니부어 ④ 슈바이처

13. 다음 사례와 관련 있는 롤스(Rawls, J.)의 정의의 원칙은?

- 여성 고용 할당 ○ 지역 균형 선발
- 국가 유공자 특별 대우 ○ 농어촌 자녀 특례 입학

- ① 차등의 원칙 ② 교정의 원칙
 ③ 취득의 원칙 ④ 경쟁의 원칙

14. (가)에 들어갈 개념은?



- ① 사실 판단 ② 윤리적 성찰
 ③ 가치 전도 ④ 쾌락의 역할

15. 다음에 해당하는 정보 윤리의 기본 원칙은?

- 정보화 혜택의 차별 없는 분배
- 사이버 공간에서의 규칙과 법 준수

- ① 정의 ② 갈등 ③ 익명성 ④ 무관심

16. 대중문화에 대한 윤리적 규제를 반대하는 입장을 <보기>에서 고른 것은?

- <보기>
- ㄱ. 성의 상품화를 예방할 수 있다.
 - ㄴ. 자율성과 표현의 자유를 중시한다.
 - ㄷ. 대중은 다양한 대중문화를 즐길 권리가 있다.
 - ㄹ. 대중의 정서에 미칠 부정적 영향을 방지한다.

- ① ㄱ, ㄴ ② ㄴ, ㄷ ③ ㄴ, ㄹ ④ ㄷ, ㄹ

17. 과학 기술 지상주의의 관점으로 가장 적절한 것은?

- ① 과학 기술의 발전을 비관적으로 본다.
 ② 과학 기술이 역기능만을 유발한다고 본다.
 ③ 과학 기술의 여러 혜택과 성과를 부정한다.
 ④ 과학 기술이 모든 문제를 해결할 수 있다고 본다.

18. 공직자가 지녀야 할 바람직한 자세로 적절하지 않은 것은?

- ① 공익을 실현하기 위해 노력해야 한다.
 ② 위임받은 권한을 남용하지 말아야 한다.
 ③ 국민을 위해 봉사하는 자세를 지녀야 한다.
 ④ 대가성 없는 뇌물은 온정으로 받아야 한다.

19. ㉠에 들어갈 내용으로 적절하지 않은 것은?

주제 : 지속 가능한 발전의 특징과 실천 방법

1. 특징
 - 미래 세대도 현세대만큼 잘살 수 있게 하는 범위에서 경제 성장과 환경 보전의 조화를 추구하는 발전

2. 실천 방법
 - 온실 가스 배출 규제, (㉠)
 - 환경 문제에 대한 국제 공조 체제 마련

- ① 에너지 절약 ② 쓰레기 재활용
 ③ 친환경 에너지 개발 ④ 일회용품 사용 권장

20. 다음에서 인간 중심주의 윤리의 관점에만 '✓'를 표시한 학생은?

관점	학생	A	B	C	D
○ 자연은 인간의 이익을 위한 도구이다.			✓		
○ 모든 생명체는 내재적 가치를 지닌다.				✓	✓
○ 인간과 자연을 동등하게 고려해야 한다.		✓		✓	

- ① A ② B ③ C ④ D

21. 싱어(Singer, P.)가 주장하는 해외 원조에 대한 입장으로 가장 적절한 것은?

- ① 질서 정연한 사회의 구성원이 되도록 원조한다.
 ② 원조는 개인과 국가의 자율적 선택의 문제이다.
 ③ 고통을 감소시키고 쾌락을 증진하는 것은 인류의 의무이다.
 ④ 원조를 통해 재화를 똑같이 나누는 것은 국제적 정의이다.

22. 종교 갈등 해결을 위한 바람직한 자세로 적절한 것을 <보기>에서 고른 것은?

- <보기>
- ㄱ. 자신이 믿는 종교만을 맹신한다.
 - ㄴ. 타인에게 자신의 믿음을 강요한다.
 - ㄷ. 대화를 통해 다른 종교에 대한 이해를 높인다.
 - ㄹ. 사랑, 평화와 같은 가치를 실천하고자 노력한다.

- ① ㄱ, ㄴ ② ㄴ, ㄷ ③ ㄴ, ㄹ ④ ㄷ, ㄹ

23. 다음은 어느 학생의 서술형 평가 답안이다. 밑줄 친 ㉠~㉣ 중 옳지 않은 것은?

문제 : 윤리적 소비의 특징과 실천 방법을 서술하십시오.

<학생 답안>
 윤리적 소비는 ㉠ 이웃을 고려하고 자연 환경까지 생각하는 소비 형태이다. 그리고 그 유형으로는 ㉡ 인권 향상을 고려하는 착한 소비, ㉢ 대량 소비와 과시적 소비 등이 있다. 이를 생활 속에서 실천하기 위해서는 ㉣ 환경 마크나 공정 무역 마크가 부착된 제품을 구입한다.

- ① ㉠ ② ㉡ ③ ㉢ ④ ㉣

24. 다문화 사회의 시민 의식으로 적절하지 않은 것은?

- ① 문화적 편견을 극복해야 한다.
 ② 서로 다름과 차이를 인정한다.
 ③ 보편적 가치를 위협하는 문화를 수용해야 한다.
 ④ 인권과 평화를 위해 책임 있는 행동을 지향한다.

25. 하버마스(Habermas, J.)의 이상적 담화 조건을 <보기>에서 고른 것은?

- <보기>
- ㄱ. 타인의 주장을 배척한다.
 - ㄴ. 자신의 오류 가능성을 인정하지 않는다.
 - ㄷ. 대화의 내용을 서로 이해할 수 있어야 한다.
 - ㄹ. 논의에 참여한 사람들은 진실성을 가지고 발언한다.

- ① ㄱ, ㄴ ② ㄱ, ㄷ ③ ㄴ, ㄹ ④ ㄷ, ㄹ

제 7 교시 기술 · 가정

1. 다음 대화에서 알 수 있는 사랑의 유형은? (단, 스텐버그 (Sternberg, R.)의 사랑의 삼각형 이론에 근거한다.)



- ① 공허한 사랑 ② 낭만적 사랑
- ③ 도취성 사랑 ④ 성숙한 사랑

2. 다음 설명에 공통으로 해당하는 것은?

- 태아의 활동과 체온 조절을 돕는다.
- 외부의 충격으로부터 태아를 보호한다.

- ① 난소 ② 양수 ③ 태반 ④ 탯줄

3. 다음 (가)에 해당하는 반사 행동은?

신생아 반사 행동 검사 결과표		
		검사 아동: ○○○
반사 행동	검사 방법	검사 결과
(가)	갑자기 큰 소리를 내어 아기를 놀라게 한다.	팔다리를 벌렸다가 오므린다.

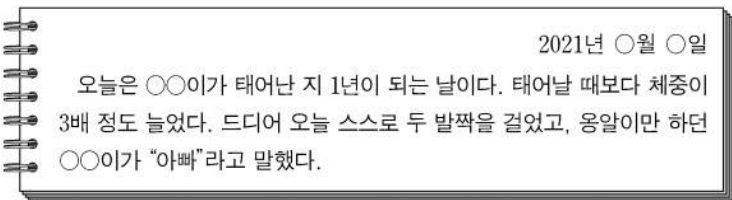
- ① 걷기 반사 ② 모로 반사 ③ 빨기 반사 ④ 찾기 반사

4. 다음 설명에 해당하는 것은?

- 우드리(Udry, R.)의 배우자 선택 여과망 이론의 1단계이다.
- 현실적·지리적으로 쉽게 만날 수 있는 상대를 선택한다.

- ① 근접성 여과망 ② 의견 일치 여과망
- ③ 상호 보완성 여과망 ④ 결혼 준비 상태 여과망

5. 다음 육아 일기를 통해 알 수 있는 자녀 발달 단계는?



- ① 신생아기 ② 영아기 ③ 유아기 ④ 아동기

6. 다음 중 출산과 관련된 설명으로 옳지 않은 것은?

- ① 출산 후 혈액이 섞여 있는 분비물인 오로가 나온다.
- ② 이슬이나 주기적 진통은 출산이 시작되는 징후이다.
- ③ 출산 후 호르몬 변화로 산후 우울증을 겪기도 한다.
- ④ 출산 과정 중 개구기는 태반, 탯줄이 나오는 시기이다.

7. 다음 설명에 해당하는 것은?

국민의 생활 안정을 위한 것으로 소득이 있을 때 보험료를 납부하고 나이가 들었을 때 국가로부터 연금을 지급받는 제도

- ① 건강보험 제도 ② 국민연금 제도
- ③ 경로 우대 제도 ④ 평생 학습 지원 제도

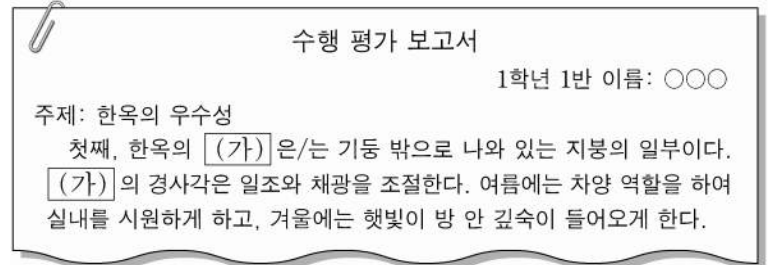
8. 다음 설명에 해당하는 식품으로 옳은 것만을 <보기>에서 모두 고른 것은?

우리나라는 젖산균이나 효모 등 미생물의 발효 작용을 이용한 다양한 발효 식품이 발달하였다.

- <보기>
- ㄱ. 김치 ㄴ. 된장 ㄷ. 들기름

- ① ㄱ ② ㄷ ③ ㄱ, ㄴ ④ ㄴ, ㄷ

9. 다음 (가)에 공통으로 들어갈 한옥의 구조는?



- ① 온돌 ② 처마 ③ 주춧돌 ④ 대청마루

10. 다음과 같은 생활문화를 가진 나라는?

- 전통 의상으로 치파오를 입는다.
- 대표 음식으로 동파육, 마파두부 등이 있다.

- ① 일본 ② 중국 ③ 베트남 ④ 프랑스

11. 지속 가능한 소비에 해당하는 것을 <보기>에서 고른 것은?

- <보기>
- ㄱ. 과소비 ㄴ. 녹색 소비
- ㄷ. 충동 소비 ㄹ. 윤리적 소비

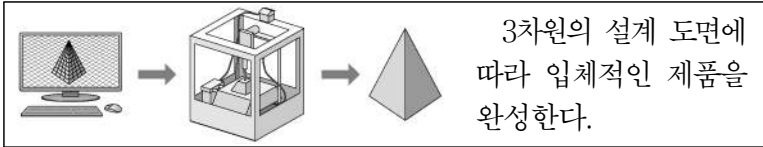
- ① ㄱ, ㄴ ② ㄱ, ㄷ ③ ㄴ, ㄹ ④ ㄷ, ㄹ

12. 다음 사례에 해당하는 노인의 적응 유형은?

나는 늙어서 노인이 된 사실이 억울해요. 시대를 잘못 만나고 평생 가족 뒷바라지를 하느라 아무것도 이룬 것이 없어서 화가 치밀어 올라요.

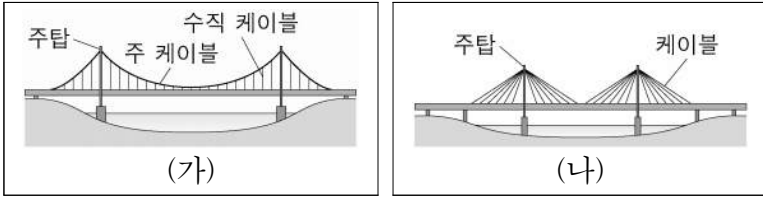
- ① 방어형 ② 분노형 ③ 성숙형 ④ 은둔형

13. 다음 설명에 해당하는 것은?



- ① 가상 현실 ② 인공 지능
- ③ 하이브리드 ④ 3D 프린팅

14. 다음 (가)와 (나) 교량의 명칭으로 옳은 것은?



- | | | | |
|-------|------|--------|-----|
| (가) | (나) | (가) | (나) |
| ① 사장교 | 트러스교 | ② 아치교 | 현수교 |
| ③ 현수교 | 사장교 | ④ 트러스교 | 아치교 |

15. 다음 설명에 해당하는 것은?

○ 모든 사물이 통신망으로 연결되어 사용자에게 다양한 서비스를 제공한다.
○ 스마트폰을 이용해 보일러를 실시간으로 조작하여 집 안의 온도를 조절할 수 있다.

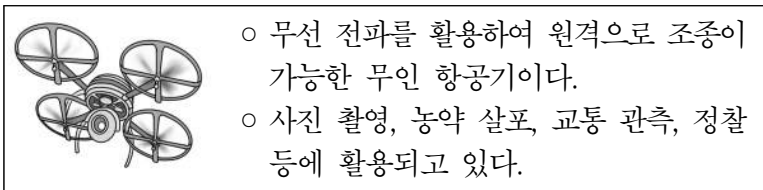
- ① 홀로그램 ② 나노 기술
- ③ 사물 인터넷 ④ 메카트로닉스

16. 다음 상황에서 활용된 기술로 가장 적절한 것은?



- ① 로봇 수술 ② 식물 공장 ③ 원격 진료 ④ 인공 장기

17. 다음 설명에 해당하는 수송 수단은?



- ① 드론 ② 위그선
- ③ 하이퍼루프 ④ 극초음속 비행기

18. 다음 중 적정 기술의 조건에 해당하는 것을 '✓'로 표시한 학생은?

조건	학생	A	B	C	D
○ 제작 비용이 커야 한다.			✓		✓
○ 기술 이전이 쉬워야 한다.		✓		✓	
○ 가능한 현지 재료를 사용해야 한다.		✓			✓
○ 반드시 화석 에너지를 활용해야 한다.			✓	✓	

- ① A ② B ③ C ④ D

19. 그림의 지속 가능한 발전에서 환경적 측면의 목표로 적절한 것을 <보기>에서 고른 것은?



<보기>
 가. 양성평등
 나. 생태계 보호
 다. 양질의 일자리
 르. 깨끗한 물과 위생

- ① 가, 나 ② 가, 다 ③ 나, 르 ④ 다, 르

20. 다음 설명에서 (가)에 들어갈 말로 적절한 것은?

(가)
 • 2차 산업 혁명을 이끈 장치
 • 작업자는 고정된 자리에 있고, 작업 대상을 이동시키는 장치

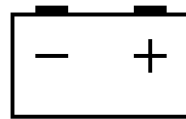
- ① 인터넷
- ② 바이오센서
- ③ 웨어러블 기기
- ④ 컨베이어 벨트

21. 다음 (가)에 들어갈 직업으로 적절한 것은?



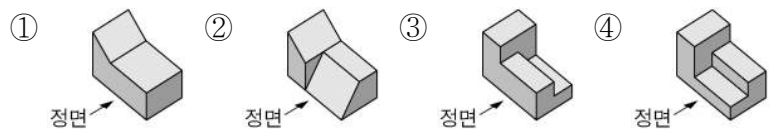
- ① 녹색 건축 전문가 ② 빅 데이터 전문가
- ③ 유전 공학 연구원 ④ 항공 우주 공학 기술자

22. 그림이 나타내는 자동차 경고등의 의미는?



- ① 엔진 점검
- ② 배터리 점검
- ③ 문 열림 상태 점검
- ④ 타이어 공기압 점검

23. 다음 물체를 정투상법으로 나타낼 때, 평면도가 나머지 셋과 다른 것은?

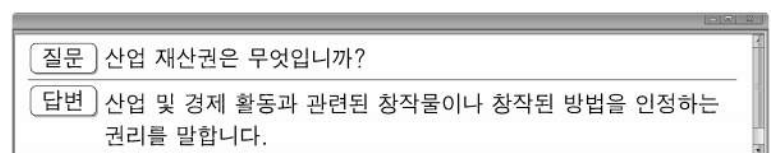


24. <보기>의 특허 출원 단계를 순서대로 바르게 배열한 것은?

<보기>
 가. 출원 신청 나. 특허 심사
 다. 특허권 획득 르. 선행 기술 검색

- ① 가 → 나 → 다 → 르 ② 나 → 다 → 르 → 가
- ③ 다 → 가 → 르 → 나 ④ 르 → 가 → 나 → 다

25. 다음에서 설명하는 권리의 종류가 아닌 것은?



- ① 상표권 ② 저작권 ③ 특허권 ④ 디자인권

제 7 교시

체 육

1. 다음 중 건강 관리를 위한 생활 습관으로 적절하지 않은 것은?

- ① 충분한 수면을 취한다.
- ② 규칙적으로 운동을 한다.
- ③ 근력 강화를 위해 약물에 의존한다.
- ④ 외출 후 귀가하면 비누로 손을 씻는다.

2. 다음 설명에 해당하는 운동 처방의 요소는?

○ 일주일간 운동하는 횟수이다.
○ 주당 3~5일 정도가 일반적이다.

- ① 운동 강도 ② 운동 빈도 ③ 운동 시간 ④ 운동 유형

3. 다음 설명에 해당하는 여가 운동은?

○ 산이나 야외를 걸으며 건강을 도모하는 여가 운동이다.
○ 근력 및 심폐 지구력 향상, 스트레스 해소 등의 효과가 있다.

- ① 요가 ② 트레킹 ③ 배드민턴 ④ 필라테스

4. 다음 설명에 해당하는 운동의 효과는?

○ 심장, 폐 등 체내 기관이 튼튼해진다.
○ 근력, 순발력, 유연성 등의 체력이 향상된다.

- ① 문화적 효과 ② 사회적 효과
- ③ 신체적 효과 ④ 정신적 효과

5. 다음 설명에서 ㉠에 들어갈 안전 장비로 알맞은 것은?

자전거 타기에서 (㉠)은 머리를 보호하기 위해 반드시 착용해야 하며, 외부 충격에 강하면서 가볍고 통풍이 잘 되는 것이 좋다.

- ① 신발 ② 장갑 ③ 헬멧 ④ 전조등

6. 다음 설명에서 ㉠에 들어갈 체력 측정 종목으로 알맞은 것은?



이번 시간에는 여러분들의 체력을 평가하겠습니다.
유연성 평가를 위해 (㉠)를 실시하겠습니다.

- ① 팔굽혀 펴기 ② 왕복 오래달리기
- ③ 제자리 멀리뛰기 ④ 앉아 윗몸 앞으로 굽히기

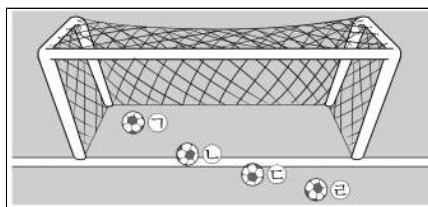
7. 다음 중 기계 체조 경기에서 남자만 실시하는 종목으로 바르게 묶인 것은?

- ① 링 - 철봉 ② 마루 - 평균대
- ③ 도마 - 2단 평행봉 ④ 안마 - 2단 평행봉

8. 다음 중 육상 필드 경기 종목의 연결이 바르지 않은 것은?

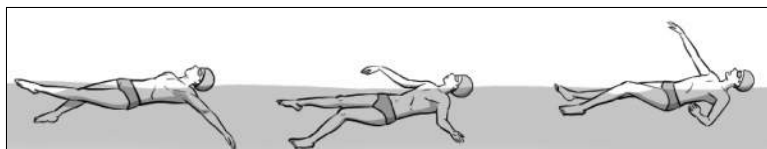
경기	종목
① 도약	멀리뛰기
② 도약	높이뛰기
③ 투척	창던지기
④ 투척	장대높이뛰기

9. 다음 중 축구 경기에서 득점으로 인정되는 공의 위치는?



- ① ㉠
- ② ㉡
- ③ ㉢
- ④ ㉣

10. 다음 설명에 해당하는 수영 경기의 영법은?



○ 출발 손잡이를 잡고 벽을 발로 차면서 출발한다.
○ 수면 위에 누운 자세로 팔을 뒤로 번갈아 짓는 영법이다.

- ① 배영 ② 접영 ③ 크롤 ④ 평영

11. 투기 스포츠에 해당하는 것을 <보기>에서 고른 것은?



- ① 가, 나 ② 가, 르 ③ 나, 다 ④ 다, 르

12. 다음 설명에 해당하는 볼링 용어는?

○ 첫 투구 후 남은 핀을 지칭한다.
○ 처리에 성공하면 채점표에 ▲로 표시된다.


- ① 더블 ② 터키 ③ 스페어 ④ 스트라이크

13. 다음 중 테니스 경기의 점수 표시로 옳지 않은 것은?

	A코트	B코트
점수	㉠ 0 : ㉡ 20	㉢ 30 : ㉣ 40

- ① ㉠ ② ㉡ ③ ㉢ ④ ㉣

14. 다음 야구 해설 중 ㉠에 들어갈 내용은?




현재 볼 카운트는 (㉠)입니다.

볼 카운트	
B	●○○
S	●●
O	●●

- ① 1볼 1스트라이크 1아웃
- ② 1볼 2스트라이크 2아웃
- ③ 2볼 1스트라이크 1아웃
- ④ 2볼 2스트라이크 2아웃

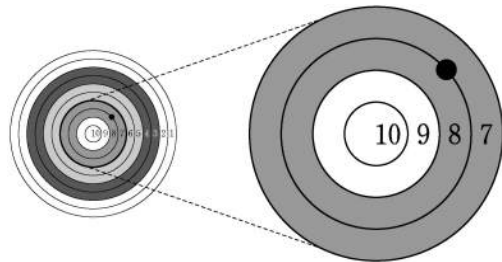
15. 다음 설명에 해당하는 배구 기술은?



- 주로 서비스 리시브를 할 때에나 강하게 날아오는 공을 받을 때 사용한다.
- 양손을 모아 손목의 5~10cm 위에 공을 맞혀 패스한다.

- ① 블로킹
- ② 서비스
- ③ 언더핸드 패스
- ④ 오버핸드 패스

16. 양궁 경기에서 그림과 같이 쐐을 때 득점은?



- ① 0점
- ② 7점
- ③ 7.5점
- ④ 8점

17. 다음 설명에 해당하는 태권도 발차기 기술은?

- 상대방이 자신의 앞에 있을 때 몸을 뒤로 180° 회전하면서 차는 기술이다.
- 무릎을 접었다 뒤로 뺨으면서 발뒤꿈치나 발바닥 등으로 목표물을 가격한다.

- ① 찌기
- ② 뒤차기
- ③ 앞차기
- ④ 지르기

18. 야구 경기에서 한 선수가 다음과 같이 타격했을 때, 해당하는 기록은?

회	타격 기록
1회	3루타
3회	1루타
6회	2루타
8회	홈런


- ① 병살타
- ② 스퀴즈
- ③ 완봉승
- ④ 사이클링 히트

19. 다음 설명에서 ㉠에 들어갈 용어로 알맞은 것은?

심폐 소생술은 호흡이 멈추었거나 심장 마비가 의심되는 사람에게 실시할 수 있는 응급 처치이다. 주로 (㉠) 압박을 통해 이루어진다.


- ① 가슴
- ② 다리
- ③ 손목
- ④ 허리

20. 그림과 같은 축구 경기의 세트 플레이는?



- ① 골킥
- ② 스톤인
- ③ 코너킥
- ④ 페널티킥


21. 다음 설명에 해당하는 농구 기술은?



- 리바운드 시 상대보다 유리한 위치를 선점하기 위한 기술이다.
- 골 밑에서 상대방을 바깥으로 밀어내는 합법적인 몸싸움이다.


- ① 어시스트
- ② 트래블링
- ③ 레이업 슈트
- ④ 박스 아웃


22. 다음 대화 내용에서 공통적으로 말하고 있는 스포츠는?



응원에서 유래된 스포츠야.

활기찬 구호와 동작, 독창적인 표현과 구성 등이 특징이야.






여러 사람이 함께 하면서 협동심과 사회성을 기를 수 있어.

- ① 롬바
- ② 왈츠
- ③ 차차차
- ④ 치어리딩

23. 다음 설명에 해당하는 것은?



- 유럽에서 발생한 서양 무용으로 동작의 형식과 기교를 중시한다.
- 점차 전문적인 예술 양식으로 변화했으며 대표작으로 '백조의 호수'가 있다.

- ① 발레
- ② 삼바
- ③ 탱고
- ④ 자이브

24. 다음 체크 리스트의 내용 중 환경적 요인에 해당하는 것은?

안전사고 예방 체크 리스트	
내용	확인
① 충분한 휴식을 취하였는가?	예 / 아니오
② 발열 및 이상 증상은 없는가?	예 / 아니오
③ 준비 운동을 충분히 하였는가?	예 / 아니오
④ 기구 및 장비의 결함을 확인하였는가?	예 / 아니오

25. 다음 중 운동 손상에 대한 응급 처치 방법으로 적절하지 않은 것은?

	운동 손상	응급 처치 방법
①	골절	부목법
②	출혈	마사지
③	염좌	냉찜질 후 거상
④	근육 경련	근육 이완 및 스트레칭

제 7 교시 음악

[1~3] 다음 악곡은 「벚꽃 엔딩」의 일부이다. 물음에 답하시오.

Allegretto

봄바람휘날리 며 흠 - 날리는벚꽃잎이 - 울
- 러퍼질이거리를 - - - - - 돌 - 이 - 걸 어 요

- 위 악곡의 조성은?
① 바장조 ② 사장조 ③ 가장조 ④ 나장조
- 위 악곡의 빠르기는?
① 느리게 ② 빠르게
③ 조금 느리게 ④ 조금 빠르게
- 위 악곡에 알맞은 박자표는?
① $\frac{2}{4}$ ② $\frac{4}{4}$ ③ $\frac{3}{8}$ ④ $\frac{6}{8}$

[4~5] 다음 악곡은 「돌아오라 소렌토로」의 일부이다. 물음에 답하시오.

(가) (나)
떠날때가없도 다 - 향기로운 꽃만 발 한

- (가)에 들어갈 알맞은 침표는?
① ♩ ② ♪ ③ ♫ ④ ♮
- (나) 음에 해당하는 피아노 건반은?

① G ② C ③ E ④ G

- 다음 중 '점점 세계'의 뜻을 가진 악상 기호는?
① *cresc.* ② *tenuto* ③ *a tempo* ④ *staccato*
- 다음 중 이탈리아 대중가요는?
① 리트 ② 샹송 ③ 요들 ④ 칸초네

8. 다음 설명에 해당하는 오페라의 구성 요소는?

- 주인공이 기교를 살려 선율을 노래하는 곡
- 대표곡: 리날도 중 「울게 하소서」, 투란도트 중 「아무도 잠들지 말라」

- ① 서곡 ② 간주곡 ③ 아리아 ④ 레치타티보

9. 다음 악보에서 연주해야 하는 마디의 수는?

- ① 6마디 ② 7마디 ③ 8마디 ④ 9마디

10. 다음 설명에 해당하는 작곡가는?

- 클래식과 재즈를 결합한 미국 작곡가
- 대표곡: 「랩소디 인 블루(Rhapsody in Blue)」

- ① 거슈윈 ② 비발디 ③ 슈베르트 ④ 차이콥스키

11. 다음 설명에 해당하는 음악 시대는?

- 음악의 형식과 균형을 강조
- 대표 작곡가: 하이든, 모차르트, 베토벤

- ① 르네상스 ② 바로크 ③ 고전 ④ 낭만

12. 다음 설명에 해당하는 악기는?

- 흠을 빚어 구워 만든 관악기
- 이탈리아어로 '작은 거위' 라는 뜻

- ① 바순 ② 리코더 ③ 피콜로 ④ 오카리나

13. 다음 중 음정을 연주할 수 있는 타악기는?

- ① 줌베 ② 마림바 ③ 심벌즈 ④ 탬버린

14. 여성 3부 합창에서 (가)에 들어갈 성부는?

- ① 테너 ② 바리톤 ③ 베이스 ④ 메조소프라노

[15~16] 다음 악곡은 「쑥대머리」의 일부이다. 물음에 답하시오.



15. 위 대목이 포함된 판소리는?
 ① 수궁가 ② 심청가 ③ 적벽가 ④ 춘향가
16. 판소리를 반주할 때 사용하는 악기는?
 ① 소고 ② 피리 ③ 해금 ④ 소리북

[17~18] 다음 악곡은 「강원도 아리랑」의 일부이다. 물음에 답하시오.



17. 위 악곡은 어느 지역의 민요인가?
 ① 남도 민요 ② 동부 민요 ③ 서도 민요 ④ 제주 민요
18. 위 악보를 장구로 반주할 때 북편만을 치는 횟수는?
 ① 1회 ② 2회 ③ 3회 ④ 6회
19. 다음은 가야금에 대한 설명이다. (가)에 해당하는 것은?



- ① 괘 ② 채 ③ 활 ④ 안죽

20. 다음 중 삼국 시대와 관련이 없는 것은?

- ① 왕신악이 거문고를 만들었다.
 ② 세종이 정간보를 창안하였다.
 ③ 우륵이 가야금 음악을 발전시켰다.
 ④ 미마지가 기악무를 일본에 전파하였다.

21. 다음 설명에 해당하는 기악곡은?

- 조선 후기에 나타난 민속 음악
- 느린 장단에서 빠른 장단으로 연주
- 판소리와 시나위의 영향을 받아 만들어진 기악 독주곡

- ① 범패 ② 산조 ③ 시조 ④ 사물놀이

22. 다음 중 삼죽에 해당하지 않는 악기는?


- ① 대금 ② 소금 ③ 아쟁 ④ 중금

23. <보기>에서 극음악을 고른 것은?

- <보기>
- ㄱ. 창극 ㄴ. 오페라 ㄷ. 수제천 ㄹ. 협주곡

- ① ㄱ, ㄴ ② ㄱ, ㄹ ③ ㄴ, ㄷ ④ ㄷ, ㄹ

24. 다음 설명에 해당하는 뮤지컬은?



- 노동자와 농민들의 저항 정신, 가난한 사람들의 인간애 등을 다룬 작품
- 대표곡: 「민중들의 노랫소리가 들리는가?」



- ① 맘마미아 ② 레 미제라블
 ③ 오페라의 유령 ④ 지킬 앤 하이드

25. 다음 설명에 해당하는 음악 관련 직업은?

- 음악 공연 상품을 제작
- 공연의 총괄적인 계획 수립과 집행 과정을 결정

- ① 공연 기획자 ② 악기 제작자
 ③ 음악 교육자 ④ 음악 치료사

제 7 교시

미술

1. 다음 설명에 해당하는 조형 원리는?

형과 색에 일관된 질서가 있어 조화를 이루며 안정감을 준다.

- 1 강조 2 동세 3 통일 4 재질감

2. 다음 설명에 해당하는 공예의 재료는?



뜨거운 액체 상태의 재료를 굳혀 만든다. 다양한 형태와 색 표현이 가능하며 단단하고 광택이 난다.

- 1 흙 2 나무 3 유리 4 종이

3. 다음 설명에 해당하는 채색 재료는?

합성수지로 만든 재료로 건조가 빠르고 색이 선명하다. 수채화 또는 유화의 효과를 낼 수 있고 다양한 재료에 채색이 가능하다.

- 1 먹 2 목탄 3 파스텔 4 아크릴 물감

4. 다음 설명에 해당하는 애니메이션은?



오려 낸 종이나 인형을 스크린 뒤에 배치하고 뒤편에서 조명을 비추어 실루엣을 만든다.

- 1 플립북 2 모래 애니메이션 3 그림자 애니메이션 4 클레이 애니메이션

5. 다음 설명에 해당하는 것은?



나무나 돌 위에 문자를 새긴 것이다. 건물의 현판이나 책을 찍기 위한 인쇄용 목판본 등에 활용된다.

- 1 문진 2 벼루 3 서각 4 연적

6. 다음 설명에 해당하는 미술 사조는?


강렬한 색채와 역동적인 구성으로 인간의 감정을 표현했다. 대표 작가로는 들라크루아, 제리코 등이 있다.

- 1 팝 아트 2 낭만주의 3 대지 미술 4 초현실주의

7. 다음 설명에 해당하는 작품은?

한자의 획 속에 해당 글자의 의미인 효도와 관련된 상징물로 잉어, 부채, 죽순, 가야금을 그려 넣었다.

- 1 2 3 4



8. 다음 대화에 해당하는 발상 방법은?



뮤익, <소년>

- 1 분해 2 절단 3 제거 4 확대

9. 다음 설명에 해당하는 미술과 융합된 분야는?

라이트 아트는 빛의 효과를 활용해 시각 이미지를 창조하려는 실험에 의해 탄생했다.

- 1 경제 2 과학 3 의학 4 스포츠

10. 다음 설명에 해당하는 표현 기법은?



여러 장의 사진을 오려 붙여 새로운 이미지를 만든다.

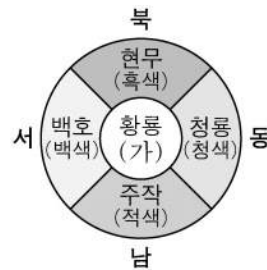
- 1 스크래치 2 프로타주 3 데칼코마니 4 포토콜라주

11. 다음 설명에 해당하는 것은?

현실 공간에 가상 이미지를 합성하여 실제 환경에 존재하는 사물처럼 보이게 하는 컴퓨터 그래픽 기술이다.

- 1 캐릭터 2 패러디 3 증강 현실 4 픽토그램

12. 다음은 오방색을 나타내는 그림이다. (가)에 해당하는 색은?




- 1 황색 2 회색 3 보라색 4 연두색

13. 다음 설명에 해당하는 작품은?

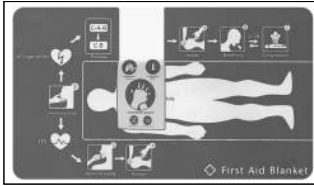
TV, 비디오 등과 같은 전자 매체를 활용하여 기술과 예술을 결합한 작품이다. 대표 작가로는 백남준, 비올라 등이 있다.

- 1 2 3 4



<존 케이지> <무제> <스폰 브릿지> <풍선 개>

14. 다음 설명에 해당하는 것은?



- 정보와 그래픽의 합성어이다.
- 정보를 시각적으로 표현하여 쉽고 빠르게 전달한다.

- ① 마스크트 ② 캐리커처 ③ 인포그래픽 ④ 컬리그래피

15. 그림에 대한 설명으로 옳지 않은 것은?



김정희, <세한도>

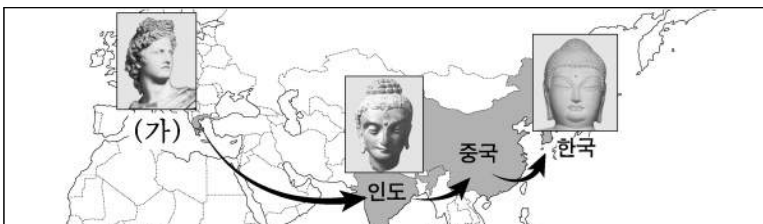
- ① 조선 시대에 제작된 작품이다.
 ② 물감을 두텁게 채색한 유화 작품이다.
 ③ 화려한 기교보다는 정신과 운치를 중시했다.
 ④ 소나무와 잣나무를 각각 자신과 제자에 빗대어 표현했다.

16. 다음 설명에 해당하는 것은?

- '거리의 가구'라는 의미로 사람들의 편의를 위한 시설물이다.
- 가로등, 벤치, 버스 정류장 등이 있다.

- ① 그래피티 ② 인테리어
 ③ 슈퍼그래픽 ④ 스트리트 퍼니처

17. 다음은 동·서양 조각 양식의 교류를 나타낸 것이다. (가)에 해당하는 나라는?



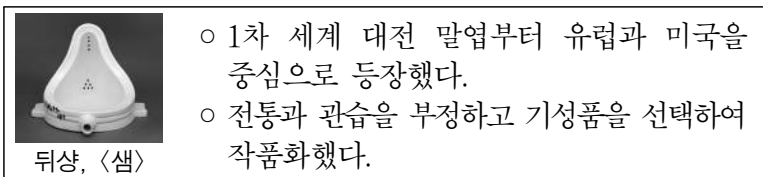
- ① 미국 ② 그리스 ③ 프랑스 ④ 뉴질랜드

18. 다음 대화 내용에 해당하는 회화의 종류는?



- ① 인물화 ② 정물화 ③ 종교화 ④ 추상화

19. 다음 설명에 해당하는 미술 사조는?



- 1차 세계 대전 말엽부터 유럽과 미국을 중심으로 등장했다.
- 전통과 관습을 부정하고 기성품을 선택하여 작품화했다.

- ① 다다이즘 ② 인상주의 ③ 표현주의 ④ 신고전주의

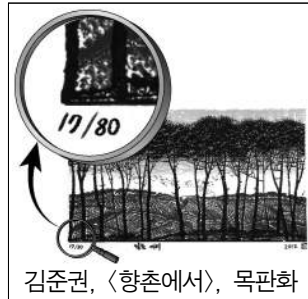
20. 다음 작품에 대한 설명으로 옳은 것은?



무어, <비스듬히 누운 인물>

- ① 모빌 작품이다.
 ② 추상 조소이다.
 ③ 극사실적으로 표현했다.
 ④ 모터의 동력으로 움직인다.

21. 그림에 대한 설명으로 옳지 않은 것은?



김준권, <향촌에서>, 목판화

- ① 볼록 판화의 한 종류이다.
 ② 총 80장 중 17번째로 찍었다.
 ③ 찍었을 때 판과 이미지의 좌우가 바뀌지 않는다.
 ④ 일련번호와 총 매수, 제목, 서명은 연필로 표기한다.

22. 다음 설명에 해당하는 직업은?

음식이 매력적으로 보이도록 연출하며 색, 형, 맛, 향 등을 시각적으로 표현하는 미술적 감각을 필요로 한다.

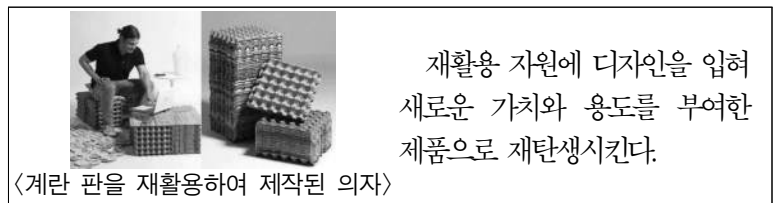
- ① 도슨트 ② 금속 공예가
 ③ 애니메이터 ④ 푸드 스타일리스트

23. 다음 설명에 해당하는 것은?

○ 시대를 기록하거나 순간을 포착하는 표현 매체이다.
 ○ 디지털 카메라와 편집 프로그램의 발달로 이미지를 새롭게 가공, 합성하기도 한다.

- ① 데생 ② 사진 ③ 스케치 ④ 정밀 묘사

24. 다음 설명에 해당하는 디자인의 종류는?

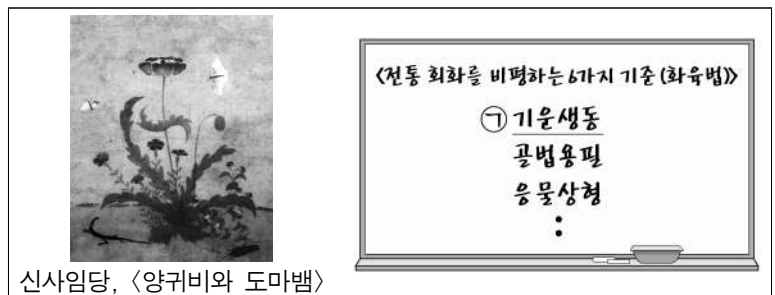


<계란 판을 재활용하여 제작된 의자>

재활용 자원에 디자인을 입혀 새로운 가치와 용도를 부여한 제품으로 재탄생시킨다.

- ① 북 디자인 ② 영상 디자인
 ③ 포스터 디자인 ④ 업사이클링 디자인

25. 다음 그림을 ㉠의 기준에 따라 비평한 것은?



신사임당, <양귀비와 도마뱀>

<전통 회화를 비평하는 6가지 기준 (화육법)>
 ㉠ 기운생동
 골법용필
 응물상형
 :

- ① 나비와 도마뱀에게서 생동감이 느껴진다.
 ② 뛰어난 관찰력과 정확한 묘사력이 돋보인다.
 ③ 자연 그대로의 은은한 색채를 느낄 수 있다.
 ④ 중앙에 위치한 양귀비가 삼각형 구도로 안정감이 든다.