

목록

05_사탐_생활과윤리_문항지	1
06_사탐_윤리와사상_문항지	5
07_사탐_한국지리_문항지	9
08_사탐_세계지리_문항지	13
09_사탐_동아시아사_문항지	17
10_사탐_세계사_문항지	21
11_사탐_경제_문항지	25
12_사탐_정치와법_문항지	29
13_사탐_사회문화_문항지	33



6. 동양 사상가 갑, 서양 사상가 을의 입장으로 옳은 것은?

갑: 진인(眞人)은 삶과 죽음을 차별하지 않는다. 삶과 죽음은 밤낮의 변화와 같으니, 삶이 왔다고 기뻐하지 않으며 죽음이 왔다고 슬퍼하지 않는다.  
 을: 현자(賢者)는 죽음을 두려워하지 않는다. 모든 좋고 나쁨은 감각에서 발생하는데, 죽음은 감각의 상실이다. 따라서 죽음은 우리에게 아무것도 아님을 깨달아야 한다.

- ① 갑: 죽음은 자연적이고 필연적인 과정이므로 초연해야 한다.
- ② 갑: 죽음은 죽음 이후의 다른 삶으로 윤회하는 계기가 된다.
- ③ 을: 죽음을 통해 영혼은 육체에서 해방되어 진리를 얻게 된다.
- ④ 을: 죽음의 고통을 수용할 때 불멸의 열망을 실현할 수 있다.
- ⑤ 갑, 을: 죽음은 내세에서 영원한 행복에 이를 수 있는 시작이다.

7. 갑, 을의 입장으로 적절한 것만을 <보기>에서 있는 대로 고른 것은?

갑: 이민자 집단의 문화를 기존의 문화와 차별하지 않고 대등하게 인정하는 정책을 시행해야 한다. 이 정책으로 이민자들은 문화적 고립에서 벗어나고, 국가적인 통합을 이룰 수 있다.  
 을: 이민자 집단이 자신들의 문화를 포기하고 주류 사회의 문화에 편입될 수 있게 하는 정책을 시행해야 한다. 이 정책으로 사회적 갈등을 줄이고 공동체의 결속을 강화할 수 있다.

<보 기>  
 ㄱ. 갑: 문화 간의 다양성을 존중하고 그 차이를 수용해야 한다.  
 ㄴ. 갑: 주류와 비주류 사이의 문화적 위계를 인정해야 한다.  
 ㄷ. 을: 이민자의 문화 정체성을 주류 문화에 동화시켜야 한다.  
 ㄹ. 갑, 을: 사회의 통합성을 높이는 문화 정책을 추진해야 한다.

- ① ㄱ, ㄴ                      ② ㄱ, ㄷ                      ③ ㄴ, ㄹ
- ④ ㄱ, ㄷ, ㄹ                ⑤ ㄴ, ㄷ, ㄹ

8. 다음 토론의 핵심 쟁점으로 가장 적절한 것은? [3점]

갑: 인간의 유전자 지도가 완성된 이후 유전자를 이용한 질병 치료가 활발해졌습니다. 유전자 치료로 인해 불치병에 걸린 환자가 건강한 삶을 살게 될 것입니다.  
 을: 동의합니다. 하지만 치료를 위해 주입된 유전자가 환자 개인에게만 영향을 끼치는 체세포 유전자 치료로 한정해서 허용되어야 합니다.  
 갑: 아닙니다. 생식 세포 유전자 치료도 허용해야 합니다. 유전어 의해 생기는 후세대의 질병을 예방함으로써 후세대 스스로가 더 나은 삶을 설계하는 데 기여할 수 있습니다.  
 을: 그렇지 않습니다. 후세대에 직접 영향을 미치는 생식 세포 유전자 치료는 후세대의 동의 없이 그들의 삶을 현재 세대가 조작하게 되는 윤리적 문제를 유발할 수 있습니다.

- ① 생식 세포 유전자 치료로 유전병 예방이 가능한가?
- ② 유전자 치료는 인간의 수명 연장에 기여할 수 있는가?
- ③ 환자 개인의 질병 치료를 위한 유전자 치료는 정당한가?
- ④ 후세대를 위해 생식 세포 유전자 치료를 허용해야 하는가?
- ⑤ 체세포 유전자 치료는 후세대에게 직접적인 영향을 미치는가?

9. 동양 사상가 갑, 한국 사상가 을의 입장으로 옳은 것만을 <보기>에서 있는 대로 고른 것은? [3점]

갑: 어진 사람은 천하에 이익이 생겨나게 하고 해로움을 없애기 위해 힘쓴다. 또한 귀로 듣기에 즐거운 것을 추구하지 않는다. 그것을 추구하면 백성들의 먹을 것과 입을 것을 축내고 빼앗기 때문이다. 임금과 대신이 음악을 좋아해서 즐기려 한다면 국가는 어지러워질 것이다.  
 을: 지금 세속의 음악은 바르지 못한 소리이다. 그러나 음악을 앞에서 한창 연주할 때는, 관장(官長)이 그의 하급 관리를 용서해 주고, 가장(家長)이 자신의 어린 하인을 용서해 준다. 그러므로 성인은 “잠깐이라도 예악(禮樂)을 몸에서 떠나게 할 수 없다.”라고 말한 것이다.

<보 기>  
 ㄱ. 갑: 백성에게 이익이 되지 않는 음악을 멀리해야 한다.  
 ㄴ. 을: 음악을 즐기더라도 덕성 함양을 위해 노력해야 한다.  
 ㄷ. 을: 성인이 완성한 음악은 사회에 어떤 영향도 끼치지 않는다.  
 ㄹ. 갑, 을: 음악은 사람들에게 감정적인 즐거움을 부여한다.

- ① ㄱ, ㄴ                      ② ㄱ, ㄷ                      ③ ㄷ, ㄹ
- ④ ㄱ, ㄴ, ㄹ                ⑤ ㄴ, ㄷ, ㄹ

10. (가)의 갑, 을, 병 사상가들의 입장을 (나) 그림으로 탐구할 때, A~D에 들어갈 옳은 질문만을 <보기>에서 있는 대로 고른 것은? [3점]

(가)	<p>갑: 상이한 사회적 가치들은 상이한 기준과 절차에 따라 분배되어야 한다. 한 영역의 가치가 다른 영역의 가치를 지배해서는 안 된다.                  을: 모든 사람은 다른 사람들의 유사한 자유와 양립할 수 있는 기본적 자유에 대한 권리를 가진다. 한편, 사회적 부의 분배는 모든 사람에게 이익이 되도록 해야 한다.                  병: 어떤 것에 대한 개인의 소유 권리가 정당하다면, 이로부터 유출된 것에 대해서도 소유 권리를 갖는다. 분배 정의에서 소유 권리는 역사적이다.</p>
(나)	<p style="text-align: right;">&lt;범례&gt;                  [ ] : 출발 조건                  [ ] : 판단 내용                  [ ] : 판단 방향                  [ ] : 사상가의 입장</p>

<보 기>  
 ㄱ. A: 모든 사회적 가치를 분배 원리에 따라 배분해야 하는가?  
 ㄴ. B: 자연적 재능의 분포를 공동의 자산으로 간주해야 하는가?  
 ㄷ. C: 명령할 수 있는 직책에 접근할 수 있는 기회를 누구에게나 부여해야 하는가?  
 ㄹ. D: 자유롭게 이전한 소유물도 교정의 대상이 될 수 있는가?

- ① ㄱ, ㄴ                      ② ㄱ, ㄷ                      ③ ㄷ, ㄹ
- ④ ㄱ, ㄴ, ㄹ                ⑤ ㄴ, ㄷ, ㄹ

11. 그림의 강연자가 지지할 입장으로 적절하지 않은 것은?



어떤 규범이 타당성을 갖기 위해서는 그 규범에 영향을 받는 사람들이 공정한 담론 절차를 거쳐 자유롭게 동의할 수 있어야 합니다. 서로 다른 의견과 갈등을 극복하기 위한 합리적인 의사소통을 위해서는 첫째, 언어와 행위 능력을 지닌 모든 주체가 담론에 참여할 수 있어야 합니다. 둘째, 어떤 주장이라도 누구나 담론에 부칠 수 있어야 합니다. 그리고 어떤 담론의 참여자도 위의 첫째, 둘째에 명시한 권리를 행사하는 데 방해받아서 안 됩니다.

- ① 공론장에서는 타인의 주장에 대한 이의 제기를 제한해야 한다.
- ② 이성적 논의 능력을 지닌 모든 주체는 담론에 참여할 수 있다.
- ③ 담론 과정에서 참여자는 개인적 욕구를 표현할 수 있어야 한다.
- ④ 담론 참여자는 자신의 오류 가능성을 전제하고 토론에 임해야 한다.
- ⑤ 담론을 통해 주관적 견해를 극복하고 합리적으로 합의할 수 있다.

12. (가), (나)의 입장으로 가장 적절한 것은? [3점]

(가) 국가는 이기적인 본성을 지닌 인간들의 집합체이다. 따라서 무정부 상태인 국제 사회에서 국가는 자기 이익을 추구하고 스스로 안보를 지켜야 한다.  
 (나) 국가는 합리적이고 선한 인간들의 집합체이다. 따라서 국제기구 등을 통한 국가 간 상호 협력으로 분쟁을 해결하고 평화를 달성할 수 있다.

- ① (가): 국가 간 대화와 협력만으로 국제 평화를 실현할 수 있다.
- ② (가): 자국의 이익 추구보다 국제법의 준수를 우선시해야 한다.
- ③ (나): 상대 국가에 대한 무지나 오해 때문에 분쟁이 발생한다.
- ④ (나): 국가 간 세력 균형을 통해 영구 평화를 실현해야 한다.
- ⑤ (가), (나): 국가 간의 갈등을 해소할 세계 정부를 세워야 한다.

13. 갑, 을의 입장으로 적절하지 않은 것은? [3점]

갑: 범죄의 대상이 되지 않도록 개인 정보를 보호해야 하지만 사회에 해악을 끼친 범죄자에 대한 온라인상의 정보는 삭제하지 않도록 해야 한다. 누구나 범죄자의 정보에 접근할 수 있어야 하고, 범죄자의 정보를 언론이 공개할 수 있도록 보장한다면 사회 안정에 기여할 수 있다.  
 을: 범죄자가 응당한 대가를 치른 후에 온라인상에 존재하는 자신의 과거에 대한 정보 삭제를 요구한다면 이를 수용해야 한다. 범죄자의 신원 공개로 얻는 이익은 시간이 갈수록 줄어들고, 죄값을 치른 사람이라면 인간다운 삶을 보장받아야 하기 때문이다.

- ① 갑: 언론의 자유를 보장하여 범죄 예방 효과를 높일 수 있다.
- ② 갑: 범죄자의 정보 보호보다 공공의 알 권리가 우선되어야 한다.
- ③ 을: 잊힐 권리는 인격권을 보장하기 위한 수단이 될 수 있다.
- ④ 을: 범죄자의 정보 공유로 얻는 공익의 실제 효과에 한계는 없다.
- ⑤ 갑, 을: 온라인상에서 개인 정보가 악용되지 않도록 해야 한다.

14. 그림은 서술형 평가 문제와 학생 답안이다. 학생 답안의 ㉠~㉣ 중 옳지 않은 것은?

서술형 평가

㉠ 문제: 해외 원조에 대한 갑, 을 사상가들의 입장을 비교하여 서술하시오.

갑: 자신에게 도덕적으로 중요한 일들을 희생시키지 않는다면, 모든 사람의 이익을 평등하게 고려하여 절대 빈곤으로 고통받는 사람들을 도와야 한다.  
 을: 고통받는 사회가 자신들의 문제를 합당하고 합리적으로 관리할 수 있도록 도와서, 결과적으로 질서 정연한 사회의 구성원이 되도록 원조해야 한다.

㉡ 학생 답안  
 갑, 을의 입장을 비교하면, 갑은 ㉠ 원조를 실행할 때 원조를 받는 사람들의 국적은 도덕적 고려 대상이 아니라고 보며, ㉢ 인권이 보장된 국가의 빈민에게도 원조할 수 있다고 주장하였다. 을은 ㉡ 질서 정연한 사회의 빈민도 원조 대상에 포함시켜야 한다고 보며, ㉣ 원조를 받는 국가가 민주적 가치를 중시하는 제도와 규범을 갖춘다면 원조는 중단될 수 있다고 주장하였다. 한편, 갑, 을은 모두 ㉢ 원조는 자선의 차원이 아니라 윤리적 의무임을 강조하였다.

- ① ㉠      ② ㉡      ③ ㉢      ④ ㉣      ⑤ ㉣

15. (가)의 갑, 을, 병 사상가들의 입장에서 서로에게 제기할 수 있는 비판을 (나) 그림으로 표현할 때, A~F에 해당하는 내용으로 가장 적절한 것은? [3점]

(가) 갑: 도덕적 의무를 질 수 있는 인간에 대한 의무 외에 다른 존재에 대한 의무는 없다. 동물이 인간에게 수행한 봉사에 대한 감사는 인간의 간접적 의무이다.  
 을: 도덕적, 심미적 관점을 담아 옳고 그름의 새로운 윤리 기준을 마련해야 한다. 생명 공동체의 구성원인 인간은 대지의 사용을 이익의 문제로만 간주하지 않아야 한다.  
 병: 도덕적 행위 능력과 무관하게 인간과 일부 동물은 존중받아야 할 도덕적 권리를 갖는다. 그들 각자는 고유한 삶을 살아가는 삶의 주체이기 때문이다.

(나)

〈범례〉  
 → : 비판의 방향  
 A~F : 비판의 내용

〈예시〉  
 甲 → A → 을  
 A는 갑이 을에게 제기할 수 있는 비판임.

- ① A, C: 생물종의 서식지가 안정적으로 유지되어야 함을 간과한다.
- ② B: 생명 공동체 구성원 간에 도덕적 책무가 있음을 간과한다.
- ③ D: 인간뿐 아니라 다른 구성원도 도덕적 지위를 지님을 간과한다.
- ④ E: 목적 그 자체인 개체의 권리를 존중해야 함을 간과한다.
- ⑤ F: 동물에 관한 의무는 인간에 대한 의무에서 도출됨을 간과한다.

16. 갑, 을의 입장으로 적절하지 않은 것은?

갑: 사랑을 전제로 한 성적 자유를 인정해야 하며, 이러한 성적 관계만이 도덕적이다. 사랑을 동반한 성은 인간의 품격을 유지시키고 상대방에 대한 책임감을 고양한다.  
 을: 사랑하는 남녀가 만나 결혼이라는 제도를 통해 이루어지는 성적 관계만이 도덕적이다. 성(性)은 부부간의 신뢰를 바탕으로 사회 구성원을 재생산하는 데 기여해야 한다.

- ① 갑: 사랑이 결여된 성적 관계는 인간의 존엄성을 훼손할 수 있다.
- ② 갑: 자발적인 동의가 전제된 모든 성적 관계는 정당화될 수 있다.
- ③ 을: 성적 관계는 새로운 생명을 탄생시키는 원천이 되어야 한다.
- ④ 을: 성의 쾌락적 가치만을 중시하는 성적 관계는 허용될 수 없다.
- ⑤ 갑, 을: 성적 관계는 상호 간의 인격적 교감을 바탕으로 해야 한다.

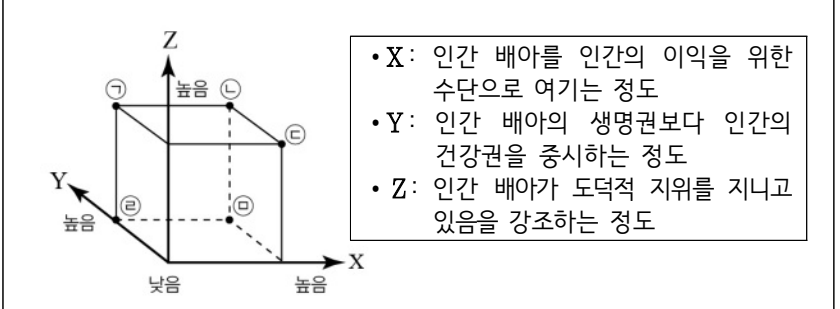
17. 사회사상가 갑, 을의 입장으로 옳은 것은? [3점]

갑: 시민 불복종은 거의 정의로운 국가에서 행해지며, 다수에 의해 제정된 법에 따라야 할 의무와 각자의 자유를 방어할 권리 사이의 충돌로 발생한다.  
 을: 시민 불복종은 중단하고자 하는 악의 크기와 행위가 가져올 법과 민주주의에 대한 존중의 심각한 감소 가능성을 저울질 해서, 그 행위가 산출할 사회적 손익을 계산해야 한다.

- ① 갑: 시민 불복종은 양심에 기반을 둔 모든 행위를 포함한다.
- ② 갑: 시민 불복종은 성공에 대한 합당한 전망에 근거해야 한다.
- ③ 을: 시민 불복종은 사회 제도와 법 전체에 항거하는 행위이다.
- ④ 을: 시민 불복종은 민주주의 원칙을 존중하는 합법적 수단이다.
- ⑤ 갑, 을: 시민 불복종에서 다수에 의한 폭력은 목적 달성을 위해 허용될 수 있다.

18. (가)의 입장에 비해 (나)의 입장이 갖는 상대적 특징을 그림의 ㉠~㉣ 중에서 고른 것은?

(가) 인간 배아는 인간과 유전자가 동일하며, 착상 후에 인간이 될 수 있는 잠재성을 가지고 있다. 따라서 배아 복제는 존엄한 인간을 죽이는 것과 같으므로 허용해서는 안 된다.  
 (나) 인간 배아는 인간이 될 가능성이 확정되지 않은 단순한 세포 덩어리에 불과하다. 따라서 배아 복제는 인간의 질병을 치료할 수 있다는 점에서 허용해야 한다.



- ① ㉠      ② ㉡      ③ ㉢      ④ ㉣      ⑤ ㉤

19. (가)의 갑, 을, 병 사상가들의 입장을 (나) 그림으로 표현할 때, A ~ D에 해당하는 적절한 진술만을 <보기>에서 고른 것은? [3점]

(가)	갑: 국가의 보존과 범죄자의 보존은 양립할 수 없다. 살인을 저질러서 계약을 파기한 자는 스스로를 국가의 구성원이 아니라고 선언한 것이다. 을: 형벌은 어느 한쪽이 다른 한쪽보다 기울지 않는 동등성의 원리에 따른 것이다. 그러므로 살인에 대한 정당한 형벌은 사형 이외에는 없다. 병: 형벌은 타인의 범죄를 억제시키기에 충분한 정도의 강도만을 가져야 한다. 종신 노역형은 가장 완강한 자의 마음을 억제시킬 수 있는 엄격성을 지니고 있다.
(나)	

<보 기>  
 ㄱ. A: 국가가 살인자의 생명을 빼앗는 것은 정당화될 수 있다.  
 ㄴ. B: 형벌은 공적 정의를 실현하기 위해 가해지는 수단이다.  
 ㄷ. C: 공익 실현이라는 공리주의적 관점에서 사형은 유용하지 않다.  
 ㄹ. D: 위법 행위의 경중에 비례해서 형벌을 부과해야 한다.

- ① ㄱ, ㄴ      ② ㄱ, ㄷ      ③ ㄴ, ㄷ      ④ ㄴ, ㄹ      ⑤ ㄷ, ㄹ

20. 다음을 주장한 사상가의 입장으로 옳은 것만을 <보기>에서 고른 것은?

전통적인 윤리학은 '여기', '지금'과 관련된 것이며, 인간들 사이에 생겨나는 용무와 연관되어 있다. 그러나 새로운 윤리학은 행위의 ' 좋음'과 '나쁨'을 결정할 때, 인간적 삶의 전 지구적 조건과 종(種)의 미래, 실존을 고려해야 한다. 따라서 인간이 지향해야 할 새로운 명법은 "너의 행위의 효과가 인간 생명의 미래 가능성에 대해 파괴적이지 않도록 행위 하라."와 같다.

<보 기>  
 ㄱ. 다른 생명체에 대한 인간의 책임은 당위적이어야 한다.  
 ㄴ. 현재 세대와 미래 세대는 호혜적인 책임을 다해야 한다.  
 ㄷ. 인류 존속을 위해 인간은 자연에 예견적 책임을 져야 한다.  
 ㄹ. 이성을 지니지 않은 존재도 책임의 주체와 대상이 되어야 한다.

- ① ㄱ, ㄴ      ② ㄱ, ㄷ      ③ ㄴ, ㄷ      ④ ㄴ, ㄹ      ⑤ ㄷ, ㄹ

\* 확인 사항  
 ○ 답안지의 해당란에 필요한 내용을 정확히 기입(표기)했는지 확인 하시오.

제 4 교시

사회탐구 영역 (윤리와 사상)

성명	수험번호	3	제 [ ] 선택
----	------	---	----------

윤리와 사상

1. 그림의 강연자가 강조하는 삶의 태도로 가장 적절한 것은?

인간은 자기 스스로가 구상하는 무엇이며, 자기 스스로가 원하는 무엇일 뿐입니다. 인간은 우연히 이 세상에 내던져진 존재로서 먼저 세계 속에 실존한 다음 자기 스스로를 만들어가는 존재입니다. 이처럼 정해진 인간 본성이란 없습니다. 왜냐하면 인간 본성을 구상하는 신이 없기 때문입니다.



- ① 이성을 통해 보편적인 도덕 법칙을 인식하고 순응해야 한다.
- ② 정해진 삶의 본질이나 목적을 실현하기 위해 노력해야 한다.
- ③ 일상적이고 확실적인 삶의 방식에 익숙해지도록 힘써야 한다.
- ④ 자신의 삶을 주체적으로 선택하고 그 행위에 대해 책임져야 한다.
- ⑤ 인간의 유한성을 극복하기 위해 신에게 전적으로 의지해야 한다.

2. 중세 서양 사상가 갑, 을의 입장으로 옳은 것은? [3점]

갑: 인간은 자신의 자연적 능력의 한계를 초월하는 영원한 지복(至福)이라는 목적을 향해 질서 지어져 있다. 그런 만큼 자연법이나 인간법을 초월하여 신에 의하여 주어진 법에 따라서도 자신의 목적으로 향해질 필요가 있다.  
 을: 신은 이성적 인식을 넘어서 실존적으로 만나야 할 인격적 존재이며, 우리의 영혼에 내재하는 진리의 근원이다. 인간 정신은 신의 빛으로 실천적 진리를 알 수 있고, 많은 사람들은 보편적으로 존재하는 진리의 빛남에 감동한다.

- ① 갑: 이성에 의해서 인식 가능한 자연법은 영원법에 근거한다.
- ② 갑: 인간은 의지의 자유가 없으므로 신의 명령에 따라야 한다.
- ③ 을: 신은 선과 악을 포함하여 만물을 창조한 인격적 존재이다.
- ④ 을: 신에 대한 사랑을 통해 현세에서 완전한 행복이 실현된다.
- ⑤ 갑, 을: 신의 존재는 오직 계시를 통해서만 증명될 수 있다.

3. 한국 유교 사상가 갑, 을의 입장으로 옳은 것은? [3점]

갑: 사단(四端)과 칠정(七情)의 구분이 있는 것은 마치 성(性)에 본연지성과 기질지성의 분별이 있는 것과 같다. 성을 이(理)와 기(氣)로 나누어 말할 수 있다면, 어찌 유독 감정에 대해서만 이와 기로 나누어 말할 수 없겠는가.  
 을: 칠정과 사단이라는 감정은 둘로 나눌 수 있는 것이 아니다. 사단은 성에서 본연지성을 말한 것과 같고, 칠정은 이와 기를 합쳐서 말한 것과 같다. 기질지성은 실제로는 성이 기질 가운데 있는 것이니, 성을 둘로 나눈 것이 아니다.

- ① 갑: 이는 스스로 발(發)할 수 없지만 기는 발할 수 있다.
- ② 갑: 사단과 칠정은 모두 감정[情]이지만 그 연원이 각각 다르다.
- ③ 을: 사단은 순수한 이가 발하고 기가 따라서 발현된 성이다.
- ④ 을: 칠정은 기가 발하여 이가 탄 것으로서 순전한 감정이다.
- ⑤ 갑, 을: 사단은 칠정을 포함할 수 없지만 칠정은 사단을 포함한다.

4. 한국 불교 사상가 갑, 을의 입장으로 옳지 않은 것은?

갑: 대승(大乘)의 법에는 오직 일심(一心)만이 있으니 일심 밖에는 다른 법이 없다. 다만, 무명(無明)이 일심을 미혹하게 하여 모든 물결을 일으키니 여섯 갈래 길[六道]에 속하여 헤매게 됨을 밝히려 한 것이다.  
 을: 교(敎)를 배우는 사람은 대부분 안을 버리고 밖에서 구하려고만 하고, 반면에 선(禪)을 익히는 사람은 밖의 대상을 잊고 안으로만 파고들기를 좋아한다. 이는 모두 하나에 집착한 것으로 두 극단에 갇힌 것이다.

- ① 갑: 일체의 이원적 분별에서 벗어나 일심으로 돌아가야 한다.
- ② 갑: 계율이나 형식에 얽매이지 않는 무애행(無礙行)을 실천해야 한다.
- ③ 을: 교리와 경전에 의하지 않고 해탈의 경지를 추구해야 한다.
- ④ 을: 미혹에서 벗어나기 위해 교학과 참선 공부에 매진해야 한다.
- ⑤ 갑, 을: 깨달음을 위해 계(戒), 정(定), 혜(慧)를 수행해야 한다.


5. (가)의 고대 서양 사상가 갑, 을의 입장을 (나) 그림으로 표현할 때, A ~ C에 들어갈 적절한 진술만을 <보기>에서 고른 것은? [3점]

(가)	<p>갑: 생성되는 것이 아니면서 생성하는 것 그 자체인 것은 선의 이데아뿐이다. 그 생성되는 것이 본질을 갖게 되는 것도 선의 이데아에 의해서이다.                  을: 생성되는 모든 것은 오직 하나의 원리, 즉 목적을 향해 움직인다. 인간의 행위 역시 목적이 있는데, 그 궁극적인 목적은 모든 것 가운데 최고선인 행복이다.</p>
(나)	<div style="border: 1px solid black; padding: 5px; margin-top: 10px;">                     &lt;범례&gt;                      A: 갑만의 입장                      B: 갑, 을의 공통 입장                      C: 을만의 입장                 </div>

- <보 기>
- ㄱ. A: 감각을 통해 사물 각각의 본질을 파악할 수 있다.
  - ㄴ. B: 부도덕한 행위는 모두 선에 대한 무지에서 비롯된다.
  - ㄷ. B: 이성에 따라 욕구를 절제할 때 유덕한 사람이 될 수 있다.
  - ㄹ. C: 좋음[善] 자체는 현실 세계를 초월해서 존재할 수 없다.

- ① ㄱ, ㄴ    ② ㄱ, ㄷ    ③ ㄴ, ㄷ    ④ ㄴ, ㄹ    ⑤ ㄷ, ㄹ

6. (가)를 주장한 고대 동양 사상가의 입장에서 볼 때, (나)의 ㉠에 들어갈 진술로 가장 적절한 것은?

(가)	나라와 도읍이 서로 공격하여 정벌하지 않고, 사람과 집안이 서로 해치지 않는 것이 천하의 손해인가? 천하의 이익인가? 그것은 반드시 천하의 이익이라고 말할 것이다. 여러 가지 이익은 남을 미워하고 남을 해치는 데서 생겨나는가? 반드시 그렇지 않다고 말할 것이다. 천하의 이익은 서로 사랑하고[兼愛] 서로 이롭게[交利] 하는 데서 생겨난다.
(나)	<div style="border: 1px solid black; padding: 5px; margin-bottom: 10px;">                 통치자가 평화로운 세상을 실현하기 위해서 어떻게 해야 합니까?             </div>  <div style="border: 1px solid black; padding: 5px; margin-top: 10px; width: fit-content; margin-left: auto;">                 ㉠             </div>

- ① 백성의 현실적 이로움보다 국가의 정치적 명분을 중시해야 합니다.
- ② 천하의 혼란을 막기 위해 최소한의 침략 전쟁을 허용해야 합니다.
- ③ 통치의 근본인 예악(禮樂)을 세워 도덕성을 회복시켜야 합니다.
- ④ 문명의 이기(利器)를 없애 무위(無爲)의 삶을 살도록 해야 합니다.
- ⑤ 친소(親疏)를 구분하지 않고 모든 백성을 차별 없이 대해야 합니다.

7. (가)의 고대 서양 사상가 갑, 근대 서양 사상가 을의 입장에서 볼 때, (나)의 퍼즐 속 세로 낱말 (A)에 대한 설명으로 가장 적절한 것은? [3점]

(가)	갑: 모든 공동체는 어떤 선을 실현하기 위해 구성된다. 그 공동체 중에서도 으뜸가며, 다른 공동체를 모두 포괄하는 공동체가 분명 최고선을 가장 훌륭하게 추구할 것이다. 을: 사람들은 재산권 보장을 위해서 비교적 평화롭지만 불안정한 자연 상태에서 벗어나 법률의 구속을 받아들인다. 만약 정부가 국민의 의사에 반하는 방향으로 권력을 행사한다면 위임한 권리를 회수할 수 있다.																												
(나)	<table border="1" style="width: 100%; height: 100%; text-align: center;"> <tr><td style="background-color: #cccccc;"></td><td style="background-color: #cccccc;"></td><td style="background-color: #cccccc;"></td><td style="background-color: #cccccc;"></td><td style="background-color: #cccccc;"></td><td style="background-color: #cccccc;"></td><td style="background-color: #cccccc;"></td></tr> <tr><td style="background-color: #cccccc;"></td><td style="background-color: #cccccc;"></td><td style="background-color: #cccccc;"></td><td style="background-color: #cccccc;"></td><td>(A)</td><td style="background-color: #cccccc;"></td><td style="background-color: #cccccc;"></td></tr> <tr><td style="background-color: #cccccc;"></td><td>(B)</td><td style="background-color: #cccccc;"></td><td style="background-color: #cccccc;"></td><td style="background-color: #cccccc;"></td><td style="background-color: #cccccc;"></td><td style="background-color: #cccccc;"></td></tr> <tr><td style="background-color: #cccccc;"></td><td style="background-color: #cccccc;"></td><td style="background-color: #cccccc;"></td><td style="background-color: #cccccc;"></td><td style="background-color: #cccccc;"></td><td style="background-color: #cccccc;"></td><td style="background-color: #cccccc;"></td></tr> </table> <p>[가로 열쇠]                  (A): 나라와 나라 사이의 관계                  예) 대표적인 ○○기구에는 UN, WTO 등이 있음                  (B): 춘추 전국 시대의 모든 학자와 학파를 일컫는 말                  [세로 열쇠]                  (A): ..... 개념</p>												(A)				(B)												
				(A)																									
	(B)																												

- ① 갑: 지배 계급이 피지배 계급을 억압하기 위해 만든 수단이다.
- ② 갑: 합리적이고 이기적인 존재들 간의 합의에 의한 산물이다.
- ③ 을: 공공선을 해치는 사회계약 위반자에 대한 처벌권을 갖는다.
- ④ 을: 입법권과 집행권이 분립되지 않은 최고의 권력 기구이다.
- ⑤ 갑, 을: 인간의 정치적 본성에 따라 자연적으로 형성된 것이다.

8. 고대 동양 사상가 갑, 을의 입장으로 옳은 것만을 <보기>에서 고른 것은?

갑: 사람은 나면서부터 욕망이 있는데, 바라면서도 얻지 못하면 곧 추구하지 않을 수 없고, 추구함에 일정한 기준과 한계가 없다면 다투지 않을 수 없게 된다. 선왕(先王)은 그 다툼을 싫어한 까닭에 예(禮)를 제정해 구분을 지었다. 을: 백성들을 법령으로 이끌고 형벌로 규제하려고 하면 그들은 형벌을 피하고자 할 뿐 부끄러워하는 마음을 갖지 않는다. 반면에 덕으로 인도하고 예로써 가지런히 한다면 백성들은 부끄러워할 줄 알게 될 뿐만 아니라 바르게 된다.
--

— <보 기> —

ㄱ. 갑: 하늘이 부여한 도덕규범에 따라 욕망을 조절해야 한다. ㄴ. 갑: 인간의 타고난 본성을 확충하여 예를 실천해야 한다. ㄷ. 을: 인(仁)의 실현을 위해 사욕을 극복하고 예를 따라야 한다. ㄹ. 갑, 을: 통치자가 덕을 갖추고 백성을 교화(教化)해야 한다.
--

- ① ㄱ, ㄴ    ② ㄱ, ㄷ    ③ ㄴ, ㄷ    ④ ㄴ, ㄹ    ⑤ ㄷ, ㄹ

9. 다음을 주장한 근대 서양 사상가의 입장으로 옳은 것은? [3점]

신 이외에 그 자체로 존재할 수 있거나 자기 자신을 통해서만 이해될 수 있는 실체는 없다. 실체는 그 자체로 존재하고 자신을 통해서만 이해되는 것이다. 반면, 양태는 실체 없이 존재할 수도 이해될 수도 없다. 양태는 오직 신의 본성의 필연성에 의해 신 안에서만 존재할 수 있고, 신을 통해서만 이해될 수 있다.
---

- ① 초월적 원인인 신은 인식의 대상이 아닌 신앙의 대상이다.
- ② 자유는 필연에 대한 극복이 아니라 이해를 통해 실현된다.
- ③ 인간은 도덕규범을 지킴으로써 양태에서 실체로 변화한다.
- ④ 신은 자연의 인과법칙에 얽매이지 않는 자율적인 존재이다.
- ⑤ 참된 행복은 이성을 통해 모든 욕구를 제거함으로써 완성된다.

10. 고대 서양 사상가 갑, 을의 입장으로 옳은 것은?

갑: 올바름은 더 강한 자의 편익이지만, 올바르지 못함은 자기 자신을 위한 편익이다. 올바른 사람은 자신이 아닌 강한 자에게 편익이 되는 것을 행하지만, 올바르지 못한 사람은 자기 자신에게 편익이 되는 것을 행한다. 따라서 완벽하게 올바르지 못함이 완벽한 올바름보다 더 이득이 된다. 을: 올바름은 영혼의 훌륭한 상태이지만, 올바르지 못함은 영혼의 나쁜 상태이다. 영혼이 훌륭한 사람은 모든 일을 지혜롭고 유능하게 해낼 수 있지만, 영혼이 나쁜 사람은 아무것도 어우러져서 해낼 수 없다. 따라서 영혼의 훌륭한 상태인 올바름은 나쁜 상태인 올바르지 못함보다 더 이득이 된다.
---

- ① 갑: 올바름은 현실적 이익에 얽매이지 않는 보편적인 것이다.
- ② 갑: 강자가 자신의 몫을 약자를 위해 나누는 것이 올바름이다.
- ③ 을: 올바르지 못함은 전적으로 의지의 나약함에서 비롯된다.
- ④ 을: 참된 삶을 지닌 유덕한 사람은 행복한 삶에 이를 수 있다.
- ⑤ 갑, 을: 도덕 판단은 주관적인 것으로서 그 기준이 사람마다 다르다.

11. (가)의 고대 서양 사상가 갑, 을의 입장을 (나) 그림으로 탐구할 때, A ~ C에 들어갈 옳은 질문만을 <보기>에서 있는 대로 고른 것은? [3점]

(가)

갑: 우리에게 일어나는 모든 일은 아무것도 나쁘지 않다. 우연처럼 보이는 일도 신의 섭리, 즉 자연의 이법 [logos]을 따른 것으로 선하다. 당신은 이것을 원칙으로 삼아 자신의 삶에 만족하도록 하라.

을: 우리 삶의 모든 선택과 회피의 유일한 기준은 쾌락이다. 그런데 우리가 쾌락의 부재로 인해 고통을 느낄 때에는 쾌락을 필요로 하지만, 고통을 느끼지 않는다면 더 이상 쾌락을 필요로 하지 않는다.

(나)

갑, 을 사상가들의 입장을 탐구한다.

<보기>

ㄱ. A: 행복에 이르기 위해 이성적 사고가 필요한가?  
 ㄴ. B: 세계 시민으로서 공적인 삶에 참여해야 하는가?  
 ㄷ. B: 마음의 평온함을 위해 모든 감정을 제거해야 하는가?  
 ㄹ. C: 자연적이고 필수적인 욕구만을 최소한으로 충족해야 하는가?

① ㄱ, ㄴ      ② ㄴ, ㄷ      ③ ㄷ, ㄹ  
 ④ ㄱ, ㄴ, ㄹ      ⑤ ㄱ, ㄷ, ㄹ

12. 동양 사상가 갑, 을의 입장으로 옳은 것만을 <보기>에서 있는 대로 고른 것은? [3점]

갑: 여러 사물에 연(緣)해서 존재하는 것, 그것을 공(空)이라고 말한다. 공은 가명(假名)이며, 그 공이야말로 중도(中道)이다. 연하지 않고서 발생한 사물은 아무것도 없으니, 공이 아닌 사물은 아무것도 존재하지 않는다.

을: 외계(外界)의 대상은 존재하지 않으며, 의식 속에 나타난 여러 표상은 다만 식(識)일 뿐이다. 그것은 마치 사람 눈에 백태가 끼면 터럭이나 두 개의 달이 보이듯이, 실재하지 않는 대상이 허망하게 나타나 보이는 것과 같다.

<보기>

ㄱ. 갑: 공의 원리에 따라 참된 실체가 있음을 인식해야 한다.  
 ㄴ. 갑: 극단에 치우치지 말고 사물의 실상(實相)을 보아야 한다.  
 ㄷ. 을: 요가 수행을 통해 자기에게 집착하는 마음을 비워야 한다.  
 ㄹ. 갑, 을: 사물들은 자성(自性)이 없고 상호 의존하며 존재한다.

① ㄱ, ㄴ      ② ㄱ, ㄷ      ③ ㄷ, ㄹ  
 ④ ㄱ, ㄴ, ㄹ      ⑤ ㄴ, ㄷ, ㄹ

[13~14] 갑, 을은 근대 서양 사상가들이다. 물음에 답하시오.

갑: 이성은 오직 그것만으로는 의지에 따르는 그 어떤 행위의 동기가 될 수 있는 것이 아니다. 이성은 의지의 방향을 결정할 때 결코 정념과 상반될 수 없다.

을: 이성은 의지를 안전하게 이끌 수 있을 만큼 충분히 유용하지는 못하다. 그러함에도 이성의 참다운 사명은 그 자체로서 선한 의지를 낳는 것이어야만 한다.

13. 갑, 을의 입장에 대한 설명으로 옳은 것만을 <보기>에서 고른 것은?

<보기>

ㄱ. 갑은 인간의 공감 능력을 도덕성의 기초라고 본다.  
 ㄴ. 을은 의무에 부합하는 모든 행위를 도덕적이라고 본다.  
 ㄷ. 을은 실천 이성의 명령을 무조건적이고 보편적인 것으로 본다.  
 ㄹ. 갑, 을은 자연적 경향성에서 도덕적 당위가 도출된다고 본다.

- ① ㄱ, ㄴ    ② ㄱ, ㄷ    ③ ㄴ, ㄷ    ④ ㄴ, ㄹ    ⑤ ㄷ, ㄹ

14. 다음 근대 서양 사상가가 을에게 제기할 수 있는 비판으로 가장 적절한 것은?

우리가 우리 자신의 이익을 고려하든 다른 사람의 이익을 고려하든, 가능한 한 고통이 없고 또 질적으로나 양적으로 할 수 있는 한 최대한 즐거움을 만끽할 수 있는 그런 상태에 이르는 것이 우리의 궁극 목적이다. 나머지 모든 것은 이 궁극 목적에 비추어 그것에 도움이 될 때 바람직한 것이 된다.

- ① 행위의 동기가 도덕적 판단의 유일한 기준임을 간과한다.  
 ② 선의지의 지배를 받는 행동이 도덕적인 것임을 간과한다.  
 ③ 의무가 도덕 법칙에 대한 존경심에서 비롯됨을 간과한다.  
 ④ 도덕적 삶을 위해 쾌락과 고통에서 벗어나야 함을 간과한다.  
 ⑤ 도덕은 목적 자체가 아니라 행복을 위한 수단임을 간과한다.

15. 사회사상가 갑, 을의 입장으로 옳은 것만을 <보기>에서 고른 것은? [3점]

갑: 자유롭다는 것은 어느 누구도 내 활동에 간섭하지 않는다는 것을 뜻한다. 정치적 자유는 단지 한 사람이 타인의 방해를 받지 않고 행동할 수 있다는 것을 의미한다.

을: 자유는 다른 개인이나 기관들로부터 간섭을 받지 않는 것으로 그치는 것이 아니라, 그들에 의한 사적인 형태의 주종적 지배 자체가 존재하지 않는 상태를 의미한다.

<보기>

ㄱ. 갑: 타인에게 해악을 끼친 사람의 자유를 제한해야 한다.  
 ㄴ. 을: 권력자의 자의적 지배가 없는 사회를 지향해야 한다.  
 ㄷ. 을: 정치 참여는 시민의 의무가 아니라 개인의 선택이다.  
 ㄹ. 갑, 을: 공적인 법에 의한 간섭은 시민적 자유를 침해한다.

- ① ㄱ, ㄴ    ② ㄱ, ㄷ    ③ ㄴ, ㄷ    ④ ㄴ, ㄹ    ⑤ ㄷ, ㄹ



16. 다음을 주장한 고대 동양 사상가의 입장으로 옳은 것은?

이것도 저것이며, 저것도 이것이다. 저것은 저것의 시비가 있고 이것은 이것의 시비가 있다. 과연 이것과 저것의 구별이 있는가? 그렇지 않으면 이것과 저것의 구별은 없는가? 이것과 저것의 상호 대립이 되지 않는 것이 도(道)의 축[樞]이다. 지인(至人)은 시비를 따지지 않고 자연의 조화 속에서 노닌다.

- ① 연기(緣起)를 깨달아 윤회의 고통에서 벗어나야 한다.
- ② 좌망(坐忘)을 통해 선과 악을 명확하게 구분해야 한다.
- ③ 외물(外物)의 속박에서 벗어나 정신적 자유를 추구해야 한다.
- ④ 인의(仁義)의 덕을 실현하기 위해 선한 본성을 확충해야 한다.
- ⑤ 오감(五感)에 의한 지식으로 제물(齊物)의 경지에 이르러야 한다.

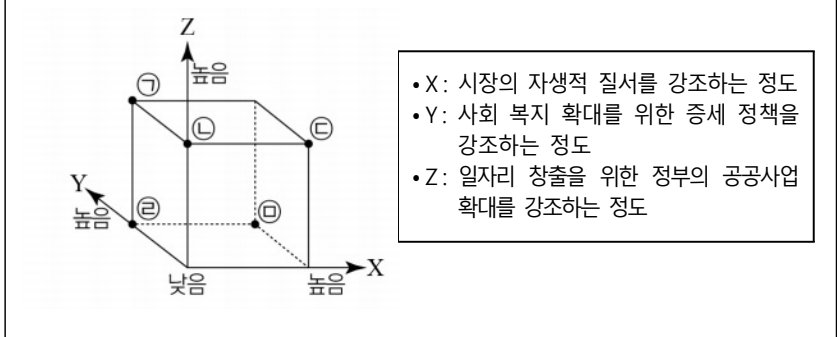
17. 중국 사상가 갑, 을의 입장으로 옳지 않은 것은?

갑: 효(孝), 충(忠), 신(信), 인(仁)은 모두 각자의 마음에 있을 뿐이니 마음[心]이 곧 이치[理]이다. 사리사욕에 어두워지지 않는 마음이 곧 천리이니, 마음 밖에서 조금이라도 보탬 필요가 없다.  
 을: 인(仁)으로써 사랑하고, 의(義)로써 미워하고, 예(禮)로써 사양하고, 지(智)로써 아는 것이 마음이며, 성(性)은 마음의 이치이다. 천지 사이의 이치는 사물이 생길 때 성이 되는데, 인의예지가 바로 그것이다.

- ① 갑: 내 마음의 양지(良知)를 발휘해 각각의 사물에 실현해야 한다.
- ② 갑: 지극한 앎에 이르기 위해 개별 사물의 이치를 탐구해야 한다.
- ③ 을: 경건한 자세를 유지하여 탁한 기질을 변화시켜야 한다.
- ④ 을: 앎과 행함은 서로 의지하는 것으로써 함께 나아가야 한다.
- ⑤ 갑, 을: 성인이 되기 위해 천리를 보존하고 인욕을 제거해야 한다.

18. 갑, 을은 사회사상가들이다. 갑의 입장에 비해 을의 입장이 갖는 상대적 특징을 그림의 ㉠~㉥ 중에서 고른 것은? [3점]

갑: 불황을 극복하기 위한 정부의 역할은 시장이 최대한 효율적으로 작동하고 경쟁이 유효하도록 하는 일에 머물러야 한다. 국가 주도의 경제적 통제는 자유 시장 경제 질서를 억압하고, 우리를 노예의 길로 이끈다.  
 을: 불황의 원인은 유효 수요 부족에서 기인한다. 정부는 실질 소득과 부를 늘리기 위해 이자율을 조정하는 정책과 국내의 고용을 최적의 수준으로 유지할 수 있도록 모든 형태의 타협을 도모하고 제도적 장치를 동원해야 한다.



- ① ㉠      ② ㉡      ③ ㉢      ④ ㉣      ⑤ ㉤

19. 그림은 서술형 평가 문제와 학생 답안이다. 학생 답안의 ㉠~㉥ 중 옳지 않은 것은?

**서술형 평가**

◎ 문제: 근대 한국 사상가 갑, 을의 입장을 비교하여 서술하십시오.

갑: 서양인은 형이하(形而下)에 밝아 그 기(器)가 천하에 대적할 자가 없고, 동양인은 형이상(形而上)에 밝아 그 도(道)가 천하에 우뚝하니, 이처럼 도와 기는 서로 맞닿아 있다.  
 을: 서학에는 한울님의 가르침이 없으니, 형식은 있으나 자취가 없고, 도(道)는 허무에 가깝다. 내 안에 한울님의 성품을 지니고 기운을 바로잡으면 자연스럽게 조화가 이루어진다.

◎ 학생 답안  
 갑, 을의 입장을 비교하면, 갑은 ㉠ 정덕(正德)과 이용후생(利用厚生)의 조화를 강조하였으며, ㉡ 서양의 과학 기술과 종교에 대해 개방적인 자세를 취하였다. 을은 ㉢ 시천주(侍天主)를 바탕으로 인간의 존엄성을 중시하였고, ㉣ 신분 차별이 사라진 평등한 세상을 실현하고자 하였다. 한편 갑, 을은 모두 ㉤ 참된 도(道)를 실현하기 위해 성(誠)과 경(敬)을 중시하였다.

- ① ㉠      ② ㉡      ③ ㉢      ④ ㉣      ⑤ ㉤

20. (가), (나) 사회사상 중 적어도 한 사상의 입장에서 긍정의 대답을 할 질문만을 <보기>에서 있는 대로 고른 것은? [3점]

(가) 공산주의 국가들은 권위주의 체제일 뿐이며, 진정한 사회주의는 민주주의 없이 실현될 수 없다. 사회주의는 자본주의를 사적 이윤보다 공공의 이익을 우선하는 제도로 대체하기 위해 생산의 계획화와 민주적 관리를 필요로 한다.  
 (나) 봉건 사회의 몰락으로 생겨난 현대 부르주아 사회에서도 계급적 모순이 폐지되지 못한 채, 두 계급인 부르주아와 프롤레타리아로 더욱 분열되고 있다. 이제 우리는 계급 투쟁을 통해 낡은 생산 관계를 폭력적으로 청산해야 한다.

— <보 기> —

㉠. 일부 생산 수단의 사적인 소유는 허용될 수 있는가?  
 ㉡. 국가와 계급은 역사적인 필연성에 따라 소멸되는가?  
 ㉢. 자유로운 의회 활동에 기반한 점진적 개혁을 추구하는가?  
 ㉣. 모든 재화가 능력에 따라 분배되는 사회를 지향하는가?

- ① ㉠, ㉡      ② ㉠, ㉢      ③ ㉢, ㉣
- ④ ㉠, ㉡, ㉢      ⑤ ㉡, ㉢, ㉣

\* 확인 사항  
 ○ 답안지의 해당란에 필요한 내용을 정확히 기입(표기)했는지 확인하십시오.

제 4 교시

사회탐구 영역 (한국지리)

성명	수험번호	3	제 [ ] 선택
----	------	---	----------

1. 다음 자료는 우리나라 두 섬을 표현한 고지도와 지리 정보를 나타낸 것이다. (가), (나) 섬에 대한 옳은 설명만을 <보기>에서 고른 것은?

섬 구분	(가)	(나)
고지도		
위치 정보	126°31'E 33°29'N	130°54'E 37°29'N
면적	약 1,849.2km <sup>2</sup>	약 72.9km <sup>2</sup>

\* 위치 정보는 섬 지역 내 주요 지점의 경위도 좌표임.

<보 기>  
 ㄱ. (가)는 행정 구역상 경상북도에 속한다.  
 ㄴ. (나) 고지도의 A 하천은 북에서 남으로 흐른다.  
 ㄷ. (가)는 (나)보다 연평균 기온이 높다.  
 ㄹ. (나)는 (가)보다 일출 시각이 늦다.

- ① ㄱ, ㄴ    ② ㄱ, ㄷ    ③ ㄴ, ㄷ    ④ ㄴ, ㄹ    ⑤ ㄷ, ㄹ

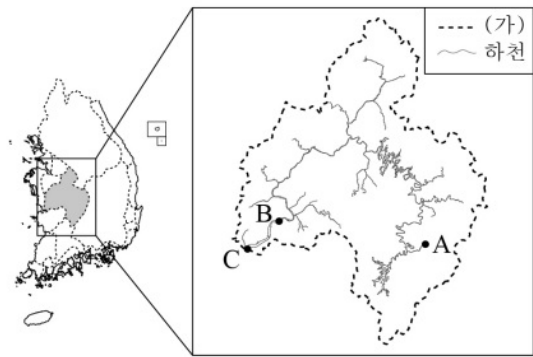
2. (가), (나) 지역을 지도의 A~D에서 고른 것은? [3점]

(가)	(나)
<ul style="list-style-type: none"> <li>○ 서울의 위성 도시</li> <li>○ 1기 신도시 분당과 2기 신도시 판교 입지</li> <li>○ 경강선과 연결되는 월관선 2025년 개통 예정</li> <li>○ 정보 통신 기업과 연구소가 입지한 첨단 연구 개발 단지 '판교 테크노밸리' 조성</li> </ul>	<ul style="list-style-type: none"> <li>○ 충청북도 도청 소재지</li> <li>○ 도농 통합시 출범으로 광역 생활권 형성</li> <li>○ 호남 고속 철도와 경부 고속 철도의 분기점</li> <li>○ 국내 최초로 정부 주도형 바이오 메디컬 허브 '오송 생명 과학 단지' 조성</li> </ul>



- |   |     |     |
|---|-----|-----|
|   | (가) | (나) |
| ① | A   | B   |
| ② | A   | D   |
| ③ | B   | D   |
| ④ | C   | B   |
| ⑤ | C   | D   |

3. 지도는 우리나라 주요 하천 유역과 금강 하계망을 나타낸 것이다. 이에 대한 옳은 설명만을 <보기>에서 고른 것은? [3점]



<보 기>  
 ㄱ. (가)는 분수계이다.  
 ㄴ. A는 B보다 하상의 평균 경사도가 크다.  
 ㄷ. B는 A보다 퇴적물의 평균 입자 크기가 크다.  
 ㄹ. C에는 삼각주가 형성되어 있다.

- ① ㄱ, ㄴ    ② ㄱ, ㄷ    ③ ㄴ, ㄷ    ④ ㄴ, ㄹ    ⑤ ㄷ, ㄹ

4. 다음은 기후와 관련된 고문헌 내용의 일부이다. 이에 대한 옳은 설명만을 <보기>에서 고른 것은?

- 임금이 대신에게 이르기를, “겨울에는 추워야 마땅한데 일기가 따뜻하고, 눈이 와야 마땅한데 눈이 오지 아니하니, 이는 심히 상스럽지 못하다.” 하니, 병조 판서 조말생이 아뢰기를, “겨울에 춥지 아니하면 반드시 ㉠ 봄 추위가 있고, 보리와 밀은 무성할 것입니다.” 하였다.  
- 『세종실록』 -
- 인종 18년에 ㉡ 간풍(셋바람)이 5일이나 불어 백곡과 초목이 과반이나 말라 죽었고, 지렁이가 길 한가운데 나와 죽어 있는 것이 한줌가량 되었다.  
- 『고려사』 -
- “성주 지방은 6월 8일부터 13일까지 ㉢ 비가 내려 홍수가 났으며, 김해 지방은 6월 5일부터 11일까지 비가 내려 가옥 88채가 물에 잠겨 쓰러졌는데 ... ”  
- 『중종실록』 -

<보 기>  
 ㄱ. ㉠은 남고북저형 기압 배치가 우세할 때 주로 나타난다.  
 ㄴ. ㉡이 지속될 때 영서 지방에는 가뭄이 발생한다.  
 ㄷ. ㉢은 대류성 강수에 해당된다.  
 ㄹ. ㉢이 내리는 시기는 ㉠이 나타나는 시기보다 기온의 일교차가 작다.

- ① ㄱ, ㄴ    ② ㄱ, ㄷ    ③ ㄴ, ㄷ    ④ ㄴ, ㄹ    ⑤ ㄷ, ㄹ

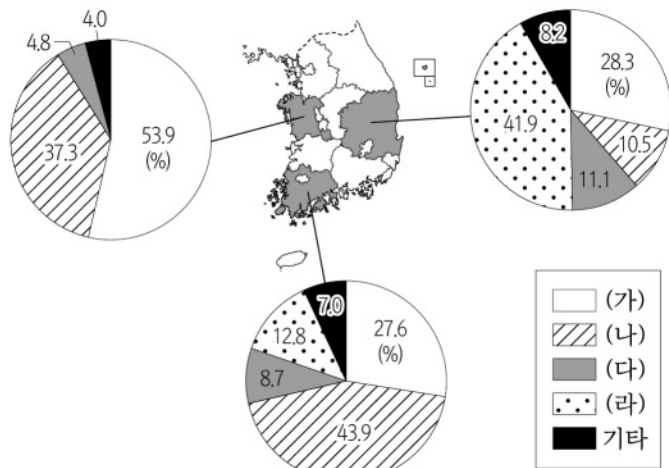
5. 표는 세 지역의 인구 현황을 나타낸 것이다. (가)~(다) 지역으로 옳은 것은?

지역	총인구(명)	유소년 부양비	노년 인구 비율(%)	외국인 근로자 비율(%)
(가)	338,136	28.12	8.95	0.63
(나)	714,650	14.23	9.73	3.54
(다)	65,175	17.02	31.32	1.29

(2019) (통계청)

- |   |     |     |     |   |     |     |     |
|---|-----|-----|-----|---|-----|-----|-----|
|   | (가) | (나) | (다) |   | (가) | (나) | (다) |
| ① | 세종  | 안산  | 해남  | ② | 세종  | 해남  | 안산  |
| ③ | 안산  | 세종  | 해남  | ④ | 안산  | 해남  | 세종  |
| ⑤ | 해남  | 세종  | 안산  |   |     |     |     |

6. 다음 자료는 세 지역의 1차 에너지원별 공급량 비중을 나타낸 것이다. (가)~(라)에 대한 설명으로 옳은 것은? (단, (가)~(라)는 각각 석유, 석탄, 원자력, 천연가스 중 하나임.) [3점]



\* 기타는 수력과 신·재생 에너지를 포함함. (2018) (통계청)

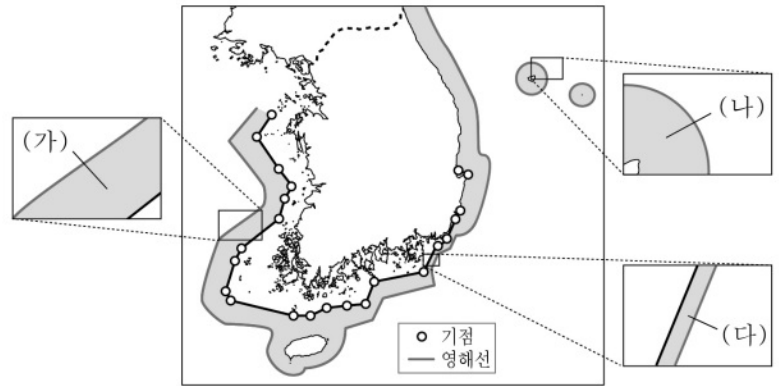
- (가)는 주로 수송용 연료 및 화학 공업의 원료로 이용된다.
- (나)는 냉동 액화 기술의 발달로 사용량이 증가하였다.
- (라)는 우리나라 1차 에너지 소비 구조에서 차지하는 비중이 가장 높다.
- (나)는 (라)보다 상용화된 시기가 늦다.
- (다)는 (가)보다 연소 시 대기 오염 물질 배출량이 적다.

7. 다음 글의 ㉠~㉤에 대한 설명으로 옳지 않은 것은? [3점]

한반도는 중생대에 여러 차례 지각 운동을 겪었다. 초기에는 ㉠ 송림 변동, 중기에는 ㉡ 대보 조산 운동, 말기에는 불국사 변동이 일어나 지형 형성과 변화에 커다란 영향을 주었다. 신생대에 ㉢ 경동성 요곡 운동이 일어나 ㉣ 태백산맥, 함경산맥 등이 형성되었고, 제4기의 ㉤ 후빙기 해수면 상승에 따라 해안선이 변화되었다.

- ㉠으로 인해 중국 방향의 지질 구조선이 형성되었다.
- ㉡의 영향으로 화강암이 관입되었다.
- ㉢은 감입 곡류 하천 형성에 영향을 주었다.
- ㉣은 해발고도가 높고 연속성이 강한 1차 산맥이다.
- ㉤에 의해 서해안의 리아스 해안이 형성되었다.

8. 지도는 우리나라의 영해를 나타낸 것이다. (가)~(다)에 대한 설명으로 옳은 것은? (단, 모든 행위는 국가 간 사전 허가가 없었음을 전제로 함.) [3점]



- (가)에서는 외국 군함의 운항이 가능하다.
- (나)에서는 중국의 어선이 조업할 수 있다.
- (다)는 기선으로부터 12해리까지의 수역이다.
- (가)는 직선 기선, (나)는 통상 기선이 적용된다.
- (가)~(다)는 만조 시 해안선을 기준으로 설정한다.

9. 다음은 도시 단원에 대한 수업 장면이다. 교사의 질문에 대해 옳게 답변한 학생을 고른 것은?

(가) ○○시 동구는 침체된 원도심의 활성화 방안으로 역사 문화적 자원을 활용하는 골목 재생 사업, 노후 기반 시설 정비 등을 추진하여 지역 경제 회복을 위해 노력하고 있다.

(나) ◇◇시의 □□ 마을은 주거 시설의 노후화를 해결하기 위한 전면 재개발이 진행되면서 낡은 주택들이 고층 아파트 단지로 변화하였다.

(가)와 비교한 (나) 도시 재개발 방식의 상대적 특징을 발표해 보세요.

갑

기존 건물의 활용도가 높아요.

을

원거주민의 재정착률이 높아요.

병

투입 자본의 규모가 커요.

정

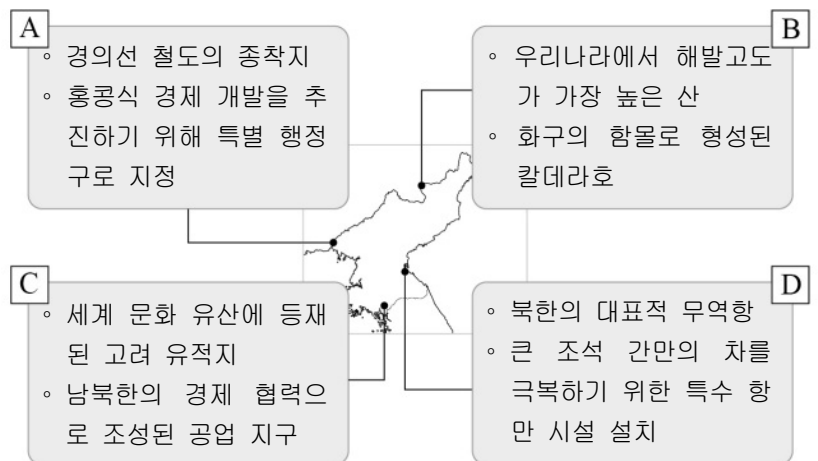
지역 공동체 유지 가능성이 높아요.

무

토지 이용의 효율성이 낮아요.

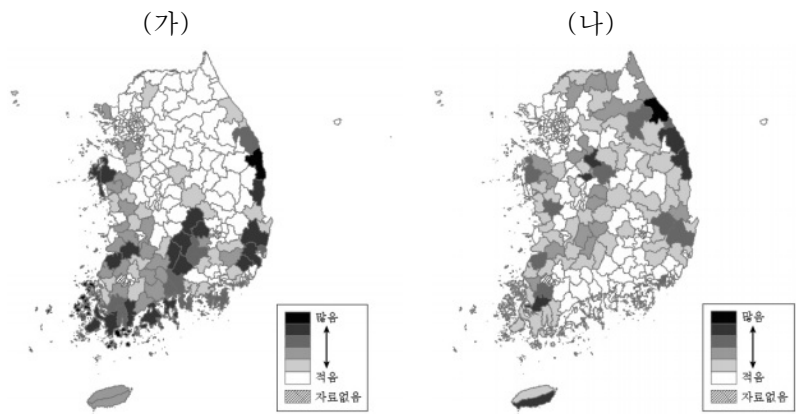
- 갑
- 을
- 병
- 정
- 무

10. 지도의 A~D 지역에 대한 옳은 설명만을 있는 대로 고른 것은? [3점]



- A, B
- A, C
- B, D
- A, B, C
- A, C, D

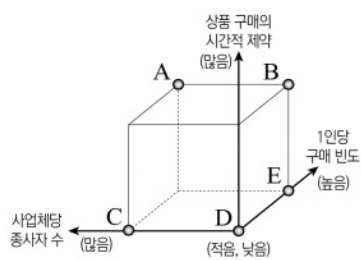
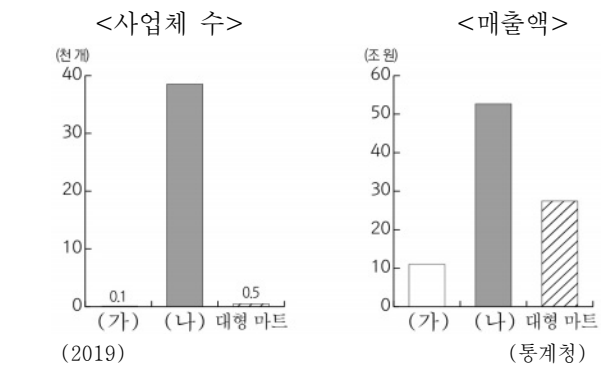
11. 지도는 두 자연재해의 지역별 피해액을 나타낸 것이다. (가), (나)에 대한 설명으로 옳은 것은? (단, (가), (나)는 각각 대설, 태풍 중 하나임.)



\* 2010 ~ 2019년 시군구별 총 피해액 합계이고 피해액은 2019년 환산가격 기준임. (국민재난안전포털)

- ① (가)의 피해를 줄이기 위해 신속한 제설 작업이 필요하다.
- ② (나)는 열대 해상에서 발생해 우리나라에 영향을 준다.
- ③ (가)는 (나)보다 해일 피해를 유발하는 경우가 많다.
- ④ (나)는 (가)보다 농경지와 가옥에 침수 피해가 크다.
- ⑤ (가)는 겨울철, (나)는 여름철에 주로 피해를 준다.

12. 소매업체 (가)와 비교한 (나)의 상대적 특성을 그림의 A ~ E에서 고른 것은? (단, (가), (나)는 각각 무점포 소매업, 백화점 중 하나임.)



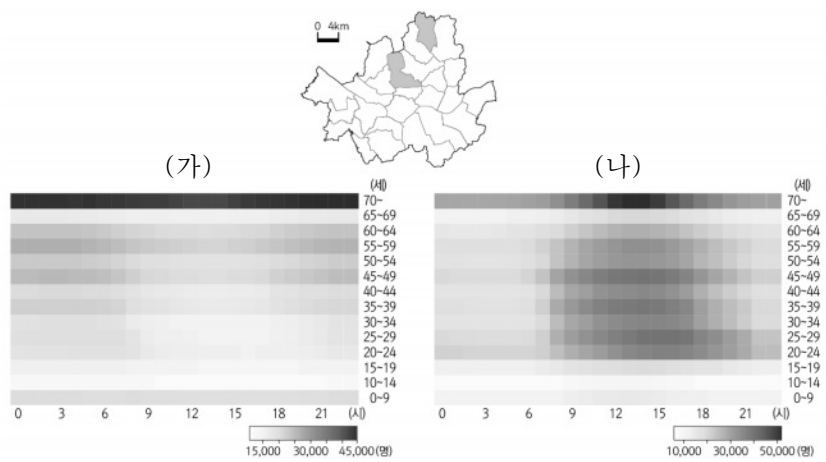
- ① A
- ② B
- ③ C
- ④ D
- ⑤ E

13. A ~ C 암석과 관련된 설명으로 옳지 않은 것은? [3점]

암석 구분	A	B	C
암석과 관련된 경관			
	북한산 백운대와 인수봉	서귀포 주상 절리	단양 고수 동굴

- ① A는 화산 활동으로 인한 용암 분출로 형성된다.
- ② B는 다공질의 암석으로 배수가 양호하다.
- ③ C는 시멘트 공업의 주원료로 이용된다.
- ④ C의 분포 지역은 주로 밭으로 이용된다.
- ⑤ B의 풍화토는 흑갈색, C의 풍화토는 붉은색을 주로 띤다.

14. 그래프는 지도에 표시된 서울시 두 구(區)의 생활 인구를 나타낸 것이다. (가)와 비교한 (나) 구(區)의 상대적 특성으로 옳은 것은?



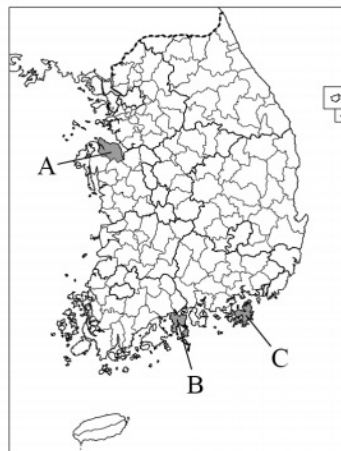
\* 생활 인구: 특정 시점에 특정 지역에 존재하는 모든 인구를 의미함. (2019) (서울시)

- ① 주간 인구 지수가 낮다.
- ② 초등학교 학급 수가 적다.
- ③ 통근·통학 순 유입 인구가 적다.
- ④ 지대 지불 능력이 낮은 기능이 입지한다.
- ⑤ 생산자 서비스업 사업체 수의 비중이 낮다.

15. 표는 세 지역의 주요 제조업 출하액 비율을 나타낸 것이다. (가) ~ (다)에 해당하는 지역을 지도의 A ~ C에서 고른 것은?

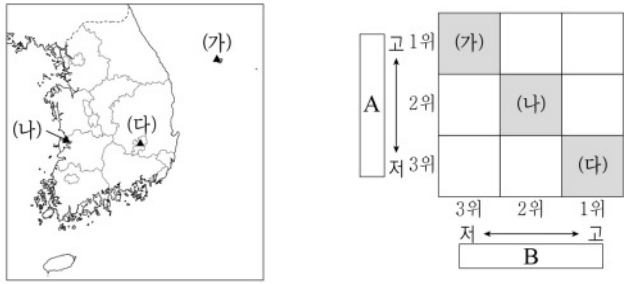
순위	(가)		(나)		(다)	
	부문	비율 (%)	부문	비율 (%)	부문	비율 (%)
1	기타 운송 장비	96.8	화학 물질 및 화학 제품	51.0	1차 금속	66.9
2	금속 가공 제품	1.8	코크스·연탄 및 석유정제품	46.4	금속 가공 제품	9.0
3	식료품	0.6	1차 금속	0.6	자동차 및 트레일러	5.2

\* 종사자 규모 10인 이상 사업체를 대상으로 하며, 지역 내 출하액 상위 3개 제조업만 나타냄. \*\* 금속 가공 제품은 기계 및 가구 제외, 화학 물질 및 화학 제품은 의약품 제외함. (2019) (통계청)




- |   |     |     |     |
|---|-----|-----|-----|
|   | (가) | (나) | (다) |
| ① | A   | B   | C   |
| ② | A   | C   | B   |
| ③ | B   | A   | C   |
| ④ | C   | A   | B   |
| ⑤ | C   | B   | A   |

16. 지도에 표시된 (가) ~ (다) 지역의 상대적 기후 특성이 그림과 같이 나타날 때, A, B에 해당하는 기후 지표로 옳은 것은? [3점]



- A B
- ① 기온의 연교차 연 강수량
  - ② 기온의 연교차 최난월 평균 기온
  - ③ 겨울 강수량 연 강수량
  - ④ 겨울 강수량 최난월 평균 기온
  - ⑤ 최난월 평균 기온 기온의 연교차

17. 지도의 A~D에 대한 옳은 설명만을 <보기>에서 고른 것은? (단, A~D는 각각 간척지, 갯벌, 사빈, 해식에 중 하나임.)

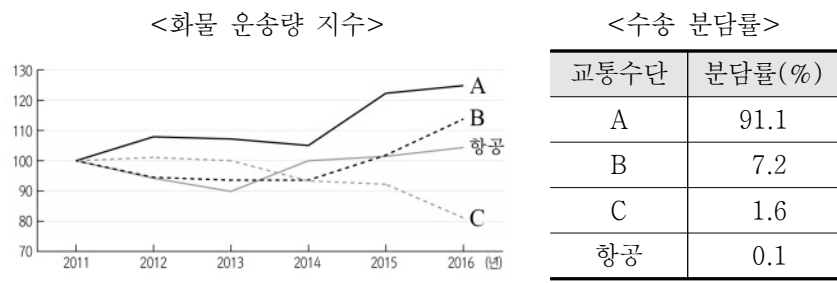


<보기>

- ㄱ. A는 조차가 큰 해안에서 잘 발달된다.
- ㄴ. B는 하천의 퇴적 지형에 조성된 농경지이다.
- ㄷ. D는 파랑 에너지가 집중되는 곳에서 잘 발달한다.
- ㄹ. A는 C보다 퇴적물의 평균 입자 크기가 크다.

- ① ㄱ, ㄴ    ② ㄱ, ㄷ    ③ ㄴ, ㄷ    ④ ㄴ, ㄹ    ⑤ ㄷ, ㄹ

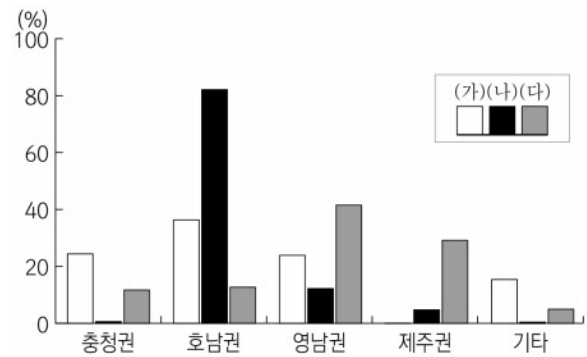
18. 자료는 교통수단별 국내 화물 수송 현황을 나타낸 것이다. A~C에 대한 설명으로 옳은 것은? (단, A~C는 각각 도로, 철도, 해운 중 하나임.) [3점]



\* 화물 운송량 지수는 2011년 교통수단별 화물 운송량을 100으로 했을 때, 해당 연도의 상대값임. (통계청)    \* 톤 기준임. (2016)

- ① A는 정시성이 가장 우수하다.
- ② A는 B보다 기종점 비용이 높다.
- ③ B는 C보다 평균 수송 거리가 짧다.
- ④ C는 A보다 문전 연결성이 높다.
- ⑤ C는 B보다 기상 조건의 제약을 적게 받는다.

19. 그래프는 (가) ~ (다) 작물 생산량의 권역별 비중을 나타낸 것이다. 이에 대한 옳은 설명만을 <보기>에서 고른 것은? (단, (가) ~ (다)는 각각 과실, 맥류, 쌀 중 하나임.) [3점]



\* (가)~(다) 작물 각각 전국 생산량에 대한 권역별 비중을 나타낸 것임. (2019) (통계청)

<보기>

- ㄱ. (가)는 식생활 변화로 1인당 소비량이 감소하고 있다.
- ㄴ. (나)는 우리나라에서 재배 면적이 가장 넓다.
- ㄷ. (가)는 (다)보다 영농의 기계화 수준이 높다.
- ㄹ. (나)는 (다)의 그루같이 작물로 재배되고 있다.

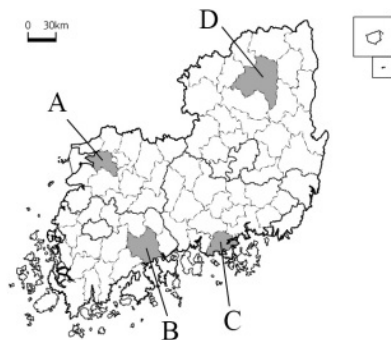
- ① ㄱ, ㄴ    ② ㄱ, ㄷ    ③ ㄴ, ㄷ    ④ ㄴ, ㄹ    ⑤ ㄷ, ㄹ

20. 다음 자료는 두 지역의 대표적인 축제를 나타낸 것이다. (가), (나)에 해당하는 지역을 지도의 A~D에서 고른 것은?



(가) 가을에 펼쳐지는 황금빛 갈대물결과 수많은 철새를 만날 수 있는 대표 생태 관광지

(나) 탈놀이를 통해 희로애락이 담긴 서민들의 삶을 체험할 수 있는 국제 페스티벌



- (가) (나)
- ① A B
  - ② B C
  - ③ B D
  - ④ C A
  - ⑤ C D

\* 확인 사항  
○ 답안지의 해당란에 필요한 내용을 정확히 기입(표기)했는지 확인하시오.

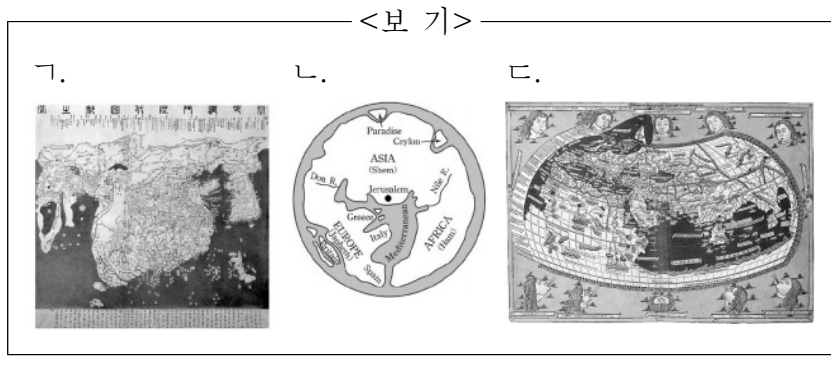
제 4 교시

사회탐구 영역 (세계지리)

성명	수험번호	3	제 [ ] 선택
----	------	---	----------

1. (가) ~ (다)에 해당하는 지도를 <보기>에서 고른 것은?

- (가) 세계를 원형으로 표현하였고, 중세 유럽인의 크리스토퍼 콜럼버스 세계관을 반영하여 지도의 중심에 예루살렘을 두었다. 에덴동산이 표현된 지도의 위쪽이 동쪽이다.
- (나) 중국 중심의 세계관을 반영하여 지도의 중심에 중국을 두었다. 상대적으로 크게 그려진 조선뿐만 아니라 인도, 아라비아반도, 아프리카, 유럽까지 표현되어 있다.
- (다) 유럽에서 서남아시아 지역까지는 비교적 자세하게 묘사되어 있으나 동남아시아로 갈수록 왜곡이 심하다. 지구를 구체(球體)로 인식하고 경위선망을 설정하였다.



- |   |     |     |     |   |     |     |     |
|---|-----|-----|-----|---|-----|-----|-----|
|   | (가) | (나) | (다) |   | (가) | (나) | (다) |
| ① | ㄱ   | ㄴ   | ㄷ   | ② | ㄱ   | ㄷ   | ㄴ   |
| ③ | ㄴ   | ㄱ   | ㄷ   | ④ | ㄴ   | ㄷ   | ㄱ   |
| ⑤ | ㄷ   | ㄱ   | ㄴ   |   |     |     |     |

2. 다음은 여행기 발표 수업 내용이다. ㉠ ~ ㉢에 대한 설명으로 옳은 것만을 <보기>에서 고른 것은?

이곳은 석회 동굴과 ㉠ 바다 위에 떠 있는 수많은 탑 모양의 섬들이 어우러져 절경을 이루고 있는 할롱 베이야.

이곳은 해안 절벽과 '12사도 바위'라 불리는 ㉡ 바위 기둥들이 높게 솟아 있는 모습이 매우 아름다워 보였어.

이곳은 '물의 도시' 베네치아인데 ㉢ 산주에 의해 ㉡ 만의 입구가 막혀 형성된 호수에 세워졌다는 점이 인상적이었어.

- <보기>
- ㉠. ㉡는 기반암이 차별적인 용식 작용을 받아 형성되었다.
  - ㉡. ㉢은 파랑의 침식 작용으로 육지와 분리되었다.
  - ㉢. ㉡는 조류에 의한 퇴적 작용으로 발달한다.
  - ㉣. ㉢의 면적은 시간이 지날수록 점차 확대된다.

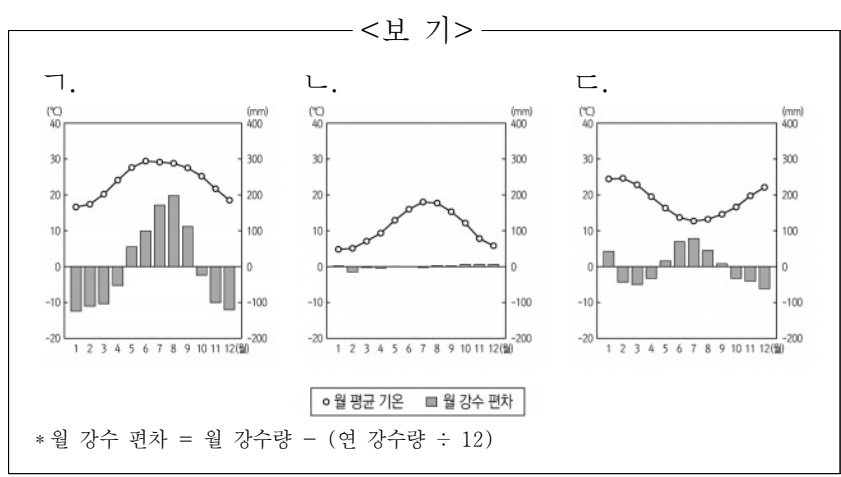
- ① ㄱ, ㄴ    ② ㄱ, ㄷ    ③ ㄴ, ㄷ    ④ ㄴ, ㄷ, ㄴ    ⑤ ㄷ, ㄴ

3. 다음은 다큐멘터리 촬영 계획의 일부이다. (가) ~ (다) 지역의 기후 그래프를 <보기>에서 고른 것은? [3점]

<세계의 기후와 주민 생활>

- 기획 의도: 기후에 적응한 세계의 다양한 농업 소개
- 촬영 기간: △△년 ○월 ~ □월
- 촬영 내용

지역	(가)	(나)	(다)
장면	하천 주변의 총적지에서는 벼를 재배하고, 경사지에서는 차(茶)를 재배하는 모습	겨울철에는 곡물을 재배하고, 여름철에는 올리브, 포도 등을 재배하는 모습	소·돼지 등의 가축을 사육하고 식량 작물과 사료 작물을 함께 재배하는 모습



- |   |     |     |     |   |     |     |     |
|---|-----|-----|-----|---|-----|-----|-----|
|   | (가) | (나) | (다) |   | (가) | (나) | (다) |
| ① | ㄱ   | ㄴ   | ㄷ   | ② | ㄱ   | ㄷ   | ㄴ   |
| ③ | ㄴ   | ㄱ   | ㄷ   | ④ | ㄴ   | ㄷ   | ㄱ   |
| ⑤ | ㄷ   | ㄱ   | ㄴ   |   |     |     |     |

4. 다음은 건조 아시아와 북부 아프리카에 대한 사이버 학습 화면의 일부이다. 답글 ㉠ ~ ㉢ 중 옳은 내용만을 고른 것은? [3점]

사이버 학습

※ (가), (나) 화석 에너지의 특징에 대해 답글을 달아 보세요.

\* 각 에너지 자원의 해당 지역 내 생산량 상위 5개국만을 나타냄.  
\*\* 수치는 각 에너지 자원 생산량 상위 5개국의 총 생산량에서 해당 국가의 생산량이 차지하는 비율임. (BP) (2018)

답글(4)

- ㉠ (가)는 주로 제철 공업과 발전용 연료로 많이 이용됩니다. ㉠
- ㉡ (가)는 (나)보다 연소 시 대기 오염 물질 배출량이 적습니다. ㉡
- ㉢ (나)는 (가)보다 상용화된 시기가 이릅니다. ㉢
- ㉣ (가)는 고기 조산대, (나)는 신기 조산대 주변에 매장되어 있습니다. ㉣

- ① ㉠, ㉡    ② ㉠, ㉢    ③ ㉡, ㉢    ④ ㉡, ㉣    ⑤ ㉢, ㉣

세계지리

5. 다음 글의 (가), (나)에 대한 설명으로 옳은 것만을 <보기>에서 고른 것은?

- △△ 기상 기구는 □(가) 파괴 물질의 사용을 규제하는 국제적 노력을 통해 2060년쯤 태양의 유해 자외선으로부터 생물체들을 보호하는 □(가)이 1980년 이전 수준으로 회복될 것으로 진단했다.
- ○○ 기후 연구팀은 □(나) (으)로 인해 해수면이 상승하면서 전 세계 주요 해안 도시가 침수되기 때문에 2050년쯤에는 세계 인구의 55%가 거주하는 지역에서의 생활이 어려워질 것으로 예측했다.

<보 기>


ㄱ. (가)가 파괴되면 토양과 호수의 산성화가 가속화된다.  
 ㄴ. (가)를 보호하기 위해 몬트리올 의정서가 체결되었다.  
 ㄷ. (나)가 심화되면 고산 식물의 분포 한계 고도가 낮아진다.  
 ㄹ. (나)는 화석연료의 과도한 사용이 주요 원인 중 하나이다.

- ① ㄱ, ㄴ    ② ㄱ, ㄷ    ③ ㄴ, ㄷ    ④ ㄴ, ㄹ    ⑤ ㄷ, ㄹ


6. 다음은 학생이 정리한 노트의 일부이다. ㉠~㉢에 대한 설명으로 옳은 것만을 <보기>에서 고른 것은?

<건조 기후와 지형>


1. ㉠ 건조 기후 지역에서는 어떤 지형이 만들어질까?



㉡ 버섯바위




㉢ 와디



사구

2. 사막은 어떻게 만들어질까?

- 한류의 영향을 받아 형성된 사막



㉠

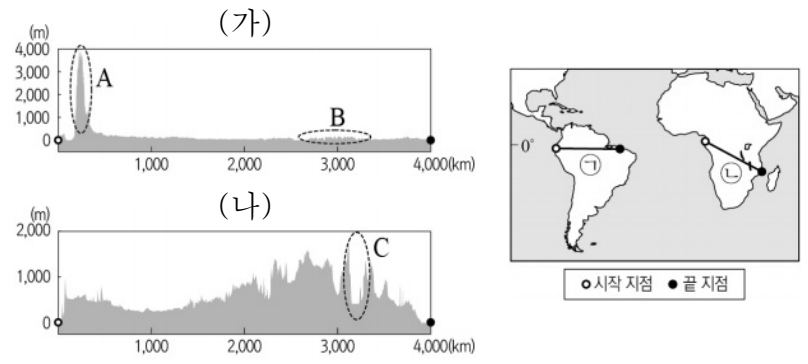


<보 기>

ㄱ. ㉠은 물리적 풍화 작용보다 화학적 풍화 작용이 활발하다.  
 ㄴ. ㉡은 바람에 날린 모래의 침식 작용으로 형성된다.  
 ㄷ. ㉢은 하천의 퇴적 작용에 의해 형성된 부채 모양의 지형이다.  
 ㄹ. ㉠에는 안개를 포집하여 물을 얻는 시설이 분포한다.

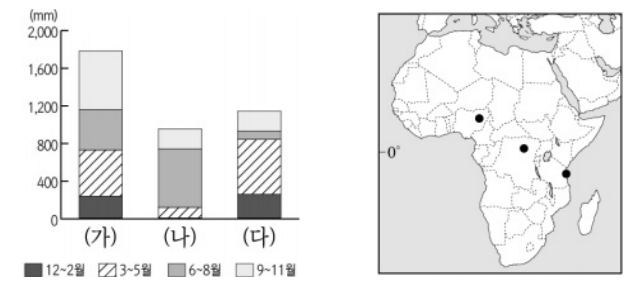
- ① ㄱ, ㄴ    ② ㄱ, ㄷ    ③ ㄴ, ㄷ    ④ ㄴ, ㄹ    ⑤ ㄷ, ㄹ

7. 다음 자료는 지도에 표시된 구간의 지형 단면을 나타낸 것이다. 이에 대한 설명으로 옳은 것은? (단, (가), (나) 지형 단면도는 각각 지도에 표시된 ㉠, ㉡ 단면선 중 하나임.) [3점]



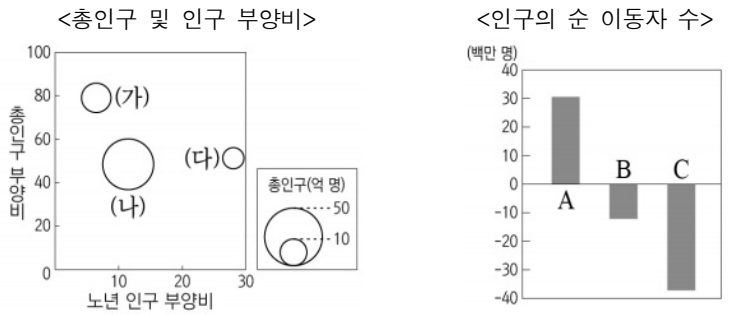
- ① (가)는 ㉡, (나)는 ㉠이다.  
 ② A는 고생대에 습곡 운동으로 형성된 산지이다.  
 ③ B는 지진과 화산 활동이 활발한 지역이다.  
 ④ C는 대륙판이 갈라지면서 형성된 지구대이다.  
 ⑤ A는 B보다 철광석이 풍부하게 매장되어 있다.

8. 그래프는 지도에 표시된 세 지역의 시기별 강수량을 나타낸 것이다. (가)~(다) 지역에 대한 설명으로 옳은 것은? [3점]



- ① (가)는 연중 적도 수렴대의 영향을 받는다.  
 ② (나)는 12~2월에 동물들이 풀을 찾아 북쪽으로 이동한다.  
 ③ (가)는 (나), (다)보다 건기와 우기의 구분이 뚜렷하다.  
 ④ (나)와 (다)는 기온의 일교차보다 연교차가 크게 나타난다.  
 ⑤ (다)는 6~8월에 (나)보다 대류성 강수가 자주 내린다.

9. 그래프는 세 지역(대륙)의 인구 특성을 나타낸 것이다. (가)~(다)에 대한 설명으로 옳은 것은? (단, (가)~(다)와 A~C는 각각 아시아, 아프리카, 유럽 중 하나임.) [3점]



\* 총인구 부양비와 노년 인구 부양비는 원의 가운데 값임.      \* 인구의 순 이동자 수는 1990~2015년 합계임.

(2017)

- ① (가)에는 세계에서 인구가 가장 많은 국가가 위치해 있다.  
 ② (가)는 (다)보다 중위 연령이 높다.  
 ③ (나)는 (다)보다 청소년 인구 부양비가 낮다.  
 ④ (가)와 (나)는 인구 순유출, (다)는 인구 순유입 지역(대륙)이다.  
 ⑤ (가)는 C, (나)는 B, (다)는 A이다.

10. 다음은 세계지리 비대면 수업 장면이다. 교사의 질문에 옳게 답한 학생만을 고른 것은?

교사: 사진은 문순 아시아의 전통 가옥입니다. (가), (나)의 특징은 무엇일까요?

가: 말레이시아의 코상 가옥

나: 일본의 합장 가옥

갑: (가)는 지면에서 올라오는 열과 습기를 차단하기에 유리합니다.

을: (나)는 눈이 쉽게 흘러내리도록 지붕의 경사가 급합니다.

병: (가) 분포 지역은 (나) 분포 지역보다 기온의 연교차가 큼니다.

정: (가)는 폐쇄적, (나)는 개방적인 구조가 나타납니다.

- ① 갑, 을    ② 갑, 병    ③ 을, 병    ④ 을, 정    ⑤ 병, 정

11. 다음 글의 ㉠~㉣에 대한 설명으로 옳지 않은 것은?

○ ㉠ 서부 유럽의 전통 공업 지역은 점차 쇠퇴하고 ㉡ 입해 지역이나 내륙 수로 연안에 새로운 공업 지역이 형성되었다. 최근에는 부가 가치가 높은 ㉢ 첨단 산업 중심으로 공업 구조가 개편되고 있다.

○ 미국 북동부와 ㉣ 오대호 연안을 중심으로 입지한 전통 공업 지역은 점차 쇠퇴하고 있다. 최근에는 온화한 기후, 각종 세제 혜택 등의 입지 조건을 갖춘 미국 남부 및 남서부의 ㉤ 선벨트로 공업의 중심지가 이동하고 있다.

- ① ㉠-석탄과 철광석 산지를 중심으로 발달하였다.  
 ② ㉡-원료의 수입과 제품의 수출에 유리하기 때문이다.  
 ③ ㉢-기술 집약적 산업으로 전문 인력 확보가 중요하다.  
 ④ ㉣-풍부한 노동력을 바탕으로 경공업이 주로 발달하였다.  
 ⑤ ㉤-컴퓨터 관련 산업, 항공·우주 산업 등이 발달하였다.

12. 지도에 표시된 두 지역의 공통점으로 옳은 것만을 <보기>에서 고른 것은?

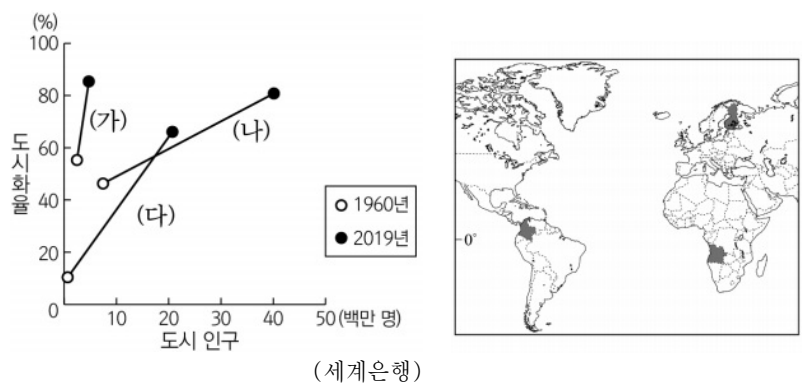


<보 기>

ㄱ. 과거 프랑스의 식민 지배를 받은 지역이다.  
 ㄴ. 크리스티교도와 이슬람교도 간에 갈등이 있다.  
 ㄷ. 석유 자원을 둘러싼 지역 간 분쟁을 겪고 있다.  
 ㄹ. 민족(종족) 분포를 토대로 국경선이 설정되었다.

- ① ㄱ, ㄴ    ② ㄱ, ㄷ    ③ ㄴ, ㄷ    ④ ㄴ, ㄹ    ⑤ ㄷ, ㄹ

13. 그래프는 지도에 표시된 세 국가의 도시 인구와 도시화율 변화를 나타낸 것이다. (가)~(다) 국가에 대한 설명으로 옳은 것은? [3점]



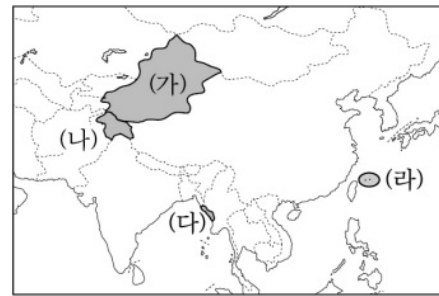
- ① 1960~2019년 도시화율 증가 폭은 (가)가 가장 크다.  
 ② 1960~2019년 도시 인구 증가율은 (나)가 가장 높다.  
 ③ (다)는 2019년에 도시화의 종착 단계에 진입해 있다.  
 ④ (가)는 (나)보다 2019년에 혼락 인구가 많다.  
 ⑤ (가)는 (다)보다 산업화가 본격적으로 진행된 시기가 이른다.

14. 다음 자료는 두 종교의 성지 순례 코스를 나타낸 것이다. (가), (나) 종교에 대한 설명으로 옳은 것은?



- ① (가)의 신자들은 라마단 기간 동안 금식한다.  
 ② (나)의 주요 경관으로 불상과 불탑을 들 수 있다.  
 ③ (가)는 (나)보다 발생 시기가 이른다.  
 ④ (가)는 (나)보다 세계 총 신자 수가 많다.  
 ⑤ (가)는 민족 종교, (나)는 보편 종교에 해당한다.

15. 지도는 문순 아시아의 주요 분쟁 지역을 나타낸 것이다. (가)~(라)에 대한 설명으로 옳은 것만을 <보기>에서 고른 것은?



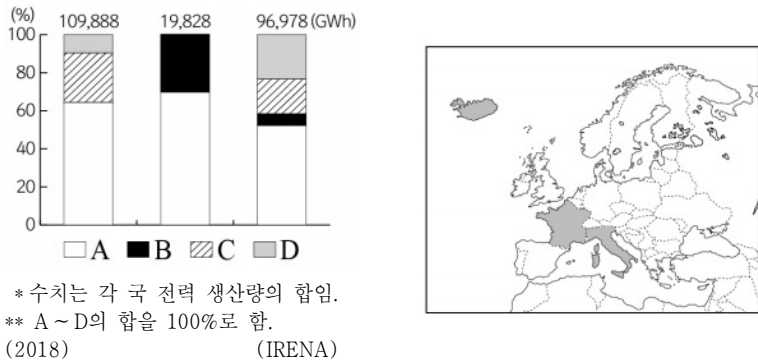
<보 기>

ㄱ. (가)는 위구르족의 분리 독립 운동이 발생하고 있다.  
 ㄴ. (나)는 이슬람교도와 힌두교도 간의 갈등이 나타난다.  
 ㄷ. (다)는 석유의 개발과 이용을 둘러싼 갈등이 심각하다.  
 ㄹ. (라)의 영유권 분쟁 당사국에 필리핀이 포함되어 있다.

- ① ㄱ, ㄴ    ② ㄱ, ㄷ    ③ ㄴ, ㄷ    ④ ㄴ, ㄹ    ⑤ ㄷ, ㄹ

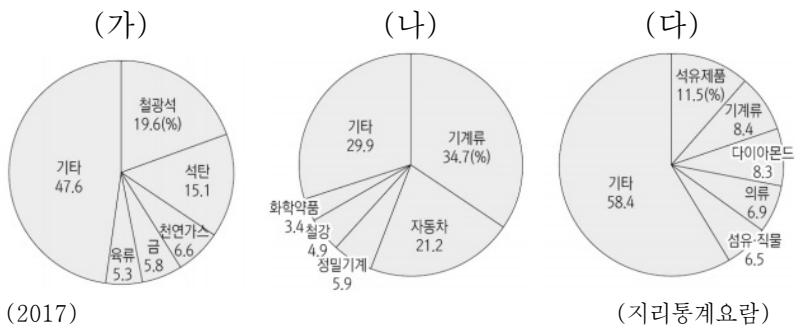


16. 그래프는 지도에 표시된 세 국가의 신·재생 에너지원별 전력 생산량 비중을 나타낸 것이다. A~D에 대한 설명으로 옳은 것은? (단, A~D는 각각 수력, 지열, 태양광(열), 풍력 중 하나임.) [3점]



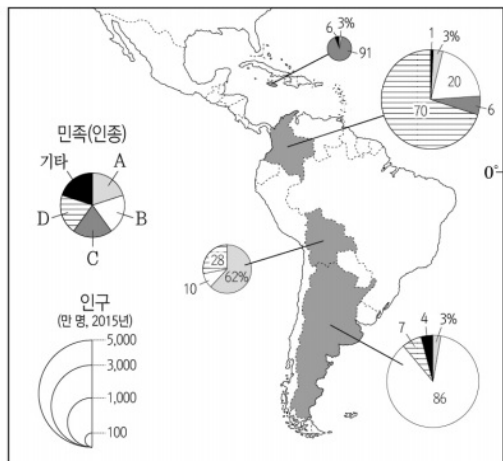
- ① A는 일조량이 풍부한 지역이 개발에 유리하다.
- ② B는 지각 내에 축적된 열에너지를 이용한 발전 양식이다.
- ③ C는 낙차가 크고 유량이 풍부한 지역이 생산에 유리하다.
- ④ D는 바람의 방향과 속도가 발전소의 입지에 영향을 준다.
- ⑤ A~D 중 전 세계에서 발전량이 가장 많은 것은 B이다.

17. 그래프는 세 국가의 수출 상위 5개 품목 비중을 나타낸 것이다. (가)~(다) 국가에 대한 설명으로 옳은 것은? (단, (가)~(다)는 각각 오스트레일리아, 인도, 일본 중 하나임.) [3점]



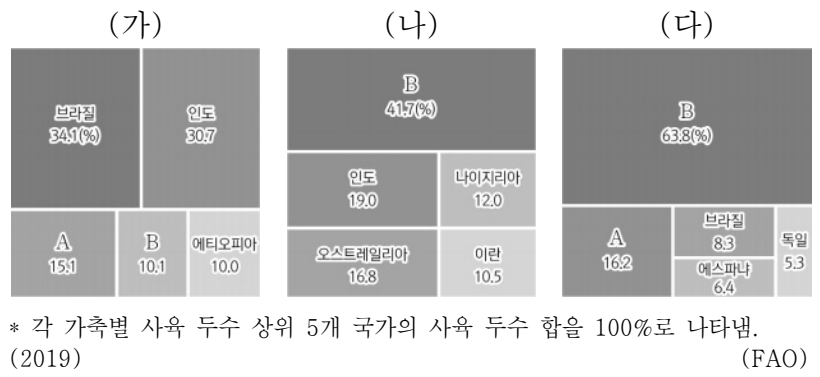
- ① (가)는 벨갈루루, 뭄바이 등에 첨단 산업 단지를 조성하였다.
- ② (나)는 풍부한 지하자원을 토대로 제조업이 크게 발달하였다.
- ③ (다)는 내륙에서 찬정을 이용한 기업적 농목업이 발달하였다.
- ④ (가)는 북반구, (나)는 남반구에 위치해 있다.
- ⑤ (나)는 (다)보다 생산자 서비스업 종사자 비중이 높다.

18. 지도는 네 국가의 민족(인종) 구성을 나타낸 것이다. A~D에 대한 설명으로 옳은 것은? (단, A~D는 각각 아프리카계, 유럽계, 원주민(인디오), 혼혈 중 하나임.) [3점]



- ① A는 과거 플랜테이션 농업을 위해 강제 이주되었다.
- ② B는 열대 고산 기후 지역에 거주하는 비중이 높다.
- ③ C는 라틴 아메리카 인구에서 차지하는 비중이 가장 높다.
- ④ D의 비중이 가장 높은 국가의 공용어는 포르투갈어이다.
- ⑤ A는 B보다 라틴 아메리카에서의 거주 역사가 길다.

19. 그래프는 주요 가축의 국가별 사육 두수 비중을 나타낸 것이다. 이에 대한 설명으로 옳지 않은 것은? (단, (가)~(다)는 돼지, 소, 양 중 하나이고, A, B는 미국, 중국 중 하나임.) [3점]



- ① A는 미국, B는 중국이다.
- ② (가)는 A에서 주로 기업적 목축 형태로 사육된다.
- ③ (다)는 벼농사 지역에서 노동력 대체 효과가 크다.
- ④ (나)는 (가)보다 건조한 기후에 대한 적응력이 높다.
- ⑤ 세계의 육류 생산량은 (다)>(가)>(나) 순으로 많다.

20. 다음 글의 (가)~(다)에 해당하는 도시를 지도의 A~C에서 고른 것은?

○ (가)는 과거의 역사 경관과 현대적 도시 경관이 조화를 이룬다. 도심에는 오래전부터 상업 기능이 발달한 '상젤리제', 도심 외곽에는 현대적 업무 지구인 '라데팡스'가 구성되어 있다.

○ (나)는 전형적인 동심원 내부 구조가 나타난다. 오대호 수운과 철도 교통의 결절지에 중심 업무 지구, 도심 주변에는 주로 저급 주택지, 도심 외곽에는 쾌적한 주거 환경을 갖춘 고급 주택지가 형성되어 있다.

○ (다)는 역전된 동심원 구조가 나타난다. 도심에는 소득이 높은 주민들이 거주하고, 도시 외곽으로 갈수록 급속한 도시화로 농촌에서 이주해 온 많은 주민들이 거주하는 불량 주택 지구 '파벨라'가 곳곳에 분포한다.



- |   |     |     |     |   |     |     |     |
|---|-----|-----|-----|---|-----|-----|-----|
|   | (가) | (나) | (다) |   | (가) | (나) | (다) |
| ① | A   | B   | C   | ② | A   | C   | B   |
| ③ | B   | A   | C   | ④ | B   | C   | A   |
| ⑤ | C   | A   | B   |   |     |     |     |

\* 확인 사항  
○ 답안지의 해당란에 필요한 내용을 정확히 기입(표기)했는지 확인 하시오.

제 4 교시

사회탐구 영역 (동아시아사)

성명	수험번호	3	제 [ ] 선택
----	------	---	----------

1. (가)에 들어갈 유물로 적절한 것은?

○○님이 새로운 사진을 추가했습니다.  
3분 전, 동아시아 선사 박물관

(가)

이 유물은 라오허강 유역에서 발달한 홍산 문화의 대표적인 토기야. 밑바닥이 없는 것이 정말 특이해.

#라오허강 유역 #홍산 문화



2. (가) 인물이 활동한 시기에 볼 수 있는 모습으로 가장 적절한 것은?

<해상왕 (가)의 유적지>

**적산 법화원**  
(가) 이/가 세운 대규모 사찰로, 당시 중국에 거주하던 본국 사람들을 보호하고 결속시키는 역할을 하였다.

**청해진 유적**  
(가) 이/가 설치한 청해진은 군사 기지이자 당시 한반도와 중국, 일본 열도를 연결하는 중요한 무역 거점이었다.

- ① 선종을 창시하는 달마
- ② 천연론을 발간하는 엔푸
- ③ 쇼토쿠 태자의 스승이 된 혜자
- ④ 견당선을 타고 바다를 건너는 엔닌
- ⑤ 구법을 위해 인도로 출발하는 현장

3. (가) 국가에 대한 설명으로 옳은 것은?

**동아시아사 신문**

몽골에서 (가)의 막새기와 발견되다!

▲ 출토된 막새기와

몽골 울지트숨 하르가나트 성터에서 (가)의 막새기와가 출토되었다. 막새기와에는 “하늘의 아들 선우, 하늘과 함께 그 영광이 끝이 없으니 영원할지어다.”라는 명문이 기록되어 있다. (가)은/는 목욕 선우 때 전성기를 맞이하였으나, 이후 선우 자리를 둘러싼 분쟁이 발생하여 남북으로 분열되었다.

- ① 낙랑군을 축출하였다.
- ② 골품제를 시행하였다.
- ③ 안남 도호부를 설치하였다.
- ④ 맹안·모극제를 실시하였다.
- ⑤ 좌현왕과 우현왕 등을 두었다.

4. (가) 황제에 대한 설명으로 옳은 것은? [3점]

재미있는 동아시아사 이야기

**정화의 함대는 얼마나 큰 규모였을까?**

(가)의 명령으로 파견된 정화의 1차 항해에는 62척의 선단에 군사 2만 7천여 명이 동원되었으며, 가장 큰 배인 보선의 길이는 133m 정도였다는 기록이 남아있다. 길이가 약 30m인 산타마리아호 등 3척의 선박으로 대서양을 횡단한 콜럼버스의 선단과 비교하면 거대한 규모였다.

콜럼버스의 산타마리아호와 정화의 보선

- ① 남송을 멸망시켰다.
- ② 사고전서를 편찬하였다.
- ③ 삼번의 난을 진압하였다.
- ④ 백등산 전투에서 패배하였다.
- ⑤ 난징에서 베이징으로 천도하였다.

5. (가) 황제에 대한 설명으로 옳은 것은?


[가] 은/는 마음속에 원대한 지략을 가지고 사방(四方)을 개척할 뜻을 두어 남쪽으로는 백월(百越)을 주살하고 북쪽으로는 강력한 흉노를 토벌했으며, 서쪽으로는 대완(大宛)을 정벌했을 뿐만 아니라 동쪽으로는 고조선을 멸망시켰다.

- ① 장건을 서역에 파견하였다.
- ② 다이호 율령을 반포하였다.
- ③ 준왕을 몰아내고 집권하였다.
- ④ 항우와의 전쟁에서 승리하였다.
- ⑤ 5대 10국의 분열을 수습하였다.

6. (가) 왕조의 대외 관계에 대한 설명으로 옳은 것은? [3점]

**동아시아사 산책** 2021년 여름호

**기획 특집** **일본에서 찾을 수 있는 백제의 흔적**



규슈에는 백제식으로 축성된 오노조[大野城]의 유적이 남아 있다. 이 성은 왜(倭)가 백강 전투에서 신라와 [가]의 연합군에 의해 패배한 이후 축조하였는데, 백제 유민들이 건설을 주도하였다. 규슈에는 오노조 이외에도 기이조[基肄城] 등 백제식 성의 흔적이 남아 있다.

**오노조 유적**

- ① 호라즘을 정복하였다.
- ② 야마타이국의 조공을 받았다.
- ③ 토번에 화번공주를 파견하였다.
- ④ 거란(요)과 전연의 맹약을 체결하였다.
- ⑤ 왜구의 근거지인 쓰시마섬을 정벌하였다.

7. (가) 제국에 대한 설명으로 옳은 것은?

[가]의 쿠빌라이가 보낸 군대를 격퇴하라!

신이여! 우리 일본을 위해 한 번 더 태풍을 보내 주소서!



- ① 별무반을 편성하였다.
- ② 팔기제를 운영하였다.
- ③ 천계령을 시행하였다.
- ④ 전 왕조를 공격하였다.
- ⑤ 금의 공격으로 멸망하였다.

8. (가) 인물에 대한 설명으로 옳은 것은?

저는 남송의 [가]와/과는 다른 방식으로 『중용』을 해석할 수도 있다고 생각합니다.

성리학을 집대성한 [가]의 해석에 반하는 당신은 성리학을 어지럽히는 적이오!



윤휴




송시열

- ① 아담 살과 교류하였다.
- ② 사서집주를 편찬하였다.
- ③ 백운동 서원을 건립하였다.
- ④ 사서오경왜훈을 저술하였다.
- ⑤ 심즉리와 지행합일을 강조하였다.

9. (가) 전쟁이 동아시아에 끼친 영향으로 옳은 것은? [3점]


**그림으로 살펴 본 [가]의 전개 과정**

**부산진순절도**




부산진을 공격하는 일본군

**평양성 탈환도**



평양성을 탈환하는 조·명 연합군

**정왜기공도병**



노량에서 일본군을 격퇴하는 조선 수군

- ① 조선에서 삼포 왜란이 일어났다.
- ② 명에서 토목보의 변이 발생하였다.
- ③ 명에서 장거정이 개혁을 추진하였다.
- ④ 만주 지역에서 아구다가 금을 건국하였다.
- ⑤ 일본에서 도자기 제조 기술이 발달하였다.

10. 다음 문서가 작성된 시기를 연표에서 옳게 고른 것은?

[3점]

러시아가 독일, 프랑스와 함께 일본으로 하여금 랴오둥반도를 반환하도록 권고하였으니, 먼저 러시아 조정에 감사의 표시를 하도록 하라. 만약 일본이 랴오둥반도에 대한 삼국의 반환 권고를 완강하게 거절하고 무력을 행사하려 한다면, 체결된 강화 조약을 그대로 처리하도록 하라.

- 히경징에게 보낸 어지 -

(가)	(나)	(다)	(라)	(마)	
갑신정변	갑오개혁 시작	중화민국 수립	워싱턴 회의 시작	만주 사변	중·일 전쟁 발발

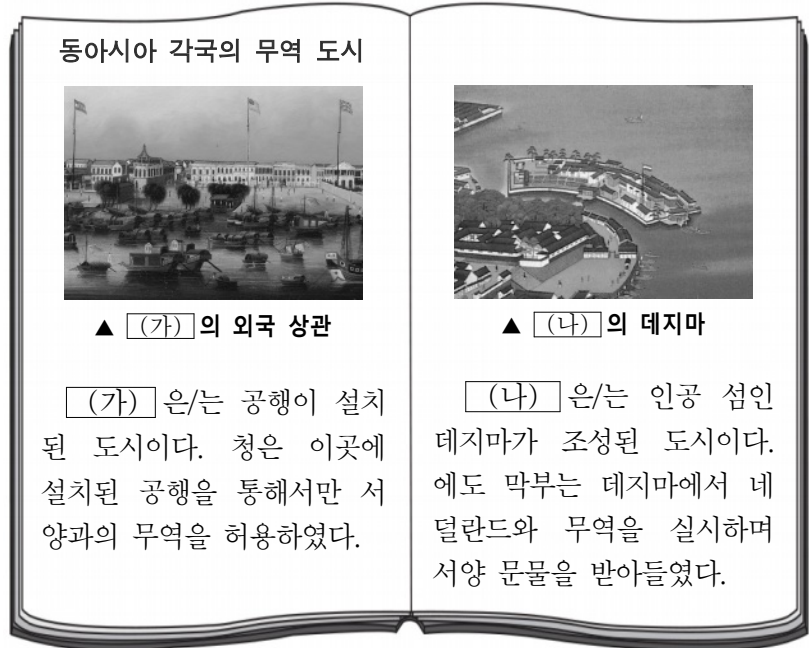
- ① (가)
- ② (나)
- ③ (다)
- ④ (라)
- ⑤ (마)

11. (가) 황제가 재위하던 시기의 동아시아 상황으로 옳은 것은?

〔가〕 은/는 조정 신료를 불러 모아 조서를 내려 북방의 언어(선비어)를 끊고 한어(漢語)를 따르도록 하였다. 나이 서른 이상은 습성이 이미 오래되어 바꾸는 것이 불가하더라도, 서른 이하로 현재 조정에 있는 자는 말을 예전 그대로 쓰는 것을 허락하지 않았고, 여기는 사람은 벼슬을 면직했다. ...〔중략〕... 또한 조서를 내려 황실의 성을 한족의 성인 원(元)씨로 고쳤다.  
- 『이십이사차기』 -

- ① 한국 - 발해가 건국되었다.
- ② 한국 - 과거제를 도입하였다.
- ③ 중국 - 분서갱유를 단행하였다.
- ④ 중국 - 남조와 북조가 대립하였다.
- ⑤ 일본 - 다이카 개신이 단행되었다.

12. (가), (나) 도시에 대한 설명으로 옳은 것은? [3점]



- ① (가) - 금릉 기기국이 설치된 곳이다.
- ② (가) - 영국 상인에 의해 신보(申報)가 창간된 곳이다.
- ③ (나) - 극동 국제 군사 재판이 개최된 곳이다.
- ④ (나) - 미·일 수호 통상 조약으로 개항된 곳이다.
- ⑤ (나) - 일본 최초의 일본어 일간지가 발행된 곳이다.

13. 밑줄 친 '이 운동'에 대한 설명으로 옳은 것은? [3점]

파리 강화 회의에서 산둥반도에 대한 이권 반환 요구가 거부되었다는 소식은 중국인들에게 큰 충격이었다. 이에 베이징의 대학생들이 항의 시위를 계획하였고, 텐안먼 앞에 결집한 3천여 명의 대학생들 중심으로 이 운동이 시작되었다. 이후 각지의 학생, 지식인뿐만 아니라 상인과 노동자들까지 가담하면서 이 운동은 전국으로 확대되었으며, 결국 베이징 군벌 정부는 베르사유 조약에 대한 조인을 거부하였다.

- ① 아주 화친회의 결성으로 이어졌다.
- ② 일본의 21개조 요구 철회를 주장하였다.
- ③ 흥정 헌법 대강이 공포되는 결과를 가져왔다.
- ④ 청·일 수호 조규가 체결되는 배경이 되었다.
- ⑤ 외국 군대의 베이징 주둔이 허용되는 계기가 되었다.

14. 다음 편지가 작성된 해에 동아시아에서 볼 수 있는 모습으로 가장 적절한 것은? [3점]

○○에게  
잘 지내고 있지? 나는 지금 인천에 와 있어. 인천은 개항 이후 외국인 거주지가 형성되고 서양식 건축물들이 건립되어 도시의 모습이 점차 바뀌고 있어. 올해에는 경인선이 개통되어 인천에서 노량진까지 기차를 타고 갈 수도 있게 되었어. 내일은 한성으로 이동할 예정이야. 다시 편지할게.  
□□로부터


- ① 한국 - 독립신문을 창간하는 서재필
- ② 한국 - 대한국 국제를 공포하는 고종 황제
- ③ 중국 - 잡지 신청년을 발간하는 천두슈
- ④ 일본 - 해체신서를 집필하는 스기타 겐파쿠
- ⑤ 일본 - 요코하마에서 출발하는 이와쿠라 사절단

15. (가), (나) 문서가 공포된 시기 사이에 있었던 사실로 옳은 것은? [3점]

(가) 제1조 천황은 일본국의 상징이자 일본 국민 통합의 상징이며, 이 지위는 주권을 지닌 일본 국민의 총의에 근거한다.  
제9조 ② 육·해·공군 및 그 외 전력을 보유하지 아니한다. 국가의 교전권을 인정하지 아니한다.  
(나) 제1조 연합국은 일본 및 그 영해에 대한 일본 국민의 완전한 주권을 승인한다.  
제14조 연합국은 전쟁 수행 과정에서 발생한 연합국 및 그 국민의 다른 청구권, 그리고 점령에 따른 직접적인 군사적 비용에 관한 청구권을 포기한다.

- ① 4·19 혁명이 일어났다.
- ② 제네바 회담이 개최되었다.
- ③ 중·일 공동 성명이 발표되었다.
- ④ 한·일 기본 조약이 체결되었다.
- ⑤ 중화 인민 공화국이 수립되었다.

16. 밑줄 친 '발표'가 있었던 해의 동아시아 상황으로 옳은 것은?



- ① 한국 - 제1차 경제 개발 5개년 계획이 추진되었다.
- ② 중국 - 제2차 국·공 합작이 성립되었다.
- ③ 일본 - 도쿄 올림픽이 개최되었다.
- ④ 베트남 - 도이머이 정책이 채택되었다.
- ⑤ 타이완 - 천수이볜이 총통으로 선출되었다.



17. 밑줄 친 ‘이 막부’ 시기 동아시아 문화에 대한 설명으로 옳지 않은 것은?

초청장

**가쓰시카 호쿠사이 특별전**

우리 박물관에서는 조닌 문화가 발달했던 이 막부 시기에 활동한 가쓰시카 호쿠사이의 작품을 전시합니다. 수준 높은 우키요에 작품들을 관람할 수 있는 이번 특별전에 여러분을 초청합니다.


- 기간: 2021년 7월 ○일 ~ ○일
- 장소: △△ 박물관 특별 전시실
- 대표 전시작

△△ 박물관

- ① 한국 - 한글 소설이 유행하였다.
- ② 중국 - 경극이 공연되었다.
- ③ 중국 - 홍루몽이 인기를 끌었다.
- ④ 일본 - 가부키가 성행하였다.
- ⑤ 일본 - 야요이 문화가 발달하였다.

18. 밑줄 친 ‘이 전쟁’ 중에 있었던 사실로 옳은 것은? [3점]



이곳 야스쿠니 신사에는 일본의 진주만 기습으로 시작된 이 전쟁의 전범들도 합사되어 있습니다. 그런데 일본 정치인들은 최근까지 이곳을 참배하고 있어, 주변국들로부터 비판을 받고 있습니다.

- ① 신간회가 창립되었다.
- ② 조선 의용대가 창설되었다.
- ③ 미드웨이 해전이 발발하였다.
- ④ 루거우차오 사건이 발생하였다.
- ⑤ 제1차 국·공 합작이 성립되었다.

19. (가), (나) 조약이 체결된 시기 사이에 있었던 사실로 옳은 것은?

(가)

제2조 시모다는 즉시 개항하고, 하코다테는 내년 3월부터 개항하는 것으로 한다.

제9조 일본 정부가 외국인에 대하여, 이번에 미국인에게 허가하지 않았던 사항을 허가했을 때에는 미국인에게도 같은 사항을 허가한다.

(나)

제2조 프랑스인과 에스파냐인은 베트남에서 크리스티교를 포교할 수 있으며, 베트남인들도 크리스티교를 믿기 원하면 아무런 제약 없이 그렇게 할 수 있다.

제3조 베트남의 비엔호아, 딘뜨엉, 자딘의 동부 3성은 프랑스에 할양한다.

- ① 한국 - 윤요호 사건이 발생하였다.
- ② 중국 - 베이징 조약이 체결되었다.
- ③ 중국 - 태평천국 운동이 시작되었다.
- ④ 일본 - 메이지 유신이 추진되었다.
- ⑤ 일본 - 대일본 제국 헌법이 반포되었다.

20. 밑줄 친 ‘이 혁명’이 전개된 시기에 있었던 사실로 옳은 것은? [3점]

자료는 이 혁명 당시 홍위병이 자본주의적이라고 간주된 것들을 파괴하는 모습이 표현된 포스터입니다. 당시 마오쩌둥은 자신의 반대 세력을 제거하기 위해 홍위병을 이용했습니다.



- ① 베트남 공화국이 수립되었다.
- ② 북한에서 합영법이 제정되었다.
- ③ 미·중 공동 성명이 발표되었다.
- ④ 자유당과 일본 민주당이 합당하였다.
- ⑤ 한·중 민족 항일 대동맹이 결성되었다.

\* 확인 사항

○ 답안지의 해당란에 필요한 내용을 정확히 기입(표기)했는지 확인하십시오.

제 4 교시


사회탐구 영역 (세계사)

성명	수험번호	3	제 [ ] 선택
----	------	---	----------

1. 밑줄 친 '이 문명'에 대한 설명으로 옳은 것은?

■ 유물로 보는 역사

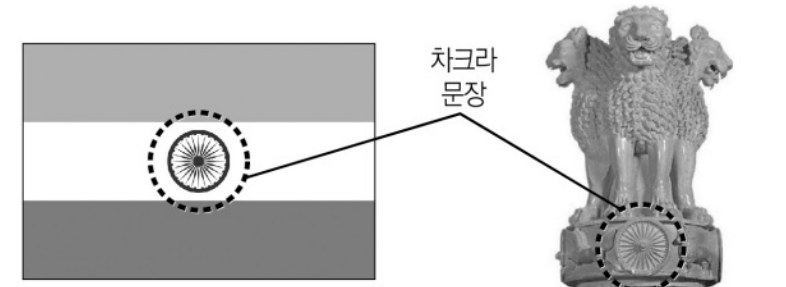
상형 문자 해독의 열쇠, 로제타석



프톨레마이오스 5세의 업적을 찬양한 내용을 담은 로제타석에는 이 문명에서 사용되었던 상형 문자와 민중 문자, 그리스 문자가 함께 새겨져 있다. 이 유물에 대한 연구를 통해 나일강 유역에서 발달한 이 문명의 상형 문자를 해독할 수 있게 되었다.

- ① 지구라트를 축조하였다.
- ② 사자의 서를 제작하였다.
- ③ 함무라비 법전을 편찬하였다.
- ④ 갑골에 점복의 내용을 기록하였다.
- ⑤ 하라파 등 계획도시를 건설하였다.

2. (가) 왕조의 문화에 대한 설명으로 옳은 것은? [3점]



▲ 인도 국기                      ▲ 아소카왕 석주의 머리 부분


인도 국기 중앙에 있는 차크라 문장(紋章)은 '법(法)의 윤회'를 의미하며, 내부의 바퀴살은 24시간을 뜻한다. 이 문장은 (가)의 아소카왕 때 만들어진 것으로, 그가 불교에 귀의한 뒤 세운 석주의 머리 부분에도 나타나 있다.

- ① 산치 대탑이 세워졌다.
- ② 타지마할이 건립되었다.
- ③ 샤쿰탈라가 저술되었다.
- ④ 간다라 불상이 제작되었다.
- ⑤ 쿠티브 미나르가 만들어졌다.

3. 밑줄 친 '이 막부' 시기에 있었던 사실로 옳은 것은? [3점]

Internet

세계사 백과   무가제법도



무가제법도는 이 막부가 각 번의 다이묘를 통제하기 위하여 공포하였다. 이 법도에는 다이묘의 새로운 성 축조를 금지하는 것과 성을 수리하거나 다이묘끼리 혼인 관계를 맺을 때 막부의 허락을 받도록 하는 등의 내용이 담겨 있다.

▲ 무가제법도

- ① 도다이사가 창건되었다.
- ② 다이카 개신이 단행되었다.
- ③ 이와쿠라 사절단이 파견되었다.
- ④ 산킨코타이 제도가 실시되었다.
- ⑤ 쇼토쿠 태자가 불교 진흥책을 펼쳤다.

4. (가) 황제가 실시한 정책으로 옳은 것은?

(가) 은/는 제후들을 멸망시켜 천하를 통일하고 처음으로 황제의 자리에 올랐다. 그리고 천하의 모든 백성들을 형벌로써 다스리니, 그 위세가 천하를 떨게 만들었다. 또한 남쪽으로는 땅을 넓혀 계림군과 상군으로 삼고, 북쪽에는 몽염을 파견해 만리장성을 쌓아 변방을 방비하게 하였다.

- 「과진론」 -

- ① 이갈제를 실시하였다.
- ② 시박사를 설치하였다.
- ③ 분서갱유를 단행하였다.
- ④ 장건을 대월지에 파견하였다.
- ⑤ 통제거 등 대운하를 건설하였다.

5. 밑줄 친 '새 왕조'에 대한 설명으로 옳은 것은?

교황 자카리아스는 “힘이 없는 자가 왕위에 머물러 있는 것 보다는 힘을 가진 자가 왕이라 불리는 것이 더 낫다. 사도의 권위를 통해 새 왕조의 개창을 승인하노라.”라고 답하였다. 이에 실권을 장악하고 있던 궁재가 프랑크의 새로운 국왕으로 즉위하여 새 왕조를 개창하였으며, 이전 왕조의 마지막 왕이었던 힐데리히 3세는 수도원에 보내졌다.

- ① 서로마 제국을 멸망시켰다.
- ② 코르도바를 수도로 삼았다.
- ③ 궁정 학교를 세워 문예를 부흥시켰다.
- ④ 투르·푸아티에 전투에서 승리하였다.
- ⑤ 군사적 봉건제인 티마르제를 실시하였다.

세계사

6. 다음 사건이 발생한 시기를 연표에서 옳게 고른 것은?

가즈니의 왕 마흐무드가 이끄는 군대가 슘나트라에 있는 힌두교 사원을 공격하여 신상을 빼앗았다. ... (중략) ... 그들이 공격한 사원 안에는 금과 은으로 만든 신상들이 많았고, 사원 외부에도 보석 박힌 베일이 걸쳐져 있었다. 사원에서 발견된 것들은 모두 가즈니로 가져왔다.

	(가)	(나)	(다)	(라)	(마)
알렉산드로스 의 인도 침입	굽타 왕조 멸망	아이바크의 델리 정복	바부르의 인도 침입	플라시 전투	세포이 항쟁 시작
① (가)	② (나)	③ (다)	④ (라)	⑤ (마)	

7. (가) 국가에 대한 설명으로 옳은 것은? [3점]

**POSTCARD**



○○에게  
오늘은 세비야 대성당에 있는 콜럼버스의 관을 보고 왔어. 콜럼버스는 (가)의 국왕으로부터 지원을 받아 서 인도 제도에 이르는 대서양 항로를 개척하였어. 내일은 콜럼버스가 항해를 시작했던 팔로스항으로 떠날 예정이야. 또 연락할게. △△가

- ① 스웨덴을 공략해 발트해로 진출하였다.
- ② 바스쿠 다 가마의 원정대를 파견하였다.
- ③ 항해법을 제정하여 네덜란드를 견제하였다.
- ④ 레판토 해전에서 오스만 제국을 격퇴하였다.
- ⑤ 대륙 봉쇄령을 내려 영국과의 무역을 금지하였다.

8. 밑줄 친 '혁명' 중에 있었던 사실로 옳은 것은? [3점]

나폴레옹 제국은 영구적인 정부를 세우는 데 실패했고, 결국 몰락하여 복고 왕정으로 이어졌다. 부활한 왕정은 무엇을 약속했는가? 당면한 문제를 해결하고, 질서를 자유와 조화시킬 것을 약속했다. 하지만 그 약속을 지키지 않았고, 결국 우리의 혁명으로 소멸되었다. 이제 질서와 자유를 동시에 확립하는 것이야말로 우리의 의무요, 책임이다.  
- 프랑수아 기조의 연설 -

- ① 테니스코트의 서약이 발표되었다.
- ② 샤를 10세가 왕위에서 추방되었다.
- ③ 자코뱅파의 주도로 국왕이 처형되었다.
- ④ 루이 나폴레옹이 대통령으로 선출되었다.
- ⑤ 파리 코뮌이라는 자치 정부가 수립되었다.

9. (가) 왕조에 대한 설명으로 옳은 것은?



이 원우당적비의 탁본을 보면 비석을 만든 이유와 (가)의 신종 때 왕안석이 추진한 신법에 반대했던 사마광 등의 이름이 나타나 있습니다. 이를 통해 당시 신법을 둘러싼 갈등을 알 수 있습니다.



- ① 지정은제를 시행하였다.
- ② 황소의 난으로 쇠퇴하였다.
- ③ 건강(난징)으로 도읍을 옮겼다.
- ④ 북면관제·남면관제를 실시하였다.
- ⑤ 서하에게 비단 등의 물자를 지급하였다.

10. (가) 국가의 대외 관계에 대한 설명으로 옳은 것은? [3점]

**주식 거래 계약서**

- 대상 기업: 연합 동인도 회사
- 기업 개요: (가)의 공인을 받은 주식회사로서 자와 섬의 바타비아를 거점으로 삼아 향신료 무역 등을 전개하고 있음.
- 양도 주수: 100주
- 양도 가격: 주당 ○○○ 굴덴

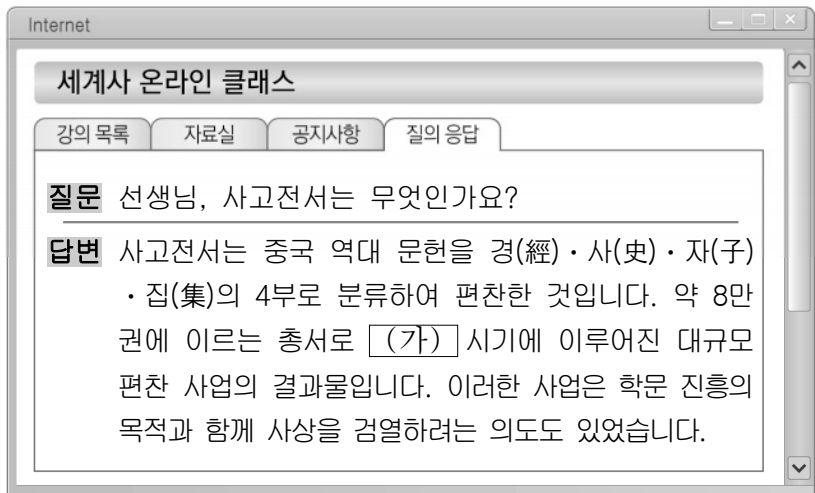
매도인이 상기 기업의 주식 100주를  
매수인에게 양도함.

○○○○년 ○월 ○일

매도인 □□□                      매수인 △△△

- ① 트라팔가르 해전에서 승리하였다.
- ② 프로이센에게 쉐레지엔을 빼앗겼다.
- ③ 에스파냐에 맞서 독립 전쟁을 전개하였다.
- ④ 크림 전쟁에서 오스만 제국에게 패배하였다.
- ⑤ 오스트리아 등과 폴란드를 분할 점령하였다.

11. (가) 왕조에서 볼 수 있는 모습으로 적절한 것은? [3점]



- ① 고구려 원정을 떠나는 군인
- ② 전례 문제로 추방되는 선교사
- ③ 양세법에 따라 세금을 걷는 관리
- ④ 진승·오광의 난에 참여하는 농민
- ⑤ 향거리선제로 관직에 진출하는 호족

12. (가) 국가에 대한 설명으로 옳은 것은?

모로코에서 술탄에 맞선 반란이 일어나자 (가) 은/는 술탄을 돕는다는 명목으로 군대를 파병하였다. 이러한 파병에 맞서 독일은 모로코에서 자국의 이권을 지킨다며 전함을 보냈다. 이 사태에 대해 영국이 중재에 나섰다, 결국 독일은 콩고의 북부 지역을 할양받는 대신 모로코에 대한 (가) 의 보호권을 승인하였다.

- ① 리비아를 식민지로 삼았다.
- ② 범슬라브주의를 표방하였다.
- ③ 헤레로족의 봉기를 진압하였다.
- ④ 이산들과나 전투에서 패배하였다.
- ⑤ 아프리카 횡단 정책을 추진하였다.

13. (가) 사건이 끼친 영향으로 옳은 것은? [3점]



- ① 대헌장이 제정되었다.
- ② 권리 장전이 승인되었다.
- ③ 스튜어트 왕조가 개창되었다.
- ④ 크롬웰이 호국경에 취임하였다.
- ⑤ 심사법과 인신 보호법이 제정되었다.

14. 밑줄 친 ㉠의 원인을 알아보기 위한 탐구 활동으로 가장 적절한 것은? [3점]



- ① 아비뇽 유수의 전개 과정을 조사한다.
- ② 루터의 95개조 반박문 내용을 분석한다.
- ③ 헨리 8세가 수장법을 공포한 이유를 찾아본다.
- ④ 앙리 4세가 낭트 칙령을 발표한 배경을 살펴본다.
- ⑤ 레오 3세가 내린 성상 파괴령이 끼친 영향을 파악한다.

15. (가) 왕조에 대한 설명으로 옳은 것은?




- ① 이스파한을 수도로 삼았다.
- ② 탈라스 전투에서 승리하였다.
- ③ 몽골 제국의 재건을 내세웠다.
- ④ 술탄 아흐메드 사원을 건설하였다.
- ⑤ 십자군 전쟁으로 인해 쇠퇴하였다.



16. 교사의 질문에 대한 학생의 답변으로 옳은 것은?

이 자료는 산둥성에서 시작된 민족 운동 당시 불렀던 노래입니다. 8개국 연합군에 의해 진압된 이 운동에 대해 설명해 볼까요?


하늘에서는 비가 내리지 않고  
땅은 갈라져 메마르다  
이 모두가 교회가  
하늘을 막아 버렸기 때문이다  
마침내 모든 외국 악마들이  
마지막 한 명까지 쫓겨날 때  
위대한 청은 모두 함께 하나 되어  
우리의 이 땅에 평화를 가져오리라



- ① 멸만홍한을 주장하였어요.
- ② 군벌 타도를 목표로 삼았어요.
- ③ 삼민주의를 강령으로 내세웠어요.
- ④ Kangyuei와 량치차오 등이 주도하였어요.
- ⑤ 외국 군대가 베이징에 주둔하는 계기가 되었어요.

17. 밑줄 친 '이 전쟁' 중에 있었던 사실로 옳은 것은? [3점]

■ 전쟁으로 보는 세계사



영국의 해상 봉쇄에 맞서 독일은 무제한 잠수함 작전을 전개하였다. 이를 계기로 미국이 이 전쟁에 참전하면서 동맹국의 전세가 불리해졌다. 이러한 상황에서 독일 킬 군항의 수병들이 출항 명령을 거부하는 사건이 일어났다. 이들의 저항은 다른 도시들로 번져 나갔고, 이 전쟁이 종식되는 데 영향을 주었다.

▲ 킬 군항 사건 기념엽서

- ① 사라예보 사건이 발생하였다.
- ② 이탈리아가 국제 연맹을 탈퇴하였다.
- ③ 연합군이 노르망디 상륙 작전을 전개하였다.
- ④ 군비 축소를 위한 워싱턴 회의가 개최되었다.
- ⑤ 소비에트 정부가 독일과 강화 조약을 맺었다.

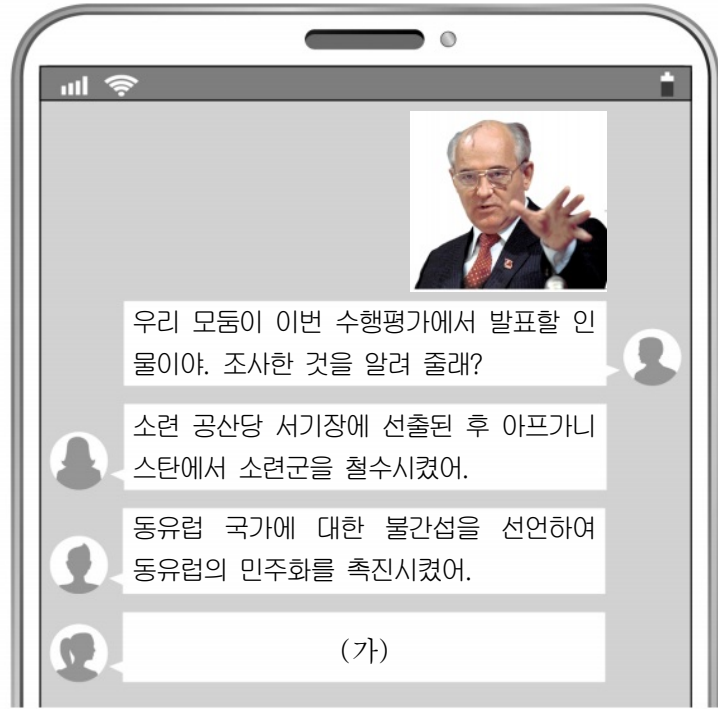
18. (가), (나) 시기 사이에 있었던 사실로 옳은 것은? [3점]

(가) 미국, 영국, 프랑스는 자신들이 점령한 지역에서 'B' 마크가 표기된 '신독일 마르크'를 단독으로 발행한다고 선포하였다. 이러한 조치에 맞서 소련은 서베를린을 봉쇄하였다.

(나) 서베를린과 동베를린의 경계 구역에 철조망과 시멘트 벽돌로 임시 장벽이 만들어졌다. 그리고 며칠 후 임시 장벽을 보강하는 콘크리트 담이 세워지기 시작하였다.

- ① 포츠담 회담이 개최되었다.
- ② 트루먼 독트린이 발표되었다.
- ③ 마스트리흐트 조약이 조인되었다.
- ④ 델리에서 평화 5원칙이 발표되었다.
- ⑤ 세계 무역 기구[WTO]가 출범하였다.

19. (가)에 들어갈 내용으로 가장 적절한 것은?



우리 모두가 이번 수행평가에서 발표할 인물이야. 조사한 것을 알려 줄래?

소련 공산당 서기장에 선출된 후 아프가니스탄에서 소련군을 철수시켰어.


동유럽 국가에 대한 불간섭을 선언하여 동유럽의 민주화를 촉진시켰어.

(가)

- ① 제1차 비동맹 회의에 참석하였어.
- ② 경제 개발 5개년 계획을 실시하였어.
- ③ 독립 국가 연합[CIS]의 결성을 주도하였어.
- ④ 페레스트로이카와 글라스노스트를 추진하였어.
- ⑤ 자유 노조 연대를 이끌어 대통령에 당선되었어.

20. (가) 종교에 대한 설명으로 옳은 것은?

✈ 이드 알 피트르 기념 특별 행사 ✈



▲ 이드 세트

이드 알 피트르는 (가) 을/를 믿는 사람들이 지켜야 할 5행 중 하나인 라마단 기간의 금식이 종료된 것을 기념하는 축제입니다. 이 축제를 맞이하여 특별 기내식을 선보이니, 원하시는 분들은 체크해주세요.

이드 세트     일반 기내식

■ 행사 기간: 2021년 ○월 ○○일 ~ ○○일

- ○○○○ 항공 -

- ① 알라의 가르침을 중시하였다.
- ② 고타마 싯다르타가 창시하였다.
- ③ 사산 왕조 페르시아의 국교였다.
- ④ 브라만교의 윤회 사상을 수용하였다.
- ⑤ 카스트에 따른 의무 수행을 강조하였다.

\* 확인 사항

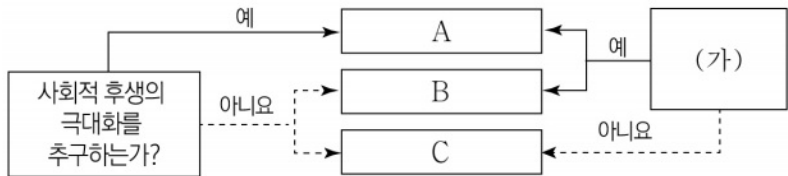
○ 답안지의 해당란에 필요한 내용을 정확히 기입(표기)했는지 확인하십시오.

제 4 교시

사회탐구 영역 (경제)

성명	수험번호	3	제 [ ] 선택
----	------	---	----------

1. 그림은 국민 경제의 주체 A~C를 질문에 따라 구분한 것이다. 이에 대한 옳은 설명만을 <보기>에서 고른 것은?



- <보 기>
- ㄱ. A는 재정 정책의 주체로서 세입과 세출로 나누어 예산을 계획하고 집행한다.
  - ㄴ. (가)에 '생산물 시장에서 수요자인가?'가 들어가면, B는 이윤 극대화를 추구한다.
  - ㄷ. (가)에 '임금, 지대를 지급하는가?'가 들어가면, C는 생산 요소 시장에서 공급자이다.
  - ㄹ. B가 소비의 주체라면, (가)에는 '민간 경제의 주체에 해당하는가?'가 들어갈 수 있다.

- ① ㄱ, ㄴ    ② ㄱ, ㄷ    ③ ㄴ, ㄷ    ④ ㄴ, ㄹ    ⑤ ㄷ, ㄹ

2. 다음 자료에 대한 옳은 분석만을 <보기>에서 고른 것은? [3점]

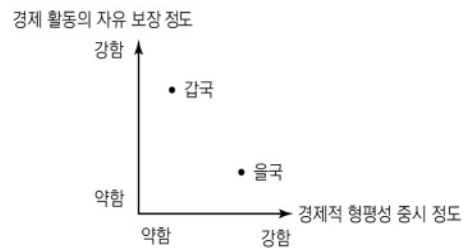
그림은 A, B에서 치킨을 주문할 때 필요한 비용과 배달 소요 시간을 나타낸다. 같은 주문 비용과 배달 소요 시간만을 고려하여 A, B 중 한 곳에서 치킨 한 마리를 주문하려고 한다. A, B 어디에서 주문하든 치킨이 주는 편익은 동일하지만, 배달 소요 시간 10분당 치킨 소비에 따른 편익이 X원씩 감소한다. 단, 할인 쿠폰을 적용하여 배달 주문한다.



- <보 기>
- ㄱ. A를 선택한 것이 합리적이라면 X는 400보다 작다.
  - ㄴ. B를 선택할 경우 명시적 비용은 18,900원이다.
  - ㄷ. A와 B에서 모두 배달 무료 행사를 진행하고 X가 1,000이라면, A를 선택하는 것이 합리적이다.
  - ㄹ. B의 할인 쿠폰이 치킨 가격의 20% 할인으로 변경되고 X가 1,500이라면, A를 선택하는 것이 합리적이다.

- ① ㄱ, ㄴ    ② ㄱ, ㄷ    ③ ㄴ, ㄷ    ④ ㄴ, ㄹ    ⑤ ㄷ, ㄹ

3. 그림은 경제 체제 특징에 따라 갑국과 을국을 구분한 것이다. 이에 대한 옳은 설명만을 <보기>에서 고른 것은? (단, 갑국과 을국은 모두 혼합 경제 체제이고, 각각 시장 경제 체제와 계획 경제 체제 중 하나를 기반으로 한다.)



- <보 기>
- ㄱ. 갑국은 을국에 비해 경제적 유인 체계를 중시한다.
  - ㄴ. 갑국은 을국에 비해 자원 배분 과정에서 '보이지 않는 손'의 역할을 중시한다.
  - ㄷ. 을국은 갑국에 비해 생산 수단의 사적 소유 보장을 중시한다.
  - ㄹ. 을국은 갑국과 달리 기본적인 경제 문제가 발생하지 않는다.

- ① ㄱ, ㄴ    ② ㄱ, ㄷ    ③ ㄴ, ㄷ    ④ ㄴ, ㄹ    ⑤ ㄷ, ㄹ

4. 밑줄 친 ㉠, ㉡으로 인한 X재 시장의 변화로 옳은 것은? (단, X재는 수요와 공급의 법칙을 따른다.) [3점]

최근 기후 위기에 대처하기 위한 전 지구적 차원의 협력이 이루어지고 있다. 갑국도 국제적 노력에 동참하기 위해 환경 오염을 유발하는 X재에 일정액의 환경세를 ㉠ 생산자에게 부과하거나 ㉡ 소비자에게 부과하는 방안을 고민하고 있다.

- ① ㉠은 소비자 잉여를 증가시킨다.
- ② ㉡은 수요 곡선을 우측으로 이동시킨다.
- ③ ㉠은 ㉡과 달리 생산자 잉여를 감소시킨다.
- ④ ㉡은 ㉠과 달리 균형 가격을 상승시킨다.
- ⑤ ㉠과 ㉡은 모두 균형 거래량을 감소시킨다.

5. 다음 자료는 X재 시장의 균형점 변동을 나타낸다. 이러한 변동을 가져올 수 있는 요인으로 옳은 것은? (단, X재는 정상재이고, 수요와 공급의 법칙을 따른다.)

- X재의 균형 가격은 상승한다.
- X재의 균형 거래량은 변함이 없다.

- ① X재의 소비자와 생산자 모두 미래 가격 상승을 예측하였다.
- ② X재의 선호도가 증가하고, X재의 생산 기업 수가 증가하였다.
- ③ X재의 소비자 수가 증가하고, X재의 생산 기술이 발전하였다.
- ④ X재의 보완재 가격이 상승하고, X재의 원자재 가격이 하락하였다.
- ⑤ X재의 대체재 가격이 하락하고, X재의 소비자 소득이 감소하였다.

경제

6. 다음 자료에 대한 분석 및 추론으로 옳은 것은? [3점]

X재와 Y재만을 생산하여 소비하는 갑국과 을국은 비교 우위가 있는 재화만을 생산하여 이익이 발생할 경우에만 교역하기로 하였다. 그림은 갑국의 생산 가능 곡선이고, 표는 교역 후 양국의 X재와 Y재 소비량이다. 단, 양국은 노동만을 생산 요소로 하여 직선인 생산 가능 곡선상에서 생산하며, 생산된 재화는 전량 소비되고, 거래 비용 없이 양국 간에만 거래가 이루어진다. 또한 양국이 보유한 노동량은 동일하다.

<갑국 생산 가능 곡선>

<교역 후 소비량>

구분	X재(개)	Y재(개)
갑국	10	6
을국	20	4

- ① 양국은 X재 1개와 Y재 5/2개를 교환하였다.
- ② 교역 전 을국의 Y재 최대 생산량은 12개이다.
- ③ 을국의 X재 1개 생산의 기회비용은 Y재 1/2개보다 크다.
- ④ 교역 후 갑국의 Y재 1개 소비에 따른 기회비용은 교역 전에 비해 감소한다.
- ⑤ X재와 Y재의 교환 비율이 1:1로 변경될 경우 갑국은 교역에 참여하지 않을 것이다.

7. 인플레이션의 유형 A, B에 대한 설명으로 옳은 것은?

물가가 지속적으로 상승하는 현상을 인플레이션이라고 한다. 총수요가 증가하여 발생하는 A의 경우와 총공급이 감소하여 발생하는 B의 경우 모두 물가는 지속적으로 상승하지만 실질 GDP의 이동 방향은 다르게 나타난다.

- ① A는 주로 경기가 호황일 때 발생한다.
- ② A로 인해 스태그플레이션이 발생할 가능성이 높다.
- ③ B는 순수출의 증가로 인해 나타난다.
- ④ B의 대책으로 가계의 과소비 억제를 들 수 있다.
- ⑤ A는 B와 달리 실질 GDP 감소를 동반한다.

8. 표는 A국의 B국에 대한 상품 수출액과 상품 수지를 나타낸다. 2019년 대비 2020년의 변화에 대한 분석으로 옳은 것은? (단, 무역은 A국과 B국 간에만 이루어진다.)

(단위: 억 달러)

구분	2019년	2020년
상품 수출액	700	900
상품 수지	500	500

- \* 무역액 = 상품 수출액 + 상품 수입액
- ① A국의 상품 수입액은 감소하였다.
  - ② A국의 상품 수출액 증가폭은 상품 수입액 증가폭에 비해 크다.
  - ③ B국의 상품 수지는 개선되었다.
  - ④ A국과 B국의 무역액은 감소하였다.
  - ⑤ B국은 A국에 비해 상품 수출액 증가율이 크다.

9. 다음 자료에서 질문에 대한 대답이 모두 정답일 경우, 깃발의 최종 위치로 옳은 것은? [3점]

그림은 배제성과 경합성의 학습을 위한 경제 수업 관련 게임 자료이다. 규칙은 다음과 같다. 깃발은 (가)에서 출발하여 질문에 대한 대답에 의해 이동한다. 질문은 1번부터 순서대로 진행된다. 질문에 대한 대답이 '예'이면 깃발은 실선을 따라 두 칸 이동하고, '아니요'이면 점선을 따라 한 칸 이동한다.

**질문 카드**

	예	아니요
1. 배제성과 경합성이 모두 있는 재화는 시장에서 거래되는가?	<input type="checkbox"/>	<input type="checkbox"/>
2. 배제성이 없고 경합성이 있는 재화는 자원의 남용이 우려되는가?	<input type="checkbox"/>	<input type="checkbox"/>
3. 온라인 쇼핑몰에서 판매하는 운동화는 배제성이 있고 경합성이 없는가?	<input type="checkbox"/>	<input type="checkbox"/>
4. 경합성이 없으면 한 사람의 소비가 다른 사람의 소비를 제한하는가?	<input type="checkbox"/>	<input type="checkbox"/>
5. 배제성과 경합성이 모두 없는 재화는 시장에서 과다 생산되는가?	<input type="checkbox"/>	<input type="checkbox"/>

- ① (가)    ② (나)    ③ (다)    ④ (라)    ⑤ (마)

10. 다음 자료에 대한 옳은 분석만을 <보기>에서 고른 것은? [3점]

갑은 t년 초 투자를 시작하여 t+2년 말 종료하였다. 갑이 t년 초 금융 상품에 투자한 금액은 1,000만 원이고, 매년 말 금융 상품에 투자한 원금과 수익금 전부를 현금화하여 다음 해 초 현금화한 자금 전액을 재투자하였다. 그림은 갑이 투자한 연도별 금융 상품의 투자 비율이고, 표는 금융 상품별 연간 투자 수익률이다. 단, 세금이나 거래 비용은 없다.

<갑의 연도별 금융 상품 투자 비율>

(단위: %)

t년	20	50	30
t+1년	40	60	
t+2년	100		

■ 예금 ■ 채권 □ 주식

<금융 상품별 투자 수익률>

(단위: %)

구분	예금	채권	주식
t년	2	4	-8
t+1년	1	5	6
t+2년	2	3	-5

- <보 기> —
- ㄱ. 갑의 t년 말 금융상품 투자에 대한 총 수익률은 -2%이다.
  - ㄴ. 갑이 t+2년 초 재투자한 금액은 1,040만 원이다.
  - ㄷ. 갑의 예금 이자 수익은 t년이 t+1년에 비해 많다.
  - ㄹ. 갑이 t+2년 말 현금화한 금액은 t년 초 투자금에 비해 12만 원 감소하였다.

- ① ㄱ, ㄴ    ② ㄱ, ㄷ    ③ ㄴ, ㄷ    ④ ㄴ, ㄹ    ⑤ ㄷ, ㄹ

11. 다음 자료에 대한 분석으로 옳은 것은? [3점]

표는 갑국의 고용과 관련된 15세 이상 인구 구성의 변화를 나타낸다. 고용률은 2019년과 2020년에 모두 60%이며, 취업률은 2020년이 2019년에 비해 상승하였다. 단, (가)~(다)는 각각 실업자, 취업자, 비경제 활동 인구 중 하나이다.

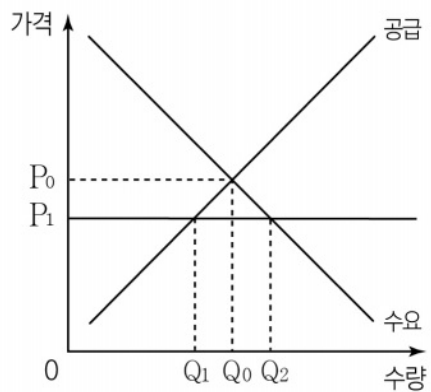
(단위: 만 명)

구분	(가)	(나)	(다)
2019년	60	20	20
2020년	72	8	ⓐ

\* 취업률(%) =  $\frac{\text{취업자수}}{\text{경제활동인구}} \times 100$

- ① ⓐ은 '20'이다.
- ② 2020년의 경제 활동 참가율은 전년과 동일하다.
- ③ 2020년의 비경제 활동 인구는 전년 대비 감소하였다.
- ④ 2020년의 전년 대비 15세 이상 인구 증가율과 취업자 수 증가율은 같다.
- ⑤ (가)는 취업자, (나)는 비경제 활동 인구, (다)는 실업자이다.

12. 그림은 갑국 정부가 X재 시장에서 최고 가격을 P<sub>1</sub>으로 규제한 상황을 나타낸다. 이에 대한 분석으로 옳은 것은? [3점]



- ① 정부의 가격 규제는 생산자를 보호하기 위한 것이다.
- ② 정부의 가격 규제 이후 초과 공급량은 Q<sub>1</sub>Q<sub>2</sub>이다.
- ③ 정부의 가격 규제 이후 시장 거래량은 Q<sub>0</sub>Q<sub>2</sub>만큼 증가한다.
- ④ 정부의 가격 규제 이후 모든 가격 수준에서 공급량이 Q<sub>1</sub>Q<sub>2</sub>만큼 증가하면 사회적 잉여는 증가한다.
- ⑤ 정부의 가격 규제 이후 모든 가격 수준에서 수요량이 Q<sub>0</sub>Q<sub>2</sub>만큼 증가하면 가격 규제의 실효성은 사라진다.

13. 표에 대한 분석으로 옳은 것은? (단, 물가 수준은 GDP 디플레이터로 측정하고, 기준 연도는 2017년이다.)

구분	2017년	2018년	2019년	2020년
실질 GDP(억 달러)	500	550	550	500
GDP 디플레이터	ⓐ	100	110	120

- ① ⓐ은 '90'이다.
- ② 2017년에 실질 GDP는 명목 GDP에 비해 작다.
- ③ 2018년의 경제 성장률은 10%이다.
- ④ 2019년에 명목 GDP와 실질 GDP의 차이가 가장 크다.
- ⑤ 2020년의 명목 GDP는 전년 대비 증가하였다.

14. 다음은 수업 내용의 일부이다. (가)에 들어갈 수 있는 적절한 대답만을 <보기>에서 있는 대로 고른 것은? [3점]

교사: 표는 X재와 Y재 소비량에 따른 총편익을 나타냅니다. X재 가격은 1,000원, Y재 가격은 2,000원입니다. 수업 시간에 학습한 비용과 편익 내용을 바탕으로 표를 분석해 보세요. 단, X재와 Y재의 최대 소비량은 각각 6개씩입니다.

소비량(개)	X재 총편익(원)	Y재 총편익(원)
1	2,000	3,000
2	4,000	6,000
3	5,500	8,500
4	6,500	10,500
5	7,000	12,500
6	7,500	14,000

갑: 6,000원을 지출할 경우 X재 2개, Y재 2개를 소비할 때 총편익이 가장 큼니다.  
 을: X재 5개를 소비할 때 평균 편익은 X재 6개를 소비할 때 평균 편익보다 큼니다.  
 병: \_\_\_\_\_ (가)  
 교사: 모두 수고했습니다. 그런데 한 명이 옳지 않은 진술을 했군요.

- <보 기>
- ㄱ. X재 1개 추가 소비에 따른 총편익의 증가분은 지속적으로 감소합니다.
  - ㄴ. X재를 2개째 소비할 때와 Y재를 4개째 소비할 때 추가되는 총편익의 증가분은 같습니다.
  - ㄷ. 10,000원을 지출할 경우 X재 6개, Y재 2개를 소비할 때 순편익이 가장 큼니다.
  - ㄹ. 8,000원을 지출할 경우 X재 6개, Y재 1개를 소비할 때와 Y재 4개를 소비할 때의 총편익은 같습니다.

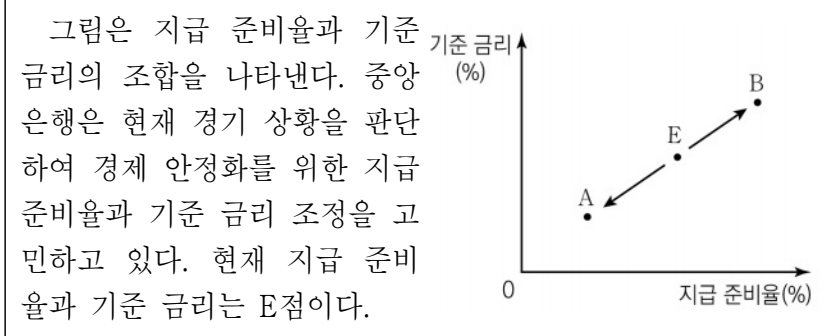
- ① ㄱ, ㄴ
- ② ㄱ, ㄷ
- ③ ㄴ, ㄹ
- ④ ㄱ, ㄷ, ㄹ
- ⑤ ㄴ, ㄷ, ㄹ

15. 표는 갑의 여유 자금 투자 현황을 나타낸다. 이에 대한 설명으로 옳은 것은?

투자 내역	금액(만 원)
A 회사의 채권 구입	2,000
B 회사의 주식 구입	4,000
C 은행의 정기 예금 가입	6,000
계	12,000

- ① 갑은 A 회사로부터 배당금을 받을 수 있다.
- ② 갑은 A 회사의 주주로서 의결권을 행사할 수 있다.
- ③ 갑은 만기 시 B 회사로부터 원금 4,000만 원을 상환받는다.
- ④ 갑이 C 은행 상품에 가입한 자금은 예금자 보호법에 의해 전액 보호받는다.
- ⑤ 갑이 이자 수익을 기대할 수 있는 금융 상품에 투자한 금액은 8,000만 원이다.

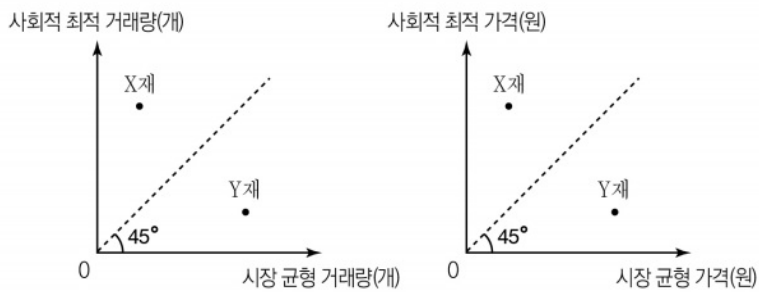
16. 다음 자료에 대한 옳은 분석 및 추론만을 <보기>에서 고른 것은? (단, 총수요 곡선은 우하향하고 총공급 곡선은 우상향한다.)



<보기>  
 ㄱ. A점으로의 조정은 물가 상승 요인이 된다.  
 ㄴ. 현재 경기를 침체 상황으로 판단하면 A점으로 조정할 것이다.  
 ㄷ. B점으로 조정하면 통화량이 증가할 것이다.  
 ㄹ. 중앙은행이 국공채를 매입하면 B점으로 조정할 것과 같은 효과를 얻을 수 있다.

- ① ㄱ, ㄴ    ② ㄱ, ㄷ    ③ ㄴ, ㄷ    ④ ㄴ, ㄹ    ⑤ ㄷ, ㄹ

17. 그림은 갑국의 X재와 Y재의 시장에서 발생한 외부 효과를 나타낸다. 이에 대한 분석으로 옳은 것은? (단, X재와 Y재는 모두 수요와 공급의 법칙을 따른다.) [3점]



- ① X재는 사적 비용이 사회적 비용에 비해 작다.  
 ② X재는 벌금을 부과하여 외부 효과를 개선할 수 있다.  
 ③ Y재는 사적 편익이 사회적 편익에 비해 크다.  
 ④ X재는 외부 불경제, Y재는 외부 경제가 발생하고 있다.  
 ⑤ X재와 Y재는 모두 생산 측면의 외부 효과에 해당한다.

18. 밑줄 친 ㉠의 영향에 대한 옳은 분석만을 <보기>에서 고른 것은? (단, 환율 변동 이외의 다른 조건은 고려하지 않는다.)



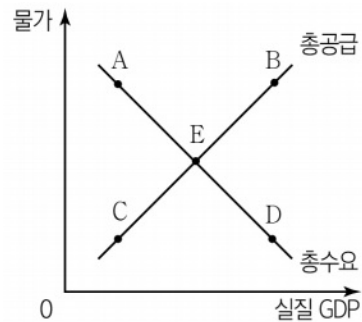
갑국이 ㉠달러 대비 갑국 화폐 가치를 고의로 하락시켰습니다. 이에 미국은 갑국을 환율 조작국으로 지정할 지 검토하고 있습니다.

<보기>  
 ㄱ. 갑국 통화/미국 달러 환율은 하락한다.  
 ㄴ. 갑국은 대미 무역에서 경상수지가 개선된다.  
 ㄷ. 갑국에서 미국산 수입 제품의 가격은 높아진다.  
 ㄹ. 갑국의 미국 달러화 표시 외채 상환 부담은 감소한다.

- ① ㄱ, ㄴ    ② ㄱ, ㄷ    ③ ㄴ, ㄷ    ④ ㄴ, ㄹ    ⑤ ㄷ, ㄹ

19. 다음 자료를 통해 추론할 수 있는 갑국과 을국의 국민 경제 균형점 변동 방향으로 옳은 것은? (단, 갑국과 을국의 현재 균형점은 E이며, 다른 조건은 변함이 없다.)

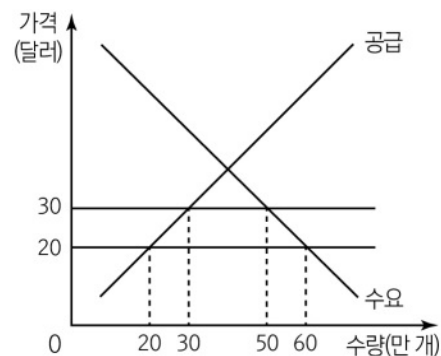
- 갑국: 코로나 19로 위축된 경기를 활성화시키기 위해 정부 지출을 확대하였다.
- 을국: 생산 공정을 자동화하는 스마트 팩토리 시스템이 산업 전체로 확대되어 생산비가 하락하였다.



	갑국	을국	갑국	을국	
①	A	B	②	B	A
③	B	D	④	C	A
⑤	C	D			

20. 밑줄 친 ㉠, ㉡으로 인한 갑국의 X재 시장 변화로 옳은 것은? [3점]

그림은 갑국의 X재 시장 상황을 나타낸다. X재는 국제 가격 20달러에서 갑국의 국내 시장에 무한정 공급이 가능하다. 갑국은 X재 ㉠개당 10달러의 관세를 부과하였다. 1년 후 ㉡ X재의 수요량이 모든 가격 수준에서 10만 개씩 증가하였다.



- ① ㉠으로 인해 갑국의 X재 수입량은 10만 개 감소한다.  
 ② ㉠으로 인해 국내 기업의 X재 판매 수입은 100만 달러 증가한다.  
 ③ ㉠으로 인한 갑국의 소비자 잉여 감소분은 생산자 잉여 증가분보다 작다.  
 ④ ㉡ 이후 관세 수입은 300만 달러이다.  
 ⑤ ㉡ 이후 국내 기업의 X재 생산량은 10만 개 증가한다.

\* 확인 사항  
 ○ 답안지의 해당란에 필요한 내용을 정확히 기입(표기)했는지 확인 하시오.

제 4 교시

사회탐구 영역 (정치와 법)

성명	수험번호	3	제 [ ] 선택
----	------	---	----------

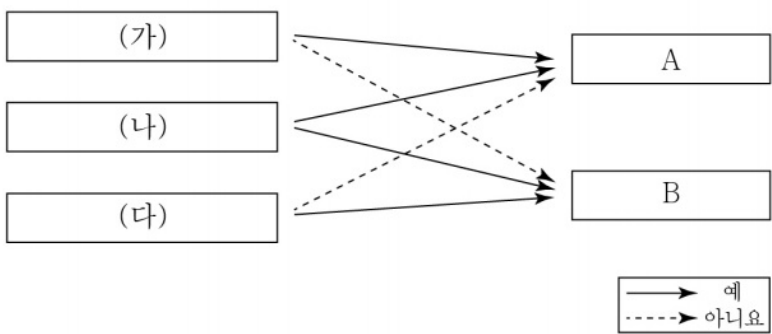
1. 정치를 바라보는 갑, 을의 관점에 대한 설명으로 옳은 것은?

교사: 우리 학교는 자판기 설치와 관련된 갈등을 해결하기 위해 학생, 학부모, 교사가 여러 차례 회의를 거쳐 합의안을 마련했습니다. 이러한 활동을 정치라고 볼 수 있을까요?  
 갑: 정치는 정치권력을 획득, 유지, 행사하는 것과 관련된 활동을 의미하므로 학교에서의 합의안 마련 과정은 정치로 보기 어렵습니다.  
 을: 정치는 다양한 사회 구성원들 사이의 이해관계와 갈등을 해결하는 과정입니다. 학교에서 이루어지는 다양한 의사 결정 과정도 정치로 볼 수 있습니다.  
 교사: \_\_\_\_\_ (가)

- ① 갑의 관점은 다원화된 현대 사회의 정치 현상을 설명하기에 적합하다.
- ② 을의 관점은 국가 형성 이전의 정치 현상을 설명하기에 적합하지 않다.
- ③ 을의 관점은 지역 현안 해결을 위한 주민 공청회를 정치로 보지 않는다.
- ④ 갑과 을의 관점은 모두 선거를 통한 공직자 선출 과정을 정치로 본다.
- ⑤ (가)에 '옳은 정치 현상에 있어서 사회 집단과 국가가 본질적으로 다르다고 보는군요.'가 들어갈 수 있다.

2. 전형적인 정부 형태 A, B를 그림과 같이 구분할 때, (가) ~ (다)에 들어갈 적절한 질문만을 <보기>에서 고른 것은? [3점]

정부 형태	특징
A	입법부와 행정부 간 권력 융합적 성격
B	입법부와 행정부 간 엄격한 권력 분립을 통한 견제와 균형



<보 기>  
 가. 사법부의 독립을 보장하는가?  
 나. 행정부 수반이 국가 원수와 동일인인가?  
 다. 행정부가 법률안 제출권을 가지고 있는가?  
 라. 행정부가 의회에 대해 정치적 책임을 지는가?

- |   |     |     |     |   |     |     |     |
|---|-----|-----|-----|---|-----|-----|-----|
|   | (가) | (나) | (다) |   | (가) | (나) | (다) |
| ① | ㄱ   | ㄴ   | ㄷ   | ② | ㄱ   | ㄴ   | ㄷ   |
| ③ | ㄷ   | ㄱ   | ㄴ   | ④ | ㄷ   | ㄴ   | ㄱ   |
| ⑤ | ㄴ   | ㄱ   | ㄷ   |   |     |     |     |

3. 기본권 유형 A, B에 대한 설명으로 옳은 것은? (단, A, B는 각각 자유권, 청구권 중 하나이다.)

- ◇◇법 위반으로 구속 기소된 청구인의 변론 준비를 위해 청구인의 변호인이 피청구인인 검사에게 사건 수사 기록 일체의 열람·등사를 신청한 것에 대하여 정당한 사유를 밝히지 아니한 채 피청구인이 이를 거부한 것은 청구인의 신속하고 공정한 재판을 받을 권리인 A를 침해한 것으로써 위헌이다.
- △△법 시행 전에 행해진 범죄 행위에 대해서도 공소 제기의 시기가 △△법의 시행 이후이면 이를 적용하도록 하고 있는 바, 범죄 행위 당시보다 불이익한 법률을 소급 적용하여 신체의 자유를 내용으로 하는 청구인의 B를 침해한 것으로써 위헌이다.

- ① A는 최소한의 인간다운 생활을 보장받기 위한 권리이다.
- ② A는 국가의 정치 과정에 참여할 수 있는 능동적 권리이다.
- ③ B는 소극적이고 방어적 성격의 권리이다.
- ④ B는 다른 기본권 보장을 위한 수단적 권리이다.
- ⑤ A는 B와 달리 다른 기본권 보장의 전제 조건이 되는 권리이다.

4. 표는 질문을 통해 법치주의의 유형 A, B를 구분한 것이다. 이에 대한 설명으로 옳은 것은?

질문	A	B
독재를 정당화하는 근거로 악용될 우려가 있는가?	아니요	예
(가)	예	아니요
국가 권력은 의회가 제정한 법률에 근거하여 행사되어야 한다고 보는가?	㉠	㉡

- ① A는 B와 달리 국민의 기본권 제한에 대한 법적 근거의 필요성을 인정한다.
- ② B는 A와 달리 입법의 절차적 합법성을 강조한다.
- ③ A와 B는 모두 법률로 금지되는 행위와 법적 제재를 미리 규정하도록 하여 법적 안정성을 보장하고자 한다.
- ④ (가)에는 '통치자도 법의 구속을 받아야 한다고 보는가?'가 들어갈 수 있다.
- ⑤ ㉠에는 '예', ㉡에는 '아니요'가 들어갈 수 있다.

5. 우리나라 헌법의 기본 원리 (가), (나)에 대한 설명으로 옳은 것은?

구분	관련 헌법 조항
(가)	제34조 ② 국가는 사회 보장·사회 복지의 증진에 노력할 의무를 진다.
(나)	제9조 국가는 전통문화의 계승·발전과 민족 문화의 창달에 노력하여야 한다.

- ① (가)의 실현을 위해 침략적 전쟁을 부인한다.
- ② (가)는 근대 입헌주의 헌법이 추구하는 핵심적 원리이다.
- ③ (나)는 모든 국민의 기본적 생활 수요를 충족하기 위해 등장하였다.
- ④ (나)의 실현을 위해 의무 교육 제도를 시행하며 평생 교육을 진흥한다.
- ⑤ (가)와 달리 (나)의 실현을 위해서는 국가의 적극적인 역할이 요구된다.

정치와 법

6. 다음 대화에 대한 옳은 설명만을 <보기>에서 고른 것은? [3점]



<보 기>

ㄱ. 갑이 소속된 노동조합은 갑에 대한 부당 노동 행위를 이유로 지방 노동 위원회에 구제 신청을 할 수 없다.  
 ㄴ. 갑이 중앙 노동 위원회에 재심 신청을 했으나 기각된다면, 중앙 노동 위원회 위원장을 상대로 행정 소송을 제기할 수 있다.  
 ㄷ. 을은 회사가 근로 3권을 침해한 것을 이유로 구제 신청을 할 수 있다.  
 ㄹ. (가)에는 '노동 위원회를 거치지 않고 바로 법원에 해고 무효 확인 소송을 제기할 수 있어요.'가 들어갈 수 있다.

- ① ㄱ, ㄴ    ② ㄱ, ㄷ    ③ ㄴ, ㄷ    ④ ㄴ, ㄹ    ⑤ ㄷ, ㄹ

7. 자료는 형사 재판에 대한 대법원 판결문 중 일부이다. 이에 대한 분석 및 추론으로 옳은 것은? [3점]

**【주 문】** 원심 판결 중 피고인에 대한 부분을 파기하고, 이 부분 사건을 ○○ 지방 법원에 환송한다.  
**【이 유】**  
 ... (중략) ...  
 형법 제227조의2(공전자 기록 위작·변작)는 “사무 처리를 그르치게 할 목적으로 공무원 또는 공무원의 전자기록 등 특수 매체 기록을 위작 또는 변작한 자는 10년 이하의 징역에 처한다.”라고 규정하고 있다. 따라서 그 행위 주체가 공무원과 공무원이 아닌 경우에는 형법 또는 특별법에 의하여 공무원 등으로 의제되는 경우를 제외하고는 계약 등에 의하여 공무와 관련되는 업무를 일부 대행하는 경우가 있더라도 공무원 또는 공무원이 될 수 없다. 형벌 법규의 구성 요건인 공무원 또는 공무원의 규정도 없이 확장 해석하거나 유추 해석하는 것은 **□(가)** 원칙에 반하기 때문이다.  
 \*위작: 남의 작품을 흉내 내어 비슷하게 만드는 일.  
 \*\*변작: 권한 없이 기존물의 형상이나 내용에 변경을 가함.

- ① 1심 법원은 지방 법원 본원 및 지원의 단독 관사일 것이다.  
 ② 대법원은 원심 법원의 구성 요건 해당성에 대한 판단을 수용하고 있다.  
 ③ 대법원은 범죄의 성립과 처벌은 재판 당시의 법률에 의한다는 점을 강조하고 있다.  
 ④ 대법원은 범죄의 경중과 이에 따른 형량은 사회 관념상 합리적 수준을 유지해야 한다고 판시하고 있다.  
 ⑤ (가)는 어떠한 경우에도 예외가 인정되지 않는다.

8. 우리나라 국가 기관 A~E에 관한 옳은 설명만을 <보기>에서 고른 것은? [3점]

- A는 국가의 세입·세출의 결산 검사권을 가진다.
- B는 위헌·위법한 명령·규칙·처분에 대한 최종 심사권을 가진다.
- C는 D의 제청으로 국회의 동의를 얻어 대통령이 임명한다.
- E는 국회의 동의를 얻어 대통령이 임명한다.

<보 기>

ㄱ. A는 국정 감사 및 조사권을 가진다.  
 ㄴ. B는 선거 소송 재판권, 상고·재항고심 관할권을 가진다.  
 ㄷ. C에는 국무 위원, D에는 국무총리가 들어갈 수 있다.  
 ㄹ. 대법원장과 헌법 재판소장은 모두 E에 해당한다.

- ① ㄱ, ㄴ    ② ㄱ, ㄷ    ③ ㄴ, ㄷ    ④ ㄴ, ㄹ    ⑤ ㄷ, ㄹ

9. 정치 참여 집단 A~C에 대한 설명으로 옳은 것은? (단, A~C는 각각 정당, 시민 단체, 이익 집단 중 하나이다.)

정권 획득을 목적으로 하는 A 소속의 의원들은 중대한 인명 피해를 주는 산업 재해가 발생한 경우 사업주 등 경영 책임자에 대한 형사 처벌을 강화하고 기업에 책임을 부과하는 내용의 법률안을 발의하였다. 이에 대해 건설업계 대표들로 구성된 B는 해당 법률안이 소속 회원들의 자유로운 이익 추구를 방해하고 건설업 발전을 저해할 것이라며 반대 의사를 표명하였다. 반면, 인권 보호 활동을 해 온 C는 산업 재해로 사망하는 노동자를 줄이기 위해서는 해당 법률안의 빠른 처리가 필요하다고 지지 입장을 밝혔다.

- ① A는 국민에 대해 정치적 책임을 진다.  
 ② B는 공익을 추구하고, 영리를 목적으로 하지 않는다.  
 ③ C는 여론을 반영하여 의회와 정부를 매개하는 역할을 한다.  
 ④ A는 C와 달리 정부 정책을 비판하고 견제하는 역할을 한다.  
 ⑤ C는 B와 달리 정책 결정 과정에서 정치 사회화 기능을 수행한다.

10. 국제 연합의 주요 기관 A~C에 대한 설명으로 옳은 것은? (단, A~C는 각각 총회, 국제 사법 재판소, 안전 보장 이사회 중 하나이다.)

갑국이 국제 연합의 사법 기관인 A에 을국을 상대로 ○○족 집단 학살을 제소하였다. 이에 대해 A는 을국 정부에게 ○○족을 보호하기 위한 잠정 조치를 명령하며 빠른 시일 내에 판결을 진행하겠다고 밝혔다. 이러한 결정 이전에도 B가 ○○족에 대한 을국 정부의 인권 탄압을 규탄하는 결의안을 표결에 부쳐 134개국의 찬성으로 가결된 바 있으나 B의 결의안은 법적 구속력이 없어 한계가 있었다. 만약 A가 내리는 최종 판결을 을국 정부가 이행하지 않을 경우 국제 평화와 안전 유지의 책임을 맡은 기관인 C가 적절한 조치를 취할 수 있다.

- ① 유엔 회원국은 물론 비회원국도 A에 재판을 청구할 수 있다.  
 ② B에서의 의결권은 회원국의 분담금에 따라 차등적으로 배분된다.  
 ③ C는 모든 회원국이 참여하는 최고 의결 기관이다.  
 ④ A는 C와 달리 국가 간 분쟁뿐 아니라 국가와 개인 간 법적 분쟁도 다룬다.  
 ⑤ B와 C는 모두 강대국의 힘의 원리가 반영된 표결 방식을 따른다.

11. 정당 제도의 유형 A, B의 일반적인 특징으로 옳은 것은? (단, A, B는 각각 양당제와 다당제 중 하나이다.)

민주 국가의 정당 제도는 크게 A와 B로 나뉜다. 정당 제도는 한 나라의 역사적 상황과 정치적 특성에 따라 다르게 나타나는데, 특히 그 나라의 의회 선거 제도의 영향을 많이 받는다. 대체로 소선거구 단순 다수 대표제를 채택한 경우에는 A, 비례 대표제를 채택한 경우에는 B가 주로 나타나는 경향이 있다.

- ① A는 B에 비해 군소 정당의 난립 가능성이 높다.
② A는 B에 비해 정책 실패에 대한 책임 소재가 분명하다.
③ B는 A에 비해 유권자의 정당 선택 폭이 좁다.
④ B는 A에 비해 다수당의 횡포가 나타나기 쉽다.
⑤ B는 A와 달리 평화적 정권 교체가 가능하다.

12. 다음 사례에 대한 옳은 법적 판단만을 <보기>에서 고른 것은? [3점]

출장을 가게 된 A는 반려견 호텔을 운영하는 B와 출장 기간 동안 본인의 개를 안전하게 관리해 줄 것을 내용으로 하는 계약을 체결하였다. 계약 내용대로 B가 A의 개를 데리고 산책을 나가던 중, 건물 입구로 들어오고 있던 음식 배달원 C와 마주쳤다. 이때 B가 실수로 목줄을 놓치는 바람에 A의 개가 C의 다리를 물어 깊은 상처를 입혔고, 계속 공격하려는 개를 피할 방법이 없었던 C는 A의 개를 발로 차서 상처를 입혔다.

<보 기>
ㄱ. B는 실수로 목줄을 놓쳤으므로 불법 행위 책임을 지지 않는다.
ㄴ. A는 채무 불이행을 이유로 B에게 손해 배상을 청구할 수 있다.
ㄷ. A의 개에 대한 C의 행위가 긴급 피난에 해당할 경우 C는 불법 행위 책임을 면할 수 있다.
ㄹ. A, B가 연대하여 C에게 손해를 배상하여야 한다.

- ① ㄱ, ㄴ ② ㄱ, ㄷ ③ ㄴ, ㄷ ④ ㄴ, ㄹ ⑤ ㄷ, ㄹ

13. 다음의 법조문이 공통적으로 추구하는 민법의 기본 원리에 대한 진술로 가장 적절한 것은?

○ 원자력 손해 배상법 제3조 ① 원자로의 운전 등으로 인하여 원자력 손해가 생겼을 때에는 해당 원자력 사업자가 그 손해를 배상할 책임을 진다. ... (후략) ...
○ 환경 정책 기본법 제44조 ① 환경 오염 또는 환경 훼손으로 피해가 발생한 경우에는 해당 환경 오염 또는 환경 훼손의 원인이자 그 피해를 배상하여야 한다.

- ① 개인은 자신이 소유하는 재산을 공공의 이익에 부합하도록 사용해야 한다.
② 개인은 자신이 소유하는 재산을 배타적으로 사용·수익 또는 처분할 권리를 가진다.
③ 개인은 자신의 고의나 과실로 손해를 야기한 경우에 한하여 그 배상의 책임을 진다.
④ 법률관계의 형성은 개인의 자유로운 의사에 맡겨야 하고 국가가 개입해서는 안 된다.
⑤ 고의나 과실이 없어도 타인에게 피해를 준 경우 일정한 요건에 따라 책임을 져야 한다.

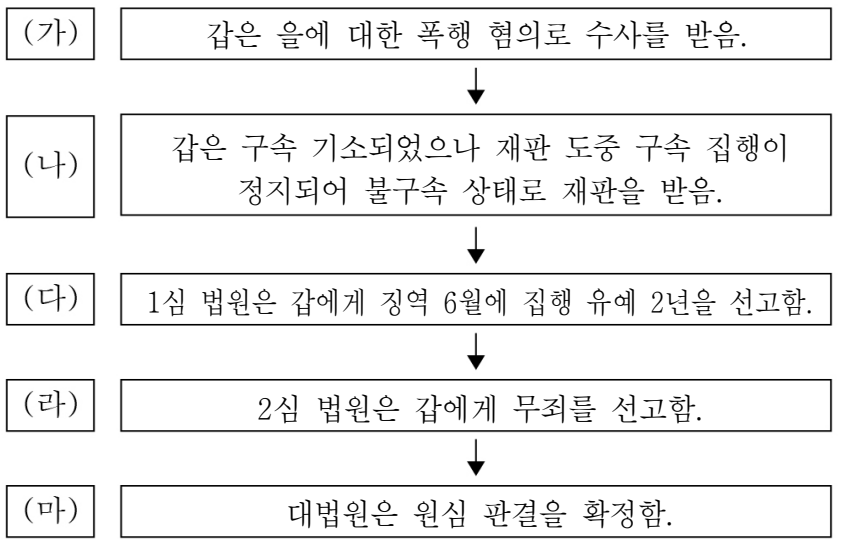
14. 다음 글에 대한 옳은 분석 및 추론만을 <보기>에서 고른 것은? [3점]

갑은 인구 주택 총 조사 때 표본에 선정되었으나 조사에 응하지 않았다. 갑은 조사원이 아침 이른 시간과 야간에 주거를 방문해 성명과 생년월일, 종교 등 개인 정보의 제공을 요구하고, 이를 거부하면 과태료를 부과하는 것이 ㉠ 기본권을 침해하는 행위라고 주장하면서 헌법 재판소에 직접 (가) 을/를 청구하였다. 이에 대해 헌법 재판소는 중국 결정에서 인구 주택 총 조사의 조사 항목 중 성명, 성별, 나이 등 38개 항목은 범세계적 조사 항목에 속하고, 맞벌이 부부의 증가로 부득이하게 출근 시간 직전 및 퇴근 직후에 방문 면접 조사를 실시하는 것이 불합리하지 않다면 인구 주택 총 조사로 인해 제한되는 사익은 청구인의 개인 정보를 피청구인에게 제공해야 하는 불이익인 반면, 총 조사로 달성하려는 공익은 사회 발전에 기여하고자 하는 것으로써, 제한되는 사익보다 훨씬 크고 중요하다고 볼 수 있다고 판단하여 ㉡ 기각 결정을 하였다.

<보 기>
ㄱ. ㉠은 수단적·절차적 권리의 성격을 가진다.
ㄴ. ㉡을 위해서는 헌법 재판관 6인 이상의 찬성이 필요하다.
ㄷ. 헌법 재판소는 ㉡의 판단에 있어 과잉 금지 원칙을 기준으로 삼았을 것이다.
ㄹ. (가)는 공권력에 의해 국민의 기본권이 침해된 경우 최종적으로 이를 구제하는 심판이다.

- ① ㄱ, ㄴ ② ㄱ, ㄷ ③ ㄴ, ㄷ ④ ㄴ, ㄹ ⑤ ㄷ, ㄹ

15. (가) ~ (마)의 상황에 대한 법적 판단으로 옳은 것은? [3점]



- ① (가)에서 갑에 대한 수사가 개시되기 위해서는 을의 고소가 있어야만 한다.
② (나)에서 구속 적부 심사 결과 갑의 구속 집행이 정지되었을 것이다.
③ 갑은 (라)의 무죄 판결이 선고되기 전까지 무죄 추정의 원칙이 적용되지 않는다.
④ 갑은 (마) 이후 국가에 형사 보상을 청구할 수 있다.
⑤ 을은 재판의 당사자로서 (다), (라)의 판결에 대해 각각 항소와 상고할 수 있다.



16. 다음 사례에 대한 법적 판단으로 옳은 것은? [3점]

갑은 을과 ㉠협의 이혼을 하면서 혼인 중에 출생한 A(17세)에 대한 친권자 및 양육자로 지정받았다. 홀어머니 정을 모시는 갑은 병과 법률혼을 하였다. A는 적법한 절차를 거쳐 병의 ㉡친양자로 입양되었고, 그 이듬해에 갑과 병은 B를 출산하였다. 그런데 갑이 퇴근길에 교통사고로 사망하였다. 사망 후 자신의 전 재산을 정에게 남긴다는 갑의 유언장이 발견되었다.

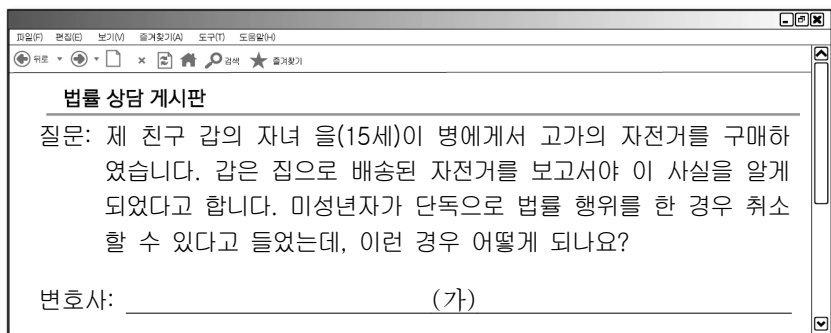
- ① ㉠은 법원의 판결을 통해 혼인 관계를 해소시키는 것이다.
- ② ㉠은 법원을 거치지 않아도 되며, 이혼 신고가 없더라도 이혼의 효력이 발생한다.
- ③ ㉡으로 인해 을과 A의 친자 관계는 소멸된다.
- ④ 유언장이 무효이면 A, B, 병, 정이 갑의 상속인이 된다.
- ⑤ 유언장이 무효이고 A가 상속을 포기하면 B가 단독으로 상속을 받을 수 있다.

17. 우리나라 지방 자치의 주민 참여 제도 (가)~(다)에 대한 설명으로 옳지 않은 것은?

구분	의미
(가)	지방 자치 단체의 예산 편성 과정에 주민이 직접 참여하는 제도
(나)	선거로 선출된 지역 공직자의 직무 수행에 심각한 문제가 있을 때 주민이 투표로 해임할 수 있는 제도
(다)	주민에게 중대한 영향을 미치는 주요 사항을 주민이 직접 투표로 결정하는 제도

- ① (가)를 통해 지방 재정 운영의 투명성을 제고할 수 있다.
- ② (나)를 통해 지방 자치 단체장을 해당 직에서 물러나게 할 수 있다.
- ③ (다)는 대의제를 보완하는 직접 민주 정치 요소를 가진 제도이다.
- ④ (나)는 (다)와 달리 지방 행정의 민주성을 높이기 위한 제도이다.
- ⑤ (가)~(다) 모두 지역 사무에 관한 주민들의 관심과 참여를 증가시키는 효과를 기대할 수 있다.

18. 밑줄 친 (가)에 들어갈 옳은 내용만을 <보기>에서 고른 것은? [3점]



<보 기>

ㄱ. 법정 대리인 갑은 을의 동의 없이 계약을 취소할 수 있습니다.  
 ㄴ. 병은 을에게 계약의 취소 여부에 대한 확답을 요구할 수 있습니다.  
 ㄷ. 병이 거래 당시 을이 미성년자임을 몰랐을 경우 병은 계약 체결의 의사 표시를 철회할 수 있습니다.  
 ㄹ. 계약 당시 을이 속임수로써 병으로 하여금 성인으로 믿게 했다면 계약은 무효이므로 대금을 지급하지 않아도 됩니다.

- ① ㄱ, ㄴ    ② ㄱ, ㄷ    ③ ㄴ, ㄷ    ④ ㄴ, ㄹ    ⑤ ㄷ, ㄹ

19. 국제 관계를 바라보는 갑, 을의 관점에 대한 설명으로 옳은 것은?

사회자: ○○지역에 위치한 A국의 군비 확장 정책으로 인해 주변 국가들의 안보상의 우려가 커지고 있습니다. 이 지역의 안정을 위해 어떤 노력이 필요할까요?  
 갑: A국과 힘의 균형을 이루도록 B국과 C국이 동맹 관계를 강화해야 합니다.  
 을: A국을 포함한 ○○지역 다자 안보 체제를 구성하여 공동 안보 개념을 바탕으로 안보 협력을 꾀할 필요가 있습니다.

- ① 갑의 관점은 국제법과 국제기구의 중요성을 강조한다.
- ② 갑의 관점은 세력 균형을 통해서 전쟁을 억제할 수 있다고 본다.
- ③ 을의 관점은 홉스의 인간관을 배경으로 한다.
- ④ 을의 관점은 갑의 관점에 비해 냉전 체제를 설명하기에 용이하다.
- ⑤ 갑의 관점은 을의 관점과 달리 보편적 선의 관점에서 국제 관계를 설명한다.

20. 다음 자료에 대한 분석 및 추론으로 옳은 것은? [3점]

현재 갑국의 의회 의원은 지역구 선거와 비례 대표 선거로 나누어 선출하며, 유권자는 지역구 선거에서 후보자에 1표, 비례 대표 선거에서 정당에 1표를 행사한다. 지역구 선거에서는 선거구별 다득표순에 따라 정해진 순위까지 당선되고, 비례 대표 선거에서는 전국을 하나의 선거구로 하는 정당 명부식 비례 대표제를 실시한다. 그런데 갑국은 의회 의원 선거 제도를 다음과 같이 개정하고자 한다.

<개정안>

- 연동형 비례 대표제를 도입하고, 지역구 의석만 100석 증가시킨다.
- 지역구 선거는 현행 선거구를 유지한 채 선거구별 당선자 수만 2배로 늘린다.
- 의회 의원 정수(定數)에 정당별 비례 대표 선거 득표율을 곱하여 정당별 할당 의석수를 구하고, 정당별 비례 대표 의석은 정당별 할당 의석수에서 지역구 의석수를 뺀 만큼 배정된다.
- 정당의 지역구 의석수가 정당별 할당 의석수를 초과할 경우 해당 정당의 지역구 의석수는 그대로 인정하고, 비례 대표 의석은 배분하지 않는다. (의회 전체 의석수가 변동될 수 있음.)

정당	현행 선거 결과			개정안 적용 예상 결과	
	지역구 의석수(석)	비례 대표 선거 득표율(%)	전체 의석수(석)	지역구 의석수(석)	비례 대표 선거 득표율(%)
A	30	40	70	50	40
B	40	35	75	80	35
C	15	10	25	30	10
D	10	5	15	25	5
E	5	10	15	15	10
합계	100	100	200	200	100

\* 갑국의 지역구 선거의 선거구 수는 100개임.  
 \*\* 갑국에 A당~E당 이외의 정당은 존재하지 않으며 무소속 의원은 없음.  
 \*\*\* '개정안 적용 예상 결과'는 현행 선거 결과를 개정안에 적용 시 예상되는 결과임.

- ① 개정안을 적용했을 때 갑국 의회 전체 의석수는 300석일 것이다.
- ② 개정안을 적용했을 때 현행 선거 결과에 비해 지역구 선거에서 사표가 증가할 것이다.
- ③ 현행 지역구 선거 결과 2위 득표자가 가장 많은 정당은 A당일 것이다.
- ④ 개정안을 적용했을 때 현행 선거 결과에 비해 비례 대표 의석수가 가장 많이 증가할 정당은 E당일 것이다.
- ⑤ 개정안을 적용했을 때 C당과 D당 모두 비례 대표 의석은 배분되지 않는다.

\* 확인 사항

- 답안지의 해당란에 필요한 내용을 정확히 기입(표기)했는지 확인하시오.

제 4 교시

사회탐구 영역 (사회·문화)

성명	수험번호	3	제 [ ] 선택
----	------	---	----------

1. 밑줄 친 ㉠~㉣과 같은 현상의 일반적인 특징에 대한 설명으로 옳은 것은?

식물의 뿌리는 ㉠ 광합성으로 만든 산물의 약 30%를 분비한다. 이에 착안하여 국내 연구팀은 병충해가 발생한 식물이 휘발성유기화합물을 만들어 ㉡ 이웃한 식물에게 해충의 공격을 알린다는 사실을 찾아냈다. 또한 이어진 연구에서 식물이 공기 중으로 냄새를 전달하고 이를 통해 ㉢ 생장에 유리한 유익균을 선별한다는 것을 발견하였다. 연구 결과는 ㉣ 세계 생태학 분야 학술지에 게재될 예정이다.

- ① ㉠과 같은 현상은 ㉡과 같은 현상과 달리 개연성으로 설명된다.
- ② ㉡과 같은 현상은 ㉢과 같은 현상과 달리 당위 법칙의 지배를 받는다.
- ③ ㉢과 같은 현상은 ㉣과 같은 현상과 달리 보편성과 특수성이 공존한다.
- ④ ㉣과 같은 현상은 ㉠과 같은 현상과 달리 가치 함축적이다.
- ⑤ ㉠, ㉡과 같은 현상은 ㉢, ㉣과 같은 현상과 달리 경험적 자료를 통한 연구가 가능하다.

2. 다음은 사회·문화 현상을 바라보는 관점 A~C에 대한 수행 평가이다. 이에 대한 설명으로 옳은 것은? (단, A~C는 각각 갈등론, 기능론, 상징적 상호 작용론 중 하나이다.) [3점]

○ 수행 평가 과제: N잡러(여러 직업을 가진 사람) 증가 현상을 바라보는 관점 구분하기

진술	학생	갑	을
N잡러 증가 현상은 고용 유연화를 통해 노동 시장 지배력을 견고히 하려는 기득권층의 의도가 반영된 것이다.		C	B
N잡러 증가 현상은 부업과 여가 활동을 즐기며 살아가는 삶에 대한 긍정적 인식이 사회 구성원들에게 확산되면서 나타나는 것이다.		A	C
N잡러 증가 현상은 사회의 고용 충원 요구에 부응하는 것으로써 사회의 안정을 도모하고 사회 발전에 기여하는 것이다.		B	A

○ 교사 평가: 갑은 사회 유기체설에 입각한 관점만 옳게 구분하였고, 을은 거시적 관점에 해당하는 진술을 서로 반대로 구분함.

- ① A는 인간 행위의 자율성과 능동성을 강조한다.
- ② B는 사회 유지에 필요한 기능의 상호 의존성에 관심을 둔다.
- ③ C는 대립과 갈등이 사회 구조의 필연적 속성이라고 본다.
- ④ A는 B와 달리 사회가 스스로 균형을 유지하려는 속성을 지닌다고 본다.
- ⑤ B는 C와 달리 개인의 행위에 미치는 사회 구조의 영향력을 간과한다는 비판을 받는다.

3. 자료 수집 방법 A~D의 일반적인 특징에 대한 설명으로 옳은 것은? (단, A~D는 각각 면접법, 실험법, 질문지법, 참여 관찰법 중 하나이다.)

- A와 B는 주로 양적 연구에서 활용된다.
- A와 D는 자료 수집 과정에서 언어적 상호 작용이 필수적이다.
- C와 D는 (가)

- ① A는 자료 수집 과정에서 조사자의 유연한 대처가 용이하다.
- ② C는 B에 비해 실제성이 높은 생생한 자료를 확보하기 용이하다.
- ③ D는 B에 비해 자료 수집 상황에 대한 통제 수준이 높다.
- ④ A는 C, D에 비해 조사 대상자와의 정서적 교감을 중시한다.
- ⑤ (가)에는 '표준화 및 구조화된 도구를 활용하여 대량의 자료를 수집한다.'가 들어갈 수 있다.

4. 다음 사례를 연구 윤리 측면에서 평가한 진술로 가장 적절한 것은?

갑은 노동자의 권리 이해 정도가 노동권 침해 상황 대처에 미치는 영향을 연구하고자 하였다. 이를 위해 공개적으로 모집한 노동자들에게 연구 목적과 방법을 설명한 후, 참여 의사를 밝힌 노동자에게 설문 자료를 수집하였다. 자료 분석 결과, 변수 간의 상관관계가 명확하지 않아 연구 대상 범위를 근로 경력이 1년 이상인 참가자만으로 조정하고 수집된 자료를 재분석하였다. 이후 정부 연구 기관의 요청이 있어 연구 내용의 신뢰도 제고를 위해 연구 참가자 명단과 주소를 포함한 연구 결과를 제공하였다.

- ① 비윤리적인 연구 주제를 선정하였다.
- ② 연구 과정에서 수집된 개인 정보를 유출하였다.
- ③ 연구 대상에게 연구 관련 정보를 사전에 제공하지 않았다.
- ④ 사회에 미칠 부정적인 영향을 고려하여 자료를 조작하였다.
- ⑤ 연구 목적 달성을 위해 연구 대상자의 자발적 참여를 제한하였다.

5. 밑줄 친 ㉠~㉣에 관한 진술을 모두 옳게 평가한 학생은? [3점]

A는 회사 ㉠노동조합 단체교섭단 회의를 주관하고 점심시간에 ㉡사내 요가 동호회에서 시간을 보냈다. 저녁에는 ㉢대학교 총동문회 사은 행사에 참석 후 귀가하여 ㉣가족과 하루를 마쳤다. 다음 날 아침에는 아파트 주민들로 구성된 ㉤○○ 산악회 회원들과 등산을 하였다.

진술	갑	을	병	정	무
㉡은 ㉢과 달리 비공식적 통제가 일반적이다.	○	×	×	×	×
㉢은 ㉣과 달리 공식 조직을 전제로 한다.	○	○	×	×	×
㉣은 ㉤과 달리 본질 의지에 의해 형성된다.	×	×	×	○	×
㉠, ㉡은 ㉢과 달리 비공식 조직이다.	○	×	×	○	×
㉠~㉣ 중 자발적 결사체의 개수와 이익 사회의 개수는 같다.	○	×	○	×	×

(○: 그렇다, ×: 그렇지 않다)

- ① 갑      ② 을      ③ 병      ④ 정      ⑤ 무

6. 다음 연구에 대한 옳은 설명만을 <보기>에서 있는 대로 고른 것은? [3점]

○ 연구 개요  
- 야외 체험 프로그램이 청소년의 ㉠문제 해결력과 ㉡추상적 사고력 발달에 미치는 영향을 알아보기 위해 가설을 설정하고 이를 검증함.

○ 연구 가설  
<가설 1> 야외 체험 프로그램에 참여한 청소년은 그렇지 않은 청소년보다 문제 해결력이 높을 것이다.  
<가설 2> 야외 체험 프로그램에 참여한 청소년은 그렇지 않은 청소년보다 추상적 사고력이 높을 것이다.

○ 연구 설계 및 자료 수집  
- 고등학생 100명을 무작위로 선정하여 A, B 집단에 각각 50명씩 임의로 배정함.  
- ㉢A 집단은 야외 체험 프로그램에 주 1회씩 2주간 참여하게 하고, 같은 기간 ㉣B 집단은 참여하지 않음.  
- 문제 해결력과 추상적 사고력을 측정할 수 있는 평가지를 체험 전과 체험 종료마다 제공하여 변화 정도를 측정함.

○ 자료 분석 결과

(단위: 점)

구분	문제 해결력			추상적 사고력		
	사전	사후1	사후2	사전	사후1	사후2
A 집단	68.0	71.4	74.2	71.0	70.5	69.5
B 집단	68.0	68.0	68.3	71.0	71.0	71.1

\* 분석 결과는 통계적으로 유의미함.  
\*\* 측정 항목은 모두 100점 척도이며, 점수가 높을수록 그 정도가 높음.

<보 기>

㉠. ㉠은 독립 변수, ㉡은 종속 변수이다.  
㉢. ㉢은 실험 집단, ㉣은 통제 집단이다.  
㉣. ㉣에서 ㉠이 ㉡보다 야외 체험 프로그램의 영향을 크게 받았다.  
㉤. 자료 분석 결과에 따르면 <가설 1>만 수용된다.

- ① ㉠, ㉢                      ② ㉠, ㉣                      ③ ㉢, ㉣  
④ ㉠, ㉣, ㉤                ⑤ ㉢, ㉣, ㉤

7. (가)~(다)에 대한 설명으로 가장 적절한 것은? [3점]

(가) 비행기 결함으로 항공기 운항이 지연되어 여행 일정에 차질이 생긴 승객 중 보상을 받지 못한 일부 승객들은 공평한 보상을 요구하는 과정에서 우발적으로 항공사를 점거하였다.

(나) ○○ 단체는 이민자 증가로 인해 사회의 인종 구성이 다양화되는 것에 반대하며 민족 정체성 유지를 주장하였다. 회원들은 전국에 걸쳐 일제히 캠페인, 퍼레이드 등을 지속적으로 벌였다.

(다) 빈곤국 아동에 대한 노동 착취 문제를 해결하기 위해 결성된 △△ 단체는 세계적인 조직망을 가지고 있다. 이들은 감염병 팬데믹 상황에서도 끊임없이 아동 인권 보호에 대한 홍보 활동, 온라인 서명 활동 등을 펼치고 있다.

- ① (가)에는 사회 평등을 추구하는 사회 운동이 나타난다.  
② (나)에는 사회 변화에 대항하기 위한 사회 운동이 나타난다.  
③ (다)에는 사회 구조를 근본적으로 바꾸고자 하는 혁명적 사회 운동이 나타난다.  
④ (가)에는 (다)와 달리 일부 집단의 이익을 추구하는 사회 운동이 나타난다.  
⑤ (나)에는 (다)와 달리 인류의 보편적 가치를 실현하고자 하는 사회 운동이 나타난다.

8. 다음 글에 나타난 개인과 사회의 관계를 바라보는 관점에 대한 설명으로 옳은 것은?

내가 사용하는 기호 체계, 화폐 제도, 신용 도구는 모두 나와는 독립적으로 사회적 기능을 수행한다. 또한 내가 학생 또는 시민으로서 행하는 의무는 나의 행위에 외재하는 법과 관습으로 규정된 것을 수행하는 것이다. 이렇듯 사회는 나의 지각 범위 밖에 존재하며 나의 삶을 구조화한다.

- ① 개인의 발전은 곧 사회의 발전이라고 본다.  
② 사회 규범의 구속성보다 개인의 자율성이 우선된다고 본다.  
③ 사회 문제의 원인을 사회 제도보다 개인의 의식에서 찾는다.  
④ 사회는 개인의 이익을 실현하기 위한 수단에 불과하다고 본다.  
⑤ 개인은 사회 구조와의 관련 속에서만 존재 의미를 지닌다고 본다.

9. 밑줄 친 ㉠~㉣에 대한 옳은 설명만을 <보기>에서 고른 것은?

자신의 노력과 능력의 대가에 대한 인정 욕구 표현으로 고가 제품을 소비하는 ㉠'플렉스 문화'는 힙합 음악가들로부터 시작되었고, ㉡대중의 인기를 받으며 다양한 음악 장르의 소재로 활용되고 있다. 이러한 플렉스 문화는 ㉢음악을 뛰어넘어 생산 및 소비 활동 등 다양한 분야의 변화를 가져왔다. 그 결과 용돈을 모으거나 아르바이트를 통해 번 돈으로 구입한 ㉣고가 브랜드 상품을 정체성 표현 수단으로 활용하는 것은 1020 세대에게 일반적인 현상이 되었다.

<보 기>

㉠. ㉠에서 '문화'는 좁은 의미로 사용되었다.  
㉡. ㉡은 문화가 세대 간 계승되고 발전하는 현상임을 보여준다.  
㉢. ㉢은 문화의 각 요소가 상호 유기적으로 연결되어 있음을 보여준다.  
㉣. ㉣은 문화를 통해 구성원의 행동 양식을 예측할 수 있음을 보여준다.

- ① ㉠, ㉡    ② ㉠, ㉣    ③ ㉢, ㉣    ④ ㉡, ㉣    ⑤ ㉢, ㉣

10. 다음 자료에 대한 분석으로 옳은 것은? (단, 유소년 인구의 비는 A국:B국:C국=3:1:1이다.) [3점]

구분	A국	B국	C국
전체 인구 대비 노인 인구 비율(%)	10	15	40
총부양비	25	25	100


\* 총부양비 =  $\frac{\text{유소년인구}(0\sim 14\text{세 인구}) + \text{노인인구}(65\text{세 이상 인구})}{\text{부양인구}(15\sim 64\text{세 인구})} \times 100$   
 \*\* 노령화 지수 =  $\frac{\text{노인인구}(65\text{세 이상 인구})}{\text{유소년인구}(0\sim 14\text{세 인구})} \times 100$

- ① 노인 인구는 A국과 B국이 같다.  
② 노령화 지수는 C국이 A국의 3배이다.  
③ 전체 인구는 A국이 가장 많고 B국이 가장 적다.  
④ 전체 인구에서 유소년 인구가 차지하는 비율은 B국이 C국보다 높다.  
⑤ B국의 부양 인구 대비 노인 인구의 비는 C국의 부양 인구 대비 유소년 인구의 비보다 크다.

11. 일탈 이론 A~C에 대한 옳은 설명만을 <보기>에서 고른 것은? (단, A~C는 각각 낙인 이론, 머튼의 아노미 이론, 차별 교제 이론 중 하나이다.) [3점]

**범죄자 갑에 대한 인물 조사 결과**

갑은 고등학교 재학 시 학력을 중요시 여기는 사회적 분위기 속에서 일류 대학 진학을 위해 공부에 매진함. 그런데 좋은 성적을 받기 위해 부정행위를 하다가 적발되어 진학 기회가 박탈됨. 이후 비행 청소년들과 어울리며 절도를 자연스럽게 여기게 되었고 결국 범죄를 저지름. 고등학교 졸업 후 갑은 마음을 다잡고 취업하였으나 동료들이 문제아였다고 홀대함. 이에 갑은 자신이 범죄자라는 생각에 퇴사를 결정하고 범죄 행위를 일삼음.



고등학교 재학 중 갑의 일탈 행동은 A와 B로 설명되고, 고등학교 졸업 후 갑의 일탈 행동은 C로 설명됩니다.

— <보 기> —

ㄱ. C는 2차적 일탈 행동의 발생 과정에 주목한다.  
 ㄴ. A, B 모두 일탈 행동을 규정하는 객관적 기준이 존재하지 않는다고 본다.  
 ㄷ. A가 문화적 목표와 제도적 수단의 괴리를 일탈 행동의 원인으로 보는 이론이라면, B, C는 타인과의 상호 작용 과정을 중심으로 일탈 행동을 설명한다.  
 ㄹ. C는 A, B와 달리 일탈에 대한 우호적 가치관의 학습을 일탈 행동의 주요 원인으로 본다.

- ① ㄱ, ㄴ    ② ㄱ, ㄷ    ③ ㄴ, ㄷ    ④ ㄴ, ㄹ    ⑤ ㄷ, ㄹ

12. 다음 자료에 대한 옳은 분석만을 <보기>에서 고른 것은? [3점]

다음은 연구자 갑이 A국의 성 불평등 정도와 그 변화를 분석하기 위해 지수를 개발하여 측정한 결과이다. 모든 시기의 전체 근로자 성비는 1:1이며, t년 대비 t+10년에 정규직 근로자 수는 증가하였다.

구분	t년	t+10년	t+20년
성별 임금 격차 지수	40	20	80
성별 채용 안정성 지수	40	40	50

\* 성별 임금 격차 지수 =  $\frac{\text{남성 근로자 평균 임금} - \text{여성 근로자 평균 임금}}{\text{근로자 전체 평균 임금}} \times 100$   
 \*\* 성별 채용 안정성 지수 =  $\frac{\text{남성 정규직 근로자 수} - \text{여성 정규직 근로자 수}}{\text{정규직 전체 근로자 수}} \times 100$

— <보 기> —

ㄱ. t년에 남성 근로자 평균 임금은 여성 근로자 평균 임금의 2배이다.  
 ㄴ. t+10년에 남성 정규직 근로자 수는 여성 정규직 근로자 수보다 많다.  
 ㄷ. 여성 정규직 근로자 수는 t년과 t+10년이 같다.  
 ㄹ. 남성 근로자 평균 임금 대비 여성 근로자 평균 임금의 비율은 t+10년이 t+20년보다 크다.

- ① ㄱ, ㄴ    ② ㄱ, ㄷ    ③ ㄴ, ㄷ    ④ ㄴ, ㄹ    ⑤ ㄷ, ㄹ

13. A~C국에 나타난 문화 변동에 대한 설명으로 옳은 것은? [3점]

- A 국은 전통적인 온돌 문화와 이웃 나라의 공동 주거 문화를 결합하여 새로운 양식의 주거 문화를 형성하였다.
- B 국에서는 과거 자신들을 식민 지배하였던 국가의 선교사들이 들여온 신흥 종교를 받아들여 토착 종교와 함께 존재하고 있다.
- C 국은 이웃 나라의 방역 시스템에서 아이디어를 얻어 새로운 방역 제도를 구축하고 감염병 확산을 효과적으로 억제하였다.

- ① A, B 국 모두 자기 문화의 정체성을 유지하였다.  
 ② A 국은 문화 융합이, C 국은 문화 동화가 나타났다.  
 ③ B 국은 비물질문화에서, C 국은 물질문화에서 문화 변동이 나타났다.  
 ④ B 국은 A, C 국과 달리 강제적 문화 접변이 나타났다.  
 ⑤ A, B 국은 간접 전파, C 국은 자극 전파가 나타났다.

14. 다음 자료에 대한 설명으로 옳은 것은? (단, A, B는 각각 순환론과 진화론 중 하나이다.)

표는 사회 변동 이론 A, B를 학생 갑, 을이 구분한 것이다. 두 학생 모두 두 개의 진술만을 옳게 구분하였다.

진술	갑	을
사회 변동을 사회 발전으로 인식한다.	A	A
운명론적 관점에서 사회 변동을 설명한다.	A	B
(가)	B	A

- ① A는 흥망성쇠를 거듭한 국가의 사례를 설명하기에 적합하다.  
 ② B는 서구 중심적인 사회 변동 이론이라는 비판을 받는다.  
 ③ B는 A와 달리 사회 변동에 일정한 방향이 있다고 본다.  
 ④ (가)의 진술을 옳게 구분한 학생은 '갑'이다.  
 ⑤ (가)에 '사회 변동에 대한 역동적 대응이 용이하다.'가 들어갈 수 있다.

15. 다음은 학생이 작성한 하위문화에 대한 학습 활동지의 일부이다. 이에 대한 설명으로 옳은 것은? (단, A, B는 각각 반문화, 지역 문화 중 하나이다.)

<과제 1> 하위문화의 유형과 의미 작성하기

유형	의미
A	지역 내에서 나타나는 고유한 생활 양식
세대 문화	(가)
B	한 사회의 지배적인 문화에 저항하는 문화

<과제 2> 하위문화의 특징 서술하기

- 한 사회 내에는 수많은 하위문화가 존재할 수 있음.
- \_\_\_\_\_ (나) \_\_\_\_\_.
- 하위문화의 범주는 시대나 사회에 따라 변화할 수 있음.

\* 교사 평가: <과제 1>은 모두 옳게 작성하였고, <과제 2>는 두 가지만 옳게 작성하였음.

- ① A는 사회가 다원화될수록 주류 문화에 수렴되는 경향이 있다.  
 ② A와 B는 한 사회 내에서 공존할 수 없다.  
 ③ A, B는 모두 전체 사회에 문화적 다양성을 제공한다.  
 ④ (가)에는 '한 사회의 구성원 대부분이 공유하는 문화'가 들어갈 수 있다.  
 ⑤ (나)에는 '사회가 복잡해질수록 다양한 하위문화가 나타남'이 들어갈 수 있다.

