

목록

01.3월_고3_사회(생활과윤리).....	1
02.3월_고3_사회(윤리와사상).....	5
03.3월_고3_사회(한국지리).....	9
04.3월_고3_사회(세계지리).....	13
05.3월_고3_사회(동아시아사).....	17
06.3월_고3_사회(세계사).....	21
07.3월_고3_사회(경제).....	25
08.3월_고3_사회(정치와법).....	29
09.3월_고3_사회(사회문화).....	33

제 4 교시

사회탐구 영역 (생활과 윤리)

성명		수험번호					3			제 [ ] 선택
----	--	------	--	--	--	--	---	--	--	----------

1. 갑, 을의 입장만을 <보기>에서 있는 대로 고른 것은?

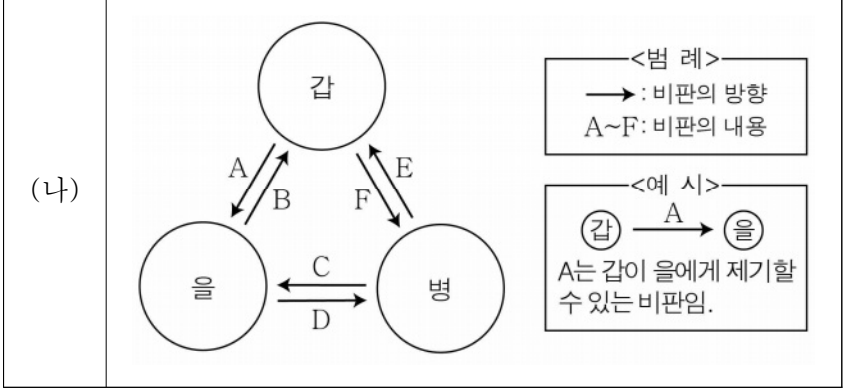
갑: 윤리학은 보편적으로 적용되는 도덕 원리를 정당화하기 위한 근거를 제시하고 도덕규범의 체계를 합리적으로 구성하는 것을 핵심 과제로 탐구해야 한다.  
 을: 윤리학은 도덕적 담화에 사용되는 단어와 문장의 의미를 분석하고 도덕 판단이 참 또는 거짓으로 입증될 수 있는 방법을 모색하는 것을 핵심 과제로 탐구해야 한다.

< 보 기 >  
 ㄱ. 갑: 윤리학은 선과 악이 무엇인지에 관해 탐구해야 한다.  
 ㄴ. 갑: 윤리학은 도덕 문제를 가치 중립적으로 해결해야 한다.  
 ㄷ. 을: 윤리학은 도덕적 추론의 타당성을 검증해야 한다.  
 ㄹ. 갑, 을: 윤리학은 도덕 현상의 객관적 진술을 주된 목표로 삼아야 한다.

- ① ㄱ, ㄴ                      ② ㄱ, ㄷ                      ③ ㄴ, ㄹ
- ④ ㄱ, ㄷ, ㄹ                ⑤ ㄴ, ㄷ, ㄹ

2. (가)의 갑, 을, 병 사상가들의 입장에서 서로에게 제기할 수 있는 비판을 (나) 그림으로 표현할 때, A~F에 해당하는 내용으로 적절하지 않은 것은? [3점]

(가)  
 갑: 사회가 전적으로 정의롭다면 소유물에 대한 소유 권리는 취득과 이전에서의 정의의 원리에 따라 얻게 된 경우에만 정당하다.  
 을: 사회적·경제적 불평등은 그것이 모든 사람, 특히 사회의 최소 수혜자에게 그 불평등을 보상할 만한 이득을 가져오는 경우에만 정당하다.  
 병: 사회적 가치들은 각각 고유한 분배 영역을 가진다. 상이한 사회적 가치들은 상이한 근거, 절차, 주체에 의해 분배되는 것이 정당하다.



- ① A: 차등의 원칙은 개인의 소유권 침해를 초래함을 간과한다.
- ② A, F: 도덕적 정당화가 가능한 국가는 최소 국가임을 간과한다.
- ③ B: 천부적 재능의 분포를 공동 자산으로 보아야 함을 간과한다.
- ④ B, D: 정의의 원칙은 가상 상황에서 도출해야 함을 간과한다.
- ⑤ C, E: 분배의 공정성은 절차적 정의를 통해 실현됨을 간과한다.

3. 다음을 주장한 사상가의 입장으로 가장 적절한 것은?

백성은 일정한 생업이 없으면 일정한 마음도 없어진다. 현명한 군주는 백성의 생업을 마련해 주는데, 반드시 위로는 부모를 섬기기에 충분하게 하고 아래로는 처자를 먹여 살릴 만하게 하여, 풍년에는 언제나 배부르고 흉년에는 죽음을 면하게 한다. 그렇게 한 후에 백성을 선한 데로 유도하므로 백성이 따르기 쉽다.

- ① 통치자는 예(禮)를 통해 인간의 악한 본성을 교화해야 한다.
- ② 통치자는 백성[民]에 의한 통치를 위해 온 힘을 다해야 한다.
- ③ 통치자가 인의(仁義)를 해치더라도 백성은 항상 복종해야 한다.
- ④ 통치자는 덕치가 아니라 법치로써 왕도(王道)를 실현해야 한다.
- ⑤ 통치자는 백성의 선한 삶을 위해 향산(恒産)을 보장해야 한다.

4. 갑, 을 사상가들의 입장만을 <보기>에서 있는 대로 고른 것은? [3점]

갑: 사람들은 자신의 직무가 비속하거나 신과 무관한 것이 아니라, 신의 부르심[召命]에 따라 봉사하고 있는 신성한 것이라는 사실을 깊이 생각해야 한다.  
 을: 자본주의 체제에서는 노동자가 더 많이 생산할수록 그는 더 가난해지고 무력해진다. 결국 노동은 노동자의 본질에 속하지 않게 되고 노동자는 노동으로부터 소외된다.

< 보 기 >  
 ㄱ. 갑: 노동은 신성하며 노동으로 얻은 것은 신의 선물이다.  
 ㄴ. 을: 소외된 노동은 인간에 의한 인간의 소외를 일으킨다.  
 ㄷ. 을: 노동자는 자본가에게 경제적으로 예속될 수밖에 없다.  
 ㄹ. 갑, 을: 노동의 본질은 자신의 잠재력을 계발하는 데 있다.

- ① ㄱ, ㄴ                      ② ㄱ, ㄷ                      ③ ㄷ, ㄹ
- ④ ㄱ, ㄴ, ㄷ                ⑤ ㄴ, ㄷ, ㄹ

5. 갑, 을의 입장으로 적절하지 않은 것은?

갑: 성의 자연적 목적은 출산이다. 사랑하는 남녀가 결혼이라는 사회적 승인을 거쳐서 출산과 관련하여 행하는 성적 관계만이 도덕적으로 정당하다.  
 을: 성을 도덕적으로 만드는 것은 사랑이다. 사랑은 인간적 성의 고유한 가치이고 사랑이 동반된 성적 관계만이 도덕적으로 정당하다.

- ① 갑: 성적 관계의 결과에 대한 책임은 도덕적으로 중요하다.
- ② 갑: 성은 사적 영역에 속하면서도 사회 질서 유지와 관계된다.
- ③ 을: 성은 사랑이 전제될 때 서로의 정신적 교감을 고양한다.
- ④ 을: 성적 자기 결정권의 존중은 성적 관계의 필요충분조건이다.
- ⑤ 갑, 을: 성적 관계에서 상호 간의 존중과 배려는 필수적이다.

6. 다음을 주장한 사상가의 입장으로 적절하지 않은 것은? [3점]

현대 기술이 산출한 행위들의 규모와 대상, 그리고 그 결과는 너무나 새로운 것이기 때문에 전통 윤리의 틀로써는 이 행위들을 더 이상 파악할 수 없는 윤리적 공백이 발생한다. 인간이 갖게 된 새로운 종류의 행위 능력은 윤리의 새로운 규칙을 요구하며, 또한 새로운 종류의 윤리를 요구한다.

- ① 기술은 생태계의 수용 범위 안에서 행사되어야 한다.
- ② 기술에 내포된 위협적 요소는 윤리적 숙고의 대상이 된다.
- ③ 인간에 대한 의무는 자연에 대한 의무로 대체되어야 한다.
- ④ 새로운 윤리학은 무조건적으로 준수해야 할 명령을 제시한다.
- ⑤ 기술이 초래할 공포를 발견하고 행위의 의무를 도출해야 한다.

7. 다음을 주장한 사상가의 입장만을 <보기>에서 있는 대로 고른 것은? [3점]

거의 정의로운 사회에서는 대체로 정의의 원칙들이 자유롭고 평등한 사람들 사이의 자발적인 협동의 기본 조항으로 인정되고 있다. 그래서 이와 같은 사회에서 우리는 시민 불복종을 통해 사회의 다수자가 갖는 정의감을 나타내고 자유롭고 평등한 사람들 사이에서 사회 협동체의 원칙이 존중되지 않고 있음을 선언한다.

< 보 기 >

ㄱ. 시민 불복종은 법을 어기지만 도덕적으로는 옳은 행위이다.  
 ㄴ. 부정의한 사회라면 시민 불복종은 반드시 전개되어야 한다.  
 ㄷ. 시민 불복종은 입헌 체제를 유지하는 데 기여하는 행위이다.  
 ㄹ. 소수자 투표권 제한 정책은 시민 불복종 대상이 될 수 있다.

- ① ㄱ, ㄴ                      ② ㄱ, ㄷ                      ③ ㄴ, ㄹ
- ④ ㄱ, ㄷ, ㄹ                ⑤ ㄴ, ㄷ, ㄹ

8. 다음을 주장한 사상가의 입장에서 <사례> 속 A에게 제시할 조언으로 가장 적절한 것은?

언어 능력과 행위 능력을 지닌 모든 주체는 담론에 참여할 수 있고, 어떤 주장도 문제시할 수 있으며, 모든 주장을 담론에 끌어들이 수 있고, 자신의 희망이나 욕구를 표현할 수 있어야 한다. 어떤 담론 참여자도 이러한 권리를 행사함에 있어 담론의 내부나 외부로부터의 강제에 의해 방해받아서서는 안 된다.

< 사 례 >

고등학교 학급 회장 A는 북한 이탈 주민 지원 센터에 후원금을 보낼 것인가에 대한 회의를 진행하고 있다. A는 다양한 의견이 제시되는 상황에서 어떻게 해야 할지 고민하고 있다.

- ① 합리적인 의사소통을 거쳐 합의된 결론을 따르세요.
- ② 학급 학생들의 바람이나 욕구들은 고려하지 마세요.
- ③ 회의가 길어질수록 결론은 불확실해짐을 깨달으세요.
- ④ 소수보다 다수 학생의 의견이 항상 옳다고 생각하세요.
- ⑤ 다양한 입장을 균등하게 반영한 주장만을 받아들이세요.

9. 갑, 을의 입장으로 가장 적절한 것은?

갑: 문화 공존을 위해 타 문화에 대해 알고 상호 교류를 확대해야 한다. 다양성은 문화 교류의 전제이며, 관용은 문화 공존과 진정한 사회 통합을 위한 훌륭한 방법이다. 교육도 타 문화의 내용을 교양 과목으로 다루어야 한다.  
 을: 사회 통합을 위해 소수 문화가 주류 문화에 동화되어야 한다. 시민들 간에 동일한 문화적 정체성이 형성되면 상호 이해 및 신뢰, 유대감이 증진된다. 교육도 모두를 단일한 문화로 통합하는 것을 목표로 해야 한다.

- ① 갑: 자신의 문화 정체성을 유지하며 타 문화를 존중해야 한다.
- ② 갑: 차이 인정보다 동화의 관점에서 타 문화를 인식해야 한다.
- ③ 을: 문화적 풍요로움을 위해 이질적 문화들이 공존해야 한다.
- ④ 을: 문화들 간의 갈등을 막기 위해 소수 문화를 인정해야 한다.
- ⑤ 갑, 을: 주류 문화와 소수 문화가 융합을 이루도록 해야 한다.

10. (가)의 갑, 을, 병 사상가들의 입장을 (나) 그림으로 탐구하고자 할 때, A ~ D에 들어갈 적절한 질문만을 <보기>에서 있는 대로 고른 것은? [3점]

(가)	<p>갑: 동물도 인간처럼 고통을 느낄 수 있으며 이해관계를 갖는다. 인간 종이 아니라는 이유로 동물의 이익 관심을 무시하는 것은 종 차별주의이다.</p> <p>을: 인간은 대지를 상품으로 보기 때문에 남용하고 있다. 대지를 우리가 속한 생명 공동체로 바라보면 대지를 사랑과 존중으로 대하게 될 것이다.</p> <p>병: 유기체를 목적론적 삶의 중심으로 생각하는 것은 자신의 방식으로 고유의 선을 추구하는 유일한 개체로서 그 존재의 실체를 인식하는 것이다.</p>
(나)	

< 보 기 >

ㄱ. A: 왜고 감수 능력은 도덕적 고려를 위한 유일한 기준인가?  
 ㄴ. B: 생명이 없으면서 도덕적 지위를 지닌 개체가 있는가?  
 ㄷ. C: 자연에 대한 의무는 인간 간의 의무에서 비롯되는가?  
 ㄹ. D: 생태계의 모든 생명체가 지닌 본래적 가치는 동일한가?

- ① ㄱ, ㄴ                      ② ㄱ, ㄷ                      ③ ㄷ, ㄹ
- ④ ㄱ, ㄴ, ㄹ                ⑤ ㄴ, ㄷ, ㄹ



16. 다음을 주장한 사상가의 입장으로 적절하지 않은 것은? [3점]

우리가 어떤 것의 진리를 있는 그대로 보고자 한다면, 육체로부터 벗어나서 오로지 영혼만으로 그것을 바라보아야 한다. 영혼이 육체로부터 분리되어 홀로 있게 되는 것은 살아서는 불가능하다. 다만 살아 있는 동안에 진리에 가장 가까이 다가갈 수 있는 길은 우리 자신을 육체의 본성으로부터 순수하게 지켜서 영혼을 더럽히지 않는 것이다.

- ① 죽음은 영혼이 순수한 인식을 할 수 없는 상태로 만든다.
- ② 죽음을 통해 영혼은 참된 실제의 세계로 들어갈 수 있다.
- ③ 현실 세계에서 영혼의 순수성을 지키는 노력이 필요하다.
- ④ 불멸하는 영혼은 죽음 이후에 육체로부터 자유로울 수 있다.
- ⑤ 죽음은 영혼이 참된 지혜를 얻을 수 있는 계기가 될 수 있다.

17. 다음 토론의 핵심 쟁점으로 가장 적절한 것은?

갑: 감염병 확산을 방지하기 위해 확진자는 역학 조사에 성실히 응해야 하고, 확진자에 대한 역학 조사 결과를 공개해야 합니다.

을: 동의합니다. 다만 확진자에 대한 역학 조사 결과 공개는 사생활을 침해하지 않는 범위 내에서 이루어져야 합니다.

갑: 아닙니다. 확진자의 사생활을 보호하려고 한다면 정보 공개가 제한적으로 이루어질 수밖에 없고 감염병 확산을 방지하는 데 어려움이 있습니다.

을: 그렇지 않습니다. 감염병 확산을 막는다는 명분으로 확진자의 사생활을 침해하는 것은 기본권을 침해하는 것입니다.

- ① 확진자는 역학 조사에 참여해야 하는가?
- ② 확진자에 대한 역학 조사를 실시해야 하는가?
- ③ 확진자 역학 조사 결과를 일체 공개하지 말아야 하는가?
- ④ 확진자 역학 조사 결과 공개는 감염병 확산 방지에 필요한가?
- ⑤ 확진자의 사생활을 보호하기 어려운 정보도 공개할 수 있는가?

18. (가), (나) 사상의 입장으로 가장 적절한 것은? [3점]

(가) 이것이 있으므로 저것이 있고, 이것이 생기므로 저것이 생겨난다. 이것이 없으므로 저것이 없고, 이것이 사라지므로 저것이 사라진다. 이렇게 무명(無明)을 조건으로 의도적 행위들이 생기므로 무명을 없애면 고통이 사라진다.

(나) 저것은 이것에서 나오고, 이것 역시 저것에서 말미암게 된다. 옳음으로 말미암아 그릇됨이 있고, 그릇됨으로 말미암아 옳음이 있다. 그러므로 성인은 자연(自然)에 비추어 생각한다.

- ① (가): 지속적인 수행을 통해 불성(佛性)을 형성해야 한다.
- ② (가): 원인[因]과 조건[緣]이 없는 존재는 없음을 알아야 한다.
- ③ (나): 시비선악을 분별하면서 도덕적 가치를 실현해야 한다.
- ④ (나): 본성에서 벗어나 절대적 자유의 경지를 추구해야 한다.
- ⑤ (가), (나): 세상 만물의 가치에는 위계가 있음을 알아야 한다.

19. 그림은 서양 사상가 갑, 을의 가상 대화이다. 갑, 을의 입장으로 가장 적절한 것은? [3점]

영구 평화를 실현하기 위해서는 모든 전쟁의 종식을 추구하는 평화 연맹이 필요합니다. 이를 위해 개별 국가는 공화 정체가이어야 하고 국제법은 자유로운 국가들의 연방 체제에 기초해야 합니다.

전쟁의 종식만으로는 진정한 평화라고 할 수 없습니다. 진정한 평화를 위해서는 직접적 폭력, 사회 구조 속의 폭력, 폭력을 정당화하는 문화를 제거해야 합니다.



- ① 갑: 국가 간에는 국제법이 아닌 세계 시민법을 따라야 한다.
- ② 갑: 개인은 세계 국가의 국적을 갖는 구성원이 되어야 한다.
- ③ 을: 문화는 평화 또는 폭력을 정당화하는 수단이 될 수 있다.
- ④ 을: 평화적 수단이나 과정을 통해서도 평화가 달성될 수 없다.
- ⑤ 갑, 을: 개별 국가의 정치 제도 개선은 평화 실현과 무관하다.

20. 갑, 을의 입장으로 가장 적절한 것은?

갑: 가장 상업적인 것이 가장 예술적이고, 가장 예술적인 것이 가장 상업적이다. 돈을 번다는 것은 예술이고, 일하는 것도 예술이며, 잘되는 사업이 최상의 예술이다. 나는 사업 미술가이고 나의 작업실은 공장이다.

을: 문화 산업이 만든 문화 상품의 속성은 문화 소비자들의 적극적인 사유를 불가능하게 만드는 데 있다. 문화 산업은 하자 없는 규격품을 만들 듯이 인간의 정신을 단순히 재생산하려 한다.

- ① 갑: 예술 작품은 대중화에서 벗어나 미적 가치를 지녀야 한다.
- ② 갑: 예술의 상업화에 따른 이윤 창출은 예술 발전을 방해한다.
- ③ 을: 문화 산업은 대중의 자발성과 상상력의 발달을 저해한다.
- ④ 을: 문화 산업은 대중의 비판적인 의식을 바탕으로 형성된다.
- ⑤ 갑, 을: 예술 작품을 교환 가치로 평가하려고 해서는 안 된다.

\* 확인 사항

○ 답안지의 해당란에 필요한 내용을 정확히 기입(표기)했는지 확인하십시오.

제 4 교시

사회탐구 영역 (윤리와 사상)

성명		수험번호					3			제 [ ] 선택
----	--	------	--	--	--	--	---	--	--	----------

윤리와 사상

1. 다음 가상 편지를 쓴 고대 동양 사상가가 강조하는 삶의 태도로 가장 적절한 것은?

○○께

물을 손으로 쳐서 튀게 하면 이마에까지 닿게 할 수 있습니다. 물이 튀어 올라 이마에 닿는 것은 물의 본성 [性]이 아니라 외부의 힘에 의한 것입니다. 마찬가지로 인간은 불선(不善)을 행할 수 있지만, 그것은 인간의 본성이 아니라 외부의 힘에 의한 것입니다. 물은 아래로 흐르지 않음이 없고 인간의 본성은 선하지 않음이 없습니다. ... (후략).

- ① 예(禮)를 배우고 몸에 익혀 악한 본성을 교정해 나간다.
- ② 해탈에 이르기 위해 탐욕과 집착을 버리고 자비를 베푼다.
- ③ 의로운 일을 반복하여[集義] 올곧은 도덕적 기개를 기른다.
- ④ 문명의 편리를 거부하고 어떠한 인위도 없는 삶을 살아간다.
- ⑤ 자신을 구속하는 모든 것을 잊고[坐忘] 정신적 자유를 누린다.

2. 고대 서양 사상가 갑, 을의 입장으로 옳지 않은 것은?

갑: 덕은 곧 지식이다. 사람은 자발적으로 나쁜 행위를 하지 않으며, 나쁜 행위를 하는 것은 무지의 결과이다. 어떤 것도 덕 있는 사람에게 해를 입힐 수 없다.

을: 덕은 지성적 덕과 품성적 덕으로 나누어진다. 의지가 나약한 사람은 자신이 하는 행위가 나쁘다는 것을 알면서도 감정 때문에 그 행위를 할 수 있다.

- ① 갑: 덕을 갖추려면 덕이 무엇인지 반드시 알아야 한다.
- ② 갑: 선을 알면서도 악을 고의로 행하는 것은 불가능하다.
- ③ 을: 선에 대한 무지는 악행을 야기하는 원인이 될 수 있다.
- ④ 을: 품성적 덕은 지성적 덕 없이도 습관으로 형성될 수 있다.
- ⑤ 갑, 을: 덕을 필수적으로 갖추어야 행복한 삶을 누릴 수 있다.

3. 다음을 주장한 고대 동양 사상가의 입장으로 옳은 것은?

피로움[苦]을 모르고, 피로움의 원인[集]을 모르며, 피로움의 소멸[滅]을 모르고, 피로움의 소멸에 이르는 길[道]을 모르면, 이것을 무명(無明)이라 한다. 피로움을 알고, 피로움의 원인을 알며, 피로움의 소멸을 알고, 피로움의 소멸에 이르는 길을 알면, 이것을 바른 견해[正見]라 한다.

- ① 윤회하는 과정에는 '나'라는 고정된 실체가 존재한다.
- ② 만물은 원인과 조건[因緣]에 따라 생겨나고 사라진다.
- ③ 중생은 생각이 아니라 몸과 입으로만 업(業)을 짓는다.
- ④ 피로움의 원인을 몰라도 번뇌와 애욕은 소멸될 수 있다.
- ⑤ 팔정도의 최종 목표는 바른 생활[正命]에 이르는 것이다.

4. (가)의 사회사상가 갑, 을의 입장에서 볼 때, (나)의 ㉠에 들어갈 진술로 옳지 않은 것은? [3점]

(가)	<p>갑: 공산 사회에서는 분업화된 노동에 대한 인간의 예속이 사라진다. 그리고 노동은 생활을 위한 수단일 뿐만 아니라 삶의 기본적 욕구가 된다.</p> <p>을: 유평피아에서는 사유 재산이 없기에 돈에 대한 탐욕이 사라진다. 노동은 하루 6시간으로 제한되고 여가 시간은 정신적 오락이나 연구에 쓰인다.</p>
(나)	<p>기 자: 이상 사회는 어떤 사회입니까?</p> <p>사상가: _____ ㉠ _____</p>

- ① 갑: 국가가 노동자의 권리를 최대한 보장하는 사회입니다.
- ② 갑: 각자의 필요에 따라서 분배가 이루어지는 사회입니다.
- ③ 을: 구성원들의 노동과 여가 활동이 존중되는 사회입니다.
- ④ 을: 사치와 낭비가 없고 정신적 가치가 중시되는 사회입니다.
- ⑤ 갑, 을: 생산 수단의 사적 소유가 허용되지 않는 사회입니다.

5. (가)의 근대 서양 사상가 갑, 을의 입장을 (나) 그림으로 표현할 때, A~C에 해당하는 진술로 옳은 것은? [3점]

(가)	<p>갑: 인간 행위의 유일한 목적은 행복이기에 행복의 증진 여부가 행위의 도덕성을 판단하는 기준이 된다. 행복은 쾌락을, 그리고 고통의 부재를 뜻하며, 양과 질 모두의 측면에서 추구된다.</p> <p>을: 인간은 자신의 행복에 대한 강력한 경향성을 가지고 있다. 그러나 자신의 행복을 증진하는 행위가 경향성이 아니라 의무에서 비롯될 때 그 행위는 도덕적 가치를 갖는다.</p>
(나)	

- ① A: 질적으로 높은 쾌락일수록 쾌락의 양은 항상 증가한다.
- ② A: 행위의 도덕성 판단은 동기와 결과 모두에 근거해야 한다.
- ③ B: 행위자의 행복을 낳지 않는 도덕적 행위가 있을 수 있다.
- ④ B: 행복을 추구하는 경향성은 도덕 원리의 근거가 될 수 없다.
- ⑤ C: 의무에서 비롯된 행위는 자율에 의한 행위로 볼 수 없다.

6. 고대 동양 사상가 갑, 을의 입장으로 가장 적절한 것은? [3점]

갑: 배우면 날로 지식이 늘어나지만, 도(道)를 닦으면 날로 지식이 줄어든다. 성인(聖人)은 정치를 함에 있어 언제나 백성으로 하여금 아는 것도 없고 욕심도 없게 만든다.  
 을: 널리 배우고 예(禮)로써 단속한다면 도에 어긋나지 않을 수 있을 것이다. 예가 아니거든 보지 말고 듣지 말고 말하지 말고 움직이지 말아야 한다.

- ① 갑: 겸허와 부쟁의 덕을 갖추려면 예의를 배우고 익혀야 한다.
- ② 갑: 도를 체득한 자는 작위가 없어도 이루지 못하는 일이 없다.
- ③ 을: 법령과 형벌만을 근본으로 삼아서 백성을 교화해야 한다.
- ④ 을: 어진 사람은 시비를 분별하지 않고 모든 사람을 사랑한다.
- ⑤ 갑, 을: 상실한 도를 회복하지 않고는 인의를 구현할 수 없다.

7. 다음을 주장한 고대 서양 사상가의 입장만을 <보기>에서 고른 것은?

개인의 영혼 안에든 국가 안에 있는 것과 똑같은 종류의 것이 있으며, 그 수도 똑같다. 또한 개인이 정의롭게 되는 것도 국가가 정의롭게 되는 것과 똑같은 방식에 의해서이다. 국가가 정의롭게 되는 것은 국가 안에 있는 세 계층, 즉 통치자, 방위자, 생산자가 저마다 제 할 일을 함에 의해서이다.

< 보 기 >  
 ㄱ. 용기의 덕을 갖춘 사람은 어떤 것도 두려워하지 않는다.  
 ㄴ. 절제의 덕을 모든 계층의 사람들이 갖추고 화합해야 한다.  
 ㄷ. 정의의 덕을 갖춘 사람은 영혼의 세 부분이 조화를 이룬다.  
 ㄹ. 지혜의 덕을 갖춘 통치자 계층에게만 사유 재산이 허용된다.

- ① ㄱ, ㄴ    ② ㄱ, ㄷ    ③ ㄴ, ㄷ    ④ ㄴ, ㄹ    ⑤ ㄷ, ㄹ

8. 갑, 을 사상가들의 입장으로 옳은 것은?

갑: 폭력은 인간의 기본적 욕구를 모독하는 것이다. 폭력에는 폭력의 결과를 의도한 가해자가 있는 직접적 폭력, 사회 구조 자체에서 일어나는 구조적 폭력, 그리고 이 두 폭력을 정당화하는 문화적 폭력이 있다.  
 을: 전쟁은 천하에 커다란 해를 끼친다. 사람들로 하여금 서로 사랑하게[兼愛] 한다면 나라와 나라는 서로 공격하지 않을 것이다. 다른 나라를 공격하지 않는다면[非攻] 나라와 백성에게 이익이 될 것이다.

- ① 갑: 문화적 폭력이 있으면 진정한 평화가 실현될 수 없다.
- ② 갑: 구조적 폭력은 가해자의 의도가 전제되어야만 성립한다.
- ③ 을: 자국의 이익 증진을 위한 침략 전쟁은 정당화될 수 있다.
- ④ 을: 준비천소를 분별하는 사랑으로 다른 나라를 대해야 한다.
- ⑤ 갑, 을: 평화 실현을 위한 폭력적인 수단은 허용되어야 한다.

9. 근대 서양 사상가 갑, 을의 입장에 대한 옳은 설명만을 <보기>에서 있는 대로 고른 것은? [3점]

갑: 이성만 도덕적 선악을 구별할 수 없으며, 이성 혼자서는 어떠한 행동이나 감정도 억제하거나 산출할 수 없다. 이성은 감정의 노예이고 또한 노예이어야만 한다.  
 을: 이성의 최고선은 신, 즉 자연을 인식하는 것이다. 이성이 명석판명하게 인식할 수 없는 감정은 없으며, 이성은 감정을 인식함으로써 감정을 억제할 수 있다.

< 보 기 >  
 ㄱ. 갑은 감정에 의한 선악의 구별은 보편적일 수 있다고 본다.  
 ㄴ. 을은 모든 감정이 필연적 인과 질서에 따라 생긴다고 본다.  
 ㄷ. 을은 갑과 달리 어떠한 감정도 도덕적 행위에 기여할 수 없다고 본다.  
 ㄹ. 갑, 을은 자기 보존의 욕망은 이성과 대립한다고 본다.

- ① ㄱ, ㄴ    ② ㄱ, ㄹ    ③ ㄷ, ㄹ
- ④ ㄱ, ㄴ, ㄷ    ⑤ ㄴ, ㄷ, ㄹ

10. (가)의 갑, 을 사상가들의 입장을 (나) 그림으로 탐구하고자 할 때, A ~ C에 들어갈 옳은 질문만을 <보기>에서 있는 대로 고른 것은? [3점]

(가)	갑: 국가의 목적은 인간의 안전 보장이다. 자유를 사랑하는 인간이 국가에서 살기로 한 이유는 만인에 대한 만인의 투쟁 상태를 벗어나기 위함이다. 을: 국가는 다른 공동체를 모두 포괄하며 최고선을 가장 훌륭하게 추구한다. 국가는 완전한 자급자족이라는 최고 단계에 도달한 공동체이다.
(나)	

< 보 기 >  
 ㄱ. A: 국가는 인간들 간의 계약으로 형성된 권력 기구인가?  
 ㄴ. B: 국가의 질서 유지를 위해 주권은 분할되어야 하는가?  
 ㄷ. B: 국가가 없다면 누구나 전쟁 상태에 놓이게 되는가?  
 ㄹ. C: 국가는 인간의 행복을 위한 최고의 공동체인가?

- ① ㄱ, ㄴ    ② ㄴ, ㄷ    ③ ㄷ, ㄹ
- ④ ㄱ, ㄴ, ㄹ    ⑤ ㄱ, ㄷ, ㄹ

11. 고대 서양 사사가 갑, 을의 입장으로 옳은 것은? [3점]

갑: 행복의 시작이자 끝은 쾌락이다. 쾌락은 먹고 마시며 흥청거리는 데 있는 것이 아니라, 모든 선택과 기피의 근거를 찾고 헛된 믿음을 없애며 냉철하게 사고하는 데 있다.  
 을: 행복해지기 위해서는 세상에서 일어나는 일들이 자신이 바라는 대로 일어나기를 원하지 말고 오히려 일어나는 일들이 실제로 일어나는 대로 일어나기를 바라야 한다.

- ① 갑: 어떤 쾌락을 선택할지는 이성적 숙고의 대상이 될 수 없다.
- ② 갑: 쾌락은 그 자체로 선이며 모든 행위를 평가하는 기준이다.
- ③ 을: 외부에서 일어나는 일을 내면의 의지로 변화시켜야 한다.
- ④ 을: 이성을 따르면 자연의 필연적 질서에서 벗어날 수 있다.
- ⑤ 갑, 을: 사회 전체의 행복을 위한 공적 활동에 헌신해야 한다.

12. 다음을 주장한 중국 사상가의 입장에서 부정의 대답을 할 질문으로 옳은 것은?

하늘[天]이 음양과 오행으로 만물을 낳을 때는 기운[氣]으로써 형체를 이루고 이치[理] 역시 거기에 부여한다. 사람과 사물이 생겨날 때에는 각각 그 이치를 얻어서 다섯 덕목[五常之德]으로 삼으니, 이른바 본성[性]이라고 말하는 것이다.

- ① 사람에게서 인의예지의 덕이 모두 갖추어져 있는가?
- ② 하늘의 이치가 사람에게 부여된 것을 본성이라 하는가?
- ③ 사물의 이치를 궁구해야 하늘의 이치에 도달할 수 있는가?
- ④ 이와 기는 사물에서는 분리되지 않지만 개념상 구분되는가?
- ⑤ 본연지성은 타고난 기질의 영향을 받아 악하게 될 수 있는가?


13. 사회사사가 갑, 을의 입장으로 옳지 않은 것은? [3점]

갑: 노예는 간섭이 아니라 지배에 의해 본질적 특징이 드러나므로 자유를 노예 상태와 대조하는 것은 자유가 불간섭이 아니라 비지배에 있다고 보는 근거가 된다.  
 을: 불간섭의 영역이 넓을수록 내 자유의 영역도 넓어진다. 나의 바람이 좌절되는 과정에 타인이 직접적 또는 간접적으로 얼마나 영향을 끼쳤느냐가 억압의 기준이 된다.

- ① 갑: 간섭 없이 지배할 수 있고 지배 없이 간섭할 수 있다.
- ② 갑: 자의적 지배가 있다면 시민의 자유는 보장되지 않는다.
- ③ 을: 국가는 개인에게 사회에 대한 헌신을 강요해서는 안 된다.
- ④ 을: 진정한 자유는 외부 간섭이 없는 상태인 소극적 자유이다.
- ⑤ 갑, 을: 법의 지배에서 벗어나는 것이 자유의 필수 조건이다.

14. 한국 불교 사사가 갑, 을의 입장만을 <보기>에서 있는 대로 고른 것은?

모든 법은 일심(一心)일 따름이고, 모든 중생은 깨달음의 본체일 뿐이다. 진여와 생멸은 둘이 아니기에 일심이 되고 하나를 고수하지 않기에 이문(二門)이라 한다.  
 깨달음[悟] 이전의 수행은 참된 수행이라 할 수 없다. 중생은 깨달음 이후에 정(定)과 혜(慧) 두 가지를 함께 수행함으로써 번뇌를 끊고 자성(自性)을 떠나지 않는다.

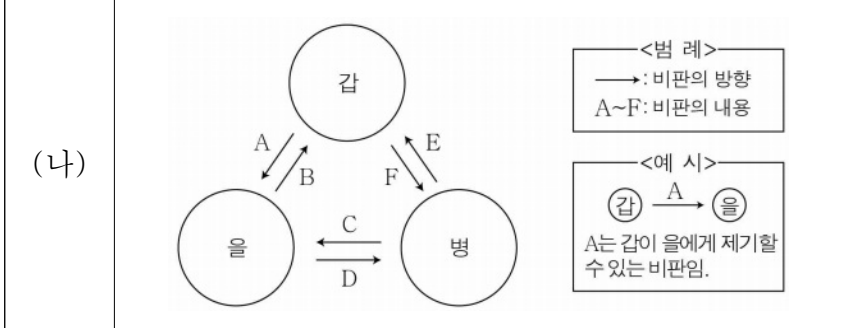


< 보 기 >  
 ㄱ. 갑: 부처와 중생은 근본적으로 둘이 아니라 하나이다.  
 ㄴ. 을: 자성이 부처임을 깨치면 습기(習氣)는 단번에 제거된다.  
 ㄷ. 을: 정은 마음의 본체[體]이고 혜는 마음의 작용[用]이다.  
 ㄹ. 갑, 을: 깨달음의 추구하고 중생 구제를 함께 해야 한다.

- ① ㄱ, ㄴ                      ② ㄱ, ㄷ                      ③ ㄴ, ㄹ
- ④ ㄱ, ㄷ, ㄹ                  ⑤ ㄴ, ㄷ, ㄹ

15. (가)의 고대 동양 사사가 갑, 을, 병의 입장에서 서로에게 제기할 수 있는 비판을 (나) 그림으로 표현할 때, A~F에 해당하는 내용으로 가장 적절한 것은? [3점]

(가)  
 갑: 도(道)란 큰길과 같다. 어찌 알아보기 어렵겠는가? 대장부는 뜻을 얻으면 백성과 함께 도를 행하고 뜻을 얻지 못하면 홀로 도를 행한다. 인(仁)은 사람의 마음이고 의(義)는 사람의 길이다.  
 을: 도는 고금(古今)의 올바른 판단 기준이다. 이 도는 하늘의 도가 아니요 땅의 도도 아닌 인간의 도이다. 인간의 본성[性]은 악하나 도를 받들어 선을 쌓으면 누구나 성인이 될 수 있다.  
 병: 도는 실재하고 진실하지만 하는 일도 없고 형체도 없다[無爲無形]. 도는 스스로가 근본이 되고 하늘과 땅을 생성하였으며 개미, 쭉정, 기왓장 등 어디에나 있지 않은 곳이 없다.



- ① A: 인위를 더하지 않으면 본성은 선행될 수 없음을 간과한다.
- ② B: 도덕적 실천 능력을 누구나 지닌 것은 아님을 간과한다.
- ③ C, E: 시비는 도의 관점에서 보면 절대적인 것임을 간과한다.
- ④ D, F: 도덕과 통치의 원리는 하늘에 근거해야 함을 간과한다.
- ⑤ E: 인의의 규범은 인간의 본성을 해치는 것임을 간과한다.



16. 다음을 주장한 중세 서양 사상가의 입장만을 <보기>에서 있는 대로 고른 것은? [3점]

이성은 인간의 자연적 경향성에 맞는 것을 선으로 파악하고 추구해야 할 것으로 본다. 또한 인간의 자연적 경향성에 반대되는 것을 악으로 파악하고 피해야 할 것으로 본다. 이성이 파악한 선과 악은 자연법의 명령과 관련되는데, 자연법의 첫 번째 명령은 '선을 추구하고 악을 피하라.'이다.

< 보 기 >  
 ㄱ. 자연법은 인간이 사회 속에서 살아갈 것을 명령한다.  
 ㄴ. 자연법은 인간이 자신의 생명을 보존할 것을 명령한다.  
 ㄷ. 인간에게는 동물과의 공통된 본성에 따른 선도 존재한다.  
 ㄹ. 인간은 자연 자체인 신과 하나가 될 때 행복을 누리게 된다.

- ① ㄱ, ㄴ                      ② ㄴ, ㄹ                      ③ ㄷ, ㄹ  
 ④ ㄱ, ㄴ, ㄷ                ⑤ ㄱ, ㄷ, ㄹ

[17~18] 갑, 을은 한국 사상가들이다. 물음에 답하시오.

갑: 군자의 학문은 마음이 아직 발하지 않을 때 경(敬)을 위주로 존양(存養)하고, 이미 발했을 때에도 경을 위주로 성찰한다. 마음은 이(理)와 기(氣)가 합해져 있는 것이며 감정[情]에는 이와 기 두 갈래의 연원이 있다.  
 을: 군주의 학문은 기질의 변화[橋氣質]보다 더 절실한 것이 없다. 기질을 변화시키려면 병을 살펴 약을 쓰듯 해야 한다. 경은 공부하는 요령이고 성(誠)은 공부한 뒤의 경지이다. 성이 아니면 기질을 변화시킬 수 없다.

17. 갑, 을의 입장에 대한 설명으로 옳지 않은 것은?

- ① 갑은 이에 따라 행위하도록 하는 것을 경의 목적으로 본다.  
 ② 을은 기질을 바로잡아야 본연의 성이 회복될 수 있다고 본다.  
 ③ 갑은 을과 달리 기뿐만 아니라 이도 발할 수 있다고 본다.  
 ④ 을은 갑과 달리 기를 제어해야 악을 행하지 않게 된다고 본다.  
 ⑤ 갑, 을은 이는 기와 결합해야 현상으로 드러날 수 있다고 본다.


18. 다음을 주장한 한국 사상가의 입장에서 갑에게 제기할 수 있는 반론으로 가장 적절한 것은? [3점]

사단(四端)은 인의예지의 근본이 되는 까닭에 성인이 사람을 가르침에 여기서부터 기초를 닦아 확충하게 했다. 만약 사단의 이면에 인의예지가 잠복해 있어 주인이 된다면 이는 확충 공부가 그 근본을 버리고 그 끝을 잡는 격이다.

- ① 덕(德)은 자주지권을 발휘해야 회복되는 것임을 모르고 있다.  
 ② 성(性)은 선의 확충으로 획득한 기호(嗜好)임을 모르고 있다.  
 ③ 경(敬)은 마음을 다스리기 위한 수양이 아님을 모르고 있다.  
 ④ 천(天)은 인간이 지니고 있는 사단의 근원임을 모르고 있다.  
 ⑤ 이(理)는 본성으로서의 이법적 실체가 아님을 모르고 있다.

19. 그림의 강연자가 지지할 주장만을 <보기>에서 고른 것은?

인간은 자유로우며, 인간은 바로 그 자유입니다. 신이 없기에, 우리는 자신의 행위를 정당화시켜 줄 주어진 가치나 질서를 찾지 못하고 어떤 핑계도 댈 수 없는 상태에서 홀로 있습니다. 인간은 고정된 인간성에 의해 결코 설명될 수 없습니다. 세계 속에 던져진 이상, 자신이 하는 모든 것에 대해 책임이 있습니다.



< 보 기 >  
 ㄱ. 인간은 자신의 본질인 보편적 이성을 실현해야 한다.  
 ㄴ. 인간은 자유와 책임을 의식할 때 불안을 느끼게 된다.  
 ㄷ. 인간은 자신의 도덕을 선택하며 자신을 만들어 가야 한다.  
 ㄹ. 인간은 절대자의 계획에 의해서 자유롭도록 운명 지어졌다.

- ① ㄱ, ㄴ    ② ㄱ, ㄷ    ③ ㄴ, ㄷ    ④ ㄴ, ㄹ    ⑤ ㄷ, ㄹ

20. 그림은 서술형 평가 문제와 학생 답안이다. 학생 답안의 ㉠~㉣ 중 옳지 않은 것은?

**서술형 평가**

◎ 문제: 사회사상가 갑, 을의 입장을 비교하여 서술하시오.

갑: 유효 수요를 창출하고 완전 고용을 확보하기 위해 정부의 기능이 확장되어야 한다. 이러한 확장은 개인의 경제적 활동이 성공적으로 이루어지기 위한 조건이다.  
 을: 자유에 대한 사회주의의 약속은 노예로 가는 길이다. 정부의 개입이 아니라 시장의 자생적 질서가 사회 구성원에게 다른 어떤 경쟁 체제보다 더 많은 기회를 준다.

◎ 학생 답안

갑, 을의 입장을 비교해 보면, 갑은 ㉠ 시장의 결합에 따른 문제를 해결하기 위해 정부의 역할이 강화되어야 한다고 보며, ㉡ 투자의 사회화를 통해 완전 고용을 추구해야 한다고 주장한다. 이에 비해 을은 ㉢ 정부가 시장에서의 자유 경쟁이 효율적으로 작동할 수 있도록 해야 한다고 보며, ㉣ 경제적 자원의 평등한 분배를 위해 정부가 시장을 통제해야 한다고 주장한다. 한편 갑, 을은 모두 ㉤ 시장 경제에 바탕을 둔 개인의 이윤 추구가 정당하다고 본다.

- ① ㉠    ② ㉡    ③ ㉢    ④ ㉣    ⑤ ㉤

\* 확인 사항  
 ○ 답안지의 해당란에 필요한 내용을 정확히 기입(표기)했는지 확인하시오.

제 4 교시

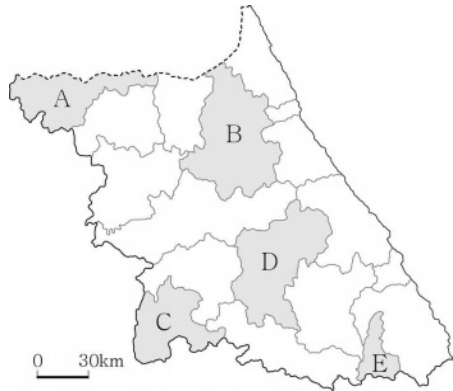
사회탐구 영역 (한국지리)

성명  수험번호       3    제 [ ] 선택

1. 다음은 답사 장면의 일부이다. (가) 지역을 지도의 A~E에서 고른 것은?



겸재 정선은 (가)의 정자연(亭子淵)에서 한탄강의 절경을 진경산수화로 남겼습니다.  
그림에 표현된 곳이 여기군요. 현무암 협곡과 주상절리가 멋지네요.  
벼농사가 이루어지는 용암 대지, 강에서 급류 타기를 즐기는 사람들을 볼 수 있네요.



- ① A
- ② B
- ③ C
- ④ D
- ⑤ E

2. 다음 자료의 ㉠~㉥ 중 옳은 내용만을 고른 것은? [3점]

<수행 평가 활동지>

※ 다음은 대동여지도의 일부이다. 이를 통해 알 수 있는 내용을 쓰시오.

㉠ A에서 구례까지 도로상 거리는 40리 이상이다.

㉡ 백두대간의 일부로, 분수계를 이루고 있다.

㉢ 방어와 관련된 군 사 시설이다.

㉣ 배가 다닐 수 있는 하천이다.

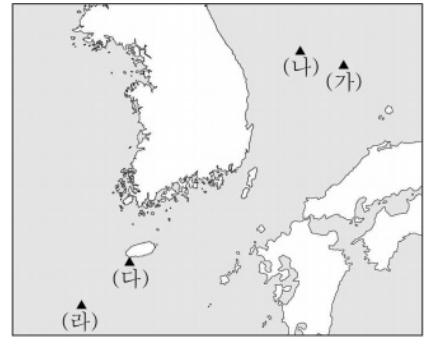
지도표

- 읍지
- ① 역참
- 창고
- ▲ 고산성

- ① ㉠, ㉡
- ② ㉠, ㉢
- ③ ㉡, ㉣
- ④ ㉢, ㉣
- ⑤ ㉢, ㉣

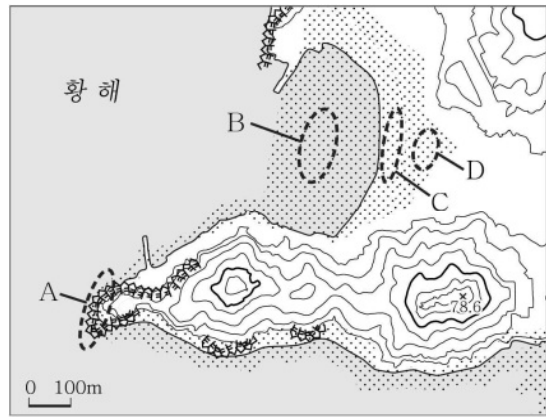
3. 다음 자료의 (가)~(라)에 대한 설명으로 옳은 것은?

동도와 서도 및 89개의 부속 도서로 이루어진 (가)는 나리 분지와 알봉이 있는 (나)보다 형성 시기가 이른다. (다)에는 우리나라 영토의 최남단 표지석이 있으며, (라)에는 종합 해양 과학 기지가 있다.



- ① (가)는 영해 설정 시 직선 기선의 기점이 된다.
- ② (나)는 최종 빙기에 한반도와 육지로 연결되어 있었다.
- ③ (가)는 (다)보다 일출 시각이 이른다.
- ④ (다)는 (나)보다 가장 높은 지점의 해발 고도가 높다.
- ⑤ (다), (라) 모두 천연 보호 구역으로 지정되어 있다.

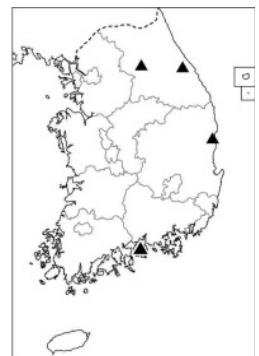
4. 지도의 A~D 지형에 대한 설명으로 옳은 것은?



- ① A는 시간이 지남에 따라 바다 쪽으로 성장한다.
- ② B는 주로 조류의 퇴적 작용으로 형성된다.
- ③ D는 염전이나 양식장으로 이용된다.
- ④ C에서는 A에서보다 파랑의 침식 작용이 활발하다.
- ⑤ D는 C보다 퇴적 물질의 평균 입자 크기가 크다.

5. 표의 (가)~(라) 지역에 대한 설명으로 옳은 것은? (단, (가)~(라)는 각각 지도에 표시된 네 지역 중 하나임.) [3점]

구분 지역	눈 일수 (일)	연 강수량 (mm)
(가)	57	1,898
(나)	25	1,405
(다)	8	1,073
(라)	7	1,839



\* 1981 ~ 2010년 평년값임.

- ① (가)는 (라)보다 연평균 기온이 높다.
- ② (나)는 (다)보다 기온의 연교차가 크다.
- ③ (다)는 (가)보다 고위도에 위치한다.
- ④ (다)는 (나)보다 여름 강수 집중률이 높다.
- ⑤ (라)는 (나)보다 단풍의 절정 시기가 이른다.

6. 다음 자료는 지형 사진 공모전 안내문과 수상작이다. (가)에 들어갈 내용으로 가장 적절한 것은?

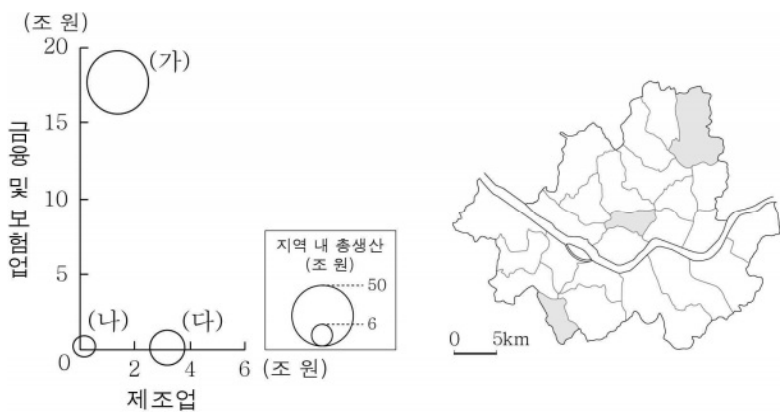
<지형 사진 공모전 안내>

- 주제: (가) 와/과 관련해 형성된 지형
- 참여 방법: 촬영한 사진에 설명을 넣어 제출함.

<수상작 1>	<수상작 2>
 <p>강릉시 OO휴게소에서 정동진 방향으로 촬영한 사진으로, 계단 모양의 해안 단구 모습을 담았다.</p>	 <p>영월군 △△전망대에서 촬영한 사진으로, 산지 사이를 흐르는 감입 곡류 하천의 모습을 담았다.</p>

- |              |              |
|--------------|--------------|
| ① 화산 활동      | ② 대보 조산 운동   |
| ③ 신생대 지반 융기  | ④ 지하수의 용식 작용 |
| ⑤ 후빙기 해수면 상승 |              |

7. 그래프는 지도에 표시된 세 구(區)의 지역 내 총생산, 제조업과 금융 및 보험업 부가가치 생산액을 나타낸 것이다. (가)~(다)에 대한 옳은 설명만을 <보기>에서 고른 것은? [3점]



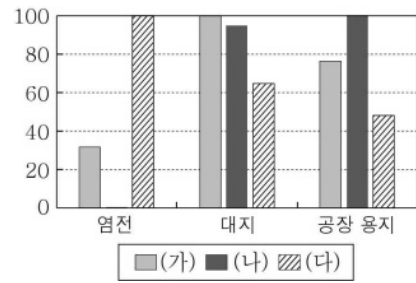
\* 제조업과 금융 및 보험업의 부가가치 생산액은 원의 가운데 값임. (2017년)

< 보 기 >

ㄱ. (가)는 (나)보다 초등학교 학생 수가 많다.  
 ㄴ. (나)는 (가)보다 거주자의 평균 통근 거리가 멀다.  
 ㄷ. (나)는 (다)보다 주간 인구 지수가 높다.  
 ㄹ. (다)는 (가)보다 제조업 종사자가 많다.

- ① ㄱ, ㄴ    ② ㄱ, ㄷ    ③ ㄴ, ㄷ    ④ ㄴ, ㄹ    ⑤ ㄷ, ㄹ

8. 그래프는 세 권역의 염전, 대지, 공장 용지 면적을 비교한 것이다. (가)~(다) 권역으로 옳은 것은? [3점]



\* 지목별 면적이 가장 넓은 권역의 값을 100으로 했을 때의 상대값임.  
 \*\* 대지는 주거용 및 상업용 건물을 짓는 데 활용되는 땅임. (2019년)

- |   |     |     |     |
|---|-----|-----|-----|
|   | (가) | (나) | (다) |
| ① | 수도권 | 영남권 | 호남권 |
| ② | 수도권 | 호남권 | 영남권 |
| ③ | 영남권 | 수도권 | 호남권 |
| ④ | 영남권 | 호남권 | 수도권 |
| ⑤ | 호남권 | 영남권 | 수도권 |

9. 다음 자료의 (가), (나) 시기에 대한 옳은 설명만을 <보기>에서 고른 것은? (단, (가), (나)는 각각 1월, 8월 중 하나임.)



< 보 기 >

ㄱ. (가)의 추위에 대비한 전통 가옥 시설에는 온돌이 있다.  
 ㄴ. (나)에는 남고북저형의 기압 배치가 주로 나타난다.  
 ㄷ. (가)는 (나)보다 낮의 길이가 길다.  
 ㄹ. (나)는 (가)보다 결빙 일수가 많다.

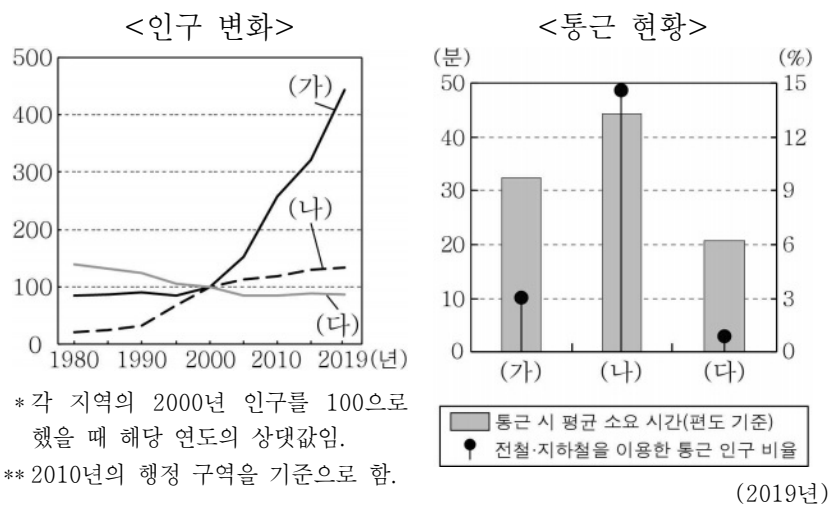
- ① ㄱ, ㄴ    ② ㄱ, ㄷ    ③ ㄴ, ㄷ    ④ ㄴ, ㄹ    ⑤ ㄷ, ㄹ

10. 다음 자료의 (가), (나)에 들어갈 내용으로 가장 적절한 것은?

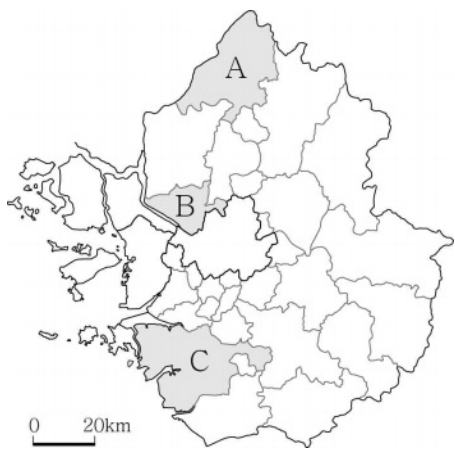
[앵커] 재난 방송 센터 연결합니다. ○○○ 기자, 태풍과 멀리 떨어져 있다고 안심할 게 아니군요!  
 [기자] 네, 현재 대형 태풍 □□은 제주도 서귀포 동쪽을 지나고 있는데, 태풍의 중심에서 멀리 떨어진 강원도 양양에 시간당 100mm가 넘는 폭우가 쏟아졌습니다. 그 이유는 (가)이 태풍의 바람받이 역할을 하여 영동 지방에 (나)가 발생했기 때문입니다.

- |   |      |        |
|---|------|--------|
|   | (가)  | (나)    |
| ① | 태백산맥 | 지형성 강수 |
| ② | 태백산맥 | 전선성 강수 |
| ③ | 소백산맥 | 대류성 강수 |
| ④ | 소백산맥 | 지형성 강수 |
| ⑤ | 소백산맥 | 전선성 강수 |

11. 그래프의 (가)~(다) 지역을 지도의 A~C에서 고른 것은?

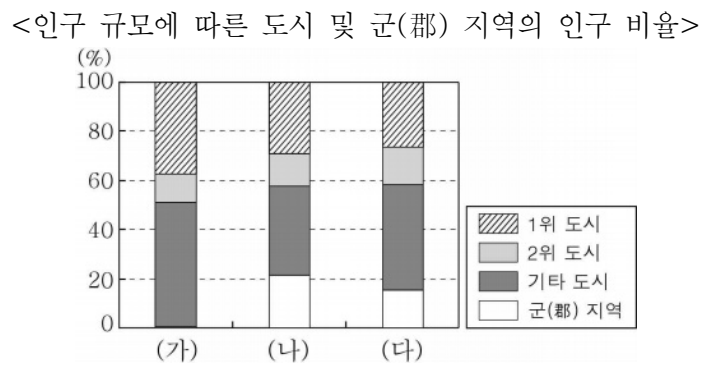


\* 각 지역의 2000년 인구를 100으로 했을 때 해당 연도의 상대값임.  
\*\* 2010년의 행정 구역을 기준으로 함.

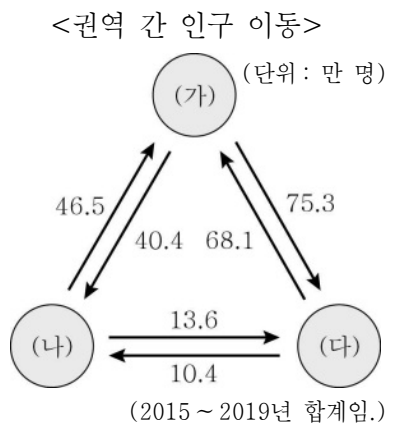


	(가)	(나)	(다)
①	A	B	C
②	B	A	C
③	B	C	A
④	C	A	B
⑤	C	B	A

12. 그래프의 (가)~(다) 지역에 대한 설명으로 옳은 것은? (단, (가)~(다)는 각각 수도권, 충청권, 호남권 중 하나임.) [3점]



\* 기타 도시는 인구 규모 1, 2위 도시를 제외한 도시임. (2019년)



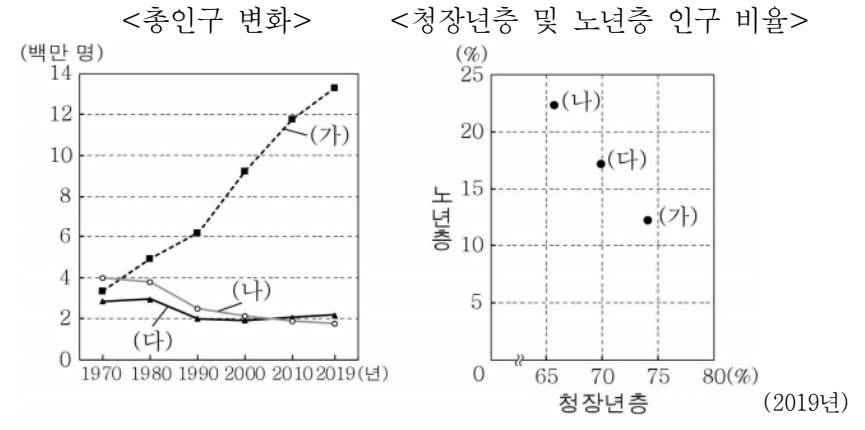
- ① (나)에는 행정 중심 복합 도시가 있다.
- ② (가)는 (나)보다 2위 도시의 인구가 적다.
- ③ (가)는 (다)보다 생산자 서비스업 사업체 수가 많다.
- ④ (나)는 (다)보다 2015년 이후 인구 순유입이 많다.
- ⑤ (다)는 (가)보다 도시의 수가 많다.

13. 그림은 두 소매 업체의 모습을 나타낸 것이다. (가)와 비교한 (나)의 상대적 특성으로 옳은 것은? (단, (가), (나)는 각각 대형 마트, 편의점 중 하나임.)



- ① 사업체당 종사자가 많다.
- ② 상점 간 평균 거리가 멀다.
- ③ 1인당 평균 구매액이 많다.
- ④ 1일 평균 영업시간이 길다.
- ⑤ 자가용 승용차 이용 고객의 비율이 높다.

14. 그래프에 대한 설명으로 옳은 것은? (단, (가)~(다)는 각각 경기, 전남, 충남 중 하나임.) [3점]



- ① (가)에는 혁신 도시가 있다.
- ② (나)는 전남, (다)는 충남이다.
- ③ 2019년 경기는 충남보다 총부양비가 높다.
- ④ 2019년 경기는 전남보다 노령화 지수가 높다.
- ⑤ 1970~2019년에 충남은 전남보다 인구가 많이 감소하였다.

15. 다음 자료의 (가), (나) 화석 에너지에 대한 옳은 설명만을 <보기>에서 고른 것은? [3점]

○ 포항시는 (가) 이/가 지하에서 새어 나와 형성된 불꽃을 관광객에게 보여 주기 위해, '불의 정원'을 조성하였다. (가) 은/는 울산 앞바다에서 소량 생산되고 있다.

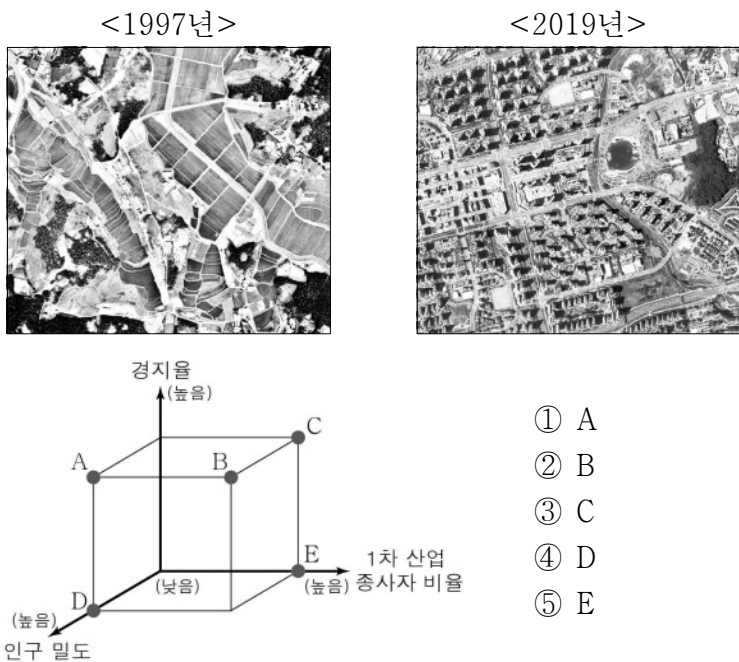
○ 탄화 정도에 따라 무연탄, 역청탄, 갈탄 등으로 분류되는 (나) 은/는 제철 공업 및 발전용 연료로 많이 이용된다. 최근 정부 차원에서 대기 중 미세 먼지를 줄이기 위해 (나) 화력 발전 비율을 낮추는 정책을 추진하고 있다.

< 보기 >

ㄱ. (가)는 주로 고생대 지층에 매장되어 있다.  
 ㄴ. (나)는 냉동 액화 기술의 발달로 소비량이 급증하였다.  
 ㄷ. (가)는 (나)보다 상용화된 시기가 늦다.  
 ㄹ. (나)는 (가)보다 우리나라 1차 에너지 소비 구조에서 차지하는 비율이 높다.

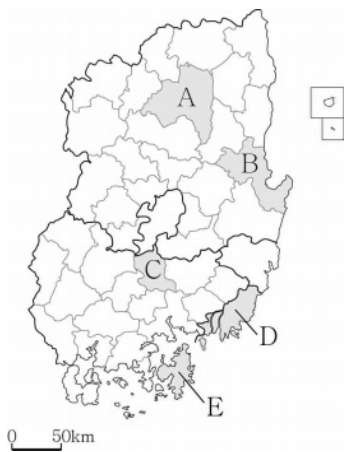
- ① ㄱ, ㄴ    ② ㄱ, ㄷ    ③ ㄴ, ㄷ    ④ ㄴ, ㄹ    ⑤ ㄷ, ㄹ

16. 사진은 수도권에 있는 ○○ 지역의 시기별 모습을 나타낸 것이다. 이 지역의 1997년과 비교한 2019년의 상대적 특성을 그림의 A~E에서 고른 것은?



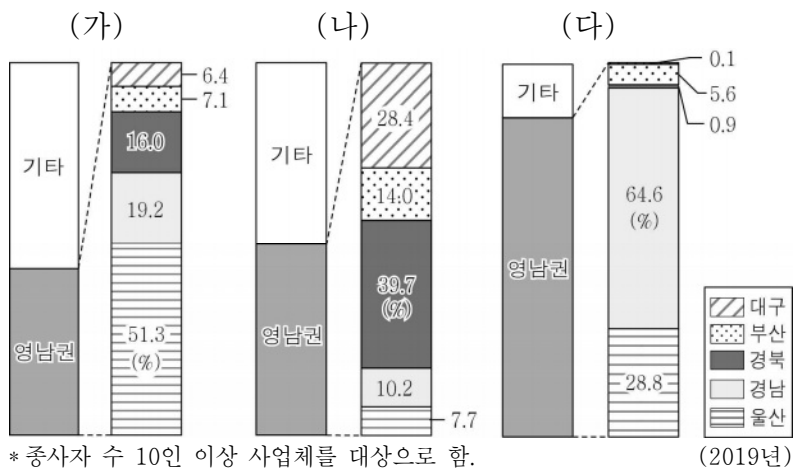
- ① A
- ② B
- ③ C
- ④ D
- ⑤ E

17. 지도의 A~E 지역 특성을 활용한 탐구 주제로 가장 적절한 것은? [3점]



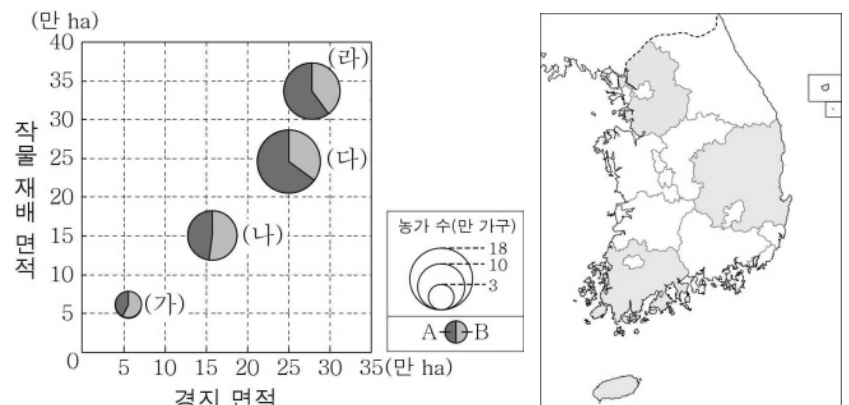
- ① A - 대규모 제철소 입지에 따른 지역 경제 변화
- ② B - 국제 영화제 개최에 따른 문화 산업 변화
- ③ C - 람사르 협약에 등록된 습지 보전 방안
- ④ D - 세계 문화유산을 활용한 관광 산업 육성 방안
- ⑤ E - 원자력 발전소 입지에 따른 환경 변화

18. 그래프는 세 제조업의 지역별 출하액 비율을 나타낸 것이다. (가)~(다)에 대한 설명으로 옳은 것은? (단, (가)~(다)는 각각 기타 운송 장비, 섬유 제품(의복 제외), 자동차 및 트레일러 제조업 중 하나임.) [3점]



- ① (가)는 1960년대 우리나라 공업화를 주도하였다.
- ② (다)는 대량의 원료를 수입하는 적환지 지향 공업이다.
- ③ (나)는 (가)보다 사업체당 출하액이 많다.
- ④ (다)는 (나)보다 최종 제품의 무게가 무겁고 부피가 크다.
- ⑤ 제조업별 영남권의 출하액은 (다)>(나)>(가) 순으로 많다.

19. 그래프에 대한 설명으로 옳은 것은? (단, (가)~(라)는 각각 지도에 표시된 네 도(道) 중 하나이고, A, B는 각각 겸업농가, 전업농가 중 하나임.) [3점]



\* 경지 면적과 작물 재배 면적은 원의 가운데 값임. (2019년)

- ① A는 겸업농가, B는 전업농가이다.
- ② (가)는 (다)보다 겸업농가 수가 많다.
- ③ (나)는 (라)보다 경지 이용률이 높다.
- ④ (다)는 (가)보다 지역 내 경지 중 밭 면적의 비율이 높다.
- ⑤ (라)는 (나)보다 쌀 생산량이 많다.

20. 다음 자료의 (가), (나) 지역을 지도의 A~D에서 고른 것은?



- |   |     |     |
|---|-----|-----|
|   | (가) | (나) |
| ① | A   | B   |
| ② | A   | C   |
| ③ | B   | D   |
| ④ | D   | A   |
| ⑤ | D   | C   |

\* 확인 사항

○ 답안지의 해당란에 필요한 내용을 정확히 기입(표기)했는지 확인하십시오.

제 4 교시

사회탐구 영역(세계지리)

성명		수험번호					3			제 [ ] 선택
----	--	------	--	--	--	--	---	--	--	----------

1. 다음 자료는 낱말 맞추기의 일부이다. (가)에 들어갈 내용으로 가장 적절한 것은? [3점]

<문순 아시아의 자연환경과 주민 생활>

		㉠		
	㉡		㉢	
		㉣		
	㉤			

<세로 열쇠>

㉠ 식초로 간을 한 밥에 어패류 등을 얹은 일본 전통 요리인 초밥

㉡ \_\_\_\_\_ (가)

㉢ '긴 강[長江]'이라는 뜻의 중국 중부 지방의 강 이름, '양쯔강'이라고도 함.

<가로 열쇠>

㉣ 다양한 재료와 향신료를 사용하여 만든 인도네시아의 전통 볶음밥 요리

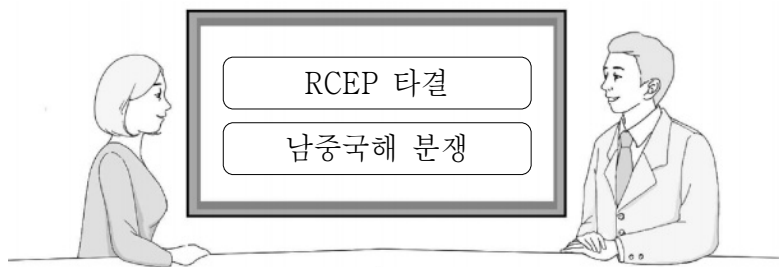
㉤ 폭설에 대비하기 위한 급경사 지붕이 있는 일본 기후현의 전통 가옥

- ① '긴 옷'이라는 뜻을 가진 베트남 전통 여성복
- ② 물 위에 지어 이동과 물고기 잡이에 유리한 전통 가옥
- ③ 바느질하지 않은 긴 천으로 몸을 감싸는 인도 전통 여성복
- ④ 습기와 해충을 막기 위해 바닥을 지면에서 띄운 전통 가옥
- ⑤ '□' 형태의 폐쇄적 구조를 가진 중국 화북 지방의 전통 가옥

2. 다음 자료의 ㉠~㉣에 대한 옳은 설명만을 <보기>에서 고른 것은?

2020년 결산의 첫 번째 키워드는 역내포괄적경제동반자협정(RCEP)의 타결입니다. ㉠ 동남아시아 국가 연합(ASEAN)의 회원국과 대한민국, ㉡ \_\_\_\_\_, 일본, 오스트레일리아, 뉴질랜드 총 15개국이 참여한 이 협정은 참여국의 무역 규모와 인구 측면에서 세계 최대의 ㉢ 자유 무역 협정입니다.

두 번째 키워드는 ㉣ \_\_\_\_\_, 베트남, 필리핀, 말레이시아 등 6개 국가가 대립하고 있는 ㉤ 남중국해 분쟁입니다. 최근에는 ㉥ \_\_\_\_\_와/과 미국의 패권 다툼으로 이어지고 있습니다.



< 보 기 >

㉠. ㉠에는 인도가 포함된다.

㉡. ㉡은 세계에서 인구가 가장 많다.


㉢. ㉢은 회원국 간 무역 장벽의 완화를 목적으로 한다.

㉣. ㉣의 주요 원인은 인접 국가 간 종교 갈등이다.

- ① ㉠, ㉡    ② ㉠, ㉢    ③ ㉡, ㉢    ④ ㉡, ㉣    ⑤ ㉢, ㉣

3. 다음 자료는 사진 전시회 안내문이다. (가)에 대한 옳은 설명만을 <보기>에서 고른 것은? (단, (가)는 사막화 또는 열대림 파괴만을 고려함.)

<'미래의 고고학' 사진전>



지난 30년 동안 몽골에서는 850여 개 호수와 2,000여 개 강이 말랐습니다. 초원이 점점 불모지로 변해 가고, 유목민들은 살 곳을 잃었습니다.

이번 사진전은 몽골의 (가)를 다루고 있습니다. 드넓게 펼쳐진 초원이 미래에는 박물관에서나 볼 수 있는 고고학의 대상이 될지도 모르기 때문입니다. 사진 속에서 황폐해진 미래로 걸어가고 있는 유목민의 행렬 앞에서 서 있는 어린이는 이 환경 문제의 직접적인 피해자인 미래 세대를 암시합니다.

< 보 기 >

㉠. 식량 생산량 감소와 난민 증가를 초래한다.


㉡. 바젤 협약을 통해 문제 해결을 모색하고 있다.

㉢. 사헬 지대와 아랄해 주변에서도 나타나고 있다.


㉣. 열대 우림에서의 경작지와 방목지 조성이 주요 원인이다.

- ① ㉠, ㉡    ② ㉠, ㉢    ③ ㉡, ㉢    ④ ㉡, ㉣    ⑤ ㉢, ㉣

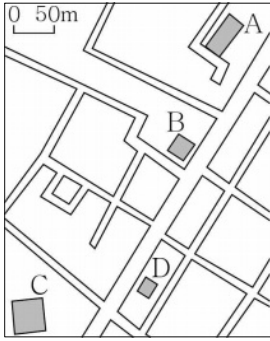
4. 다음 자료는 말레이시아 어느 도시에서 촬영한 네 종교의 경관이다. A~D 종교에 대한 설명으로 옳은 것은? (단, A~D는 각각 불교, 이슬람교, 그리스도교, 힌두교 중 하나임.) [3점]




A: 큰 십자가가 달린 뿔족한 종탑




B: 관음보살상이 있는 건물과 큰 향로





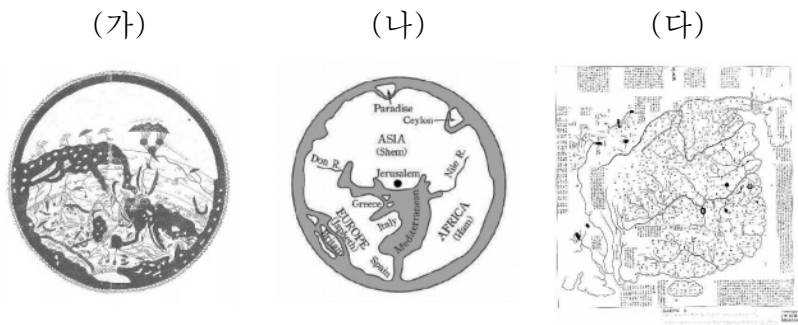
C: 초승달 모양의 장식 이 있는 돛형 지붕



D: 다양한 신들의 조각 상으로 장식된 외벽

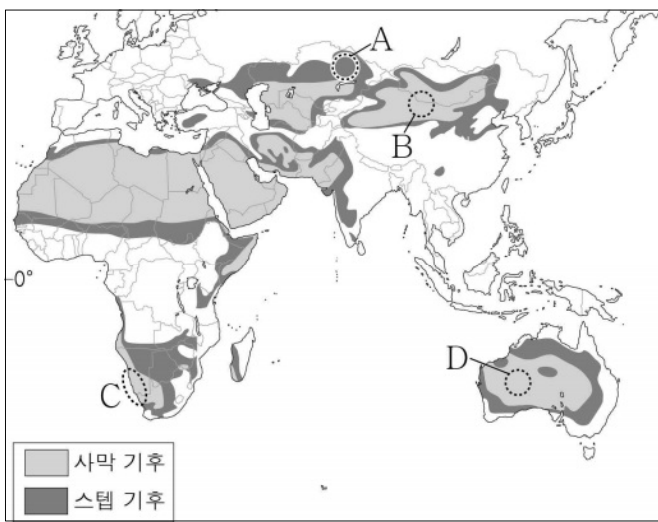
- ① A는 남부 아시아에서 기원하였다.
- ② B는 메카로의 성지 순례를 종교적 의무로 한다.
- ③ C는 윤회 사상을 중시하며 개인의 해탈을 강조한다.
- ④ D는 소를 신성시하여 소고기 섭취를 금기시한다.
- ⑤ D는 C보다 말레이시아에서 신자 수가 많다.

5. (가)~(다) 지도에 대한 설명으로 옳은 것은?



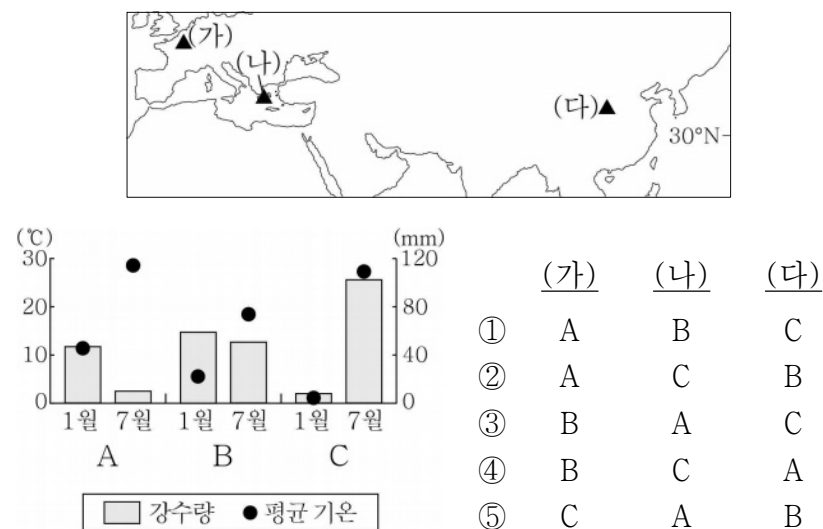
- ① (가)는 중화사상이 반영되어 있다.
- ② (나)는 지도 제작에 경위선 개념이 사용되었다.
- ③ (다)는 보편 종교의 성지가 지도의 중앙에 위치한다.
- ④ (가)는 지도의 위쪽이 북쪽, (나)는 위쪽이 남쪽이다.
- ⑤ (가)~(다) 모두 하천이 표현되어 있다.

6. 지도는 건조 기후 지역을 나타낸 것이다. A~D 지역에 대한 설명으로 옳은 것은?



- ① A는 타이가 지대가 넓게 나타난다.
- ② B의 토양은 유기물이 많아 흑색을 띤다.
- ③ C는 한류의 영향으로 연 강수량이 적다.
- ④ D는 탁월풍의 비그늘(바람그늘) 지역이다.
- ⑤ A, B 모두 연 강수량이 250mm 미만이다.

7. 지도에 표시된 (가)~(다) 지역의 기후값을 그래프의 A~C에서 고른 것은? [3점]



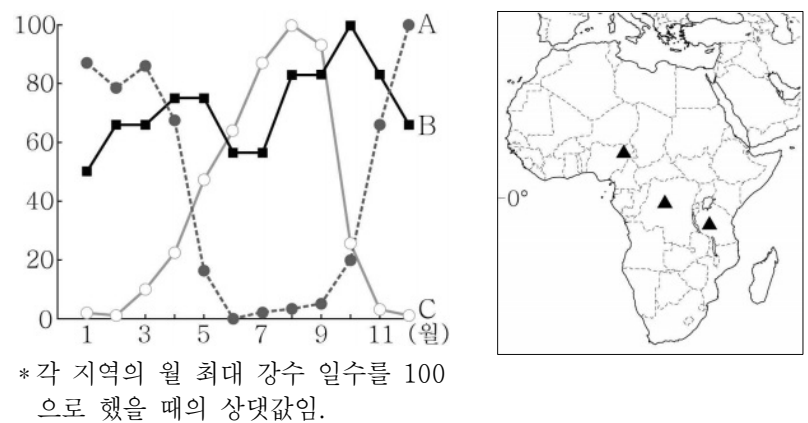
8. 다음 자료의 ㉠, ㉡의 공통점으로 옳은 것은?

○ 터키 서남부의 국립공원 '파묵칼레'는 '목화로 지은 성'이라는 뜻으로, ㉠ 온천물에 녹아 있던 탄산 칼슘이 오랜 시간 퇴적된 계단 모양의 지형으로 유명하다. 과거 이곳에 있었던 '신성한 도시'라는 이름의 히에라폴리스는 로마의 휴양지였으나 1354년 대지진으로 무너졌다.

○ 멕시코의 유카탄 반도에서는 ㉡ 기반암의 용식으로 합몰된 웅덩이나 동굴에 지하수가 고인 지형을 '세노테'라고 부른다. 세노테는 과거 마야인들의 수원지(水源地)였으며, 규모가 큰 웅덩이에서는 풍요를 기원하는 의식을 행하기도 하였다.

- ① 주로 석회암이 기반암을 이루고 있다.
- ② 토양의 동결과 용해로 형성된 다각형의 지형이다.
- ③ 비가 내릴 때 저지대에 물이 일시적으로 고인 염호이다.
- ④ 화학적 풍화보다 물리적 풍화가 활발한 곳에서 잘 형성된다.
- ⑤ 과거의 파식대가 지반의 용기로 형성된 계단 모양 지형이다.

9. 그래프는 지도에 표시된 세 지역의 월 강수 일수를 나타낸 것이다. A~C 지역에 대한 설명으로 옳지 않은 것은? [3점]



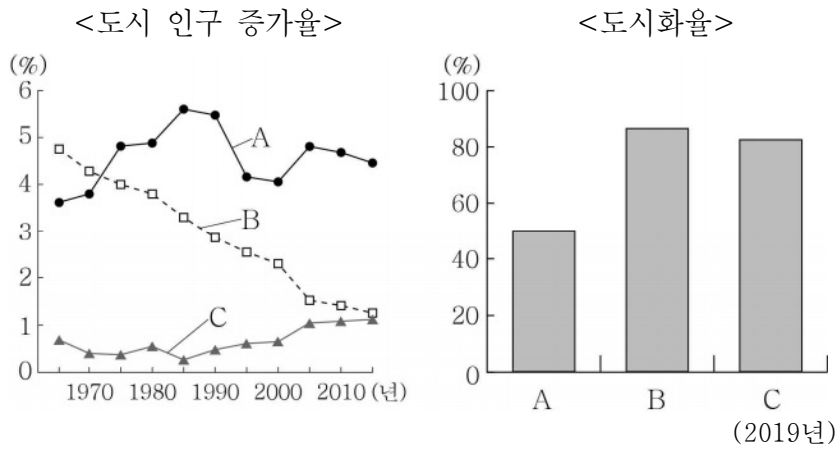
- ① A는 북반구, C는 남반구에 위치해 있다.
- ② A는 B보다 건기와 우기의 구분이 뚜렷하다.
- ③ B는 C보다 1월 낮 길이가 길다.
- ④ C는 A보다 7월에 적도 수렴대의 영향을 많이 받는다.
- ⑤ A~C 모두 기온의 일교차가 기온의 연교차보다 크다.

10. 그래프는 세 국가의 신·재생 에너지원별 전력 생산 비율을 나타낸 것이다. A~D에 대한 설명으로 옳은 것은? (단, A~D는 각각 수력, 지열, 태양광, 풍력 중 하나임.) [3점]



- ① A는 판의 경계 부근에서 개발 잠재력이 높다.
- ② B는 바람이 많이 부는 산지나 해안 지역이 생산에 유리하다.
- ③ C는 유량이 풍부하고 낙차가 큰 곳이 발전에 유리하다.
- ④ D는 일사량이 많은 지역이 개발에 유리하다.
- ⑤ A는 C보다 주·야간 발전량 차이가 크다.

11. 그래프는 세 국가의 도시 인구 증가율 및 도시화율을 나타낸 것이다. A~C에 대한 설명으로 옳은 것은? (단, A~C는 각각 나이지리아, 브라질, 영국 중 하나임.) [3점]



- ① A에는 거대 도시들이 연속된 대도시권이 나타난다.
- ② B에는 최상위 세계 도시가 있다.
- ③ A는 C보다 산업화 시작 시기가 이른다.
- ④ B는 A보다 도시화의 가속화 단계 진입 시기가 이른다.
- ⑤ C는 B보다 도시 인구가 많다.

12. 다음 자료의 ㉠~㉣에 대한 설명으로 옳지 않은 것은?

베트남의 대표적인 음식은 '피'이다. 피는 사골 육수에 ㉠ 쌀로 만든 면과 고기를 넣고 기호에 따라 칠리소스, 라임즙, 고수, 느억맘 등을 곁들여 먹는 국수 요리이다. '피 보'는 ㉡ 소고기, '피 가'는 닭고기, '피 헤어'는 ㉢ 돼지고기가 들어가는 쌀국수이다.

프랑스 문화의 영향을 받은 음식도 있는데, ㉣ 밀가루가 주 재료인 바게트로 만든 샌드위치인 '바인 미'가 대표적이다.

- ① ㉠은 계절풍 기후 지역의 축적 평야에서 주로 재배된다.
- ② ㉡의 기업적 목적은 아시아보다 아메리카에서 활발하다.
- ③ ㉢의 육류를 가장 많이 소비하는 국가는 중국이다.
- ④ ㉣은 ㉢보다 가죽 제품의 원료로 많이 사용된다.
- ⑤ ㉣은 ㉠보다 단위 면적당 생산량이 많다.

13. 표는 지도에 표시된 세 수위 도시의 특성을 나타낸 것이다. A~C의 공통점으로 옳은 것은? [3점]

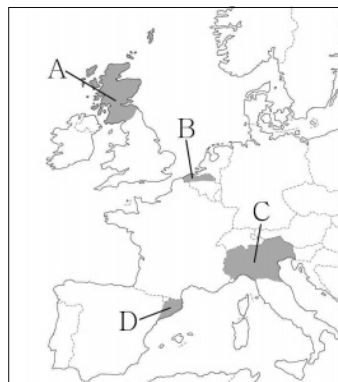
구분	A	B	C
제2 도시 대비 인구 규모(2018년)	3.0배	8.6배	9.8배
1월 평균 기온(°C)	13.1	22.1	24.8
7월 평균 기온(°C)	13.3	16.7	11.0

- ① 무역 및 교류에 유리한 해안에 위치한다.
- ② 중주 도시로서 도시 과밀화 현상이 나타난다.
- ③ 대규모 슬럼이 도심의 광장 주변에 분포한다.
- ④ 신기 조산대에 위치하여 지진이 자주 발생한다.
- ⑤ 기온의 연교차가 작은 열대 고산 기후가 나타난다.

14. 다음 자료의 (가), (나) 지역을 지도의 A~D에서 고른 것은?

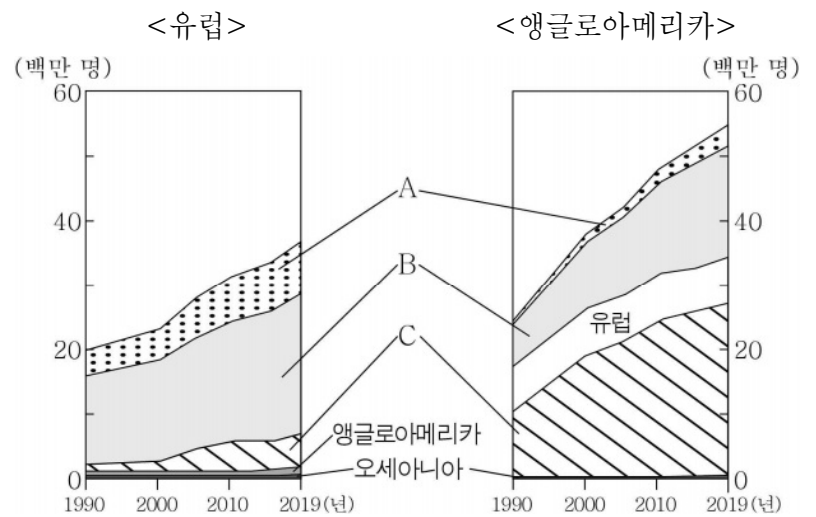
○ (가) 은/는 석유 자원이 풍부한 북해 연안에 위치해 있으며 민족의 차이로 인한 수난의 역사가 오래되어 지속적으로 분리 독립을 추진하였다. 2014년에 분리 독립을 위한 투표를 실시하였으나 찬성이 44%에 그쳐 부결되었다. 그러나 브렉시트(Brexit)를 계기로 독립을 위한 움직임이 최근에 다시 커지고 있다.

○ (나) 은/는 국내 총생산(GDP)의 약 20%를 차지하는 경제 중심지로서 고유 언어를 사용할 만큼 지역 정체성이 강하다. 2017년 분리 독립을 위한 투표에서 찬성률이 압도적으로 높았으나 중앙 정부가 이를 인정하지 않았다. 중심 도시인 바르셀로나에는 가우디의 아름다운 건축물들이 있어 관광객들이 많이 찾는다.



- |   | (가) | (나) |
|---|-----|-----|
| ① | A   | C   |
| ② | A   | D   |
| ③ | B   | C   |
| ④ | B   | D   |
| ⑤ | D   | A   |

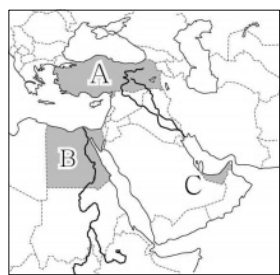
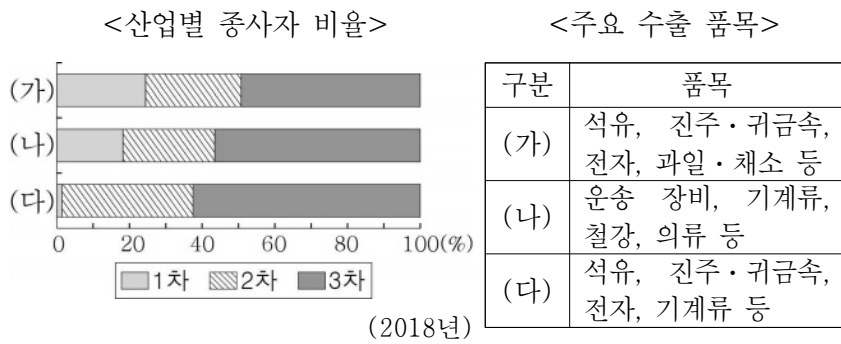
15. 그래프는 두 지역(대륙)으로 유입된 이주민들의 출신지를 나타낸 것이다. 이에 대한 설명으로 옳은 것은? (단, A~C는 각각 라틴 아메리카, 아시아, 아프리카 중 하나임.) [3점]



- ① 이주민의 유입은 유럽이 앵글로아메리카보다 많다.
- ② 앵글로아메리카는 라틴 아메리카 출신 이주민이 가장 많다.
- ③ A는 C보다 1인당 지역 내 총생산이 많다.
- ④ B는 A보다 인구의 자연 증가율이 높다.
- ⑤ C는 B보다 총인구가 많다.



16. 다음 자료의 (가)~(다) 국가를 지도의 A~C에서 고른 것은?



- |   | (가) | (나) | (다) |
|---|-----|-----|-----|
| ① | A   | B   | C   |
| ② | A   | C   | B   |
| ③ | B   | A   | C   |
| ④ | B   | C   | A   |
| ⑤ | C   | A   | B   |

17. 다음 자료의 ㉠~㉥에 대한 설명으로 옳은 것은? [3점]

아프리카에서 가장 높은 킬리만자로산은 ㉠ 동아프리카 지구대에 위치한다. ㉡ 산 정상부의 만년설이 햇빛을 반사하기 때문에 주민들은 '빛나는 산'이라고 부른다. 킬리만자로산은 전체적인 모습이 ㉢ 순상 화산의 형태이며, 서로 다른 시기에 분출된 용암으로 형성된 세 개의 봉우리가 있는 ㉣ 성층 화산이다. 5,895m로 가장 높은 봉우리인 키보봉의 정상에는 ㉤ 칼데라호가 있다.

- ① ㉠ - 해양판과 대륙판의 충돌로 형성되었다.
- ② ㉡ - 분포 고도 하한선이 낮아지고 있다.
- ③ ㉢ - 주로 유동성이 작은 용암의 분출로 형성되었다.
- ④ ㉣ - 수차례 용암 분출과 화산 쇄설물 퇴적으로 형성되었다.
- ⑤ ㉤ - 경암과 연암의 차별 침식으로 형성되었다.

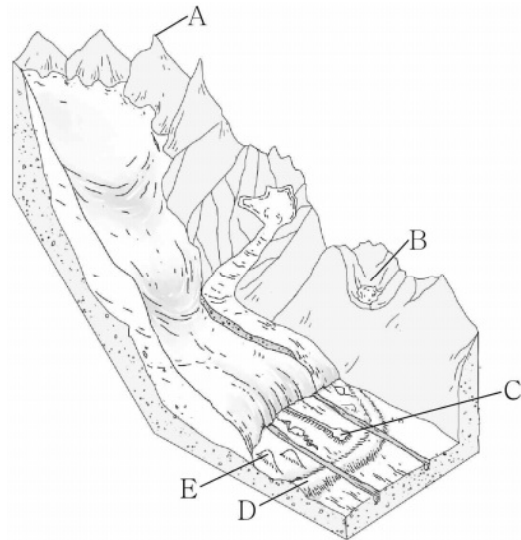
18. 다음 자료의 (가)에 들어갈 내용으로 가장 적절한 것은?

<주제: (가)의 사례>

<p>에스파냐는 오랜 전통의 산티아고 성지 순례 길을 도보 여행 코스로 개발하여 홍보하고 있음.</p>	<p>미국 뉴욕은 도시 브랜드를 활용한 다양한 관광 상품을 개발하여 수익을 올리고 있음.</p>	<p>자메이카는 지역의 커피를 지리적 표시제 상품으로 개발하여 세계적으로 인정받고 있음.</p>
---	---	---

- ① 보호 무역주의 강화
- ② 세계화의 의미와 배경
- ③ 다국적 기업의 현지화 전략
- ④ 세계화 시대의 지역화 전략
- ⑤ 세계화에 따른 문화 획일화 현상

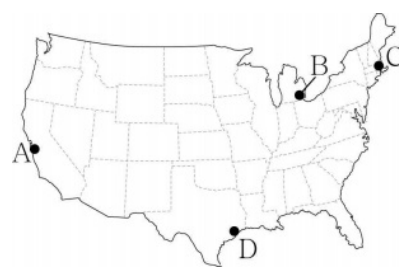
19. 그림의 A~E 지형에 대한 설명으로 옳지 않은 것은? (단, A~E는 각각 권곡, 드림린, 모레인, 에스커, 호른 중 하나임.)



- ① A의 뾰족한 봉우리는 빙하의 침식 작용으로 형성되었다.
- ② B의 반원형 와지는 빙하의 퇴적 작용으로 형성되었다.
- ③ C의 제방 모양 지형은 용빙수의 퇴적 작용으로 형성되었다.
- ④ D는 자갈, 모래 등의 퇴적물이 뒤섞여 분급이 불량하다.
- ⑤ E의 형태를 통해 빙하의 이동 방향을 알 수 있다.

20. 다음 자료의 (가)~(다) 도시를 지도의 A~D에서 고른 것은? [3점]

- (가) 은/는 미국에서 가장 오래된 도시 중 하나로 19세기에는 제조업과 무역의 중심지로 명성을 떨쳤다. 하버드, MIT 등을 중심으로 20세기 중반 이후 생명 공학 산업이 크게 발전하여 세계적인 산업 클러스터가 형성되어 있다.
- (나) 은/는 대표적인 석유 화학 공업 도시로 대형 석유 회사 본사들이 있어 '세계 에너지 수도'라는 별명을 가지고 있다. 미국에서 4번째로 인구가 많은 도시이며, 석유 화학 공업 외에도 우주 항공 산업이 발달하였다.
- (다) 은/는 러스트 벨트에 위치한 자동차 산업의 중심 도시로 '모터 시티(Motor City)', '모타운(Motown)'이라는 별명을 가지고 있다. 산업 구조가 변화함에 따라 자동차 제조업이 쇠퇴하였으나, 최근 자율 주행차와 전기차 등 자동차 관련 기술의 혁신을 이끌고 있다.



- |   | (가) | (나) | (다) |
|---|-----|-----|-----|
| ① | A   | B   | D   |
| ② | A   | C   | B   |
| ③ | B   | C   | A   |
| ④ | C   | D   | A   |
| ⑤ | C   | D   | B   |

\* 확인 사항

- 답안지의 해당란에 필요한 내용을 정확히 기입(표기)했는지 확인하십시오.

제 4 교시

사회탐구 영역(동아시아사)


성명		수험번호				3				제 [ ] 선택
----	--	------	--	--	--	---	--	--	--	----------

1. (가) 문화가 남긴 유물로 옳은 것은?

라오허강 유역에서 발달한 신석기 문화인 (가) 을/를 대표하는 유물입니다. 이 유물에 대해 말해 볼까요?

뉴허량 유적에서 발견된 여신 얼굴상입니다.

푸른색의 눈이 인상적이에요.



2. (가) 황제에 대한 설명으로 옳은 것은?

(가) 은/는 북과장군 노박덕, 누선장군 양복 등을 시켜 남월(남비엣)을 정복하여 아홉 군을 설치하였다. 이는 남쪽으로 영역을 넓힌 것이다. 양복 및 좌장군 순체에게 조선을 공격하게 하여, 그 땅에 진번, 임둔, 낙랑, 현도 네 군을 두었다. 이것은 동북쪽으로 영역을 넓힌 것이다. 또한 장건을 보내 서역과 교통하게 하니, 여러 나라가 공물을 바쳤다. 이는 서쪽으로 세력을 확대한 것이다.

- ① 균전제를 실시하였다.
- ② 분서갱유를 단행하였다.
- ③ 준왕을 몰아내고 정권을 잡았다.
- ④ 화번공주인 문성 공주와 혼인하였다.
- ⑤ 동중서의 건의를 수용하여 유교를 진흥하였다.

3. 자료를 활용한 탐구 주제로 가장 적절한 것은?

명문 출신의 고위 관료들이 수도 뤼양의 동남쪽으로 달아나고, 태자를 돌보아야 할 관료도 밤중에 성의 북문을 열고 북쪽으로 달아났다. 유요와 왕미가 수도로 쳐들어오니 진(晉)의 황제는 궁성의 문을 열고 뤼양의 북쪽을 거쳐 장안으로 가려 하였으나 유요 등에게 사로잡혔다.

- ① 백강 전투의 영향
- ② 수의 남북조 통일 결과
- ③ 나당 연합군의 결성 계기
- ④ 5호의 화북 지역 장악 과정
- ⑤ 거란의 연운 16주 차지 배경

4. 다음 상황이 나타난 시기를 연표에서 옳게 고른 것은? [3점]

칸의 부대가 고정산에 이르자 송의 황제가 신하를 파견하여 국새를 지니고 항복해 왔다. 동문병은 임안(臨安)의 궁전에 들어가, 황제가 기거하던 곳을 장악하고 창고에 소장된 물품을 봉하여 인수하였다. ...(중략)... 송의 황제 조현과 사태후·전황후 등을 상도(上都)로 보냈다.

	(가)	(나)	(다)	(라)	(마)
전연의 맹약 체결	거란 멸망	가마쿠라 막부 성립	금 멸망	조선 건국	병자호란 발발

- ① (가)      ② (나)      ③ (다)      ④ (라)      ⑤ (마)

5. (가) 개혁이 추진된 시기의 동아시아 상황으로 적절한 것은?

[3점]

야마토 정권에서 추진된 (가) 에 대해 이야기 해 볼까?

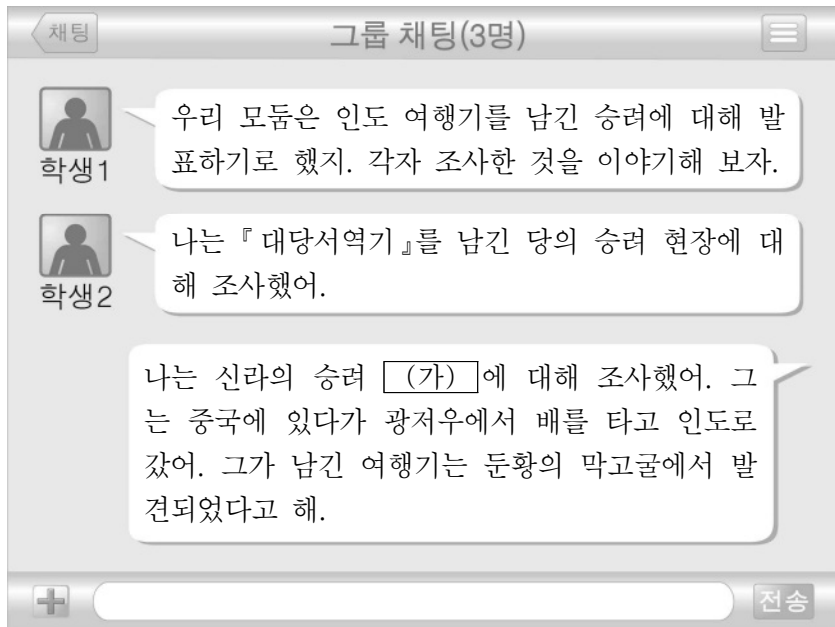
나카노오에 황자가 소가씨를 제거하면서 시작되었어.

군주 중심의 중앙 집권 체제를 수립하기 위한 개혁이었지.

- ① 서하가 건국되었다.
- ② 삼번의 난이 일어났다.
- ③ 왕안석이 신법을 추진하였다.
- ④ 헤이안쿄로 천도가 이루어졌다.
- ⑤ 고구려와 당이 군사적으로 대립하였다.


동아시아사

6. (가) 인물에 대한 설명으로 옳은 것은?



- ① 왕오천축국전을 남겼다.
- ② 사서집주를 집필하였다.
- ③ 일본에 계율을 전해 주었다.
- ④ 쇼토쿠 태자의 스승이 되었다.
- ⑤ 입당구법순례행기를 저술하였다.

7. (가) 막부 시기의 동아시아에서 볼 수 있는 모습으로 적절한 것은? [3점]



위 그림들은 (가) 시기의 화가 우타가와 히로시게가 묘사한 도카이도(東海道) 풍경 중의 일부이다. 도카이도는 5가도(5개 주요 도로) 중 하나로 조선의 통신사가 이용하기도 하였다. 왼쪽 그림은 도카이도의 출발점인 니혼바시를 건너는 다이묘의 행렬이다. 오른쪽 그림은 도카이도의 종착점인 교토의 다리, 산조오하시를 묘사하고 있다. 그의 작품들은 고흐 등 유럽의 화가에게 영향을 주었다.

- ① 한국-독서삼품과를 거쳐 임용된 관리
- ② 중국-홍루몽을 읽고 있는 상인
- ③ 중국-오경정의를 편찬하는 학자
- ④ 일본-헤이조쿄의 건설에 동원된 농민
- ⑤ 일본-호류사 5층 목탑을 건립하는 장인

8. 밑줄 친 '이 나라'에 대한 설명으로 옳은 것은?

이 나라의 여러 왕과 장(將)들은 각각 다스리는 영역이 있었으며 그 안에서 물과 풀을 찾아 옮겨 다니며 살았다. 그들 중에서 좌현왕과 우현왕, 좌록리왕과 우록리왕의 영역이 가장 컸다. 그리고 좌골도후와 우골도후가 선우의 통치를 보좌하였다.

- ① 도량형, 화폐, 문자를 통일하였다.
- ② 한 고조를 굴복시키고 공물을 받았다.
- ③ 상을 멸망시키고 호경을 수도로 삼았다.
- ④ 야마타이국을 중심으로 연맹체를 이루었다.
- ⑤ 사회 질서 유지를 위해 8조의 법을 제정하였다.

9. (가)에 들어갈 내용으로 적절한 것은?

우주 원리와 인간 본성을 탐구하는 ○○○은/는 주희에 의해 집대성되어 이와 같이 동아시아 각국으로 확산되었어요.

- 1. 한국
  - 가. 고려: 신진 사대부의 사상적 기반
  - 나. 조선: 사림의 서원과 향약 보급에 따라 확산
- 2. 일본
  - 가. 무로마치 막부: 일부 선종 승려 중심으로 연구
  - 나. 에도 막부: (가)

- ① 신사층 형성에 기여
- ② 다이호 율령 제정에 영향
- ③ 무사 중심의 신분 질서 정비에 활용
- ④ 해체신서 간행을 계기로 본격적 발전
- ⑤ 사고전서 등 대규모 편찬 사업에 기여

10. 다음 상황이 나타난 배경으로 가장 적절한 것은? [3점]

중국 국민당과 중국 공산당은 협력의 구체적 내용을 둘러싸고 협상을 계속하였다. 협상은 상하이 전투가 일어나면서 진전을 보였다. 결국 양당의 정책 협정 체결은 성사되지 않았지만, 공산당은 삼민주의를 받들고 국난에 대처하겠다는 선언을 발표하였다. 이후 장제스가 공산당의 합법적 지위를 인정하며 이 선언을 수용하겠다는 의사를 표명하였고 이로써 합작이 성립되었다.

- ① 텐안먼 사건이 일어났다.
- ② 중일 전쟁이 발발하였다.
- ③ 국민 혁명군이 북벌을 전개하였다.
- ④ 좌우 합작 단체인 신간회가 설립되었다.
- ⑤ 일본군이 미드웨이 해전에서 패배하였다.

11. 자료에 나타난 시기의 동아시아 상황으로 옳은 것은? [3점]

가정 42년 정월 알탄 칸이 선부를 침범하였다. 4월 왜구가 북청을 침범하니 총병관 유현과 유대유가 이들을 섬멸하였다. 부총병 척계광\*은 왜구를 평해위에서 격파하였다. 10월 북로가 장자령을 부수고 약탈하니 수도 베이징의 경계를 엄히 하였다. 조칙을 내려 각 진에서 병사를 수도로 보내 돕게 하였다.

\* 척계광: 장거정의 신임을 얻어 북방을 방비했고, 『기효신서』를 저술하였다.

- ① 태평천국 운동이 발생하였다.
- ② 고려가 거란의 침입을 물리쳤다.
- ③ 편홍다오가 몽골의 침략에 대항하였다.
- ④ 센고쿠 다이묘들의 내전이 전개되었다.
- ⑤ 장보고가 청해진을 중심으로 활동하였다.


12. 밑줄 친 '전쟁'의 결과로 옳은 것은?

일본은 경복궁을 점령하고 흥선 대원군을 내세워 새 내각을 구성하였다. 그리고 일본군이 풍도 근처에서 청의 군함을 공격하면서 전쟁은 시작되었다. 이 상황에서 흥선 대원군은 러시아 공사 베베르에게 두 나라의 전쟁은 동양 평화를 위협하는 일이므로 러시아를 비롯해 여러 나라가 중재해주기를 바란다고 말하였다.

- ① 홍콩이 할양되었다.
- ② 만주국이 수립되었다.
- ③ 양무운동이 시작되었다.
- ④ 시모노세키 조약이 체결되었다.
- ⑤ 대한 제국의 외교권이 박탈되었다.

13. (가) 도시에서 있었던 사실로 옳은 것은? [3점]

오늘 (가) 답사 첫 일정으로 여기 윤봉길 의사의 흥커우 공원 의거를 기리는 기념관을 둘러보았습니다. 이제 난징 조약으로 개항된 이후 서양식 거리가 조성된 와이탄을 거쳐 대한민국 임시 정부 청사로 이동하겠습니다.



- ① 신해혁명이 시작되었다.
- ② 한국광복군이 창설되었다.
- ③ 아주 화친회가 창립되었다.
- ④ 경사 대학당이 설립되었다.
- ⑤ 영국인이 신보를 창간하였다.


14. (가), (나) 전투 사이에 있었던 사실로 옳은 것은?

무기로 보는 동아시아사 - 조총 편



(가) 전투

오다 노부나가 는 최강으로 알려진 다케다 가쓰요리의 기마 부대를 조총을 이용한 전법으로 격파하였다.




(나) 전투

강홍립 지휘하의 조선군은 사르후산 주변에서 벌어진 전투에서 조총 부대를 앞장세워 후금의 군대와 맞섰다.

- ① 오년의 난이 발생하였다.
- ② 정화의 항해가 시작되었다.
- ③ 인조가 남한산성에서 항전하였다.
- ④ 이순신이 한산도 해전에서 승리하였다.
- ⑤ 이자성의 농민군이 베이징을 점령하였다.

15. 밑줄 친 ㉠에 대한 설명으로 옳은 것은? [3점]




인트라무로스\*가 완공되었을 당시 마닐라의 지도이다. 이곳 마닐라로 아메리카 대륙에서 온 갈레온선이 입항하였다. 명의 해금(海禁)이 완화된 이후 중국 상인들이 바다를 건너왔고, 일본인도 슈인선을 타고 왔다. ㉠ 이곳 인트라무로스를 중심으로 에스파냐인, 중국인, 일본인들이 서로 활발하게 교역하였다.

\* 인트라무로스: 에스파냐인들이 거주하기 위해 세운 성으로 이후 필리핀 지배의 거점이 되었다.

- ① 조공 무역의 형태로 전개되었다.
- ② 공행을 통해 교역이 이루어졌다.
- ③ 감합이라는 무역 허가증이 필요하였다.
- ④ 신패가 발급되어 무역량이 통제되었다.
- ⑤ 은이 중국으로 유입되는 결과를 낳았다.

16. 밑줄 친 '신정부'에 대한 설명으로 옳은 것은? [3점]



이것은 신정부가 수립된 이후 근대식 교육을 받는 남학생들과 여학생들의 모습을 표현한 그림이다. 사민평등을 선언한 신정부는 새로운 학제를 공포하고 소학교 의무 교육을 시작하였다. 이후 교육 칙어를 반포하여 '충군애국'과 '충효 일치'를 교육의 기본으로 강조하였다.

- ① 광무개혁을 추진하였다.
- ② 흥정 헌법 대강을 반포하였다.
- ③ 이와쿠라 사절단을 파견하였다.
- ④ 미일 수호 통상 조약을 체결하였다.
- ⑤ 베르사유 조약의 조인을 거부하였다.

17. 밑줄 친 '새로운 헌법'에 대한 설명으로 옳은 것은?

9월에 들어 군수 물자 생산의 전면 중지, 육해군 해체, 전범 체포 등 군사적 무장 해제 조치가 단행되었다. 10월부터는 인권 지령과 5대 개혁 지령으로 정치범이 석방되고 여성 참정권이 부여되는 등 대대적 개혁이 단행되었다. 또한 재벌 해체, 노동조합 결성, 농지 개혁 등의 경제 민주화 조치 등이 발표되었다. 그리고 이듬해 11월에 새로운 헌법이 공포되었다.

- ① 천황에게 막강한 권력을 부여하였다.
- ② 전쟁 포기 내용을 조항에 명시하였다.
- ③ 6·25 전쟁의 영향을 받아 제정되었다.
- ④ 총통 직선제를 실시하는 계기가 되었다.
- ⑤ 혁명파와 입헌파의 대립 속에 만들어졌다.


18. 밑줄 친 '혁명'이 일어난 배경으로 가장 적절한 것은?

1966년 여름부터 홍위병들이 격렬하게 활동하였다. '낡은 사상, 문화, 풍속, 학습을 모두 타도'하고 '부르주아 권력의 일소'를 내세운 홍위병들이 문화유산을 파괴하고 많은 사람들을 박해하였다. 마오쩌둥은 이러한 대중 동원 방법을 통해 '당내에서 자본주의 길을 걷는 실권파'를 해체시키고 당과 사회를 재조직하려고 하였다. 이로 인한 갈등과 혼란은 혁명이라는 이름으로 10년에 걸쳐 진행되었다.

- ① 대약진 운동이 실패하였다.
- ② 천수이볜이 총통에 당선되었다.
- ③ 중국 공산당이 대장정을 감행하였다.
- ④ 베트남 사회주의 공화국이 수립되었다.
- ⑤ 집권당에 의해 부정 선거가 자행되었다.

19. 다음 뉴스가 보도될 당시 동아시아 상황으로 옳은 것은? [3점]

저는 한국과 타이완의 국교가 단절됨에 따라 철수할 것으로 알려진 타이완 대사관 앞에 나와 있습니다. 지금 대사관 앞에는 많은 화교들이 나와 침통한 표정으로 이후 상황을 걱정하고 있습니다.




- ① 닉슨 독트린이 발표되었다.
- ② 한국군이 베트남 전쟁에 파견되었다.
- ③ 중국에서 국공 내전이 본격화되었다.
- ④ 샌프란시스코 강화 조약이 체결되었다.
- ⑤ 중국에서 개혁·개방 정책이 가속화되었다.

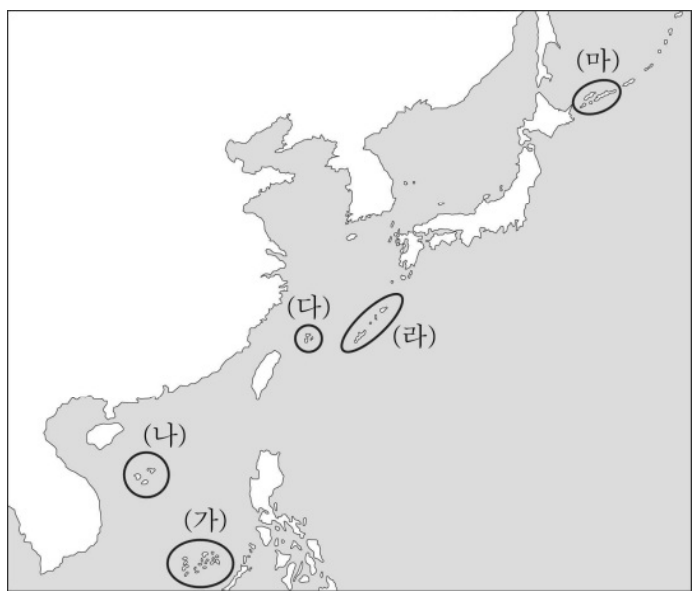
20. 자료에 나타난 분쟁 지역을 지도에서 옳게 고른 것은? [3점]

**동아시아사신문** ○○○○년 △△월 □□일

**중·일 영유권 분쟁**



센카쿠 열도(다오위다오)의 한 섬에 상륙한 시위대를 일본 당국이 체포한 이후 중국과 일본의 갈등이 격화되고 있다. 일본 당국은 이들을 곧 석방하였지만 후속 조치로 민간 소유 섬을 국유화하였고, 이에 대해 중국 곳곳에서 반일 시위가 일어나고 있다.



- ① (가)    ② (나)    ③ (다)    ④ (라)    ⑤ (마)


**\* 확인 사항**  
○ 답안지의 해당란에 필요한 내용을 정확히 기입(표기)했는지 확인하십시오.

제 4 교시

사회탐구 영역(세계사)

성명		수험번호				3				제 ( ) 선택
----	--	------	--	--	--	---	--	--	--	----------

1. (가) 문명에 대한 설명으로 옳은 것은?



- ① 미라를 제작하였다.
- ② 은허 유적을 남겼다.
- ③ 카스트제를 만들었다.
- ④ 모헨조다로를 건설하였다.
- ⑤ 함무라비 법전을 편찬하였다.

2. 다음 글이 작성된 시기를 연표에서 옳게 고른 것은? [3점]

지금 천하가 셋으로 나뉘어 있고 우리 측나라는 피폐하니 실로 위급한 시기입니다. 이전 황제께서는 저를 비천하게 여기지 않으시고 직접 세 번이나 찾아와 주셨고, 이에 저는 전력을 다할 것을 맹세하였습니다. 이제 군대를 이끌고 북쪽으로 위나라를 쳐 중원을 평정하려 합니다. 저의 부족한 재주를 다하여 한(漢) 황실을 회복하고 옛 도읍으로 돌아가는 것이 이전 황제께 보답하고 폐하게 충성하는 일일 것입니다.

(가)	(나)	(다)	(라)	(마)
춘추 시대 시작	왕망의 집권	황건적의 난 발발	진(晉)의 통일	수의 건국
당의 멸망				


- ① (가)    ② (나)    ③ (다)    ④ (라)    ⑤ (마)

3. 밑줄 친 '우리 왕조'에서 있었던 사실로 옳은 것은? [3점]

명의 천하는 도적의 손에 빼앗겼던 것이다. 우리 왕조가 도적 무리를 평정하고 만방을 통일하여 온 세상의 사람들을 태평하게 만든 것을 다행이라 여기지 않는 자가 없다. 그런데 불손한 뜻을 품은 자들은 주씨 성을 함부로 칭하며 반역을 모의한다. 여유량 무리 또한 중화와 이적을 구분하는 사악한 이야기를 늘어놓고 반역의 뜻을 이루려 하였다.

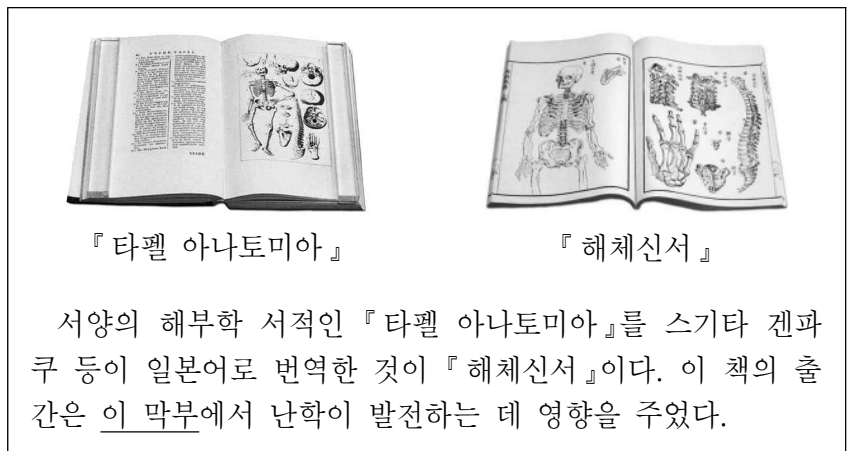
- ① 균전제가 실시되었다.
- ② 삼번의 난이 일어났다.
- ③ 9품중정제가 시행되었다.
- ④ 전연의 맹약이 체결되었다.
- ⑤ 정화의 항해가 추진되었다.

4. (가) 왕조에 대한 탐구 활동으로 가장 적절한 것은?



- ① 신사층의 역할을 조사한다.
- ② 색목인의 사회적 지위를 알아본다.
- ③ 홍루몽의 시대적 배경을 분석한다.
- ④ 일조편법과 지정은제의 특징을 비교한다.
- ⑤ 왕안석이 신법을 추진한 목적을 파악한다.

5. 밑줄 친 '이 막부' 시기에 볼 수 있는 모습으로 가장 적절한 것은?



- ① 견당사 일행으로 파견되는 승려
- ② 정기적으로 에도로 향하는 다이묘
- ③ 다이카 개신의 조칙을 발표하는 관리
- ④ 도요토미 히데요시의 사망 소식을 알리는 전령
- ⑤ 미나모토노 요리토모를 도와 전투에 참가하는 무사

세계사

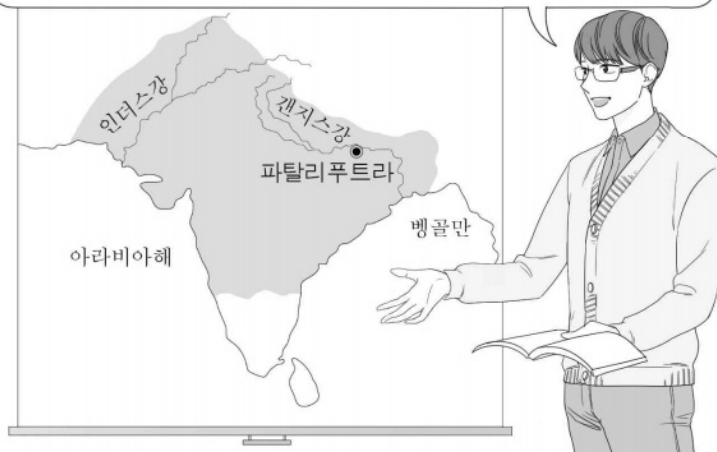
6. (가) 국가에 대한 설명으로 옳은 것은? [3점]

이스파한은 일 년이나 버티다가 주민들이 굶어 죽을 지경이 되어서야 함락되었다. (가)의 투그릴 베그는 이곳을 수도로 삼은 후, 타브리즈까지 손에 넣고 아제르바이잔의 토호들로부터 충성 서약을 받았다. 바그다드의 칼리프는 부와이 왕조로부터 벗어나기 위해 투그릴 베그를 불러들였다. 이에 그는 바그다드로 들어가 부와이 왕조를 축출하였다.

- ① 쿠트브 미나르를 건립하였다.
- ② 조로아스터교를 국교로 삼았다.
- ③ 콘스탄티노폴리스를 정복하였다.
- ④ 탈라스 전투에서 당군을 격파하였다.
- ⑤ 예루살렘과 아나톨리아로 세력을 확대하였다.

7. 밑줄 친 '이 왕조'에 대한 설명으로 옳은 것은?

알렉산드로스의 원정은 인더스강 유역까지 이루어졌습니다. 그의 침공으로 인한 혼란을 수습하는 과정에서 이 왕조가 형성되어 북인도를 통일하였습니다. 지도에 표시된 지역은 이 왕조의 최대 영역이었습니다.



- ① 타지마할을 건립하였다.
- ② 앙카라 전투에서 승리하였다.
- ③ 에프탈의 침입으로 쇠퇴하였다.
- ④ 아소카왕 때 전성기를 맞이하였다.
- ⑤ 이란 계통의 쿠산족에 의해 개창되었다.

8. (가) 전쟁이 전개되던 시기에 볼 수 있는 모습으로 적절한 것은? [3점]

(가)의 초기 전세는 프랑스에 매우 불리하였다. 브뤼허 인근에서 영국 함대에 패퇴하여 도버 해협을 건너 제해권을 내주었고, 크레시 전투에서는 영국의 장궁(長弓) 전술 앞에 치명적인 패배를 당하였다. 그리고 영국이 요구하는 포로의 몸값을 지불하기 위해 세금을 과도하게 부과한 것은 자크리의 난이 발생하는 원인이 되기도 하였다.

- ① 예수회를 설립하는 로욜라
- ② 라틴 제국을 수립하는 십자군
- ③ 아비뇽의 교황청에 머무는 교황
- ④ 95개조 반박문을 게시하는 루터
- ⑤ 카노사로 찾아가 용서를 비는 황제

9. (가) 국가에 대한 설명으로 옳은 것은?



이것은 페르세폴리스의 궁전에 새겨진 부조이다. 중앙에 앉아 있는 인물은 (가)의 통치자이다. 그는 전국 각지에 총독을 파견하고, '왕의 눈', '왕의 귀'라고 불리는 감찰관을 보내어 총독을 감독하였다.

- ① 예니체리를 창설하였다.
- ② 파르티아를 정복하였다.
- ③ 히타이트에 의해 멸망하였다.
- ④ 마라톤 전투에서 패배하였다.
- ⑤ 군관구제와 둔전병제를 실시하였다.

10. 밑줄 친 '그'에 대한 설명으로 옳은 것은? [3점]

그는 로마 교회를 위협해 온 롬바르드 왕국을 멸망시킴으로써 이탈리아까지 지배권을 확장하였다. 또한 아바르족을 정복하여 동유럽 지역에 그리스도교를 부활시켰다. 이베리아 반도 방면의 경계도 강화하였는데, 이는 자신의 부친이 그러했듯 후우마이아 왕조의 침입을 막으려 한 것이었다. 30여년 동안 끊임없이 전쟁을 치른 끝에, 마침내 그는 서유럽 그리스도 세계를 하나의 거대한 왕국으로 통합하였다.

- ① 베르됭 조약을 체결하였다.
- ② 성상 파괴령을 반포하였다.
- ③ 카롤루스 왕조를 개창하였다.
- ④ 투르·푸아티에 전투에서 승리하였다.
- ⑤ 궁정 학교를 세우고 고전 연구를 후원하였다.

11. (가) 인물에 대한 설명으로 옳은 것은?



이 우표는 (가)의 업적을 기리기 위해 그가 사망한 지 2천년이 되던 2014년에 발행된 것이다. 그는 제2차 삼두 정치를 주도하고, 악티움 해전에서 승리하였다.

- ① 5현제 시대를 열었다.
- ② 밀라노 칙령을 반포하였다.
- ③ 성 소피아 성당을 축조하였다.
- ④ 포에니 전쟁을 승리로 이끌었다.
- ⑤ 프린켄스(제1 시민)를 자처하였다.

12. (가) 국왕에 대한 설명으로 옳은 것은?



이 청동 기마상은 (가)의 즉위 100주년을 기념하여 예카테리나 2세가 건립한 것입니다. (가)은/는 이곳 상트페테르부르크를 건설하여 수도로 삼았습니다.

- ① 청으로부터 연해주를 할양받았다.
- ② 에스파냐의 무적함대를 격파하였다.
- ③ 남하 정책을 추진하여 크림 전쟁을 일으켰다.
- ④ 오스트리아와의 전쟁 끝에 슬레지엔을 차지하였다.
- ⑤ 스웨덴과의 북방 전쟁을 통해 발트해로 진출하였다.

13. 밑줄 친 '이 나라'에 대한 설명으로 옳은 것은? [3점]

동방 무역이 연이어 큰 성공을 거두자 상인들 사이의 경쟁이 심해졌다. 당시 이 나라는 펠리페 2세의 가톨릭 강요 정책으로 촉발된 독립 전쟁을 치르고 있었다. 이 나라는 그러한 과열 경쟁이 국가 경제의 측면에서 바람직하지 않다고 보아 상인들을 설득하였다. 이로써 국가 공인의 단일 무역 회사인 동인도 회사가 설립되었다. 이는 영국의 동인도 회사보다 2년 늦게 설립되었지만, 세계 최초의 주식회사로 출발하였다.

- ① 상수시 궁전을 축조하였다.
- ② 레판토 해전에서 승리하였다.
- ③ 크롬웰의 항해법 제정에 반발하였다.
- ④ 샹파뉴 지역에서 정기시가 발달하였다.
- ⑤ 바스쿠 다가마의 항로 개척을 후원하였다.

14. 밑줄 친 '연합'에 대한 설명으로 옳은 것은? [3점]


러시아 황제 알렉산드르 1세께 전합니다.

우리는 프랑스에서 공화국이 성립되었고, 그 공화국이 결국은 좋은 군인의 통치에 복종하는 것을 보았습니다. 그의 정복 전쟁은 수많은 법률, 제도 및 관습뿐만 아니라 모든 국가들 사이의 신성한 유대를 깨뜨렸습니다. 위대한 군주는 상호 간의 연합을 강화함으로써 유럽의 정치적 평화를 보장합니다. 혁명의 재앙 아래 살아남은 국가들은 여전히 많은 구원의 기회를 갖고 있으며, 우리가 발표한 원칙을 위한 국가 간의 강력한 연합은 폭풍 같은 위기를 극복하게 할 것입니다.

오스트리아의 외상 울림

- ① 테르미도르의 반동을 일으켰다.
- ② 북독일 연방의 결성을 가져왔다.
- ③ 루소의 사회 계약설에 토대를 두었다.
- ④ 자유주의와 민족주의 운동을 탄압하였다.
- ⑤ 사르데냐 왕국의 카보우르에게 지원을 받았다.

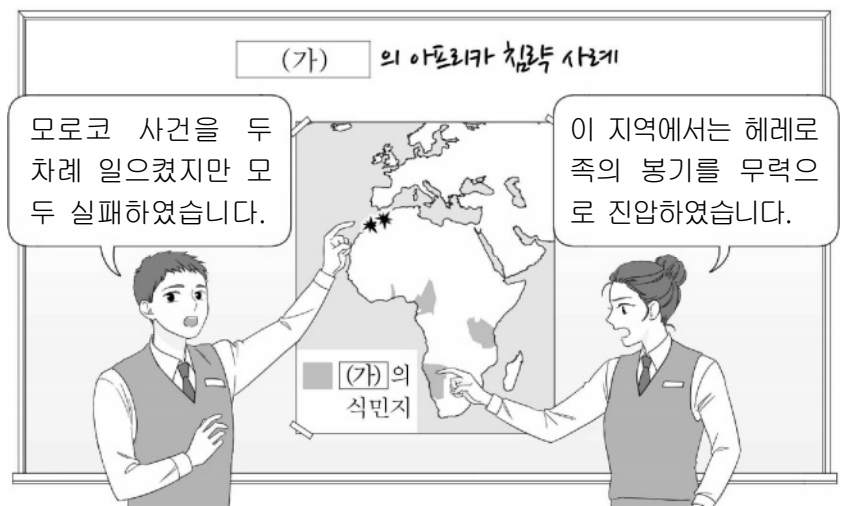
15. (가) 운동의 영향으로 적절한 것은? [3점]



이 화폐에 그려진 델리의 '레드 포트'는 영국 측에 채용된 현지 용병들이 일으킨 (가)의 대표적 거점이었다. 당시 이들 대부분은 힌두교도이거나 이슬람교도였는데, 소기름과 돼지기름 사용에 대한 종교적 반감은 (가)이 일어나는 발단 중 하나가 되었다.

- ① 플라시 전투가 일어났다.
- ② 인도 통치 개선법이 제정되었다.
- ③ 바부르가 델리 술탄 왕조를 무너뜨렸다.
- ④ 티무르가 몽골 제국의 재건을 내걸었다.
- ⑤ 비이슬람교도에 대한 지즈야가 폐지되었다.


16. (가) 국가에 대한 설명으로 옳은 것은?



- ① 탄지마트를 단행하였다.
- ② 콩고를 식민지로 삼았다.
- ③ 범게르만주의를 주장하였다.
- ④ 파쇼다에서 프랑스와 충돌하였다.
- ⑤ 아프리카 횡단 정책을 추진하였다.



17. 밑줄 친 '내전'에 대한 설명으로 옳은 것은?



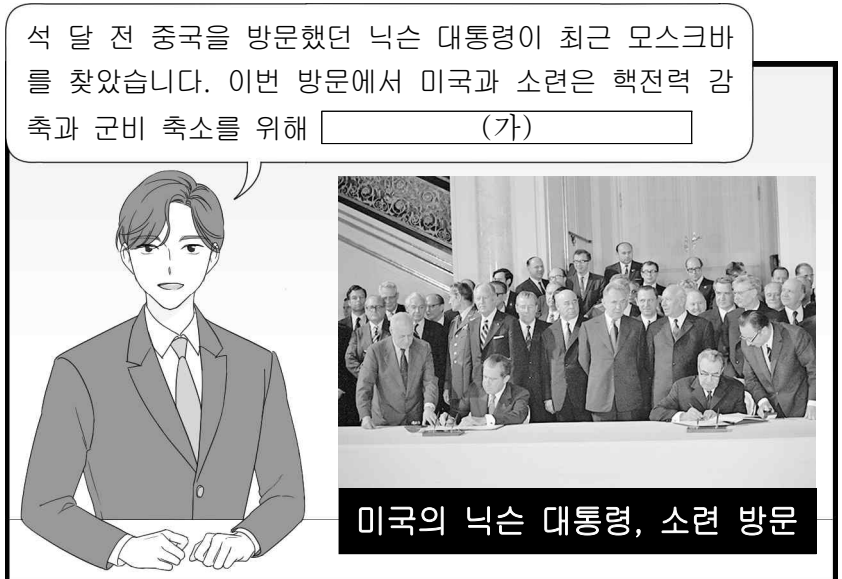
- ① 북부의 승리로 종결되었다.
- ② 프랑스 혁명에 영향을 주었다.
- ③ 토리당과 휘그당의 대립을 낳았다.
- ④ 워싱턴이 총사령관으로 활약하였다.
- ⑤ 농노 해방령이 선포되는 배경이 되었다.

18. 밑줄 친 '이 전쟁' 중에 있었던 사실로 옳은 것은? [3점]



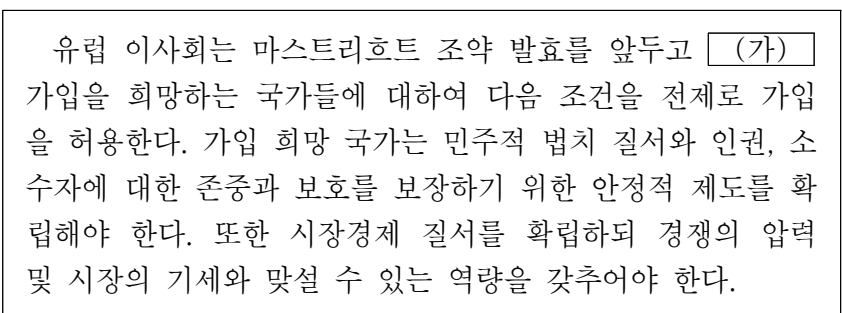
- ① 드골의 망명 정부가 영국에 세워졌다.
- ② 오스만 제국이 동맹국 측으로 참전하였다.
- ③ 일본이 대중국 21개조 요구를 제출하였다.
- ④ 독일 킬 군항에서 수병들이 반란을 일으켰다.
- ⑤ 무솔리니가 로마 진군으로 정권을 장악하였다.

19. (가)에 들어갈 내용으로 적절한 것은?



- ① 마셜 계획을 발표하였습니다.
- ② 독립 국가 연합을 출범시켰습니다.
- ③ 제1차 비동맹 회의를 개최하였습니다.
- ④ 바르샤바 조약 기구를 창설하였습니다.
- ⑤ 전략 무기 제한 협정을 체결하였습니다.

20. (가) 기구에 대한 설명으로 옳은 것은? [3점]



- ① 유로화를 공동 화폐로 규정하였다.
- ② 반등에서 평화 10원칙을 발표하였다.
- ③ 안전 보장 이사회와 상임 이사국을 두었다.
- ④ 브레턴우즈 회의의 결정에 따라 설립되었다.
- ⑤ 유럽 각국 공산당 간의 정보 교환을 추구하였다.

\* 확인 사항

- 답안지의 해당란에 필요한 내용을 정확히 기입(표기)했는지 확인하십시오.

제 4 교시

사회탐구 영역(경제)

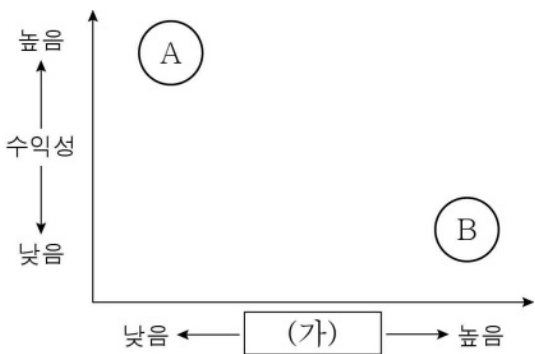
성명		수험번호					3			제 ( ) 선택
----	--	------	--	--	--	--	---	--	--	----------

1. 다음 글에 나타난 시장 실패의 원인으로 가장 적절한 것은?

등대의 공급을 시장에 맡기면 사회적으로 필요한 만큼 생산될까? 그렇지 않다. 등대의 경우 대가를 치르지 않은 사람도 등대의 불빛을 이용해 항해할 수 있고, 이용자 한 사람이 추가되더라도 다른 사람이 이용할 수 있는 등대의 불빛이 줄어드는 것도 아니다. 이 때문에 사람들은 등대를 만드는 데 필요한 비용을 지불하지 않으려 할 것이고, 결국 등대는 시장에서 적정 수준만큼 공급되지 않는다.

- ① 공공재의 특성                      ② 정보의 비대칭성
- ③ 외부 효과의 발생                  ④ 공유 자원의 고갈
- ⑤ 독과점 시장의 형성

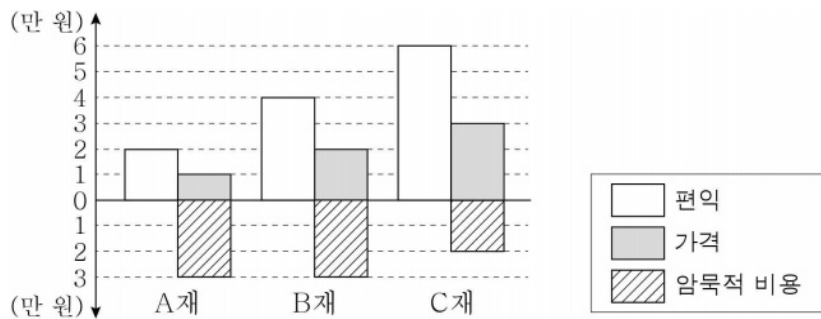
2. 그림은 금융 상품 A, B의 일반적인 특징을 비교한 것이다. 이에 대한 옳은 설명만을 <보기>에서 고른 것은? (단, A, B는 각각 요구불 예금과 주식 중 하나이다.)



< 보 기 >  
 가. A는 B보다 유동성이 높다.  
 나. A와 달리 B는 배당금을 기대할 수 있다.  
 다. B와 달리 A는 시세 차익을 기대할 수 있다.  
 리. (가)에는 '안전성'이 들어갈 수 있다.

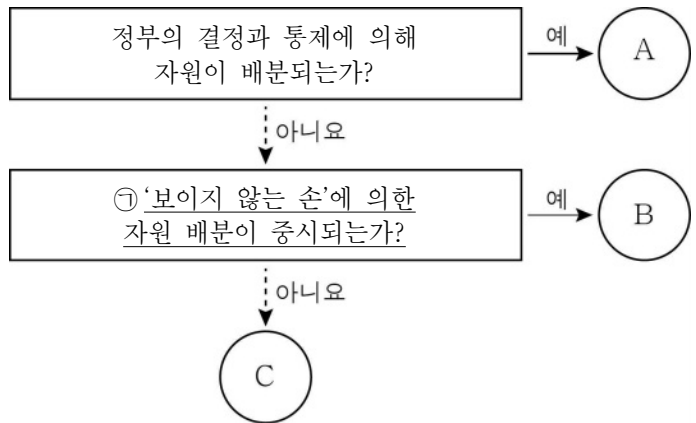
- ① 가, 나    ② 가, 다    ③ 나, 다    ④ 나, 리    ⑤ 다, 리

3. 그림은 소비자 갑이 A재~C재 중 하나를 선택하기 위해 작성한 것이다. 이에 대한 설명으로 옳은 것은? [3점]



- ① A재의 기회비용은 1만 원이다.
- ② B재의 순편익은 2만 원이다.
- ③ C재의 명시적 비용은 4만 원이다.
- ④ C재를 선택하는 것이 합리적이다.
- ⑤ 기회비용은 C재보다 B재가 크다.

4. 그림은 경제 체제 A~C를 구분한 것이다. 이에 대한 설명으로 옳은 것은? (단, A~C는 각각 계획 경제 체제, 시장 경제 체제, 전통 경제 체제 중 하나이다.)



- ① C는 새로운 경제 문제에 유연하게 대처할 수 있다.
- ② A보다 B에서 균등 분배가 강조된다.
- ③ A보다 B에서 자유 경쟁의 원리가 강조된다.
- ④ B보다 C에서 이윤 추구의 동기가 강하게 나타난다.
- ⑤ ① 대신 '관습에 의한 자원 배분이 중시되는가?'가 들어가도 구분한 결과는 동일하다.

5. 다음의 과제를 수행할 수 있는 카드 선택 순서를 옳게 제시한 학생은? [3점]

- 과제: 경기 침체로 인한 실업이 심각하다. 드론을 이동시켜 경기 활성화라는 목표 지점에 도달하라!
- 규칙 ① 드론은 카드 선택으로 이동하며, 드론 이동 방법에 따라 목표 지점에 도달해야 함.  
 ② 한 번 선택한 카드는 다시 선택할 수 없음.
- 드론 이동 방법: 경기 활성화를 위한 통화 정책 수단이 적힌 카드를 선택할 경우 전진, 경기 활성화를 위한 재정 정책 수단이 적힌 카드를 선택할 경우 상승 이동함.

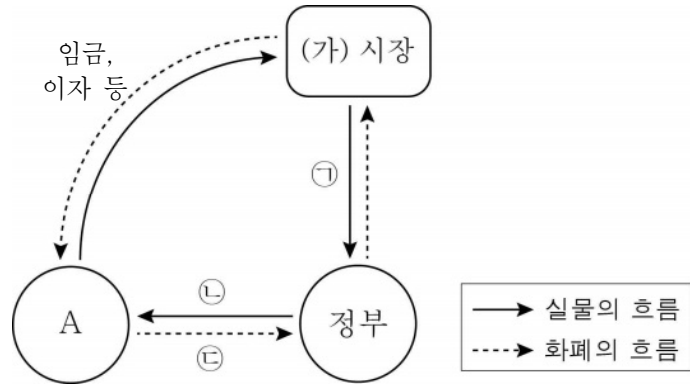


A 기준 금리 인하	B 국·공채 매입	C 소득세율 인하	D 정부 지출 축소
------------------	-----------------	-----------------	------------------

- ① 갑: A→B→D                      ② 을: A→C→B
- ③ 병: B→A→C                      ④ 정: B→C→D
- ⑤ 무: C→A→D

경제

6. 그림은 국민 경제 순환의 일부를 나타낸 것이다. 이에 대한 설명으로 옳은 것은?



- ① A는 기업이다.
- ② (가) 시장은 생산물 시장이다.
- ③ 공무원 채용은 ㉠에 해당한다.
- ④ ㉠이 증가할수록 ㉡은 감소한다.
- ⑤ ㉣은 ㉡에 대한 직접적 대가이다.

7. 표는 X재 시장의 시기별 변화를 나타낸 것이다. 이에 대한 옳은 설명만을 <보기>에서 고른 것은? (단, X재는 수요와 공급 법칙을 따른다.) [3점]

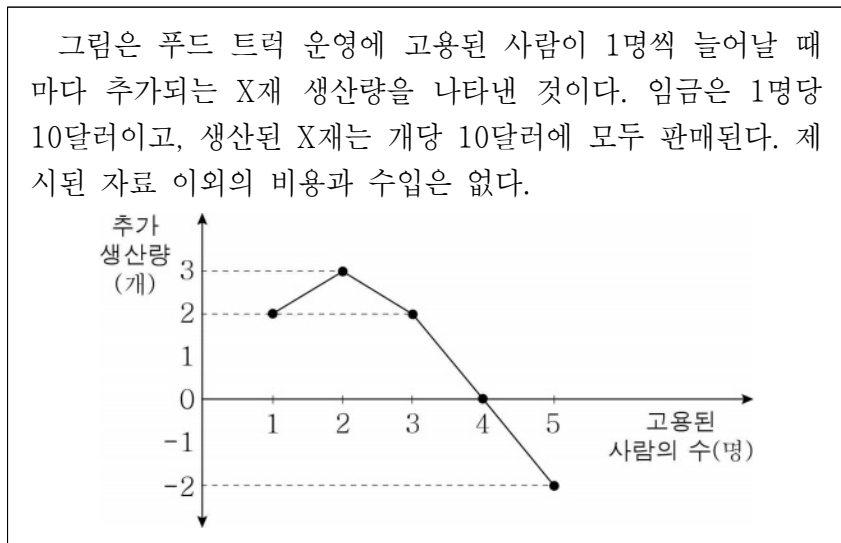
구분	t기	t+1기	t+2기
균형 가격	P	2P	P
균형 거래량	Q	2Q	2Q

< 보 기 >

가. t+2기의 판매 수입은 t기의 2배이다.  
 나. t+1기의 공급은 t기에 비해 증가하였다.  
 다. t+2기의 수요와 공급은 t기에 비해 모두 증가하였다.  
 르. X재의 보완재 가격이 상승하면 t기에서 t+1기로의 변화가 나타날 수 있다.

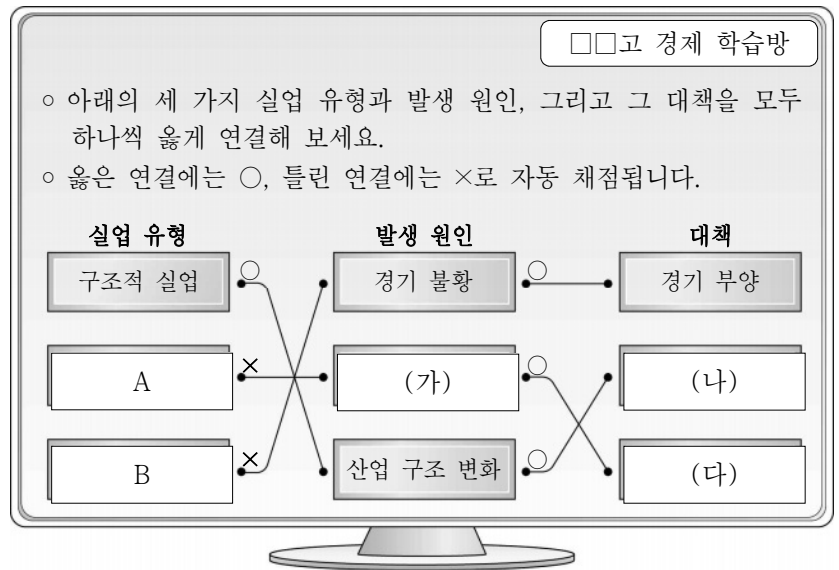
- ① 가, 나    ② 가, 다    ③ 나, 다    ④ 나, 르    ⑤ 다, 르

8. 자료에 대한 분석으로 옳은 것은? [3점]



- ① 이윤의 최대치는 40달러이다.
- ② 총수입은 지속적으로 증가한다.
- ③ 5명을 고용하면 적자가 발생한다.
- ④ 3명에서 1명을 추가로 고용할 때 이윤은 증가한다.
- ⑤ 고용된 사람이 1명일 때와 3명일 때의 총생산량은 동일하다.

9. 그림은 온라인 수업에서 학생이 수행한 활동의 채점 결과이다. 이에 대한 설명으로 옳은 것은? (단, A, B는 각각 경기적 실업과 마찰적 실업 중 하나이다.) [3점]



- ① A는 이직 과정에서 발생하는 실업이다.
- ② B는 총수요 감소로 인해 발생한다.
- ③ A와 달리 B는 자발적 실업에 해당한다.
- ④ (가)에는 '계절적 요인'이 쓰여 있을 수 있다.
- ⑤ (나)에는 '취업 정보 제공', (다)에는 '기술 교육'이 쓰여 있을 수 있다.

10. 자료에 대한 옳은 설명만을 <보기>에서 고른 것은? [3점]

축산업을 하는 갑이 하천에 방류한 폐수 때문에 인근에서 장어 양식을 하는 을의 매출액이 감소했다. 이 문제 해결을 위한 대책으로는 (가)와 (나)가 있다.

- (가): 갑이 정화 시설을 설치하여 축산 폐수를 모두 정화한다.
- (나): 을이 직접 오염수를 정화해 사용하고, 갑이 을에게 정화 비용을 지불한다.

표는 대책 (가), (나)를 시행할 경우, 갑과 을의 이윤을 나타낸 것이다. 대책 시행 전후에 갑의 경우 매출액에는 변화가 없고, 비용만 변한다. 을의 경우 비용에는 변화가 없고, 매출액만 변한다.

(단위: 만 원)

구분	대책 시행 이전	대책 시행 이후	
		(가)	(나)
갑의 이윤	300	250	230
을의 이윤	200	260	260

< 보 기 >

가. 대책 시행 이전에는 부정적 외부 효과가 나타났다.  
 나. 갑이 부담하는 비용은 (가)보다 (나)가 작다.  
 다. (나)보다 (가)가 사회적으로 더 효율적이다.  
 르. (가)와 달리 (나)에서는 외부 효과가 개선되지 않는다.

- ① 가, 나    ② 가, 다    ③ 나, 다    ④ 나, 르    ⑤ 다, 르

11. 자료에 대한 옳은 설명만을 <보기>에서 고른 것은?

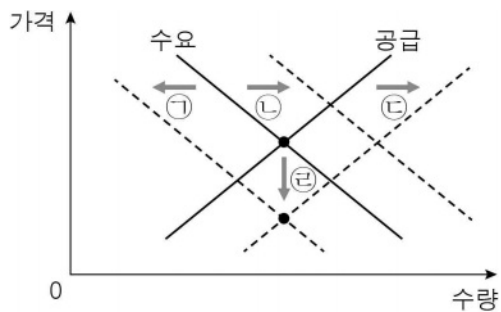
- 조세는 A의 적용 방식에 따라 (가), (나)로 분류할 수 있다.
- (가)는 과세 대상 금액에 상관없이 A가 일정하다.
- (나)는 과세 대상 금액이 커질수록 A가 높아진다.
- 세액은 '과세 대상 금액 × A'로 결정된다.

< 보기 >

ㄱ. A는 '세율'이다.  
 ㄴ. (가)에 비해 (나)가 소득 재분배 효과가 크다.  
 ㄷ. (가)와 달리 (나)는 조세 부담의 역진성이 나타난다.  
 ㄹ. (나)와 달리 (가)는 납세자와 담세자가 일치한다.

- ① ㄱ, ㄴ    ② ㄱ, ㄷ    ③ ㄴ, ㄷ    ④ ㄴ, ㄹ    ⑤ ㄷ, ㄹ

12. 그림은 X재 시장의 변화를 나타낸 것이다. ㉠~㉣의 변화와 그 요인이 옳게 연결된 것만을 <보기>에서 고른 것은? (단, ㉠~㉣은 수요와 공급 곡선 중 하나의 이동, ㉣은 균형점의 이동이다.)



< 보기 >

ㄱ. ㉠ - 소비자 선호 증가  
 ㄴ. ㉡ - 대체재 가격 하락  
 ㄷ. ㉢ - 원자재 가격 하락  
 ㄹ. ㉣ - 소비자와 생산자의 미래 가격 하락 예상

- ① ㄱ, ㄴ    ② ㄱ, ㄷ    ③ ㄴ, ㄷ    ④ ㄴ, ㄹ    ⑤ ㄷ, ㄹ

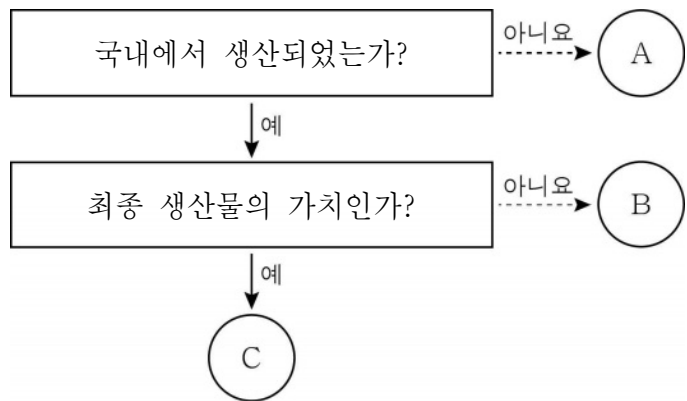
13. 자료에 대한 설명으로 옳은 것은? [3점]

표는 X재 시장에서 정부의 가격 규제 정책 A, B가 실시될 경우 시장 거래 가격에서의 X재 수요량과 공급량의 크기를 비교한 것이다. 단, X재는 수요와 공급 법칙을 따르고, 정부의 가격 규제 정책 실시 이후 암시장은 형성되지 않는다.

구분	A	B
가격 규제 정책 실시 이전	수요량 = 공급량	
가격 규제 정책 실시 이후	수요량 > 공급량	수요량 < 공급량

- ① A가 실시될 경우 거래량이 증가한다.  
 ② B가 실시될 경우 생산자 잉여가 감소한다.  
 ③ A의 규제 가격은 B의 규제 가격보다 높다.  
 ④ A는 수요자, B는 공급자를 보호하기 위한 정책이다.  
 ⑤ A, B가 실시되면, 두 경우 모두 시장 거래액이 늘어난다.

14. 그림은 국내 총생산(GDP)을 이해하기 위한 것이다. 이에 대한 옳은 설명만을 <보기>에서 고른 것은? (단, A~C는 모두 일정 기간 동안 새롭게 생산된 것의 시장 가치이고, 갑~병은 모두 국내에서 경제 활동을 한다.)



< 보기 >

ㄱ. 외국인 축구 선수 갑의 연봉은 A에 해당한다.  
 ㄴ. 중고 자동차 중개업자 을이 받은 중개 수수료는 B에 해당한다.  
 ㄷ. 빵집을 운영하는 병이 빵을 만드는데 사용한 국내산 밀가루의 가치는 B에 해당한다.  
 ㄹ. 국내 총생산(GDP)은 C의 총합으로 구할 수 있다.

- ① ㄱ, ㄴ    ② ㄱ, ㄷ    ③ ㄴ, ㄷ    ④ ㄴ, ㄹ    ⑤ ㄷ, ㄹ

15. 자료에 대한 옳은 설명만을 <보기>에서 고른 것은? [3점]

갑국과 을국은 X재와 Y재만을 생산할 수 있으며, 비교 우위에 있는 재화의 생산에만 특화하여 교역을 한다. <자료 1>은 교역 시 손해가 발생하지 않는 교역 조건을 X재 1단위와 교환되는 Y재의 양으로 나타낸 것이다. 양국은 X재와 Y재를 'a:b'의 비율로 교역하였고, 교역 후 소비량은 <자료 2>와 같다. 단, 양국 생산 요소의 양은 같고 생산 가능 곡선은 직선이며, 생산은 생산 가능 곡선 상에서 이루어진다. 교역은 거래 비용 없이 양국 간에만 이루어지며, 생산된 재화는 모두 소비된다.

<자료 1>

<자료 2>

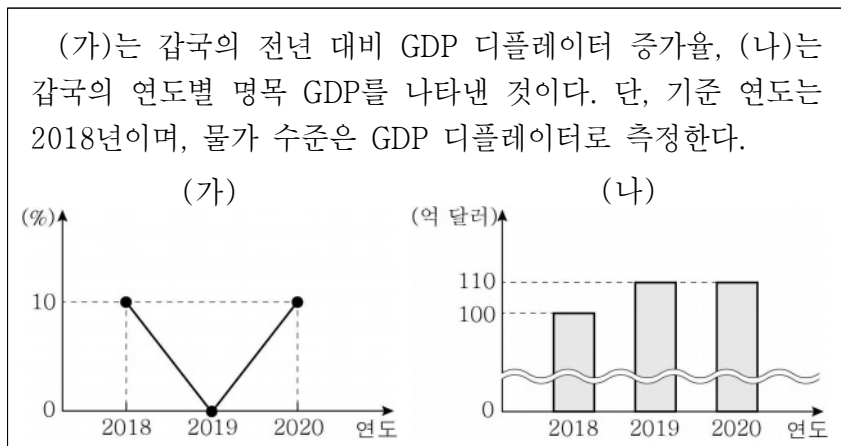
구분	교역 후 소비량
갑국	X재 11단위, Y재 12단위
을국	X재 9단위, Y재 18단위

< 보기 >

ㄱ. a가 '3'이라면 b는 '4'이다.  
 ㄴ. 을국은 X재 생산에 비교 우위가 있다.  
 ㄷ. 교역 전 을국은 X재 3단위와 Y재 21단위를 동시에 생산할 수 있다.  
 ㄹ. 교역 후 갑국에서 X재로 표시한 Y재 1단위 소비의 기회비용은 교역 전보다 증가한다.

- ① ㄱ, ㄴ    ② ㄱ, ㄷ    ③ ㄴ, ㄷ    ④ ㄴ, ㄹ    ⑤ ㄷ, ㄹ

16. 자료에 대한 분석으로 옳은 것은? [3점]



- ① 2018년의 실질 GDP는 110억 달러이다.
- ② 2019년의 물가 수준은 전년보다 하락하였다.
- ③ 2020년에는 명목 GDP가 실질 GDP보다 크다.
- ④ 2017년에 비해 2020년의 물가는 20% 상승하였다.
- ⑤ 2019년의 경제 성장률은 2020년의 경제 성장률보다 낮다.

17. 표는 어느 가족의 한 달 동안의 수입과 지출 내역 전부를 나타낸 것이다. 이에 대한 분석으로 옳은 것은?

(단위: 만 원)

수입		지출	
항목	금액	항목	금액
월급	300	생활비	230
기초 연금	25	대출 이자	50
주식 배당금	10	근로 소득세	10
복권 당첨금	30	사회 보험료	5
합계	365	합계	295

- ① 재산 소득은 40만 원이다.
- ② 저축액은 근로 소득보다 크다.
- ③ 처분 가능 소득은 200만 원보다 작다.
- ④ 비소비 지출액이 비경상 소득보다 크다.
- ⑤ 생산 요소를 제공하고 얻은 소득은 335만 원이다.

18. 그림은 인플레이션의 유형 A, B를 발생 원인에 따라 구분한 것이다. 이에 대한 설명으로 옳은 것은?



- ① ㉠은 총수요 감소, ㉡은 총공급 증가를 의미한다.
- ② 확대 통화 정책은 A의 대책이 될 수 있다.
- ③ B가 발생하면 수출이 증가하고 수입은 감소한다.
- ④ A와 달리 B는 경기 침체를 동반한다.
- ⑤ A, B 모두에서 화폐 자산 보유자가 유리해진다.

19. 자료에서 교사가 제시한 과제를 모두 옳게 수행한 학생은? (단, 환율 변동 이외의 조건은 고려하지 않는다.)

교사: 원/달러 환율의 상승이 국내 경제 주체에게 미치는 영향의 유·불리를 판단하여 스티커를 붙여 봅시다.

국내 경제 주체	환율 변동의 영향				
미국에 수출하는 기업	😊	😊	😊	😡	😡
미국 주식 보유자	😊	😊	😡	😊	😡
미국 여행 예정자	😊	😡	😡	😡	😊
유리	😊	😊	😊	😊	😊
불리	😡	😡	😡	😡	😡
	갑	을	병	정	무

- ① 갑      ② 을      ③ 병      ④ 정      ⑤ 무

20. 자료에 대한 설명으로 옳은 것은? [3점]

표는 갑국의 재화 및 서비스 교역 결과를 나타낸 것이다. 단, 교역은 달러화를 사용하여 갑국과 을국 사이에서만 이루어지며, 2019년과 2020년 모두 본원 소득 수지와 이전 소득 수지는 0이다.

(단위: 억 달러)

항목 \ 연도	2019년	2020년
상품 수지 (상품 수출액)	40 (100)	60 (80)
서비스 수지 (서비스 수입액)	-40 (60)	-20 (80)

- ① 2019년 갑국에서 해외여행 경비가 포함되는 항목은 흑자이다.
- ② 2019년 갑국의 경상 수지는 달러화 대비 갑국 통화 가치를 하락시키는 요인이다.
- ③ 2020년 을국의 재화 수출액은 60억 달러이다.
- ④ 2020년 갑국의 서비스 수출액은 전년에 비해 증가하였다.
- ⑤ 2020년 경상 거래로 인한 을국의 달러화 수취액은 달러화 지급액보다 크다.

\* 확인 사항

- 답안지의 해당란에 필요한 내용을 정확히 기입(표기)했는지 확인하십시오.

제 4 교시

사회탐구 영역(정치와 법)

성명		수험번호				3				제 ( ) 선택
----	--	------	--	--	--	---	--	--	--	----------

1. 정치를 바라보는 갑, 을의 관점에 대한 설명으로 옳은 것은?



- ① 갑의 관점은 아파트 동 대표 회의를 정치로 보지 않는다.
- ② 을의 관점은 국가 형성 이전의 정치 현상을 설명하는 데 적합하다.
- ③ 갑의 관점은 을의 관점과 달리 입법부의 국정 감사권 행사를 정치로 본다.
- ④ 을의 관점은 갑의 관점과 달리 다원화된 현대 사회의 정치 현상을 설명하는 데 적합하다.
- ⑤ 갑의 관점과 을의 관점은 모두 사회적 희소가치의 배분 활동을 정치로 본다.

2. 우리나라 헌법 기관 A ~ D에 대한 설명으로 옳지 않은 것은?

- A는 국가 세입·세출의 결산을 검사하고, 그 결과를 B와 C에 보고한다.
- B는 D의 제청으로 국무 위원 중에서 행정 각부의 장(長)을 임명한다.
- C는 A의 장(長)이 직무 집행에 있어 헌법과 법률을 위배한 경우 탄핵 소추를 의결할 수 있다.

- ① A는 B에 소속되어 있지만 직무상으로는 독립된 기관이다.
- ② B는 C가 의결한 법률안에 대해 재의를 요구할 수 있다.
- ③ C는 A의 장(長) 및 D에 대한 임명 동의권을 가진다.
- ④ D는 국무 위원의 해임을 C에 건의할 수 있다.
- ⑤ 국무 회의에서 B는 의장, D는 부의장이다.

3. 자료는 서로 다른 전형적인 정부 형태를 채택한 갑국과 을국의 의회 구성을 나타낸 것이다. 이에 대한 설명으로 옳은 것은? (단, 행정부 수반의 소속 정당은 갑국의 경우 A당, 을국의 경우 b당이다.) [3점]

	<갑국>				<을국>			
	정당	A당	B당	C당	D당	정당	a당	b당
의석률 (%)		40	35	20	5	의석률 (%)	70	30

- ① 갑국의 의회 의원은 각료를 겸직할 수 있다.
- ② 을국의 행정부 수반은 의회 의원 중에서 선출된다.
- ③ 갑국은 을국과 달리 행정부 수반의 법률안 거부권이 인정된다.
- ④ 을국은 갑국과 달리 행정부 수반의 의회 해산권이 인정된다.
- ⑤ A당은 D당과 연합하여 연립 내각을 구성하였을 것이다.

4. 밑줄 친 ㉠~㉣에 대한 설명으로 옳은 것은?

<근로 계약서>

사용자 갑과 근로자 을(17세)은 다음과 같이 ㉠ 근로 계약을 체결한다.

1. 계약 기간: 2021년 1월 1일부터 2021년 2월 28일까지
2. 근무 장소/근무 내용: ○○치킨 매장/음식 서빙
3. 근로 시간: ㉡ 10시~18시(휴게 시간: 14시~15시)
4. 근무일/휴일: ㉢ 매주 6일 근무/월요일 휴무
5. 임금: ㉣ 시간당 8,000원, ㉤ 계약 종료일에 일괄 지급
6. 기타
  - 1) 매장 운영 상황에 따라 ㉥ 임금을 치킨 교환권으로 지급할 수 있음.

\* 2021년 법정 최저 임금은 시간당 8,720원임.

- ① ㉠은 을의 부모가 직접 체결할 수 있다.
- ② ㉡은 1일 법정 근로 시간을 초과한다.
- ③ ㉢과 ㉣을 고려할 경우 1주 법정 근로 시간을 초과한다.
- ④ 을은 ㉤에 합의하였으므로 법정 최저 임금을 요구할 수 없다.
- ⑤ ㉥은 ㉤과 달리 근로 기준법 위반이다.

5. 자료는 우리나라 헌법 기관 A의 결정문 중 일부를 간략하게 나타낸 것이다. 이에 대한 설명으로 옳지 않은 것은? [3점]

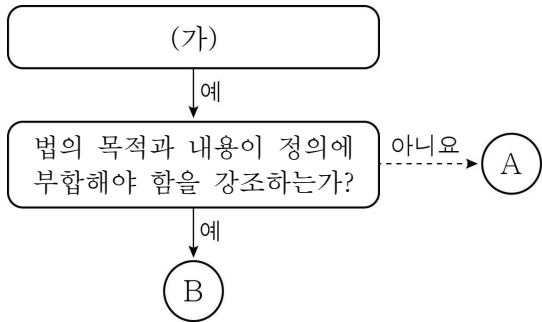
**【당사자】**  
 제청 법원    □□ 지방 법원  
 제청 신청인    갑

**【이유】**  
 <제청 법원의 위헌 제청 이유>  
 이 사건의 법 조항은 거짓이나 그 밖의 부정한 수단으로 운전면허를 취득하면 구체적 사안의 개별성과 특수성 등을 고려할 여지없이, 보유하고 있는 모든 운전면허를 필요적으로 취소하도록 하고 있다. 이는 피해의 최소성 및 법익의 균형성 원칙에 반한다.

- ① 갑은 A에 제청 신청을 하였다.
- ② A에서는 위헌 법률 심판이 이루어졌다.
- ③ A가 위헌 결정을 하면 해당 법 조항은 효력을 상실한다.
- ④ 제청 법원은 해당 법 조항이 과잉 금지의 원칙에 위배된다고 판단하였다.
- ⑤ 갑의 제청 신청이 기각되었다면 갑은 헌법 소원 심판을 청구할 수 있다.

정치와 법

6. 그림은 법치주의의 유형 A, B를 구분한 것이다. 이에 대한 설명으로 옳은 것은?



- ① (가)에 '통치의 합법성을 중시하는가?'는 들어갈 수 없다.
- ② A는 B와 달리 위헌 법률 심사제의 필요성을 강조한다.
- ③ A는 B와 달리 독재 체제를 옹호하는 논리로 악용될 수 있다.
- ④ B는 A와 달리 인(人)의 지배를 강조한다.
- ⑤ B는 A와 달리 국민의 기본권 제한이 법률에 근거해야 함을 강조한다.

7. 다음 사례에 대한 법적 판단으로 옳은 것은? [3점]

A는 B가 소유한 건물을 임차하여 식당을 운영하고 있다. 어느 날 손님 C가 파손된 식당 바닥으로 인해 넘어져 전치 4주의 상해를 입었다. 한편, A의 식당 종업원인 D는 뜨거운 음식을 나르다가 실수로 엎질러 손님 E에게 전치 6주의 상해를 입혔다. C, E는 자신들이 입은 손해에 대해 A에게 배상을 요구하고 있다.

- ① C가 입은 손해에 대해 A는 무과실 책임을 진다.
- ② C는 자신이 입은 손해에 대해 A가 아닌 B에게 배상을 청구해야 한다.
- ③ D에게는 고의가 없었으므로 D는 E가 입은 손해에 대한 배상 책임이 없다.
- ④ D의 불법 행위 책임이 인정되어야 E는 A에게 손해 배상 책임을 물을 수 있다.
- ⑤ E는 A와 D에게 특수 불법 행위 중 공동 불법 행위자의 책임을 물을 수 있다.

8. 자료에 대한 설명으로 옳은 것은? (단, 질문에 대한 답은 '예' 또는 '아니요'이다.) [3점]

- A ~ C는 각각 시민 단체, 이익 집단, 정당 중 하나이다.
- '공직 선거에 후보자를 공천하는가?'라는 질문에 B, C의 답은 (가)로 같다.
- (나)라는 질문에 C와 달리 A, B의 답은 '예'로 같다.

- ① (가)에는 '예'가 들어간다.
- ② B가 시민 단체이면 (나)에 '대의제의 한계를 보완하는 역할을 하는가?'가 들어갈 수 있다.
- ③ C가 이익 집단이면 (나)에 '집단의 특수 이익보다 공익을 우선시하는가?'가 들어갈 수 있다.
- ④ B, C는 A와 달리 정치 사회화 기능을 수행한다.
- ⑤ A ~ C는 모두 자신들의 활동에 대한 정치적 책임을 진다.

9. 밑줄 친 ㉠ ~ ㉢에 대한 옳은 설명만을 <보기>에서 고른 것은?

- ○○군은 해수 담수화 수돗물 공급 사업을 추진하고 있는데, 일부 주민들은 이 사업이 지역 사회에 과도한 부담을 줄 것이라고 판단하여 이에 대한 지역 주민들의 찬반 의견을 묻는 ㉠투표 실시를 ㉡○○군수에게 청구하였다.
- △△시의 주민들은 생활 폐기물 에너지화 시설이 악취와 오염을 발생시킴에도 ㉢△△시 의회의 일부 의원들이 지역 현안을 방관하고 있다며 해당 의원들의 직을 상실시키기 위한 ㉡투표를 관할 선거 관리 위원회에 청구하였다.

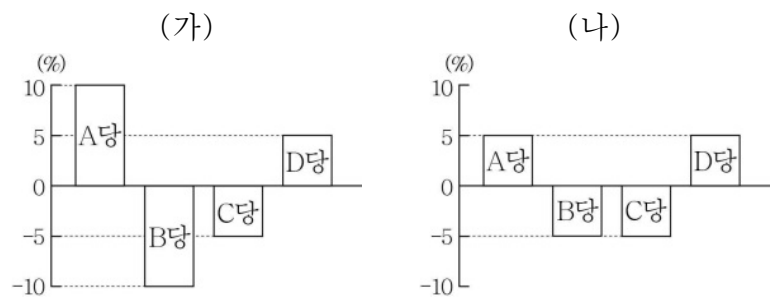
< 보기 >

- ㉠. ㉠은 지방 자치 단체의 자치 사무 처리에 대한 주민의 직접 참여 수단이다.
- ㉡. ㉡은 조례의 제정 및 개폐권을 가진다.
- ㉢. ㉢은 지방 자치 단체의 의결 기관이다.
- ㉣. ㉣을 통해 주민들은 자신의 지역구 국회 의원을 파면할 수 있다.

- ① ㉠, ㉡    ② ㉠, ㉢    ③ ㉡, ㉢    ④ ㉡, ㉣    ⑤ ㉢, ㉣

10. 자료에 대한 분석 및 추론으로 옳은 것은? [3점]

갑국 의회는 지역구 의원으로만 구성되어 있으나 차기 의회 의원 선거를 앞두고 선거 제도 개편을 고려하고 있다. 개편안은 현행의 의회 의원 정수(定數) 200석을 유지하되 지역구 의원과 비례 대표 의원을 각각 100명씩 선출하고, 비례 대표 의석은 전국을 하나의 선거구로 하여 정당 득표율에 따라 각 정당에 배분한다. 현행과 개편안의 지역구 선거구 수는 100개로 동일하고, 현행의 지역구 선거구당 당선자 수는 개편안의 2배이다. (가)와 (나)는 정당 득표율에서 의회 의석률을 뺀 값을 그래프로 나타낸 것이다. (가)는 최근 의회 의원 선거 결과이고 (나)는 개편안을 적용할 경우의 의회 의원 선거 결과이다. 최근 의회 의원 선거에서 정당 득표율은 A ~ D당이 순서대로 40%, 30%, 20%, 10%이다. 단, (가)와 (나)의 정당 득표율은 같다.



- ① 현행과 달리 개편안의 지역구 선거구 제도는 동일 선거구 내 당선자 간 표의 등가성 문제가 발생할 수 있다.
- ② 현행에서 최다 의석을 차지한 정당은 과소 대표된다.
- ③ 개편안에서 A당이 과반 의석을 차지한다.
- ④ B당은 A당과 달리 개편안에 찬성할 것이다.
- ⑤ 개편안의 지역구 의원 선거에서 D당은 C당과 달리 당선자를 배출하지 못한다.

11. 자료의 A~C에 대한 옳은 법적 판단만을 <보기>에서 고른 것은? [3점]

갑(17세)은 고가의 노트북을 매매하는 계약을 판매자 을과 체결하였다. 그런데 계약 당시 갑은 법정 대리인인 부모의 동의를 얻지 않았다. 한편 \_\_\_\_\_ (가)

<(가)에 들어갈 수 있는 상황 A~C>

A	B	C
을(17세)은 법정 대리인인 부모의 동의를 얻어 계약을 체결하였다.	을(30세)은 계약 체결 당시 갑이 미성년자임을 알지 못했다.	을(30세)은 갑이 위조한 부모 동의서를 보고 계약을 체결하였다.

< 보 기 >

ㄱ. A의 경우에 을의 부모는 갑의 부모와 달리 노트북 매매 계약을 취소할 수 없다.  
 ㄴ. B의 경우에 을은 노트북 매매 계약 체결의 의사 표시를 철회할 수 있다.  
 ㄷ. C의 경우에 갑의 부모는 노트북 매매 계약을 취소할 수 있다.  
 ㄹ. B와 달리 C의 경우에 을은 갑의 부모에게 노트북 매매 계약의 취소 여부를 확답해 줄 것을 촉구할 수 있다.

- ① ㄱ, ㄴ    ② ㄱ, ㄷ    ③ ㄴ, ㄷ    ④ ㄴ, ㄹ    ⑤ ㄷ, ㄹ

12. A~C에 대한 옳은 설명만을 <보기>에서 있는 대로 고른 것은? (단, A~C는 각각 총회, 안전 보장 이사회, 국제 사법 재판소 중 하나이다.)

교사: 국제 연합의 주요 기관 A~C에 대해 설명해 보세요.  
 갑: A는 국가 간의 분쟁을 해결하는 사법 기관입니다.  
 을: B와 C는 표결 시 1국 1표의 원칙이 적용됩니다.  
 병: C의 상임 이사국은 거부권을 가집니다.  
 교사: 모두 옳게 설명했어요.

< 보 기 >

ㄱ. 개인은 국가와 달리 A의 재판 당사자가 될 수 없다.  
 ㄴ. A는 판결을 이행하지 않는 당사국에 대해 직접 제재를 가할 수 있다.  
 ㄷ. C는 국제 평화와 안전 유지에 관한 국제 연합의 실질적 의사 결정 기관이다.  
 ㄹ. A의 재판관은 B와 C에서 선출한다.

- ① ㄱ, ㄴ    ② ㄱ, ㄷ    ③ ㄴ, ㄷ  
 ④ ㄱ, ㄷ, ㄹ    ⑤ ㄴ, ㄷ, ㄹ

13. 밑줄 친 ㉠~㉣에 대한 설명으로 옳은 것은?

갑은 상해죄 혐의로 ㉠ 구속 수사를 받은 후 ㉡ 기소되었다.

↓

1심 법원은 갑에게 징역 1년에 ㉢ 집행 유예 2년을 선고하였다.

↓

㉣ 2심 법원은 갑에게 징역 1년을 선고하였다.

↓

㉤ 3심 법원에서 2심 법원의 판결이 확정되었다.

- ① ㉠ 이전에 구속 적부 심사 제도가 활용되었을 것이다.  
 ② ㉡으로 인해 갑은 피의자에서 피고인이 된다.  
 ③ ㉢은 유예 기간 동안 일정한 범죄를 저지르지 않으면 면소된 것으로 간주한다.  
 ④ ㉣은 갑에게 징역이 부과되지 않는 자유형을 선고하였다.  
 ⑤ ㉤에서 판결이 확정된 후 갑은 형사 보상을 청구할 수 있다.

14. 우리나라 헌법의 기본 원리 (가)~(다)에 대한 옳은 설명만을 <보기>에서 고른 것은?

기본 원리	강조된 헌법 조항
(가)	모든 국민은 인간다운 생활을 할 권리를 가진다.
(나)	외국인은 국제법과 조약이 정하는 바에 의하여 그 지위가 보장된다.
(다)	대한민국의 주권은 국민에게 있고, 모든 권력은 국민으로부터 나온다.

< 보 기 >

ㄱ. (가)는 국가 권력 행사의 최소화를 강조한다.  
 ㄴ. (나)의 실현을 위해 모든 외국인에게 선거권을 인정한다.  
 ㄷ. 복수 정당제는 (다)의 실현 방안이다.  
 ㄹ. (다)는 (가)와 달리 근대 입헌주의 헌법에서부터 강조되었다.

- ① ㄱ, ㄴ    ② ㄱ, ㄷ    ③ ㄴ, ㄷ    ④ ㄴ, ㄹ    ⑤ ㄷ, ㄹ

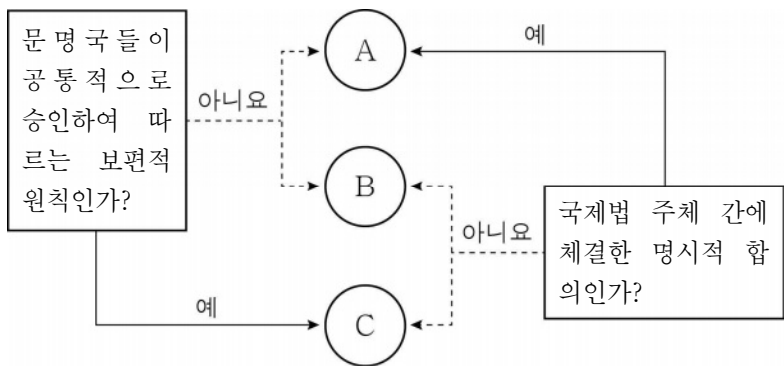
15. 다음 사례에 대한 법적 판단으로 옳은 것은? [3점]

○ 갑과 을은 혼인 후 A를 낳고 살았으나, 갑이 부정한 행위를 하여 협의상 이혼을 하였다.  
 ○ 병과 정은 혼인 후 B를 낳고 살았으나, 정이 부정한 행위를 하여 병의 청구로 재판상 이혼을 하였다.

- ① 을은 갑과 달리 혼인 중 취득한 재산에 대한 분할을 청구할 수 있다.  
 ② 병은 이혼의 책임이 있는 정을 상대로 정신상의 고통에 대한 손해 배상을 청구할 수 있다.  
 ③ 병, 정은 갑, 을과 달리 이혼 숙려 기간을 거쳤을 것이다.  
 ④ A에 대한 양육권을 을이 갖기로 한 경우, 갑은 A에 대한 면접 교섭권을 가질 수 없다.  
 ⑤ B가 미성년자라면 병과 정은 이혼으로 B에 대한 정의 친권은 상실된다.



16. 국제법의 법원(法源) A~C에 대한 옳은 설명만을 <보기>에서 고른 것은? (단, A~C는 각각 조약, 국제 관습법, 법의 일반 원칙 중 하나이다.)



< 보기 >  
 ㄱ. 국제기구는 A의 체결 당사자가 될 수 있다.  
 ㄴ. B는 원칙적으로 모든 국가에 대해 구속력을 가진다.  
 ㄷ. C의 예로 '국내 문제 불간섭'을 들 수 있다.  
 ㄹ. A는 B, C와 달리 국제 사법 재판소의 재판 준거가 된다.

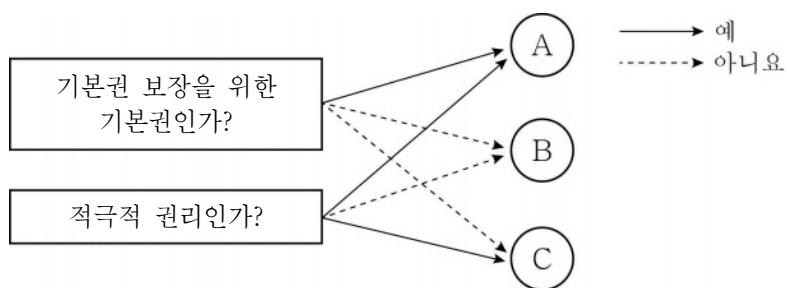
- ① ㄱ, ㄴ    ② ㄱ, ㄷ    ③ ㄴ, ㄷ    ④ ㄴ, ㄹ    ⑤ ㄷ, ㄹ

17. 자료에 대한 설명으로 옳은 것은? (단, A~C는 각각 구성 요건 해당성, 위법성, 책임 중 하나이다.) [3점]

범죄가 성립하여 형벌을 부과하기 위해서는 A, B, C의 요건을 모두 갖추어야 한다. 이 중 하나의 요건이라도 충족시키지 못하면 범죄가 성립하지 않는다. 예를 들면 갑의 행위가 정당방위에 해당하면 B가 조각되어 범죄가 성립하지 않으며, 을의 행위가 저항할 수 없는 폭력에 의해 강요된 행위라면 C가 조각되어 범죄가 성립하지 않는다.

- ① A는 구성 요건 해당성, B는 책임, C는 위법성이다.  
 ② 심신 상실자의 행위는 B가 조각되는 사유이다.  
 ③ 정당 행위, 긴급 피난은 C가 조각되는 사유이다.  
 ④ 12세인 자가 형벌 법령에 저촉되는 행위를 하면 C가 조각되지만 소년법상 보호 처분을 부과할 수 있다.  
 ⑤ 16세인 자가 형벌 법령에 저촉되는 행위를 하여 A, B, C의 요건이 모두 갖추어졌다면 소년법상 보호 처분을 부과할 수 없다.

18. 그림의 기본권 유형 A~C로 옳은 것은? (단, A~C는 각각 자유권, 사회권, 청구권 중 하나이다.)



- |   |     |     |     |
|---|-----|-----|-----|
|   | A   | B   | C   |
| ① | 사회권 | 자유권 | 청구권 |
| ② | 사회권 | 청구권 | 자유권 |
| ③ | 자유권 | 사회권 | 청구권 |
| ④ | 청구권 | 사회권 | 자유권 |
| ⑤ | 청구권 | 자유권 | 사회권 |

19. 자료에 대한 옳은 설명만을 <보기>에서 고른 것은? [3점]

△△ 회사 직원인 갑은 수시로 근무지를 이탈하는 등 근무 태도가 불성실하다는 이유로 ㉠ 해고되었다. 다음은 갑이 부당 해고에 대한 구제를 받기 위해 제기한 ㉡ 소송의 판결문 중 일부이다.

원고: 갑  
 피고: 중앙 노동 위원회 위원장  
 주문: 원고의 청구를 기각한다.

< 보기 >  
 ㄱ. △△ 회사가 중앙 노동 위원회에 재심 신청을 하였다.  
 ㄴ. 중앙 노동 위원회는 ㉠을 정당한 해고로 보았다.  
 ㄷ. 법원은 ㉠을 정당한 해고로 보았다.  
 ㄹ. ㉡은 해고 무효 확인 소송이다.

- ① ㄱ, ㄴ    ② ㄱ, ㄷ    ③ ㄴ, ㄷ    ④ ㄴ, ㄹ    ⑤ ㄷ, ㄹ

20. 자료에 대한 설명으로 옳은 것은? [3점]

수행 평가 과제

사례에 대한 법적 판단이 옳으면 '예', 틀리면 '아니요'를 쓰시오. (옳은 답을 쓰면 1점, 틀린 답을 쓰면 0점임.)

<사례>  
 A와 B는 혼인 신고를 하고 C를 낳았고, A의 친구인 D의 자녀 E를 친양자로 입양하였다. 이후 A는 교통사고를 당하여 사망하였는데, 사망 당시 A는 채무 없이 14억 원의 재산을 보유하고 있었고, 유언은 남기지 않았다.

사례에 대한 법적 판단	답란
법정 상속액은 B가 C보다 2억 원 많다.	예
친양자 입양으로 인해 D와 E의 친자 관계는 종료된다.	(가)
(나)	예
A, B와 C의 친자 관계는 인지 절차를 거쳐 형성되었다.	예
점수 합계	(다)

- ① (다)에 '4점'이 들어갈 수 있다.  
 ② (다)에 '3점'이 들어가면 (가)에 '아니요'가 들어간다.  
 ③ (다)에 '3점'이 들어가면 (나)에 'C와 E의 법정 상속액은 같다.'가 들어갈 수 없다.  
 ④ (다)에 '3점'이 들어가면 (나)에 '친양자 입양에도 불구하고 E는 D의 성과 본을 유지한다.'가 들어갈 수 있다.  
 ⑤ (가)에 '예'가 들어가고 (다)에 '2점'이 들어가면 (나)에 'A의 사망으로 B와 E의 친자 관계는 종료된다.'가 들어갈 수 있다.

\* 확인 사항  
 ○ 답안지의 해당란에 필요한 내용을 정확히 기입(표기)했는지 확인하십시오.

제 4 교시

사회탐구 영역(사회·문화)

성명  수험번호         3    제 ( ) 선택

1. 밑줄 친 ㉠~㉣과 같은 현상의 일반적인 특징에 대한 설명으로 옳은 것은?


역대 최대 규모의 ㉠허리케인이 발생하자 ㉡정부는 피해 예상 지역에 재난 경보를 발령했다. 이에 ㉢원유 생산 기업들이 시설 가동을 중단하면서 국제 원유 가격이 급상승하였다.

- ① ㉠과 같은 현상은 가치 함축적이다.
- ② ㉡과 같은 현상은 확실성으로 설명된다.
- ③ ㉢과 같은 현상은 보편성과 특수성이 공존한다.
- ④ ㉠과 같은 현상은 ㉡과 같은 현상과 달리 당위 규범이 적용된다.
- ⑤ ㉡과 같은 현상은 ㉢과 같은 현상과 달리 개연성으로 설명된다.


2. 사회·문화 현상을 바라보는 갑, 을의 관점에 대한 설명으로 옳은 것은?

사회 규범은 지배 집단만의 합의에 의해서 형성되고, 지배 집단만의 이익을 보장할 뿐이야.

사회 규범은 사회 구성원 전체의 합의에 의해서 형성되고, 사회 질서와 안정에 기여해.



갑



을

- ① 갑의 관점은 집단 간 갈등이 사회 변동의 원동력이라고 본다.
- ② 갑의 관점은 사회가 본질적으로 조화와 균형을 이루고 있다고 본다.
- ③ 을의 관점은 사회 제도가 계급 재생산을 위한 수단이라고 본다.
- ④ 을의 관점은 사회 통합이 이루어지는 과정을 설명할 수 없다는 비판을 받는다.
- ⑤ 을의 관점은 갑의 관점과 달리 거시적 관점에서 사회·문화 현상을 바라본다.

3. 밑줄 친 ㉠~㉣에 대한 설명으로 옳은 것은?

㉠만이로 태어나 어린 시절 ㉡또래 집단에서부터 리더십을 발휘하였던 갑은 ㉢회사에 취직한 후 능력을 인정받아 남들보다 일찍 ㉣팀장으로 ㉣승진하였다. 어느 날 갑은 어린이집에 자녀를 데리러 가려고 하던 중 회사의 긴급한 회의에 참석하라는 연락을 받고 어떻게 할지 ㉣고민하게 되었다.

- ① ㉡은 2차적 사회화 기관이다.
- ② ㉢은 공식적 사회화 기관이다.
- ③ ㉣은 갑의 역할에 대한 보상이다.
- ④ ㉣은 갑의 역할 갈등에 해당한다.
- ⑤ ㉠은 성취 지위, ㉣은 귀속 지위이다.

4. 다음 연구에 대한 설명으로 옳은 것은? [3점]

- 연구 주제: 고등학생의 일기 쓰기와 언어 능력 간의 관계
- 연구 가설: ㉠지속적으로 일기를 쓰는 고등학생이 ㉡그렇지 않은 고등학생보다 언어 능력이 높을 가능성이 클 것이다.
- 자료 수집: 고등학생 1,000명을 대상으로 ㉢지속적으로 일기를 쓰는지 여부를 조사하고 표준화된 검사지를 통해 ㉣언어 능력을 측정함.
- 자료 분석 결과

(단위: 명)

구분	언어 능력	
	높음	낮음
지속적으로 일기를 쓰는 고등학생	310	80
지속적으로 일기를 쓰지 않는 고등학생	320	290

\* 자료 분석 결과는 통계적으로 유의미함.

- ① ㉠은 실험 집단, ㉡은 통제 집단이다.
- ② ㉢은 종속 변인, ㉣은 독립 변인이다.
- ③ 자료 분석 결과에 따르면 가설은 수용된다.
- ④ 방법론적 이원론에 기초한 연구 방법을 활용하였다.
- ⑤ 연구 대상자의 주관적 세계에 대한 심층적 이해를 목적으로 하였다.

5. 갑, 을의 자료 수집 활동에 대한 옳은 설명만을 <보기>에서 고른 것은? [3점]

국민들이 선호하는 정치인의 리더십 유형을 알아보기 위해 갑과 을은 서로 다른 자료 수집 방법을 활용하였다. 갑은 구조화된 설문 문항을 제작하여 국민 1,000명을 대상으로 자료를 수집하였다. 을은 10대부터 60대까지 연령대별로 1명씩 총 6명을 대상으로 심층적인 대화를 통해 선호하는 정치인의 리더십 유형과 그 이유에 대해 자료를 수집하였다.

- < 보 기 >
- ㄱ. 갑은 질적 자료 수집에 적합한 자료 수집 방법을 활용하였다.
  - ㄴ. 을은 자료 수집 상황에서 연구자의 융통성 발휘가 중요한 자료 수집 방법을 활용하였다.
  - ㄷ. 갑은 2차 자료, 을은 1차 자료를 수집하였다.
  - ㄹ. 갑과 을은 모두 언어를 통한 상호 작용이 필수적인 자료 수집 방법을 활용하였다.

- ① ㄱ, ㄴ    ② ㄱ, ㄷ    ③ ㄴ, ㄷ    ④ ㄴ, ㄹ    ⑤ ㄷ, ㄹ

6. 표는 질문을 통해 사회 변동 이론 A, B를 구분한 것이다. 이에 대한 설명으로 옳은 것은? (단, A와 B는 각각 순환론과 진화론 중 하나이다.) [3점]

질문	응답	
	A	B
사회 변동이 곧 발전이라고 보는가?	아니요	예
(가)	㉠	㉡

- ① A는 운명론적 입장에서 사회 변동의 방향을 이해한다.
- ② B는 사회가 주기적으로 동일한 과정을 반복하며 변동한다고 본다.
- ③ A는 B와 달리 서구 제국주의를 정당화하는 근거가 되었다.
- ④ B는 A와 달리 사회의 쇠퇴와 소멸을 설명하는 데 적합하다.
- ⑤ (가)에 '서구 사회가 가장 발전한 사회라고 보는가?'가 들어가면 ㉠은 '예', ㉡은 '아니요'이다.

7. 다음 글의 개인과 사회의 관계를 바라보는 관점에 대한 옳은 설명만을 <보기>에서 고른 것은?

축구팀의 성적에는 선수 개개인의 능력보다 팀워크가 중요하다. 비록 선수 개개인의 능력이 부족하더라도 팀은 얼마든지 좋은 성적을 낼 수 있다. 하나의 팀은 선수들의 총합 그 이상의 존재이기 때문이다. 개인과 사회의 관계도 이와 같다.

— < 보 기 > —

ㄱ. 공익보다 개인의 이익을 중시한다.  
 ㄴ. 사회가 개인의 외부에 실제로 존재한다고 본다.  
 ㄷ. 개인이 자율성과 능동성을 지닌 존재임을 강조한다.  
 ㄹ. 사회의 특성은 구성원들의 특성으로 환원될 수 없다고 본다.

- ① ㄱ, ㄴ    ② ㄱ, ㄷ    ③ ㄴ, ㄷ    ④ ㄴ, ㄹ    ⑤ ㄷ, ㄹ

8. 밑줄 친 ㉠~㉣에 대한 옳은 설명만을 <보기>에서 있는 대로 고른 것은? [3점]

갑은 평소 원하던 ㉠ A 회사에 입사하여 애사심을 가지고 열심히 회사 생활을 하고 있다. 그러던 중 갑은 ㉡ 사내 등산 동호회에서 만난 ㉢ 대학교 선배의 권유로 환경 보호를 위한 ㉣ 시민 단체에 가입하였다.

— < 보 기 > —

ㄱ. ㉠은 갑의 내집단이다.  
 ㄴ. ㉡은 ㉣과 달리 비공식 조직이다.  
 ㄷ. ㉢은 ㉣과 달리 선택 의지에 따라 결합된 사회 집단이다.  
 ㄹ. ㉣은 ㉢, ㉣과 달리 자발적 결사체이다.

- ① ㄱ, ㄴ                      ② ㄱ, ㄷ                      ③ ㄴ, ㄷ  
 ④ ㄱ, ㄷ, ㄹ                ⑤ ㄴ, ㄷ, ㄹ

9. 일탈 이론 A, B에 대한 설명으로 옳은 것은? [3점]

일탈 이론	각 일탈 이론으로 설명하기에 적합한 사례
A	갑은 실직 상황에서 점점 더 많은 자녀 양육비가 필요하게 되었다. 그 상황에서 은행 대출도 받을 수 없게 되자 갑은 도둑질을 저지르게 되었다.
B	을은 친구 집에서 장난삼아 장난감을 가지고 왔는데, 친구들이 을을 '도둑놈'이라면서 멀리하였다. 이후 정상적인 생활이 힘들어진 을은 부정적인 정체성을 갖게 되었고 도둑질을 반복하였다.

- ① A는 일탈 행동이 학습의 결과임을 강조한다.
- ② A는 일탈 행동을 규정하는 객관적인 기준이 존재하지 않는다고 본다.
- ③ B는 1차적 일탈이 2차적 일탈로 이어지는 과정에 주목한다.
- ④ B는 문화적 목표와 제도적 수단 간의 괴리로 인해 일탈 행동이 발생한다고 본다.
- ⑤ A와 B는 모두 일탈 행동이 발생하는 상호 작용 과정에 주목한다.

10. 다음 글의 사회 불평등 현상을 바라보는 관점에 부합하는 주장만을 <보기>에서 고른 것은?

사회가 평온할 때에는 직업 간의 중요도 차이가 명확하게 드러나지 않을 수도 있다. 하지만 사회에 위기가 닥치면 직업별 중요도가 보다 명확하게 드러나고, 차등 분배의 정당성에 대한 의구심이 사라지게 된다. 이는 직업 간 차등 보상이 왜 정당한지를 분명하게 보여 준다.

— < 보 기 > —

ㄱ. 사회적 희소가치의 차등 분배는 불가피한 현상이다.  
 ㄴ. 차등 분배 체계는 지배 집단의 이익을 보장하기 위한 수단이다.  
 ㄷ. 사회 불평등 현상은 개인의 성취동기를 유발하여 사회 발전에 기여한다.  
 ㄹ. 사회적 희소가치의 소유 정도는 개인의 노력이 아니라 가정 배경에 비례한다.

- ① ㄱ, ㄴ    ② ㄱ, ㄷ    ③ ㄴ, ㄷ    ④ ㄴ, ㄹ    ⑤ ㄷ, ㄹ

11. 표는 A와 B의 특징을 정리한 것이다. 이에 대한 설명으로 옳은 것은? (단, A와 B는 각각 산업 사회와 정보 사회 중 하나이다.)

구분	A	B
특징	<ul style="list-style-type: none"> <li>정보와 지식이 부가가치 창출의 주요 원천이다.</li> <li>(가)</li> </ul>	<ul style="list-style-type: none"> <li>생산 방식 측면에서 공장제 기계 공업이 일반화된다.</li> <li>관료제 조직이 지배적으로 나타난다.</li> </ul>

- ① A는 B에 비해 가정과 일터의 분리 정도가 높다.
- ② A는 B에 비해 쌍방향 통신 매체의 발전 정도가 높다.
- ③ B는 A에 비해 비대면 접촉의 비중이 높다.
- ④ B는 A에 비해 다품종 소량 생산 방식의 비중이 높다.
- ⑤ (가)에 '중간 관리층의 규모와 역할이 확대된다.'가 들어갈 수 있다.

12. 다음 두 사례에 공통으로 부각되어 있는 문화의 속성에 대한 진술로 가장 적절한 것은?

○ A 사회 사람들은 다른 사회 사람들과 달리 9를 길한 숫자로 여겨 결혼식 날짜를 9가 들어간 날짜로 잡으려고 한다.  
 ○ B 사회에서는 아기가 태어나면 축하의 의미로 산모가 손님들에게 선물을 주는 것을 당연하게 받아들인다.

- ① 문화의 형태와 내용은 끊임없이 변화한다.
- ② 문화는 구성원 간 원활한 상호 작용의 토대가 된다.
- ③ 문화는 세대 간 전승되면서 점차 풍부해지는 생활양식이다.
- ④ 문화의 한 부분이 변동하면 다른 부분도 연쇄적으로 변동한다.
- ⑤ 문화는 여러 요소들이 유기적으로 연결되어 있는 하나로서의 전체이다.

13. 문화 이해의 태도 A~C에 대한 설명으로 옳은 것은? (단, A~C는 각각 문화 상대주의, 문화 상대주의, 자문화 중심주의 중 하나이다.) [3점]

교사: 문화의 우열을 평가할 수 있는지에 대해 B, C는 A와 다른 입장을 갖는다는 공통점이 있는데, B와 C 간에도 차이점이 있습니다. 그러면 B와 다른 C의 특징을 설명해 볼까요?  
 갑: 자기 문화의 정체성을 유지하는 데 유리합니다.  
 을: 외부 문화의 수용에 적극적입니다.  
 교사: 을만 옳은 설명을 했습니다.

- ① A는 다른 사회와 문화적 마찰을 초래할 가능성이 크다.
- ② B는 문화적 다양성 증진에 기여한다.
- ③ C는 모든 문화의 고유한 가치를 존중한다.
- ④ A는 B와 달리 문화 제국주의로 변질될 가능성이 크다.
- ⑤ C는 B와 달리 자기 문화의 가치를 폄하한다.

14. 자료에 대한 옳은 설명만을 <보기>에서 있는 대로 고른 것은? (단, A국의 계층은 상층, 중층, 하층으로 구분되며, 조사 대상자의 부모는 모두 다르다.) [3점]

<A국의 사회 이동 조사>

대상	A국의 50대 인구 1,000명
내용	조사 대상자의 현재 계층과 20년 전 계층, 부모의 계층, ㉠ 사회 이동 요인
결과	1. ㉡ 조사 대상자의 현재 계층과 20년 전 계층을 비교한 결과 ㉢ 상승 이동한 사람이 ㉣ 하강 이동한 사람보다 많았음. 2. ㉤ 조사 대상자의 현재 계층과 부모의 계층을 비교한 결과 하강 이동한 사람이 상승 이동한 사람보다 많았음. 3. 사회 이동한 사람 중 자신의 노력과 성취를 통해 사회 이동한 사람이 과반수였음.

< 보기 >

- ㉠. ㉠을 기준으로 사회 이동은 개인적 이동과 구조적 이동으로 구분된다.
- ㉡. ㉡은 세대 간 이동 여부를, ㉢은 세대 내 이동 여부를 파악하기 위한 비교이다.
- ㉢. ㉢의 20년 전 계층은 하층일 수 없고, ㉣의 20년 전 계층은 상층일 수 없다.
- ㉣. 부모의 계층이 조사 대상자의 현재 계층보다 높은 경우가 낮은 경우보다 많다.

- ① ㉠, ㉡                      ② ㉠, ㉢                      ③ ㉡, ㉣
- ④ ㉠, ㉢, ㉣                ⑤ ㉡, ㉣, ㉣

15. 표에 대한 분석으로 옳은 것은? (단, 각 국가 내에서 남성 근로자 수와 여성 근로자 수는 같다.) [3점]

<성별 근로자 월 평균 임금>

(단위: 달러)

구분	갑국	을국	병국
남성 근로자	3,400	3,800	4,000
여성 근로자	2,600	2,800	2,800

- ① 갑국에서 여성 근로자 월 평균 임금은 전체 근로자 월 평균 임금의 90% 수준을 넘는다.
- ② 을국에서 성별 근로자 월 평균 임금 격차는 남성 근로자 월 평균 임금의 1/3 수준을 넘는다.
- ③ 병국에서 남성 근로자 월 평균 임금은 전체 근로자 월 평균 임금보다 800달러 많다.
- ④ 남성 근로자 월 평균 임금에 대한 여성 근로자 월 평균 임금이 비는 을국이 병국보다 크다.
- ⑤ 갑국~병국 중 성별 근로자 월 평균 임금 격차는 갑국이 가장 크다.

16. 다음 A~C에 대한 설명으로 옳은 것은? (단, A~C는 각각 반문화, 주류 문화, 하위문화 중 하나이다.)

우리 사회에서 김치를 반찬으로 먹는 문화는 A에 해당하고, 특정 지역에서만 나타나는 풍어제 문화는 B에 해당한다. 조직폭력배의 범죄 문화는 B와 C 모두에 해당한다.

- ① A는 B와 C의 총합이다.
- ② B는 C와 달리 사회 변화에 따라 A가 되기도 한다.
- ③ 한 사회 내에서 세대 문화는 A가 아닌 B에 해당한다.
- ④ B는 A보다 사회 전체의 문화 동질성을 높이는 데 기여한다.
- ⑤ C는 A와 달리 해당 문화를 공유하는 구성원들의 소속감을 강화시킨다.

17. 밑줄 친 ㉠, ㉡에 대한 옳은 설명만을 <보기>에서 고른 것은?

- 갑국에서 대표팀의 월드컵 예선 탈락에 분노한 시민들이 ㉠ 국가 대표팀 감독의 교체를 요구하는 시위를 하였다.
- 을국에서 ○○ 단체는 전국의 저임금 근로자들과 함께 5년째 ㉡ 최저 임금법의 제정을 요구하는 시위를 하고 있다.

< 보 기 >

- ㄱ. ㉠은 조직적인 역할 분담 체계를 바탕으로 한다.
- ㄴ. ㉡은 사회 변화를 목적으로 한다.
- ㄷ. ㉡은 ㉠과 달리 사회 운동에 해당한다.
- ㄹ. ㉠과 ㉡은 모두 뚜렷한 사상과 신념에 기초한 지속적인 활동이다.

- ① ㄱ, ㄴ    ② ㄱ, ㄷ    ③ ㄴ, ㄷ    ④ ㄴ, ㄹ    ⑤ ㄷ, ㄹ

18. 자료에 대한 분석으로 옳은 것은? [3점]

표는 갑국의 15~64세 인구(부양 인구) 100명당 각 연령 대별 인구를 나타낸 것이다. 단, 15~64세 인구는 2020년이 1970년의 2배이다.

(단위: 명)

구분	1970년	2020년
0~14세 인구	20	20
65세 이상 인구	20	40

- \* 유소년 부양비 = (0~14세 인구 / 15~64세 인구) × 100
- \* 노년 부양비 = (65세 이상 인구 / 15~64세 인구) × 100
- \* 노령화 지수 = (65세 이상 인구 / 0~14세 인구) × 100

- ① 노령화 지수는 1970년이 2020년보다 크다.
- ② 65세 이상 인구는 2020년이 1970년의 4배이다.
- ③ 노년 부양비는 2020년이 1970년의 2배보다 크다.
- ④ 총인구 중 15~64세 인구의 비율은 2020년이 1970년보다 높다.
- ⑤ 2020년에 부양 인구가 부담하는 노년 인구 부양 비용은 유소년 인구 부양 비용의 2배이다.

19. 갑국과 을국의 문화 변동에 대한 옳은 설명만을 <보기>에서 고른 것은?

- A국은 갑국을 점령한 후 갑국의 일부다처제를 법으로 금지하고, 이를 어기면 처벌하였다. 이로 인해 갑국에서는 일부다처제가 사라지고 A국의 일부일처제가 정착하였다.
- B국으로부터 을국으로 이민 온 사람들로 인해 을국 사람들은 B국의 전통 춤도 즐기게 되었다. 이렇게 수십 년이 흐른 후 을국에서는 을국의 전통 춤에 B국의 전통 춤이 접목된 ☆☆춤이 만들어졌다.

< 보 기 >

- ㄱ. 갑국에서는 직접 전파와 자발적 문화 접변이 나타났다.
- ㄴ. 을국에서는 문화 병존을 거쳐 문화 동화가 나타났다.
- ㄷ. 을국에서는 갑국과 달리 자기 문화의 정체성이 보존되었다.
- ㄹ. 갑국과 을국은 모두 외부 사회와의 접촉으로 새로운 문화를 갖게 되었다.

- ① ㄱ, ㄴ    ② ㄱ, ㄷ    ③ ㄴ, ㄷ    ④ ㄴ, ㄹ    ⑤ ㄷ, ㄹ

20. 자료에 대한 분석으로 옳은 것은? [3점]

표는 우리나라 갑 권역의 65세 이상 인구 중 국민연금 제도와 기초연금 제도의 수급자 비율을 나타낸 것이다. 갑 권역은 A 지역과 B 지역으로만 구분되고, 65세 이상 인구는 A 지역이 4만 명, B 지역이 2만 명이다.

(단위: %)

구분	A 지역	B 지역
국민연금 수급자	60	80
기초연금 수급자	40	30

- ① 65세 이상 인구 중 국민연금 수급자 수는 B 지역이 A 지역보다 많다.
- ② 65세 이상 인구 중 기초연금 수급자 수는 A 지역이 B 지역의 2배 미만이다.
- ③ 65세 이상 인구 중 사회보험에 해당하는 제도의 수급자 비율은 A 지역이 B 지역보다 높다.
- ④ 갑 권역에서 65세 이상 인구 중 선별적 복지 이념에 기초한 제도의 수급자 비율은 70%이다.
- ⑤ 갑 권역에서 65세 이상 인구 중 의무 가입의 원칙이 적용되는 제도의 수급자 비율은 70% 미만이다.

\* 확인 사항

- 답안지의 해당란에 필요한 내용을 정확히 기입(표기)했는지 확인하십시오.