

## 목 록

2022-4월-고3-정치와법-문제.....	1
2204고3정치와법_문항지.....	1
개요.....	1
2022-4월-고3-한국지리-문제.....	5
2204고3한국지리_문항지.....	5
개요.....	5
2022-4월-고3-경제-문제.....	9
2204고3경제_문항지.....	9
개요.....	9
2022-4월-고3-동아시아사-문제.....	13
2204고3동아시아사_문항지.....	13
개요.....	13
2022-4월-고3-사회문화-문제.....	17
2204고3사회문화_문항지.....	17
개요.....	17
2022-4월-고3-생활과 윤리-문제.....	21
2204고3생활과윤리_문항지.....	21
개요.....	21
2022-4월-고3-세계사-문제.....	25
2204고3세계사_문항지.....	25
개요.....	25
2022-4월-고3-세계지리-문제.....	29
2204고3세계지리_문항지.....	29
개요.....	29
2022-4월-고3-윤리와사상-문제.....	33
2204고3윤리와 사상_문항지.....	33
개요.....	33

# 사회탐구 영역(정치와 법)

제 4 교시

성명

수험 번호

3

제 [ ] 선택

1

1. 우리나라 헌법의 기본 원리 (가), (나)에 대한 설명으로 옳은 것은?

구분	관련 헌법 내용
(가)	<p>전문 ... 자율과 조화를 바탕으로 자유 민주적 기본 질서를 더욱 확고히 하여 ...</p> <p>제8조 ② 정당은 그 목적·조직과 활동이 민주적이어야 하며, ...</p>
(나)	<p>전문 ... 안으로는 국민 생활의 균등한 향상을 기하고 ...</p> <p>제34조 ① 모든 국민은 인간다운 생활을 할 권리를 가진다.</p>

- ① (가)에 따라 사법권의 독립을 보장하고 있다.
- ② (가)는 자본주의 발달에 따라 사회 불평등이 심화되면서 강조되었다.
- ③ (나)에 따라 언론·출판에 대한 허가나 검열을 금지하고 있다.
- ④ (가)는 (나)와 달리 개인의 경제 활동에 대한 국가의 적극적인 개입의 근거가 된다.
- ⑤ (나)는 (가)와 달리 법률 제정 및 정책 결정의 기본 방향을 제시한다.

2. 그림은 정치 과정을 소개하는 학습 자료의 일부이다. 이에 대한 설명으로 옳은 것은? [3점]

■ 정치 과정

정치 과정은 개인이나 집단이 ㉠ 정책 결정 기구를 대상으로 정책을 요구하거나 지지 또는 불만을 표시하는 [A], 정책 결정 기구가 정책을 결정하고 집행하는 [B], 집행된 정책을 평가하고, 평가에 기반하여 수정 및 보완 또는 새로운 정책을 요구하는 환류로 이루어진다.

○ A의 사례: \_\_\_\_\_ (가)

○ B의 사례: \_\_\_\_\_ (나)

- ① 언론과 달리 이익 집단은 ㉠에 해당한다.
- ② 시민의 정치적 효능감이 커질수록 A는 감소한다.
- ③ B는 A와 달리 경제, 사회, 문화와 같은 환경의 영향을 받지 않는다.
- ④ '대체 휴일 제도 도입을 위해 시민들이 국회에 청원서 제출'은 (가)에 들어갈 수 있다.
- ⑤ '온실가스 감축을 촉구하는 시민 단체의 성명서 발표'는 (나)에 들어갈 수 있다.

3. 다음 자료에 대한 분석 및 추론으로 옳은 것은? [3점]

전행적인 정부 형태 중 하나를 채택하고 있는 ◇◇국에서는 행정부 수반을 선출하기 위한 선거가 실시되어 갑이 행정부 수반으로 선출되었다. 이와 동시에 의회 의원 선거가 실시되어 표와 같은 결과가 나타났다.

정당	A당	B당	C당	D당
의석률(%)	32	58	7	3

- ① 갑은 국가 원수의 지위를 가진다.
- ② B당 소속 의원은 각료를 겸직할 수 있다.
- ③ 갑은 의회를 해산할 수 있는 권한을 가진다.
- ④ 갑이 A당 소속이라면, 행정부의 강력한 정책 추진이 용이할 것이다.
- ⑤ 갑이 B당 소속이라면, 갑의 법률안 거부권 행사 가능성이 높다.

4. 다음에 나타난 정의에 대한 옳은 설명만을 <보기>에서 고른 것은?

대학 수학 능력 시험에서 시각 장애 수험생에게는 장애 정도에 따라 점자 문제지나 확대 문제지 등이 제공되고, 일반 수험생보다 시험 시간도 길게 주어진다. 이는 개인의 능력과 상황 등에 따른 차이를 고려한 정의를 실현하려는 사례이다.

— < 보 기 > —

ㄱ. 절대적·형식적 평등을 추구한다.

ㄴ. '같은 것은 같게, 다른 것은 다르게' 대우하는 것을 중시한다.

ㄷ. 소득에 따라 세율을 차등 적용하는 것을 사례로 들 수 있다.

ㄹ. 대통령 선거에서 모든 유권자가 동등하게 1표씩 행사하는 것을 사례로 들 수 있다.

- ① ㄱ, ㄴ    ② ㄱ, ㄷ    ③ ㄴ, ㄷ    ④ ㄴ, ㄹ    ⑤ ㄷ, ㄹ

5. 정치 참여 집단 A~C에 대한 설명으로 옳은 것은? (단, A~C는 각각 정당, 이익 집단, 시민 단체 중 하나이다.) [3점]

의회에서 ○○법 개정안에 대한 논의가 이루어지고 있다. 지난 선거에서 공천을 통해 의회 의원을 가장 많이 배출한 A는 공약 실천을 위해 개정안 통과에 힘쓰고 있다. 공약 실천을 추구하는 B는 법률 개정을 통해 국민의 복지에 한 걸음 다가갈 것이라며 지지를 표명하였다. 반면 소속 회원의 이익 실현을 위해 설립된 C는 자신들에게 초래될 경제적 피해를 주장하며, 법률 개정 반대하는 집회를 예고하였다.

- ① A는 B와 달리 자신의 활동에 대한 정치적 책임을 진다.
- ② B는 C와 달리 특수한 이익 실현을 추구한다.
- ③ C는 A와 달리 정부와 의회를 매개하는 역할을 한다.
- ④ A는 B, C와 달리 정치 사회화 기능을 수행한다.
- ⑤ B는 A, C와 달리 대의제의 한계를 보완하는 역할을 한다.

## 2 (정치와 법)

## 사회탐구 영역

6. 다음 자료에 대한 옳은 분석만을 <보기>에서 고른 것은?

갑국 의회에서는 ㉠ 헌법 개정안 및 ㉡○○ 법률안을 논의 중에 있다. 갑국의 헌법 및 법률 개정 절차는 우리나라와 동일하다. 갑국 의회 재적 의원은 300명이고, 각 의원들은 의회 의결 시 모두 출석하여 투표하며, 기권과 무효표는 없다. 의결 과정에서 재적 의원수와 의석률 변화는 없고, 정당별 의석률은 표와 같다.

정당	A당	B당	C당	D당	E당
의석률(%)	44	24	17	9	6

— < 보기 > —

- ㄱ. A당과 E당 소속 의원들만으로 ㉠을 발의할 수 있다.  
 ㄴ. ㉠이 발의될 경우, A, C, E당 소속 의원들만 모두 찬성한다면 가결될 수 있다.  
 ㄷ. D당 소속 의원들만으로 ㉡을 발의할 수 있다.  
 ㄹ. ㉡이 본회의에 상정될 경우, B, C, D당 소속 의원들이 모두 반대하더라도 가결될 수 있다.

- ① ㄱ, ㄴ    ② ㄱ, ㄷ    ③ ㄴ, ㄷ    ④ ㄴ, ㄹ    ⑤ ㄷ, ㄹ

7. 다음 자료에 대한 옳은 설명만을 <보기>에서 고른 것은?

근대 민법의 기본 원칙에는 A, B, C가 있다. A는 개인의 사유 재산권에 대한 절대적 지배를 인정하고 국가 또는 다른 개인이 이에 대하여 함부로 간섭하거나 제한할 수 없다는 원칙이다. B는 개인이 자기의 의사에 따라 상대방과 자율적으로 법률관계를 형성해 나갈 수 있다는 원칙이다. C는 개인이 다른 사람에게 가한 손해에 대하여는 그 행위가 위법할 뿐만 아니라 동시에 고의 또는 과실이 있는 경우에만 책임을 진다는 원칙이다. 이러한 근대 민법의 기본 원칙은 아래와 같이 수정·보완이 이루어졌다.

근대 민법의 기본 원칙	→	근대 민법의 기본 원칙의 수정·보완
A	→	(가)
B	→	(나)
C	→	(다)

— < 보기 > —

- ㄱ. (가)는 개인 간 자유로운 계약 체결을 보장하기 위해 수정된 원칙이다.  
 ㄴ. (나)에 의해 계약의 내용이 사회 질서에 위반되거나 현저하게 공정하지 못한 경우에는 무효로 한다.  
 ㄷ. (다)가 적용된 사례로 환경을 보호하기 위한 토지 개발 제한 구역 지정을 들 수 있다.  
 ㄹ. A, B, C 모두 현대의 사법(私法) 관계에 적용된다.

- ① ㄱ, ㄴ    ② ㄱ, ㄷ    ③ ㄴ, ㄷ    ④ ㄴ, ㄹ    ⑤ ㄷ, ㄹ

8. 다음 자료에 대한 설명으로 옳은 것은?

갑은 ○○법 △△조항 위반을 이유로 2심 법원에서 징역형을 선고받았다. 이후 상고한 갑은 상고심 계속 중 해당 조항에 대해 □(가) 제청을 신청하였으나, A는 이를 기각하였다. 이에 갑은 해당 조항의 위헌 여부를 판단해 달라는 □(나)를 B에 청구하였다.

- ① (가)는 헌법 소원 심판, (나)는 위헌 법률 심판이다.  
 ② A는 하급 법원의 판결에 대한 항고심을 담당한다.  
 ③ B는 대통령 선거 소송을 담당한다.  
 ④ B는 A의 장(長)에 대한 탄핵 소추권을 가진다.  
 ⑤ A의 장(長)과 B의 장(長)에 대한 임명권은 대통령이 가진다.

9. 표는 질문에 따라 기본권 유형 A~C를 구분한 것이다. 이에 대한 옳은 설명만을 <보기>에서 고른 것은? (단, A~C는 각각 자유권, 참정권, 청구권 중 하나이다.) [3점]

질문 \ 기본권 유형	A	B	C
(가)	아니요	예	아니요
(나)	예	아니요	아니요

— < 보기 > —

- ㄱ. A가 자유권이면, (나)에는 ‘국가의 정치 과정에 참여할 수 있는 능동적 권리인가?’가 들어갈 수 있다.  
 ㄴ. B가 청구권이면, (가)에는 ‘다른 기본권을 보장하기 위한 수단적·절차적 권리인가?’가 들어갈 수 있다.  
 ㄷ. (나)에 ‘소극적·방어적 권리인가?’가 들어가면, A는 헌법에 열거되지 않아도 보장받을 수 있는 권리이다.  
 ㄹ. (가)에 ‘공무 부담권을 그 내용으로 하는가?’가 들어가고, (나)에 ‘재판 청구권을 그 내용으로 하는가?’가 들어가면, C는 내국인만을 기본권 주체로 인정하는 권리이다.

- ① ㄱ, ㄴ    ② ㄱ, ㄷ    ③ ㄴ, ㄷ    ④ ㄴ, ㄹ    ⑤ ㄷ, ㄹ

10. 다음 사례에 대한 법적 판단으로 옳은 것은? [3점]

○ 갑(14세)은 자신의 용돈으로 도서를 구매하는 계약을 서점 운영자인 A와 체결하였다.  
 ○ 을(16세)은 법정 대리인의 동의 없이 전자 제품 판매업자 B와 고가의 컴퓨터를 구매하는 계약을 체결하였다. 계약 당시 B는 을이 미성년자임을 알고 있었다.  
 ○ 병(17세)은 신분증을 위조하여 약기 판매업자 C에게 자신을 성인으로 믿게 하고 고가의 피아노를 구매하는 계약을 체결하였다.

- ① 갑이 A와 체결한 계약은 단순히 권리만을 얻거나 의무만을 면하는 행위에 해당한다.  
 ② 을의 법정 대리인은 을과 달리 B와의 계약을 취소할 수 있다.  
 ③ B는 을의 법정 대리인에게 계약 체결의 의사 표시를 철회할 수 없다.  
 ④ 병이 속임수로 C와 계약을 체결하였으므로, 병과 C의 계약은 무효이다.  
 ⑤ 병의 법정 대리인은 병이 미성년자임을 이유로 C와의 계약을 취소할 수 있다.

11. 우리나라 지방 자치 단체의 기관 A, B에 대한 설명으로 옳은 것은?



주민 조례 청구 절차가 달라집니다. 기존에는 주민이 지방 자치 단체의 집행 기관인 A에게 조례 제정 및 개정·폐지를 청구하면, A는 청구된 조례안을 의결 기관인 B에 제출할 수 있었습니다. 그러나 개정법에 의하면 주민은 조례 제정 및 개정·폐지를 B에 직접 청구할 수 있게 되었습니다.

- ① A는 주민 소환의 대상이 될 수 없다.
- ② B는 지방 자치 단체를 대표하고 그 사무를 총괄한다.
- ③ A는 B와 달리 지방 자치 단체의 사무에 대한 감사권을 가진다.
- ④ B는 A와 달리 법령 및 조례의 범위 안에서 규칙 제정권을 가진다.
- ⑤ B는 A가 편성한 예산안을 심의·확정한다.

12. 다음 사례에 대한 법적 판단으로 옳은 것은?

○ 음주 운전을 하였다고 의심되는 갑에게 경찰관이 수차례 음주 측정 요구를 하였으나 갑은 이에 응하지 않았다. 이후 수사를 받고 기소된 갑의 형사 재판 결과 법원은 형의 선고를 유예하였고, 해당 판결이 확정되었다.

○ 을은 음주 운전을 하다가 갓길에 주차된 차량을 들이받았고, 주차된 차량에 타고 있던 병은 전치 4주의 상해를 입었다. 이후 수사를 받고 기소된 을의 형사 재판 결과 법원은 징역 1년에 집행 유예 3년을 선고하면서 준벌 운전 강의 수강 40시간을 명하였고, 해당 판결이 확정되었다.

- ① 갑이 기소된 후 갑에게는 무죄 추정 원칙이 적용되지 않는다.
- ② 을은 유예 기간 동안 일정한 범죄를 저지르지 않으면 면소된다.
- ③ 병은 범죄 피해자 구조 제도를 통해 을에게 손해 배상을 받을 수 있다.
- ④ 갑, 을 모두 구속 상태에서 수사를 받았다면 을과 달리 갑은 형사 보상을 청구할 수 있다.
- ⑤ 갑과 달리 을에게는 보안 처분이 부과되었다.

13. 교사의 질문에 대해 옳은 답변을 한 학생은?

정치와 법 학습방

- A(12세)는 공원에 세워져 있는 타인 소유의 자전거를 훔쳤다.
- B(25세)는 심신 상실 상태에서 행인을 폭행하여 전치 4주의 상해를 입혔다.
- C(40세)는 회의에 늦지 않기 위해 운전 중 신호 위반을 하다가 횡단보도를 건너는 행인을 치어 중상을 입혔다.
- D(55세)는 자녀의 생명에 대한 위해를 방어할 방법이 없는 협박에 못 이겨 거액의 회사 공금을 협박범에게 송금하였다.

교사: A ~ D의 행위에 대해 범죄 성립 여부를 댓글로 답해 볼까요?

- ↳ 갑: A의 행위는 절도죄의 구성 요건에 해당하지 않아 범죄가 성립하지 않습니다.
- ↳ 을: B의 행위는 범죄가 성립하지만 책임이 감경될 수 있습니다.
- ↳ 병: C의 행위는 위법성이 조각되어 범죄가 성립하지 않습니다.
- ↳ 정: D의 행위는 책임이 조각되어 범죄가 성립하지 않습니다.
- ↳ 무: A ~ D의 행위 중 범죄가 성립하는 행위는 없습니다.

- ① 갑      ② 을      ③ 병      ④ 정      ⑤ 무

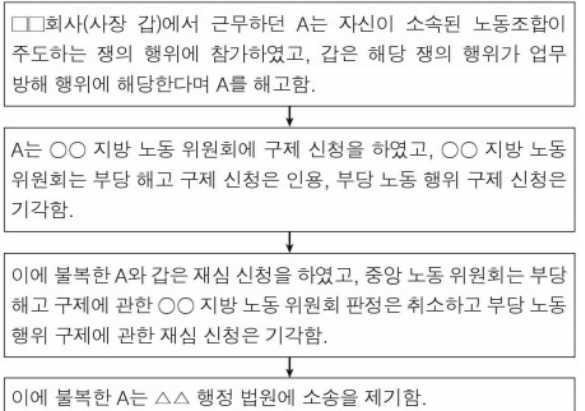
14. 밑줄 친 'A 원칙'에 대한 설명으로 가장 적절한 것은? [3점]

기존의 전자금융거래법은 '대가를 받고' 접근매체를 대여하는 행위를 금지하였으나 개정된 전자금융거래법은 '대가를 약속하면서' 접근매체를 대여하는 행위도 금지하고 있다. 이와 같은 개정 내용에 비추어 볼 때, 대가를 약속받고 접근매체를 대여하는 행위를 처벌할 필요성이 있음이 분명하다. 그렇더라도 전자금융거래법이 개정되기 전에 이루어진 '대가를 약속받고' 접근매체를 대여한 행위를 '대가를 받고' 접근매체를 대여한 행위로 해석하여 기존의 전자금융거래법 위반죄로 처벌하는 것은 죄형 법정주의의 A 원칙에 반하여 허용될 수 없다.

\* 접근매체: 전자금융거래에 사용되는 전자식 카드 및 비밀번호 등

- ① 범죄와 형벌이 법률에 명확히 기재되어 있어야 한다는 원칙이다.
- ② 범죄와 형벌 사이에 적절한 균형이 유지되어야 한다는 원칙이다.
- ③ 범죄와 형벌은 국가가 적법하게 제정한 성문법에 규정되어 있어야 한다는 원칙이다.
- ④ 법률에 규정이 없는 사항에 대해 그것과 유사한 규정을 적용하여 처벌해서는 안된다는 원칙이다.
- ⑤ 범죄와 형벌은 행위 당시의 법률에 규정되어 있어야 하며, 행위 이후에 제정된 법률로는 소급하여 처벌할 수 없다는 원칙이다.

15. 다음 자료에 대한 법적 판단으로 옳은 것은? [3점]



- ① A가 속한 노동조합은 A와 달리 부당 노동 행위를 이유로 ○○ 지방 노동 위원회에 구제 신청을 할 수 없다.
- ② ○○ 지방 노동 위원회는 갑이 A의 근로 3권을 침해하지 않았다고 보았다.
- ③ ○○ 지방 노동 위원회와 중앙 노동 위원회는 모두 갑이 A를 해고한 것은 정당한 해고라고 보았다.
- ④ 중앙 노동 위원회는 갑이 A를 해고한 것은 부당 노동 행위에 해당한다고 보았다.
- ⑤ A가 △△ 행정 법원에 제기한 소송은 노동 위원회의 구제 절차를 거치지 않고 별도로 제기할 수 있다.

## 4 (정치와 법)

# 사회탐구 영역

16. 다음 사례에 대한 법적 판단으로 옳은 것은?

- 갑은 공원에서 자녀 을(5세)과 함께 산책하고 있었다. 갑이 부주의한 사이에 을이 공원 주차장에 세워진 병의 자동차 외부를 돌로 긁어서 차량을 수리해야 하는 상황이 발생했다.
- A는 제과점 운영자 B와 생일 파티에 사용할 대형 케이크 구매 계약을 체결하였다. B에게 고용된 C가 A에게 케이크를 배달하던 중 과속을 하여 D와 충돌하였다. 이로 인해 D가 다치고 케이크도 망가져 A에게 케이크가 배달되지 못하였고, A는 케이크 없이 생일 파티를 하였다.

- ① 갑은 병의 손해에 대해 무과실 책임을 진다.
- ② 을의 행위로 발생한 병의 손해에 대해 을은 일반 불법 행위 책임을 진다.
- ③ A는 B에게 계약에 따른 채무 불이행을 이유로 손해 배상을 청구할 수 없다.
- ④ B와 C는 D에게 공동 불법 행위자의 책임을 진다.
- ⑤ C가 D에게 일반 불법 행위 책임을 지는 경우, B는 D에게 사용자 배상 책임을 질 수 있다.

17. 국제 연합의 주요 기관 A, B에 대한 설명으로 옳은 것은? [3점]

- △△사태를 군부 쿠데타로 규정하고 군사적 개입을 허용한다는 공동 성명을 채택하기 위해 A가 소집되었으나, A의 이사국 중 갑국의 거부권 행사로 공동 성명 채택은 이루어지지 않았다.
- ◇◇섬을 자국 영토라고 서로 주장하는 을국과 병국은 이 섬의 영유권에 대한 분쟁을 해결하기 위해 B에 재판을 청구하기로 합의하였다.

- ① A는 모든 회원국이 참여하는 최고 의결 기관이다.
- ② A에서 갑국은 실질 사항을 제외한 안전에 대해서만 거부권을 행사할 수 있다.
- ③ B의 재판 당사자는 국가 및 국제기구이다.
- ④ B는 국적이 모두 다른 15인의 재판관으로 구성된다.
- ⑤ A는 5개의 상임이사국과 B에서 선출된 10개의 비상임이사국으로 구성된다.

18. 국제 관계를 바라보는 갑, 을의 관점에 대한 설명으로 옳은 것은?

- 갑: 국제 관계의 평화를 위해 국가들을 하나의 체제 안으로 편입시켜야 합니다. 어떤 국가가 실행하는 침략에 대해 체제 내의 국가들이 협력하여 대항할 것을 약속함으로써, 국가의 안전을 상호 집단적으로 보장하는 방식이 무엇보다 중요합니다.
- 을: 힘의 논리가 지배하는 국제 관계에서 국가 간 힘의 균형을 유지하는 것이 중요합니다. 국력 증강, 공동의 적에 대한 동맹 등의 방법을 통해 어떤 국가가 우월한 위치에 놓이는 것을 방지하여 서로 공격할 수 없는 상황을 만들어 국가의 안전을 보장해야 합니다.

- ① 갑의 관점은 국가 간 상호 의존 관계보다 국가 간 권력관계를 중시한다.
- ② 을의 관점은 냉전 체제에서의 군비 경쟁을 설명하기 용이하다.
- ③ 갑의 관점은 을의 관점과 달리 국제법을 통한 국가 간의 분쟁 해결이 불가능하다고 본다.
- ④ 을의 관점은 갑의 관점과 달리 개별 국가의 이익과 국제 사회 전체의 이익은 조화될 수 있다고 본다.
- ⑤ 갑, 을의 관점 모두 국제기구를 통한 국제 사회에서의 협력을 중시한다.

19. 다음 사례에 대한 법적 판단 및 추론으로 옳은 것은? [3점]

- 갑과 을은 법률상 혼인하여 A를 낳았는데 성격 차이로 협의상 이혼하며 을이 A를 양육하기로 하였다. 이후 갑은 병과 법률상 혼인하여 B를 낳고 살며 병의 자녀인 C를 친양자가 아닌 양자로 입양하였다. 정은 을과 법률상 혼인하여 D를 낳고 살면서 A를 친양자로 입양하였다.

- ① 갑과 을은 법원의 판결을 통해 혼인 관계를 해소시키는 이혼을 하였다.
- ② 정이 A를 입양한 후에도 갑과 A의 친족 관계는 유지된다.
- ③ 갑이 유언 없이 사망한 경우, C는 B와 달리 갑의 재산을 상속받을 수 없다.
- ④ 갑이 전 재산을 특정 재단에 기부한다는 유효한 유언을 남기고 사망한 경우, 병은 유류분을 청구할 수 있다.
- ⑤ 정이 유언 없이 사망한 경우, D의 법정 상속액은 A보다 많다.

20. 다음 자료에 대한 분석으로 옳은 것은? [3점]

- 갑국 의회는 지역구 의원 100인과 비례 대표 의원 100인으로 구성되며, 유권자는 지역구 의원 선출을 위해 후보자에 1표, 비례 대표 의원 선출을 위해 정당에 1표를 행사한다. 지역구 의원 선거에서 각 정당은 선거구별로 1인의 후보자만 공천하며 각 선거구별로 선출되는 지역구 의원 수는 같다. 비례 대표 의석은 정당 투표 득표율에 비례 대표 총 의석수를 곱하여 산출된 수만큼 각 정당의 의석으로 배분한다. 갑국은 현재의 지역구 의원 수는 유지하되, 다음과 같은 비례 대표 의석 배분 방식 개편안을 검토하고 있다.

<개편안>

정당 투표 득표율에 전체 의석수를 곱하여 산출된 수만큼 각 정당의 의석으로 배분한다. 정당별로 할당된 의석수에서 지역구 의석수를 뺀 나머지 의석수를 정당별 비례 대표 의석으로 배정하되, 어떤 정당의 지역구 의석수가 할당된 의석수보다 더 많다면 초과 의석은 인정하나 비례 대표 의석은 배분하지 않는다. 초과 의석으로 인해 의원 정수(定數)는 늘어날 수 있다.

표는 최근 갑국의 의회 의원 선거 결과를 나타낸다.

(단위: %)

구분	A당	B당	C당	D당
의회 의석률	50	36	8	6
정당 투표 득표율	31	42	15	12

\* 정당은 A ~ D당만 존재하고 무소속 후보는 없으며, 투표율은 100%이고 무효표는 없음.

\*\* 개편안 적용 시 최근 의회 의원 선거의 정당 투표 득표율과 지역구 의원 선거 결과만을 근거로 판단함.

- ① 지역구 의원을 선출하는 선거구 수는 50개이다.
- ② 최근 선거 결과 D당의 지역구 의석수는 1석이다.
- ③ 개편안 적용 시 2개의 정당이 초과 의석을 받게 된다.
- ④ 개편안 적용 시 A당의 의회 의석률은 정당 투표 득표율보다 낮다.
- ⑤ 최근 선거 결과에서뿐만 아니라 개편안 적용 시에도 B당은 의회 의석률이 정당 투표 득표율보다 낮다.

※ 확인 사항

답안지의 해당란에 필요한 내용을 정확히 기입(표기)했는지 확인하시오.

# 2022학년도 4월 고3 전국연합학력평가 문제지

## 사회탐구 영역(한국지리)

제 4 교시    성명    수험 번호    3    제 [    ] 선택    1

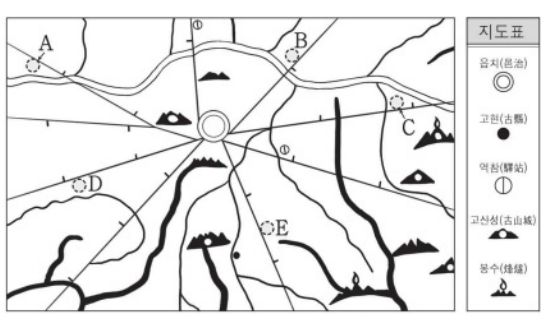
1. 다음 자료는 온라인 학습 장면의 일부이다. 정답에 들어갈 후보지로 옳은 것은?

대동여지도에 나타난 지리 정보 파악하기

◇ 다음 <조건>만을 고려하여 곡식 창고의 입지를 선정하고자 할 때, 가장 적합한 곳을 후보지 A ~ E에서 고르시오.

< 조건 >

- 배가 다닐 수 있는 하천과 인접할 것
- 읍치로부터 도로상의 거리가 20리 이내에 위치할 것
- 읍치에서 곡식 창고까지 도로를 이용해 이동할 때, 고개를 넘지 않는 곳에 위치할 것



정답

- ① A    ② B    ③ C    ④ D    ⑤ E

2. 다음 자료는 지역 조사 과정을 나타낸 것이다. ㉠ ~ ㉣에 대한 옳은 설명만을 <보기>에서 고른 것은?

조사 주제 및 지역 선정	○ △△시의 ㉠ 전통 시장 상권을 조사한다.
지리 정보 수집	○ 인터넷 지도를 통해 ㉡ 전통 시장들의 위치를 파악한다. ○ 각 전통 시장을 방문하여 이용객을 대상으로 거주지와 월별 이용 횟수 등에 대한 ㉢ 설문 조사 및 면담을 실시한다.
지리 정보 분석	○ 수집한 지리 정보를 분석한 후 통계 처리한다. ○ ㉣ 전통 시장들의 분포와 재화의 도달 범위를 지도로 표현한다.
보고서 작성	○ △△시의 전통 시장 상권 현황에 대한 보고서를 작성한다.

< 보 기 >

- ㉠. ㉠은 지역 구분의 유형 중 기능 지역에 해당한다.  
 ㉡. ㉡은 지리 정보의 유형 중 속성 정보에 해당한다.  
 ㉢. ㉢은 주로 야외의 조사 단계에서 실시한다.  
 ㉣. ㉣을 통계 지도로 표현할 때 우선도가 가장 적절하다.

- ① ㉠, ㉡    ② ㉠, ㉢    ③ ㉡, ㉢    ④ ㉡, ㉣    ⑤ ㉢, ㉣

3. 표는 교통수단별 국내 여객 수송에 관한 것이다. (가) ~ (라) 교통수단에 대한 설명으로 옳은 것은? (단, (가) ~ (라)는 각각 도로, 철도(지하철 포함), 항공, 해운 중 하나임.) [3점]

교통 수단	평균 통행 거리 (km)	평균 통행 시간 (분)	여객 수송 분담률 (%)
(가)	11.9	21.9	84.57
(나)	17.2	44.3	15.30
(다)	74.5	136.4	0.04
(라)	376.8	59.5	0.09

\* 여객 수송 분담률은 인 기준임. (2018)

- ① (가)는 (나)보다 문진 연결성이 우수하다.  
 ② (가)는 (다)보다 대량 화물의 장거리 수송에 유리하다.  
 ③ (나)는 (라)보다 기상 조건의 제약을 많이 받는다.  
 ④ (다)는 (나)보다 주행 비용 증가율이 높다.  
 ⑤ (라)는 (가)보다 기종점 비용이 저렴하다.

4. 다음 자료는 수업 시간에 진행한 지리 학습 게임이다. 출발지에서 도착지까지 옳게 이동한 경로를 고른 것은?

정검다리 건너기 게임을 통한 신·재생 에너지 학습

○ 게임 방법: 각 단계에 제시된 진술이 옳으면 O, 틀리면 X가 표시된 돌을 밟아 앞으로 이동한다.


**1단계**  
조력은 서해안이 동해안보다 전력 생산에 유리하다.

**2단계**  
태양광은 풍력보다 전력 생산 시 소음이 많이 발생한다.

**3단계**  
풍력은 조력보다 전력 생산 시 기상 조건의 제약을 많이 받는다.

**4단계**  
수력은 태양광보다 우리나라에서 전력 생산에 이용된 시기가 이른다.

출발지



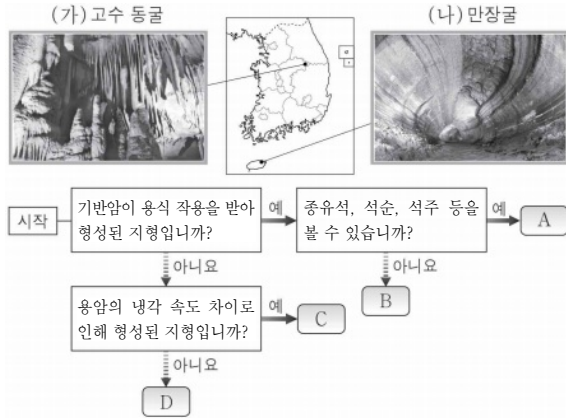
도착지

- ①    ②    ③    ④    ⑤

## 2 (한국지리)

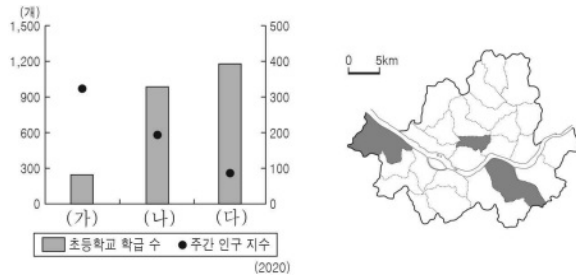
## 사회탐구 영역

5. (가), (나)의 특징을 그림의 A ~ D에서 고른 것은?



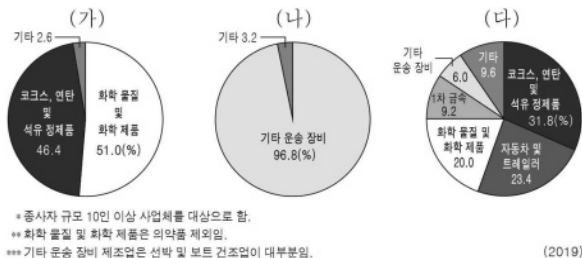
- (가) (나) (가) (나) (가) (나)
- ① A C ② A D ③ B C
- ④ B D ⑤ C A

6. 그래프는 지도에 표시된 서울시 세 구(區)의 특성을 나타낸 것이다. (가) ~ (다) 지역에 대한 설명으로 옳은 것은?

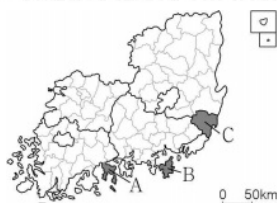


- ① (가)는 (나)보다 시가지의 형성 시기가 늦다.
- ② (가)는 (다)보다 인구 공동화 현상이 뚜렷하다.
- ③ (나)는 (다)보다 상업용지의 평균 지가가 낮다.
- ④ (다)는 (가)보다 생산자 서비스업 사업체 수가 많다.
- ⑤ 상주인구는 (가) > (나) > (다) 순으로 많다.

7. 그래프는 지도에 표시된 세 지역의 제조업 업종별 출하액 비율을 나타낸 것이다. (가) ~ (다)에 해당하는 지역을 지도의 A ~ C에서 고른 것은? [3점]

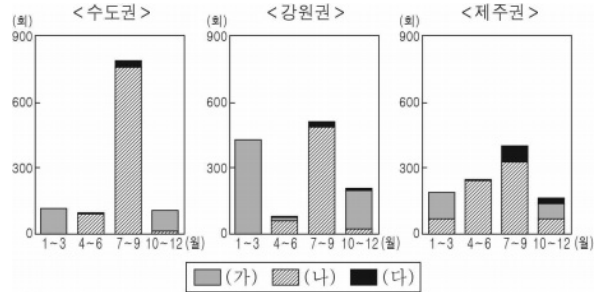


\* 종사자 규모 10인 이상 사업체를 대상으로 함.  
 \*\* 화학 물질 및 화학 제품은 의약품 제외임.  
 \*\*\* 기타 운송 장비 제조업은 선박 및 보트 건조업이 대부분임.



- (가) (나) (다)
- ① A B C
- ② A C B
- ③ B A C
- ④ B C A
- ⑤ C B A

8. 그래프는 세 권역의 기상 특보 발령 횟수를 나타낸 것이다. (가) ~ (다)에 대한 옳은 설명만을 <보기>에서 고른 것은? (단, (가) ~ (다)는 각각 대설, 태풍, 호우 중 하나임.)



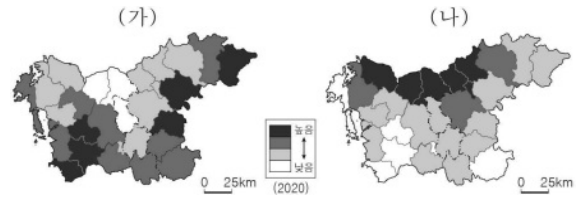
\* 기상 특보 발령 횟수는 2010~2019년의 합계임.

< 보기 >

- ㄱ. (가)는 장마 전선이 정체할 때 주로 발생한다.
- ㄴ. (나)는 시베리아 기단이 강하게 영향을 미칠 때 주로 발생한다.
- ㄷ. (다)는 강풍과 많은 비를 동반하여 풍수해를 유발한다.
- ㄹ. (나)는 (가)보다 산사태의 발생 위험도를 증가시킨다.


- ① ㄱ, ㄴ ② ㄱ, ㄷ ③ ㄴ, ㄷ ④ ㄴ, ㄹ ⑤ ㄷ, ㄹ

9. 지도는 충청권의 두 지표를 시·군별로 나타낸 것이다. (가), (나)에 해당하는 지표로 옳은 것은? [3점]



- (가) (나)
- ① 인구 밀도 중위 연령
- ② 인구 밀도 제조업 취업자 수 비율
- ③ 중위 연령 인구 밀도
- ④ 중위 연령 제조업 취업자 수 비율
- ⑤ 제조업 취업자 수 비율 중위 연령

10. 사진은 우리나라 해안을 촬영한 것이다. A ~ D 지형에 대한 적절한 탐구 주제만을 <보기>에서 고른 것은? [3점]

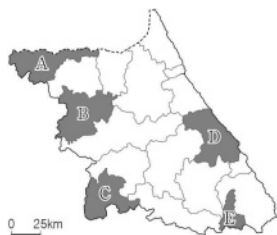
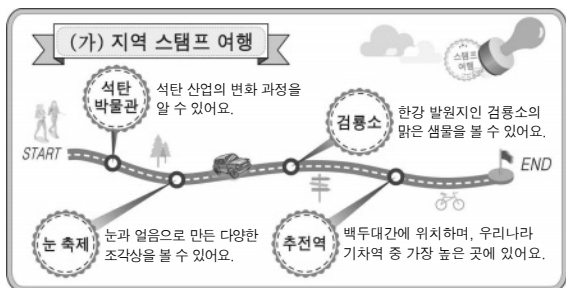


< 보기 >

- ㄱ. A - 하천으로부터 공급된 퇴적물로 인한 호수 면적의 변화
- ㄴ. B - 조류의 퇴적 작용이 갯벌 형성에 미친 영향
- ㄷ. C - 파랑의 침식 작용이 절벽 형성에 미친 영향
- ㄹ. D - 방풍림 조성으로 인한 주민 생활의 변화

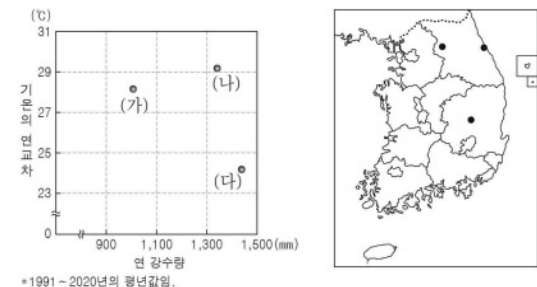
- ① ㄱ, ㄴ ② ㄱ, ㄷ ③ ㄴ, ㄷ ④ ㄴ, ㄹ ⑤ ㄷ, ㄹ

11. 다음 자료의 (가) 지역을 지도의 A~E에서 고른 것은?



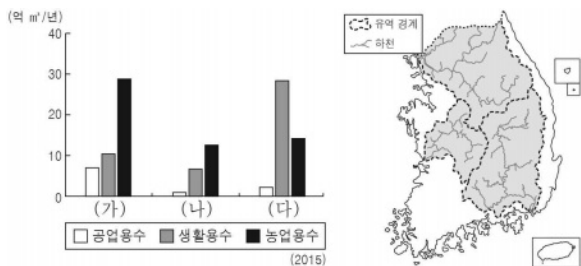
- ① A
- ② B
- ③ C
- ④ D
- ⑤ E

12. 그래프는 지도에 표시된 세 지역의 기후 자료이다. (가)~(다) 지역에 대한 설명으로 옳은 것은? [3점]



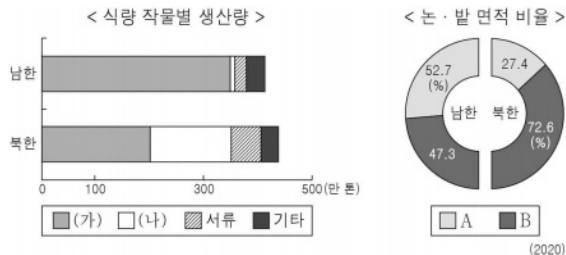
- ① (가)는 (나)보다 고위도에 위치한다.
- ② (가)는 (다)보다 겨울 강수량이 많다.
- ③ (나)는 (다)보다 여름 강수 집중률이 높다.
- ④ (다)는 (가)보다 바다의 영향을 적게 받는다.
- ⑤ (다)는 (나)보다 최한월 평균 기온이 낮다.

13. 그래프는 지도에 표시된 세 하천 유역의 용도별 물 자원 이용량을 나타낸 것이다. (가)~(다) 하천에 대한 설명으로 옳은 것은? [3점]



- ① (가)는 대부분 강원권과 수도권을 흐른다.
- ② (나)는 남해로 유입되는 하천이다.
- ③ (다)의 하구에는 삼각주가 넓게 형성되어 있다.
- ④ (나)는 (다)보다 유역 면적이 넓다.
- ⑤ (가)와 (나)의 하구에는 모두 하굿둑이 건설되어 있다.

14. 그래프는 남북한의 농업 관련 자료를 나타낸 것이다. 이에 대한 옳은 설명만을 <보기>에서 고른 것은? (단, (가), (나)는 각각 쌀, 옥수수 중 하나이며, A, B는 각각 논, 밭 중 하나임.)

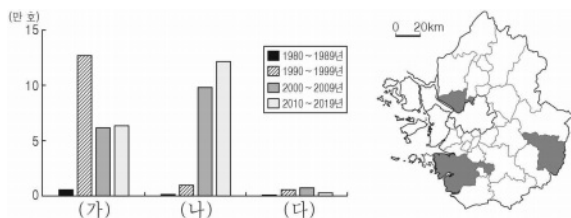


< 보기 >

- ㄱ. (가)는 관북 지방보다 관서 지방의 생산량이 많다.
- ㄴ. 남한은 (가)보다 (나)의 자급률이 높다.
- ㄷ. (가)는 A, (나)는 B에서 주로 재배된다.
- ㄹ. 북한은 남한보다 경지 면적 중 논 면적의 비율이 높다.

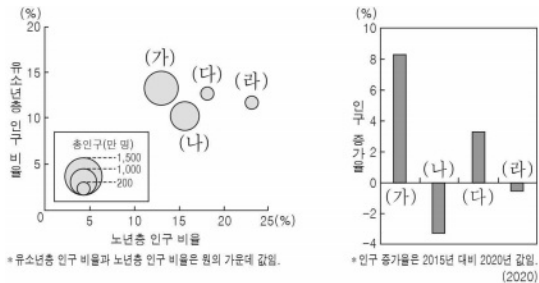
- ① ㄱ, ㄴ    ② ㄱ, ㄷ    ③ ㄴ, ㄷ    ④ ㄴ, ㄹ    ⑤ ㄷ, ㄹ

15. 그래프는 지도에 표시된 세 지역의 기간별 아파트 건축 호수를 나타낸 것이다. (가)~(다) 지역에 대한 설명으로 옳은 것은? [3점]



- ① (나)에는 수도권 1기 신도시가 위치해 있다.
- ② (가)는 (나)보다 제조업 종사자 비율이 높다.
- ③ (가)는 (다)보다 서울로의 통근·통학 인구 비율이 높다.
- ④ (나)는 (다)보다 1차 산업 종사자 비율이 높다.
- ⑤ (다)는 (가)보다 인구 밀도가 높다.

16. 그래프는 네 지역의 인구 특성을 나타낸 것이다. 이에 대한 옳은 설명만을 <보기>에서 고른 것은? (단, (가)~(라)는 각각 경기, 서울, 전남, 충남 중 하나임.) [3점]



< 보기 >

- ㄱ. (가)는 서울, (다)는 전남이다.
- ㄴ. (가)는 (라)보다 노령화 지수가 높다.
- ㄷ. (다)는 (라)보다 청장년층 인구 비율이 높다.
- ㄹ. 2015년 대비 2020년에 인구가 가장 많이 감소한 지역은 서울이다.

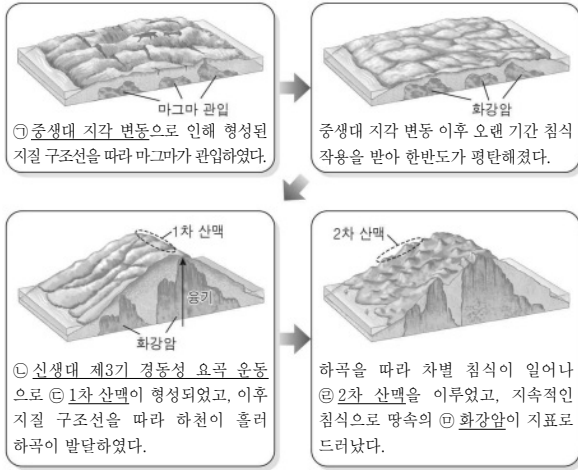
- ① ㄱ, ㄴ    ② ㄱ, ㄷ    ③ ㄴ, ㄷ    ④ ㄴ, ㄹ    ⑤ ㄷ, ㄹ



# 4 (한국지리)

# 사회탐구 영역

17. 다음 자료는 우리나라 산지의 형성 과정을 모식적으로 나타낸 것이다. ㉠ ~ ㉣에 대한 옳은 설명만을 <보기>에서 고른 것은? [3점]



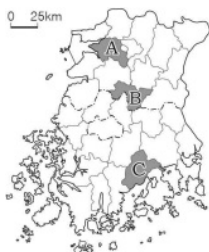
< 보 기 >

- ㄱ. ㉠에 의해 한국 방향의 산맥이 형성되었다.
- ㄴ. ㉡은 고위 평탄면과 하안 단구 형성에 영향을 주었다.
- ㄷ. ㉢은 ㉡보다 산줄기의 연속성이 뚜렷하다.
- ㄹ. ㉢이 산 정상부를 이루는 경우 주로 돌산의 경관을 보인다.

- ① ㄱ, ㄴ    ② ㄱ, ㄷ    ③ ㄴ, ㄷ    ④ ㄴ, ㄹ    ⑤ ㄷ, ㄹ

18. 다음 글의 (가), (나) 지역을 지도의 A ~ C에서 고른 것은?

- 『승정원일기』에 따르면 영조가 고추장을 좋아했으며, 특히 조○○ 집안에서 바친 (가)의 고추장 맛이 좋아 이를 즐겨 먹었다고 한다. (가)은/는 이러한 전통을 바탕으로 매년 가을이면 임금님께 고추장을 바치는 행렬을 재현하며 장류 축제를 개최하고, 이곳에서 생산된 고추장을 지리적 표시제에 등록하였다.
- 『신증동국여지승람』에 따르면 예로부터 (나)에서 차나무가 자생하여 그 잎으로 차를 만들어 음용하였는데, 차의 맛과 향이 좋아 조선에서 손꼽혔다고 한다. (나)은/는 현재 국내 최대 녹차 생산지로 이곳에서 생산된 녹차는 지리적 표시제 제1호로 등록되었다.

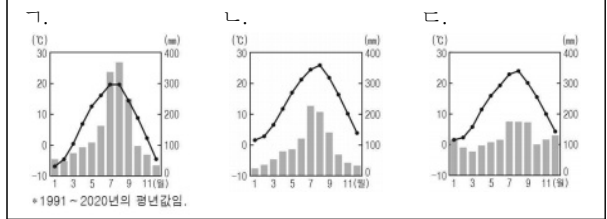


- |   |     |     |
|---|-----|-----|
|   | (가) | (나) |
| ① | A   | B   |
| ② | A   | C   |
| ③ | B   | A   |
| ④ | B   | C   |
| ⑤ | C   | A   |

19. 다음 글의 (가), (나) 지역에 해당하는 기후 그래프를 <보기>에서 고른 것은? [3점]

- (가) 신생대의 화산 활동으로 형성된 경사가 급한 중 모양의 섬이다. 이 섬의 중앙부에는 나리 분지가 있고, 분지 안에는 우테기를 설치한 전통 가옥이 남아 있다.
- (나) 영서 지방과 영동 지방의 명칭은 태백산맥에 위치한 이 지역의 서쪽과 동쪽이라는 데에서 유래하였다. 이 지역 일대에서는 고랭지 농업 및 목축업이 활발하게 이루어지고 있다.

< 보 기 >



- |   |     |     |     |     |     |     |
|---|-----|-----|-----|-----|-----|-----|
|   | (가) | (나) | (가) | (나) | (가) | (나) |
| ① | ㄱ   | ㄴ   | ㄴ   | ㄱ   | ㄴ   | ㄷ   |
| ④ | ㄷ   | ㄱ   | ㄷ   | ㄴ   |     |     |

20. 다음은 지역 개발에 대한 한국지리 수업 장면이다. 발표 내용이 옳은 학생만을 고른 것은?

< 지역 개발 방법 >		
구분	(가)	(나)
추진 방식	주요 상향식 개발	주요 하향식 개발
개발 목표	지역 간 형평성 추구	경제적 효율성 추구
개발 방법	낙후 지역에 우선적 투자	투자 효과가 큰 지역에 집중 투자

(가), (나)에 대해 발표해 볼까요?

갑: (가)는 제1차 국토 종합 개발 계획에서 채택 되었어요.

을: (나)는 역류 효과가 클 경우 지역 격차가 심화되는 단점이 있어요.

병: (가)는 (나)보다 의사 결정 과정에서 지역 주민의 참여도가 높아요.

정: (가)는 성장 거점 (불균형) 개발, (나)는 균형 개발이에요.

- ① 갑, 을    ② 갑, 병    ③ 을, 병    ④ 을, 정    ⑤ 병, 정

※ 확인 사항

답안지의 해당란에 필요한 내용을 정확히 기입(표기)했는지 확인하십시오.

# 사회탐구 영역(경제)

제 4 교시

성명

수험 번호

3

제 [ ] 선택

1

1. 다음 자료에 대한 설명으로 옳은 것은? (단, A와 B는 각각 계획 경제 체제와 시장 경제 체제 중 하나이다.)

■ 경제 체제의 운용

경제 체제는 경제 문제의 해결 방식에 따라 A와 B로 분류되지만, 현실의 대부분 국가에서는 A의 요소와 B의 요소가 혼합된 형태를 채택하고 있다. 예를 들어 갑국에서는 가격 기구에 의해 자원을 배분하는 A를 기반으로 하되 필요한 경우 B의 요소를 일부 도입하고 있다. 반면 을국에서는 정부의 명령과 통제에 따라 자원을 배분하는 B를 토대로 하되 A의 요소를 일부 혼용한다.

- ① A는 개별 경제 주체 간 자유로운 경쟁을 보장한다.
- ② B는 원칙적으로 생산 수단의 사적 소유를 전제로 한다.
- ③ A와 달리 B는 경제 활동에서 경제적 유인을 강조한다.
- ④ 갑국에 비해 을국에서는 정부의 시장 개입 정도가 작다.
- ⑤ 을국과 달리 갑국에서는 빈부 격차의 문제가 발생하지 않는다.

2. 밑줄 친 ㉠ ~ ㉣에 대한 설명으로 옳은 것은? [3점]

○ ㉠ 〇〇시(市)는 공공 기관에 방문하는 주민을 위해 ㉡ □□ 제약회사로부터 손소독제를 구입하였으며, 소독 및 채운 확인 업무를 담당할 직원을 채용하여 ㉢ 임금을 지급하였다.

○ 식재료와 양념이 함께 구성된 ㉣ 가정식 밀키트를 만들어 판매하는 갑은 가정식 밀키트를 만들기 위해 시장에서 ㉠ 채소를 구입하였고, 가족의 아침 식사를 준비하기 위해 온라인 쇼핑몰에서 ㉡ 과일을 구입하였다.

- ① ㉠은 이윤 극대화를 추구하는 경제 주체이다.
- ② ㉡은 조세를 부과하고 공공재를 공급하는 경제 주체이다.
- ③ ㉢은 생산물 시장에서 이루어지는 활동이다.
- ④ ㉣은 부가 가치를 창출하는 활동이다.
- ⑤ ㉡과 달리 ㉢은 소비 활동이다.

3. 표는 갑국의 국민 경제 지표를 나타낸다. 이에 대한 옳은 분석만을 <보기>에서 고른 것은? (단, 기준 연도는 2019년이며, 물가 수준은 GDP 디플레이터로 측정한다.)

구분	2019년	2020년	2021년
명목 GDP(억 달러)	200	202	200
물가 상승률(전년 대비, %)	1	2	1

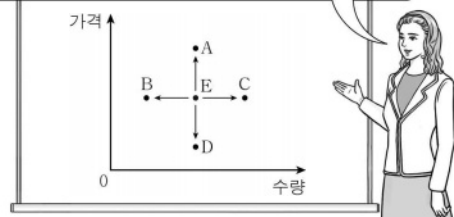
< 보 기 >

- ㄱ. 2020년 경제 성장률은 양(+)의 값을 가진다.
- ㄴ. 2020년에는 실질 GDP보다 명목 GDP가 크다.
- ㄷ. 실질 GDP는 2021년이 가장 크다.
- ㄹ. GDP 디플레이터는 2019년이 가장 작다.

- ① ㄱ, ㄴ    ② ㄱ, ㄷ    ③ ㄴ, ㄷ    ④ ㄴ, ㄹ    ⑤ ㄷ, ㄹ

4. 교사의 질문에 대한 학생의 답변으로 옳은 것은? [3점]

그림은 수요와 공급 법칙을 따르며 정상재인 X재의 균형점 이동을 나타냅니다. 현재 균형점 E가 새로운 균형점 A ~ D로 이동하는 요인을 제시해 볼까요?



- ① 공급자 수 증가와 보완재 가격 하락은 A로의 이동 요인입니다.
- ② 공급자 수 감소와 소비자의 소득 증가는 B로의 이동 요인입니다.
- ③ 생산 기술의 향상과 소비에 대한 조세 부과는 C로의 이동 요인입니다.
- ④ 생산에 대한 조세 부과와 소비자의 선호 감소는 C로의 이동 요인입니다.
- ⑤ 생산에 대한 보조금 지급과 소비자의 소득 감소는 D로의 이동 요인입니다.

5. 다음 자료에 대한 옳은 분석만을 <보기>에서 고른 것은? [3점]

갑은 t년 초에 2억 원을 정기 예금, 주식, 채권에 분산 투자하여 t년 말에 10%의 수익률을 거두었고, t+1년 초에 원금과 수익금 전액을 재투자하면서 금융 자산별 투자 비중을 조정하였다. 표는 연초의 투자 총액 대비 금융 자산별 투자 비중을 나타낸다. 단, 세금이나 수수료 등의 거래 비용은 없다.

구분	t년	t+1년
〇〇 은행 정기 예금	20%	20%
△△ 기업 주식	50%	60%
☆☆ 기업 채권	30%	20%

< 보 기 >

- ㄱ. t+1년 초 〇〇 은행 정기 예금에 투자한 금액은 전부 예금자 보호 제도로 보호된다.
- ㄴ. 시세 차익을 기대할 수 있는 금융 자산에 투자한 금액은 t년 보다 t+1년이 크다.
- ㄷ. 이자 수익을 기대할 수 있는 금융 자산에 대한 투자 비중은 t년과 t+1년이 같다.
- ㄹ. 배당 수익을 기대할 수 있는 금융 자산에 투자한 금액은 t년 보다 t+1년에 2천만 원 증가하였다.

- ① ㄱ, ㄴ    ② ㄱ, ㄷ    ③ ㄴ, ㄷ    ④ ㄴ, ㄹ    ⑤ ㄷ, ㄹ

경제

## 2 (경제)

# 사회탐구 영역

6. 밑줄 친 ㉠, ㉡에 나타난 기본 경제 문제에 대한 설명으로 옳은 것은?



우리 회사의 이번 신제품 출시는 성공적이었습니다. 앞으로 어떤 경영 전략이 필요할까요?

기존 주력 상품이었던 ㉠○○의 생산량을 줄이는 대신 신제품의 생산량을 확대해야 합니다.



신제품 출시 과정에 ㉡팀별로 기여한 정도에 따라 성과급을 지급해야 합니다.



- ① ㉠에는 '무엇을 얼마나 생산할 것인가?'에 관한 경제 문제가 나타난다.
- ② ㉡에는 생산 요소의 선택 및 결합 방법을 결정하는 경제 문제가 나타난다.
- ③ ㉠과 달리 ㉡에 나타난 경제 문제는 효율성을 기준으로 해결한다.
- ④ ㉠과 달리 ㉡에 나타난 경제 문제는 자원의 희소성으로 인해 발생한다.
- ⑤ ㉠, ㉡에는 모두 분배 방식을 결정하는 경제 문제가 나타난다.

7. (가) ~ (다)로 인한 X재 시장의 변화에 대한 분석으로 옳은 것은? (단, X재와 Y재는 모두 수요와 공급 법칙을 따른다.)

- (가) X재의 대체재인 Y재의 생산 기술 향상으로 Y재의 생산비가 절감되었다.
- (나) 건강에 대한 관심이 높아짐에 따라 X재에 대한 소비자의 선호가 증가하였다.
- (다) 무역 분쟁으로 X재의 원자재 공급이 감소함에 따라 X재의 원자재 가격이 상승하였다.

- ① (가)만 발생하는 경우 공급은 감소한다.
- ② (나)만 발생하는 경우 총잉여는 증가한다.
- ③ (다)만 발생하는 경우 균형 거래량은 증가한다.
- ④ (가)와 (다)가 동시에 발생하는 경우 판매 수입은 증가한다.
- ⑤ (나)와 (다)가 동시에 발생하는 경우 균형 가격은 하락한다.

8. 다음 자료에 대한 옳은 분석 및 추론만을 <보기>에서 고른 것은?

표는 3년 만기 고정 금리 정기 예금 A, B에 각각 1,000만 원을 예치할 때 매년 발생하는 이자를 나타낸다. 같은 A에, 옳은 B에 각각 1,000만 원을 예치하였다. 단, A와 B는 각각 단리와 복리 중 하나가 적용되어 연 단위로 이자가 발생하며, 세금이나 수수료 등의 거래 비용은 없다.

구분	t년	t+1년	t+2년
A	㉠	100만 원	㉡
B	90만 원	98만 1천 원	㉢

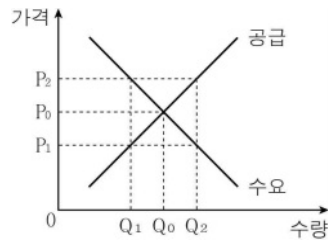
< 보기 >

- ㄱ. 연 이자율은 A보다 B가 낮다.
- ㄴ. ㉢은 t+1년까지의 원리금에 대한 이자이다.
- ㄷ. ㉠보다 ㉢이 크다.
- ㄹ. 매년 물가 상승률이 10%라면, 옳은 1,000만 원을 B에 예치하는 것보다 현금으로 보유하는 것이 유리하다.

- ① ㄱ, ㄴ    ② ㄱ, ㄷ    ③ ㄴ, ㄷ    ④ ㄴ, ㄹ    ⑤ ㄷ, ㄹ

9. 다음 자료에 대한 분석 및 추론으로 옳은 것은? [3점]

그림은 X재 시장을 나타낸다. 갑국 정부는 생산자를 보호하기 위해 ㉠ P<sub>2</sub> 미만의 가격으로 X재를 거래하지 못하도록 하는 가격 규제를 시행하고 있다. 그러나 여러 경제 전문가가 가격 규제로 인한 문제를 지적함에 따라 ㉡ 가격 규제를 유지한 채 X재 소비에 대해 단위당 일정액의 보조금을 지급하는 정책을 시행하고자 한다.



- ① ㉠은 가격 상한제에 해당한다.
- ② ㉠ 시행으로 인해 소비자 잉여는 증가한다.
- ③ ㉠ 시행으로 인해 Q<sub>1</sub>Q<sub>2</sub>의 초과 수요가 발생한다.
- ④ 보조금을 P<sub>0</sub>P<sub>2</sub>로 하여 ㉡을 시행하더라도 거래되는 가격은 변함이 없다.
- ⑤ 보조금을 P<sub>1</sub>P<sub>2</sub>로 하여 ㉡을 시행한다면, 초과 공급이 발생한다.

10. 다음 자료에 대한 옳은 분석만을 <보기>에서 고른 것은? [3점]

표는 생산 측면의 외부 효과가 나타난 X재 시장의 가격 수준별 공급량과 수요량을 나타내며, ㉠과 ㉡은 각각 사적 비용만을 반영한 공급량과 사회적 비용을 반영한 공급량 중 하나이다. 단, X재의 수요와 공급 곡선은 모두 직선이다.

(단위: 개)

구분	300원	400원	500원	600원	700원
㉠	40	50	60	70	80
㉡	60	70	80	90	100
수요량	80	70	60	50	40

< 보기 >

- ㄱ. X재 시장에 나타난 외부 효과가 외부 불경제라면, ㉠은 '사회적 비용을 반영한 공급량'이다.
- ㄴ. ㉠이 '사적 비용을 반영한 공급량'이라면, 균형 거래량은 120개이다.
- ㄷ. ㉡이 '사적 비용을 반영한 공급량'이라면, 사회적 최적 거래량은 60개이다.
- ㄹ. ㉡이 '사회적 비용을 반영한 공급량'이라면, X재 생산에 대한 조세 부과를 통해 외부 효과를 개선할 수 있다.

- ① ㄱ, ㄴ    ② ㄱ, ㄷ    ③ ㄴ, ㄷ    ④ ㄴ, ㄹ    ⑤ ㄷ, ㄹ

11. 그림은 경제 신문 기사이다. 이에 대한 옳은 설명만을 <보기>에서 고른 것은? [3점]

<p>○○일보</p> <p>갑국 중앙은행은 현재의 경기 침체 극복을 위해 ㉠ 국공채를 대규모 매입하겠다고 밝혔다. 이에 따른 통화량과 이자율의 변화가 예상된다.</p>	<p>□□신문</p> <p>을국 중앙은행은 ㉡ 기준 금리를 대폭 인상하겠다고 발표하였다. 이에 따라 시중 은행의 금리가 인상되어 실물 경제의 변화가 예상된다.</p>
---	--

< 보기 >

- ㄱ. ㉠은 확대 재정 정책에 해당한다.
- ㄴ. ㉠은 갑국의 통화량 증가 요인이다.
- ㄷ. ㉡은 을국의 투자 지출 감소 요인이다.
- ㄹ. 을국 중앙은행은 현재 경기 상황을 경기 침체로 보고 있다.

- ① ㄱ, ㄴ    ② ㄱ, ㄷ    ③ ㄴ, ㄷ    ④ ㄴ, ㄹ    ⑤ ㄷ, ㄹ

12. 다음 자료에 대한 분석으로 옳은 것은?

표는 2021년 갑국의 경상 수지를 나타내며, A에는 지식 재산권 사용료가 포함된다. 2021년에 갑국은 100만 달러의 경상 수지 흑자를 기록하였다. 단, 갑국과 을국의 국제 거래는 달러화를 사용하여 양국 간에만 이루어졌다.

(단위: 만 달러)

상품 수지	A	B	이전 소득 수지
1,000	㉠	-300	-100

- ① 해외 무상 원조액은 A에 포함된다.
- ② 해외 주식 투자액은 B에 포함된다.
- ③ ㉠은 '-600'이다.
- ④ 갑국의 상품 수입액은 상품 수출액보다 크다.
- ⑤ 을국의 경상 거래에 따른 외화 유입액은 외화 유출액보다 작다.

13. 다음 자료에 대한 분석 및 추론으로 옳은 것은?

표는 X재를 독점 생산하는 ○○기업의 생산량에 따른 총수입을 나타낸다. X재 1개를 생산하기 위해서 Y재 1개와 Z재 3개를 원료로 투입해야 하며, Y재와 Z재의 가격은 각각 1만 원으로 동일하다. 단, 생산된 X재는 전량 판매되며, X재의 생산 비용에는 Y재와 Z재 구입 비용 이외에 다른 비용은 없다.

(단위: 만 원)


X재 생산량	1개	2개	3개	4개	5개
총수입	11	20	27	32	35

- ① X재 생산량이 1개씩 증가하더라도 X재 가격은 변함이 없다.
- ② X재 생산량이 1개씩 증가할 때마다 추가로 발생하는 비용은 증가한다.
- ③ 이유는 X재 생산량이 3개일 때보다 5개일 때가 크다.
- ④ Y재 가격이 3만 원으로 상승한다면, 이유는 X재 생산량이 4개일 때보다 3개일 때가 크다.
- ⑤ X재 1개 생산에 필요한 Z재 투입량이 1개로 감소한다면, 이유는 X재 생산량이 4개일 때 가장 크다.

14. 밑줄 친 ㉠, ㉡에 대한 옳은 설명만을 <보기>에서 고른 것은? (단, 갑국과 을국 모두 15세 이상 인구는 변함이 없다.) [3점]

갑국에서는 비경제 활동 인구로 분류되던 ㉠ 공무원 시험 준비생이 대거 시험에 응시하면서, 실업자로 분류되었습니다.

을국에서는 오랫동안 ㉡ 구직 단념자였던 청년들이 시간제 근로에 종사하는 경우가 많아졌습니다.



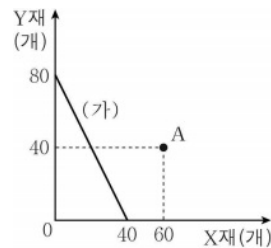
< 보기 >

- ㄱ. ㉠은 갑국의 고용률 하락 요인이다.
- ㄴ. ㉠은 갑국의 경제 활동 참가율 상승 요인이다.
- ㄷ. ㉡은 을국의 실업률 하락 요인이다.
- ㄹ. ㉡은 을국의 비경제 활동 인구 증가 요인이다.

- ① ㄱ, ㄴ    ② ㄱ, ㄷ    ③ ㄴ, ㄷ    ④ ㄴ, ㄹ    ⑤ ㄷ, ㄹ

15. 다음 자료에 대한 옳은 분석만을 <보기>에서 고른 것은?

X재와 Y재만을 생산하는 갑국과 을국은 비교 우위 재화만을 생산하여 양국 모두 이익을 얻는 범위에서 교역하기로 하였다. 이에 따라 갑국은 X재 생산에, 을국은 Y재 생산에 특화하였다. 그림의 (가)는 갑국의 생산 가능 곡선을, A는 을국의 생산 가능 곡선이 지나는 점을 나타낸다. 단, 을국의 생산 가능 곡선은 직선이며, 양국이 보유한 생산 요소의 양은 같고, 생산된 재화는 전량 소비된다. 또한 교역은 거래 비용 없이 양국 간에만 이루어진다.



< 보기 >

- ㄱ. 갑국은 Y재 생산에 절대 우위를 가진다.
- ㄴ. 을국의 X재 최대 생산 가능량은 80개보다 적다.
- ㄷ. 무역 이후 양국의 Y재 소비량 합계는 160개이다.
- ㄹ. 갑국의 X재 1개 소비의 기회비용은 무역 이전보다 무역 이후가 크다.

- ① ㄱ, ㄴ    ② ㄱ, ㄷ    ③ ㄴ, ㄷ    ④ ㄴ, ㄹ    ⑤ ㄷ, ㄹ

## 4 (경제)

# 사회탐구 영역

16. 다음 자료에 대한 분석 및 추론으로 옳은 것은? [3점]

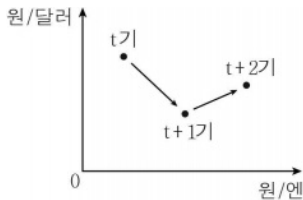
같은 경유를 연료로 사용하는 자동차인 A와 친환경 연료를 사용하는 자동차인 B 중 하나를 구입하려고 한다. A의 가격은 3,000만 원, B의 가격은 4,000만 원이며, 표는 값이 A, B에 대한 만족감을 화폐 단위로 평가한 결과를 나타낸다. 단, 제시된 내용 이외의 조건은 고려하지 않는다.

(단위: 만 원)

구분	A	B
성능에 대한 만족감	4,000	3,800
환경 보전 기여에 대한 만족감	0	700

- ① 편익은 A를 선택할 때보다 B를 선택할 때가 작다.
- ② 명시적 비용은 A를 선택할 때보다 B를 선택할 때가 작다.
- ③ 암묵적 비용은 B를 선택할 때보다 A를 선택할 때가 크다.
- ④ A를 선택할 때의 순편익은 음(-)의 값을 가진다.
- ⑤ B 구입에 대해 600만 원의 정부 보조금이 지급된다면, B를 선택하는 것이 합리적이다.

17. 그림은 외환 시장의 환율 변동 추이를 나타낸다. 이에 대한 분석으로 옳은 것은? (단, 환율 변동 이외의 요인은 고려하지 않는다.)



- ① 원화 대비 달러화 가치는 t기보다 t+1기가 높다.
- ② 한국 시장에서 미국 상품의 가격 경쟁력은 t기보다 t+1기가 낮다.
- ③ 미국에서 원자재를 수입하는 한국 기업의 비용 부담은 t기보다 t+2기가 작다.
- ④ 엔화 예금의 원화 환산 가치는 t기보다 t+1기가 낮다.
- ⑤ 일본으로 자녀를 유학 보낸 한국 부모의 학비 부담은 t+1기보다 t+2기가 작다.

18. 다음 자료에 대한 분석 및 추론으로 옳은 것은? [3점]

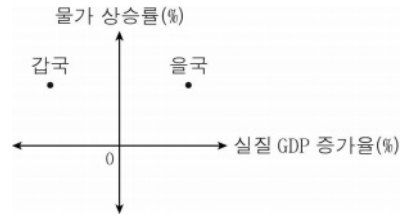
표는 소비자 갑과 을이 X재를 1개씩 추가로 구입할 때마다 최대로 지불하고자 하는 금액(최대 지불 용의 금액)을 나타낸다. 단, X재는 수요와 공급 법칙을 따르며, 갑과 을은 X재 시장의 무수히 많은 소비자 중 일부이다.

구분		1개째	2개째	3개째	4개째	5개째
		최대 지불	700	600	500	400
용의 금액(원)	갑	900	800	700	600	500
	을	900	800	700	600	500

- ① 균형 가격이 500원일 경우 갑의 소비 지출액은 1,800원이다.
- ② 균형 가격이 650원일 경우 을의 소비자 잉여는 50원이다.
- ③ 갑의 소비자 잉여가 100원일 경우 을의 소비량은 4개이다.
- ④ 갑, 을의 소비량 합계가 4개일 경우 균형 가격은 700원보다 높다.
- ⑤ X재 소비에 대해 개당 100원의 조세가 부과된다면, 갑과 을의 최대 지불 용의 금액은 모두 100원씩 증가한다.

19. 다음 자료에 대한 분석으로 옳은 것은?

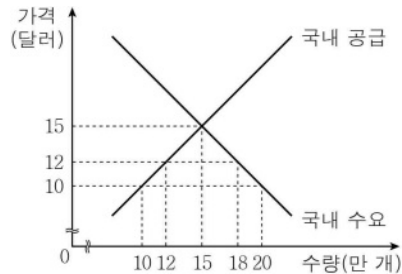
A와 B는 각각 비용 인상 인플레이션과 수요 견인 인플레이션 중 하나이며, 갑국에서는 A가, 을국에서는 B가 발생하였다. 그림은 갑국과 을국의 실질 GDP 증가율과 물가 상승률을 나타낸다.



- ① A는 총공급 감소로 인해 나타난다.
- ② 순수출 증가는 A의 발생 요인이다.
- ③ 수입 원자재 가격 인상은 B의 발생 요인이다.
- ④ A를 억제하기 위한 대책으로 정부 지출 증가를 들 수 있다.
- ⑤ B를 억제하기 위한 대책으로 지급 준비율 인하를 들 수 있다.

20. 다음 자료에 대한 분석으로 옳은 것은? [3점]

그림은 갑국의 X재 시장 상황을 나타낸다.



갑국은 t기에 X재를 국제 가격 10달러에 수입하였다. 그러나 갑국 정부는 국내 산업 보호를 위해 t+1기와 t+2기에 표와 같은 정책을 시행하였다. 단, 갑국에서 생산된 X재는 국내 시장에서 전량 판매되며, 갑국은 국제 가격으로 X재를 무제한 수입할 수 있다.

구분	정책
t+1기	X재에 대해 개당 2달러의 관세를 부과함.
t+2기	관세 부과를 유지하면서 국내의 X재 생산에 대해 개당 2달러의 보조금을 지급함.

- ① t기의 수입량은 6만 개이다.
- ② t+1기의 국내 가격은 15달러이다.
- ③ t+1기의 관세 수입은 20만 달러이다.
- ④ 국내 소비자 잉여는 t+1기보다 t+2기가 크다.
- ⑤ 국내 생산량은 t+2기가 가장 많다.

### ※ 확인 사항

답안지의 해당란에 필요한 내용을 정확히 기입(표기)했는지 확인하시오.

# 사회탐구 영역(동아시아사)

제 4 교시

성명

수험 번호


3

제 [ ] 선택

1

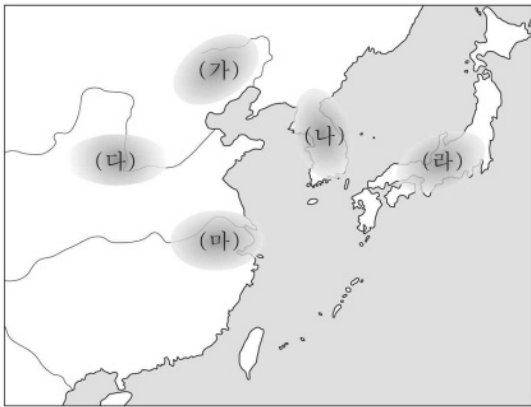
1. 밑줄 친 '이 지역'을 지도에서 옳게 고른 것은?

사진은 이 지역에서 발달한 홍산 문화의 대표적 유물입니다. 옥으로 만든 눈이 인상적인 여신의 얼굴상은 뉴허량 유적에서 출토되었습니다.



▲ 여신의 얼굴상

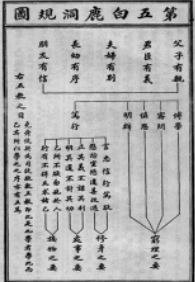
동아시아의 신석기 시대 유물 이야기



- ① (가)    ② (나)    ③ (다)    ④ (라)    ⑤ (마)

2. (가) 유학 사상에 대한 설명으로 옳은 것은? [3점]

자료는 이황이 집필한 『성학십도』 중 제5도인 「백록동규도」이다. 「백록동규도」는 (가) 을/를 집대성한 주희가 백록동 서원의 학생들을 효과적으로 교육하기 위해 제시한 규칙을 이황이 이해하기 쉽게 정리하여 작성한 것이다. 「백록동규도」에는 주희가 강조한 오륜(五倫)과 학문의 방법이 체계적으로 나열되어 있다.



- ① 다이가 개신에 영향을 주었다.  
 ② 오경정의 편찬의 배경이 되었다.  
 ③ 치양지와 지행합일을 강조하였다.  
 ④ 고려 말 신진 사대부의 사상적 기반이 되었다.  
 ⑤ 일본 고유의 정신으로 돌아갈 것을 주장하였다.


3. (가) 국가에 대한 설명으로 옳은 것은?

(가)의 목욕 선우가 죽고 아들 계육이 즉위하니, 그를 노상 선우라 불렀다. 그가 즉위한 지 얼마 되지 않아, 한(漢)의 황제가 종실의 여자를 공주라 하여 선우에게 보내 연지로 삼게 하였다. 이때 환관 중항열에게 공주를 모시게 하였는데, 그가 따르려 하지 않자 억지로 가게 하였다.

- ① 군국제를 실시하였다.  
 ② 남비엣을 멸망시켰다.  
 ③ 분서갱유를 단행하였다.  
 ④ 좌현왕과 우현왕을 두었다.  
 ⑤ 다이호 율령을 반포하였다.

4. 밑줄 친 '이 조약'에 대한 설명으로 옳은 것은? [3점]

이 우표는 페리 함대의 일본 입항 100주년을 기념하여 미국에서 발행한 것이다. 미국은 페리 제독이 이끄는 함대를 파견하여 군사력을 과시하며 일본에 통상을 요구하였다. 이에 굴복한 막부는 이듬해 3월 미국에 최혜국 대우를 인정한 이 조약을 체결하였다.



- ① 일부 영토의 할양을 명시하였다.  
 ② 영사 재판권 조항을 포함하였다.  
 ③ 크리스토포 포교의 자유를 허용하였다.  
 ④ 일본의 주력함 보유 비율을 제한하였다.  
 ⑤ 시모다, 하코다테 등 2개 항구의 개항을 규정하였다.

5. (가) 왕조에 대한 설명으로 옳은 것은?

베이징에 연행사로 다녀온 아버지로부터 들으니, 오삼계가 원난성과 구이저우성을 근거지로 삼아 반란을 일으키자 (가)의 강희제가 이를 진압하기 위해 수만 명의 군사를 보냈다고 한다. 이로 인해 천하가 어지럽다고 하니, 비록 오삼계의 성패는 알 수 없으나 (가)은/는 곧 망할 것이라고 혼자서 생각하였다.

- ① 천계령을 시행하였다.  
 ② 다루가치를 파견하였다.  
 ③ 헤이조쿄를 건설하였다.  
 ④ 슈고가 치안을 담당하였다.  
 ⑤ 남송과 군신 관계를 맺었다.

## 2 (동아시아사)

## 사회탐구 영역

6. (가) 국가에 대한 설명으로 옳은 것은?

[가]의 야율아보기가 진군하여 상경성을 포위하니 발해왕 대인선이 싸움에서 패하여 항복을 청하였다. 야율아보기가 이를 받아들이고 먼저 신하를 성으로 들여보내 병장기를 수색하게 하였는데, 발해의 병사가 그 신하를 살해하였다. 대인선이 다시 반기를 들자 [가]의 군대가 공격하여 상경성을 함락하였다. ...**(중략)**... 야율아보기가 발해를 고쳐 동단국이라 하고, 상경성을 고쳐 천복성이라 하였다.

- ① 건당사를 파견하였다.
- ② 맹안·모극제를 시행하였다.
- ③ 송과 전연의 맹약을 체결하였다.
- ④ 남북조를 통일하고 대운하를 건설하였다.
- ⑤ 베트남 북부에 안남 도호부를 설치하였다.


7. 자료에 나타난 전쟁의 결과로 옳은 것은? [3점]

7월 25일, 풍도 해전이 발발하였다. 청군을 태운 수송선 고승호가 나니와호의 공격을 받아 침몰하였다. ...**(중략)**... 9월 17일, 황해 해전이 벌어졌다. 수 시간 동안 지속된 전투에서 정여창 제독이 이끄는 북양 함대는 이토 해군 중장이 지휘하는 함대에 패퇴하였다.


- ① 카이로 선언이 발표되었다.
- ② 파리 강화 회의가 개최되었다.
- ③ 시모노세키 조약이 체결되었다.
- ④ 남베트남 민족 해방 전선이 결성되었다.
- ⑤ 도요토미 히데요시가 센고쿠 시대를 통일하였다.

8. (가) 제국의 대외 활동으로 옳은 것은? [3점]

**온라인 동아시아사 여행**



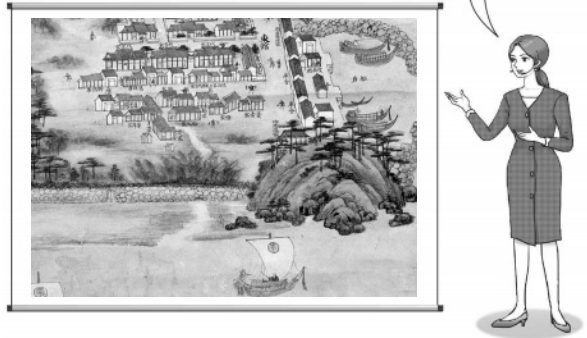
이곳은 하이퉁의 바익당강 유적지에 있는 전홍다오 동상 앞입니다. 전홍다오는 3차례에 걸친 [가]의 침략에 맞서 대월을 지켜낸 영웅으로 베트남 사람들의 존경을 받고 있습니다.



- ① 토번에 화번공주를 보냈다.
- ② 서역으로 장건을 파견하였다.
- ③ 왜의 노국왕에게 금인을 하사하였다.
- ④ 고려와 연합하여 일본 원정을 단행하였다.
- ⑤ 실패를 발급하여 대외 무역을 통제하였다.

9. 밑줄 친 '이 시기' 동아시아 각국의 경제 상황에 대한 설명으로 옳은 것만을 <보기>에서 고른 것은?

이것은 「왜관도」의 일부입니다. 그림에는 기유약조가 체결된 지 약 70년 후에 설치된 초량 왜관에서 생활하는 일본인의 모습 등이 표현되어 있습니다. 초량 왜관에서 교역이 이루어지던 이 시기에 조선은 일본으로부터 구리, 유황 등을 수입하기도 하였습니다.



< 보 기 >

- ㄱ. 한국 - 청해진이 설치되었다.
- ㄴ. 중국 - 균전제가 시행되었다.
- ㄷ. 중국 - 산시 상인과 휘저우 상인이 활약하였다.
- ㄹ. 일본 - 조카마치가 발달하였다.

- ① ㄱ, ㄴ    ② ㄱ, ㄷ    ③ ㄴ, ㄷ    ④ ㄴ, ㄹ    ⑤ ㄷ, ㄹ

10. 밑줄 친 '이 혁명'이 전개된 시기 동아시아에서 있었던 사실로 옳은 것은? [3점]

다큐멘터리 3부작  
격동하는 중국 현대사의 중심지

### 텐안먼

1부 중화 인민 공화국의 수립이 선포되다

2부 수백만 명의 홍위병이 집결한 군중 집회가 열리다



정치적 위기를 느낀 마오쩌둥은 자본주의 사상과 문화에 대한 투쟁을 주장하였다. 이에 동조한 홍위병들이 텐안먼 광장에 집결하면서 본격화된 이 혁명은 약 10년간 지속되며 중국을 혼란에 빠뜨렸다.

3부 민주화를 요구하는 대규모의 시위가 발생하다

- ① 한국 - 4·19 혁명이 일어났다.
- ② 중국 - 대약진 운동이 시작되었다.
- ③ 중국 - 중·일 공동 성명이 발표되었다.
- ④ 일본 - 비자민당 연립 내각이 출범하였다.
- ⑤ 베트남 - 도이미이 정책이 채택되었다.





## 4 (동아시아사)

## 사회탐구 영역

16. (가) 왕조에서 볼 수 있는 모습으로 가장 적절한 것은? [3점]

정화는 함대를 이끌고 여러 나라를 두루 방문하여 천자의 조서를 발표하고 하사품을 내렸으며, 그곳의 군장이 따르지 않으면 무력으로 위협하였다. 영락 5년 9월 정화의 일행이 귀국하였는데, 여러 나라의 사신들이 정화를 따라와 **(가)**의 황제를 알현하였다. 이에 황제는 크게 기뻐하고 등급을 달리하여 작위와 상을 하사하였다.

- ① 만국 공법을 읽는 지식인
- ② 감합을 맞추어 보는 판리
- ③ 한성순보를 인쇄하는 기술자
- ④ 테라코야에서 공부하는 학생
- ⑤ 입당구법순례행기를 집필하는 승려

17. (가) 운동에 대한 설명으로 옳은 것은?

**동아시아사 인물 카드**



- 이름: ○○○
- 생몰 연도: 1823년 ~ 1901년
- 주요 활동

태평천국 운동을 진압하면서 서양 무기의 우수성을 실감한 그는 중국번 등과 함께 서양의 과학 기술을 수용하여 자강을 이루려는 **(가)**을/를 추진하였다. 이 과정에서 그의 주도로 근대적 군수 공장인 금릉 기기국이 설립되었다.

- ① 공화정 수립을 목표로 하였다.
- ② 중체서용에 입각하여 추진되었다.
- ③ 일본의 21개조 요구 철회를 주장하였다.
- ④ 월슨이 제기한 민족 자결주의의 영향을 받았다.
- ⑤ 일본을 비롯한 8개국 연합군에 의해 진압되었다.



18. (가), (나) 시기 사이에 있었던 사실로 옳은 것은? [3점]

(가)	(나)
<b>동아시아사 신문</b>	<b>동아시아사 신문</b>
이틀 전 발발한 만주 사변의 국면이 확대될 것으로 보인다. 일본군은 어제 라오닝성의 봉천을 점령하였으며, 오늘 아침 지린성 창춘 인근에서 중국군과 교전을 벌이고 있다고 한다.	어젯밤 베이징 교외에 위치한 루거우차오 부근에서 일본군과 중국군이 충돌한 사건이 벌어졌다. 오늘 새벽 양국 군대 사이에서 전투가 시작되었으며, 오전까지도 격전 중이라고 한다.

- ① 일본이 국제 연맹을 탈퇴하였다.
- ② 일·화 평화 조약이 체결되었다.
- ③ 영국이 거문도를 불법 점령하였다.
- ④ 대한 제국이 외교권을 상실하였다.
- ⑤ 러시아가 주도한 삼국 간섭이 일어났다.

19. 밑줄 친 '이 막부' 시기 동아시아 문화에 대한 설명으로 옳은 것은?

**우키요에로 알아보는 가부키**

이 작품은 가부키 극장인 나카무라자의 내부를 그린 것이다. 나카무라자는 도쿠가와 이에미쓰 쇼군 시기에 설립된 것으로 이 막부가 공인한 3대 가부키 극장 중 하나이다.

이 작품은 많은 사람들로 붐비고 있는 나카무라자 앞 거리를 표현한 것이다. 이 막부 시기 성장한 조닌들은 경제적 여유를 바탕으로 가부키를 관람하는 등 여가 생활을 즐겼다.

- ① 한국 - 삼국사기가 저술되었다.
- ② 한국 - 한글 소설이 유행하였다.
- ③ 중국 - 성리대전이 완성되었다.
- ④ 중국 - 현장이 대당서역기를 남겼다.
- ⑤ 일본 - 감진이 계율을 전파하였다.

20. 밑줄 친 '이 전쟁'에 대한 설명으로 옳은 것은? [3점]

이것은 이 전쟁에 참전한 한국군에 보급된 전투 식량의 모형입니다. 통킹만 사건을 빌미로 미국은 이 전쟁에 직접 개입하였고, 미국의 요청에 따라 한국도 파병하였습니다. 낮은 환경과 음식으로 어려움을 겪던 한국군의 요구로 김치, 콩치조림 등으로 구성된 한국형 전투 식량이 개발되었습니다.



- ① 유엔군의 참전으로 전세에 변화가 생겼다.
- ② 파리 평화 협정으로 미군이 철수하게 되었다.
- ③ 제1차 사이공 조약이 체결되는 결과를 가져왔다.
- ④ 일본이 뤬순의 조차권을 확보하는 배경이 되었다.
- ⑤ 중국 국민당 정부가 타이완으로 이동하는 계기가 되었다.

**※ 확인 사항**

답안지의 해당란에 필요한 내용을 정확히 기입(표기)했는지 확인하십시오.

# 사회탐구 영역(사회·문화)

제 4 교시

성명

수험 번호

3

제 [ ] 선택

1

1. 밑줄 친 ㉠~㉣과 같은 현상의 일반적인 특징에 대한 설명으로 옳은 것은?

온실가스 감축이 요구됨에 따라 산림의 역할이 더욱 주목받고 있다. ㉠ 나무가 광합성 작용을 통해 대기 중 이산화 탄소를 흡수하기 때문이다. 그런데 오래된 나무는 이산화 탄소 흡수 능력이 떨어진다는 연구 결과가 있어 일부 전문가들은 ㉡ 일정 주기로 벌목을 하고 나무를 새로 심는 정책을 주장한다. 그러나 ㉢ 숲은 토양, 미생물, 동식물로 연결된 복잡한 생태계를 이루고 있는데 벌목이 이러한 생태계를 해칠 수 있다며 반대하는 입장도 있다.

- ① ㉠과 같은 현상은 개연성의 원리가 작용한다.
- ② ㉡과 같은 현상은 불가지적이다.
- ③ ㉢과 같은 현상은 상위 규범을 따른다.
- ④ ㉠과 같은 현상은 ㉡과 같은 현상에 비해 인과 관계가 명확하다.
- ⑤ ㉡과 같은 현상은 ㉢과 같은 현상과 달리 보편성을 지닌다.

2. 표는 질문에 따라 우리나라 사회 보장 제도의 유형을 구분한 것이다. 이에 대한 설명으로 옳은 것은? (단, A~C는 각각 사회 보험, 공공 부조, 사회 서비스 중 하나이다.)

구분	A	B	C
강제 가입의 원칙이 적용되는가?	㉠	㉡	㉢
(가)	㉣	㉠	㉢

\* ㉠과 ㉢은 각각 '예'와 '아니요' 중 하나임.

- ① ㉠은 '예', ㉢은 '아니요'이다.
- ② C는 선별적 복지의 이념을 바탕으로 한다.
- ③ 기초 연금 제도가 A에 해당한다면, B는 사회 서비스이다.
- ④ B가 공공 부조라면, A는 금전적 지원을 원칙으로 한다.
- ⑤ (가)에 '국가와 지방 자치 단체가 비용을 전액 부담하는가?'가 들어갈 수 있다.

3. (가), (나)에 나타난 문화 변동에 대한 설명으로 옳은 것은?

(가) A국은 자석이 철을 끌어 당기는 원리를 이용하여 최초로 나침반을 만들었다. 태양과 별의 위치를 기준으로 항해를 하던 B국 사람들은 A국 상인들을 통해 나침반을 접하고 이를 원거리 항해에 활용하게 되었다.

(나) 고유한 토착 신앙을 지니고 있던 C국 사람들은 D국의 식민 지배를 받으면서 D국의 종교로 개종할 것을 강요당했다. 그러자 C국 사람들은 D국의 종교 교리와 의식에 자신들의 토착 신앙 요소를 결합시킨 새로운 신앙 체계를 만들었다.

- ① A국에서는 외계적 요인에 의한 문화 변동이 나타났다.
- ② B국에서는 자국 전파에 의한 문화 변동이 나타났다.
- ③ C국에서는 문화 융합이 나타났다.
- ④ (가)에서는 (나)에서와 달리 강제적 문화 접변이 나타났다.
- ⑤ (나)에서는 (가)에서와 달리 직접 전파가 나타났다.

4. (가), (나)에 나타난 사회·문화 현상을 보는 관점에 대한 설명으로 옳은 것은? [3점]

(가) 대중 매체는 대중에게 오락을 제공하여 스트레스를 낮추고 사회적 긴장을 완화시킴으로써 사회 집단 간 갈등을 방지하는 안전장치로 작용한다. 또한 대중 매체는 사회 전반적으로 합의된 규범과 가치를 내면화시킴으로써 사회 유지 및 통합에 긍정적으로 기여한다.

(나) 대중 매체는 정치적·경제적으로 우위에 있는 집단의 입장을 대변하고, 그렇지 못한 집단에 대한 부정적 편견을 강화한다. 이처럼 대중 매체는 편향된 사고를 내면화시켜 사람들이 기존의 질서를 무비판적으로 따르게 함으로써 사회 불평등을 정당화하는 도구로 기능한다.

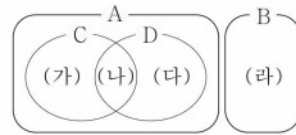
- ① (가)의 관점은 개인들의 주관적 상황 정의에 초점을 맞춘다.
- ② (나)의 관점은 사회를 유기체에 비유하여 설명한다.
- ③ (가)의 관점은 (나)의 관점과 달리 거시적 관점에서 사회·문화 현상을 설명한다.
- ④ (가)의 관점은 (나)의 관점과 달리 사회 제도가 기득권층에 유리하게 작용한다고 본다.
- ⑤ (나)의 관점은 (가)의 관점과 달리 대립과 갈등을 사회의 본질적 속성으로 본다.

5. 다음 자료에 대한 설명으로 옳은 것은? (단, A~D는 각각 공동 사회, 이익 사회, 공식 조직, 자발적 결사체 중 하나이다.) [3점]

○ 학생 갑의 활동지

[문제] 그림은 사회 집단 및 사회 조직의 유형을 나타낸다. 밑줄 친 5가지 사례를 (가)~(라)에 맞게 기입하시오.

저는 △△ 고등학교 졸업 후 □□ 기업에서 일하고 있습니다. 어렸을 때부터 여가 시간에 영화 보는 것을 좋아해 직장에서도 사내 영화 동호회에서 활동하고 있습니다. 또한 가족과 함께 시민 단체에서 꾸준히 자원 봉사를 하고 있습니다.



구분	답안
(가)	㉠
(나)	㉢
(다)	사내 영화 동호회
(라)	가족

○ 갑의 답안에 대한 교사의 평가: 5가지 사례 모두 맞게 기입함.

- ① A는 공동 사회, C는 이익 사회이다.
- ② A는 B와 달리 구성원 간 전인격적 관계가 지배적이다.
- ③ B는 C에 비해 공식적 규범에 의한 통제가 중시된다.
- ④ C와 D 모두에 해당하는 사례로 노동조합을 들 수 있다.
- ⑤ ㉠은 '□□ 기업, 시민 단체', ㉢은 '△△ 고등학교'이다.

## 2 (사회·문화)

# 사회탐구 영역

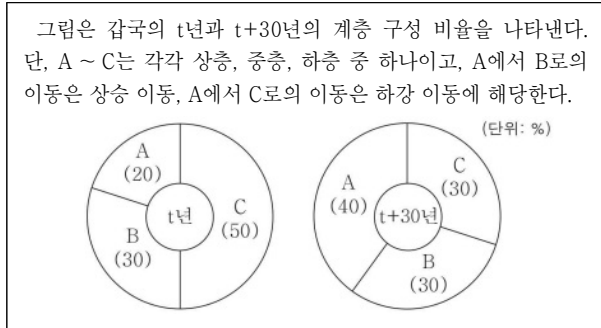
6. 밑줄 친 ㉠ ~ ㉣에 대한 옳은 설명만을 <보기>에서 고른 것은?

< 소설 『○○○』 줄거리 >  
 평범한 가문의 ㉠ 둘째 아들로 태어난 갑은 ㉡ 법과 대학 졸업 후에 ㉢ 지방 법원의 판사가 되었다. 그는 신분 상승을 원하는 현실주의자로서 부유한 사업가의 딸인 을과 결혼했지만, 생활 방식의 차이로 인해 ㉣ 아내와 자주 ㉤ 말다툼을 하였다. 이후 갑은 권력층과 인맥을 쌓아 결국 ㉥ 고위직으로 승진을 하지만 갑작스러운 죽음을 맞는다. 갑의 장례식에서 을은 유족 연금을 더 많이 받을 방법만 궁리하며 소설이 끝난다.

< 보 기 >  
 가. ㉠은 귀속 지위, ㉡은 성취 지위이다.  
 나. ㉢은 ㉣과 달리 공식적 사회화 기관이다.  
 다. ㉣은 갑이 경험한 역할 갈등이다.  
 라. ㉤은 갑의 역할에 대한 보상이다.

- ① 가, 나    ② 가, 다    ③ 나, 다    ④ 나, 라    ⑤ 다, 라

7. 다음 자료에 대한 분석 및 추론으로 옳은 것은? [3점]



- ① t년에 상층 비율은 중층 비율의 2.5배이다.  
 ② 하층 비율 대비 중층 비율은 t년이 t+30년보다 크다.  
 ③ t년의 상층 중에서 t+30년에 하강 이동을 한 경우는 없다.  
 ④ t년에는 t+30년과 달리 폐쇄적 계층 구조가 나타난다.  
 ⑤ t+30년의 계층 구조가 t년의 계층 구조보다 사회 통합에 유리하다.

8. 일탈 행동을 보는 갑, 을의 이론적 관점에 대한 설명으로 옳은 것은?

사회자: 일부 청소년들이 비행을 저지르는 이유는 무엇일까요?  
 갑: 비행을 일삼는 친구들과 어울리면서 각종 비행 방법을 습득하고 비행을 정당화하는 가치관을 학습하기 때문입니다.  
 을: 사소한 잘못을 한 청소년을 주변 사람들이 포용하지 못하고 문제아로 단정지음으로써 청소년 스스로도 자신을 일탈자로 인식하기 때문에 비행을 반복해서 저지르게 됩니다.

- ① 갑의 관점은 차별적인 제제가 일탈 행동의 원인이라고 본다.  
 ② 을의 관점은 2차적 일탈의 발생 과정을 설명하는 데 초점을 둔다.  
 ③ 갑의 관점은 을의 관점과 달리 일탈 행동을 타인과의 상호 작용의 결과로 본다.  
 ④ 을의 관점은 갑의 관점과 달리 문화적 목표와 제도적 수단 간의 괴리를 일탈 행동의 원인으로 본다.  
 ⑤ 갑, 을의 관점은 모두 일탈을 규정하는 객관적 기준이 없다고 본다.

9. 밑줄 친 ㉠ ~ ㉣에 대한 옳은 설명만을 <보기>에서 고른 것은?

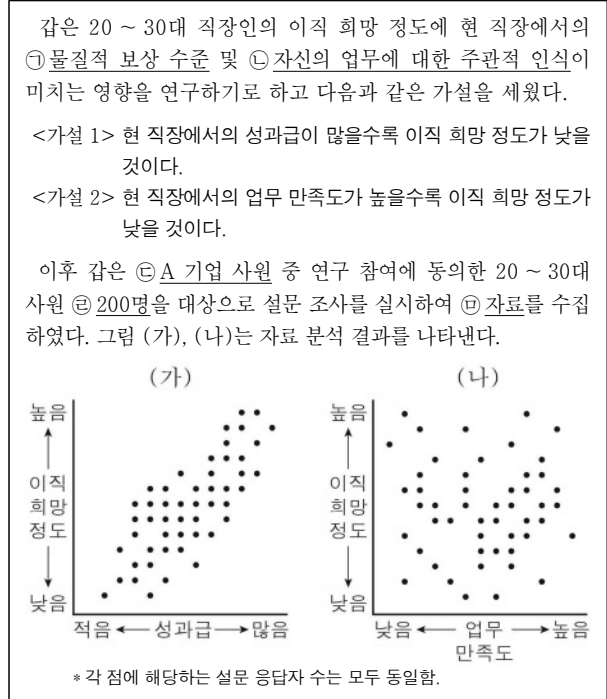
팬데믹으로 인한 비대면 생활의 장기화와 ㉠ 확장 현실 기술의 발전 등이 ㉡ 대중문화에 영향을 미치고 있다. 예전에 사람들은 ㉢ 공연을 보기 위해 직접 공연장에 가는 것을 당연시하였지만, 최근에는 비대면 라이브 공연을 즐기는 경우가 많아지고 있다. 또한 광고나 쇼핑, 기업의 회의, 학교 수업 등도 가상 공간에서 이루어지는 사례가 늘고 있다. 이처럼 ㉣ 신기술의 확산은 여가 생활, 경제 활동, 교육 등 다양한 분야에 변화를 일으키고 있다.

\* 확장 현실 기술: 현실과 비슷한 가상 공간에서 시간의 제약 없이 소통하고 생활할 수 있게 하는 기술로, 실감 기술이라고도 함.

< 보 기 >  
 가. ㉠은 비물질문화에 해당한다.  
 나. ㉡에서의 '문화'는 넓은 의미의 문화이다.  
 다. ㉢에는 문화의 축적성이 부각되어 있다.  
 라. ㉣에는 문화의 전체성이 부각되어 있다.

- ① 가, 나    ② 가, 다    ③ 나, 다    ④ 나, 라    ⑤ 다, 라

10. 다음 연구에 대한 옳은 설명만을 <보기>에서 있는 대로 고른 것은? [3점]



< 보 기 >  
 가. ㉠, ㉡은 모두 독립 변수이다.  
 나. ㉢은 모집단, ㉣은 표본이다.  
 다. ㉤은 1차 자료이다.  
 라. (가)는 <가설 1>을 수용하는 근거가, (나)는 <가설 2>를 기각하는 근거가 된다.

- ① 가, 나    ② 가, 다    ③ 나, 라  
 ④ 가, 다, 라    ⑤ 나, 다, 라

11. 갑, 을이 활용한 사회·문화 현상의 연구 방법의 일반적인 특징에 대한 설명으로 옳은 것은?

저는 고등학생의 행복 요인을 파악하기 위해 자아 존중감, 학교생활 만족도, 가족 관계 만족도 등이 행복감과 통계적으로 유의미한 상관성이 있는지 분석해 보았습니다. 갑

저는 고등학생들과 면담을 실시하여 각자의 행복과 불행의 경험에 대한 이야기를 듣고, 이를 바탕으로 이들이 행복을 어떠한 의미로 인식하는지 해석해 보았습니다. 을

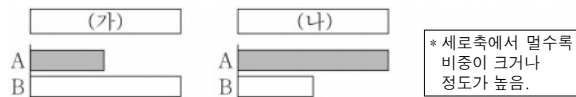
- ① 갑의 방법은 연구 대상자에 대한 감정 이입적 이해를 중시한다.
- ② 을의 방법은 변수들 간 관계에 대한 법칙 발견을 목적으로 한다.
- ③ 갑의 방법은 을의 방법과 달리 경험적 자료를 토대로 사회·문화 현상을 연구한다.
- ④ 을의 방법은 갑의 방법과 달리 개념의 조작적 정의를 필요로 한다.
- ⑤ 갑의 방법은 방법론적 일원론을, 을의 방법은 방법론적 이원론을 전제로 한다.

12. 다음에 대한 설명으로 옳은 것은? (단, A와 B는 각각 절대적 빈곤, 상대적 빈곤 중 하나이다.) [3점]

A는 최소한의 생활 유지에 필요한 자원이나 소득이 부족한 상태를, B는 사회 구성원 대다수가 누리는 일반적 생활 수준을 영위하는 데 필요한 자원이나 소득이 부족한 상태를 의미한다. 갑국에서는 가구 소득이 최저 생계비 미만이면 A 가구로, 중위 소득의 50% 미만이면 B 가구로 분류하며 모든 가구의 구성원 수는 동일하다. t년에 갑국의 전체 가구 중 B 가구에만 해당하는 가구의 비율은 5%이고, A 가구나 B 가구 어디에도 해당하지 않는 가구의 비율은 85%이다.

- ① A는 소득 수준이 높은 국가에서는 나타나지 않는다.
- ② A는 B와 달리 상대적 박탈감의 발생 원인이 될 수 있다.
- ③ 갑국에서 B는 A와 달리 객관화된 기준에 의해 규정된다.
- ④ t년에 갑국에서는 최저 생계비의 2배가 중위 소득보다 크다.
- ⑤ t년에 갑국의 전체 가구 중 A 가구와 B 가구 모두에 해당하는 가구의 비율은 10%이다.

13. 그림은 기준 (가), (나)에 따라 A, B의 일반적인 특징을 비교한 것이다. 이에 대한 설명으로 옳은 것은? (단, A와 B는 각각 산업 사회, 정보 사회 중 하나이다.)



- ① A가 정보 사회라면, (가)에는 '전자 상거래의 비중'이 들어갈 수 있다.
- ② B가 산업 사회라면, (나)에는 '사회적 관계를 맺는 공간적 제약의 정도'가 들어갈 수 있다.
- ③ (가)가 '사회의 다원화 정도'라면, A는 B에 비해 정보 생산자와 소비자 간 구분이 명확하다.
- ④ (나)가 '다품종 소량 생산 방식의 비중'이라면, B는 A에 비해 사회 변동 속도가 빠르다.
- ⑤ (가)가 '2차 산업의 비중'이라면, (나)에는 '가정과 일터의 분리 정도'가 들어갈 수 있다.

14. (가), (나)에 나타난 문화 이해의 관점에 대한 옳은 설명만을 <보기>에서 고른 것은? [3점]

- (가) 쌀을 많이 먹는다는 점에서 스페인과 우리나라의 음식 문화에는 유사성이 있다. 하지만 우리나라에서는 생쌀을 물에 불려서 밥을 짓는 반면, 스페인에서는 생쌀을 볶아서 익힌다는 점에서 조리 방식의 차이가 있다.
- (나) 늦은 시간에 저녁을 먹는 스페인의 식사 문화는 '시에스타'라는 낮잠 문화와 관련이 있다. 스페인에는 태양의 열기가 뜨거운 한낮에 잠을 자며 쉬는 풍습이 있어, 많은 상점이나 공공서가 오후에 긴 휴게 시간을 가진 후 업무를 재개한다. 이러한 근무 방식이 식사 문화에도 영향을 미친 것이다.

<보기>

- ㄱ. (가)의 관점은 자문화를 객관적으로 이해하는 데 기여한다.
- ㄴ. (나)의 관점은 문화 요소 간의 유기적 연관성을 강조한다.
- ㄷ. (가)의 관점은 (나)의 관점과 달리 문화 간의 우열을 평가할 수 있다고 본다.
- ㄹ. (나)의 관점은 (가)의 관점과 달리 문화의 보편성과 특수성을 파악하고자 한다.

- ① ㄱ, ㄴ    ② ㄱ, ㄷ    ③ ㄴ, ㄷ    ④ ㄴ, ㄹ    ⑤ ㄷ, ㄹ

15. 다음 자료에 대한 분석으로 옳은 것은? [3점]

표는 갑국의 인구 관련 통계를 나타낸다. 갑국 전체 인구는 t+30년이 t년의 2배이다. 또한 t+30년에 전체 인구 중 0~14세 인구가 차지하는 비율은 t년에 전체 인구 중 15~64세 인구가 차지하는 비율의 1/2이다.

구분	t년	t+30년
총부양비	100	㉠
노령화 지수	25	140

\* 총부양비 = [(0~14세 인구 + 65세 이상 인구) / 15~64세 인구] × 100  
 \*\* 유소년 부양비 = (0~14세 인구 / 15~64세 인구) × 100  
 \*\*\* 노년 부양비 = (65세 이상 인구 / 15~64세 인구) × 100  
 \*\*\*\* 노령화 지수 = (65세 이상 인구 / 0~14세 인구) × 100

- ① ㉠은 '125'이다.
- ② 전체 인구 중 15~64세 인구의 비율은 t년이 t+30년보다 작다.
- ③ 유소년 부양비는 t+30년이 t년보다 크다.
- ④ 노년 부양비는 t+30년이 t년의 4배 이상이다.
- ⑤ t년 대비 t+30년의 0~14세 인구 증가율은 음(-)의 값이다.

## 4 (사회·문화)

# 사회탐구 영역

16. 다음에 나타난 개인과 사회의 관계를 바라보는 관점에 부합하는 진술만을 <보기>에서 고른 것은? [3점]

개인의 성격 및 행동 양상은 그가 어떤 집단 속에 있는가에 따라 달라진다. 학교나 직장에서는 온건하게 행동하던 사람도 운동 경기 응원단이나 시위대의 일원이 되면 자신도 모르게 목청껏 구호를 외치거나 과격한 행동까지도 서슴지 않는다. 이와 같이 개인의 고유한 심성이라는 것은 존재하지 않으며, 사회 집단에 의하여 개인의 태도나 행동이 결정된다.

< 보기 >

- ㄱ. 개인의 능동성이 사회의 구속성보다 우선한다.  
 ㄴ. 사회는 개인 외부에 존재하는 독립적 실체이다.  
 ㄷ. 사회의 속성은 개인의 속성으로 환원될 수 없다.  
 ㄹ. 사회 문제는 제도 개혁보다 의식 개선으로 해결할 수 있다.

- ① ㄱ, ㄴ    ② ㄱ, ㄷ    ③ ㄴ, ㄷ    ④ ㄴ, ㄹ    ⑤ ㄷ, ㄹ

17. 다음 자료에 대한 분석으로 옳은 것은? [3점]

표는 갑국 A, B, C 지역 각각에서 대다수 사람들이 전반적으로 향유하는 의복 문화 요소를 시기별로 나타낸 것이다. 단, 갑국은 A, B, C 지역으로만 구성되어 있다.

시기	지역	의복 문화 요소	시기	지역	의복 문화 요소
t 시기	A 지역	○, ☆	t+1 시기	A 지역	○, △
	B 지역	○, □		B 지역	△, □
	C 지역	○, △		C 지역	△, □

- ① t시기에 □를 향유하는 사람은 갑국의 주류 문화 요소를 공유하지 않는다.  
 ② t시기에 ☆, △는 ○와 달리 해당 문화 요소를 공유하는 사람들의 정체성 형성에 기여한다.  
 ③ t+1시기에 △는 갑국의 주류 문화 요소이다.  
 ④ t+1시기에 ○는 갑국의 지배적 문화를 거부하는 문화 요소이다.  
 ⑤ t+1시기에는 t시기에 비해 갑국의 의복 문화 다양성이 높아졌다.

18. 다음에 나타난 사회 변동 이론에 대한 옳은 설명만을 <보기>에서 고른 것은?

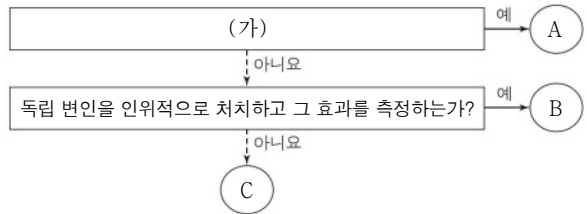
경제 성장은 비행기의 운항에 비유할 수 있다. 전통적 농업 사회는 이륙 전 단계에, 산업이 본격적으로 발전하는 과정은 비행기가 활주로를 달려 이륙하는 과정에 비유된다. 이후 비행기가 고도를 높여 자동 조종 장치로 운항하는 단계에 도달하는 것처럼, 사회는 기술 발달 수준이 높아지고 새로운 산업에 부를 재투자하는 과정을 거쳐 경제 성장의 최종 단계인 고도의 대중 소비 단계로 이행한다. 이와 같이 사회는 일정한 단계를 밟으며 발전해 간다.

< 보기 >

- ㄱ. 서구 중심적 사고라는 비판을 받는다.  
 ㄴ. 사회마다 사회 변동의 방향이 다르다고 본다.  
 ㄷ. 사회 변동에 의해 사회가 더 복잡하게 분화한다고 본다.  
 ㄹ. 사회 변동을 동일한 과정의 주기적인 반복으로 설명한다.

- ① ㄱ, ㄴ    ② ㄱ, ㄷ    ③ ㄴ, ㄷ    ④ ㄴ, ㄹ    ⑤ ㄷ, ㄹ

19. 그림은 질문을 통해 자료 수집 방법 A~C를 구분한 것이다. 이에 대한 옳은 설명만을 <보기>에서 고른 것은? (단, A~C는 각각 실험법, 질문지법, 참여 관찰법 중 하나이다.) [3점]



< 보기 >

- ㄱ. A가 질문지법이라면, C는 자료의 실제성 확보에 유리하다.  
 ㄴ. B는 A, C와 달리 계량화된 자료를 수집하는 데 활용된다.  
 ㄷ. (가)에 '자료를 수집하는 데 조사 대상자의 언어적 응답이 필수적인가?'가 들어갈 수 있다.  
 ㄹ. (가)가 '조사 대상자의 일상생활에 직접 참여하여 자료를 수집하는가?'라면, C는 B와 달리 문맹자에게 활용할 수 있다.

- ① ㄱ, ㄴ    ② ㄱ, ㄷ    ③ ㄴ, ㄷ    ④ ㄴ, ㄹ    ⑤ ㄷ, ㄹ

20. 다음 자료에 대한 옳은 분석 및 추론만을 <보기>에서 있는 대로 고른 것은?

표는 갑국의 임금 불평등을 파악하기 위해 t년과 t+20년의 성별 및 고용 형태별 근로자의 시간당 평균 임금을 조사한 후, 이를 토대로 분석한 자료이다. 단, 남성 정규직 근로자 시간당 평균 임금은 t+20년이 t년의 2배이다.

(단위: %)

구분	t년	t+20년	
남성 정규직 근로자 시간당 평균 임금 대비 여성 정규직 근로자 시간당 평균 임금	40	80	
정규직 근로자 시간당 평균 임금 대비 비정규직 근로자 시간당 평균 임금	전체	35	
	남	62	
	여	65	
	84	90	87

< 보기 >

- ㄱ. 여성 정규직 근로자 시간당 평균 임금은 t+20년이 t년의 4배이다.  
 ㄴ. 남성 정규직 근로자와 여성 정규직 근로자 간 임금 불평등은 t+20년이 t년에 비해 심화되었다.  
 ㄷ. t년 대비 t+20년 시간당 평균 임금의 증가율은 전체 정규직 근로자가 전체 비정규직 근로자보다 낮다.  
 ㄹ. t년과 t+20년 모두 남성 비정규직 근로자 시간당 평균 임금이 여성 비정규직 근로자 시간당 평균 임금보다 높다.

- ① ㄱ, ㄴ    ② ㄱ, ㄹ    ③ ㄴ, ㄷ  
 ④ ㄱ, ㄷ, ㄹ    ⑤ ㄴ, ㄷ, ㄹ

### ※ 확인 사항

답안지의 해당란에 필요한 내용을 정확히 기입(표기)했는지 확인하십시오.

# 사회탐구 영역(생활과 윤리)

제 4 교시

성명

수험 번호

제 [ ] 선택

1

1. ㉠에 들어갈 진술로 가장 적절한 것은?

나는 윤리학이 도덕 판단의 기준과 도덕적 행위의 이론적 근거를 탐구하고 도덕규범의 체계를 합리적으로 제시하는 학문이어야 한다고 생각한다. 그런데 일부 윤리학자들은 도덕적 언어의 의미를 탐구하고 도덕적 추론의 타당성을 입증하는 것을 윤리학의 본질이라고 주장한다. 내가 보기에 이러한 주장은 윤리학이  ㉠  는 점을 간과하고 있다.

- ① 도덕 판단의 논리적인 구조를 분석하는 데 주력해야 한다
- ② 도덕적 명제의 진위에 대한 검증 가능성을 탐구해야 한다
- ③ 선악 판단의 지침이 될 수 있는 도덕 원리를 정립해야 한다
- ④ 도덕적 관습에 대한 인과적 서술을 핵심 목표로 삼아야 한다
- ⑤ 도덕규범을 가치 판단이 배제된 경험적 사실로 간주해야 한다

2. 다음을 주장한 사상가의 입장으로 가장 적절한 것은? [3점]

인간이 상대방의 성(性)을 향유하기 위해 자신을 내어 주는 행위는 자신을 사물로 만드는 것이지만, 오직 혼인이라는 조건 하에서 남녀는 서로의 인격성을 상실하지 않고 성을 향유할 수 있다. 혼인은 출산을 위한 것만은 아니며, 남녀가 쾌락을 전제로 성을 향유하고자 하더라도 반드시 혼인해야 한다.

- ① 사랑이 전제된 혼인 전의 성관계는 도덕적으로 정당하다.
- ② 부부 사이라도 성관계를 통해 쾌락을 추구해서는 안 된다.
- ③ 인격성을 훼손하지 않는 성관계는 부부 사이에서만 가능하다.
- ④ 성관계를 통한 생식적 가치의 추구는 혼인의 유일한 목적이다.
- ⑤ 모든 성관계는 상대방을 대상화하므로 허용되어서는 안 된다.

3. 다음 신문 칼럼에서 강조하는 내용으로 가장 적절한 것은?

○○신문 ○○○○년 △△월 △△일

**칼럼**


최근 비대면 서비스에 대한 수요가 확대되면서 3차원적 가상 공간인 메타버스(Metaverse)가 각광받고 있다. 메타버스는 기존의 SNS 및 블로그와 같은 온라인 생태계를 대체하며 많은 경제적 가치를 창출하고 있지만 이와 동시에 메타버스에서는 사이버 폭력, 사생활 침해와 같은 윤리적 문제도 발생하고 있다. 이를 해결하기 위해서는 제도적 장치도 필요하지만 무엇보다 이용자들이 양심과 도덕성에 따라 자신의 행위를 스스로 통제하는 것이 중요하다. 따라서 메타버스를 윤리적 공간으로 조성하기 위해 이용자들은 메타버스에서 자신의 행동을 성찰하고 책임감 있는 자세를 지녀야 한다.

- ① 메타버스를 통해 얻게 될 경제적 효용에만 초점을 맞춰야 한다.
- ② 메타버스에서는 현실과 달리 모든 개인 정보가 공개되어야 한다.
- ③ 메타버스의 등장은 기존 온라인 생태계에 영향을 미치지 않는다.
- ④ 메타버스에서 이용자들은 자신의 행위를 자율적으로 규제해야 한다.
- ⑤ 메타버스를 윤리적 공간으로 만들기 위한 정부의 개입은 불필요하다.

4. 그림은 갑, 을 사상가들의 가상 대화이다. 갑, 을의 입장으로 적절한 것만을 <보기>에서 있는 대로 고른 것은? [3점]

정치와 도덕의 영역은 분리되며, 외교 정책은 도덕 원리가 아닌 정치적 이해 관계에 기초해야 합니다. 국제 사회는 자국의 이익을 극대화하려는 국가들 간의 권력 투쟁이 일어나는 곳으로, 국제법의 지배란 비효율적 허구에 지나지 않습니다.

정치와 도덕은 합치되어야 하며, 이는 오직 전쟁을 멀리할 의도를 지닌 국가들의 연방 상태에서만 가능합니다. 국제법은 자유로운 국가들의 연방에 기초해 있어야만 하며, 영구 평화는 국가들 상호 간의 계약 없이는 구축될 수 없습니다.



< 보 기 >

ㄱ. 갑: 외교 정책의 성패는 국익 증진 여부를 기준으로 판단된다.  
 ㄴ. 을: 영구 평화의 확립을 인류의 보편적 의무로 수용해야 한다.  
 ㄷ. 을: 국제 연맹은 주권적 권력을 지닌 세계 정부로 기능해야 한다.  
 ㄹ. 갑, 을: 국가 간 세력 균형을 통해 영구 평화를 실현해야 한다.

- ① ㄱ, ㄴ
- ② ㄴ, ㄷ
- ③ ㄷ, ㄹ
- ④ ㄱ, ㄴ, ㄷ
- ⑤ ㄱ, ㄷ, ㄹ

5. 다음을 주장한 사상가의 입장에서 <사례> 속 A에게 해 줄 수 있는 조언으로 가장 적절한 것은?

도(道)의 입장에서 보면 사물에는 귀천(貴賤)의 구별이 없다. 그러나 세속적인 입장에서 보면 귀천의 구별은 자기가 아니라 남에 의해 정해진다. 귀천을 구별해야겠다는 생각에 구속되지 말아야 하며, 만약 구속된다면 도에 크게 어긋나고 말 것이다.

< 사 례 >

취업을 준비하는 A는 면접에서 여러 번 떨어지게 되었다. 취업하는 데 외모도 중요하다는 생각이 들어 A는 성형 수술을 해야 할지 말아야 할지 고민하고 있다.

- ① 다수의 사람들이 생각하는 미(美)의 기준에 따라 살아가세요.
- ② 연기(緣起)의 깨달음을 통해 외모에 대한 집착에서 벗어나세요.
- ③ 외모를 가꾸기보다 인의(仁義)의 덕을 갖추기 위해 노력하세요.
- ④ 외모의 우열을 가리는 것이 자연의 순리에 부합함을 명심하세요.
- ⑤ 미에 대한 선입견에서 벗어나 자신의 모습 그대로를 인정하세요.

## 2 (생활과 윤리)

# 사회탐구 영역

6. (가)의 갑, 을, 병 사상가들의 입장에서 서로에게 제기할 수 있는 비판을 (나) 그림으로 표현할 때, A~F에 해당하는 내용으로 가장 적절한 것은? [3점]

(가)	<p>갑: 형벌의 법칙은 하나의 정언 명령이며, 오직 보복법만이 형벌의 질과 양을 명확하게 제시할 수 있다. 살인을 저지른 사람은 누구든 사형에 처해져야 한다.</p> <p>을: 형벌은 타인들의 범죄를 억제시키기에 충분한 정도의 강도만을 가져야 한다. 사형을 대체한 종신 노역형은 가장 완강한 자의 마음을 억제시키기에 충분하다.</p> <p>병: 형벌은 그 자체로 악이다. 그러나 형벌은 공리의 원리에 의해 정당화될 수 있으며, 형벌의 가치를 평가할 때에는 확실성, 근접성 등의 측면을 고려해야 한다.</p>
(나)	<p>Legend: &lt;별 레&gt; → : 비판의 방향, A~F: 비판의 내용, &lt;예 시&gt; (갑) → (을) : A는 갑이 을에게 제기할 수 있는 비판임.</p>

- ① A: 형벌은 응보가 아닌 다른 선을 촉진하는 수단임을 간과한다.
- ② B, E: 인간은 자신의 생명권을 국가에게 양도할 수 있음을 간과한다.
- ③ C: 범죄 억제력은 형벌의 강도보다 지속성에서 발생함을 간과한다.
- ④ D: 형벌의 크기는 범죄로 이끄는 유혹에 비례해야 함을 간과한다.
- ⑤ F: 모든 위법 행위자에 대하여 형벌이 부과되어야 함을 간과한다.

7. 다음 토론의 핵심 쟁점으로 가장 적절한 것은?

<p>갑: 유전자 편집 기술의 발달로 인간 배아 유전자 편집이 가능해졌습니다. 치료 목적의 인간 배아 유전자 편집을 통해 유전 질환을 치료하여 인류의 행복을 증진해야 합니다.</p> <p>을: 동의합니다. 다만 치료가 아닌 강화 목적의 인간 배아 유전자 편집은 미래 세대에게 부모가 원하는 유전 형질에 따라 살도록 강요하는 것이므로 이를 금지해야 합니다.</p> <p>갑: 아닙니다. 미래 세대는 살아가는 동안 강화된 유전 형질로 인해 더 많은 선택의 기회를 얻게 될 것입니다. 이를 통해 미래 세대는 자신의 능력을 발휘하여 풍요로운 삶을 살 것입니다.</p> <p>을: 강화된 유전 형질로 미래 세대가 풍요로운 삶을 살 수 있을지라도 이러한 삶은 부모에 의해 계획된 삶일 뿐입니다. 이는 미래 세대가 자신의 삶을 온전히 계획하고 결정할 수 있는 자율성을 침해하므로 옳지 않습니다.</p>
---

- ① 인간 배아 유전자 편집은 유전 형질의 변화를 초래하는가?
- ② 강화 목적의 인간 배아 유전자 편집은 허용되어야 하는가?
- ③ 유전자 편집 기술을 활용하여 유전 질환을 치료할 수 있는가?
- ④ 인간 배아 유전자 편집은 어떤 경우에도 정당화될 수 없는가?
- ⑤ 인류의 행복을 증진하는 인간 배아 유전자 편집이 존재하는가?

8. 갑, 을 사상가들의 입장으로 가장 적절한 것은? [3점]

<p>갑: 원조의 목적은 고통받는 사회가 정치 문화를 변경하여 질서 정연한 사회가 되도록 하는 것이다. 한 사회가 질서 정연한 사회가 되기 위한 결정적 요소는 그 사회의 자원 수준이 아닌 정치 문화이다.</p> <p>을: 원조의 목적은 민족, 국가, 인종을 초월하여 기아에 허덕이는 사람들의 고통을 줄여 주는 것이다. 중요한 다른 일을 희생시키지 않고 절대 빈곤을 감소시킬 수 있다면 우리는 절대 빈곤에 처해 있는 사람들을 도울 의무가 있다.</p>
---

- ① 갑: 원조 대상국의 인권 개선을 위한 강제력의 사용은 정의롭다.
- ② 갑: 천연자원이 부족한 빈곤국이라도 원조 대상에서 제외될 수 있다.
- ③ 을: 원조는 원조 결과와 무관하게 실천해야 할 윤리적 의무이다.
- ④ 을: 지리적 근접성을 우선적으로 고려해 원조 대상을 결정해야 한다.
- ⑤ 갑, 을: 원조를 통해 모든 국가의 복지 수준을 일치시켜야 한다.

9. 다음을 주장한 사상가의 입장으로 적절한 것만을 <보기>에서 고른 것은?

<p>이상적 대화 상황은 토론장에 외적인 우연적 요소들이 개입되거나 토론 참여자가 어떤 유형의 강요도 받지 않으며 자유롭고 평등한 토론이 이루어지는 상황을 말한다. 이러한 대화 상황을 위해서는 출입의 공공성, 평등한 권한, 표현 행위의 진실성, 입장 표명의 비강제성 등이 보장되어야 한다. 또한 토론 참여자는 오직 보다 나은 논증을 통해서만 자신의 입장을 결정해야 한다.</p>
---

< 보 기 >

- ㄱ. 토론 참여자 중 대다수가 동의한 규범이 타당성을 지닌다.
- ㄴ. 토론 주제에 대한 전문가가 아니라도 토론에 참여할 수 있다.
- ㄷ. 토론 참여자는 자신의 이익이나 욕구를 표현해서는 안 된다.
- ㄹ. 토론 과정에서 타인의 주장에 대해 자유로운 비판이 가능하다.

- ① ㄱ, ㄴ    ② ㄱ, ㄷ    ③ ㄴ, ㄷ    ④ ㄴ, ㄹ    ⑤ ㄷ, ㄹ

10. 갑, 을 사상가들의 입장으로 적절한 것만을 <보기>에서 고른 것은? [3점]

<p>갑: 기술의 본질은 기술적인 어떤 것이 아니다. 기술을 중립적인 것으로 보는 사고는 우리를 기술의 본질에 대해 맹목적이게 만들고, 이 경우 우리는 무방비 상태로 기술에 내맡겨진다.</p> <p>을: 기술은 수단으로 그 자체는 선도 악도 아니다. 기술은 일종의 공허한 힘이며, 중요한 것은 인간이 기술을 어떻게 활용하고 기술을 통해 인간이 어떤 존재로 드러나는가이다.</p>
---

< 보 기 >

- ㄱ. 갑: 기술의 본질을 삶에 유용한 도구로만 규정해야 한다.
- ㄴ. 갑: 기술의 가치 중립성을 강조할 때 인간은 기술에 종속된다.
- ㄷ. 을: 기술 자체를 윤리적 평가의 대상으로 간주해야 한다.
- ㄹ. 갑, 을: 기술의 활용이 가져올 영향을 반성적으로 검토해야 한다.

- ① ㄱ, ㄴ    ② ㄱ, ㄷ    ③ ㄴ, ㄷ    ④ ㄴ, ㄹ    ⑤ ㄷ, ㄹ

11. (가)의 갑, 을, 병 사상가들의 입장을 (나) 그림으로 표현할 때, A~D에 해당하는 적절한 진술만을 <보기>에서 있는 대로 고른 것은? [3점]

(가)

갑: 대지는 토양과 식물, 동물을 통해 흐르는 에너지가 솟아나는 샘이다. 대지 윤리는 인간과 대지 그리고 그 위에서 살아가는 동식물과의 관계를 다룬다.

을: 모든 유기체는 자신의 존재를 지키고 유지하는 지속적인 경향이 있으며 목표 지향적으로 활동한다는 의미에서 목적론적 삶의 중심이다.

병: 생명이 없는 아름다운 것을 파괴하는 것은 인간 자신에 대한 의무에 반한다. 왜냐하면 그것은 도덕성을 촉진하는 인간의 감정을 약화시키기 때문이다.

(나)

<범례>

A: 갑만의 입장  
B: 갑과 을만의 공통 입장  
C: 을과 병만의 공통 입장  
D: 갑, 을, 병의 공통 입장

<보기>

ㄱ. A: 인간은 생명 공동체를 구성하는 하나의 요소이다.  
 ㄴ. B: 이성의 유무는 도덕적 지위를 결정하는 기준이 아니다.  
 ㄷ. C: 인간은 무생물과 관련해서는 의무를 지니지 않는다.  
 ㄹ. D: 도덕적으로 무능력한 존재라도 가치가 부여될 수 있다.

① ㄱ, ㄴ                      ② ㄱ, ㄷ                      ③ ㄴ, ㄹ  
 ④ ㄱ, ㄷ, ㄹ                ⑤ ㄴ, ㄷ, ㄹ

12. (가)의 입장에 비해 (나)의 입장이 갖는 상대적 특징을 그림의 ㉠~㉣ 중에서 고른 것은?

(가) 다양한 문화의 존중은 사회 결속으로 이어진다. 소수 집단의 문화 존중을 위해서는 소수 집단에 차별화된 권리를 부여해 기존의 사회 집단과 소수 집단 간의 비대칭성을 해소하고 구성원 간 평등한 관계 형성 및 협력을 도모해야 한다.

(나) 단일한 문화의 형성은 사회 결속을 강화한다. 소수 집단의 문화 존중을 이유로 소수 집단에 차별화된 권리를 부여하는 정책은 사회 갈등을 유발한다. 따라서 소수 집단은 그들의 문화를 포기하고 기존 사회의 문화로 편입되어야 한다.

X: 소수 집단에 대한 우대 정책이 필요함을 강조하는 정도  
 Y: 소수 집단의 문화가 기존 사회의 문화로 동화되어야 함을 강조하는 정도  
 Z: 소수 집단의 문화를 존중하는 것이 사회 결속 강화에 기여함을 강조하는 정도

① ㉠                      ② ㉡                      ③ ㉢                      ④ ㉣                      ⑤ ㉠

13. 다음을 주장한 사상가의 입장에만 모두 '✓'를 표시한 학생은? [3점]

인간은 자유롭고 평등한 존재이므로, 어떤 인간도 자신의 동의 없이 자연 상태를 떠나서 다른 사람의 정치권력에 복종할 수 없다. 어떤 사람이 자신의 자연법의 집행권을 포기하고 시민 사회의 구속을 받아들이는 유일한 방도는 재산을 안전하게 향유하고 공동체에 속하지 않는 자들로부터 더 많은 안전을 확보하기 위해 다른 사람들과 함께 공동체를 결성하기로 합의하는 것이다.

입장	학생	갑	을	병	정	무
국가는 구성원의 자발적 동의에 기반해야 평화적으로 수립된다.		✓			✓	✓
국가는 자연권의 일부를 양도받아 구성원 간의 분쟁을 조정해야 한다.			✓		✓	✓
국가는 구성원의 생명과 재산을 자의적으로 처분할 수 있는 권력을 지닌다.			✓	✓	✓	
국가는 외부인이 그 구성원에게 가한 침해를 처벌할 수 있는 권력을 가지고 있다.		✓		✓		✓

① 갑                      ② 을                      ③ 병                      ④ 정                      ⑤ 무

14. 갑, 을 사상가들의 입장으로 가장 적절한 것은?

갑: 삶과 죽음의 번뇌에 머물러 있는 사람은 무명(無明)에 덮여 윤회하면서도 괴로움의 근거를 알지 못한다. 그러나 바른 지혜를 얻은 사람은 다시 태어나지 않을 것을 스스로 안다.

을: 기(氣)가 모이면 태어나고 기가 흩어지면 죽는다. 자연은 삶을 주어 우리를 수고롭게 만들고 죽음으로써 쉬게 하니, 자연의 변화에 순응하면 슬픔이나 즐거움이 끼어 들 수 없다.

- ① 갑: 삶과 죽음에 대한 집착을 버리고 무명에 도달해야 한다.  
 ② 갑: 고통 없는 삶으로 윤회하기 위해 만물의 실상을 자각해야 한다.  
 ③ 을: 삶과 죽음은 분별할 수 없는 자연적 과정임을 깨달아야 한다.  
 ④ 을: 기의 변화로 끊임없이 순환하는 삶과 죽음을 두려워해야 한다.  
 ⑤ 갑, 을: 인간이라면 누구나 겪을 수밖에 없는 죽음을 애도해야 한다.

15. 갑, 을 사상가들의 입장으로 적절하지 않은 것은? [3점]

갑: 원초적 입장에서 무지의 베일을 쓴 당사자들이 합의한 정의의 원칙 중 차등의 원칙은 호혜성 관념을 포함한다. 개인 간의 차이, 재능의 다양성, 주어진 재능 성취 수준의 차이는 상호 이익을 위해 사용되어야 할 공동의 자산으로 간주해야 한다.

을: 현재의 모든 분배 상황이 취득, 이전의 정의 원리에 의해 생성된 것은 아니다. 만약 과거의 불의(不義)가 현재의 소유 상태를 여러 방식으로 형성했다면 우리는 소유물에서의 불의를 교정해야 한다.

- ① 갑: 자연적 재능의 불평등한 분포는 그 자체로 부정의하다.  
 ② 갑: 소득의 불평등한 분배는 모든 사람에게 이익이 될 때 정당하다.  
 ③ 을: 노동을 통해 획득한 소유물이라도 교정의 대상이 될 수 있다.  
 ④ 을: 개인의 소유권 보호를 위한 국가의 개입은 정당화될 수 있다.  
 ⑤ 갑, 을: 공정한 절차를 따름으로써 정의로운 분배가 실현될 수 있다.



## 4 (생활과 윤리)

# 사회탐구 영역

16. 갑, 을 사상가들의 입장으로 가장 적절한 것은? [3점]

갑: 공리성의 원리는 자기 이익이 걸려 있는 당사자들의 행복을 증가시키거나 감소시키는 경향에 따라서 각각의 행위를 승인하거나 부인하는 원리이다. 이러한 각각의 행위란 개인의 모든 행위뿐만 아니라 정부의 모든 정책까지 포함한다.  
 을: 도덕 법칙은 가장 완전한 존재자의 의지에 대해서는 신성의 법칙이지만, 모든 이성적 존재자의 의지에 대해서는 의무의 법칙이자 도덕적 강요의 법칙이다. 도덕 법칙은 법칙에 대한 존경을 통해 이성적 존재자의 행위를 규정한다.

- ① 갑: 공동체의 이익은 그 공동체 구성원들의 이익과 무관하다.
- ② 갑: 행위의 옳고 그름은 결과보다 동기에 의해 평가되어야 한다.
- ③ 을: 행위자의 성품을 기준으로 행위의 도덕성을 판단해야 한다.
- ④ 을: 의무 의식에서 비롯되지 않은 행위도 도덕적 행위일 수 있다.
- ⑤ 갑, 을: 윤리적 의사 결정에 적용되는 보편적 도덕 원리가 존재한다.

17. 갑 사상가는 부정, 을 사상가는 긍정의 대답을 할 질문으로 가장 적절한 것은?

갑: 어떤 예술가도 윤리적 동정심을 지니지 않는다. 예술가가 윤리적 동정심을 갖고 있다는 것은 용납할 수 없는 것이다. 또한 예술가는 무엇이든 표현할 수 있다. 예술가에게 사고와 언어는 예술의 도구이며, 악덕과 미덕은 예술의 재료이다.  
 을: 훌륭한 예술 작품은 몸에 긴장을 안겨 주는 바람처럼 사람들에게 선한 영향을 준다. 또한 훌륭한 예술 작품은 젊은이들이 어릴 적부터 그것을 대하며 자신들도 모르는 사이에 아름다운 것과 친해지고 선한 것과 닮아가도록 이끌어 준다.

- ① 예술은 미적 가치를 추구하는 인간의 정신 활동인가?
- ② 예술은 오직 예술 그 자체를 목적으로 삼아야 하는가?
- ③ 예술은 도덕적 가치 판단으로부터 자유로워야 하는가?
- ④ 예술은 사회 구성원의 도덕성 함양에 기여해야 하는가?
- ⑤ 예술은 인간의 도덕적 삶을 작품의 소재로 삼을 수 있는가?

18. 갑, 을 사상가들의 입장으로 적절하지 않은 것은? [3점]

갑: 시민 불복종은 부정의한 법이나 정부의 정책에 변혁을 가져올 목적으로 행해지는 정치적 행위이다. 이러한 행위를 통해서 우리는 사회의 다수가 갖는 정의감을 나타내게 되고, 사회협동체의 원칙이 존중되지 않고 있음을 선언하게 된다.  
 을: 시민 불복종은 부정의를 해결하기 위한 합법적 수단이 실패했을 때 행할 수 있는 적합한 수단이다. 하지만 시민 불복종을 결정할 때 우리가 중단시키려고 하는 악의 크기와 우리의 행위가 법과 민주주의에 가할 해악 정도를 저울질해야 한다.

- ① 갑: 시민 불복종은 사회 정의 실현을 위한 정치적 청원 행위이다.
- ② 갑: 시민 불복종은 개인의 도덕 원칙에 근거한 정의로운 행위이다.
- ③ 을: 시민 불복종의 결과가 가져올 이익과 손해를 계산해야 한다.
- ④ 을: 시민 불복종은 부정의를 시정하기 위한 효과적 행위일 수 있다.
- ⑤ 갑, 을: 시민 불복종은 민주 사회의 원칙을 존중하며 시행되어야 한다.

19. 그림의 강연자가 지지할 입장만을 <보기>에서 있는 대로 고른 것은?

인간에게 먹는 행위는 생존을 위해 필수적이며, “자기가 먹은 음식이 곧 자기가 된다.”라는 말처럼 먹는 행위는 자기 본질을 규정하는 데 영향을 미칩니다. 또한 먹는 행위는 음식의 생산 및 소비 과정에서 사회의 다른 영역들과 밀접한 관련을 맺습니다. 예를 들어 우리가 생산하고 소비하는 음식에 따라 산업 구조가 달라질 수 있고, 이는 환경의 변화를 초래할 수도 있습니다. 이처럼 먹는 행위는 개인적 차원의 문제인 동시에 사회적 차원의 문제입니다. 따라서 우리는 자신의 식습관을 점검하고 먹는 행위의 사회적 의미에 대해 성찰하는 태도를 지녀야 합니다.



< 보기 >

- ㄱ. 먹는 행위는 도덕적인 판단의 대상이 될 수 있다.
- ㄴ. 먹는 행위를 생존을 위한 수단으로만 여겨야 한다.
- ㄷ. 먹는 행위가 미치는 사회적 영향을 고려해야 한다.
- ㄹ. 먹는 행위는 인간의 자아 정체성 형성에 영향을 준다.

- ① ㄱ, ㄴ                      ② ㄴ, ㄷ                      ③ ㄷ, ㄹ
- ④ ㄱ, ㄴ, ㄹ                ⑤ ㄱ, ㄷ, ㄹ

20. 갑, 을 사상가들의 공통된 입장만을 <보기>에서 고른 것은?

갑: 대인(大人)의 일이 따로 있고, 소인(小人)의 일이 따로 있는 법이다. 군주는 백성들에게 일정한 생업[恒産]을 마련해 주어 반드시 위로 부모를 충분히 봉양할 수 있도록 하고, 아래로 처자식을 충분히 먹여 살릴 수 있도록 해야 한다.  
 을: 선왕(先王)은 혼란을 싫어해 예의(禮義)를 만듦으로써 등급을 나누어 천자(天子)부터 서인(庶人)에 이르기까지 각자의 재능을 발휘하게 하였다. 군주는 바른 정치를 위해 현명한 사람을 등용하고, 가난하고 궁핍한 사람을 도와야 한다.

< 보기 >

- ㄱ. 사회적 역할의 분담은 사회 질서 유지에 기여한다.
- ㄴ. 백성의 경제적 안정에 힘쓰는 것이 통치자의 역할이다.
- ㄷ. 정신노동을 담당하는 사람은 육체노동에도 탁월해야 한다.
- ㄹ. 사회적 역할은 능력보다는 개인의 선택에 따라 정해져야 한다.

- ① ㄱ, ㄴ                      ② ㄱ, ㄷ                      ③ ㄴ, ㄷ                      ④ ㄴ, ㄹ                      ⑤ ㄷ, ㄹ

### ※ 확인 사항

답안지의 해당란에 필요한 내용을 정확히 기입(표기)했는지 확인하십시오.

# 사회탐구 영역(세계사)

제 4 교시

성명

수험 번호


3

제 [ ] 선택

1

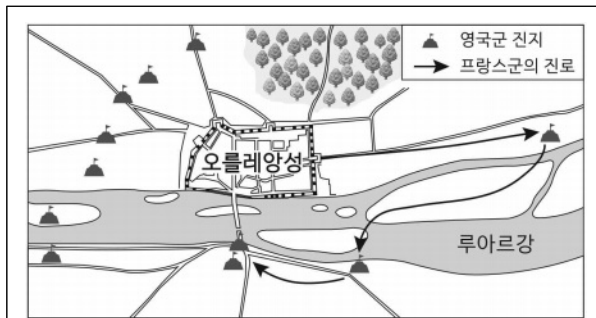
1. 밑줄 친 ‘이 문명’에 대한 설명으로 옳은 것은?

이것은 티그리스강과 유프라테스강 유역에서 발달한 이 문명의 유물입니다. 이 유물에 췌기 문자로 기록된 ‘길가메시’는 우투크의 왕으로 이 문명의 대표적 문학 작품인 『길가메시 서사시』의 주인공입니다.



- ① 콜로세움을 건립하였다.
- ② 지구라트를 축조하였다.
- ③ 사자의 서를 제작하였다.
- ④ 갑골에 점복의 내용을 기록하였다.
- ⑤ 하라파와 모헨조다로를 건설하였다.

2. 밑줄 친 ‘이 전쟁’에 대한 탐구 활동으로 가장 적절한 것은?



지도는 이 전쟁 중에 있었던 오를레앙 전투의 상황을 나타내고 있다. 잔 다르크는 프랑스군을 이끌고 출격하여 오를레앙성 주변을 포위한 영국군 진지를 잇달아 격파하였다. 이에 영국군은 후퇴하였고, 잔 다르크의 활약으로 이 전쟁의 전세가 크게 바뀌었다.


- ① 빈 회의가 개최된 원인을 조사한다.
- ② 델로스 동맹이 결성된 배경을 파악한다.
- ③ 그라쿠스 형제의 개혁 내용을 알아본다.
- ④ 신성 로마 제국이 해체된 계기를 살펴본다.
- ⑤ 플랑드르 지방의 지배권을 놓고 대립한 결과를 찾아본다.

3. (가) 왕조에 대한 설명으로 옳은 것은? [3점]

[가] 이/가 산하이관을 넘어 이자성 세력을 몰아내고 베이징을 점령한 후, 많은 만주인이 한서(漢書)를 익히고, 한인의 풍속에 빠져 들었다. [가]의 순치제는 이러한 상황이 계속되면 만주의 오랜 제도가 점점 잊혀질 것이라 염려했다. 이에 종인부(宗人府)에 명을 내려 종실의 자제들은 만서(滿書)를 읽도록 하고, 한자로 쓴 책을 익히는 것은 중지하라고 하였다.

- ① 사고전서를 편찬하였다.
- ② 9품중정제를 실시하였다.
- ③ 장건을 서역에 파견하였다.
- ④ 안사의 난으로 쇠퇴하였다.
- ⑤ 복면관제와 남면관제를 운영하였다.

4. (가) 문화 운동에 대한 설명으로 옳은 것은?



- ① 보로부두르 축조에 기여하였다.
- ② 과학적 사회주의의 영향을 받았다.
- ③ 카노사의 굴욕 사건이 일어나는 계기가 되었다.
- ④ 칼리다사가 샤쿤탈라를 집필하는 배경이 되었다.
- ⑤ 이탈리아에서 시작되어 알프스 이북으로 확산되었다.

5. 자료의 상황이 나타난 왕조에서 있었던 사실로 옳은 것은? [3점]

왕안석이 낙향하여 금릉에 있을 때 조정에서 신법 폐지에 대해 논의하고 있다는 소식을 들었다. 그런데 신법 중 모역법까지 폐지한다는 이야기를 듣자 “이 법만큼은 폐지하면 안 된다. 내가 선대(先代) 황제와 2년 동안이나 검토하여 모든 정황을 세세하게 고려한 다음 시행한 것이다.”라고 말하였다.

- ① 교자가 발행되었다.
- ② 균전제가 실시되었다.
- ③ 일조편법이 시행되었다.
- ④ 산시 상인이 각지에 공소, 회관을 세웠다.
- ⑤ 고구마, 옥수수 등의 외래 작물이 재배되었다.

## 2 (세계사)

# 사회탐구 영역

6. (가) 왕조에 대한 설명으로 옳은 것은? [3점]

호라산 지역에서 반란이 일어났다. 다마스쿠스를 수도로 하여 세워진 [가]의 아랍인 우대 정책에 불만을 품은 비아랍인, 시아파 세력 등이 이 반란에 참여하였다. 반란군은 자브강 전투에서 [가]의 마지막 칼리프인 마르완 2세가 이끄는 군대를 물리쳤다.

- ① 앙코르 와트를 건립하였다.
- ② 비잔티움 제국을 멸망시켰다.
- ③ 사산 왕조 페르시아를 정복하였다.
- ④ 이베리아반도까지 영토를 확장하였다.
- ⑤ 탈라스 전투에서 당의 군대를 격파하였다.

7. (가) 막부 시기에 볼 수 있는 모습으로 가장 적절한 것은?

[가]은/는 포르투갈 선박의 입항을 금지하였지만, 네덜란드의 경우 크리스토프를 포교하지 않는다는 이유로 입항을 허가하였다. [가]은/는 나가사키의 데지마에 있던 포르투갈인을 추방하고, 히라도에 있던 네덜란드 상관을 데지마로 옮겼다. 이후 나가사키에 네덜란드 배가 많이 들어오게 되었고 이 과정에서 서양의 외과 요법 등이 전해졌다.

- ① 일본서기를 저술하는 학자
- ② 청일 전쟁에 참전하는 군인
- ③ 헤이안쿄 천도를 명하는 친황
- ④ 다이카 개신을 추진하는 판리
- ⑤ 산킨코타이를 준비하는 다이묘

8. 밑줄 친 '전쟁' 중에 있었던 사실로 옳은 것은? [3점]

아침 일찍 할머니가 저를 깨우며 일본군이 진주만 항구를 폭격하고 있다고 말씀하셨습니다. 라디오에서는 항구의 근무자들은 즉각 출근하라는 방송이 나오고 있었지요. 항구에 도착하니 정박해 있던 군함에 불길이 치솟고 있었습니다. 며칠 만에 간신히 화재를 진압한 후 집에 돌아오니 일본군의 폭격에 친구들이 목숨을 잃었다는 소식을 듣게 되었습니다. 화가 난 저는 루스벨트 대통령에게 전쟁에 참전하고 싶으니 입대를 허락해 달라는 편지를 보냈고, 대통령은 이를 허락하였습니다.

- ① 국제 연맹이 창설되었다.
- ② 미드웨이 해전이 일어났다.
- ③ 닉슨 독트린이 발표되었다.
- ④ 베르사유 조약이 체결되었다.
- ⑤ 소비에트 사회주의 공화국 연방이 수립되었다.

9. 밑줄 친 '이 왕조'의 문화에 대한 설명으로 옳은 것은? [3점]

동상의 인물은 이 왕조의 환관 채운(채륜)입니다. 그는 나무껍질, 삼베 조각, 낚은 형질, 어망 등을 활용한 종이 제작법을 고안했습니다. 이는 기존의 제지술을 개량한 것으로, 이로 인해 종이 가 널리 보급되었습니다.



- ① 성리학이 발달하였다.
- ② 오경정이가 편찬되었다.
- ③ 청명상하도가 제작되었다.
- ④ 파스파 문자가 사용되었다.
- ⑤ 반고가 역사서를 저술하였다.

10. (가) 인물에 대한 설명으로 옳은 것은?

**문학으로 읽는 세계사**

올리비에가 말한다.  
“룰랑, 나의 동지여, 어서 뿔 나팔을 불어 구원을 요청하게! 양끼서 군대를 이끌고 다시 돌아와 우리를 구해 주실 것이네.”  
(중략)

룰랑이 답했다네.  
“내가 두려움에 뿔 나팔을 분다면...(중략)... 나는 명성을 잃게 되리라. ...(중략)... 우리는 용감히 공격을 가할 것이라네. 에스파냐의 무리는 결코 죽음을 피할 수 없을 것이네.”

**해제** 위 작품은 중세 기사 문학 작품인 『룰랑의 노래』의 일부로, 프랑크 왕국의 [가]와/과 함께 이베리아반도 원정에 참여한 기사 룰랑이 겪었던 역경을 담고 있다. 피핀의 아들로 왕위를 계승한 [가]은/는 활발한 정복 활동을 이어나가 옛 서로마 제국 영토의 많은 부분을 차지하였다.

- ① 성상 파괴령을 반포하였다.
- ② 레판토 해전에서 승리하였다.
- ③ 상트페테르부르크를 건설하였다.
- ④ 군관구제와 둔전병제를 실시하였다.
- ⑤ 궁정 학교를 세워 문예를 부흥시켰다.

11. (가) 기구에 대한 설명으로 옳은 것은? [3점]

11월  
1일

세계사 속 오늘

(가) 이가 출범하다

1993년 11월 1일은 (가) 이/가 출범한 날이다. (가) 은/는 유럽의 정치적·경제적 통합을 지향하고 있다. 이를 위해 회원국들은 공동의 외교 및 안보 정책 이행, 단일 통화인 '유로'의 사용 등 각종 사안에 관해 긴밀하게 협력하고 있다. 하지만 2016년 영국이 국민투표를 통해 탈퇴를 결정하면서 변화를 맞이하게 되었다.

- ① 마셜 계획을 수립하였다.
- ② 반등에서 평화 10원칙을 발표하였다.
- ③ 안전 보장 이사회와 상임 이사국을 두었다.
- ④ 국제 통화 기금(IMF)의 설립을 지원하였다.
- ⑤ 마스트리히트 조약 체결을 계기로 창설되었다.

12. 밑줄 친 '그'에 대한 설명으로 옳은 것은?

밀라노에서 그와 리키니우스가 만나 합의한 내용은 로마 제국의 보편적인 종교 정책으로 받아들여졌다. 이러한 합의에 따라 기존에 내려진 종교적 탄압과 관련된 법령은 중단되거나 철폐되었다. 교회는 기존의 소유물을 인정받았을 뿐 아니라 디오클레티아누스 황제 시절 종교 박해를 받아 빼앗겼던 재산을 되찾았다. 이로써 로마인은 자신의 종교를 선택하고 믿을 수 있는 권리를 부여받았고, 교회는 안정적 운영을 보장받았다.

- ① 도편 추방제를 마련하였다.
- ② 성 소피아 성당을 건립하였다.
- ③ 호르텐시우스법을 제정하였다.
- ④ 수도를 콘스탄티노폴리스로 옮겼다.
- ⑤ 정복지에 알렉산드리아라는 도시를 건설하였다.

13. (가) 인물에 대한 설명으로 옳은 것은?

세계사 인물 카드

- 이름: (가)
- 생몰 연도: 1814년 ~ 1864년
- 주요 활동
  - 크리스티프의 영향을 받아 상제회 조직
  - 만주족 왕조 타도를 내세우며 봉기
  - 천조전무 제도 등 개혁안 제시

- ① 군기처를 설치하였다.
- ② 시안 사건을 일으켰다.
- ③ 중국 국민당을 결성하였다.
- ④ 태평천국 운동을 주도하였다.
- ⑤ 중화민국 대통령에 취임하였다.

14. 밑줄 친 '이 제국'에 대한 설명으로 옳은 것은?

그림은 이 제국의 술탄 술레이만 1세가 예니체리를 앞세워 성 요한 기사단이 지키는 로도스섬의 성채를 공격하는 모습을 묘사하고 있습니다. 이 전투의 승리로 이 제국은 동지중해에서 이루어진 해상 교역의 안전을 확보하였습니다.

- ① 티마르제를 시행하였다.
- ② 조로아스터교를 국교로 삼았다.
- ③ 몽골군의 침입으로 멸망하였다.
- ④ 투르·푸아티에 전투에서 승리하였다.
- ⑤ 왕의 귀로 불리는 감찰관을 파견하였다.

15. (가) 국가에 대한 설명으로 옳은 것은? [3점]

그림은 베를린 회의에서 제국주의 열강이 아프리카 분할에 대해 논의하는 모습을 풍자한 것이다. 이 회의에서 열강은 아프리카의 어느 지역이든 먼저 점령하여 실효적 지배를 확립하는 나라가 영유권을 갖는 데 합의하였다. 이후 열강의 식민지 획득 경쟁은 더욱 치열해졌고, 아프리카에서 중단 정책을 추진한 영국과 횡단 정책을 추진한 (가) 이가 파소다에서 충돌하였다.

- ① 탄지마트를 실시하였다.
- ② 벵골 분할령을 발표하였다.
- ③ 플라시 전투에서 패배하였다.
- ④ 청과 베르친스크 조약을 체결하였다.
- ⑤ 헤레로족의 봉기를 무력으로 진압하였다.


# 4 (세계사)

# 사회탐구 영역

16. (가) 제국의 문화에 대한 설명으로 옳은 것은? [3점]

지도로 보는 세계사


◆ 바부르의 정복 활동



[해설]  
티무르의 후손으로 알려진 바부르는 안디잔에서 남하하여 아프가니스탄 지역의 카불을 점령하였다. 이후 파니파트에서 델리 술탄 왕조의 군대를 격파한 후 델리와 아그라를 점령하고 (가) 을/를 수립하였다.

- ① 자이나교가 출현하였다.
- ② 우르두어가 사용되었다.
- ③ 산치 대탑이 건립되었다.
- ④ 간다라 양식이 등장하였다.
- ⑤ 쿠티브 미나르가 조성되었다.

17. (가) 국가에 대한 설명으로 옳은 것은?



이 그림은 (가) 의 국왕 펠리페 2세가 파견한 무적함대와 이에 맞선 영국 함대 간의 전투를 묘사하고 있다. 무적함대의 출항 목표는 네덜란드의 신교도를 지원하는 영국을 응징하는 것이었다. 그러나 무적함대는 영국 함대에 패배하였고, 퇴각 도중 폭풍을 만나 수십 척의 전함을 잃은 채 본국으로 귀환하였다.

- ① 밀레트 제도를 시행하였다.
- ② 상수시 공전을 건립하였다.
- ③ 테카브리스트의 봉기를 진압하였다.
- ④ 아스테카 제국과 잉카 제국을 정복하였다.
- ⑤ 콜베르를 등용해 중상주의 정책을 추진하였다.

18. (가), (나) 시기 사이에 있었던 사실로 옳은 것은? [3점]

(가)	(나)
<p>세계사 신문</p> <p>대통령 선거의 결과가 어제 발표되었다. 공화당의 대통령 후보로 나선 링컨이 전체 303명의 선거인단 중 과반수 이상인 180명을 확보하여 제16대 대통령으로 당선되었다.</p>	<p>세계사 신문</p> <p>오늘 남부 연합의 총사령관 로버트 리 장군이 버지니아주에서 항복 문서에 서명하였다. 이로써 북부군이 전쟁에서 승리하였지만, 국민 단합의 과제는 이제부터 시작이다.</p>

- ① 뉴딜 정책이 추진되었다.
- ② 보스턴 차 사건이 일어났다.
- ③ 노예 해방 선언이 발표되었다.
- ④ 대륙 횡단 철도가 개통되었다.
- ⑤ 북대서양 조약 기구[NATO]가 결성되었다.

19. 밑줄 친 '이 의회'가 활동한 시기에 있었던 사실로 옳은 것은? [3점]

저는 이 의회에서 루이 16세의 처형에 대해 논의하는 것에 깊은 우려를 표합니다. 저를 포함한 미국인들은 루이 16세의 도움을 받아 영국으로부터 자유를 찾았다고 생각하고 있기에 그가 처형된다면 애통할 것입니다. 그러므로 이 의회에서 공화정을 선포한 것은 존중하지만, 루이 16세는 처형하지 말 것을 의원님들께 제안합니다. 제가 프랑스어를 할 수만 있다면, 이와 관련하여 탄원서를 제출하고 싶습니다.


토머스 페인

- ① 차티스트 운동이 일어났다.
- ② 대륙 봉쇄령이 공포되었다.
- ③ 공안 위원회가 설치되었다.
- ④ 테니스코트의 서약이 발표되었다.
- ⑤ 루이 필리프가 왕으로 추대되었다.

20. (가) 국가에 대한 설명으로 옳은 것은?

우표로 보는 세계사

세계 각국 우표    독일 우표



이 우표는 베를린 공수를 기념하여 발행되었다. 미국, 영국, 프랑스가 자신들의 독일 내 관할 구역에 새로운 통화 제도를 도입하자 (가) 은/는 서베를린으로 향하는 도로와 수로 등을 봉쇄하였다. 이에 맞서 미국을 비롯한 서방 국가들은 항공기를 이용해 서베를린에 물자를 수송하였다. (가) 은/는 이듬해 베를린 봉쇄를 해제하였다.

- ① 코메콘 창설을 주도하였다.
- ② 세포이의 항쟁을 진압하였다.
- ③ 제1차 비동맹 회의를 개최하였다.
- ④ 중국에 21개조 요구를 제시하였다.
- ⑤ 바웬사가 이끄는 자유 노조가 총선에서 승리하였다.

※ 확인 사항  
답안지의 해당란에 필요한 내용을 정확히 기입(표기)했는지 확인하십시오.

# 2022학년도 4월 고3 전국연합학력평가 문제지

## 사회탐구 영역(세계지리)

제 4 교시

성명

수험 번호

3

제 [ ] 선택

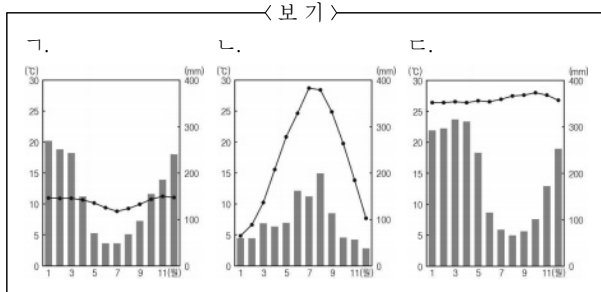
1

1. 다음 자료는 온라인 고지도 전시관 화면의 일부이다. (가), (나) 지도에 대한 설명으로 옳은 것은?



- ① (가)는 지도의 위쪽이 남쪽이다.
- ② (가)는 크리스토퍼 콜럼버스의 발견이 반영되어 있다.
- ③ (나)는 지구가 구체(球體)라는 인식이 반영되어 있다.
- ④ (나)는 저위도에서 고위도로 갈수록 면적이 정확하게 표현되어 있다.
- ⑤ (가)와 (나)에는 모두 아메리카 대륙이 표현되어 있다.

2. 다음 자료는 여행 후 작성한 온라인 게시물이다. A, B 지역의 기후 그래프를 <보기>에서 고른 것은?



- |     |   |     |   |     |   |
|-----|---|-----|---|-----|---|
| A B |   | A B |   | A B |   |
| ①   | ㉠ | ②   | ㉡ | ③   | ㉢ |
| ④   | ㉡ | ⑤   | ㉢ |     |   |

3. 다음 자료는 여행 상품 화면의 일부이다. ㉠, ㉡에 대한 옳은 설명만을 <보기>에서 고른 것은? [3점]



< 보 기 >

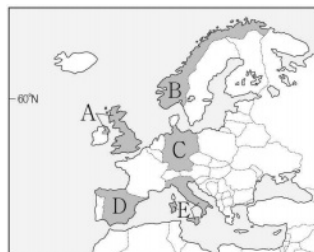
㉠. ㉠은 칼데라이다.  
 ㉡. ㉠의 기반암은 주로 석회암으로 구성되어 있다.  
 ㉢. ㉡의 내부에서 중유석, 석순, 석주 등을 볼 수 있다.  
 ㉣. ㉡은 화학적 풍화 작용보다 물리적 풍화 작용이 활발한 곳에서 잘 발달한다.

- ① ㉠, ㉡    ② ㉠, ㉢    ③ ㉡, ㉣    ④ ㉡, ㉣    ⑤ ㉢, ㉣

4. 다음 자료의 (가) 국가를 지도의 A ~ E에서 고른 것은?

(가), 전기차 보급률이 가장 높은 국가

(가)은/는 세계에서 전기차 보급률 <연료별 승용차 판매 비율>이 가장 높다. 그 이유로는 전기차 구매에 대한 다양한 혜택과 편리한 충전 인프라, 그리고 저렴한 전기요금을 들 수 있다. 이 국가는 빙하가 침식한 U자곡에 바닷물이 들어와 형성된 해안과 빙하호가 곳곳에 분포하는데, 이러한 지형의 큰 낙차와 풍부한 유량을 이용하여 크고 작은 규모의 수력 발전소를 많이 건설하였다. 수력 발전을 통해 생산된 전기는 소비자에게 저렴하게 공급되며, 국가 전체 전력 생산의 90% 이상을 차지하고 있다.



- ① A
- ② B
- ③ C
- ④ D
- ⑤ E

세계지리

## 2 (세계지리)

## 사회탐구 영역

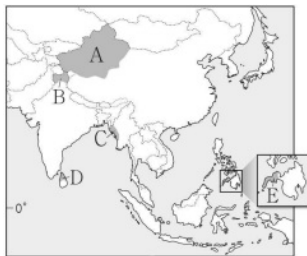
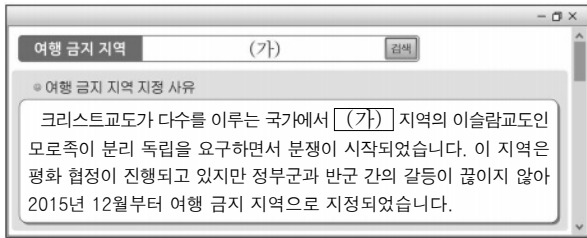
5. 표의 (가) ~ (다) 경제 협력체에 대한 설명으로 옳은 것은? (단, (가) ~ (다)는 각각 유럽 연합, 동남아시아 국가 연합, 미국·멕시코·캐나다 협정 중 하나임.) [3점]

구분	총인구 (백만 명)	총면적 (만 km <sup>2</sup> )	총무역액		역내 총생산 (백억 달러)
			역내 무역액 (백억 달러)	역외 무역액 (백억 달러)	
(가)	448	423	598	438	1,528
(나)	496	2,178	210	333	2,366
(다)	667	449	56	211	300

\* 미국·멕시코·캐나다 협정(USMCA)은 북아메리카 자유 무역 협정(NAFTA)을 재협상하여 새롭게 체결한 협정임. (2020)

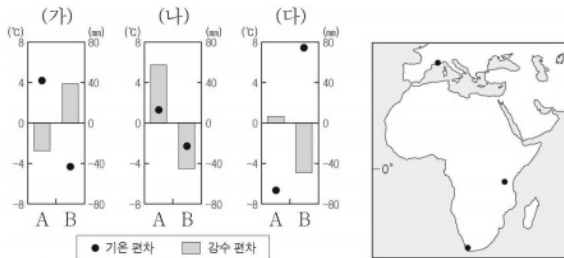
- ① (가)는 역내 생산 요소의 자유로운 이동이 보장된다.
- ② (나)는 (다)보다 회원국 수가 많다.
- ③ (다)는 (가)보다 정치·경제적인 통합 수준이 높다.
- ④ (가) ~ (다) 모두 역외 국가들에 대해 공동 관세를 부과한다.
- ⑤ 유럽 연합은 역외 무역액이 역내 무역액보다 많다.

6. 다음 자료는 여행 금지 지역을 검색한 화면의 일부이다. (가) 지역을 지도의 A ~ E에서 고른 것은?



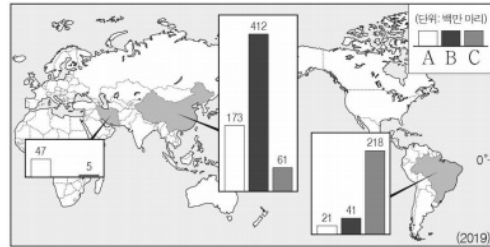
- ① A
- ② B
- ③ C
- ④ D
- ⑤ E

7. 그래프는 지도에 표시된 세 지역의 기후 특성을 나타낸 것이다. (가) ~ (다) 지역에 대한 설명으로 옳은 것은? (단, A, B는 각각 1월과 7월 중 하나임.) [3점]



- ① (가)는 최하월 평균 기온이 18°C 이상이다.
- ② (다)는 A 시기가 B 시기보다 낮의 길이가 길다.
- ③ (가)는 (나)보다 기온의 연교차가 작다.
- ④ (가)는 (다)보다 7월 강수 집중률이 높다.
- ⑤ (다)는 (나)보다 적도 수렴대의 영향을 많이 받는다.

8. 그래프는 지도에 표시된 세 국가의 가축 사육 두수를 나타낸 것이다. A ~ C 가축에 대한 설명으로 옳은 것은? (단, A ~ C는 각각 소, 양, 돼지 중 하나임.)



- ① A는 이슬람 문화권에서 식용이 금기시된다.
- ② B의 털은 모직 공업의 주원료로 이용된다.
- ③ A는 B보다 유목에 적합하다.
- ④ B는 C보다 아시아의 벵골 지역에서 노동력 대체 효과가 크다.
- ⑤ C는 A보다 세계 육류 소비량에서 차지하는 비율이 낮다.

9. 다음 자료의 (가), (나) 도시에 대한 옳은 설명만을 <보기>에서 고른 것은?

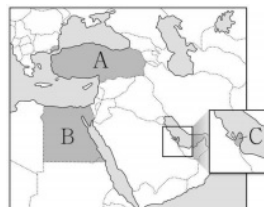


< 보기 >

- ㄱ. (가)는 앵글로아메리카에 위치한다.
- ㄴ. (나)에는 국제 연합(UN)의 본부가 있다.
- ㄷ. (나)는 (가)보다 도시 발달의 역사가 길다.
- ㄹ. (가), (나) 모두 해당 국가의 수도이다.

- ① ㄱ, ㄴ    ② ㄱ, ㄷ    ③ ㄴ, ㄷ    ④ ㄴ, ㄹ    ⑤ ㄷ, ㄹ

10. 그래프는 지도에 표시된 세 국가의 상품 수출 구조를 나타낸 것이다. (가) ~ (다) 국가를 지도의 A ~ C에서 고른 것은? [3점]



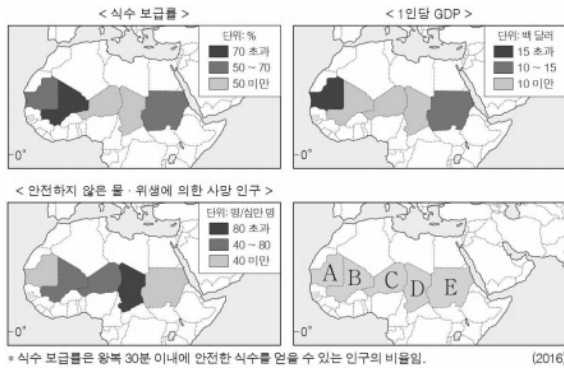
(가) (나) (다)

- ① A B C
- ② A C B
- ③ B A C
- ④ B C A
- ⑤ C A B

11. 다음 자료를 토대로 하나의 국가를 선정하여 식수 시설 개선 사업 비용을 지원하고자 한다. 가장 적합한 국가를 지도의 A~E에서 고른 것은? (단, 합산 점수가 가장 큰 국가를 선정함.) [3점]

<점수 산정 기준>

평가 항목	점수	식수 보급률 (%)	1인당 GDP (백 달러)	안전하지 않은 물·위생에 의한 사망 인구 (명/십만 명)
1점	70 초과	15 초과	40 미만	
2점	50 ~ 70	10 ~ 15	40 ~ 80	
3점	50 미만	10 미만	80 초과	



- ① A    ② B    ③ C    ④ D    ⑤ E

12. 다음 자료는 지도에 표시된 세 산맥이 표현된 국가(國歌) 가사의 일부이다. (가)~(다) 산맥에 대한 옳은 설명만을 <보기>에서 고른 것은? [3점]

J ~ Wenn der Alpenfirn sich rötet, Betet, freie Schweizer ~ J  
 [(가)]의 만년설이 붉게 물들 때면, 기도하라, 자유로운 스위스인이여  
 - 스위스 국가 -

J ~ Vindhya, Himachala, Yamuna, Ganga, uchchala jaladhi taranga ~ J  
 빈디아, [(나)], 야무나, 갠지스여, 온 곳에 파도치는 모든 대양이여  
 - 인도 국가 -

J ~ Bolivar cruza el ande, Que riega dos océanos ~ J  
 [(다)]을/를 건너는 볼리바르, 두 개의 대양에 의해 씻겨지고  
 - 콜롬비아 국가 -

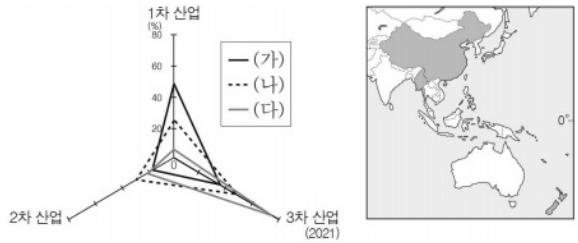


<보기>

- ㄱ. (가)는 고생대의 조산 운동으로 만들어진 산맥이다.  
 ㄴ. (나)는 해양판과 대륙판이 충돌하여 형성되었다.  
 ㄷ. (다)는 환태평양 조산대에 속한다.  
 ㄹ. (다)는 (나)보다 화산 활동이 활발하다.

- ① ㄱ, ㄴ    ② ㄱ, ㄷ    ③ ㄴ, ㄷ    ④ ㄴ, ㄹ    ⑤ ㄷ, ㄹ

13. 그래프는 지도에 표시된 세 국가의 산업별 종사자 비율을 나타낸 것이다. (가)~(다) 국가에 대한 옳은 설명만을 <보기>에서 고른 것은?

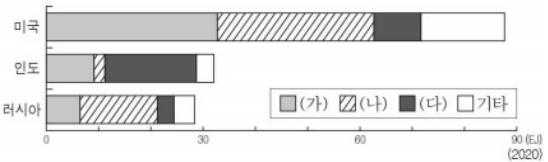


<보기>

- ㄱ. (가)는 세계에서 총인구가 가장 많다.  
 ㄴ. (가)는 (다)보다 쌀 생산량이 많다.  
 ㄷ. (다)는 (나)보다 국내 총생산(GDP)이 많다.  
 ㄹ. (가)와 (나)는 국경을 접하고 있다.

- ① ㄱ, ㄴ    ② ㄱ, ㄷ    ③ ㄴ, ㄷ    ④ ㄴ, ㄹ    ⑤ ㄷ, ㄹ

14. 그래프는 세 국가의 1차 에너지원별 소비량을 나타낸 것이다. (가)~(다)에 대한 설명으로 옳은 것은? (단, (가)~(다)는 각각 석유, 석탄, 천연가스 중 하나임.) [3점]

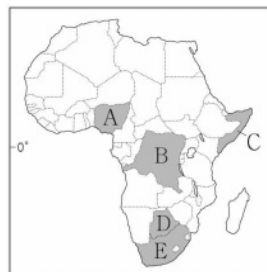


- ① (가)는 세계 1차 에너지 소비량에서 차지하는 비율이 가장 높다.  
 ② (다)는 냉동 액화 기술의 발달로 사용량이 증가하였다.  
 ③ (가)는 (나)보다 수송용으로 이용되는 비중이 낮다.  
 ④ (나)는 (다)보다 연소 시 대기 오염 물질 배출량이 많다.  
 ⑤ (다)는 (가)보다 상용화된 시기가 늦다.

15. 다음 글의 (가) 국가를 지도의 A~E에서 고른 것은?

**우분투(ubuntu)! 갈등을 넘어 화해와 통합을 그리다**

[(가)]의 최초 흑인 대통령인 넬슨 만델라는 우분투를 강조하며, 갈등을 넘어선 통합을 이끌었다. 원주민의 언어로 우분투는 '우리가 있기에 내가 있다.'라는 뜻이다. 아파르트헤이트 종식 이후, 넬슨 만델라는 인종 간의 오랜 갈등을 해소하기 위해 진실과 화해 위원회를 구성하여 차별에 가담한 백인의 참회를 이끌어 내고, 유색 인종의 상처를 보듬어 화해의 새 역사를 썼다.



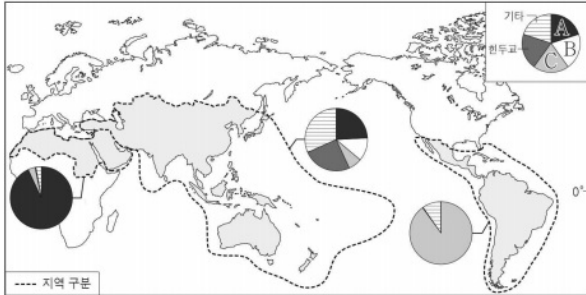
- ① A  
 ② B  
 ③ C  
 ④ D  
 ⑤ E



## 4 (세계지리)

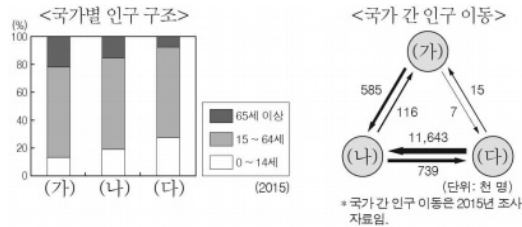
## 사회탐구 영역

16. 그래프는 지도에 표시된 세 지역의 종교별 신자 비율을 나타낸 것이다. A ~ C 종교에 대한 설명으로 옳은 것은? (단, A ~ C는 각각 불교, 이슬람교, 크리스티교 중 하나임.)



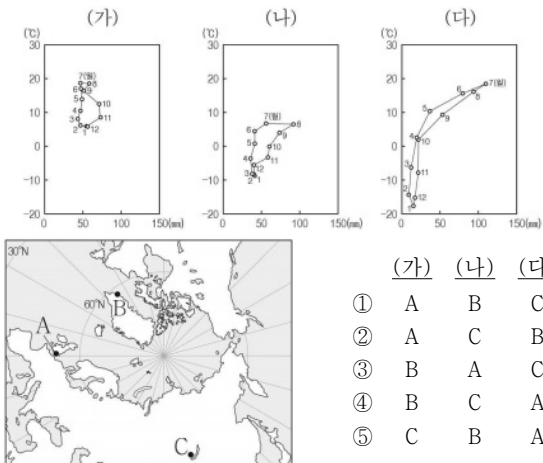
- ① A의 발상지는 남부 아시아이다.
- ② B는 라마단으로 불리는 금식 기간이 있다.
- ③ C의 대표적인 종교 경관으로 사리가 봉안된 탑과 불상이 있다.
- ④ A는 B보다 발생 시기가 이른다.
- ⑤ C는 A보다 전 세계 신자 수가 많다.

17. 그래프는 세 국가의 인구 특성을 나타낸 것이다. 이에 대한 설명으로 옳은 것은? (단, (가) ~ (다)는 각각 독일, 미국, 멕시코 중 하나임.) [3점]



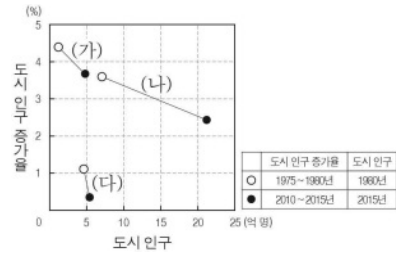
- ① (나)는 유럽 연합(EU)에 속한다.
- ② (가)는 (다)보다 중위 연령이 낮다.
- ③ (나)는 (다)보다 1인당 국내 총생산(GDP)이 많다.
- ④ (다)에서 (나)로의 이주민들은 대부분 고소득 전문직에 종사한다.
- ⑤ 미국에서 독일로 이동한 인구는 미국에서 멕시코로 이동한 인구보다 많다.

18. 그래프는 세 지역의 기후 특성을 나타낸 것이다. (가) ~ (다)에 해당하는 지역을 지도의 A ~ C에서 고른 것은? [3점]



- |   |     |     |     |
|---|-----|-----|-----|
|   | (가) | (나) | (다) |
| ① | A   | B   | C   |
| ② | A   | C   | B   |
| ③ | B   | A   | C   |
| ④ | B   | C   | A   |
| ⑤ | C   | B   | A   |

19. 그래프는 세 지역(대륙)의 도시 인구 특성을 나타낸 것이다. 이에 대한 설명으로 옳은 것은? (단, (가) ~ (다)는 각각 유럽, 아시아, 아프리카 중 하나임.) [3점]



- ① (가)에는 최상위 계층의 세계 도시가 위치한다.
- ② (가)는 (다)보다 산업화 시기가 이른다.
- ③ (다)는 (나)보다 도시화율이 높다.
- ④ 1980년에 도시 인구는 유럽이 아시아보다 많다.
- ⑤ 2010 ~ 2015년의 도시 인구 증가율은 아시아가 가장 높다.

20. 다음 자료의 ㉠ ~ ㉣에 대한 옳은 설명만을 <보기>에서 고른 것은?

지형을 소재로 한 가상 공간 제작하기

• 단원명 건조 및 냉·한대 기후 환경과 지형

• 활동 방법 가상 공간 제작 앱을 활용해 지형이 포함된 가상 공간을 제작하고, 각 모듈이 만든 지형을 개인 아바타를 통해 감상할.

• 모듈별 가상 공간 제작 콘셉트 및 구현할 주요 지형

1모듈	모래 바람이 부는 사막	2모듈	모래로 뒤덮인 사막
3모듈	빙하 주변의 평원	4모듈	만년설이 쌓인 산

㉠ 이랫부분이 질퍽한 버섯 모양의 바위      ㉡ 바람에 의해 쌓인 모래 언덕

㉢ 모래-자갈들이 쌓인 다각형의 지형      ㉣ 산 정상부의 뾰족한 봉우리

< 보기 >

- ㄱ. ㉠은 주로 포상홍수에 의한 침식 작용으로 형성된다.  
 ㄴ. ㉡이 연속적으로 발달한 지형을 바하다라라고 한다.  
 ㄷ. ㉢은 토양 속 수분의 동결과 융해가 반복되면서 형성된다.  
 ㄹ. ㉣은 빙하의 침식 작용에 의해 형성된다.

- ① ㄱ, ㄴ    ② ㄱ, ㄷ    ③ ㄴ, ㄷ    ④ ㄴ, ㄹ    ⑤ ㄷ, ㄹ

### ※ 확인 사항

답안지의 해당란에 필요한 내용을 정확히 기입(표기)했는지 확인하시오.

# 사회탐구 영역(윤리와 사상)

윤리와 사상

제 4 교시

성명

수험 번호

3

제 [ ] 선택

1

1. 다음 가상 편지를 쓴 고대 서양 사상가가 강조하는 삶의 태도로 가장 적절한 것은?

○○○ 시민들에게

여러분은 부와 명성을 최대한 많이 얻으려고 하면서, 지혜와 진리에 대해서는 그리고 자신의 영혼을 선하게 만드는 것에 대해서는 관심조차 없으니 부끄럽지 않습니까? 혹시 여러분 중 누군가가 방금 제가 한 말에 반박한다면 저는 그 사람에게 캐묻고 심문할 것입니다. 그리하여 그가 덕을 지니지 못하면서도 지니고 있다고 주장한다면, 저는 그를 나무랄 것입니다. 여러분! 나 자신과 다른 사람을 검토하는 것은 가장 유익한 일입니다. 검토하지 않는 삶은 가치가 없습니다.

- ① 보편적 진리를 부정하고 진리의 확실성을 의심해야 한다.
- ② 도덕 판단 기준이 상대적임을 알고 각자의 삶을 인정해야 한다.
- ③ 공동체의 전통적 가치와 사회적 관습을 비판 없이 답습해야 한다.
- ④ 강한 자의 이익이 정의임을 깨닫고 세속적 성공을 추구해야 한다.
- ⑤ 지식이 곧 덕임을 자각하여 참된 지식을 얻기 위해 숙고해야 한다.

2. 다음을 주장한 고대 동양 사상가의 입장으로 적절하지 않은 것은?

과수원의 과일을 훔치는 일, 남의 말이나 소를 훔치는 일, 죄 없는 사람을 죽이는 일, 남의 나라를 침략하는 일, 이 모든 일은 정의롭지 못한 행동들이지만, 그중에서도 가장 큰 불의(不義)는 남의 나라를 침략하는 일이다. 이는 모든 사람을 똑같이 사랑[兼愛]하지 않기 때문에 발생하는 천하의 해로움이다.

- ① 타국을 정복하려는 모든 전쟁은 정당화될 수 없다.
- ② 전쟁은 침략하는 국가에게도 경제적 손실을 일으킨다.
- ③ 강대국의 침략을 방어하기 위한 전쟁은 허용될 수 있다.
- ④ 분별적 사랑[別愛]을 실천하여 자국의 이익을 우선해야 한다.
- ⑤ 군사를 동원하는 공격 전쟁은 백성들에게 이익이 되지 않는다.

3. 고대 서양 사상가 갑, 을의 입장으로 가장 적절한 것은?

갑: 우리는 자연에 복종해야 한다. 욕망들 중 어떤 것은 자연적이고 어떤 것은 공허하다. 이러한 사실을 잘 관찰하는 것은 몸의 건강과 마음의 평안을 얻도록 해 준다. 우리는 몸의 고통이나 마음의 혼란에서 벗어날 것을 쾌락의 목표로 삼아야 한다.

을: 우리는 자연이 요구하는 것을 행해야 한다. 외적 원인에 일어나는 일에 대해서는 중요하지 말고, 우리 안에 있는 원인 때문에 일어나는 일에 대해서는 정의롭게 대처해야 한다. 우리는 공동체를 위한 활동을 행위의 목표로 삼아야 한다.

- ① 갑: 고통은 인간에게 해가 되므로 언제나 회피해야 한다.
- ② 갑: 자연적이며 필수적인 욕구까지 제거해야 참된 쾌락을 얻는다.
- ③ 을: 주어진 운명을 극복하고 공동체의 의무를 이행해야 한다.
- ④ 을: 일어난 일은 바꿀 수 없으나 그 일에 대한 내 판단은 바꿀 수 있다.
- ⑤ 갑, 을: 자연적 욕구를 따르기만 하면 저절로 행복을 얻을 수 있다.

4. 중국 유교 사상가 갑, 을의 입장으로 적절한 것만을 <보기>에서 있는 대로 고른 것은? [3점]

갑: 마음의 본체는 모든 것을 포용하니 원래 하나의 하늘이고, 마음의 이치는 끝이 없으니 원래 하나의 연못이다. 다만 사욕으로 하늘과 연못의 본체가 상실될 뿐이다. 모든 생각마다 양지를 발휘[致良知]하면 본체는 회복되어 하늘과 연못이 된다.

을: 마음은 영명하여 모든 앎[知]이 구비되어 있고, 천하의 사물은 이치가 내재되어 있다. 다만 그 이치를 제대로 궁구(窮究)하지 못한 까닭에 앎이 극진하지 못한 상태에 있다. 앎을 극진히 이루려면 사물에 나아가 그 이치를 궁구해야 한다.

< 보기 >

ㄱ. 갑: 앎과 행함[行]은 별개가 아니므로 선후가 있을 수 없다.  
 ㄴ. 갑: 마음의 일[事]을 바로잡는 수양으로 양지를 형성해야 한다.  
 ㄷ. 을: 앎을 지극히 하기 위해 사물의 이치를 탐구해야 한다.  
 ㄹ. 갑, 을: 이기적 욕망을 제거하여 천리(天理)를 보존해야 한다.

- ① ㄱ, ㄷ
- ② ㄴ, ㄷ
- ③ ㄴ, ㄹ
- ④ ㄱ, ㄴ, ㄹ
- ⑤ ㄱ, ㄷ, ㄹ

5. (가)의 근대 서양 사상가 갑, 을의 입장을 (나) 그림으로 표현할 때, A~C에 해당하는 진술로 적절한 것만을 <보기>에서 있는 대로 고른 것은? [3점]

(가)	<p>갑: 행위는 좋은 결과의 총합과 나쁜 결과의 총합의 차이에 따라서 더 유해하거나 덜 유해하다. 그러므로 유용성의 원리에 따라 쾌락의 양을 증가시키거나 고통의 양을 감소시켜야 한다.</p> <p>을: 행위를 통해 발생하는 쾌락을 평가할 때 오직 수량에만 의존하는 것은 어리석은 일이다. 어떤 종류의 쾌락은 다른 종류의 쾌락보다 더 바람직하므로 쾌락을 평가할 때 양뿐만 아니라 질도 고려해야 한다.</p>
(나)	<div style="border: 1px solid black; padding: 5px; margin-top: 10px;"> <p style="text-align: center;">&lt; 범례 &gt;</p> <p>A: 갑만의 입장                  B: 갑, 을의 공통 입장                  C: 을만의 입장</p> </div>

< 보기 >

ㄱ. A: 모든 쾌락의 가치는 양적 차이로만 판단되어서는 안 된다.  
 ㄴ. B: 사회의 행복을 증진하는 데 유용한 행위가 옳은 행위이다.  
 ㄷ. C: 행위의 옳고 그름은 그 행위가 산출하는 결과로 판단된다.  
 ㄹ. C: 여러 쾌락을 경험한 자가 선호하는 쾌락이 질 높은 쾌락이다.

- ① ㄱ, ㄷ
- ② ㄱ, ㄹ
- ③ ㄴ, ㄹ
- ④ ㄱ, ㄴ, ㄷ
- ⑤ ㄴ, ㄷ, ㄹ

## 2 (윤리와 사상)

## 사회탐구 영역

6. 그림은 현대 서양 사상가 갑, 을의 가상 대화이다. 갑, 을의 입장으로 적절한 것만을 <보기>에서 있는 대로 고른 것은?

인간은 자신의 존재를 이해하려는 현존재입니다. 현존재는 자신이 죽음에 이르는 사실로 인해 불안을 느끼지만, 이 불안을 용기 있게 받아들인다면 본래적 실존으로 돌아갈 수 있습니다.



갑

인간은 죽음, 고통 등의 한계 상황에 직면하여 자신의 유한성을 깨닫고 좌절하게 됩니다. 이 좌절을 외면하지 않고 한계 상황을 직시할 때 초월자의 존재를 수용하고 참된 실존에 도달할 수 있습니다.



을

< 보기 >

- ㄱ. 갑: 실존의 상황 속에서 객관적 진리만을 추구해야 한다.
- ㄴ. 갑: 죽음에 대한 불안은 자신의 고유성을 자각하는 계기이다.
- ㄷ. 을: 초월자와의 단절을 추구할 때 한계 상황을 극복할 수 있다.
- ㄹ. 갑, 을: 구체적인 선택의 상황에서 주체적 결단을 내려야 한다.

- ① ㄱ, ㄷ                      ② ㄴ, ㄹ                      ③ ㄷ, ㄹ
- ④ ㄱ, ㄴ, ㄷ                ⑤ ㄱ, ㄴ, ㄹ

7. 고대 동양 사상가 갑, 을의 입장으로 가장 적절한 것은?

갑: 인간은 본성대로만 한다면 누구나 선하게 될 수 있다. 사덕(四德)은 외부로부터 내게 스며든 것이 아니라 내게 본래부터 있던 것들인데, 다만 가지고 있다는 생각을 못 할 뿐이다.  
 을: 인간의 본성은 이익을 좋아하여 그것을 얻으려고 하는 것이다. 예의와 법도는 성인(聖人)의 인위[僞]에서 나온 것이지, 인간의 본성에서 나온 것이 아니다.

- ① 갑: 본성을 확충하여 인의예지의 덕을 형성해야 한다.
- ② 갑: 옳은 일을 지속적으로 실천해 본성을 함양해야 한다.
- ③ 을: 본성을 회복하기 위해 예법(禮法)을 익혀야 한다.
- ④ 을: 성현(聖賢)의 가르침에 따라 본성을 보존해야 한다.
- ⑤ 갑, 을: 성인과 백성의 본성이 서로 다름을 인식해야 한다.

8. 다음을 주장한 고대 서양 사상가의 입장으로 적절한 것만을 <보기>에서 고른 것은? [3점]

지적 덕의 기원은 교육에 있으므로 경험과 시간을 필요로 한다. 반면 도덕적 덕은 습관의 결과로 얻어진다. 도덕적 덕은 본성적으로 생겨나는 것도 아니고, 본성에 반하여 생겨나는 것도 아니다. 도덕적 덕은 먼저 실천함으로써 얻게 되는 것이다. 우리는 절제 있는 행위를 실천함으로써 절제 있는 사람이 된다. 절제는 지나침과 모자람에 의해 상실되고, 중용에 의해 보존된다.

< 보기 >

- ㄱ. 인간의 행위와 감정에 관계된 도덕적 덕과 악덕이 존재한다.
- ㄴ. 도덕적 덕은 본성적으로 받아들일 수 있으며 습관의 결과이다.
- ㄷ. 덕은 지적 덕과 도덕적 덕으로 구분되며 서로 관여하지 않는다.
- ㄹ. 도덕적 덕은 두 악덕 사이에서 산술적 중간을 따르는 중용이다.

- ① ㄱ, ㄴ                      ② ㄱ, ㄷ                      ③ ㄴ, ㄷ                      ④ ㄴ, ㄹ                      ⑤ ㄷ, ㄹ

9. 사회사상가 갑, 을의 입장으로 적절한 것만을 <보기>에서 고른 것은? [3점]

갑: 자연 상태에서 인간은 평등하지만, 평등에서 불신이 생기게 되고 이 불신으로 인해 전쟁 상태에 놓이게 된다. 인간은 전쟁 상태인 자연 상태에서 벗어나기 위해 국가에 자신의 권리를 양도해야 한다.

을: 자연 상태에서 인간은 자기 자신의 주인으로서 자유롭지만, 사유 재산의 발생과 더불어 불평등과 예측의 상태에 놓이게 된다. 우리 각자는 그러한 상태에서 벗어나기 위해 공동으로 자신의 모든 힘을 일반 의지의 최고 지도하에 두어야 한다.

< 보기 >

- ㄱ. 갑: 자연 상태의 인간은 자기 보존을 위해 국가를 수립한다.
- ㄴ. 갑: 공동의 권력이 없는 자연 상태에서는 부정의만이 존재한다.
- ㄷ. 을: 정부는 공익을 추구하는 일반 의지의 대리인에 불과하다.
- ㄹ. 갑, 을: 주권은 계약 당사자인 국민에게 있으며 분할될 수 없다.

- ① ㄱ, ㄴ                      ② ㄱ, ㄷ                      ③ ㄴ, ㄷ                      ④ ㄴ, ㄹ                      ⑤ ㄷ, ㄹ

10. (가)의 근대 한국 사상가 갑, 을의 입장을 (나) 그림으로 탐구할 때, A~C에 들어갈 질문으로 가장 적절한 것은? [3점]

(가)	<p>갑: 한울님의 영(靈)은 착한 자와 악한 자를 가리면서 강립하지 않는다. 도를 등지고 돌아서는 사람들에게 해가 있게 되든지 덕이 있게 되든지, 그것은 한울님께 달려 있으므로 내가 말할 바가 아니다.</p> <p>을: 선천에서는 인간 사물이 모두 상극에 지배되어 세상에 원한이 쌓이고 맺혔다. 그러므로 내가 천지의 도수(度數)를 정리하고 신명을 조화하여 만고의 원한을 풀고 상생(相生)의 도로 세계의 민생을 건지려 한다.</p>
(나)	

- ① A: 신분 차별이 없는 평등한 세상을 현세에서 이루어야 하는가?
- ② B: 무한한 존재인 한울님의 마음과 사람의 마음은 다른 것인가?
- ③ B: 봉건적 신분 질서를 수호하여 민족의 위기를 극복해야 하는가?
- ④ C: 서양 종교와 학문에 의존하여 상생의 도를 실현해야 하는가?
- ⑤ C: 지상 낙원을 건설하기 위해 온갖 원한을 풀어 없애야 하는가?

11. 갑, 을은 한국 유교 사상가들이다. 갑의 입장에 대해 을이 제기할 비판으로 가장 적절한 것은? [3점]

갑: 사단(四端)이 마음 밖의 사물에 감응하여 움직이는 정감이 라는 사실에서도 칠정(七情)과 다르지 않다. 그렇지만 분명한 사실은 사단은 이(理)가 발현하되 기(氣)가 그것을 따른 것이고, 칠정은 기가 발현하되 이가 그것을 탄 것이다.  
 을: 사단과 칠정은 모두 기가 발현하되 이가 그것을 탄 것이다. 그러므로 “사단은 이가 발현하되 기가 그것을 따른 것이다.”는 옳은 이치가 아니다. 기는 유위(有爲)하고 이는 무위(無爲)하므로 사단은 기가 발현하되 이가 그것을 탄 것이다.

- ① 사단은 칠정의 일부이며 사단과 칠정의 발현하는 연원은 동일하다.
- ② 사단은 순수한 선(善)이고 칠정은 선악이 혼재되어 있는 것이다.
- ③ 사단은 본성[性]이고 칠정은 감정[情]이므로 서로 섞일 수 없다.
- ④ 사단과 칠정의 탁한 기질을 교정해야 도덕 본성을 실현할 수 있다.
- ⑤ 사단은 사덕이 본성에 내재한다는 것을 알게 해 주는 실마리이다.

12. 중세 서양 사상이 갑, 을의 입장으로 가장 적절한 것은? [3점]

갑: 신은 모든 자연적 존재를 창조하되, 결합까지 창조하지는 않았다. 지상의 나라에 속한 인간이 자진해서 부패하였으며, 자유 의지가 악용되었기에 인류의 불행이 지속되었다. 신은 모든 선한 것의 이데아이자, 완전한 선이다.  
 을: 신은 자연의 필연성을 통해서가 아니라 지성과 의지를 통해 사물들이 존재하도록 창조했다. 신은 제1 원인이며, 이성적 피조물의 최종 목적은 본질에 따라 신을 보는 것이다. 이성적 피조물 안에서 영원법의 참여가 자연법이다.

- ① 갑: 인간의 자유 의지는 신과 무관하게 내재한 본성적 능력이다.
- ② 갑: 선은 신으로부터 유래하며 악은 인간의 자유 의지에서 기원한다.
- ③ 을: 신의 존재에 대한 철학적 논증이 인간의 궁극적인 목적이다.
- ④ 을: 인간은 이성을 발휘하여 영원법을 완전하게 파악할 수 있다.
- ⑤ 갑, 을: 인간은 도덕적 덕을 갖추는 것으로도 영원한 행복을 얻는다.

13. 고대 서양 사상이 갑, 사회사상가 을의 입장으로 가장 적절한 것은?

갑: 철인(哲人)이 모든 나라의 왕이 되거나, 현재의 왕이나 통치자라고 불리는 이들이 진정한 철인이 되지 않는 한, 그리하여 정치권력과 철학이 하나로 결합하지 않는 한, 나라의 나쁜 것들은 종식되지 않을 것이다.  
 을: 유토피아에서는 성인 남녀 모두가 생산적 노동에 종사하며 정신적 오락을 즐긴다. 모두가 필요한 것을 공정하게 분배받으므로 경제적으로 풍요로우며, 개인의 소유물은 없기 때문에 집집마다 빚장을 거는 일이 없다.

- ① 갑: 이상 사회에서는 지혜를 갖춘 철학자가 통치를 담당한다.
- ② 갑: 이상 사회에서는 계층 간 역할 교환이 자유롭게 이루어진다.
- ③ 을: 이상 사회에서는 낭비를 막기 위해 문화생활이 금지된다.
- ④ 을: 이상 사회에서는 필요가 아닌 능력에 따라 재화가 분배된다.
- ⑤ 갑, 을: 이상 사회에서는 누구도 사유 재산을 소유할 수 없다.

14. 그림은 사회사상가 갑, 을의 가상 대화이다. 갑, 을의 입장으로 적절한 것만을 <보기>에서 있는 대로 고른 것은?

민주주의는 시민이 실제로 통치한다는 것을 의미하지도 않고, 또한 의미할 수도 없습니다. 민주주의는 시민이 자신들을 통치할 예정인 대표자를 승인하거나 거부할 기회를 가지고 있음을 의미할 뿐입니다. 민주주의는 정치가의 지배입니다.  
 민주주의에서는 시민의 공적 심의가 반드시 기능해야만 합니다. 시민이 정치적 문제를 심의함으로써 자신의 정치적 지지 근거를 토론할 수 있습니다. 시민은 합당한 정치적 정권의 틀 내에서 심의할 때 공적 이성에 가담하게 됩니다.

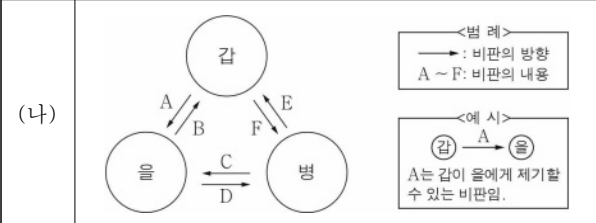


< 보기 >  
 가. 갑: 민주주의는 정치가가 권력 획득을 위해 경쟁하는 제도이다.  
 나. 을: 시민은 공적 심의를 통해 자신의 지지 근거를 수정할 수 있다.  
 다. 을: 시민의 활발한 공적 심의는 민주주의의 정치적 공간이 된다.  
 라. 갑, 을: 시민은 정책을 결정하는 모든 과정에 직접 참여해야 한다.

- ① 가, 다                      ② 나, 라                      ③ 다, 라
- ④ 가, 나, 다                ⑤ 가, 나, 라

15. (가)의 사회사상가 갑, 을, 병의 입장에서 서로에게 제기할 수 있는 비판을 (나) 그림으로 표현할 때, A~F에 해당하는 내용으로 가장 적절한 것은? [3점]

(가)  
 갑: 보이지 않는 손은 삶의 필수품들을 거의 동등하게 분할하고, 부(富)를 가진 이들은 결코 본인들이 의도하거나 인지함이 없이 사회의 공익을 증진시킨다.  
 을: 모든 사회 질서를 폭력적으로 타도해야만 사유 재산의 철폐라는 목적이 달성될 수 있다. 지배 계급으로 하여금 공산주의 혁명 앞에서 진을케 해야 한다.  
 병: 자유 없이 사회주의는 존재할 수 없다. 사회주의는 민주주의를 통해서만 달성할 수 있다. 민주주의는 오직 사회주의를 통해서만 완전히 실현될 수 있다.



- ① A, F: 개인의 자비심이 국가의 부를 증진하는 원천임을 간과한다.
- ② B: 분업을 통한 생산력 증대가 계급 간 연대의 출발임을 간과한다.
- ③ C: 공유제의 틀 아래 일부의 사적 소유를 인정해야 함을 간과한다.
- ④ D: 사회주의의 이상을 민주적 수단을 통해 추구해야 함을 간과한다.
- ⑤ E: 시장은 국가의 개입이 없어야 조화를 이룰 수 있음을 간과한다.

## 4 (윤리와 사상)

# 사회탐구 영역

16. 갑, 을은 고대 동양 사상가들이다. 갑은 긍정, 을은 부정의 대답을 할 질문으로 가장 적절한 것은?

갑: 백성을 다스리기 어려운 것은 윗사람이 무엇인가를 하려고 하기 때문이다. 임금이나 제후가 무위(無爲)를 지키면 백성이 저절로 바뀌고 욕심을 내지 않아 순박하게 된다. 억지로 하는 것이 없으면 다스려지지 않는 것이 하나도 없다.  
 을: 백성을 법령으로 지도하고 형벌로 다스리면 법망을 벗어나고도 부끄러움을 모른다. 백성을 덕(德)으로 지도하고 예(禮)로써 다스리면 부끄러워할 줄도 알고 또 바르게 된다. 백성이 인(仁)에 뜻을 두게 되면 나쁜 짓을 하지 않는다.

- ① 법률과 형벌을 다스림의 근본으로 삼아야 하는가?
- ② 덕으로써 인도하는 다스림을 통해 백성을 교화해야 하는가?
- ③ 분별적 지혜를 쌓아 인위적인 다스림에서 벗어나야 하는가?
- ④ 예악(禮樂)을 통한 다스림으로 인륜(人倫)을 실현해야 하는가?
- ⑤ 무위의 다스림으로 문명의 발달이 없는 사회를 지향해야 하는가?

17. 근대 서양 사상이 갑, 을의 입장으로 가장 적절한 것은? [3점]

갑: 아무런 제한 없이 선하다고 할 수 있는 것은 오직 선의지뿐이다. 선의지는 보석과 같이 그 자체만으로도, 그 안에 온전한 가치를 가진 것으로서 빛난다. 유용한 것인가 아닌가 하는 것은 이 가치에 아무것도 증감시킬 수 없다.  
 을: 이성만 정념들을 충족시킬 수 있도록, 그리고 고통을 피할 수 있도록 인도하는 정보들을 전해줄 수 있을 뿐 행위의 동기를 제공하지는 않는다. 이성은 정념에 봉사하고 복종하는 것 외에는 결코 어떤 직무도 요구해서는 안 된다.

- ① 갑: 행복 증진에 유용한 모든 행위는 도덕적 가치를 지닌다.
- ② 갑: 선의지는 경향성에 따라 옳은 행위를 실천하려는 의지이다.
- ③ 을: 덕과 악덕은 도덕감을 통해서 그 차이를 구별할 수 있다.
- ④ 을: 이성은 그 자체로 도덕적 행위의 직접적 동기를 제공한다.
- ⑤ 갑, 을: 도덕적 가치는 사회 구성원 다수의 승인에 의해 결정된다.

18. 그림의 강연자가 지지할 주장으로 적절한 것만을 <보기>에서 고른 것은?

하늘은 인간에게 주체적으로 결정할 수 있는 권능 [自主之權]을 부여하였으니, 선을 행하고 싶으면 선을 행하고 악을 행하고 싶으면 악을 행할 수 있어 방향이 정해지지 않았습니니다. 그 권능이 자신에게 있으니 금수(禽獸)가 정해진 마음을 갖고 있는 것과 다릅니다. 그러므로 선을 행하면 실제로 자기의 공이 되고 악을 행하면 진실로 자기의 죄가 됩니다. 이것은 마음의 권능이지 이른바 본성[性]이 아닙니다.



< 보기 >

ㄱ. 선악의 선택에 영향을 주는 인간의 욕구를 모두 제거해야 한다.  
 ㄴ. 인간은 측은지심의 실천을 통해 인(仁)의 덕을 획득해야 한다.  
 ㄷ. 인간은 선을 좋아하고 악을 미워하는 기호(嗜好)를 지니고 있다.  
 ㄹ. 인간의 본성은 하늘의 이치[天理]이자 선을 지향하는 마음이다.

- ① ㄱ, ㄴ    ② ㄱ, ㄷ    ③ ㄴ, ㄷ    ④ ㄴ, ㄹ    ⑤ ㄷ, ㄹ

19. 불교 사상이 갑, 을의 입장으로 적절한 것만을 <보기>에서 있는 대로 고른 것은? [3점]

갑: 여러 인연으로 일어나는 것을 공(空)이라고 하며, 이것은 임시로 붙인 이름이고, 또한 그것을 중도(中道)라고도 한다. 모든 것이 공하지 않다면 생멸(生滅)은 없다. 그렇다면 사성제(四聖諦)의 진리도 있을 수 없다.  
 을: 오식(五識)이 연(緣)에 따라 일어나는데, 모두 함께 작용하기도 하고 각각 작용하기도 한다. 이 모든 의식[識]이 전변해서 분별과 분별되는 것으로 나뉜다. 이것에 의지해서 나타나는 이것과 저것은 모두 존재하지 않으니 일체가 유식(唯識)이다.

< 보기 >

ㄱ. 갑: 있음과 없음의 양극단에서 벗어나 중도를 수행해야 한다.  
 ㄴ. 갑: 무아(無我)를 깨달아 사물에 대한 집착에서 벗어나야 한다.  
 ㄷ. 을: 마음 안의 고유한 실체를 파악해야 해탈에 이를 수 있다.  
 ㄹ. 갑, 을: 모든 것은 인연에 따라 생겨나므로 자성(自性)이 없다.

- ① ㄱ, ㄴ    ② ㄱ, ㄷ    ③ ㄷ, ㄹ
- ④ ㄱ, ㄴ, ㄹ    ⑤ ㄴ, ㄷ, ㄹ

20. 다음을 주장한 근대 서양 사상가의 입장에만 모두 '✓'를 표시한 학생은?

이성을 완전하게 한다는 것은 신과 신의 본성으로부터 필연적으로 생기는 활동들을 인식하는 것이다. 가장 유익한 삶이란 가능한 한 이성을 완전하게 하는 삶이며, 이를 통해서만 인간은 지복(至福)에 이를 수 있다. 지복이란 신의 직관적 인식에서 생기는 정신의 만족일 뿐이다.

입장	학생	갑	을	병	정	무
인간의 최고선은 유일한 실체인 신을 인식하는 것이다.		✓	✓		✓	
인간은 인격신에 대한 지적 사랑으로 행복을 누릴 수 있다.				✓	✓	✓
모든 것은 신적 본성의 필연성에 의해 존재하도록 결정되어 있다.		✓			✓	✓
인간은 자유 의지를 발휘할수록 이성이 인도하는 삶을 살 수 있게 된다.			✓	✓		✓

- ① 갑    ② 을    ③ 병    ④ 정    ⑤ 무

### ※ 확인 사항

답안지의 해당란에 필요한 내용을 정확히 기입(표기)했는지 확인하십시오.