

2022학년도 4월 고3 전국연합학력평가 문제지

수학 영역

성명		수험 번호					3			
----	--	-------	--	--	--	--	---	--	--	--

- 문제지의 해당란에 성명과 수험 번호를 정확히 쓰시오.
- 답안지의 필적 확인란에 다음의 문구를 정자로 기재하십시오.
겨울이 길면 봄은 더욱 따뜻하리
- 답안지의 해당란에 성명과 수험 번호를 쓰고, 또 수험 번호, 선택과목, 답을 정확히 표시하십시오.
- 단답형 답의 숫자에 '0'이 포함되면 그 '0'도 답란에 반드시 표시하십시오.
- 문항에 따라 배점이 다르니, 각 물음의 끝에 표시된 배점을 참고하십시오. 배점은 2점, 3점 또는 4점입니다.
- 계산은 문제지의 여백을 활용하십시오.

- ※ 공통과목 및 자신이 선택한 과목의 문제지를 확인하고, 답을 정확히 표시하십시오.
- 공통과목 1~8 쪽
- 선택과목
 - 확률과 통계 9~12 쪽
 - 미적분 13~16 쪽
 - 기하 17~20 쪽

※ 시험이 시작되기 전까지 표지를 넘기지 마시오.

수학 영역

제 2 교시

1

5지선다형

1. $(27 \times \sqrt{8})^{\frac{2}{3}}$ 의 값은? [2점]

- ① 9 ② 12 ③ 15 ④ 18 ⑤ 21

2. 함수 $f(x) = x^3 + 7x - 4$ 에 대하여 $f'(1)$ 의 값은? [2점]

- ① 6 ② 7 ③ 8 ④ 9 ⑤ 10

3. $\lim_{x \rightarrow 3} \frac{\sqrt{2x-5}-1}{x-3}$ 의 값은? [3점]

- ① 1 ② 2 ③ 3 ④ 4 ⑤ 5

4. 등비수열 $\{a_n\}$ 에 대하여 $a_2 = 1$, $a_5 = 2(a_3)^2$ 일 때, a_6 의 값은?

[3점]

- ① 8 ② 10 ③ 12 ④ 14 ⑤ 16

5. 부등식 $\log_2 x \leq 4 - \log_2(x-6)$ 을 만족시키는 모든 정수 x 의 값의 합은? [3점]

- ① 15 ② 19 ③ 23 ④ 27 ⑤ 31

6. $\sin\theta + \cos\theta = \frac{1}{2}$ 일 때, $(2\sin\theta + \cos\theta)(\sin\theta + 2\cos\theta)$ 의 값은?

[3점]

- ① $\frac{1}{8}$ ② $\frac{1}{4}$ ③ $\frac{3}{8}$ ④ $\frac{1}{2}$ ⑤ $\frac{5}{8}$

7. $f(3) = 2$, $f'(3) = 1$ 인 다항함수 $f(x)$ 와 최고차항의 계수가 1인 이차함수 $g(x)$ 가

$$\lim_{x \rightarrow 3} \frac{f(x) - g(x)}{x - 3} = 1$$

을 만족시킬 때, $g(1)$ 의 값은? [3점]

- ① 3 ② 4 ③ 5 ④ 6 ⑤ 7

8. 공비가 $\sqrt{3}$ 인 등비수열 $\{a_n\}$ 과 공비가 $-\sqrt{3}$ 인 등비수열 $\{b_n\}$ 에 대하여

$$a_1 = b_1, \quad \sum_{n=1}^8 a_n + \sum_{n=1}^8 b_n = 160$$

일 때, $a_3 + b_3$ 의 값은? [3점]

- ① 9 ② 12 ③ 15 ④ 18 ⑤ 21

10. 수직선 위를 움직이는 점 P의 시각 $t(t \geq 0)$ 에서의 속도 $v(t)$ 가

$$v(t) = 3(t-2)(t-a) \quad (a > 2 \text{인 상수})$$

이다. 점 P의 시각 $t=0$ 에서의 위치는 0이고, $t > 0$ 에서 점 P의 위치가 0이 되는 순간은 한 번뿐이다. $v(8)$ 의 값은? [4점]

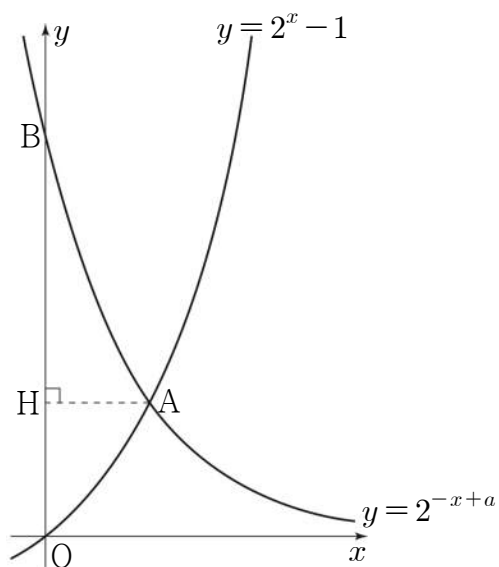
- ① 27 ② 36 ③ 45 ④ 54 ⑤ 63

9. 그림과 같이 두 곡선 $y = 2^{-x+a}$, $y = 2^x - 1$ 이 만나는 점을 A,

곡선 $y = 2^{-x+a}$ 이 y 축과 만나는 점을 B라 하자.

점 A에서 y 축에 내린 수선의 발을 H라 할 때, $\overline{OB} = 3 \times \overline{OH}$ 이다.

상수 a 의 값은? (단, O는 원점이다.) [4점]



- ① 2 ② $\log_2 5$ ③ $\log_2 6$ ④ $\log_2 7$ ⑤ 3

11. 자연수 k 에 대하여 $0 \leq x < 2\pi$ 일 때, x 에 대한 방정식

$$\sin kx = \frac{1}{3}$$

의 서로 다른 실근의 개수가 8이다.

$0 \leq x < 2\pi$ 일 때, x 에 대한 방정식 $\sin kx = \frac{1}{3}$ 의 모든 해의 합은? [4점]

- ① 5π ② 6π ③ 7π ④ 8π ⑤ 9π

12. 수열 $\{a_n\}$ 이 다음 조건을 만족시킨다.

(가) $1 \leq n \leq 4$ 인 모든 자연수 n 에 대하여

$$a_n + a_{n+4} = 15$$

이다.

(나) $n \geq 5$ 인 모든 자연수 n 에 대하여 $a_{n+1} - a_n = n$ 이다.

$\sum_{n=1}^4 a_n = 6$ 일 때, a_5 의 값은? [4점]

- ① 1 ② 3 ③ 5 ④ 7 ⑤ 9

13. 다항함수 $f(x)$ 가

$$\lim_{x \rightarrow 2} \frac{1}{x-2} \int_1^x (x-t)f(t)dt = 3$$

을 만족시킬 때, $\int_1^2 (4x+1)f(x)dx$ 의 값은? [4점]

- ① 15 ② 18 ③ 21 ④ 24 ⑤ 27

14. 정수 k 와 함수

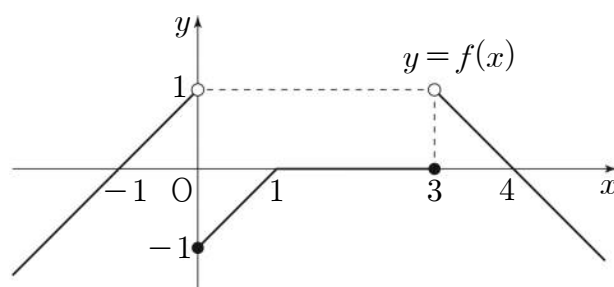
$$f(x) = \begin{cases} x+1 & (x < 0) \\ x-1 & (0 \leq x < 1) \\ 0 & (1 \leq x \leq 3) \\ -x+4 & (x > 3) \end{cases}$$

에 대하여 함수 $g(x)$ 를 $g(x) = |f(x-k)|$ 라 할 때,
<보기>에서 옳은 것만을 있는 대로 고른 것은? [4점]

〈 보 기 〉

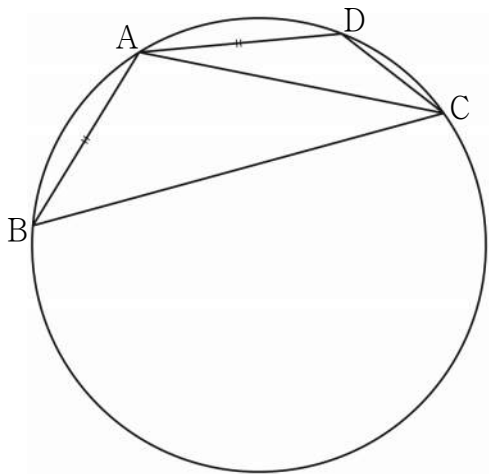
- ㄱ. $k = -3$ 일 때, $\lim_{x \rightarrow 0^-} g(x) = g(0)$ 이다.
- ㄴ. 함수 $f(x) + g(x)$ 가 $x = 0$ 에서 연속이 되도록 하는 정수 k 가 존재한다.
- ㄷ. 함수 $f(x)g(x)$ 가 $x = 0$ 에서 미분가능하도록 하는 모든 정수 k 의 값의 합은 -5 이다.

- ① ㄱ ② ㄷ ③ ㄱ, ㄴ
④ ㄱ, ㄷ ⑤ ㄱ, ㄴ, ㄷ



15. 그림과 같이 반지름의 길이가 R ($5 < R < 5\sqrt{5}$)인 원에 내접하는 사각형 ABCD가 다음 조건을 만족시킨다.

- $\overline{AB} = \overline{AD}$ 이고 $\overline{AC} = 10$ 이다.
- 사각형 ABCD의 넓이는 40이다.



다음은 선분 BD의 길이와 R 의 비를 구하는 과정이다.

$\overline{AB} = \overline{AD} = k$ 라 할 때
 두 삼각형 ABC, ACD에서 각각 코사인법칙에 의하여

$$\cos(\angle ACB) = \frac{1}{20} \left(\overline{BC} + \frac{\boxed{\text{(가)}}}{\overline{BC}} \right),$$

$$\cos(\angle DCA) = \frac{1}{20} \left(\overline{CD} + \frac{\boxed{\text{(가)}}}{\overline{CD}} \right)$$

이다.
 이때 두 호 AB, AD에 대한 원주각의 크기가 같으므로
 $\cos(\angle ACB) = \cos(\angle DCA)$ 이다.
 사각형 ABCD의 넓이는
 두 삼각형 ABD, BCD의 넓이의 합과 같으므로

$$\frac{1}{2} k^2 \sin(\angle BAD) + \frac{1}{2} \times \overline{BC} \times \overline{CD} \times \sin(\pi - \angle BAD) = 40$$

에서 $\sin(\angle BAD) = \boxed{\text{(나)}}$ 이다.
 따라서 삼각형 ABD에서 사인법칙에 의하여
 $\overline{BD} : R = \boxed{\text{(다)}} : 1$ 이다.

위의 (가)에 알맞은 식을 $f(k)$ 라 하고, (나), (다)에 알맞은 수를 각각 p, q 라 할 때, $\frac{f(10p)}{q}$ 의 값은? [4점]

- ① $\frac{25}{2}$ ② 15 ③ $\frac{35}{2}$ ④ 20 ⑤ $\frac{45}{2}$

단답형

16. $\log_2 9 \times \log_3 16$ 의 값을 구하시오. [3점]

17. 곡선 $y = -x^2 + 4x - 4$ 와 x 축 및 y 축으로 둘러싸인 부분의 넓이를 S 라 할 때, $12S$ 의 값을 구하시오. [3점]

18. 다항함수 $f(x)$ 의 한 부정적분 $F(x)$ 가 모든 실수 x 에 대하여

$$F(x) = (x+2)f(x) - x^3 + 12x$$

를 만족시킨다. $F(0) = 30$ 일 때, $f(2)$ 의 값을 구하시오. [3점]

19. 모든 실수 x 에 대하여 부등식

$$x^4 - 4x^3 + 16x + a \geq 0$$

이 항상 성립하도록 하는 실수 a 의 최솟값을 구하시오. [3점]

20. 최고차항의 계수가 1인 삼차함수 $f(x)$ 가

모든 실수 x 에 대하여 $f(-x) = -f(x)$ 를 만족시킨다.

양수 t 에 대하여 좌표평면 위의 네 점 $(t, 0)$, $(0, 2t)$,

$(-t, 0)$, $(0, -2t)$ 를 꼭짓점으로 하는 마름모가

곡선 $y = f(x)$ 와 만나는 점의 개수를 $g(t)$ 라 할 때, 함수 $g(t)$ 는

$t = \alpha$, $t = 8$ 에서 불연속이다. $\alpha^2 \times f(4)$ 의 값을 구하시오.

(단, α 는 $0 < \alpha < 8$ 인 상수이다.) [4점]

21. 공차가 자연수 d 이고 모든 항이 정수인 등차수열 $\{a_n\}$ 이 다음 조건을 만족시키도록 하는 모든 d 의 값의 합을 구하시오. [4점]

(가) 모든 자연수 n 에 대하여 $a_n \neq 0$ 이다.

(나) $a_{2m} = -a_m$ 이고 $\sum_{k=m}^{2m} |a_k| = 128$ 인 자연수 m 이 존재한다.

22. 양수 a 와 최고차항의 계수가 1인 삼차함수 $f(x)$ 에 대하여 함수

$$g(x) = \int_0^x \{f'(t+a) \times f'(t-a)\} dt$$

가 다음 조건을 만족시킨다.

함수 $g(x)$ 는 $x = \frac{1}{2}$ 과 $x = \frac{13}{2}$ 에서만 극값을 갖는다.

$f(0) = -\frac{1}{2}$ 일 때, $a \times f(1)$ 의 값을 구하시오. [4점]

※ 확인 사항

- 답안지의 해당란에 필요한 내용을 정확히 기입(표기)했는지 확인하시오.
- 이어서, 「선택과목(확률과 통계)」 문제가 제시되오니, 자신이 선택한 과목인지 확인하시오.

수학 영역(확률과 통계)

제 2 교시

1

5지선다형

23. ${}_n\text{H}_2 = {}_9\text{C}_2$ 일 때, 자연수 n 의 값은? [2점]

- ① 2 ② 4 ③ 6 ④ 8 ⑤ 10

24. 3 이상의 자연수 n 에 대하여 다항식 $(x+2)^n$ 의 전개식에서 x^2 의 계수와 x^3 의 계수가 같을 때, n 의 값은? [3점]

- ① 7 ② 8 ③ 9 ④ 10 ⑤ 11

2

수학 영역(확률과 통계)

25. 두 집합 $X = \{1, 2, 3, 4, 5\}$, $Y = \{1, 2, 3\}$ 에 대하여 다음 조건을 만족시키는 함수 $f: X \rightarrow Y$ 의 개수는? [3점]

집합 X 의 모든 원소 x 에 대하여 $x \times f(x) \leq 10$ 이다.

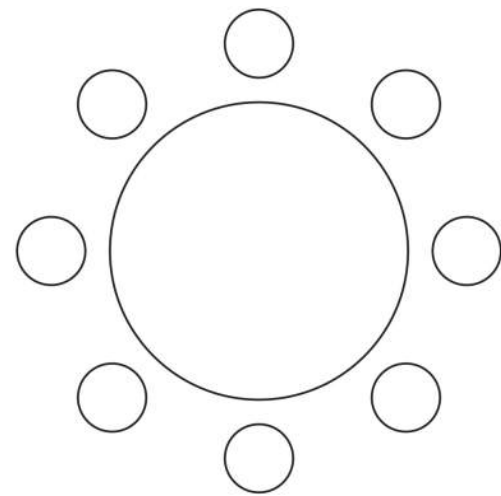
- ① 102 ② 105 ③ 108 ④ 111 ⑤ 114

26. 학생 A를 포함한 4명의 1학년 학생과 학생 B를 포함한 4명의 2학년 학생이 있다. 이 8명의 학생이 일정한 간격을 두고 원 모양의 탁자에 다음 조건을 만족시키도록 모두 둘러앉는 경우의 수는? (단, 회전하여 일치하는 것은 같은 것으로 본다.)

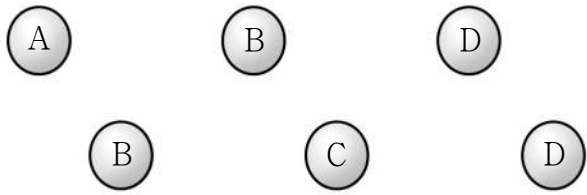
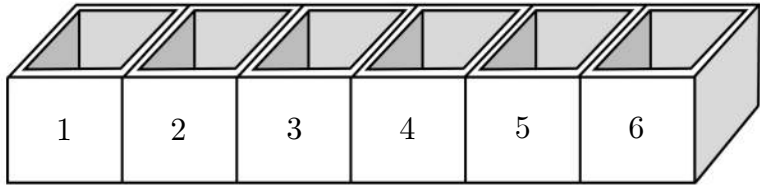
[3점]

(가) 1학년 학생끼리는 이웃하지 않는다.
(나) A와 B는 이웃한다.

- ① 48 ② 54 ③ 60 ④ 66 ⑤ 72



27. 그림과 같이 A, B, B, C, D, D의 문자가 각각 하나씩 적힌 6개의 공과 1, 2, 3, 4, 5, 6의 숫자가 각각 하나씩 적힌 6개의 빈 상자가 있다.



각 상자에 한 개의 공만 들어가도록 6개의 공을 나누어 넣을 때, 다음 조건을 만족시키는 경우의 수는? (단, 같은 문자가 적힌 공끼리는 서로 구별하지 않는다.) [3점]

(가) 숫자 1이 적힌 상자에 넣는 공은 문자 A 또는 문자 B가 적힌 공이다.
 (나) 문자 B가 적힌 공을 넣는 상자에 적힌 수 중 적어도 하나는 문자 C가 적힌 공을 넣는 상자에 적힌 수보다 작다.

- ① 80 ② 85 ③ 90 ④ 95 ⑤ 100

28. 다음 조건을 만족시키는 음이 아닌 정수 a, b, c, d, e 의 모든 순서쌍 (a, b, c, d, e) 의 개수는? [4점]

(가) $a+b+c+d+e=10$
 (나) $|a-b+c-d+e| \leq 2$

- ① 359 ② 363 ③ 367 ④ 371 ⑤ 375

4

수학 영역(확률과 통계)

단답형

29. 숫자 0, 1, 2 중에서 중복을 허락하여 5개를 선택한 후 일렬로 나열하여 다섯 자리의 자연수를 만들려고 한다. 숫자 0과 1을 각각 1개 이상씩 선택하여 만들 수 있는 모든 자연수의 개수를 구하시오. [4점]

30. 집합 $X = \{1, 2, 3, 4, 5\}$ 에 대하여 다음 조건을 만족시키는 함수 $f: X \rightarrow X$ 의 개수를 구하시오. [4점]

- (가) $f(1) + f(2) + f(3) + f(4) + f(5)$ 는 짝수이다.
- (나) 함수 f 의 치역의 원소의 개수는 3이다.

※ 확인 사항

- 답안지의 해당란에 필요한 내용을 정확히 기입(표기)했는지 확인하시오.
- 이어서, 「선택과목(미적분)」 문제가 제시되오니, 자신이 선택한 과목인지 확인하시오.

수학 영역(미적분)

제 2 교시

1

5지선다형

23. 함수 $f(x) = (x+a)e^x$ 에 대하여 $f'(2) = 8e^2$ 일 때,
상수 a 의 값은? [2점]

- ① 1 ② 2 ③ 3 ④ 4 ⑤ 5

24. $\sec \theta = \frac{\sqrt{10}}{3}$ 일 때, $\sin^2 \theta$ 의 값은? [3점]

- ① $\frac{1}{10}$ ② $\frac{3}{20}$ ③ $\frac{1}{5}$ ④ $\frac{1}{4}$ ⑤ $\frac{3}{10}$

25. $\lim_{x \rightarrow 0^+} \frac{\ln(2x^2 + 3x) - \ln 3x}{x}$ 의 값은? [3점]

- ① $\frac{1}{3}$ ② $\frac{1}{2}$ ③ $\frac{2}{3}$ ④ $\frac{5}{6}$ ⑤ 1

26. 함수

$$f(x) = \lim_{n \rightarrow \infty} \frac{3 \times \left(\frac{x}{2}\right)^{2n+1} - 1}{\left(\frac{x}{2}\right)^{2n} + 1}$$

에 대하여 $f(k) = k$ 를 만족시키는 모든 실수 k 의 값의 합은?

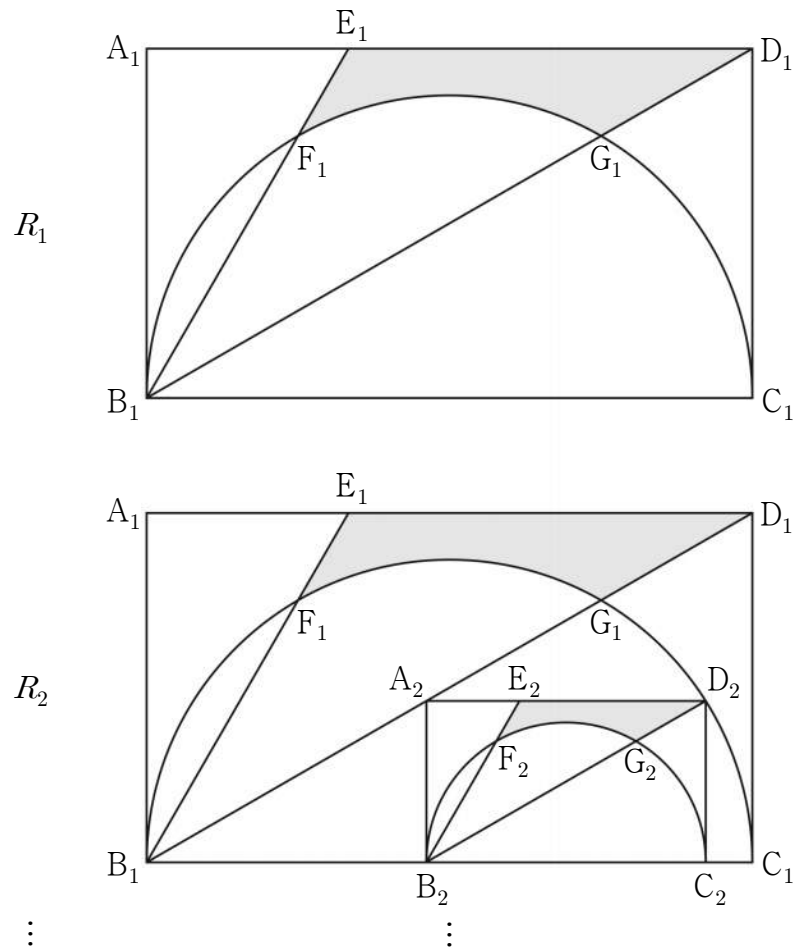
[3점]

- ① -6 ② -5 ③ -4 ④ -3 ⑤ -2

27. 자연수 n 에 대하여 곡선 $y = x^2 - 2nx - 2n$ 이 직선 $y = x + 1$ 과 만나는 두 점을 각각 P_n, Q_n 이라 하자. 선분 P_nQ_n 을 대각선으로 하는 정사각형의 넓이를 a_n 이라 할 때, $\sum_{n=1}^{\infty} \frac{1}{a_n}$ 의 값은? [3점]

- ① $\frac{1}{10}$ ② $\frac{2}{15}$ ③ $\frac{1}{6}$ ④ $\frac{1}{5}$ ⑤ $\frac{7}{30}$

28. 그림과 같이 $\overline{A_1B_1} = 2, \overline{B_1C_1} = 2\sqrt{3}$ 인 직사각형 $A_1B_1C_1D_1$ 이 있다. 선분 A_1D_1 을 1:2로 내분하는 점을 E_1 이라 하고 선분 B_1C_1 을 지름으로 하는 반원의 호 B_1C_1 이 두 선분 B_1E_1, B_1D_1 과 만나는 점 중 점 B_1 이 아닌 점을 각각 F_1, G_1 이라 하자. 세 선분 F_1E_1, E_1D_1, D_1G_1 과 호 F_1G_1 로 둘러싸인 \curvearrowright 모양의 도형에 색칠하여 얻은 그림을 R_1 이라 하자. 그림 R_1 에 선분 B_1G_1 위의 점 A_2 , 호 G_1C_1 위의 점 D_2 와 선분 B_1C_1 위의 두 점 B_2, C_2 를 꼭짓점으로 하고 $\overline{A_2B_2} : \overline{B_2C_2} = 1 : \sqrt{3}$ 인 직사각형 $A_2B_2C_2D_2$ 를 그린다. 직사각형 $A_2B_2C_2D_2$ 에 그림 R_1 을 얻은 것과 같은 방법으로 \curvearrowright 모양의 도형을 그리고 색칠하여 얻은 그림을 R_2 라 하자. 이와 같은 과정을 계속하여 n 번째 얻은 그림 R_n 에 색칠되어 있는 부분의 넓이를 S_n 이라 할 때, $\lim_{n \rightarrow \infty} S_n$ 의 값은? [4점]



- ① $\frac{169}{864}(8\sqrt{3} - 3\pi)$ ② $\frac{169}{798}(8\sqrt{3} - 3\pi)$
 ③ $\frac{169}{720}(8\sqrt{3} - 3\pi)$ ④ $\frac{169}{864}(16\sqrt{3} - 3\pi)$
 ⑤ $\frac{169}{798}(16\sqrt{3} - 3\pi)$

4

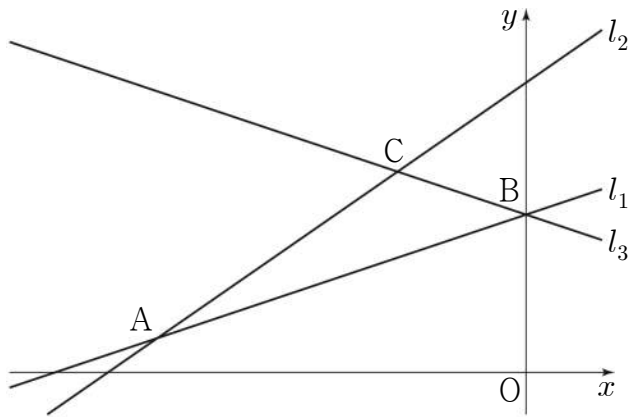
수학 영역(미적분)

단답형

29. 그림과 같이 좌표평면 위의 제2사분면에 있는 점 A를 지나고 기울기가 각각 $m_1, m_2 (0 < m_1 < m_2 < 1)$ 인 두 직선을 l_1, l_2 라 하고, 직선 l_1 을 y 축에 대하여 대칭이동한 직선을 l_3 이라 하자. 직선 l_3 이 두 직선 l_1, l_2 와 만나는 점을 각각 B, C라 하면 삼각형 ABC가 다음 조건을 만족시킨다.

- (가) $\overline{AB} = 12, \overline{AC} = 9$
- (나) 삼각형 ABC의 외접원의 반지름의 길이는 $\frac{15}{2}$ 이다.

$78 \times m_1 \times m_2$ 의 값을 구하시오. [4점]



30. 함수 $f(x) = a \cos x + x \sin x + b$ 와 $-\pi < \alpha < 0 < \beta < \pi$ 인 두 실수 α, β 가 다음 조건을 만족시킨다.

- (가) $f'(\alpha) = f'(\beta) = 0$
- (나) $\frac{\tan \beta - \tan \alpha}{\beta - \alpha} + \frac{1}{\beta} = 0$

$\lim_{x \rightarrow 0} \frac{f(x)}{x^2} = c$ 일 때, $f\left(\frac{\beta - \alpha}{3}\right) + c = p + q\pi$ 이다.

두 유리수 p, q 에 대하여 $120 \times (p + q)$ 의 값을 구하시오. (단, a, b, c 는 상수이고, $a < 1$ 이다.) [4점]

※ 확인 사항

- 답안지의 해당란에 필요한 내용을 정확히 기입(표기)했는지 확인하시오.
- 이어서, 「선택과목(기하)」 문제가 제시되오니, 자신이 선택한 과목인지 확인하시오.

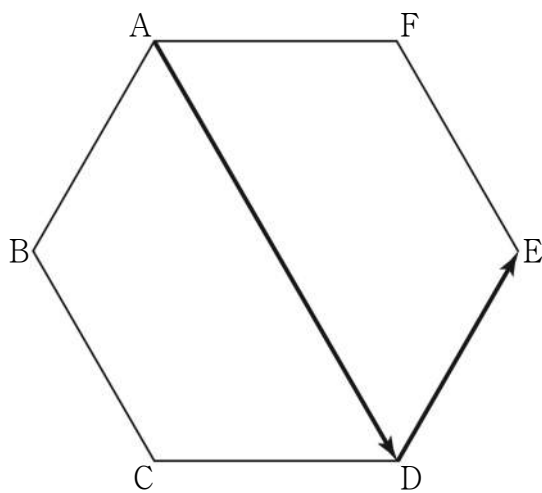
수학 영역(기하)

제 2 교시

1

5지선다형

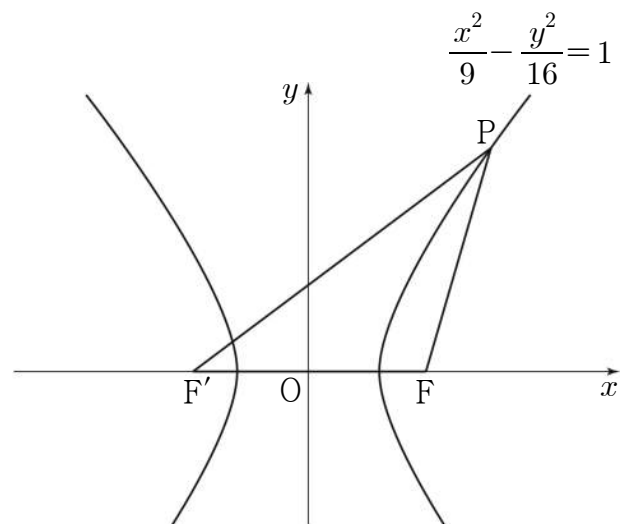
23. 그림과 같이 한 변의 길이가 1인 정육각형 ABCDEF에서 $|\overrightarrow{AD} + 2\overrightarrow{DE}|$ 의 값은? [2점]



- ① 1 ② $\sqrt{3}$ ③ 2 ④ 3 ⑤ $2\sqrt{3}$

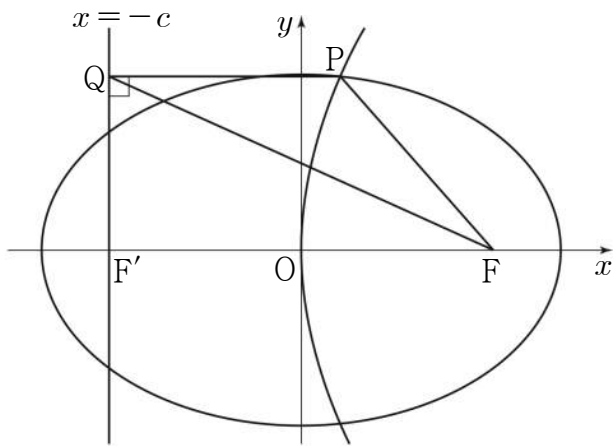
24. 그림과 같이 두 초점이 $F(c, 0), F'(-c, 0)(c > 0)$ 인

쌍곡선 $\frac{x^2}{9} - \frac{y^2}{16} = 1$ 이 있다. 쌍곡선 위의 점 중 제1사분면에 있는 점 P에 대하여 $\overline{FP} = \overline{FF'}$ 일 때, 삼각형 PF'F의 둘레의 길이는? [3점]



- ① 35 ② 36 ③ 37 ④ 38 ⑤ 39

25. 그림과 같이 두 점 $F(c, 0)$, $F'(-c, 0)$ ($c > 0$)을 초점으로 하는 타원과 꼭짓점이 원점 O 이고 점 F 를 초점으로 하는 포물선이 있다. 타원과 포물선이 만나는 점 중 제1사분면 위의 점을 P 라 하고, 점 P 에서 직선 $x = -c$ 에 내린 수선의 발을 Q 라 하자. $\overline{FP} = 8$ 이고 삼각형 FPQ 의 넓이가 24일 때, 타원의 장축의 길이는? [3점]



- ① 18 ② 19 ③ 20 ④ 21 ⑤ 22

26. y 축 위의 점 A 에서 타원 $C: \frac{x^2}{8} + y^2 = 1$ 에 그은 두 접선을 l_1, l_2 라 하고, 두 직선 l_1, l_2 가 타원 C 와 만나는 점을 각각 P, Q 라 하자. 두 직선 l_1, l_2 가 서로 수직일 때, 선분 PQ 의 길이는? (단, 점 A 의 y 좌표는 1보다 크다.) [3점]

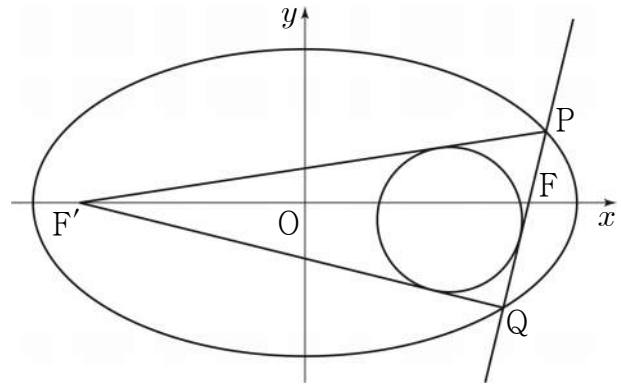
- ① 4 ② $\frac{13}{3}$ ③ $\frac{14}{3}$ ④ 5 ⑤ $\frac{16}{3}$

27. 쌍곡선 $\frac{x^2}{2} - \frac{y^2}{2} = 1$ 의 꼭짓점 중 x 좌표가 양수인 점을 A라

하자. 이 쌍곡선 위의 점 P에 대하여 $|\overrightarrow{OA} + \overrightarrow{OP}| = k$ 를 만족시키는 점 P의 개수가 3일 때, 상수 k 의 값은?
(단, O는 원점이다.) [3점]

- ① 1 ② $\sqrt{2}$ ③ 2 ④ $2\sqrt{2}$ ⑤ 4

28. 그림과 같이 두 점 $F(c, 0), F'(-c, 0)$ 을 초점으로 하는 타원이 있다. 타원 위의 점 중 제1사분면에 있는 점 P에 대하여 직선 PF가 타원과 만나는 점 중 점 P가 아닌 점을 Q라 하자. $\overline{OQ} = \overline{OF}$, $\overline{FQ} : \overline{F'Q} = 1 : 4$ 이고 삼각형 PF'Q의 내접원의 반지름의 길이가 2일 때, 양수 c 의 값은? (단, O는 원점이다.) [4점]



- ① $\frac{17}{3}$ ② $\frac{7\sqrt{17}}{5}$ ③ $\frac{3\sqrt{17}}{2}$
 ④ $\frac{51}{8}$ ⑤ $\frac{8\sqrt{17}}{5}$

단답형

29. 초점이 F인 포물선 $y^2 = 4px$ ($p > 0$)에 대하여 이 포물선 위의 점 중 제1사분면에 있는 점 P에서의 접선이 직선 $x = -p$ 와 만나는 점을 Q라 하고, 점 Q를 지나고 직선 $x = -p$ 에 수직인 직선이 포물선과 만나는 점을 R라 하자.

$\angle PRQ = \frac{\pi}{2}$ 일 때, 사각형 PQRF의 둘레의 길이가 140이 되도록 하는 상수 p 의 값을 구하시오. [4점]

30. 그림과 같이 두 점 $F(c, 0), F'(-c, 0)$ ($c > 0$)을 초점으로

하는 쌍곡선 $\frac{x^2}{10} - \frac{y^2}{a^2} = 1$ 이 있다. 쌍곡선 위의 점 중

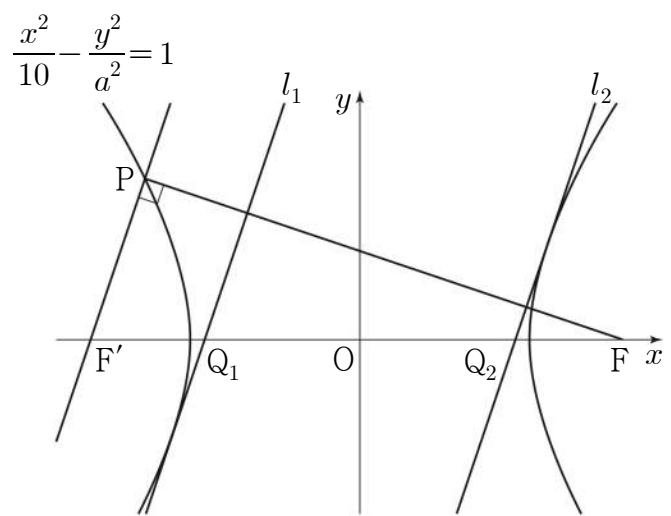
제2사분면에 있는 점 P에 대하여 삼각형 $F'FP$ 는 넓이가 15이고

$\angle F'PF = \frac{\pi}{2}$ 인 직각삼각형이다. 직선 PF' 과 평행하고 쌍곡선에

접하는 두 직선을 각각 l_1, l_2 라 하자. 두 직선 l_1, l_2 가 x 축과

만나는 점을 각각 Q_1, Q_2 라 할 때, $\overline{Q_1Q_2} = \frac{q}{p}\sqrt{3}$ 이다.

$p+q$ 의 값을 구하시오. (단, p 와 q 는 서로소인 자연수이고, a 는 양수이다.) [4점]



※ 확인 사항

답안지의 해당란에 필요한 내용을 정확히 기입(표기)했는지 확인하시오.

※ 시험이 시작되기 전까지 표지를 넘기지 마시오.