

목록

01 4교시_사회탐구영역_생활과윤리	1
02 4교시_사회탐구영역_윤리와사상	5
03 4교시_사회탐구영역_한국지리	9
04 4교시_사회탐구영역_세계지리	13
05 4교시_사회탐구영역_동아시아사	17
06 4교시_사회탐구영역_세계사	21
07 4교시_사회탐구영역_경제	25
08 4교시_사회탐구영역_정치와법	29
09 4교시_사회탐구영역_사회·문화	33

제 4 교시

사회탐구 영역(생활과 윤리)

성명 [] 수험 번호 [] 제 [] 선택

1. ㉠에 들어갈 진술로 가장 적절한 것은?

나는 윤리학이 행위에 대한 규범적 판단을 체계화하고 그 근거를 제시하는 학문이어야 한다고 생각한다. 그런데 어떤 사람은 윤리학이 도덕적 현상들을 있는 그대로 기술하는 학문이어야 한다고 주장한다. 내가 보기에 이러한 주장은 윤리학이 [] ㉠ 는 점을 간과하고 있다.

- ① 도덕적 관습을 실증적으로 연구해야 한다
② 가치 판단을 위해 도덕 이론을 정립해야 한다
③ 하나의 학문으로서 성립 가능한지 검토해야 한다
④ 도덕 언어의 의미 분석을 핵심 과제로 삼아야 한다
⑤ 도덕 추론의 논리적 구조를 밝히는 데 주력해야 한다

2. 갑, 을 사상가들의 입장으로 적절하지 않은 것은?

갑: 자연 상태에서는 사람들 간의 분쟁을 해결하는 공통된 법률이 없고, 무사 공평한 재판관도 없다. 그래서 인간은 자신의 생명, 자유, 재산을 보호하기 위해 공동체를 결성하고 스스로를 정부의 지배하에 두고자 한다.
을: 모든 공동체는 어떤 종류의 좋음을 목표로 하는 것이지만, 국가는 그 모든 공동체들 중에서 최고의 것이면서 다른 모든 공동체들을 포괄한다. 그리고 국가는 모든 좋음들 중에서 최고의 좋음을 목표로 한다.

- ① 갑: 국가는 공통된 법률에 따라 시민들 간의 분쟁을 조정해야 한다.
② 갑: 국가는 자국민을 침해한 외부인들을 처벌할 권력을 지닌다.
③ 을: 국가는 정치적 동물인 인간들의 상호 동의를 통해 발생한다.
④ 을: 인간은 국가 속에서 훌륭하고 행복한 삶을 영위할 수 있다.
⑤ 갑, 을: 시민은 자신이 속한 국가에 대해 정치적 의무를 지닌다.

3. 다음을 주장한 사상가의 입장만을 <보기>에서 고른 것은? [3점]

화자의 의사소통의 의도에는 다음 사항들이 포함되어야 한다. 첫째, 화자가 자신과 청자 사이에 정당한 것으로 인정된 상호 관계가 성립하도록 규범적 맥락에 따라 올바른 의사소통 행위를 수행하는 것이다. 둘째, 화자가 자신의 지식을 청자가 받아들이며 공유하도록 참된 진술을 하는 것이다. 셋째, 화자가 자신이 말한 것을 청자가 믿도록 생각, 의도, 감정, 소망 등을 진실하게 표현하는 것이다.

<보 기>

- ㄱ. 의사소통 행위는 상호 이해를 지향해야 한다.
ㄴ. 오류 가능성이 있는 주장도 담론에 부칠 수 있다.
ㄷ. 발화(發話) 내용이 참되다면 어떠한 발화 자세도 허용된다.
ㄹ. 규범의 타당성은 참여자 대다수의 동의를 얻어야 확보된다.

- ① ㄱ, ㄴ ② ㄱ, ㄷ ③ ㄴ, ㄷ ④ ㄴ, ㄹ ⑤ ㄷ, ㄹ

4. 다음을 주장한 사상가의 입장에서 <사례> 속 A에게 해 줄 수 있는 조언으로 가장 적절한 것은? [3점]

어떤 행위가 의무에 맞을지라도 반드시 도덕적 가치를 갖는다고 할 수는 없다. 비록 그 행위가 의무가 명령한 것에 맞게 일어난다 할지라도 의무로부터 일어난 것이 아니라면 도덕적 가치를 갖지 않기 때문이다.

<사 례>

상인 A는 정직하게 손님을 대하여 많은 단골손님을 갖게 되었다. 그러던 어느 날 정직한 행동이 이익으로 돌아온다는 생각이 들었다. 하지만 시간이 갈수록 그는 이익을 위해 정직하게 행동하는 것이 진정으로 도덕적인 것인지 고민하게 되었다.

- ① 꾸준한 도덕적 실천으로 얻어진 덕에 따라 행동하세요.
② 당신의 자연적 성향에 따라 손님들을 정직하게 대하세요.
③ 모두의 이익을 증진시킬 수 있도록 정직하게 행동하세요.
④ 당신의 정직한 행위가 도덕적 의무에 맞지만 하면 됩니다.
⑤ 경향성이 섞이지 않은 순수한 도덕적 동기에 따라 행동하세요.

5. 그림은 서술형 평가 문제와 학생 답안이다. 학생 답안의 ㉠~㉣ 중 옳지 않은 것은?

서술형 평가
(가), (나)의 입장을 비교하여 서술하시오.
(가) 자신의 성(性)적 이미지를 제품과 연결하여 구매를 유도하는 행위가 성적 자기 결정권을 행사한 것이라면 허용될 수 있다. 다만, 그러한 권리 행사는 타인에게 해를 끼치지 않을 경우에만 정당하다.
(나) 성적 자기 결정권은 인격을 훼손하지 않는 범위 내에서 행사되어야 한다. 따라서 성적 이미지를 이용한 이윤 추구 행위는 성을 도구화하는 것으로서 허용될 수 없다.
학생 답안
(가), (나)의 입장을 비교해 보면, (가)는 ㉠ 성을 수단으로 이용하는 행위가 타인에게 반드시 해를 끼치는 것은 아니기 때문에, ㉡ 성적 매력을 표현하여 제품의 구매를 유도하는 행위는 정당화될 수 있다고 주장한다. 반면에 (나)는 ㉢ 성을 수단으로 이용하는 성 상품화가 인간의 존엄성을 침해하기 때문에, ㉣ 성적 이미지를 이용한 이윤 추구 행위는 정당화될 수 없다고 주장한다. 한편 (가), (나)는 모두 ㉤ 자신의 성적 행동을 자유롭게 결정할 권리가 제한되어서는 안 된다고 본다.

- ① ㉠ ② ㉡ ③ ㉢ ④ ㉣ ⑤ ㉤

2 (생활과 윤리)

사회탐구 영역

6. 갑, 을 사상가들의 입장으로 적절한 것만을 <보기>에서 고른 것은?

갑: 대도(大道)가 행해진 세상에서는 어진[賢] 사람과 능력 있는 사람을 선발하며, 자기 부모만을 부모로 자기 자식만을 자식으로 여기지는 않는다. 재물이 버려지는 것을 싫어하지만 반드시 그것을 자기만의 소유물로 삼으려 하지는 않는다. 그래서 도둑질이 일어나지 않아 바깥문을 닫는 일이 없다.
 을: 나라는 작아야 하고 백성은 적어야 한다. 많은 도구가 있더라도 사용하지 않도록 하고, 백성으로 하여금 죽음을 중히 여겨 멀리 옮겨 다니지 않도록 한다. 비록 배나 수레가 있어도 타는 일이 없고, 갑옷과 무기가 있어도 꺼내서 늘어놓는 일이 없다.

—<보 기>—

ㄱ. 갑: 인(仁)의 출발점인 무차별적 사랑[兼愛]을 행해야 한다.
 ㄴ. 갑: 유능한 인재가 선발되는 도덕 공동체를 지향해야 한다.
 ㄷ. 을: 인위적인 통치가 없는 소박한 사회를 지향해야 한다.
 ㄹ. 갑, 을: 예법을 통해 본래의 자연스러운 삶으로 돌아가야 한다.

- ① ㄱ, ㄴ ② ㄱ, ㄷ ③ ㄴ, ㄷ ④ ㄴ, ㄹ ⑤ ㄷ, ㄹ

7. 갑, 을 사상가들의 입장으로 적절하지 않은 것은? [3점]

갑: 정의의 일차적 주체는 사회의 주요 제도가 권리와 의무를 배분하고 사회 협동체로부터 생긴 이익의 분배를 정하는 방식이다. 이를 정하는 정의의 원칙은 당사자들의 원초적 합의의 대상이다.
 을: 분배가 정의로운가는 그 분배가 어떻게 이루어졌는가에 달려 있다. 최종 결과에 중점을 둔 원리와 달리 역사성을 고려한 원리에 따르면, 사람들의 과거 행위나 상황은 사물에 대한 차별적인 소유 권리나 응분의 자격을 만들어낸다.

- ① 갑: 천부적 자산에 대한 개인의 소유 권리는 제한될 수 없다.
 ② 갑: 기본적 자유가 개인들에게 불평등하게 분배되어서는 안 된다.
 ③ 을: 개인이 노동을 통해 취득한 소유물도 교정의 대상이 될 수 있다.
 ④ 을: 정형적 원리에 따른 재분배는 이전(移轉)에서의 정의에 어긋난다.
 ⑤ 갑, 을: 정의의 원칙은 정당화될 수 있는 불평등을 규정해 준다.

8. 다음을 주장한 사상가의 입장으로 가장 적절한 것은? [3점]

백성은 윗사람을 섬기는 자이고, 수령은 백성을 다스리는 자이다. 수령 노릇을 잘하려면 반드시 청렴해야 하며, 청렴하려면 반드시 절약해야 한다. 청렴은 천하의 큰 장사이므로 백성을 위해 크게 탐하는[大貪] 자는 반드시 청렴하려 한다. 수령이 치밀하지 못하여 재물을 쓰는 방법을 몰라 실효(實效)가 없으면 안 된다. 수령이 경비를 남용하면 재정이 부족해져 백성의 재물을 약탈하게 된다.

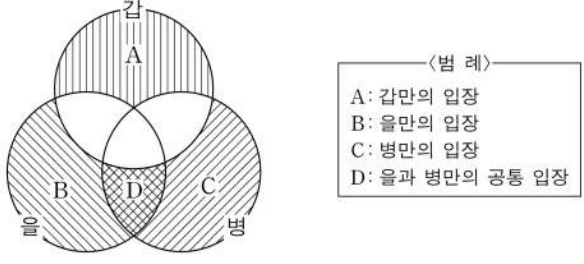
- ① 수령은 공무 수행 시 재정 지출의 효과를 고려해서는 안 된다.
 ② 수령은 공공의 복리 증진이 아니라 재정 확보에 주력해야 한다.
 ③ 수령은 백성과 자신이 직분상 동등한 관계임을 자각해야 한다.
 ④ 수령은 검소하지 않을 경우 자신의 직무를 올바르게 수행할 수 없다.
 ⑤ 수령은 공무 수행에서 인(仁)을 실현하려는 마음을 억제해야 한다.

9. (가)를 주장한 사상가의 입장에서 (나)의 ㉠에 들어갈 진술로 가장 적절한 것은?

(가)	문화 산업은 확실적인 상품만을 생산할 뿐이다. 문화 산업의 기술은 대량 생산을 가능하게 한다. 문화 산업은 어떠한 문화 상품을 제공하든 소비자는 그것에 만족해야 한다는 것을 소비자에게 주입시킨다. 이로 인해 문화 상품은 소비자로 하여금 적극적으로 소유하는 것을 불가능하게 한다.
(나)	문화 산업은 '스타'를 제조한다. 대부분의 기획사는 스타를 철저한 전략에 따라 기획한 뒤 최대한 많은 매체에 출연시켜 돈을 번다. 그리고 대중이 싫증을 느끼면 유사한 새로운 스타를 내놓는다. 수많은 반짝 스타들이 소모품처럼 사라진다. 이러한 문제의 원인은 ㉠

- ① 문화 산업이 대중문화를 규격화된 상품으로 간주하기 때문이다.
 ② 문화 상품이 작품 창작자의 독창적 견해에 따라 제작되기 때문이다.
 ③ 문화 산업이 이윤보다는 지속적 창작 활동을 추구하기 때문이다.
 ④ 문화 산업의 생산자가 소비자의 고유한 체험을 중시하기 때문이다.
 ⑤ 문화 상품이 표준화된 양식에 맞추어 생산되지 않기 때문이다.

10. (가)의 갑, 을, 병 사상가들의 입장을 (나) 그림으로 표현할 때, A~D에 해당하는 적절한 진술만을 <보기>에서 고른 것은? [3점]

(가)	갑: 인간은 통상 인간에 대한 의무 외에 다른 의무는 갖지 않는다. 늙은 말이 수행한 봉사에 대한 감사마저도 직접적으로 볼 때는 인간 자신에 대한 의무이다. 을: 인간만이 아니라 일부 동물도 삶의 주체이다. 왜냐하면 그들도 다른 존재의 이익과는 독립적으로 개별적 복지를 갖는 것과 같은 특징을 지니기 때문이다. 병: 인간은 생명 공동체의 한 구성원에 지나지 않는다. 인간의 활동으로만 설명되어 온 많은 역사적 사건들은 실제로는 인간과 대지의 생명적 상호 작용이었다.
(나)	

—<보 기>—

- ㄱ. A: 인간 이외의 존재에게는 어떠한 가치도 부여되지 않는다.
 ㄴ. B: 인간은 동물 종(種)에 대한 직접적 의무를 실천해야 한다.
 ㄷ. C: 인간은 살아 있는 모든 존재를 도덕적으로 존중해야 한다.
 ㄹ. D: 인간만이 아니라 동물도 권리를 지닌 존재일 수 있다.

- ① ㄱ, ㄴ ② ㄱ, ㄷ ③ ㄴ, ㄷ ④ ㄴ, ㄹ ⑤ ㄷ, ㄹ

11. (가), (나)의 입장으로 적절한 것만을 <보기>에서 고른 것은? [3점]

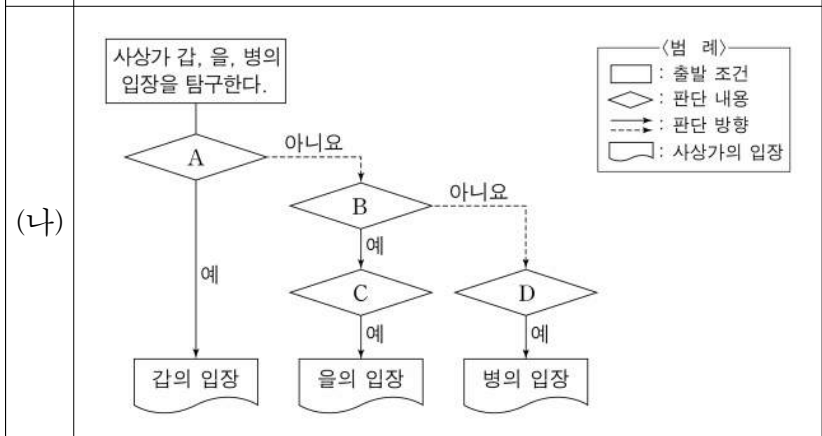
(가) 인간의 행복을 위해서는 질병을 극복할 수 있는 신약이 개발되어야 한다. 개발 과정에서 인간에게 미칠 수 있는 신약의 부작용을 최소화하기 위해서는, 설령 동물에게 고통을 준다 해도 동물 실험은 불가피하다. 다만, 고통은 악(惡)이므로 연구자는 동물에게 가하는 고통을 최소화해야 한다.
 (나) 질병은 극복되어야 할 인류의 과제이다. 하지만 인간과 동물은 질병의 종류와 증상이 매우 다르기 때문에, 동물 실험은 그 효과가 의심스러우며 신약 개발에 도움이 되지 않는다. 특히 인간처럼 쾌고 감수 능력을 지닌 동물에게 고통을 주는 동물 실험을 금지하고 그 대안을 강구해야 한다.

<보 기>
 가. (가): 동물 실험은 그 목적이 선행도 허용될 수 없다.
 나. (가): 인간의 복지가 동물들의 이익 관심보다 우선한다.
 다. (나): 인간은 생물학적으로 대부분의 질병을 동물과 공유한다.
 리. (가), (나): 동물에게 고통을 가하는 것은 도덕적으로 악하다.

- ① 가, 나 ② 가, 다 ③ 나, 다 ④ 나, 리 ⑤ 다, 리

12. (가)의 갑, 을, 병 사상가들의 입장을 (나) 그림으로 탐구하고자 할 때, A~D에 들어갈 적절한 질문만을 <보기>에서 있는 대로 고른 것은? [3점]

(가)
 갑: 국가는 개인의 권리를 침해하지 않는 최소 국가이어야 한다. 국가는 시민들에게 다른 사람들을 돕도록 강제적 수단을 사용해서는 안 된다.
 을: 원조의 의무는 고통받는 사회가 질서 정연한 사회가 될 수 있도록 돕는 것이다. 그러나 국내 사회에 적용되는 정의의 원칙이 국제 사회에 적용될 이유는 없다.
 병: 자국민을 돕는 것이 원조하는 것보다 더 효율적인 경우도 있다. 그러나 이것이 다른 나라 사람의 이익을 평등하게 고려하지 않아도 된다는 것을 의미하지는 않는다.



<보 기>
 가. A: 모든 원조는 원조 주체의 사적 소유권을 침해하는가?
 나. B: 원조는 자원 분포의 우연성의 결과를 조정하려는 것인가?
 다. C: 원조를 중단할 수 있는 명확한 목표를 규정해야 하는가?
 리. D: 원조는 비용 대비 편익을 계산하여 이루어져야 하는가?

- ① 가, 나 ② 나, 다 ③ 다, 리
 ④ 가, 나, 리 ⑤ 가, 다, 리

13. 다음 신문 칼럼의 입장으로 가장 적절한 것은?

○○ 신문 ○○○○년 ○○월 ○○일

칼럼

오늘날 정보 사회에서는 누구든지 타인의 정보를 조사하고 그 정보를 불특정 다수에게 전달할 수 있어 개인 정보가 침해되는 경우가 증가하고 있다. 타인에게 알려지고 싶지 않은 개인의 민감한 정보가 당사자의 의사에 반해 인터넷에서 검색되거나, 기업이 적법하게 수집한 개인 정보를 기업의 이익을 위해 활용하는 과정에서 유출하는 경우가 대표적이다. 언론 역시 국민의 알 권리를 위한다는 명분하에 본인의 동의 없이 개인 정보를 수집하고 이를 보도함으로써 사생활을 침해하기도 한다. 이러한 문제를 해결하기 위해서는 개인이 자신의 개인 정보를 누구에게, 어떤 범위까지, 얼마 동안, 어떤 형식으로 공개할 것인지에 대해 정당한 처리를 요구할 수 있어야 한다.

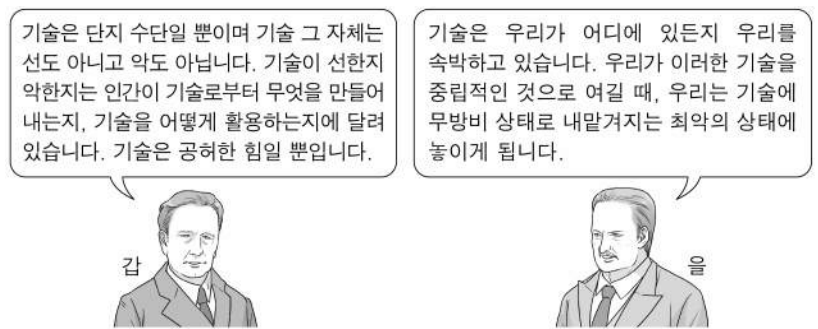
- ① 사이버 공간에서 표현의 자유가 제한되어서는 안 된다.
 ② 적법하게 수집된 개인 정보의 활용을 제한해서는 안 된다.
 ③ 잊힐 권리보다 알 권리를 중시하여 공익을 증진해야 한다.
 ④ 모든 정보에 누구나 자유롭게 접근할 수 있도록 허용해야 한다.
 ⑤ 인권 보호를 위해 개인 정보에 대한 자기 결정권을 보장해야 한다.

14. (가)의 입장에서 (나)의 입장에 대해 제기할 수 있는 비판으로 가장 적절한 것은? [3점]

(가) 심장 박동과 호흡이 비가역적으로 정지된 심폐사만을 죽음으로 인정해야 한다. 심폐사는 죽음에 대한 전통적인 판정 기준으로, 죽음의 시점을 확실하게 적시할 수 있어서 누가 보더라도 죽음을 판정할 수 있다는 장점이 있다.
 (나) 뇌의 모든 기능을 상실한 사람은 결국 수일 내에 심폐사에 이르게 된다. 뇌사자에게 불필요한 치료를 억지로 지속하는 것은 뇌사자를 비인간적으로 대우하는 것일 뿐만 아니라, 한정된 의료 자원을 소모하면서 장기를 기증할 기회도 잃게 하므로 뇌사를 죽음으로 인정해야 한다.

- ① 의료 자원의 효율적 이용이 필요하다는 것을 간과한다.
 ② 뇌사가 죽음에 이르는 과도기적 상태라는 것을 간과한다.
 ③ 뇌사 인정은 뇌사자의 생명권을 존중하는 것임을 간과한다.
 ④ 장기 이식을 위해 뇌사를 죽음의 기준으로 삼아야 함을 간과한다.
 ⑤ 무의미한 연명 치료는 인간 존엄성을 훼손한다는 것을 간과한다.

15. 그림은 서양 사상가 갑, 을의 가상 대화이다. 갑, 을의 입장으로 적절한 것만을 <보기>에서 고른 것은?



<보 기>
 가. 갑: 기술의 활용 결과는 가치 평가의 대상이 아니다.
 나. 을: 기술에 대해 가치 중립적 태도를 가져서는 안 된다.
 다. 을: 기술에 대해 무관심할 때 기술로부터 자유로워진다.
 리. 갑, 을: 기술의 활용 방향에 대한 윤리적 성찰이 필요하다.

- ① 가, 나 ② 가, 다 ③ 나, 다 ④ 나, 리 ⑤ 다, 리

4 (생활과 윤리)

사회탐구 영역

16. 다음을 주장한 사상가의 입장으로 가장 적절한 것은? [3점]

나는 시민 불복종을 흔히 법이나 정부의 정책에 변혁을 가져올 목적으로 행해지는 공공적이고 비폭력적이며 법에 반하는 정치적 행위라 정의하고자 한다. 이러한 행위는 법에 대한 충실성의 한계 내에서 부정의에 항거함으로써 정의로부터의 이탈을 방지하고, 부정의를 교정하는 데 도움이 된다. 정당한 시민 불복종에 참여하고자 하는 일반적 성향은 질서 정연한 사회 속에 안정을 가져다준다.

- ① 시민 불복종은 개인의 이익이 아닌 집단의 이익에 근거해야 한다.
- ② 시민 불복종은 사회의 기본 구조가 아주 부정의하면 성립할 수 없다.
- ③ 시민 불복종은 헌법의 정당성에 이의를 제기하는 정치적 행위이다.
- ④ 시민 불복종은 비민주적 체제의 변혁을 목적으로 이루어져야 한다.
- ⑤ 시민 불복종의 근거인 다수의 정의감은 개인의 양심과 양립할 수 없다.

17. 갑, 을 사상가들의 입장으로 가장 적절한 것은?

갑: 국제 정치의 궁극 목표가 무엇이든 권력 획득이 항상 일차적 목표이다. 정치가나 국민이 궁극적으로 추구하는 것이 자유, 안전 보장, 번영 등으로 다양해도, 그들이 국제 정치적으로 자신들의 목표를 달성하기 위해 권력을 수단으로 삼고자 한다는 점에서는 같다.

을: 이성은 도덕적으로 법칙을 수립하는 최고 권력의 왕좌를 차지한다. 이성이 전쟁을 탄핵하고 평화 상태를 직접적인 의무로 규정한다 하더라도, 평화 연맹이 존재하지 않으면 안 된다. 이 연맹은 모든 전쟁을 영구히 종식시키고자 한다.

- ① 갑: 권력 투쟁 현상은 국내 정치뿐 아니라 국제 정치에서도 나타난다.
- ② 갑: 국제적인 도덕적 합의를 통해 국가 간 분쟁을 해결해야 한다.
- ③ 을: 영구 평화를 위해 정치 체제의 변화가 수반될 필요는 없다.
- ④ 을: 영구 평화는 공고한 평화 조약에 의해서만 실현될 수 있다.
- ⑤ 갑, 을: 세계 공화국을 수립하여 영구적 평화 유지에 기여해야 한다.

18. 다음을 주장한 사상가의 입장으로 적절한 것만을 <보기>에서 있는 대로 고른 것은? [3점]

- 집의 담장은 체험 공간을 내부와 외부로 분리하며 두 영역은 인간 삶의 기본이 된다. 인간은 안정의 영역인 집에 거주함으로써만 자신의 참된 본질을 실현할 수 있다.
- 거주는 공동의 삶을 통해서만 가능하므로 진정한 집에는 가족이 필요하다. 집과 가족은 인간의 안전과 편안함을 조성하는 과제에 있어서 불가분의 관계로 묶여 있다.

<보 기>

ㄱ. 인간은 거주 공간에서 유대감을 형성한다.
 ㄴ. 집은 인간의 본질을 실현할 수 있는 공간이다.
 ㄷ. 집은 외부 세계와 구분될 수 없는 열린 공간이다.
 ㄹ. 인간은 거주함으로써만 본래적 의미의 인간이 될 수 있다.

- ① ㄱ, ㄴ ② ㄱ, ㄷ ③ ㄷ, ㄹ
- ④ ㄱ, ㄴ, ㄹ ⑤ ㄴ, ㄷ, ㄹ

19. (가)의 갑, 을, 병 사상가들의 입장에서 서로에게 제기할 수 있는 비판을 (나) 그림으로 표현할 때, A~F에 해당하는 내용으로 가장 적절한 것은?

(가)	<p>갑: 법은 사회적 결합의 계약 조건이기 때문에, 법에 복종하는 시민들이 법의 제정자가 되어야 한다. 법은 일반 의지에 의해 행사되어야 한다.</p> <p>을: 법은 공적 정의를 실현하기 위해 동등성의 원리에 따라 형벌을 규정해야 한다. 오직 보복법만이 형벌의 질과 양을 명확하게 제시할 수 있다.</p> <p>병: 법은 공익을 증진하기 위해 제정되어야 한다. 그러므로 법은 범죄자가 아닌 시민의 이익을 위해 사형을 대체한 종신 노역형을 규정해야 한다.</p>
(나)	<p>① A, F: 범죄와 형벌 간에 비례 관계가 성립해야 함을 간과한다.</p> <p>② B: 살인자는 더 이상 국가 구성원이 아니라는 사실을 간과한다.</p> <p>③ C: 사형은 범죄 억제력이 전혀 없는 잔혹한 형벌일 뿐임을 간과한다.</p> <p>④ D: 형벌에 대한 범인의 동의가 형벌권의 기초가 아님을 간과한다.</p> <p>⑤ E: 사형제 존폐를 계약자의 생명 보존을 위해 정해야 함을 간과한다.</p>

20. 다음 토론의 핵심 쟁점으로 가장 적절한 것은?

갑: 종교는 윤리를 수용하지만 절대자에 대한 믿음을 통한 영원한 삶을 본질로 합니다. 영원한 삶이 더 중요하기 때문에, 윤리와 상충하는 종교적 진리도 받아들여야 합니다.

을: 물론 종교는 절대자의 힘을 빌려 영원을 추구하지만, 인간의 종교이기에 윤리적 삶을 강조해야 합니다. 따라서 종교는 윤리에 어긋나는 주장을 해서는 안 됩니다.

갑: 아닙니다. 윤리는 인간 이성에 토대를 두는데, 이성은 절대자와 달리 한계를 갖습니다. 또한 윤리가 문화마다 다르다는 점에서도 종교적 진리가 윤리를 넘어섭니다.

을: 문화에 따라 윤리가 다르다는 점에 동의합니다. 그렇지만 윤리의 토대가 되는 이성 역시 절대자로부터 주어진 것입니다. 따라서 종교는 윤리를 존중해야 합니다.

- ① 윤리는 문화에 따라 상대적인가?
- ② 윤리는 이성에 토대를 두고 있는가?
- ③ 종교는 윤리적 가르침을 지닐 수 있는가?
- ④ 종교는 절대자를 믿음의 대상으로 받아들이는가?
- ⑤ 윤리와 상충하는 종교적 진리는 허용될 수 있는가?

* 확인 사항

○ 답안지의 해당란에 필요한 내용을 정확히 기입(표기)했는지 확인 하시오.

제 4 교시

사회탐구 영역 (윤리와 사상)

성명 수험 번호 - 제 [] 선택

윤리와 사상

1. 다음 가상 편지를 쓴 고대 동양 사상가가 강조하는 삶의 태도로 가장 적절한 것은?

제자들에게

제자들이여! 식(識)이 탐욕을 떠나면 색(色)·수(受)·상(想)·행(行)에 대한 집착과 마음에서 생긴 얽매임이 끊어지게 되어 다시는 성장하거나 뺏어나가지 못하게 된단다. 그리하여 식은 행동하지 않고, 그 뒤에는 머무르며, 그 뒤에는 만족할 줄 안단다. 이처럼 해탈하게 되면, 모든 세간에 대해서 전혀 취할 것도 집착할 것도 없게 되며, 열반을 자각하여 '나의 생은 다하였고 범행(梵行)은 섰으며 할 일은 이미 마쳐 후세의 몸을 받지 않는다.'고 스스로 알게 된단다. ... (후략) ...

- ① 탐욕, 성냄, 어리석음[三毒]을 제거하여 해탈에 이르러야 한다.
- ② 나와 세계의 관계성을 부정하고 모든 집착에서 벗어나야 한다.
- ③ 여덟 가지 바른 수행[八正道]을 통해 불변의 자아를 형성해야 한다.
- ④ 내세에 다시 태어나기 위해 몸과 입으로 많은 업(業)을 쌓아야 한다.
- ⑤ 열반의 결과인 무명(無明)에 도달하기 위해 바른 생각에 힘써야 한다.

2. 사회사상가 갑, 을의 입장으로 옳은 것만을 <보기>에서 있는 대로 고른 것은? [3점]

갑: 정치적 의사 결정과 제도의 정당성은 단순 다수결 절차를 통해 확보될 수 없다. 그 정당성은 시민들이 상호 간의 대화와 논증을 통해 자신의 선호를 바꿀 수 있어야 확보된다. 따라서 의사 결정 과정에서의 개방적이고 폭넓은 참여와 참여자들의 반성적이고 자기 성찰적인 자세가 요구된다.

을: 선출된 의원들은 유권자를 수동적으로 대리하는 데 그치지 않고, 재량권을 갖고 능동적으로 국가를 대표한다. 민주주의는 정치 엘리트들의 권력에 대한 경쟁일 뿐이며, 시민의 역할은 선거에서 대표를 택하는 일에 머무른다. 시민은 정치적 영역에서 무책임하고 충동에 빠지기가 쉽다.

<보 기>

ㄱ. 갑: 대화 참가자들의 주장에 대해서 이의제기가 가능하다.
 ㄴ. 갑: 모든 정책 결정의 과정에 시민이 모두 직접 참여해야 한다.
 ㄷ. 을: 민주주의는 실제로 인민의 지배가 아니라 정치인의 지배이다.
 ㄹ. 갑, 을: 시민은 항상 합리적으로 정치적 의사 결정을 하는 존재다.

- ① ㄱ, ㄴ ② ㄱ, ㄷ ③ ㄴ, ㄹ
- ④ ㄱ, ㄷ, ㄹ ⑤ ㄴ, ㄷ, ㄹ

3. (가)의 현대 서양 사상가 갑, 을의 입장을 (나) 그림으로 탐구하고자 할 때, A~C에 들어갈 옳은 질문만을 <보기>에서 고른 것은? [3점]

(가)

갑: 인간은 자유롭도록 선고받았다. 인간은 스스로를 창조한 것이 아니기 때문에 자유롭도록 선고받은 것이요, 세상에 내던져진 이상 자신이 행하는 모든 것에 대해서 책임이 있기 때문에 자유로운 것이다.

을: 인간 실존에는 심미적 단계, 윤리적 단계, 종교적 단계가 있다. 종교적 실존에서 인간은 초월적 신과의 만남을 통해 신 앞에 선 단독자로서 자신의 삶을 책임지는 존재가 된다.

(나)

<보 기>

ㄱ. A: 보편적 진리는 실존적 상황에서 문제를 해결해 주는가?
 ㄴ. B: 주체적 결단을 통한 자신의 선택에 책임을 져야 하는가?
 ㄷ. C: 절망을 윤리적 실존 단계에서 완전히 극복할 수 있는가?
 ㄹ. C: 인간은 선택을 피할 수 없는 상황에서 불안을 느끼는가?

- ① ㄱ, ㄴ ② ㄱ, ㄷ ③ ㄴ, ㄷ ④ ㄴ, ㄹ ⑤ ㄷ, ㄹ

4. 갑, 을은 고대 동양 사상가들이다. 갑은 부정, 을은 긍정의 대답을 할 질문으로 옳은 것은?

갑: 입이 맛을 좇고 눈이 색을 좇음은 본성[性]이지만 그것을 실현함은 명(命)에 달려 있으니 군자는 본성이라 하지 않는다. 부자 사이에 인(仁)이 있고 군신 사이에 의(義)가 있음은 모두 명이지만 그것을 실현함은 본성에 달려 있으니 군자는 그것을 명이라 하지 않는다.

을: 사람에게 스승[師]과 법도[法]가 있다면 큰 보배를 가진 것과 같고 그것이 없다면 큰 재앙과 같다. 사람에게 스승과 법도가 없다면 본성을 존중하게 되고 그것이 있다면 노력을 쌓는 것[積]을 존중하게 된다. 스승과 법도는 노력을 쌓는 데서 얻는 것이지 본성에서 얻는 것이 아니다.

- ① 군자와 소인은 모두 태어날 때부터 동일한 본성을 가지는가?
- ② 인간은 인식 능력 및 실천 능력을 통해 본성을 변화시킬 수 있는가?
- ③ 인간은 하늘의 명령에 따라 인과 의의 덕성을 실현해야 하는가?
- ④ 인간은 누구나 마음의 수양을 통해 성인(聖人)이 될 수 있는가?
- ⑤ 소인은 지극히 크고 곧은 도덕적 기운[浩然之氣]을 길러야 하는가?

2 (윤리와 사상)

사회탐구 영역

5. 고대 서양 사상가 갑, 중세 서양 사상가 을의 입장으로 옳은 것은?

갑: 인간의 행위들이 추구하는 목적들은 점점 상위의 목적으로 올라가다 보면 궁극적인 목적에 이른다. 이 목적은 최고선이다. 그렇다면 최고선은 무엇일까? 그것은 행복이다. 행복은 덕에 따른 영혼의 활동이다.
 을: 인간은 자신의 자연적 원리에 의해, 인간의 범위 안에 있는 행복을 향해 전진한다. 그런데 완전한 행복은 인간적 본성의 범위를 넘어선다. 그러므로 다른 원리가 신에 의해 인간에게 추가되어야 하고, 이 원리를 신학적 덕이라 한다.

- ① 갑: 행복이란 자연적 경향성에 대한 만족을 의미한다.
- ② 갑: 덕은 건강과 명예처럼 행복을 위한 수단일 뿐이다.
- ③ 을: 완전한 행복에 도달하게 되면 삶의 목적이 실현된다.
- ④ 을: 인간은 스스로 성취한 덕에 의해 최고 행복에 도달할 수 있다.
- ⑤ 갑, 을: 덕은 지식과 일치하고 지식으로서의 덕은 행복과 일치한다.

6. 그림은 고대 동양 사상가들의 가상 대화이다. 갑, 을의 입장으로 옳은 것은? [3점]



- ① 갑: 시비를 명확하게 분별하여 남과 다투지 말아야[不爭] 한다.
- ② 갑: 경(敬)의 실천을 통해 흐르는 물처럼 소박하게 살아야 한다.
- ③ 을: 만물의 귀천을 구별하지 말고 평등하게 바라보아야 한다.
- ④ 을: 나라의 규모를 크게 하고 백성의 수를 많게 하여야 한다.
- ⑤ 갑, 을: 무위의 덕으로 다스리기 위해 예법[禮]을 제정해야 한다.

7. 갑, 을은 근대 서양 사상가들이고, 병은 고대 서양 사상가이다. 갑, 을, 병의 입장으로 옳은 것은?

갑: “나는 생각한다. 그러므로 나는 존재한다.” 이 진리는 아주 확고부동하기 때문에, 나는 이것을 내가 찾고 있던 철학의 제1 원리로 받아들일 수 있다고 판단한다.
 을: 우리가 자연에 관한 지식을 얻는 데 방해가 되는 네 가지 편견이 있다. 그것은 종족의 우상, 동굴의 우상, 시장의 우상, 극장의 우상이다.
 병: 인간은 모든 것의 척도이다. 존재하는 것에 대해서는 그것이 존재한다는 그리고 존재하지 않는 것에 대해서는 그것이 존재하지 않는다는 척도이다.

- ① 갑: 철학의 제1 원리는 방법적 회의의 출발점이다.
- ② 을: 유용한 지식보다는 지식 자체를 위한 지식이 더 중요하다.
- ③ 병: 사회가 아니라 자연을 탐구의 대상으로 삼아야 한다.
- ④ 갑, 을: 진리를 탐구하는 데 있어서 이성의 역할이 필요하다.
- ⑤ 을, 병: 객관적 지식을 얻기 위해 경험을 원천으로 삼아야 한다.

8. 고대 서양 사상가 갑, 사회사상가 을의 입장으로 가장 적절한 것은? [3점]

갑: 국가의 구성원들은 각자 타고난 성향에 따라 한 가지 일에 배치되어야만 한다. 국가가 정의로운 것은 실상 그 안에 있는 세 부류가 저마다 자신의 일을 함에 의해서이다.
 을: 사상 체계의 제1 덕목이 진리라고 한다면 사회 제도의 제1 덕목은 정의이다. 타인들이 가지게 될 더 큰 선을 위하여 소수의 자유를 빼앗는 것은 정당화될 수 없다.

- ① 갑: 모든 인간은 태어나면서부터 자유롭고 평등하다.
- ② 갑: 정의로운 국가에서는 철학과 통치 권력이 결합되어 있다.
- ③ 을: 기본적 자유는 사회적 약자에게 차등적으로 분배되어야 한다.
- ④ 을: 정의로운 사회에서는 경제적 불평등이 허용되어서는 안 된다.
- ⑤ 갑, 을: 직업 선택의 자유가 보장되어야 정의로운 사회에 도달한다.

9. 중국 유교 사상가 갑, 을의 입장으로 옳은 것은? [3점]

갑: 격물(格物)은 마음의 바르지 못함을 제거하여 그 본체의 바름을 온전히 회복하는 것이다. 의념[意]이 머무는 곳의 바르지 못함을 없애서 그 바름을 온전히 회복해야 한다.
 을: 격물은 치지(致知)하는 방법이다. 한 사물에서 한 개의 이치[理]를 궁구하면 나의 지식도 한 개를 얻게 되고, 두 사물에서 두 개의 이치를 궁구하면 나의 지식도 두 개를 얻게 된다. 따라서 사물의 이치를 궁구할수록 나의 지식도 넓어진다.

- ① 갑: 모든 이치는 내 마음과 독립하여 바깥에 객관적으로 존재한다.
- ② 갑: 사물에 나아가 그 이치를 탐구하여 앎을 극진히 해야 한다.
- ③ 을: 도덕적 앎과 실천은 서로 의존적 관계[相須]임을 자각해야 한다.
- ④ 을: 치지는 내 마음의 양지를 각각의 사물에서 실현하는 것이다.
- ⑤ 갑, 을: 격물이란 의념이 머무는 곳[事]을 바로잡는 것[正]이다.

10. 갑, 을은 한국 유교 사상가들이다. 갑은 긍정, 을은 부정의 대답을 할 질문만을 <보기>에서 고른 것은?

갑: 정(情)에 사단과 칠정의 구분이 있다고 여기는 것은, 성(性)에 본연지성과 기질지성의 차이가 있는 것과 같다. 성에 대해서는 이(理)와 기(氣)로 나누어 말할 수 있는데, 유독 정에 대해서는 이와 기로 나누어 말할 수 없는 것인가?
 을: 사단과 칠정의 관계는 본연지성과 기질지성의 관계와 같다. 본연지성은 기질을 포함하고[兼] 있지 않은 것이지만 기질지성은 본연지성을 포함하고 있는 것이다. 따라서 사단은 칠정을 포함할 수 없지만 칠정은 사단을 포함한다.

<보 기>

ㄱ. 발하는 것은 기(氣)이고 발하는 근거[所以]는 이(理)인가?
 ㄴ. 사단과 칠정은 선과 악이 혼재되어 있는 도덕 감정인가?
 ㄷ. 사단과 칠정은 연원[所從來]이 서로 다르므로 구분해야 하는가?
 ㄹ. 시비지심(是非之心)은 이(理)가 발하고 기(氣)가 따르는 것인가?

- ① ㄱ, ㄴ ② ㄱ, ㄷ ③ ㄴ, ㄷ ④ ㄴ, ㄹ ⑤ ㄷ, ㄹ

11. 고대 서양 사상가 갑, 근대 서양 사상가 을의 입장으로 옳은 것만을 <보기>에서 있는 대로 고른 것은? [3점]

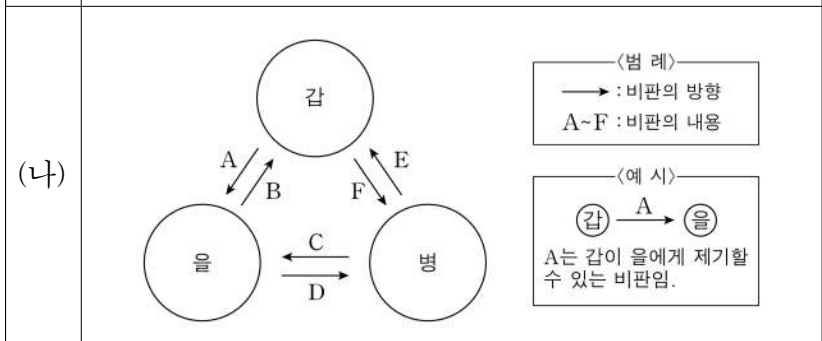
갑: 인간은 인상(印象)을 이성적으로 사용할 능력을 가지고 있는 동물이다. '이성적으로'라는 말은 '자연과 일치하는 방식으로 그리고 완전하게'라는 뜻이다. 당신이 소유하고 있으면서도 당신에게 고유한 것은 무엇인가? 그것은 이성적 능력이다.
 을: 삼각형의 본성으로부터 그것의 세 각의 합은 두 직각의 합과 동일하다는 사실이 - 영원에서 그리고 영원으로 - 필연적으로 따라 나온다. 이 필연과 동일한 필연으로, 신의 최고의 힘으로부터 무한하게 많은 양태(樣態)의 무한하게 많은 것들이 항상 따라 나올 것이다.

<보기>
 가. 갑: 행복은 신에 대한 직관적 인식에서 나오는 만족일 뿐이다.
 나. 을: 자연은 인과적 필연 법칙에 따라 움직이는 기계이다.
 다. 갑, 을: 인간은 자연의 한 부분으로서 자연에서 벗어날 수 없다.
 라. 갑, 을: 인간은 자신의 노력으로 정념의 속박을 극복할 수 있다.

- ① 가, 나 ② 가, 다 ③ 나, 라
- ④ 가, 다, 라 ⑤ 나, 다, 라

12. (가)의 근대 서양 사상가 갑, 을, 병의 입장에서 서로에게 제기할 수 있는 비판을 (나) 그림으로 표현할 때, A~F에 해당하는 내용으로 가장 적절한 것은? [3점]

(가)
 갑: 공통 권력이 존재하지 않으면 만인의 만인에 대한 전쟁 상태에 놓이게 된다. 각자는 자연 상태에서 가지고 있는 사적 폭력을 포기하고 평화 규약에 합의하게 된다.
 을: 자연 상태는 각자가 자연법에 따라 생활하므로 대체로 평화로운 상태이다. 누군가 자연의 공유물을 노동을 통해 취하면 그것은 그의 소유가 된다.
 병: 인간은 자유인으로 태어났지만 곳곳에서 사슬에 매여 있다. 우리 각자는 신체와 힘을 모두 일반 의지에 맡긴 후 다시 각자를 전체의 불가분의 부분으로 받아들인다.



- ① A: 자연 상태는 부정의가 난무하는 전쟁 상태임을 간과한다.
- ② B, D: 소유권은 사회 계약을 통해 획득된 산물임을 간과한다.
- ③ C: 국가가 개인의 자유와 소유물을 잘 보전해야 함을 간과한다.
- ④ E: 자연 상태는 평화롭다는 점에서 사회 상태와 구분됨을 간과한다.
- ⑤ F: 주권은 양도될 수 없고 분할될 수도 없음을 간과한다.

13. 한국 불교 사상가 갑, 을의 입장으로 옳지 않은 것은? [3점]

갑: 왜 일심(一心)이라 부르는가? 진여(眞如)와 생멸(生滅)은 두 가지로 존재할 수 없으므로 일(一)이라 하며, 허공처럼 텅 비어 있는 것이 아니라 그 본성이 스스로를 신령스럽게 알아차리므로 심(心)이라 한다.
 을: 이치[理]에 들어가는 방법은 수없이 많지만 그것은 선정[定]과 지혜[慧]가 아닌 것이 없다. 선정은 자성(自性)의 본체이며 지혜는 자성의 작용으로서 서로 분리되지 않는다.

- ① 갑: 다양한 현상은 마음과 별개로 고정적 실체로서 존재한다.
- ② 갑: 모든 종파의 이론들은 하나의 근원에 의해 회통되어야 한다.
- ③ 을: 돈오(頓悟)는 습기(習氣)가 쌓여 있는 상태에서도 가능하다.
- ④ 을: 정혜를 함께 닦는 것을 점수(漸修)의 요체로 삼아야 한다.
- ⑤ 갑, 을: 무아(無我)를 철저히 깨달아야 중생의 구제가 가능하다.

14. 사회사상가 갑, 을의 입장으로 옳은 것만을 <보기>에서 있는 대로 고른 것은?

갑: 자유는 시민적 자유 내지 사회적 자유를 의미한다. 국가선언에 대해 중립적이어야 하며, 타인에게 미치는 피해를 방지하기 위한 경우에만 권력이 개인의 자유에 간섭할 수 있다.
 을: 자유는 자의적 지배 권력의 부재를 의미한다. 자유를 누리기 위해서는 법치 국가가 되어야 하며, 이 국가와 동료 시민에 대한 자발적이고 대승적인 사랑이 진정한 애국이다.

<보기>
 가. 갑: 타인에게 해를 주지 않는다면 개인의 자유를 보장해야 한다.
 나. 을: 시민의 정치 참여는 자유를 지키는 필수 요소이다.
 다. 을: 자신이 소속된 민족에 대한 무조건적 사랑이 애국이다.
 라. 갑, 을: 자유를 실현하려면 국가의 어떤 간섭도 배제해야 한다.

- ① 가, 나 ② 가, 다 ③ 나, 라
- ④ 가, 다, 라 ⑤ 나, 다, 라

15. 근대 한국 사상가 갑, 을의 입장으로 가장 적절한 것은?

갑: 서양 물건은 기괴한 기술과 교묘함으로 마음을 타락시키므로 삶에 도움이 되지 않는다. 양인(洋人)으로 인해 백성들이 곤궁해지고 재물이 고갈되어 나라꼴이 아니고, 예의를 지키던 자들이 재물에만 몰려 금수로 타락해 간다.
 을: 마음이란 내게 있는 본연의 한울[天]이니 본래 한마음이다. 마음은 선천과 후천의 마음이 있고, 기운 또한 선천과 후천의 기운이 있다. 천지의 마음은 신령하고, 천지의 기운은 천지에 가득 차 있으며 우주에 뻗어 있다.

- ① 갑: 성리학적 질서와 서양의 기술[西器]을 모두 배척해야 한다.
- ② 갑: 서양과의 활발한 교역을 통해 부족한 재화를 충족해야 한다.
- ③ 을: 새 세상이 현세에 도래할 것[後天開闢]이니 준비해야 한다.
- ④ 을: 무궁한 한울의 마음과 유한한 사람의 마음은 본래 다르다.
- ⑤ 갑, 을: 유교의 인륜을 바탕으로 불교와 도교를 통합해야 한다.

4 (윤리와 사상)

사회탐구 영역

16. 다음을 주장한 한국 유교 사상가의 입장으로 옳은 것만을 <보기>에서 있는 대로 고른 것은? [3점]

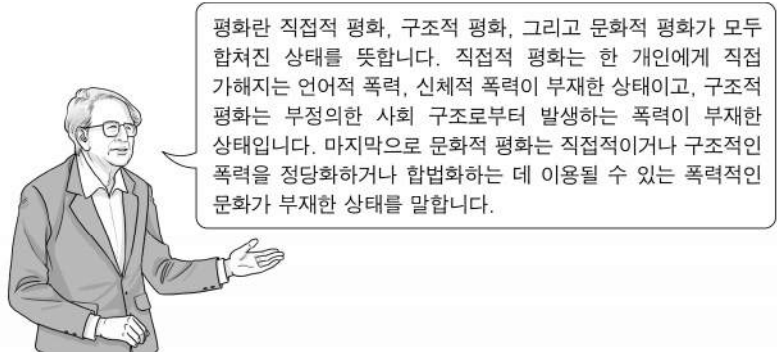
- 사람이 태아로 있을 때 하늘이 그에게 영명(靈明)하며 무형(無形)한 체(體)를 부여하였다. 이것은 선을 즐거워하고 악을 미워하며 덕을 좋아하고 욕됨을 부끄러워하는 것이니 이것을 성(性)이라 말한다.
- 하늘이 나에게 성을 부여할 때 덕을 좋아하는 감정과 선을 선택할 수 있는 능력을 함께 주었다. 이 성은 비록 나에게 주어졌지만 그 근본은 하늘의 명령[天命]이다.

<보 기>

- ㄱ. 인간은 사덕(四德)을 실천함으로써 사단을 이룰 수 있다.
- ㄴ. 인간은 악을 싫어하는 기호(嗜好)의 본성도 지니고 있다.
- ㄷ. 인간은 도덕적 선택을 통해 자유 의지[自主之權]를 형성한다.
- ㄹ. 인간의 선행은 자신의 공적이 되고, 악행은 자신의 죄가 된다.

- ① ㄱ, ㄴ ② ㄱ, ㄷ ③ ㄴ, ㄹ
- ④ ㄱ, ㄷ, ㄹ ⑤ ㄴ, ㄷ, ㄹ

17. 그림의 강연자가 지지할 주장으로 옳지 않은 것은?



- ① 직접적 폭력을 피하는 것만으로도 적극적 평화가 실현된다.
- ② 권위주의에서 비롯된 문화적 폭력은 구조적 폭력을 정당화한다.
- ③ 평화는 국가 안보 차원에서 인간 안보 차원으로 확장되어야 한다.
- ④ 테러나 범죄와 같은 물리적 폭력이 없는 상태가 소극적 평화이다.
- ⑤ 직접적 · 구조적 · 문화적 폭력은 서로 유기적으로 연결되어 있다.

18. 근대 서양 사상가 갑, 을의 입장으로 옳은 것만을 <보기>에서 있는 대로 고른 것은?

- 갑: 의지의 자율은 모든 도덕법칙들과 그에 따르는 의무들의 유일한 원리이다. 이에 반해 자의(恣意)의 모든 타율은 전혀 책무를 정초하지 못할 뿐만 아니라, 오히려 책무 및 의지의 도덕성 원리에 맞서 있다.
- 을: 어떤 두 가지 쾌락을 모두 경험해 본 사람들 전체 또는 대다수가 도덕적 의무와 관계없이 그중 어떤 하나를 뚜렷이 선호한다면 그것은 더욱 바람직한 쾌락일 것이다.

<보 기>

- ㄱ. 갑: 경향성이 아니라 의무로부터 선행을 실천해야 한다.
- ㄴ. 을: 행위의 도덕성은 행위의 결과가 아니라 의지에 근거한다.
- ㄷ. 을: 판단 능력이 있는 사람들은 더 바람직한 쾌락을 선호한다.
- ㄹ. 갑, 을: 누구나 따라야 할 보편적인 도덕 원리가 존재한다.

- ① ㄱ, ㄷ ② ㄴ, ㄷ ③ ㄴ, ㄹ
- ④ ㄱ, ㄴ, ㄹ ⑤ ㄱ, ㄷ, ㄹ

19. 다음을 주장한 근대 서양 사상가의 입장으로 옳은 것은?

어떤 살인 행위를 모든 면에서 검토하고 당신이 악덕이라고 부를 수 있는 사실을 발견할 수 있는지 보라. 이때 당신은 어떤 정념, 동기, 의욕, 생각만을 발견할 뿐, 다른 사실은 없다. 당신이 그 대상을 고찰하는 동안, 그 악덕은 당신을 피해 달아난다. 당신이 고찰의 방향을 자신의 마음으로 돌려서, 자신 안에서 일어나는 그 행위에 대한 부인(否認)의 감정을 발견할 때까지는 당신은 그것을 결코 발견할 수 없다.

- ① 덕은 모든 관찰자마다 다르게 느껴진다.
- ② 덕은 직접 경험될 수 있고 이성으로도 발견될 수 있다.
- ③ 덕에 대한 식별은 이성애, 덕의 실천은 감정에 의존한다.
- ④ 덕은 성품에 관한 특성이 아니라 사물에 내재하는 속성이다.
- ⑤ 덕은 특별한 종류의 쾌락이 느껴진다는 점에서 악덕과 구별된다.

20. 사회사상가 갑, 을의 입장으로 옳은 것만을 <보기>에서 있는 대로 고른 것은? [3점]

- 갑: 정부는 경제에 대한 개입을 철회하고 자본의 자유로운 국제적 이동을 보장해야 한다. 시장의 자생적 질서를 쫓 피울 수 있다면 장기적으로 경제 전반의 체질이 개선되어 성장 잠재력이 커질 수 있다.
- 을: 정부는 조세 체계와 이자율의 결정에 주요한 영향력을 행사해야 한다. 불황이나 실업과 같은 문제를 해결하려면 정부의 역할이 필요하며, 특히 정부는 완전 고용을 위해 투자의 사회화를 실현해야 한다.

<보 기>

- ㄱ. 갑: 정부는 자유 경쟁이 이루어질 수 있는 조건을 제공해야 한다.
- ㄴ. 을: 정부는 시장의 조절 기능을 전적으로 신뢰해야 한다.
- ㄷ. 을: 경제적 불황을 극복하려면 재정의 지출을 확대해야 한다.
- ㄹ. 갑, 을: 시장에서의 자유로운 이윤 추구는 인정되어야 한다.

- ① ㄱ, ㄷ ② ㄴ, ㄷ ③ ㄴ, ㄹ
- ④ ㄱ, ㄴ, ㄹ ⑤ ㄱ, ㄷ, ㄹ

* 확인 사항
○ 답안지의 해당란에 필요한 내용을 정확히 기입(표기)했는지 확인 하시오.

제 4 교시

사회탐구 영역(한국지리)

성명 수험 번호 - 제 [] 선택

1. 다음 글은 위치와 관련한 우리나라의 명소에 대한 것이다. ㉠~㉣에 대한 설명으로 옳은 것은?

- 양구군에는 우리나라의 4극을 기준으로 정중앙을 상징하는 기념물이 ㉠ 동경 128° 02' 02.5", 북위 38° 03' 37.5" 지점에 세워져 있다. 국토 정중앙이라는 지역 특성을 알리기 위해 여름철에 '배꼽 축제'가 열린다.
- ㉡ 정동진이라는 지명은 '한양의 광화문에서 정동쪽에 위치한 나루터가 있는 마을'이라는 뜻에서 유래되었다. 바다와 접한 기차역과 대형 모래시계, 조각 공원 등이 있어 많은 관광객이 찾고 있으며 전국적인 해돋이 관광 명소이다.
- 해남군에는 ㉢ 한반도 육지의 가장 남쪽 끝 지점에 한반도의 땅끝임을 알리는 탑이 세워져 있다. 같은 장소에서 아름다운 일몰과 일출을 볼 수 있다는 특성을 활용하여 '땅끝 해넘이·해맞이 축제'가 열린다.

- ① ㉡은 우리나라에서 일몰 시각이 가장 이르다.
- ② ㉢은 우리나라 영토의 최남단에 위치한다.
- ③ ㉡은 ㉠보다 우리나라 표준 경선과의 최단 거리가 가깝다.
- ④ ㉠, ㉢은 모두 관계적 위치를 표현한 것이다.
- ⑤ ㉡, ㉢ 주변 해안의 최저 조위선은 직선 기선으로 활용된다.

2. 다음은 지도에 표시된 지역의 해안 지형에 대한 답사 보고서의 일부이다. ㉠~㉣에 대한 옳은 설명만을 <보기>에서 있는 대로 고른 것은?

㉠ 사빈의 모래가 바람에 날려 쌓인 모래 언덕으로 모래의 크기가 사빈보다 작은 편이다.

㉡ 사주의 성장으로 만의 입구가 막혀 형성된 호수로 면적이 점차 줄어들고 있다.

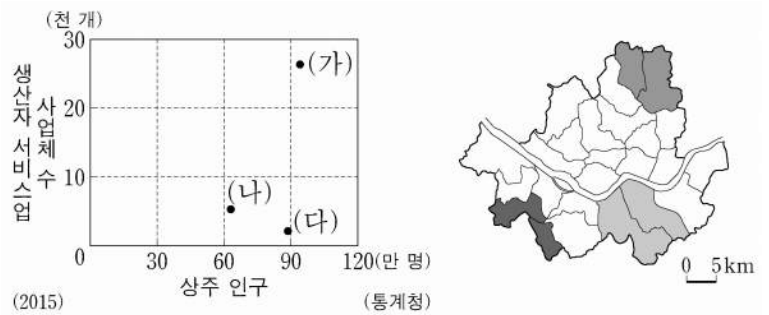
㉢ 파랑의 침식으로 형성된 평탄한 바위 면으로 바다 쪽으로 돌출된 곳에 잘 발달한다.

㉣ 지반의 용기에 의해 현재 해수면 보다 높은 곳에 위치하는 계단 모양의 지형으로 주로 동해안에 발달해 있다.

- <보 기>
- ㄱ. ㉠의 밑에는 바닷물보다 염도가 낮은 지하수층이 형성되어 있다.
 - ㄴ. ㉡의 물은 주로 농업용수로 활용된다.
 - ㄷ. ㉢은 해식애가 후퇴하면 면적이 넓어진다.
 - ㄹ. ㉣에서는 과거 바닷가에 퇴적되었던 등근 자갈을 볼 수 있다.

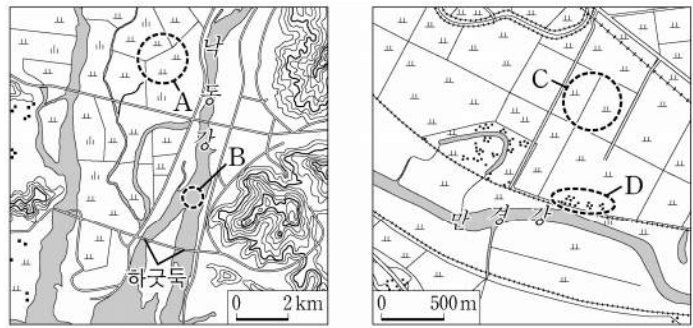
- ① ㄱ, ㄴ ② ㄴ, ㄷ ③ ㄷ, ㄹ
- ④ ㄱ, ㄴ, ㄹ ⑤ ㄱ, ㄷ, ㄹ

3. 그래프의 (가)~(다) 지역군에 대한 설명으로 옳은 것은? (단, (가)~(다)는 각각 지도에 표시된 세 지역군 중 하나임.) [3점]



- ① (나)는 (가)보다 상업지 평균 지가가 높다.
- ② (나)는 (다)보다 제조업체 수가 많다.
- ③ (다)는 (가)보다 통근·통학 유입 인구가 많다.
- ④ (다)는 (나)보다 주간 인구 지수가 높다.
- ⑤ 지역 내 총생산은 (가)>(다)>(나) 순으로 많다.

4. 지도의 A~D에 대한 옳은 설명만을 <보기>에서 고른 것은? [3점]



- <보 기>
- ㄱ. A는 유속의 감소로 형성된 선상지이다.
 - ㄴ. B에서는 하굿둑 건설 이후 하천의 수위 변동 폭이 증가하였다.
 - ㄷ. D는 C보다 퇴적물의 평균 입자 크기가 크다.
 - ㄹ. A와 C의 퇴적물은 후빙기에 퇴적되었다.

- ① ㄱ, ㄴ ② ㄱ, ㄷ ③ ㄴ, ㄷ ④ ㄴ, ㄹ ⑤ ㄷ, ㄹ

5. 다음은 한국지리 수업 중 학생이 작성한 노트이다. ㉠~㉣에 대한 설명으로 옳은 것은? [3점]

주제: 카르스트 지형과 인간 생활

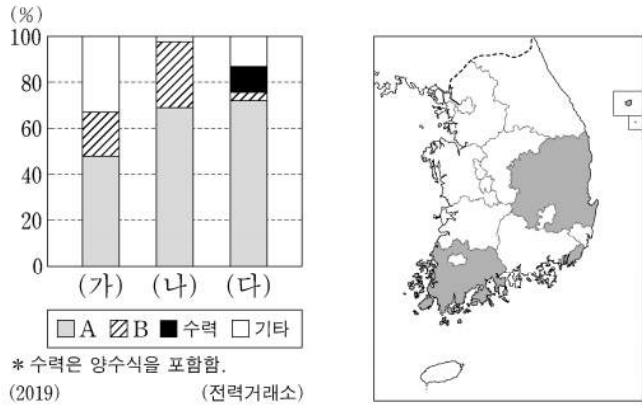
- 주요 카르스트 지형
 - ㉠ 돌리네: ㉡ 용식 작용에 의해 형성된 깔때기 모양의 지형
 - ㉢ 석회동굴: 내부에 종유석, 석순, 석주 등이 형성
 - ㉣ 석회암 풍화토: 기반암의 성질이 반영된 간대 토양
- 카르스트 지형을 활용한 인간 생활
 - 농업: (㉠)
 - 제조업: 시멘트 공업 발달
 - 서비스업: 동굴을 활용한 관광 산업 발달

- ① ㉠은 고생대 평안 누층군에서 주로 나타난다.
- ② ㉡은 물리적 풍화 작용에 해당한다.
- ③ ㉢은 용암의 냉각 속도 차이에 의해 형성된다.
- ④ ㉣은 석회암이 용식된 후 남은 철분 등이 산화하여 붉은색을 띤다.
- ⑤ ㉣에는 '배수가 불량하여 주로 논농사 발달'이 들어갈 수 있다.

2 (한국지리)

사회탐구 영역

6. 그래프는 지도에 표시된 세 지역의 발전 양식별 설비 용량 비율을 나타낸 것이다. 이에 대한 설명으로 옳은 것은? (단, A, B는 각각 원자력, 화력 중 하나임.)



- ① (가)는 우리나라에서 원자력 발전 설비 용량이 가장 많은 지역이다.
- ② (가), (나)는 영남 지방, (다)는 호남 지방에 해당한다.
- ③ B는 수력보다 자연적 입지 제약을 많이 받는다.
- ④ A는 B보다 우리나라에서 전력 생산에 이용된 시기가 이른다.
- ⑤ B는 A보다 우리나라에서 발전량이 많다.

7. 다음은 학생이 수업 시간에 정리한 내용의 일부이다. ㉠~㉢에 대한 옳은 설명만을 <보기>에서 고른 것은? [3점]

우리나라의 바람

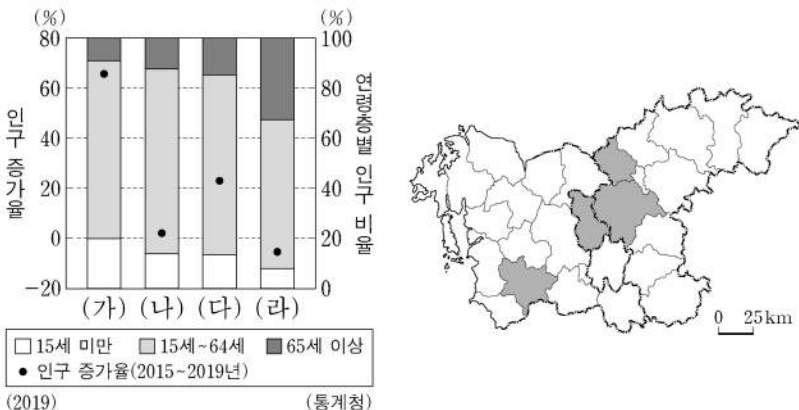
- 계절풍: 계절에 따라 풍향이 달라지는 바람이다. 여름에는 ㉠ 남서풍 혹은 남동풍이 주로 불며, ㉡ 겨울에는 북서풍이 탁월하다.
- ㉢ 논새바람: 늦봄에서 초여름 사이에 북동풍이 태백산맥을 넘으면서 ㉣ 권 현상을 동반할 때 영서 지방에 부는 바람이다.

<보 기>

㉠. ㉠은 주로 서고동저의 기압 배치에 의해 나타난다.
 ㉡. ㉡에는 주로 대류성 강수가 내린다.
 ㉢. ㉢이 불 때 영서 지방에 이상 고온 현상이 나타난다.
 ㉣. ㉣이 발생할 때 바람받이 사면이 바람그늘 사면보다 습윤하다.

- ① ㉠, ㉡ ② ㉠, ㉢ ③ ㉡, ㉣ ④ ㉡, ㉣ ⑤ ㉢, ㉣

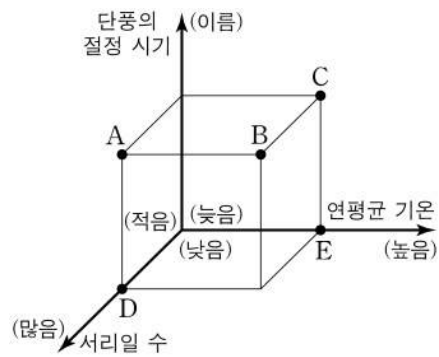
8. 그래프는 지도에 표시된 네 지역의 인구 특성을 나타낸 것이다. (가)~(라) 지역에 대한 설명으로 옳은 것은?



- ① (가)는 혁신 도시가 조성되어 공공 기관이 이전한 곳이다.
- ② (가)는 (라)보다 총부양비가 높다.
- ③ (라)는 (다)보다 성비가 높다.
- ④ (가)~(라) 중 총인구가 가장 많은 곳은 (나)이다.
- ⑤ (가)~(라) 중 중위 연령이 가장 높은 곳은 (다)이다.

9. 다음 자료의 (가) 지역에 대한 (나) 지역의 상대적 특성을 그림의 A~E에서 고른 것은?

지역	(가)	(나)
전통 가옥 특징		
설명	취사할 때 발생하는 열을 난방에 활용하지 않아 부엌에서 취사용 화덕이 방의 반대 편에 놓여 있다.	부엌에서 발생하는 온기를 난방에 직접 활용하기 위해 부뚜막을 길게 연장하여 만든, 거실과 같은 생활 공간인 정주간이 발달하였다.



- ① A
- ② B
- ③ C
- ④ D
- ⑤ E

10. 다음 자료는 답사 계획서의 일부이다. (가)~(다) 지역을 지도의 A~C에서 고른 것은? [3점]

<경기·강원 지역 답사 계획서>

• 기간: 2020년 □□월 ○일 ~ ○일
 • 답사 일정 및 지역 특성

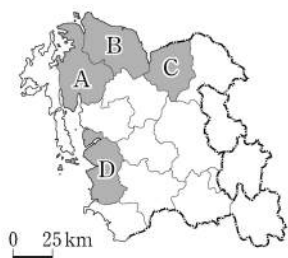
일정	지역	지역 특성
1일 차	(가)	• 출판업을 활용한 지역 브랜드화 추진 • 예술인들의 작업실이 갖추어진 문화 예술 마을 조성
2일 차	(나)	• 기업 도시 기반의 지역 발전 추구 • 의료, 건강, 바이오 산업 중심의 첨단 산업 클러스터 조성
3일 차	(다)	• 석탄 산업 합리화 정책 이후 폐광 증가에 따른 인구 급감 • 석탄 산업 유산을 관광 자원화하여 지역 경제 활성화

0 25km

- | | (가) | (나) | (다) |
|---|-----|-----|-----|
| ① | A | B | C |
| ② | A | C | B |
| ③ | B | A | C |
| ④ | B | C | A |
| ⑤ | C | B | A |

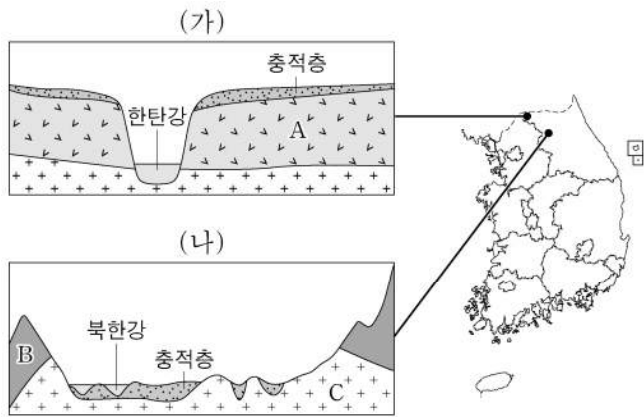
11. (가), (나) 지역을 지도의 A~D에서 고른 것은?

- (가) 은/는 평택, 화성 일대와 더불어 황해 경제 자유 구역으로 지정되어 대중국 전진 기지와 지식 창조형 경제 특구로 개발되고 있다. 그리고 제철 산업이 발달하여 충청권 내 1차 금속 제조업 출하액에서 (가) 이/가 차지하는 비율이 가장 높다.
- (나) 은/는 수도권과 인접하여 수도권의 제조업 기능을 일부 흡수하고 있다. 그리고 IT 업종과 자동차 산업이 발달하였으며, 충청권 내 전자 부품·컴퓨터·영상·음향 및 통신 장비 제조업 출하액에서 (나) 이/가 차지하는 비율이 가장 높다.



- | | | |
|---|-----|-----|
| | (가) | (나) |
| ① | A | C |
| ② | A | D |
| ③ | B | A |
| ④ | B | C |
| ⑤ | C | D |

12. 그림은 (가), (나) 지역에서 나타나는 지형 단면도이다. 이에 대한 설명으로 옳은 것은?

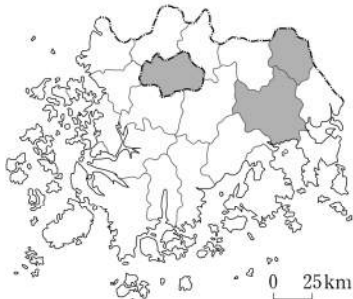


- ① A 암석은 중생대에 마그마의 관입으로 형성되었다.
- ② B 암석은 시·원생대에 형성된 암석이다.
- ③ C 암석에서는 공룡 발자국 화석이 발견된다.
- ④ (나)에서 C 암석은 B 암석보다 풍화와 침식에 강하다.
- ⑤ (가)와 (나)의 충적층은 주로 밭으로 이용된다.

13. 표는 지도에 표시된 세 지역의 소매 업체별 사업체 수를 나타낸 것이다. 이에 대한 설명으로 옳은 것은? (단, A와 B는 각각 백화점, 슈퍼마켓 중 하나임.) [3점]

소매 업체 지역	(단위: 개)			
	A	대형 마트	B	편의점
(가)	3	12	433	1,116
(나)	1	4	83	193
(다)	0	0	10	13

(2019) (통계청)



- ① (다)에는 국가 정원과 람사르 협약에 등록된 습지가 있다.
- ② 서울로 직접 연결되는 버스 운행 횟수는 (나)가 (가)보다 많다.
- ③ A는 B보다 소비자의 평균 이용 빈도가 높다.
- ④ A는 편의점보다 소비자의 평균 구매 이동 거리가 멀다.
- ⑤ B는 대형 마트보다 재화의 도달 범위가 넓다.

14. 다음은 도시 단원의 수업 장면이다. 발표 내용이 가장 적절한 학생을 고른 것은?

2020년 00월 00일 '뜨는 동네'의 역설 서울, (가) 젠트리피케이션을 말한다. △△신문

(나) 서촌의 변화
골목길과 한옥으로 고즈넉한 분위기를 자아내던 서촌은 한옥을 활용한 관광지와 상업 공간으로 바뀌면서 변화의 몸살을 앓고 있다. 서촌에 사람과 돈이 몰려 오자 꽃가게 S씨, 세탁소 K씨가 떠나게 되었다.

(다) 내수동의 변화
종로구 내수동 일대는 슬럼화가 진행된 도심부로 한옥 등 노후 주거지로 구성되어 있었다. 도심 재개발 사업이 진행되면서 대규모 오피스텔과 주상복합 아파트 단지가 들어섰다.

(가)~(다)에 대해 발표해 볼까요?

갑
(가)는 교외 지역에서 주로 발생합니다.

을
(나)는 주로 철거 재개발 방식에 의해 이루어졌습니다.

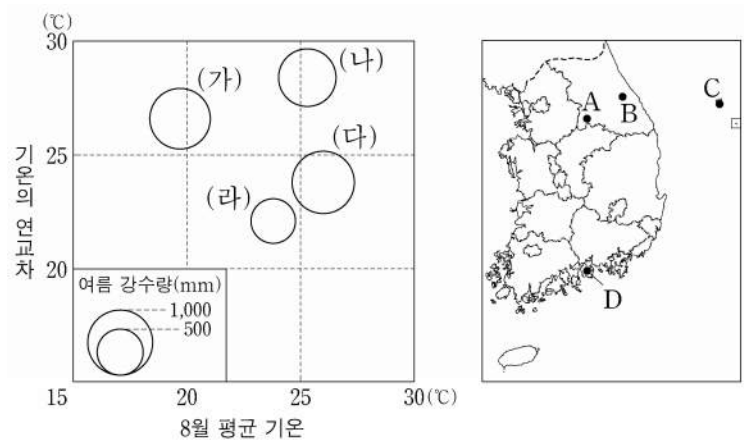
병
(다)로 인해 건물의 평균 층수가 높아졌습니다.

정
(다)는 주로 보존 재개발 방식에 의해 이루어졌습니다.

무
(다)는 (나)보다 기존 건물의 활용도가 높습니다.

- ① 갑
- ② 을
- ③ 병
- ④ 정
- ⑤ 무

15. 그래프는 지도에 표시된 네 지역의 기후 자료이다. (가)~(라) 지역을 지도의 A~D에서 고른 것은? [3점]

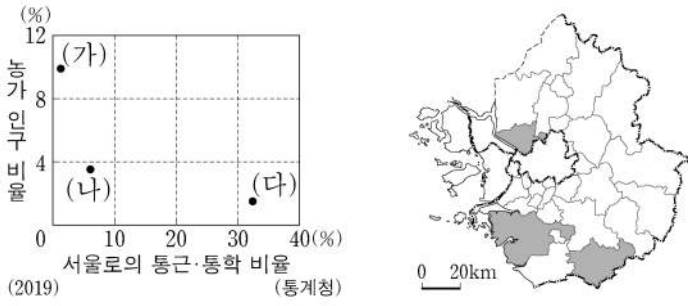


- | | | | | |
|---|-----|-----|-----|-----|
| | (가) | (나) | (다) | (라) |
| ① | A | B | C | D |
| ② | A | B | D | C |
| ③ | B | A | D | C |
| ④ | B | C | D | A |
| ⑤ | C | A | B | D |

4 (한국지리)

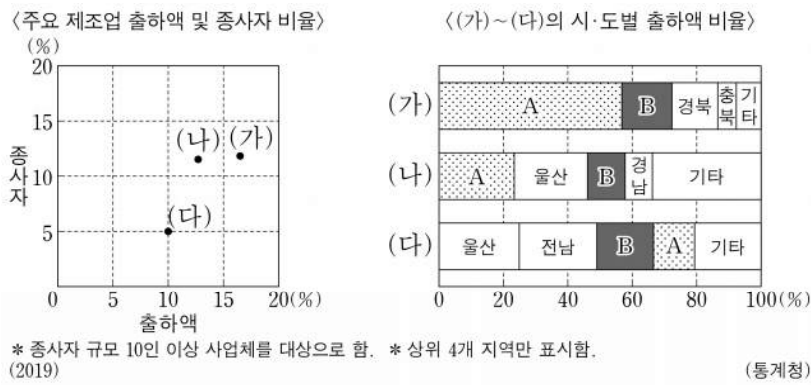
사회탐구 영역

16. 그래프는 지도에 표시된 세 지역의 특성을 나타낸 것이다. (가)~(다) 지역에 대한 설명으로 옳은 것은? [3점]



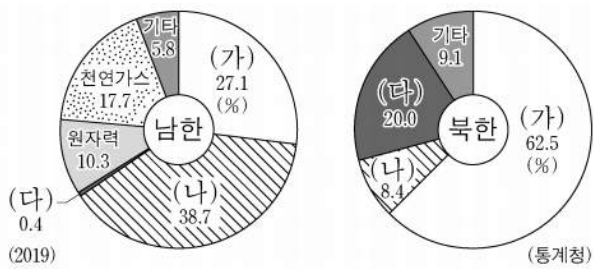
- ① (가)는 (나)보다 주택 중 아파트 비율이 높다.
- ② (가)는 (다)보다 전체 농가 중 겸업농가의 비율이 높다.
- ③ (나)는 (가)보다 유소년층 인구 비율이 높다.
- ④ (다)는 (나)보다 제조업 종사자 수가 많다.
- ⑤ (나)와 (다)에는 수도권 1기 신도시가 조성되어 있다.

17. 그래프는 우리나라 주요 제조업의 특성을 나타낸 것이다. 이에 대한 설명으로 옳은 것은? (단, (가)~(다)는 각각 자동차 및 트레일러, 전자 부품·컴퓨터·영상·음향 및 통신장비, 화학물질 및 화학제품 제조업 중 하나임.)



- ① A는 경기, B는 충청이다.
- ② (가)는 부피가 크거나 무거운 원료를 해외에서 수입하는 적환지 지향형 제조업이다.
- ③ (나)는 한 가지 원료로 여러 제품을 생산하는 계열화된 제조업이다.
- ④ (다)는 최종 제품 생산에 많은 부품이 필요한 조립형 제조업이다.
- ⑤ (가)는 (다)에 비해 종사자 1인당 출하액이 많다.

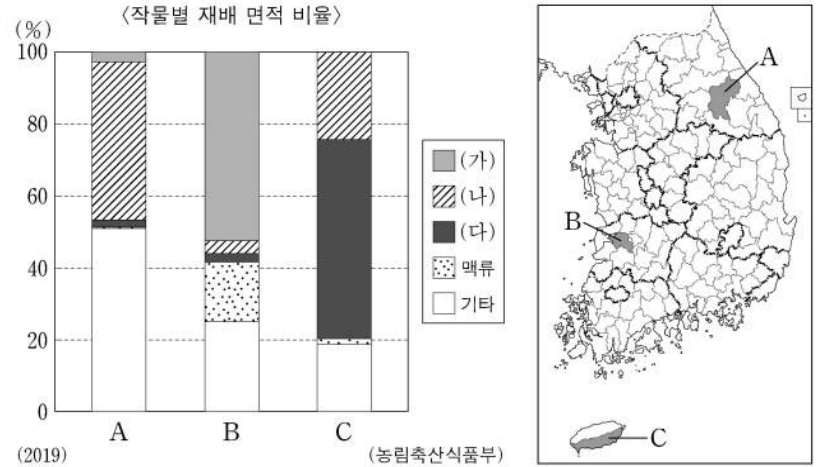
18. 그래프는 남·북한의 1차 에너지원별 공급 비율을 나타낸 것이다. 이에 대한 옳은 설명만을 <보기>에서 고른 것은? (단, (가)~(다)는 각각 석유, 석탄, 수력 중 하나임.) [3점]



- <보 기>
- ㄱ. 북한에서 (가)를 이용한 발전소는 주로 평양 주변에 위치한다.
 - ㄴ. 총 전력 생산에서 (다)를 이용한 발전량 비율은 북한이 남한보다 높다.
 - ㄷ. 북한에서 (가)는 (나)보다 해외 의존도가 높다.
 - ㄹ. (다)는 (나)보다 발전 시 대기 오염 물질의 배출량이 많다.

- ① ㄱ, ㄴ ② ㄱ, ㄷ ③ ㄴ, ㄷ ④ ㄴ, ㄹ ⑤ ㄷ, ㄹ

19. 그래프는 지도에 표시된 세 지역의 작물별 재배 면적 비율을 나타낸 것이다. (가)~(다) 작물에 대한 설명으로 옳은 것은? (단, (가)~(다)는 각각 과수, 벼, 채소 중 하나임.) [3점]



- ① (가)는 주로 논보다 밭에서 많이 재배된다.
- ② (나)의 도내 재배 면적 비율은 제주가 전북보다 높다.
- ③ (다)는 국내 자급률이 가장 높은 작물이다.
- ④ (가)는 (나)보다 시설 재배 비율이 높다.
- ⑤ 우리나라에서 (다)는 (가)보다 총 재배 면적이 넓다.

20. 다음 글의 ㉠~㉣에 대한 옳은 설명만을 <보기>에서 고른 것은?

㉠ 수도권은 우리나라 면적의 11.8%를 차지하고 있으나, 인구의 50.0%(2019년 기준)가 거주하고 있는 인구 과밀 지역이다. 또한 국내 총생산의 절반을 차지할 정도로 산업 및 고용의 집중도가 높다. 이러한 ㉡ 수도권과 비수도권 간의 격차에 따른 ㉢ 국토 공간의 불균형을 해결하기 위해서 다양한 노력이 이루어지고 있다. 한편, 수도권 내에서 서울 중심의 공간 구조를 자립적 다핵 구조로 전환하기 위해 ㉣ 제3차 수도권 정비 계획을 실시하였다.

- <보 기>
- ㄱ. ㉠은 행정 구역상 서울특별시, 인천광역시, 경기도를 포함한다.
 - ㄴ. ㉡은 수도권 신도시 건설로 인하여 크게 완화되고 있다.
 - ㄷ. ㉢을 위한 정책 중에는 수도권 공장 총량제, 과밀 부담금 제도가 있다.
 - ㄹ. ㉣에는 수도권에 기업 도시, 혁신 도시를 조성하는 내용이 포함되어 있다.

- ① ㄱ, ㄴ ② ㄱ, ㄷ ③ ㄴ, ㄷ ④ ㄴ, ㄹ ⑤ ㄷ, ㄹ

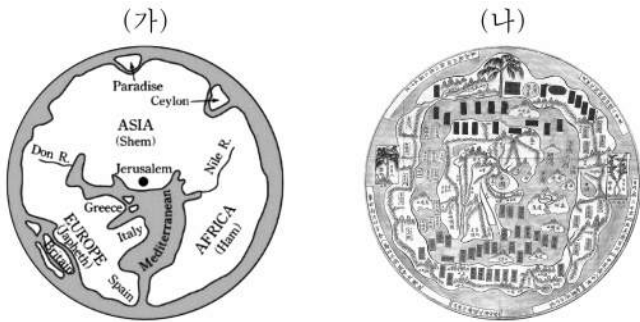
* 확인 사항
○ 답안지의 해당란에 필요한 내용을 정확히 기입(표기)했는지 확인 하시오.

제 4 교시

사회탐구 영역(세계지리)

성명 수험 번호 - 제 [] 선택

1. (가), (나) 지도에 대한 옳은 설명만을 <보기>에서 고른 것은?



<보 기>
 가. (가)는 크리스토프 세계관이 반영되어 있다.
 나. (나)에는 상상의 나라가 표현되어 있다.
 다. (가), (나)는 모두 지도의 위쪽이 남쪽이다.
 리. (가), (나)에는 모두 아메리카 대륙이 표현되어 있다.

- ① 가, 나 ② 가, 다 ③ 나, 다 ④ 나, 리 ⑤ 다, 리

2. 다음 자료의 ㉠~㉣에 들어갈 내용으로 옳은 것은?

리커란, 「이강승경」

중국 현대 산수화의 거장 리커란은 중국 구이린 지역의 풍경을 독창적인 화법으로 묘사하였다. 화폭에 그려진 여러 봉우리는 ㉠이다. 이와 같은 ㉠은/는 기반암인 ㉡이 빗물, 강물, 바닷물 등의 차별적인 침식과 용식을 받아 형성된 것이며, 주로 ㉢한 기후 환경에서 잘 발달한다.

- | | | |
|----------|-----|----|
| ㉠ | ㉡ | ㉢ |
| ① 용암 돛 | 석회암 | 건조 |
| ② 용암 돛 | 유문암 | 습윤 |
| ③ 탑 카르스트 | 석회암 | 건조 |
| ④ 탑 카르스트 | 석회암 | 습윤 |
| ⑤ 탑 카르스트 | 유문암 | 건조 |

3. 다음은 '고대부터 현대까지, 라틴 아메리카 도시 탐방' 방송 대본의 일부이다. 촬영지가 있는 국가를 순서대로 지도의 A~C에서 고른 것은? [3점]

	포르투갈어로 '1월의 강'을 뜻하는 도시 ○○! 이곳은 세계 3대 미항 중 하나로 알려져 있으며 삼바 퍼레이드로 유명한 축제가 열립니다. 2016년 하계 올림픽을 개최했던 인구 약 1,200만 명의 대도시이며 1960년까지는 국가의 수도였습니다.
	원주민어로 '중심'을 뜻하는 도시 △△! 이곳은 마추픽추와 더불어 잉카 문명을 대표하는 고대 도시입니다. 과거 잉카 제국의 수도였으며, 곳곳에 고고학적 유적들이 산재해 있어 유네스코 세계문화유산으로 지정된 도시입니다.
	에스파냐어로 '좋은 바람'을 뜻하는 도시 ◇◇! 이곳은 유럽계 비율이 전체 국민의 80%를 상회하는 나라의 수도입니다. 과거 유럽 각 지역으로 지하자원을 운반했던 항구 도시로 이 도시 곳곳에는 유럽의 식민 지배 흔적이 남아있습니다.



- ① A → B → C
 ② A → C → B
 ③ B → A → C
 ④ B → C → A
 ⑤ C → A → B

4. 다음은 세계지리 원격 수업 장면의 일부이다. 교사의 질문에 옳게 대답한 학생을 고른 것은? (단, (가)~(다)는 각각 고기 조산대, 신기 조산대, 안정지괴 중 하나임.)

온라인 교실

〈오세아니아의 대지형 분포〉

[세계지리 학습방]

교사	갑
을	병
정	무

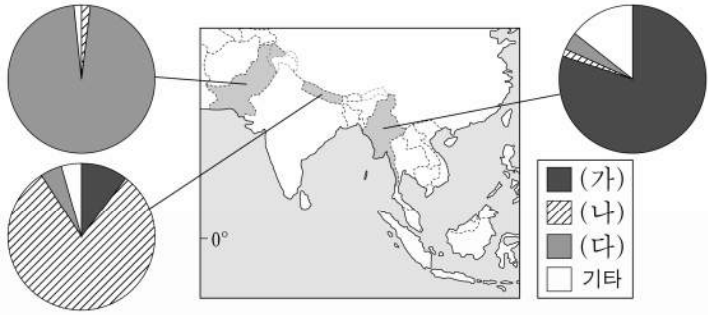
교사: (가)~(다) 대지형과 ㉠ 지역에 대해 설명해 볼까요?
 갑: 북아메리카의 애팔래치아 산맥은 (가)로 분류됩니다.
 을: (다)의 대표적 지형으로 순상지와 구조 평야를 들 수 있어요.
 병: (다)는 (나)보다 형성된 시기가 이릅니다.
 정: (가)~(다) 중 화산 활동의 발생 빈도가 가장 높은 곳은 (나)예요.
 무: ㉠ 지역에는 오스트레일리아의 대표적인 철광석 매장지가 있어요.

- ① 갑 ② 을 ③ 병 ④ 정 ⑤ 무

2 (세계지리)

사회탐구 영역

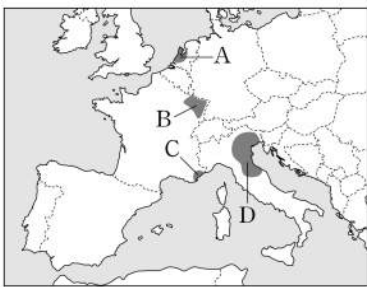
5. 다음 자료는 세 국가의 종교별 신자 수 비율을 나타낸 것이다. (가)~(다) 종교에 대한 설명으로 옳은 것은? [3점]



- ① (가)는 민족 종교이다.
- ② (나)의 신자 수가 가장 많은 국가는 인도네시아이다.
- ③ (다)는 여러 신을 섬기는 다신교이다.
- ④ (다)는 (가)보다 발생 시기가 이른다.
- ⑤ (가), (나)의 기원지는 남부 아시아이다.

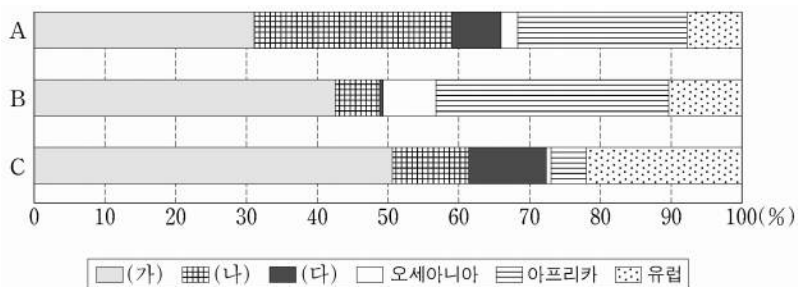
6. 다음 글은 유럽의 산업 지역에 대한 설명이다. (가), (나) 지역을 지도의 A~D에서 고른 것은?

- (가) 지역은 철광석이 풍부하게 매장된 지역으로 산업 혁명 이후 인접 지역에 매장되어 있는 석탄을 이용하여 철강 산업이 발달하였다. 그러나 점차 자원 고갈, 시설의 노후화 등으로 인해 이 지역의 산업 기반은 쇠퇴하였다.
- (나) 지역은 볼로냐를 중심으로 섬유, 의류, 신발, 가죽, 가구 등 경공업 부문에 특화된 다품종 소량 생산 방식의 장인적 중소기업이 집적된 산업지구들이 발달한 곳이다. 이 지역에는 지리적으로 인접한 기업들 간의 네트워크가 발달해 있다.



- | | (가) | (나) |
|---|-----|-----|
| ① | A | C |
| ② | A | D |
| ③ | B | A |
| ④ | B | D |
| ⑤ | D | C |

7. 그래프는 A~C 가축의 지역(대륙)별 사육 두수 비율을 나타낸 것이다. 이에 대한 옳은 설명만을 <보기>에서 있는 대로 고른 것은? (단, A~C는 각각 돼지, 소, 양 중 하나임.) [3점]



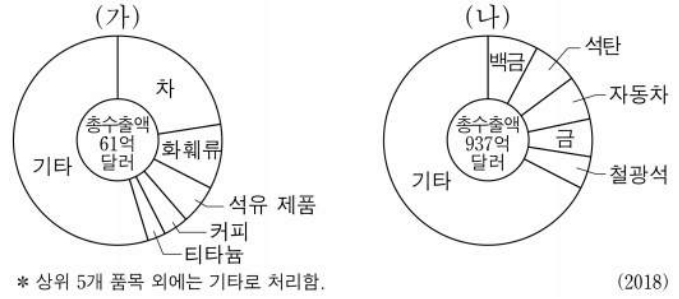
* 아메리카는 앵글로아메리카와 라틴 아메리카로 구분함. (2019)

<보기>

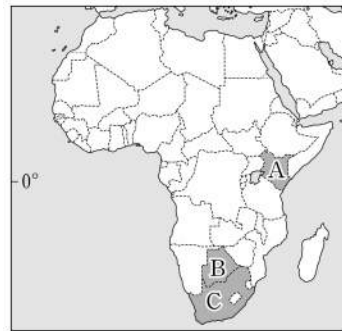
- ㄱ. A는 앵글로아메리카보다 라틴 아메리카에서 많이 사육된다.
- ㄴ. 신대륙에서는 B를 기업적 목축 형태로 사육한다.
- ㄷ. (가)의 건조 기후 환경에서는 C를 유목 형태로 기른다.
- ㄹ. 전 세계 총 사육 두수는 A가 C보다 많다.

- ① ㄱ, ㄴ ② ㄱ, ㄷ ③ ㄴ, ㄹ
- ④ ㄱ, ㄴ, ㄹ ⑤ ㄴ, ㄷ, ㄹ

8. 그래프는 두 국가의 상품 수출액 비율을 나타낸 것이다. (가), (나)에 해당하는 국가를 지도의 A~C에서 고른 것은?

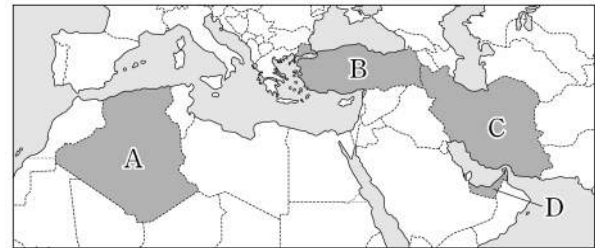


* 상위 5개 품목 외에는 기타로 처리함. (2018)



- | | (가) | (나) |
|---|-----|-----|
| ① | A | B |
| ② | A | C |
| ③ | B | A |
| ④ | B | C |
| ⑤ | C | A |

9. 지도의 A~D 국가에 대한 옳은 설명만을 <보기>에서 고른 것은? [3점]

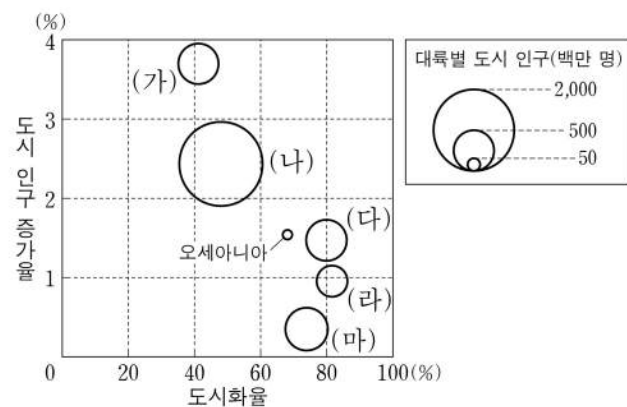


<보기>

- ㄱ. A는 해안 지역보다 내륙 지역의 인구 밀도가 높다.
- ㄴ. B는 유럽 연합 회원국이다.
- ㄷ. C는 수니파 교도보다 시아파 교도가 많다.
- ㄹ. D는 외국인 노동자의 유입으로 청장년층에서 여자보다 남자가 많다.

- ① ㄱ, ㄴ ② ㄱ, ㄷ ③ ㄴ, ㄷ ④ ㄴ, ㄹ ⑤ ㄷ, ㄹ

10. 그래프의 (가)~(마) 지역(대륙)에 대한 설명으로 옳은 것은? [3점]



* 도시화율과 도시 인구 증가율은 원의 가운데 값임.
* 아메리카는 앵글로아메리카와 라틴 아메리카로 구분함.
*** 도시화율과 도시 인구는 2015년, 도시 인구 증가율은 2010~2015년 자료임.

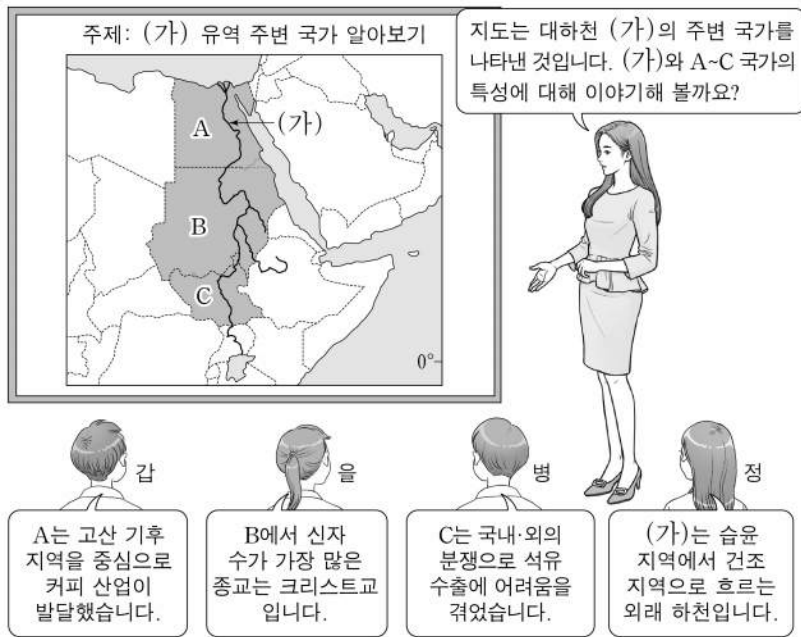
- ① (다)에는 최상위 세계 도시가 있다.
- ② (가)는 (다)보다 촌락의 인구가 적다.
- ③ (나)는 (마)보다 3차 산업 종사자 비율이 높다.
- ④ (다)는 (라)보다 국가 수가 많다.
- ⑤ (라)는 (마)보다 산업화 시기가 이른다.

11. 다음 글은 두 지리 교사가 답사 중에 나눈 영상 통화 내용이다. 밑줄 친 ㉠~㉣에 대한 설명으로 옳은 것은?



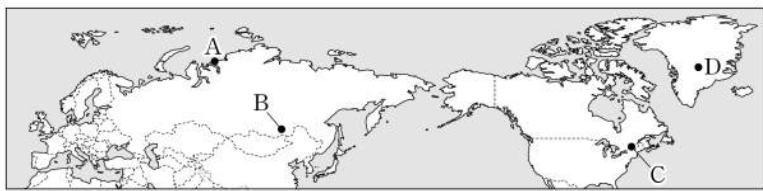
- ① ㉠은 유수에 의해 형성된 V자형 계곡이 침수된 해안이다.
- ② ㉡은 파랑의 침식과 지반의 융기로 형성된 계단 모양의 지형이다.
- ③ ㉢ 주변에는 바르한, ㉣ 주변에는 드럼린이 주로 나타난다.
- ④ ㉣에 형성된 호수는 빙하호보다 염도가 낮다.
- ⑤ ㉣은 경암층과 연암층이 차별적인 풍화와 침식을 받아 형성되었다.

12. 다음은 세계지리 수업 장면이다. 교사의 질문에 옳게 대답한 학생만을 고른 것은?



- ① 갑, 을 ② 갑, 병 ③ 을, 병 ④ 을, 정 ⑤ 병, 정

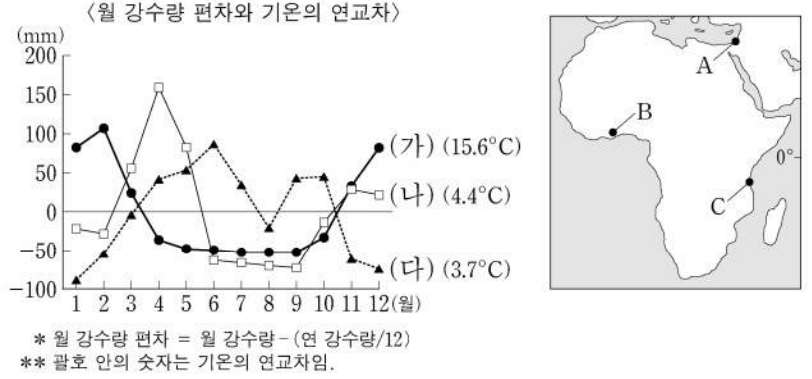
13. 지도의 A~D 지역에 대한 옳은 설명만을 <보기>에서 고른 것은? [3점]



<보 기>
 가. A는 연중 수백 미터 두께의 얼음으로 덮여 있다.
 나. D에는 침엽수림인 타이가가 나타난다.
 다. B는 C보다 기온의 연교차가 크다.
 리. C는 A보다 연 강수량이 많다.

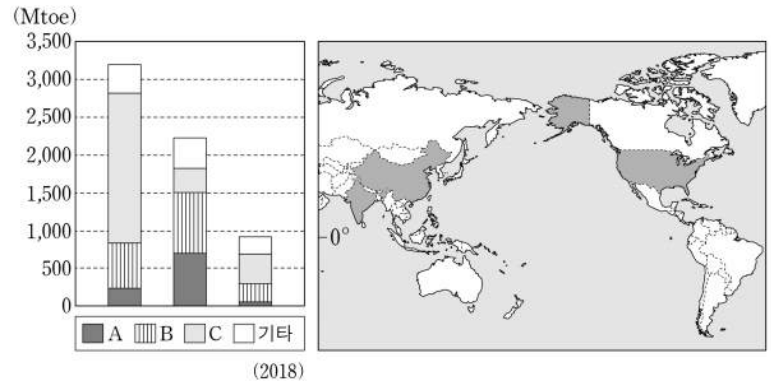
- ① 가, 나 ② 가, 다 ③ 나, 다 ④ 나, 리 ⑤ 다, 리

14. 그래프의 (가)~(다)에 해당하는 지역을 지도의 A~C에서 고른 것은? [3점]



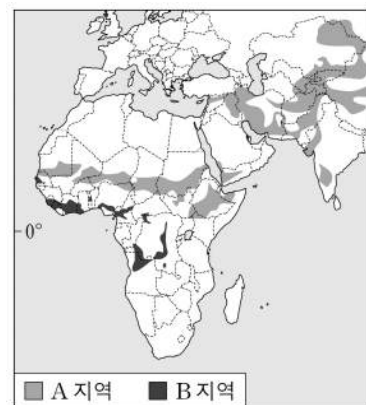
- | | | | | | | | |
|---|-----|-----|-----|---|-----|-----|-----|
| | (가) | (나) | (다) | | (가) | (나) | (다) |
| ① | A | B | C | ② | A | C | B |
| ③ | B | A | C | ④ | B | C | A |
| ⑤ | C | A | B | | | | |

15. 그래프는 지도에 표시된 세 국가의 1차 에너지원별 소비량을 나타낸 것이다. 이에 대한 설명으로 옳은 것은? (단, A~C는 각각 석유, 석탄, 천연가스 중 하나임.) [3점]



- ① C는 신기 습곡 산지에서 주로 생산된다.
- ② B는 A보다 상용화된 시기가 늦다.
- ③ B는 C보다 수송용으로 소비되는 비율이 높다.
- ④ 1차 에너지 총 소비량은 미국, 중국, 인도 순으로 많다.
- ⑤ A의 소비량은 미국보다 중국이 많다.

16. 지도에 표시된 A, B 환경 문제에 대한 설명으로 옳지 않은 것은? (단, A, B는 각각 사막화와 열대림 파괴 중 하나임.)

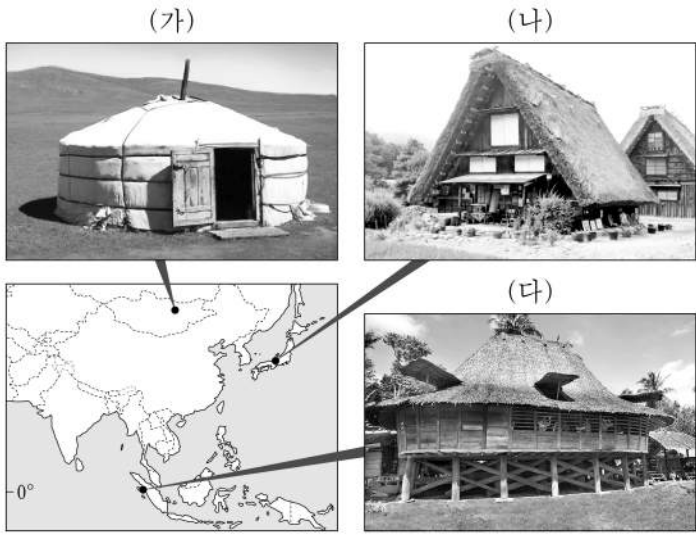


- ① A를 해결하기 위해 런던 협약이 체결되었다.
- ② A의 인위적 요인으로 과도한 방목을 들 수 있다.
- ③ B는 생물 종 다양성 감소를 초래한다.
- ④ B의 대표적인 사례 지역으로 아마존강 유역이 있다.
- ⑤ A, B로 인해 토양 침식이 심화된다.

4 (세계지리)

사회탐구 영역

17. 다음 자료의 (가)~(다) 전통 가옥에 대한 옳은 설명만을 <보기>에서 고른 것은?



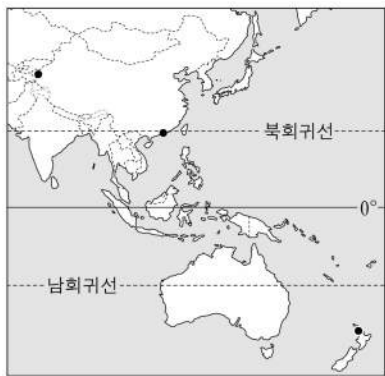
<보 기>
 가. (나)의 지붕 형태는 대설을 대비하기 위한 것이다.
 나. (다)는 지면의 열과 습기를 피하기 위한 고상 가옥이다.
 다. (가)는 (다)보다 통풍에 유리한 가옥 구조이다.
 르. (나)는 (가)보다 유목 생활에 용이하다.

- ① 가, 나 ② 가, 다 ③ 나, 다 ④ 나, 르 ⑤ 다, 르

18. 표는 지도에 표시된 세 지역의 태양 고도각과 월 강수량을 나타낸 것이다. A~C 지역에 대한 설명으로 옳은 것은? (단, (가), (나) 시기는 각각 1월, 7월 중 하나임.)

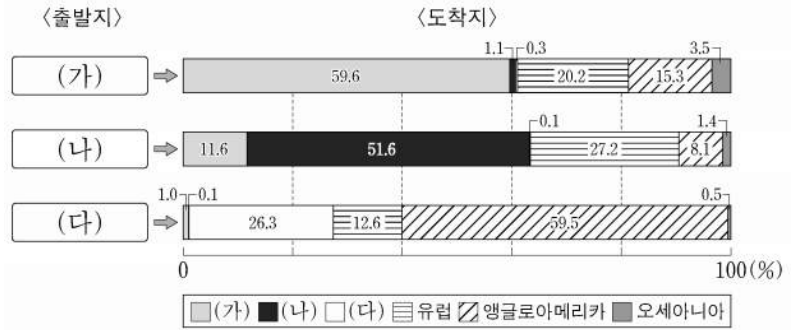
지역	(가) 시기 태양 고도각	(나) 시기 월 강수량
A	32°	71.8mm
B	72°	2.5mm
C	89°	21.3mm

* 태양 고도각은 태양이 하루 중 가장 높이 났을 때 태양이 지표면과 이루는 각으로 해당 월의 평균값을 나타냄.



- ① A는 (가) 시기보다 (나) 시기에 평균 기온이 낮다.
 ② C는 (가) 시기에 주로 계절풍의 영향으로 건기가 나타난다.
 ③ B는 C보다 (나) 시기의 평균 기온이 높다.
 ④ A~C 중 (가), (나) 시기 간 강수량 차이가 가장 큰 지역은 C이다.
 ⑤ A~C 중 (나) 시기에 낮 길이가 가장 짧은 지역은 A이다.

19. 그래프는 인구의 국제적 이주 현황을 나타낸 것이다. 이에 대한 옳은 설명만을 <보기>에서 고른 것은? (단, (가)~(다)는 각각 라틴 아메리카, 아시아, 아프리카 중 하나임.) [3점]



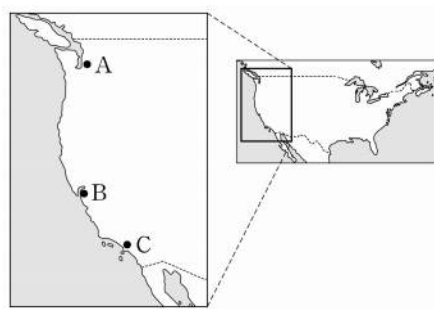
* 출발지는 이주 전 거주 국가가 속한 대륙이고, 도착지는 이주 후 거주 국가가 속한 대륙임.
 ** 인구 이주는 2020년 기준 자료임.

<보 기>
 가. (나)는 세계 인구에서 차지하는 인구 비율이 가장 높다.
 나. (가)는 (다)보다 인구 밀도가 높다.
 다. 동일 대륙 내 이주 비율은 라틴 아메리카보다 아프리카가 높다.
 르. 아시아는 유럽으로 이주하는 비율보다 앵글로아메리카로 이주하는 비율이 높다.

- ① 가, 나 ② 가, 다 ③ 나, 다 ④ 나, 르 ⑤ 다, 르

20. 다음 글은 태평양 연안에 위치한 두 도시의 특성을 설명한 것이다. (가), (나)에 해당하는 도시를 지도의 A~C에서 고른 것은? [3점]

○ (가)에는 세계적인 항공기 제조업체인 ○○사를 중심으로 항공 산업이 발달해 있다. ○○사의 대규모 조립 공장에서는 국제적인 공간 분업 관계를 통해 부품을 공급받아 항공기를 조립·생산한다. 또한 이 도시에는 세계적인 커피 제조 및 판매 업체인 △△사의 본사가 있다. 이 회사는 전 세계적으로 3만 개가 넘는 매장을 보유하고 있다.
 ○ (나)은/는 인구 규모, 국제 항공 승객 수, 다국적 기업 본사 수 등의 측면에서 미국 서부 지역을 대표하는 세계 도시이다. 이 도시는 영화 제작에 유리한 기후 조건을 가지고 있다. 그래서 20세기 초반부터 할리우드를 중심으로 영화 제작업체들이 몰려들어 미국 영화 산업의 중심지가 되었다.



- | | (가) | (나) |
|---|-----|-----|
| ① | A | B |
| ② | A | C |
| ③ | B | C |
| ④ | C | A |
| ⑤ | C | B |

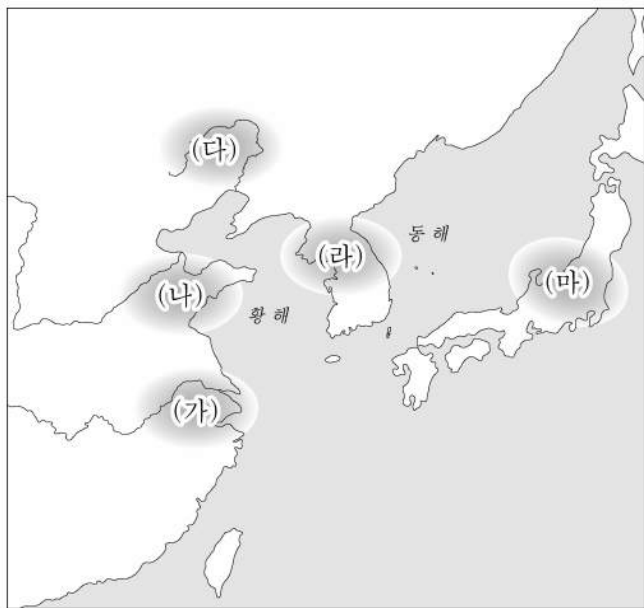
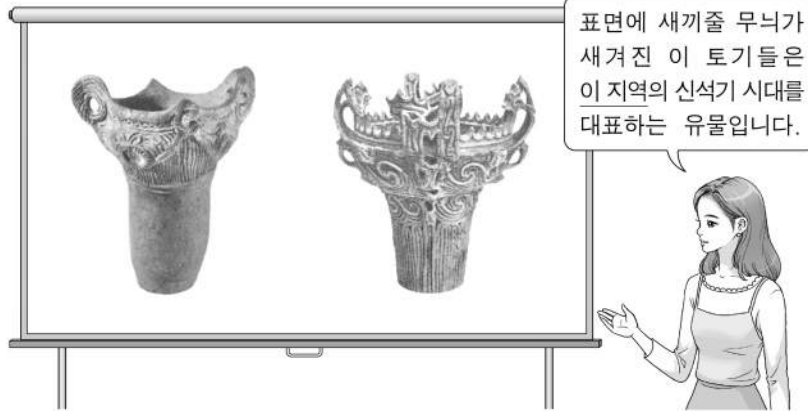
* 확인 사항
 ○ 답안지의 해당란에 필요한 내용을 정확히 기입(표기)했는지 확인 하시오.

제 4 교시

사회탐구 영역 (동아시아사)

성명 수험 번호 - 제 [] 선택

1. 밑줄 친 '이 지역'을 지도에서 옳게 고른 것은?



- ① (가) ② (나) ③ (다) ④ (라) ⑤ (마)

2. (가), (나) 국가의 대외 관계에 대한 설명으로 옳은 것은? [3점]

○ (가) 은/는 과거에 북면관만 있었다. 이후 연주(燕州)와 운주(雲州) 등 16주를 얻고서 당의 제도도 사용하기 시작하였다. 이에 3성 6부, 어사대, 동궁 등 남면의 관제를 두었다. 진실로 제왕의 성업을 이루고자 하여 당의 제도로써 한족(漢族)을 위무하여 따르게 하였던 것이다.

○ 군대 조직의 숫자와 관련하여 처음에는 정해진 제도가 없었다. (나) 의 태조가 즉위한 이듬해 300호를 모극으로 하고, 10개의 모극을 맹안으로 삼게 하였다. 이후 주변 부족이 항복해 오자 맹안과 모극의 명칭을 각 수령에게 주어 그 주민을 다스리게 하였다.

- ① (가) - 발해를 공격하여 멸망시켰다.
 ② (가) - 호라즘을 정복하고 비단길을 장악하였다.
 ③ (나) - 왜와 연합하여 백강 전투에 참여하였다.
 ④ (나) - 무로마치 막부와 조공·책봉 관계를 맺었다.
 ⑤ (가), (나) - 송과 형제 관계의 맹약을 체결하였다.

3. 밑줄 친 '짐'에 대한 설명으로 옳은 것만을 <보기>에서 고른 것은? [3점]

태고의 군왕에게는 명호(名號)만 있고 시호(諡號)가 없었으나, 이후 그 생전의 행적을 따져 시호를 붙였다고 한다. ... (중략) ... 짐은 이 관행에 찬성할 수 없으니 지금부터 시호를 만드는 법을 없애라. 짐부터 황제로 칭하기 시작하여 즉위 순서대로 2세, 3세 황제로 하고 이를 만세까지 무궁하게 전하라.

<보 기>

- ㄱ. 만리장성을 쌓았다.
 ㄴ. 군국제를 실시하였다.
 ㄷ. 도량형을 통일하였다.
 ㄹ. 장건을 서역에 파견하였다.

- ① ㄱ, ㄴ ② ㄱ, ㄷ ③ ㄴ, ㄷ ④ ㄴ, ㄹ ⑤ ㄷ, ㄹ

4. 다음 정책을 시행한 왕조 시기 동아시아의 상황으로 옳은 것은?

- 짐이 정말로 제(齊)를 정벌하리라 생각하는가? 그것은 구실에 불과하며 도성을 이곳 평성에서 튀양으로 옮기려는 것이 짐의 본뜻이다. ... (중략) ... 우리의 낡은 풍속을 모두 고치려면 반드시 도성을 옮겨야 한다.
- 이제 북방의 언어를 금지하고 오로지 중원의 언어만 따르도록 하려 한다. ... (중략) ... 현재 조정에 있는 서른 살 이하의 사람은 예전처럼 말해서는 안 된다. 만약 고의로 사용한다면, 마땅히 직위를 낮추고 관계(官界)에서 내칠 것이다.

- ① 당이 안남 도호부를 설치하였다.
 ② 신라가 독서삼품과를 시행하였다.
 ③ 중국은 남조와 북조로 나뉘어 대립하였다.
 ④ 흉노가 평성의 백등산 전투에서 승리하였다.
 ⑤ 일본은 장안성을 본떠 헤이조쿄를 건설하였다.

5. (가) 인물에 대한 설명으로 옳은 것은?

(가) 은/는 어려서 출가한 후 교토 쇼코쿠사에서 수학하였다. 옛글에 능통하였던 그는 33세가 되었을 때 이에야스의 초청을 받고 에도에 가서 『정관정요』를 강의하기도 하였다. 이후 정유재란 때 포로로 끌려 온 강항으로부터 과거제, 춘추의 석전(釋奠) 등을 배웠고, 이러한 교류를 통해 일본 최초의 사서오경 주석서를 간행하였다.

- ① 소학을 편찬하였다.
 ② 백운동 서원을 건립하였다.
 ③ 주자감에서 유교 경전을 가르쳤다.
 ④ 제자 하야시 라잔에게 성리학을 전수하였다.
 ⑤ 스기타 겐파쿠와 함께 해체신서를 간행하였다.

동아시아사

2 (동아시아사)

사회탐구 영역

6. (가)에 들어갈 내용으로 가장 적절한 것은?

〈역사 동아리 탐구 활동 보고서〉

1. 탐구 주제:

2. 조사 내용

(1) 가야 토기의 영향을 받은 스에키 토기



▲ 가야 토기



▲ 스에키 토기

(2) 『일본서기』에 보이는 도공 관련 기록
 "신라 왕자 천일창이 왔다. ... (중략) ... 오미[近江] 지역에 있는 도공들은 그를 따라온 사람들이다."

- ① 도왜인의 활동과 기술 전파
- ② 5호의 이동에 따른 중원의 변화
- ③ 가마쿠라 막부 시기의 대외 교류
- ④ 백제의 성장에 기여한 낙랑 유민
- ⑤ 한족의 남하와 강남 지역의 개발

7. (가) 인물에 대한 설명으로 옳은 것은? [3점]


이것은 덴쇼 16년 7월 이가 농민들의 반란을 방지하고 이들의 신분 이동을 금지하기 위해서 규슈 지역의 다이묘에게 보낸 문서입니다.

작성 일자와
인장

농민들은
오로지
경작에만
힘쓸 것

몰수한
무기는
사찰 건립에
사용

농민들의
무기 소지
금지



- ① 벽제관 전투에서 패하였다.
- ② 오닌의 난에서 활약하였다.
- ③ 센고쿠 시대를 통일하였다.
- ④ 사르후 전투에 참여하였다.
- ⑤ 대월(베트남)을 점령하였다.

8. 다음 편지를 작성한 인물에 대한 설명으로 옳은 것은? [3점]


은혜를 입고 있으면서도 멀리 떨어져 있어 뵈옵지는 못합니다만 우려려 사모하는 마음 날로 깊어 삼가 칭송함을 무엇에 비유하겠습니까? 저는 적산 법화원에 머물면서 다행히 해를 보냈습니다. ... (중략) ... 부처님의 가르침을 구하고 적산으로 돌아왔다가 청해진을 거쳐 본국으로 향하고자 합니다. 옆드려 바라옵건대 장 대사를 뵈고 상세하게 사정을 아뢰어 주십시오. 삼가 글월을 올려 말씀에 대신합니다.

개성 5년 2월 17일
일본국 승려 ○○ 올림



- ① 선종을 창시하였다.
- ② 왕오천축국전을 집필하였다.
- ③ 쇼토쿠 태자의 스승이 되었다.
- ④ 원강 석굴의 대불을 조성하였다.
- ⑤ 입당구법순례행기를 저술하였다.

9. 교사의 질문에 대한 학생의 답변으로 적절하지 않은 것은?

말의 발굽 모양처럼 생긴 이것은 화폐의 일종으로 지세 등 각종 세금 징수에 폭넓게 활용되었어요. 동아시아 각국의 경제 상황과 관련하여 이 화폐의 주재료에 대해서 설명해 볼까요?



- 제작 시기: 광서 연간
- 제작 지역: 산시성 타이구현

- ① 명이 조선에 공물로 요구하기도 하였어요.
- ② 갈레온 무역을 통해 명으로 대량 유입되었어요.
- ③ 청에서는 아편 대금의 결제 수단으로 사용되었어요.
- ④ 일본이 조선의 회취법을 도입하여 생산량을 확대시켰어요.
- ⑤ 조선을 통해 명에서 일본으로 수출되는 주요 상품이었어요.

10. (가) 왕조 시기 동아시아의 대외 관계에 대한 설명으로 옳은 것만을 <보기>에서 고른 것은? [3점]

영의정이 임금께 아뢰었다. “지금 오삼계를 비롯한 남방의 변왕들이 옛 나라를 다시 세우기 위해서 에 반기를 들었습니다. 우리가 군사를 내어 을/를 도와서 이들을 친다는 것은 의리상 차마 하지 못할 일입니다. 게다가 옛 나라가 부흥하여 그 죄를 묻기라도 한다면 우리는 스스로 해명할 말조차 없을 것입니다.”

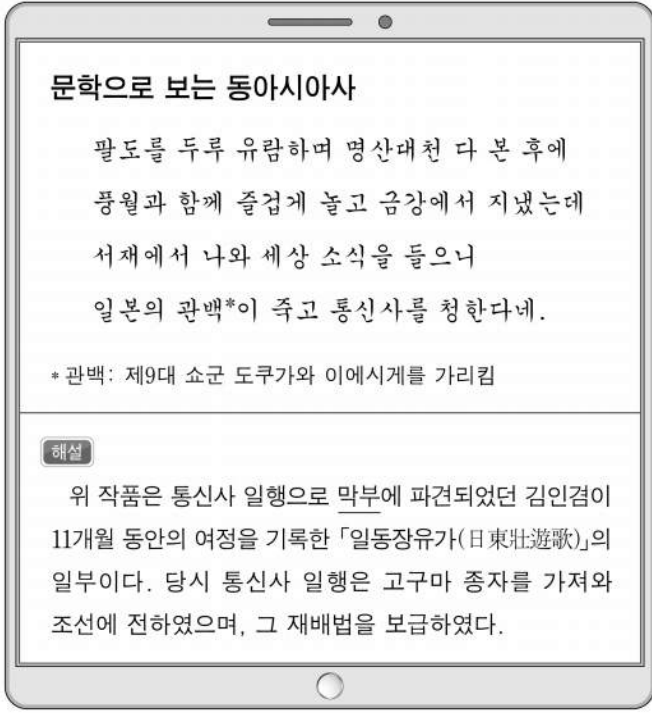
- 『조선왕조실록』 -

<보 기>

- ㄱ. 한국 - 연행사가 중국에 파견되었다.
- ㄴ. 한국 - 삼포(3포) 왜란이 발생하였다.
- ㄷ. 중국 - 천계령이 해제되었다.
- ㄹ. 일본 - 기유약조가 체결되었다.

- ① ㄱ, ㄴ ② ㄱ, ㄷ ③ ㄴ, ㄷ ④ ㄴ, ㄹ ⑤ ㄷ, ㄹ

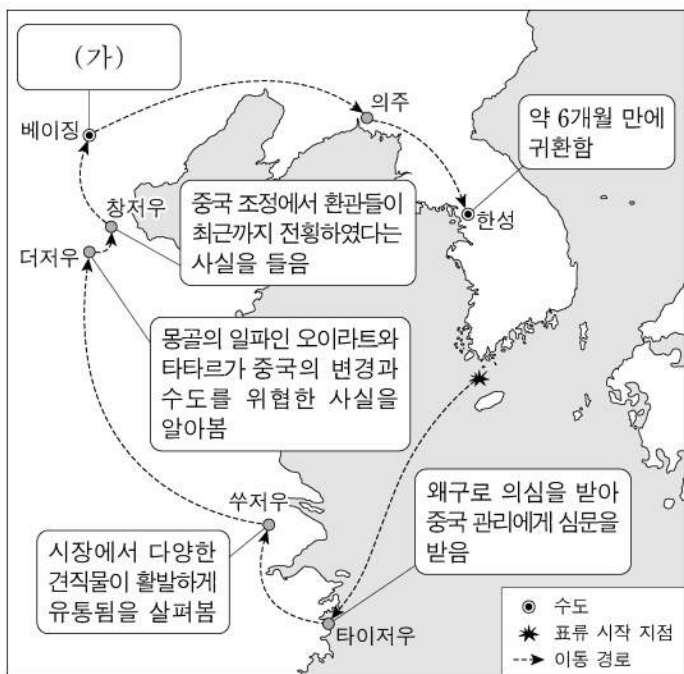
11. 밑줄 친 '막부' 시기에 동아시아에서 볼 수 있는 모습으로 적절하지 않은 것은?



- ① 한국 - 홍길동전을 읽고 있는 상인
- ② 중국 - 곤여만국전도를 보고 있는 신사
- ③ 중국 - 사서집주를 편찬하고 있는 지식인
- ④ 일본 - 우키요에를 구매하는 조닌
- ⑤ 일본 - 가부키 공연을 준비하는 배우

12. (가)에 들어갈 내용으로 가장 적절한 것은? [3점]

< 최부의 표류와 귀환 >



- ① 금과의 강화 추진에 반대하는 장수를 만남
- ② 사고전서의 편찬에 참여하는 한족 지식인을 봄
- ③ 찢홍다오 군대와 싸우고 돌아온 병사를 목격함
- ④ 조공을 위해 중국을 방문한 류큐 사신과 대화함
- ⑤ 화번공주를 맞이하러 온 토번 사신 일행을 구경함

13. 다음 문서가 작성된 시기를 연표에서 옳게 고른 것은? [3점]

우리 나라가 귀국의 제안에 동의할 수 없는 이유는 다음과 같다. 첫째, 조선의 내란은 화약(和約)의 체결로 이미 진정되었으니, 양국이 협력해서 진압할 필요가 없다. 둘째, 귀국 정부의 조선국에 대한 정책 제시는 그 뜻은 좋으나, 조선의 개혁은 조선 스스로가 행해야 할 것이다. 셋째, 변란이 평정되면 양국이 군대를 철수한다는 것은 9년 전 맺은 조약에 규정된 바다. 이제 양국이 철병하는 것이 당연한 일이므로 더 이상 논의할 필요는 없다.

	(가)	(나)	(다)	(라)	(마)
제1차 사이공 조약 체결	운요호 사건 발발	김신정변 발발	심국 간섭 발생	신축 조약 체결	신해혁명 발생

- ① (가) ② (나) ③ (다) ④ (라) ⑤ (마)

14. 밑줄 친 '난'에 대한 탐구 활동으로 가장 적절한 것은?

근래 단비(團匪)가 날로 창궐하여 난을 일으킴이 미치지 않은 곳이 없는 듯합니다. 철도는 파괴되고 베이징에서 가까운 역은 불탔으며 베이징의 각국 공관이 포위되었는데, 귀국의 관병은 외교관을 보호하지도 단비를 억누르지도 못하고 있습니다. ... (중략) ... 지난 달 이래 우리 일본을 비롯하여 8개국의 군사가 베이징으로 진군한 것은 오직 외교관을 구하고 단비를 진압하기 위한 것이었습니다.

- ① 신문화 운동의 영향을 조사한다.
- ② 의열단을 주도한 인물을 알아본다.
- ③ 광무개혁의 주요 내용을 분석한다.
- ④ 페리의 내항으로 맺어진 조약을 파악한다.
- ⑤ 부청멸양의 구호가 등장한 배경을 확인한다.

15. 밑줄 친 '사건'에 대한 설명으로 가장 적절한 것은?



- ① 신간회의 주도로 일어났다.
- ② 중·일 전쟁 발발의 빌미가 되었다.
- ③ 국제 연맹이 리튼 등을 파견하여 조사하였다.
- ④ 제1차 국·공 협작이 이루어지는 결과를 가져왔다.
- ⑤ 중국 국민당의 대한민국 임시 정부 지원에 영향을 주었다.

4 (동아시아사)

사회탐구 영역

16. 밑줄 친 '10년 동안'의 시기에 동아시아에서 볼 수 있는 모습으로 가장 적절한 것은?

참의(參議) 오쿠마가 사직한 그 다음날 정부의 중요한 방침이 정해졌다. 정부는 10년 후인 메이지 23년에 국회를 개설하기로 하고, 종래의 교육법을 개정하는 등 여러 개혁을 시행하겠다고 약속하였다. 그런데 이후 헌법이 공포되고 이듬해 국회가 실제 개설되기까지의 그 10년 동안에, 정부는 오히려 보안 조례를 제정하여 치안 방해 등의 명목으로 정치인에 대한 탄압을 자행하였다.

- ① 경사 대학당에서 공부하는 학생
- ② 경인선을 이용하여 제물포로 향하는 관리
- ③ 교육입국 조서의 반포를 전해 듣는 교육자
- ④ 태양력으로 만든 달력을 판매하는 도쿄의 상인
- ⑤ 상하이에서 신보(申報)의 창간을 준비하는 언론인

17. 밑줄 친 '반란'에 대한 설명으로 옳은 것은? [3점]



- ① 메이지 유신의 영향을 받았다.
- ② 홍위병을 중심으로 전개되었다.
- ③ 남녀평등과 토지 균분을 내세웠다.
- ④ 제1차 아편 전쟁 중에 발생하였다.
- ⑤ 입헌 군주제의 수립을 지향하였다.

18. (가)에 대한 설명으로 가장 적절한 것은? [3점]

당의 영도와 총노선 아래 (가) 이/가 광범위하게 전개 되었고, 인민공사도 각 지역에 설립되었다. 그러나 일부 정책에서 심각한 오류와 결점이 노출되었다. 그래서 루산 회의 기간에 나는 주석에게 편지를 보내 강철 생산 발전에 대한 인식이 매우 편향적이고, 강철 제련 등의 세부 분야에 대한 진지한 연구가 부족하다는 문제점을 지적하였다.

- 『평더화이 자술』 -

- ① 합영법이 제정되는 요인이 되었다.
- ② 석유 파동을 극복하기 위해 실시되었다.
- ③ 도이머이 정책이 실시되는 원인이 되었다.
- ④ 사회주의 계획 경제 정책의 일환으로 추진되었다.
- ⑤ 중국이 세계 무역 기구(WTO)에 가입하는 계기가 되었다.

19. (가) 조약에 대한 설명으로 옳은 것만을 <보기>에서 고른 것은?

월간 역사

특집 기획 // // //

동아시아 국가들과 일본의 국교 정상화
- 미완의 전후 처리와 그것이 남긴 문제점

제2차 세계 대전의 전후 처리를 위해 미국에서 (가) 이/가 체결되었다. 전쟁의 피해국인 한국, 중국 등이 이 조약에서 제외되었고, 소련은 서명 자체를 거부하였다. 이번 특집에서는 일본과 피해국 간의 국교 정상화 과정에서 미완의 전후 처리로 인한 문제점이 어떻게 표면화되었는지 살펴보고자 한다.

▲ (가) 의 조인식 장면

1. 한·일 기본 조약 - 식민 지배에 대한 사과와 배상 문제
2. 중·일 공동 성명 - 합법 정부 승인 및 배상 청구권 포기 문제

- < 보 기 >
- ㄱ. 6·25 전쟁 중에 체결되었다.
 - ㄴ. 일본의 주권 회복을 명시하였다.
 - ㄷ. 신헌법(평화 헌법) 제정에 기여하였다.
 - ㄹ. 대한민국 정부 수립에 영향을 끼쳤다.

- ① ㄱ, ㄴ ② ㄱ, ㄷ ③ ㄴ, ㄷ ④ ㄴ, ㄹ ⑤ ㄷ, ㄹ

20. 밑줄 친 ㉠, ㉡ 전쟁에 대한 설명으로 옳은 것은? [3점]

- 독일·이탈리아·일본 등 파시즘 국가의 패전 이후 미국은 막대한 생산력을 바탕으로 시장 확대를 도모하고 있다. 이러한 미국의 지원을 받고 있는 장제스의 국민당에 대하여 현재 중국 인민이 전개하고 있는 이번 ㉠ 전쟁은 실로 전 민족적인 성격을 띤다.
- 전장의 미군 사령관들은 이번 ㉡ 전쟁에 대하여 늘 낙관적인 견해를 표방하였다. 그러나 적들이 사이공 도심까지 공격해 들어오는 상황이 발생하자, 워싱턴 당국은 매우 큰 충격을 받았다. 이러한 구정 공세는 많은 미국인들에게 반전 기운을 더욱 고조시켰고, 여론은 최악으로 치달았다.

- ① ㉠ - 유엔군의 개입으로 전세가 역전되었다.
- ② ㉠ - 제네바 회담이 개최되는 원인이 되었다.
- ③ ㉡ - 미국과의 협의회에 소련이 참전하였다.
- ④ ㉡ - 파리 평화 협정으로 미군이 철수하게 되었다.
- ⑤ ㉠, ㉡ - 한국 정부가 군대를 파견하였다.

* 확인 사항

- 답안지의 해당란에 필요한 내용을 정확히 기입(표기)했는지 확인 하시오.

제 4 교시

사회탐구 영역(세계사)


성명

수험 번호

제 [] 선택

1. (가) 문명에 대한 설명으로 옳은 것은? [3점]

투탕카멘 특별전



▲ 투탕카멘의 장신구

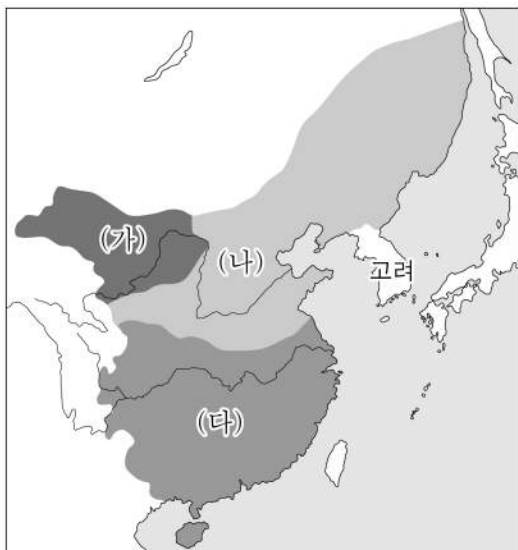
이번 특별전에서는 나일강 유역 왕가의 계곡에서 출토된 투탕카멘의 유물을 만나볼 수 있습니다. 그의 미라를 보관했던 황금관, 영혼 불멸의 염원을 담고 있는 장신구 등을 통해

(가) 문명의 세계를 경험해 보세요.

장소: △△ 박물관 특별 전시실
기간: 2021년 ○○월 ○○일~2021년 ○○월 ○○일

- ① 사자의 서를 제작하였다.
- ② 함무라비 법전을 편찬하였다.
- ③ 파르테논 신전을 건립하였다.
- ④ 갑골에 점복의 내용을 기록하였다.
- ⑤ 하라파와 모헨조다로를 건립하였다.

2. (가)~(다) 왕조에 대한 설명으로 옳은 것은? [3점]



- ① (가) - 팔기제를 운영하였다.
- ② (나) - 탕구트족이 세웠다.
- ③ (다) - 9품중정제를 시행하였다.
- ④ (가), (나) - 고유 문자를 제작하였다.
- ⑤ (나), (다) - 전연의 맹약을 체결하였다.


3. 밑줄 친 '그'에 대한 설명으로 옳은 것은?

그는 밀비우스 다리 전투에서 막센티우스에게 대승을 거둔 이후 제국의 안정을 위해 리키니우스와 다음 내용에 합의 하였다. “이제 크리스트교도와 다른 종교 신봉자 모두는 자신의 종교를 믿을 권한을 가질 것이다. ... (중략) ... 이 순간 이후로 크리스트교도는 제국 내에서 어떠한 박해도 받지 않고 자유롭게 공개적인 신앙 활동을 할 수 있다.”

- ① 악티움 해전에서 승리하였다.
- ② 성 소피아 성당을 건립하였다.
- ③ 수도를 콘스탄티노폴리스로 옮겼다.
- ④ 정복지에 알렉산드리아라는 도시를 건설하였다.
- ⑤ 롬바르드족에게서 빼앗은 영토를 교황에게 기증하였다.

4. (가) 제국에서 있었던 사실로 옳은 것은?

【우표로 보는 세계사】



이 우표 속 장면은 (가) 의 아르다시르 1세가 아후라 마즈다로부터 왕의 권위를 부여받는 모습이다. 그는 호르미즈다간에서의 승리를 계기로 파르티아를 멸망시켰다. 그의 치세 이래로 (가) 은/는 로마 제국과 대립하며 메소포타미아 지역에서 인더스강 유역에 이르는 영역을 지배하였으며, 동서 교역의 요충지를 장악하여 중계 무역으로 번영하였다.

- ① 마니교가 출현하였다.
- ② 밀레트 제도가 운영되었다.
- ③ 마라타 동맹의 반란이 일어났다.
- ④ 수도 니네베에 왕립 도서관이 세워졌다.
- ⑤ 수사와 사르디스를 잇는 왕의 길이 건설되었다.

5. (가) 국왕에 대한 설명으로 옳은 것은? [3점]

이슬람 세력이 키프로스섬을 점령하고 서쪽으로 세력을 확장 하자, (가) 은/는 교황, 베네치아, 제노바 등과 신성 동맹 군대를 조직하여 레판토만에서 그들을 격퇴하였다. 이를 계기로 종교적 사명감에 고취된 (가) 은/는 자신의 속령 네덜란드에 가톨릭 강요 정책을 본격화하였다. 이 조치는 네덜란드 칼뱅주의자들의 강력한 반발을 초래하여 독립 전쟁을 격화시켰다.

- ① 콜베르를 등용하여 중상주의 정책을 펼쳤다.
- ② 낭트 칙령을 반포하여 종교 갈등을 완화시켰다.
- ③ 영국 원정에서 엘리자베스 1세에게 패배하였다.
- ④ 오스트리아와의 전쟁으로 슐레지엔을 차지하였다.
- ⑤ 스웨덴과의 북방 전쟁을 통해 발트해로 진출하였다.

세계사

2 (세계사)

사회탐구 영역

6. (가) 왕조의 문화에 대한 설명으로 옳은 것은? [3점]

알렉산드로스의 사망 이후 그의 부하였던 셀레우코스 1세가 페르시아의 왕을 자처하며 인더스강 유역을 침입하였다. 그는 펀자브 지방을 거점으로 영토 팽창을 시도하였으나, 인도 북부를 차지하고 있던 (가)의 저항에 가로막혔다. 결국 셀레우코스 1세는 (가)와/과 평화 협정을 맺어 펀자브 지방 및 아프가니스탄의 일부 등을 양도하고, 친선 관계 유지를 위해 사절을 파탈리푸트라에 파견하였다.

- ① 시크교가 출현하였다.
- ② 샤쿤탈라가 저술되었다.
- ③ 상좌부 불교가 발달하였다.
- ④ 쿠티브 미나르가 건립되었다.
- ⑤ 간다라 양식의 불상이 제작되었다.

7. (가) 술탄에 대한 설명으로 옳은 것은?



(가)은/는 선대 술탄들이 공포한 법령들을 정비하고 법전을 편찬하여 '입법자'로 불리었다. 또한 건축과 문학, 회화 등 다양한 예술 분야를 후원하여 문화를 발전시켰다. (가)은/는 영토 확장에도 힘써 동쪽으로는 바그다드를 점령하고, 서쪽으로는 헝가리 정복에 이어 빈을 공격하는 등 세 대륙에 걸쳐 술탄의 위세를 떨쳤다.

- ① 크림 전쟁에서 승리하여 러시아의 남하를 저지하였다.
- ② 이집트와 시리아를 지배하던 맘루크 왕조를 정복하였다.
- ③ 부국강병을 추구하는 탄지마트(은혜 개혁)를 추진하였다.
- ④ 콘스탄티노폴리스를 점령하여 비잔티움 제국을 멸망시켰다.
- ⑤ 유럽 연합 함대를 무찔러 동지중해의 제해권을 장악하였다.

8. (가) 왕조에 대한 설명으로 옳은 것은?

(가)의 황제는 동돌궐을 무너뜨리고 그 지배하에 있던 북방 민족까지 복속한 것을 기념하여 천하에 사면령을 내렸다. 곧이어 이민족 군장들이 입궐하여 (가)의 황제에게 천하의 칸을 뜻하는 텡그리 칸으로 등극하길 청하였다. 황제가 “나는 중국의 천자인데, 칸의 일까지 맡아도 되는가.”라며 수용의 뜻을 내비치자, 모두가 만세를 부르며 텡그리 칸으로 추대하였다.

- ① 두 차례에 걸쳐 일본을 침공하였다.
- ② 인도양에 정화의 함대를 파견하였다.
- ③ 러시아와 네르친스크 조약을 체결하였다.
- ④ 이슬람 세력과 탈라스에서 전투를 벌였다.
- ⑤ 흉노 견제를 위해 대월지와 동맹을 추구하였다.

9. (가) 인물에 대한 설명으로 옳은 것은? [3점]



- ① 항해법을 공포하였다.
- ② 파리 코뮌을 진압하였다.
- ③ 대륙 봉쇄령을 선포하였다.
- ④ 테르미도르의 반동으로 실각하였다.
- ⑤ 심사법과 인신보호법 제정을 주도하였다.

10. (가), (나) 사건의 배경으로 옳은 것은?

(가) 청 정부는 쓰촨성에서 일어난 대규모 시위를 진압하기 위해 우창에 주둔한 신군을 파견하였다. 군대 이동의 혼란을 틈타 우창 신군의 잔여 병력이 거병하여 후광 총독 아문을 점령하였다. 이어 그들은 한양, 한커우의 신군과 협력하여 우한 3진을 장악하는 데 성공하였다.

(나) 사쓰마번과 조슈번이 동맹을 체결하고 막부에 반기를 들었다. 이에 위협을 느낀 막부는 천황에게 통치권을 반납하는 조치를 단행하였다. 하지만 이를 막부의 술책으로 간주한 사쓰마번과 조슈번 동맹군은 교토의 궁정을 장악하고 천황의 이름으로 '왕정복고의 대호령'을 발표하였다.

- ① (가) - 제1차 국공 협력이 와해되었다.
- ② (가) - 위안스카이가 황제 체제 부활을 시도하였다.
- ③ (나) - 폐번치현의 조치가 단행되었다.
- ④ (나) - 미국 등 열강과의 불평등 조약이 체결되었다.
- ⑤ (가), (나) - 자유 민권 운동이 전개되었다.

11. 밑줄 친 '이 시대'에 있었던 사실로 옳은 것은?



『도사 일기』라는 제목의 이 책은 기노 쓰라유키가 도사 지역에서 임기를 마치고 귀경하는 여정을 기술한 것이다. 저자는 송별 장면, 해상 여행의 괴로움, 수도 헤이안쿄의 변화된 모습 등을 가나 문자로 섬세하게 묘사하고 있다. 또한 『도사 일기』에는 이 시대의 생활 모습이 담긴 와카도 다수 포함되어 있다.

- ① 도다이사가 창건되었다.
- ② 견당사 파견이 중단되었다.
- ③ 다이카 개신이 단행되었다.
- ④ 명과 감합 무역이 이루어졌다.
- ⑤ 산킨코타이 제도가 실시되었다.

12. (가), (나) 황제에 대한 설명으로 옳은 것은? [3점]

(가) 이/가 거병할 때 휘하의 장수들에게 천하를 평정하는 계책을 물었다. 이선장이 답하길 “(나) 또한 평민 출신으로 도량이 넓고 사람을 능력에 따라 알맞게 사용하여, 진(秦)이 멸망한 지 5년 내에 천하를 재통일하였습니다. 그가 행한 바를 따른다면, 이에 부족함이 없을 겁니다.”라고 하였다. …(중략)… (가) 은/는 황제가 된 후에는 (나) 이/가 개국공신 한신을 처형했던 것처럼 재상 호유용을 주살하고 재상직을 폐지하였다.

- 조익, 『이십이사차기』 -


- ① (가) - 육유를 반포하였다.
- ② (가) - 군기처를 설치하였다.
- ③ (나) - 부병제를 실시하였다.
- ④ (나) - 내각 대학사를 두었다.
- ⑤ (가), (나) - 과거제에 전시를 추가하였다.

13. (가) 왕조에 대한 설명으로 옳은 것은?

투그릴 베그는 단다나칸 전투에서 가즈니 왕조의 군대를 격퇴하여 호라산 일대를 장악한 한편, 이란 방면으로 세력을 확장하여 이스파한을 점령하였다. 또한 그는 (가) 의 알 카임 1세의 요청에 따라 바그다드에 입성하여 부와이 왕조를 축출하고 칼리프를 보호하였다. 이후 투그릴 베그는 알 카임 1세에게서 술탄의 칭호를 부여 받았고, 이슬람 세계의 실질적인 지배자로 자리 잡게 되었다.

- ① 사마르칸트를 수도로 삼았다.
- ② 데브시르메 제도를 시행하였다.
- ③ 몽골군의 침입으로 멸망하였다.
- ④ 이스마일 1세에 의해 수립되었다.
- ⑤ 이베리아반도까지 영토를 확장하였다.

14. (가) 혁명에 대한 설명으로 옳은 것은? [3점]



그림은 국민의 헌법 제정 요구를 군부에 의지해 막고 있는 프로이센의 국왕 프리드리히 빌헬름 4세를 풍자한 것이다. 파리의 중하층 시민과 노동자의 선거권 확대 요구로 일어난 (가) 의 영향으로 독일 지역에서도 정치 개혁을 원하는 국민적 열망이 고조되었다. 프리드리히 빌헬름 4세는 루이 필리프를 폐위시킨 (가) 의 파장이 자신의 나라에도 미칠 것을 두려워하였다.

- ① 그리스 독립의 배경이 되었다.
- ② 데카브리스트의 봉기를 촉발시켰다.
- ③ 신성 로마 제국의 해체로 이어졌다.
- ④ 메테르니히가 실각하는 계기가 되었다.
- ⑤ 카르보나리당(단) 결성에 영향을 주었다.

15. (가) 국가에 대한 설명으로 옳은 것은?

제국주의자 세실 로즈의 동상을 즉각 철거하라!

우리 학교 ○○ 건물 앞에 세실 로즈의 동상이 있다. 많은 학우들이 그를 막대한 재산을 기부하여 '로즈 장학금'을 만든 자랑스러운 동문으로 여긴다.

하지만 우리는 그의 부가 아프리카 식민 수탈의 결과물이란 사실을 알아야 한다. 이집트와 남아프리카 연방을 잇는 (가) 의 식민 정책을 주도했던 이가 바로 세실 로즈였다.

케이프타운 대학에 있던 그의 동상은 이미 철거되었다. 이제 우리 학교에서도 그의 동상이 사라져야 한다!

세실 로즈 동상 철거를 위한 모임

- ① 콩고를 식민 지배하였다.
- ② 미얀마를 식민지로 삼았다.
- ③ 인도차이나 연방을 수립하였다.
- ④ 헤레로족의 봉기를 진압하였다.
- ⑤ 중국에 21개조 요구를 제시하였다.

16. 다음 가상 편지에서 밑줄 친 '갈등'의 영향으로 옳은 것은? [3점]

신의 은총으로 교황 성하게 인사드립니다. 신의 영광 아래 영성
충만한 삶을 살아왔으나 최근 들어 신의 재산까지 세금의 명목으로
탐하는 필리프 4세의 간악한 행태에 분노할 따름입니다. 교황 성하
께서 "세속의 권력은 영적 권력에게 복종해야 한다."라는 신의 뜻을
재천명하시고, 그를 파문하신 것에 위안을 삼았습니다. 그러나 이것도
잠시, 필리프 4세가 보낸 사악한 무리들이 아나니로 들이닥쳤다는 소식에
그저 눈물 흘리며 교황 성하의 안위를 두 손 모아 기도할 뿐입니다. 그가
초래한 갈등이 신의 뜻에 따라 해결되길 신의 이름으로 믿습니다.

교황 성하의 충실한 종복 ○○○○

- ① 보름스 협약이 맺어졌다.
- ② 니케아 공의회가 소집되었다.
- ③ 카노사의 굴욕 사건이 발생하였다.
- ④ 동서 교회의 분열이 공식화되었다.
- ⑤ 교황청이 로마에서 아비뇽으로 옮겨졌다.

17. (가) 제국 시기에 있었던 사실로 옳은 것은? [3점]



그림은 (가)의
마지막 황제인 바하두르 샤
2세가 연행되는 장면을
묘사한 것이다. 그는 시와
서예 등에서는 개인의 역량을
발휘할 수 있었지만, 제국의
통치자로서는 불운하고 무력하였다. 영국의 압박 속에 별궁에
머물던 그는 동인도 회사의 인도인 용병이 일으킨 봉기에서 명목상의
지도자 역할을 수행하다 권좌에서 쫓겨나고 말았다.

- ① 롤릿법이 제정되었다.
- ② 플라시 전투가 발생하였다.
- ③ 인도 국민 회의가 결성되었다.
- ④ 에프탈이 북인도를 침입하였다.
- ⑤ 아이바크가 델리를 점령하였다.

18. (가) 국가에 대한 설명으로 옳은 것은?

제1조
독일 제국, 오스트리아·헝가리 제국, 불가리아 왕국, 오스만
제국으로 구성된 동맹국 측은 (가)와/과의 전쟁이 종식
되었음을 선언한다.

(중략)

제3조
(가)은/는 과거 영토 중 일부에 더 이상 주권을 행사할
수 없다. 새로이 결정된 국경선은 침부한 지도에 표시되어
있다. 이 국경선의 정확한 위치는 추후 독일 제국 주도의 위원회가
논의해서 결정할 것이다.

- ① 뉴딜 정책을 추진하였다.
- ② 에티오피아를 침공하였다.
- ③ 추축국 동맹에 참여하였다.
- ④ 신경제 정책[NEP]을 실시하였다.
- ⑤ 북대서양 조약 기구[NATO]를 탈퇴하였다.

19. 밑줄 친 '공수' 이후에 있었던 사실로 옳은 것만을 <보기>에서
고른 것은?



그림은 독일 템펠호프 공항에서 군수송기를 바라보는 시민
들의 모습이다. 미국, 영국, 프랑스가 일방적으로 서독 지역에
새로운 화폐를 도입하자, 소련은 이를 독일 분단을 위한 획책
이라고 비난하며 서베를린으로 통하는 도로와 철도 등을
차단하였다. 이에 맞서 미국을 비롯한 서방 측은 군수송기로
서베를린에 물자를 공수하였다.

<보 기>

- ㄱ. 알타 회담이 개최되었다.
- ㄴ. 대서양 헌장이 공포되었다.
- ㄷ. 닉슨 독트린이 발표되었다.
- ㄹ. 쿠바 미사일 위기가 일어났다.

- ① ㄱ, ㄴ ② ㄱ, ㄷ ③ ㄴ, ㄷ
- ④ ㄴ, ㄹ ⑤ ㄷ, ㄹ

20. 밑줄 친 '이 회의'에 대한 설명으로 옳은 것은? [3점]



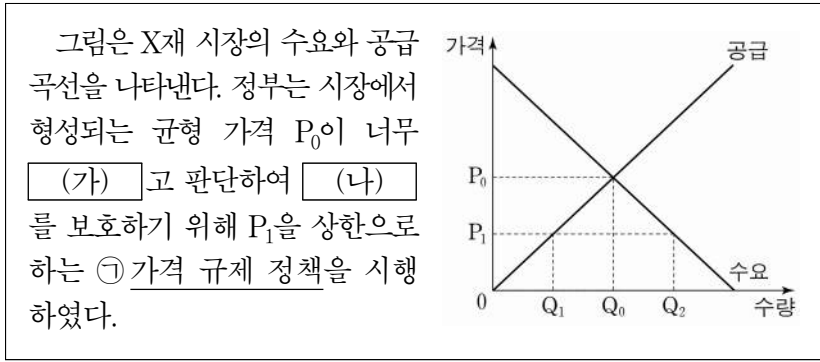
- ① 냉전 체제의 기원이 되었다.
- ② 제3 세계 형성에 기여하였다.
- ③ 브레턴우즈 체제를 성립시켰다.
- ④ 마스트리흐트 조약을 체결하였다.
- ⑤ 독립 국가 연합[CIS]을 출범시켰다.

* 확인 사항
○ 답안지의 해당란에 필요한 내용을 정확히 기입(표기)했는지 확인
하십시오.

2 (경제)

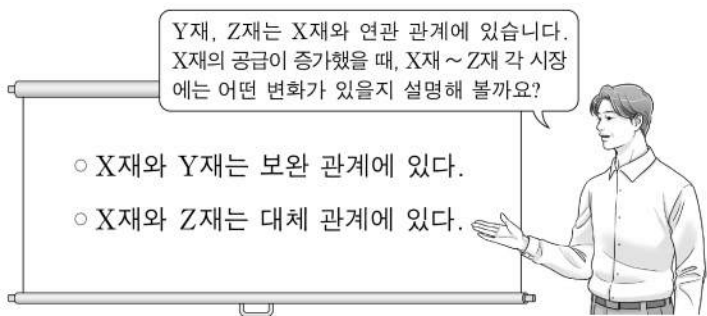
사회탐구 영역

6. 다음 자료에 대한 분석으로 옳은 것은?



- ① (가)에는 '낮다'가 들어간다.
- ② (나)에는 '공급자'가 들어간다.
- ③ ㉠은 최고 가격제이다.
- ④ ㉠ 시행 이후 거래량은 이전보다 증가하였다.
- ⑤ ㉠ 시행 이후 Q_0Q_2 만큼의 초과 수요가 발생하였다.

7. 교사의 질문에 대한 옳은 답변만을 <보기>에서 고른 것은? (단, X재~Z재는 모두 수요와 공급 법칙을 따른다.)

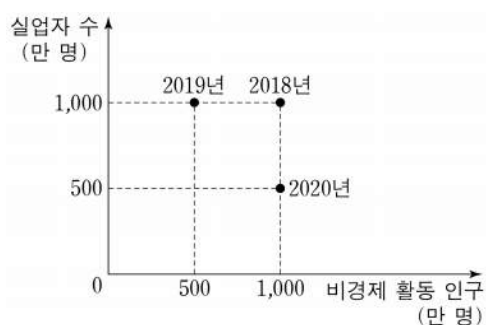


<보 기>

- ㄱ. X재 거래량이 증가할 것입니다.
- ㄴ. Y재 가격이 상승할 것입니다.
- ㄷ. Y재 거래량이 감소할 것입니다.
- ㄹ. Z재 판매 수입이 증가할 것입니다.

- ① ㄱ, ㄴ ② ㄱ, ㄷ ③ ㄴ, ㄷ ④ ㄴ, ㄹ ⑤ ㄷ, ㄹ

8. 그림은 갑국의 연도별 실업자 수와 비경제 활동 인구를 나타낸다. 이에 대한 옳은 분석만을 <보기>에서 고른 것은? (단, 2018년~2020년의 15세 이상 인구는 각각 5,000만 명으로 같다.)



<보 기>

- ㄱ. 2018년과 2019년의 실업률은 같다.
- ㄴ. 2018년과 2020년의 취업자 수는 같다.
- ㄷ. 2018년과 2020년의 경제 활동 참가율은 같다.
- ㄹ. 2019년과 2020년의 고용률은 같다.

- ① ㄱ, ㄴ ② ㄱ, ㄷ ③ ㄴ, ㄷ ④ ㄴ, ㄹ ⑤ ㄷ, ㄹ


9. 다음 자료에 대한 분석 및 추론으로 옳은 것은? (단, 물가 수준은 GDP디플레이터로 측정한다.) [3점]

표는 갑국의 연도별 국내 총생산 자료이다. 2020년 국내 총생산 자료는 실제 측정된 수치이며, 2021년 국내 총생산 자료는 전망치이다.

구분	국내 총생산	금액(억 달러)	
2020년	실질 GDP	100	
	명목 GDP	110	
2021년 (전망치)	명목 GDP	㉠ 민간 소비	55
		㉡ 민간 투자	25
		정부 지출	10
		순수출	10

- ① ㉠은 임금, 지대, 이자, 이윤의 총합을 의미한다.
- ② 기업의 생산 설비 확대는 ㉡을 감소시키는 요인이 된다.
- ③ 2021년 가격으로 계산한 2021년 최종 생산물 시장 가치의 총합은 90억 달러로 전망된다.
- ④ 2021년 물가 수준이 2020년과 같다고 전망한다면 2021년 실질 GDP는 100억 달러보다 작을 것이다.
- ⑤ 2021년 경제 성장률을 5%로 전망한다면 2021년 물가 수준은 2020년보다 높을 것이다.

10. 교사의 질문에 대한 옳은 답변만을 <보기>에서 고른 것은? (단, 총수요 곡선은 우하향하고, 총공급 곡선은 우상향한다.) [3점]



<보 기>

- ㄱ. ㉠은 총수요 증가 요인에 해당해요.
- ㄴ. ㉡은 확대 재정 정책에 해당해요.
- ㄷ. ㉢은 실질 GDP 증가 요인에 해당해요.
- ㄹ. ㉣은 디플레이션을 의미해요.

- ① ㄱ, ㄴ ② ㄱ, ㄷ ③ ㄴ, ㄷ ④ ㄴ, ㄹ ⑤ ㄷ, ㄹ

11. 표는 갑의 연도별 소득을 항목별로 나타낸 것이다. 이에 대한 옳은 분석만을 <보기>에서 고른 것은?

(단위: 만 원)

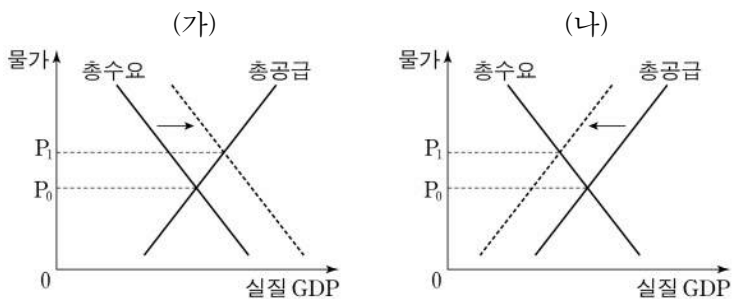
구분		2019년	2020년
경상 소득	근로 소득	4,500	4,600
	사업 소득	0	0
	㉠	400	200
	이전 소득	200	100
비경상 소득		100	100

<보 기>

- ㉠. 일시적으로 지급받는 퇴직금을 포함하는 항목은 ㉠이다.
- ㉡. 경상 소득 대비 비경상 소득의 비율은 2019년과 2020년이 같다.
- ㉢. 근로 소득이 경상 소득에서 차지하는 비중은 2019년보다 2020년이 크다.
- ㉣. 경상 소득 중 매달 지급받는 공적 연금을 포함하는 항목의 소득은 2020년에 100만 원이다.

- ① ㉠, ㉡ ② ㉠, ㉢ ③ ㉡, ㉣ ④ ㉡, ㉣ ⑤ ㉢, ㉣

12. 인플레이션의 유형 (가), (나)에 대한 설명으로 옳은 것은? (단, (가), (나)는 각각 수요 견인 인플레이션과 비용 인상 인플레이션 중 하나이다.) [3점]



- ① 정부 지출 축소는 (가)의 발생 요인에 해당한다.
- ② 기업의 투자 지출 증대는 (나)의 발생 요인에 해당한다.
- ③ (가)를 억제하기 위한 대책으로 중앙은행의 기준 금리 인상을 들 수 있다.
- ④ (나)를 억제하기 위한 대책으로 중앙은행의 국공채 매입 확대를 들 수 있다.
- ⑤ (나)는 (가)와 달리 경기 호황기에 나타난다.

13. 표는 2020년 갑국과 을국 경상 수지의 일부 항목을 나타낸 것이다. 이에 대한 분석으로 옳은 것은? (단, 국제 거래는 갑국과 을국 사이에서만 이루어진다.) [3점]

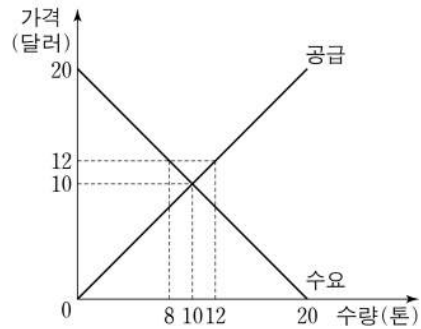
(단위: 억 달러)

갑국		을국	
상품 수지	서비스 수지	㉠ 본원 소득 수지	이전 소득 수지
30	-20	-25	5

- ① 지식 재산권 사용료를 포함하는 항목은 ㉠이다.
- ② 갑국의 상품 거래액은 30억 달러이다.
- ③ 갑국은 무상 원조를 포함하는 항목이 흑자이다.
- ④ 을국은 경상 수지가 30억 달러 적자이다.
- ⑤ 을국은 서비스 거래를 통한 외화의 유입액이 유출액보다 작다.

14. 다음 자료에 대한 분석으로 옳은 것은?

그림과 같이 톤당 10달러에 균형 가격이 형성되어 있는 갑국의 콩 시장에서, 갑국 정부는 농민들의 소득 불안정을 개선하기 위해 다음과 같은 콩 구매 정책을 순서대로 실시하였다.



- ㉠ 정책 1단계: 정부는 톤당 12달러에 콩의 하한 가격을 설정한다.
- ㉡ 정책 2단계: 정부는 정부 지출을 통해 시장의 초과 공급분을 하한 가격에 전량 매입하여 비축한다.

- ① ㉠ 이전의 총잉여는 200달러이다.
- ② ㉠의 결과 거래량은 2톤 증가한다.
- ③ ㉠의 결과 판매 수입은 64달러가 된다.
- ④ ㉡의 결과 생산자 잉여는 72달러가 된다.
- ⑤ ㉡의 결과 정부 지출 총액은 24달러가 된다.

15. 다음 자료에 대한 분석으로 옳은 것은?

- A가 운영하는 △△식당의 메뉴는 라면, 김밥, 콤보이며, 콤보는 라면 1단위와 김밥 1단위를 묶은 메뉴이다. 1단위 추가 생산에 따르는 비용은 라면과 김밥은 각각 5,000원, 콤보는 10,000원으로 일정하다.
- △△식당의 고객은 갑, 을, 병만 있고 각자의 메뉴별 최대 지불 용의 금액은 다음과 같다고 알려져 있다.

<갑, 을, 병의 최대 지불 용의 금액>

(단위: 원)

구분	갑	을	병
라면	10,000	8,000	3,000
김밥	4,000	7,000	9,000
콤보	14,000	15,000	12,000

- A는 이윤을 극대화하는 수준에서 각 메뉴의 가격을 설정한다.
- 갑, 을, 병은 △△식당을 매일 1회만 방문하여 각자 1가지 메뉴만을 1단위 주문한다.

- ① 라면의 가격은 김밥의 가격보다 1,000원 높다.
- ② 콤보의 가격은 라면의 가격보다 2,000원 높다.
- ③ 갑과 병은 콤보를 주문할 것이다.
- ④ A의 1일 총이윤은 6,000원이다.
- ⑤ A의 1일 총비용은 15,000원이다.

4 (경제)

사회탐구 영역

16. 다음 자료에 대한 분석 및 추론으로 옳은 것은? [3점]

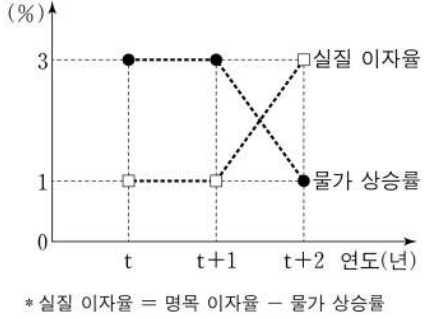
갑은 ㉠ 기회비용과 편익만을 고려하여 X재~Z재 중 한 가지만 선택한다. 표는 갑이 각 재화를 선택할 경우의 편익과 순편익을 나타낸다.

(단위: 원)

구분	X재	Y재	Z재
편익	2,000	3,000	3,500
순편익	㉠	500	-700

- ① ㉠은 암묵적 비용에서 명시적 비용을 뺀 것이다.
- ② ㉠은 양(+)의 값을 가진다.
- ③ X재 선택의 기회비용은 2,000원보다 크다.
- ④ Y재 선택의 기회비용과 Z재 선택의 기회비용은 같다.
- ⑤ Z재 선택의 암묵적 비용이 1,000원이라면, Z재 선택의 명시적 비용은 2,500원이다.

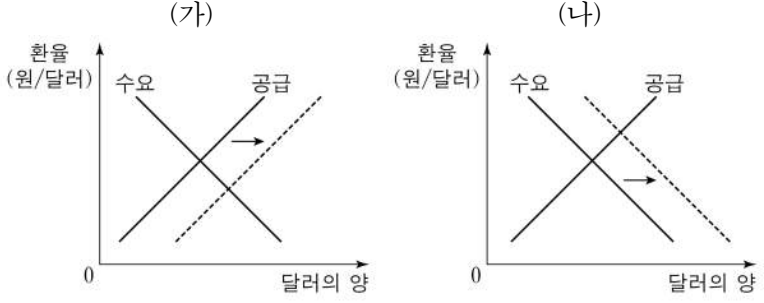
17. 그림은 갑국의 연도별 실질 이자율과 물가 상승률을 나타낸다. 이에 대한 옳은 설명만을 <보기>에서 고른 것은?



- <보 기>
- ㄱ. t+1년의 물가 수준은 t년보다 높다.
 - ㄴ. t+1년과 t+2년의 명목 이자율은 같다.
 - ㄷ. t+2년의 물가 수준은 t년보다 7% 높다.
 - ㄹ. t+2년에는 현금을 보유하는 것이 은행에 예금하는 것보다 유리하다.

- ① ㄱ, ㄴ ② ㄱ, ㄷ ③ ㄴ, ㄷ ④ ㄴ, ㄹ ⑤ ㄷ, ㄹ

18. 그림 (가), (나)는 원/달러 외환 시장에서 균형 환율의 변화를 나타낸다. 이에 대한 분석으로 옳은 것은? (단, 환율 변동 이외의 다른 조건은 고려하지 않는다.) [3점]



- ① (가)의 경우 달러화 대비 원화의 가치는 하락한다.
- ② (가)의 경우 한국산 상품의 가격 경쟁력이 미국 시장에서 상승한다.
- ③ (가)의 경우 한국 기업의 달러화 표시 외채 상환 부담이 증가한다.
- ④ (나)의 경우 한국의 대미 상품 수지가 악화된다.
- ⑤ (나)의 경우 미국으로 여행가는 한국인의 경비 부담이 증가한다.

19. 다음 자료에 대한 분석 및 추론으로 옳은 것은?

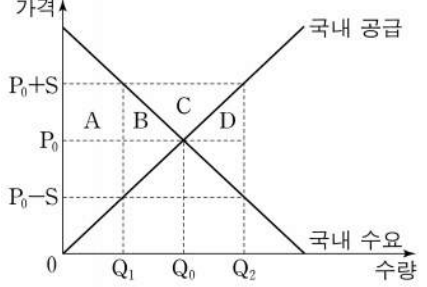
표는 X재와 Y재만을 생산하는 갑국과 을국이 생산 요소를 한 재화 생산에 모두 투입했을 때의 생산량을 나타낸다. 양국은 노동만을 생산 요소로 사용하며, 보유하고 있는 노동의 양은 동일하다. 양국의 생산 가능 곡선은 직선이며, 갑국의 X재 1개 생산의 기회비용은 Y재 1/3개이다. 양국은 비교 우위가 있는 재화만을 생산하여 이익이 발생하는 범위 안에서만 교역하고자 한다. 단, 교역은 양국 간에만 이루어지며, 교역에 따른 거래 비용은 발생하지 않는다.

구분	최대 생산 가능량(개)	
	X재	Y재
갑국	30	㉠
을국	40	20

- ① ㉠은 90이다.
- ② 갑국은 X재 20개와 Y재 5개를 동시에 생산할 수 있다.
- ③ 갑국은 X재 생산에, 을국은 Y재 생산에 절대 우위를 가진다.
- ④ 갑국은 Y재 생산에, 을국은 X재 생산에 비교 우위를 가진다.
- ⑤ X재 5개를 Y재 2개와 교환하는 조건이라면 을국은 교역에 참여하려고 할 것이다.

20. 다음 자료는 갑국의 X재 국내 시장 상황을 나타낸다. 수출 보조금 지급 후 갑국의 변화에 대한 분석으로 옳은 것은? [3점]

갑국 정부는 X재를 수출 주력 상품으로 육성하기 위해 X재 수출 1단위당 보조금 S만큼을 지급하는 정책을 검토하고 있다. 보조금 지급에 따라 생산자는 국제 가격에 보조금을 더한 금액 수준에서 전체 공급량을 결정하고, 국내에서 수요되지 않은 물량은 수출하게 된다. 단, X재의 국제 가격은 P_0 으로 고정되어 있고, 해외로부터 X재의 국내 유입은 없다.



- ① A는 국내 소비자 잉여에 포함된다.
- ② 해외 수출액은 $(P_0+S) \times Q_2$ 이다.
- ③ 국내 소비량은 Q_0 에서 Q_2 로 증가한다.
- ④ 정부의 수출 보조금 지급 총액은 $(B+C+D)$ 이다.
- ⑤ 국내 소비자는 (P_0-S) 의 가격으로 X재를 구입한다.

* 확인 사항
○ 답안지의 해당란에 필요한 내용을 정확히 기입(표기)했는지 확인 하시오.

제 4 교시

사회탐구 영역(정치와 법)

성명

수험 번호

제 [] 선택

1. 정치를 바라보는 관점 A에 대한 설명으로 옳은 것은?

정치를 바라보는 관점은 크게 두 가지로 구분된다. A는 정치 권력을 획득하고 유지·행사하는 과정과 관련된 국가 고유의 활동만을 정치로 본다. 한편 넓은 의미로 정치를 바라보는 관점은 국가를 포함한 모든 사회 집단에서 나타나는 갈등을 해결하는 일체의 과정을 정치로 본다.

- ① 대통령의 국정 운영을 정치로 본다.
- ② 임금 인상에 대한 노사 간 협상 과정을 정치로 본다.
- ③ 국가 형성 이전의 정치 현상을 설명하기에 적합하다.
- ④ 다른 사회 집단의 활동과 구별되는 국가 활동의 특수성을 부정한다.
- ⑤ 다양한 사회 집단이 내부 이해관계의 대립을 자체적으로 조정 해가는 과정을 정치로 본다.

2. 다음 자료에 대한 설명으로 옳은 것은? [3점]

역사적으로 법치주의의 의미는 A에서 B로 확장되었다. A는 군주의 자의적인 권력 행사를 제한하기 위해 시민의 대표인 의회가 제정한 법률에 따라 국가 권력이 행사되어야 함을 강조 하면서 등장하였다. 그러나 합법적인 절차에 따라 제정된 법률에 의해서도 시민의 자유와 권리가 침해될 수 있다는 역사적 경험을 통해 법률의 목적과 내용도 헌법의 가치 체계에 합치되어야 함을 강조하는 B가 등장하였다. 이러한 B의 정신은 법과 제도에 투영되어 있다. 가령 죄형 법정주의의 파생 원칙 중 하나인 (가) 은/는 B가 형법에 구현된 것으로 범죄와 이에 대한 형벌은 적절한 균형을 이루어야 하며 헌법의 이념에 부합해야 함을 내용으로 한다. 이러한 의미에서 오늘날 죄형 법정주의는 B의 요청을 충실히 반영하고 있다.

- ① A는 법적 안정성보다 실질적 평등과 같은 정의의 실현을 강조한다.
- ② B는 법률에 대한 헌법의 우위를 보장하기 위해 헌법 재판 제도의 필요성을 강조한다.
- ③ B는 A와 달리 개인의 권리를 제한하기 위해서는 의회가 제정한 법률에 근거가 있어야 한다고 본다.
- ④ (가)가 강조될수록 형법의 보장적 기능은 약화되고, 보호적 기능은 강화된다.
- ⑤ (가)는 사안에 적용할 법률 규정이 없는 경우에는 그와 유사한 규정을 적용해야 한다는 원칙이다.

3. 표는 우리나라 헌법의 기본 원리 A, B를 비교한 것이다. 이에 대한 설명으로 옳은 것은?

구분	관련 헌법 조항	실현 방안
A	(가)	• 최저 임금제 실시 • 사회 보장 제도 실시
B	국가는 전통문화의 계승·발전과 민족 문화의 창달에 노력하여야 한다.	• (나) • 학문·예술의 자유 보장

- ① (가)에는 ‘대한민국은 국제 평화의 유지에 노력하고 침략적 전쟁을 부인한다.’가 들어갈 수 있다.
- ② (나)에는 ‘평생 교육 진흥’이 들어갈 수 있다.
- ③ A는 개인의 사적 영역에 대한 국가의 간섭을 최소화해야 한다는 원리이다.
- ④ A는 B와 달리 근대 입헌주의 헌법에서부터 강조된 원리이다.
- ⑤ B는 A와 달리 여성 및 연소 근로자에 대한 특별한 보호를 강조한다.

4. 다음 자료에 대한 설명으로 옳은 것은? [3점]

갑국과 을국은 각각 전형적인 대통령제와 의원 내각제 중 하나를 채택하고 있다. 표는 각국에서 입법부와 행정부가 상호 견제하는 수단을 나타낸 것이다.

구분	갑국	을국
입법부가 행정부를 견제하는 수단	내각 불신임권	(가)
행정부가 입법부를 견제하는 수단	(나)	법률안 거부권

- ① (가)에는 ‘의회 해산권’이 들어갈 수 있다.
- ② (나)에는 ‘탄핵 소추권’이 들어갈 수 있다.
- ③ 갑국에서는 의회 의원이 각료를 겸할 수 있다.
- ④ 갑국에서는 을국과 달리 행정부 수반과 국가 원수가 동일인이다.
- ⑤ 을국에서는 갑국과 달리 의회 의원이 국민에 의해 선출된다.

5. 밑줄 친 ㉠~㉣에 대한 설명으로 옳은 것은?

□□신문 △△△△년 △△월 △△일

○○법 개정, 국민의 청원권 대폭 강화

그동안 ㉠ 청원을 하려면 해당 기관에 직접 방문하여 서면으로 제출해야 하는 불편함이 있었다. 이에 대한 ㉡ 국민의 개선 요구를 적극 반영하여 ㉢ 온라인 제출도 가능하도록 ○○법이 개정되었다. 또한 청원인이 원하는 경우 온라인 청원 시스템에 청원 내용을 공개하여 국민 의견을 수렴하는 ㉣ 공개 청원 제도도 함께 도입되었다.

- ① ㉠이 활성화될수록 정치권력에 대한 국민의 감시 기능은 약화된다.
- ② ㉡은 정치 과정 중 산출에 해당한다.
- ③ ㉢을 통해 정치 참여의 공간적 제약을 완화할 수 있다.
- ④ ㉣은 국민의 의견 제시 기회를 축소시킨다.
- ⑤ ㉣은 ㉡과 달리 국민의 정치적 효능감 향상에 기여할 수 있다.

정치와 법

2 (정치와 법)

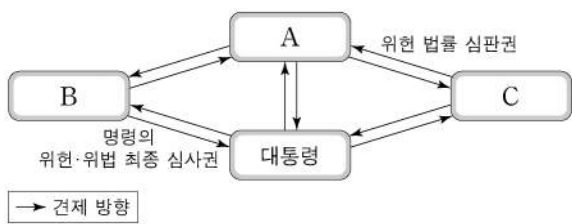
사회탐구 영역

6. (가)~(다)는 기본권에 관한 우리나라의 헌법 조항 중 일부이다. 이에 대한 설명으로 옳은 것은?

- (가) 모든 국민은 사생활의 비밀과 자유를 침해받지 아니한다.
 (나) 누구든지 성별·종교 또는 사회적 신분에 의하여 정치적·경제적·사회적·문화적 생활의 모든 영역에 있어서 차별을 받지 아니한다.
 (다) 국민의 모든 자유와 권리는 국가 안전 보장·질서 유지 또는 공공복리를 위하여 필요한 경우에 한하여 법률로써 제한할 수 있으며, 제한하는 경우에도 자유와 권리의 본질적인 내용을 침해할 수 없다.

- ① (가)에 규정된 기본권은 다른 기본권이 침해되었을 때 이를 구제하기 위한 수단적 권리이다.
- ② (가)에 규정된 기본권은 인간다운 생활의 보장을 국가에게 적극적으로 요구할 수 있는 권리이다.
- ③ (나)에 따르면 합리적 이유의 유무와 관계없이 모든 차별이 허용되지 않는다.
- ④ (다)는 국가 권력의 남용을 방지하여 국민의 기본권을 보장하는 것을 목적으로 한다.
- ⑤ (다)에 따르면 기본권을 제한하는 목적의 정당성이 인정된다면 수단의 적합성은 고려될 필요가 없다.

7. 그림은 우리나라 헌법 기관 간 견제 관계를 나타낸다. A~C에 대한 설명으로 옳은 것은? (단, A~C는 각각 국회, 대법원, 헌법재판소 중 하나이다.) [3점]



- ① A의 장(長)은 국무 회의의 부의장이 된다.
- ② B는 국정을 감사하거나 특정한 국정 사안에 대하여 조사할 수 있다.
- ③ C는 정당의 목적이나 활동이 민주적 기본 질서에 위배된다는 정부의 제소가 있을 때 그 정당의 해산 심판을 담당한다.
- ④ C가 위헌 법률 심판권을 행사하기 위해서는 A의 위헌 법률 심판 제청이 전제되어야 한다.
- ⑤ B의 장(長)과 달리 C의 장(長)을 대통령이 임명할 때에는 A의 동의를 필요하다.

8. 정치 참여 집단 A~C에 대한 설명으로 옳은 것은? (단, A~C는 각각 정당, 이익 집단, 시민 단체 중 하나에 해당하는 집단이다.) [3점]

- 국립공원 주변 관광업 종사자들로 구성된 A는 B를 찾아가 관광업계의 숙원 사업인 ○○ 국립공원 케이블카 설치 사업이 하루 빨리 시작될 수 있도록 관련 제도 마련을 요구하는 입장문을 전달하였다. 한편 100여 개국의 시민들이 연대한 환경 보호 운동 단체인 C는 ○○ 국립공원 케이블카 설치 반대 시위를 벌였다. 이와 관련하여 B는 더 많은 유권자의 의견을 반영할 수 있는 방향으로 선거 공약을 수립하고자 공청회를 열었다.

- ① A는 정권을 획득하여 정당을 실현하고자 한다.
- ② B는 공직 선거에서 후보자를 공천한다.
- ③ A는 B와 달리 정치 사회화 기능을 수행한다.
- ④ C는 A와 달리 소속 구성원의 이익을 공익보다 우선시한다.
- ⑤ C는 B와 달리 자신들의 활동에 대해 정치적 책임을 진다.

9. 다음 자료는 국제 사회를 바라보는 관점 (가), (나)를 비교한 것이다. 이에 대한 설명으로 옳은 것은? (단, A와 B는 국제 연합의 주요 기관이다.)

(가)

■ 주요 입장
국제 사회는 국제기구나 국제법을 통해 평화적이고 협력적인 관계를 유지할 수 있음.

■ 사례
○○ 동계 올림픽을 앞두고 국제 연합의 모든 회원국으로 구성된 A에서는 올림픽 기간 중 일체의 적대 행위 중단을 촉구하는 올림픽 휴전 결의안을 채택함.

(나)

■ 주요 입장
국제 사회는 힘의 원리에 따라 운영되며 국가는 자국의 안보와 이익을 우선시함.

■ 사례
15개 이사국으로 구성된 B에서는 □□국의 화학 무기 공격을 규탄하는 결의안을 신속히 채택하려 했지만 상임 이사국인 △△국의 거부권 행사로 무산됨.

- ① A는 주권 평등의 원칙이 적용되는 국제 연합의 최고 의사 결정 기관이다.
- ② B에서 △△국은 실질 사항을 제외한 안전에 대해 거부권을 행사할 수 있다.
- ③ A는 B와 달리 국제 사법 재판소의 재판관을 선출하는 권한을 가진다.
- ④ (가)는 (나)와 달리 국제 사회가 무정부 상태라고 본다.
- ⑤ (나)는 (가)와 달리 집단 안보 체제를 통해 국제 평화를 실현해야 한다고 본다.

10. 다음 사례에 대한 법적 판단으로 옳은 것은? [3점]

고등학생 갑과 을은 방학을 맞아 아르바이트를 하기로 하고, ○○ 백화점 사장 병과 각각 근로 계약을 체결하였다. 다음은 갑과 을이 병과 체결한 근로 계약의 공통된 내용 중 일부이다.

- 근로 기간: 2021년 1월 6일~2021년 2월 28일
- 근로 시간: 10시~18시(휴게 시간: 13시~14시)
- 근무일: 매주 수요일~일요일 / 휴일: 매주 월, 화요일
- 임금: 시간당 8,000원

* 2021년 법정 최저 임금은 시간당 8,720원임.

표는 갑과 을이 병과 근로 계약을 체결할 때 요구되는 서류들을 비교한 것이다.

(○: 요구됨, ×: 요구되지 않음)

구분	갑	을
취직 인허증	×	×
친권자 또는 후견인 동의서	×	○
연령을 증명하는 가족 관계 기록 사항에 관한 증명서	×	○

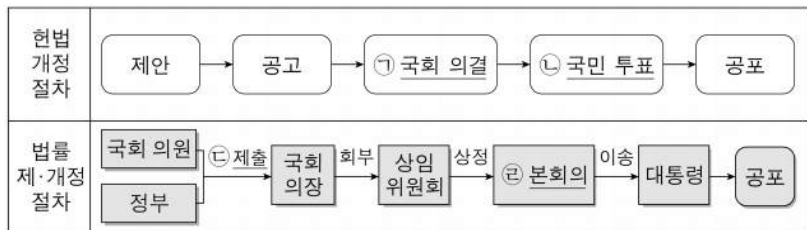
- ① 을의 친권자 또는 후견인은 을의 근로 계약을 대리할 수 있다.
- ② 을은 갑과 달리 주말 근로가 원칙적으로 금지되므로 근무일을 변경해야 한다.
- ③ 근로 계약이 이미 체결되었으므로 갑은 병에게 법정 최저 임금을 요구할 수 없다.
- ④ 을과 병이 근무일의 연장 근로에 대해 추가적으로 합의하더라도 병은 을을 1일 2시간씩 더 근로하게 할 수 없다.
- ⑤ 갑은 을과 달리 친권자 또는 후견인의 동의 없이 병에게 단독으로 임금을 청구할 수 있다.

11. 다음 자료에 대한 설명으로 옳은 것은?

우리나라에서는 지방 자치 단체의 예산 편성 과정에 주민이 직접 참여할 수 있으며, 구체적인 운영 방법은 각 지방 자치 단체의 ㉠ 조례를 통해 자율적으로 정하도록 하고 있다. 주민이 지역에 필요한 사업을 제안하면 관련 부서에서 사업의 타당성을 검토하고, 지방 행정 사무를 총괄하는 A가 ㉡ 예산안을 편성한다. 편성 후 제출된 예산안은 B가 심의·의결하고, 의결된 사항은 주민의 선거로 선출된 A가 집행한다.

- ① 주민은 ㉠의 폐지를 청구할 수 없다.
- ② ㉡은 주민 투표를 통해야만 최종 확정된다.
- ③ A는 중앙 정부에서 위임한 사무를 담당하지 않는다.
- ④ B의 의원은 지역구 의원과 비례 대표 의원으로 구분된다.
- ⑤ A는 B와 달리 담당 사무에 관하여 ㉠을 제정할 수 있다.

12. 밑줄 친 ㉠~㉣에 대한 옳은 설명만을 <보기>에서 있는 대로 고른 것은?



<보 기>

㉠. ㉠을 위해서는 국회 재적 의원 3분의 2 이상의 찬성을 얻어야 한다.
 ㉡. 국회 의원 선거권자는 ㉡에 참여하여 투표할 수 있다.
 ㉢. 정부의 ㉢은 국회 의원 10인 이상의 동의가 필요하다.
 ㉣. 교섭 단체는 제출된 법률안을 ㉣에 직권 상정할 수 있다.

- ① ㉠, ㉡ ② ㉠, ㉢ ③ ㉢, ㉣
- ④ ㉠, ㉢, ㉣ ⑤ ㉡, ㉢, ㉣

13. 다음 사례에 대한 법적 판단으로 옳은 것은? [3점]

갑(남)과 을(여)은 법률상 혼인하였고 그 사이에서 A와 B가 태어났다. 그 후 갑과 을은 협의 이혼하면서 A는 갑이, B는 을이 양육하기로 하였다. 한편 갑은 병과, 을은 정과 법률상 혼인하였고 을과 정 사이에서 C가 태어났다. 그 후 ㉠ 병은 A를 친양자가 아닌 양자로 입양하였고, ㉡ 정은 B를 친양자로 입양하였다.

* A~C는 모두 미성년자이고, 미혼이며 자녀가 없다.
 ** 갑~정의 성(姓)과 본(本)은 모두 다르다.

- ① 갑과 을의 이혼은 가정 법원에서 이혼 의사를 확인받는 즉시 그 효력이 발생한다.
- ② ㉠ 이후에도 병은 A의 친권자가 될 수 없다.
- ③ ㉠ 이후 A가 유언 없이 사망하였다면 병은 을과 달리 A의 재산을 상속받을 수 있다.
- ④ ㉡ 이후 B가 유언 없이 사망하였다면 정은 갑과 달리 B의 재산을 상속받을 수 없다.
- ⑤ C가 정의 성(姓)과 본(本)을 따른 경우, ㉡으로 인해 B는 정의 성과 본을 따른다.

14. 다음 자료에 대한 설명으로 옳은 것은? [3점]

(가)~(다)는 범죄 성립 요건인 구성 요건 해당성, A, B 중 어느 하나가 갖춰지지 않아 해당 범죄가 성립하지 않는 사례이다. 단, A와 B는 각각 위법성과 책임 중 하나이다.

(가) 갑(22세)이 장난으로 친구의 애완견을 발로 걷어찬 경우는 구성 요건 해당성이 인정되지 않아 폭행죄가 성립하지 않는다.
 (나) 경찰관 을(43세)이 적법한 절차에 따라 현행범인을 체포한 경우는 A가 인정되지 않아 체포죄가 성립하지 않는다.
 (다) 병(51세)이 심신 상실 상태에서 아무런 이유 없이 타인에게 상해를 입힌 경우는 B가 인정되지 않아 상해죄가 성립하지 않는다.

- ① (가)는 행위자에 대한 법적 비난 가능성이 인정되지 않아 범죄가 성립하지 않는 사례이다.
- ② (나)는 법질서 전체의 관점에서 볼 때 부정적으로 판단되지 않아 범죄가 성립하지 않는 사례이다.
- ③ (다)는 법률로 정해 놓은 범죄 행위 유형에 해당하지 않아 범죄가 성립하지 않는 사례이다.
- ④ 저항할 수 없는 폭력에 의하여 강요된 행위로 타인에게 상해를 입힌 경우는 A가 인정되지 않아 범죄가 성립하지 않는 사례이다.
- ⑤ 자신의 집에 침입하여 생명을 위협하는 강도를 제압하는 과정에서 강도에게 상해를 입힌 경우는 B가 인정되지 않아 범죄가 성립하지 않는 사례이다.

15. (가) 사례를 (나)에 적용했을 경우에 대한 옳은 법적 판단만을 <보기>에서 고른 것은? [3점]

(가) 갑(18세)은 온라인 게임을 위하여 을(39세)로부터 거액의 돈을 빌리는 계약을 하였다. 갑의 법정 대리인은 병이다.

(나)

질문	<상황 1>	<상황 2>	<상황 3>	<상황 4>
계약 당시 병의 동의를 있었는가?	예	아니요	아니요	아니요
계약 당시 을은 갑이 미성년자임을 알았는가?	예	예	아니요	아니요
계약 후 병이 추인하였는가?	아니요	아니요	예	아니요

<보 기>

㉠. <상황 1>에서 을의 사기로 계약을 하였다면 계약은 일단 유효하게 성립하나 갑은 계약을 취소할 수 있다.
 ㉡. <상황 2>에서 갑이 병의 동의를 위조하는 속임수로 계약을 하였다면 갑뿐만 아니라 병도 계약을 취소할 수 없다.
 ㉢. <상황 3>에서 을은 계약 체결의 의사 표시를 철회할 수 있다.
 ㉣. <상황 4>에서 을은 미성년자인 갑에게 계약의 취소 여부에 대한 확답을 촉구할 수 있다.

- ① ㉠, ㉡ ② ㉠, ㉢ ③ ㉡, ㉣ ④ ㉡, ㉣ ⑤ ㉢, ㉣

4 (정치와 법)

사회탐구 영역

16. 표는 근대 민법의 수정·보완 원칙과 적용 사례를 나타낸 것이다. 이에 대한 설명으로 가장 적절한 것은? [3점]

근대 민법의 수정·보완 원칙	적용 사례
(가)	정부는 자연 환경 보전과 건전한 생활 환경 확보라는 공익을 목적으로 관련 법에 근거하여 개인의 토지를 개발 제한 구역으로 지정하였다.
무과실 책임의 원칙	(나)

- ① (가)는 개인이 국가의 간섭 없이 자신의 의사에 기초하여 상대방과 자유롭게 법률관계를 형성할 수 있다는 원칙이다.
- ② (가)에 따르면 행위자는 자신의 행위로 인한 결과를 의도하거나 자신에게 과실이 있는 경우에만 손해 배상 책임을 진다.
- ③ (가)에 따라 개인의 사유 재산권에 대한 절대적 지배가 인정되어 국가나 다른 개인은 이를 함부로 간섭하거나 제한할 수 없다.
- ④ (나)에는 ‘법원은 법정 최고 이자율을 초과하여 돈을 빌리는 계약에서 그 초과분에 대해서는 무효라고 판단하였다.’가 들어갈 수 있다.
- ⑤ (나)에는 ‘제조물 제조상의 결함으로 생명·신체·재산상의 손해가 발생한 사안에서 법원은 제조업자에게 고의나 과실이 없음에도 제조물 책임법에 따른 책임을 인정하였다.’가 들어갈 수 있다.

17. 다음 사례에 대한 법적 판단으로 옳은 것은?

갑(19세)은 을(35세)이 운영하는 결혼 사진 촬영 업체에서 촬영 아르바이트를 하였다. 어느 날 병(30세)이 을에게 자신의 결혼식 사진 촬영을 의뢰하였고, 갑은 그 촬영을 위해 오토바이를 직접 운전하여 결혼식장으로 가던 중 운전 부주의로 정(47세)을 크게 다치게 하였다. 그리고 사고 처리 때문에 병의 결혼식 사진은 촬영되지 못했다.

- ① 갑의 병에 대한 채무 불이행 책임이 성립한다.
- ② 갑의 정에 대한 채무 불이행 책임이 성립한다.
- ③ 을의 병에 대한 채무 불이행 책임이 성립하지 않는다.
- ④ 을의 정에 대한 특수 불법 행위 책임이 성립하지 않는 경우에도 갑의 정에 대한 일반 불법 행위 책임이 성립한다.
- ⑤ 정이 입은 재산적 손해는 정신적 손해와 달리 금전으로 배상하는 것을 원칙으로 한다.

18. 다음 사례에 대한 법적 판단으로 옳은 것은?

갑과 을은 병에게 전치 3주의 부상을 입히고 도주하였으나 일주일 후에 검거되었다. 갑, 을 모두 구속된 상태에서 수사가 진행되었다. 검사는 범죄 혐의를 확인하고 갑, 을 모두 유죄 판결을 받을 수 있다고 판단하였다. 검사는 피의 사실이 인정되지만 피해자와의 관계, 사건 가담 정도, 연령 등을 고려하여 갑에 대해서는 불기소 처분을 내리고, 을에 대해서는 공소를 제기하였다. 재판 결과 을에 대해 징역 6월이 선고되었다. 을은 변호사와 상의 후 항소를 포기하였다.

- ① 갑은 불기소 처분을 이유로 형사 보상을 받을 수 있다.
- ② 을이 항소를 포기하였으므로 검사의 항소 여부와 관계없이 판결은 확정된다.
- ③ 을은 형 집행 도중에 보석 제도를 통하여 형기 만료 전에 석방될 수 있다.
- ④ 병은 형사 재판의 당사자이므로 형사 재판에 참여하여 의견을 진술할 수 있다.
- ⑤ 갑, 을 모두 형사 책임 여부와 관계없이 민사상 손해 배상 책임을 질 수 있다.

19. 그림의 (가)에 들어갈 내용으로 옳은 것은? [3점]

〈서술형 평가〉

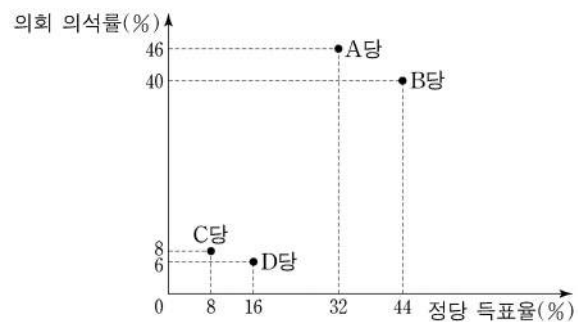
◎ 국제법의 법원(法源) 중 하나인 A의 특징을 3가지 서술하시오. (각 서술별로 채점하며, 옳은 서술 1개당 1점, 총 3점)

답안	점수
1. 우리나라에서는 국회가 비준권을 가진다.	2점
2. 국제 사회의 반복된 관행이 법적 확신을 얻어 효력을 가지게 된 것이다.	
3. (가)	

- ① 국제기구도 체결 주체가 될 수 있다.
- ② 우리나라에서 헌법과 동등한 효력을 가진다.
- ③ 국제 사법 재판소의 재판 준거가 될 수 있다.
- ④ 명시적 입법 절차를 거쳐 성문화된 형식으로 존재한다.
- ⑤ 체결에 참여한 행위 주체에 대해서만 구속력을 지닌다.

20. 다음 자료에 대한 분석으로 옳은 것은?

전형적인 의원 내각제 정부 형태를 채택하고 있는 갑국의 의회는 지역구 의원 70인과 비례 대표 의원 30인으로 구성되며, 유권자는 지역구 의원 선출을 위해 후보자에 1표, 비례 대표 의원 선출을 위해 정당에 1표를 행사한다. 지역구 의원 선거에서 각 정당은 선거구별로 1인의 후보자만 공천하며 각 선거구별로 선출되는 지역구 의원 수는 같다. 비례 대표 의석은 각 정당이 얻은 정당 득표율에 비례 대표 의원 정수(定數)를 곱하여 산출된 수의 정수(整數)만큼 각 정당에 먼저 배분하고 잔여 의석은 소수점 이하의 수가 큰 순서대로 각 정당에 1석씩 배분한다. 갑국은 현재의 의원 선출 방식과 지역구 의원 수는 유지하되, 비례 대표 의원 수는 늘려서 전체 의원 수를 현재의 1.5배가 되도록 하는 개편안을 검토하고 있다. 그림은 현행 선거 제도에서 실시된 갑국의 최근 의회 의원 선거 결과를 나타낸다.



* 정당은 A~D당만 존재하고 무소속 후보는 없으며, 투표율은 100%이고 무효표는 없음.
** 개편안 적용 시 최근 의회 의원 선거의 정당 득표율과 지역구 의원 선거 결과만을 근거로 판단함.

- ① 현재 지역구 의원 선거의 선거구 제도는 ‘선거구 내 당선자 간 표의 등가성 문제’가 발생한다.
- ② 최근 선거 결과 D당의 비례 대표 의석수는 C당의 비례 대표 의석수의 2배이다.
- ③ 개편안 적용 시 A당의 의회 의석수와 B당의 의회 의석수는 같다.
- ④ 개편안 적용 시 C당의 정당 득표율과 C당의 의회 의석률은 일치하지 않는다.
- ⑤ 최근 선거 결과에서뿐만 아니라 개편안을 적용했을 때에도 B당과 D당만으로는 연립 내각이 구성될 수 없다.

* 확인 사항
○ 답안지의 해당란에 필요한 내용을 정확히 기입(표기)했는지 확인하시오.

제 4 교시

사회탐구 영역(사회·문화)

성명 수험 번호 - 제 [] 선택

1. 밑줄 친 ㉠~㉣과 같은 현상의 일반적인 특징에 대한 설명으로 옳은 것은?

이산화탄소의 과도한 발생으로 ㉠ 지구의 평균 기온이 상승하면서 다양한 환경 문제가 나타났다. 이에 대응하여 일부 국가에서는 ㉡ 환경 친화적 소비를 유도하고 이산화탄소의 발생량을 감소시키고자 탄소 발자국을 표시하기 시작하였다. 탄소 발자국이란 제품의 생산, 소비, 폐기 등의 과정에서 발생하는 이산화탄소의 총량을 말한다. 탄소 발자국은 이산화탄소의 배출량을 무게 단위(kg)로 표시하거나, ㉢ 식물의 광합성을 통해 감소될 수 있는 이산화탄소 배출량을 ㉣ 나무의 수로 환산하여 표시한다.

- ① ㉠과 같은 현상은 ㉡과 같은 현상과 달리 경험적 자료를 통해 연구할 수 있다.
- ② ㉡과 같은 현상은 ㉢과 같은 현상에 비해 보편성이 강하게 나타난다.
- ③ ㉢과 같은 현상은 ㉣과 같은 현상에 비해 인과관계가 분명하다.
- ④ ㉣과 같은 현상은 ㉠과 같은 현상과 달리 확실성의 원리가 적용된다.
- ⑤ ㉠, ㉢과 같은 현상은 ㉡, ㉣과 같은 현상과 달리 가치 함축적이다.

2. 다음 연구에 대한 설명으로 옳은 것은? [3점]

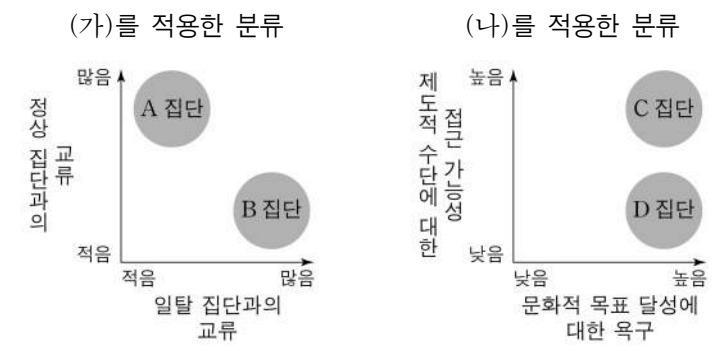
갑은 '재난 상황에서 인간의 행동에 미치는 주변인의 영향'이라는 주제를 연구하기 위해 자료를 수집하였다. 갑은 대학 생활에 관한 ㉠ 설문 조사를 한다는 명목으로 조사에 참여할 ㉡ 대학생 100명을 모집하여 무작위로 A 집단에 60명, B 집단에 20명, C 집단에 20명을 배정하였다. 갑은 A 집단에 설문 조사는 연구의 목적과 아무 관련이 없다는 점을 설명하고, 방에 연기가 들어오더라도 무해하니 설문지를 작성하는 척하면서 나오지 말라고 하였다. 반면 B 집단, C 집단에게는 연기에 대한 언급 없이 설문 조사에 성실하게 임해 달라고만 하였다. 이후 갑은 격리된 방 40개를 마련하여 20개 방 각각에는 A 집단 학생 3명과 B 집단 학생 1명이, 또 다른 20개 방 각각에는 A 집단 학생 없이 C 집단 학생 1명만 들어가서 설문지를 작성하게 하였다. 갑은 설문 조사 시작 1분 후 각 방에 연기를 들여보내고, 폐쇄회로 텔레비전(CCTV)을 통해 ㉢ B 집단과 C 집단 학생들의 행동을 관찰하였다. 연기가 들어오자 B 집단 중 5명은 ㉣ A 집단 학생들의 행동을 의식하지 않고 곧바로 방을 나갔고 15명은 다른 학생들을 살피면서 설문지를 계속 작성하였다. C 집단의 경우, 연기가 들어오자 15명은 방에서 곧바로 나갔고 5명은 설문지를 계속 작성하였다. 갑은 이러한 관찰 결과를 바탕으로 논문을 발표하였다.

- ① ㉠은 사전 검사에 해당한다.
- ② ㉡은 모집단, A 집단은 표본 집단이다.
- ③ ㉢은 독립 변인, ㉣은 종속 변인이다.
- ④ B 집단은 실험 집단, C 집단은 통제 집단이다.
- ⑤ 갑은 의도한 결과를 얻기 위해 자료를 자의적으로 조작하였다.

3. 다음 대화에 대한 설명으로 옳은 것은? (단, A~C는 각각 주류 문화, 하위문화, 반문화 중 하나이다.)

교사: 지난 시간에 배운 A, B, C에 대해 발표해 볼까요?
 갑: 1960년대 미국의 히피 문화는 A이자 C의 사례에 해당합니다.
 을: 모든 A는 C에 해당하지만 모든 C가 A에 해당하는 것은 아닙니다.
 병: _____ (가)
 교사: 갑, 을, 병 모두 옳게 발표하였습니다.

- ① 타 지역에서도 즐기는 특정 지역의 음식은 A의 사례에 해당한다.
 - ② A는 B와 달리 한 사회 구성원 대부분이 공유하는 문화이다.
 - ③ B는 C와 달리 전체 사회의 문화적 다양성 증진에 기여한다.
 - ④ B는 A와 C의 총합으로 구성된다.
 - ⑤ (가)에는 'C는 사회 변화에 따라 B가 되기도 합니다.'가 들어갈 수 있다.
4. 그림은 일탈 이론 (가), (나)를 적용하여 청소년을 특성별로 분류한 것이다. 이에 대한 설명으로 옳은 것은? [3점]



- ① (가)에 따르면, B 집단보다 A 집단에 속한 청소년이 일탈 행동을 할 가능성이 높다.
- ② (나)에 따르면, C 집단보다 D 집단에 속한 청소년이 일탈 행동을 할 가능성이 높다.
- ③ (가)는 (나)와 달리 일탈 행동의 대책으로 사회 규범의 통제력 강화를 중시한다.
- ④ (나)는 (가)와 달리 일탈 행동을 규정하는 객관적인 기준이 없다고 본다.
- ⑤ (가), (나)는 모두 일탈 행동의 원인으로 타인과의 상호 작용을 중시한다.

5. 다음은 A, B의 일반적인 특징을 비교한 것이다. 이에 대한 설명으로 옳은 것은? (단, A와 B는 각각 산업 사회, 정보 사회 중 하나이다.)

○ A는 B에 비해 의사 결정의 분권화 정도가 높다.
 ○ A는 B에 비해 _____ (가) 이/가 크다.
 ○ B는 A에 비해 _____ (나) 이/가 빠르다.

- ① A는 B에 비해 비대면 접촉의 비중이 낮다.
- ② B는 A에 비해 쌍방향 매체의 정보 전달 비중이 낮다.
- ③ A는 소품종 대량 생산 체제, B는 다품종 소량 생산 체제가 지배적이다.
- ④ (가)에는 '물리적 거리가 사회적 관계 형성에 미치는 제약'이 들어갈 수 있다.
- ⑤ (나)에는 '정보의 확산 속도'가 들어갈 수 있다.

2 (사회 · 문화)

사회탐구 영역

6. 다음 자료에 대한 분석으로 옳은 것은? [3점]

표는 갑국과 을국에서 발생한 문화 변동을 나타낸 것이다. 1차 문화 변동 시기에는 내재적 변동만, 2차 문화 변동 시기에는 갑국과 을국 간 문화 접변만 있었다. (가)~(라)는 각각 발견, 발명, 직접 전파, 자극 전파 중 하나이며, (가)와 (다)는 각각 새로운 문화 요소를 창조하는 요인이다.

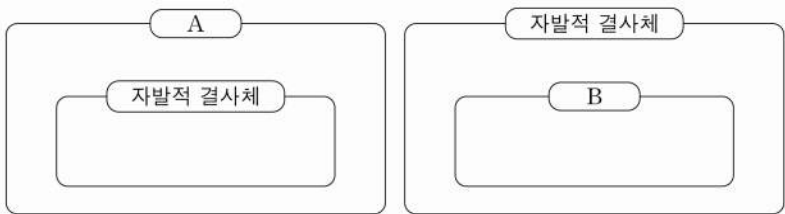
〈갑국과 을국의 문화 변동〉

구분	변동 전 문화 요소	1차 문화 변동		2차 문화 변동	
		변동 요인	추가된 문화 요소	변동 요인	추가된 문화 요소
갑국	a	(가)	c	(다)	e
을국	b	(나)	d	(라)	a, c

* a~e는 서로 다른 문화 요소를 의미하며, 이외에 다른 문화 요소는 존재하지 않는다.
** 제시된 문화 변동 이외에 다른 문화 변동은 없었으며, 문화 요소의 소멸도 없었다.

- ① (가)는 발견, (다)는 자극 전파이다.
- ② (나)는 (라)와 달리 을국의 문화 요소를 다양하게 하는 요인이다.
- ③ 2차 문화 변동 결과, 을국에서는 문화 병존이 나타났다.
- ④ 을국은 매개체를 통해 갑국의 문화 요소를 전달받았다.
- ⑤ 2차 문화 변동 결과, 갑국과 을국에 공통으로 존재하는 문화 요소는 3개이다.

7. 그림은 사회 집단 및 사회 조직의 유형 A, B와 자발적 결사체의 포함 관계를 나타낸 것이다. 이에 대한 설명으로 옳은 것은? (단, A와 B는 각각 비공식 조직, 이익 사회 중 하나이다.)



- ① A는 비공식적 제재가 지배적이다.
- ② B는 형식적, 수단적 인간관계가 지배적이다.
- ③ A는 자발적 결사체와 달리 가입과 탈퇴가 자유롭다.
- ④ A는 B와 달리 선택 의지에 의해 인위적으로 형성된 집단이다.
- ⑤ A의 사례로는 학교를, B의 사례로는 사내 동호회를 들 수 있다.

8. 밑줄 친 ㉠~㉤에 대한 설명으로 옳은 것은?

코로나 19의 확산으로 ㉠ 사회적 거리 두기가 장기화되면서 ㉡ '홈코노미(homeconomy)' 문화가 빠른 속도로 확산되고 있다. 이제 집은 단순한 주거 공간이 아니라 재택 근무, 온라인 쇼핑을 비롯한 각종 경제 활동을 하고 ㉢ 문화생활을 즐기는 공간으로 인식되고 있다. 이와 같이 ㉣ 집을 중심으로 다양한 활동이 이루어지면서 관련 산업들이 급성장하고 있다. 특히 ㉤ 동영상 전송 기술의 발달과 콘텐츠의 다양화로 인해 콘텐츠 서비스 이용자 수도 폭발적으로 증가하고 있다. 그 결과 ㉥ 많은 이용자가 한꺼번에 접속하면서 서비스 이용에 장애가 발생하기도 한다.

* 홈코노미: 집(home)과 경제(economy)가 합쳐져서 만들어진 신조어이다.

- ① ㉠에는 문화의 축적성이 부각되어 있다.
- ② ㉡과 ㉢에서의 '문화'는 모두 좁은 의미로 사용되었다.
- ③ ㉣은 문화의 총체성으로 설명할 수 있다.
- ④ ㉤은 비물질문화에 해당한다.
- ⑤ ㉥은 문화 지체 현상에 해당한다.

9. 다음 자료에 대한 분석으로 옳은 것은? [3점]

그림은 갑국과 을국의 자녀 세대를 대상으로 본인의 계층과 본인의 어머니 또는 아버지의 계층을 전수 조사한 것이다. 계층은 상층, 중층, 하층으로만 구성된다. 부모 세대에서 부부의 계층은 동일하며, 모든 부모의 자녀는 1명씩이다.

〈갑국〉

〈을국〉

* 음영 부분 면적의 크기는 사람 수에 비례하며, 각 □의 면적은 동일하다.

- ① 갑국은 을국과 달리 세대 간 상승 이동이 나타났다.
- ② 을국은 갑국과 달리 세대 간 하강 이동이 나타났다.
- ③ 갑국의 자녀 세대에서는 피라미드형 계층 구조가 나타나고, 을국의 자녀 세대에서는 모래시계형 계층 구조가 나타난다.
- ④ 갑국과 을국 모두 부모 세대에서 다이아몬드형 계층 구조가 나타난다.
- ⑤ 갑국과 을국 모두 부모의 계층을 대물림 받은 자녀는 하층에서 가장 많다.

10. 다음 자료에 대한 옳은 설명만을 <보기>에서 고른 것은? [3점]

표는 갑국의 A 기업에서 시행한 성차별 개선 조치의 효과를 보여 줍니다. 하지만 표에 나타나 있는 것처럼 조치 시행 후에도 (가) 라는 사실은 여전히 A 기업 내 성차별이 남아 있음을 보여 준다고 생각합니다.

구분	조치 시행 전		조치 시행 후	
	남성	여성	남성	여성
신입 사원 월 평균 임금(달러)	3,000	2,500	3,300	3,000
신입 사원 중 남녀 비율(%)	60	40	40	60
임원 중 남녀 비율(%)	75	25	60	40

〈보 기〉

- ㄱ. 성차별 개선 조치 시행 후 남녀 신입 사원의 월 평균 임금 격차는 60% 감소하였다.
- ㄴ. 성차별 개선 조치 시행 전후 신입 사원 수가 같다면, 여성 신입 사원 수는 조치 시행 후 50% 증가하였다.
- ㄷ. 남성 임원 대 여성 임원의 비는 성차별 개선 조치 시행 전 3:1에서 조치 시행 후 3:2로 변화하였다.
- ㄹ. (가)에는 '남성 신입 사원의 월 평균 임금이 여성 신입 사원의 월 평균 임금보다 30% 높다.'가 들어갈 수 있다.

- ① ㄱ, ㄴ ② ㄱ, ㄷ ③ ㄴ, ㄷ ④ ㄴ, ㄹ ⑤ ㄷ, ㄹ

11. 다음은 학생들이 제출한 수행 평가 과제에 대해 교사가 평가한 내용이다. 이에 대한 설명으로 옳은 것은?

A 조 과제에 대한 평가	B 조 과제에 대한 평가
A 조는 '에고서핑(ego-surfing)'의 의미를 찾아 ㉠ '인터넷으로 자신에 대한 정보나 댓글을 검색하는 것'이라고 소개한 후 '에고서핑을 많이 하는 사람일수록 자존감이 낮을 것이다.'라는 가설을 세워 검증하였습니다. A 조가 제출한 과제는 일반인을 대상으로 가설과 관련한 일반적인 경향성을 적절히 규명한 연구입니다.	B 조는 '에고서핑(ego-surfing)'을 하는 사람들의 심리를 알기 위해 심층 인터뷰를 실시하였습니다. B 조가 제출한 과제는 인터넷상에 나타난 자신에 대한 정보나 댓글에 매우 민감한 연예인, 유명 인터넷 1인 방송인 등을 대상으로 그들이 왜 불편한 감정을 감수하고 에고서핑을 하는지에 대해 적절히 조사한 연구입니다.

- ① ㉠은 A 조가 연구 과정에서 실시한 개념의 조작적 정의이다.
- ② B 조가 사용한 연구 방법은 법칙 발견을 목적으로 한다.
- ③ A 조가 사용한 연구 방법은 B 조가 사용한 연구 방법에 비해 계량화가 어려운 인간의 주관적 영역에 대해 탐구하기 곤란하다.
- ④ B 조가 사용한 연구 방법은 A 조가 사용한 연구 방법과 달리 자료 수집 과정에서 연구자의 가치 중립이 요구된다.
- ⑤ A 조가 사용한 연구 방법은 방법론적 이원론을, B 조가 사용한 연구 방법은 방법론적 일원론을 전제로 한다.

12. 다음은 자료 수집 방법의 일반적인 특징을 활용한 수업이다. 이에 대한 설명으로 옳은 것은? [3점]

교사: 자료 수집 방법 중에서 질문지법, 참여 관찰법, 면접법의 공통점을 알아보기 위해 카드 게임을 해봅시다. 학생 갑, 을, 병에게 각각 나눠 준 6장의 카드에는 자료 수집 방법의 일반적인 특징이 적혀 있습니다. 3가지 자료 수집 방법의 특징 모두에 해당하는 카드는 3점, 2가지에만 해당하는 카드는 2점, 1가지에만 해당하는 카드는 1점을 받습니다. 6장의 카드 중에서 가장 높은 점수를 받을 수 있도록 3장을 뽑으세요.

<학생이 받은 카드>

[카드 1] 1차 자료의 수집용으로 활용된다.	[카드 2] 연구 대상자와의 언어적 상호 작용이 필수적이다.	[카드 3] 질적 자료 수집을 목적으로 한다.
[카드 4] 생생한 자료를 현장에서 직접 수집할 수 있다.	[카드 5] 양적 자료의 수집에 용이하다.	[카드 6] 문명자에게 활용하기 곤란하다.

갑: 저는 [카드 1], [카드 2], [카드 3]을 뽑았습니다.
 을: 저는 [카드 3], [카드 4], [카드 6]을 뽑았습니다.
 병: 저는 [카드 1], [카드 2], [카드 5]를 뽑았습니다.

- ① 높은 점수를 받을 학생부터 순서대로 나열하면 병, 갑, 을 순이다.
- ② 갑이 뽑은 카드 중에는 3가지 자료 수집 방법 모두에 해당하는 특징이 적힌 카드가 1장 있다.
- ③ 을이 뽑은 카드 중에는 질문지법에 해당하는 특징이 적힌 카드가 없다.
- ④ 병이 뽑은 모든 카드에는 참여 관찰법에 해당하는 특징이 적혀 있다.
- ⑤ 갑, 을, 병은 모두 면접법에 해당하는 특징이 적힌 카드를 2장 이상씩 뽑았다.

13. 밑줄 친 ㉠~㉤에 대한 설명으로 옳은 것은? [3점]

미국으로 건너간 이주자 갑은 준비했던 사업에 실패한 후 가족의 생계 유지를 위해 무슨 일을 해야 할지 ㉠ 고민하다 과일 농장에 취업하였다. 갑의 ㉡ 남편인 을 역시 가게에 보탬이 되고자 ㉢ 대형 할인점에서 ㉣ 직원으로 일하기 시작하였다. 한편, 아들 병은 ㉤ 미국 고등학교에 ㉥ 적응하지 못한 채 방향을 계속하였다. 결국 병은 다니던 학교를 그만두고 홈스쿨링(home schooling)을 하고 싶다고 하였다. 이런 모습을 지켜보던 갑과 을은 미국 학교에 병이 적응할 때까지 기다릴지, 홈스쿨링을 시킬지를 두고 ㉦ 갈등을 빚었다.

- ① ㉡은 2차적 사회화 기관이자 비공식적 사회화 기관이다.
- ② ㉢은 병의 내집단이자 준거 집단이다.
- ③ ㉣은 병의 역할 행동에 대한 제재이다.
- ④ ㉤은 ㉥과 달리 개인의 노력을 통해 후천적으로 획득한 지위이다.
- ⑤ ㉦은 ㉧과 달리 갑의 역할 갈등에 해당하지 않는다.

14. 표는 질문을 통해 사회 변동 이론 A, B를 구분한 것이다. 이에 대한 설명으로 옳은 것은? (단, A와 B는 각각 진화론, 순환론 중 하나이다.)

질문	A	B
사회가 퇴보할 수 있다고 보는가?	예	아니오
(가)	예	예
(나)	아니오	예

- ① A는 단기적 사회 변동보다는 장기적 사회 변동을 설명하는 데 유용하다.
- ② B는 사회 변동의 방향이 사회마다 다르다고 본다.
- ③ A는 B와 달리 사회가 단순한 형태에서 복잡한 형태로 변화한다고 본다.
- ④ (가)에는 '사회 변동에 작용하는 인간의 자율성을 강조하는가?'가 들어갈 수 있다.
- ⑤ (나)에는 '사회가 주기적으로 동일한 과정을 반복하며 변동한다고 보는가?'가 들어갈 수 있다.

15. 다음 자료에 대한 분석으로 옳은 것은? (단, A~C는 각각 사회 보험, 공공 부조, 사회 서비스 중 하나이다.) [3점]

우리나라 사회 보장 제도 유형 A~C 중 A는 B와 달리 금전적 지원을 원칙으로 한다. 또한, C는 A와 달리 상호 부조의 원리가 적용된다. 우리나라 (가), (나) 지역의 모든 가구는 A~C 중 한 가지 이상의 혜택을 받고 있으며, 지역별 중복 수혜 가구 비율은 다음과 같다.

(단위: %)

구분	(가) 지역	(나) 지역
A와 B의 중복 수혜 가구	10	20
A와 C의 중복 수혜 가구	6	9
B와 C의 중복 수혜 가구	50	45


* (가) 지역의 각 수치에는 A, B, C 중복 수혜 가구 비율(2%)이, (나) 지역의 각 수치에는 A, B, C 중복 수혜 가구 비율(5%)이 포함되어 있다.

- ① A는 B, C와 달리 사전 예방적 목적을 가진다.
- ② B는 A, C와 달리 보편적 복지의 이념을 바탕으로 한다.
- ③ C는 A, B와 달리 비용 부담자와 수혜자가 일치하지 않는다.
- ④ 사회 보험과 사회 서비스의 혜택은 모두 받지만, 공공 부조의 혜택은 받지 않는 가구의 비율은 (나) 지역이 (가) 지역보다 높다.
- ⑤ 사회 보험과 공공 부조의 혜택은 모두 받지만, 사회 서비스의 혜택은 받지 않는 가구의 비율은 (가), (나) 지역이 같다.

4 (사회 · 문화)

사회탐구 영역

16. 개인과 사회의 관계를 바라보는 갑, 을의 관점에 대한 설명으로 옳은 것은?



- ① 갑의 관점은 개인이 사회 속에서만 존재의 의미를 갖는다고 본다.
- ② 을의 관점은 사회 문제의 해결책으로 제도의 개혁보다 개인의 의식 개선을 강조한다.
- ③ 갑의 관점은 을의 관점과 달리 사회의 특성이 개인의 특성으로 환원될 수 없다고 본다.
- ④ 을의 관점은 갑의 관점과 달리 사회가 개인의 외부에 실재한다고 본다.
- ⑤ 갑의 관점은 개인에 대한 사회의 구속성을, 을의 관점은 사회에 대한 개인의 자율성을 강조한다.

17. 빈곤 유형 (가), (나)에 대한 옳은 설명만을 <보기>에서 고른 것은? (단, (가)와 (나)는 각각 절대적 빈곤, 상대적 빈곤 중 하나이다.)

(가) 생존 및 생계 유지에 필수적인 자원이나 자원을 확보하는 데 필요한 소득이 부족한 상태
 (나) 한 사회에서 구성원들이 일반적으로 누리는 생활 수준에 필요한 소득이 부족한 상태

<보 기>

ㄱ. (가)를 판단하기 위해 우리나라에서는 최저 임금액을 기준선으로 활용한다.
 ㄴ. (가)에 속하지 않는 가구도 (나)에 속할 수 있다.
 ㄷ. (나)는 (가)와 달리 상대적 박탈감의 원인이 된다.
 ㄹ. (가)와 (나) 모두 우리나라에서는 객관화된 기준에 의해 분류된다.

- ① ㄱ, ㄴ ② ㄱ, ㄷ ③ ㄴ, ㄷ ④ ㄴ, ㄹ ⑤ ㄷ, ㄹ

18. 사회 · 문화 현상을 바라보는 (가)~(다)의 관점에 대한 설명으로 옳은 것은? [3점]

(가) 질병은 구성원 각자가 부여하는 의미나 가치에 의해 사회적으로 규정될 수 있다. 예컨대 19세기 유럽에서는 폐결핵에 걸린 지식인과 예술인의 마른 자태를 열정과 낭만의 징표로 인식하기도 하였다.
 (나) 질병은 사회 체제 유지라는 측면에서 볼 때 사회 통합에 긍정적으로 작용하지 못하기 때문에 사회 문제로 규정된다. 따라서 질병 치료는 일종의 사회 통제라고 볼 수 있다.
 (다) 질병으로부터 자신을 보호할 자원이 부족한 이들에게는 사회 구조적 모순이 고스란히 전달되어 질병으로 나타난다. 질병에 걸릴 위험은 사회 계급에 따라 차등적으로 분포되어 있기 때문이다.

- ① (가)의 관점은 사회 구조가 개인에게 미치는 영향을 간과한다는 비판을 받는다.
- ② (나)의 관점은 사회 제도를 통해 기존의 불평등한 사회 구조가 재생산된다고 본다.
- ③ (가)의 관점은 (나)의 관점과 달리 사회 각 부분이 상호 보완적 역할을 수행한다고 본다.
- ④ (나)의 관점은 (다)의 관점과 달리 대립과 갈등을 사회 구조의 필연적 속성으로 본다.
- ⑤ '사회 · 문화 현상의 의미가 발생 상황과 행위 주체에 따라 달라진다고 보는가?'라는 질문으로는 (가)와 (다)의 관점을 구분할 수 없다.

19. 다음 자료의 A~D에 대한 설명으로 옳은 것은?

인권 다큐멘터리 영화제 주요 작품 소개

A: 갑국에서 대다수의 어린 여자 아이들이 단지 여자라는 이유만으로 취학을 하지 못하는 실상을 추적한 작품
 B: 을국 정부에게 고용 안정과 처우 개선을 요구하는 비정규직 노동자들의 목소리를 담은 작품
 C: 병국의 지배 세력에게 억압과 착취를 당하는 병국 내 소수 민족의 아픔을 표현한 작품
 D: 정국에서 새로운 정보 기기를 잘 다루지 못하는 노인들이 겪고 있는 여러 가지 어려움을 취재한 작품

- ① A는 B와 달리 인간의 선천적 요인으로 인한 차별을 다룬 작품이다.
- ② B는 C와 달리 구성원 수의 많고 적음에 따라 규정되는 사회적 소수자를 다룬 작품이다.
- ③ C는 D와 달리 연령대에 따라 처우가 달라지는 차별을 다룬 작품이다.
- ④ D는 A와 달리 적극적 우대 조치로 인해 역차별을 받는 집단을 다룬 작품이다.
- ⑤ A와 C는 사회적 소수자에 대한 차별 사례를, B와 D는 해당 사회 주류 집단에 대한 우대 사례를 다룬 작품이다.

20. 다음 자료에 대한 분석으로 옳은 것은? [3점]

표는 A 지역의 인구 구성 비율을 나타낸 것이다. 2000년에 비해 2020년 A 지역의 총인구는 20% 증가하였다. A 지역의 노령화 지수는 2000년에 60, 2020년에 125였다. 단, 음영 처리된 부분은 주어진 자료와 단서를 통해 알 수 있다.

(단위: %)

구분	2000년	2020년
0~14세 인구 (유소년 인구)		20
15~64세 인구 (부양 인구)		
65세 이상 인구 (노인 인구)	15	

* 노령화 지수 = (65세 이상 인구 / 0~14세 인구) × 100
 ** 유소년 부양비 = (0~14세 인구 / 15~64세 인구) × 100
 *** 노인 부양비 = (65세 이상 인구 / 15~64세 인구) × 100
 **** 총부양비 = {(0~14세 인구 + 65세 이상 인구) / 15~64세 인구} × 100

- ① 2020년에 노인 인구는 유소년 인구의 2배 이상이다.
- ② 2000년에 비해 2020년의 부양 인구는 감소하였다.
- ③ 2000년 유소년 부양비와 2020년 노인 부양비는 동일하다.
- ④ 2000년에 비해 2020년의 노인 인구는 10% 증가하였고, 유소년 인구는 5% 감소하였다.
- ⑤ 2000년에 비해 2020년의 유소년 부양비는 감소하였고, 노인 부양비와 총부양비는 모두 증가하였다.

* 확인 사항

○ 답안지의 해당란에 필요한 내용을 정확히 기입(표기)했는지 확인 하시오.