

목록

2022_수능_해설(EBS)_정치와법	1
2022_수능_해설(EBS)_한국지리	8
2022_수능_해설(EBS)_경제	16
2022_수능_해설(EBS)_동아시아사	24
2022_수능_해설(EBS)_사회문화	32
2022_수능_해설(EBS)_생활과_윤리	40
2022_수능_해설(EBS)_세계사	48
2022_수능_해설(EBS)_세계지리	56
2022_수능_해설(EBS)_윤리와_사상	64

01. ⑤ 02. ③ 03. ② 04. ① 05. ④ 06. ② 07. ④ 08. ② 09. ② 10. ④  
 11. ② 12. ③ 13. ③ 14. ⑤ 15. ④ 16. ③ 17. ④ 18. ② 19. ④ 20. ①

### 1. 정치를 바라보는 관점 이해

**정답 해설** : A는 좁은 의미로 정치를 바라보는 관점, B는 넓은 의미로 정치를 바라보는 관점이다. ⑤ 좁은 의미로 정치를 바라보는 관점과 넓은 의미로 정치를 바라보는 관점 모두 물리적 강제력을 독점한 통치 기구가 희소한 자원을 배분하는 과정을 정치라고 본다. **정답 ⑤**

**[오답피하기]** ① 좁은 의미로 정치를 바라보는 관점은 층간 소음 갈등을 해결하기 위해 아파트 주민 회의에서 자치 규약을 만드는 과정을 정치라고 보지 않는다.

② 좁은 의미로 정치를 바라보는 관점, 넓은 의미로 정치를 바라보는 관점은 모두 국가가 국정 운영 전반에 대한 감사를 실시하는 것을 정치라고 본다.

③ 넓은 의미로 정치를 바라보는 관점은 좁은 의미로 정치를 바라보는 관점에 비해 다원화된 현대 사회의 정치 현상을 설명하기에 적합하다.

④ 좁은 의미로 정치를 바라보는 관점은 국가를 다른 사회 집단과 구분하여, 국가만의 특수성이 존재하는 집단으로 보아 정치를 국가만의 활동으로 이해한다.

### 2. 우리나라 헌법의 기본 원리에 대한 이해

**정답 해설** : 우리나라 헌법의 기본 원리 중 A는 자유 민주주의, B는 복지 국가의 원리이다. ③ ‘국가는 사회보장·사회복지의 증진에 노력할 의무를 진다.’는 복지 국가의 원리가 구체화되는 헌법 조항이다. **정답 ③**

**[오답피하기]** ① 문화 국가의 원리는 국가가 국민의 자율적인 문화 활동을 보장하고 문화 풍토를 조성해야 한다는 원리이다.

② 복지 국가의 원리는 현대 복지 국가 헌법에서 강조된다.

④ 복지 국가의 원리는 시장의 지배와 경제력의 남용 방지를 위한 국가의 경제 정책을 통해 실현된다.

⑤ 자유 민주주의는 개인의 자유를 최대한 보장하고 국가의 간섭을 최소화해야 한다는 원리이다.

### 3. 법치주의의 유형 이해

**정답 해설** : 형식적 법치주의는 법률에 근거한 합법적 독재가 가능하고, 실질적 법치주의와 형식적 법치주의는 모두 법률을 통해 국가 권력을 제한하고자 한다. 따라서 채점 결과가 2점이 되기 위해서는 법치주의 유형 중 A는 실질적 법치주의, B는 형식적 법치주의여야 한다. ② 실질적 법치주의는 통치의 합법성뿐만 아니라 법률의 목적과 내용의 실질적 정당성까지 요구한다. **정답 ②**

**[오답피하기]** ① 형식적 법치주의는 법률의 제정 과정에서 법적 절차와 형식 준수만을

강조한다.

- ③ 형식적 법치주의는 모든 사람이 법에 구속되어야 한다고 본다.
- ④ 실질적 법치주의는 위헌 법률 심사제의 필요성을 강조한다.
- ⑤ 형식적 법치주의와 실질적 법치주의는 모두 절차의 합법성을 중시하므로, '국민의 자유와 권리를 제한할 때 법적 근거를 강조한다.'는 (가)에 들어갈 수 없다.

#### 4. 기본권에 대한 이해

**정답 해설** : 사례에서 갑, 을, 병이 공통적으로 침해받은 기본권 유형은 평등권이다.

- ① 평등권은 합리적 이유 없이 차별을 받지 않을 권리이다. **정답 ①**
- [오답피하기]** ② 청구권은 다른 기본권을 보장하기 위한 수단적·절차적 권리이다.
- ③ 자유권은 국가의 간섭이나 침해를 받지 않을 방어적 권리이다.
- ④ 참정권은 국가의 정치 과정에 참여할 수 있는 능동적 권리이다.
- ⑤ 사회권은 인간다운 생활의 보장을 국가에 요구할 수 있는 권리이다.

#### 5. 우리나라 헌법 기관의 이해

**정답 해설** : 우리나라 헌법 기관 중 A는 국회 의장, B는 국무총리, C는 대통령, D는 감사원장이다. ④ 국무총리, 감사원장은 모두 국회의 동의를 얻어 대통령이 임명한다.

**정답 ④**

**[오답피하기]** ① 법률안 재의 요구권은 대통령의 권한이다.

- ② 대통령이 참석한 국무 회의에서 의장은 국무총리가 아니라 대통령이다.
- ③ 국무총리와 감사원장은 모두 국민으로부터 직접 선출되지 않으므로 국민으로부터 민주적 정당성을 직접 부여받지 않는다.
- ⑤ 국가 긴급권은 대통령의 권한이다.

#### 6. 전형적인 정부 형태의 특징 이해

**정답 해설** : 행정부 수반과 내각이 의회의 신임에 의존하는 정부 형태와 다르다는 점에서 (가)는 대통령제, 국민이 직접 선출한 국가 원수가 실질적이고 강력한 권한을 갖는 정부 형태와 다르다는 점에서 (나)는 의원 내각제이다. ② 의원 내각제에서 행정부는 의회 해산권을 통해 의회를 견제할 수 있다. **정답 ②**

**[오답피하기]** ① 대통령제에서 법률안 제출권은 의회만 갖고 있다.

- ③ 의원 내각제에서 의회 의원이 각료를 겸직할 수 있다.
- ④ t시기에 국가 원수 소속 정당인 A당은 의회에서 과반수 의석을 차지하고 있으므로 갑국의 국가 원수는 자신이 속한 A당 인사를 행정부 수반으로 임명할 것이다. t+1시기에 국가 원수 소속 정당인 A당은 의회에서 과반수 의석을 차지하지 못해 갑국의 국가 원수는 의회 다수당인 B당 인사를 행정부 수반으로 임명할 것이다. 따라서 t+1시기에 국가 원수 소속 정당과 행정부 수반 소속 정당은 동일하지 않을 것이다.
- ⑤ t시기는 국가 원수 소속 정당과 행정부 수반 소속 정당이 같다. 따라서 국가 원수

---

는 의회 다수의 지지를 얻어 강력한 정책 추진이 용이하다.

### 7. 우리나라의 지방 자치 제도 이해

**정답 해설** : 우리나라 지방 자치 단체의 기관 중 A는 지방 의회, B는 지방 자치 단체장이다. ④ 지방 자치 단체장이 예산안을 편성하여 지방 의회에 제출하면 지방 의회는 예산안을 심의·의결한다. **정답 ④**

**[오답피하기]** ① 주민 조례 발안 제도 개선과 규칙 제정과 개정·폐지 의견 제출권 신설 모두 주민 자치를 강화하여 국민 주권주의를 실현하는 데 기여한다.

② 지방 자치 단체장은 주민 또는 지방 의회의 청구에 의하거나 직권에 의하여 주민 투표를 실시할 수 있다. 지방 의회가 조례안을 주민 투표에 부쳐 주민의 의견을 수렴해야 하는 것은 아니다.

③ 지방 의회와 지방 자치 단체장 간에는 수평적 권력 분립이 나타난다.

⑤ 지방 자치 단체장 및 지방 의회 비례 대표 의원을 제외한 지방 의회 의원은 모두 주민 소환의 대상이다.

### 8. 헌법 재판소에 대한 이해

**정답 해설** : A는 헌법 재판소, (가)는 위헌 법률 심판, (나)는 권리 구제형 헌법 소원 심판이다. ② 위헌 법률 심판은 법률의 위헌 여부가 재판의 전제가 되었을 때 법원이 직권 또는 재판 당사자의 제청 신청에 따라 헌법 재판소에 제청함으로써 이루어진다.

**정답 ②**

**[오답피하기]** ① 재판 당사자가 재판의 전제가 된 법률 조항에 대해 담당 법원에 위헌 법률 심판 제청을 신청하였을 때 법원이 기각할 수 있다.

③ 권리 구제형 헌법 소원 심판은 공권력의 행사 또는 불행사로 기본권을 침해당한 사람이 헌법 재판소에 침해 여부의 판단을 청구하면 헌법 재판소가 그 침해 여부를 판단하는 제도로, 법원이 국회의 입법권을 견제하는 수단으로 볼 수 없다.

④ 헌법 재판소의 결정은 재항고의 대상이 아니다.

⑤ 헌법 재판소장은 국회의 동의를 얻어 대통령이 임명한다.

### 9. 정치 참여 집단에 대한 이해

**정답 해설** : 정치 참여 집단 중 A는 정당, B는 이익 집단, C는 시민 단체, D는 언론이다. ② 이익 집단은 집단의 특수 이익을 실현하기 위해 정당을 통해 정치 과정에 영향력을 행사하기도 한다. **정답 ②**

**[오답피하기]** ① 정당은 정치적 중립을 추구하지 않는다.

③ 시민 단체와 달리 정당은 정치적 책임을 진다.

④ 이익 집단, 시민 단체, 언론 모두 정치 사회화 기능을 한다.

⑤ 정당은 여론을 형성하여 의회와 행정부를 매개하는 역할을 한다.

### 10. 정치 참여 방법 이해

**정답 해설 :** ㉠은 선거를 통한 개별적 정치 참여, ㉡은 인터넷 활용을 통한 정치 참여, ㉢은 시민 단체를 통한 집단적 정치 참여, ㉣은 인터넷 활용을 통한 정치 참여이다. 나. 인터넷 활용을 통한 정치 참여는 시·공간적 제약을 완화시켜 시민의 정치 참여 활성화에 기여할 수 있다. 르. 시민 단체를 통한 정치 참여는 선거를 통한 정치 참여와 달리 집단적 정치 참여 방법이다. **정답 ④**

**[오답피하기]** ㄱ. 선거는 현대 민주주의에서 대의제를 운영하는 방법이다.

ㄷ. 인터넷 활용을 통한 정치 참여는 정치적 효능감 향상에 기여할 수 있는 정치 참여 방법이다.

### 11. 혼인, 이혼, 친자 관계에 대한 이해

**정답 해설 :** ② 협의상 이혼의 경우 부부는 이혼 사유에 상관없이 협의에 의하여 이혼할 수 있으며, 재판상 이혼 사유가 있는 경우에도 부부는 협의를 통해 이혼할 수 있다. **정답 ②**

**[오답피하기]** ① A는 갑과 을의 혼인 신고 후 태어났으므로 혼인 중의 출생자이고, 갑과 을의 이혼 후에도 A는 혼인 중의 출생자이다.

③ 면접 교섭권은 이혼 시 양육하지 않는 부모와 자녀 사이의 관계에서 당연히 발생하는 권리이다.

④ A가 친양자 아닌 양자로 입양되었으므로 A의 친생 부모인 갑과 A 사이의 친자 관계는 유지된다.

⑤ 친양자 아닌 양자는 입양된 때로부터 양부모의 친생자와 같은 지위를 가진다.

### 12. 민법의 기본 원칙 이해

**정답 해설 :** (가)는 사적 자치의 원칙, 이를 수정·보완한 (나)는 계약 공정의 원칙이다.

③ 계약 공정의 원칙은 계약 내용이 사회 질서에 위반되거나 현저하게 공정하지 못한 경우에는 법적 효력이 발생하지 않는다는 민법의 기본 원칙이다. **정답 ③**

**[오답피하기]** ① 과실 책임의 원칙에 대한 설명이다.

② 과실 책임의 원칙에 대한 설명이다.

④ 소유권 공공복리의 원칙에 대한 설명이다.

⑤ 근대 민법의 기본 원리는 근대 자본주의 발달 과정에서 발생하는 빈부 격차, 환경 오염, 독과점 등의 사회 문제를 해결하기 위해 소유권 공공복리의 원칙, 계약 공정의 원칙, 무과실 책임의 원칙으로 수정·보완되었다.

### 13. 형사 절차 이해

**정답 해설 :** ③ 기소 이후 재판에서 검사와 피고인은 소송의 당사자가 된다. **정답 ③**

**[오답피하기]** ① 구속영장의 청구를 받은 판사는 구속 전에 피의자를 직접 심문하여 구속 사유를 판단한다.

- ② 원칙적으로 피고인의 범죄 사실 입증 책임은 검사에게 있다.
- ④ 갑에게 유죄인 징역형 판결이 확정되었으므로 갑에게는 형사 보상 청구권이 인정되지 않는다.
- ⑤ 범죄 피해자 구조 제도란 타인의 범죄 행위로 인해 생명·신체에 피해를 입은 국민이 국가로부터 구조를 받을 수 있는 제도를 말한다.

**14. 형사 절차 이해**

**정답 해설 :** ⑤ 징역이란 수형자를 교도소 내에 가두어 정역에 복무하게 하는 것을 내용으로 하는 자유형이다. **정답 ⑤**

**[오답피하기]** ① 소급효 금지의 원칙에 따라 범죄와 형벌은 행위 시의 법률에 따라 결정되어야 하며, 시행 이전의 행위까지 거슬러 올라가 적용될 수 없다.

- ② 을은 14세로 형사 미성년자에 해당하지 않는다.
- ③ 을이 불기소 처분을 받았더라도 병에 대해 민사상 손해 배상 책임을 질 수 있다.
- ④ 1심 법원은 갑의 행위가 구성 요건에는 해당하나 위법성 조각 사유 중 정당 행위에 해당되어 무죄를 선고하였음을 파악할 수 있다.

**15. 미성년자의 계약 이해**

**정답 해설 :** ㄴ. 미성년자가 속임수로서 자신을 능력자로 믿게 하거나 법정 대리인의 동의를 있는 것으로 믿게 한 경우에는 미성년자 및 법정 대리인의 취소권이 배제된다. ㄷ. 불법 도박 용도의 자금을 빌려주는 계약을 그 용도를 알면서도 체결하는 행위는 대표적인 반사회적 법률 행위로서 그 법적 효력은 발생하지 않는다. **정답 ④**

**[오답피하기]** ㄱ. 미성년자가 용돈으로 참고서를 구입하는 계약은 미성년자가 법정 대리인의 동의 없이도 단독으로 유효하게 할 수 있다.

ㄷ. 미성년자는 법정 대리인의 동의 없이 독자적으로 임금을 청구할 수 있다.

**16. 선거 결과 분석**

**정답 해설 :** 주어진 자료를 바탕으로 한 선거 결과는 다음과 같다.

<현행 선거 정당별 의석수>

구분	A당	B당	C당	D당	E당
지역구 의석수	1석	2석	2석	1석	0석
비례 대표 의석수	2석	4석	0석	2석	1석
총 의석수	3석	6석	2석	3석	1석

<개편안 적용 시 지역구 의원 의석수>

구분		A당	B당	C당	D당	E당
선거구 1-2	A당에서 2명 당선될 경우	2석	0석	0석	0석	0석
	A당에서 1명 당선될 경우	1석	1석	0석	0석	0석
선거구 3-4		1석	0석	1석	0석	0석

선거구 5-6	C당에서 2명 당선될 경우	0석	0석	2석	0석	0석
	C당에서 1명 당선될 경우	0석	1석	1석	0석	0석

<A당과 C당이 지역구 의원 선거에서 최소 의석을 확보하였을 경우>

구분	A당	B당	C당	D당	E당
총의석수 할당 결과	3석	6석	1석	3석	2석
지역구 의석수	2석	2석	2석	0석	0석
비례 대표 의석수	1석	4석	0석	3석	2석
총 의석수	3석	6석	2석 (1석초과)	3석	2석

<A당과 C당이 지역구 의원 선거에서 최대 의석을 확보하였을 경우>

구분	A당	B당	C당	D당	E당
총의석수 할당 결과	3석	6석	1석	3석	2석
지역구 의석수	3석	0석	3석	0석	0석
비례 대표 의석수	0석	6석	0석	3석	2석
총 의석수	3석	6석	3석 (2석초과)	3석	2석

③ 개편안 적용 시 C당의 경우 5-6선거구에서 최소 의석을 확보하게 되면 1석의 초과 의석이 발생하여 총 2석을 획득하고, 최대 의석을 확보하게 되면 2석의 초과 의석이 발생하여 총 3석을 획득하게 된다. **정답 ③**

**[오답피하기]** ① 현행 선거 제도에서 A당의 총의석률은 20%로 A당이 획득한 정당 투표 득표율인 20%와 같다.

② 현행 선거 제도에서 D당이 획득한 비례 대표 의석수는 2석으로 지역구 의석수 1석보다 더 많다.

④ 개편안 적용 시 B당이 최대 의석수(2석)를 확보하여도 B당에 할당된 의석수(6석)보다 적으므로 B당의 초과 의석은 발생하지 않는다.

⑤ A당의 경우 현행 선거 제도에서는 총 3석을 획득한다. 개편안 적용 시 1-2 선거구에서 최대·최소 의석을 확보하여도 총의석수는 3석이므로 선거 제도 개편에 따른 유불리는 없다. 반면 E당의 경우 현행 선거 제도에서는 총 1석을 획득하지만 개편안 적용 시 총 2석을 획득하므로 개편안을 적용하는 것이 유리하다.

## 17. 국제 연합의 주요 기관 이해

**정답 해설 :** 국제 연합의 주요 기관 중 A는 국제 사법 재판소, B는 안전 보장 이사회, C는 총회이다. ④ 총회에서 모든 회원국은 표결 시 주권 평등의 원칙을 반영하여 1국가 당 1표의 투표권을 행사한다. **정답 ④**

**[오답피하기]** ① 조약은 국가 간에 주로 체결되지만 국가 외에 국제기구도 조약을 체결할 수 있다.

② 국제 사법 재판소의 재판 사건은 국가만이 당사자가 될 수 있다.

③ 국제 사법 재판소는 판결에 불복하는 당사국을 직접 제재할 권한이 없다.

---

⑤ 안전 보장 이사회는 5개의 상임 이사국과 총회에서 선출되는 10개의 비상임 이사국으로 구성된다.

### 18. 불법 행위 이해

**정답 해설 :** ㄱ. (가)에서 과실 책임의 원칙상 갑은 주택 파손에 대한 고의 또는 과실이 없기 때문에 을에 대하여 손해 배상 책임을 지지 않는다. ㄷ. (다)에서 책임 무능력자의 행위가 책임 무능력 이외의 사유, 예를 들어 정당방위·긴급 피난 등의 위법성 조각 사유로 불법 행위 책임을 발생시키지 않는 경우에는 책임 무능력자의 감독자 책임도 성립하지 않는다. **정답 ②**

**[오답피하기]** ㄴ. (나)에서 갑의 병에 대한 일반 불법 행위 책임은 성립하지만 갑의 행위는 업무 중에 발생한 것이 아니므로 을의 사용자 배상 책임은 성립하지 않는다. ㄹ. (라)에서 갑의 병에 대한 일반 불법 행위 책임은 성립하고, 을은 병에 대하여 채무 불이행 책임을 진다.

### 19. 국제 관계를 바라보는 관점

**정답 해설 :** 국제 관계를 바라보는 관점 중 갑은 현실주의적 관점, 을은 자유주의적 관점을 갖고 있다. ④ 자유주의적 관점은 국제 사회에서 발생하는 문제를 해결하는데 있어 국제기구의 역할을 중시한다. **정답 ④**

**[오답피하기]** ① 현실주의적 관점은 개별 국가의 이익과 국제 사회의 이익이 조화를 이루기 어렵다고 본다.

② 자유주의적 관점은 특정 국가의 침략 행위에 모든 국가들이 공동으로 대응하는 집단 안전 보장 체제를 중시한다.

③ 현실주의적 관점은 국가 간 힘의 균형을 통해 안보 추구하고 전쟁 억지가 가능하다고 본다.

⑤ 자유주의적 관점은 현실주의적 관점과 달리 국가가 도덕적 규범에 따라 외교정책을 수립한다고 본다.

### 20. 근로자의 권리 이해

**정답 해설 :** 갑은 18세, 을은 15세 이상 18세 미만의 연소자, 병은 19세 이상의 성년이다. ㄱ. 연소자의 근로 시간은 1일 7시간, 1주에 35시간을 초과하지 못한다. 연장근로에 대해 어떠한 합의도 없었으므로 연소자인 을의 근로 시간이 8시간인 것은 근로 기준법을 위반한 내용이다. ㄴ. 친권자나 후견인은 미성년자의 근로 계약을 대리할 수 없다. **정답 ①**

**[오답피하기]** ㄷ. 근로 기준법상 갑과 병이 연장 근로에 합의한다면 1주에 12시간을 한도로 연장하여 근로할 수 있다.

ㄹ. 근로 계약을 체결하는데 성년인 병은 부모의 동의가 필요 없으므로 병이 부모의 동의 없이 정과 근로 계약을 체결하였어도 병은 이를 취소할 수 없다.



2022학년도 대학수학능력시험  
사회탐구영역 **한국지리** 정답 및 해설

\*최근 수정일 : 21.12.14.(화)

01. ④ 02. ③ 03. ① 04. ① 05. ④ 06. ③ 07. ④ 08. ② 09. ⑤ 10. ③  
11. ① 12. ② 13. ② 14. ⑤ 15. ② 16. ⑤ 17. ③ 18. ① 19. ④ 20. ⑤

1. 독도, 마라도, 이어도, 백령도 특징 이해

**정답 해설** : (가)는 동해에 위치하고 동도와 서도 등으로 구성된 섬이므로 독도이다. (나)는 제주도 남쪽에 위치하고 국토 최남단 표지석이 있는 섬이므로 마라도이다. (다)는 수중 암초이고 2003년에 종합 해양 과학 기지가 건설되었으므로 이어도이다. (라)는 위도와 경도 및 아름다운 해안 경관 두무진이 있는 것으로 보아 황해에 위치하는 백령도이다. ④ 정: 독도와 마라도는 영해 설정 시에 통상 기선을 적용한다.

**정답 ④**

**[오답피하기]** ① 갑: (가)~(라) 중 가장 저위도에 위치하는 곳은 마라도(나)가 아니라 이어도(다)이다.

② 을: (가)~(라) 중 천연 보호 구역으로 지정된 곳은 이어도(다)가 아니라 독도(가)이다.

③ 병: 우리나라의 표준 경선은 동경 135°로, 독도 동쪽에 있다. 따라서 표준 경선과 가장 가까운 곳은 백령도(라)가 아니라 가장 동쪽에 위치한 독도(가)이다.

⑤ 독도(가)와 백령도(라) 간의 직선 거리는 마라도(나)와 이어도(다) 간의 직선 거리보다 멀다.

2. 제1차 및 제4차 국토 종합 (개발) 계획의 특징 이해

**정답 해설** : ③ ㉠은 경제 성장 기반 조성, 남동 임해 공업 지역 개발이 이루어진 제1차 국토 종합 개발 계획(1972~1981년), ㉡은 경쟁력 있는 통합 국토, 지속 가능한 친환경 국토 등을 목표로 한 제4차 국토 종합 계획(2000~2020년)이다. 따라서 ㉠이 ㉡보다 시행 시기가 이른다.

**정답 ③**

**[오답피하기]** ① 2004년에 경부 고속 철도(KTX) 1차 구간이 개통되었는데, 이 시기는 제4차 국토 종합 계획 시행 시기에 해당한다.

② 우리나라에서 개발 제한 구역은 1971년에 처음 도입되었다.

④ 인구의 수도권 집중 현상이 지속되면서 수도권 인구 집중률은 계속해서 상승하였다. 따라서 수도권 인구 집중률은 ㉠ 시행 시기보다 ㉡ 시행 시기에 높다.

⑤ 제1차 국토 종합 개발 계획은 성장 거점 개발 방식을, 제4차 국토 종합 계획은 균형 개발 방식을 추구한다.

3. 충청권 특징 이해

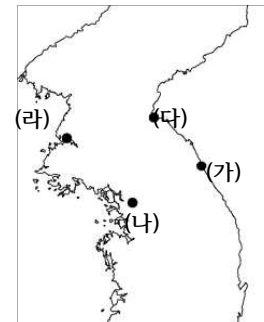
**정답 해설** : ① A는 아산, B는 진천, C는 음성이다. 진천·음성의 경계부에는 혁신 도시가 조성되었다. D는 제천, E는 시멘트 공업이 발달한 단양이다. 아산시는 충남에서 제조업 생산액이 가장 많은 도시(2019년 기준)로 전자 부품·컴퓨터·영상·음향 및 통신



⑤ 돌리네에는 물이 빠지는 구멍이 있어서, 제주도의 기생 화산 역시 기반암의 특징으로 물 빠짐이 좋아 빗물이 지하로 잘 스며들기 때문에(투수성이 높아서) 지표수가 잘 형성되지 않는다.

### 7. 여름·겨울별 기온의 지역 차이 파악

**정답 해설 :** 우리나라에서 기온의 지역 차이는 여름보다 겨울에 뚜렷하다. 따라서 A, B 중에서 기온의 지역 차이가 큰 A는 겨울, 작은 B는 여름이다. 여름과 겨울의 기온 차이는 저위도보다는 고위도, 동해안보다는 서해안에서 크다. 상대적으로 (가)는 겨울 평균 기온이 가장 높으므로 동해안의 저위도에 위치한 곳(속초), (나)는 여름 평균 기온이 가장 높으므로 저위도의 서해안과 가까운 곳(서울), (라)는 겨울 평균 기온이 가장 낮으므로 서해안의 고위도에 위치한 곳(남포)이다. 따라서 (다)는 동해안의 고위도에 위치한 곳(원산)이다.



< (가)~(라) 지점의 위치 >

- ㄱ. (가)~(라) 중에서 가장 동쪽에 위치하는 곳은 (가)이다.
- ㄴ. 대동강 하류에 위치하는 (라)는 지형적 장애가 적어 연 강수량이 적고, (가)와 (나)는 연 강수량이 비슷하므로 (나)와 (라) 간의 연 강수량 차이는 (가)와 (나) 간의 연 강수량 차이보다 크다.
- ㄷ. 그래프에서 겨울에 해당하는 A 평균 기온 차이는 (다)와 (라) 간은 2°C 이상, (가)와 (나) 간은 2°C 미만이다.

**정답 ④**

**[오답피하기]** ㄹ. 기온의 연교차는 (라)>(나)>(다)>(가) 순으로 크다.

### 8. 해안 지형의 특징 이해

**정답 해설 :** A는 육지와 사주로 연결되었으므로 육계도, B는 해안가의 모래사장이므로 사빈, C는 갯벌, D는 석호, E는 사빈, F는 섬이다.

② 파랑과 연안류의 퇴적 작용으로 형성된 사빈은 조류의 퇴적 작용으로 형성된 갯벌보다 퇴적 물질의 평균 입자 크기가 크다.

**정답 ②**

**[오답피하기]** ① 석호는 후빙기 해수면 상승으로 낮은 곳이 침수되어 형성된 만이 사주의 발달로 만의 입구가 막히면서 형성된 호수이므로, 후빙기 해수면 상승 이후에 형성되었다.

- ③ 사빈보다 갯벌의 오염 물질 정화 기능이 탁월하다.
- ④ 육계도는 사주의 발달로 육지와 연결된 섬이다. A는 사진상으로 보아 육지와 연결된 것으로 보이지만 F는 육지와 연결되지 않았으므로 육계도가 아니다.
- ⑤ 갯벌은 조류의 퇴적 작용으로 규모가 확대되고 석호는 하천의 운반 물질이 퇴적되면서 규모가 작아진다. 파랑의 작용에 따른 규모 변화는 파랑의 영향으로 형성되는 지형인 사빈이나 사주 등에서 이루어진다.

### 9. 수도권과 강원권 주요 지역의 특징 이해

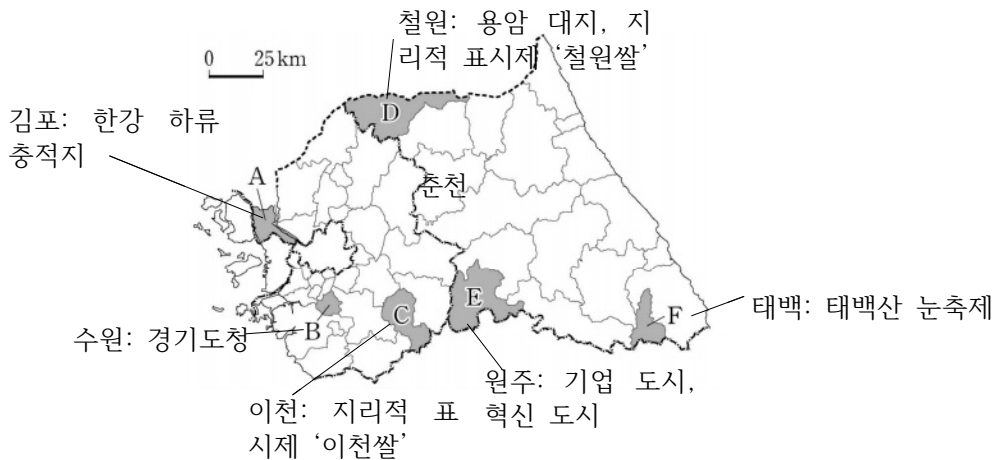
**정답 해설 :** ⑤ 지도에서 A는 김포, B는 수원, C는 이천, D는 철원, E는 원주, F는 태백이다. ‘철원쌀’, ‘이천쌀’은 지리적 표시제에 등록된 쌀이다. **정답 ⑤**

**[오답피하기]** ① 지도의 지역 중에서 용암 대지는 철원(D)에만 분포한다. 김포(A)는 한강 하류에 위치하며 하천 범람으로 형성된 충적지가 분포한다.

② 지도의 지역 중에서 기업 도시는 원주(E)에만 조성되어 있다.

③ 경기도의 도청은 수원(B)에 위치하지만, 강원도의 도청은 원주(E)가 아니라 춘천에 위치한다.

④ 지도의 지역 중에서 겨울철에 눈을 주제로 한 축제가 개최되는 곳은 태백(F)이다.



### 10. 지리 정보 수집 방법 이해

**정답 해설 :** (가)는 원격 탐사에 의한 지리 정보 수집 방법, (나)는 현지(야외) 조사를 통한 지리 정보 수집 방법을 나타내고 있다.

③ 을. 만족도 조사는 현지(야외) 조사를 통해 수집할 수 있다. 병. 경기도의 토지 이용과 같이 넓은 지역의 정보를 주기적으로 수집하기 위해서는 원격 탐사 방법을 활용하는 것이 적절하다. **정답 ③**

**[오답피하기]** 갑. 청장년층의 취업률은 원격 탐사를 통해 파악할 수 없다. 이는 통계 자료를 활용하는 것이 적절하다.

정. 북한 전역 인공조명의 빛 에너지를 실시간으로 측정하는 방법으로는 현지(야외) 조사보다는 인공위성을 이용한 원격 탐사가 적절하다.

### 11. 인구 규모에 따른 수도권 도시 순위 변화 해석

**정답 해설 :** ① ㄱ. 수도권 1기 신도시는 성남(분당), 고양(일산), 군포(산본), 부천(중동), 안양(평촌) 등 5곳으로 2000년 4~7위의 도시(성남, 고양, 부천, 안양)가 모두 해당한다.

ㄴ. 그래프상에서 개략적으로 계산할 때, 인천은 약 250만 명에서 약 300만 명으로, 용인은 약 40만 명에서 100만 명 이상으로 증가하였으므로, 2000년 대비 2020년 인

구 증가율은 용인이 인천보다 높다.

정답 ①

[오답피하기] ㄷ. 2000년 대비 2020년에 새롭게 10위 안에 진입한 도시는 화성과 남양주인데 남양주는 서울과 행정 구역이 접해 있지만, 경기도 남서부에 위치하는 화성은 접해 있지 않다.

ㄹ. 수도권의 인구는 2000년보다 2020년이 더 많은데, 서울은 이 기간에 인구가 감소하였으므로 수도권 내 서울의 인구 집중률은 2020년보다 2000년에 높다.

## 12. 화성, 청주, 광양, 울산의 제조업 특징 이해

정답 해설 : 지도의 네 지역은 경기의 화성, 충북의 청주, 전남의 광양, 울산이다. 제조업 종사자 수 변화는 각 지역의 산업 발달 시기와 밀접한 관련이 있으므로 제조업 종사자 수 변화 경향을 토대로 해당하는 지역을 파악할 수 있다.

② (가)는 2000년 이후에 빠르게 증가한 지역이므로 경기 서남부에 위치한 화성이다. 화성은 전자 부품·컴퓨터·영상·음향 및 통신 장비 제조업과 자동차 및 트레일러 제조업이 발달하였으므로 A가 해당한다.

(나)는 1990년대에 정체 상태였다가 2000년대에 완만하게 성장하고 있으므로 청주이다. 청주는 전자 부품·컴퓨터·영상·음향 및 통신 장비 제조업과 전기 장비 제조업이 발달하였으므로 C가 해당한다.

(다)는 1980년대에 대규모 제철소가 입지하면서 성장한 광양이다. 광양은 1차 금속 제조업의 출하액이 제조업 출하액의 대부분을 차지하므로 D가 해당한다.

(라)는 한적한 어촌에서 자동차, 석유 등 다양한 공업이 발달하면서 성장한 울산이다. 울산은 코크스, 연탄 및 석유 정제품, 자동차 및 트레일러 제조업 등이 발달하였으므로 B가 해당한다. 따라서 (가)는 A, (나)는 C, (다)는 D, (라)는 B이다. 정답 ②

## 13. 영남권의 주요 지역 특징 이해

정답 해설 : 지도의 A는 문경, B는 김천, C는 경주, D는 진주, E는 창원이다. ② 이들 지역 중에서 1일 차 답사 지역은 혁신 도시이면서 남강 유등 축제가 개최되는 진주(D)이다. 2일 차 답사 지역에 해당하는 곳은 경주(C)이며, 3일 차 답사 지역에 해당하는 곳은 문경(A)이다. 정답 ②

[오답피하기] A~E 중에서 혁신 도시에는 진주 이외에 김천(A)도 해당한다.

## 14. 도(道)별 논·밭 비율 및 겸업농가 비율 특징 이해

정답 해설 : 지도에 제시된 지역은 경기, 강원, 경북, 전남, 제주이다. 이들 지역 중에서 밭 비율은 제주>강원>경북 등의 순으로 높고 겸업농가 비율은 제주>강원>경기>전남>경북 순으로 높다. 따라서 (가)는 제주, (나)는 강원, (다)는 경기, (라)는 전남, (마)는 경북이다.

⑤ 사과 재배가 활발한 경북은 벼농사가 활발한 전남보다 과실 생산량이 많다.

정답 ⑤

[오답피하기] ① 제주는 강원보다 겸업농가 비율은 조금 높지만, 농가는 강원이 월등하게 많으므로, 겸업농가는 강원(37,242가구)이 제주(17,871가구)보다 많다(2019년 통계청 기준).

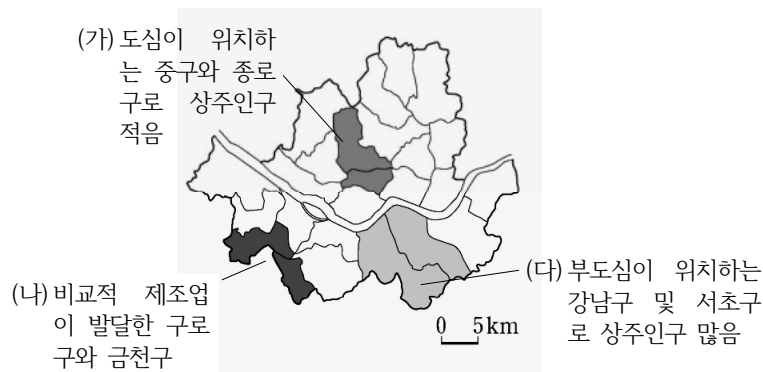
② 2019년 농가 인구는 제주가 경북보다 적다.

③ 산지가 많은 강원은 평야가 넓은 전남보다 경지율이 낮다.

④ 고랭지 채소 재배가 활발한 강원보다 서울과 인접하여 시설 재배가 활발한 경기의 경지 면적 중 노지 채소 재배 면적 비율이 낮다.

### 15. 서울 도시 내부 구조 이해

정답 해설 : ② 그래프의 (가)~(다)에 해당하는 지역은 지도와 같다.



(가)는 도심이 위치할 뿐만 아니라 창경궁 등 유적지와 산지가 차지하는 면적이 넓어 상주인구가 가장 적고 통근·통학 순유입 인구는 많다. (나)는 주변 지역에 위치하여 주거 기능이 발달하였지만, 제조업도 발달하여 통근·통합 순유입 인구가 양의 값을 갖는다. (다)는 부도심이 위치하는 강남구를 포함하는 지역으로 상주인구와 통근·통학 순유입 인구가 가장 많다. (가)는 도심이 위치하므로, 부도심이 위치하기는 하지만 주거지 면적이 넓게 분포하는 (다)보다 용도 지역 중 상업 지역의 비율이 높다.

정답 ②

[오답피하기] ① (가)는 도심이 위치하므로 상업 및 업무 기능이 발달한 곳이고, (나)는 서울에서 상대적으로 제조업이 발달한 곳이므로 (가)보다 제조업 종사자 수가 많다.

③ 생산자 서비스업은 대도시 도심에 집중하는 경향이 있으므로 (나)보다는 도심이 위치하는 (가)의 생산자 서비스업 사업체 수가 많다.

④ 금융 기관 수는 (나)보다 부도심이 위치하는 (다)에 더 많다.

⑤ 주간 인구 지수는 상주인구에 대한 주간 인구의 비율이므로, (다)보다 상주인구 대비 비해 통근·통학 순유입 인구가 많은 (가)에서 높게 나타난다.

### 16. 하천 상·하류의 지형 특징 이해

정답 해설 : (가), (나) 하천이 동일한 하계망에 속하므로, 상대적으로 산지를 흐르는 (가)는 상류, 평야를 흐르는 (나)는 하류에 위치한다. A는 감입 곡류 하천의 퇴적 사

면, B는 하안 단구, C는 자연 제방, D는 배후 습지이다.

㉔ ㄱ. (가)의 하천이 (나)의 하천보다 상류에 위치하므로, 하상의 평균 해발 고도는 (나)보다 (가)가 높다.

ㄷ. 범람원에서 퇴적물의 평균 입자 크기는 배후 습지의 퇴적물보다 자연 제방의 퇴적물이 크다.

ㄹ. 홍수 시 범람에 의한 침수 가능성은 하안 단구인 B보다 배후 습지인 D가 높다. 이는 각 지점과 하천 사이에 위치한 등고선의 분포를 통해서도 추론할 수 있는데, D와 하천 사이에는 등고선이 없음에 비해 B와 하천 사이에는 1개 이상의 등고선이 있으므로, B는 D보다 하천과의 해발 고도 차이도 커 침수 가능성이 낮다.      **정답 ㉔**

**[오답피하기]** ㄴ. A의 퇴적물은 현재 하천의 퇴적 사면에 위치하므로 최종 빙기 때 퇴적된 것이 아니다.

### 17. 권역별 1차 에너지원의 공급 특징 이해

**정답 해설 :** (가)는 석탄 화력 발전량이 많은 충청권에서 공급 비율이 높고, 수도권에서 낮으므로 석탄, (나)는 모든 지역에서 공급 비율이 비교적 고르게 높으므로 석유, (다)는 수도권에서 특히 높게 나타나므로 천연가스, (라)는 원자력 발전소가 위치한 호남권과 영남권에서만 공급되므로 원자력이다.

㉓ 우리나라의 총발전량에서 차지하는 비율은 2019년 기준 석탄(40.4%), 원자력(25.9%), 천연가스(25.6%), 석유(0.6%)이다.      **정답 ㉓**

**[오답피하기]** ㉑ 석탄은 강원 및 전남에서 생산되므로 전량 해외에서 수입하는 것이 아니다.

㉒ 상용화된 시기는 천연가스보다 석탄이 이른다.

㉔ 우리나라 1차 에너지 소비량에서 차지하는 비율은 원자력보다 석탄이 높다.

㉕ 석유는 화력 발전의 연료로 이용되지만, 원자력은 화력 발전의 연료가 아니다.

### 18. 조력, 태양광, 풍력 특징 이해

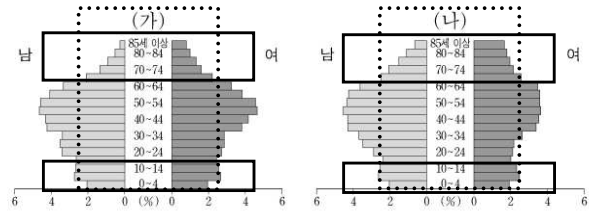
**정답 해설 :** ㉑ (가)는 태양광 발전, (나)는 풍력 발전, (다)는 조력 발전의 특징에 해당한다. 그래프에서 A는 발전량이 빠르게 증가하였고 (가)~(다) 중에서 발전량이 가장 많으므로 태양광, B는 발전량이 완만하게 증가하므로 풍력, C는 시화호 조력 발전소 한 곳에서만 발전이 이루어지고 있는 조력이다. 따라서 (가)에는 A, (나)에는 B, (다)에는 C가 해당한다.      **정답 ㉑**

### 19. 촌락과 도시의 인구 구조 특징 이해

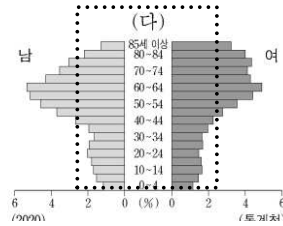
**정답 해설 :** (가)~(다) 중에서 (다)는 유소년층 인구 비율이 가장 낮고 노년층 인구 비율이 가장 높으므로 인구 유출이 활발한 촌락 지역이다. 이에겐 전북 북동부에 위치한 지역(진안, 무주)이 해당한다. (가)와 (나)는 청장년층의 인구 비율이 높으므로 인구 유입이 활발한 도시의 인구 구조이다. 그런데 (나)는 (가)에 비해 청장년층에서 남초



현상이 뚜렷하게 나타나므로 여성보다 남성 취업자 비율이 높은 제조업종이 입지한, 즉 1차 금속 공업과 같이 중화학 공업이 발달한 충남 북서부 지역(서산, 당진)의 인구 구조이다. 따라서 (가)는 부산 근교에 위치한 지역(김해, 양산)의 인구 구조이다.



④ 성비는 여성 100명에 대한 남성의 수이므로 (다)보다는 (나)의 성비가 높다. **정답 ④**



- [오답피하기] ① 중위 연령은 인구를 나이 순서로 나열할 때 가운데 위치한 사람의 나이이다. 따라서 노년층 인구 비율이 가장 높은 (다)의 중위 연령이 가장 높다.  
 ② 총인구는 부산의 근교 지역에 위치한 (가)가 가장 많다.  
 ③ 총부양비는 청장년층(15~64세 인구)의 인구 비율과 반비례하므로 (가)보다 (나)가 높다.  
 ⑤ 촌락은 제조업 발달이 미약하므로 (다)보다 (가)의 2차 산업 종사자 비율이 높다.

## 20. 1월과 7월의 풍향 특징 이해

**정답 해설 :** (가)는 남풍 계열의 풍향이 우세하므로 7월, (나)는 북풍 계열의 바람이 우세하므로 1월이다.

- ⑤ **ㄷ.** 북반구에 위치한 우리나라는 7월이 1월보다 낮의 길이가 길다.  
**ㄹ.** 시베리아 기단은 주로 겨울철에 영향을 미치므로, 1월은 7월보다 시베리아 기단의 영향을 많이 받는다. **정답 ⑤**

### [오답피하기]

- ㄱ.** 관북 지방의 전통 가옥에 나타나는 정주간은 추위에 대비한 시설이므로, 기온이 낮은 겨울(1월)의 기후 특성에 대비한 것이다.  
**ㄴ.** 남부 지방의 전통 가옥에 나타나는 대청마루는 여름의 더위에 대비한 시설이므로, 기온이 높은 여름(7월)의 기후 특성에 대비한 것이다.



2022학년도 대학수학능력시험  
사회탐구영역 경제 정답 및 해설

01. ① 02. ② 03. ④ 04. ③ 05. ② 06. ② 07. ② 08. ⑤ 09. ⑤ 10. ②  
11. ④ 12. ③ 13. ① 14. ③ 15. ④ 16. ④ 17. ③ 18. ⑤ 19. ③ 20. ①

### 1. 경제 체제의 이해

**정답 해설** : A는 계획 경제 체제, B는 시장 경제 체제이다. ① 계획 경제 체제에서는 정부의 결정과 통제에 의한 경제 문제 해결을 강조한다. **정답 ①**

#### [오답피하기]

- ② 시장 경제 체제에서는 원칙적으로 생산 수단의 사적 소유가 인정된다.
- ③ ‘보이지 않는 손’에 의한 경제 문제 해결을 강조하는 경제 체제는 시장 경제 체제이다.
- ④ 계획 경제 체제에서는 시장 경제 체제에 비해 경제 문제 해결 과정에서 형평성을 중시한다.
- ⑤ 계획 경제 체제와 시장 경제 체제에서는 모두 자원의 희소성으로 인한 경제 문제가 발생한다.

### 2. 민간 경제 순환의 이해

**정답 해설** : A는 가계, B는 기업이다. ② 기업은 생산 요소 시장의 수요자, 가계는 생산 요소 시장의 공급자이다. **정답 ②**

#### [오답피하기]

- ① 가계는 생산물 시장의 수요자, 기업은 생산물 시장의 공급자이다.
- ③ 가계는 효용 극대화, 기업은 이윤 극대화를 추구한다.
- ④ 가계와 기업 모두 정부에 조세를 납부한다.
- ⑤ 임금, 지대, 이자는 생산 요소에 대한 대가로 ㉠에 해당하지 않는다.

### 3. 시장 실패의 사례 파악

**정답 해설** : ④ 제시된 사례는 경합성과 비배제성을 지닌 공유 자원인 공해상의 어족 자원의 남획되어 고갈되는 문제, 즉 공유지의 비극을 보여주고 있다. **정답 ④**

#### [오답피하기]

- ① 역선택은 상대적으로 거래에 필요한 정보가 부족한 당사자가 바람직하지 않은 상대방과 거래하거나 자신에게 불리한 선택을 하는 현상을 의미한다.
- ② 외부 경제는 다른 경제 주체에게 의도하지 않은 이익을 주고도 대가를 받지 않는 현상을 의미한다.
- ③ 도덕적 해이는 상대적으로 거래에 필요한 정보가 많은 당사자가 자신의 이익만을 위해 행동하여 사회적으로 바람직하지 않은 결과가 나타나는 현상을 의미한다.
- ⑤ 독과점의 폐해는 경쟁이 제한된 상태에서 나타나는 시장 지배력의 남용, 부당한 공동 행위, 불공정 거래 행위 등을 의미한다.

#### 4. 외부 효과의 이해

**정답 해설** : X재 시장은 사회적 비용을 반영한 경우보다 사적 비용만 반영한 경우의 균형 가격이 낮고 균형 거래량이 많다. 즉, X재 시장에서는 생산 측면의 외부 불경제가 발생하고 있다. 나. 생산 측면의 외부 불경제가 발생하면 사회적 최적 수준보다 많이 생산된다. X재 시장에서는 사회적 최적 수준보다 50개 많은 양이 생산되고 있다.

다. 생산 측면의 외부 불경제는 사적 비용보다 사회적 비용이 클 때 발생한다.

**정답 ③**

#### [오답피하기]

ㄱ. 생산 측면의 외부 경제가 발생하면 사회적 비용을 반영한 경우보다 사적 비용만 반영한 경우의 균형 가격이 높고 균형 거래량이 적다.

ㄴ. 생산자에게 생산에 대한 보조금을 지급하여 개선할 수 있는 외부 효과는 생산 측면의 외부 경제이다.

#### 5. 환율의 이해

**정답 해설** : 유로화를 사용하는 국가로의 여행 경비 부담은 감소하였으므로 원/유로 환율은 하락하였고, 미국과 중국 여행 경비 부담은 증가하였으므로 원/달러 환율과 원/위안 환율은 상승하였다. ② 원/위안 환율이 상승하였다는 것은 위안화 대비 원화의 가치가 하락하였음을 의미한다.

**정답 ②**

#### [오답피하기]

① 원/유로 환율은 하락하였다.

③ 원/달러 환율 상승은 우리나라 기업의 달러화 표시 외채 상환 부담을 증가시키는 요인이다.

④ 원/달러 환율 상승은 미국에서 유학 중인 자녀를 둔 우리나라 학부모의 학비 부담을 증가시키는 요인이다.

⑤ 원/위안 환율 상승은 중국산 원자재를 수입하여 위안화로 결제하는 우리나라 기업의 비용 부담을 증가시키는 요인이다.

#### 6. 시장 균형점 변화 방향 파악

**정답 해설** : (가)의 요인은 공급 감소, (나)의 요인은 수요 증가, (다)의 요인은 공급 증가이다. ② X재와 서로 보완 관계에 있는 재화의 가격 하락은 X재의 수요 증가 요인이다.

**정답 ②**

#### [오답피하기]

① X재와 서로 대체 관계에 있는 재화의 가격 상승은 X재의 수요 증가 요인이다.

③ X재 소비자 선호도의 증가는 X재의 수요 증가 요인이다.

④ X재 수요자 수의 변화는 X재의 수요 변동 요인이다.

⑤ (가), (다)는 공급 변동, (나)는 수요 변동으로 인해 나타난다.

### 7. 경제 안정화 정책의 이해

정답 해설 : ② 가계의 처분 가능 소득 증가는 소비를 증가시키는 요인, 즉 총수요를 증가시키는 요인이다. 정답 ②

#### [오답피하기]

- ① 가계 소비의 급격한 감소는 물가를 하락시키는 요인이다.
- ③ 통화량 증가는 총수요를 증가시키는 요인으로, 경기 과열의 정도를 완화시키는 요인에 해당하지 않는다.
- ④ 지급 준비율 인하는 통화량 증가, 이자율 하락을 목적으로 실시되는 확대 통화 정책의 수단해 해당한다.
- ⑤ 가계의 처분 가능 소득 증가, 통화량 증가는 모두 총수요를 증가시키는 요인, 즉 실질 GDP를 증가시키는 요인이다.

### 8. 명목 GDP와 실질 GDP의 이해

정답 해설 : t년~t+3년의 경제 성장률, 실질 GDP를 계산하면 표와 같다.

구분	t년	t+1년	t+2년	t+3년
경제 성장률(%)	0	2	0	-2
실질 GDP(억 달러)	100	102	102	99.96

⑤ t+1년은 전년 대비 명목 GDP 증가율이 실질 GDP 증가율보다 크고, t+2년은 전년에 비해 명목 GDP는 증가하였는데 실질 GDP는 변동이 없으며, t+3년은 전년에 비해 명목 GDP는 증가하였는데 실질 GDP는 감소하였다. 이를 통해 t년 이후 GDP 디플레이터가 지속적으로 증가, 즉 물가가 지속적으로 상승하였음을 알 수 있다. 정답 ⑤

#### [오답피하기]

- ① t+1년 실질 GDP는 전년에 비해 증가하였으므로 스태그플레이션이 발생하지 않았다.
- ② t+2년 명목 GDP가 실질 GDP보다 크다.
- ③ t+3년 경제 성장률(-2%)은 t년(0%)에 비해 낮다.
- ④ 전년에 비해 실질 GDP가 감소한 연도는 t+3년뿐이다.

### 9. 경상 수지의 이해

정답 해설 : 'A의 수취액 : B의 수취액 : C의 수취액'은 '1 : 4 : 3'이고, A~C의 수취액의 합은 80억 달러이므로 A의 수취액은 10억 달러, B의 수취액은 40억 달러, C의 수취액은 30억 달러이다. 그리고 경상 수지 각 항목의 수취액 대비 지급액의 비는 0.5(10/20)이므로 A의 지급액은 5억 달러, B의 지급액은 20억 달러, C의 지급액은 15억 달러이고, 흑자액이 20억 달러로 가장 큰 B가 상품 수지, 흑자액이 5억 달러로 가장 작은 A가 본원 소득 수지, 흑자액이 15억 달러인 C가 서비스 수지이다. ⑤ 해외 지식 재산권 사용료를 포함하는 항목은 서비스 수지이다. 서비스 수지의 흑자액은 15억 달러이다. 정답 ⑤

**[오답피하기]**

- ① ㉠은 50이다.
- ② A는 본원 소득 수지이다.
- ③ B의 수취액은 40억 달러이다.
- ④ 서비스 수지는 외국과의 서비스 거래로 수취한 외화와 지급한 외화가 포함된다. 외국인 노동자가 자국으로 송금한 임금은 서비스 수지에 포함되지 않는다.

**10. 비교 우위의 이해**

**정답 해설 :** ㄱ. 갑국의 X재 1개 생산의 기회비용은 Y재 3/4개이다.

ㄴ. 을국의 X재 1개 생산의 기회비용은 Y재 1/2개이므로, 을국의 X재 최대 생산 가능량이 120개라면, Y재 최대 생산 가능량은 Y재 60개이다. 따라서 Y재 1개 생산에 필요한 을국의 노동 시간은 6시간(360시간/60개)이다. **정답 ②**

**[오답피하기]**

ㄴ. X재 1개 생산의 기회비용은 을국이 갑국보다 작고, Y재 1개 생산의 기회비용은 갑국이 을국보다 작다. 따라서 갑국의 비교 우위 재화는 Y재이다. 즉 갑국은 Y재를 90개 생산하여 이 중 30개를 수출하고 X재를 50개 수입하였다.

ㄷ. X재 1개와 교환되는 Y재의 양이 1/2개보다 많아야 을국이 이익을 얻고, 3/4개보다 작아야 갑국이 이익을 얻는다. 따라서 X재 1개와 Y재 1개를 교환할 경우 을국은 이익을 얻지만 갑국은 손해를 보기 때문에 갑국은 교역에 참여하지 않았을 것이다.

**11. 합리적 선택의 이해**

**정답 해설 :** 직접 방문 수강과 온라인 수강을 선택한 경우의 명시적 비용, 암묵적 비용, 기회비용, 순편익을 계산하면 표와 같다.

(단위: 만 원)

구분	명시적 비용	암묵적 비용	기회비용	순편익
직접 방문 수강	25	36-(가)	61-(가)	(가)-23
온라인 수강	(가)	13	(가)+13	23-(가)

ㄴ, ㄷ. (가)가 23보다 크면 직접 방문 수강의 순편익이 0보다 크기 때문에 직접 방문 수강을 선택하고, (가)가 23보다 작으면 온라인 수강의 순편익이 0보다 크기 때문에 온라인 수강을 선택한다. 그리고 직접 방문 수강을 선택한 경우 (가)가 23보다 크므로 명시적 비용이 암묵적 비용보다 크다. **정답 ④**

**[오답피하기]**

ㄱ. 직접 방문 수강을 선택한 경우 기회비용은 편익인 38만 원보다 작다.

ㄴ. 온라인 수강을 선택한 경우 (가)가 23보다 작기 때문에 명시적 비용에서 암묵적 비용을 뺀 값은 10만 원보다 작다.

## 12. 국민 균형점 변동 방향 파악

정답 해설 : ③ 총수요와 총공급이 모두 증가할 때 (다)로 이동한다. 민간 투자 증가는 총수요 증가 요인, 수입 원자재 가격 하락은 총공급 증가 요인이다. 정답 ③

### [오답피하기]

- ① 총공급이 감소할 때 (가)로 이동한다. 민간 소비 감소는 총수요 감소 요인이다.
- ② 총수요가 증가할 때 (나)로 이동한다. 생산 기술 향상은 총공급 증가 요인이다.
- ④ 총수요는 감소하고 총공급은 증가할 때 (라)로 이동한다. 정부 지출 증가는 총수요 증가 요인, 노동 생산성 상승은 총공급 증가 요인이다.
- ⑤ 총수요와 총공급이 모두 감소할 때 (마)로 이동한다. 소득세 인하는 총수요 증가 요인, 노동 인구 감소는 총공급 감소 요인이다.

## 13. 주식과 채권의 이해

정답 해설 : A는 채권, B는 주식이다. ① 채권은 이자 수익을 기대할 수 있다.

정답 ①

### [오답피하기]

- ② 주식은 만기가 없으며 원금이 보장되지도 않는다.
- ③ 채권과 주식 모두 시세 차익을 기대할 수 있다.
- ④ 채권은 채권자로서의 지위를 부여하고, 주식은 주주로서의 지위를 부여한다.
- ⑤ 채권은 발행 주체의 부채를 증가시키고, 주식은 발행 주체의 자본금을 증가시킨다.

## 14. 투자 이익과 손실 분석

정답 해설 : L. 갑이 을에게 갚아야 할 원리금은 2,200만 원(원금 2,000만 원, 이자 200만 원)이다. A의 가격이 30% 상승하고 B의 가격과 환율은 변화가 없다면, t시점에서 1년이 지난 시점에 갑이 A와 B를 모두 매도하고 이를 전액 원화로 환전한 금액은 2,300만 원이다. 따라서 100만 원의 이익이 발생한다.

ㄷ. A의 가격이 20% 상승하고 B의 가격이 5% 하락하였는데 환율은 변화가 없다면, t시점에서 1년이 지난 시점에 갑이 A와 B를 모두 매도하고 이를 전액 원화로 환전한 금액은 2,150만 원이다. 따라서 50만 원의 손실이 발생한다. 정답 ③

### [오답피하기]

- ㄱ. 갑이 을에게 갚아야 할 원리금은 2,200만 원이다.
- ㄴ. A와 B의 가격이 모두 10% 하락하고 환율은 30% 상승하면, t시점에서 1년이 지난 시점에 갑이 A와 B를 모두 매도하고 이를 전액 원화로 환전한 금액은 2,340만 원이다. 따라서 140만 원의 이익이 발생한다.

## 15. 시장 균형점 변동 및 총잉여의 이해

정답 해설 : L. 가격이 30원보다 높고 40원보다 낮으면 3명의 소비자(D3~D5)가 X재를 구입하고자 하고, 3명의 생산자(S1~S3)가 X재를 판매하고자 한다. 즉, 가격이 30

원보다 높고 40원보다 낮은 지점에서 균형이 형성된다. X재의 균형 가격을 P원이라고 가정하면, 소비자 잉여의 총합은  $(40-P)+(50-P)+(60-P)$ 원이고 생산자 잉여는  $(P-10)+(P-20)+(P-30)$ 원이므로 총잉여는 90원이다.

ㄹ. 현재의 균형 거래량은 3개이다. 생산자에게 1개당 10원의 판매세를 부과하면 모든 생산자의 최소 요구 금액은 10원씩 증가하고, 가격이 40원일 때 수요량과 공급량이 3개(D3~D5가 구입하고자 하고 S1~S3가 판매하고자 함)로 일치한다. 즉, 균형 거래량은 3개로 변함이 없다. **정답 ④**

**[오답피하기]**

ㄱ. 가격이 20원이면 수요량은 5개(D1~D5가 구입하고자 함), 공급량은 2개(S1, S2가 판매하고자 함)로 수요량이 공급량보다 3개 많다.

ㄷ. 소비자에게 1개당 10원의 보조금을 지급하면 모든 소비자의 최대 지불 용의 금액이 10원씩 증가하고, 가격이 40원일 때 수요량과 공급량이 4개(D2~D5가 구입하고자 하고 S1~S4가 판매하고자 함)로 일치한다. 즉, 균형 가격은 상승한다.

**16. 기업의 경제 활동 분석**

**정답 해설 :** 생산자 A와 B의 X재 생산량에 따른 총수입, 이윤을 계산하면 표와 같다.

X재 생산량(개)		1	2	3	4	5	6
A	총수입(원)	50	100	150	200	250	300
	이윤(원)	30	50	60	50	30	0
B	총수입(원)	50	100	150	200	250	300
	이윤(원)	20	35	45	50	40	0

ㄴ. A가 얻을 수 있는 가장 큰 이윤은 생산량이 3개일 때의 이윤인 60원이다.

ㄷ. 이윤이 극대화되는 생산량은 A가 3개, B가 4개로 B가 A보다 크다. **정답 ④**

**[오답피하기]**

ㄱ. A의 평균 비용은 생산량이 많을수록 크다.

ㄷ. B가 생산량을 1개씩 증가시킬 때마다 추가적으로 발생하는 비용은 지속적으로 증가한다.

**17. 고용 관련 지표 분석**

**정답 해설 :** 2018년 실업률은 15%이고 실업자 수는 12만 명이므로 경제 활동 인구는 80만 명이다. 이를 바탕으로 연도별 취업자 수, 실업자 수, 비경제 활동 인구를 계산하면 표와 같다.

구분	2018년	2019년	2020년
취업자 수(만 명)	68	72	68
실업자 수(만 명)	12	8	12
비경제 활동 인구(만 명)	5	20	20

③ 2019년 고용률은  $72\{=(72/100)\times 100\}$ %이다.

정답 ③

[오답피하기]

① ㉠은 8이다.

② 2018년 취업자 수는 68만 명이다.

④ 2020년 비경제 활동 인구는 전년과 동일한 20만 명이다.

⑤ 2019년 취업자 수는 전년에 비해 4만 명 증가하였지만, 2020년 취업자 수는 전년에 비해 4만 명 감소하였다.

### 18. GDP의 이해

정답 해설 : 2020년에 갑국은 X재를 240억 개 생산하여 이 중 140억 개를 을국에 수출하였고, 을국은 Y재를 240억 개 생산하여 이 중 120억 개(X재 생산의 중간재 40억 개, 최종재 80억 개)를 갑국에 수출하였다. ⑤ 2020년 을국의 수출액은 120억 달러, 수입액은 140억 달러이다. 즉, 2020년 을국 순수출은 -20억 달러이다. 정답 ⑤

[오답피하기]

① ㉠은 240이다.

② ㉡은 140이다.

③ 2020년 갑국이 수입한 Y재는 120억 개다.

④ 2020년 을국에서 생산된 Y재 40억 개가 X재 생산의 중간재로 사용되었기 때문에 갑국의 명목 GDP는  $200(=240-40)$ 억 달러이다.

### 19. 관세 부과 및 생산 보조금 지급의 영향 분석

정답 해설 : X재 1개당 관세가 30달러가 부과되거나 국내 생산자에게 X재 1개당 보조금이 60달러가 지급되면 갑국의 X재 수입량이 20개가 된다. ③ X재 1개당 관세가 30달러 부과되면 국내 생산량은 50개가 된다. 정답 ③

[오답피하기]

① T는 30달러이다.

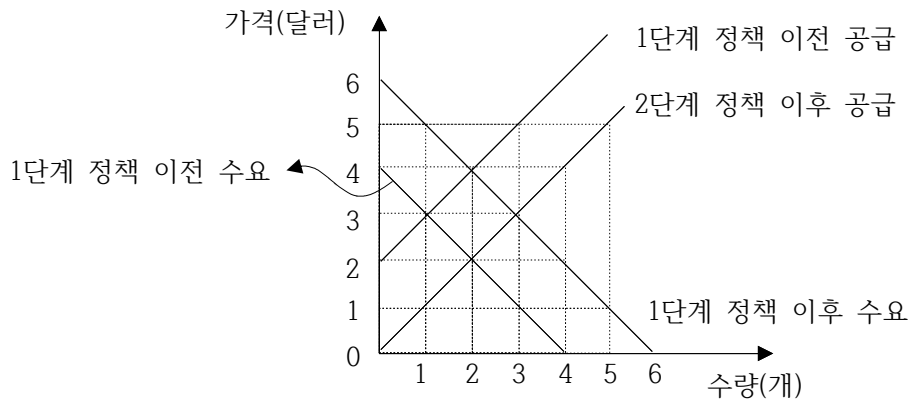
② S는 60달러이다.

④ (가)의 경우 관세 수입은  $600(=30\text{달러}\times 20\text{개})$ 이다.

⑤ (나)의 경우 국내 생산량은 80개이므로 정부가 지출하는 보조금 총액은  $4,800(=60\text{달러}\times 80\text{개})$ 이다.

### 20. 소비 및 생산 보조금 지급의 영향 분석

정답 해설 : 1단계 정책의 결과 4달러일 때 초과 수요량이 0개, 즉 수요량과 공급량이 같으므로 균형 가격은 4달러이다. 2단계 정책의 결과 3달러일 때 초과 수요량이 0개, 즉 수요량과 공급량이 같으므로 균형 가격은 3달러이다. 1단계 정책의 결과 균형 거래량은 2개이고 생산자 잉여는 2달러라는 조건을 활용해 1단계 정책 이전, 1단계 정책의 결과, 2단계 정책의 결과를 나타내면 그림과 같다.



① X재 생산자에게 1개당 2달러의 보조금을 지급하면 정책 시행 전 공급 곡선이 2단계 정책 이후 공급 곡선으로 이동한다. 따라서 (가)는 2달러이다. 정답 ①

**[오답피하기]**

- ② 1단계 정책 이전 균형 가격은 3달러이다.
- ③ 1단계 정책 이전 생산자 잉여는 0.5달러이다.
- ④ 2단계 정책의 결과 균형 거래량은 3개이다.
- ⑤ 1단계 정책의 결과 정부가 지급한 보조금은 4달러(=2달러×2개), 2단계 정책의 결과 정부가 지급한 보조금은 6달러(=2달러×3개)로 보조금의 합은 10달러이다.



01. ② 02. ④ 03. ① 04. ⑤ 05. ⑤ 06. ③ 07. ④ 08. ④ 09. ③ 10. ③  
 11. ⑤ 12. ⑤ 13. ④ 14. ⑤ 15. ① 16. ② 17. ③ 18. ③ 19. ② 20. ④

### 1. 중국 황허강 유역의 청동기 문화 파악

**정답 해설** : 중국 허난성 은허 지역에서 출토된 청동으로 만든 솔(정)이라는 내용을 통해 (가)에 들어갈 문화유산은 중국 황허강 유역에서 발달한 청동기 문화의 유물임을 알 수 있다. 상 왕조 시기에 제사용 도구로 사용되었을 것으로 추정되는 네 발 달린 솔이다. 정답 ②

#### [오답피하기]

- ① 일본 열도의 야요이 문화 유물인 종 모양 청동기(동탁)이다.
- ③ 만주와 한반도에서 주로 발견되는 비파형 동검이다.
- ④ 한반도를 중심으로 일본의 규슈, 만주의 랴오닝 등지에 분포한 고인돌이다.
- ⑤ 일본 열도의 신석기 문화인 조몬 문화를 대표하는 조몬 토기이다.

### 2. 북위 효문제의 정치 이해

**정답 해설** : 중원의 혼란을 진정시키고, 남조와 더불어 천하를 양분한 지 수십 년이 되었다는 내용을 통해 북위가 화북을 통일하고 남북조 시대가 전개되었다는 사실을 알 수 있다. 또한 풍속을 바꾸고 휘양으로 도성을 옮기는 것, 관제를 고치는 일 등이 추진된 사실을 통해 밑줄 친 '황제'가 북위의 효문제임을 알 수 있다. 효문제는 호북 착용과 조정에서 선비어 사용을 금지하고 한족과의 혼인을 장려하는 등 적극적인 한화 정책을 추진하여 호족(북방 민족)과 한족의 융합을 시도하였다. 정답 ④

#### [오답피하기]

- ① 고조선은 한 무제의 침입으로 기원전 108년에 멸망하였다.
- ② 일본 열도에서는 645년에 소가씨 세력이 타도된 후 당을 모방한 중앙 집권 체제를 표방한 다이카 개신이 단행되었다.
- ③ 흉노의 목욕 선우가 평성의 백등산에서 한 고조를 포위하였다.
- ⑤ 1세기경 왜의 노국왕이 후한 광무제에게 조공하고 한위노국왕이라는 글씨가 새겨진 금 도장(금인)을 받았다.

### 3. 일본의 통치 체제 파악

**정답 해설** : 장병의 명부 1통을 국(國)에 두고, 1통은 병부성에 보낸다는 내용, 채용할 사람이 없으면 식부성에 보고하라는 내용 등을 통해 일본의 율령임을 알 수 있다. 일본에서는 다이호 율령 반포 이후 중앙 관제로 2관 8성 체제를 운영하였고, 지방은 국·군·리를 두어 운영하였다.

정답 ①

**[오답피하기]**

- ② 부병제는 농민에게 군역의 의무를 부과한 병농 일치의 제도로 중국과 한국에서 실시되었다.
- ③ 관리 감찰 기구로 중정대를 두었던 국가는 발해이다.
- ④ 성균관은 고려 말부터 조선 시대에 걸쳐 중앙 교육 기관으로 존속하였다.
- ⑤ 독서삼품과는 국학의 학생들을 유교 경전의 이해 능력에 따라 등급을 나누어 관리 선발에 참고한 제도로, 신라에서 실시되었다.

**4. 정묘호란 직전의 동아시아 상황 이해**

**정답 해설 :** 이민성이 서장관의 직책으로 새 임금의 책봉을 요청하기 위해 조선의 수도인 한양을 출발하여 명의 수도인 베이징을 향해 출발하였고, 등주에서는 몇 달 전 폐위된 임금의 생존 여부를 물어보았다는 내용을 통해 새 임금은 인조이고, 폐위된 임금은 광해군임을 알 수 있다. 따라서 자료는 인조반정이 일어난 1623년의 사행 기록임을 알 수 있다. 누르하치는 여진 부족을 통합하여 1616년 후금을 건국하고 랴오둥 진출을 시도하며 명을 압박하였다. 이에 후금과 명의 군대가 변경에서 대치하는 상황이 전개되었다.

**정답 ⑤**

**[오답피하기]**

- ① 인조반정 이후 조선이 친명배금 정책을 펴는 상황에서 후금이 조선을 침략하는 정묘호란(1627)이 일어났다.
- ② 몽골 제국의 칭기즈 칸이 중앙아시아의 호라즘을 정복하기 위해 출정하였다.
- ③ 일본에서는 15세기 중엽에 일어난 오닌의 난 이후 센고쿠 시대가 전개되었다. 도요토미 히데요시는 센고쿠 시대를 통일하고 임진왜란을 일으켰다.
- ④ 대월의 쩌흥다오 군대와 전쟁을 벌인 군대는 몽골군으로 13세기의 사실이다.

**5. 류큐의 무역 이해**

**정답 해설 :** 책봉사가 나하의 천사관에서 머물고, 도자기와 생사 등을 일본이나 동남아시아에 되판다는 내용을 통해 밑줄 친 ‘우리 나라’는 류큐임을 알 수 있다. 나하는 류큐의 수도이다. 류큐는 명의 해금 정책으로 중국 상인의 활동이 위축되자 중계 무역을 통해 번영하였다. 그러나 16세기 후반 명의 해금 정책이 완화되고 포르투갈 상인이 진출하면서 류큐의 중계 무역이 쇠퇴하였다.

**정답 ⑤**

**[오답피하기]**

- ① 1609년에 체결된 기유약조는 매년 쓰시마에서 조선에 보내는 세견선(무역선)의 수를 제한하는 내용을 담고 있다.
- ② 신포는 일본이 청 상선의 입항을 통제하기 위해 18세기 전반부터 발행한 무역 허가증이다.
- ③ 갈레온 무역은 16세기 이후 에스파냐가 갈레온 선이라 불리는 배를 이용하여 필리

---

핀의 마닐라를 거점으로 전개한 무역이다. 에스파냐는 멕시코의 아카풀코에서 은을 가져와 필리핀에서 중국의 비단, 도자기 등과 교환하였다. 일본 에도 막부는 슈인장을 발급받은 상인에게만 대외 무역을 허용하였다. 그러나 크리스티교가 확산되자 해금 정책을 추진하고 사무역을 통제하였다.

## 6. 주희의 활동 이해

**정답 해설** : 남송 순희 연간에 『대학』, 『중용』을 비롯한 경전에 새로운 주석을 가하였고, 명에서는 그의 경전 해석과 학설이 관학으로 채택되었다는 등의 내용을 통해 (가) 인물이 주희임을 알 수 있다. 주희는 경전에 새로운 주석을 가한 『사서집주』를 편찬하여 당시 유행하던 유학 경향을 집대성하였다. 성리학을 집대성한 주희는 실천적 수양 방법으로 격물치지와 거경궁리를 강조하였다. **정답 ③**

### [오답피하기]

- ① 일본의 후지와라 세이카는 강항의 도움을 받아 『사서오경왜훈』을 저술하였다.
- ② 양명학을 집대성한 명의 왕수인(왕양명)은 성리학의 성즉리설을 비판하면서 심즉리와 지행합일을 주장하였다.
- ④ 하야시 라잔은 에도 막부의 각종 제도와 의례를 정비하는 데 공헌하였다.
- ⑤ 일본의 이토 진사이, 오규 소라이 등이 성리학 극복을 위해 공자·맹자 시대 유학으로의 복귀를 추구하였다.

## 7. 청일 전쟁의 영향 파악

**정답 해설** : 대청국의 신하인 이홍장 등이 왜인에게 수억 냥이나 되는 돈을 주고도 모자라 타이완 사람을 버렸다고 슬퍼하는 내용을 통해 밑줄 친 '전쟁'이 청일 전쟁임을 알 수 있다. 청일 전쟁에서 패배한 청은 일본에 막대한 배상금을 지불하고 랴오둥 반도와 타이완을 할양한다는 내용의 시모노세키 조약을 체결하였다. 청일 전쟁(1894~1895) 패배 이후 청에서는 Kangyuei와 량치차오 등을 중심으로 의회 설립과 입헌 군주제 도입 등을 추진하는 변법자강 운동이 전개되었다. **정답 ④**

### [오답피하기]

- ① 일본은 운요호 사건을 구실로 조선에 개항을 요구하였고, 결국 조선과 일본은 1876년 강화도 조약을 체결하였다.
- ② 제2차 아편 전쟁의 결과 텐진 조약과 베이징 조약이 체결되었다.
- ③ 개항 과정에서 막부에 대한 불만이 고조되는 가운데 하급 무사들을 중심으로 막부 타도 운동이 전개되어 에도 막부가 붕괴되고 메이지 정부가 수립되었다.
- ⑤ 제1차 아편 전쟁 결과 체결된 난징 조약으로 상하이 등 5개 항구가 개항되었다.

## 8. 18세기 중반 이후 동아시아의 상황 이해

**정답 해설** : 서양 선박의 입항을 제한하여 광둥(광저우)으로 교역을 제한한다는 내용을 통해 1757년에 내려진 명령임을 알 수 있다. 청은 1757년부터 서양과 교역을 광

저우의 공행을 통한 제한적 무역만을 허용하였다. 휘저우 상인은 명·청 시기에 전국을 무대로 활동하였다.

정답 ④

**[오답피하기]**

- ① 삼포(3포) 왜란은 조선 전기인 1510년에 일어났다.
- ② 송, 원 등은 무역항에 시박사를 설치하여 교역을 감독하였다.
- ③ 청은 17세기 후반 반청 세력을 진압한 후 천계령을 해제하였다.
- ⑤ 하멜은 네덜란드의 선원으로 일본을 향해 가던 도중 1653년 제주도에 표착하였다.

**9. 진시황제의 정책 파악**

**정답 해설 :** 형가의 암살 기도가 실패한 이후 연을 공격하고 이어 초와 제를 멸망시킴으로써 중국을 최초로 통일하였다는 내용을 통해 (가) 인물이 전국 시대를 통일한 진의 시황제임을 알 수 있다. 진시황제는 이사의 건의에 따라 분서갱유를 단행하여 사상을 통제하려 하였고, 도량형, 화폐, 문자를 통일하였다.

정답 ③

**[오답피하기]**

- ㄱ. 남비엣은 한 무제의 공격으로 기원전 111년 멸망하였다.
- ㄴ. 상앙은 진시황제 즉위 이전에 활동하였던 사상가로, 진에 등용되어 법가에 기초한 개혁을 추진하였다.

**10. 일본의 자유 민권 운동 이해**

**정답 해설 :** 천하의 공의를 떨치기 위해서는 민선 의원을 설립해야 하고, 우리 당의 목적은 인민의 권리를 보전하고 주장하여 자주, 자유, 독립을 누리도록 하는 데 있다는 주장을 통해 일본에서 1870년대부터 전개된 자유 민권 운동에 대한 내용임을 알 수 있다. 일본의 자유 민권 운동은 서양식 의회 설치와 헌법 제정을 요구하면서 전국 각지에서 전개되었다. 메이지 정부는 자유 민권 운동을 탄압하면서도 서구식 정치 제도의 필요성을 인정하여 입헌제를 채택하였다. 그에 따라 1889년 대일본 제국 헌법을 제정하여 입헌제 국가의 제도적 기반을 마련하였다.

정답 ③

**[오답피하기]**

- ① 임칙서는 영국의 아편 밀무역으로 그 해독이 나라에 퍼지고 백성에게 해를 끼치자 아편을 단속하였으나, 영국은 이를 구실로 1840년 아편 전쟁을 일으켰다.
- ② 일본의 에도 막부는 다이묘를 통제하기 위해 산킨코타이 제도를 시행하였다.
- ④ 제2차 아편 전쟁 결과 체결된 텐진 조약과 베이징 조약에 따라 청이 서양 외교관의 베이징 주재를 허용하면서 베이징에 공사관이 설치되었다.
- ⑤ 서양 열강이 중국을 침략하는 상황에서 서구 열강에 대한 경계심이 고조되자, 조선의 흥선 대원군은 통상 수교 거부 정책을 추진하였다.

**11. 명 영락제의 대외 정책 파악**

**정답 해설 :** 베트남을 점령하였다는 점, 경(經), (史), 자(子), 집(集)에서 각종 분야를

---

망라한 유서를 퍼내라고 명령하였다는 점, 그 원본이 황궁이 있는 난징의 문연각에 보관되었다가 자금성으로 옮겨졌다는 점 등을 통해 밑줄 친 '황제'가 명의 영락제임을 알 수 있다. 영락제는 1405년부터 여러 차례 동남아시아 등지로 정화의 함대를 파견하여 위세를 과시하고 조공 체제의 확대를 꾀하였다.

정답 ⑤

[오답피하기]

- ① 18세기 후반 청의 건륭제는 영국이 교역 확대를 위해 파견한 매카트니 사절단을 접견하였다.
- ② 16세기 말 명의 만력제는 임진왜란 당시 조선에 병력을 파견하였다.
- ③ 청의 강희제는 명 멸망 이후 반청 운동을 전개하였던 타이완의 정씨 세력을 진압하였다.
- ④ 1368년 명을 건국한 홍무제는 원을 초원 지역으로 몰아내고 중원을 장악하였다.

12. 17~19세기 동아시아의 서민 문화 이해

**정답 해설** : 상품 화폐 경제의 발달과 문화 소비층의 확대가 이루어진 시기로, 한국에서 한글 소설이 보급되고 일본에서는 가부키가 대중화되었다는 내용을 통해 (가)에는 중국에서 유행한 서민 문화의 내용이 들어가야 함을 알 수 있다. 중국에서는 청대에 베이징 일대에서 서민들에게 경극이 유행하였다. 경극은 노래와 춤, 무술과 곡예의 예술적 기교를 갖춘 전통극으로 '베이징의 오페라'라고 불릴 정도로 베이징을 중심으로 성행하였다.

정답 ⑤

13. 일본의 남북조 시기 동아시아의 모습 이해

**정답 해설** : 아시카가 다카우지와 고다이고 천황이 대립하였던 시기라는 내용을 통해 밑줄 친 '50여 년간'이 일본이 남북조로 분열되었던 시기인 1336~1392년임을 알 수 있다. 남북조는 3대 쇼군인 아시카가 요시미쓰에 의해 1392년 통일되었다. 일본의 남북조 분열기에 중앙 권력이 약해지자 왜구가 급증하여 고려와 명의 연안을 대대적으로 습격하여 노략질하였다.

정답 ④

[오답피하기]

- ① 명의 황제가 토목보에서 몽골에 포로로 잡힌 것은 15세기 중반의 사실이다.
- ② 17세기에 부산의 초량에 왜관이 설치되었다.
- ③ 일본은 남북조가 통일된 이후인 15세기 초부터 16세기 중엽까지 명과 감합 무역을 전개하였다.
- ⑤ 가마쿠라 막부는 13세기 후반에 두 차례에 걸친 몽골군의 침입을 물리쳤다.

---

#### 14. 일본의 '21개조 요구' 내용 파악

**정답 해설** : 일본이 세계가 유럽의 전쟁에 정신을 빼앗긴 틈을 타, 산둥에 있는 독일 이권의 양도 등을 중국에 요구하는 상황을 통해 밑줄 친 '이번 요구'가 제1차 세계 대전 중인 1915년에 일본이 중국 베이징 정부에 제출한 '21개조 요구'임을 알 수 있다. '21개조 요구'의 핵심은 독일이 가지고 있던 산둥반도 이권을 일본에 양도하고 뤄순과 다롄의 조차 기한을 연장하는 것 등이었다. **정답 ⑤**

#### 15. 제1차 사이공 조약과 미일 화친 조약 파악

**정답 해설** : (가)는 세 항구를 프랑스인들에게 개항한다는 내용을 통해 1862년에 체결된 제1차 사이공 조약이고, (나)는 시모다와 하코다테를 개항한다는 내용을 통해 1854년에 체결된 미일 화친 조약임을 알 수 있다. 프랑스는 베트남이 크리스티교를 박해한다는 구실을 내세워 군대를 파견하여 전쟁을 일으켰다. 그 결과 선교의 자유, 영토의 할양, 항구의 개항, 배상금의 지불 등을 내용으로 한 제1차 사이공 조약을 체결되었다. **정답 ①**

#### [오답피하기]

ㄷ. 영사 재판권 조항 포함, ㄹ. 협의에 의한 관세 부과 항목은 일본이 1858년에 미국과 체결한 미일 수호 통상 조약의 내용이다.

#### 16. 금의 특징 파악

**정답 해설** : 그가 서하를 복속한 후, (가)가 카이평으로 천도하자 그가 공격을 개시하여 중도(연경)을 함락하였다는 내용을 통해 '그'는 몽골 제국의 칭기즈 칸이고, (가) 국가는 금임을 알 수 있다. 금은 여진족 등을 맹안·모극제로, 한족 등을 주현제로 다스렸으며, 몽골 제국의 계속된 공격으로 1234년에 멸망하였다. **정답 ②**

#### [오답피하기]

- ① 발해는 거란(요)의 공격으로 멸망하였다.
- ③ 당은 주변 인접 국가의 왕에게 화번공주를 보냈는데, 토번에 보낸 문성 공주, 위구르에 보낸 함안 공주 등이 있다.
- ④ 원은 고려와 연합군을 편성하여 두 차례 일본 원정을 단행하였다.
- ⑤ 거란(요)은 송과 전연의 맹약을 체결하였다.

#### 17. 양무운동 이해

**정답 해설** : 증국번 등과 더불어 개혁을 주창해 왔고, 운선초상국의 설치를 허가함으로써 선박을 구매하고 제조하여 양인이 독점하는 이익을 회수해야 한다는 주장을 통해 밑줄 친 '개혁'이 이홍장, 증국번 등이 추진한 양무운동임을 알 수 있다. 청에서는 중국의 전통을 유지하면서 서양의 군사력과 과학 기술을 수용하여 자강을 이루자는 중체서용의 방식으로 19세기 후반 양무운동이 전개되었다. **정답 ③**

**[오답피하기]**

- ① 갑오개혁은 양무운동이 끝날 무렵인 1894년에 추진되었다.
- ② 의화단 운동이 실패한 이후, 서태후 등의 보수파는 정권 유지를 위해 과거제 폐지, 의회 개설 등을 추진하는 신정을 단행하였다.
- ④ 의화단 운동이 진압된 이후 혁명파는 청 왕조 타도와 공화정 수립을 목표로 활동하였다.
- ⑤ 고종은 1899년에 대한국 국제를 반포하여 대한 제국은 모든 권한이 황제에게 집중된 전제 군주정 국가임을 대내외에 선포하였다.

**18. 제네바 협정과 파리 평화 협정 이해**

**정답 해설 :** (가)는 프랑스군이 북위 17도선 이남으로 이동한다는 내용을 통해 베트남-프랑스 전쟁 결과 1954년에 체결된 제네바 협정임을 알 수 있고, (나)는 미국이 남베트남에서 철수한다는 내용을 통해 1973년에 체결된 파리 평화 협정임을 알 수 있다. **ㄴ.** 제네바 협정에서 북위 17도선을 경계로 한 남북 분단과 통일을 위한 2년 내의 총선거 실시에 합의하였다. **ㄷ.** 미국 대통령 닉슨은 1969년 닉슨 독트린을 발표 이후 베트남 전쟁에서 미군의 단계적 철수를 추진하였다. **정답 ③**

**[오답피하기]**

- ㄱ. 1964년 통킹만 사건을 빌미로 미국이 베트남 전쟁에 본격적으로 참전하였다.
- ㄴ. 제네바 협정의 결정이 지켜지지 않고 남베트남만의 단독 선거로 1955년 베트남 공화국이 수립되자, 남베트남 민족 해방 전선이 1960년 결성되어 남베트남 정부에 저항하였다.

**19. 워싱턴 회의와 샌프란시스코 강화 회의 파악**

**정답 해설 :** (가)는 100년 전 미국에서 개최되었고, 열강의 해군 군비 축소가 결정되었다는 내용을 통해 1921~1922년에 개최된 워싱턴 회의임을 알 수 있고, (나)는 6·25 전쟁 중에 개최되었고, 일본이 주권을 회복하게 되었다는 내용을 통해 1951년에 개최된 샌프란시스코 강화 회의임을 알 수 있다. **ㄱ.** 베르사유 조약은 제1차 세계 대전이 끝난 직후에 열린 파리 강화 회의에서 체결되었다. **ㄷ.** 샌프란시스코 강화 회의는 제2차 세계 대전의 전후 처리를 위해 열렸으나 피해 당사국인 한국, 중국 등의 참여를 배제하였다는 한계를 가지고 있다. **정답 ②**

**[오답피하기]**

- ㄴ. 1919년 파리 강화 회의에서 일본의 산둥반도에 대한 이권이 승인되자, 베이징의 대학생들을 중심으로 5·4 운동이 전개되었다.
- ㄷ. 일본의 신헌법(평화 헌법)은 1946년에 제정되었다.

**20. 1990년대 이후 동아시아의 정치 상황 이해**

**정답 해설 :** 자민당이 과반 의석 확보에 실패하여 다수의 야당이 공조한 비자민당 연

---

립 정권이 수립하였다는 내용을 통해 밑줄 친 '선거'가 1993년에 이루어진 선거이고 그 결과 '55년 체제'가 붕괴되었음을 알 수 있다. 타이완에서는 2000년에 민주진보당 후보인 천수이볜이 총통으로 당선되면서 최초로 여야 정권 교체가 이루어졌다.

정답 ④

**[오답피하기]**

- ① 한국에서 6월 민주 항쟁으로 대통령 직선제 개헌이 이루어진 것은 1987년이다.
- ② 중국에서 민주화를 요구하는 톈안먼 사건이 발생한 것은 1989년이다.
- ③ 미일 안보 조약은 1960년에 개정되었다.
- ⑤ 베트남에서 도이머이 정책이 추진되기 시작한 것은 1986년이다.



2022학년도 대학수학능력시험  
**사회탐구영역 사회·문화 정답 및 해설**

01. ③ 02. ① 03. ⑤ 04. ③ 05. ② 06. ② 07. ② 08. ③ 09. ⑤ 10. ④  
 11. ② 12. ① 13. ④ 14. ④ 15. ② 16. ④ 17. ① 18. ② 19. ③ 20. ③

**1. 사회·문화 현상과 자연 현상의 비교**

**정답 해설 :** ㉠, ㉡은 자연 현상, ㉢, ㉣은 사회·문화 현상이다. ③ 사회·문화 현상은 인간의 의지가 개입되므로 가치 함축적이다. 이와 달리 자연 현상은 인간의 의지가 개입되지 않으므로 몰가치적이다. **정답 ③**

**[오답피하기]**

- ① 사회·문화 현상은 자연 현상과 달리 특수성이 나타난다.
- ② 사회·문화 현상과 자연 현상은 모두 보편성이 나타난다.
- ④ 자연 현상은 사회·문화 현상과 달리 인과 관계가 분명하다.
- ⑤ 사회·문화 현상은 개연성의 원리가, 자연 현상은 필연성의 원리가 적용된다.

**2. 낙인 이론과 차별 교제 이론에 대한 이해**

**정답 해설 :** ‘형사 처벌을 받은 청소년에 대한 주변 사람들의 따가운 시선’, ‘범죄자로서의 부정적 자아 정체성’ 등에서 A는 낙인 이론임을 알 수 있다. ‘일탈 행동을 일삼는 또래와 어울리면 범죄를 저지를 수 있다.’에서 B는 차별 교제 이론임을 알 수 있다. ① 낙인 이론은 일탈이 행위의 속성에 의해서가 아니라 그에 대한 사회적 반응에 의해 규정된다고 본다. **정답 ①**

**[오답피하기]**

- ② 일탈 행동의 원인을 차별적인 제재에서 찾는 것은 낙인 이론이다.
- ③ 타인과의 상호 작용을 통해 일탈 행동이 학습된다고 보는 것은 차별 교제 이론이다.
- ④ 2차적 일탈 행동의 발생 과정에 초점을 맞춘 것은 낙인 이론이다.
- ⑤ 정상 집단과의 교류 촉진은 차별 교제 이론이, 일탈 행동에 대한 신중한 규정은 낙인 이론이 강조하는 일탈 행동에 대한 대책이다.

**3. 사회·문화 현상을 바라보는 관점에 대한 이해**

**정답 해설 :** 기득권층의 이익을 대변하는 논리로 사용된다는 비판을 받는 것은 기능론뿐이고, 사회·문화 현상을 사회 구조적 측면에서 설명하는 것은 기능론과 갈등론이다. 따라서 A는 상징적 상호 작용론, B는 갈등론, C는 기능론이다. ㉠. 기능론은 상징적 상호 작용론과 달리 다양한 사회 제도들의 상호 의존 관계에 주목한다. ㉡. 상징적 상호 작용론은 기능론, 갈등론과 달리 인간이 상황 정의에 기초하여 행동한다고 본다. 따라서 해당 질문은 (가)에 들어갈 수 있다. **정답 ⑤**

**[오답피하기]**

- ㉠. 집단 간 갈등을 사회 변동의 원동력으로 보는 것은 갈등론이다.
- ㉡. 사회 각 부분의 통합과 균형을 강조하는 것은 기능론이다.

#### 4. 양적 연구에 대한 분석

**정답 해설 :** 갑의 연구에서는 “학업 성취도에 자기 통제력이 정(+)의 영향을 미칠 것이다.”라는 가설을 검증하였는데, 자기 통제력은 독립 변수이고 종속 변수는 학업 성취도이다. ③ 을의 연구에서도 갑의 가설을 검증하였는데, 갑과 을 모두 독립 변수인 자기 통제력을 ‘기다림 행동 정도’로 조작적 정의하여 측정하였다. **정답 ③**

#### [오답피하기]

- ① 연구 대상자에게 기다림 행동 정도를 예측하여 기입하게 하였다는 점에서 갑과 을 모두 질문지법을 통해 자료를 수집하였음을 알 수 있다. 그리고 을의 학업 성적에 대한 자료 수집 방법은 나타나 있지 않다. 즉, 갑의 연구에서는 실험법이 사용되지 않았다.
- ② 갑의 가설은 갑의 연구에서는 수용되었지만, 을의 연구에서는 수용되지 않았다.
- ④ 을이 추가적으로 설정한 가설에서 가정의 경제적 배경은 독립 변수이다.
- ⑤ 을이 실험법을 사용하지 않았으므로, 실험 집단과 통제 집단이 나올 수 없다.

#### 5. 문화의 속성에 대한 이해

**정답 해설 :** (가)의 ‘사람의 몸과 정신이 연결되어 있다는 믿음’과 ‘굿이라는 치료법’이 밀접하게 연계되었다는 부분을 통해 문화의 전체성을 유추할 수 있다. 그리고 전통 사회의 굿 치료 방법과 달리 오늘날에는 사람들이 병원에 가서 치료를 받는다는 사실에서, 문화의 공유성과 변동성이 부각되어 있음을 알 수 있다. (나)에 따르면 전통 민속악인 판소리가 이야기의 서사성은 유지하면서도 중독성이 강한 리듬과 흥겨운 춤이 더해져 새로운 장르로 발전하고 있고 이를 남녀노소가 쉽게 즐기고 있다는 부분을 통해 문화의 변동성과 축적성 및 공유성이 부각되어 있음을 알 수 있다. 따라서 (가)와 달리 (나)에만 부각되어 있는 문화의 속성은 축적성이다. ② 문화는 세대를 전승하며 더욱 풍부해진다는 것은 문화의 축적성에 대한 진술이다. **정답 ②**

#### [오답피하기]

- ① 문화의 학습성, ③ 전체성, ④ 변동성, ⑤ 공유성에 대한 진술이다.

#### 6. 사회화, 지위, 역할 관련 개념에 대한 이해

**정답 해설 :** ② 납품 업체가 제공하는 금품과 향응을 매번 거절한 것은 회사원으로서 갑의 구체적인 행동이므로, 갑의 역할 행동이다. **정답 ②**

#### [오답피하기]

- ① 이상주의자는 삶의 가치를 이상을 실현하는 데에 두는 사람들을 지칭하는 것으로, 사회 집단 내에서 구성원이 차지하는 지위로 볼 수 없다.
- ③ 역할 갈등이란 한 사람에게 요구되는 역할들이 상충되어 나타나는 것이므로, 빈정대는 동료와의 갈등은 역할 갈등이 아니다.
- ④ 소설가로의 등단은 소설가가 되었다는 것을 의미하므로, 소설가로의 등단이 시나리오 작가가 되기 위한 예기 사회화에 해당하지 않는다.

⑤ ㉠은 갑의 역할 행동에 따른 결과물일 뿐, 역할 행동에 따른 보상은 아니다.

### 7. 정보 분야의 성불평등에 대한 자료 분석

**정답 해설 :** ㄱ. t년, t+10년, t+20년 모두에서 정보 분야 남성의 임금 지수가 여성의 임금 지수보다 높으므로, 정보 분야 남성의 평균 임금이 여성의 평균 임금보다 많다.

ㄷ. 정보 분야 여성의 임금 지수의 경우, t년 대비 t+10년의 증가율은 약  $14.3\{=(5/35)\times 100\}\%$ 이고 t+10년 대비 t+20년의 증가율은  $12.5\{=(5/40)\times 100\}\%$ 이다. t년 대비 t+10년의 증가율이 t+10년 대비 t+20년의 증가율보다 크다. **정답 ②**

[오답피하기]

ㄴ. 정보 분야 남성의 임금 지수와 정보 분야 여성의 임금 지수 간 격차의 경우, t년은 30이고 t+10년은 20이다. 지수 간 격차의 감소율은 약  $33.3\{=(10/30)\times 100\}\%$ 이다.

ㄹ. t년 대비 t+20년에 정보 분야 남성의 임금 지수 감소율은 약  $15.4\{=(10/65)\times 100\}\%$ 이고, 정보 분야 여성의 임금 지수 증가율은 약  $28.6\{=(10/35)\times 100\}\%$ 이다.

### 8. 자료 수집 방법에 대한 이해

**정답 해설 :** A는 면접법, B는 문헌 연구법, C는 질문지법이다. ③ 질문지법은 면접법에 비해 연구자의 주관적 가치가 개입될 가능성이 낮다. **정답 ③**

[오답피하기]

① 문헌 연구법이 면접법에 비해 자료 수집 과정에서 시·공간적 제약이 작다.

② 질문지법은 연구 대상자와의 언어적 상호 작용이 필수적이다.

④ 질문지법은 수집된 자료의 통계 처리가 가능하다.

⑤ 질문지법은 대규모 집단을 대상으로 자료를 수집하기에 유리하다.

### 9. 절대적 빈곤과 상대적 빈곤에 대한 이해

**정답 해설 :** A는 절대적 빈곤, B는 상대적 빈곤이다. ⑤ 우리나라에서는 가구 소득이 최저 생계비 미만인 가구를 절대적 빈곤에, 중위 소득의 50% 미만인 가구를 상대적 빈곤에 해당하는 가구로 분류한다. 즉, 모두 객관화된 기준을 적용한다. **정답 ⑤**

[오답피하기]

① 절대적 빈곤과 상대적 빈곤은 모두 상대적 박탈감을 유발할 수 있다.

② 중위 소득이 높은 국가에서도 절대적 빈곤과 상대적 빈곤은 나타날 수 있다.

③ 절대적 빈곤과 상대적 빈곤 모두에 해당하는 가구가 있으므로, 전체 빈곤율은 절대적 빈곤율과 상대적 빈곤율의 합과 같지 않다.

④ 사회 구성원의 소득 분포 상태를 고려하여 파악하는 것은 상대적 빈곤이다.

### 10. 반문화와 하위문화에 대한 이해

**정답 해설 :** ④ (나)에서는 (가)와 달리 주류 문화인 자본주의 소비문화에 저항하는 문화, 즉 기존 질서나 가치를 거부하는 반문화의 사례가 나타나 있다. **정답 ④**

**[오답피하기]**

- ① (가)에서는 세대 문화인 청소년 문화의 사례만 나타나 있으며, 하위문화가 주류 문화로 대체되는 양상은 나타나지 않는다.
- ② (나)에서는 세대 문화와 지역 문화의 양상이 나타나 있지 않다.
- ③ (가)와 (나)에서 나타난 하위문화는 모두 문화 다양성에 기여한다.
- ⑤ (가)와 (나) 모두에서 물질 문화의 변동에 대해 다루고 있지 않다.

**11. 산업 사회와 정보 사회의 비교**

**정답 해설 :** A는 산업 사회이고 B는 정보 사회이다. ㄱ. 정보 사회에서는 물리적 거리의 제약을 넘어 정보 통신 기술을 이용한 사회적 관계의 형성이 많아진다.  
ㄷ. 의사 결정의 분권화 정도와 비대면 접촉의 비중 모두 정보 사회가 산업 사회보다 높으므로, 해당 내용은 (가), (나) 각각에 들어갈 수 있다. **정답 ②**

**[오답피하기]**

- ㄴ. 정보 사회는 산업 사회보다 쌍방향 매체의 정보 전달 비중이 높다.
- ㄹ. 정보 생산자와 소비자 간 구분의 명확성 정도와 가정과 일터의 분리 정도 모두 산업 사회가 정보 사회보다 높으므로, 해당 내용은 (가), (나) 각각에 들어갈 수 없다.

**12. 사회 실재론과 사회 명목론에 대한 이해**

**정답 해설 :** 제시문의 필자는 분업의 원인을 개인의 효용 추구에서 찾지 않고 인구 규모와 인구 밀도의 증대라는 사회적 요인에서 찾고 있으므로 사회 실재론의 입장을 알 수 있다. ㄱ. 사회 실재론에 따르면 사회는 개인에 외재하여 독자적으로 작동한다.

- ㄴ. 사회 실재론은 사회의 구속력이 개인의 자유 의지보다 우위에 있다고 본다. **정답 ①**

**[오답피하기]**

- ㄷ. 사회 명목론은 사회를 개인의 이익을 실현해 주는 수단에 불과하다고 본다.
- ㄹ. 사회 명목론은 개인의 자율 의지에 주목하면서, 개인의 행위 지향과 그에 따른 결과를 통해서만 사회가 발전할 수 있다고 본다.

**13. 진화론과 순환론에 대한 이해**

**정답 해설 :** (가)는 순환론, (나)는 진화론이다. ④ 서구 중심적인 사고라는 비판을 받는 것은 진화론이다. **정답 ④**

**[오답피하기]**

- ① 모든 사회가 같은 방향으로 변동한다고 보는 것은 진화론이다.
- ② 사회가 주기적으로 동일한 과정을 반복하며 변동한다고 보는 것은 순환론이다.
- ③ 운명론적 관점에서 사회 변동을 설명하는 순환론은 사회 변동에 작용하는 인간의 자율성을 과소평가 한다.
- ⑤ 순환론은 단기적인 사회 변동을 설명하기 어려우며 과거에 나타난 장기적인 사회

변동을 설명하는 데 유용하다.

#### 14. 문화 상대주의, 문화 상대주의, 자문화 중심주의에 대한 이해

**정답 해설** : 문화 상대주의만 문화를 평가의 대상이 아니라고 보므로, C는 문화 상대주의이다. 문화 상대주의만 자문화의 정체성을 상실할 우려가 있으므로, A는 문화 상대주의이다. 따라서 B는 자문화 중심주의이다. ④ 자문화 중심주의는 자기 문화의 우월성을 강조하기 때문에, 국수주의로 나아갈 수 있다는 비판을 받는다. **정답 ④**

#### [오답피하기]

- ① 값은 자기 나라의 소물이 축제를 최고의 문화로 여기면서 다른 나라의 문화를 비하하고 있으므로, 값의 문화 이해 태도는 자문화 중심주의이다.
- ② 을은 다른 나라의 소물이 축제를 우월하다고 여기면서 자기 나라 축제를 비하하고 있으므로, 을의 문화 이해 태도는 문화 상대주의이다.
- ③ 병의 문화 이해 태도를 문화 상대주의로 볼 수 없다.
- ⑤ 문화 상대주의와 자문화 중심주의는 모두 인류 보편의 가치를 기준으로 문화를 평가하지 않는다.

#### 15. 사회 보장 제도에 대한 표 분석

**정답 해설** : <자료 1>의 (가)는 기초 연금 제도로 공공 부조에, (나)는 노인 장기 요양 보험 제도로 사회 보험에 해당한다. <자료 2>에서 65세 이상 인구는 B 지역이 A 지역의 3배이므로, A 지역의 (가) 수급자 비율 45%와 전체의 (가) 수급자 비율 60%의 차인 15%p는 B 지역의 (가) 수급자 비율 ①%와 전체의 (가) 수급자 비율 60%의 차인 (①-60)%p의 3배이다. 따라서 ①은 65이다. A 지역의 (가)와 (나) 중복 수급자 비율과 전체의 (가)와 (나) 중복 수급자 비율이 6%로 같으므로, B 지역과 C 지역의 65세 이상 인구의 합 중 (가)와 (나) 중복 수급자는 6%가 되어야 한다. B 지역의 (가)와 (나) 중복 수급자 비율 10%와 6%의 차가 4%p이고, C 지역의 (가)와 (나) 중복 수급자 비율 4%와 6%의 차가 2%p이므로, 65세 이상 인구는 C 지역이 B 지역의 2배이다. B 지역과 C 지역의 65세 이상 인구의 합이 A 지역 65세 이상 인구의 9배이므로, '(②-20) : (20-19) = 9 : 1'이다. 따라서 ②는 29이다. ② 사회 보험과 공공 부조 모두 금전적 지원을 원칙으로 하므로, 금전적 지원을 원칙으로 하는 제도의 수급자 비율은 B 지역이 74(=65+19-10)%이고 C 지역이 75(=60+19-4)%이다. **정답 ②**

#### [오답피하기]

- ③ A 지역 65세 이상 인구를 100명이라고 하면, 갑국의 지역별 65세 이상 인구 중 (가), (나)의 수급자 수를 표로 나타내면 아래와 같다.

구분	A 지역	B 지역	C 지역	전체
(가) 수급자	45	195	360	600
(나) 수급자	29	57	114	200
(가)와 (나) 중복 수급자	6	30	24	60

강제 가입의 원칙이 적용되는 제도는 사회 보험에 해당하는 (나)이다. (나) 수급자 수

는 B 지역이 57명이고 A 지역이 29명이므로, B 지역이 A 지역의 3배가 되지 않는다.

④ 사전 예방적 성격이 강한 제도는 사회 보험에 해당하는 (나)이고, 사후 처방적 성격이 강한 제도는 공공 부조에 해당하는 (가)이다. A 지역의 (나) 수급자 수는 29명이고, C 지역의 (가) 수급자 수는 360명이다. ‘

⑤ 선별적 복지 성격이 강한 제도는 공공 부조에 해당하는 (가)인데, (가) 수급자 비율은 B 지역이 65%로 가장 높다. 보편적 복지의 성격이 강한 제도는 사회 보험에 해당하는 (나)인데, (나) 수급자 비율은 A 지역이 29%로 가장 높다.

### 16. 세대 간 계층 이동 현황의 분석

**정답 해설 :** 한 개 음영의 사각형 크기를 10명이라고 하고, 제시된 자료를 토대로 갑국과 을국의 세대 간 계층 이동 현황을 수치(명)로 나타내면 아래와 같다.

<갑국>					<을국>						
구분		부모 세대			계	구분		부모 세대			계
		상층	중층	하층				상층	중층	하층	
자녀 세대	상층	20	10	0	30	자녀 세대	상층	10	0	10	20
	중층	0	10	10	20		중층	0	20	10	30
	하층	10	20	20	50		하층	10	10	30	50
계		30	40	30	100	계		20	30	50	100

④ 자녀 세대의 경우 갑국의 계층 구조는 중층의 수가 가장 적은 모래시계형이고, 을국의 계층 구조는 계층이 내려갈수록 그 수가 많아지므로 피라미드형이다. **정답 ④**

#### [오답피하기]

- ① 갑국에서 세대 간 상승 이동은 20명이고 세대 간 하강 이동은 30명이다.
- ② 을국에서 세대 간 이동은 40명이고 계층 대물림은 60명이다.
- ③ 부모 세대의 계층 구조는 갑국이 다이아몬드형이고 을국이 피라미드형이다. 사회 통합에 유리한 계층 구조는 다이아몬드형이다.
- ⑤ 갑국과 을국 모두 세대 간 이동이 나타나므로 개방적 계층 구조를 갖는다.

### 17. 문화 변동에 대한 이해

**정답 해설 :** ① A국에서는 병조림이 발명되었고 C국으로부터 원터치 캔이 직접 전파되어 문화 변동이 일어났다. B국에서는 자극 전파를 통해 철제 통조림이 개발되었고, C국으로부터 원터치 캔이 직접 전파되어 문화 변동이 일어났다. C국에서는 따개와 원터치 캔이 발명되었다. **정답 ①**

#### [오답피하기]

- ② B국에서는 강제적 문화 접변이 나타나지 않았다.
- ③ C국에서는 간접 전파에 의한 문화 변동이 나타나지 않았다.
- ④ A국과 C국에서는 발명을 통한 문화의 내재적 변동이 나타났다.
- ⑤ B국에서는 자극 전파가 나타났지만, A, C국에서는 자극 전파가 나타나지 않았다.

18. 사회 집단 및 사회 조직에 대한 이해

정답 해설 : 갑은 회사와 회사 내 게임 동아리에, 을은 회사와 회사 내 게임 동아리 및 향우회에, 병은 향우회에 속해 있다. ㉔ 을이 속한 회사는 공식 조직, 회사 내 게임 동아리는 비공식 조직이다. 정답 ㉔

[오답피하기]

- ㉑ 갑이 속한 회사와 회사 내 게임 동아리는 모두 이익 사회이다.
- ㉓ 병이 속한 향우회가 1차 집단이라고 단정할 수 없으며, 비공식 조직도 아니다.
- ㉔ 을이 속한 회사 내 게임 동아리와 향우회는 모두 자발적 결사체이다.
- ㉕ 갑과 을이 함께 속한 회사는 2차 집단이다.

19. 사회적 소수자의 특징 파악

정답 해설 : A는 사회적 소수자이다. 사회적 소수자는 해당 집단 구성원의 수로 결정되지 않고, 특정 집단이 사회적 소수자에 해당하는지 여부는 시대와 장소에 따라 달라지며, 주류 집단에 비해 사회적 희소 자원을 획득하는 데 불리한 위치에 있고, 사회적 소수자에 대한 적극적 우대 정책은 주류 집단에 대한 역차별이라는 비판을 받기도 한다. ㉓ 갑은 첫 번째 질문과 세 번째 질문에는 틀리게, 네 번째 질문에는 옳게 응답하였고 갑의 점수가 2점이므로, ㉔은 '예'이다. 을은 첫 번째 질문과 세 번째 질문에 대해 옳게 답변하였고 을의 점수가 2점이므로, ㉑과 ㉕은 모두 '아니요'이다. 정답 ㉓

20. 연령대별 인구 관련 자료에 대한 분석

정답 해설 : t년의 총부양비가 100이므로 t년 전체 인구 중 부양 인구의 비율은 50%이고, t+100년의 총부양비가 150이므로 t+100년 전체 인구 중 부양 인구의 비율은 40%이다. t+100년 전체 인구 중 유소년 인구의 비율을 2a라고 하면, t년 전체 인구 중 유소년 인구의 비율은 4a이고 t년 전체 인구 중 노인 인구의 비율은 a이다. '50+4a+a=100'이므로 a는 10이다. t년과 t+100년의 연령대별 인구의 비율은 표와 같이 나타낼 수 있다.

연령대별 인구	t년	t+100년
유소년 인구(0~14세 인구)	40%	20%
부양 인구(15~64세 인구)	50%	40%
노인 인구(65세 이상 인구)	10%	40%

㉓ 노령화 지수는 t년이  $25\{=(10/40)\times 100\}$ , t+100년이  $200\{=(40/20)\times 100\}$ 으로, t+100년이 t년의 8배이다. 정답 ㉓

[오답피하기]

- ㉑ t년과 t+100년의 부양 인구를 각각 100명이라고 하면 전체 인구는 t년이 200명이고 t+100년이 250명이다. t년 대비 t+100년에 전체 인구는 25% 증가하였다.
- ㉔ 유소년 부양비는 t년이  $80\{=(40/50)\times 100\}$ , t+100년이  $50\{=(20/40)\times 100\}$ 이다. t년 대비 t+100년에 유소년 부양비는  $37.5\{=(30/80)\times 100\}$ % 감소하였다.

---

④ 노년 부양비는 t년이  $20\{=(10/50)\times 100\}$ , t+100년이  $100\{=(40/40)\times 100\}$ 이다. t+100년 노년 부양비는 t년 노년 부양비의 5배이다.

⑤ t년의 유소년 인구 비율과 t+100년의 노인 인구 비율은 40%로 같지만 전체 인구는 t+100년이 t년보다 많으므로, t+100년의 노인 인구가 t년의 유소년 인구보다 많다.



01. ③ 02. ② 03. ① 04. ⑤ 05. ② 06. ② 07. ① 08. ③ 09. ⑤ 10. ④  
 11. ② 12. ② 13. ③ 14. ⑤ 15. ③ 16. ④ 17. ① 18. ⑤ 19. ⑤ 20. ④

### 1. 메타 윤리학에 대한 실천 윤리학의 입장 파악

**정답 해설** : 제시문의 ‘나’는 실천 윤리학의 입장이고, ‘일부 윤리학자들’은 메타 윤리학의 입장이다. 메타 윤리학은 도덕적 언어의 의미나 도덕 추론의 정당성 분석에 중점을 둔다. 실천 윤리학의 입장에서 볼 때 메타 윤리학은 현실의 도덕 문제에 윤리 이론을 적용하여 구체적인 해결책을 제시하지 못한다는 문제점을 지닌다. **정답 ③**

#### [오답피하기]

- ① 메타 윤리학은 윤리학의 학문적 성립 가능성에 대한 탐구를 강조한다.
- ② 도덕 판단의 근거가 되는 규범 체계의 필요성을 강조하는 것은 이론 윤리학이다.
- ④ 도덕 현상에 대한 객관적 서술과 인과 관계의 설명을 강조하는 것은 기술 윤리학이다.
- ⑤ 메타 윤리학은 도덕 추론의 논리적 분석이 윤리학의 핵심 과제라고 본다.

### 2. 유교 사상과 도가 사상의 입장 이해

**정답 해설** : 갑은 유교 사상가인 공자, 을은 도가 사상가인 노자이다. 공자는 ‘자신의 마음을 미루어 남에게 미친다.’는 의미를 담고 있는 ‘서(恕)’를 강조하면서 자신이 하기 싫은 일을 남에게 시켜서는 안 된다고 주장하였다. **정답 ②**

#### [오답피하기]

- ① 공자는 사회 혼란을 극복하기 위해 내면적 도덕성인 인(仁)과 외면적 규범인 예(禮)를 회복해야 한다고 주장하였다. 인위적인 규범에서 벗어나 무위를 추구할 것을 강조한 사상가는 노자이다.
- ③ 노자는 예를 혼란의 시초라고 보고, 예법에 대해 반대하였다. 직분과 지위에 따른 예법을 강조한 사상가는 공자이다.
- ④ 노자는 시비선악이 인간의 그릇된 인식과 가치관일 뿐이며, 도의 관점에서 보면 천지 만물은 상대적인 가치를 지닌다고 보았다.
- ⑤ 공자는 인(仁)을 강조하였지만 친소(親疏)의 구별이 있는 사랑을 강조하였고, 노자는 인(仁)과 의(義)를 대도(大道)가 사라져서 나타난 것이라고 비판하였다. 모든 사람에 대한 차별 없는 사랑을 강조한 사상가는 묵자이다.

### 3. 시민 불복종에 대한 롤스의 입장 파악

**정답 해설** : 제시문을 주장한 사상가는 롤스이다. 롤스는 시민 불복종이 헌법과 사회제도 일반을 규제하는 정의의 원칙들에 의해 지도되어야 한다고 보았다. **정답 ①**

#### [오답피하기]

- ② 롤스는 시민 불복종이 개인의 도덕 원칙이나 종교적 신념이 아닌 사회적 다수에 의해 공유된 정의관에 근거해야 한다고 보았다.

---

③ 롤스는 거의 정의로운 사회의 시민은 정의로운 체제를 지켜야 하는 의무를 가지므로, 부정의한 법이 평등한 자유의 원칙이나 공정한 기회균등의 원칙을 현저하게 위배하지 않는 한 그 법을 준수해야 한다고 보았다.

④ 롤스는 시민 불복종이 합법적인 정치적 반대가 실패한 후 최후의 수단으로 시도되어야 한다고 보았다.

⑤ 롤스는 헌법에 규정된 방식으로 제정된 법이더라도 부정의할 수 있으므로 그 부정의의 정도에 따라 시민 불복종의 대상이 될 수 있다고 보았다.

#### 4. 국제 관계에 대한 현실주의와 이상주의 비교

**정답 해설** : 갑은 국제 관계에 대한 현실주의를 대표하는 모겐소, 을은 이상주의를 대표하는 칸트이다. 칸트는 어떤 이방인이 다른 나라의 영토에 도착했을 때 평화적으로 행동한다는 조건을 지킨다면 적대적으로 대우받지 않을 환대권이 보장되어야 한다고 보았다(ㄷ). 모겐소는 국가 간의 세력 균형을 통해, 칸트는 영구 평화를 위한 예비 조항과 확정 조항을 통해 국제 사회의 평화를 유지할 수 있다고 보았다(ㄹ). **정답 ⑤**

#### [오답피하기]

ㄱ. 모겐소는 국제 정치의 본질을 국가 간의 권력 투쟁, 즉 국력 경쟁이라고 보고, 국가 간 힘의 균형이 이루어지더라도 불안정성으로 인해 국력 경쟁이 종식되지 않는다고 보았다.

ㄴ. 칸트는 평화 조약이 모든 전쟁을 영원히 종식시킬 수는 없지만 평화 조약을 맺은 국가와 국가 사이의 전쟁은 종식시킬 수 있다고 보았다.

#### 5. 공리주의적 접근 이해

**정답 해설** : 제시문은 공리주의를 대표하는 벤담의 주장이다. 벤담은 쾌락을 산출하고 고통을 피하는 결과를 낳는 행위를 선(善)이라고 보고, '최대 다수의 최대 행복'을 도덕과 입법의 원리로 제시하였다. 따라서 벤담은 <문제 상황> 속 A에게 탑승자와 보행자의 고통의 총합을 최소화하도록 설계하라는 조언을 제시할 것이다. **정답 ②**

#### [오답피하기]

① 칸트의 입장에서 제시할 조언이다. 칸트는 그 자체로 선한 의지, 즉 선의지의 지배를 받는 행위를 도덕적 행위로 보았다.

③ 벤담에 따르면 유용성의 산출은 모든 이해 당사자의 쾌락과 고통을 고려하여 이루어진다. 탑승자의 안전을 최우선으로 고려하는 것은 유용성을 산출하는 방식으로 보기 어렵다.

④ 칸트의 입장에서 제시할 조언이다. 칸트는 인간의 인격을 수단이 아닌 목적으로 대우하라는 정언 명령을 강조하였다.

⑤ 벤담은 사회적 관습에 내재한 선을 강조하지 않았다. 사회적 관습에 내재한 선을 강조한 사상가는 덕 윤리를 주장한 매킨타이어이다.

## 6. 삶과 죽음에 대한 장자의 입장 파악

**정답 해설** : 제시문은 도가 사상가인 장자의 주장이다. 장자는 삶과 죽음이 기(氣)가 모이고 흩어지는 자연스러운 과정이므로 삶에 얽매이지도 말고 죽음을 걱정하지도 말아야 한다고 보았다(ㄱ). 장자에 따르면 삶과 죽음은 계절의 변화처럼 자연적이고 필연적인 과정이다(ㄷ). 정답 ②

### [오답피하기]

- ㄴ. 장자는 인의예지(仁義禮智)와 같은 인위적인 규범을 부정적으로 보았다.
- ㄷ. 죽음을 윤회의 일부로 보고, 현생의 업보가 죽음 이후의 내생을 결정한다고 보는 사상은 불교이다.

## 7. 사랑과 성의 관계에 대한 자유주의와 보수주의 비교

**정답 해설** : (가)는 타인에게 해악을 주지 않는 범위에서 성인들의 자발적 동의에 따른 성적 자유를 허용해야 한다고 보는 자유주의 입장이다. (나)는 성적 관계가 부부간의 사랑과 신뢰를 전제로 출산과 양육에 대한 책임을 질 수 있는 경우에 정당화된다고 보는 보수주의 입장이다. (가)의 입장에 비해 (나)의 입장은 '성의 가치를 감각적 쾌락에서 찾는 정도(X)'는 낮고, '성행위의 전제로서 사랑을 강조하는 정도(Y)'와 '사회적 관점에서 성행위에 수반될 책임을 강조하는 정도(Z)'는 높다. 그러므로 ㉠이 정답이 된다. 정답 ①

## 8. 정약용이 강조할 공직자의 자세 파악

**정답 해설** : 제시문을 주장한 사상가는 정약용이다. 정약용은 목민관이 백성의 정당한 수익을 빼앗으면 민생고가 심해진다고 보았다. 정약용의 입장에서 볼 때 공직자는 납품을 받는 과정에서 생산자의 정당한 이익을 고려해야 한다. 정답 ③

### [오답피하기]

- ① 정약용은 애민의 기본을 청렴이라고 보고, 청렴하기 위해서는 절용해야 한다고 보았다.
- ② 정약용은 청렴을 목민관의 근본적인 의무이며, 모든 덕의 근원이라고 보았다. 정약용의 입장에서 볼 때 공직자가 국민으로부터 신뢰와 지지를 얻으려면 청렴해야 한다.
- ④ 정약용은 목민관이 집안을 바로잡아야 청탁과 뇌물이 들어오지 않는다고 보고, 작은 선물이라도 경계해야 한다고 보았다.
- ⑤ 정약용은 목민관이 청렴해야 할 뿐만 아니라 치밀해야 하며, 백성에게 재물을 나누어 주면서도 실효성이 있어야 한다고 보았다.

## 9. 형벌에 대한 칸트, 베카리아, 루소의 입장 비교

**정답 해설** : (가)의 값은 칸트, 을은 베카리아, 병은 루소이다. 베카리아는 자신의 생명을 빼앗을 권능을 기꺼이 사회에 양도할 사람은 어느 누구도 없다고 보았다. 반면에 루소는 사회 계약의 목적이 계약자의 생명 보존이며, 타인의 희생으로 자신의 생

---

명을 보존하려는 사람은 타인을 위해 필요하다면 자신도 생명을 희생해야 한다고 보았다(ㄴ). 베카리아는 형벌이 범죄가 공익에 반하는 정도와 범죄로 이끄는 유혹에 비례하여 가해져야 한다고 보았다(ㄷ). 루소는 사회 계약의 위반자는 국가로부터 추방되거나 공공의 적으로 사형에 처해져 제거되어야 한다고 보고, 계약자의 생명이 국가로부터 조건부적으로 보장된다고 보았다(ㄹ). **정답 ⑤**

**[오답피하기]**

ㄱ. 칸트, 베카리아, 루소 모두 긍정의 대답을 할 질문이다. 칸트는 ‘동등성의 원리’, 베카리아는 ‘공리의 원리’, 루소는 ‘사회계약의 원리’를 정의의 기초가 되는 원리로 삼아 형벌을 가해야 한다고 보았다.

**10. 노직과 롤스의 정의관 비교**

**정답 해설 :** 갑은 노직, 을은 롤스이다. 롤스는 차등의 원칙이 호혜성의 입장을 표현한 것이며, 모든 성원을 고려한 상호 이익의 원칙이라고 보았다(ㄴ). 노직은 개인에게 천부적 자산에 대한 소유 권리가 있다고 보았으며, 롤스는 천부적 자산 자체와 천부적 자산의 분포를 구분하면서 천부적 자산의 분포는 공유 자산으로 간주되지만 천부적 자산 자체에 대한 권한은 개인에게 있다고 보았다(ㄹ). **정답 ④**

**[오답피하기]**

ㄱ. 노직은 도덕적 공과에 따른 분배는 정형적 원리에 의한 분배이므로 소유 권리를 침해하고 정의롭지 못하다고 보았다.  
ㄷ. 롤스에 따르면 기본적 자유는 다른 기본적 자유와 상충할 때 제한될 수 있기 때문에 절대적이지 않다.

**11. 유전적 간섭에 대한 하버마스의 입장 이해**

**정답 해설 :** 제시문은 적극적인 유전적 간섭을 추구하는 자유주의적 우생학을 비판한 하버마스의 주장이다. 하버마스는 유전적 간섭이 치료라는 목적을 위한 것이라면 허용될 수 있다고 보았다(ㄱ). 하버마스에 따르면 인간의 유전적 자연성은 개개인이 자유롭고 평등한 도덕 주체가 되기 위한 근본적인 조건이다(ㄷ). **정답 ②**

**[오답피하기]**

ㄴ. 하버마스는 자유주의 우생학이 배아의 사물화를 초래하고, 인간이 도덕 주체가 되기 위한 근본 조건을 뒤흔들기 때문에 허용되어서는 안 된다고 보았다.  
ㄹ. 하버마스는 부모의 적극적인 유전적 간섭으로 태어난 자녀는 스스로를 자기 삶의 유일한 저자이자 다른 사람들과 평등한 주체로서 인식하지 못하게 된다고 보았다.

**12. 요나스의 책임 윤리 이해**

**정답 해설 :** 제시문은 책임 윤리를 강조한 요나스의 주장이다. 요나스는 인간이 과학 기술의 힘으로 자신을 포함한 모든 것을 위험에 빠뜨렸다고 보고, 과학 기술의 결과가 의도적이든 비의도적이든 인간이 그 결과에 대해 책임을 져야 한다고 보았다. **정답 ②**

**[오답피하기]**

- ① 요나스는 인간이 가진 권력이 영향을 미치는 범위가 넓어질수록 인간이 져야 하는 책임의 범위도 넓어져야 한다고 보았다.
- ③ 요나스는 희망보다는 공포를 논의의 대상으로 삼아야 한다고 보고, 경험하지 못한 미래의 위협으로부터 책임을 도출해야 한다고 보았다.
- ④ 요나스는 현세대가 책임져야 할 대상에 권리를 주장하는 현세대뿐만 아니라 권리를 주장하지 못하는 자연과 미래 세대도 포함시켜야 한다고 보았다.
- ⑤ 요나스는 인간만이 책임질 수 있는 유일한 존재라고 보고, 책임질 수 있는 능력은 책임을 이행해야 한다는 당위로 이어진다고 보았다.

**13. 사이버 공간에서의 윤리 이해**

**정답 해설 :** 제시된 신문 칼럼은 사이버 공간에서도 윤리와 책임 의식이 요구됨을 강조하고 있다. 신문 칼럼은 사이버 공간의 익명성으로 인해 허위 정보나 유해 정보가 유포되고 선의의 피해자가 발생한다고 본다. **정답 ③**

**[오답피하기]**

- ① 신문 칼럼은 사이버 공간의 참여자가 책임 있는 존재로 활동해야 함을 주장함으로써 현실 세계에서처럼 사이버 공간에서도 윤리가 필요하다고 본다.
- ② 신문 칼럼은 사이버 공간의 참여자를 정보의 소비뿐 아니라 유통과 생산에도 적극 참여하는 주체라고 본다.
- ④ 신문 칼럼은 사이버 공간에서 허위 정보나 유해 정보의 생산자는 그로 인한 피해에 대해 책임져야 한다고 본다.
- ⑤ 신문 칼럼은 잘못된 정보의 희생자가 되지 않으려면 정보를 비판적으로 수용하는 능력, 즉 미디어 리터러시가 필요하다고 본다.

**14. 테일러, 칸트, 레건의 환경 윤리 비교**

**정답 해설 :** (가)의 값은 생명 중심주의를 대표하는 테일러, 을은 인간 중심주의를 대표하는 칸트, 병은 동물 중심주의를 대표하는 레건이다. 칸트는 동물이 인간의 가치 평가에 의한 수단적 가치만을 지닌다고 보았다. 반면에 테일러는 모든 생명체가 그 자체로서 가치를 지닌다고 보았으며, 레건은 삶의 주체인 동물은 본래적 가치를 지닌다고 보았다(ㄴ). 테일러는 쾌고 감수 능력과 무관하게 모든 생명체가 목적론적 삶의 중심으로서 도덕적 지위를 갖는다고 보았으며, 칸트는 이성 능력만이 도덕적 지위를 결정하는 조건이라고 보았다. 반면에 레건은 쾌고 감수 능력을 삶의 주체로서의 도덕적 지위를 결정하는 필요조건이라고 보았다(ㄷ). 테일러는 고유한 선을 지니는 생명체를 인간이 도덕적으로 고려해야 할 의무가 있다고 보았으며, 레건은 삶의 주체인 동물들의 권리를 인간이 도덕적으로 존중해야 할 의무가 있다고 보았다. 반면에 칸트는 자연이나 동물에 대한 의무는 인간의 도덕적 완성을 위해 요청되는 간접적 의무일 뿐이며 이성적 존재인 인간 상호 간의 의무만이 직접적 의무라고 보았다. 따라서 칸트의

---

입장에서 볼 때 인간에 대한 인간의 의무로 환원되지 않는 의무는 없다(ㄹ). **정답 ⑤**  
**[오답피하기]**

ㄱ. 테일러, 칸트, 레건의 공통 입장이다. 테일러는 생명을 지닌 모든 개체가 도덕적 지위를 지닌다고 보았다. 칸트는 이성 능력을 지닌 존재만이 도덕적 지위를 지닌다고 보았는데, 이성 능력을 지닌다는 것은 생명을 지녔음을 의미한다고 볼 수 있다. 레건은 삶의 주체가 되는 동물이 도덕적 지위를 지닌다고 보았는데, 삶의 주체가 되기 위해서는 지각, 믿음, 기억, 쾌고 감수 능력 등을 지녀야 하므로 당연히 생명을 지녀야 한다고 볼 수 있다.

### 15. 국가와 시민의 관계에 대한 홉스와 로크의 입장 비교

**정답 해설** : 갑은 홉스, 을은 로크이다. 로크는 인간이 자연 상태에서 비교적 평화로운 삶을 누리지만 생명, 자유, 재산을 더 확실하게 보장받기 위해 사회 계약을 통해 국가를 구성한다고 보았다. 인간이 자연 상태에서 공동체를 구성하고자 하는 정치적 본성으로 인해 자연스럽게 국가 상태에 들어간다고 본 사상가는 아리스토텔레스이다. **정답 ③**  
**[오답피하기]**

- ① 홉스는 공통의 권력이 없어 혼란스러운 자연 상태에서 벗어나기 위해 사회 계약을 맺으면서 국가가 수립되었다고 보았다.
- ② 홉스는 국가가 모든 사람의 동의하에 부여받은 통치 권력을 공공의 평화와 안전을 위해 절대적으로 행사할 수 있다고 주장하였다.
- ④ 로크는 국가 권력에 대한 제한이 필요하다고 보고, 국가는 공동선을 실현하기 위한 목적 이외에는 자의적으로 권력을 행사해서는 안 된다고 주장하였다.
- ⑤ 홉스와 로크는 모두 국가에 대한 시민의 의무가 국가가 시민의 생명권을 보호해 준다는 조건 아래에서 계속될 수 있다고 보았다. 홉스는 국가가 시민의 생명권을 침해할 경우 시민에게 저항할 권리가 있다고 보았으며, 로크는 국가가 시민의 생명, 자유, 재산에 대한 권리를 침해할 경우 시민들이 저항권을 행사할 수 있다고 보았다.

### 16. 거주에 대한 볼노브의 입장 이해

**정답 해설** : 제시문을 주장한 사상가는 볼노브이다. 볼노브는 인간의 참다운 삶을 위한 거주는 인간이 자신의 존재를 쏟아부어 온전히 노력해야만 얻을 수 있다고 주장하였다. 따라서 단순히 거주 공간을 소유하는 것만으로는 참다운 인간의 삶을 실현할 수 없다. **정답 ④**

**[오답피하기]**

- ① 볼노브는 인간이 인간다운 삶을 살기 위해서는 편안함의 영역으로서의 거주 공간이 필요하다고 보았다.
- ② 볼노브에 따르면 거주는 주어지는 것이 아니라 인간이 자신의 존재를 쏟아부어 온전히 노력해야만 얻을 수 있고 실현할 수 있다.
- ③ 볼노브에 따르면 집은 인간이 사는 체험 공간의 구체적인 중심이자 개인이 활동하

는 세계의 중심이다.

⑤ 볼노브에 따르면 인간은 거주를 통해 위협적인 외부 세계로부터 도피하여 안정을 얻을 수 있다.

### 17. 종교에 대한 엘리아데의 입장 이해

**정답 해설 :** 제시문을 주장한 사상가는 엘리아데이다. 엘리아데는 성스러운 돌, 성스러운 나무는 성스러움의 드러남, 즉 성현(聖顯)이기 때문에 숭배된다고 주장하였다. 그에 따르면 세계는 성스러움이 드러나는 대상이지만 성(聖) 그 자체는 아니다.     **정답 ①**

#### [오답피하기]

② 엘리아데는 성스러움과 세속이 분리되어 있지 않으며, 일상적인 삶 자체가 언제든 성현이 될 수 있다고 보았다.

③ 엘리아데에 따르면 세계는 신의 손으로 완성되어 성스러운 것으로 가득 차 있기 때문에 종교적 인간은 세속적 대상에서도 성스러움을 체험할 수 있다.

④ 엘리아데는 종교적 인간에게 자연은 종교적 의미로 충만해 있으며, 돌이나 나무 또한 단순한 자연물이 아니라 성현으로서 숭배될 수 있다고 보았다.

⑤ 엘리아데에 따르면 신은 자신이 창조한 자연을 통해 성스러움을 다양한 양태로 드러내어 보여 준다.

### 18. 음악에 대한 순자와 묵자의 입장 비교

**정답 해설 :** 가상 편지에서 ‘당신’은 순자이고, ‘나’는 묵자이다. 순자는 선왕이 제정한 음악으로 사람의 악한 본성을 변화시켜 마음과 행동을 올바르게 해야 한다고 보았다. 이와 달리 묵자는 악기 제조와 연주로 인해 백성에게 많은 세금을 거두게 되고, 백성이 먹고 입을 재물을 구하기가 어려워지므로 음악을 금지해야 한다고 보았다. 따라서 묵자의 입장에서 볼 때 순자의 견해는 음악을 장려하는 것이 백성들의 이익과 부합하지 않음을 간과하고 있는 것으로 볼 수 있다.     **정답 ⑤**

#### [오답피하기]

① 순자는 음악과 예의의 조화를 통해 사회 혼란을 바로잡을 수 있다고 보았다.

② 순자는 인간의 악한 본성을 교화하여 화합하는 데 음악이 필요하다고 보았다.

③ 순자는 간사하고 사악한 음악은 천하를 혼란에 빠지게 하므로 선왕이 제정한 음악으로 백성을 이끌어야 한다고 보았다.

④ 순자는 선왕이 제정한 음악을 통해 백성의 악한 본성이 변화되고 마음과 행동이 올바르게 될 수 있다고 주장함으로써 음악이 이상적 공동체를 구현하는 수단이 될 수 있다고 보았다.

### 19. 원조에 대한 롤스, 싱어, 노직의 입장 비교

**정답 해설 :** (가)의 갑은 롤스, 을은 싱어, 병은 노직이다. 롤스는 원조의 목적을 고통 받는 사회가 질서 정연한 사회가 되게끔 함으로써 질서 정연한 국제 사회의 구성원이



되도록 하는 데 있다고 보았다. 이에 비해 노직은 원조를 윤리적 의무가 아니라 개인의 자율적 선택의 문제라고 보았다. 따라서 롤스는 노직에게 원조를 통해 원조 대상국이 자국의 부정의를 교정하여 질서 정연한 사회가 될 수 있도록 도와야 함을 간과하고 있다는 비판을 제기할 수 있다. 정답 ⑤

**[오답피하기]**

- ① 롤스는 원조의 중단 지점, 즉 차단점을 설정하여 원조 대상국이 질서 정연한 사회가 되어 원조 목적이 실현된다면 더 이상 원조할 필요가 없다고 보았다.
- ② 싱어는 원조 대상을 선정할 때 원조 대상국이 상대적 빈곤에 처했는지, 절대적 빈곤에 처했는지 따져야 할 필요가 있다고 보았다.
- ③ 싱어는 효용성을 고려할 때 자신의 이웃을 먼저 돕는 것이 정당한 경우가 있다고 보았다.
- ④ 노직은 원조를 개인의 자율적 선택의 문제로 보므로 자선을 행하지 않는다고 해서 비난의 대상이 될 수는 없다고 보았다.

**20. 남북한 종전 선언에 대한 토론의 핵심 쟁점 파악**

**정답 해설 :** 제시문의 갑은 종전 선언으로 남북 교류가 확대될 수 있지만 북한의 대남 적대 정책은 유지될 것이므로 종전 선언이 북한의 핵 폐기에 대한 반대급부로서 추진되어야 한다고 주장한다. 이에 비해 을은 종전 선언이 북한만을 위한 시혜는 아니므로 상호주의의 대상이 아니며, 종전 선언이 정전 상태를 명분으로 핵을 개발한다는 북한의 입장을 변화시킬 수 있다고 주장한다. 따라서 종전 선언은 상호주의 관점에서 이루어져야 하는가가 토론의 핵심 쟁점이 될 수 있다. 정답 ④

**[오답피하기]**

- ① 갑, 을 모두 북한이 현재 대남 적대 정책을 취하고 있다고 보므로 토론의 핵심 쟁점이 될 수 없다.
- ② 갑, 을 모두 분단이 한반도의 지속 가능한 발전을 저해한다고 보므로 토론의 핵심 쟁점이 될 수 없다.
- ③ 갑, 을 모두 종전 선언을 통해 남북 교류가 활성화될 수 있다고 보므로 토론의 핵심 쟁점이 될 수 없다.
- ⑤ 갑, 을 모두 현재의 한반도 상황이 전쟁이 종식되지 않은 정전 상태라고 보므로 토론의 핵심 쟁점이 될 수 없다.



2022학년도 대학수학능력시험  
사회탐구영역 **세계사** 정답 및 해설

01. ② 02. ② 03. ⑤ 04. ④ 05. ⑤ 06. ① 07. ③ 08. ⑤ 09. ④ 10. ②  
11. ⑤ 12. ④ 13. ③ 14. ① 15. ④ 16. ① 17. ⑤ 18. ③ 19. ④ 20. ③

**1. 이집트 문명의 특징 파악**

**정답 해설** : 자료에서 미라, 사자의 서 등을 통해 (가) 문명은 이집트 문명임을 알 수 있다. 이집트 문명에서는 영혼 불멸과 사후 세계를 믿어 지배자인 파라오의 시신을 미라로 만들어 피라미드에 묻었으며, 피라미드의 수호신으로 스피ن크스를 세웠다.

**정답 ②**

**[오답피하기]**

- ① 메소포타미아 문명을 건설한 사람들은 현세를 중시하는 세계관이 나타난 『길가메시 서사시』를 남겼다.
- ③ 크레타섬의 크노소스 궁전 등은 크레타 문명에 해당한다.
- ④ 중국 상 왕조에서는 점친 내용과 결과를 갑골에 기록하였다.
- ⑤ 인더스 문명에서는 모헨조다로, 하라파 등의 계획도시가 건설되었다.

**2. 옥타비아누스의 활동 이해**

**정답 해설** : 자료에서 고대 지중해 세계에서 벌어진 해전, 클레오파트라 등이 합류한 안토니우스의 함대를 격파한 점, 원로원이 아우구스투스라는 칭호를 부여한 점 등을 통해 (가) 인물이 옥타비아누스임을 알 수 있다. 옥타비아누스는 악티움 해전(기원전 31)에서 클레오파트라와 연합한 안토니우스 함대를 격파한 이후 군대와 재정을 장악하고 사실상 황제로 군림하면서 스스로 ‘프린킵스(제1 시민)’라고 불렀다. **정답 ②**

**[오답피하기]**

- ① 로마에서는 기원전 5세기경 귀족이 평민의 정치 참여와 법적 평등 요구를 점진적으로 받아들이면서 호민관 제도가 마련되었다.
- ③ 콘스탄티누스 황제는 니케아 공의회를 소집하여 아타나시우스파의 교리를 정통으로 인정하였다.
- ④ 디오클레티아누스 황제는 군인 황제 시대의 혼란을 수습하기 위해 로마 제국을 넷으로 나누어 효율적으로 통치하고자 하였다.
- ⑤ 기원전 3세기~기원전 2세기에 로마는 카르타고와 세 차례에 걸쳐 벌어진 포에니 전쟁에서 승리함으로써 서지중해의 해상권을 장악하였다.

**3. 진(秦) 왕조 시기의 사실 파악**

**정답 해설** : 자료에서 수도 셴양, 아방궁 등을 통해 (가) 왕조는 진(秦)임을 알 수 있다. 진의 가혹한 통치와 대규모 토목 공사는 농민들의 반발을 샀으며, 결국 진승·오광의 난 등 농민 봉기가 일어났다. **정답 ⑤**

**[오답피하기]**

- ① 명 태조 홍무제는 유교 문화 부흥을 위해 육유를 반포하였다.
- ② 청의 옹정제는 군기처를 설치해 황제 독재권을 강화하였다.
- ③ 수, 당대에 고구려 원정이 추진되었다.
- ④ 한 무제는 흉노를 견제하기 위해 장건을 서역으로 파견하여 대월지와 동맹을 도모하였다.

#### 4. 시크교도의 저항 이해

**정답 해설** : 자료에서 데칸고원 이남까지 영토를 확장하고 지즈야를 부활시킨 황제는 아우랑제브이다. 밑줄 친 '이 세력'은 카스트제의 신분 차별에 반대하며 편자브 지방에서 아우랑제브 황제의 이슬람 제일주의에 저항했던 시크교도임을 알 수 있다. 시크교는 16세기경 나나크가 인도 편자브 지방을 중심으로 하여 창시한 종교로, 힌두교와 이슬람교가 융합되었으며 우상 숭배와 카스트제에 따른 신분 차별에 반대하였다.

**정답 ④**

#### [오답피하기]

- ① 오스만 제국은 서양 문물을 적극 수용하고 부국강병을 추구하는 탄지마트를 단행하였다.
- ② 마흐디 운동은 수단에서 무함마드 아흐마드가 영국의 지배에 맞서 벌인 저항 활동이었다.
- ③ 플라시 전투는 인도 벵골 지방의 지배권을 놓고 영국과 벵골-프랑스 연합군 사이에 벌어진 전투이다.
- ⑤ 굽타 왕조는 유목민 에프탈의 침입과 왕위를 둘러싼 내분으로 쇠퇴하다가 멸망하였다.

#### 5. 왕안석의 신법 추진 배경 이해

**정답 해설** : 자료에서 신종에 의해 재상으로 등용되어 청묘법, 보갑법 등을 주도한 인물은 왕안석으로, 밑줄 친 '개혁'은 송대 왕안석이 추진한 신법임을 알 수 있다. 송은 문치주의 정책의 영향으로 관료 수가 증가하고 거란(요), 서하 등 주변국의 위협을 받게 되어 재정 부담이 증가하였다. 이러한 문제를 해결하기 위해 왕안석을 등용하여 신법을 추진하였다.

**정답 ⑤**

#### [오답피하기]

- ① 9세기 후반에 일어난 황소의 난으로 당의 국력이 급격히 약화되었다.
- ② 신을 건국한 왕망은 토지를 국유화하고 노비 매매를 금지하는 등의 개혁을 실시하였다.
- ③ 전국 시대에 7웅이라 불리는 제후국들이 경쟁적으로 부국강병을 추진하며 패권을 다투었다.
- ④ 선비족이 세운 북위가 5호 16국 시대를 끝내고 화북 지역을 통일하였다.

---

## 6. 일본 나라 시대의 사실 파악

**정답 해설** : 자료에서 도다이샤, 수도 헤이조쿄 등을 통해 (가) 시대는 나라 시대임을 알 수 있다. 나라 시대에 『고사기』와 『일본서기』가 편찬되었다. **정답 ①**

### [오답피하기]

- ② 에도 막부는 다이묘를 통제하기 위해 무가제법도를 제정하였다.
- ③ 1871년 메이지 정부는 이와쿠라 사절단을 파견하였다.
- ④ 송의 동전을 대량으로 수입하였던 것은 헤이안 시대~가마쿠라 막부 때이다.
- ⑤ 야마토 정권의 쇼토쿠 태자는 6세기 말~7세기 초에 활동하였으며 불교 진흥책을 펼쳤다.

## 7. 영국과 프랑스의 관계 이해

**정답 해설** : 자료에서 왕위 계승권을 주장하는 에드워드 3세, 잔 다르크의 활약 등을 통해 (가) 국가는 영국, (나) 국가는 프랑스임을 알 수 있다. 영국 왕의 프랑스 왕위 계승권 주장, 프랑스 안의 영국령과 모직물 공업 중심지인 플랑드르 지방을 둘러싼 영국과 프랑스의 대립으로 백년 전쟁(1337~1453)이 일어났다. **정답 ③**

### [오답피하기]

- ① 카롤루스 대제 사후 프랑크 왕국은 베르딩 조약과 메르센 조약에 의해 동프랑크, 서프랑크, 중프랑크로 분열되었다.
- ② 포츠머스 조약은 러일 전쟁의 강화 조약으로 1905년에 체결되었다.
- ④ 1936년 독일과 일본은 방공 협정을 체결하였고 1년 뒤에 이탈리아도 이 협정에 참여하였다. 이들 국가는 스스로를 추축국이라고 일컬었다.
- ⑤ 에스파냐는 베네치아, 로마 교황 등과 연합하여 레판토 해전에서 오스만 제국을 격파하였다.

## 8. 쿠샨 왕조의 문화 이해

**정답 해설** : 자료에서 카니슈카왕, 중생의 구제를 중시하는 불교가 발달한 점 등을 통해 (가) 왕조는 쿠샨 왕조임을 알 수 있다. 쿠샨 왕조 시대에 인도 서북부의 간다라 지방에서는 인도 문화와 헬레니즘 문화가 융합되면서 간다라 미술이 발달하였다.

**정답 ⑤**

### [오답피하기]

- ① 샤일렌드라 왕조 때 자와섬에 보로부두르가 건립되었다.
- ② 타지마할은 무굴 제국의 제5대 황제 샤자한이 죽은 아내인 뭉타즈 마할을 추모하며 세운 묘당이다.
- ③ 굽타 왕조에서는 산스크리트어가 공용어가 되면서 산스크리트 문학이 발달하였다. 칼리다사가 저술한 희곡 『샤쿤타라』가 대표적인 예이다.
- ④ 기원전 6세기경 인도에서 자이나교가 등장하였다.

### 9. 청 왕조의 특징 파악

**정답 해설** : 자료에서 아담 샬, 시헌력, 수도에 설립된 성당 등을 통해 밑줄 친 '우리 왕조'가 청임을 알 수 있다. 청은 몽골, 티베트 등을 번부로 삼아 토착 지배자를 이용하여 간접적으로 지배하였다. **정답 ④**

#### [오답피하기]

- ① 남송을 멸망시킨 것은 원에 해당한다.
- ② 주원장은 난징을 도읍으로 명을 건국하였다.
- ③ 9품중정제는 위진 남북조 시대에 시행된 관리 선발 제도이다.
- ⑤ 당대에 안사의 난을 전후하여 균전제가 붕괴되면서 조용조가 양세법으로 바뀌게 되었다.

### 10. 파르티아의 특징 파악

**정답 해설** : 자료에서 알렉산드로스 제국이 분열된 후, 메소포타미아 지역에서 인더스 강 유역까지 장악하고, 로마 제국과 중국, 인도를 연결하는 중계 무역으로 번영한 점 등을 통해 (가) 국가는 파르티아임을 알 수 있다. 파르티아는 알렉산드로스 제국 분열 이후 이란 계통의 민족이 세운 국가이다. **정답 ②**

#### [오답피하기]

- ① 아케메네스 왕조 페르시아의 다리우스 1세는 페르세폴리스를 건설하였다.
- ③ 유스티니아누스 황제 사후 비잔티움 제국에서는 외침에 대비하기 위해 군관구제와 둔전병제를 실시하였다.
- ④ 사산 왕조 페르시아 등이 이슬람 세력의 침입으로 멸망하였다. 파르티아는 사산 왕조 페르시아에 멸망하였다.
- ⑤ 아시리아는 수도 니네베에 왕립 도서관을 세워 학문 발전을 촉진하였다.

### 11. 우마이야 왕조 파악

**정답 해설** : 자료에서 야지드 1세가 아버지의 뒤를 이어 칼리프에 즉위한 점, 합의를 통해 칼리프를 선출해 온 관행에 어긋난다는 비판 등을 통해 (가) 왕조가 우마이야 왕조임을 알 수 있다. 제4대 칼리프 알리가 피살된 후 시리아 총독 무아위야가 칼리프가 되어 우마이야 왕조를 열었고, 그는 우마이야 가문에서 칼리프직을 세습하도록 하였다. 우마이야 왕조는 북아프리카 일대와 이베리아반도까지 영토를 확장하였다.

**정답 ⑤**

#### [오답피하기]

- ① 사파비 왕조는 아바스 1세 때 수도를 이스파한으로 옮겼다.
- ② 오스만 제국은 데브시르메 제도를 통해 예니체리와 관료를 육성하였다.
- ③ 정통 칼리프 시대의 이슬람 세력이 사산 왕조 페르시아를 멸망시켰다.
- ④ 아바스 왕조가 당과 벌인 탈라스 전투에서 승리하였다.

## 12. 독일과 프랑스 사이의 관계 이해

**정답 해설** : 자료에서 토고와 카메룬 지역에 대한 권익을 확고히 했다는 점을 통해 (가) 국가가 독일임을 알 수 있고, 서아프리카에 있는 자국령을 통해 사하라 사막 일대에 대한 안정적인 지배권을 행사할 수 있게 되었다는 점을 통해 (나) 국가가 프랑스임을 알 수 있다. 알자스·로렌 지방은 프랑스의 영토였으나 프랑스와 프로이센의 전쟁에서 프로이센이 승리한 후 프로이센이 차지하였다. 제1차 세계 대전이 끝나고 베르사유 조약에 따라 독일은 알자스·로렌 지방을 프랑스에 양도하였다. **정답 ④**

### [오답피하기]

- ① 미국과 소련은 전략 무기 제한 협정(SALT)을 체결하였다.
- ② 미국, 영국, 소련이 알타 회담을 개최하였다.
- ③ 아프리카에서 횡단 정책을 추진한 프랑스와 종단 정책을 추진한 영국이 파쇼다에서 충돌하였다.
- ⑤ 대서양 헌장은 미국의 루스벨트와 영국의 처칠이 발표한 것으로, 전후 국제 평화 수립의 원칙을 천명하였다.

## 13. 엘리자베스 1세의 활동 이해

**정답 해설** : 자료에서 펠리페 2세의 무적함대를 막아내고, 통일법을 제정한 점을 통해 (가) 국왕이 영국의 엘리자베스 1세임을 알 수 있다. 엘리자베스 1세는 에스파냐의 무적함대를 격파하고 동인도 회사를 설립하여 해외 시장 개척에 나섰다. **정답 ③**

### [오답피하기]

- ① 프랑스의 루이 14세는 콜베르를 등용하여 중상주의 정책을 펼쳤다.
- ② 프랑스의 앙리 4세가 낭트 칙령을 반포하여 위그노에게 신앙의 자유가 부분적으로 허용되었다.
- ④ 프랑스의 나폴레옹은 영국을 경제적으로 고립시키기 위해 대륙 봉쇄령을 발표하였다.
- ⑤ 프로이센의 프리드리히 2세가 상수시 궁전을 건립하였다.

## 14. 오스트리아·헝가리 제국 파악

**정답 해설** : 자료에서 현재 우리 나라에 거주하고 있는 슬라브인들, 최근에 합병된 보스니아, 과거 헝가리와의 통합 등을 통해 밑줄 친 '우리 나라'가 오스트리아·헝가리 제국임을 알 수 있다. 제1차 세계 대전 당시 독일, 오스트리아·헝가리 제국, 오스만 제국, 불가리아 등이 동맹국 측 국가였다. **정답 ①**

### [오답피하기]

- ② 러시아의 표트르 대제는 상트페테르부르크를 건설하여 수도로 삼았다.
- ③ 프랑스를 격파한 이후 프로이센의 빌헬름 1세는 황제로 즉위하면서 독일 제국을 선포하였다.
- ④ 청년 이탈리아당을 이끈 마치니는 이탈리아의 통일 운동을 전개하였다.
- ⑤ 사르데냐 왕국이 사보이(사부아) 지역을 프랑스에 할양하였다.

### 15. 폴란드 파악

**정답 해설** : 자료에서 독일이 (가) 국가를 공격함으로써 제2차 세계 대전을 일으켰다는 점, 바르샤바 등을 통해 (가) 국가가 폴란드임을 알 수 있다. 1939년 9월 독일이 폴란드를 기습 침공한 이후 제2차 세계 대전이 발발하였다. 폴란드에서는 1989년 자유 총선거에서 바웬사가 이끄는 자유 노조가 승리하여 비공산주의 정권이 수립되었다. **정답 ④**

#### [오답피하기]

- ① 유고슬라비아의 베오그라드에서 제1차 비동맹 회의가 열려 제3 세계의 협력과 결속 강화를 선언하였다.
- ② 러시아의 옐친이 소련의 여러 공화국과 함께 독립 국가 연합(CIS)을 결성하기로 결의하고 소련은 공식적으로 해체되었다.
- ③ 체코슬로바키아에서 하벨이 대통령에 당선되며 민주 정부가 수립되었다.
- ⑤ 인구 대부분이 이슬람교도로 구성되어 있던 카슈미르가 인도에 편입되면서 인도와 파키스탄 간의 분쟁이 시작되었다.

### 16. 브라흐마 사마지 운동 이해

**정답 해설** : 자료에서 19세기 전반, 브라만이 중심적인 역할을 수행한 종교 운동, 사티 페지 등을 통해 (가) 운동이 브라흐마 사마지 운동임을 알 수 있다. 19세기 전반 인도에서는 람 모한 로이를 중심으로 순수 힌두교 교리로의 복귀 등을 주장하며 사회 개혁을 추진한 브라흐마 사마지 운동이 전개되었다. **정답 ①**

#### [오답피하기]

- ② 자유주의의 영향을 받은 러시아의 청년 장교와 일부 지식인은 데카브리스트의 봉기를 일으켰으나, 니콜라이 1세에게 진압되었다.
- ③ 영국이 인도를 침탈하는 과정에 맞서 브라흐마 사마지 운동이 전개되었다. 프랑스의 식민 지배에 맞서 전개된 운동으로 베트남의 동유 운동 등을 들 수 있다.
- ④ 무굴 제국의 아우랑제브 황제는 지즈야를 부활시키고 비이슬람교도에 대한 탄압을 강화하였다. 이후 무굴 제국에서는 시크교도의 반란과 힌두교도인 마라타족이 결성한 마라타 동맹 등의 반란이 일어났다.
- ⑤ 오스만 제국의 술탄이 헌법을 무시하고 전제 정치를 펼치자, 근대화를 열망하는 젊은 장교와 관료, 지식인이 중심이 되어 청년 튀르크당을 결성하였다.

### 17. 명예혁명 이해

**정답 해설** : 런던에서 20여 년 전 왕정복고가 이루어졌다는 내용을 통해 자료의 선왕이 찰스 2세, 지금의 국왕이 제임스 2세임을 알 수 있다. 밑줄 친 '대립'은 명예혁명이 일어나기 직전에 국왕과 의회 사이에서 전개된 대립이다. 크롬웰의 사망 이후 왕정복고가 이루어져 찰스 1세의 아들인 찰스 2세가 즉위하였다. 이후 찰스 2세가 전제 정치를 실시하자, 의회는 심사법과 인신 보호법을 제정하였다. 찰스 2세의 뒤를 이어

즉위한 제임스 2세는 심사법과 인신 보호법을 무시하고 다시 가톨릭교도를 우대하는 등 전제 정치를 펼쳤다. 제임스 2세의 전제 정치에 반발하여 의회는 제임스 2세를 추방하고 메리와 윌리엄을 공동 왕으로 추대하였다( 명예혁명). **정답 ⑤**

**[오답피하기]**

- ① 튜더 왕조의 뒤를 이어 제임스 1세에 의해 스튜어트 왕조가 등장하였다.
- ② 찰스 1세가 처형된 후 크롬웰은 호국경에 취임하여 청교도주의에 입각한 금욕적 독재 정치를 실시하였다.
- ③ 헨리 8세는 교황이 왕비와 이혼을 허락하지 않자 수장법을 통해 국왕이 영국 교회의 수장임을 선포하였다.
- ④ 찰스 1세가 의회의 승인 없이 과세하자 의회가 권리 청원서를 제출하였고, 찰스 1세는 이를 승인하였으나 곧 의회를 해산하였다.

**18. 제2차 세계 대전 시기 파리 점령 파악**

**정답 해설 :** 자료에서 타이와의 국경 분쟁, 중국 남부 지역과 맞닿아 있는 해안 지역 일대에 일본군이 출몰하고 있고, 우리 식민지에 대한 군사적 위협 행위 등을 통해 ‘우리’는 프랑스임을 추론할 수 있고, 밑줄 친 ㉠은 제2차 세계 대전 기간 중 독일이 파리를 점령한 기간(1940~1944)임을 알 수 있다. 독일군의 공격으로 파리가 함락되자 드골은 영국에서 망명 정부를 세우고 독일에 대한 저항 운동을 전개하였다.

**정답 ③**

**[오답피하기]**

- ① 1945년에 포츠담 회담이 개최되었다.
- ② 1939년 독일이 폴란드를 침공하자 영국과 프랑스가 대독 선전 포고를 하였다.
- ④ 1938년 독일은 오스트리아를 합병하였다.
- ⑤ 1939년 폴란드를 침공한 독일은 덴마크, 네덜란드 등을 침략하였고, 이후 프랑스 파리를 점령하였다.

**19. 의화단 운동 이해**

**정답 해설 :** 자료에서 미국이 필리핀에 대한 지배권을 확립할 무렵, 산둥성에서 시작된 점, 베이징의 외국 공사관이 포위된 점 등을 통해 밑줄 친 ‘봉기’가 의화단 운동과 관련된 것임을 알 수 있다. 산둥반도를 근거지로 일부 백련교도가 중심이 되어 조직한 의화단은 ‘부청멸양’을 구호로 반크리스트교, 반제국주의 운동을 전개하였다.

**정답 ④**

**[오답피하기]**

- ① 영국은 애로호 사건을 구실로 프랑스와 연합하여 제2차 아편 전쟁을 일으켰다.
- ② 신해혁명으로 중화민국이 수립되었다.
- ③ 제2차 아편 전쟁의 결과 체결된 베이징 조약으로 러시아가 연해주를 차지하였다.
- ⑤ 태평천국 운동은 향용 등에 의해 진압되었다.

---

## 20. 유럽 연합(EU)의 특징 파악

**정답 해설** : 자료에서 브렉시트 문제, 단일 통화인 '유로' 사용 등을 통해 (가) 기구가 유럽 연합임을 알 수 있다. 유럽 공동체 소속 국가들은 마스트리흐트 조약을 체결하여 공동 외교와 안보 정책, 유럽 단일 통화 등을 결의하였고, 그 결과로 유럽 연합이 출범하였다. **정답 ③**

### [오답피하기]

- ① 미국은 공산주의 확산을 막고자 트루먼 독트린을 발표하고 서유럽 각국의 경제를 재건하려는 마셜 계획을 수립하였다.
- ② 인도네시아 반등에서 열린 아시아·아프리카 회의에서 평화 10원칙이 발표되었다.
- ④ 미국이 마셜 계획을 발표하자 소련은 코민포름과 코메콘을 설치하였다.
- ⑤ 국제 연합(UN)에서 5개 상임 이사국은 거부권을 행사할 수 있었다.



2022학년도 대학수학능력시험  
사회탐구영역 세계지리 정답 및 해설

01. ① 02. ② 03. ⑤ 04. ⑤ 05. ④ 06. ④ 07. ③ 08. ⑤ 09. ⑤ 10. ③  
11. ① 12. ④ 13. ⑤ 14. ② 15. ① 16. ④ 17. ④ 18. ③ 19. ④ 20. ②

**1. 동양과 서양의 세계 지도 특성 이해**

**정답 해설 :** (가)는 천하도, (나)는 메르카토르의 세계 지도이다.

① 가. 천하도는 지도의 중앙에 중국이 그려져 있어, 중국 중심의 세계관인 중화사상이 반영되어 있음을 알 수 있다.

나. 메르카토르의 세계 지도에는 경선과 위선이 그려져 있으며, 경선과 위선이 수직으로 교차한다. **정답 ①**

**[오답피하기]**

다. 천하도는 주로 조선 중기 이후 민간에서 제작된 세계 지도로, 우리나라에서 처음 제작되었다.

르. 천하도에는 아메리카 대륙이 표현되어 있지 않지만, 메르카토르의 세계 지도에는 아메리카 대륙이 표현되어 있다.

**2. 화산 지형과 카르스트 지형 특성 이해**

**정답 해설 :** ② 온천욕을 즐길 수 있는 ‘블루라군’, 간헐천, 최근까지 분출이 있었던 화산 등의 화산 지형이 나타나며, 고위도에 위치해 있어 오로라 현상을 감상할 수 있는 지역은 아이슬란드(A)이다. 석회암의 용식 작용으로 형성된 석회 동굴 안에는 종유석, 석순 등의 지형이 발달해 있다. ‘포스토이나 동굴’은 대표적인 석회 동굴인데, 슬로베니아(C)에 위치해 있다. **정답 ②**

**[오답피하기]**

B(노르웨이 베르겐)에는 ‘블루라군’, 간헐천, 최근에 용암이 분출했던 화산 등의 화산 지형이 발달해 있지 않다.

D(이탈리아 시칠리아)에는 화산 지형이 발달해 있으나, 고위도에 위치해 있지 않아 오로라 현상을 볼 수 없다.

**3. 사하라 이남 아프리카와 중·남부 아메리카 주요 국가의 특성 파악**

**정답 해설 :** (가)는 나이지리아, (나)는 칠레, (다)는 케냐, (라)는 브라질이다. 아프리카의 대표적인 산유국인 나이지리아는 원유 수출 비율이 매우 높으며, 세계 최대의 구리 생산 국가인 칠레는 구리 및 구리 제품 수출 비율이 높다. 아프리카 국가 중 차 생산량이 많은 케냐는 차와 화훼류 수출 비율이 높다. 그리고 브라질은 대두(콩), 원유, 철광석의 수출 비율이 높다.

⑤ 브라질은 세계 최대의 소 사육 국가로 네 국가 중 소 사육 두수가 가장 많다.

**정답 ⑤**

**[오답피하기]**

- ① 칠레와 브라질은 중·남부 아메리카, 나이지리아와 케냐는 아프리카에 위치해 있다.
- ② 코트디부아르, 가나, 나이지리아 등이 세계적인 카카오 생산 국가이다.
- ③ 나이지리아는 칠레보다 인구가 많다.
- ④ 브라질은 케냐보다 석유 생산량이 많다.

**4. 지역(대륙)별 도시 및 촌락 인구 변화 특성 파악**

**정답 해설 :** (가)는 앵글로아메리카, (나)는 라틴 아메리카, (다)는 유럽, (라)는 아프리카이다. 2015년 도시 인구나 촌락 인구의 합인 전체 인구가 가장 적은 (가)는 앵글로아메리카이다. 2015년 전체 인구나 촌락 인구가 가장 많은 (라)는 아프리카이다. 2015년 유럽은 라틴 아메리카보다 전체 인구가 많고, 도시 인구도 많으므로 (다)는 유럽, (나)는 라틴 아메리카이다.

- ⑤ 아프리카는 1950년 라틴 아메리카보다 도시 인구가 적었으나, 2015년 도시 인구가 거의 비슷하므로 1950~2015년 아프리카는 라틴 아메리카보다 도시 인구 증가율이 높다. **정답 ⑤**

**[오답피하기]**

- ① 라틴 아메리카는 앵글로아메리카보다 국가의 수가 많다.
- ② 1950년 유럽은 아프리카보다 전체 인구가 많다.
- ③ 네 지역(대륙) 중 2015년 도시화율은 앵글로아메리카가 가장 높다.
- ④ 1950~2015년 라틴 아메리카의 촌락 인구는 증가하였다.

**5. 아프리카 주요 지역의 기온 및 강수 특성 파악**

**정답 해설 :** ④ 월 기온 편차가 클수록 대체로 기온의 연교차가 크며, 월 강수 편차가 클수록 강수량의 계절차가 크다. (가)는 (나)와 (다)에 비해 월 기온 편차가 작고, 월 강수 편차가 크므로 열대 고산 기후가 나타나는 B이다. (다)는 월 강수 편차가 가장 작으므로 건조 기후가 나타나는 A이다. 건조 기후는 연 강수량이 적고, (월 강수량-연 강수량/12)인 월 강수 편차도 작다. 나머지 (나)는 월 기온 편차가 (가)보다 크고, 월 강수 편차가 (다)보다 큰 C이다. C는 지중해성 기후가 나타난다. **정답 ④**

**6. 문순 아시아 주요 국가의 특성 이해**

**정답 해설 :** (가)는 말레이시아, (나)는 미얀마, (다)는 필리핀이다. 말레이시아는 국가 내에서 이슬람교 신자 수가, 미얀마는 불교 신자 수가, 필리핀은 크리스트교 신자 수가 가장 많다. 말레이시아의 수도는 쿠알라룸푸르이며, 말레이시아에는 이슬람교뿐만 아니라 힌두교, 불교 등의 종교와 관련된 공휴일이 있다. 불교 국가인 미얀마에서는 이슬람교 신자인 로힝야족이 탄압받고 있다. 필리핀의 민다나오섬에서는 크리스트교와 이슬람교 간 갈등이 있다.

- ④ 말레이시아와 미얀마는 모두 타이와 국경을 접하고 있다. **정답 ④**

**[오답피하기]**

- ① 동남아시아에서 이슬람교 신자 수는 인도네시아가 가장 많다.
- ② 아오자이는 베트남의 대표적인 전통 의상이다.
- ③ 볶음밥인 나시고렝은 인도네시아의 대표적인 전통 음식이다.
- ⑤ 세 국가의 수도 중 말레이시아의 쿠알라룸푸르가 적도와의 최단 거리가 가장 짧다.

**7. 주요 국가의 화석 에너지 자원의 소비 특성 파악**

**정답 해설 :** (가)는 인도, (나)는 중국, (다)는 미국, A는 석탄, B는 석유, C는 천연가스이다. 세 국가 중 화석 에너지 총소비량은 중국이 가장 많고, 그다음으로 미국이 많다. 그러므로 (나)는 중국, (다)는 미국, 나머지 (가)는 인도이다. 중국과 인도는 석유, 천연가스보다 석탄 소비량이 많다. 미국은 중국, 인도보다 석유 그리고 천연가스 소비량이 많다.

- ③ 세계 에너지 자원 소비에서 차지하는 비율은 석유 > 석탄 > 천연가스 순으로 높다.

**정답 ③**

**[오답피하기]**

- ① 석탄은 수송용보다 산업용으로 소비되는 비율이 높다.
- ② 세 화석 에너지 자원 중 상용화된 시기는 석탄이 가장 이른다.
- ④ 천연가스의 세계 최대 수출국은 러시아이다.
- ⑤ 인도와 중국은 아시아 대륙에, 미국은 아메리카 대륙에 위치한다.

**8. 건조 아시아 및 북부 아프리카 주요 국가의 특성 이해**

**정답 해설 :** (가)는 이집트, (나)는 수단, (다)는 터키, A는 아랍 에미리트이다. 이집트에는 지중해와 홍해를 연결하는 수에즈 운하와 고대 문명 유적인 피라미드와 �핑크스가 있다. 수단의 다르푸르 지역에서는 아랍계 유목민과 아프리카계 정착 농민 사이의 갈등이 발생하였다. 터키는 술탄 아흐메트 사원(블루모스크)과 같은 문화 유적과 파묵칼레와 같은 자연 경관을 활용한 관광 산업이 발달해 있다.

- ⑤ 아랍 에미리트의 수도는 아부다비이며, 아부다비와 두바이는 금융 및 관광 산업이 발달해 있는 아랍 에미리트의 대표적인 도시이다.

**정답 ⑤**

**[오답피하기]**

- ① 지도에 표시된 국가 중 흑해 연안에 위치한 국가는 터키이다.
- ② 지도에 표시된 국가 중 사헬 지대에 위치한 국가는 수단이다. 다르푸르 분쟁의 원인 중 하나는 사헬 지대의 사막화이다.
- ③ 아랍 에미리트는 국가 내에서 이슬람교 신자의 비율이 가장 높다.
- ④ 아랍 에미리트는 국토의 대부분이 건조 기후가 나타난다.

**9. 주요 국가의 인구 구조 및 인구 증가율 특성 파악**

**정답 해설 :** (가)는 니제르, (나)는 카타르, (다)는 벨기에, A는 카타르, B는 니제르, C는 벨기에이다. 벨기에는 니제르와 카타르보다 65세 이상 인구 비율이 가장 높고, 산유국인 카타르는 유입된 외국인 남성 노동자가 많아 15~64세 인구에서 성비가 높다. 니제르는 2010~2015년 인구의 자연 증가율이 가장 높으며, 전입 인구가 많은 카타르는 인구의 사회 증가율이 높다. 2010~2015년 벨기에는 니제르와 카타르보다 인구의 자연 증가율이 낮고, 유출 인구보다 유입 인구가 많아 인구의 자연 증가율보다 전체 증가율이 높다.

⑤ 세 국가 중 2015년 총부양비는 15~64세 인구 비율이 낮은 니제르가 가장 높다.

**정답 ⑤**

**[오답피하기]**

- ① 2010~2015년 니제르는 인구의 자연 증가율이 약 4%이므로 출생자 수가 사망자 수보다 많다.
- ② 2010~2015년 벨기에는 인구의 사회 증가율이 ‘+’이므로 유입 인구가 유출 인구보다 많다.
- ③ 1950~1955년 인구의 자연 증가율은 카타르가 3%보다 크며, 니제르는 3%보다 작다.
- ④ 2015년 중위 연령은 65세 이상 인구 비율이 높은 벨기에가 카타르보다 높다.

**10. 건조 아시아 주요 국가의 에너지 자원 생산 특성 파악**

**정답 해설 :** (가)는 사우디아라비아, (나)는 이란, (다)는 카자흐스탄이다. 세 국가 중 석유 생산량은 사우디아라비아가 가장 많으며, 천연가스 생산량은 이란이 가장 많다.

③ 사우디아라비아는 카자흐스탄보다 총수출액이 많다. **정답 ③**

**[오답피하기]**

- ① 이슬람교의 성지인 메카는 사우디아라비아에 위치한다.
- ② 카자흐스탄은 걸프 협력 회의 회원국이 아니다. 걸프 협력 회의는 사우디아라비아, 쿠웨이트, 아랍 에미리트, 카타르, 오만, 바레인 등 페르시아만 6개 산유국이 맺은 지역 협력 기구이다.
- ④ 사우디아라비아는 이란보다 1인당 국내 총생산이 많다.
- ⑤ 세 국가 중 1차 산업 종사자 비율은 사우디아라비아가 낮고, 이란과 카자흐스탄이 상대적으로 높다.

**11. 주요 빙하 지형과 건조 지형 특성 이해**

**정답 해설 :** ㉠ ㄱ. 피오르는 빙하 침식 작용으로 형성된 U자곡이 해수면 상승으로 침수되어 형성되었다.

㉡. 수평 지층의 대지나 고원이 침식·해체되면서 형성된 탁자 모양의 지형을 메사라고 하며, 메사가 점차 침식·풍화되면서 정상부가 좁아져 형성된 고립 구릉을 뷰트라 한다. **정답 ①**

**[오답피하기]**

ㄷ. 호른은 빙하의 침식으로 형성된 뾰족한 산봉우리이며, 바하다는 복합 선상지로 건조 기후 지역에 잘 발달한다. 데스밸리에 있는 선상지는 건조 기후 지역에서 유수(流水)의 작용으로 형성된 지형이며, 에스커는 용빙수에 의해 형성된 제방 모양의 지형으로 대표적인 빙하 지형이다.

ㄹ. 빙하호의 물은 플라야에 형성된 호수보다 염도가 낮다. 플라야호의 물은 염도가 높아 농업용수 및 생활용수로 사용하기 어렵다.

**12. 밀과 옥수수의 지역(대륙)별 생산 특성 파악**

**정답 해설 :** A는 옥수수, B는 밀, (가)는 아시아, (나)는 앵글로아메리카, (다)는 라틴 아메리카이다. 아프리카가 세계 생산량에서 차지하는 비율은 옥수수가 밀보다 높으며, 유럽과 오세아니아가 세계 생산량에서 차지하는 비율은 밀이 옥수수보다 높다. 옥수수의 세계 생산량에서 차지하는 비율은 라틴 아메리카가 아시아와 앵글로아메리카보다 낮다. 밀의 세계 생산량에서 차지하는 비율은 아시아가 가장 높고, 앵글로아메리카가 라틴 아메리카보다 높다.

④ 옥수수의 세계 최대 생산 국가는 미국이다. 정답 ④

**[오답피하기]**

- ① 옥수수는 밀보다 세계 생산량이 많다.
- ② 옥수수는 밀보다 바이오 에탄올의 원료로 사용되는 비율이 높다.
- ③ 옥수수의 원산지는 아메리카이다.
- ⑤ 러시아, 미국, 오스트레일리아, 캐나다 등의 국가가 밀을 많이 수출한다.

**13. 아프리카의 대지형 이해**

**정답 해설 :** 병. (라)에는 드라켄즈버그산맥이 발달해 있는데, 드라켄즈버그산맥은 고기 습곡 산지로 석탄이 많이 매장되어 있다.

⑤ 정. (나)는 안정육괴에 위치한다. (다)에는 동아프리카 지구대가 발달해 있는데, 판이 갈라지는 동아프리카 지구대에서는 안정육괴보다 화산 활동이 활발하게 일어난다.

정답 ⑤

**[오답피하기]**

갑. 그레이트디바이딩산맥은 오스트레일리아 동부에 있는 고기 습곡 산지이다. (가)에는 신기 습곡 산지인 아틀라스산맥이 발달해 있다.

을. 신생대 조산 운동으로 형성된 산지는 신기 습곡 산지이다. 안정육괴는 시·원생대에 조산 운동을 받은 후 오랜 기간 침식 작용을 받아 형성된 평탄한 지형이다.

**14. 몬순 아시아와 오세아니아 주요 국가의 산업 구조 특성 파악**

**정답 해설 :** (가)는 인도, (나)는 중국, (다)는 인도네시아, (라)는 일본, (마)는 오스트레일리아이다. 지도에 표시된 국가 중 국내 총생산은 중국이 가장 많고, 그다음으로

일본이 많다. 3차 산업 종사자 비율은 오스트레일리아와 일본이 높다. 인도는 인도네시아보다 국내 총생산이 많으며, 3차 산업 종사자 비율이 낮다.

② 중국은 물론 아시아뿐만 아니라 세계에서 2차 산업 생산액이 가장 많다. 정답 ②

**[오답피하기]**

- ① 남부아시아에 위치한 인도는 동남아시아 국가 연합 회원국이 아니다.
- ③ 대찬정 분지에서 기업적 농목업이 이루어지는 국가는 오스트레일리아이다.
- ④ 벵갈루루, 하이데라바드 등에 첨단 산업이 발달해 있는 국가는 인도이다.
- ⑤ 최상위 세계 도시는 영국의 런던, 미국의 뉴욕, 일본의 도쿄이다.

**15. 중·남부 아메리카의 주요 국가 및 도시 특성 이해**

**정답 해설 :** (가)는 볼리비아, (나)는 멕시코, (다)는 아르헨티나, ㉠은 라파스, ㉡은 멕시코시티, ㉢은 부에노스아이레스이다. 볼리비아는 원주민 비율이 높으며, 우유니 소금 사막이 있다. 볼리비아의 행정 수도는 열대 고산 기후가 나타나는 라파스이다. 멕시코에는 마킬라도라가 발달해 있고, 멕시코의 수도는 멕시코시티이다. 아르헨티나는 유럽계의 비율이 높고 파타고니아 사막 및 고원이 발달해 있으며, 수도인 부에노스아이레스는 탱고의 발상지로 유명하다.

① 멕시코의 1위 도시인 멕시코시티는 2위 도시인 과달라하라보다 인구가 2배 이상 많다. 정답 ①

**[오답피하기]**

- ② 아르헨티나는 주로 에스파냐어, 브라질은 주로 포르투갈어를 사용한다.
- ③ 아르헨티나는 볼리비아보다 국토 면적이 넓다.
- ④ 부에노스아이레스는 남반구에 위치해 있다.
- ⑤ 멕시코시티는 라파스보다 인구가 많다.

**16. 세계 주요 지역의 기후 특성 파악**

**정답 해설 :** A에서는 빙설 기후가, B에서는 툰드라 기후가, C에서는 냉대 기후가, D에서는 온대 겨울 건조 기후가, E에서는 서안 해양성 기후가 나타난다.

④ 정. 고위도에 위치한 C는 D보다 기온의 연교차가 크다. 정답 ④

**[오답피하기]**

- ① 갑. 침엽수림은 냉대 기후에 넓게 분포해 있다. 빙설 기후는 나무가 자라기 어려운 무수목 기후이다.
- ② 을. 툰드라 기후는 짧은 여름에 기온이 0°C 이상으로 올라간다.
- ③ 병. 커피는 열대 기후 지역에서 주로 재배된다.
- ⑤ 무. 연중 강수량이 고른 서안 해양성 기후는 온대 겨울 건조 기후보다 최한월 강수량이 많다.

**17. 세계 주요 도시의 특성 이해**

**정답 해설 :** (가)는 런던, (나)는 뉴욕, (다)는 파리이다. 템스강 주변에 있는 런던은 웨스트민스터 사원과 빅 벤 등의 건축물이 있다. 세계적인 정치, 경제, 문화 중심지인 뉴욕에는 국제 연합(UN) 본부, 월스트리트, 브로드웨이가 있다. 파리에는 에펠 탑과 루브르 박물관이 있으며, 라데팡스에 새롭게 업무 단지가 건설되어 있다.

④ 뉴욕은 런던과 파리보다 도시 발달의 역사가 짧다. 정답 ④

**[오답피하기]**

- ① 런던과 파리는 유럽에 위치하고, 뉴욕은 앵글로아메리카에 위치한다.
- ② 유럽 연합(EU) 본부는 벨기에의 브뤼셀에 있다.
- ③ 파벨라는 브라질의 리우데자네이루에 있는 불량 주택 지구이다.
- ⑤ 런던과 파리는 영국과 프랑스의 수도이지만, 현재 미국의 수도는 워싱턴이다.

**18. 유럽과 북부 아메리카 주요 공업 지역의 특성 이해**

**정답 해설 :** A는 영국 첨단 기술 산업 지역의 일부, B는 프랑스 쇠퇴하는 공업 지역의 일부, C는 미국 선벨트 일부, D는 미국 러스트 벨트의 일부이다.

③ 나. B는 과거 풍부한 철광석을 바탕으로 제철 공업이 발달했었다.  
다. 샌프란시스코, 로스앤젤레스가 있는 C는 선벨트에 해당한다. 정답 ③

**[오답피하기]**

- ㄱ. 소피아 앙티폴리스는 프랑스 남부에 있는 첨단 기술 산업 지역이다.
- ㄴ. 휴스턴은 미국 남부에 위치해 있으며, 선벨트에 해당한다.

**19. 아메리카 주요 지역의 낮 길이 및 강수 특성 파악**

**정답 해설 :** (가)는 7월, (나)는 1월, A는 칠레 중부, B는 미국 남부, C는 캐나다 중부, D는 브라질 남부에 위치한 지역이다. 7월에 북반구는 밤보다 낮 길이가 길며, 남반구는 낮보다 밤 길이가 길다. A는 여름인 1월에 아열대 고압대 및 한류의 영향으로 강수량이 매우 적으며, 온난 습윤 기후가 나타나는 B는 1월에도 강수량이 비교적 많다. C는 대륙 내부에 위치해 있어 연 강수량이 적는데 7월보다 1월 강수량이 더 적다. 남반구 저위도에 위치한 D는 사바나 기후가 나타나며, 1월에 적도 수렴대의 영향으로 강수량이 많다.

④ ㄱ. 남반구에 위치한 A는 북반구에 위치한 B보다 1월에 정오의 태양 고도가 높다.  
나. 고위도에 위치한 C는 저위도에 위치한 D보다 최한월 평균 기온이 낮다.  
다. 사바나 기후가 나타나는 D는 온난 습윤 기후가 나타나는 B보다 1월과 7월 간 강수량의 차이가 크다. 정답 ④

**[오답피하기]**

ㄴ. 캐나다 중부에 위치한 C는 1월, 7월 모두 아열대 고압대의 영향을 받지 않는다.

**20. 세계의 주요 환경 협약 이해**

**정답 해설 :** (가)는 사막화 방지 협약, (나)는 파리 협정, A는 사막화, B는 지구 온난

---

화이다.

㉔ ㄱ. 1994년 체결된 사막화 방지 협약은 사막화를 방지하고, 사막화를 겪고 있는 개발 도상국을 재정적·기술적으로 지원하기 위해 체결된 국제 협약이다.

ㄷ. 사막화 사례 지역으로 사헬 지대, 아랄해 일대가 있다.

정답 ㉔

**[오답피하기]**

ㄴ. 유해 폐기물의 국가 간 이동을 제한한 환경 협약은 바젤 협약이다.

ㄹ. 교토 의정서를 대신하는 기후 변화 협약인 파리 협정은 지구 온난화와 관련 있다.



01. ④ 02. ② 03. ③ 04. ⑤ 05. ⑤ 06. ① 07. ② 08. ① 09. ② 10. ⑤  
 11. ② 12. ⑤ 13. ④ 14. ① 15. ② 16. ③ 17. ③ 18. ③ 19. ④ 20. ③

### 1. 맹자가 강조하는 삶의 태도 파악

**정답 해설** : 가상 편지를 쓴 고대 동양 사상가는 맹자이다. 맹자는 호연지기(浩然之氣)를 갖춘 대인(大人) 또는 대장부(大丈夫)를 이상적인 인간이라고 보았다. 그에 따르면 옳은 행위를 꾸준히 실천하는 집의(集義)를 통해 호연지기를 기를 수 있다. **정답 ④**

#### [오답피하기]

- ① 맹자는 인간의 선천적 본성을 선하다고 보고, 선한 본성을 기를 것을 강조하였다. 인간의 본성을 악하다고 보고, 교육을 통해 선천적 본성을 변화시켜야(化性起偽(화성기위)) 한다고 주장한 사상가는 순자이다.
- ② 깨달음에 이르기 위해 계(戒), 정(定), 혜(慧)를 닦아야 한다고 주장한 사상가는 석가모니이다.
- ③ 어떤 것에도 얽매이지 않는 절대적 경지[逍遙(소요)]에 도달해야 한다고 주장한 사상가는 장자이다.
- ⑤ 친소(親疏)의 차별 없이 모든 사람을 동등하게 사랑해야(兼愛(겸애)) 한다고 주장한 사상가는 묵자이다.

### 2. 흠과 벤담의 사상 비교

**정답 해설** : 갑은 공감의 원리를 강조한 흠, 을은 공리의 원리를 강조한 벤담이다. 흠은 이성이 행위의 동기가 될 수는 없지만 정념이 근거로 삼고 있는 믿음의 참과 거짓을 가려내는 역할을 할 수 있다고 보았다. **정답 ②**

#### [오답피하기]

- ① 흠은 선악을 어떤 사람의 행위나 성품을 바라볼 때 느끼는 시인(是認)의 감정이나 부인(否認)의 감정을 표현한 것이라고 보았다.
- ③ 벤담에 따르면 무엇을 행할까를 결정하고, 무엇을 해야 하는지를 지시해 주는 것은 오직 쾌락과 고통뿐이므로 쾌락이 행위의 목적이자 원인이 된다.
- ④ 벤담은 쾌락은 선, 고통은 악이라고 보면서 쾌락을 증가시키고 고통을 감소시키는 것을 옳은 것이라고 보았다.
- ⑤ 흠은 공감이라는 보편적 감정을 통해 도덕적 구별을 할 수 있다고 보고, 공감의 원리를 행위의 옳고 그름을 판단하는 보편적 원리라고 보았다. 반면에 벤담은 공감의 원리가 쾌락의 증가가 아니라 승인하려는 성향을 가진다는 이유만으로 어떤 행위를 승인하므로 행위의 옳고 그름을 판단하는 보편적 원리가 될 수 없다고 보았다.

### 3. 에피쿠로스와 밀의 사상 비교

**정답 해설** : 갑은 에피쿠로스이고, 을은 밀이다. 밀은 쾌락을 감각에서 비롯되는 저급

한 쾌락과 인간만의 고유한 속성인 정신 능력에서 비롯되는 고상한 쾌락으로 구분하였다. 밀에 따르면 고상한 쾌락을 얻기 위해서는 지성, 상상력, 도덕적 감정과 같은 높은 수준의 능력이 필요하다. **정답 ③**

**[오답피하기]**

- ① 에피쿠로스에 따르면 즐거운 삶을 위해서는 자연적이고 필수적인 욕구만을 최소한으로 충족해야 하므로 욕구를 분별하는 이성적인 숙고가 반드시 필요하다.
- ② 에피쿠로스는 신이 정념과 편애가 없는 완전한 존재이기 때문에 인간사에 전혀 관여하지 않는다고 보았다.
- ④ 밀은 인간이 쾌락을 추구한다는 사실로부터 인간의 쾌락 추구가 윤리적으로 바람직하다고 본 벤담의 쾌락주의를 계승하였다.
- ⑤ 에피쿠로스는 개인적 쾌락을, 밀은 행위자 자신의 쾌락뿐만 아니라 사회 전체의 쾌락을 증진시키는 행위를 옳은 행위라고 보았다.

**4. 석가모니와 장자의 사상 비교**

**정답 해설 :** 갑은 석가모니이고, 을은 장자이다. 석가모니는 탐욕과 집착, 성냄, 어리석음을 고통의 원인으로 보고, 고통에서 벗어나 해탈의 길에 들어설 수 있도록 삼학(三學), 즉 계(戒), 정(定), 혜(慧)를 수행할 것을 강조하였다. 장자는 자기중심적 편견이나 집착에서 벗어나 도의 관점에서 만물을 평등하게 보아야 한다고 주장하였고, 이를 위해 좌망(坐忘)과 심재(心齋)를 통해 수양할 것을 강조하였다. **정답 ⑤**

**[오답피하기]**

- ① 석가모니는 세상의 모든 것이 불변하는 것이 아니라 끊임없이 생멸하고 변화한다는 제행무상(諸行無常)을 강조하였다.
- ② 석가모니는 열반에 이르게 되면 무명(無明)에서 비롯된 고통에서 벗어나게 된다고 보았다.
- ③ 장자는 도가 천지 만물의 근원이며, 천지 만물 어디에나 내재하는 것으로 보았다.
- ④ 장자는 만물이 서로 다른 본성을 가지고 있지만 만물에 우열이 있는 것은 아니라고 주장하였다.

**5. 정약용의 사상 이해**

**정답 해설 :** 제시문을 주장한 사상가는 정약용이다. 정약용에 따르면 사단, 즉 측은지심, 수오지심, 사양지심, 시비지심은 인간 본성에 본래 내재된 선한 마음이다. **정답 ⑤**

**[오답피하기]**

- ① 정약용에 따르면 사덕(四德)은 하늘이 인간에게 부여한 도덕 법칙이 아니라 일상 생활에서 실천을 통해 형성되는 것이다.
- ② 정약용은 선이나 악 중 어느 쪽을 행할지 스스로 선택할 수 있는 자주지권(自主之權)을 하늘이 인간에게 선천적으로 부여한 권능이라고 보았다.
- ③ 정약용에 따르면 인간의 성(性)은 단지 기호(嗜好)이며, 인간의 성에는 사덕이 내

재되어 있지 않다.

④ 정약용은 인간의 성을 기호로 파악하고, 인간의 기호에는 선을 좋아하고 악을 미워하는 영지(靈知)의 기호와 육체적이고 감각적인 것을 좋아하여 악은 아니지만 악으로 흐르기 쉬운 형구(形軀)의 기호가 있다고 보았다.

## 6. 지눌과 원효의 사상 비교

**정답 해설** : 갑은 지눌이고, 을은 원효이다. 지눌은 자신의 본성이 부처와 다름없음을 깨달았다 하더라도 오랫동안 축적된 나쁜 습관이나 기운[習氣]을 한꺼번에 없애기는 힘든 일이므로 점진적으로 수행해야 한다고 보았다. **정답 ①**

### [오답피하기]

② 지눌은 정(定)이 마음의 본체이고 혜(慧)는 마음의 작용으로 정과 혜는 분리되지 않으므로 정과 혜를 항상 같이 닦아야 한다는 정혜쌍수(定慧雙修)를 주장하였다.

③ 원효는 일심에서 보면 청정한 본래의 마음인 진여(眞如)와 선악이 뒤섞여 있는 현실의 마음인 생멸(生滅)은 그 근본이 다르지 않다고 보았다.

④ 원효는 부처와 중생은 근본적으로 둘이 아니며, 중생이 무지에서 벗어나면 본래의 마음으로 돌아가 부처가 될 수 있다고 보았다.

⑤ 지눌과 원효는 모두 자신의 마음 안에 진리가 있다고 보았다.

## 7. 노자와 순자의 사상 비교

**정답 해설** : 갑은 노자이고, 을은 순자이다. 노자는 인위가 가미되지 않은 무위(無爲)하는 자연의 모습을 도의 드러남이라고 보고, 자연으로서의 하늘은 인위적으로 어떤 일을 도모하지 않는다고 보았다. 따라서 노자에게 하늘은 인간에게 도덕적 본성을 부여하는 존재가 아니다. 순자는 하늘을 도덕의 근원이 아닌 자연 현상으로 파악하고, 하늘과 사람의 일을 구분할 것을 강조하였다. **정답 ②**

### [오답피하기]

① 노자와 순자 모두 긍정의 대답을 할 질문이다. 노자는 무위의 삶을 살기 위해 허정(虛靜)에 힘쓰고, 겸허(謙虛)와 부쟁(不爭)의 덕을 지녀야 한다고 보았다. 순자는 성악설의 관점에서 악한 본성을 변화시키기 위한 후천적 노력이 필요함을 강조하였다.

③, ④ 노자는 부정, 순자는 긍정의 대답을 할 질문이다. 노자는 인간의 그릇된 인식과 가치관, 인위적인 규범과 사회 제도가 사회 혼란의 원인이라고 보았으므로 사람의 귀천과 상하를 구분하는 것에 대해 부정적인 입장이라고 볼 수 있다. 순자는 고대의 성왕(聖王)이 사람들의 성정(性情)을 교화하고 재화를 공정하게 분배하기 위해 만든 규범이 예(禮)라고 보고, 예는 귀천의 등급을 매겨 주고, 윗사람과 아랫사람 간에 차등이 있게 하며, 부자와 가난한 자에게 어울리는 대우를 해 주는 것이라고 보았다.

⑤ 노자는 긍정, 순자는 부정의 대답을 할 질문이다. 노자는 무위의 다스림을 통해 백성의 무지와 무욕을 실현하는 정치를 이상적인 정치로 보았다. 순자는 예의를 몸에 익히려면 교육과 배움이 중요하다고 보았다.

## 8. 베이컨과 데카르트의 사상 비교

**정답 해설** : 갑은 베이컨이고, 을은 데카르트이다. 베이컨은 자연과학적 지식을 참된 지식으로 보고, 자연에 대한 지식을 통해 자연을 지배하고 인간의 삶을 개선할 수 있다고 보았다. 정답 ①

### [오답피하기]

- ② 베이컨은 우상을 타파하는 방법으로 연역법이 아니라 참된 귀납법을 제시하였다.
- ③ 데카르트는 철학의 제1원리로부터 다른 지식을 추론해 나가야 한다고 주장하였다.
- ④ 데카르트는 방법적 회의를 통해 찾은 철학의 제1원리, 즉 '나는 생각한다. 그러므로 나는 존재한다.'라는 명제를 더 이상 의심할 수 없는 자명한 진리라고 보았다.
- ⑤ 베이컨과 데카르트 모두 진리 탐구를 위해 전통적인 권위를 의심할 필요가 있다고 보았다. 베이컨은 전통과 권위에 의존하여 생기는 선입견과 편견인 극장의 우상을 타파해야 한다고 주장하였으며, 데카르트는 진리 탐구를 위해 의심할 수 있는 모든 것을 의심해 보아야 한다고 주장하였다.

## 9. 아리스토텔레스의 사상 이해

**정답 해설** : 제시문을 주장한 사상가는 아리스토텔레스이다. 아리스토텔레스는 인간이 인간으로서의 고유한 기능을 잘 수행하는 것, 즉 '좋은 삶(행복)'이 인간의 궁극적인 목적이라고 보았다. 그리고 인간이 좋은 삶을 영위하기 위해서는 국가의 구성원으로 살아가야 하며, 국가의 궁극적인 목적은 구성원들의 '좋은 삶'을 실현하는 데 있다고 보았다(ㄱ). 아리스토텔레스에 따르면 사물의 좋음은 그 사물의 고유한 기능에 있고, 기능을 잘 수행하는 것이 그 사물의 목적이므로 사물의 좋음과 목적을 알기 위해서는 그 사물의 고유한 기능을 알아야 한다(ㄴ). 정답 ②

### [오답피하기]

- ㄴ. 아리스토텔레스는 행복을 덕에 따르는 영혼의 활동이라고 보았다. 영혼의 탁월한 품성 상태는 품성적 덕에 해당한다.
- ㄷ. 아리스토텔레스에 따르면 모든 행위가 추구하는 좋음[善]은 더 상위의 목적을 이루기 위해 선택되지만, 최고의 좋음[最高善]은 항상 그 자체를 위해 선택된다.

## 10. 주희와 왕수인의 사상 비교

**정답 해설** : 갑은 주희이고, 을은 왕수인이다. 주희는 하늘이 부여한 이치[天理]인 본연 지성(本然之性)은 지극히 선하다고 보았다(ㄴ). 주희는 사물의 이치[理]를 궁구하여 자신의 마음속에 있는 이치도 알아야 한다고 보았다(ㄷ). 왕수인은 마음의 본체인 양지(良知)가 사욕에 가려지지 않고 온전하게 실현되는 것을 치지(致知)로 보았다(ㄴ). 정답 ⑤

### [오답피하기]

- ㄱ. 주희는 부정, 왕수인은 긍정의 대답을 할 질문이다. 주희는 격물(格物)을 사물에 나아가 이치를 탐구하는 것으로 보았다. 이에 비해 왕수인은 격물을 마음의 바르지 못함을 바로잡는 것으로 보았다.

### 11. 아우구스티누스와 아퀴나스의 사상 비교

**정답 해설** : 갑은 아우구스티누스이고, 을은 아퀴나스이다. 아우구스티누스는 플라톤의 4주덕, 즉 지혜, 용기, 절제, 정의를 신에 대한 사랑의 다른 표현이라고 보고, 신에 대한 사랑이 없는 덕은 진정한 덕이 될 수 없다고 보았다. **정답 ②**

#### [오답피하기]

- ① 아우구스티누스에 따르면 악은 선에 반대되는 실체가 아니라 선의 결여이며 신의 창조물이 아니라 인간 행위의 결과이다.
- ③ 아퀴나스는 철학적 사고와 신에 대한 믿음이 서로 모순되지 않는다고 보고, 이성 과 신앙이 상호 보완적 관계임을 강조하였다.
- ④ 아퀴나스는 아리스토텔레스의 철학을 바탕으로 이성에 기초하여 신의 존재를 증명하고자 하였지만, 인간의 최종 목적은 현세의 행복이 아니라 신의 은총에 의해 내세에서 신과 하나가 되는 완전한 행복이라고 보았다.
- ⑤ 아퀴나스는 아리스토텔레스가 강조한 지성적 덕과 품성적 덕만으로는 최고의 행복 [至福]에 이를 수 없으며, 최고의 행복에 이르기 위해서는 믿음·소망·사랑이라는 종교적 덕이 필요하다고 보았다.

### 12. 이이가 이황에게 제기할 수 있는 비판 파악

**정답 해설** : 갑은 이이이고, 을은 이황이다. 이이는 이(理)는 운동성이 없고 기(氣)는 운동성이 있다고 보고, 사단과 칠정은 모두 기가 발하고 이가 타는 것이라고 주장하였다. 이에 비해 이황은 이와 기가 모두 운동성이 있다고 보고, 사단은 이가 발하고 기가 따르는 것이고, 칠정은 기가 발하고 이가 타는 것이라고 주장하였다. 따라서 이이는 이황에게 이는 스스로 작용할 수 없으며 기만 스스로 작용함을 간과한다는 비판을 제기할 수 있다. **정답 ⑤**

#### [오답피하기]

- ① 이이는 사단과 칠정 모두 기가 발한 것으로 발생 근원이 같다고 보았다. 이에 비해 이황은 사단은 이가, 칠정은 기가 발한 것으로 발생 근원이 각각 따로 있다고 보았다.
- ② 이이와 이황은 모두 주희의 성리학을 바탕으로 사단과 칠정이 모두 성(性)이 발현한 정(情)이라고 보았다. 성리학에 따르면 사람의 마음속에는 인의예지의 덕이 성으로 부여되어 있고, 성은 정으로 발현되며, 정의 구체적 내용이 사단과 칠정이다.
- ③ 이이와 이황은 모두 사단은 순선하지만 칠정은 선악이 혼재되어 있어 악으로 흐를 수 있다고 보았다.
- ④ 이이와 이황은 모두 이와 기가 개념과 역할이 다르므로 섞일 수 없지만[理氣不相雜] 실제로는 서로 떨어질 수 없다고[理氣不相離] 보았다.

### 13. 플라톤의 이상 사회 이해

**정답 해설** : 제시문을 주장한 사상가는 플라톤이다. 플라톤은 좋음[善]의 이데아에 대한 지식을 갖춘 철학자가 통치할 때 정의로운 국가가 실현될 수 있다고 보았다. **정답 ④**

**[오답피하기]**

- ① 플라톤은 국가를 구성하는 통치자, 방위자, 생산자 계층이 자신의 맡은 바 일을 충실하게 하는 것이 정의라고 보았다.
- ② 플라톤에 따르면 통치자나 방위자 계층은 공적 생활을 위해 재산을 공유해야 하지만, 생산자 계층은 사유 재산을 가질 수 있다.
- ③ 플라톤은 절제를 통치자, 방위자, 생산자 계층이 공통적으로 갖추어야 할 덕이라고 보았다.
- ⑤ 플라톤은 지혜, 용기, 절제, 정의의 4주덕을 갖춘 이상적 인간인 철학자가 통치하는 국가를 이상 국가로 보았다.

**14. 홉스와 로크의 사상 비교**

**정답 해설 :** (가)의 값은 홉스이고, 을은 로크이다. 홉스는 사회 계약의 주체인 인민들의 동의에 의해 한 사람 혹은 하나의 합의체에 주권이 부여된다고 보았다. 이와 달리 로크는 입법부를 폐지하거나 변경할 수 있는 최고의 권력(주권)은 여전히 인민에게 있다고 보았다. **정답 ①**

**[오답피하기]**

- ② 로크만의 입장이다. 로크는 국가 권력이 입법권과 집행권으로 분할되어야 한다고 보았다. 이와 달리 홉스는 절대 군주를 강조하면서 국가 권력이 분할되어서는 안 된다고 보았다.
- ③ 홉스의 입장으로 볼 수는 있지만 로크의 입장에는 해당되지 않는다. 홉스는 국가 성립의 목적을 자기 보존과 그에 따른 만족된 삶에 대한 통찰이라고 보았다. 로크는 국가 성립의 목적을 생명권뿐만 아니라 자유권, 재산권 등 기본적 권리를 더욱 확실하게 보장받기 위한 것으로 보았다.
- ④ 홉스와 로크 중 어느 누구의 입장에도 해당되지 않는다. 홉스는 국가 권력의 분할에 반대하여 입법부를 따로 설정하지 않았으며, 로크는 입법부가 신탁에 반해서 행동하게 되면 시민들이 저항권을 행사함으로써 입법부의 권력을 철회할 수 있다고 보았다.
- ⑤ 홉스와 로크의 공통 입장이다. 홉스와 로크는 모두 사회 계약 이후에는 개인이 아닌 국가만이 처벌권을 갖는다고 보았다.

**15. 위정척사 사상과 개화사상 비교**

**정답 해설 :** 갑은 위정척사 사상가인 이항로이고, 을은 온건적 개화사상인 동도서기론(東道西器論)을 주장한 신기선이다. 이항로는 충효의 도의와 같은 유교적 가치 체계와 질서를 지키고, 서양의 종교와 문물을 배척하자고 주장하였다(ㄱ, ㄷ). 신기선은 유교적 가치와 질서[東道]를 지킬 것을 강조하였다(ㄷ). **정답 ②**

**[오답피하기]**

ㄴ. 신기선은 유교적 가치와 질서를 지키면서 서양의 우수한 과학 기술을 수용하자는 온건적 개화사상을 주장하였다. 서양의 정치 체제를 수용하여 절대 군주제를 개혁하

자고 주장한 것은 급진적 개화사상이다.

ㄹ. 이항로와 신기선은 모두 유교 사상을 토대로 한 신분 질서를 지켜야 한다고 보았다.

### 16. 칸트의 사상 이해

**정답 해설** : 제시문을 주장한 사상가는 칸트이다. 칸트는 의무에서 비롯된 행위 또는 의무 의식이 동기가 된 행위가 도덕적 행위라고 보고, 의무에서 비롯된 모든 행위는 의무에 맞는 행위에 속한다고 보았다. **정답 ③**

#### [오답피하기]

- ① 칸트는 명령을 무조건적 명령인 정언 명령과 다른 목적을 달성하기 위한 수단으로서의 명령인 가언 명령으로 구분하고, 정언 명령만이 도덕 법칙이 될 수 있다고 보았다.
- ② 칸트는 선의지와 경향성을 함께 지닌 인간에게만 도덕 법칙이 의무로 부과되며, 완전한 선의지를 지닌 신에게는 도덕 법칙이 의무로 부과되지 않는다고 보았다.
- ④ 칸트는 개인의 주관적 행위 규칙, 즉 준칙이 정언 명령의 원칙을 따라 모든 사람에게 똑같이 적용될 수 있을 만한 객관적 타당성을 지닐 경우 보편적 도덕 법칙이 될 수 있다고 보았다.
- ⑤ 칸트는 인간이 자연의 모든 사물에 필연적으로 적용되는 자연법칙의 지배를 받으면서도 실천 이성이 자율적으로 수립한 도덕 법칙의 지배를 받는다고 보았다.

### 17. 스피노자와 사르트르의 사상 비교

**정답 해설** : 갑은 스피노자이고, 을은 사르트르이다. 사르트르는 다른 사물과 달리 인간만이 실존이 본질에 앞서는 존재라고 보았다. 사르트르에 따르면 인간은 먼저 실존한 다음 자신의 주체적인 선택을 통해 스스로를 형성해 가는 존재이다. **정답 ③**

#### [오답피하기]

- ① 스피노자는 자연에서 일어나는 모든 일이 원인과 결과로 필연적으로 연결되어 있다고 보았다.
- ② 스피노자에 따르면 신은 모든 것의 초월적 원인이 아니라 내재적 원인이다.
- ④ 사르트르에 따르면 인간은 스스로 자신의 모든 것을 선택하고 그에 대한 전적인 책임을 져야 하는 존재이다.
- ⑤ 스피노자는 인간이 필연성에서 벗어나 행위할 수 있는 자유 의지가 없다고 보았지만, 사르트르는 인간이 자유롭도록 운명 지워진 존재이며 자유 의지가 있다고 보았다.

### 18. 비롤리와 벌린의 사상 비교

**정답 해설** : 갑은 공화주의 사상가인 비롤리이고, 을은 자유주의 사상가인 벌린이다. 비롤리는 자유가 천부의 자연권이 아니라 시민의 정치적 참여 및 공동체의 법과 제도적 노력을 통해 만들어지는 것이라고 보았다(ㄴ). 벌린은 간섭의 부재를 의미하는 소극적 자유를 진정한 자유라고 보고, 선한 의도를 가진 간섭이라도 소극적 자유를 침해할 수 있다고 보았다(ㄷ). **정답 ③**



**[오답피하기]**

ㄱ. 비롤리는 비지배로서의 자유를 실현하기 위해서는 법에 의한 지배, 즉 법치가 필수적이라고 보았다.

ㄴ. 비롤리는 국가의 간섭이 사라져도 시민이 자의적 지배를 받는다면 자유가 줄어든다고 보았다. 벌린은 간섭 그 자체의 완전한 부재보다도 불간섭의 영역이 넓어질수록 자유의 영역이 넓어진다는 점을 강조하였다.

**19. 하이에크, 케인스, 마르크스가 서로에게 제기할 수 있는 비판 파악**

**정답 해설 :** 갑은 신자유주의 사상가인 하이에크, 을은 수정 자본주의 사상가인 케인스, 병은 사회주의 사상가인 마르크스이다. 하이에크와 케인스는 모두 시장에서의 자유로운 경제 활동을 보장하는 자본주의를 인정하였다. 이와 달리 마르크스는 자본주의 사회에서 노동자는 자본가에 의해 자유를 억압받고 착취당한다고 주장하였다. 따라서 하이에크와 케인스는 마르크스에게 자본주의를 통해서도 인간의 자유 실현이 가능하다는 비판을 제기할 수 있다. **정답 ④**

**[오답피하기]**

① 하이에크와 케인스는 모두 시장에서 개인의 경제 활동의 자유가 인정되어야 한다고 보았다.

② 케인스는 빈부 격차 완화를 위한 복지 정책의 확대를 주장하였다. 이와 달리 하이에크는 정부의 시장 개입에 반대하며 복지 정책의 축소를 주장하였다.

③ 케인스는 시장의 역할만으로는 실업 해소에 한계가 있음을 인정하면서, 실업 문제 해결을 위해 정부가 적극적으로 시장에 개입해야 한다고 보았다.

⑤ 마르크스는 자본주의 시장 경제로 인해 인간이 노예 상태로 전락한다고 보았다. 이와 달리 하이에크는 사회주의 계획 경제로 인해 인간이 노예로 전락한다고 보았다.

**20. 페리클레스와 롤스의 사상 비교**

**정답 해설 :** 갑은 직접 민주주의를 강조한 페리클레스이고, 을은 심의 민주주의를 강조한 롤스이다. 롤스는 시민들이 공적 이성애 따라 정치적 문제들과 관련된 심의를 할 때 개인의 정치적 의견이 언제든지 변할 수 있다고 보았다. **정답 ③**

**[오답피하기]**

① 페리클레스는 아테네의 시민들이 주권자이며, 공직을 담당할 권한을 가지고 있다고 보았다.

② 페리클레스는 시민이 정치적 권리를 누리는 데 있어 어느 누구도 빈곤하다는 이유로 무시되어서는 안 된다고 보았다.

④ 롤스에 따르면 의사 결정의 정당성은 결과물이 아니라 심의의 절차에 달려 있다.

⑤ 페리클레스와 롤스는 모두 정치 참여에 있어서 모든 시민에게 동등한 기회와 권한이 보장되어야 한다고 보았다.