

목록

02.3월\_고2\_사회(윤리와 사상).....1  
01.3월\_고2\_사회\_(생활과윤리).....5  
09.3월\_고2\_사회(사회문화).....9  
08.3월\_고2\_사회(정치와법).....13  
07.3월\_고2\_사회(경제).....17  
06.3월\_고2\_사회(세계사).....21  
05.3월\_고2\_사회(동아시아사).....25  
04.3월\_고2\_사회(세계지리).....29  
03.3월\_고2\_사회(한국지리).....33

제 4 교시

사회탐구 영역(윤리와 사상)

|    |  |      |  |  |  |   |  |  |  |          |
|----|--|------|--|--|--|---|--|--|--|----------|
| 성명 |  | 수험번호 |  |  |  | 2 |  |  |  | 제 ( ) 선택 |
|----|--|------|--|--|--|---|--|--|--|----------|

윤리와 사상

1. (가)를 주장한 고대 서양 사상가의 입장에서 볼 때, (나)의 ㉠에 들어갈 진술로 가장 적절한 것은?

|     |  |
|-----|--|
| (가) | 정의롭지 못한 편에 서기보다는 정의로운 편에 서야 하며, 정의롭지 못한 일을 강요받을 때에도 굴복하지 말아야 한다. 또한 영혼보다 육체, 부, 명예를 우선하지 말아야 한다. 육체, 부, 명예에는 마음을 쓰면서 영혼의 수련에는 무관심한 것이 부끄럽지 않은가? 검토하지 않는 삶은 살 가치가 없다. |
| (나) | 제자: 바람직한 삶을 위해 어떤 노력을 해야 할까요?<br>스승: _____ ㉠   |

- ① 물질적 풍요로움과 편리함만을 추구해야 하네.
- ② 자신의 영혼에 관심을 가지고 계속 성찰해야 하네.
- ③ 부정의에 맞서지 말고 자신의 안녕을 지켜야 하네.
- ④ 영혼보다 육체의 아름다움을 우선적으로 가꾸어야 하네.
- ⑤ 지혜를 수단으로 삼아 세속적으로 성공하려 애써야 하네.

2. 다음 동양 사상의 입장에 대한 설명으로 가장 적절한 것은?

집착에 빠진 사람은 만물이 상호 의존한다는 인과 법칙, 즉 “이것이 생기면 저것이 생기고, 이것이 소멸하면 저것이 소멸한다.”라는 것을 알지 못해 삶이 고통스럽다. 그러므로 모든 현상은 영원하지 않고, 모든 현상은 고통스러운 것이며, 모든 현상에는 고정된 자아가 존재하지 않는다는 진리를 깨달아 집착에서 벗어나야 한다.

- ① 만물의 생성과 소멸은 우연에 따른 결과라고 본다.
- ② 삶이 괴로움이라고 파악하는 것은 잘못이라고 본다.
- ③ 인간과 자연이 유기적인 관계임을 자각해야 한다고 본다.
- ④ 깨달음은 자신에 대한 집착을 유지해야 얻을 수 있다고 본다.
- ⑤ 모든 현상에 불변의 자아가 존재함을 깨달아야 한다고 본다.

3. 다음을 주장한 근대 서양 사상가의 입장으로 옳은 것은? [3점]

돼지가 누리는 것과 같은 쾌락만으로는 인간의 행복 개념을 충족하지 못한다. 인간은 동물의 본능보다 고등한 능력이 있어서 그런 능력까지 만족시키는 것을 행복으로 여기기 때문이다. 어떤 종류의 쾌락이 다른 종류의 쾌락보다 바람직하고 가치 있다는 사실을 인정하는 것은 도덕의 기초인 최대 행복의 원리, 즉 공리주의 원리와 양립이 가능하다.

- ① 행위의 가치는 행위가 산출하는 쾌락과 무관하게 결정된다.
- ② 인간과 동물은 능력이 동일하므로 차별 없이 대우해야 한다.
- ③ 행복의 최대화를 인생의 목적으로 삼는 것은 적절하지 않다.
- ④ 쾌락의 질을 분별하는 것은 최대 행복을 추구할 때 필요하다.
- ⑤ 인간은 돼지가 느낄 수 있는 쾌락 이상의 것을 느낄 수 없다.

4. 그림은 고대 동양 사상가와의 가상 인터뷰이다. 이 사상가의 입장으로 가장 적절한 것은?

- ① 차별 없이 사랑하는 마음이 천하에 이익을 가져온다.
- ② 국가의 이익 증진을 위한 정복 전쟁은 정당화될 수 있다.
- ③ 전쟁을 도모할 때 백성들의 이익은 고려하지 말아야 한다.
- ④ 전쟁은 승리한 나라만 이익을 누리므로 의롭지 않은 것이다.
- ⑤ 생산력 향상이 아닌 국방력 향상이 국익 증진에 도움이 된다.

5. 다음은 서술형 평가 문제와 학생 답안이다. 학생 답안의 ㉠~㉣ 중 옳지 않은 것은? [3점]

**서술형 평가**

◎ 문제 : 사상가 갑, 을의 이상 사회에 대한 입장을 비교하여 서술하시오.

갑 : 유토피아의 사람들은 하루에 여섯 시간을 일하고 나머지 시간은 여가를 즐기며 보낼 수 있다. 모든 것이 공동 소유이므로 빈곤과 사치가 없고, 생활에 필요한 물건들은 값을 치르지 않고 가져올 수 있다.

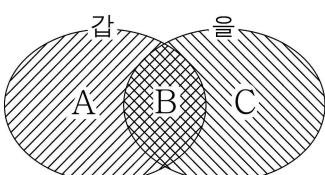
을 : 현명하고 유능한 자가 다스리니 노인은 여생이 편하고, 장년은 일자리가 있으며, 홀로된 자와 병든 자는 부양받는다. 자기만을 위해 일하지 않으므로 음모를 꾸미지 않고 도적이 생기지 않는다. 이를 대동(大同)이라 한다.

◎ 학생 답안

갑, 을의 입장을 비교해 보면, 갑은 이상 사회에서는 구성원들이 ㉠정해진 시간 이상의 노동을 강요받지 않으며, ㉡경제적 빈곤으로 인해 고통받지 않는다고 본다. 을은 이상 사회에서는 구성원들이 ㉢사회적 지위로 인한 부당한 차별을 받지 않으며, ㉣타인을 배려하는 도덕성을 지닌다고 본다. 한편 갑, 을은 모두 이상 사회에서는 ㉤업적에 따른 분배만이 이루어진다고 본다.

- ① ㉠
- ② ㉡
- ③ ㉢
- ④ ㉣
- ⑤ ㉤

6. (가)의 고대 동양 사상가 갑, 을의 입장을 (나) 그림으로 표현할 때, A~C에 들어갈 진술로 옳은 것만을 <보기>에서 있는 대로 고른 것은? [3점]

|     |   |
|-----|---|
| (가) | <p>갑: 사람과 짐승의 차이는 아주 작는데, 이 차이를 보통 사람들은 내버리고 군자는 보존한다. 군자는 타고난 인의(仁義)를 충실히 실천할 뿐, 인의를 억지로 실천하지 않는다.</p> <p>을: 성인(聖人)이 보통 사람들과 다르지 않는 것은 본성이고, 보통 사람들과 다르고 뛰어난 것은 인위(僞)이다. 성인은 본성을 변화시켜 인위를 일으키고, 인위를 일으켜 예의를 만들었다.</p>  |
| (나) |  <div style="border: 1px solid black; padding: 5px; margin-left: 20px;"> <p style="text-align: center;">&lt;범례&gt;</p> <p>A: 갑만의 입장<br/>B: 갑, 을의 공통 입장<br/>C: 을만의 입장</p> </div> |

< 보 기 >

ㄱ. A: 인간은 태어나면서부터 선한 본성을 지니고 있다.  
 ㄴ. B: 인간은 본성을 따를 때 인의를 실천할 수 있다.  
 ㄷ. B: 인간은 지속적인 수양을 통해 인격을 완성할 수 있다.  
 ㄹ. C: 성인은 보통 사람들과 달리 예의를 타고난다.

- ① ㄱ, ㄷ                      ② ㄱ, ㄴ                      ③ ㄴ, ㄷ  
 ④ ㄱ, ㄴ, ㄷ                ⑤ ㄴ, ㄷ, ㄹ

7. 다음을 주장한 그리스도교 사상가의 입장으로 옳은 것만을 <보기>에서 있는 대로 고른 것은?

신의 선물인 재물을 용도에 맞게 사용해야 한다. 재물은 신이 창조한 것으로 선하며, 인간의 이익을 위하여 허용된 것이다. 소명(召命)인 직업에 따라 얻은 재물을 물려받은 재산에 더하는 것도 금지된 적이 없다. 그러나 현세의 쾌락에 빠져 새로운 쾌락을 열망하는 것은 신의 선물을 합법적으로 사용하는 것이 아니다. 신의 선물을 바르게 사용하려면 무절제한 욕망과 과도한 낭비를 버려야 한다. 그리고 신이 명한 대로 약자를 배려해야 한다.

< 보 기 >

ㄱ. 개인이 부를 축적하는 것은 종교적으로 허용될 수 있다.  
 ㄴ. 쾌락을 얻기 위한 사치는 재물의 올바른 사용이 아니다.  
 ㄷ. 사회적 약자를 도와주는 행위는 종교적 의무에 부합한다.  
 ㄹ. 직업을 통해 재물을 획득하는 것은 신의 명령에 어긋난다.

- ① ㄱ, ㄴ                      ② ㄴ, ㄷ                      ③ ㄷ, ㄹ  
 ④ ㄱ, ㄴ, ㄷ                ⑤ ㄱ, ㄷ, ㄹ

8. 다음을 주장한 사회사상가가 긍정의 대답을 할 질문으로 가장 적절한 것은? [3점]

○ 시민 불복종은 거의 정의로운 국가 내에서 그 체제의 합법성을 인정하는 시민들에 의해서만 생겨난다. 거의 정의로운 민주 체제에는 공적 정의관이 있으며 시민 불복종은 이러한 정의관에 근거한다.

○ 시민 불복종은 법에 대한 충실성의 한계 내에서 이루어져야 한다. 법에 대한 충실성은 행위의 공공성과 비폭력성, 행위의 법적 결과를 수용하겠다는 의지에 의해 표현된다.

- ① 시민 불복종은 거의 정의로운 국가에서는 불필요한가?  
 ② 시민 불복종의 참여자는 법적 처벌을 감수해야 하는가?  
 ③ 시민 불복종은 민주 체제의 법질서를 부정하는 행위인가?  
 ④ 시민 불복종의 목적은 부정의하고 부패한 체제의 변혁인가?  
 ⑤ 시민 불복종의 과정에서는 어떠한 수단도 허용될 수 있는가?

9. 그림은 사회사상가 갑, 을의 가상 대화이다. 갑, 을의 입장으로 가장 적절한 것은? [3점]

기존의 경제 이론은 세상을 방임하면 모든 것이 최선이 된다고 봅니다. 이 낙관론은 유효 수요 부족으로 인한 실업 문제를 간과합니다. 자본주의를 유지하려면 고용의 확대를 위한 국가 투자 계획을 수립해야 합니다.

이윤을 추구하는 기업가 대신에 국가가 주도적으로 경제 계획을 수립하는 것은 사회주의의 방식과 같습니다. 사회주의는 '노예의 길'과 다르지 않습니다. 경제 영역에서의 자유 없이 개인의 자유는 가능하지 않습니다.



- ① 갑: 자본주의 체제를 사회주의 체제로 바꾸어야 한다.  
 ② 갑: 시장의 기능만으로는 해결하기 힘든 경제 문제가 있다.  
 ③ 을: 경제 활동에서의 자유는 개인의 자유 실현과 무관하다.  
 ④ 을: 사익을 추구하는 기업 대신 국가가 경제를 주도해야 한다.  
 ⑤ 갑과 을: 국영 기업의 고용 확대를 통해 실업 문제를 해결해야 한다.

10. 다음을 주장한 고대 서양 사상가가 부정의 대답을 할 질문으로 가장 적절한 것은?

통치자는 지혜의 덕을, 방위자는 용기의 덕을, 생산자는 절제의 덕을 갖추어 제 할 일을 하는 국가는 정의롭다. 인간의 정의로움에 대해서도 국가와 같은 방법으로 말할 수 있다. 인간은 영혼의 세 부분이 제 할 일을 할 때 정의롭다. 즉 이성은 지혜를 갖추어 기개와 욕구를 다스리고, 기개는 용기, 욕구는 절제를 갖추어 이성에게 복종하고 협력할 때 정의롭다.

- ① 국가의 세 계층이 조화를 이룰 때 정의가 실현되는가?  
 ② 이성이 욕구를 다스려야 정의로운 인간이 될 수 있는가?  
 ③ 기개는 이성의 지시를 거부하는 용기를 갖추어야 하는가?  
 ④ 정의로운 국가는 지혜의 덕을 갖춘 통치자가 다스리는가?  
 ⑤ 정의로운 인간의 영혼은 세 부분이 제 역할을 수행하는가?

11. (가)의 사회사상가 갑, 을의 입장을 (나) 그림으로 탐구하고자 할 때, A~C에 들어갈 옳은 질문만을 <보기>에서 있는 대로 고른 것은? [3점]

|     |  |
|-----|--|
| (가) | <p>갑: 나는 개인의 자격만으로는 선을 탐구할 수도 없고 덕을 실천할 수도 없다. 나는 내가 속한 공동체로부터 정당한 기대와 책무를 물려받는다. 그것들은 나의 도덕적 출발점을 구성한다.</p> <p>을: 나는 진정한 자유인 소극적 자유를 '~로부터의 자유'라 부른다. 소극적 자유의 보장 정도는 제도나 타인의 방해 없이 이 길, 저 길을 얼마나 자유롭게 갈 수 있는지에 달려 있다.</p>   |
| (나) | <p style="text-align: center;">사상가 갑, 을의 입장을 탐구한다.</p> <div style="display: flex; justify-content: space-around;"> <div style="text-align: center;"> <p>A</p> <p>예</p> <p>B</p> <p>예</p> <p>갑의 입장</p> </div> <div style="text-align: center;"> <p>아니요</p> <p>C</p> <p>예</p> <p>을의 입장</p> </div> </div> <div style="margin-top: 10px;"> <p style="text-align: right;">&lt;범례&gt;</p> <p>□: 출발 조건</p> <p>◇: 판단 내용</p> <p>→: 판단 방향</p> <p>□: 사상가의 입장</p> </div> |


< 보 기 >

ㄱ. A: 개인의 삶에 공동체의 규범이 영향을 줄 수 있는가?  
 ㄴ. B: 개인의 정체성은 공동체의 역사적 전통 속에서 형성되는가?  
 ㄷ. C: 공동체는 개인의 자유와 권리 실현을 위한 수단인가?  
 ㄹ. C: 공동체가 개입할 수 없는 개인만의 영역이 확보되어야 하는가?

- ① ㄱ, ㄴ                      ② ㄱ, ㄷ                      ③ ㄴ, ㄷ  
 ④ ㄱ, ㄷ, ㄹ                ⑤ ㄴ, ㄷ, ㄹ

12. 그림의 강연자가 지지할 입장으로 가장 적절한 것은? [3점]

쾌락은 행복한 인생의 시작이자 끝입니다. 그런데 자연적 욕구들 중 충족하지 않더라도 고통을 느끼지 않는 욕구가 있습니다. 이러한 욕구를 충족하여 얻은 쾌락은 헛된 생각에서 나오는 것입니다. 쾌락의 부재로 인해 고통을 느낄 때는 쾌락이 필요하지만, 고통을 느끼지 않을 때는 쾌락이 더 이상 필요하지 않기 때문입니다. 따라서 자연적이고 필수적인 욕구를 최소한으로 충족하는 삶을 살아야 합니다.



- ① 진정한 행복을 위해 검소하고 절제하는 삶을 살아야 한다.  
 ② 진정한 행복은 자연적 욕구를 최대한 충족할 때 실현된다.  
 ③ 진정한 행복을 실현하려면 욕구를 분별하지 말아야 한다.  
 ④ 진정한 행복은 고통의 제거를 통해서만 실현될 수 없다.  
 ⑤ 진정한 행복은 필수적인 욕구의 제거를 통해 완성된다.

13. 다음 사회사상의 입장으로 적절한 것만을 <보기>에서 있는 대로 고른 것은?

우리에게는 타인에 대한 의무, 즉 혈족의 유대나 시민적 유대를 넘어서는 더욱 확장된 의무가 있다. 또 우리는 보편적 의무뿐 아니라 특수한 삶의 가치도 진지하게 고려해야 한다. 이러한 보편적 의무와 특수한 삶의 가치에 대한 존중을 바탕으로 인류를 세계의 동포로 여겨야 한다.

< 보 기 >

ㄱ. 인류의 구성원을 차별하지 말고 평등하게 존중해야 한다.  
 ㄴ. 타국을 자국 이익을 위한 도구만으로 삼지 말아야 한다.  
 ㄷ. 생명, 자유 등 보편적 가치의 실현에 관심을 가져야 한다.  
 ㄹ. 세계 시민의 의무를 다하려면 지역 공동체의 정체성을 버려야 한다.

- ① ㄱ, ㄴ                      ② ㄴ, ㄷ                      ③ ㄷ, ㄹ  
 ④ ㄱ, ㄴ, ㄷ                ⑤ ㄱ, ㄷ, ㄹ

14. 다음을 주장한 사회사상가의 입장으로 옳은 것만을 <보기>에서 있는 대로 고른 것은? [3점]

폭력을 줄이는 것도 중요하지만 폭력을 예방하는 것이 더 중요하다. 직접적 폭력이 제거된 소극적 평화뿐만 아니라 계급적 억압, 경제적 착취 등의 구조적 폭력과 폭력을 정당화하는 문화적 폭력까지 사라진 적극적 평화를 추구해야 한다. 진정한 평화는 모든 폭력이 사라진 상태이며 이러한 상태는 평화적인 방법으로 이루어야 한다.

< 보 기 >

ㄱ. 문화적 폭력으로 인해 직접적 폭력이 발생할 수 있다.  
 ㄴ. 빈곤과 차별은 인간 삶의 수준을 저하시키는 폭력이다.  
 ㄷ. 진정한 평화는 물리적 폭력이 사라지는 즉시 달성된다.  
 ㄹ. 구조적 폭력의 제거를 위해 사용된 직접적 폭력은 정당하다.

- ① ㄱ, ㄴ                      ② ㄴ, ㄷ                      ③ ㄷ, ㄹ  
 ④ ㄱ, ㄴ, ㄷ                ⑤ ㄱ, ㄷ, ㄹ

15. 다음을 주장한 고대 동양 사상가의 입장으로 옳지 않은 것은?

○ 자기를 이겨 예(禮)로 돌아가면 어질게[仁] 된다. 어질게 되는 것이 자신에게 달린 것이지 남에게 달린 것이겠는가?  
 ○ 군자가 인(仁)을 버리면 군자라고 할 수 있겠는가? 인의 실천 방법은 자신의 마음을 미루어 남을 이해하는 것이다.

- ① 어진 사람이 되기 위해서는 예를 회복해야 한다.  
 ② 사적인 욕망에 따라 행동하면 인에 도달하기 어렵다.  
 ③ 군자는 다른 사람에게 해악이 생기지 않도록 돕는다.  
 ④ 자신이 원하지 않는 것은 남에게도 행하지 말아야 한다.  
 ⑤ 스승의 가르침만 있으면 스스로 노력하지 않아도 군자가 된다.

16. 다음을 주장한 근대 서양 사상가의 입장으로 옳은 것만을 <보기>에서 고른 것은? [3점]

이 세상에는 육체와 영혼이라는 두 가지 실체가 있다. 인간은 육체뿐 아니라 영혼도 지니고 있어 이성적 사유를 하고 언어를 정교하게 구사할 수 있다. 이와 달리 동물은 영혼을 지니지 않아서 이성의 능력이 없고 인간이 사용하는 말과 기호를 구사할 수 없다. 동물은 움직이는 기계에 불과하다.

< 보 기 >

ㄱ. 이성은 인간의 본질을 규정하는 중요한 요소이다.  
 ㄴ. 인간은 다른 생명체보다 본래적으로 우월하지는 않다.  
 ㄷ. 언어 능력의 차이는 인간과 동물을 구별 짓는 특징이다.  
 ㄹ. 인간과 마찬가지로 동물은 이성적인 사유 능력을 지닌다.

- ① ㄱ, ㄴ    ② ㄱ, ㄷ    ③ ㄴ, ㄷ    ④ ㄴ, ㄹ    ⑤ ㄷ, ㄹ

17. 다음을 주장한 고대 동양 사상가의 입장에서 <사례> 속 A에게 제시할 조언으로 적절한 것만을 <보기>에서 고른 것은?

사람은 고기를 먹고 사슴은 풀을 먹으니 누가 참된 맛을 아는 것인가? 사람은 미인을 좋아하고 동물은 미인을 피하니 누가 참된 미(美)를 아는 것인가? 인의(仁義)의 단서와 시비(是非)의 길이 어지러우니 어찌 그 구별을 알겠는가? 도(道)의 관점에서 만물을 평등하게 바라보아야 한다.

<사 례>

고등학교 A는 자신과 친구들의 외모를 비교하곤 한다. A는 자신의 외모가 마음에 들지 않아 고민하고 있다.

< 보 기 >

ㄱ. 외모를 가꾸기보다 인의의 규범을 추구하세요.  
 ㄴ. 사람들이 선호하는 기준에 맞추기 위해 노력하세요.  
 ㄷ. 미추의 구별은 관점에 따라 상대적임을 깨달으세요.  
 ㄹ. 외모에 우열이 존재한다는 생각은 편견임을 명심하세요.

- ① ㄱ, ㄴ    ② ㄱ, ㄷ    ③ ㄴ, ㄷ    ④ ㄴ, ㄹ    ⑤ ㄷ, ㄹ

18. 다음을 주장한 사회사상가의 입장으로 옳은 것은?

인간이 스스로 자신을 국가의 지배하에 두려는 주된 목적은 재산의 보호이다. 국가 성립 이전의 자연 상태에서는 분쟁 해결을 위한 공통의 권력이 존재하지 않는다. 그래서 인간은 자연 상태에서 자연법의 모든 권리를 누릴 자격을 지님에도 불구하고 사회 상태로 이행하는 데 동의한다. 여기에서 우리는 국가는 물론 입법권과 행정권의 기원을 알게 된다.

- ① 국가는 인간의 자연적 본성에 따라 저절로 발생한다.  
 ② 국가의 수립을 통해 비로소 인간은 자연권을 획득한다.  
 ③ 자연 상태에서 인간의 생명과 재산은 온전히 보장된다.  
 ④ 국가 권력은 법에 따라 행사될 때 정당성을 지닐 수 있다.  
 ⑤ 자연 상태에서 모든 분쟁은 공통의 권력 없이도 해결된다.

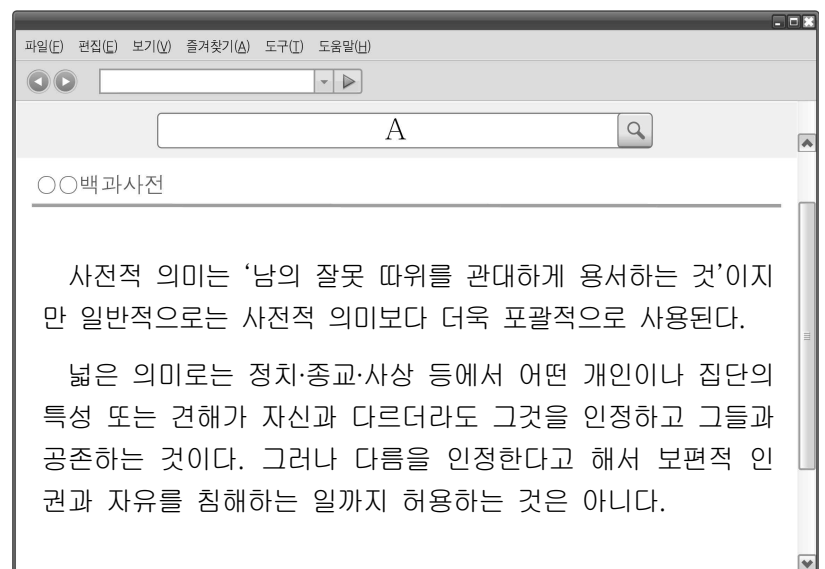
19. 다음 가상 편지를 쓴 사회사상가의 입장으로 가장 적절한 것은?

○○에게

세계화를 다루었던 지난 수업 시간에 자네는 해외 원조에 대한 나의 입장을 알고 싶다고 했었지? 모든 질서 정연한 사회는 고통받는 사회, 즉 정치나 사회 제도가 미비한 사회를 원조할 의무를 지닌다네. 원조는 고통받는 사회가 질서 정연한 국제 사회의 구성원이 되어 합리적인 방법으로 사회를 스스로 관리할 수 있도록 돕는 것을 목표로 하지. 그러나 국가 간 경제적 불평등을 완화하는 것은 원조의 목표가 아니기 때문에, 질서 정연하지만 빈곤한 사회에 대해서는 원조의 의무가 없다네. ...(후략).

- ① 원조를 통해 국가 간 부의 불균형을 조정해야 한다.  
 ② 부유하고 질서 정연한 사회만이 원조의 의무를 지닌다.  
 ③ 원조는 고통받는 사회의 정치 문화 개선을 목표로 해야 한다.  
 ④ 원조는 윤리적 의무가 아니므로 개인의 자선에 맡겨야 한다.  
 ⑤ 천연자원이 풍부한 사회는 원조의 대상에서 제외되어야 한다.

20. 그림은 어떤 용어를 검색한 인터넷 화면이다. A에 대한 설명으로 옳지 않은 것은? [3점]



- ① 신념이 다를 수 있음을 인정하므로 갈등을 예방할 수 있다.  
 ② 주관적인 생각과 판단을 타인에게 강요하지 않는 태도이다.  
 ③ 보편적 가치를 침해하지 않는 타 문화를 존중하는 태도이다.  
 ④ 다양성을 존중하여 어떠한 가치관도 모두 인정하는 태도이다.  
 ⑤ 차이를 인정하므로 개인과 집단에 대한 차별을 막을 수 있다.

\* 확인 사항

○ 답안지의 해당란에 필요한 내용을 정확히 기입(표기)했는지 확인하시오.

제 4 교시

사회탐구 영역 (생활과 윤리)

|    |  |      |  |  |  |   |  |  |  |          |
|----|--|------|--|--|--|---|--|--|--|----------|
| 성명 |  | 수험번호 |  |  |  | 2 |  |  |  | 제 [ ] 선택 |
|----|--|------|--|--|--|---|--|--|--|----------|

1. 갑, 을 사상가들의 입장으로 가장 적절한 것은?

갑: 행복은 그 자체로 바라는 것이지 부나 쾌락 때문에 바라는 것은 아니다. 행복은 궁극적이고 자족적인 것으로 덕에 따르는 영혼의 활동이며 우리 행동의 목적이다.  
 을: 행복한 인생의 시작이자 끝은 쾌락이다. 다만 내가 말하는 쾌락은 방탕한 자들의 쾌락이 아니라 몸의 고통과 마음의 혼란으로부터의 자유이다.

- ① 갑: 행복은 부와 쾌락을 획득하기 위한 영혼의 활동이다.
- ② 갑: 행복을 실현하기 위해서는 반드시 덕을 필요로 한다.
- ③ 을: 행복한 삶은 모든 감각적인 욕망을 제거해야 가능하다.
- ④ 을: 행복은 육체가 아닌 정신의 고통이 소멸되어야 실현된다.
- ⑤ 갑과 을: 행복은 쾌락을 최대한 충족해야 달성되는 것이다.

2. 다음 신문 칼럼의 입장으로 가장 적절한 것은? [3점]

○○신문 ○○○○년 ○○월 ○○일

칼럼

최근 우리 전통 음식의 가치가 세계적으로 주목받으면서 향토 문화유산인 △△비빔밥은 특산물, 간편식과 같은 상품으로 개발되어 여러 국가에서 인기리에 판매되고 있다. 이처럼 우리의 전통문화를 세계적인 문화 상품으로 육성한다면, 전통문화를 창조적으로 계승하고 지역 경제도 활성화할 수 있다. 따라서 우리는 전통문화의 고유성에 소비자의 기호, 현대의 생활 양식, 세계인의 취향을 접목하여 경쟁력 있는 문화 상품을 개발해야 한다.

- ① 예로부터 내려온 문화유산의 상업적인 활용은 불필요하다.
- ② 전통문화의 상품화와 전통문화의 고유성은 양립할 수 없다.
- ③ 전통문화를 계승하는 유일한 방법은 원형 그대로의 보존이다.
- ④ 전통문화를 대중의 생활 방식에 따라 변형하는 것은 잘못이다.
- ⑤ 문화유산에 현대인의 기호를 접목해 부가가치를 만들 수 있다.

3. 다음 글의 입장으로 적절한 것만을 <보기>에서 있는 대로 고른 것은?

저출산·고령화 현상이 지속되면 잠재 성장률이 하락하고, 사회 보장 비용의 증가에 따른 세대 간 갈등이 발생할 수 있다. 이에 대해 우리는 전통적 가족 윤리를 바탕으로 노인에 대한 인식을 개선하고, 세대 간 배려와 의무를 다해야 한다. 또한 제도적 차원에서 노년층의 취업 기회를 제공하는 것과 같은 경제 활동 지원책에 대한 사회적 공감대 형성이 필요하다.

< 보 기 >

- ㄱ. 노인 공경의 전통 윤리를 회복하려는 노력이 필요하다.
- ㄴ. 세대 간 갈등 해소를 위한 제도적 방안을 마련해야 한다.
- ㄷ. 고령화로 인한 문제 해결을 위해 사회적 공감대 필요하다.
- ㄹ. 노인을 생산이나 소비의 주체로 간주하는 것은 옳지 않다.

- ① ㄱ, ㄴ                      ② ㄱ, ㄷ                      ③ ㄷ, ㄹ
- ④ ㄱ, ㄴ, ㄷ                ⑤ ㄴ, ㄷ, ㄹ

4. 갑, 을 모두가 긍정의 대답을 할 질문으로 적절한 것만을 <보기>에서 고른 것은? [3점]

갑: 자신의 욕구, 상품에 대한 정보, 비용 대비 편익을 고려하여 최선의 제품을 구매하는 것이 합리적인 소비이다. 이를 위해서는 구매를 원하는 상품을 자신의 소득 범위 내에서 소비할 때 얻게 되는 만족감과 그 상품의 소비에 따르는 기회비용을 꼼꼼히 따져 봐야 한다.  
 을: 자신의 소득 범위 내에서 소비하면서도 상품의 생산, 유통, 사용 이후의 처리 과정까지 사회에 미치는 영향을 고려하여 상품을 선택하는 것이 바람직한 소비이다. 이를 위해 공정 무역 상품, 친환경 상품을 구매하고 쓰레기가 최소한으로 배출되도록 노력해야 한다.

< 보 기 >

- ㄱ. 상품 구매 시 경제적 효용이 유일한 기준이어야 하는가?
- ㄴ. 자신의 소득 범위를 넘어서는 과소비는 지양되어야 하는가?
- ㄷ. 상품 구매 시 소비자의 자율적 선택권은 인정되어야 하는가?
- ㄹ. 소비가 공동체에 미치는 영향을 고려하지 말아야 하는가?

- ① ㄱ, ㄴ    ② ㄱ, ㄷ    ③ ㄴ, ㄷ    ④ ㄴ, ㄹ    ⑤ ㄷ, ㄹ

5. 다음 가상 편지의 입장으로 적절한 것만을 <보기>에서 있는 대로 고른 것은?

○○에게

자네가 질문한 기업의 사회적 책임에 대해 나의 견해를 말하려 하네. 기업은 사회를 떠나 존재할 수 없고 소비자 없이 존재할 수도 없네. 기업은 합법적인 이윤 추구 외에도 환경 경영, 윤리 경영, 사회 공헌 등을 고려하여 의사 결정을 해야 하네. 이러한 사회적 책임을 이행하는 기업이 시장에서 경쟁력을 가지고 장기적으로 이익을 취할 수 있네. 그런데 기업이 이런 사회적 책임을 경시한다면 결국 그 기업은 소비자들로부터 외면당할 수 있네.

< 보 기 >

- ㄱ. 기업의 목적은 이익 추구를 배제한 사회적 책임 구현이다.
- ㄴ. 기업은 사회 공헌 활동으로 소비자의 지지를 얻을 수 있다.
- ㄷ. 기업의 윤리 경영 실천은 장기적 이익으로 이어질 수 있다.
- ㄹ. 기업의 사회적 책임이 법적 책임으로 한정되어서는 안 된다.

- ① ㄱ, ㄴ                      ② ㄱ, ㄷ                      ③ ㄴ, ㄷ
- ④ ㄱ, ㄷ, ㄹ                ⑤ ㄴ, ㄷ, ㄹ

6. 다음 수업 장면에서 교사의 질문에 적절한 대답을 한 학생만을 있는 대로 고른 것은?

<잊혀질 권리>

1. 의미: 공개되기를 원치 않는 자신의 민감한 정보들이 포털 사이트 등을 통해 타인들에게 공개되지 않도록 정보를 통제할 수 있는 권리
2. 대상: 과거에는 공개가 적법했다 하더라도 시간이 지나 더 이상 정확하지 않거나, 적절하지 않거나, 과도해지거나, 관련성이 없어진 경우에 해당하는 정보
3. 제도화의 사회적 영향: ㉠


자신과 관련된 과거의 부정적인 기록의 영향에서 벗어날 수 있습니다.

개인 정보에 대한 자기 결정권이 강화될 수 있습니다.

㉠에 들어갈 알맞은 말은 무엇일까요?

잊혀질 권리와 대중의 알 권리가 충돌할 수 있습니다.

언론의 자유가 과도해져 사생활이 침해될 수 있습니다.



- ① 갑, 을                      ② 갑, 병                      ③ 병, 정  
 ④ 갑, 을, 정                  ⑤ 을, 병, 정

7. (가)의 갑, 을 사상가들의 입장을 (나) 그림으로 탐구하고자 할 때, A~C에 들어갈 적절한 질문만을 <보기>에서 고른 것은? [3점]

|     |   |
|-----|---|
| (가) | <p>갑: 자연에 대한 인간의 지배력은 기술과 과학에 의해 좌우된다. 신이 선물로 준 자연에 대한 지배력은 올바른 이성의 인도를 받아 행사되어야 한다.</p> <p>을: 대지 윤리는 인간의 역할을 대지 공동체의 정복자에서 평범한 구성원으로 변화시킨다. 인간은 동료 구성원과 공동체 자체를 존중해야 한다.</p>   |
| (나) | <div style="border: 1px solid black; padding: 5px; font-size: small;"> <p>사상가 갑, 을의 입장을 탐구한다.</p> <pre>                     graph TD                         Start[사상가 갑, 을의 입장을 탐구한다.] --&gt; A{A}                         A -- 예 --&gt; B{B}                         B -- 예 --&gt; G1[갑의 입장]                         B -- 아니요 --&gt; C{C}                         C -- 예 --&gt; G2[을의 입장]                     </pre> </div> <div style="margin-top: 5px; font-size: x-small;"> <p>&lt;범례&gt;</p> <p>□: 출발 조건</p> <p>◇: 판단 내용</p> <p>→: 판단 방향</p> <p>▭: 사상가의 입장</p> </div> |

- < 보 기 >
- ㄱ. A: 인간은 자연보다 본질적으로 우월한 존재인가?  
 ㄴ. B: 인간은 과학을 활용하여 자연을 지배해야 하는가?  
 ㄷ. B: 인간은 모든 동물과 동일한 도덕적 지위를 가지는가?  
 ㄹ. C: 인간은 생태계 자체를 도덕적으로 존중해야 하는가?
- ① ㄱ, ㄴ    ② ㄱ, ㄷ    ③ ㄴ, ㄷ    ④ ㄴ, ㄹ    ⑤ ㄷ, ㄹ

8. 다음을 주장한 사상가의 입장에서 <문제 상황> 속 A에게 제시할 조언으로 가장 적절한 것은? [3점]

다른 것을 위한 수단으로서만 선한 행위를 이끄는 명령은 가언적이고, 그 자체로서 선하다고 생각되는 행위를 이끄는 명령은 정언적이다. '너의 의지의 준칙이 항상 동시에 보편적인 법칙 수립의 원리로서 타당할 수 있도록 행위하라.'라는 것은 정언적 명령이다.

<문제 상황>

고등학생 A는 친구 B가 다른 급우의 휴대폰을 훔치는 것을 목격하였다. A는 자신에게 목격 여부를 묻는 담임 선생님께서 사실대로 말해야 할지 고민 중이다.

- ① 학급 전체에 유용성을 산출하는 행위가 되도록 행동하세요.
- ② 자연적 경향성에 근거하여 도덕적으로 판단하여 결정하세요.
- ③ 학교의 교칙에 부합하는 행위가 도덕적 행위임을 명심하세요.
- ④ 담임 선생님께서 칭찬을 받기 위해 진실되게 행동하세요.
- ⑤ 자신의 손익을 고려하지 말고 보편적인 도덕 법칙에 따르세요.

9. ㉠에 들어갈 진술로 적절하지 않은 것은?

남북한의 분단 상황은 국가 발전 및 세계 평화를 저해한다. 우리는 독일 통일의 사례에서 남북통일을 위한 시사점을 얻을 수 있다. 통일 전 독일은 사회 통합 기반 마련을 위한 교류 활성화, 안보 불안 축소를 위한 대화, 상호 간 편견과 불신 해소를 위한 통일 교육을 하였다. 또한 독일의 통일이 주변국에 위협이 아닌 평화를 촉진시킬 것임을 설득하여 통일을 이룩할 수 있었다. 따라서, 우리는 ㉠

- ① 분단 상황에서도 남북한이 교류하는 기회를 마련해야 한다.
- ② 남북통일에 우호적인 국제 환경 조성을 위해 노력해야 한다.
- ③ 통일 이전이 아닌 통일 이후에 사회 통합을 위해 힘써야 한다.
- ④ 남북한 대화를 통해 안보 및 평화 구축을 위해 노력해야 한다.
- ⑤ 상호 이해와 적대감 해소를 위한 통일 교육을 활성화해야 한다.

10. 다음을 주장한 사상가의 입장으로 적절한 것만을 <보기>에서 고른 것은? [3점]

개인은 오직 자신의 이익을 추구할 뿐이며 이러한 이익 추구는 개인의 의도와 상관없이 '보이지 않는 손'의 영향을 받는다. 개인이 자신의 이익을 추구함으로써 오히려 국가의 이익도 증진하게 되는데, 이 경우 의도적으로 국가의 이익을 추구하려 할 때보다 더 큰 효과를 낼 수 있다.

- < 보 기 >
- ㄱ. 시장에 대한 국가의 개입만이 국익을 증진시킬 수 있다.  
 ㄴ. 사익 추구 과정에서 국가의 부도 저절로 증진될 수 있다.  
 ㄷ. 시장의 자율성을 신뢰할 때 효율적 자원 배분이 가능하다.  
 ㄹ. 개인의 경제적 자율성을 규제할수록 시장의 효율성이 증진된다.

- ① ㄱ, ㄴ    ② ㄱ, ㄷ    ③ ㄴ, ㄷ    ④ ㄴ, ㄹ    ⑤ ㄷ, ㄹ

11. 다음 토론의 핵심 쟁점으로 가장 적절한 것은?

갑: 건강하고 쾌적한 환경에서 살 권리인 환경권이 보호되지 않으면 인간의 생존이 위협당할 수 있습니다. 우리는 환경에 대한 책임 의식을 가지고 환경권을 보호해야 합니다.  
 을: 그렇습니다. 환경 문제는 현세대뿐 아니라 아직 태어나지 않은 미래 세대의 삶도 위협하는 문제이므로, 우리는 현세대와 미래 세대 모두의 환경권을 보호해야 합니다.  
 갑: 현세대와 미래 세대가 모두 환경권을 갖지만, 우리가 우선 고려해야 할 대상은 현재 존재하는 인간입니다. 미래 세대보다 현세대의 환경권을 우선 보호해야 합니다.  
 을: 아닙니다. 우리는 현세대와 미래 세대의 환경권을 동등하게 고려해야 합니다. 미래 세대도 건강하고 쾌적한 환경에서 살 수 있도록 하는 것은 현세대의 의무입니다.

- ① 인간에게 환경 문제는 생존을 위협하는 문제인가?
- ② 미래 세대보다 현세대의 환경권을 우선 고려해야 하는가?
- ③ 인간은 누구나 쾌적한 자연 환경을 누릴 권리를 가지는가?
- ④ 현세대는 환경 문제에 대한 책임 의식을 가져야만 하는가?
- ⑤ 환경권은 인간이 건강한 삶을 영위하기 위해 필요한 권리인가?

12. (가)의 입장에 비해 (나)의 입장이 갖는 상대적 특징을 그림의 ㉠ ~ ㉣ 중에서 고른 것은?

(가) 다문화 정책은 문화적 동질화를 통한 사회 통합을 목표로 한다. 이를 위해 이민자가 출신국의 언어, 문화, 사회적 특성을 포기하여 주류 사회의 일원이 되도록 해야 한다.

(나) 다문화 정책은 다양한 문화의 조화를 통한 사회 통합을 목표로 한다. 이를 위해 이민자 문화를 포함한 모든 문화의 정체성을 동등하게 존중해야 한다.

- ① ㉠      ② ㉡      ③ ㉢      ④ ㉣      ⑤ ㉣

13. 다음을 주장한 사상가의 입장으로 가장 적절한 것은? [3점]

단 한 명이라도 부당하게 감옥에 가두는 정부 밑에서 의로운 사람이 진정으로 자신의 양심을 지킬 수 있는 곳은 감옥뿐이다. 불의가 당신으로 하여금 다른 사람에게 불의를 행하는 하수인이 되라고 요구한다면, 그 법을 즉시 어겨야 한다.

- ① 개인의 양심에 따른 시민 불복종은 정당화가 가능하다.
- ② 시민 불복종은 사회 정의 실현을 위한 합법적인 행위이다.
- ③ 시민 불복종이 정당화되려면 정부의 이익에 근거해야 한다.
- ④ 불의한 법일지라도 정부에 의해 개정될 때까지 지켜야 한다.
- ⑤ 정의보다 법에 대한 존경심으로 시민 불복종에 참여해야 한다.

14. 갑, 을의 입장으로 적절하지 않은 것은?

갑: 인공 지능 채팅 로봇은 24시간 고객 서비스를 제공하는 등 기업의 업무 효율성을 높일 수 있다. 하지만 인공 지능 채팅 로봇 개발 과정에서 데이터를 확보할 때 개인정보 보호 문제와 사생활 침해 문제가 발생할 수 있다. 기업은 이를 예방하기 위해 윤리적 지침을 자율적으로 만들고 적용해야 한다.  
 을: 인공 지능 채팅 로봇 개발 과정에서는 수집된 사적 정보에 대한 개인의 동의 여부, 데이터 편향성, 인권 침해 등의 문제가 생겨날 수 있다. 이러한 윤리적 문제를 예방하기 위해 정부가 인공 지능 채팅 로봇 개발 기업이 따라야 할 윤리적 지침을 만들어 시행해야 한다.

- ① 갑: 인공 지능 채팅 로봇은 기업의 효율성을 증대시킬 수 있다.
- ② 갑: 인공 지능 채팅 로봇 개발 과정에서 사생활 침해 문제가 발생할 수 있다.
- ③ 을: 인공 지능 채팅 로봇 개발 과정에서 인권을 침해해서는 안 된다.
- ④ 을: 인공 지능 채팅 로봇 개발 과정에서 발생 가능한 데이터 편향성 문제를 예방해야 한다.
- ⑤ 갑과 을: 인공 지능 채팅 로봇 개발에 대한 윤리적 지침을 기업이 만들어서는 안 된다.

15. (가)의 갑, 을 사상가들의 입장을 (나) 그림으로 표현할 때, A ~ C에 해당하는 적절한 진술만을 <보기>에서 있는 대로 고른 것은? [3점]

|     |  |
|-----|--|
| (가) | <p>갑: 공정한 분배가 이루어지려면 사회 제도는 원칙적 입장에서 합의된 정의의 원칙들에 의해 규제되어야 한다.</p> <p>을: 한 사람의 소유물은 취득, 이전, 교정 원리에 의해 권리를 부여받았으면 정당하다. 과거의 상황이나 행위는 사물에 대한 차별적 소유권을 낳는다.</p> |
| (나) | <p style="text-align: right;">&lt;범례&gt;<br/>                 A: 갑만의 입장<br/>                 B: 갑, 을의 공통 입장<br/>                 C: 을만의 입장</p>               |

<보기>

- ㄱ. A: 사회적 유용성이 분배 정의의 기준이 되어야 한다.
- ㄴ. B: 자연적 운에 따른 경제적 불평등은 허용될 수 있다.
- ㄷ. B: 정의로운 분배를 위한 국가의 개입은 정당화될 수 있다.
- ㄹ. C: 노동으로 취득한 소유권은 어떤 경우에도 제한될 수 없다.

- ① ㄱ, ㄴ      ② ㄴ, ㄷ      ③ ㄷ, ㄹ
- ④ ㄱ, ㄴ, ㄹ      ⑤ ㄱ, ㄷ, ㄹ




16. 다음을 주장한 사상가의 입장으로 가장 적절한 것은? [3점]

우리는 행복이 많고 고통이 덜한 세상을 지지한다. 풍요로운 사회의 부유한 사람들은 소득의 일부를 기부하여 고통받는 세계의 절대 빈민을 도와야 한다. 먼 곳에 사는 사람들이나 다른 인종이 겪는 고통이라고 해서 차별하지 않고, 전 지구적 차원에서 원조하는 것은 윤리적 의무이다.

- ① 원조는 원조 대상의 인종과 관계없이 시행되어야 한다.
- ② 원조는 의무가 아닌 개인적 선택의 문제로 보아야 한다.
- ③ 원조는 인류 전체의 행복 증진과 무관하게 행해져야 한다.
- ④ 원조는 가난한 나라의 모든 구성원을 대상으로 해야 한다.
- ⑤ 원조는 원조 주체의 경제력을 고려하지 않고 행해져야 한다.

17. 그림의 강연자가 지지할 주장으로 적절하지 않은 것은? [3점]

저녁의 별도 새벽의 별도 정의만큼 경탄할 만하지는 않습니다. 법을 준수하는 것과 공정한 것은 정의롭습니다. 공공의 재화를 분배할 때 당사자들이 거기에 기여한 정도에 비례하여 분배하는 것은 정의롭습니다. 어떤 사람이 누군가를 상처 입혀 가해와 피해가 불균등하게 분배되어 있을 때 가해자 측으로부터 이득을 빼앗아 손실이 균등해지도록 하는 것은 정의롭습니다.



- ① 공익을 지향하는 법을 지키지 않는 것은 정의롭지 못하다.
- ② 공공의 재화를 기여도에 비례하여 분배하는 것은 정의롭다.
- ③ 사람 간의 관계에서 옳음을 추구하면 정의는 실현될 수 있다.
- ④ 정의는 비례를 지키는 것, 부정의는 비례를 깨뜨리는 것이다.
- ⑤ 사람 간의 가해와 피해의 불균등을 교정하는 것은 부정의하다.

18. ㉠에 들어갈 적절한 진술만을 <보기>에서 고른 것은?


세계는 온통 연결되어 있다. 경제, 정치, 기술, 보건 등 모든 분야는 국경을 넘어 서로 끝없이 영향을 끼치고 있다. 나는 이러한 세계화가 불공정한 무역 구조를 이용한 일부 국가가 이익을 독점하게 만들고, 노동력 착취나 환경 파괴와 같은 문제를 발생시키며, 통제 불가능한 전염병을 확산시킨다고 본다. 그런데 어떤 사람들은 세계화로 인해 인류 전체가 높은 수준의 복지와 편리, 의료 혜택을 고르게 누릴 수 있게 된다고 주장한다. 나는 이러한 주장이 ㉠는 점을 간과한다고 생각한다.

- < 보 기 > —
- ㄱ. 세계화로 인해 전 지구적 차원의 인권 문제가 해결된다
  - ㄴ. 세계화에 따른 경쟁으로 국가 간 빈부 격차가 심화된다
  - ㄷ. 세계화는 환경을 파괴하여 인류의 고통을 증가시킬 수 있다
  - ㄹ. 세계화는 의료 분야의 국제적 협력을 용이하게 할 수 있다


- ① ㄱ, ㄴ    ② ㄱ, ㄷ    ③ ㄴ, ㄷ    ④ ㄴ, ㄹ    ⑤ ㄷ, ㄹ

19. 다음 가상 대화의 스승이 지지할 입장으로 가장 적절한 것은? [3점]

스승님, 도(道)는 무엇인가요?




우주 만물의 근원이자 변화의 법칙이라네. 도는 자연(自然)을 본받아 어긋남이 없는 것이며, 인간의 언어로 표현할 수 없다네.



그렇다면, 도를 따르는 삶을 살려면 어떻게 해야 하나요?



무위(無爲)로써 일을 처리하고, 만물을 자연에 맡겨 자라게 하되 간섭하지 않아야 하고, 기르되 소유하지 않아야 한다네.



- ① 자연은 인간의 필요를 충족하기 위한 도구임을 알아야 한다.
- ② 자연의 흐름에 따라 인위적 규범에 구애받지 않고 살아야 한다.
- ③ 자연 만물 각자의 고유한 가치를 파악하고 위계를 정해야 한다.
- ④ 자연을 도의 관점에서 바라보아 분별적인 지혜를 쌓아야 한다.
- ⑤ 자연 전체의 조화를 위해 우주 만물의 근원을 변화시켜야 한다.

20. 그림은 인터넷 게시판 화면이다. 밑줄 친 질문에 대한 적절한 댓글만을 ㉠~㉣ 중에서 있는 대로 고른 것은?

파일(F) 편집(E) 보기(V) 즐겨찾기(S) 도구(T) 도움말(H)

○○ 윤리 카페

전체 글 보기 | 공지 사항 | 게시판

인권은 인간 존엄성을 유지하며 살아갈 수 있도록 모든 사람이 누려야 하는 기본적인 권리입니다. 그러나 전쟁, 기아, 환경 파괴 등으로 인권 침해가 당하면서도 자신의 인권을 옹호할 힘이 없는 사람들이 많습니다. 이런 사람들의 인권을 보장하기 위한 세계 시민주의 차원의 노력에는 어떤 것이 있을까요?

- ↳ ㉠ 갑: 기후 변화로 인해 발생한 재난 지역에서 자원봉사를 해야 합니다.
- ↳ ㉡ 을: 기아로 고통받는 아동들을 위한 긴급 구호 활동에 참여해야 합니다.
- ↳ ㉢ 병: 전쟁으로 인한 난민들의 의식주 문제를 해결할 수 있도록 국제 사회가 협력해야 합니다.
- ↳ ㉣ 정: 환경 파괴로 인한 생존권 위협은 인권 문제가 아니며 해당 국가가 단독으로 책임져야 합니다.

- ① ㉠, ㉡    ② ㉠, ㉢    ③ ㉡, ㉣
- ④ ㉠, ㉢, ㉣    ⑤ ㉡, ㉢, ㉣

**\* 확인 사항**  
 ○ 답안지의 해당란에 필요한 내용을 정확히 기입(표기)했는지 확인하십시오.

제 4 교시

사회탐구 영역(사회·문화)

|    |  |      |  |  |  |   |  |  |  |          |
|----|--|------|--|--|--|---|--|--|--|----------|
| 성명 |  | 수험번호 |  |  |  | 2 |  |  |  | 제 ( ) 선택 |
|----|--|------|--|--|--|---|--|--|--|----------|

1. 다음 글에서 부각되는 사회화의 기능에 대한 진술로 가장 적절한 것은?

사회화는 개인이 접하는 것들을 수동적으로 받아들이게 하는 ‘문화적 프로그래밍’이 아니다. 개인은 성장하면서 자신을 둘러싼 외부와의 상호 작용을 통해 능동적으로 자신에 대한 상(像)을 만들어 간다. 이를 통해 개인은 자신이 누구이며 자신에게 중요한 것이 무엇인지를 이해하게 된다.

- ① 세대 간 문화 전승을 가능하게 한다.
- ② 개인의 자아 정체성 형성에 기여한다.
- ③ 사회가 유지되고 존속될 수 있게 한다.
- ④ 사회 구성원 간의 동질성 확보에 기여한다.
- ⑤ 사회 규범을 습득할 수 있는 기회를 제공한다.

2. 밑줄 친 ㉠, ㉡에 대한 옳은 설명만을 <보기>에서 고른 것은?

사회 통합을 실현하기 위한 다문화 정책의 방향은 두 가지가 있다. ㉠ 동화주의는 사회 통합을 위해 이민자들이 주류 문화를 수용해야 함을 강조한다. 반면 ㉡ 다문화주의는 이민자들의 문화에 대한 존중을 바탕으로 사회 안에서 서로 다른 문화가 공존해야 한다고 주장한다.

< 보 기 >

㉠. ㉠은 구성원 간 공통의 정체성보다 문화적 다양성을 중시한다.  
 ㉡. 이민자들에게 그들이 정착한 사회의 역사를 배우게 하는 정책은 ㉠에 부합한다.  
 ㉢. 이민자들에게 그들의 언어로 생활 정보를 제공하는 정책은 ㉡에 부합한다.  
 ㉣. ㉠, ㉡ 모두 이민자들의 문화를 배척한다는 비판을 받는다.

- ① ㉠, ㉡    ② ㉠, ㉢    ③ ㉡, ㉣    ④ ㉠, ㉣    ⑤ ㉡, ㉣

3. 다음 사례에 대한 설명으로 가장 적절한 것은?

우리나라 음악인들이 판소리에 락(rock) 음악을 접목한 곡을 발표하여 큰 인기를 얻었다. 또한 우리나라 무용가들이 조선 시대 궁중 무용과 자유분방한 힙합 춤을 하나의 리듬 속에 녹여 낸 무대를 선보여 호평을 받았다.

- ① 새로운 문화 창조를 위해 전통문화와 단절하였다.
- ② 전통문화를 원형대로 보존하려는 노력이 나타났다.
- ③ 전통문화 요소를 외래문화 요소로 전면 대체하였다.
- ④ 전통문화의 가치를 훼손하는 외래문화 요소를 배제하였다.
- ⑤ 전통문화 요소와 외래문화 요소를 결합하는 시도가 나타났다.

4. 밑줄 친 ㉠~㉣에 대한 옳은 설명만을 <보기>에서 고른 것은? [3점]

미리 가 보는 대학  
 <㉠ ○○대학교 탐방>



- 참가 대상: 고등학생 자녀가 있는 ㉡ 가족
- 진행: ㉢ ○○대학교 교육 동아리
- 후원: ㉣ △△도 교육청

< 보 기 >

㉠. ㉠은 자연 발생적으로 형성된 사회 집단에 해당한다.  
 ㉡. ㉡은 1차 집단에 해당한다.  
 ㉢. ㉢은 ㉠과 달리 구성원 간의 수단적 만남이 지배적인 집단에 해당한다.  
 ㉣. ㉢, ㉣ 모두 선택 의지에 따라 형성된 사회 집단에 해당한다.

- ① ㉠, ㉡    ② ㉠, ㉢    ③ ㉡, ㉣    ④ ㉠, ㉣    ⑤ ㉡, ㉣

5. 다음 두 사례에 공통적으로 나타난 정보 사회의 문제점에 대한 적절한 대책만을 <보기>에서 고른 것은? [3점]

- 코로나19의 유행 초기에 마스크 판매처에 대한 정보가 모바일 앱으로 제공되었지만 스마트폰을 가지고 있음에도 불구하고 모바일 앱 이용 방법을 모르는 사람들은 마스크를 구매할 수 없었다.
- 음식 주문 시 키오스크를 사용하는 식당이 늘어나면서 이를 다루기 어려워하는 사람들이 대면으로 음식 주문을 할 수 있는 식당을 찾느라 불편을 겪고 있다.

\*키오스크(kiosk): 터치 스크린 방식의 무인 정보 전달 단말기

< 보 기 >

㉠. 인터넷 속도 향상을 위해 초고속 통신망을 구축한다.  
 ㉡. 정보 취약 계층에 대한 정보 기기 활용 교육을 확대한다.  
 ㉢. 저소득층에게 정보 기기 구매를 위한 보조금을 지급한다.  
 ㉣. 누구나 쉽게 이용할 수 있는 정보 기기 프로그램 개발을 지원한다.

- ① ㉠, ㉡    ② ㉠, ㉢    ③ ㉡, ㉣    ④ ㉠, ㉣    ⑤ ㉡, ㉣

6. 밑줄 친 ㉠~㉣에 대한 설명으로 옳은 것은? [3점]

㉠ 교사인 갑은 원격 수업에 대비해 ㉡ 연수원에서 특강을 들었다. 이를 바탕으로 갑은 자신의 수업을 동영상으로 제작하여 온라인 영상 플랫폼에 올렸는데, 그 영상이 높은 조회수를 기록하면서 ㉢ 전국적으로 유명세를 타게 되었다. 이후 갑은 ㉣ 고등학교에서 계속 교사를 할 것인지 학원으로 이직하여 강사를 할 것인지 ㉤ 고민하다가 ㉥ 배우자와 상의한 끝에 고등학교에 남기로 결정하였다.

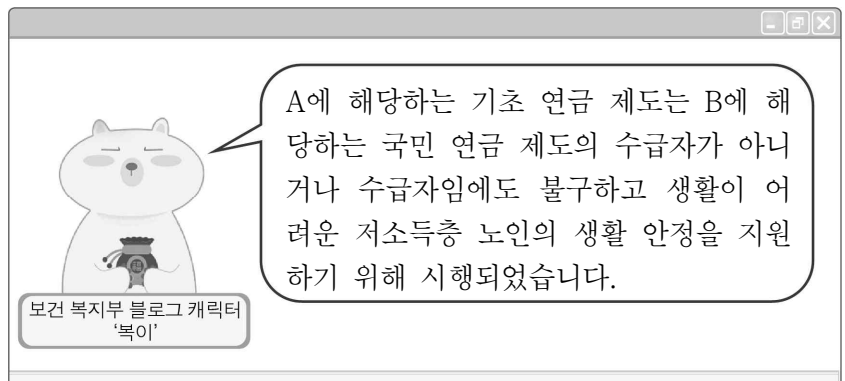
- ① ㉠은 성취 지위이다.
- ② ㉡은 갑의 역할 갈등에 해당한다.
- ③ ㉢은 개인의 의지나 노력과 상관없이 주어지는 지위이다.
- ④ ㉣은 ㉠으로서 갑의 역할에 대한 보상이다.
- ⑤ ㉡, ㉣ 모두 기초적인 수준의 사회화를 담당하는 기관에 해당한다.

7. 대중 매체 유형 A~C에 대한 설명으로 옳은 것은? (단, A~C는 각각 인쇄 매체, 전통적 영상 매체, 뉴 미디어 중 하나임.)

청소년들이 뉴스를 접하는 경로에 대한 최근 조사 결과에 따르면 A를 이용한다는 응답이 80%로 가장 높았다. 이는 스마트폰을 사용하는 청소년들이 모바일 환경에 익숙하기 때문인 것으로 이해된다. 한편 B는 15%, C는 5%의 응답자가 이용한다고 답했다. 이는 B가 C와 달리 시각 정보와 청각 정보를 동시에 전달할 수 있기 때문인 것으로 보인다.

- ① B는 A에 비해 정보 복제 및 재가공이 용이하다.
- ② C는 B와 달리 많은 사람에게 대량의 정보를 전달할 수 있다.
- ③ A는 B, C에 비해 정보의 쌍방향 전달 가능성이 높다.
- ④ C는 A, B에 비해 정보 생산자와 소비자의 경계가 불분명하다.
- ⑤ A~C 모두 정보의 실시간 전달이 가능하다.

8. 우리나라 사회 보장 제도의 유형 A, B의 일반적인 특징에 대한 설명으로 옳은 것은? (단, A, B는 각각 공공 부조, 사회 보험 중 하나임.)



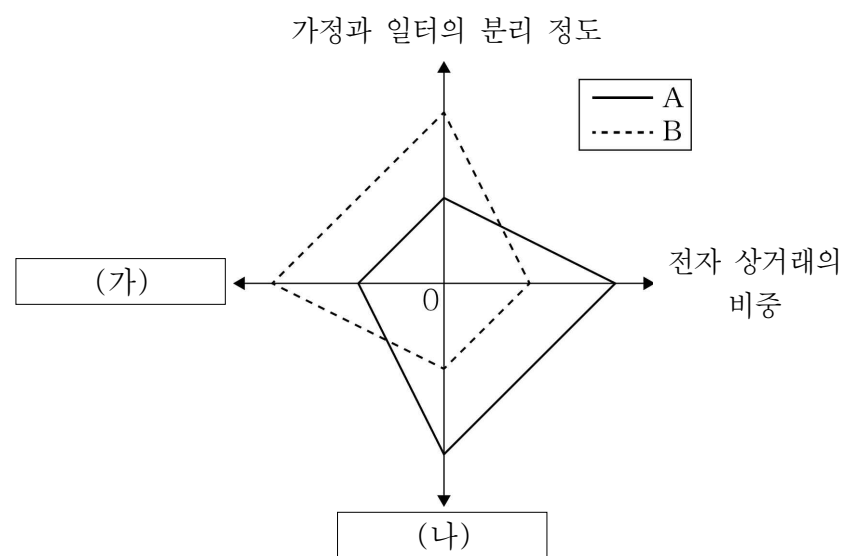
- ① A는 강제 가입의 원칙이 적용된다.
- ② B는 상호 부조의 원리를 바탕으로 한다.
- ③ A는 B에 비해 사전 예방적 성격이 강하다.
- ④ B는 A에 비해 소득 재분배 효과가 크다.
- ⑤ A, B 모두 비금전적 지원을 원칙으로 한다.

9. 그림에 나타난 갑, 을의 문화 이해 태도에 대한 설명으로 옳은 것은?



- ① 갑의 태도는 자기 문화의 정체성을 약화시킬 가능성이 크다.
- ② 을의 태도는 모든 문화가 고유한 가치를 지닌다고 전제한다.
- ③ 갑의 태도는 을의 태도에 비해 타문화 수용에 적극적이다.
- ④ 을의 태도는 갑의 태도와 달리 자기 문화를 기준으로 타문화를 평가한다.
- ⑤ 갑, 을의 태도 모두 문화 간에 우열이 존재한다고 본다.

10. 그림은 A, B의 일반적인 특징을 비교한 것이다. 이에 대한 옳은 설명만을 <보기>에서 고른 것은? (단, A, B는 각각 산업 사회, 정보 사회 중 하나임.) [3점]



\* 0에서 멀어질수록 그 정도와 비중이 높거나 큼.

< 보 기 >  
 ㄱ. A는 B에 비해 다품종 소량 생산 방식의 비중이 높다.  
 ㄴ. B는 A에 비해 사회 변동의 속도가 느리다.  
 ㄷ. (가)에는 '비대면 접촉의 비중'이 들어갈 수 있다.  
 ㄹ. (나)에는 '정보 확산의 시공간적 제약 정도'가 들어갈 수 있다.

- ① ㄱ, ㄴ    ② ㄱ, ㄷ    ③ ㄴ, ㄷ    ④ ㄴ, ㄹ    ⑤ ㄷ, ㄹ

11. 다음 두 사례에서 공통적으로 부각되는 문화의 속성에 대한 진술로 옳은 것은?

- 갑국 사람들은 성별에 구애받지 않고 가족이 함께 목욕하는 것을 즐긴다. 이는 다른 나라 사람들에게는 낯설게 느껴지지만 갑국 사람들에게는 매우 익숙한 행위이다.
- 을국 사람들은 국수를 끊어 먹으면 생명이 단축되는 불행이 온다고 생각한다. 따라서 을국 사람이라면 누구나 면을 끊지 않고 한 번에 먹으려 노력한다.

- ① 문화는 상징을 통해 후천적으로 학습된다.
- ② 문화는 시간이 흐르면서 지속적으로 변화한다.
- ③ 문화의 각 요소들은 상호 유기적으로 결합되어 있다.
- ④ 문화는 세대 간 전승을 통해 점차 복잡하고 풍부해진다.
- ⑤ 문화는 한 사회 구성원들 간 원활한 상호 작용의 토대가 된다.

12. 문화 변동 요인 A~C에 대한 설명으로 옳은 것은? (단, A~C는 각각 발명, 간접 전파, 자극 전파 중 하나임.) [3점]

- '문화 변동의 내재적 요인에 해당하는가?'라는 질문으로 A와 B를 구분할 수 있다.
- '외부 사회의 문화 요소에서 아이디어를 얻어 새로운 문화 요소를 만들었는가?'라는 질문으로 A와 C를 구분할 수 없다.

- ① 한글을 창제한 것은 C의 사례이다.
- ② 유전자 구조를 밝혀낸 것은 B의 사례이다.
- ③ 상인에 의해 외국 음식이 국내에 전해진 것은 A의 사례이다.
- ④ B는 C와 달리 한 사회에 새로운 문화 요소를 추가하는 요인이다.
- ⑤ C는 A와 달리 매개체를 통해 타문화의 요소가 전해지는 것이다.

13. 다음은 세계화의 영향에 대한 갑, 을의 입장이다. 이에 대한 설명으로 옳은 것은?

- 갑: 교통·통신 수단이 발달하고 국제 교류가 증가하면서 음식이나 의복과 같은 생활 모습이 동질화하는 등 세계적인 것이 지역적인 것을 대체하고 있습니다.
- 을: 민족 정체성을 앞세워 동질화를 거부하거나 각 지역 문화를 상품화하는 경향을 고려한다면 세계적인 것이 지역적인 것을 대체하고 있다고 볼 수 없습니다.

- ① 갑은 세계적으로 공통된 문화가 나타나고 있다고 본다.
- ② 을은 세계화로 인해 각 지역의 고유한 문화가 모두 소멸되었다고 본다.
- ③ 갑은 을과 달리 세계화 과정에서 민족주의가 부흥할 수 있다고 본다.
- ④ 을은 갑과 달리 국가 간 경제력 격차의 확대에 따른 갈등을 우려하고 있다.
- ⑤ 갑은 세계화로 인한 긍정적 영향에, 을은 부정적 영향에 주목하고 있다.

14. 그림에 대한 옳은 설명만을 <보기>에서 고른 것은? [3점]

시각 장애인의 안전할 권리 보장을 위해 ㉠의약품의 안전 정보에 대한 점자 설명서 제공을 의무화하는 법률을 제정해야 합니다.

의약품의 안전 정보에 대한 점자 설명서가 없으면 시각 장애인들이 생명의 위협을 받을 수 있으니 시민 여러분도 문제 해결에 동참해 주세요.



**의약품의 안전 정보에 대한 점자 설명서 제공을 의무화하라!**  
- ㉠ 사회적 소수자를 위한 모임 -

- < 보 기 >
- ㄱ. 갑의 발언에는 제도적 차원의 해결책이 나타나 있다.
  - ㄴ. 갑, 을 모두 ㉠이 이루어지지 않는 것이 시각 장애인의 권리를 침해한다고 본다.
  - ㄷ. ㉠은 역차별을 해결하기 위한 대책에 해당한다.
  - ㄹ. ㉠은 해당 구성원의 수를 기준으로 주류 집단과 구분된다.

- ① ㄱ, ㄴ    ② ㄱ, ㄷ    ③ ㄴ, ㄷ    ④ ㄴ, ㄹ    ⑤ ㄷ, ㄹ

15. 다음 자료에 대한 분석으로 옳은 것은? [3점]

표는 갑국의 고용 형태별 남성 대비 여성의 월평균 임금 수준을 정리한 것이다. 남성 대비 여성의 월평균 임금 수준은 '(여성의 월평균 임금/남성의 월평균 임금)×100'으로 계산하며, 정규직 남성과 비정규직 남성의 월평균 임금은 모두 지속적으로 증가하였다.

| 구분   | t년 | t+1년 | t+2년 | t+3년 | t+4년 |
|------|----|------|------|------|------|
| 정규직  | 50 | 60   | 70   | 50   | 80   |
| 비정규직 | 40 | 50   | 70   | 70   | 80   |

- ① t년과 t+3년 정규직 여성의 월평균 임금은 동일하다.
- ② t+1년 대비 t+2년에 정규직 여성의 월평균 임금 증가액보다 비정규직 여성의 월평균 임금 증가액이 크다.
- ③ t+3년 대비 t+4년에 정규직 여성의 월평균 임금 증가율보다 정규직 남성의 월평균 임금 증가율이 높다.
- ④ t년부터 t+4년까지 비정규직 여성의 월평균 임금은 지속적으로 증가하였다.
- ⑤ 표는 고용 형태와 상관없이 성별 임금 불평등이 심화하고 있다는 주장을 뒷받침한다.

16. 다음 수업 장면의 (가)에 들어갈 내용으로 옳은 것은?

교사: 사회 변동 요인 중 (가)의 사례를 발표해 보세요.  
 갑: 공간적 한계를 극복할 수 있는 인터넷과 휴대 전화의 발명을 들 수 있습니다.  
 을: 환경 위기를 극복하려는 생태주의적 인식의 확산을 들 수 있습니다.  
 병: 이성에 기초하여 사회적 모순을 개혁하고자 한 계몽사상의 등장을 들 수 있습니다.  
 교사: 두 사람은 적절한 사례를 발표했는데, 한 사람은 다른 사회 변동 요인의 사례를 발표했어요.

- ① 인구 변화                              ② 기술의 발달
- ③ 집단 간의 갈등                      ④ 자연환경의 변화
- ⑤ 가치관과 이념의 변화

17. (가)에 들어갈 내용으로 가장 적절한 것은? [3점]

<우리나라의 계층 간 소득 불평등에 대한 탐구 계획서>  
 ○ 탐구 배경  
 우리나라는 산업화 이후 빠른 경제 성장을 이루었으나 그 과정에서 계층 간 소득 불평등이 문제로 대두되었다.  
 ○ 탐구 활동  
 우리나라의 계층 간 소득 불평등을 확인하기 위해 우리나라의 (가)을/를 연도별로 조사하여 분석한다.

- ① 합계 출산율
- ② 1인당 국내 총생산
- ③ 안전 사고 발생 건수
- ④ 소득 분위별 가구당 월평균 소득
- ⑤ 여성 근로자 1인당 월평균 근로 시간

18. 다음 글에 나타난 대중문화의 문제점에 대한 진술로 가장 적절한 것은?

TV 드라마 속 결정적 장면에서 주인공이 느닷없이 “요즘 미세먼지가 너무 심해!”라며 특정 기업의 공기 정화 장치에 대해 설명하여 시청자들의 몰입을 방해한다. 이와 같은 간접 광고는 드라마 제작사의 수익을 높이는 데 기여할 수 있지만 드라마 작품의 완성도를 떨어뜨린다.

- ① 소수의 특권 계층만 문화적 혜택을 누린다.
- ② 상업성 추구로 인해 문화의 질적 수준이 저하된다.
- ③ 대중의 흥미를 끌기 위해 폭력적인 내용이 강조된다.
- ④ 편향된 정보 전달로 인해 대중의 정치적 성향이 획일화된다.
- ⑤ 개인 정보의 과도한 노출로 인해 사생활이 보호받지 못한다.

19. 문화 접변의 양상 A~C에 대한 옳은 설명만을 <보기>에서 고른 것은? (단, A~C는 각각 문화 동화, 문화 병존, 문화 융합 중 하나임.) [3점]

<십자말풀이>

|   |   |  |   |
|---|---|--|---|
|   | A |  | B |
| C |   |  |   |
|   |   |  |   |
|   |   |  |   |

♥ 세로 열쇠

A: 기존 문화 요소와 다른 사회에서 전파된 문화 요소가 결합하여 새로운 문화가 나타나는 현상

B: 기존 문화 요

\* 띄어쓰기는 고려하지 않음.

< 보 기 >

ㄱ. A는 C와 달리 직접 전파에 의해 나타날 수 있다.  
 ㄴ. C는 A, B와 달리 자문화의 정체성이 상실된다.  
 ㄷ. B의 사례로 ‘우리나라에서 한의학과 양의학이 공존하는 것’을 들 수 있다.  
 ㄹ. C의 사례로 ‘우리나라에서 서양식 주택에 전통 온돌을 접목시킨 바닥 난방식 아파트가 보편화된 것’을 들 수 있다.

- ① ㄱ, ㄴ    ② ㄱ, ㄷ    ③ ㄴ, ㄷ    ④ ㄴ, ㄹ    ⑤ ㄷ, ㄹ

20. 다음 자료에 대한 분석으로 옳은 것은? [3점]

t년에 갑국 부양 인구는 을국 부양 인구의 2배이다. t년 대비 t+30년에 갑국 부양 인구는 30% 감소하였고, 을국 부양 인구는 변화가 없었다.

| 구분      | 갑국 |       | 을국 |       |
|---------|----|-------|----|-------|
|         | t년 | t+30년 | t년 | t+30년 |
| 유소년 부양비 | 50 | 20    | 80 | 50    |
| 노년 부양비  | 50 | 80    | 20 | 50    |

\* 유소년 부양비 =  $\frac{\text{유소년 인구}(0 \sim 14\text{세 인구})}{\text{부양 인구}(15 \sim 64\text{세 인구})} \times 100$   
 \*\* 노년 부양비 =  $\frac{\text{노년 인구}(65\text{세 이상 인구})}{\text{부양 인구}(15 \sim 64\text{세 인구})} \times 100$

- ① t년에 갑국 총인구는 을국 총인구의 3배이다.
- ② t+30년에 갑국 부양 인구는 을국 부양 인구의 2배이다.
- ③ t+30년에 을국은 총인구에서 노년 인구가 차지하는 비율이 25%이다.
- ④ t년 대비 t+30년에 갑국 총인구는 20% 감소하였다.
- ⑤ t년 대비 t+30년에 갑국 노년 인구는 60% 증가하였다.

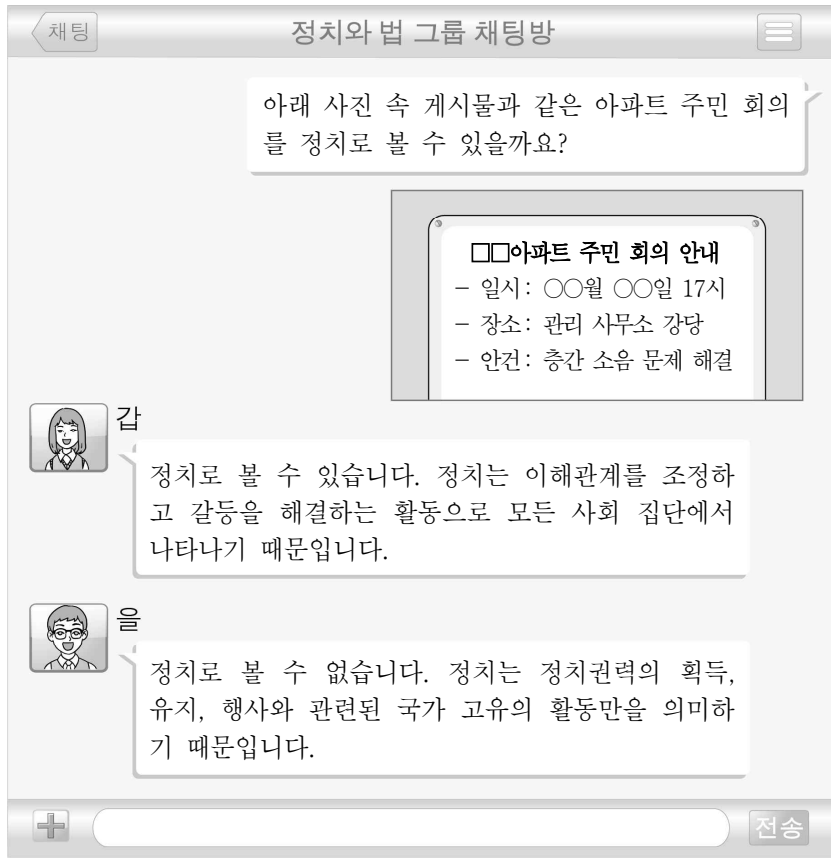
\* 확인 사항  
 ○ 답안지의 해당란에 필요한 내용을 정확히 기입(표기)했는지 확인하십시오.

제 4 교시

사회탐구 영역(정치와 법)

|    |  |      |  |  |  |   |  |  |  |          |
|----|--|------|--|--|--|---|--|--|--|----------|
| 성명 |  | 수험번호 |  |  |  | 2 |  |  |  | 제 ( ) 선택 |
|----|--|------|--|--|--|---|--|--|--|----------|

1. 정치를 바라보는 갑, 을의 관점에 대한 설명으로 옳은 것은?



- ① 갑의 관점은 정부의 예산 편성 활동을 정치로 보지 않는다.
- ② 갑의 관점은 국가 형성 이전의 정치 현상을 설명하기에 적합하다.
- ③ 을의 관점은 다원화된 현대 사회의 정치 현상을 설명하기에 적합하다.
- ④ 갑의 관점에 비해 을의 관점은 정치의 의미를 넓게 이해한다.
- ⑤ 을의 관점과 달리 갑의 관점은 의회의 입법 활동을 정치로 본다.

2. 다음 글의 취지에 부합하는 진술로 가장 적절한 것은?

정치권력을 가진 자는 그 권력을 사용하려는 욕구를 가지기 마련이고, 입법·행정·사법의 모든 정치권력을 특정 개인이나 집단이 독점하고 있다면 그 욕구가 더 클 것은 자명하다. '절대 권력은 절대 부패한다.'라는 격언이 있듯이 정치권력의 독점으로 인한 피해는 국민에게 돌아갈 수밖에 없다. 따라서 민주 국가라면 당연히 정치권력의 독점을 어떻게 제한할 것인가를 고민해야 한다.

- ① 정치권력은 소수 엘리트에 의해 행사되어야 한다.
- ② 개인의 자유보다 국가의 이익이 중시되어야 한다.
- ③ 국가 기관 간에는 견제와 균형이 이루어져야 한다.
- ④ 통치 행위는 효율성보다 형평성이 우선시되어야 한다.
- ⑤ 모든 국민에게 최소한의 삶의 질을 보장해 주어야 한다.

3. A ~ C에 대한 설명으로 옳은 것은? (단, A ~ C는 각각 고대 아테네 민주 정치, 근대 민주 정치, 현대 민주 정치 중 하나임.) [3점]

A는 공동체 운영에 필요한 사람을 추천제와 운번제를 통해 선출하였다. 이에 비해 B와 C는 시민들이 선거에서 대표자를 선출하고 그들에게 공직을 맡겼는데, B와 달리 C에서는 재산, 성별 등에 따른 참정권의 제한이 있었다.

- ① A는 사회 계약설의 영향을 받아 등장하였다.
- ② B에서는 도편 추방제가 실시되었다.
- ③ C는 간접 민주제가 아닌 직접 민주제를 채택하였다.
- ④ A와 달리 B는 국민 주권론에 바탕을 두고 있다.
- ⑤ C와 달리 A에서는 입헌주의에 근거하여 통치가 이루어졌다.

4. 다음 사례에 대한 설명으로 옳은 것은? [3점]

○ 갑은 A에게 1,000만 원을 빌려주면서 1년 후에 원금과 이자를 받기로 했다. A가 2년이 지나도록 돈을 상환하지 않아 갑은 빌려준 돈을 받아내기 위한 소송을 제기하였고 현재 ㉠ 재판 중이다.

○ 을은 1년 전에 돈을 빌린 B가 약속한 날이 지나도 돈을 상환하지 않아 이를 따지던 중 화가 나서 B를 폭행하였다. 을은 체포된 후 기소되어 현재 ㉡ 재판 중이다.

- ① 을과 달리 갑은 변호인의 도움을 받을 권리가 있다.
- ② ㉠은 형사 재판, ㉡은 민사 재판이다.
- ③ ㉠과 달리 ㉡은 3심제의 적용을 받는다.
- ④ ㉡과 달리 ㉠에서 검사는 재판 당사자이다.
- ⑤ ㉡과 달리 ㉠은 개인 간의 분쟁을 다루는 재판이다.

5. A ~ C에 해당하는 민주 선거의 원칙으로 옳은 것은?

교사: 학급 임원 선출을 위해 선거 규칙을 만들어 볼까요?  
갑: 선거 날에 아파서 결석하는 친구는 부모님이 대신해서 투표할 수 있도록 해야 합니다.  
을: 한 사람씩 나와서 칠판에 적힌 후보자 이름 옆에 스티커를 붙이는 방식이 좋을 것 같습니다.  
병: 내신 성적이 우수한 친구는 두 표를 행사할 수 있도록 하면 좋겠습니다.  
교사: 민주 선거의 원칙 중 갑은 A, 을은 B, 병은 C에 위배되는 의견을 제시했네요.

- |   |       |       |       |
|---|-------|-------|-------|
|   | A     | B     | C     |
| ① | 직접 선거 | 평등 선거 | 비밀 선거 |
| ② | 직접 선거 | 비밀 선거 | 평등 선거 |
| ③ | 보통 선거 | 비밀 선거 | 직접 선거 |
| ④ | 보통 선거 | 평등 선거 | 직접 선거 |
| ⑤ | 평등 선거 | 보통 선거 | 비밀 선거 |

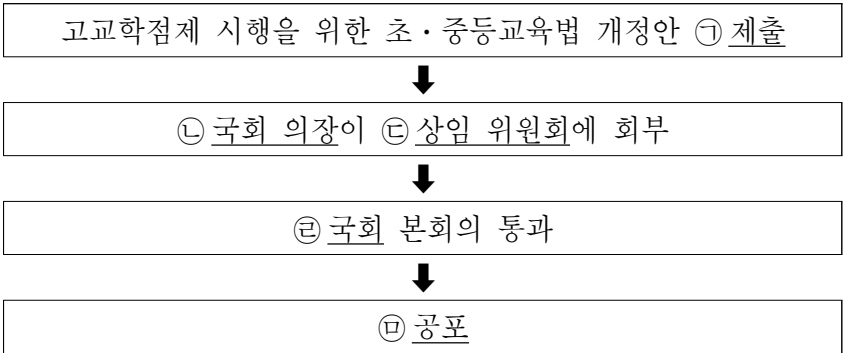
정치와 법

6. A, B에 대한 설명으로 옳은 것은? (단, A와 B는 각각 직접 민주제, 간접 민주제 중 하나임.) [3점]

어떤 사람들은 A에 대해 ‘국민이 선거 때에만 주권자로서 존중받고 선거 후에는 대표자의 노예와 같은 상태로 전락한다.’라는 비판을 제기한다. 이들은 국민이 선출한 대표에 의해 통치가 이루어지는 A보다 모든 시민의 참여에 의해 공동체의 의사가 결정되는 B가 더 이상적인 정치 형태라고 주장한다.

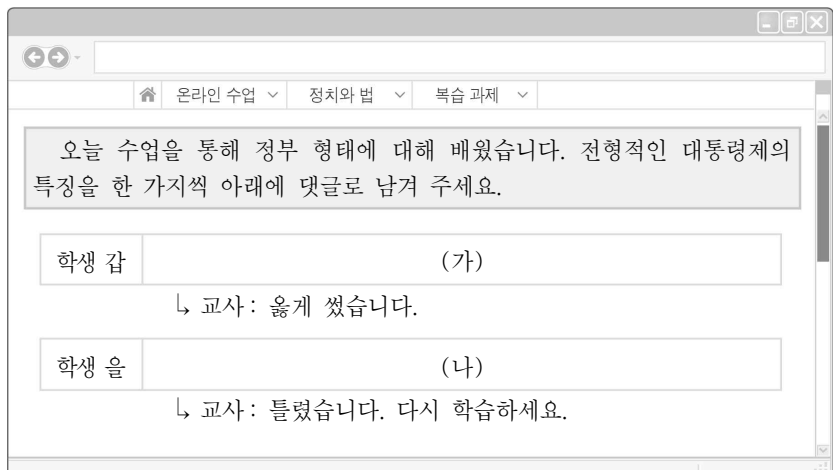
- ① 신속한 정책 결정에는 A보다 B가 유리하다.
- ② 중우 정치가 출현할 가능성은 B보다 A에서 높다.
- ③ 영토가 넓고 인구가 많은 국가에서는 A보다 B가 적합하다.
- ④ 우리나라는 A를 바탕으로 B의 요소를 일부 채택하고 있다.
- ⑤ 국민의 정치적 무관심이 나타날 가능성은 A보다 B에서 높다.

7. 다음 자료는 초·중등교육법의 개정 과정을 나타낸 것이다. 밑줄 친 ㉠~㉣에 대한 설명으로 옳은 것은? [3점]



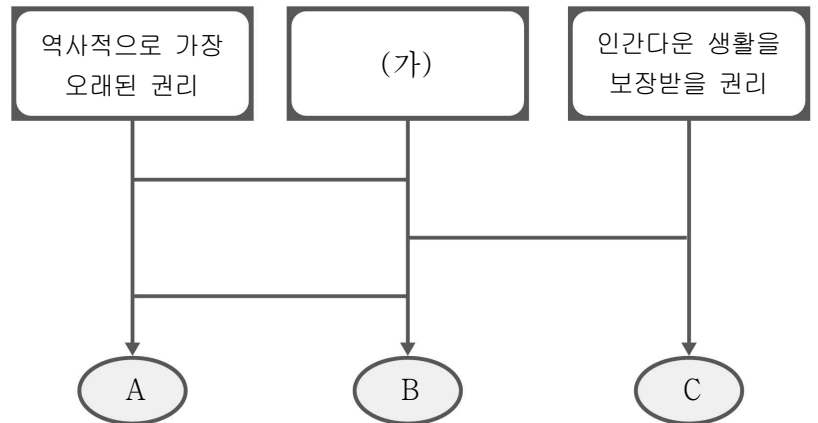
- ① ㉠은 행정부만의 고유 권한이다.
- ② ㉡은 대통령에 의해 임명된다.
- ③ ㉢은 법률안을 전문적으로 심의하는 역할을 한다.
- ④ ㉣은 법을 집행하는 국가 기관이다.
- ⑤ ㉤은 원칙적으로 국무총리에 의해 이루어진다.

8. (가), (나)에 들어갈 수 있는 내용으로 옳은 것은? [3점]



- ① (가) - 행정부가 의회를 해산할 수 있습니다.
- ② (가) - 행정부 수반은 국민에 의해 선출됩니다.
- ③ (가) - 의회가 행정부를 불신임할 수 있습니다.
- ④ (나) - 엄격한 권력 분립에 바탕을 두고 있습니다.
- ⑤ (나) - 행정부 수반의 법률안 거부권이 인정됩니다.

9. 그림은 사다리 게임을 활용하여 기본권 유형 A~C를 구분한 것이다. 이에 대한 설명으로 옳은 것은? (단, A~C는 각각 자유권, 청구권, 사회권 중 하나임.) [3점]



\*사다리 게임 규칙: 세로줄을 따라 아래로 내려가다 가로줄을 만나면 가로줄을 따라 이동하고 다시 세로줄을 따라 내려가는 과정을 반복함.

- ① A는 다른 기본권 보장을 위한 수단적 권리이다.
- ② B는 국가의 정치 과정에 참여할 수 있는 권리이다.
- ③ C의 실현을 위해 우리 헌법은 최저 임금제 시행을 규정하고 있다.
- ④ A와 B는 적극적 권리, C는 소극적 권리이다.
- ⑤ (가)에 ‘외부로부터 간섭을 받지 않을 권리’가 들어갈 수 있다.

10. 밑줄 친 ㉠~㉣에 대한 옳은 설명만을 <보기>에서 고른 것은?

㉠ 국제 연합의 산하 기관인 유엔 난민 기구는 “망명 신청자 이송에 관해 갑국과 을국이 체결한 협정은 1951년 국제사회가 채택한 ‘난민 지위에 관한 협약’과 양립할 수 없다.”라고 밝혔다. 난민 지위에 관한 협약은 난민의 생명이나 자유에 심각한 위협이 될 만한 ㉡ 국가로 난민을 강제 송환해서는 안 된다는 내용을 핵심으로 한다. 그런데 갑국과 을국이 체결한 협정은 갑국이 자국으로 망명 신청한 여러 나라의 난민들을 을국으로 보내고, 그 대가로 일정한 금액을 을국에 지불하는 것을 주요 내용으로 한다. 난민의 인권 보호를 위해 국제사회에서 활동하고 있는 ㉢ ○○ 난민 구호 단체는 인권 상황이 매우 열악한 을국으로 난민들을 보낸다는 협정은 비인간적이며 사실상 강제 송환에 해당한다고 비판한다.

< 보 기 >

- ㄱ. ㉠은 정부 간 기구이다.
- ㄴ. ㉡은 국제 사회의 기본적 행위 주체이다.
- ㄷ. ㉢과 달리 ㉠은 국제 사회의 행위 주체이다.
- ㄹ. ㉠과 달리 ㉢은 ㉠의 회원이 될 수 있다.

- ① ㄱ, ㄴ    ② ㄱ, ㄷ    ③ ㄴ, ㄷ    ④ ㄴ, ㄹ    ⑤ ㄷ, ㄹ

11. 다음 자료에 대한 설명으로 옳은 것은?

㉠○○도는 A 제도의 활성화를 위해 다양한 방안을 모색하고 있다. 주민이 지역의 예산 편성 과정에 직접 참여하여 예산의 우선순위 등을 결정하는 A 제도는 그동안 홍보 부족 등으로 인해 제대로 운영되지 못하고 있었다. ㉡○○도지사는 A 제도의 활성화를 핵심 과제로 설정하고 ㉢○○도의회와 긴밀하게 협조하고 있다.

- ① A 제도는 지역 주민의 주인 의식을 높일 수 있다.
- ② A 제도는 지방 자치 단체의 신속한 예산 편성을 목적으로 한다.
- ③ ㉠은 기초 자치 단체이다.
- ④ ㉢은 지방 자치 단체의 집행 기관이다.
- ⑤ ㉡은 ㉢에서 선출된다.

12. A, B에 대한 설명으로 옳은 것은?

국제 관계를 바라보는 관점 A, B에서는 약소국이 자국 안보를 위해 강대국과 관계를 맺는 방식을 서로 다르게 본다. 국제 사회를 약육강식의 장으로 보는 A에서는 약소국이 강대국과 동맹을 맺어 자국 안보를 위협하는 국가와 세력 균형을 이루어야 한다고 본다. 이와 달리 B에서는 약소국이 국제 기구를 통해 강대국과 국제 규범을 공유하고 상호 의존성을 높임으로써 자국의 안보를 보장받을 수 있다고 본다.

- ① A는 국제 사회에 중앙 정부가 존재한다고 본다.
- ② A는 국가가 이성적·도덕적 행위를 한다고 본다.
- ③ B는 국제 사회가 힘의 논리에 의해 지배된다고 본다.
- ④ B는 국제 문제 해결을 위해 국제법의 역할을 중시한다.
- ⑤ B와 달리 A는 개별 국가의 이익과 국제 사회 전체의 이익이 조화를 이룰 수 있다고 본다.


13. 다음 우리나라 헌법 조항이 공통적으로 강조하는 민주 정치의 기본 원리에 부합하는 진술로 가장 적절한 것은?

○ 모든 국민은 법률이 정하는 바에 의하여 선거권을 가진다.  
 ○ 모든 국민은 법률이 정하는 바에 의하여 공무 부담권을 가진다.  
 ○ 대통령은 필요하다고 인정할 때에는 외교·국방·통일 기타 국가 안위에 관한 중요 정책을 국민투표에 부칠 수 있다.

- ① 국가는 국민 경제의 균형 있는 성장을 도모해야 한다.
- ② 국가 권력은 서로 독립된 기관이 나누어 맡아야 한다.
- ③ 국가의 의사를 결정하는 최고의 권력은 국민에게 있다.
- ④ 대통령은 조국의 평화 통일을 위해 노력할 의무를 진다.
- ⑤ 국제 질서를 존중하고 세계 평화와 인류의 공동 번영을 위해 노력해야 한다.

14. 갑, 을에게 해 줄 법적 조언으로 옳지 않은 것은? [3점]

저는 사장으로부터 일주일 후에 해고된다는 통보를 구두로 받았습니다.



회사원 갑(40세)

저는 최저 임금보다 낮은 시급을 받으면서 매일 10시간씩 일하고 있어요.



고등학생 을(17세)

- ① 갑 - 사용자가 근로자를 해고하려면 적어도 30일 전에 예고해야 합니다.
- ② 갑 - 사용자가 근로자를 해고하려면 해고 사유와 해고 시기를 서면으로 통지해야 합니다.
- ③ 을 - 연소 근로자도 최저 임금을 보장받아야 합니다.
- ④ 을 - 부당 노동 행위를 이유로 법원에 재판을 청구할 수 있습니다.
- ⑤ 을 - 연소 근로자는 연장 근로를 하더라도 1일 근로 시간이 8시간을 초과할 수 없습니다.

15. A~C에 대한 설명으로 옳은 것은? (단, A~C는 각각 정당, 이익 집단, 시민 단체 중 하나에 해당하는 집단임.)

관광산업 발전을 추진하고 있는 ○○광역시는 도심에 위치한 △△산에 전망대를 조성하는 사업과 관련한 공청회를 열었다. 시민들이 환경 보호를 위해 자발적으로 조직한 A는 전망대가 조성되면 시민들의 휴식과 치유에 도움을 주는 △△산이 심각하게 훼손된다는 반대 입장을 명확히 하였다. 이와 달리 지역 소상공인들로 구성된 B는 지역 경제 활성화를 위해 △△산 전망대 조성이 반드시 필요하다고 주장하였다. 공청회 이후 C는 A, B의 입장을 고려하여 다음 선거에 유리한 공약을 만들기 위해 고심하고 있다.

- ① A는 공익보다 사익을 추구한다.
- ② B는 정권 획득을 목적으로 한다.
- ③ C는 공직 선거에 후보자를 공천한다.
- ④ A와 달리 B는 정책 결정 과정에 영향력을 행사한다.
- ⑤ C와 달리 A는 자신의 행위에 대해 정치적 책임을 진다.



16. A, B에 대한 설명으로 옳은 것은? (단, A와 B는 각각 공법, 사법 중 하나임.) [3점]



- ① 민법은 A에 해당한다.
- ② 범죄자 처벌과 관련된 법은 B에 해당한다.
- ③ 소송 절차를 규정하는 법은 B에 해당한다.
- ④ A는 사법, B는 공법이다.
- ⑤ A와 달리 B는 개인 간의 사적인 생활 관계를 규율한다.

17. 다음 내용이 공통적으로 추구하는 바로 가장 적절한 것은?

○ 재판에서의 사실 인정은 명확한 증거에 의해 이루어져야 한다.  
 ○ 소송 당사자 이외에 일반 시민도 재판 과정을 볼 수 있도록 공개해야 한다.  
 ○ 법관이 헌법과 법률에 의하여 그 양심에 따라 재판할 수 있도록 법관의 신분을 보장해야 한다.

- ① 공정한 재판의 실현                      ② 재판의 신속한 진행
- ③ 국민의 알 권리 보장                      ④ 국민의 주권 의식 함양
- ⑤ 법관의 정치적 중립 보장

18. 다음 자료에 대한 옳은 설명만을 <보기>에서 고른 것은?

[3점]

○ □□ 법원의 판사 갑은 재판 진행 도중 “이번 사건의 전제인 ○○법 제19조는 헌법에 위반된다.”라는 결정을 구하는 ㉠ 위헌 법률 심판을 A에 제청하였다.  
 ○ ◇◇법 제8조 위반으로 1심 재판을 받고 있는 을은 담당 재판부에 “◇◇법 제8조는 헌법에 위반된다.”라는 결정을 구하는 위헌 법률 심판의 제청을 신청하였으나 기각되자 A에 ㉡ 헌법 소원 심판을 청구하였다.

< 보 기 >  
 가. A는 대법원이다.  
 나. ㉠은 행정부가 입법부를 견제하는 수단이다.  
 다. ㉡을 통해 헌법이 법률보다 상위법임을 알 수 있다.  
 르. ㉡은 국민의 기본권 보호를 목적으로 한다.

- ① 가, 나    ② 가, 다    ③ 나, 다    ④ 나, 르    ⑤ 다, 르

19. (가)에 들어갈 내용으로 옳은 것은?

우리나라 헌법은 국민의 기본권 보장을 핵심 원칙으로 하지만 국가 안전 보장, 질서 유지, 공공복리를 목적으로 하는 경우에 한하여 기본권 제한을 허용하고 있다. 헌법은 기본권 제한이 정당한 목적을 달성하는 데 필요한 범위 내로 그쳐야 하고 (가)에 근거해야 하며 기본권을 제한하더라도 자유와 권리의 본질적인 내용을 침해해서는 안 된다고 규정하고 있다. 이처럼 기본권 제한의 한계를 엄격하게 규정하는 것은 국가 기관의 권력 남용으로부터 국민의 기본권을 충실히 보장하기 위함이다.

- ① 전통과 관습                                  ② 대통령의 명령
- ③ 국무 회의의 결정                              ④ 국민 다수의 여론
- ⑤ 국회에서 제정한 법률

20. (가)와 ㉠에 들어갈 수 있는 내용으로 옳은 것은? [3점]

<게임 규칙>

칠판에 적힌 다음 제시어 중 교사가 정한 한 가지 제시어를 가지고 스무고개를 진행한다. 학생은 제시어를 맞추기 위해 질문하고, 교사는 ‘예’ 혹은 ‘아니요’로 대답한다.

|       |       |       |
|-------|-------|-------|
| 대통령   | 국회 의장 | 대법원장  |
| 국회 의원 | 국무총리  | 국무 위원 |

<게임 진행 과정>

|     | 학생의 질문         | 교사의 대답   |
|-----|----------------|----------|
| 1고개 | 입법부 소속인가요?     | 아니요      |
| 2고개 | 행정부 소속인가요?     | 예        |
| 3고개 | 행정부 수반인가요?     | 아니요      |
| 4고개 | (가)            | 예        |
| 5고개 | 제시어는 ( ㉠ )인가요? | 예, 맞습니다. |

- (가)    ㉠
- ① 재판을 담당하나요?    대법원장
  - ② 행정부 수반이 임명하나요?    국회 의원
  - ③ 선거에 의해서만 선출되나요?    국무 위원
  - ④ 대외적으로 우리나라를 대표하나요?    대통령
  - ⑤ 행정부 수반의 명을 받아 행정 각부를 지휘하고 조정하나요?    국무총리

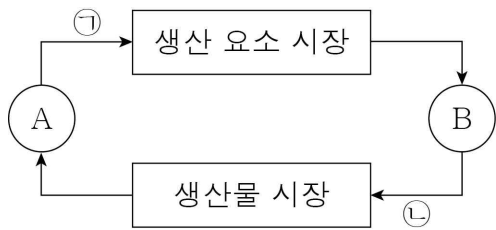
\* 확인 사항  
 ○ 답안지의 해당란에 필요한 내용을 정확히 기입(표기)했는지 확인하시오.

제 4 교시

사회탐구 영역(경제)

|    |  |      |  |  |  |   |  |  |  |          |
|----|--|------|--|--|--|---|--|--|--|----------|
| 성명 |  | 수험번호 |  |  |  | 2 |  |  |  | 제 ( ) 선택 |
|----|--|------|--|--|--|---|--|--|--|----------|

1. 그림은 실물의 흐름으로 나타낸 민간 부문의 경제 순환이다. 이에 대한 옳은 설명만을 <보기>에서 고른 것은? (단, A, B는 각각 가계, 기업 중 하나임.) [3점]



< 보 기 >  
 ㉠. A는 소비 활동의 주체이다.  
 ㉡. B는 생산 요소 시장에서 수요자이다.  
 ㉢. 택배 회사의 배송 서비스는 ㉠에 해당한다.  
 ㉣. 건물을 빌린 대가로 지불하는 임대료는 ㉡에 해당한다.

- ① ㉠, ㉡    ② ㉠, ㉢    ③ ㉡, ㉣    ④ ㉡, ㉣    ⑤ ㉢, ㉣

2. (가)에 들어갈 내용으로 가장 적절한 것은?

2020년 초에 kg당 40위안 정도였던 리튬 가격이 2022년에는 약 480위안까지 치솟았다. 이는 전기 자동차 시장이 급성장하면서 2차 전지의 주원료인 리튬의 (가)이다. 리튬의 전 세계 생산량은 꾸준히 늘어나고 있지만 리튬에 대한 수요가 더 큰 폭으로 증가하면서 이와 같은 현상이 지속될 것으로 전망된다.

- ① 희소성이 커졌기 때문  
 ② 매장량이 많아졌기 때문  
 ③ 사용 가치가 작아졌기 때문  
 ④ 특성이 무상재로 변했기 때문  
 ⑤ 경제적 가치가 작아졌기 때문

3. 표는 X재 시장의 수요와 공급을 나타낸다. 이에 대한 분석으로 옳은 것은? [3점]

|        |     |     |       |       |       |
|--------|-----|-----|-------|-------|-------|
| 가격(원)  | 800 | 900 | 1,000 | 1,100 | 1,200 |
| 수요량(개) | 10  | 9   | 8     | 7     | 6     |
| 공급량(개) | 4   | 6   | 8     | 10    | 12    |

- ① 가격이 800원일 때 거래량은 10개이다.  
 ② 가격이 900원일 때 초과 수요가 발생한다.  
 ③ 균형 가격은 1,000원, 균형 거래량은 16개이다.  
 ④ 가격이 1,100원일 때 가격 상승 압력이 발생한다.  
 ⑤ 모든 가격 수준에서 수요량이 3개씩 증가하면 균형 가격은 200원 상승한다.

4. 그림은 경제 수업 시간에 학생이 필기한 내용이다. (가), (나)에 들어갈 내용으로 적절하지 않은 것은?

◆ 신용의 의미

- 개인의 지불 능력에 대한 사회적 평가
- 나중에 대가를 지불할 것을 약속하고 상품을 이용하거나 돈을 빌릴 수 있는 능력

◆ 신용도가 떨어졌을 때의 문제점

- (가)

◆ 개인의 신용 관리 방법

- (나)

- ① (가) - 대출 제한, 취업 제한 등의 불이익을 받을 수 있다.  
 ② (가) - 일반적인 수준보다 더 높은 대출 금리가 적용될 수 있다.  
 ③ (나) - 금융 거래 시 자신의 재무 상태를 고려해야 한다.  
 ④ (나) - 대출 이자, 신용 카드 결제 대금 등을 연체하지 않는다.  
 ⑤ (나) - 신용 카드 사용 시 본인의 상환 능력보다 경제적 필요를 우선시한다.

5. 그림은 갑의 일기장이다. 이에 대한 옳은 분석만을 <보기>에서 고른 것은? (단, 제시된 내용 외에는 고려하지 않음.) [3점]

■ 2022. 12. 27.  
대학 졸업 기념으로 내년 2월 16일에 친구들과 1박 2일 졸업 여행을 가기로 했다.

■ 2022. 12. 30.  
친구 을에게서 오늘 펜션을 예약하고 숙박비를 지불했다고 연락이 와서 을에게 1인당 숙박비 10만 원을 송금했다. 그 외의 1인당 여행 경비 15만 원은 여행 당일에 내기로 했다.

■ 2023. 2. 15.  
친척 형에게서 내일과 모레, 이틀 동안 일하고 총 20만 원을 받을 수 있는 아르바이트를 해 줄 수 있는지 연락이 왔다. 을에게 물어보니 숙박비는 투숙 하루 전이라 환불이 전혀 안 된다고 한다. 내일 ㉠ 졸업 여행을 갈지 ㉡ 아르바이트를 할지 정말 고민된다.

< 보 기 >  
 ㉠. ㉠ 선택의 암묵적 비용은 1인당 여행 경비 15만 원이다.  
 ㉡. ㉡ 선택의 기회비용은 아르바이트로 받을 수 있는 20만 원이다.  
 ㉢. ㉠ 또는 ㉡의 선택에 있어 1인당 숙박비 10만 원은 매물 비용이다.  
 ㉣. ㉠ 선택의 편익이 35만 원보다 작다면 ㉡을 선택하는 것이 합리적이다.

- ① ㉠, ㉡    ② ㉠, ㉢    ③ ㉡, ㉣    ④ ㉡, ㉣    ⑤ ㉢, ㉣

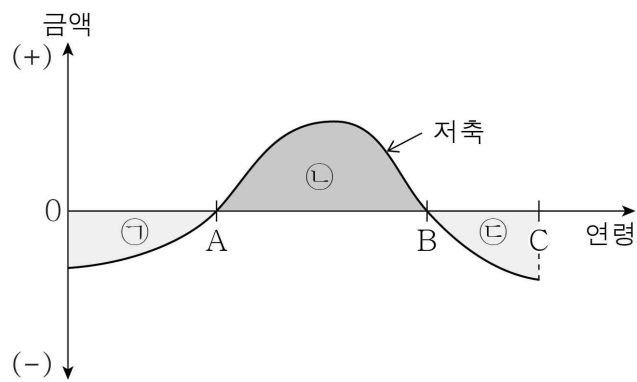
경제

6. 다음 대화에 대한 설명으로 옳은 것은?

갑: 다음 달에 미국으로 여행 간다며? 환전은 했어?  
 을: 그때까지는 현재의 ① 원/달러 환율 변동 추세가 지속될 것 같아서 환전을 최대한 늦게 하려고 해.

- ① 올은 달러화 대비 원화 가치가 하락할 것으로 예상하고 있다.
- ② 우리나라 외환 시장에서 달러화의 공급 감소는 ①의 요인이다.
- ③ ①은 미국에 수출하는 한국 상품의 가격 경쟁력을 높이는 요인이다.
- ④ ①은 한국 기업의 달러화 표시 외채 상환 부담을 감소시키는 요인이다.
- ⑤ ①은 한국산 부품을 수입하여 제품을 생산하는 미국 기업의 생산 비용을 감소시키는 요인이다.

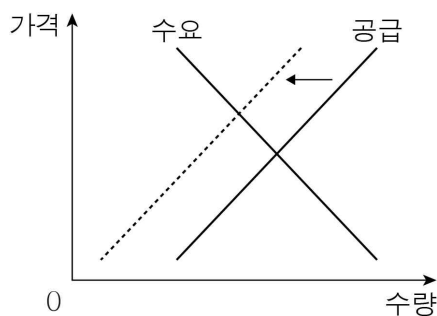
7. 그림은 갑의 생애 주기에 따른 저축의 변화를 나타낸다. 이에 대한 설명으로 옳은 것은?



\* 저축 = 소득 - 소비

- ① 0~A 기간에는 양(+)의 저축이 나타났다.
- ② A~B 기간에는 소득보다 소비가 컸다.
- ③ B~C 기간에는 소득 대비 소비가 지속적으로 감소했다.
- ④ 0~C 기간 중 누적 저축액은 B 시점에 가장 많았다.
- ⑤ 갑이 0~C 기간의 소득과 소비를 일치시켰다면 ㉠ 면적은 ㉡과 ㉢ 면적의 합보다 크다.

8. 그림은 X재 시장의 변화를 나타낸다. 이러한 변화를 가져올 수 있는 요인으로 옳은 것은? [3점]



- ① 선호 증가
- ② 공급자 수 감소
- ③ 생산 기술 발전
- ④ 원자재 가격 하락
- ⑤ 대체 관계에 있는 재화의 가격 하락

9. 교사의 질문에 대한 학생의 답변으로 옳은 것은? (단, A, B는 각각 시장 경제 체제, 계획 경제 체제 중 하나임.)

경제 체제 A, B의 특징을 설명해 볼까요?

- A: 시장 원리를 통해 경제 문제를 해결
- B: 정부의 명령을 통해 경제 문제를 해결

- ① A에서는 전통과 관습에 의한 경제 활동이 우선시됩니다.
- ② B에서는 원칙적으로 생산 수단의 사적 소유가 보장됩니다.
- ③ A와 달리 B에서는 경제적 유인이 강조됩니다.
- ④ A와 달리 B에서는 개인의 자유로운 이익 추구 활동이 보장됩니다.
- ⑤ B와 달리 A에서는 '보이지 않는 손'의 기능이 중시됩니다.

10. 다음 자료에 대한 옳은 설명만을 <보기>에서 고른 것은? [3점]

**<시장 실패 이해하기 게임>**

○ 게임 방법: 학생 갑~정이 카드 [A]~[D] 중 서로 다른 카드를 하나씩 뽑은 후 카드에 적힌 시장 실패 유형과 관련된 내용을 2개씩 서술

|     |       |        |        |
|-----|-------|--------|--------|
| [A] | [B]   | [C]    | [D]    |
| 공공재 | 외부 경제 | 외부 불경제 | 불완전 경쟁 |

○ 득점 방법: 옳은 서술 내용 1개당 1점씩 획득

○ 게임 결과

| 학생 | 뽑은 카드 | 서술 내용   | 점수 |
|----|-------|---|----|
| 갑  | [A]   | 1. 무임승차 문제 발생<br>2. ㉠을/를 예로 들 수 있음                        | 2점 |
| 을  | [B]   | 1. 정부의 보조금 지급을 통해 개선 가능<br>2. ㉡ 사례로 설명할 수 있음              | 2점 |
| 병  | (가)   | 1. 과점 시장의 공급자 간 담합 행위<br>2. 독점 시장에서 공급자의 공급량 감축 및 가격 인상   | 2점 |
| 정  | (나)   | 1. 사회적으로 적정한 수준보다 많이 생산 또는 소비<br>2. 독감 예방 접종 사례로 설명할 수 있음 |    |

— < 보 기 > —

㉠. ㉠에는 '국방 및 치안 서비스'가 들어갈 수 있다.  
 ㉡. ㉡에는 '오염 물질 방류로 인한 피해'가 들어갈 수 있다.  
 ㉢. (가)가 [D]라면 병이 얻은 점수는 2점이다.  
 ㉣. 정이 얻은 점수가 0점이라면 (나)는 [C]이다.

- ① ㉠, ㉡    ② ㉠, ㉢    ③ ㉡, ㉢    ④ ㉡, ㉣    ⑤ ㉢, ㉣

11. 밑줄 친 ㉠~㉣에 대한 옳은 설명만을 <보기>에서 고른 것은?



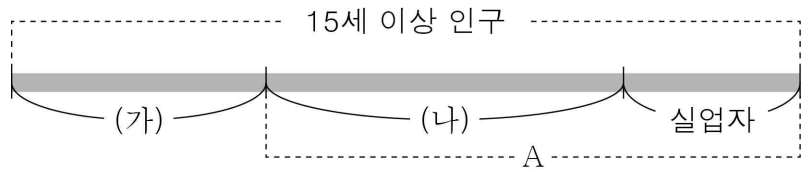
갑국 정부는 ㉠최근의 경기 상황에 대처하기 위해 ㉡정부 지출을 확대하였고, 추가적으로 ㉢소득세율을 조정하는 정책도 실시할 예정이라고 발표했습니다.

< 보 기 >

ㄱ. 갑국 정부는 ㉠을 경기 과열로 판단하고 있다.  
 ㄴ. ㉡은 물가 하락 요인이다.  
 ㄷ. ㉢은 국내 총생산 증가 요인이다.  
 ㄹ. 소득세율 인하는 ㉣에 해당한다.

- ① ㄱ, ㄴ    ② ㄱ, ㄷ    ③ ㄴ, ㄷ    ④ ㄴ, ㄹ    ⑤ ㄷ, ㄹ

12. 그림은 우리나라의 고용 지표와 관련된 인구 구성을 나타낸다. 이에 대한 설명으로 옳은 것은? (단, 15세 이상 인구는 변함이 없으며, A는 일할 능력과 의사가 있는 사람임.)



\* 실업률(%) =  $\frac{\text{실업자 수}}{\text{경제 활동 인구}} \times 100$

\*\* 고용률(%) =  $\frac{\text{취업자 수}}{\text{15세 이상 인구}} \times 100$

- ① (가)는 취업자이다.  
 ② 실업자였다가 구직 활동을 포기한 사람은 (나)에 해당한다.  
 ③ A가 일정하고 (나)가 감소한다면 실업률은 상승한다.  
 ④ (가)가 일정하고 (나)가 감소한다면 고용률은 변함이 없다.  
 ⑤ (나)가 일정하고 (가)가 증가한다면 실업률은 상승한다.

13. 다음 자료에 대한 설명으로 옳은 것은? [3점]

표는 교사가 경제 주체를 구분하기 위한 질문에 '예' 또는 '아니요'를 적고 그중 일부를 가린 것이다. 단, A~C는 각각 가계, 기업, 정부 중 하나이다.

| 구분             | A   | B   | C   |
|----------------|-----|-----|-----|
| 이윤 극대화를 추구하는가? |     | 아니요 |     |
| (가)            | 아니요 |     | 아니요 |
| 효용 극대화를 추구하는가? |     |     | 예   |
| '예'의 개수        | ㉠   | 1개  | 1개  |

- ① A는 사회적 후생 극대화를 추구한다.  
 ② C는 재정 활동의 주체이다.  
 ③ B와 달리 A는 공공재를 공급하는 주체이다.  
 ④ (가)에는 '조세를 징수하는 주체인가?'가 들어갈 수 없다.  
 ⑤ ㉠은 '1개'이다.

14. 다음 대화에 대한 옳은 설명만을 <보기>에서 고른 것은?

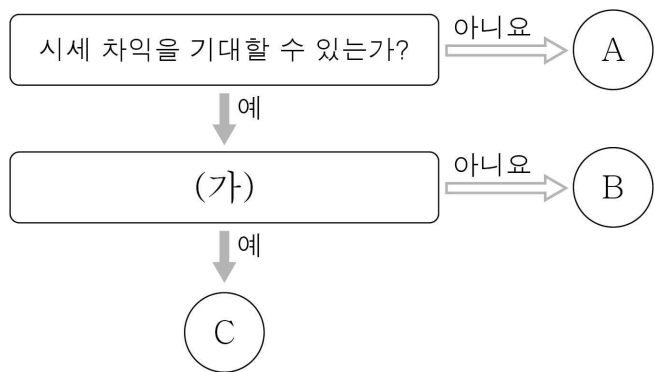
사회자: A국에서는 어떤 무역 정책이 실시되어야 한다고 생각하십니까?  
 갑: A국 정부는 무역에 대한 간섭 없이 시장의 원리에 따라 자유롭게 무역이 이루어지도록 해야 합니다.  
 을: 그렇지 않습니다. A국이 자국의 산업을 보호하고 육성하기 위해서는 정부의 수입 규제 확대가 필요하다고 봅니다.

< 보 기 >

ㄱ. 갑의 주장을 뒷받침하는 근거로 A국 소비자의 다양한 상품 선택 기회의 확대를 들 수 있다.  
 ㄴ. 을이 주장하는 무역 정책은 국가 간 이해관계의 상충으로 인한 갈등이나 마찰을 초래할 수 있다.  
 ㄷ. 갑과 달리 을은 자국 산업 보호를 위해 무역 장벽을 완화해야 한다고 주장하고 있다.  
 ㄹ. 을과 달리 갑은 관세 부과 필요성을 강조할 것이다.

- ① ㄱ, ㄴ    ② ㄱ, ㄷ    ③ ㄴ, ㄷ    ④ ㄴ, ㄹ    ⑤ ㄷ, ㄹ

15. 그림은 금융 상품의 일반적인 특징을 묻는 질문에 따라 A~C를 구분한 것이다. 이에 대한 설명으로 옳은 것은? (단, A~C는 각각 정기 예금, 주식, 채권 중 하나임.) [3점]



- ① A는 B, C에 비해 수익성이 높다.  
 ② B가 주식이라면 (가)에는 '배당 수익을 기대할 수 있는가?'가 들어갈 수 있다.  
 ③ C가 채권이라면 (가)에는 '만기가 정해져 있는가?'가 들어갈 수 있다.  
 ④ (가)가 '이자 수익을 기대할 수 있는가?'라면 C는 예금자 보호 제도의 적용 대상이다.  
 ⑤ (가)가 '투자자의 기업 소유 지분을 나타내는가?'라면 B는 C보다 안전성이 낮다.

16. 표는 갑 기업의 X재 생산량에 따른 총수입과 총비용을 나타낸다. 이에 대한 분석으로 옳은 것은? (단, X재의 시장 가격은 생산량과 관계없이 일정하고, 생산된 X재는 모두 판매됨.) [3점]

|          |    |     |     |     |     |
|----------|----|-----|-----|-----|-----|
| 생산량(개)   | 1  | 2   | 3   | 4   | 5   |
| 총수입(만 원) | 50 | 100 | 150 | 200 | 250 |
| 총비용(만 원) | 60 | 80  | 120 | 170 | 250 |


- ① X재의 시장 가격은 50만 원이다.
- ② 생산량이 1개일 때 이윤은 10만 원이다.
- ③ 생산량이 2개일 때 X재 1개당 생산 비용은 20만 원이다.
- ④ 생산량을 3개에서 4개로 늘리는 데 추가적으로 발생하는 비용은 40만 원이다.
- ⑤ 생산량이 5개일 때 이윤이 극대화된다.

17. 그림은 수업 시간에 제작한 경제 신문의 일부이다. (가)에 들어갈 내용으로 가장 적절한 것은?

**역사 속 경제 신문**      ○○ 모듬

특집호: 제1차 세계 대전 후 독일의 경제 상황

제1차 세계 대전 후 독일의 거리에는 빵 한 조각을 사기 위해 수레에 돈을 가득 싣고 다니는 사람이 생겨났다. 이는 1921년부터 2년 남짓한 기간 동안 독일의 물가가 무려 10억 배가량 상승했기 때문이다. 이러한 현상은 (가) 결과를 가져왔다.



- ① 정해진 월급으로 생활하는 사람이 유리해지는
- ② 일정한 금액으로 살 수 있는 재화의 양이 많아지는
- ③ 실질 임금 상승으로 근로자의 근로 의욕이 높아지는
- ④ 실물을 가진 사람보다 화폐를 가진 사람이 불리해지는
- ⑤ 현금을 빌린 사람보다 현금을 빌려준 사람이 유리해지는

18. 표는 갑국과 을국의 연도별 국내 총생산을 구분한 것이다. (가)~(라)에 대한 옳은 설명만을 <보기>에서 고른 것은? [3점]

|            |       |       |
|------------|-------|-------|
| 구분         | 2021년 | 2022년 |
| 갑국의 국내 총생산 | (가)   | (나)   |
| 을국의 국내 총생산 | (다)   | (라)   |

< 보 기 >

ㄱ. 2021년 갑국 주부의 가사 노동의 가치는 (가)에 포함된다.

ㄴ. 2021년 을국에서 생산하여 갑국에 수출한 휴대폰의 가치는 (다)에 포함된다.

ㄷ. 2022년 갑국 회사원이 자가 소비를 위해 텃밭에서 재배한 채소의 가치는 (나)에 포함된다.

ㄹ. 2022년 갑국 기업이 을국에 공장을 세워 생산한 가구를 을국 소비자에게 판매한 가치는 (라)에 포함된다.

- ① ㄱ, ㄴ    ② ㄱ, ㄷ    ③ ㄴ, ㄷ    ④ ㄴ, ㄹ    ⑤ ㄷ, ㄹ

19. 표는 2022년 갑국~병국의 국내 총생산과 수출 및 수입 의존도를 나타낸다. 이에 대한 분석으로 옳은 것은? (단, 무역은 갑국, 을국, 병국 간에만 이루어짐.)

|              |     |     |    |
|--------------|-----|-----|----|
| 구분           | 갑국  | 을국  | 병국 |
| 국내 총생산(억 달러) | 100 | 200 | 60 |
| 수출 의존도(%)    | 50  | 20  | 0  |
| 수입 의존도(%)    | 20  | 20  | 50 |

\* 수출 의존도(%) =  $\frac{\text{수출액}}{\text{국내 총생산}} \times 100$

\*\* 수입 의존도(%) =  $\frac{\text{수입액}}{\text{국내 총생산}} \times 100$

\*\*\* 무역 의존도(%) =  $\frac{\text{수출액} + \text{수입액}}{\text{국내 총생산}} \times 100$

- ① 병국의 수입액은 50억 달러이다.
- ② 수출액은 갑국이 을국보다 적다.
- ③ 무역 의존도는 을국이 병국보다 낮다.
- ④ 갑국의 수출액과 병국의 수입액은 같다.
- ⑤ 수출액과 수입액의 합은 을국이 갑국보다 적다.

20. 다음 자료에 대한 분석으로 옳은 것은? [3점]

갑국은 비교 우위를 갖는 재화에만 특화하여 X재와 Y재가 3:1의 비율로 교환되는 국제 교역에 참여하려고 한다. 표는 갑국의 X재와 Y재의 최대 생산 가능량과 교역 전 소비량을 나타낸다. 단, 모든 국가는 직선인 생산 가능 곡선상에서 X재와 Y재만을 생산한다. 또한 국제 교역의 재화 간 교환 비율은 변함이 없고, 갑국은 해당 비율로 수입하고자 하는 재화를 거래 비용 없이 무제한 수입할 수 있다.

(단위: 개)

|    |           |          |
|----|-----------|----------|
| 구분 | 최대 생산 가능량 | 교역 전 소비량 |
| X재 | 200       | 100      |
| Y재 | 100       | ㉠        |

\* 최대 생산 가능량: 모든 생산 요소를 한 재화의 생산에만 투입했을 때의 최대 생산량

- ① ㉠은 '60'이다.
- ② 갑국에서 X재 1개 생산의 기회비용은 Y재 2개이다.
- ③ 갑국은 X재 50개와 Y재 80개를 동시에 생산할 수 있다.
- ④ 갑국은 Y재에 특화하여 국제 교역에 참여할 것이다.
- ⑤ 갑국은 교역에 참여한 후 X재 200개, Y재 50개를 소비할 수 있다.

**\* 확인 사항**

○ 답안지의 해당란에 필요한 내용을 정확히 기입(표기)했는지 확인하십시오.

제 4 교시

사회탐구 영역(세계사)

성명  수험번호        2    제 ( ) 선택

1. (가) 문명에 대한 설명으로 옳은 것은?



왼쪽은 티그리스강과 유프라테스강 유역에서 형성된 (가) 문명의 주역인 아카드인의 유물로서, 점토판에 굴러 찍어 사용하는 원통형 인장이다. 오른쪽은 이 인장을 찍은 모습으로 쉐기 문자와 물소 등이 나타나 있다. 인더스강 유역에 서식했던 물소의 등장은 (가) 문명과 인도 문명 사이의 교류를 보여 준다.

- ① 지구라트를 세웠다.
- ② 왕을 파라오라 불렀다.
- ③ 올림피아 제전을 개최하였다.
- ④ 하라파에 계획도시를 건설하였다.
- ⑤ 갑골에 점을 친 내용을 기록하였다.

2. (가) 국가에 대한 설명으로 옳은 것은? [3점]

**옛 시로 읽는 세계사**

황제의 어가가 남도(南渡)한 지 오십 년인데  
중원은 오랑캐들로 가득하네.  
...(중략)...

적을 멸망시킬 기약이 없으니 눈물은 가슴 위로 흐르네.  
황제가 돌아가 앵두를 종묘에 바쳤다는 말을 듣지 못하고  
(궁전 앞에 있던) 청동 낙타는 지금껏 가시밭에 버려져 있네.

**작품 해설**

이것은 남송의 육유가 쓴 시의 일부이다. 수도 카이펑을 비롯한 화북 지역을 (가)에 빼앗기고 남하하여 임안(항저우)에 도읍한 지 50년이 되도록 되찾지 못하고 있는 현실에 대한 비통함이 잘 표현되어 있다.




- ① 거란(요)을 멸망시켰다.
- ② 메이지 유신을 단행하였다.
- ③ 마라톤 전투에서 승리하였다.
- ④ 칭기즈 칸에 의해 건국되었다.
- ⑤ 네르친스크 조약을 체결하였다.

3. (가) 인물에 대한 설명으로 옳은 것은?

**역사 웹툰** Q 제목/작가 검색

인물별 시대별 전쟁별 기타

**「만화로 보는 진(秦)의 역사」 등장인물**

|   |   |
|---|---|
|    | <b>(가)</b><br>6국을 정복하여 분열된 중국을 최초로 통일. 흉노를 축출하고 만리장성을 축조.       |
|   | <b>이사</b><br>승상의 지위에 올라 (가)에게 문자의 통일, 유가의 탄압 등을 건의.             |
|  | <b>이세황제</b><br>아버지 (가)이가 병사한 뒤 즉위. 진승·오광의 난 이후 전국적인 반란 상황에서 사망. |

- ① 군현제를 시행하였다.
- ② 타지마할을 조성하였다.
- ③ 산치 대탑을 건립하였다.
- ④ 장건을 서역으로 파견하였다.
- ⑤ 통제거 등 대운하를 건설하였다.

4. 다음 상황이 나타난 왕조에서 있었던 사실로 옳은 것은?

황제가 친히 안녹산이 일으킨 반란을 정벌하겠다는 칙서를 내렸다. 삭방·하서·농우에 있는 병사만 남아서 성과 보루를 지키도록 하고, 그 밖에는 모두 행영(行營)\*에 모이게 하였으며 절도사들로 하여금 스스로 병사를 거느리도록 하였다.

\* 행영(行營): 출정하는 군대가 모이는 군영

- ① 성리학이 발달하였다.
- ② 당삼채가 유행하였다.
- ③ 제자백가가 등장하였다.
- ④ 산킨코타이제가 실시되었다.
- ⑤ 태평천국 운동이 전개되었다.

5. 밑줄 친 ‘황제’에 대한 설명으로 옳은 것은? [3점]

몽골의 가한 본야시리가 중원에서 온 사신을 죽였다. 이를 응징하고자 황제가 보낸 군대는 오히려 전멸당하였다. 이에 분노한 황제는 친히 대군을 거느리고 출정하여 본야시리의 군대를 대파하였다. 이후에도 몽골의 위협은 계속되었다. 황제는 자금성을 건설하고 베이징으로 천도한 뒤 다시 군대를 이끌고 여러 차례 원정에 나서 몽골의 새로운 가한 아노태를 쫓아내었다.

- ① 발해를 멸망시켰다.
- ② 탄지마트를 단행하였다.
- ③ 정화의 함대를 파견하였다.
- ④ 페르세폴리스를 건설하였다.
- ⑤ 세포이의 항쟁을 진압하였다.

세계사

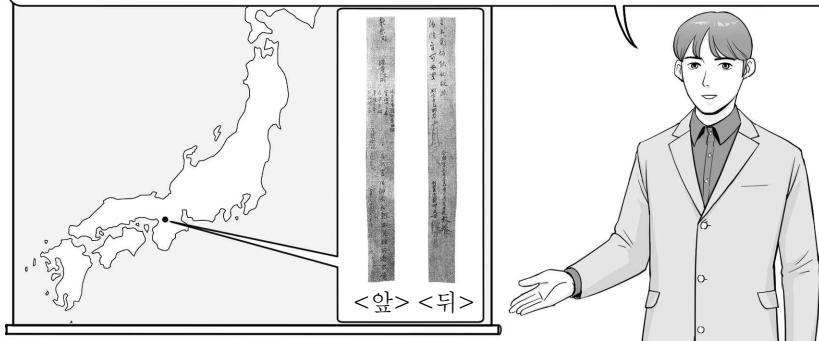
6. 자료를 활용한 탐구 주제로 가장 적절한 것은?

나는 카이사르를 찢러 죽인 자들을 추방하였다. ...(중략)... 안토니우스 세력을 물리치고 바다를 평화롭게 하자 이탈리아 전역이 자발적으로 나에게 충성을 서약하였다. ...(중략)... 내전이 끝난 후 나는 전권을 국가에 반납하겠다고 밝혔다. 이에 원로원은 오히려 아우구스투스라는 칭호를 나에게 수여하였다.

- ① 건당사 파견의 목적
- ② 베르사유 체제의 특징
- ③ 로마 제정의 성립 과정
- ④ 신경제 정책[NEP]의 추진
- ⑤ 청년 튀르크당의 결성 배경

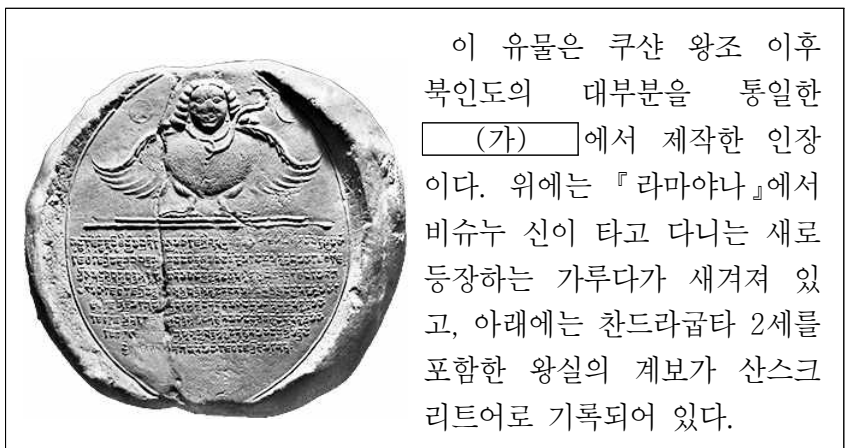
7. (가) 시대에 있었던 사실로 옳은 것은? [3점]

이것은 도다이샤 쇼소인에서 발견된 목간입니다. 목간의 앞, 뒤에는 도다이샤에서 열린 법회의 내용과 시기가 기록되어 있습니다. (가) 시대에는 도다이샤가 건립되고 성대한 법회가 열리는 등 불교가 융성하였습니다.



- ① 데지마가 건설되었다.
- ② 헤이조쿄가 수도로 변형하였다.
- ③ 비이슬람교도에 대한 지즈야가 폐지되었다.
- ④ 술탄의 친위 부대인 예니체리가 창설되었다.
- ⑤ 부청멸양을 내세운 의화단 운동이 전개되었다.

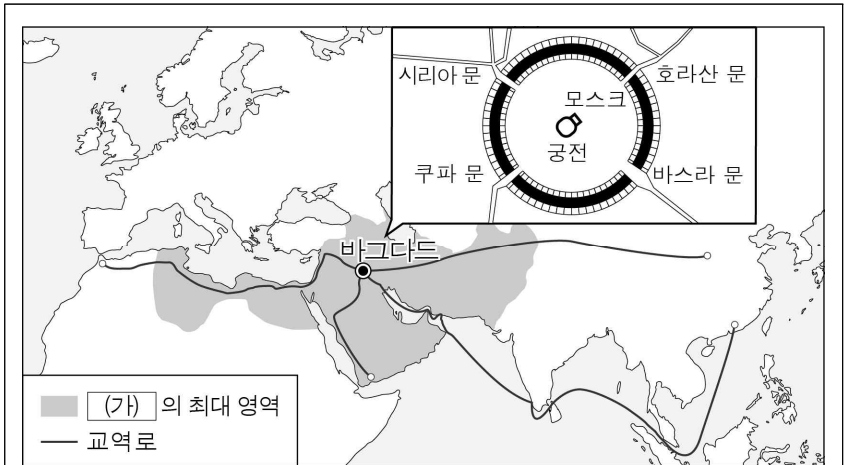
8. (가) 왕조에서 볼 수 있는 모습으로 가장 적절한 것은? [3점]



이 유물은 쿠샨 왕조 이후 북인도의 대부분을 통일한 (가)에서 제작한 인장이다. 위에는 『라마야나』에서 비슈누 신이 타고 다니는 새로 등장하는 가루다가 새겨져 있고, 아래에는 찬드라굽타 2세를 포함한 왕실의 계보가 산스크리트어로 기록되어 있다.

- ① 홍루몽을 읽는 서민
- ② 공행과 거래하는 서양 상인
- ③ 선교 활동을 펼치는 예수회 신부
- ④ 시바 신에게 예배드리는 힌두교도
- ⑤ 다이카 개신의 조칙을 발표하는 관리

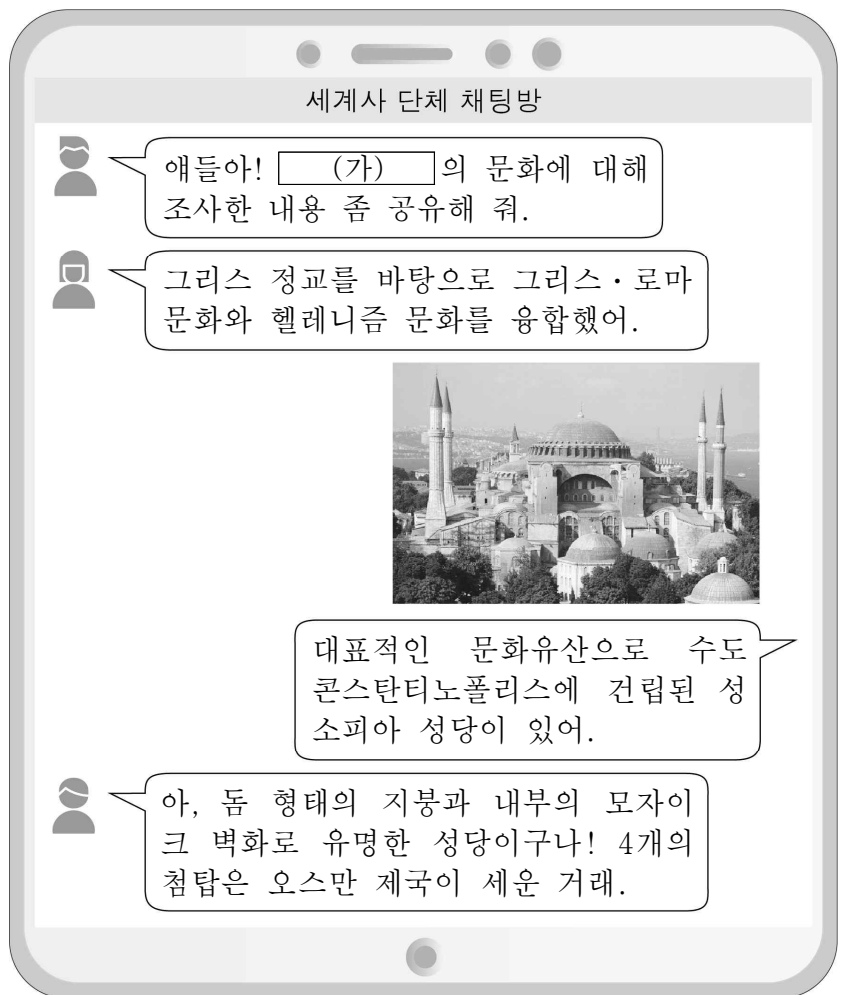
9. (가)에 들어갈 왕조로 옳은 것은? [3점]



(가)의 칼리프 만수르에 의해 원형으로 건설된 수도 바그다드는 4개의 문을 통해 동서 교역로와 연결되어 세계적인 경제의 중심지로 변형하였다. 호라산 문은 비단길과 연결되었고 바스라 문은 바닷길과 연결되었다. 그러나 (가)가 약해지자 바그다드는 셀주크 튀르크에 의해 점령되기도 하였다.

- ① 앙코르 왕조    ② 아바스 왕조    ③ 사파비 왕조
- ④ 마우리아 왕조    ⑤ 사산 왕조 페르시아

10. (가) 제국에서 있었던 사실로 옳은 것은?



애들아! (가)의 문화에 대해 조사한 내용 좀 공유해 줘.

그리스 정교를 바탕으로 그리스·로마 문화와 헬레니즘 문화를 융합했어.



대표적인 문화유산으로 수도 콘스탄티노폴리스에 건립된 성 소피아 성당이 있어.

아, 돔 형태의 지붕과 내부의 모자이크 벽화로 유명한 성당이구나! 4개의 첨탑은 오스만 제국이 세운 거래.

- ① 헤지라가 단행되었다.
- ② 권리 장전이 승인되었다.
- ③ 파쇼다 사건이 발생하였다.
- ④ 브나로드 운동이 전개되었다.
- ⑤ 유스티니아누스 법전이 편찬되었다.

11. 자료에 나타난 전쟁으로 옳은 것은?


영국 왕이여, 당신이 점령한 우리 나라의 도시들을 돌려주십시오. 만일 당신께서 이 요청에 응하지 않는다면 나 잔 다르크가 당신의 군대를 이 나라에서 몰아낼 것입니다. 그리고 신이 우리에게 주신 정당한 왕위 계승자 샤를 왕세자께서 대군을 이끌고 파리에 입성하시게 될 것입니다.

- ① 장미 전쟁      ② 아편 전쟁      ③ 백년 전쟁
- ④ 30년 전쟁      ⑤ 포에니 전쟁

12. (가) 인물의 활동으로 옳은 것은? [3점]

그림으로 보는 종교 개혁

독일      스위스      영국



이 그림은 아우구스티누스 수도회 소속이었던 (가) 이/가 교황 레오 10세의 면벌부 판매를 비판하다가 파문된 후 숨어지내는 동안 변화된 모습을 보여 주고 있다. 그동안 그는 성서를 독일어로 번역하면서 신앙의 근거는 오직 성서라고 강조하였다. 이러한 그의 신념에 따르는 새 교파는 마침내 아우크스부르크 회의에서 공인되었다.

- ① 우신예찬을 저술하였다.
- ② 아비뇽에 교황청을 두었다.
- ③ 카노사의 굴욕을 당하였다.
- ④ 95개조 반박문을 발표하였다.
- ⑤ 성상 숭배 금지령을 반포하였다.

13. (가)에 들어갈 내용으로 가장 적절한 것은?

노래 속 세계사

군인들,  
이교도의 땅으로 전진하라.  
주머니에는 기도서,  
손에는 총  
그곳에서 무역이 진행될 수  
있다는 영광스러운 소식을  
얻으리라.  
맥심 기관총을 가지고,  
평화의 복음을 전파하라.

[해설] 세실 로즈의 부하들이 군사력을 앞세워 아프리카의 마터벨리족이 거주하는 지역을 장악한 사실을 소재로 한 이 노래는 19세기 후반 서구 열강의 (가) 정책을 잘 보여 준다. 서구 열강은 그리스도교의 전파와 문명화를 명분으로 자신들의 식민 지배를 정당화하였다.

- ① 삼민주의      ② 제국주의      ③ 문치주의
- ④ 공산주의      ⑤ 비동맹 중립주의

14. (가)에 들어갈 내용으로 가장 적절한 것은?

세계사 시민 강좌

보스톤 차 사건 250주년, 파리 조약 240주년을 기념하여 ○○ 혁명의 전개 과정과 의의를 재조명하는 시간을 갖고자 합니다. 많은 참여 바랍니다.

■ 발표 순서 ■

1. 영국의 중상주의 정책과 보스톤 차 사건
2. (가)
3. 요크타운 전투의 결과와 파리 조약
4. 연방 헌법의 제정과 워싱턴 대통령 선출
5. 프랑스 혁명에 미친 영향

○일시: 2023년 ○월 ○일 14시 ~ 18시  
○장소: 시민 회관 대강당

- ① 비스마르크의 통일 정책
- ② 반동 회의와 제3 세계의 형성
- ③ 사회 계약설이 반영된 독립 선언문
- ④ 대서양 헌장에 드러난 전후 평화 수립 원칙
- ⑤ 독립 국가 연합[CIS]의 출범과 소련의 해체

15. (가) 국가의 통일 과정에서 있었던 사실로 옳은 것은? [3점]

사르데냐 왕국의 카보우르에게는 통일된 독립 국가로서 (가) 의 창건이라는 분명한 목적이 있었다. 이를 위해 그는 프랑스로부터 군사 원조를 받았고, 결국 오스트리아를 물리칠 수 있었다. 니스 할양과 교황령 공격도 그가 주도하여 이루어진 것이었다.

- ① 크롬웰이 집권하였다.
- ② 뉴딜 정책이 추진되었다.
- ③ 탈라스 전투가 벌어졌다.
- ④ 베를린 장벽이 붕괴되었다.
- ⑤ 가리발디가 의용군을 이끌었다.

16. 밑줄 친 '전쟁' 기간 중에 있었던 사실로 옳은 것은?

무솔리니 총리께

나는 귀하께 급속하게 벌어져 가는 양국의 간극에 대하여 말씀드립니다. ...(중략)... 독일의 폴란드 침공에 대해 우리 나라와 프랑스가 대독 선전포고를 하면서 전쟁이 시작되었습니다. 지금 이 전쟁이 유럽을 휩쓸고 있지만 우리는 나치에 맞서 끝까지 싸울 것입니다.

처칠 드림

- ① 러시아 혁명이 일어났다.
- ② 유럽 연합이 창설되었다.
- ③ 미일 화친 조약이 체결되었다.
- ④ 나폴레옹이 황제로 즉위하였다.
- ⑤ 노르망디 상륙 작전이 전개되었다.



17. 밑줄 친 '이 운동'에 대한 설명으로 옳은 것은? [3점]

**조선 유학생 교육 계획**

1. 목표: 조선 정부의 요청을 수용하여 서양식 화약, 탄약, 권총 등의 제조법을 전수함.
2. 인원: 38명
3. 장소: 텐진 기기국
4. 장소 선정 이유  
텐진 기기국은 중체서용의 기치 아래 서양의 기술을 도입하려는 이 운동의 일환으로 설립됨. 이곳은 독일 크루프사의 기술을 받아들여 여러 무기를 생산하고 있음.

1880. 00. 00.  
직예총독 겸 북양대신 이홍장

- ① 천조전무 제도를 발표하였다.
- ② 제1차 국공 합작을 위해 추진되었다.
- ③ 난징 조약이 체결되는 결과를 낳았다.
- ④ 청일 전쟁의 패배로 한계를 드러냈다.
- ⑤ 하급 무사를 중심으로 막부를 타도하고자 하였다.


18. (가) 단체에 대한 설명으로 옳은 것은? [3점]

**인도 전문 여행사 ○○ 투어**

홈    항공권    숙소    **도시 투어**    문의 사항

인도 > ▶ 뭄바이

○○○ 상점



인도 토산품을 주로 판매하는 이 상점은 1906년에 설립되었다. 처음에는 상점 이름에 '스와테시'라는 단어를 넣었는데 그 이유는 당시에 (가)의 주도로 영국 상품의 불매와 인도 상품의 사용을 장려하는 운동이 진행되고 있었기 때문이었다. (가)의 티라크도 이 상점의 임원으로 참여하였다.


- ① 백련교도가 주도하였다.
- ② 신해혁명을 촉발시켰다.
- ③ 벵골 분할령에 반발하였다.
- ④ 이와쿠라 사절단을 파견하였다.
- ⑤ 테니스코트의 서약을 발표하였다.

19. 다음 기사를 활용한 탐구 활동으로 가장 적절한 것은?

**○○ 타임즈**

19△△년 △△월 △△일 뉴욕

트루먼, 평화를 위해 유럽 지원 요청



어제 트루먼 대통령은 공산주의의 확산을 막기 위해, 170억 달러의 비용이 드는 유럽 경제 회복 프로그램을 승인해 줄 것을 의회에 요청하였다.

한편 이날 마셜 국무장관은 소련이 4개국 고위급 회담에서 이 프로그램에 반발했다고 언급하면서, 안정적인 경제 상황이 없다면 평화도 올 수 없다고 역설하였다.

▲ 회담에서 돌아온 마셜을 맞이하는 트루먼(좌)

- ① 신항로 개척의 결과를 조사한다.
- ② 스콜라 철학의 특징을 분석한다.
- ③ 빈 체제의 성립 배경을 탐구한다.
- ④ 사라예보 사건의 원인을 파악한다.
- ⑤ 냉전 체제의 형성 과정을 알아본다.

20. 밑줄 친 '민중 시위'가 발생한 시기를 연표에서 옳게 고른 것은? [3점]

소련의 미하일 고르바초프가 베이징을 방문했을 때 텐안먼 광장에서는 대규모 민중 시위가 전개되고 있었다. 서기장 취임 이후 페레스트로이카, 글라스노스트를 추진하고 있던 그의 방문은 민주주의에 대한 학생과 시민의 열망을 더욱 고조시켰다. 고르바초프가 본국으로 떠난 지 수일 후 중국 당국은 계엄령을 선포하였다. 이후 텐안먼 광장에 투입된 인민해방군이 민중을 향해 무차별 발포를 하였다.

|           |        |          |              |           |               |
|-----------|--------|----------|--------------|-----------|---------------|
|           | (가)    | (나)      | (다)          | (라)       | (마)           |
| 5·4 운동 시작 | 만주국 수립 | 중일 전쟁 발발 | 중화 인민 공화국 성립 | 닉슨의 중국 방문 | 영국, 중국에 홍콩 반환 |

- ① (가)    ② (나)    ③ (다)    ④ (라)    ⑤ (마)

**\* 확인 사항**

- 답안지의 해당란에 필요한 내용을 정확히 기입(표기)했는지 확인하십시오.

제 4 교시

사회탐구 영역(동아시아사)


|    |  |      |  |  |  |   |  |  |          |
|----|--|------|--|--|--|---|--|--|----------|
| 성명 |  | 수험번호 |  |  |  | 2 |  |  | 제 ( ) 선택 |
|----|--|------|--|--|--|---|--|--|----------|


1. (가)에 들어갈 유물로 가장 적절한 것은?

<활동지>  
 동아시아의 ○○○ 시대  
 2학년 △반 △번 이름: △△△

1. 이 시대의 생활 모습을 설명해 보자.  
 간석기와 토기가 사용되었고 농경과 목축이 시작되었다.

2. 다음 유물에 대해 설명해 보자.

|   |                                 |
|---|---------------------------------|
| (가)   | 한반도에서 출토된 토기로 빗살 무늬가 새겨져 있다.    |
|  | 일본 열도에서 출토된 토기로 새끼줄 무늬가 새겨져 있다. |



2. 교사의 질문에 대한 학생의 답변으로 가장 적절한 것은?

- ① 양명학이 발달하였어요.
- ② 새로운 국가가 건설되었어요.
- ③ 몽골에 대한 항쟁이 시작되었어요.
- ④ 명 중심의 조공 질서가 확립되었어요.
- ⑤ 당의 장안성을 본뜬 수도가 세워졌어요.

3. (가) 국가에 대한 설명으로 옳은 것은? [3점]

○ 수의 군대가 살수(薩水)를 반쯤 건넜을 때 (가)의 군대가 뒤에서 그 후군(後軍)을 공격하였다. 이에 수의 군대가 무너져 건잡을 수 없게 되자 장수와 사졸이 달아났다.  
 ○ 이세적이 “건안성은 남쪽에 있고 안시성은 북쪽에 있습니다. 지금 건안성을 먼저 공격했다가 만약 (가)의 군대가 우리의 보급로를 끊는다면 장차 어찌하겠습니까?”라고 하자 당 태종이 안시성을 먼저 공격하도록 명령하였다.

- ① 서하를 정복하였다.
- ② 금과 군신 관계를 맺었다.
- ③ 다이카 개신을 단행하였다.
- ④ 일본에 통신사를 파견하였다.
- ⑤ 중국의 남조, 북조와 교류하였다.

4. (가) 황제에 대한 설명으로 옳은 것은?

(가)이가 주변의 이민족에 대한 대책을 세웠다. 중국 가까이 있는 흉노에 대해서는 위청과 광거병 같은 장수를 파견하여 토벌하고 그들의 땅을 차지하였다. 또한 남월(남비엣), 고조선을 정복하고 대완을 토벌하였다.

- ① 과거제를 실시하였다.
- ② 자금성을 건설하였다.
- ③ 분서갱유를 단행하였다.
- ④ 장건을 서역에 파견하였다.
- ⑤ 평성에서 튀양으로 천도하였다.

5. (가) 국가의 대외 관계에 대한 설명으로 옳은 것은? [3점]

고려는 일찍이 국경 부근에 성을 쌓고 영토를 확보하여 그 지역을 홍주(홍화진), 철주, 통주, 용주, 귀주, 광주라고 하였다. (가)은/는 고려가 약속과 달리 송과 계속 교류하자 사신을 보내 6주 지역을 내놓으라고 요구하였으나 고려가 거부하자 군사를 일으켰다. 이때 개경이 함락되었지만 고려의 현종은 피신하여 화를 면하였다.

- ① 발해를 멸망시켰다.
- ② 건당사를 파견하였다.
- ③ 류큐 왕국을 병합하였다.
- ④ 일본 원정을 두 차례 단행하였다.
- ⑤ 송의 수도인 카이펑을 함락하였다.

동아시아사

6. 다음 특별전에 전시될 문화유산으로 가장 적절한 것은?

**초청장**


우리 박물관에서 개최하는 “해초의 순례길” 특별전에 여러분을 초대합니다. 이번 특별전에서는 둔황 석굴에서 발견되어 세상에 알려진 해초의 여행기와 그가 살았던 시기의 문화유산이 전시될 예정입니다. 신라의 승려로서 당에 유학했다가 인도와 중앙아시아까지 먼 길을 순례한 해초의 발자취를 생생하게 느낄 수 있을 것입니다.

◎ 기간: 20△△년 △월 △일 ~ △월 △일  
 ◎ 장소: □□ 박물관

- ① 해체신서    ② 사고전서
- ③ 삼국지연의                                        ④ 동방견문록
- ⑤ 왕오천축국전

7. (가) 왕조에서 있었던 사실로 옳은 것은? [3점]

동아시아사 인물 카드



**홍무제(주원장)**

◎ 재위 기간: 1368 ~ 1398년  
 ◎ 주요 활동: 홍건적 출신으로 난징에서 (가)을/를 세우고 몽골 세력을 만리장성 북쪽으로 몰아냈다. 그는 몽골의 풍습을 금지하고 한족의 문화를 회복하려 하였다.

- ① 대동법이 시행되었다.
- ② 안사의 난이 일어났다.
- ③ 헤이조쿄가 건설되었다.
- ④ 광무개혁이 전개되었다.
- ⑤ 평화의 향해가 추진되었다.

8. (가) 학문에 대한 설명으로 옳은 것은? [3점]

『주자가례』는 가정에서 지켜야 할 혼인, 장례, 제사 등에 관한 의례가 정리된 책이다. 이 책에는 주희가 집대성한 (가)의 윤리관이 반영되어 있다. 고려 말 (가)을/를 받아들인 신진 사대부들 중에는 『주자가례』에 따라 가묘(家廟)를 세우고 제사를 지내는 경우도 있었다. 이후 이 책은 조선 시대에 널리 보급되어 유교식 예법이 일상생활에 자리 잡는 데 영향을 주었다.

- ① 제국주의 정책을 뒷받침하였다.
- ② 수행을 통한 해탈을 추구하였다.
- ③ 독서삼품과의 시행에 영향을 주었다.
- ④ 우주의 원리와 인간의 심성을 탐구하였다.
- ⑤ 진시황제의 통치에 사상적 기반이 되었다.

9. (가) 전쟁이 끼친 영향으로 가장 적절한 것은?

오늘 해군은 (가) 당시 당포에서 일본군을 물리치고 올린 이순신의 장계 등을 바탕으로 제작한 새 거북선을 공개하였습니다. 이 거북선은 덮개를 나무로 만들었으며, 용머리를 뱃머리에 직결시켜 총통 발사가 가능한 구조로 되어 있습니다.




**해군, 4년에 걸쳐 제작한 새 거북선 공개**

- ① 가마쿠라 막부가 쇠퇴하였다.
- ② 5호 16국 시대가 시작되었다.
- ③ 남송이 임안을 수도로 삼았다.
- ④ 윤관이 동북 9성을 축조하였다.
- ⑤ 여진족이 성장하여 후금을 건국하였다.

10. 밑줄 친 ‘이 시기’에 동아시아에서 볼 수 있는 모습으로 가장 적절한 것은?

자료는 한글 소설이 유행한 것을 보여 주는 이 시기의 기록입니다. 춘향전과 흥부전 등 다양한 한글 소설이 인기를 끌었던 이 시기에는 책을 빌려주는 쾌가뿐 아니라 책을 재미있게 읽어 주는 전기수도 활동하였습니다.



- 쾌가는 소설을 깨끗이 베껴 써서 돈을 받고 빌려주어 이익을 보았다. 부녀자들은 서로 경쟁하듯이 빌려 가서 소설을 읽으며 시간을 보냈다.
- 전기수는 언문 소설책을 재미있게 읽어 준다. 그는 읽다가 매우 들을 만한 대목에 이르러 읽기를 멈춘다. 청중은 다음 이야기가 궁금해서 다투어 돈을 던진다.

- ① 빈공과에 응시하는 유학생
- ② 우키요에를 구매하는 조닌
- ③ 도다이사 창건을 명하는 천황
- ④ 대안탑 조성에 동원되는 기술자
- ⑤ 여진 정벌에 나서는 별무반의 장수

11. (가)에 대한 설명으로 옳은 것은? [3점]

○ 청의 비단, 그릇 등을 구입하느라 우리 조선의 (가)을/를 모두 소비해 버린다. 국내의 생산이 부족한 까닭에 일본에서 간신히 들여와 충당하지만 이내 국고가 바닥이 난다.

○ 최근 국내에서 (가) 1냥의 가격이 동전 1,600여 문 정도로 급격히 오른 것은 (가)이/가 외국으로 유출되고 있기 때문입니다. 그 이유가 아편 때문임을 우리 청나라 사람이라면 모두 알고 있습니다.

- ① 명에서 세금 납부에 이용되었다.
- ② 포르투갈로부터 일본에 전래된 무기이다.
- ③ 아메리카에서 들여와 구황 작물로 재배되었다.
- ④ 이삼평에 의해 제작 기술이 일본에 전파되었다.
- ⑤ 탈라스 전투를 계기로 이슬람 세계에 전해졌다.

12. (가) 인물에 대한 설명으로 옳은 것은?

**다큐멘터리 기획안**

◎ 제목 : 동아시아와 유럽의 만남

◎ 기획 의도 : 명·청대 동아시아와 유럽의 문물 교류를 촉진한 유럽 선교사의 활동을 조명한다.

◎ 구성

- 1편 : (가), 『천주실의』를 저술하다.
- 2편 : 아담 샬, 시헌력 제작을 주도하다.

- ① 홍루몽을 저술하였다.
- ② 해국도지를 소개하였다.
- ③ 곤여만국전도를 제작하였다.
- ④ 대한매일신보를 창간하였다.
- ⑤ 쇼토쿠 태자의 스승이 되었다.

13. (가)에 들어갈 내용으로 가장 적절한 것은?

**모듬별 발표 수업**

◎ 발표 주제 : (가)

◎ 모듬별 발표 내용

- 1모듬 : 포츠담 선언의 주요 내용
- 2모듬 : 신헌법(평화 헌법)의 제정과 의미
- 3모듬 : 극동 국제 군사 재판(도쿄 재판)의 결과

- ① 조선을 둘러싼 청과 일본의 대립
- ② 제2차 세계 대전 후 일본에 대한 처리
- ③ 6월 민주 항쟁이 동아시아에 미친 영향
- ④ 문화 대혁명으로 인한 중국 사회의 변화
- ⑤ 대공황 시기 동아시아 각국의 경제 정책

14. 밑줄 친 ‘이 전쟁’이 전개되던 시기에 동아시아에서 있었던 사실로 옳은 것은? [3점]

여기는 청 황실의 정원이었던 원명원으로 과거 ‘동양의 베르사유 궁전’이라 불리었습니다. 그러나 원명원은 애로호 사건을 빌미로 발생한 이 전쟁 때 영국군과 프랑스군에 의하여 크게 훼손되었고 그 이후에도 여러 차례 수난을 겪었습니다.



- ① 한국 - 3·1 운동이 일어났다.
- ② 한국 - 병자호란이 발발하였다.
- ③ 중국 - 텐안먼 사건이 발생하였다.
- ④ 중국 - 태평천국 운동이 전개되었다.
- ⑤ 일본 - 센고쿠(전국) 시대가 통일되었다.

15. 밑줄 친 ‘이 혁명’에 대한 설명으로 옳은 것은? [3점]

오늘 소개할 글귀는 쑨원이 쓴 “천하위공”입니다. 쑨원이 좌우명으로 삼은 글이라고 하는데, 어떤 의미가 있는지 설명해 주세요.

이 글은 “천하를 공공의 것으로 한다.”라는 의미로 공화제를 지향한 쑨원의 사상이 잘 나타나 있습니다. 그의 사상은 이 혁명에 영향을 끼쳤으며 그 결과 중화민국이 수립되고 청 왕조가 무너졌습니다.



- ① 부청멸양을 구호로 내세웠다.
- ② 홍위병을 중심으로 전개되었다.
- ③ 우창 신군의 봉기로 본격화되었다.
- ④ 3·15 부정 선거를 계기로 일어났다.
- ⑤ 월슨의 민족 자결주의의 영향을 받았다.

16. 밑줄 친 '신정부'에서 실시한 정책으로 옳은 것은? [3점]

개항 후 동아시아의 생활 변화 일본편

의생활    **식생활**    주생활

왕정복고 이후 수립된 신정부는 문명개화를 내세우며 서양 문물을 수용하고자 하였다. 이에 미국과 유럽에 이와쿠라 사절단과 유학생을 파견하는 등 적극적인 근대화 정책을 추진하였다. 이러한 분위기 속에서 서구적인 식습관이 장려되면서 고기가 들어간 음식과 외국 음식을 일본의 실정에 맞게 변화시킨 음식이 등장하였다. 크로켓, 카레라이스 등이 대표적이다.


- ① 징병제를 시행하였다.
- ② 지정은제를 마련하였다.
- ③ 양무운동을 전개하였다.
- ④ 대한국 국제를 반포하였다.
- ⑤ 산킨코타이 제도를 실시하였다.

17. 자료를 활용한 탐구 활동으로 가장 적절한 것은?

일본 패망 이후 시작된 중국 공산당과의 내전에서 중국 국민당이 패배한 것은 우리 미국 정부의 도움이 부족해서가 아니다. 중국 국민당의 지도자는 위기에 대처할 수 있는 능력이 부족하였고, 인민으로부터의 지지도도 없었다. 반면 중국 공산당은 엄격한 규율과 광적인 열성으로 자신들을 인민의 수호자이자 해방자로 선전하고 있다.

- ① 갑신정변의 개혁 정강을 분석한다.
- ② 포츠머스 조약의 내용을 조사한다.
- ③ 타이완이 일본에 할양된 배경을 살펴본다.
- ④ 중화 인민 공화국의 수립 과정을 정리한다.
- ⑤ 조·명 연합군이 벌인 주요 전투를 찾아본다.


18. 밑줄 친 '정책'에 대한 설명으로 옳은 것은?



이 주화는 중국 정부의 개혁·개방 정책 시행 40주년을 기념하여 2018년에 발행되었다. 초고층 빌딩이 들어선 도시 풍경은 개혁·개방 정책에 따라 가장 먼저 경제특구로 지정되어 급속한 발전을 이룬 선전의 모습을 표현한 것이다.

- ① 덩샤오핑이 주도하였다.
- ② 메이지 유신에 영향을 주었다.
- ③ 태양력 도입의 계기가 되었다.
- ④ 5·4 운동이 일어나는 배경이 되었다.
- ⑤ 공행 무역이 폐지되는 결과를 가져왔다.

19. 밑줄 친 '이 전쟁'이 전개된 시기를 연표에서 옳게 고른 것은? [3점]



자료는 일본군의 뤼순 포격 장면을 담은 사진엽서이다. 러시아의 조차지였던 뤼순은 전략적 요충지로서 이 전쟁 당시 격전이 벌어진 곳이다. 일본은 영국과 미국의 지원을 받아 전쟁을 수행하는 한편 전쟁 상황을 보여 주는 사진엽서를 발행하여 국내외의 여론을 유리하게 조성하고자 하였다.

| (가)         | (나)    | (다)   | (라)     | (마)         |
|-------------|--------|-------|---------|-------------|
| 미일 화친 조약 체결 | 운요호 사건 | 삼국 간섭 | 을사조약 체결 | 파리 강화 회의 개최 |

- ① (가)    ② (나)    ③ (다)    ④ (라)    ⑤ (마)

20. (가) 도에서 있었던 사실로 옳은 것은? [3점]

■ 일제 강점기 해외의 한인 학교

1. 인성학교

인성학교는 (가)에 거주하는 한국인 자제들을 위해 설립되었다. 1919년 이 도시에 대한민국 임시 정부가 수립되자 인성학교는 그 산하에 소속되어 국어와 국사 교육 등을 실시하였다. ▲인성학교 교직원과 학생들



인성학교는 대한민국 임시 정부가 이 도시를 떠난 이후 운영이 중단되었다.

- ① 데지마가 조성되었다.
- ② 경인선이 부설되었다.
- ③ 한성순보가 발행되었다.
- ④ 에도 막부가 수립되었다.
- ⑤ 윤봉길의 의거가 일어났다.

\* 확인 사항  
○ 답안지의 해당란에 필요한 내용을 정확히 기입(표기)했는지 확인하십시오.

제 4 교시

사회탐구 영역(세계지리)

|    |  |      |  |  |  |   |  |  |          |
|----|--|------|--|--|--|---|--|--|----------|
| 성명 |  | 수험번호 |  |  |  | 2 |  |  | 제 ( ) 선택 |
|----|--|------|--|--|--|---|--|--|----------|

1. 다음 자료의 (가)에 들어갈 내용으로 가장 적절한 것은?

<세계지리 주제 탐구>

○ 주제 : (가)

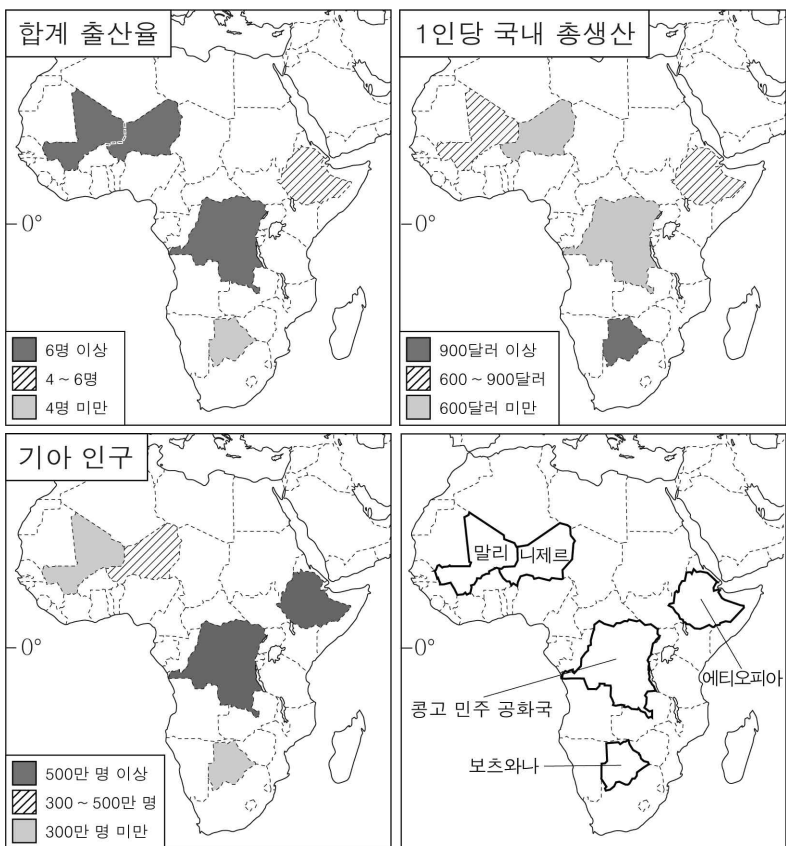
○ 사례 : 산업 혁명의 중심 도시였던 리버풀은 20세기 이후 교역량 감소 등으로 쇠퇴하였다. 리버풀은 도시를 부흥시키기 위해 세계적인 팝그룹 ○○○이/가 남긴 여러 유산과 관련된 장소들을 매력적인 상품으로 개발하는 전략을 추진하였다. 그 결과 팝그룹의 이야기가 담겨 있는 박물관이 리버풀의 관광 명소가 되는 등 ○○○을/를 추억하며 찾아오는 관광객들로 인해 도시는 다시 활력을 되찾았다.

- ① 공간 불평등의 확산
- ② 세계화에 따른 빈부 격차 심화
- ③ 다국적 기업의 공간적 분업 확대
- ④ 장소 마케팅을 통한 지역 경제 활성화
- ⑤ 지리적 표시제를 활용한 상품의 경쟁력 강화

2. 다음 <조건>을 모두 만족하는 국가에 ○○시설을 건립하고자 한다. 가장 적합한 국가를 지도에서 고른 것은?

< 조 건 >

1. 합계 출산율이 6명 이상인 국가
2. 1인당 국내 총생산이 600달러 미만인 국가
3. 기아 인구가 500만 명 이상인 국가



\* 합계 출산율, 1인당 국내 총생산은 2020년 기준이며, 기아 인구는 2019~2021년의 평균값임.

- ① 니제르                      ② 말리                      ③ 보츠와나
- ④ 에티오피아              ⑤ 콩고 민주 공화국

3. 다음 자료의 (가), (나) 도시에 대한 옳은 설명만을 <보기>에서 고른 것은? [3점]

| 도시     | (가)                                  | (나)                              |
|--------|--------------------------------------|----------------------------------|
| 수리적 위치 | 40°43'N, 74°00'W                     | 33°51'S, 151°12'E                |
| 주요 기념물 |                                      |                                  |
|        | 햇불을 든 여신상으로 허드슨강의 유람선에서 사진을 찍을 수 있음. | 조개 모양을 닮은 건축물로 다양한 공연을 감상할 수 있음. |

< 보 기 >

ㄱ. (가)에는 국제 연합(UN)의 본부가 있다.  
 ㄴ. (나)는 오스트레일리아에 있다.  
 ㄷ. (가)는 (나)보다 1월 평균 기온이 높다.  
 ㄹ. (나)는 (가)보다 세계 금융 시장에 주는 영향력이 크다.

- ① ㄱ, ㄴ    ② ㄱ, ㄷ    ③ ㄴ, ㄷ    ④ ㄴ, ㄹ    ⑤ ㄷ, ㄹ

4. 다음은 세계지리 수업 장면의 일부이다. 교사의 질문에 옳게 대답한 학생만을 고른 것은? [3점]

교사: (가), (나)는 각각 건조 문화권과 북극 문화권의 메타버스(가상 공간)를 나타낸 것입니다. (가), (나)의 특성에 대해 발표해 볼까요?

갑: (가)에서는 플랜테이션이 활발합니다.  
 을: (가)의 주민들은 대부분 이슬람교를 믿습니다.  
 병: (나)에서는 순록을 유목하는 모습을 볼 수 있습니다.  
 정: (나)는 (가)보다 아랍어를 사용하는 주민의 비율이 높습니다.

- ① 갑, 을    ② 갑, 병    ③ 을, 병    ④ 을, 정    ⑤ 병, 정

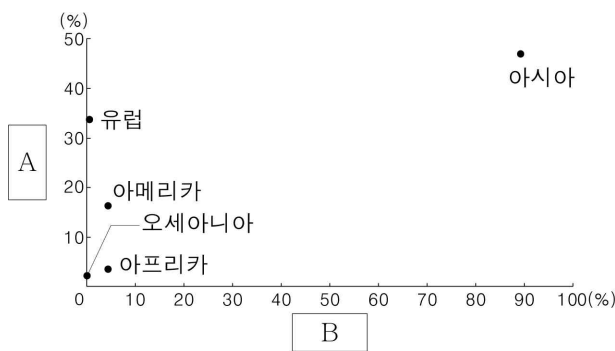
세계지리

5. 다음 자료의 (가) 국가에 대한 설명으로 옳은 것은?

(가) 은/는 과거 영국의 식민지로 영국계 주민이 많고, 내륙에 원주민인 애버리지니가 살고 있어. 내륙에 사막과 대찬정 분지가 있고, 동부 해안을 따라 그레이트디바이딩산맥이 있어. 온대 기후가 나타나는 남동부 해안에 인구가 많이 분포해.

- ① 세계에서 인구가 가장 많다.
- ② 유럽 연합(EU)의 회원국이다.
- ③ 세계에서 국토 면적이 가장 넓다.
- ④ 힌두교 신자보다 크리스티교 신자가 많다.
- ⑤ 계절풍의 영향으로 벼농사가 활발하게 이루어진다.

6. 그래프는 두 식량 작물의 지역(대륙)별 생산량 비율을 나타낸 것이다. A, B에 대한 설명으로 옳은 것은? (단, A, B는 각각 밀, 쌀 중 하나임.) [3점]



\* 작물별 세계 총생산량에서 지역(대륙)의 생산량이 차지하는 비율을 나타냄. (2020년)

- ① A는 아메리카에서 기원하였다.
- ② B의 소비량은 유럽 문화권보다 동아시아 문화권이 많다.
- ③ A는 B보다 인구 부양력이 크다.
- ④ B는 A보다 국제 이동량이 많다.
- ⑤ A는 쌀, B는 밀이다.

7. 다음 자료의 (가) 에너지에 대한 설명으로 옳은 것은? [3점]

(가) 은/는 19세기 내연 기관의 발명과 자동차 보급의 확산으로 소비량이 급증하였다. 수송용으로 이용되는 비율이 높고, 플라스틱, 합성 섬유, 화장품, 의약품 등을 만드는 주요 원료이다. 또한 서남아시아의 수출량 비율이 높아 서남아시아의 정세 불안정에 따른 국제 가격 변동 폭이 큰 편이다.

< (가) 의 용도별 소비 비율 >

| 용도  | 비율 (%) |
|-----|--------|
| 수송용 | 65.3   |
| 산업용 | 7.3    |
| 기타  | 22.1   |

- ① 주로 고생대 지층에 매장되어 있다.
- ② 재생이 가능하여 고갈 가능성이 낮다.
- ③ 세계에서 중국의 생산량과 소비량이 가장 많다.
- ④ 화석 에너지 중 대기 오염 물질 배출량이 가장 적다.
- ⑤ 세계 1차 에너지 소비량에서 차지하는 비율이 가장 높다.

8. 다음 자료의 (가)가 심화될 경우 나타날 변화에 대한 추론으로 옳지 않은 것은?

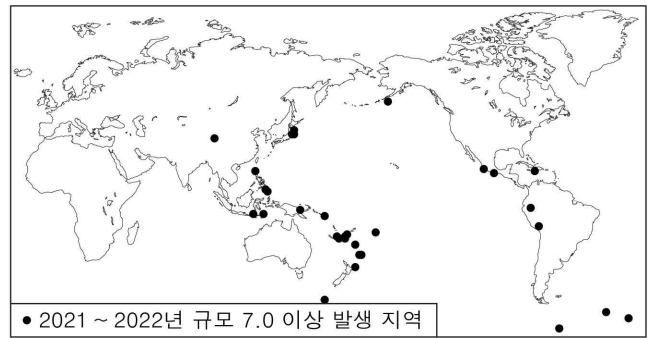
<세계지리 학습지>

\* 세계적인 환경 문제인 (가) 을/를 그림으로 표현하고, 그 원인을 적어봅시다.

- 산업화와 도시화로 인한 화석 에너지 사용량 증가
- 가축 사육 두수 증가에 따른 메테인 증가
- 삼림 면적 감소로 인한 이산화탄소 흡수 능력 약화

- ① 열대성 질병의 발생률이 높아질 것이다.
- ② 해안 저지대의 침수 위험성이 증가할 것이다.
- ③ 북극 항로의 항해 가능 일수가 감소할 것이다.
- ④ 고산 식물 분포의 한계 고도가 높아질 것이다.
- ⑤ 시베리아 영구 동토층의 분포 범위가 축소될 것이다.

9. 지도는 어떤 자연재해의 발생 지역을 나타낸 것이다. 이 자연재해에 대한 옳은 설명만을 <보기>에서 있는 대로 고른 것은?



< 보기 >

- ㄱ. 강풍과 호우를 동반하여 큰 피해를 준다.
- ㄴ. 판의 경계와 그 주변부에서 주로 발생한다.
- ㄷ. 피해를 줄이기 위한 대책으로 내진 설계가 있다.

- ① ㄱ      ② ㄴ      ③ ㄷ      ④ ㄱ, ㄷ      ⑤ ㄴ, ㄷ

10. 다음 자료의 (가), (나) 지역에 대한 설명으로 옳은 것은? [3점]



- ① (가)는 열대 우림 기후가 나타난다.
- ② (나)는 일 년 내내 아열대 고압대의 영향을 받는다.
- ③ (가)는 (나)보다 해발 고도가 높다.
- ④ (가)는 (나)보다 연 강수량이 많다.
- ⑤ (가), (나)는 모두 기온의 일교차보다 기온의 연교차가 크다.

11. 다음 자료의 (가), (나) 국가를 지도의 A~C에서 고른 것은?

(가)의 전통 음식

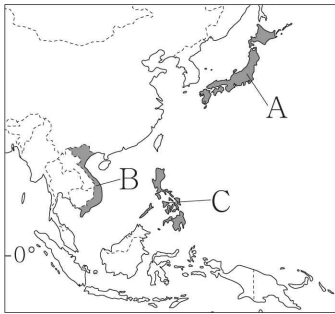


소금과 식초, 설탕으로 간을 한 밥에 생선을 얹은 '스시'

(나)의 전통 음식

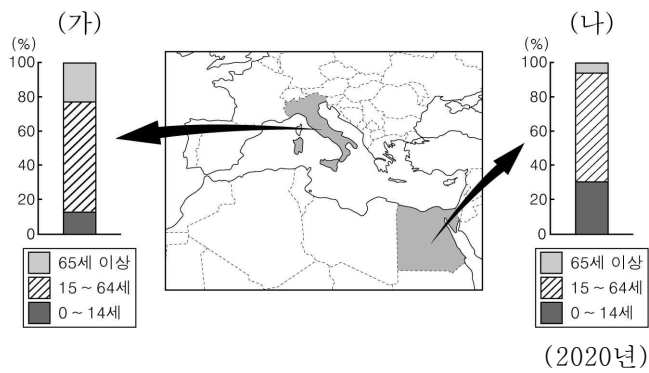


사골을 우려낸 국물에 쌀로 만든 국수와 향신료를 넣은 '파'



- |   | (가) | (나) |
|---|-----|-----|
| ① | A   | B   |
| ② | A   | C   |
| ③ | B   | A   |
| ④ | B   | C   |
| ⑤ | C   | B   |

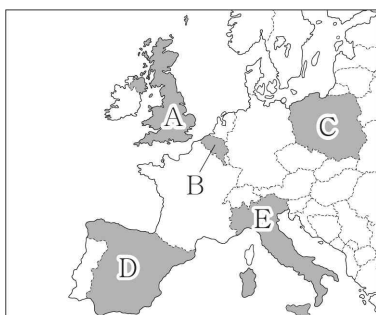
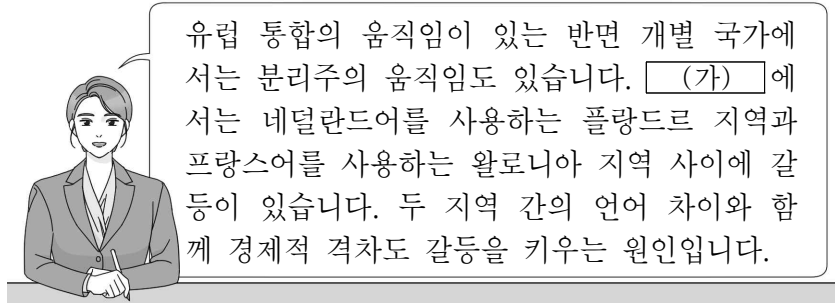
12. 다음 자료는 두 국가의 연령층별 인구 구조를 나타낸 것이다. (가), (나) 국가에 대한 설명으로 옳은 것은? [3점]



- ① (가)는 피라미드형 인구 구조가 나타난다.
- ② (나)는 노년 부양비보다 유소년 부양비가 높다.
- ③ (가)는 (나)보다 합계 출산율이 높다.
- ④ (나)는 (가)보다 중위 연령이 높다.
- ⑤ (나)에서 (가)로 이주한 인구보다 (가)에서 (나)로 이주한 인구가 많다.

13. 다음 자료의 (가) 국가를 지도의 A~E에서 고른 것은?

<유럽에 부는 분리와 독립의 바람>



- ① A
- ② B
- ③ C
- ④ D
- ⑤ E

14. 다음 자료의 (가), (나) 종교에 대한 설명으로 옳은 것은? (단, (가), (나)는 각각 불교, 크리스티교 중 하나임.) [3점]

<동남아시아 종교 여행기>



미얀마에서 (가) 건축물인 아난다 사원을 방문하였다. 황금빛의 사원 안에 있는 불상과 탑을 배경으로 기념 사진을 찍었다.

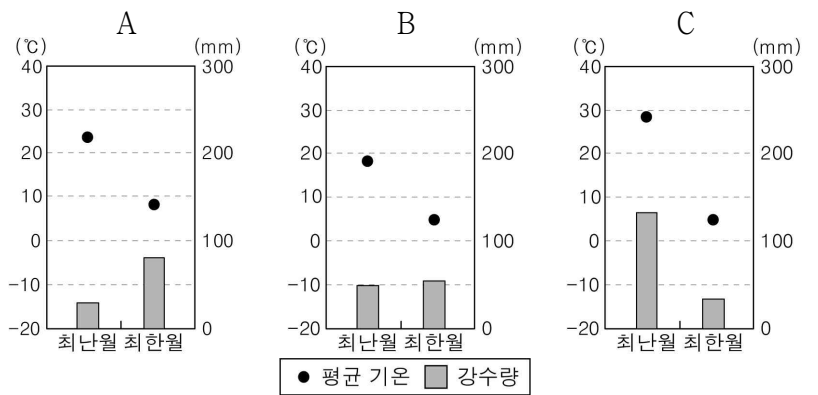


필리핀에서 (나) 건축물인 성 아우구스티누스 성당을 방문하였다. 성당 내 십자가와 예수상, 성가대 조각상이 인상 깊었다.

- ① (가)는 개인의 수행을 통한 해탈을 추구한다.
- ② (나)는 메카로의 성지 순례를 종교적 의무로 한다.
- ③ (가)는 (나)보다 세계 신자 수가 많다.
- ④ (나)는 (가)보다 발생 시기가 이른다.
- ⑤ (가), (나)는 모두 남부 아시아에서 기원하였다.

15. 표는 세 지역의 주민 생활을 나타낸 것이다. (가)~(다)의 기후 특성을 나타내는 그래프를 A~C에서 고른 것은? [3점]

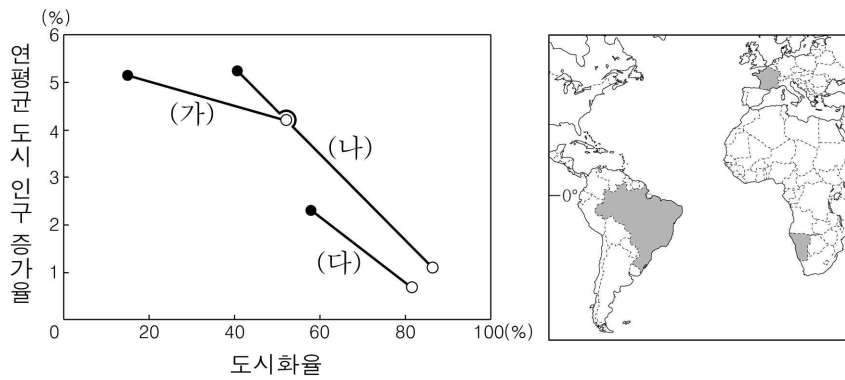
| 지역  | 주민 생활  |
|-----|--|
| (가) | 여름이 서늘하여 식량 및 사료용 작물 재배와 함께 가축을 사육하는 혼합 농업이 발달하였다. 곡물로 만든 빵과 육류 등을 먹는다.        |
| (나) | 여름이 고온 건조하여 포도, 올리브 등을 재배하는 수목 농업이 발달하였다. 음식을 조리할 때 올리브유를 많이 사용하며 포도주를 즐겨 마신다. |
| (다) | 여름이 매우 덥고 비가 많이 내려 벼농사가 발달하였다. 쌀로 만든 밥을 주식으로 삼고 반찬이나 요리를 곁들여 먹는다.              |



- |   | (가) | (나) | (다) | (가) | (나) | (다) |
|---|-----|-----|-----|-----|-----|-----|
| ① | A   | B   | C   | ②   | A   | C   |
| ③ | B   | A   | C   | ④   | B   | C   |
| ⑤ | C   | A   | B   |     |     |     |



16. 그래프는 지도에 표시된 세 국가의 도시화율과 연평균 도시 인구 증가율 변화를 나타낸 것이다. (가)~(다) 국가에 대한 설명으로 옳은 것은? [3점]



- ① (가)는 1955년에 촌락 인구가 도시 인구보다 많다.
- ② (나)는 2020년에 도시화의 초기 단계에 해당한다.
- ③ (다)는 (가)보다 국가 내 1차 산업 종사자 비율이 높다.
- ④ (다)는 (나)보다 1955~2020년 도시 인구 증가율이 높다.
- ⑤ (가)는 브라질, (나)는 나미비아, (다)는 프랑스이다.

17. 다음 글의 (가) 국가에 대한 옳은 설명만을 <보기>에서 고른 것은?

탱고와 축구의 나라 (가) 은/는 대한민국의 지구 반대편에 위치한다. 라틴 아메리카에서 브라질 다음으로 국토면적이 넓으며 팜파스에서는 대규모로 소가 사육되고 있다. 대부분의 라틴 아메리카 국가들과 달리 민족(인종) 구성에서 원주민의 비율이 현저히 낮고 유럽계의 비율이 매우 높다.

- < 보 기 >
- ㄱ. 대서양과 접해 있다.
  - ㄴ. 대표적인 축제로 리우 카니발이 있다.
  - ㄷ. 주민들은 대부분 에스파냐어를 사용한다.
  - ㄹ. 온대 기후보다 열대 기후 지역의 분포 범위가 넓다.

- ① ㄱ, ㄴ    ② ㄱ, ㄷ    ③ ㄴ, ㄷ    ④ ㄴ, ㄹ    ⑤ ㄷ, ㄹ

18. 다음 글의 ㉠에 대한 설명으로 옳은 것은?

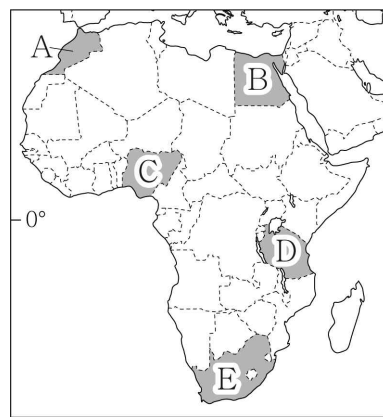
산스크리트어의 합성어로 ‘눈이 사는 곳’을 의미하는 ㉠ □□□산맥에는 힌두교에서 신성시하는 갠지스강의 발원지가 있다. 이 산맥에는 세계에서 가장 높은 에베레스트산을 비롯하여 해발 고도 8,000 m 이상의 높은 봉우리가 14개나 있다. 이곳에 사는 셰르파족은 등반가나 관광객의 짐을 나르거나 길을 안내하는 역할을 하며 살아가고 있다.

- ① 고기 습곡 산지로 분류된다.
- ② 환태평양 조산대의 일부이다.
- ③ 잉카 문명의 고대 도시가 위치한다.
- ④ 스위스와 이탈리아의 경계를 이룬다.
- ⑤ 대륙판과 대륙판이 충돌하여 형성되었다.

19. 다음 자료의 (가) 국가를 지도의 A~E에서 고른 것은?

< (가) 여행 계획표 >

| 일정  | 장소        | 활동                         |
|-----|-----------|----------------------------|
| 1일차 | 킬리만자로산    | 아프리카에서 가장 높은 산을 배경으로 사진 찍기 |
| 3일차 | 세렝게티 국립공원 | 사바나에서 기린, 사자 등 야생 동물 관찰하기  |
| 5일차 | 잔지바르 해변   | 산호초 해안의 해수욕장에서 일광욕하기       |
| 7일차 | 탕가니카 호수   | 동아프리카 지구대에 형성된 호수에서 보트 타기  |

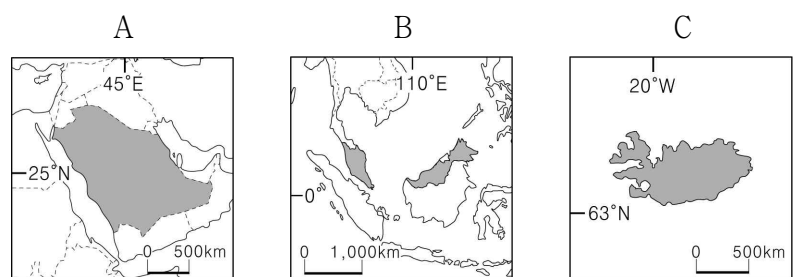


- ① A
- ② B
- ③ C
- ④ D
- ⑤ E

20. 다음 자료는 여행 중인 두 사람의 영상 통화 내용이다. (가), (나) 국가가 표시된 지도를 A~C에서 고른 것은? [3점]

(가) 은/는 밤 늦은 시간에도 백야 현상으로 낮처럼 환해서 여행할 수 있는 시간이 많아요. 간헐천을 감상하고 빙하가 만든 동굴을 구경했어요.

(나) 은/는 일 년 내내 덥고 습하지만 다양한 열대 과일을 맛볼 수 있어요. 한낮에 스콜이 자주 내려서 거리 곳곳에 비가림막이 있어요.



- |   |     |     |   |     |     |
|---|-----|-----|---|-----|-----|
|   | (가) | (나) |   | (가) | (나) |
| ① | A   | B   | ② | A   | C   |
| ③ | B   | A   | ④ | C   | A   |
| ⑤ | C   | B   |   |     |     |

\* 확인 사항  
○ 답안지의 해당란에 필요한 내용을 정확히 기입(표기)했는지 확인하시오.

제 4 교시

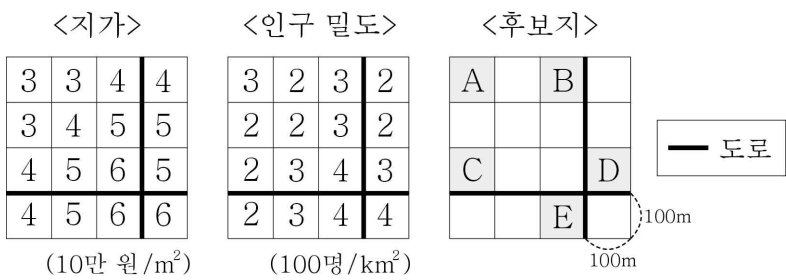
사회탐구 영역 (한국지리)

|    |  |      |  |  |  |   |  |  |          |
|----|--|------|--|--|--|---|--|--|----------|
| 성명 |  | 수험번호 |  |  |  | 2 |  |  | 제 ( ) 선택 |
|----|--|------|--|--|--|---|--|--|----------|

1. 다음 <조건>만을 모두 고려하여 상업 시설의 입지를 선정하고자 할 때, 가장 적절한 곳을 후보지 A~E에서 고른 것은?

< 조건 >

1. 지가가 50만 원/m<sup>2</sup> 미만인 곳에 입지함.
2. 인구 밀도가 300명/km<sup>2</sup> 이상인 곳에 입지함.
3. 도로와의 거리가 100 m 이내인 곳에 입지함.



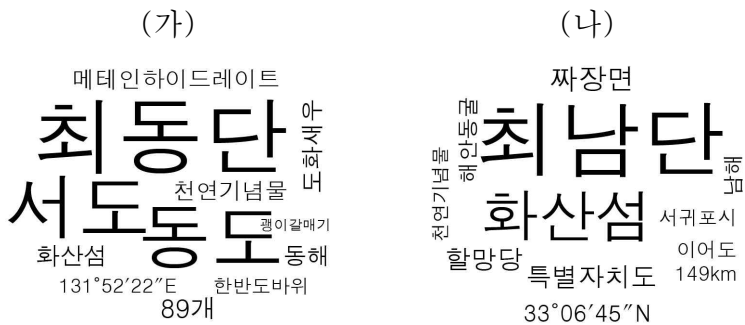
- ① A      ② B      ③ C      ④ D      ⑤ E

2. 다음 자료의 ㉠~㉣에 대한 설명으로 옳지 않은 것은? [3점]

| 충청북도 ㉠ 단양 지역의 자연 유산                             |  |
|---|--|
| <고수 동굴>   | <단양 석문>  |
| ㉠ 기반암의 화학적 풍화 작용으로 형성된 동굴로, 내부에 ㉡ 다양한 지형이 분포한다. | ㉢ 석회 동굴이 무너지고 남은 동굴 천장의 일부가 무지개 모양의 ㉣ 구름다리처럼 형성된 지형이다. |

- ① ㉠에는 카르스트 지형이 분포한다.
- ② ㉡은 주로 석회암으로 이루어져 있다.
- ③ ㉢은 중유석, 석순, 석주가 대표적이다.
- ④ ㉣은 지하수에 의해 기반암이 녹아 형성되었다.
- ⑤ ㉣에서는 용암이 식으면서 형성된 주상 절리를 볼 수 있다.

3. 다음 자료는 두 섬에 대한 단어 구름(word cloud)이다. (가), (나) 섬에 대한 설명으로 옳은 것은?



- ① (가)에는 종합 해양 과학 기지가 건설되어 있다.
- ② (나)는 행정 구역상 경상북도에 속한다.
- ③ (가)는 (나)보다 일출 시각이 이르다.
- ④ (가)는 (나)보다 대체로 태풍의 영향을 먼저 받는다.
- ⑤ (나)는 (가)보다 섬을 둘러싼 영해의 평균 수심이 깊다.

4. 다음 자료의 ㉠~㉣에 대한 옳은 설명만을 <보기>에서 있는 대로 고른 것은? [3점]

<심층 탐사: ㉠ 수도권 집중 현상>

전문가: 수도권은 남한 면적의 약 11.8%에 불과하지만 전체 인구의 약 50.4%가 거주하고 있고 국내 총생산의 약 52.5%를 차지하고 있습니다.

진행자: 이러한 편중과 관련하여 비수도권에서 나타나는 문제에는 어떤 것들이 있을까요?

전문가: ㉡ 문제가 대표적입니다.

진행자: 수도권 집중 현상을 완화하기 위해 정부는 어떤 노력을 하고 있나요?

전문가: 정부는 ㉢ 와/과 같은 정책을 시행하고 있습니다.

< 보기 >

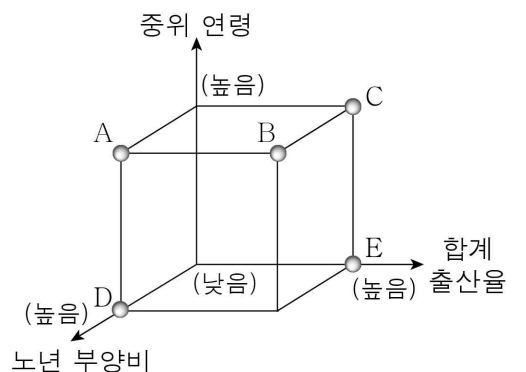
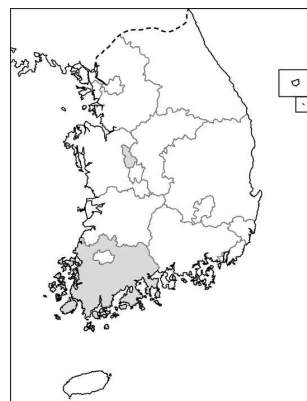
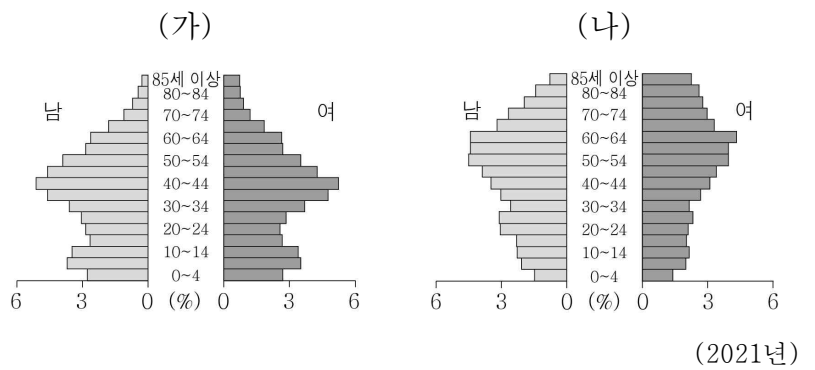
㉠. ㉠은 3차 산업보다 1차 산업에서 두드러지게 나타난다.

㉡. ㉡에는 '수도권으로의 지역 인재 유출'이 들어갈 수 있다.

㉢. ㉢에는 '수도권에 위치한 공공 기관 및 공기업의 비수도권으로의 이전'이 들어갈 수 있다.

- ① ㉠      ② ㉡      ③ ㉠, ㉢      ④ ㉡, ㉢      ⑤ ㉠, ㉡, ㉢

5. 그래프는 지도에 표시된 두 지역의 인구 구조를 나타낸 것이다. (가) 지역과 비교한 (나) 지역의 상대적 특징을 그림의 A~E에서 고른 것은? [3점]



- ① A      ② B      ③ C      ④ D      ⑤ E

6. 표는 세 신·재생 에너지의 생산량 비율 상위 3개 지역을 나타낸 것이다. (가)~(다) 에너지로 옳은 것은? [3점]

(단위: %)

| 순위 | 에너지 | (가)      | (나)      | (다)      |
|----|-----|----------|----------|----------|
| 1위 |     | 전남(20.5) | 경북(30.0) | 강원(27.4) |
| 2위 |     | 전북(16.7) | 강원(24.8) | 충북(26.0) |
| 3위 |     | 충남(12.8) | 제주(18.4) | 경기(16.8) |

\* 수력은 양수식을 제외함.  
\*\* 전국 생산량 대비 지역별 비율임. (2020년)

- |       |     |     |       |     |     |
|-------|-----|-----|-------|-----|-----|
| (가)   | (나) | (다) | (가)   | (나) | (다) |
| ① 수력  | 태양광 | 풍력  | ② 수력  | 풍력  | 태양광 |
| ③ 태양광 | 수력  | 풍력  | ④ 태양광 | 풍력  | 수력  |
| ⑤ 풍력  | 태양광 | 수력  |       |     |     |

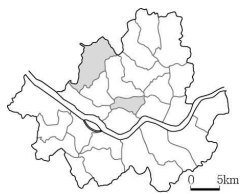
7. 다음 자료는 누리 소통망에 올라온 여행 후기의 일부이다. ㉠, ㉡에 대한 설명으로 옳은 것은? [3점]



- ① ㉠은 오염 물질을 정화하는 기능이 있다.
- ② ㉠은 조차가 작은 해안에 주로 나타난다.
- ③ ㉡은 만보다 곳에 잘 발달한다.
- ④ ㉡은 주로 조류의 퇴적 작용으로 형성된다.
- ⑤ ㉠은 동해안, ㉡은 서해안에 주로 분포한다.

8. 표는 지도에 표시된 두 지역의 정보이다. (가), (나) 지역에 대한 설명으로 옳은 것은? [3점]

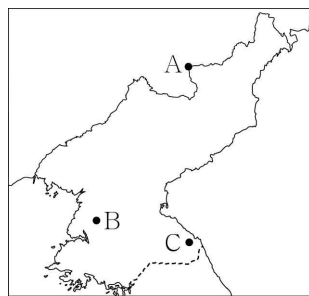

| 정보           | 지역 | (가)     | (나)     |
|--------------|----|---------|---------|
| 금융 기관 수(개)   |    | 37      | 176     |
| 초등학교 학급 수(개) |    | 921     | 243     |
| 상주인구(명)      |    | 456,474 | 118,450 |



(2020년)

- ① (가)에는 도심이 위치한다.
- ② (나)는 업무 및 관리 기능이 집중되어 있다.
- ③ (가)는 (나)보다 인구 공동화 현상이 뚜렷하다.
- ④ (가)는 (나)보다 출근 시간대 유입 인구가 많다.
- ⑤ (나)는 (가)보다 업무용 빌딩의 평균 층수가 적다.

9. 다음은 한국지리 수업 장면이다. (가), (나) 지역을 지도의 A~C에서 고른 것은?



- |   |     |     |
|---|-----|-----|
|   | (가) | (나) |
| ① | A   | B   |
| ② | A   | C   |
| ③ | B   | A   |
| ④ | B   | C   |
| ⑤ | C   | B   |

10. 다음은 자연재해 대응 행동 요령을 나타낸 것이다. (가), (나) 자연재해에 대한 옳은 설명만을 <보기>에서 고른 것은? (단, (가), (나)는 각각 지진, 태풍 중 하나임.)

(가)

비와 바람으로부터 안전한 곳으로 대피하세요.

강풍에 대비하여 창문을 닫으세요.

(나)

낙하물을 피해 책상 아래로 대피하세요.

해안을 벗어나 높은 곳으로 이동하세요.

< 보 기 >

ㄱ. (가)로 인한 피해액은 대체로 남부 지방보다 중부 지방이 많다.

ㄴ. (나)로 인한 피해는 내진 설계를 통해 줄일 수 있다.

ㄷ. (가)는 (나)보다 특정 계절에 발생이 집중되는 특성이 있다.

ㄹ. (나)는 (가)보다 관측 이후 대비할 수 있는 시간이 많다.

- ① ㄱ, ㄴ    ② ㄱ, ㄷ    ③ ㄴ, ㄷ    ④ ㄴ, ㄹ    ⑤ ㄷ, ㄹ

11. 다음은 학생이 작성한 지역 조사 계획서이다. ㉠~㉣에 대한 옳은 설명만을 <보기>에서 고른 것은? [3점]

<○○시 지역 조사 계획서>

1. 주제 및 지역 선정
  - 공업 단지 조성 이후 ○○시의 변화
2. 지리 정보 수집
  - ㉠ 항공 사진 비교를 통한 토지 이용 변화 조사
  - ㉡ 통계 자료 검색을 통한 2차 산업 종사자 변화 조사
  - ㉢ 면담을 통한 주민의 ㉣ 삶의 질 만족도 변화 조사
3. 지리 정보 분석
  - 수집한 자료를 ㉤ 지리 정보 시스템(GIS)을 이용하여 분석
  - 지역 내 산업 구조 변화를 분석한 통계 지도 작성
4. 보고서 작성
  - 공업 단지 조성 이후 ○○시의 변화 관련 보고서 작성

< 보 기 >

ㄱ. ㉠을 활용해 주기적으로 지역의 변화를 파악할 수 있다.  
 ㄴ. ㉢은 원격 탐사로도 수집할 수 있는 정보이다.  
 ㄷ. ㉤을 통해 복잡한 지리 정보를 신속하게 처리할 수 있다.  
 ㄹ. ㉡은 야외 조사, ㉣은 실내 조사에 해당한다.

- ① ㄱ, ㄴ    ② ㄱ, ㄷ    ③ ㄴ, ㄷ    ④ ㄴ, ㄹ    ⑤ ㄷ, ㄹ

12. 다음은 한국지리 수업 장면이다. 교사의 질문에 옳게 대답한 학생만을 고른 것은?

교사: 다음은 우리나라의 어느 섬에서 볼 수 있는 풍경입니다. (가)~(다)에 대해 발표해 볼까요?



\* 괄호 안 숫자는 최고 지점의 해발 고도임.

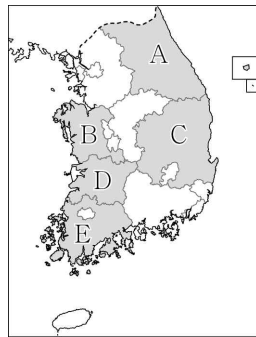
갑: (가)의 정상부에는 백록담이 있어요.  
 을: (나)는 오름이라고도 불리는 기생 화산이에요.  
 병: (다)의 재료가 되는 암석은 주로 현무암이에요.  
 정: (가)~(다)는 모두 제주도에서 볼 수 있어요.

- ① 갑, 을    ② 갑, 병    ③ 을, 병    ④ 을, 정    ⑤ 병, 정

13. 다음 자료는 한국의 지형을 소개하는 안내 책자의 목차이다. (가)에 해당하는 지역을 지도의 A~E에서 고른 것은?

<한국의 지형, (가) 편>

- 바다를 품은 호수, 경포호
- 설악산의 거대한 화강암 병풍, 울산바위
- 용암의 흔적을 담은 강과 들, 한탄강 용암 대지
- 한반도 모양의 땅을 굽이굽이 돌아 흐르는 하천, 동강



- ① A  
 ② B  
 ③ C  
 ④ D  
 ⑤ E

14. 다음 글의 (가) 현상이 지속될 경우 우리나라에 나타날 변화에 대한 옳은 추론만을 <보기>에서 고른 것은?

기후 변화는 과거(1912~1940년)에 비해 최근 30년(1991~2020년) 동안 뚜렷이 나타나고 있다. 주요 관측 지점 6곳을 대상으로 한 기상청의 분석에 따르면, 연평균 기온은 1.6℃ 상승하였다. 또한 여름은 20일 길어지고, 겨울은 22일 짧아졌으며, 봄과 여름의 시작일이 각각 17일, 11일 빨라졌다. 이를 통해 (가)이 진행되고 있음을 알 수 있다.

< 보 기 >

ㄱ. 열대야 일수가 감소할 것이다.  
 ㄴ. 봄꽃의 개화 시기가 빨라질 것이다.  
 ㄷ. 하천의 결빙 일수가 감소할 것이다.  
 ㄹ. 해안 저지대의 침수 가능성이 낮아질 것이다.

- ① ㄱ, ㄴ    ② ㄱ, ㄷ    ③ ㄴ, ㄷ    ④ ㄴ, ㄹ    ⑤ ㄷ, ㄹ

15. 다음은 학생이 작성한 한국지리 학습 노트의 일부이다. ㉠~㉣ 중 옳지 않은 것을 고른 것은? [3점]

<우리나라의 영역과 배타적 경제 수역>

1. 영역: ㉠ 한 국가의 주권이 미치는 공간적 범위이다.
  - 영토: ㉡ 한반도와 그 부속 도서로 한다.
  - 영해: ㉢ 서·남해안에서는 통상 기선을, 동해안에서는 직선 기선을 주로 적용한다.
  - 영공: ㉣ 영토와 영해의 수직 상공이다.
2. 배타적 경제 수역: ㉤ 기선으로부터 200해리까지의 수역 중 영해를 제외한 수역이다.

- ① ㉠    ② ㉡    ③ ㉢    ④ ㉣    ⑤ ㉤

16. 다음 자료에서 설명하는 지역을 지도의 A~E에서 고른 것은?



이 지역은 '충청'이라는 지명의 유래가 된 도시 중 하나로, 기업 도시가 조성되어 있다. 이곳은 지리적 표시제에 등록된 사과가 유명하다. 또한 천연기념물인 수달을 모티브로 탄생한 전국 최초 캐릭터 공무원인 ○○씨가 있다.



- ① A    ② B    ③ C    ④ D    ⑤ E

17. 다음은 한국지리 수업 장면이다. 교사의 질문에 옳게 대답한 학생만을 고른 것은?

자료는 대도시 주변에 위치한 어느 지역의 변화 모습을 나타낸 것입니다. 어떤 변화가 나타났는지 발표해 볼까요?

농가 비율이 높아졌어요.

갑

인구 밀도가 증가했어요.

을

경지 면적이 감소했어요.

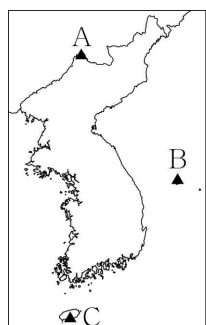
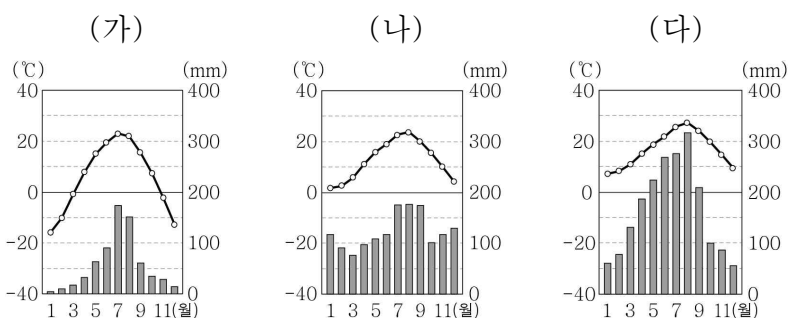
병

도로포장 면적이 감소했어요.

정

① 갑, 을    ② 갑, 병    ③ 을, 병    ④ 을, 정    ⑤ 병, 정

18. 그래프는 세 지역의 월평균 기온과 월 강수량을 나타낸 것이다. (가)~(다) 지역을 지도의 A~C에서 고른 것은? [3점]




- |   | (가) | (나) | (다) |
|---|-----|-----|-----|
| ① | A   | B   | C   |
| ② | A   | C   | B   |
| ③ | B   | A   | C   |
| ④ | B   | C   | A   |
| ⑤ | C   | B   | A   |

19. 다음 자료의 (가)~(다)에 들어갈 내용으로 가장 적절한 것은?

| 기후 요소 | 기후 요소와 관련된 주민 생활  |
|-------|---|
| (가)   | <ul style="list-style-type: none"> <li>○ 높은 지대나 바닷가, 섬 등지에서는 풍력 발전기를 통해 생산된 전기를 사용한다.</li> <li>○ 제주도의 전통 가옥 지붕에는 그물을 엮어서 덮어 놓았다.</li> </ul>           |
| (나)   | <ul style="list-style-type: none"> <li>○ 관북 지방의 전통 가옥은 폐쇄적이며 정주간이 나타나기도 한다.</li> <li>○ 남부 지방의 전통 가옥은 개방적이며 제주도의 전통 가옥에는 온돌 없는 방이 나타나기도 한다.</li> </ul> |
| (다)   | <ul style="list-style-type: none"> <li>○ 각종 용수를 효율적으로 관리하기 위해 보, 저수지, 댐 등을 건설한다.</li> <li>○ 하천 주변 지역에서는 터돋움집을 짓거나 피수대를 만들기도 하였다.</li> </ul>           |

- |   | (가) | (나) | (다) |   | (가) | (나) | (다) |
|---|-----|-----|-----|---|-----|-----|-----|
| ① | 강수  | 기온  | 바람  | ② | 강수  | 바람  | 기온  |
| ③ | 기온  | 바람  | 강수  | ④ | 바람  | 강수  | 기온  |
| ⑤ | 바람  | 기온  | 강수  |   |     |     |     |

20. 그림은 시기별 우리나라의 인구 정책 포스터를 나타낸 것이다. (가), (나) 시기에 대한 옳은 설명만을 <보기>에서 고른 것은? [3점]



< 보 기 >

ㄱ. (가) 시기는 (나) 시기보다 총인구가 많다.  
 ㄴ. (가) 시기는 (나) 시기보다 기대 수명이 짧다.  
 ㄷ. (나) 시기는 (가) 시기보다 유소년층 인구 비율이 높다.  
 ㄹ. (나) 시기는 (가) 시기보다 출산 장려 정책의 필요성이 높다.

- ① ㄱ, ㄴ    ② ㄱ, ㄷ    ③ ㄴ, ㄷ    ④ ㄴ, ㄹ    ⑤ ㄷ, ㄹ

**\* 확인 사항**

○ 답안지의 해당란에 필요한 내용을 정확히 기입(표기)했는지 확인하십시오.