

목록

04.3월_고3_사회(세계지리).....	1
03.3월_고3_사회(한국지리).....	5
02.3월_고3_사회(윤리와사상).....	9
01.3월_고3_사회(생활과윤리).....	13
09.3월_고3_사회(사회문화).....	17
08.3월_고3_사회(정치와법).....	21
07.3월_고3_사회(경제).....	25
06.3월_고3_사회(세계사).....	29
05.3월_고3_사회(동아시아사).....	33

제 4 교시

사회탐구 영역(세계지리)

성명		수험번호				3				제 () 선택
----	--	------	--	--	--	---	--	--	--	----------

1. 다음 자료를 토대로 하나의 국가를 선택하여 한류 문화 상품점을 설립하고자 한다. 가장 적합한 국가를 지도의 A~E에서 고른 것은? (단, 합산 점수가 가장 높은 국가를 선택하며, 합산 점수가 같은 경우에는 현재 유럽 연합 회원국을 선택함.) [3점]

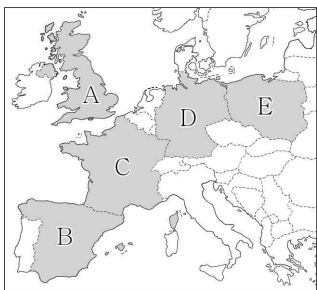
<평가 기준>

항목 점수	1인당 국내 총생산(천 달러)	한국 방문 관광객 (명)	오락·문화비 정부 지출액(천만 유로)
3점	40 이상	10,000 이상	3,000 이상
2점	20~40	5,000~10,000	1,000~3,000
1점	20 미만	5,000 미만	1,000 미만

<국가 정보>

항목 국가	1인당 국내 총생산(천 달러)	한국 방문 관광객 (명)	오락·문화비 정부 지출액(천만 유로)
독일	46	9,205	3,833
에스파냐	27	2,051	1,407
영국	41	13,368	1,612
폴란드	16	1,758	640
프랑스	39	8,183	3,362

(2020년)




- ① A
- ② B
- ③ C
- ④ D
- ⑤ E

2. (가)~(다) 종교에 대한 설명으로 옳은 것은? (단, (가)~(다)는 각각 불교, 이슬람교, 힌두교 중 하나임.)

인도네시아는 [가] 신자 수가 세계에서 가장 많은 국가이지만, 자바 문명이 꽃피웠던 족자카르타에는 세계 문화유산에 등재된 서로 다른 종교의 두 사원이 있다.



보로부두르 사원은 미얀마의 바간, 캄보디아의 앙코르와트와 함께 [나]의 세계적인 유적지로 손꼽힌다. 사원 곳곳에 수백 개의 부처상이 있다.



프람바난 사원에는 [다]의 3대 신을 모신 신전이 있다. 그 앞에 각 신들이 타고 다닌 황소, 백조, 독수리 형상의 신상을 모신 건물도 있다.

- ① (가)는 소고기를 금기시한다.
- ② (나)는 서남아시아에서 기원하였다.
- ③ (다)의 대표적 경관은 돛형 지붕과 첨탑이 있는 모스크이다.
- ④ (나)는 (다)보다 세계 신자 수가 많다.
- ⑤ (가), (나)는 모두 보편 종교이다.

3. 다음 자료는 어느 국가의 지리 정보이다. ㉠~㉣에 대한 옳은 설명만을 <보기>에서 고른 것은? [3점]



<수도에 설치된 조형물>

- 면적: 41,543 km²
- ㉠ 인구: 약 1,753만 명
- ㉡ 수도의 위치: 52°22'N, 4°53'E
- 자연환경: 국토의 약 25%가 해수면보다 낮음.

○ ㉢ 지역화 전략

- 도시 브랜드 ㉣ 'I amsterdam' 개발
- 퀴켄호프 꽃 박람회 등 지역 축제 개최
- 고다 홀란드(Gouda Holland) 치즈 등 ㉣ 지리적 표시제 등록

< 보기 >

- ㉠. ㉠은 속성 정보, ㉡은 공간 정보에 해당한다.
- ㉡. ㉢으로 인하여 세계 문화의 획일화 현상이 확대된다.
- ㉢. ㉢과 유사한 사례로 아이러브뉴욕(I♥NY), 비베를린(Be Berlin) 등이 있다.
- ㉣. ㉢은 자국 내에서만 법적 보호를 받을 수 있다.

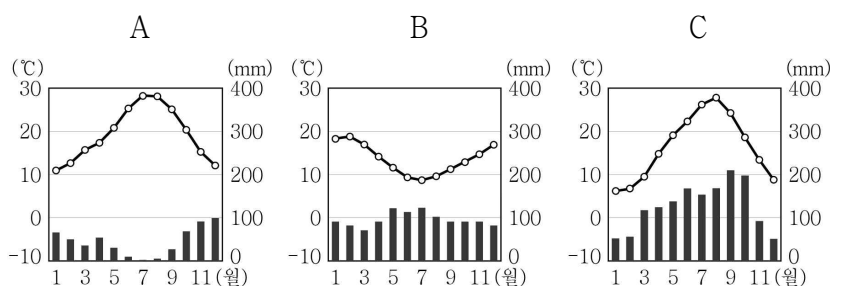
- ① ㉠, ㉡ ② ㉠, ㉢ ③ ㉡, ㉣ ④ ㉡, ㉣ ⑤ ㉢, ㉣

4. 다음 자료는 여행기의 일부이다. (가), (나) 지역의 기후 그래프를 A~C에서 고른 것은?

(가) 오렌지 나무 가로수길과 도시 중심부에 오래된 성당이 있는 남부 유럽의 아름다운 도시입니다. 여름에 건조해서 햇볕이 따갑지만, 그늘에 앉아 휴식을 즐기기에 좋습니다.



(나) 오세아니아의 대표적인 농업 박람회인 필데이즈(Fieldays)가 매년 개최되는 지역입니다. 편서풍의 영향을 받아 형성된 넓은 목초지에서 소와 양을 일 년 내내 방목합니다.



- (가) (나)
- ① A B ② A C
- ③ B A ④ B C
- ⑤ C B

세계지리

5. 다음 자료는 지리 학습지의 일부이다. 정답 스티커를 답안에 순서대로 옮겨 붙인 것은? [3점]

※ 설명을 읽고 아래의 스티커를 떼어 답안에 붙이세요.

설명	답안
A는 1월보다 7월에 적도 수렴대의 영향을 많이 받는다.	
B는 기온의 연교차가 기온의 일교차보다 크다.	
C는 1월보다 7월에 강수량이 많다.	

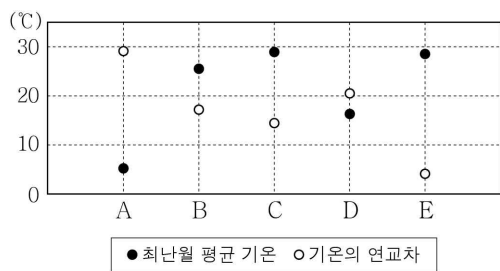
<정답 스티커>

설명이 옳을 때 (😊😊😊) 설명이 옳지 않을 때 (😞😞😞)

- ① (😊😊😊) (😞😞😞) (😞😞😞) ② (😊😊😊) (😊😊😊) (😞😞😞) ③ (😊😊😊) (😊😊😊) (😊😊😊) ④ (😊😊😊) (😞😞😞) (😊😊😊) ⑤ (😊😊😊) (😊😊😊) (😊😊😊)

6. (가) 도시의 기후 특성을 그래프의 A~E에서 고른 것은?

몽크는 [가] 을/를 대표하는 화가이다. 그의 작품 「태양」은 U자곡 너머 푸른 바다의 수평선에서 뿜어져 나오는 강렬한 햇빛을 인상적으로 표현했으며, 이는 긴 겨울을 보내는 주민들에게 희망의 기운을 전한다. 12월 말 이 도시의 낮 길이는 6시간 정도에 불과하며, 가장 추운 달의 평균 기온은 약 -4℃이다.



- ① A ② B ③ C ④ D ⑤ E

7. (가) 국가를 지도의 A~E에서 고른 것은?

[가] 의 삼바는 아프리카 출신 노예들이 전통 타악기를 연주하며 춤추던 것에서 유래하였고, 20세기에 들어와 춤곡의 형식으로 자리를 잡았다. 여기에 포르투갈 출신 유럽계 이민자들이 전파한 크리스티교의 사순절 문화와 융합되어 카니발이라는 독특한 축제로 발전하였다. 매년 2월 말에 열리는 리우 카니발은 세계에서 모여든 사람들로 넘쳐난다.



- ① A ② B ③ C ④ D ⑤ E

[8~9] 다음 자료를 보고 물음에 답하시오.

동남 및 남부 아시아의 큰 하천은 대부분 히말라야산맥이나 티베트 고원에서 발원한다. 메콩강과 갠지스강 하구에는 넓은 ㉠ 삼각주가 발달하였는데, 최근 기후 변화에 따른 ㉡ 해수면 상승으로 피해가 늘고 있다.

한편 과거 유럽의 식민지 통치는 오늘날에도 이 지역에 영향을 미치고 있다. 예를 들어 ㉢ 카슈미르 지역의 분쟁이나, 최근 중앙 정부와의 갈등으로 거주 지역에서 쫓겨난 ㉣ 로힝야족 난민도 이와 관련 있다. 또한 ㉤ 동남 및 남부 아시아 지역의 농업에도 큰 영향을 주었다.

8. ㉠~㉣에 대한 옳은 설명만을 <보기>에서 고른 것은? [3점]

< 보 기 >

㉠. ㉠에서는 대부분 밭 농사가 이루어진다.
 ㉡. ㉡은 바닷물에 의한 농경지 침수가 대표적이다.
 ㉢. ㉢에서는 이슬람교와 힌두교 간의 갈등이 지속되고 있다.
 ㉣. ㉣은 대부분 B에서 이주해 온 불교 신자이다.

- ① ㉠, ㉡ ② ㉠, ㉢ ③ ㉡, ㉢ ④ ㉡, ㉣ ⑤ ㉢, ㉣

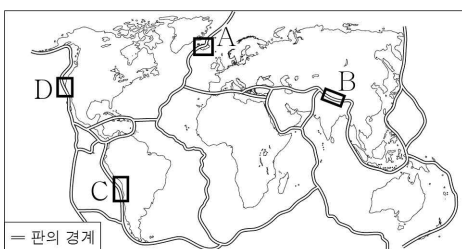
9. ㉤의 사례로서 다음 자료에서 설명하는 국가를 지도의 A~E에서 고른 것은?

19세기 영국인에 의해 대규모의 상업용 차(茶) 농장이 조성되었으며, 현재도 차 플랜테이션은 국가의 주요 산업이다. 당시 지명인 실론은 이 국가에서 생산된 차의 브랜드명으로 사용되고 있다. 차 플랜테이션 노동자로 이주해 온 힌두교 신자들과 원주민인 불교 신자 사이에 갈등이 나타나고 있다.

- ① A ② B ③ C ④ D ⑤ E


10. (가), (나) 지역을 지도의 A~D에서 고른 것은? [3점]

(가) 물과 수증기를 분출하는 간헐천과 밤하늘을 수놓는 오로라를 관찰할 수 있는 지역으로, 싱벨리어 국립공원에 가면 두 판이 양옆으로 갈라지는 광경을 볼 수 있다.
 (나) 에베레스트산을 포함한 8,000m급 봉우리 14개가 늘어서 있다. 두 대륙판이 충돌하여 만들어진 이 지역에서는 지진이 자주 발생하나 화산 활동은 활발하지 않다.



- (가) (나)
- ① A B
 ② A C
 ③ C B
 ④ C D
 ⑤ D A

11. ㉠~㉤에 대한 설명으로 옳은 것은? [3점]



나일강, ㉠콩고강, 잠베지강은 중부 아프리카의 고지대에서 시작된다. 영국 여왕의 이름을 딴 ㉡빅토리아호는 나일강의 발원지이다. 우간다는 이 호수에서 물고기를 양식하여 수출하고 있다. 잠베지강 중류의 ㉢빅토리아 폭포는 계절에 따른 유량 차이가 큰데, 여름에 방문해야 웅장한 모습을 볼 수 있다.

콩고 민주 공화국과 우간다의 국경 지대에 위치한 비롱가 국립공원은 ㉣화산 활동이 활발한 지역으로, 비롱가는 현지어로 '화산'을 의미한다. 이곳에는 전자 기기의 핵심 재료인 콜탄 광물이 많아 반군들이 무기 구입 대금으로 사용하고 있다. ㉤콩고 민주 공화국 남부와 잠비아를 지나는 코퍼 벨트에도 지하자원이 많으며, 고기 습곡 산지가 있는 ㉥남아프리카 공화국은 제조업이 발달하였다.

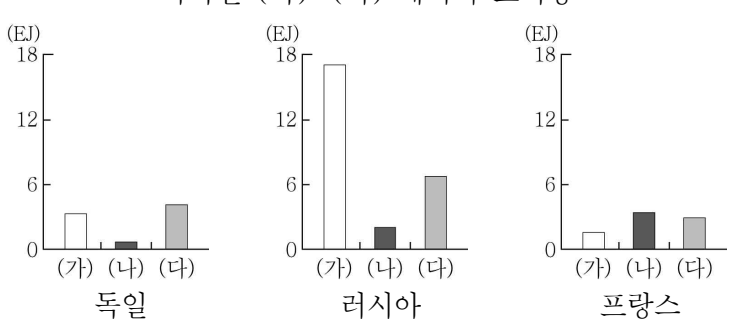
- ① ㉠은 인도양으로 흘러 들어간다.
- ② ㉡의 물은 염도가 높아 농업용수로 부적합하다.
- ③ ㉢은 1월보다 7월에 유량이 많다.
- ④ ㉣은 동아프리카 지구대에 위치하기 때문이다.
- ⑤ ㉤은 ㉥보다 석탄 수출량이 많다.

12. (가)~(다) 에너지에 대한 설명으로 옳은 것은? (단, (가)~(다)는 각각 석유, 원자력, 천연가스 중 하나임.) [3점]

World News 2022년 〇〇월 〇〇일

유럽 연합(EU)은 기후 변화에 대응하기 위해 '그린 택소노미(Green Taxonomy)'를 발표하였다. 그린 택소노미란 지속 가능한 녹색 경제 활동의 범위에 대한 분류 체계이다. 논의 과정에서 (가)와/과 (나)을/를 친환경 에너지로 분류할 것인가에 대한 회원국 간 견해차가 컸으나 결국 유럽 연합은 엄격한 기준을 전제로 두 에너지를 그린 택소노미에 포함시켰다. 이는 아직 석탄과 (다)을/를 대체할 수 있는 에너지가 충분히 확보되지 않았음을 보여주는 것이기도 하다.

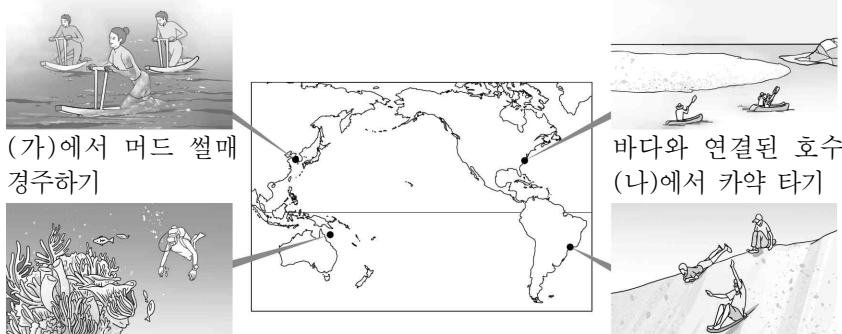
<국가별 (가)~(다) 에너지 소비량>



국가	(가)	(나)	(다)
독일	~3	~1	~4
러시아	~18	~2	~6
프랑스	~1	~4	~3

- ① (가)의 세계 최대 수출국은 중국이다.
- ② (나)는 방사성 폐기물 처리 비용이 많이 든다.
- ③ (다)는 산업 혁명 초기에 주요 에너지로 사용되었다.
- ④ (가)는 (다)보다 연소 시 대기 오염 물질의 배출량이 많다.
- ⑤ (나)는 (다)보다 세계 1차 에너지 소비량에서 차지하는 비율이 높다.

13. 그림은 해안 지형을 활용한 관광 상품을 소개한 것이다. (가)~(라)에 대한 설명으로 옳은 것은? (단, (가)~(라)는 각각 갯벌, 산호초 해안, 석호, 해안 사구 중 하나임.)



(가)에서 머드 썰매 경주하기


(나)에서 카약 타기

(다)에서 열대어와 산호 감상하기

(라)에서 샌드 보드 타기

- ① (가)는 만보다 곳에서 잘 형성된다.
- ② (나)의 면적은 시간이 지날수록 점차 확대된다.
- ③ (다)는 석회질의 산호충 유해가 퇴적되어 형성된 것이다.
- ④ (라)는 빙하의 퇴적 작용으로 형성된다.
- ⑤ (가)는 (라)보다 지형 변화에 바람이 미치는 영향이 크다.

14. 다음 자료는 인터넷 방송의 일부이다. ㉠, ㉡에 대한 설명으로 옳은 것은? (단, ㉠, ㉡은 각각 쌀, 옥수수 중 하나임.) [3점]




㉠로 만든 토르티야를 이용해 멕시코 전통 요리인 타코를 함께 만들어 보았습니다. 다음 시간에는 베트남 전통 요리인 피에 도전하겠습니다.

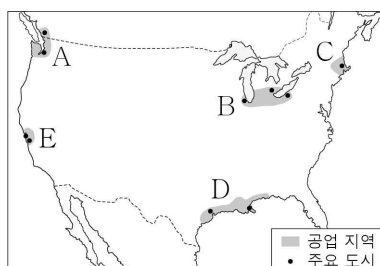
다음 시간 준비물은 ㉡로 만든 국수입니다.

- ① ㉠은 주로 논에서 재배된다.
- ② ㉡의 기원지는 아메리카이다.
- ③ ㉠은 ㉡보다 국제 이동량이 많다.
- ④ ㉡은 ㉠보다 가축의 사료로 이용되는 비율이 높다.
- ⑤ ㉠, ㉡은 모두 세계 최대 생산국이 아시아에 위치한다.

15. (가) 도시가 속한 공업 지역을 지도의 A~E에서 고른 것은?



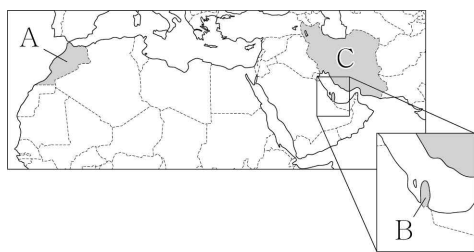
영화 「8마일」은 '모터 시티'라 불리며 자동차 산업 중심 도시로 호황을 누렸던 (가)이 제조업의 쇠퇴로 인해 쇠락한 당시 분위기를 배경으로 한다. 러스트 벨트의 대표적인 도시였지만 현재는 기존 산업과 연관된 신산업을 육성하면서 새로운 도약을 꿈꾸고 있다.



- ① A
- ② B
- ③ C
- ④ D
- ⑤ E

16. (가), (나) 국가를 지도의 A~C에서 고른 것은?

<2022 ○○ 월드컵, 화제의 국가들>
 (가) '아틀라스의 사자'라 불리는 대표 팀 선수 중 절반 이상이 지중해 너머 유럽에서 활약하는 귀화 선수로 구성되어 있다. 아랍어 및 이슬람교 문화를 공유하는 이들은 높은 단합력으로 4강 진출의 신화를 달성하였다.
 (나) 사상 최초로 겨울철인 11~12월에 월드컵을 개최하였다. 한반도 면적의 약 1/20 크기인 국토 대부분이 바다에 접해 있어 습도가 높고 겨울철에도 한낮에는 최고 기온이 39℃까지 오르기 때문에 많은 경기들이 폭염을 피해 늦은 저녁에 열렸다.



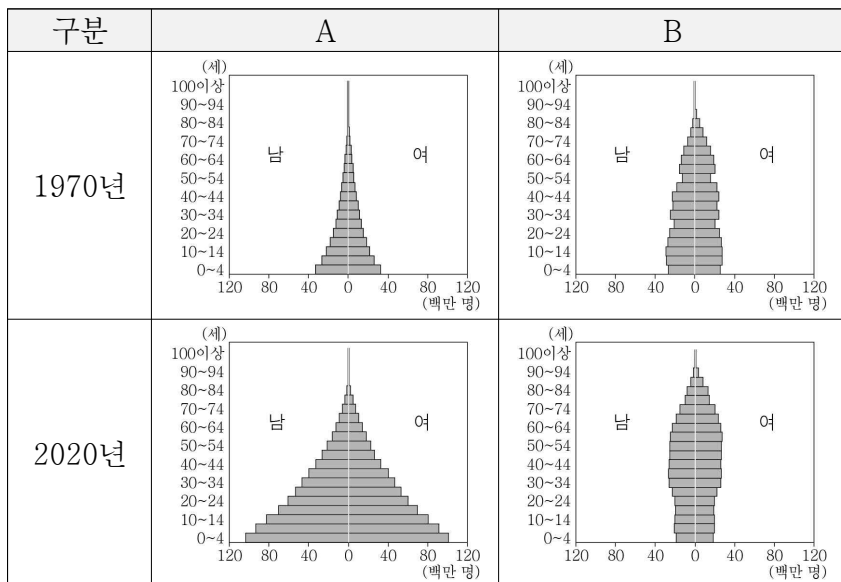
- | | | |
|---|-----|-----|
| | (가) | (나) |
| ① | A | B |
| ② | A | C |
| ③ | B | A |
| ④ | B | C |
| ⑤ | C | B |

17. (가)에 들어갈 용어로 가장 적절한 것은?

맨해튼은 뉴욕시의 중심 업무 지구이자 세계 금융의 중심지이다. 맨해튼 내 할렘 지역은 이민 노동자들과 가난한 학생 및 예술가들이 거주하는 곳이었다. (가)가 진행되면서 주거 환경이 개선되었으나 임대료가 급격히 상승하면서 이들은 이곳에서 밀려나게 되었다.

- ① 과도시화 ② 교외화 ③ 도심 재활성화
 ④ 슬럼화 ⑤ 인구 공동화

18. 그래프는 두 지역(대륙)의 인구 구조 변화를 나타낸 것이다. A, B에 대한 설명으로 옳은 것은? (단, A, B는 각각 아프리카, 유럽 중 하나임.) [3점]



- ① A에는 최상위 세계 도시가 있다.
 ② B는 2020년 노년층에서 남성이 여성보다 많다.
 ③ A는 B보다 1970년 총인구가 많다.
 ④ A는 B보다 1970~2020년 인구 증가율이 높다.
 ⑤ A는 유럽, B는 아프리카이다.

19. ㉠~㉣에 대한 옳은 설명만을 <보기>에서 있는 대로 고른 것은?



2000년 이후 발생한 플라스틱 폐기물의 약 72%가 매립되거나 무단 투기되고 있다. 런던 협약에서는 플라스틱 폐기물을 바다에 버리는 것을 금지하고 있으며, 국가 간 유해 폐기물 이동을 제한한 국제 협약인 ㉠의 2021년 개정안에서도 수출입 통제 대상에 플라스틱 폐기물을 포함시켰다.

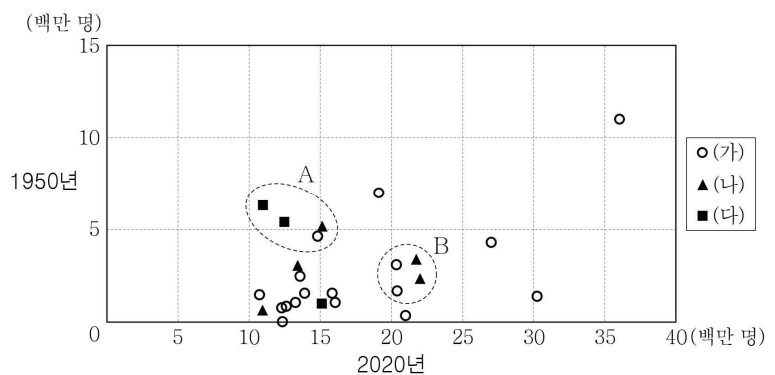
플라스틱 폐기물은 쉽게 분해되지 않고 미세 플라스틱의 형태로 먹이 사슬을 따라 축적되면서 생태계를 어지럽히고 있다. 최근 국제 연합에서 '㉣ 플라스틱 오염을 끝내기 위한 법적 구속력 있는 국제 협약' 결의안이 통과되면서 2024년까지 플라스틱 생산부터 ㉢ 바다를 떠다니는 플라스틱 수거 및 재활용까지 전 과정을 규제하는 법안이 마련될 예정이다.

< 보기 >

- ㉠. ㉠은 파리 협정이다.
 ㉡. ㉡으로 인해 생물 종 다양성이 감소할 것이다.
 ㉢. ㉢은 해류의 흐름이 약한 곳에 집적된다.

- ① ㉠ ② ㉡ ③ ㉢ ④ ㉠, ㉡ ⑤ ㉡, ㉢

20. 그래프는 (가)~(다) 지역(대륙)의 도시 인구 변화를 나타낸 것이다. 이에 대한 옳은 설명만을 <보기>에서 고른 것은? (단, (가)~(다)는 각각 라틴 아메리카, 아시아, 유럽 중 하나임.) [3점]



* 2020년 기준으로 세계에서 도시 인구 순위 30위 내 도시 중 (가)~(다) 지역(대륙)에 위치한 25개 도시만 나타냄.

< 보기 >

- ㉠. (가)는 (다)보다 2020년 도시화율이 높다.
 ㉡. (가)는 아시아, (나)는 유럽, (다)는 라틴 아메리카이다.
 ㉢. A 도시군은 B 도시군보다 1950~2020년 도시 인구 증가율이 낮다.
 ㉣. 아시아는 라틴 아메리카보다 인구 상위 30위 내 도시가 많다.

- ① ㉠, ㉡ ② ㉠, ㉢ ③ ㉡, ㉣ ④ ㉡, ㉣ ⑤ ㉢, ㉣

* 확인 사항

○ 답안지의 해당란에 필요한 내용을 정확히 기입(표기)했는지 확인하십시오.

제 4 교시

사회탐구 영역 (한국지리)

성명		수험번호				3			제 () 선택
----	--	------	--	--	--	---	--	--	----------

1. 다음 자료의 (가), (나) 섬에 대한 설명으로 옳은 것은?

<우리나라의 아름다운 등대 스탬프 투어>

등대 소재지	(가)	(나)
스탬프		
특징	<ul style="list-style-type: none"> ○ 우리나라 국토 최동단 지역에 위치함. ○ 등대원이 상주하며 동해를 운항하는 선박의 안전에 기여함. 	<ul style="list-style-type: none"> ○ 우리나라 국토 최남단 지역에 위치함. ○ 제주도 남부 해안을 운항하는 선박의 길잡이 역할을 함.

- ① (가)는 최종 빙기에 육지와 연결되어 있었다.
- ② (나)에는 종합 해양 과학 기지가 있다.
- ③ (가)는 (나)보다 일몰 시각이 늦다.
- ④ (가), (나)는 모두 신생대 화산 활동으로 형성되었다.
- ⑤ (가), (나)는 모두 영해 설정 시 직선 기선이 적용된다.

2. (가), (나)는 조선 시대에 제작된 지리지의 일부이다. 이에 대한 옳은 설명만을 <보기>에서 고른 것은? (단, (가), (나)는 각각 『신증동국여지승람』, 『택리지』 중 하나임.)

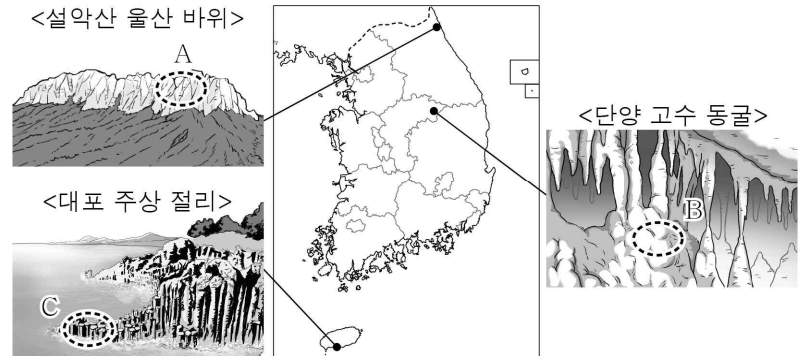
(가)	[건치연혁] 본래 탐라국인데 혹은 탁라라고도 한다. 전라도 남쪽 바다 가운데에 있는데 ... [산천] 한라산은 주 남쪽 20리에 있는 진산(鎭山)이다. ... 그 산꼭대기에 ㉠ 큰 못이 있는데 사람이 떠들면 구름과 안개가 일어나서 지척을 분별할 수가 없다.
(나)	춘천은 옛 예맥이 천 년 동안이나 도읍했던 터로 소양강에 접해 있고, ... 산속에는 평야가 넓게 펼쳐졌으며 두 강이 한복판으로 흘러간다. ... 기후가 고요하고 강과 산이 맑고 환하며 ㉡ 땅이 기름져서 여러 대를 사는 사대부가 많다.

< 보 기 >

ㄱ. (가)는 국가 통치에 필요한 자료를 수집하여 제작되었다.
ㄴ. (나)는 (가)보다 제작 시기가 늦다.
ㄷ. ㉠은 분화구 함몰 후 물이 고여 형성된 칼데라호이다.
ㄹ. ㉡은 가거지의 조건 중 '인심(人心)'과 관련이 있다.

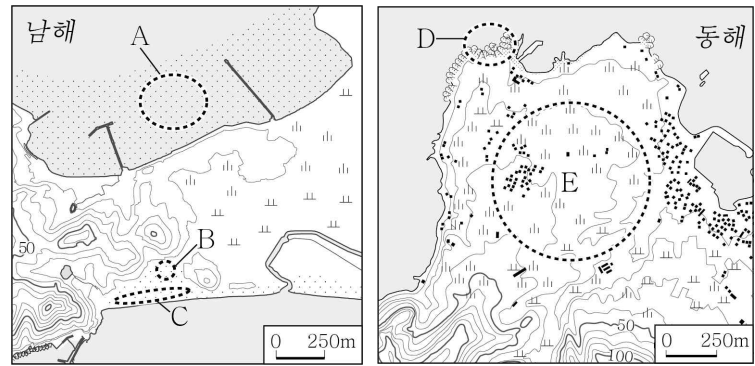
- ① ㄱ, ㄴ ② ㄱ, ㄷ ③ ㄴ, ㄷ ④ ㄴ, ㄹ ⑤ ㄷ, ㄹ

3. 다음 자료의 A~C에 대한 설명으로 옳은 것은? [3점]



- ① A의 주된 기반암은 조선 누층군에 주로 분포한다.
- ② B는 마그마가 관입하여 형성되었다.
- ③ C에서는 공룡 발자국 화석이 많이 발견된다.
- ④ A는 C보다 주된 기반암의 형성 시기가 이르다.
- ⑤ B는 화산 지형, C는 카르스트 지형이다.

4. 지도의 A~E에 대한 설명으로 옳은 것은? (단, A~E는 각각 갯벌, 사빈, 암석 해안, 해안 단구, 해안 사구 중 하나임.) [3점]



- ① A는 주로 파랑의 침식 작용으로 형성되었다.
- ② B는 염전이나 양식장으로 이용된다.
- ③ E의 퇴적층에서는 둥근 자갈이 나타난다.
- ④ B는 C보다 퇴적 물질의 평균 입자 크기가 크다.
- ⑤ A는 꽃, D는 만에 주로 발달한다.

5. 다음 자료의 (가)~(다)에 대한 설명으로 옳은 것은? (단, (가)~(다)는 각각 겨울, 장마철, 한여름 중 하나임.)

<계절별 냉·난방기 사용 안내>

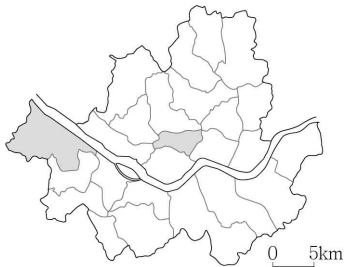
○ 황사와 미세 먼지가 잦은 봄·가을에는 공기 청정 기능을 이용해 깨끗하고 쾌적한 실내 공기를 유지해 보세요.
○ 잦은 비로 습기가 많은 (가) 에는 제습 기능을 사용하여 뽁뽁한 실내를 만들 수 있어요.
○ 무더운 (나) 에는 초강력 냉방 기능으로 더 빠르고 시원하게 더위를 식혀 보세요.
○ 한파가 이어지는 (다) 에는 난방 기능으로 실내 공기를 따뜻하게 데울 수 있어요.

- ① (가)에는 서고동저형의 기압 배치가 자주 나타난다.
- ② (나)의 무더위에 대비한 전통 가옥 시설에는 정주간이 있다.
- ③ (다)에는 강한 일사에 의한 대류성 강수가 자주 발생한다.
- ④ (가)는 (다)보다 평균 기온이 낮다.
- ⑤ (다)는 (나)보다 서리 일수가 많다.

6. 표는 지도에 표시된 두 구(區)의 주요 지표를 비교한 것이다. (가), (나)에 대한 옳은 설명만을 <보기>에서 고른 것은?

(단위: 명)

구(區)	(가)	(나)
상주인구	118,450	555,402
초등학교당 학생 수	416	745
총사업체의 종사자 수	408,064	280,238



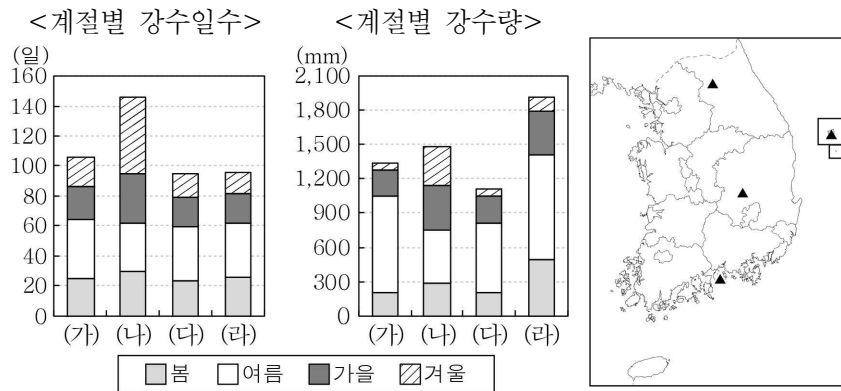
(2020년)

< 보 기 >

ㄱ. (가)는 주간 인구가 상주인구보다 많다.
 ㄴ. (나)는 인구 공동화 현상이 뚜렷하다.
 ㄷ. (가)는 (나)보다 시가지의 형성 시기가 이른다.
 ㄹ. (나)는 (가)보다 금융 기관 수가 많다.

- ① ㄱ, ㄴ ② ㄱ, ㄷ ③ ㄴ, ㄷ ④ ㄴ, ㄹ ⑤ ㄷ, ㄹ

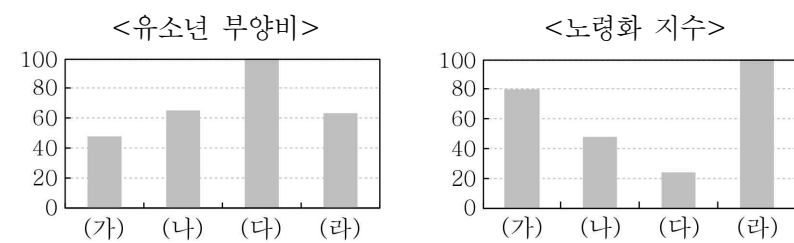
7. 그래프는 지도에 표시된 네 지역의 기후 특성을 나타낸 것이다. (가)~(라) 지역에 대한 설명으로 옳은 것은? [3점]



* 1991 ~ 2020년의 평년값임.

- ① (가)는 (라)보다 봄꽃의 개화 시기가 이른다.
 ② (나)는 (가)보다 연 강수일수 대비 연 강수량이 많다.
 ③ (다)는 (나)보다 기온의 연교차가 크다.
 ④ (라)는 (다)보다 최한월 평균 기온이 낮다.
 ⑤ (가)~(라) 중 여름철 강수 집중률은 (나)가 가장 높다.

8. 그래프의 (가)~(라) 지역에 대한 설명으로 옳은 것은? (단, (가)~(라)는 각각 서울, 세종, 울산, 전남 중 하나임.) [3점]



* 지표별 최대 지역의 값을 100으로 했을 때의 상대값임. (2021년)

- ① (가)는 영남 지방에 위치한다.
 ② (다)에는 행정 중심 복합 도시가 있다.
 ③ (다)는 (가)보다 청장년층 인구가 많다.
 ④ (라)는 (나)보다 1인당 지역 내 총생산이 많다.
 ⑤ (가)~(라) 중 중위 연령은 (나)가 가장 높다.

9. 다음 자료는 두 소매 업체의 할인 행사 광고이다. (가)와 비교한 (나)의 상대적 특성을 그림의 A~E에서 고른 것은? (단, (가), (나)는 각각 백화점, 편의점 중 하나임.)

(가)

품목별 월~금 50% 할인

월 화 수 목 금

1일 1개 아이스크림 100원

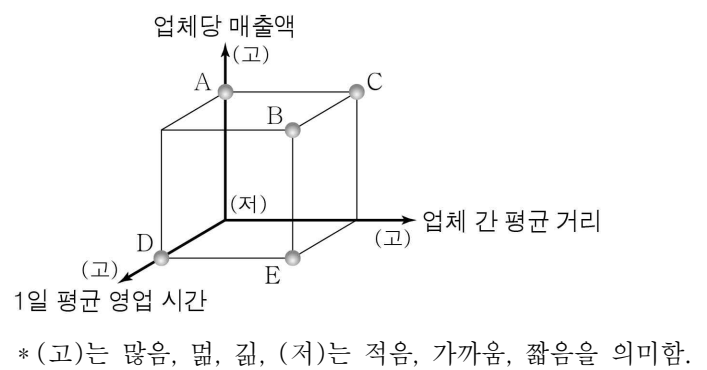
(나)

정기 세일

기간 ○월△일 ~ ○월□일

대상 남성복/여성복/아동복/주방/홈패션/잡화/스포츠

결제 금액	즉시 할인 금액	선착순 1만 명
20만 원 이상	1만 원	



- ① A ② B ③ C ④ D ⑤ E

10. 다음 자료에 대한 설명으로 옳은 것은? (단, (가), (나)는 각각 여주, 평창 중 하나임.) [3점]

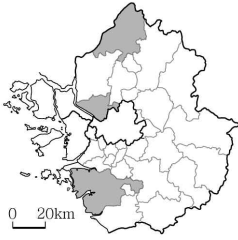
<지역별 여행 정보와 관련 해시태그>

지역	여행 정보	해시태그
영월	<ul style="list-style-type: none"> ○ ㉠ 감잎 곡류 하천이 만든 한반도 지형 ○ 강에서 즐기는 레포츠의 메카, 동강 ○ 단종의 그리움이 깃든 나루터, 청령포 	<ul style="list-style-type: none"> #선암 마을 #래프팅 #하안 단구
(가)	<ul style="list-style-type: none"> ○ 오감을 만족시키는 도자기 축제 ○ 대왕님표 쌀을 재배하는 넓은들 마을 ○ ㉡○○강 자전거 길을 따라 떠나는 국토 여행 	<ul style="list-style-type: none"> #도자 체험 관광 #지리적 표시제 #여강길
(나)	<ul style="list-style-type: none"> ○ 'HAPPY 700'에서 즐기는 눈꽃 축제 ○ 청정 자연 속으로 풍덩, 어름치 마을 ○ ㉢고위 평탄면에서 볼 수 있는 고랭지 배추와 풍력 발전기 	<ul style="list-style-type: none"> #대관령 #자연 마을 #육백마지기

- ① (가)는 (나)보다 평균 해발 고도가 높다.
 ② (나)는 (가)보다 경지 중 논 면적 비율이 높다.
 ③ ㉠은 하천의 상류보다 하류에 잘 발달한다.
 ④ ㉡의 하구에는 하굿둑이 설치되어 있다.
 ⑤ ㉠, ㉢은 모두 신생대 지반 용기의 영향을 받았다.

11. 표는 지도에 표시된 세 지역의 특성을 나타낸 것이다. (가)~(다) 지역에 대한 설명으로 옳은 것은? [3점]

구분 지역	거주 기간별 주민 비율(%)			청장년층 인구의 성비
	10년 미만	10~ 20년	20년 이상	
(가)	14.1	19.3	66.6	130.9
(나)	25.8	28.5	45.7	98.7
(다)	44.0	36.0	20.0	117.5

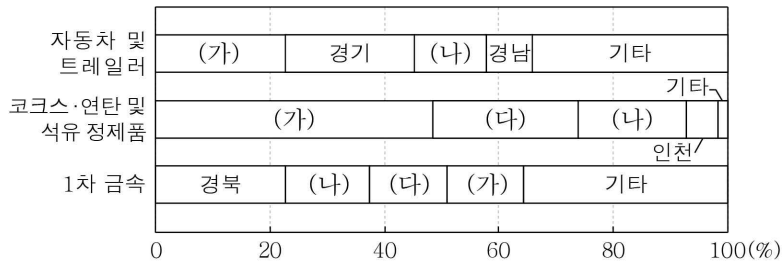


(2021년)

- ① (가)에는 수도권 1기 신도시가 있다.
- ② (다)는 남북한 접경 지역에 위치한다.
- ③ (가)는 (다)보다 제조업 출하액이 많다.
- ④ (나)는 (가)보다 주택 유형 중 아파트 비율이 높다.
- ⑤ (다)는 (나)보다 서울로의 통근 인구가 많다.

12. 그래프의 (가)~(다) 지역으로 옳은 것은?

<세 제조업의 시·도별 출하액 비율>

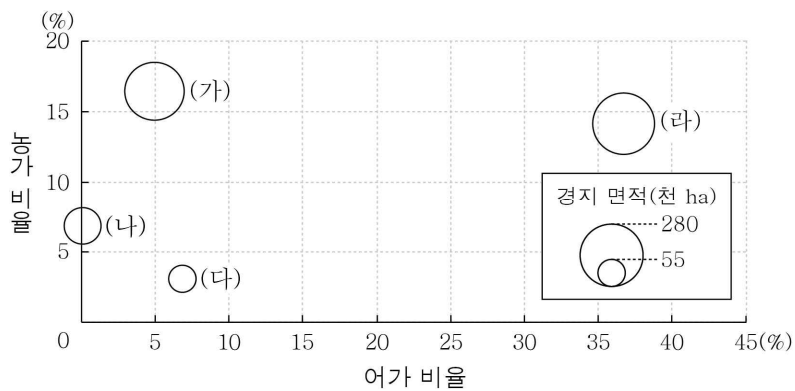


* 종사자 규모 10인 이상 사업체를 대상으로 함.

** 출하액 상위 4개 시·도만 나타냄. (2020년)

- | | | | | | | | |
|---|-----|-----|-----|---|-----|-----|-----|
| | (가) | (나) | (다) | | (가) | (나) | (다) |
| ① | 울산 | 충남 | 전남 | ② | 전남 | 울산 | 충남 |
| ③ | 전남 | 충남 | 울산 | ④ | 충남 | 울산 | 전남 |
| ⑤ | 충남 | 전남 | 울산 | | | | |

13. 그래프는 도(道)별 농·어가 비율 및 경지 면적을 나타낸 것이다. (가)~(라)에 대한 설명으로 옳은 것은? (단, (가)~(라)는 각각 경북, 전남, 제주, 충북 중 하나임.) [3점]



* 농·어가 비율은 원의 가운데 값임.

** 농·어가 비율은 전국에서 차지하는 비율임. (2021년)

- ① (가)는 전남이다.
- ② (다)는 논 면적이 밭 면적보다 넓다.
- ③ (가)는 (다)보다 전업농가 수가 많다.
- ④ (나)는 (라)보다 쌀 생산량이 많다.
- ⑤ (가)~(라) 중 과수 재배 면적은 (나)가 가장 넓다.

14. 다음 글은 도시 재개발의 사례이다. (가)와 비교한 (나) 재개발 방식의 상대적 특성에 대한 옳은 설명만을 <보기>에서 있는 대로 고른 것은?

(가) △△동에는 서울이 확장하는 과정에서 저소득층 가구가 밀집하면서 생긴 대표적인 ‘달동네’가 있었다. 그러나 2000년대 초반부터 재개발 사업이 추진되어, 지역의 건물들이 전면 철거되고 대규모 아파트 단지가 조성되면서 거주 여건이 개선되었다.

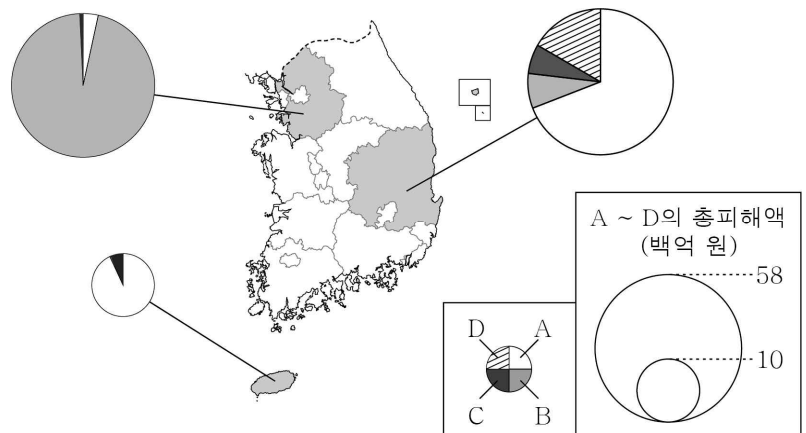
(나) 부산의 ◇◇◇ 마을은 2000년대에 선박 수리업이 쇠퇴하면서 지역 경제와 거주 환경이 악화되었다. 그러나 주민, 예술가 등이 중심이 되어 과거 산업 시설에 공공 예술품을 설치하고 문화 공간을 조성하면서 많은 관광객들이 찾는 지역으로 거듭났다.

< 보기 >

- ㄱ. 투입 자본의 규모가 크다.
- ㄴ. 기존 건물의 활용도가 높다.
- ㄷ. 재개발 후 건물의 평균 층수가 많다.

- ① ㄱ ② ㄴ ③ ㄱ, ㄴ ④ ㄱ, ㄷ ⑤ ㄴ, ㄷ

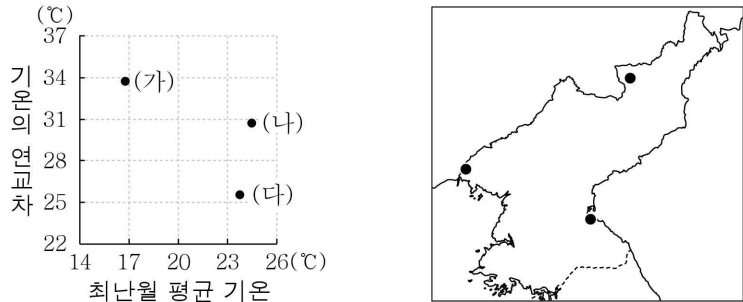
15. 다음 자료는 세 도(道)의 A~D 자연재해 피해 현황을 나타낸 것이다. 이에 대한 설명으로 옳은 것은? (단, A~D는 각각 대설, 지진, 태풍, 호우 중 하나임.) [3점]



* 2011~2020년의 누적 피해액이며, 2020년도 환산 금액 기준임.

- ① 선박의 경우 A로 인한 피해액이 C로 인한 피해액보다 많다.
- ② C는 B보다 여름철에 발생하는 비율이 높다.
- ③ B는 지형적 요인, D는 기후적 요인에 의해 발생한다.
- ④ 2011~2020년에 경북은 지진보다 대설 피해액이 많다.
- ⑤ 2011~2020년에 제주는 경기보다 호우 피해액이 많다.

16. 그래프는 지도에 표시된 세 지역의 기후 특성을 나타낸 것이다. (가)~(다) 지역에 대한 설명으로 옳은 것은? [3점]



* 1991 ~ 2020년의 평년값임.

- ① (가)는 동해안의 항구 도시이다.
- ② (나)는 관서 지방에 위치한다.
- ③ (가)는 (다)보다 저위도에 위치한다.
- ④ (나)는 (다)보다 겨울 강수량이 많다.
- ⑤ (다)는 (나)보다 연평균 황사일수가 많다.

17. 다음 글의 (가), (나) 에너지에 대한 옳은 설명만을 <보기>에서 고른 것은? (단, (가), (나)는 각각 태양광, 풍력 중 하나임.)

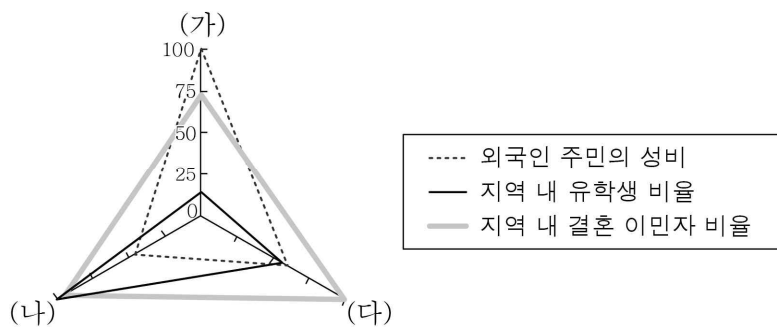
홍성군 죽도는 '에너지 자립 섬'으로 맑은 날 **(가)**을 활용한 발전기를 3시간 정도 가동하면 필요한 전기를 모두 공급할 수 있다. 비가 오거나 흐린 날에는 **(나)** 발전을 보조적으로 활용하고 있다. 햇빛과 바람이 모두 없을 때도 에너지 저장 장치[ESS]를 이용해 전기를 공급할 수 있다.

< 보 기 >

- ㄱ. (가) 발전량은 수도권이 호남권보다 많다.
- ㄴ. (나) 발전량은 여름철이 겨울철보다 많다.
- ㄷ. (가)는 (나)보다 전국의 발전 설비 용량이 많다.
- ㄹ. (나)는 (가)보다 발전 시 소음으로 인한 피해가 크다.

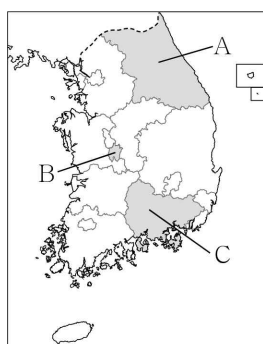
- ① ㄱ, ㄴ ② ㄱ, ㄷ ③ ㄴ, ㄷ ④ ㄴ, ㄹ ⑤ ㄷ, ㄹ

18. 그래프의 (가)~(다) 지역을 지도의 A~C에서 고른 것은?



* 지표별 최대 지역의 값을 100으로 했을 때의 상대값임.

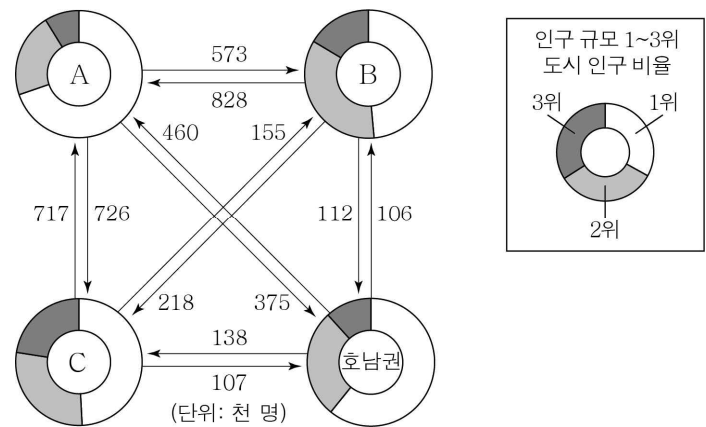
** 한국 국적을 가지지 않은 외국인만 고려함. (2021년)



- | | (가) | (나) | (다) |
|---|-----|-----|-----|
| ① | A | B | C |
| ② | A | C | B |
| ③ | B | C | A |
| ④ | C | A | B |
| ⑤ | C | B | A |

19. 그래프의 A~C 권역에 대한 설명으로 옳은 것은? (단, A~C는 각각 수도권, 영남권, 충청권 중 하나임.) [3점]

<권역별 인구 규모 1~3위 도시 인구 비율 및 권역 간 인구 이동>

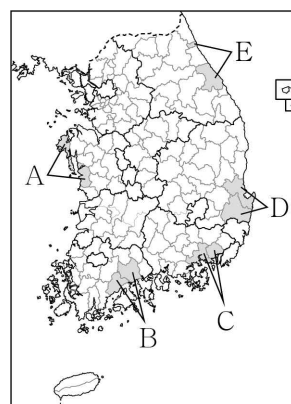


* 인구 규모 1~3위 도시 인구 비율은 2021년 값이고, 권역 간 인구 이동은 2017~2021년의 합계임.

** 권역별 인구 규모 1~3위 도시 인구 비율은 인구 규모 1~3위 도시 인구의 합을 100으로 하였을 때 인구 비율을 나타냄.

- ① A에는 혁신 도시가 있다.
- ② B의 인구 규모 1위 도시는 부산이다.
- ③ C는 A보다 도시 인구가 많다.
- ④ C는 B보다 광역시의 수가 많다.
- ⑤ 2017~2021년에 충청권에서 수도권으로의 인구 이동은 수도권에서 충청권으로의 인구 이동보다 많다.

20. 다음 자료의 축제를 모두 경험할 수 있는 지역을 지도의 A~E에서 고른 것은?



- ① A
- ② B
- ③ C
- ④ D
- ⑤ E

* 확인 사항

○ 답안지의 해당란에 필요한 내용을 정확히 기입(표기)했는지 확인하시오.

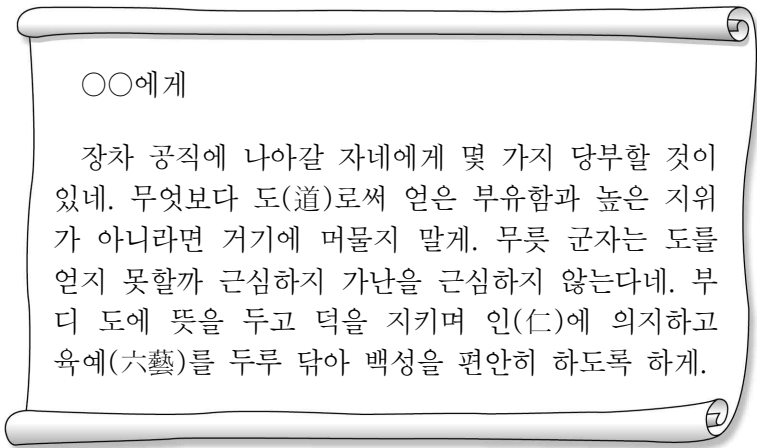
제 4 교시

사회탐구 영역(윤리와 사상)

성명		수험번호					3			제 () 선택
----	--	------	--	--	--	--	---	--	--	----------

윤리와 사상

1. 다음 가상 편지를 쓴 고대 동양 사상가가 강조한 삶의 태도로 가장 적절한 것은?



- ① 인위적 규범을 버리고 만물의 자연스러운 본성을 따른다.
- ② 명상에 전념하여 해탈을 가로막는 애욕을 완전히 끊는다.
- ③ 불로장생을 이루기 위해 악행을 멀리하고 선행을 쌓는다.
- ④ 일체의 분별과 차별에서 벗어나 정신적인 자유를 누린다.
- ⑤ 사사로운 욕망을 극복하고 자신의 사회적 책임을 다한다.

2. 다음을 주장한 고대 서양 사상가의 입장으로 옳은 것만을 <보기>에서 고른 것은? [3점]

절제와 용기, 정의 등 영혼과 관련된 모든 것은 그 자체로는 이롭지도 해롭지도 않지만 지혜나 어리석음이 더해짐으로써 이롭거나 해롭게 된다. 그러므로 덕이 이로운 것이 틀림없다면 덕은 일종의 지혜이어야 한다.

- < 보 기 >
- ㄱ. 선을 알면서도 악행을 자발적으로 할 수 있다.
 - ㄴ. 무지의 자각은 영혼을 수련하는 궁극적 목적이다.
 - ㄷ. 덕을 갖추지 않고서는 결코 행복한 삶을 살 수 없다.
 - ㄹ. 이성을 발휘하여 덕에 대한 보편적 정의를 내려야 한다.

- ① ㄱ, ㄴ ② ㄱ, ㄷ ③ ㄴ, ㄷ ④ ㄴ, ㄹ ⑤ ㄷ, ㄹ

3. 다음을 주장한 고대 서양 사상가의 입장으로 가장 적절한 것은?

- 우리는 쾌락을 출발점으로 삼아 모든 것을 선택하거나 회피하며, 쾌락을 기준으로 모든 좋은 것을 판정한다. 쾌락은 행복한 삶을 이루는 출발점이자 종착점이다.
- 분별 있고 훌륭하며 정의롭게 살지 않고서 쾌락적인 삶을 살 수 없고, 쾌락적인 삶을 살지 않고서 분별 있고 훌륭하며 정의롭게 살 수 없다.

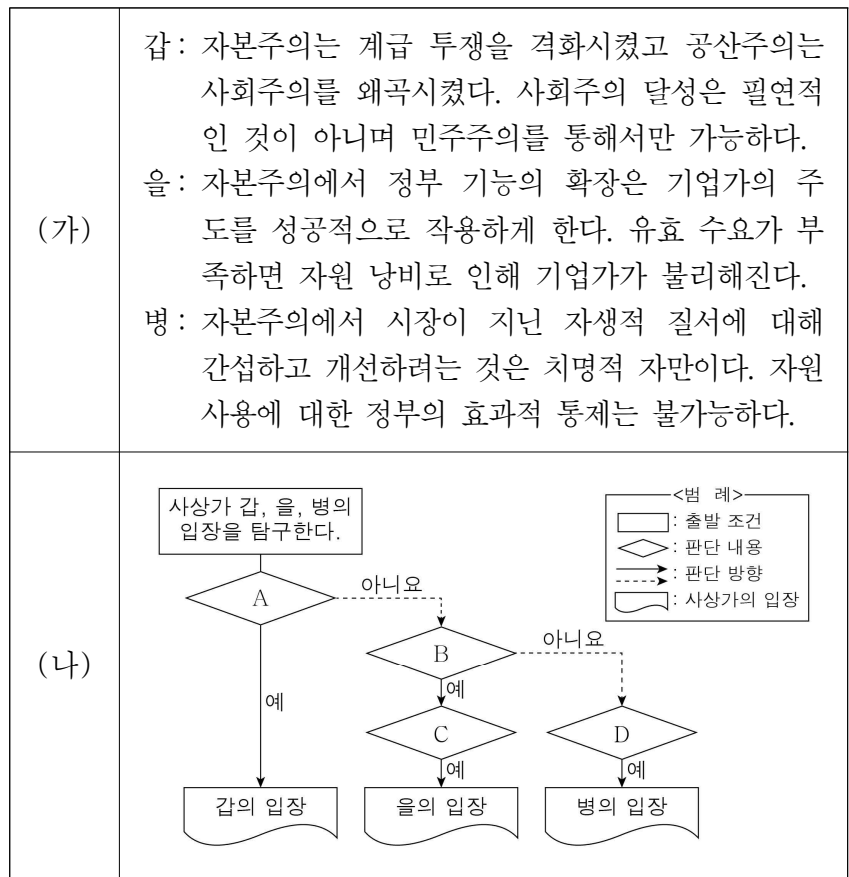
- ① 마음의 평안을 얻기 위해 공적인 삶에 헌신해야 한다.
- ② 참된 쾌락을 실현하는 데 이성적 숙고는 필요하지 않다.
- ③ 덕은 쾌락과 무관하게 그 자체로 바람직한 가치를 지닌다.
- ④ 자연적 욕구는 비자연적 욕구와 달리 모두 충족되어야 한다.
- ⑤ 심신의 고통이 부재한 상태를 인생의 목적으로 삼아야 한다.

4. 다음을 주장한 고대 동양 사상가의 입장으로 옳지 않은 것은?

무궁한 도(道)를 터득하여 무(無)의 경지에서 노닐어라. 하늘로부터 받은 본성을 다하고 이득을 추구하지 말라. 언제나 마음을 텅 비울 따름이다. 지인(至人)의 마음 씀은 거울과 같다. 가는 것은 가는 대로 두고 오는 것은 오는 대로 둔다. 변화에 호응하되 감추는 것이 없다.

- ① 오감(五感)을 통해 얻은 지식을 쌓아 도를 체득해야 한다.
- ② 외물에 속박되지 않는 절대 자유의 경지를 추구해야 한다.
- ③ 만물을 도의 관점에서 바라보면 모두 평등하고 우열이 없다.
- ④ 생사를 기쁨이나 슬픔으로 여기는 것은 자연을 거스른 것이다.
- ⑤ 자기 마음을 비우고[心齋] 사물의 자연적 본성을 따라야 한다.

5. (가)의 사회사상가 갑, 을, 병의 입장을 (나) 그림으로 탐구하고자 할 때, A ~ D에 들어갈 옳은 질문만을 <보기>에서 있는 대로 고른 것은? [3점]



< 보 기 >

- ㄱ. A: 자본주의 문제 해결을 위한 폭력 혁명은 정당한가?
- ㄴ. B: 투자의 사회화는 시장 경제 원리의 효율을 저해하는가?
- ㄷ. C: 유효 수요를 창출하는 정책은 고용 확대에 기여하는가?
- ㄹ. D: 자유 경쟁의 효율성을 위한 정부의 역할은 허용될 수 있는가?

- ① ㄱ, ㄴ ② ㄴ, ㄷ ③ ㄷ, ㄹ
- ④ ㄱ, ㄴ, ㄹ ⑤ ㄱ, ㄷ, ㄹ

6. 다음을 주장한 현대 사회사상가의 입장으로 옳은 것만을 <보기>에서 있는 대로 고른 것은? [3점]

자유는 간섭을 받지 않는 상태로 그치는 것이 아니라 예측 자체가 존재하지 않는 상태를 의미한다. 법의 지배는 시민이 자유롭게 살고 자의적 의지에 예측되지 않도록 하는 데 필수적이다. 또한 시민의 자유를 수호하기 위해서는 시민적 덕성이 정부의 토대가 되어야 한다.

- < 보 기 >
- ㄱ. 간섭의 부재는 자유를 실현하기 위한 유일한 조건이다.
 - ㄴ. 개인의 자유 향유와 시민적 덕성 함양은 양립 가능하다.
 - ㄷ. 시민의 정치 참여는 국가 공동선 실현에 기여해야 한다.
 - ㄹ. 자연권으로서의 자유를 보장하는 데 법의 지배는 불필요하다.

- ① ㄱ, ㄷ ② ㄱ, ㄹ ③ ㄴ, ㄷ
- ④ ㄱ, ㄴ, ㄹ ⑤ ㄴ, ㄷ, ㄹ

7. 근대 서양 사상가 갑, 현대 서양 사상가 을의 입장으로 옳은 것은?

갑: 인간은 자연의 사용자로서 자연을 관찰한 만큼 무엇인가를 할 수 있다. 진리를 얻으려면 인간은 지성을 사로잡고 있는 우상들로부터 자신을 지켜야 한다.
 을: 인간의 이성은 실험적 지성이며 이성의 작동은 경험을 통해 검증되어야 한다. 지성은 형성되는 과정에 있으며 실험의 결과를 관찰하여 지성을 무단히 개선해야 한다.

- ① 갑: 인간의 지성은 완전하여 선입견의 영향을 받지 않는다.
- ② 갑: 새로운 지식은 귀납법이 아니라 연역법으로써 획득된다.
- ③ 을: 초월적인 존재를 탐구하는 형이상학은 모두 무가치하다.
- ④ 을: 지식은 오류 가능성을 지니며 끊임없이 수정되어야 한다.
- ⑤ 갑과 을: 철학적 탐구는 과거의 모든 경험과 단절되어야 한다.

8. 고대 서양 사상가 갑, 중세 서양 사상가 을, 현대 서양 사상가 병의 입장으로 옳은 것은?

갑: 인간과 신에게 공통인 이성에 따라 일이 일어나는 곳에서는 아무것도 두려워할 것이 없다. 이성에 따라 행한다면 어떤 어려움도 없을 것이다.
 을: 인간은 자유 의지를 잘못 사용한 죄로 불행으로 이끌려 가고 있다. 모든 선한 것의 이데아인 신으로부터 구원받은 사람들만이 이 운명에서 벗어날 수 있다.
 병: 인간의 본성을 구상하는 신이 없기 때문에 인간은 스스로를 만들어 가는 무엇일 뿐이다. 이것이 바로 인간의 주체성이며 실존이 본질에 앞선다는 의미이다.

- ① 갑: 자신에게 일어나는 일을 신적 본성에 따라 판단해야 한다.
- ② 을: 선한 의지를 지닌 자는 신의 은총 없이도 신을 향유한다.
- ③ 병: 신의 도움 없이 자유 자체를 주체적으로 선택해야 한다.
- ④ 갑과 을: 신을 알기 위해서 이성이 반드시 필요한 것은 아니다.
- ⑤ 을과 병: 진정한 행복의 실현은 신의 존재 여부와 무관하다.

9. 중국 유교 사상가 갑, 을 중 적어도 한 사람이 부정의 대답을 할 질문만을 <보기>에서 있는 대로 고른 것은? [3점]

갑: '격물(格物)' 두 글자를 성인(聖人)이 말한 것은 사물에 나아가 이해하게 하고자 함이다. '격(格)'은 완전하게 하는 것이니, 2~3할 정도 궁구한다면 그것은 아직 격물이 아니다. 반드시 10할을 다 궁구해야 격물이다.
 을: '치지(致知)' 두 글자는 성학(聖學)에서 비밀히 전해져 온 것이다. 어떤 것이 봉양인지 아는 것은 '지(知)'이지만 아직 치지는 아니다. 반드시 그 지를 지극한 데까지 확충해야 치지이다. 치양지(致良知) 밖에 다른 학문은 없다.

- < 보 기 >
- ㄱ. 마음과 이치는 본래 하나이며 둘로 나누는 것은 불가능한가?
 - ㄴ. 효를 행하려면 먼저 효의 이치를 올바르게 파악해야 하는가?
 - ㄷ. 격물치지의 수양은 하늘의 이치를 보존하기 위한 것인가?
 - ㄹ. 양지를 발휘해야 각각의 사물로부터 이치를 얻을 수 있는가?

- ① ㄱ, ㄷ ② ㄱ, ㄹ ③ ㄴ, ㄷ
- ④ ㄱ, ㄴ, ㄹ ⑤ ㄴ, ㄷ, ㄹ

10. (가)의 사회사상가 갑, 을의 입장을 (나) 그림으로 표현할 때, A ~ C에 해당하는 적절한 진술만을 <보기>에서 있는 대로 고른 것은? [3점]

(가)	<p>갑: 자연 상태는 모든 사람이 모든 사람에 대해 전쟁을 하는 상황이기에 그 어떤 것도 부당한 것이 될 수 없다. 공통의 권력이 강제적 힘으로서 존재해야 정의와 불의가 분별되기 때문이다.</p> <p>을: 자연 상태는 인간 정신의 진화에 따라 사회 상태로 이행하게 된다. 이 과정에서 심화된 불평등과 무질서는 사람들의 인격과 모든 힘을 일반 의지의 최고 지도하에 뭉으로써 해결된다.</p>
(나)	<div style="border: 1px solid black; padding: 5px; margin-top: 10px;"> <p><범례></p> <p>A: 갑만의 입장 B: 갑, 을의 공통 입장 C: 을만의 입장</p> </div>

- < 보 기 >
- ㄱ. A: 자연 상태에서의 인간은 소유권을 천부적으로 지닌다.
 - ㄴ. B: 주권자는 계약의 주체로서 계약 이행 여부를 감시한다.
 - ㄷ. B: 이성은 무질서를 극복하기 위해 계약 체결을 요청한다.
 - ㄹ. C: 개인은 일반의지에 복종함으로써 시민적 자유를 얻는다.

- ① ㄱ, ㄴ ② ㄱ, ㄹ ③ ㄷ, ㄹ
- ④ ㄱ, ㄴ, ㄷ ⑤ ㄴ, ㄷ, ㄹ

11. 고대 서양 사상이 갑, 을의 입장으로 가장 적절한 것은? [3점]

갑: 우리는 국가를 구성하는 세 계층이 각각 자기의 일을 수행할 때 그 국가를 정의롭다고 말한다. 이와 마찬가지로 개인의 영혼을 구성하는 부분들이 각각 자기의 일을 수행할 때 그 사람은 정의롭게 된다.

을: 우리는 항상 그 자체로 선택될 뿐 결코 다른 것 때문에 선택되지 않는 것을 단적으로 완전하다고 말한다. 행복은 단적으로 완전하다. 왜냐하면 덕에 따르는 영혼의 활동인 행복은 언제나 그 자체로 선택되기 때문이다.

- ① 갑: 지혜는 이성의 지시를 따름으로써 갖춰지는 기개의 덕이다.
- ② 갑: 국가의 세 계층이 모두 철학자가 되어야 정의가 실현된다.
- ③ 을: 자제력이 있으면 실천적 지혜 없이도 품성적 덕이 생긴다.
- ④ 을: 자연에 대한 관조는 최고의 덕에 따르는 이성의 활동이다.
- ⑤ 갑과 을: 영혼의 올바름은 욕구의 소멸을 통해 이룰 수 있다.

12. 근대 한국 사상이 갑, 을, 병의 입장으로 가장 적절한 것은?

갑: 무위이화(無爲而化)는 사람이 만물과 함께 천리에 순응하는 우주 만유의 참된 모습이다. 일체의 사람을 한울로 인정하고 우마육축(牛馬六畜)을 천대하지 말아야 한다.

을: 우주 만유를 부처로 모시고, 우주 만유에서 고통(苦樂)의 근본을 찾으며, 우주 만유를 수행의 표본으로 삼아 일원상(一圓相)과 같은 원만한 인격을 양성해야 한다.

병: 도수(度數)로써 천지를 정리하니 새 기틀이 열리게 된다. 이에 조화로써 천지를 개혁하고 후천선경(後天仙境)을 열어 고통에 빠진 중생을 널리 구해야 한다.

- ① 갑: 한울을 모시고 현세가 아닌 내세의 복락을 추구해야 한다.
- ② 을: 깨달음을 얻기 위한 수행은 사회적 실천과 병행해야 한다.
- ③ 병: 무속 신앙을 배제하여 선천의 원한을 풀며 상생해야 한다.
- ④ 갑과 을: 만민은 봉건적 신분 질서를 바탕으로 화합해야 한다.
- ⑤ 을과 병: 물질문명이 정신문명을 이끄는 사회를 지향해야 한다.

13. 근대 서양 사상이 갑, 을의 입장으로 옳은 것은?

갑: 유일하게 올바르게 보편적으로 바람직한 행동의 목적은 이해 당사자들의 최대 행복이다. 쾌락과 고통을 측정할 때 강도, 지속성, 확실성 등을 고려해야 한다.

을: 선악의 구분은 사회적 이익의 증감에 근거하며, 이 증감에 대한 승인이나 부인은 사회적 이익에 대한 우리의 관심 때문이다. 이러한 관심은 우리의 공감 능력에서 나온다.

- ① 갑: 쾌락의 양이 많아질수록 쾌락의 질은 항상 높아지게 된다.
- ② 갑: 사회 전체의 이익과 구성원들의 이익 총합은 같을 수 없다.
- ③ 을: 선악은 평가받는 사람의 성품에 내재하는 객관적 실재이다.
- ④ 을: 인과 추론은 선한 행위를 낳는 직접적 동기가 될 수 없다.
- ⑤ 갑과 을: 도덕 판단의 보편성은 공감의 원리에 의해 보장된다.

14. 중세 서양 사상이 갑, 근대 서양 사상이 을의 입장으로 옳은 것만을 <보기>에서 있는 대로 고른 것은? [3점]

갑: 영원법은 모든 것의 운동과 행위를 명령하며 신의 지혜를 보여준다. 자연법은 이성적 피조물이 영원법에 참여하는 것인데, 자연법의 첫 번째 명령은 '선을 행하고 악을 피하라.'이다.

을: 자연에서는 자연의 질서를 위반하는 어떤 일도 일어날 수 없다. 모든 일은 영원한 필연성을 지닌 자연의 질서에 따라 일어난다. 신의 명령, 즉 신의 섭리는 자연의 질서일 뿐이다.

— < 보 기 > —

ㄱ. 갑: 영원법은 인간의 자연적 성향에 반영되어 있다.

ㄴ. 갑: 자연법은 인간의 이성으로 파악한 도덕 법칙이다.

ㄷ. 을: 자연법칙은 초자연적 존재인 신의 명령과 일치한다.

ㄹ. 갑과 을: 자연의 모든 사물은 자신의 존재를 보존하려 한다.

- ① ㄱ, ㄴ ② ㄴ, ㄷ ③ ㄷ, ㄹ
- ④ ㄱ, ㄴ, ㄹ ⑤ ㄱ, ㄷ, ㄹ

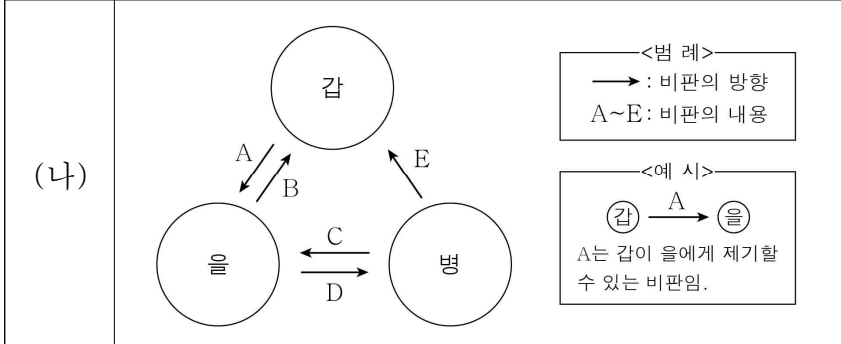
15. (가)의 한국 사상이 갑, 을, 병의 입장에서 서로에게 제기할 수 있는 비판을 (나) 그림으로 표현할 때, A~E에 해당하는 내용으로 가장 적절한 것은? [3점]

(가)

갑: 공자는 “음양은 태극에서 나온 것이다.”라고 했으니 이(理)와 기(氣)는 일물(一物)이 아니며, 주자는 “이에 동정(動靜)이 있으므로 기에 동정이 있다.”라고 했으니 이와 기는 서로 발한다.

을: 공자는 “사람이 도(道)를 넓히는 것이지 도가 사람을 넓히는 것이 아니다.”라고 했으니 기발이승일도(氣發理乘一途)가 명백하다. 기를 단속하여 기의 본연이 회복되면 본연의 이가 드러난다.

병: 공자는 “자신을 이겨 예(禮)를 회복하는 것이 인(仁)이다.”라고 했으니 인은 사람의 노력으로 성립하는 것이지 사람이 태어날 때 하늘이 인을 사람의 마음에 끼워 넣은 것이 아니다.



- ① A: 정(情)은 연원의 차이로 사단과 칠정으로 나뉘어 간과한다.
- ② B: 이(理)는 작용성이 없기에 기를 주재할 수 없음을 간과한다.
- ③ C: 인(仁)은 하늘로부터 부여받은 도덕적 본성임을 간과한다.
- ④ D: 성(性)은 편벽된 기질을 바로잡아야 선하게 됨을 간과한다.
- ⑤ E: 심(心)은 도덕성의 근원인 이법적 실체가 아님을 간과한다.

16. 고대 동양 사사가 갑, 을의 입장으로 옳은 것은?

갑: 사람은 배우지 않아도 할 수 있는 능력[良能]과 생각하지 않아도 알 수 있는 능력[良知]이 있다. 부모를 친애함을 인(仁)이라 하고, 어른을 공경함을 의(義)라고 한다.
 을: 사람은 이익을 좋아하고 손해를 싫어한다. 이는 사람이 태어날 때부터 갖게 되는 바다. 성인(聖人)도 본성을 변화시키기 위해 수양을 거듭한 뒤에야 덕을 완성하였다.

- ① 갑: 본래의 마음을 보존하기 위해 본성을 교정해야 한다.
- ② 갑: 타고난 도덕적 기개[浩然之氣]를 발휘하면 의가 생긴다.
- ③ 을: 육구의 충족은 예(禮)와 법도에 따라 이루어져야 한다.
- ④ 을: 소인은 인위적 노력을 쌓아도 본성을 변화시킬 수 없다.
- ⑤ 갑과 을: 하늘을 인륜의 근본으로 삼아 인의를 실현해야 한다.

17. 중국 불교 사사가 갑, 한국 불교 사사가 을의 입장으로 가장 적절한 것은?

갑: 근기(根機)가 낮은 사람이라도 밖으로 닦는 것을 믿지 않고, 단박에 깨치는 가르침[頓教]을 들어서 자기의 본성이 항상 바른 견해를 일으키면 당장에 깨달을 수 있다. 이것이 곧 견성(見性)이다.
 을: 이치[理]로는 단박에 깨침[頓悟]과 동시에 모든 번뇌가 사라지지만 실제로는 점차 없어진다. 옛 스승께서도 “범부가 곧 부처인줄 알았지만 법의 힘을 빌려서 익히고 닦아야 한다.”라고 말씀하셨다.

- ① 갑: 깨치는 능력이 낮은 중생은 번뇌의 제거가 불가능하다.
- ② 갑: 자기 본성이 부처임을 단박에 깨치면 부처가 될 수 있다.
- ③ 을: 지혜는 자성의 본체[體]이고 선정은 자성의 작용[用]이다.
- ④ 을: 돈오한 이후에 비로소 생겨난 습기(習氣)를 없애야 한다.
- ⑤ 갑과 을: 경전에 의존하지 않으면 결코 깨달음에 이를 수 없다.

18. 다음을 주장한 근대 서양 사사가의 입장으로 옳은 것만을 <보기>에서 고른 것은? [3점]

경험적 요소가 섞이지 않은 순수한 의무의 표상, 한마디로 도덕 법칙의 표상은 오직 이성을 통해서만 인간의 마음에 영향을 끼친다. 이런 영향은 경험의 영역에서 얻을 수 있는 어떤 동기보다 훨씬 더 강력하다. 그래서 이성은 자신의 존엄성을 의식하며 경험적 동기를 경멸하고 지배할 수 있다.

< 보 기 >

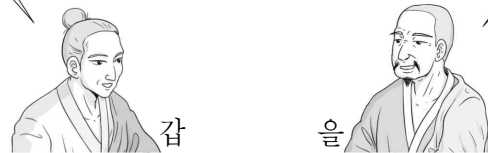
- ㄱ. 도덕 법칙에 일치하는 행위는 반드시 도덕적 가치를 지닌다.
- ㄴ. 도덕 법칙에 대한 존경의 감정은 도덕적 실천에 기여한다.
- ㄷ. 이성은 자신이 따라야 하는 원리를 스스로 세울 수 있다.
- ㄹ. 이성적 인간의 도덕은 일반적인 경향성에 근거해야 한다.

- ① ㄱ, ㄴ ② ㄱ, ㄷ ③ ㄴ, ㄷ ④ ㄴ, ㄹ ⑤ ㄷ, ㄹ

19. 그림은 동양 불교 사사가 갑, 을의 가상 대화이다. 갑, 을의 입장으로 옳은 것만을 <보기>에서 있는 대로 고른 것은? [3점]

모든 법(法)은 공(空)합니다. 열반조차도 공할 따름입니다. 그러므로 열반은 유(有)도 아니고 무(無)도 아닙니다. 획득되지 않고 도달되지도 않으며, 단절하지 않고 상주하지도 않으며, 발생하지 않고 소멸하지도 않으므로 열반이라 합니다.

맞습니다. 하지만 자아와 법을 임시로 세움으로 인하여 갖가지 모습들이 생겨납니다. 일체는 오직 식일 뿐[唯識]입니다. 분별을 본성으로 하는 식을 변화시켜 지(智)를 얻으면 모든 번뇌가 사라지게 되고, 이를 곧 열반이라 합니다.



< 보 기 >

- ㄱ. 갑: 모든 법을 중도(中道)로써 파악해야 한다.
- ㄴ. 갑: 모든 법은 불변의 실체로서 연기(緣起)한다.
- ㄷ. 을: 모든 현상은 마음의 작용으로만 존재할 뿐이다.
- ㄹ. 갑과 을: 모든 현상이 공임을 통찰하면 열반에 이를 수 있다.

- ① ㄱ, ㄴ ② ㄴ, ㄹ ③ ㄷ, ㄹ
- ④ ㄱ, ㄴ, ㄷ ⑤ ㄱ, ㄷ, ㄹ

20. 다음을 주장한 고대 서양 사사가의 입장으로 옳은 것만을 <보기>에서 고른 것은?

인간은 고립되어서는 자족적일 수 없기에 국가에 의존해야 한다. 국가만이 인간의 완전하고 자족적인 삶을 이룰 수 있게 한다. 국가의 혜택을 타인과 더불어 누릴 수 없거나 그럴 필요가 없는 존재는 짐승이거나 신이다.

< 보 기 >

- ㄱ. 국가는 최상위의 공동체로서 최고선을 추구한다.
- ㄴ. 시민으로서의 좋은 삶과 개인의 좋은 삶은 무관하다.
- ㄷ. 개인의 궁극적 목적은 국가 안에서만 실현될 수 있다.
- ㄹ. 국가는 자연의 산물이 아니라 인위적 계약의 산물이다.

- ① ㄱ, ㄴ ② ㄱ, ㄷ ③ ㄴ, ㄷ ④ ㄴ, ㄹ ⑤ ㄷ, ㄹ

* 확인 사항

○ 답안지의 해당란에 필요한 내용을 정확히 기입(표기)했는지 확인하십시오.

제 4 교시

사회탐구 영역 (생활과 윤리)

성명 수험번호 3 제 [] 선택

1. ㉠에 들어갈 진술로 가장 적절한 것은?

나는 윤리학이 환경, 생명, 정보 등의 분야에서 발생하는 윤리 문제에 대해 실천적인 해결 방안을 모색하는 것에 중점을 두어야 한다고 생각한다. 그런데 어떤 사람은 윤리학이 도덕적 언어의 의미를 분석하고, 도덕 판단의 논리적 타당성을 입증하는 것에 중점을 두어야 한다고 주장한다. 나는 이러한 주장이 윤리학의 주요 과제가 ㉠고 생각한다.

- ① 도덕적 논의의 인식론적 구조에 대한 분석임을 간과한다
- ② 도덕 추론의 정당성 검증을 위한 논리 분석임을 간과한다
- ③ 도덕 판단을 위한 보편적 도덕 법칙의 정립임을 강조한다
- ④ 도덕 현상에 대한 경험적 조사와 객관적 서술임을 강조한다
- ⑤ 도덕 문제 해결을 위한 구체적 행위 지침의 제시임을 간과한다

2. 다음을 주장한 사상가의 입장으로 적절한 것만을 <보기>에서 있는 대로 고른 것은? [3점]

의사소통의 합리성을 실현하기 위한 이상적 담론은 다음 조건들을 충족해야 한다. 의사소통 과정에 참여한 사람들은 참된 진술을 해야 하고, 서로 이해할 수 있는 말을 해야 한다. 또한 누구나 평등하게 담론에 참여하고, 어떤 주장이든 자유롭게 표현할 수 있어야 한다. 이러한 조건들을 통해 의사소통의 합리성을 실현해야 보편타당한 규범을 도출할 수 있다.

< 보 기 >

ㄱ. 담론 참여자는 다수가 지지하는 주장을 비판할 수 있다.
 ㄴ. 담론 참여자 다수가 동의한 모든 규범은 타당성을 지닌다.
 ㄷ. 담론 참여자는 자신의 이익을 위한 선호를 표현할 수 있다.
 ㄹ. 담론 참여자는 합의한 결과로 인한 부작용도 수용해야 한다.

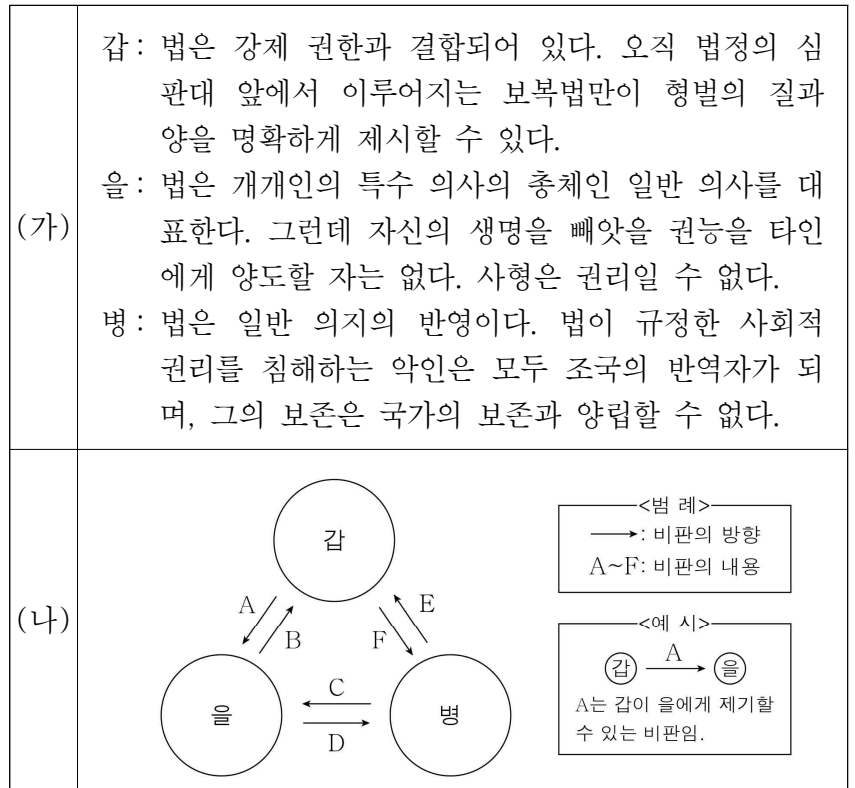
- ① ㄱ, ㄴ ② ㄱ, ㄷ ③ ㄴ, ㄹ
- ④ ㄱ, ㄷ, ㄹ ⑤ ㄴ, ㄷ, ㄹ

3. 갑, 을 사상가들의 입장으로 가장 적절한 것은?

갑: 죽음은 감각의 상실이므로 우리에게 아무것도 아니다. 이를 제대로 알게 되면 가사성(可死性)도 즐겁게 된다. 그러한 삶이 불멸에 대한 갈망을 제거해 주기 때문이다.
 을: 고통의 소멸로 이끄는 길을 알지 못하는 사람들은 결코 윤회(輪廻)를 끝낼 수가 없다. 그들은 태어남과 죽음을 끊임없이 반복하여 겪는다.

- ① 갑: 죽음은 고통이므로 죽음을 최고의 악으로 인식해야 한다.
- ② 갑: 죽음을 두려움의 대상으로 여기는 인식에서 벗어나야 한다.
- ③ 을: 연기의 법칙을 깨달아 고정불변의 자아를 확립해야 한다.
- ④ 을: 윤회를 통해 모든 고통이 저절로 소멸됨을 깨달아야 한다.
- ⑤ 갑과 을: 내세의 영원한 삶을 위해 현실의 삶에 충실해야 한다.

4. (가)의 갑, 을, 병 사상가들의 입장에서 서로에게 제기할 수 있는 비판을 (나) 그림으로 표현할 때, A ~ F에 해당하는 내용으로 가장 적절한 것은? [3점]



- ① A, F: 사형은 살인범의 인간 존엄성을 훼손하는 형벌임을 간과한다.
- ② B: 범죄자는 형벌을 받아야 할 행위를 원했기 때문에 형벌을 받는 것임을 간과한다.
- ③ C: 사형은 사회 계약을 통해 성립될 수 없지만 정당한 형벌임을 간과한다.
- ④ D: 형벌의 지속도보다 강도가 범죄 예방에 효과적임을 간과한다.
- ⑤ E: 형벌은 시민 사회의 선을 위한 수단으로서 가해질 수 있음을 간과한다.

5. 갑, 을 사상가들의 입장으로 적절하지 않은 것은?

예술의 사명은 행복이 인간 상호간의 결합에 있다는 진리를 이성에서 감정의 영역으로 옮겨 신(神)의 세계, 즉 사랑의 세계를 건설하는 것입니다.

예술의 영역과 도덕의 영역은 서로 분리되어 있습니다. 예술은 예술 안에서 완벽함을 추구할 뿐 예술 밖에서 완벽함을 찾지 않습니다.



- ① 갑: 예술은 공감을 통해 사람들을 하나의 감정으로 결합한다.
- ② 갑: 예술은 종교적 자각에 입각한 사랑을 불러일으켜야 한다.
- ③ 을: 예술은 인격 함양을 위한 삶의 본보기를 제공해야 한다.
- ④ 을: 예술은 예술 자체의 아름다움을 자율적으로 추구해야 한다.
- ⑤ 갑과 을: 예술은 미적 가치를 추구하는 활동으로 볼 수 있다.

6. 다음 토론의 핵심 쟁점으로 가장 적절한 것은?

갑: 회생 불가능한 환자가 고통스러운 삶을 살아가는 것은 무의미합니다. 환자가 요청한다면 연명 치료의 중단으로 죽음을 맞이할 수 있도록 허용해야 합니다.
 을: 동의합니다. 연명 치료의 중단과 같은 소극적 안락사뿐만 아니라 약물 주입과 같은 적극적 안락사라도 환자가 죽음에 이를 수 있도록 허용해야 합니다.
 갑: 아닙니다. 소극적 안락사는 도덕적인 행위이지만 적극적 안락사는 환자를 살인하는 행위와 같으므로 비도덕적입니다.
 을: 그렇지 않습니다. 두 가지 모두 환자를 죽음에 이르게 하지만 고통을 제거한다는 점에서 도덕적입니다. 적극적 안락사도 죽음을 앞당겨 환자의 불필요한 고통을 제거한다는 점에서 도덕적인 행위입니다.

- ① 연명 치료를 중단하려면 환자의 동의가 반드시 요구되는가?
- ② 적극적 안락사는 소극적 안락사와 달리 비도덕적 행위인가?
- ③ 도덕적으로 허용될 수 있는 안락사 시행 방법이 존재하는가?
- ④ 회생 불가능한 환자는 연명 치료의 중단을 요청해야 하는가?
- ⑤ 회생 불가능한 환자의 고통을 제거하는 것은 정당화 가능한가?

7. (가)의 갑, 을 사상가들의 입장을 (나) 그림으로 표현할 때, A ~ C에 해당하는 적절한 진술만을 <보기>에서 있는 대로 고른 것은? [3점]

(가)	<p>갑: 원조의 의무는 절대 빈곤에 처한 사람들을 돕는 것이다. 이익 평등 고려의 원칙에 따라 빈곤으로 고통받는 사람들에게 원조를 해야 한다.</p> <p>을: 원조의 의무는 고통받는 사회가 질서 정연한 사회가 될 수 있도록 돕는 것이다. 질서 정연한 사회의 만민은 고통받는 사회들을 원조해야 한다.</p>
(나)	

— < 보 기 > —

ㄱ. A: 원조는 원조 대상뿐만 아니라 원조 주체의 이익도 증진해야 한다.
 ㄴ. B: 자원 빈곤국을 모두 원조 대상국으로 삼을 필요는 없다.
 ㄷ. B: 원조 대상국의 정치적 상황을 고려하여 원조해야 한다.
 ㄹ. C: 절대빈곤층의 처지 개선이 원조의 주된 목표는 아니다.

- ① ㄱ, ㄴ ② ㄱ, ㄷ ③ ㄴ, ㄹ
- ④ ㄱ, ㄷ, ㄹ ⑤ ㄴ, ㄷ, ㄹ

8. (가), (나)의 입장으로 가장 적절한 것은?

(가) 성적 행위는 출산과 양육의 책임을 수행할 수 있는 관계에서 이루어져야 한다. 그러므로 부부간의 성적 행위만이 도덕적으로 정당화된다.
 (나) 성적 행위는 인격 존중의 의무만 다한다면 도덕적으로 정당화된다. 인격 존중의 의무는 당사자 간 자발적 합의와 해약 금지의 원칙을 준수함으로써 이행된다.

- ① (가): 성적 행위는 사적인 행위이므로 사회적 책임과 무관하다.
- ② (가): 성적 행위는 혼인 관계 안에서만 도덕적으로 정당화된다.
- ③ (나): 성적 행위가 합의로 이루어지면 모든 책임에서 자유롭다.
- ④ (나): 성적 행위에 대한 자유와 인격 존중의 의무는 상충한다.
- ⑤ (가)와 (나): 성적 행위에서 인격 존중의 의무는 사랑이 동반된 관계에서만 요구된다.

9. 갑, 을 사상가들의 입장으로 적절한 것만을 <보기>에서 있는 대로 고른 것은? [3점]

갑: 모든 사람은 취득과 이전, 교정의 원칙에 의해 자신의 소유물에 대한 소유 권리를 가져야 한다. 소유 권리는 과거의 상황이나 과거의 행위에 근거하므로 분배적 정의는 역사적 원리에 따라야 한다.
 을: 모든 사람은 원초적 입장에서 선택되는 정의의 원칙에 따라 기본적 자유에 대하여 동등한 권리를 가져야 한다. 재산과 소득의 분배가 균등해야 할 필요는 없으나 모든 사람에게 이익이 되도록 이루어져야 한다.

— < 보 기 > —

ㄱ. 갑: 도덕적 공과에 따른 분배는 분배적 정의에 위배된다.
 ㄴ. 갑: 취득과 이전의 원칙을 통해서만 재화가 양도되는 것은 아니다.
 ㄷ. 을: 공정한 절차를 따르면 부의 균등한 분배가 보장된다.
 ㄹ. 갑과 을: 국가는 불의한 분배를 교정하기 위해 개입할 수 있다.

- ① ㄱ, ㄴ ② ㄴ, ㄷ ③ ㄷ, ㄹ
- ④ ㄱ, ㄴ, ㄹ ⑤ ㄱ, ㄷ, ㄹ

10. 갑, 을 사상가들의 입장으로 가장 적절한 것은? [3점]

갑: 사람들은 자연 상태에서 자유를 누리지만 이 자유 때문에 싸움을 피할 수 없다. 비참한 자연 상태에서 벗어나기 위해 서로 계약을 맺음으로써 리바이어던이 탄생한다.
 을: 사람들은 자연 상태에서 가졌던 평등, 자유 및 집행권을 사회의 선이 요구하는 바에 따라 최고 권력인 입법부가 처리할 수 있도록 사회에 양도한다.

- ① 갑: 공통 권력이 없는 곳에는 정의나 불의가 존재하지 않는다.
- ② 갑: 군주는 사법권과 분쟁의 해결권을 갖지만 입법자는 아니다.
- ③ 을: 개인의 재산 보존은 시민 사회의 주된 목적이 될 수 없다.
- ④ 을: 권력 분립에 의한 통치는 사회 계약에 부합하지 않는다.
- ⑤ 갑과 을: 군주의 자의적인 권력 행사는 정권 교체로 이어진다.

11. 다음을 주장한 사상가의 입장에서 <사례> 속 A에게 제시할 조언으로 가장 적절한 것은?

쾌락의 산출과 고통의 회피는 개인은 물론이고 입법자가 살펴보아야 할 목적이다. 어떤 행위가 공동체의 이익을 증가시킨다는 것은 공동체를 구성하는 이해 당사자들의 쾌락의 합계를 증가시키는 것이다.

< 사례 >
국회의원 A는 딥페이크(deepfake)* 활용을 금지하는 법안 발의에 참여해야 하는지 고민하고 있다. 딥페이크가 가짜 뉴스나 음란물 제작 등에 악용되는 경우가 있지만, 다양한 창작 활동에 활용되는 경우도 있기 때문이다.
* 딥페이크(deepfake): 인공 지능 기술을 이용하여 원본 이미지 위에 다른 이미지를 결합하여 새로운 이미지를 생성하는 기술

- ① 도덕과 입법의 근거인 유용성의 원리에 따라 결정하세요.
② 법안의 효용을 고려하기보다 의무 의식에 따라 결정하세요.
③ 기술이 가져올 해악이 아닌 이익만을 고려하여 결정하세요.
④ 기술의 활용 결과가 아닌 개발 동기를 고려하여 결정하세요.
⑤ 개인의 이익을 배제하고 사회의 이익만을 고려하여 결정하세요.

12. 다음을 주장한 사상가의 입장으로 적절하지 않은 것은?

○ 훌륭한 목민관이 되려는 자는 어질어야 하고, 어질고 싶은 자는 청렴해야 하며, 청렴하고 싶은 자는 검소해야 하니 절용(節用)은 목민관의 첫 번째 의무이다.
○ 벼슬살이의 요체는 '두려워할 외(畏)' 한 자뿐이다. 의(義)를 두려워하고 법(法)을 두려워하며 백성을 두려워해야 한다. 마음에 두려움을 간직해야 방자하지 않게 된다.

- ① 공직자는 청렴이 본연의 덕이며 의무임을 알아야 한다.
② 공직자는 절용을 실천하기 위해 자기 절제에 힘써야 한다.
③ 공직자는 법을 지키며 백성을 편안하고 이롭게 해야 한다.
④ 공직자는 공무를 처리할 때 사욕을 개입시켜서는 안 된다.
⑤ 공직자는 백성이 자신을 두려워하도록 위세를 앞세워야 한다.


13. 갑, 을 사상가들의 입장으로 가장 적절한 것은? [3점]

갑: 영구 평화를 달성하기 위해서 모든 국가의 시민적 정치 체제는 공화 정체인어야 하며, 국제법은 자유로운 국가들의 연방 체제에 기초해야 한다.
을: 진정한 평화는 모든 종류의 폭력이 없는 상태이다. 직접적 폭력과 구조적 폭력은 물론이고, 문화적 폭력까지 사라진 적극적 평화 상태를 추구해야 한다.

- ① 갑: 각 국가는 매매를 통해 다른 국가의 소유가 될 수 있다.
② 갑: 어떤 경우에도 타국인을 적대적으로 대우해서는 안 된다.
③ 을: 직접적 폭력의 제거는 진정한 평화 실현의 전제 조건이다.
④ 을: 물리적 폭력의 제거는 구조적 폭력이 제거되어야 실현된다.
⑤ 갑과 을: 폭력이나 전쟁은 어떤 상황에서도 정당화될 수 없다.

14. 그림의 강연자의 입장으로 적절한 것만을 <보기>에서 있는 대로 고른 것은?

문화 산업의 위치가 확고해지면 확고해질수록 문화 산업은 소비자의 욕구를 더욱더 능란하게 다룰 수 있게 됩니다. 문화 산업은 소비자의 욕구를 만들어내고 조종하며 심지어는 소비자로부터 재미를 몰수할 수도 있습니다. 문화 산업의 생산물은 모든 사람을 일하는 시간과 마찬가지로 휴식 시간에도 잡아 놓는 거대한 경제 체계의 일부입니다.

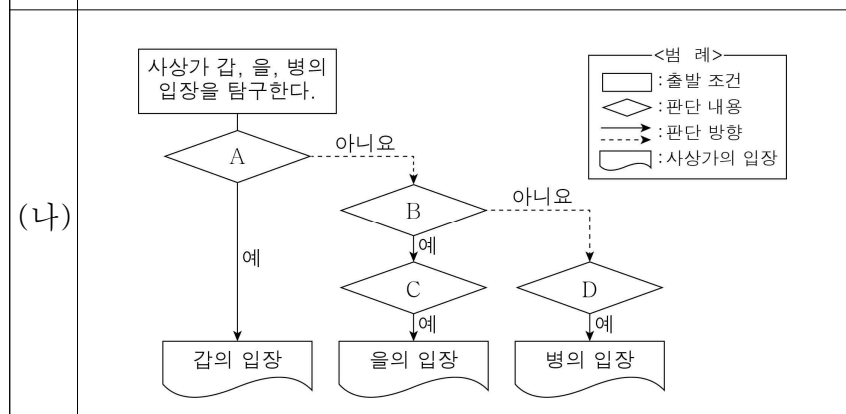


< 보기 >
ㄱ. 문화 산업은 소비자에게 능동적인 체험 활동을 보장한다.
ㄴ. 문화 산업은 규격품을 만들듯이 인간을 재생산하려 한다.
ㄷ. 문화 산업의 대중매체는 소비자의 의식을 지배하려 한다.
ㄹ. 문화 산업의 생산물은 대중이 활발하게 소비하도록 만든다.

- ① ㄱ, ㄴ ② ㄱ, ㄷ ③ ㄴ, ㄹ
④ ㄱ, ㄷ, ㄹ ⑤ ㄴ, ㄷ, ㄹ

15. (가)의 갑, 을, 병 사상가들의 입장을 (나) 그림으로 탐구하고자 할 때, A~D에 들어갈 적절한 질문만을 <보기>에서 있는 대로 고른 것은? [3점]

갑: 우리는 동물에 대한 직접적 의무를 지지 않는다. 동물은 단지 수단일 뿐이다. 동물과 관련한 우리의 의무는 인간에 대한 간접적 의무에 불과하다.
을: 우리가 해야 할 일은 종(種) 차별주의를 피하면서 꽤고 감수 능력이 있는 동물을 도덕적 관심의 영역 안으로 끌어들이는 것이다.
병: 우리는 유기체가 자신을 보존하고 자신만의 독특한 방식으로 고유의 선을 실현하려고 애쓰는 목적론적 삶의 중심이라고 생각한다.



< 보기 >
ㄱ. A: 생명체 중에서 오직 인간만이 가치를 지닌 존재인가?
ㄴ. B: 인간이 생명을 가진 존재를 차별하는 것은 잘못인가?
ㄷ. C: 동물을 이용하는 인간의 행위가 정당화될 수 있는가?
ㄹ. D: 개체가 고유의 선을 지녀야만 의무의 대상이 될 수 있는가?

- ① ㄱ, ㄴ ② ㄴ, ㄷ ③ ㄷ, ㄹ
④ ㄱ, ㄴ, ㄹ ⑤ ㄱ, ㄷ, ㄹ

16. 갑, 을 사상가들의 입장으로 가장 적절한 것은? [3점]

갑: 품성적 덕은 본성적으로 생겨나는 것도 아니요, 본성에 반하여 생겨나는 것도 아니다. 우리는 그것을 본성적으로 받아들일 수 있으며 습관을 통해 완성시킨다.
 을: 정언 명령은 어떤 행위를 그 자체로서, 다른 목적과 관계없이 필연적인 것으로 표상한다. 정언 명령만이 도덕 법칙으로서의 필연성을 가진다.

- ① 갑: 덕에 따르는 삶을 위해 공동체의 전통에서 벗어나야 한다.
- ② 갑: 인간은 선천적으로 지니고 있는 품성적 덕을 길러야 한다.
- ③ 을: 의무에 맞는 모든 행위를 도덕적 행위로 간주해야 한다.
- ④ 을: 이성적 존재는 스스로 도덕 법칙의 수립자가 되어야 한다.
- ⑤ 갑과 을: 도덕적 행위를 하려면 자연적 경향성을 따라야 한다.

17. 다음을 주장한 사상가의 입장으로 적절한 것만을 <보기>에서 있는 대로 고른 것은? [3점]

우리는 시민 불복종 행위를 통해서 공동 사회의 다수자가 갖는 정의감을 나타내게 된다. 그리고 우리의 신중한 견지에서 볼 때 자유롭고 평등한 사람들 사이에서 사회 협동체의 원칙이 존중되지 않고 있음을 선언하게 된다.

< 보 기 >

- ㄱ. 부정의의 정도가 심각하지 않은 법은 준수되어야 한다.
- ㄴ. 시민 불복종은 비합법적인 정부에 대한 정당한 항거이다.
- ㄷ. 시민 불복종으로 인해 준법의 의무와 부정의에 저항할 의무가 상충할 수 있다.
- ㄹ. 시민 불복종은 민주 사회의 시민들이 갖는 양심적인 신념들 간의 불일치를 줄일 수 있다.

- ① ㄱ, ㄴ ② ㄱ, ㄹ ③ ㄴ, ㄷ
- ④ ㄱ, ㄷ, ㄹ ⑤ ㄴ, ㄷ, ㄹ

18. 다음을 주장한 사상가의 입장으로 적절하지 않은 것은? [3점]

종교적 인간에게 자연은 항상 종교적 의미로 충만해 있다. 우주는 신의 창조물이고 세계는 신들의 손으로 완성된 것이어서 성스러움으로 가득차 있기 때문이다. 이는 예를 들면, 신의 현존에 의해서 정화된 장소나 사물에 머무르는 경우와 같이 직접 신들과 교류하는 신성성만의 것은 아니다. 신들은 그보다 더 많은 것을 행했다. 그들은 세계와 우주적 현상의 구조 그 자체 안에서 다양한 성(聖)의 양태를 현현(顯現)한다.

- ① 성스러운 공간에는 성스러운 것의 출현이 결부되어 있다.
- ② 성스러움이 드러난 사물을 신 그 자체와 동일시해야 한다.
- ③ 성스러움을 가시적인 형태로 구현하는 것은 자연의 대상들이다.
- ④ 성스러운 세계에서만 종교적 인간은 참된 실존을 가질 수 있다.
- ⑤ 성스러운 세계와 세속은 분리되어 있거나 단절되어 있지 않다.

19. 다음 칼럼의 입장에서 지지할 내용으로 적절하지 않은 것은?

00신문 0000년 00월 00일

칼럼

뉴 미디어 사회에서는 정보 통신 기술의 발전으로 근로자가 시공간의 제약에서 벗어나 일을 할 수 있는 환경이 조성되었다. 하지만 이로 인해 근무 시간 외 업무 연락으로 근로자의 사생활 침해 문제가 대두되고 있다. 이러한 부작용을 방지하기 위해 근무 시간 외 업무와 관련한 연락을 받지 않을 '연결되지 않을 권리'의 도입이 필요하다. 이러한 '연결되지 않을 권리'는 직장 동료 간의 원치 않는 온라인 친구 신청, 동의 없는 단체 대화방 초대 등에 대해서도 적용되어 근로자의 사생활을 보호할 수 있다. 근로자의 근로 조건과 삶의 질 향상을 위해서는 '연결되지 않을 권리'가 보장되어야 한다. 이를 위해서는 고용주의 윤리 의식 함양과 함께 관련 법률의 재정비가 필요하다.

- ① 연결되지 않을 권리는 직장에서의 의사소통 단절을 야기한다.
- ② 연결되지 않을 권리는 근로자의 처우 개선에 기여할 수 있다.
- ③ 연결되지 않을 권리는 근로자의 업무 부담을 줄여줄 수 있다.
- ④ 근로자의 사생활 보호를 위해 연결되지 않을 권리가 필요하다.
- ⑤ 고용주는 연결되지 않을 권리를 보장하기 위해 노력해야 한다.

20. (가)의 입장에 비해 (나)의 입장이 갖는 상대적 특징을 그림의 ㉠ ~ ㉣ 중에서 고른 것은?

(가) 과학자는 연구 윤리를 준수하면서 자신의 연구가 참인지 거짓인지 밝혀야 한다. 과학자는 자신의 연구가 활용되는 과정에서 아무런 힘도 발휘하지 못하므로 활용 결과에 대한 책임으로부터 자유롭다.

(나) 과학자는 연구 윤리를 준수하면서도 자신의 연구 결과가 사회에 미칠 영향에 대해 책임을 져야 한다. 과학자는 자신의 연구 활동이 인간 존엄성 구현과 삶의 질 향상을 위한 것인지 검토해야 한다.

- X: 과학자가 인류의 복지 증진에 기여해야 함을 강조하는 정도
- Y: 과학자의 연구 활동이 사회적 책임과 무관함을 강조하는 정도
- Z: 과학 기술 활용에 대한 과학자의 윤리적 성찰을 강조하는 정도

- ① ㉠ ② ㉡ ③ ㉢ ④ ㉣ ⑤ ㉣

*** 확인 사항**

○ 답안지의 해당란에 필요한 내용을 정확히 기입(표기)했는지 확인하십시오.

제 4 교시

사회탐구 영역(사회·문화)

성명		수험번호				3				제 () 선택
----	--	------	--	--	--	---	--	--	--	----------

1. 밑줄 친 ㉠~㉣과 같은 현상의 일반적인 특징에 대한 설명으로 옳은 것은?

최근 갑국에서 발생한 산불은 500만 헥타르(ha)가 넘는 ㉠ 숲을 태웠다. 전문가들은 이 산불이 ㉡ 기후 변화의 산물이라고 분석하고 있다. 기후 변화로 인한 기록적인 고온 현상과 유례없는 가뭄이 ㉢ 건조한 땅을 만들었고, 대형 산불로 이어졌다는 분석이다. ○○ 연구팀은 ㉣ 온실가스에 대한 과학적인 감시 강화가 필요하다고 강조하였다.

- ① ㉠과 같은 현상은 ㉡과 같은 현상과 달리 가치 함축적이다.
- ② ㉡과 같은 현상은 ㉢과 같은 현상과 달리 당위적인 규범이 반영되어 나타난다.
- ③ ㉢과 같은 현상은 ㉣과 같은 현상과 달리 인과 관계가 불분명하다.
- ④ ㉣과 같은 현상은 ㉠과 같은 현상과 달리 보편성이 나타난다.
- ⑤ ㉠, ㉢과 같은 현상은 ㉡, ㉣과 같은 현상과 달리 경험적 자료를 통해 연구할 수 있다.

2. 자료 수집 방법 A, B에 대한 설명으로 옳은 것은?

A의 활용 사례	B의 활용 사례
갑은 대학생의 비대면 수업 적응 과정을 연구하기 위해 대학생 10명을 만나 관련 경험에 대해 심층적인 대화를 나누었다.	을은 비대면 수업 기간 중 대학생의 식습관 변화를 연구하기 위해 대학생 500명을 대상으로 구조화된 설문지에 응답하게 하였다.

- ① A는 B와 달리 연구 대상자와의 정서적 교감을 중시한다.
- ② A는 B와 달리 연구 대상자의 주관적 인식을 파악할 수 있다.
- ③ B는 A에 비해 연구자의 주관적 가치가 개입될 가능성이 크다.
- ④ B는 A와 달리 연구 대상자와의 언어적 상호작용이 필수적이다.
- ⑤ A와 B는 모두 일반화를 목표로 하는 연구에 주로 사용된다.

3. 다음 글에 나타난 개인과 사회의 관계를 바라보는 관점에 부합하는 진술만을 <보기>에서 고른 것은? [3점]

사회는 잘 비벼진 비빔밥, 개개인은 그 비빔밥의 재료들에 비유할 수 있다. 잘 비벼진 비빔밥은 개별 재료의 맛과 향을 넘어서는 특별한 풍미를 가지고 있다. 이와 마찬가지로 사회는 개개인의 특성을 초월한 고유의 특성을 지닌다.

< 보 기 >

ㄱ. 사회는 개인의 외부에 실재한다.
 ㄴ. 사회의 속성은 개개인의 속성으로 환원될 수 없다.
 ㄷ. 개인의 자율성이 사회 규범의 구속성보다 우선한다.
 ㄹ. 사회는 개인의 이익을 실현하기 위한 수단에 불과하다.

- ① ㄱ, ㄴ ② ㄱ, ㄷ ③ ㄴ, ㄷ ④ ㄴ, ㄹ ⑤ ㄷ, ㄹ

4. 밑줄 친 ㉠, ㉡에 대한 설명으로 옳은 것은?

○ 갑국 시민들은 이번 월드컵 기간에 대형 스크린이 설치된 광장에 모여 ㉠ 자국 팀을 응원하였다.
 ○ 을국 시민들은 자국의 남성 중심 문화를 타파하기 위해 시민 단체를 조직하여 ㉡ 여성 권리 향상 운동을 전개하였다.

- ① ㉠은 자발적 집단 행동이 아니다.
- ② ㉡은 활동을 정당화하는 신념을 바탕으로 한다.
- ③ ㉠은 ㉡과 달리 사회 구조의 변화를 목표로 한다.
- ④ ㉡은 ㉠과 달리 기존 사회 질서의 유지를 목표로 한다.
- ⑤ ㉠과 ㉡은 모두 체계적인 조직을 바탕으로 한 사회 운동이다.

5. 다음의 게임 상황에 대한 옳은 분석만을 <보기>에서 고른 것은? [3점]

간단한 컴퓨터 게임으로 '사회·문화 현상을 바라보는 관점'에 대해 복습하고자 한다.

[게임 방법] 두 사람이 흰색 돌과 검은색 돌 중 하나를 자기 돌로 선택하고 그 돌을 가로, 세로, 대각선의 방향 중 하나로 4개를 이어 붙여 놓으면 승리한다. 두 사람이 교대로 한 번씩 자기 돌을 놓을 기회가 있는데, 원하는 위치의 번호를 클릭 후 팝업창에 올라오는 진술이 기능론에 해당하면 ㉠, 갈등론에 해당하면 ㉡, 상징적 상호작용론에 해당하면 ㉢ 버튼을 눌러야만 그 번호에 자기 돌이 놓인다.

[현재 게임 상황] 갑은 검은색 돌, 을은 흰색 돌을 선택하였으며 각각 돌을 놓을 세 차례의 기회를 가졌었고, 현재 게임판에서 돌의 배치 상황은 오른쪽과 같다. 이번 차례에서 팝업창은 아래 A~C 중 하나가 나타난다.

1	2	3	4	5	6
7	8	9	10	●	12
13	14	○	●	17	18
19	20	●	22	23	24
25	26	27	28	29	30

A	B	C
집단 간 대립 구조는 사회 변동의 원동력이다. ㉠ ㉡ ㉢	인간은 상황 정의에 기초하여 능동적으로 행동한다. ㉠ ㉡ ㉢	사회 규범은 사회 전체의 합의에 따라 형성된다. ㉠ ㉡ ㉢

< 보 기 >

ㄱ. 팝업창이 A일 경우 ㉢ 버튼을 누르면 돌을 놓을 수 없다.
 ㄴ. 팝업창이 B일 경우 ㉡ 버튼을 눌러야만 돌을 놓을 수 있다.
 ㄷ. 이번이 갑의 차례이고 6번 위치를 클릭 후 팝업창 B가 나타나 ㉢ 버튼을 누르면 갑은 승리한다.
 ㄹ. 이번이 을의 차례이고 26번 위치를 클릭 후 팝업창 C가 나타나 ㉠ 버튼을 누르면 을은 갑이 바로 다음번 차례에서 승리할 기회를 차단한다.

- ① ㄱ, ㄴ ② ㄱ, ㄷ ③ ㄴ, ㄷ ④ ㄴ, ㄹ ⑤ ㄷ, ㄹ

6. (가)와 달리 (나)에만 부각된 문화의 속성에 대한 진술로 옳은 것은?

(가) 갑국에서는 자기보다 나이가 많은 사람에게 존칭을 사용하는 문화가 존재하는데, 이웃 나라 사람들은 이러한 모습을 의아해한다.
 (나) 최근 을국의 대학에서는 예전과 달리 선배를 ‘선배님’ 대신 이름 뒤에 ‘씨’, ‘님’ 등을 붙여 부르는 문화가 형성되었다. 을국의 기성세대는 이러한 문화를 낯설어한다.

- ① 문화는 상징을 통해 후천적으로 학습된다.
- ② 문화는 세대 간 전승을 통해 점차 풍부해진다.
- ③ 문화는 시간이 흐름에 따라 그 내용과 형태가 변화한다.
- ④ 문화는 타인의 행동을 예측하고 이해할 수 있게 해 준다.
- ⑤ 문화 요소들은 서로 관련을 맺으며 하나의 체계를 형성한다.

7. 다음 자료의 갑, 을에 대한 설명으로 옳은 것은?

○ 갑은 국민 대다수가 ○○ 종교를 믿는 A국에서 △△ 종교를 믿는다는 이유로 차별을 받고 있다. 갑은 △△ 종교 신도들과 함께 차별 철폐를 위한 SNS 활동을 하고 있다.
 ○ 을은 소수의 백인들이 지배하는 B국에서 흑인이라는 이유로 차별을 받고 있다. 을은 B국의 인종 차별적인 제도를 폐지하기 위해 시민 단체 활동을 하고 있다.

- ① 갑은 을과 달리 사회적 소수자에 해당한다.
- ② 갑은 을과 달리 주류 집단에 의한 차별을 경험하고 있다.
- ③ 을은 갑과 달리 역차별 문제를 제기할 것이다.
- ④ 을은 갑과 달리 후천적 요인에 의해 차별을 받고 있다.
- ⑤ 갑과 을은 모두 차별을 해소하고자 노력하고 있다.

8. 다음 자료에 대한 설명으로 옳은 것은? [3점]

표는 질문에 대한 답변을 통해 문화 접변의 양상 A~C를 구분한 것이다. A~C는 각각 문화 동화, 문화 병존, 문화 융합 중 하나이다.

질문	답변
A는 B와 달리 자기 문화의 정체성이 상실되는가?	예
B는 C와 달리 자기 문화와 외래문화가 결합하여 새로운 문화가 형성되는가?	아니요
(가)	예

- ① A는 문화 병존이다.
- ② B는 A와 달리 자기 문화가 외래문화로 대체되는 현상이다.
- ③ C는 B와 달리 외재적 요인에 의한 문화 변동이다.
- ④ (가)에 ‘B는 C와 달리 자기 문화와 외래문화가 나란히 존재하는가?’가 들어갈 수 있다.
- ⑤ (가)에 ‘C는 B와 달리 기존 사회의 구성원이 새로운 문화를 향유하는가?’가 들어갈 수 있다.

9. 다음 자료에 대한 옳은 설명만을 <보기>에서 있는 대로 고른 것은? [3점]

갑은 청소년의 ㉠ 자존감에 ㉡ 부모 지지 및 ㉢ 또래 지지가 미치는 영향을 파악하고자 청소년 1,000명을 대상으로 연구하였다. 자존감의 정도, 부모 지지의 정도, 또래 지지의 정도는 각각 관련 질문들로 구성된 설문지를 통해 지수화하여 측정하였다. 자존감의 정도에 따라 자존감이 ㉣ 높은 집단과 ㉤ 낮은 집단으로 구분하고, 부모 지지와 또래 지지는 그 정도를 ‘강함’과 ‘약함’으로 분류하여 아래 표와 같은 정보를 얻었다. 갑은 이를 토대로 청소년의 자존감을 높이기 위해서는 (가) 라는 판단을 내렸다.

(단위: 명)

구분	자존감의 정도	부모 지지의 정도		또래 지지의 정도	
		강함	약함	강함	약함
자존감의 정도	높음	400	100	250	250
	낮음	0	500	150	350

< 보 기 >

㉠. ㉠은 종속 변인, ㉡과 ㉢은 독립 변인에 해당한다.
 ㉣. ㉠~㉣에 대해 모두 조작적 정의가 이루어졌다.
 ㉤. ㉣은 실험 집단, ㉤은 통제 집단이다.
 ㉥. (가)에는 ‘부모 지지보다 또래 지지를 강화하는 것이 더 효과적이다.’가 들어갈 수 있다.

- ① ㉠, ㉣ ② ㉠, ㉣ ③ ㉣, ㉤
- ④ ㉠, ㉣, ㉤ ⑤ ㉣, ㉤, ㉥

10. 다음 자료에 대한 옳은 분석만을 <보기>에서 있는 대로 고른 것은? [3점]

표는 갑국의 직종별, 시기별 임금 성비를 나타낸 것이다. 임금 성비는 ‘(여성 평균 임금/남성 평균 임금)×100’으로 계산한다. 갑국은 A, B 직종 외에도 다양한 직종이 존재한다.

구분	t년	t+10년	t+20년
전체 직종	60	70	80
A 직종	50	50	50
B 직종	50	70	100

< 보 기 >

㉠. 전체 직종에서 여성 평균 임금은 10년마다 10%씩 상승하였다.
 ㉡. t년에 A 직종에서 여성 평균 임금이 400만 원이라면 남성 평균 임금은 200만 원이다.
 ㉢. t+10년에 A, B 직종의 여성 평균 임금이 같다면 남성 평균 임금은 B 직종보다 A 직종에서 높다.
 ㉣. t+20년에 B 직종에서 남성과 여성의 평균 임금은 같다.

- ① ㉠, ㉣ ② ㉠, ㉣ ③ ㉣, ㉤
- ④ ㉠, ㉣, ㉤ ⑤ ㉣, ㉤, ㉥

11. 밑줄 친 ㉠~㉣에 대한 옳은 설명만을 <보기>에서 고른 것은?

A국 국왕의 ㉠장남으로 태어난 갑은 ㉡아버지가 사망함에 따라 A국의 왕위에 올라 정치적 영향력을 행사하였다. 한편, 중산층 가정에서 태어나 ㉢대학교에서 정치학을 전공하면서 정치인의 꿈을 가지게 된 을은 ㉣정당에 가입하여 활동하다가 A국 최초의 여성 총리가 되었다. 을은 몇 가지 정치적 사안을 두고 갑과 ㉤갈등을 빚기도 하였지만 국민들로부터 ㉥훌륭한 여성 정치인으로 인정받고 있다.

< 보 기 >
ㄱ. ㉠은 ㉡과 달리 귀속 지위이다.
ㄴ. ㉢은 ㉣과 달리 비공식적 사회화 기관이다.
ㄷ. ㉤은 을의 역할 갈등에 해당한다.
ㄹ. ㉥은 을의 역할에 대한 보상이다.

- ① ㄱ, ㄴ ② ㄱ, ㄷ ③ ㄴ, ㄷ ④ ㄴ, ㄹ ⑤ ㄷ, ㄹ

12. 다음 자료에 대한 설명으로 옳은 것은? (단, 갑국의 모든 가구는 그 구성원 수가 동일함.) [3점]

갑국에서는 가구 소득이 ㉠최저 생계비에 미치지 못하는 가구를 ㉡절대적 빈곤 가구로 파악하고, 가구 소득이 ㉢중위 소득의 50%에 미치지 못하는 가구를 ㉣상대적 빈곤 가구로 파악한다. 2022년에 갑국에서 가구 소득을 조사한 결과 절대적 빈곤 가구에는 해당하지 않지만 상대적 빈곤 가구에는 해당하는 가구가 전체 가구 중에서는 10%, 상대적 빈곤 가구 중에서는 20%로 나타났다.

- ① 2022년에 ㉠은 ㉢보다 높다.
② ㉡은 ㉣과 달리 객관적인 기준에 의해 파악된다.
③ 2022년에 ㉢의 80%는 ㉡에도 해당한다.
④ 저개발 국가에서는 ㉢이, 선진국에서는 ㉡이 나타나지 않는다.
⑤ 2022년에 ㉡, ㉣ 중 어디에도 해당하지 않는 가구 수가 ㉢에 해당하는 가구 수보다 많다.

13. 다음은 일탈 행동을 설명하는 특정 이론에 근거하여 A국의 상황을 분석한 것이다. 이 이론에 대한 설명으로 옳은 것은?

A국에서 물질적 성공은 대부분의 사람들이 추구하는 목표이다. 그런데 A국에는 그러한 목표를 달성할 수 있는 합법적 기회가 제한된 사람들도 있다. 이들은 물질적 성공을 위해 불법적 방법이라도 시도해야 한다는 압력을 느끼게 되어 절도, 사기 등의 범죄까지 저지르게 된다.

- ① 일탈 행동을 규정하는 객관적 기준이 없다고 본다.
② 1차적 일탈이 2차적 일탈로 이어지는 과정에 주목한다.
③ 일탈에 대한 대책으로 정상 집단과의 교류 촉진을 제시한다.
④ 일탈 행동이 타인과의 상호 작용 과정에서 학습된다고 본다.
⑤ 문화적 목표와 제도적 수단 사이의 괴리로 인해 일탈 행동이 발생한다고 본다.

14. 다음의 수행평가에서 2점을 얻을 수 있는 학생만을 있는 대로 고른 것은?

§ 수행평가 §
㉠과 ㉡을 비교하여 한 문장으로 서술하시오. (단, 문장 안에 ㉠, ㉡ 중 하나라도 사용되지 않았을 경우 1점을 감점함.) [2점]

과거 갑국 사람들은 주변국들을 모두 야만족으로 취급하였고, 자국을 세상의 중심으로 보며 자기 문화를 최고로 여겼다. 이러한 문화 이해 태도는 ㉢에 해당한다. 그러나 오늘날 갑국 사람들은 과거와 달리 다른 나라의 문화와 그 가치도 존중하는 태도를 가지고 있다. 이러한 문화 이해의 태도는 ㉣에 해당한다.

----- 학생 답안 -----
갑: ㉡은 인류의 문화 다양성 보존에 기여한다.
을: ㉠은 ㉡과 달리 타문화에 대한 차별적 편견을 가진다.
병: ㉡은 ㉠과 달리 문화를 우열 평가가 아닌 이해의 대상으로 본다.
정: ㉠과 ㉡은 모두 국수주의에 빠질 우려가 크다.

- ① 갑, 을 ② 갑, 정 ③ 을, 병
④ 갑, 병, 정 ⑤ 을, 병, 정

15. 다음 자료에 대한 분석으로 옳은 것은? (단, 갑국의 사회 보장 제도는 우리나라의 사회 보장 제도와 동일함.) [3점]

<자료 1> 갑국의 사회 보장 제도 A~C에 대한 정보

A, B, C는 각각 공공 부조, 사회 보험, 사회 서비스 중 하나이다. '금전적 지원을 원칙으로 하는가?'는 B를 A, C와 구분할 수 있는 질문이며, C는 A와 달리 정부 재정으로 비용을 전액 충당하는 것을 원칙으로 한다.

<자료 2> 갑국의 (가), (나) 지역 A~C 제도 수혜자 비율 (단위: %)

구분	(가) 지역			(나) 지역		
	남성	여성	전체	남성	여성	전체
A	80	60	75	80	60	70
B	47	51	48	48	50	49
C	10	14	11	10	8	9

* (가) 지역과 (나) 지역의 총인구는 동일함.
* 해당 지역 남성(여성) 수혜자 비율(%) = $\frac{\text{해당 지역 남성(여성) 수혜자 수}}{\text{해당 지역 남성(여성) 인구}} \times 100$

- ① 비금전적 지원을 원칙으로 하는 제도의 남성 수혜자 수는 (나) 지역이 (가) 지역보다 많다.
② 상호 부조의 원리가 적용되는 제도의 수혜자 수는 (가) 지역이 (나) 지역보다 적다.
③ 여성의 경우 사회 보험의 수혜자 비율 대비 공공 부조의 수혜자 비율은 (나) 지역이 (가) 지역보다 크다.
④ 강제 가입의 원칙이 적용되는 제도의 경우 여성 수혜자 수 대비 남성 수혜자 수는 (나) 지역이 (가) 지역보다 작다.
⑤ 금전적 지원을 원칙으로 하며 사후 처방적 성격이 강한 제도의 경우 성별 수혜자 수 차이는 (가), (나) 지역이 같다.

16. 다음 글에 나타난 사회 변동의 방향에 대한 이론적 관점에 부합하는 진술만을 <보기>에서 고른 것은?

사회는 일반적으로 '군사형 사회'에서 '산업형 사회'로 발전해 간다. '군사형 사회'는 강제적인 협동을 바탕으로 조직된 사회로, 전제적인 중앙 집권적 사회이다. 반면 '산업형 사회'는 자발적인 협동을 기반으로 조직된 사회로, 개인 행위에 대한 정치적 통제가 한정된 민주적 정부를 가지며 '군사형 사회'에 비해 더 분화되고 다원화된 사회이다.

- < 보 기 >
- ㄱ. 사회는 일정한 방향으로 진보한다.
 - ㄴ. 사회는 쇠퇴와 멸망의 과정을 거치기 마련이다.
 - ㄷ. 사회는 단순한 형태에서 복잡한 형태로 변동한다.
 - ㄹ. 사회 변동은 동일한 과정이 주기적으로 반복되는 것이다.

- ① ㄱ, ㄴ ② ㄱ, ㄷ ③ ㄴ, ㄷ ④ ㄴ, ㄹ ⑤ ㄷ, ㄹ

17. 다음 자료에 대한 설명으로 옳은 것은? [3점]

표는 갑국에서 △△문화가 t 시기 ~ t+2 시기에 A~C 중 무엇에 해당하는지를 나타낸 것이다. A~C는 각각 반문화, 주류 문화, 하위문화 중 하나이다.

구분	t 시기	t+1 시기	t+2 시기
A	○	○	×
B	○	×	×
C	×	×	○

* ○: 해당함, ×: 해당하지 않음.

- ① 모든 A는 B에 해당한다.
- ② C는 A와 B의 총합으로 구성된다.
- ③ t 시기에 △△문화를 향유하는 사람은 C를 향유하지 않는다.
- ④ t+1 시기에 △△문화는 반문화에 해당하지 않는 하위문화이다.
- ⑤ t+2 시기에 △△문화는 갑국의 지배적 문화에 저항하는 성격을 가진다.

18. 밑줄 친 ㉠~㉣에 대한 설명으로 옳은 것은?

○○고등학교 '동문의 밤' 행사는 ㉠□□기업 부사장이자 총동문회장인 갑의 축사로 시작하였다. ㉡가족과 함께 행사에 참여한 졸업생 을은 "㉢회사 내 동문 산악회를 만들어 모임을 가져온 것이 전부였는데, 그동안 못했던 총동문회를 이제 할 수 있게 되어 기쁘다."라고 소감을 밝혔다. 한편, 이번 '동문의 밤'에서 진행된 바자회의 수익금은 ㉣△△환경 단체에 기부하기로 하였다.

- ① ㉠은 ㉡과 달리 1차 집단이다.
- ② ㉢은 ㉣과 달리 자발적 결사체이다.
- ③ ㉣은 ㉢과 달리 을의 내집단이다.
- ④ ㉡과 ㉣은 모두 비공식 조직이다.
- ⑤ ㉠, ㉢, ㉣은 모두 이익 사회이다.

19. 다음 자료에 대한 옳은 분석만을 <보기>에서 고른 것은? [3점]

(가)는 t년, (나)는 t+100년에 갑국의 자녀 세대를 전수 조사하여 세대 간 계층 이동 현황을 나타낸 것이다. 계층은 상층, 중층, 하층으로만 구분된다.

(가)

구분	부모 세대		
	상층	중층	하층
자녀 세대	상층	■	■
	중층	■	■
	하층	■	■

(나)

구분	부모 세대		
	상층	중층	하층
자녀 세대	상층	■	■
	중층	■	■
	하층	■	■

* ■의 면적은 해당 계층에 속한 사람 수를 나타낸 것이며, 각 ■의 면적은 (가), (나) 모두에서 동일함.

- < 보 기 >
- ㄱ. (가)는 세대 간 이동이 계층 대물림보다 많다.
 - ㄴ. (나)는 세대 간 하강 이동이 세대 간 상승 이동보다 적다.
 - ㄷ. (나)에서 자녀 세대의 인구는 (가)의 2배이다.
 - ㄹ. (가)와 (나) 모두 자녀 세대에서는 다이아몬드형 계층 구조가 나타난다.

- ① ㄱ, ㄴ ② ㄱ, ㄷ ③ ㄴ, ㄷ ④ ㄴ, ㄹ ⑤ ㄷ, ㄹ

20. 다음 자료에 대한 분석으로 옳은 것은? [3점]

표는 갑국의 유소년 인구 비율과 유소년 부양비를 나타낸 것이다. 갑국의 총인구는 t+30년은 t년에 비해 20% 증가하였고, t+60년은 t년에 비해 20% 감소하였다.

구분	t년	t+30년	t+60년
유소년 인구 비율(%)	30	20	10
유소년 부양비	50	40	25

* 유소년 인구 비율(%) = $\frac{\text{유소년 인구}(0 \sim 14\text{세 인구})}{\text{총인구}} \times 100$
 * 유소년 부양비 = $\frac{\text{유소년 인구}(0 \sim 14\text{세 인구})}{\text{부양 인구}(15 \sim 64\text{세 인구})} \times 100$
 * 노년 부양비 = $\frac{\text{노년 인구}(65\text{세 이상 인구})}{\text{부양 인구}(15 \sim 64\text{세 인구})} \times 100$

- ① 부양 인구는 t년이 t+30년보다 많다.
- ② 노년 인구는 t+60년이 t년의 5배이다.
- ③ 노년 부양비는 t+60년이 t+30년보다 작다.
- ④ t+30년 총인구 중 부양 인구의 비율은 t+60년 총인구 중 노년 인구의 비율과 같다.
- ⑤ t년 대비 t+30년에 증가한 노년 인구는 t+30년 대비 t+60년에 감소한 유소년 인구보다 작다.

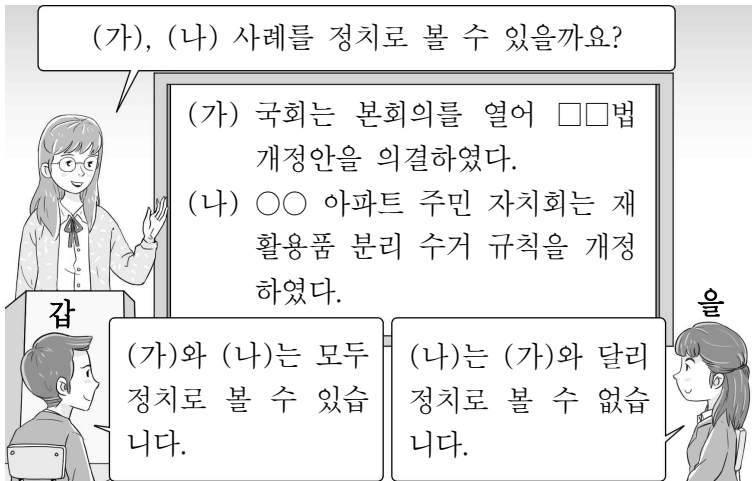
* 확인 사항
 ○ 답안지의 해당란에 필요한 내용을 정확히 기입(표기)했는지 확인하십시오.

제 4 교시

사회탐구 영역(정치와 법)

성명		수험번호				3				제 () 선택
----	--	------	--	--	--	---	--	--	--	----------

1. 정치를 바라보는 갑, 을의 관점에 대한 설명으로 옳은 것은?



- ① 갑의 관점은 국가 주도의 정치 현상을 설명할 수 없다.
- ② 을의 관점은 다원화된 현대 사회의 정치 현상을 설명하기에 적합하다.
- ③ 갑의 관점은 을의 관점과 달리 국가 형성 이전에 나타난 정치 현상을 설명하기에 적합하다.
- ④ 을의 관점은 갑의 관점과 달리 정치를 통해 사회적 갈등이 해결된다고 본다.
- ⑤ 갑의 관점과 을의 관점은 모두 소수 통치 엘리트에 의해서만 정치가 이루어진다고 본다.

2. 민법의 기본 원칙 A에 부합하는 진술로 옳은 것은?

△ △ 신문

○○ 공기업이 토지에 소금을 살포하여 지하수가 오염되었고 이로 인해 꽃이 죽었다며 인근 화훼 농가들이 손해 배상을 청구하였다. 법원은 농가가 입은 피해에 대해 ○○ 공기업이 배상해야 한다고 판결하였다. 이는 민법의 기본 원칙 A가 반영된 환경 정책 기본법에 근거한 것이다.

▷ 법률 상식 코너: 환경 정책 기본법은 환경 오염 또는 환경 훼손으로 피해가 발생한 경우에 해당 환경 오염 또는 환경 훼손의 원인자가 그 피해를 배상하도록 규정하고 있다.

- ① 현저히 공정성을 잃은 계약은 효력이 인정되지 않는다.
- ② 국가는 개인 소유 재산에 대한 사적 지배를 인정해야 한다.
- ③ 가해자는 고의 또는 과실이 인정되는 경우에만 손해 배상 책임을 진다.
- ④ 개인은 자신이 소유한 재산을 공공의 이익에 부합하도록 사용해야 한다.
- ⑤ 고의나 과실이 없더라도 타인에게 피해를 준 경우 일정한 요건에 따라 손해 배상 책임을 져야 한다.

3. 법치주의의 유형 A, B에 대한 설명으로 옳은 것은?

법치주의는 의회에서 제정한 법에 따른 통치 방식을 의미하며, 그 유형에는 A와 B가 있다. A는 법 제정 과정에서의 절차적 합법성만을 중시하지만 B는 절차적 합법성뿐만 아니라 법의 목적과 내용이 정의에 부합할 것을 강조한다.

- ① A는 법의 지배가 아닌 사람의 지배를 강조한다.
- ② B는 합법적 독재의 수단으로 악용될 수 있다는 비판을 받는다.
- ③ A는 B와 달리 위헌 법률 심사제의 필요성을 강조한다.
- ④ B는 A와 달리 국가 권력의 자의적 행사 방지를 중시한다.
- ⑤ A와 B는 모두 국민의 기본권을 제한할 때 법에 근거를 두어야 한다고 본다.

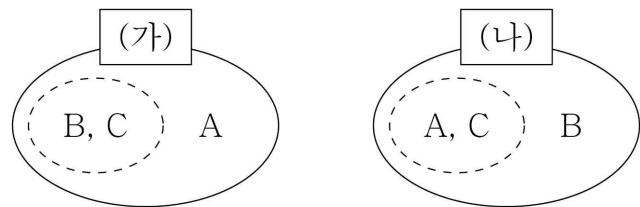
4. 우리나라 헌법의 기본 원리 A, B에 대한 설명으로 옳은 것은?

구분	관련 헌법 조항
A	모든 국민은 근로의 권리를 가진다. 국가는...(중략)... 최저 임금제를 시행하여야 한다.
B	외국인은 국제법과 조약이 정하는 바에 의하여 그 지위가 보장된다.

- ① A는 현대 복지 국가 헌법에서부터 강조된 원리이다.
- ② A를 실현하기 위해서는 국가의 소극적 역할이 요구된다.
- ③ 대통령 선거에서 재외 국민에게 선거권을 부여하는 것은 B의 실현 방안이다.
- ④ 사회 보장 제도의 실시는 A가 아닌 B의 실현 방안이다.
- ⑤ 침략적 전쟁을 부인하는 것은 B가 아닌 A의 실현 방안이다.

5. 다음 자료는 질문 (가), (나)에 대해 같은 응답을 할 수 있는 기본권 유형끼리 묶은 것이다. 이에 대한 설명으로 옳은 것은? (단, A~C는 각각 사회권, 자유권, 청구권 중 하나임.) [3점]

(가) 인간다운 생활 보장을 국가에 요구할 수 있는 권리인가?
(나) 국가의 존재를 전제로 인정되는 권리인가?



- ① (가)에 대한 A의 응답과 (나)에 대한 B의 응답은 모두 '예'이다.
- ② C는 역사적으로 가장 오래된 기본권이다.
- ③ A는 B와 달리 헌법에 열거되어야 보장되는 권리이다.
- ④ B는 C와 달리 다른 기본권 보장의 전제가 되는 권리이다.
- ⑤ C는 A와 달리 적극적 권리이다.

6. 밑줄 친 ㉠~㉣에 대한 설명으로 옳은 것은?

갑은 특정 범죄를 저질러 형이 확정된 사람은 일반직 공무원으로 임용될 수 없도록 한 국가 공무원법 해당 조항이 ㉠공무 담임권을 침해한다며 위헌 법률 심판의 제청 신청 없이 ㉡헌법 소원 심판을 청구하였다. ㉢헌법 재판소는 국가 공무원법 해당 조항이 헌법에 위반된다고 판단하였다.

- ① ㉠은 다른 기본권 보장을 위한 수단적 권리에 해당한다.
- ② ㉡은 권리 구제형 헌법 소원 심판이다.
- ③ 국민뿐만 아니라 법원도 ㉢의 청구권자이다.
- ④ ㉢은 국정 감사권을 갖는다.
- ⑤ ㉢의 구성원은 모두 국회의 동의를 얻어 대통령이 임명한다.

7. 다음 자료에 대한 설명으로 옳은 것은? [3점]

전형적인 정부 형태의 특징을 이해했는지 확인하기 위한 활동에서 갑~병은 아래 표와 같이 각각 2장의 카드를 배부 받았다. 그리고 갑은 을의 카드를, 을은 병의 카드를, 병은 갑의 카드를 동시에 1장만 가져갔다. 이후 갑~병이 각각 가진 2장의 카드 점수를 합산해 보니 갑은 2점, 을은 3점, 병은 ㉠이었다. 단, 각 카드 내용이 전형적인 대통령제에만 해당하면 1점, 전형적인 의원 내각제에만 해당하면 2점, 두 정부 형태에 모두 해당하면 3점이다.

<갑~병이 배부받은 카드>

구분	첫 번째 카드	두 번째 카드
갑	행정부 수반은 법률안 거부권을 행사할 수 있다.	국가 원수와 행정부 수반은 동일인이다.
을	의회 의원은 각료를 겸직할 수 없다.	의회는 행정부에 대해 불신임권을 행사할 수 있다.
병	국민이 의회 의원을 선거로 선출한다.	국민이 행정부 수반을 선거로 선출한다.

- ① ㉠에는 '3점'이 들어간다.
- ② 의원 내각제에만 해당하는 내용의 카드는 2장이다.
- ③ 갑은 을이 배부받은 카드 중 두 번째 카드를 가져갔다.
- ④ 을, 병이 가져간 카드의 내용은 모두 대통령제에만 해당한다.
- ⑤ 갑은 을, 병과 달리 카드를 가져가기 전과 후의 점수가 같다.

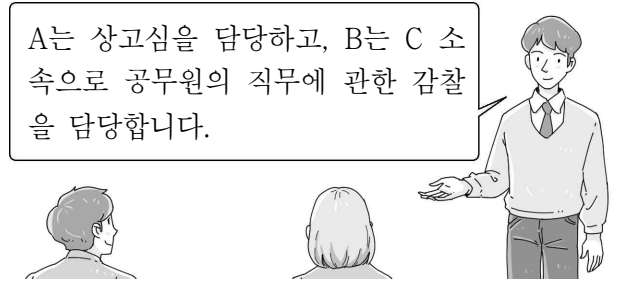
8. 밑줄 친 ㉠~㉣에 대한 설명으로 옳은 것은?

○ 탄소 중립 선도를 공언한 ○○도의 '㉠정의로운 전환 기본 조례'가 ㉡○○도의회에서 의결되었다.
○ □□시 주민들은 그들의 이익에 반하는 정부의 주택 공급 정책에 대해 ㉢□□시장이 적극적으로 반대하지 않은 책임을 져야 한다며 ㉣□□시장을 임기 중 주민의 투표에 의해 해임할 수 있는 제도를 활용하려고 한다.

- ① ㉡은 지방 자치 단체의 집행 기관이다.
- ② ㉢은 지방 자치 단체 예산의 심의·확정권을 갖는다.
- ③ ㉣은 직접 민주 정치 요소를 가진 제도이다.
- ④ ㉠은 ㉡의 의결을 거친 후 주민 투표로 확정된다.
- ⑤ ㉡의 구성원은 ㉢과 달리 단순 다수 대표제로 선출된다.

9. 우리나라 헌법 기관 A~C에 대한 옳은 설명만을 <보기>에서 고른 것은?

A는 상고심을 담당하고, B는 C 소속으로 공무원의 직무에 관한 감찰을 담당합니다.



< 보기 >

- ㄱ. A는 위헌·위법한 명령, 규칙, 처분에 대한 최종 심사권을 갖는다.
- ㄴ. B는 국가 세입·세출의 결산 검사권을 갖는다.
- ㄷ. B의 장(長)은 C와 달리 탄핵 소추의 대상이 된다.
- ㄹ. B의 장(長)은 A의 장(長)과 달리 C가 임명한다.

- ① ㄱ, ㄴ ② ㄱ, ㄷ ③ ㄴ, ㄷ ④ ㄴ, ㄹ ⑤ ㄷ, ㄹ

10. 밑줄 친 ㉠, ㉡의 근거로 옳은 것은? [3점]

○ 갑의 변호인은 갑(16세)이 A를 폭행할 당시 사고 능력 등이 완전히 결여된 심신 상실의 상태였음을 주장했고, 법원은 이를 받아들여 ㉠갑에게 무죄를 선고하였다.
○ 을(30세)은 B가 차량을 가로막고 흉기로 위협을 가해 어쩔 수 없이 경찰서로 가기 위해 음주 운전을 했다고 주장했고, 법원은 이를 받아들여 ㉡을에게 무죄를 선고하였다.

- ① ㉠ - 범죄의 구성 요건에 해당하지 않는다.
- ② ㉠ - 정당 행위에 해당하여 위법성이 조각된다.
- ③ ㉠ - 형사 미성년자의 행위로 책임이 조각된다.
- ④ ㉡ - 긴급 피난에 해당하여 위법성이 조각된다.
- ⑤ ㉡ - 범죄의 구성 요건에 해당하지 않는다.

11. 밑줄 친 ㉠~㉣에 대한 설명으로 옳은 것은? [3점]

법원은 A를 폭행한 갑에게 ㉠징역 1년 6월에 ㉡집행 유예 3년, ㉢보호 관찰 3년을 선고하였다. 그러나 갑은 집행 유예 기간 동안 고의로 소재를 감추는 등 보호 관찰관의 지도·감독에 불응하였다. 이에 ○○ 보호 관찰소장은 검사에게 집행 유예 취소의 청구를 신청하였고, ㉣검사는 법원에 ㉤집행 유예 취소를 청구하였다.

- ① ㉠은 노역이 부과되지 않는 자유형이다.
- ② ㉡은 피고인의 무죄를 인정하는 선고 유형이다.
- ③ ㉢은 범죄에 대한 예방이 아닌 응보가 목적이다.
- ④ ㉣은 형의 집행을 지휘한다.
- ⑤ ㉤이 받아들여지면 ㉣은 갑을 기소한다.

12. (가)~(라)에 들어갈 수 있는 내용만을 <보기>에서 고른 것은? [3점]

<수행 평가> 사례에 대한 법적 판단을 각각 2가지씩 서술하십시오. (단, 법적 판단이 옳으면 1점, 옳지 않으면 0점임.)

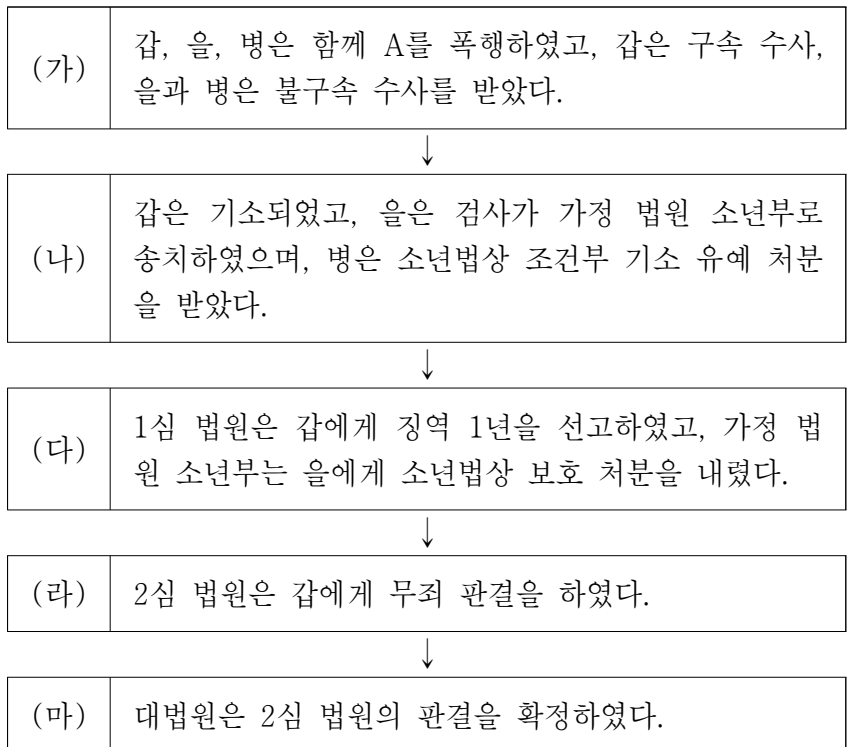
사례	법적 판단 내용	점수
갑(17세)은 법정 대리인의 동의를 얻지 않고 고가의 자전거를 구매하는 계약을 판매업자 A와 체결하였다.	(가)	1점
	(나)	0점
을(17세)은 위조한 법정 대리인의 동의서를 제시하였고, 이를 믿은 판매업자 B는 고가의 자전거를 판매하는 계약을 을과 체결하였다.	(다)	0점
	(라)	1점

< 보 기 >

ㄱ. (가) - 갑은 계약을 취소할 수 있다.
 ㄴ. (나) - A는 갑에게 확답을 촉구할 권리를 행사할 수 있다.
 ㄷ. (다) - B는 을에게 철회권을 행사할 수 없다.
 ㄹ. (라) - 을의 법정 대리인은 계약을 취소할 수 있다.

- ① ㄱ, ㄴ ② ㄱ, ㄷ ③ ㄴ, ㄷ ④ ㄴ, ㄹ ⑤ ㄷ, ㄹ

13. 형사 절차 (가)~(마)에 대한 설명으로 옳은 것은? [3점]



- ① (가)에서 을, 병은 갑과 달리 구속 적부 심사를 받았다.
 ② (나)에서 갑, 을의 연령은 병과 달리 14세 이상이다.
 ③ (다)에서 갑과 을은 모두 형벌을 선고받았다.
 ④ (라)의 판결에 대해 상고한 재판 당사자는 갑이다.
 ⑤ (마) 이후 갑은 형사 보상을 청구할 수 있다.

14. 다음 사례에 대한 법적 판단으로 옳은 것은? [3점]

고등학생 갑(17세)은 을이 운영하는 주유소에서 부모의 허락을 받고 주유 아르바이트를 하다가 실수로 병의 차에 휘발유 대신 경유를 주유하였다. 병의 차는 얼마 가지 못해 멈추었고 정비업체로 견인되었다. 정비업체 사장은 병에게 휘발유 대신 경유가 주유되었기 때문에 차가 멈추었다고 알려주었다. 이에 병은 손해 배상 책임을 묻기로 하였다.

- ① 갑의 행위는 고의가 없으므로 불법 행위로 성립하지 않는다.
 ② 갑의 행위가 불법 행위로 성립하면 을은 일반 불법 행위 책임을 진다.
 ③ 을에게 사용자의 배상 책임이 인정되더라도 병은 갑에게 손해 배상 책임을 물을 수 있다.
 ④ 병은 갑의 부모에게 특수 불법 행위 책임을 물을 수 있다.
 ⑤ 갑, 갑의 부모, 을은 공동 불법 행위자의 책임을 진다.

15. 표는 정치 참여 집단 A~C를 구분하기 위한 것이다. 이에 대한 옳은 설명만을 <보기>에서 고른 것은? (단, A~C는 각각 시민 단체, 이익 집단, 정당 중 하나임.)

질문	답변
A는 공익보다 집단의 특수 이익을 우선시하는가?	예
C는 B와 달리 정권 획득을 목적으로 하는가?	아니요

* 질문에 대한 답변은 모두 옳음.

< 보 기 >

ㄱ. A는 B와 달리 정치적 책임을 진다.
 ㄴ. B는 C와 달리 정부와 의회를 매개하는 역할을 수행한다.
 ㄷ. C는 A와 달리 공직 선거에서 후보자를 공천한다.
 ㄹ. A~C는 모두 정치 과정에서 투입 기능을 담당한다.

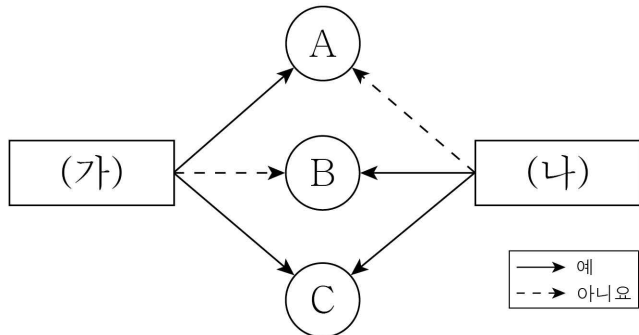
- ① ㄱ, ㄴ ② ㄱ, ㄷ ③ ㄴ, ㄷ ④ ㄴ, ㄹ ⑤ ㄷ, ㄹ

16. 국제법의 법원(法源) A~C에 대한 설명으로 옳은 것은? (단, A~C는 각각 국제 관습법, 법의 일반 원칙, 조약 중 하나임.)

교사: A~C 중 하나만 선택하여 설명해 보세요.
 갑: B는 주로 문서의 형식으로 존재합니다.
 을: C는 문명국들이 공통적으로 승인하여 따르는 법의 보편적인 원칙입니다.
 교사: 갑만 옳게 설명했네요.

- ① 우리나라에서 B의 체결·비준권은 국회의 권한이다.
 ② B는 원칙적으로 국제 사회에서 포괄적인 구속력을 갖는다.
 ③ C의 예로 국내 문제 불간섭을 들 수 있다.
 ④ A는 C와 달리 국제 사법 재판소의 재판 준거로 활용된다.
 ⑤ A~C는 모두 우리나라에서 헌법과 동등한 지위를 지닌다.

17. 다음 자료는 근로 계약과 관련하여 근로자 A~C를 구분한 것이다. 이에 대한 옳은 설명만을 <보기>에서 있는 대로 고른 것은? (단, A~C는 모두 중학교를 졸업했고, 연령은 각각 17세, 18세, 20세 중 하나임.) [3점]



< 보 기 >

ㄱ. (가)에 '사용자는 친권자 및 후견인의 동의를 사업장에 비치해 두어야 하는가?'가 들어갈 수 있다.

ㄴ. (가)에 '고용 노동부 장관이 발급한 취직 인허증이 있어야 근로가 가능한가?'가 들어갈 수 없다.

ㄷ. (나)에 '연장 근로 없이 1일 7시간을 초과하여 근로할 수 있는가?'가 들어가면 A는 17세이다.

ㄹ. (가)에 '법정 대리인의 동의를 얻어야 근로 계약이 가능한가?'가 들어가고 (나)에 '연장 근로는 1일 1시간을 초과할 수 있는가?'가 들어가면, C는 18세이다.

- ① ㄱ, ㄴ ② ㄱ, ㄹ ③ ㄴ, ㄷ
 ④ ㄱ, ㄷ, ㄹ ⑤ ㄴ, ㄷ, ㄹ

18. 국제 연합의 주요 기관 A~C에 대한 질문에 모두 옳게 응답한 학생은? (단, A~C는 각각 국제 사법 재판소, 안전 보장 이사회, 총회 중 하나임.) [3점]

'국제 연합의 사법 기관에 해당하는가?'라는 질문을 통해 A와 B를 구분할 수 있고, '국제 연합의 모든 회원국으로 구성되는가?'라는 질문을 통해 B와 C를 구분할 수 없다.

질문	학생					
	갑	을	병	정	무	
A는 국제 평화와 안전 유지에 관한 국제 연합의 실질적 의사 결정 기관인가?	×	×	×	○	○	
국가뿐만 아니라 개인도 B의 재판 당사자가 될 수 있는가?	○	×	×	○	○	
B는 A와 C에서 선출되는 15명의 재판관으로 구성되는가?	○	○	×	×	○	

(○: 예, ×: 아니요)

- ① 갑 ② 을 ③ 병 ④ 정 ⑤ 무

19. 밑줄 친 ㉠~㉣에 대한 설명으로 옳은 것은?

갑과 을은 ㉠ 혼인 신고 후 A를 낳았다. 1년 후 갑과 을은 ㉡ 재판상 이혼을 하였고 ㉢ A는 을이 양육하기로 하였다. 이혼 후 갑은 병과 ㉣ 혼인 신고를 한 상태에서 B를 친양자로 입양하였다. 2년 후 갑은 ㉤ 유언 없이 사망하였다.

- ① ㉠은 혼인의 실질적 요건에 해당한다.
 ② ㉡을 위해 갑과 을은 이혼 숙려 기간을 거쳤다.
 ③ ㉢으로 인해 갑과 A의 친자 관계가 종료된다.
 ④ ㉣으로 인해 B는 갑과 병의 혼인 외 출생자가 된다.
 ⑤ ㉤ 이후 병, A, B는 모두 갑의 재산을 상속받을 수 있다.

20. 다음 자료에 대한 분석 및 추론으로 옳은 것은? [3점]

갑국 의회는 지역구 의원 100명과 비례 대표 의원 100명으로 구성되며 유권자는 지역구 후보자와 정당에 각각 한 표씩 투표한다. 지역구 의원은 소선거구제로 선출되고, 비례 대표 의석 중 60석은 '60석×각 정당의 정당 득표율'로 산출된 수의 정수(整數)만큼 각 정당에 배분하고, 잔여 의석은 소수점 이하의 수가 큰 순서대로 각 정당에 1석씩 배분한다. 나머지 40석은 아래의 계산 방식에 의해 각 정당별로 배분한다.

각 정당의 비례 대표 의석수 = 40석 × (각 정당의 연동 배분 의석수 / 각 정당의 연동 배분 의석수의 합계)

* 각 정당의 연동 배분 의석수 = (200석 × 각 정당의 정당 득표율 - 각 정당의 지역구 의원 당선자 수) / 2

<최근 갑국 의회 의원 선거 결과>

구분	A당	B당	C당	D당	합계
정당 득표율(%)	36	32	22	10	100
지역구 의석수(석)	42	29	19	10	100

* 갑국에 무소속 의원은 없으며, 투표율은 100%임.

갑국은 의회 의원 선거 제도를 개편하려고 한다. 의회 의원 정수는 유지하고 지역구 의원은 현행대로 선출한다. 비례 대표 의석 100석은 아래의 계산 방식에 의해 각 정당별로 배분한다.

각 정당의 비례 대표 의석수 = 200석 × 각 정당의 정당 득표율 - 각 정당의 지역구 의원 당선자 수

개편안의 경우 최근 의회 의원 선거의 결과만을 근거로 판단한다.

- ① 갑국의 지역구 의원을 선출하는 선거구 수는 50개이다.
 ② 비례 대표 의석률은 현행과 달리 개편안에서 B당이 가장 높다.
 ③ D당의 의회 의석률은 현행보다 개편안에서 높다.
 ④ C당과 달리 A당은 현행보다 개편안이 유리하다.
 ⑤ 개편안에서 B당은 D당과 달리 과대 대표된다.

* 확인 사항

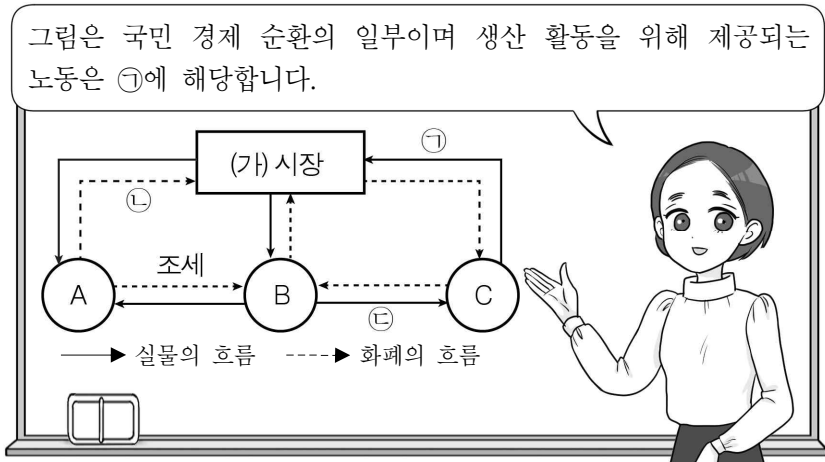
○ 답안지의 해당란에 필요한 내용을 정확히 기입(표기)했는지 확인하시오.

제 4 교시

사회탐구 영역(경제)

성명		수험번호				3				제 () 선택
----	--	------	--	--	--	---	--	--	--	----------

1. 다음 자료에 대한 설명으로 옳은 것은? (단, A~C는 각각 가계, 기업, 정부 중 하나임.) [3점]



- ① 재화는 (가) 시장에서 거래된다.
- ② A는 이윤 극대화를 추구한다.
- ③ B, C는 모두 민간 경제 주체이다.
- ④ 이자는 ㉠에 해당하지 않는다.
- ⑤ 공공재는 ㉠에 해당하지 않는다.

2. 다음 자료에 대한 설명으로 옳은 것은? (단, A, B는 각각 시장 경제 체제, 계획 경제 체제 중 하나임.)

○ (가)에 따라 자원을 배분하는 A에서는 시장에서의 경제적 유인을 강조한다.
 ○ (나)에 따라 자원을 배분하는 B에서는 원칙적으로 생산 수단에 대한 사적 소유를 인정하지 않는다.

- ① (가)에 '정부의 계획과 명령', (나)에 '시장 가격'이 들어갈 수 있다.
- ② A에서는 경제 주체의 사적 이윤 추구 활동을 보장한다.
- ③ B에서는 민간 경제 주체의 자율성을 보장한다.
- ④ A에서는 B와 달리 기본적인 경제 문제가 발생한다.
- ⑤ B에서는 A와 달리 개인의 성과에 따른 차등 분배를 강조한다.

3. 빈칸 (가)에 들어갈 수 있는 내용으로 가장 적절한 것은?

(가)로 인한 시장 실패 사례

○○ 보험은 가입자가 병원에 지급하는 치료비를 보장해주는 보험이다. ○○ 보험 가입자 중 이전에 비해 건강 관리를 소홀히 하여 병원을 찾는 사람들이 생겨나고 일부 가입자들은 불필요한 진료를 위해 병원을 찾는 경우가 발생하고 있다. 이러한 행동을 예측할 수 없었던 보험사는 손실을 볼 수밖에 없었고, 그 결과 보험료가 인상되어 다른 가입자들이 피해를 보고 있다.

- ① 정보의 비대칭성 ② 소비의 비배제성
- ③ 소비의 비경합성 ④ 무임승차자의 문제
- ⑤ 독과점 기업의 횡포

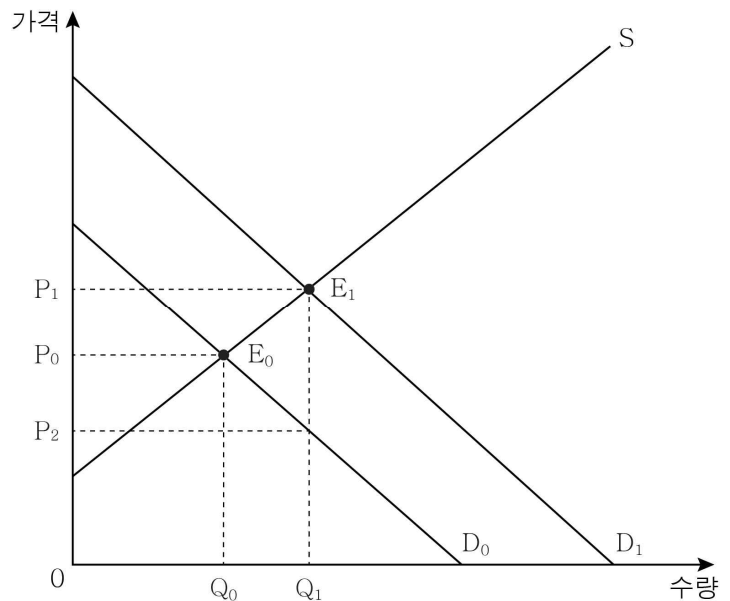
4. 밑줄 친 ㉠~㉣에 대한 설명으로 옳은 것은?

안녕 ○○○, 오늘 뉴스 알려줄래?

㉠ 미세먼지로 인해 대기질이 악화되어 외부 활동에 어려움이 예상됩니다. 경제 뉴스입니다. ㉡ 차량용 반도체 공급 문제로 신차 생산에 차질이 발생해 ㉢ 중고차 거래 중개가 증가하면서 ㉣ 중고차 업체의 이윤이 증가하고 있습니다. 연예계 소식입니다. ㉤ 유명 연예인 갑은 자신이 받은 광고 모델료를 전액 기부해 화제입니다.

- ① ㉠은 국내 총생산에 반영된다.
- ② ㉡은 신차 균형 가격의 하락 요인이다.
- ③ ㉢은 재화이다.
- ④ ㉣은 분배 국민 소득에 해당한다.
- ⑤ ㉤은 지출 국민 소득에 해당한다.

5. 그림은 외부 효과가 발생하고 있는 X재 시장 상황을 나타낸다. 이에 대한 설명으로 옳은 것은? [3점]



- ① 생산 과정에서 외부 경제가 발생하고 있다.
- ② E₀은 사회적 최적 균형점, E₁은 시장 균형점이다.
- ③ 시장 거래량이 사회적 최적 거래량보다 Q₀Q₁만큼 적다.
- ④ 정부가 소비자에게 개당 P₁P₂만큼 세금을 부과하면 사회적 최적 수준에서 거래된다.
- ⑤ 사회적 최적 수준에서 거래되면 소비자 잉여는 감소하고 생산자 잉여는 증가한다.

경제

6. 다음 자료에 대한 설명으로 옳은 것은?

교사: ㉠ 지금까지 살펴본 자료에 나타난 ㉡ 경제 상황을 안정화시킬 목적으로 시행되는 정책 수단을 2개씩 발표해 보세요.
 갑: 소득세율 인상과 (가) 입니다.
 을: 정부 지출 확대와 (나) 입니다.
 교사: 갑은 1개만 옳게 발표했고, 을은 2개 모두 옳게 발표했습니다.

- ① 실업률 하락을 보여주는 통계 자료는 ㉠에 해당한다.
- ② 총수요 증가는 ㉡을 발생시키는 요인이다.
- ③ (가)에 '지급 준비율 인상'이 들어갈 수 있다.
- ④ (나)에 '국공채 매입'이 들어갈 수 있다.
- ⑤ 을은 갑과 달리 재정 정책 수단을 발표하였다.

7. 다음 자료에 대한 설명으로 옳은 것은? [3점]

다음은 우리나라 외환 시장에서 A, B 기간에 나타난 변화이다. 단, 우리나라 외환 시장은 수요와 공급 법칙을 따른다.
 ○ A 기간: ㉠ 달러화 수요 변동만으로 ㉡ 원/달러 환율 변동이 나타났고, 달러화 거래량은 증가하였다.
 ○ B 기간: ㉢ 달러화 공급 변동만으로 ㉣ 원/달러 환율 변동이 나타났고, 달러화 거래량은 증가하였다.

- ① A 기간에는 B 기간과 달리 달러화 대비 원화의 가치가 상승하였다.
- ② ㉠의 요인으로 우리나라의 대미 수출 증가를 들 수 있다.
- ③ ㉢의 요인으로 미국 국민의 우리나라 여행 감소를 들 수 있다.
- ④ ㉡은 우리나라 기업의 달러화 표시 외채 상환 부담을 감소시키는 요인이다.
- ⑤ ㉣은 우리나라 기업이 미국에서 수입하는 상품의 원화 표시 가격을 하락시키는 요인이다.

8. 다음 자료에 대한 옳은 분석만을 <보기>에서 고른 것은?

표는 갑국의 경제 지표를 나타낸다. 기준 연도는 2020년이고 물가 수준은 GDP 디플레이터로 측정하며, 전년 대비 명목 GDP 증가율은 2021년과 2022년이 동일하다.

구분	2021년	2022년
명목 GDP(억 달러)	110	121
실질 GDP(억 달러)	105	110

< 보 기 >
 ㄱ. 경제 성장률은 2021년과 2022년이 동일하다.
 ㄴ. 2020년 대비 2022년 GDP 디플레이터는 21% 증가하였다.
 ㄷ. 전년 대비 2021년 명목 GDP 증가액은 실질 GDP 증가액보다 5억 달러 많다.
 ㄹ. 2021년, 2022년은 모두 전년 대비 물가 상승률이 양(+)의 값이다.

- ① ㄱ, ㄴ ② ㄱ, ㄷ ③ ㄴ, ㄷ ④ ㄴ, ㄹ ⑤ ㄷ, ㄹ

9. 다음 자료에 대한 설명으로 옳은 것은? [3점]

표는 X재 1개에 대한 소비자 갑~정의 최대 지불 용의 금액과 생산자 A~C의 최소 요구 금액을 나타낸다. 단, X재 시장 참여자는 갑~정, A~C가 전부이고, 최대 지불 용의 금액이 균형 가격 이상인 소비자와 최소 요구 금액이 균형 가격 이하인 생산자는 모두 X재를 균형 가격에서 1개씩만 거래한다.

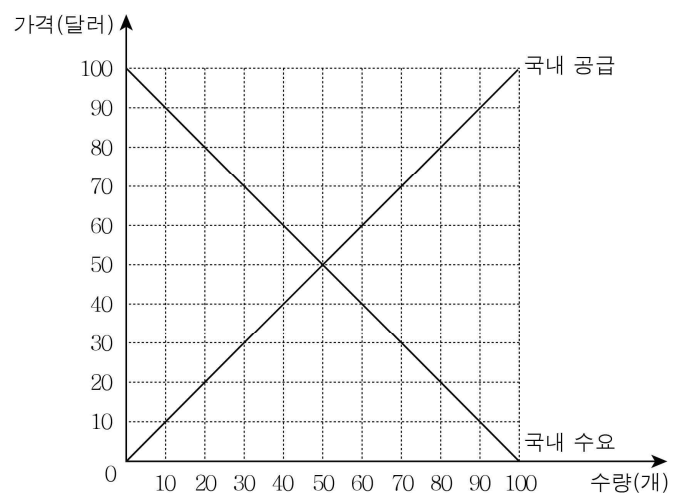
소비자	갑	을	병	정
최대 지불 용의 금액(원)	600	500	400	300

생산자	A	B	C
최소 요구 금액(원)	400	500	600

- ① 균형 거래량은 1개이다.
- ② 병과 C는 거래에 참여한다.
- ③ 갑의 소비자 잉여와 A의 생산자 잉여는 동일하다.
- ④ 정부가 생산자에게 개당 200원의 보조금을 지급하면 균형 거래량이 1개 감소한다.
- ⑤ 정부가 소비자에게 개당 200원의 보조금을 지급하면 균형 가격이 200원 상승한다.

10. 다음 자료에 대한 설명으로 옳은 것은? [3점]

그림은 갑국 X재 시장의 국내 수요와 국내 공급을 나타낸다. 갑국 정부는 소비자 단체의 요구를 받아들여 X재의 국제 가격에 개당 10달러 부과하던 ㉠ 관세를 폐지할지, ㉡ 관세를 50% 인하할지를 두고 고민 중이다. 관세를 폐지할 경우 X재 국내 생산자 잉여가 350달러 감소한다. 단, 갑국에서 생산된 X재는 모두 국내 시장에서 판매되고, X재의 국제 가격은 일정하며, 갑국은 X재를 국제 가격 수준에서 무제한 수입할 수 있다.



- ① X재의 국제 가격은 20달러이다.
- ② ㉠을 선택할 경우 X재 수입량은 10개 증가한다.
- ③ ㉠을 선택할 경우 X재 국내 소비자 잉여는 350달러 증가한다.
- ④ ㉡을 선택할 경우 X재 국내 소비량은 10개 증가한다.
- ⑤ ㉡을 선택할 경우 X재 관세 수입은 50달러 감소한다.

11. 표는 갑국의 경상 수지를 항목별로 나타낸다. 이에 대한 설명으로 옳은 것은?

(단위: 억 달러)

구분	2021년	2022년
상품 수지	50	40
서비스 수지	20	20
본원 소득 수지	0	-3
(가)	-5	5

- ① (가)에 갑국 거주자의 해외여행 경비가 포함된다.
- ② 2021년에 비해 2022년 갑국의 수출액은 감소하였다.
- ③ 2022년 갑국 거주자의 외국 채권에 대한 투자액이 포함되는 항목은 적자이다.
- ④ 2021년과 달리 2022년에 해외 무상 원조 금액이 포함되는 항목은 적자이다.
- ⑤ 2021년과 2022년의 해외 지식 재산권 사용료가 포함되는 항목의 흑자액은 동일하다.

12. 다음 자료에 대한 분석으로 옳은 것은? [3점]

표는 X재만 생산하는 ○○ 기업의 각 생산량에 따른 총비용을 나타낸다. 시장 가격은 생산량과 관계없이 일정하고, 생산량이 2개일 때와 3개일 때의 이윤은 동일하다. 단, ○○ 기업은 X재를 5개까지만 생산하고, 생산된 X재는 모두 판매된다.

생산량(개)	1	2	3	4	5
총비용(원)	500	1,000	2,000	3,500	5,500

- ① 시장 가격은 2,000원이다.
- ② 최대로 얻을 수 있는 이윤은 1,000원이다.
- ③ 생산량이 5개일 때의 총수입은 3개일 때의 2배를 넘는다.
- ④ 생산량이 1개일 때보다 2개일 때의 이윤이 적다.
- ⑤ 생산량이 4개일 때 이윤이 극대화된다.

13. 다음 갑국과 을국의 t년 대비 t+1년의 경제 상황에 대한 설명으로 옳은 것은?

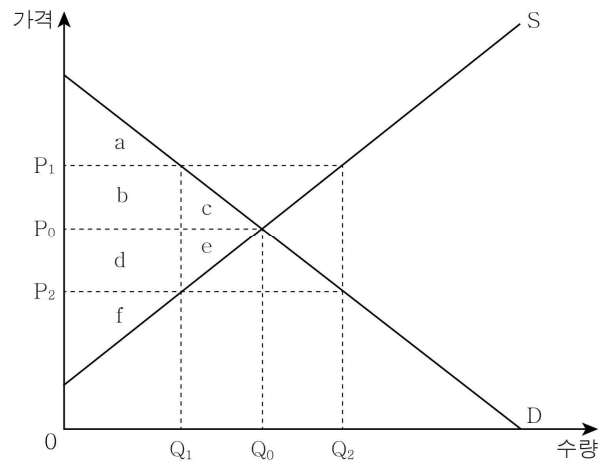
표는 갑국과 을국의 t년 대비 t+1년의 고용률과 비경제 활동 인구의 변화를 나타낸다. 단, 갑국, 을국은 모두 15세 이상 인구에 변함이 없다.

구분	갑국	을국
고용률	하락	불변
비경제 활동 인구	불변	감소

- ① 갑국은 취업자 수가 감소한 만큼 실업자 수가 증가하였다.
- ② 을국은 실업자 수보다 경제 활동 인구가 더 많이 증가하였다.
- ③ 갑국은 을국과 달리 실업률이 하락하였다.
- ④ 을국은 갑국과 달리 경제 활동 참가율이 하락하였다.
- ⑤ 갑국, 을국은 모두 경제 활동 인구 대비 취업자 수가 증가하였다.

14. 다음 자료에 대한 분석 및 추론으로 옳은 것은?

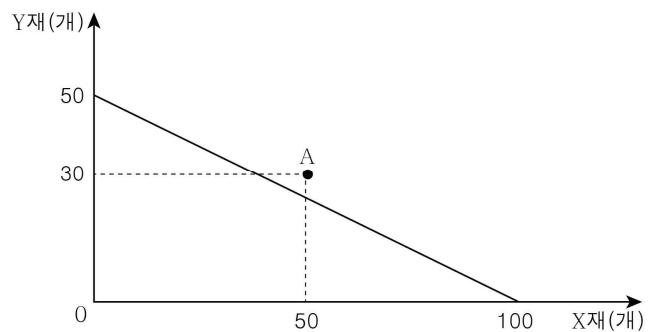
그림은 현재 시장 균형에서 거래되고 있는 갑국의 X재 시장 상황을 나타낸다. 최근 갑국 정부는 X재 생산자 보호를 위해 ㉠ 실효성 있는 가격 규제 정책을 시행하고자 한다. 단, 규제 가격은 P₁과 P₂ 중 하나이고, a~f는 각 영역의 면적이다.



- ① 갑국 정부는 P₂로 가격을 규제하고자 한다.
- ② ㉠을 시행하면 Q₁Q₂만큼 초과 수요가 발생한다.
- ③ ㉠을 시행하면 소비자 잉여는 'b+c'만큼 감소한다.
- ④ ㉠을 시행하면 생산자 잉여는 'd+e'만큼 감소한다.
- ⑤ ㉠을 시행하면 총잉여는 'a+f'만큼 감소한다.

15. 다음 자료에 대한 분석으로 옳은 것은? [3점]

X재와 Y재만을 생산하여 소비하던 갑국과 을국은 자국에 비교 우위가 있는 재화 생산에만 특화한 후 교환하여 양국 모두 이익을 얻었다. 갑국과 을국은 서로 다른 재화 생산에 절대 우위를 갖고, 을국의 X재 1개 생산의 기회비용은 Y재 1개이다. 그림은 갑국의 생산 가능 곡선이며 A점은 교역 후 갑국의 소비점을 나타낸다. 단, 갑국과 을국은 동일한 양의 노동만을 이용하여 직선인 생산 가능 곡선상에서 생산하고, 생산된 재화는 전량 소비되며, 교역은 거래 비용 없이 양국 간에만 이루어진다.



- ① X재 1개 생산의 기회비용은 갑국이 을국보다 크다.
- ② 갑국은 Y재 생산에, 을국은 X재 생산에 절대 우위가 있다.
- ③ X재와 Y재가 5:2의 비율로 교환되었다.
- ④ 을국의 교역 후 Y재 소비량은 20개보다 많다.
- ⑤ 을국의 X재 1개 소비의 기회비용은 교역 전보다 교역 후가 크다.

16. 다음 자료에 대한 설명으로 옳은 것은? [3점]

표는 X재의 t시기 ~ t+2시기 균형 가격과 균형 거래량을 나타낸다. t시기 ~ t+1시기의 시장 균형점 변화는 ㉠ X재의 핵심 부품 가격 변동만으로 나타났고, t+1시기 ~ t+2시기의 시장 균형점 변화는 ㉡ X재와 대체 관계인 재화의 가격 변동만으로 나타났다. 단, X재는 수요와 공급 법칙을 따르고, 다른 요인은 고려하지 않는다.

구분	t시기	t+1시기	t+2시기
균형 가격(원)	1,000	㉠	1,000
균형 거래량(개)	100	120	㉡

- ① ㉠은 X재의 핵심 부품 가격 하락을 의미한다.
- ② ㉡은 X재와 대체 관계인 재화의 가격 하락을 의미한다.
- ③ ㉠은 1,000보다 크다.
- ④ ㉡은 120보다 작다.
- ⑤ t+2시기의 판매 수입은 t시기보다 적다.

17. 다음 자료에 대한 설명으로 옳은 것은? (단, A ~ C는 각각 주식, 채권, 정기 예금 중 하나임.)

- ○○ 은행에서 판매하는 A에 가입한 갑은 ㉠ 100만 원의 이자 수익을 얻었다.
- □□ 기업이 발행한 B를 소유하고 있는 을은 ㉡ 100만 원의 배당 수익을 얻었다.
- △△ 기업이 발행한 C를 소유하고 있던 병은 C를 시장에 매도하여 ㉢ 100만 원의 시세 차익을 얻었다.

- ① ㉠은 ㉡, ㉢과 달리 재산 소득에 해당한다.
- ② A는 B보다 안전성이 높다.
- ③ A는 C와 달리 만기가 있다.
- ④ B는 C와 달리 시세 차익을 기대할 수 없다.
- ⑤ C는 A와 달리 이자 수익을 기대할 수 없다.

18. 다음 자료에 대한 옳은 설명만을 <보기>에서 고른 것은?

표는 갑국의 연도별 이자율을 나타낸다. 단, A, B는 각각 명목 이자율, 실질 이자율 중 하나이고, 전년 대비 2021년의 물가는 하락하였다.

(단위: %)

구분	2021년	2022년
A	3	2
B	5	-1

* 실질 이자율 = 명목 이자율 - 물가 상승률

< 보 기 >

- ㄱ. A는 B와 달리 물가 변동을 반영한 이자율이다.
- ㄴ. 2022년에는 은행 예금보다 현금 보유가 유리하다.
- ㄷ. 2021년 대비 2022년의 물가 상승률은 양(+)의 값이다.
- ㄹ. 2022년은 2021년과 달리 실질 이자율이 음(-)의 값이다.

- ① ㄱ, ㄴ ② ㄱ, ㄷ ③ ㄴ, ㄷ ④ ㄴ, ㄹ ⑤ ㄷ, ㄹ

19. 다음 자료에서 (가), (나)의 변동 요인으로 옳은 것은? (단, (가), (나)는 각각 총수요, 총공급 중 하나임.) [3점]

그림에서 버스는 A 지점에서 출발하여 (가), (나)가 변동한 방향으로 움직인다. 갑국에서 발생한 (가), (나)의 변동을 그림에 적용한 결과 버스가 B 지점에 도착하였다. A 지점과 B 지점에서 갑국의 실질 GDP가 동일하고, A 지점보다 B 지점에서 물가 수준이 높다. 단, 갑국의 총수요 곡선은 우하향하고, 총공급 곡선은 우상향하며, (+)는 증가, (-)는 감소를 의미한다.

- | (가)의 변동 요인 | (나)의 변동 요인 |
|----------------|--------------|
| ① 민간 소비 증가 | 수입 원자재 가격 상승 |
| ② 민간 투자 감소 | 생산 요소 투입량 감소 |
| ③ 정부 지출 증가 | 민간 소비 감소 |
| ④ 생산 요소 투입량 증가 | 정부 지출 감소 |
| ⑤ 수입 원자재 가격 하락 | 민간 투자 감소 |

20. 다음 자료에 대한 설명으로 옳은 것은? [3점]

갑은 대안 (가)~(다) 중 하나를 편익과 기회비용을 고려하여 합리적으로 선택한다. 갑은 (다)를 선택하였으며, 표의 A ~ C는 각각 명시적 비용, 암묵적 비용, 매몰 비용 중 하나이다.

(단위: 원)

구분	대안		
	(가)	(나)	(다)
편익	25,000	22,000	㉠ 27,000
A	㉡	13,000	10,000
B	15,000	13,000	14,000
C	13,000	13,000	13,000
순편익	-3,000	㉢	㉣

- ① A는 B, C와 달리 합리적 선택 시 고려해서는 안 된다.
- ② (나)를 선택할 경우의 기회비용이 가장 크다.
- ③ ㉠이 25,000으로 변동하여도 갑의 선택에는 변함이 없다.
- ④ ㉡은 13,000보다 크다.
- ⑤ ㉢과 ㉣의 합은 양(+)의 값을 가진다.

*** 확인 사항**

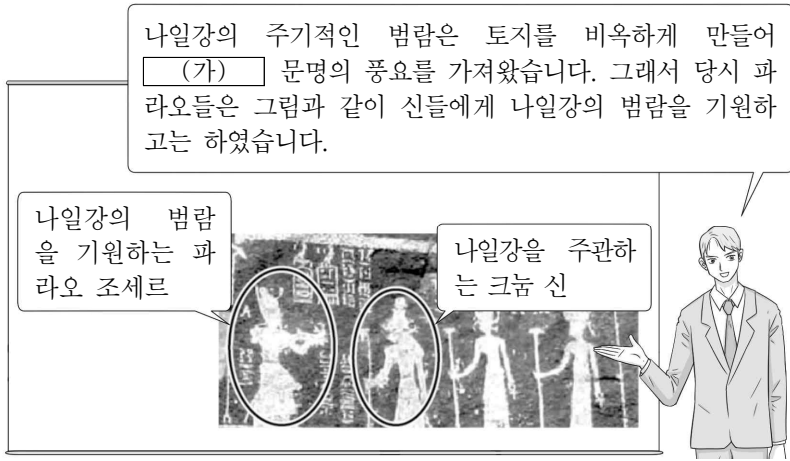
- 답안지의 해당란에 필요한 내용을 정확히 기입(표기)했는지 확인하십시오.

제 4 교시

사회탐구 영역(세계사)

성명		수험번호				3				제 () 선택
----	--	------	--	--	--	---	--	--	--	----------

1. (가) 문명에 대한 설명으로 옳은 것은?



- ① 천명사상을 강조하였다.
- ② 피라미드를 건립하였다.
- ③ 갑골 문자를 사용하였다.
- ④ 길가메시 서사시를 남겼다.
- ⑤ 모헨조다로와 하라파를 건설하였다.

2. 밑줄 친 '폐하'에 대한 설명으로 옳은 것은?

“지금 폐하께서는 천하를 통일하여 흑백을 판별하는 기준을 세우시고, 천하에 한 분의 황제만 있게 했습니다. 그러나 사사로이 학문하는 자들이 서로 모여 법을 비난하고 새 법을 내리기만 하면 자신들이 배운 것을 들고나와 비판합니다. ... (중략)... 이에 신 이사가 감히 말씀드립니다. 바라옵건대 모든 문학과 『시경』, 『서경』, 제자백가의 저작물을 불태우십시오. ... (중략)...”라고 하니 이를 받아들였다.

- ① 조용조를 도입하였다.
- ② 만리장성을 축조하였다.
- ③ 공행 무역을 허용하였다.
- ④ 9품증정제를 시행하였다.
- ⑤ 장건을 서역에 파견하였다.

3. (가) 인물에 대한 설명으로 옳은 것은? [3점]

무로마치 막부 말기에는 오다 가문이 흥하여 쇼군을 폐하고 실권을 차지하였다. 하지만 오다 노부나가 화를 입은 이후에는 (가) 이/가 천하의 정권을 장악하였다. (가) 은/는 조선과 전쟁을 일으켰지만 성공하지 못하였고, 그가 죽은 후에는 도쿠가와 이에야스의 시대가 도래하였다.

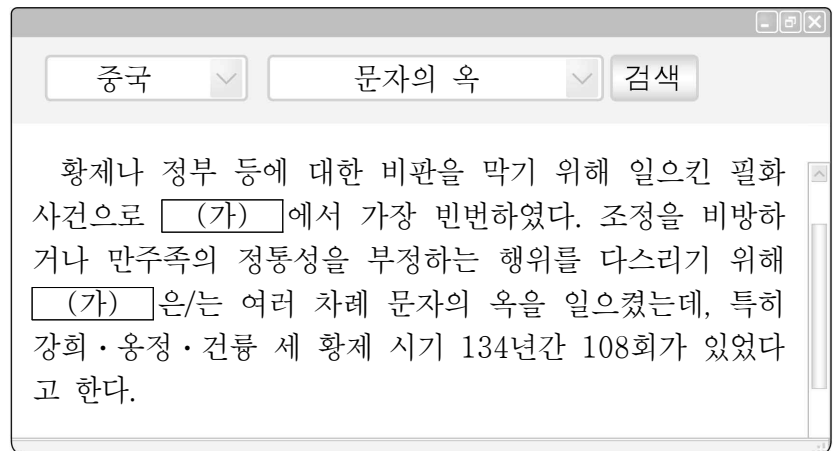
- ① 건당사를 파견하였다.
- ② 도다이사를 창건하였다.
- ③ 헤이조쿄를 건설하였다.
- ④ 다이카 개신을 단행하였다.
- ⑤ 전국(센고쿠) 시대를 통일하였다.

4. 지도의 형세가 나타났던 시기 (가) 도시에서 볼 수 있는 모습으로 적절한 것은?




- ① 회자로 거래하는 상인
- ② 당삼채를 제작하는 장인
- ③ 사고전서를 편찬하는 학자
- ④ 자금성 축조에 동원된 인부
- ⑤ 균전제에 따라 토지를 지급받은 농민

5. (가) 왕조에서 있었던 사실로 옳은 것은? [3점]



- ① 만한 병용제가 시행되었다.
- ② 정화의 함대가 파견되었다.
- ③ 파스파 문자가 제정되었다.
- ④ 맹안 모극제가 실시되었다.
- ⑤ 왕안석이 신법을 마련하였다.

6. (가) 왕조에 대한 설명으로 옳은 것은? [3점]



이것은 [가] 시기 제작된 도장으로 마니교 사제가 사용했다고 알려져 있다. 중앙에 마니가 새겨져 있는 것이 특징적이다. 마니교는 한 때 샤푸르 1세 치하에 교세를 확장하였다. 하지만 조로아스터교의 지원을 받은 바흐람 1세가 즉위한 이후 마니교는 대대적인 탄압을 받았다. 이로써 마니교의 교세는 위축된 반면 조로아스터교는 국교로서의 지위를 공고히 하였다.


- ① 마누 법전을 편찬하였다.
- ② 이슬람 세력에 멸망하였다.
- ③ 아라비아반도를 통일하였다.
- ④ 페르세폴리스를 건설하였다.
- ⑤ 니네베에 왕립 도서관을 세웠다.

7. 밑줄 친 '제국'에 대한 설명으로 옳은 것은? [3점]

에니체리에 속한 병사의 수는 무라트 2세의 계승자이며 대도시 콘스탄티노폴리스를 점령한 메(호)메트 2세 시기에 1만여 명으로 늘어났다. 에니체리는 한동안 제국의 가장 강력한 힘이 되었다. 그들 덕택에 무라트 2세의 후계자들은 수많은 전투에서 승리를 거둘 수 있었고, 오랜 기간 아시아, 아프리카, 유럽에 걸친 영역을 확보할 수 있었다.

- ① 타지마할을 세웠다.
- ② 티마르제를 실시하였다.
- ③ 마라타 동맹의 반란을 진압하였다.
- ④ 시아파 이슬람교를 국교로 정하였다.
- ⑤ 투르·푸아티에 전투에서 패배하였다.

8. (가) 황제에 대한 설명으로 옳은 것은? [3점]

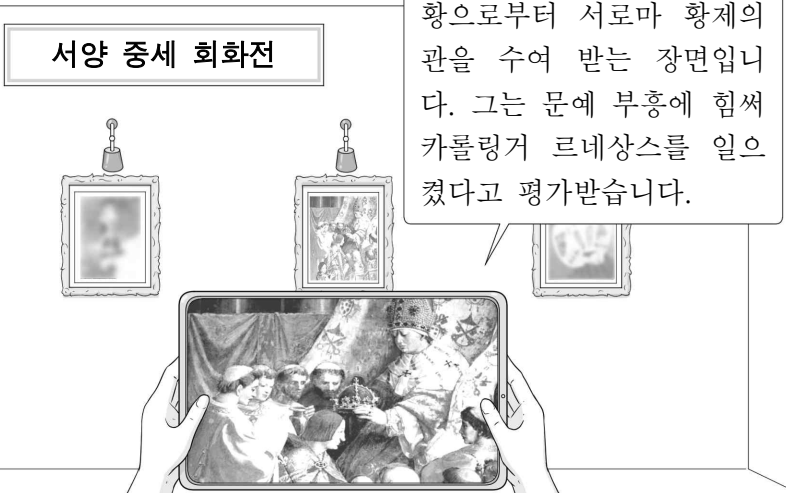


세밀화에 표시된 인물은 바부르의 손자인 [가]이다. 그와 이슬람 학자들이 다른 종교의 성직자들과 토론을 벌이는 이러한 모습은 그의 재위 시기에 자주 볼 수 있었다. 실제 그는 힌두교도를 관료로 등용하고, 힌두교를 믿는 여인과 결혼하는 등 타 종교에 대해 관용적 태도를 보였다.

- ① 지즈야를 폐지하였다.
- ② 쿠티브 미나르를 세웠다.
- ③ 코르도바를 수도로 삼았다.
- ④ 델리 술탄 왕조를 무너뜨렸다.
- ⑤ 성 소피아 성당을 건설하였다.

9. (가) 인물에 대한 설명으로 옳은 것은?

서양 중세 회화전



그림은 [가]이/가 교황으로부터 서로마 황제의 관을 수여 받는 장면입니다. 그는 문예 부흥에 힘써 카롤링거 르네상스를 일으켰다고 평가받습니다.

- ① 대헌장을 승인하였다.
- ② 성상 파괴령을 내렸다.
- ③ 궁정 학교를 설립하였다.
- ④ 니케아 공의회를 개최하였다.
- ⑤ 유스티니아누스 법전을 편찬하였다.

10. (가) 인물에 대한 설명으로 옳은 것은?

[세상을 바꾼 문서]

카이사르의 유언장



1. 아티아의 아들이자 제1 상속인인 [가]에게 소유 재산의 4분의 3을 남긴다.
4. 제1 상속인이 상속받는 경우 유언 집행 책임자로 브루투스나 안토니우스를 지명한다.
5. 제1 상속인은 상속과 동시에 카이사르의 양자가 되고, 카이사르라는 성을 이어받는다.

[설명] 카이사르 암살 후 공개된 유언장의 일부이다. 이에 따르면, 카이사르는 [가]에게 재산과 명성을 물려주었다. 카이사르의 아들로 입양되면서 급부상한 [가]은/는 제2차 삼두 정치를 끝내고 실질적인 제정을 이끌게 되었다.

- ① 낭트 칙령을 공포하였다.
- ② 500인 평의회를 설치하였다.
- ③ 레판토 해전에서 승리하였다.
- ④ 아우구스투스라는 칭호를 받았다.
- ⑤ 이소스 전투에서 다리우스 3세를 물리쳤다.

11. (가) 왕조에서 있었던 사실로 옳은 것은?

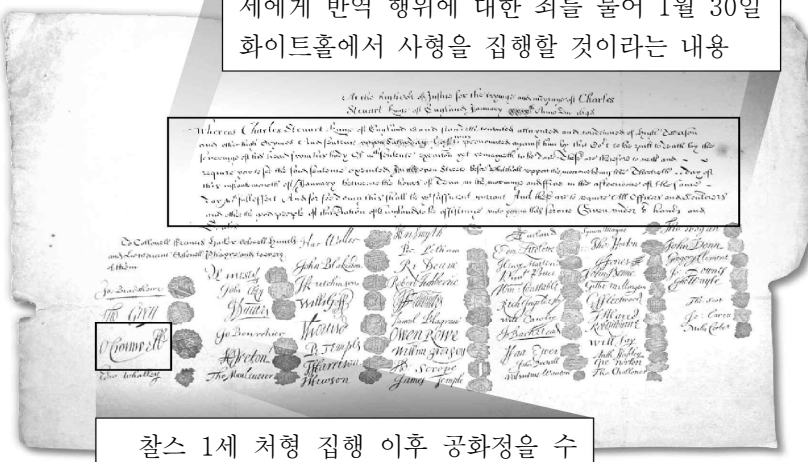
세계사 수행 평가 보고서

이름	○○○	학번	3학년 △△반 △△번
과제	유네스코 세계유산 조사하기		
조사 대상	인도 마디아 프라데시주의 불교 기념물군		
선정 이유	이곳은 (가) 시기 문화유산이 모여 있는 곳으로, 아소카왕 때에 만들어진 산치 대탑과 석주의 일부를 볼 수 있습니다.		
조사 자료	  <p><현재의 산치 대탑> <석주의 일부></p>		

- ① 시크교가 창시되었다.
- ② 샤쿤탈라가 저술되었다.
- ③ 상좌부 불교가 발달하였다.
- ④ 간다라 양식이 유행하였다.
- ⑤ 탈라스 전투에서 승리하였다.

12. 자료에 나타난 혁명이 전개되던 시기에 볼 수 있는 모습으로 적절한 것은?


의회를 무시하고 전제 정치를 펼친 찰스 1세에게 반역 행위에 대한 죄를 물어 1월 30일 화이트홀에서 사형을 집행할 것이라는 내용



찰스 1세 처형 집행 이후 공화정을 수립하고 호국정에 취임한 크롬웰의 서명

- ① 농노 해방령을 발표하는 황제
- ② 대륙 회의에 참여한 식민지 대표
- ③ 메테르니히의 퇴진을 요구하는 시민
- ④ 공안 위원회에서 토론을 벌이는 위원
- ⑤ 의회파 군대에 소속되어 싸우는 청교도

13. 다음 명령을 내린 인물에 대한 설명으로 옳은 것은?



짐은 이제까지 고인이 된 추기경에게 나의 업무를 대행하도록 맡겨 왔소. 하지만 이제는 짐 스스로 프랑스를 통치할 때가 왔다고 보오. 앞으로 짐의 명령 없이 결코 옥새를 사용할 수 없고, 어떠한 문건도 결재할 수 없소. 그리고 재정과 관련된 일은 짐의 허락하에 콜베르와 협조하여 처리하도록 하시오.

- ① 무적함대를 격파하였다.
- ② 밀라노 칙령을 반포하였다.
- ③ 도편 추방제를 실시하였다.
- ④ 중상주의 정책을 추진하였다.
- ⑤ 상트페테르부르크를 수도로 삼았다.

14. (가) 왕국에 대한 설명으로 옳은 것은? [3점]

이탈리아 남부를 점령한 가리발디가 말하기를, “이제부터는 경쟁도 불화도 다시는 없을 것입니다. 지금 이후로는 우리 모두가 총명하시고 용감하신 에마누엘레 2세의 통치를 받게 될 것입니다.”라고 하였다. 이윽고 가리발디가 점령지를 사르데냐 왕국에 바쳤고, 이듬해 의회에서 에마누엘레 2세가 (가) 의 국왕으로 즉위하였다.

- ① 북독일 연방을 창설하였다.
- ② 파리 조약으로 독립을 승인받았다.
- ③ 오스만 제국과 크림 전쟁을 일으켰다.
- ④ 베네치아와 로마 교황령을 병합하였다.
- ⑤ 프랑크푸르트 국민 회의를 개최하였다.

15. 자료를 활용한 탐구 활동으로 가장 적절한 것은? [3점]

통합된 상태의 벵골은 하나의 강력한 세력이다. 반면 분리된 벵골은 우리 영국에 대한 저항을 약화시킬 것이다. 이것이 인도 국민 회의 지도자들이 느끼고 있는 바이다. 그들의 우려는 정확한 것이며, 이것이 바로 분할 계획이 가져올 큰 이점 가운데 하나이다. 우리의 주요한 목적 중 하나는 벵골의 힌두교도와 이슬람교도를 분리하여 세력을 약화시키는 것이다.

- ① 롤릿법 제정의 결과를 살펴본다.
- ② 아도와 전투의 원인을 알아본다.
- ③ 콜카타 대회 개최 배경을 찾아본다.
- ④ 플라시 전투의 전개 과정을 파악한다.
- ⑤ 청년 튀르크당의 활동 내용을 분석한다.


16. (가), (나) 시기 사이에 있었던 사실로 옳은 것은? [3점]

(가) 차르를 물리치고 임시 정부가 세워진 뒤 우리는 평화와 토지를 갈망하였으나, 임시 정부는 계속 실망감을 안겨 주었다. 그래서 봉기를 일으켜 지주의 토지를 빼앗은 것이다. 이제 우리는 임시 정부에 맞서 싸울 것이다.
 (나) 우리는 열강이 주도하는 제국주의 전쟁에 더는 참여할 수 없다. 그들의 이익을 위해 더 이상 우리 병사가 피를 흘릴 수는 없다. 독일을 비롯한 동맹국과 러시아 소비에트 공화국 사이의 전쟁이 끝났음을 선언한다.

- ① 탄지마트가 단행되었다.
- ② 와하브 운동이 시작되었다.
- ③ 피의 일요일 사건이 일어났다.
- ④ 신경제 정책[NEP]이 실시되었다.
- ⑤ 볼셰비키가 무장봉기를 일으켰다.

17. (가) 국가에 대한 설명으로 옳은 것은?

이 풍자화의 메뉴판에 등장하는 지역들은 모두 (가) 이/가 에스파냐와의 전쟁에서 승리한 후 세력권 내에 둔 곳이에요. (가)의 대외 팽창 정책을 보여 주는 풍자화이지요.



- ① 잉카 제국을 무너뜨렸다.
- ② 범슬라브주의를 내세웠다.
- ③ 동인도 회사를 설립하였다.
- ④ 이집트를 보호국으로 삼았다.
- ⑤ 하와이를 자국 영토로 편입하였다.

18. 자료를 활용한 탐구 주제로 가장 적절한 것은?

전후 20여 년간 미국의 외교는 마셜 계획의 원칙에 따라 행해졌습니다. ... (중략) ... 공산주의는 더 이상 단일한 세력이 아닙니다. 우리는 이전과는 다른 국제 관계를 새롭게 건설해야 합니다. 닉슨 독트린에 담긴 정책 방향은 우리를 새로운 행동으로 이끌 것입니다. ... (중략) ... 우리는 공산주의 국가를 포함한 모든 국가를 이념이 아닌 그들의 행동에 근거하여 판단할 것입니다.

- ① 빈 체제의 동요
- ② 전체주의의 등장
- ③ 제3 세계의 성립
- ④ 냉전 체제의 완화
- ⑤ 산업 혁명의 배경

19. 자료에 나타난 전쟁이 전개되던 시기에 있었던 사실로 옳은 것은? [3점]

수신: 윈스턴 처칠

현 전선에서 소련군이 처한 상황은 매우 긴박하다는 사실을 말씀드립니다. 이를 타개하려면 독일의 북쪽 지역에서 히틀러에 대항하는 전선을 구축해야 합니다. 만약 영국이 그 전장에 노르웨이 의용군으로 구성된 1개 사단 이상의 병력이 파병되도록 힘써준다면 일은 쉬워질 것입니다. 이 작전에 대해 심사숙고하여 주시길 바랍니다.

발신: 이오시프 스탈린


- ① 국제 연맹이 창설되었다.
- ② 파리 코뮌이 수립되었다.
- ③ 사라예보 사건이 일어났다.
- ④ 노르망디 상륙 작전이 전개되었다.
- ⑤ 킬 군항의 해군이 반란을 일으켰다.

20. 밑줄 친 '조약'이 체결된 시기를 연표에서 옳게 고른 것은?

[3점]

이곳 비아워비에자숲에서 최근 러시아-우크라이나 전쟁 관련 회담이 열렸다고 합니다. 이곳의 역사·지리적 가치를 알아보기 위해 융합 수업을 하려고 합니다.

이곳에서 소련 해체와 새로운 연합 창설에 합의한 조약이 맺어진 적이 있습니다. 역사과에서는 관련 내용을 수업에서 다루겠습니다.



이곳은 유네스코가 지정한 자연유산으로 생태계의 다양성이 보존된 원시림입니다. 지리과에서는 이곳의 생태적 가치에 주목하여 수업하겠습니다.

(가)	(나)	(다)	(라)	(마)
나폴레옹 퇴위	파쇼다 사건 발생	대공황 발생	국제 연합 창설	베를린 장벽 설치
유럽 연합 창설				

- ① (가)
- ② (나)
- ③ (다)
- ④ (라)
- ⑤ (마)

* 확인 사항

- 답안지의 해당란에 필요한 내용을 정확히 기입(표기)했는지 확인하시오.

제 4 교시

사회탐구 영역(동아시아사)

성명		수험번호				3				제 () 선택
----	--	------	--	--	--	---	--	--	--	----------

1. 밑줄 친 '토기'로 옳은 것은?

뉴허량 유적의 돌무지무덤 바깥에서 다른 유물과 함께 원형의 띠를 이룬 형태로 발굴된 토기이다. 위아래가 뚫린 형태 때문에 북, 하늘과 땅의 연결을 나타내는 상징물, 그릇 받침, 무덤이 무너지지 않도록 하는 지지대 등 여러 해석이 나오고 있다. 여신상, 다양한 옥기 등과 함께 라오허강 유역의 신석기 문화를 대표하는 문화유산이다.



2. (가)에 들어갈 내용으로 가장 적절한 것은?

동아시아사 수행 평가
3학년 ○반 ○○○

◎ 수행 과제: 동아시아사 주요 인물의 이력서 만들기
- 인물을 선정하고 초상화 붙이기
- 항목에 해당하는 빈칸 채우기

	성명	유철
	직위	황제
	생몰 연도	기원전 156년 ~ 기원전 87년

주요 활동

- 대월지와 동맹을 맺기 위해 장건 파견
- (가)
- 고조선을 무너뜨리고 4군 설치

- ① 사회 질서를 유지하기 위해 8조법 마련
- ② 장거정을 등용하여 일조편법 확대 시행
- ③ 노국의 조공을 받고 한위노국왕 칭호 하사
- ④ 흉노를 공격하여 고비 사막 이북으로 축출
- ⑤ 절도사의 권한을 회수하고 과거제에 전시 도입

3. (가)에 들어갈 내용으로 가장 적절한 것은? [3점]

편지로 보는 동아시아사

여보게. 진(晉)의 황제가 튀양에서 도망을 쳤다고 하네. 궁궐과 도시가 불에 타고 파괴되었다는군. ...(중략)... 이런 것을 어제까지 황제의 신하였던 흉노가 했다네!

[설명]
이 글은 소그드 상인이 사마르칸트의 동료에게 쓴 편지 중 일부로 당시 중국의 혼란한 상황을 묘사하고 있다. 이 시기 중국에서는 흉노족, 갈족 등이 한족 왕조인 진(晉)을 공격하여 멸망시켰고, 화북을 빼앗긴 한족은 (가)

- ① 동진을 건국하였다.
- ② 만리장성을 건설하였다.
- ③ 백강 전투에 참여하였다.
- ④ 전연의 맹약을 체결하였다.
- ⑤ 신라와 연합하여 백제를 멸망시켰다.

4. (가) 국가에 대한 설명으로 옳은 것은? [3점]

탕구트족은 일찍이 당대에 중국과 교류하였고, 이러한 교류는 송대에도 이어졌다. 그러나 이원호가 왕이 되면서부터 사정은 달라졌다. 그는 스스로 (가)의 황제로 즉위하며 송과 대등한 관계임을 선포하였다. 송이 이원호의 관작을 박탈하고 국경 무역을 금지하자 이원호는 군대를 이끌고 송의 국경으로 쇄도하였다. 전쟁은 수년간 이어졌고 송이 (가)에 비단, 은, 차 등의 물품을 매년 제공하는 조건으로 화친을 맺었다.

- ① 고유 문자를 사용하였다.
- ② 가마쿠라 막부를 침략하였다.
- ③ 북면관제·남면관제를 시행하였다.
- ④ 별무반을 편성하여 여진을 토벌하였다.
- ⑤ 카이펑을 함락하고 화북 지방을 차지하였다.

5. 자료에 나타난 유학 경향에 대한 설명으로 옳은 것은?

나는 평생토록 사람들에게 『사서집주』를 많이 읽으라고 했습니다. 이를 통해 사서(四書)와 주희의 주석을 완벽하게 이해하고 체득하면 바로 공자와 맹자를 완벽하게 이해하고 체득하는 것입니다.

- ① 다이호 율령의 토대가 되었다.
- ② 서원과 향약을 통해 확산되었다.
- ③ 독서삼품과 실시에 영향을 끼쳤다.
- ④ 진의 전국 시대 통일에 기여하였다.
- ⑤ 청에서 전례 문제로 탄압을 받았다.

동아시아사

6. 밑줄 친 '우리'의 대외 관계에 대한 설명으로 옳은 것은? [3점]

태조 황제께서는 항복한 나라들에게 군대를 내어 전쟁을 돕도록 명하셨다. 그래서 짐도 고려에 조서를 내렸으나 고려는 군사 수를 분명하게 갖추어 표기하지 않고 모호한 말로 아뢰었다. 이에 다시 조서를 내리니 우리가 남송을 치고자 하든, 일본을 치고자 하든 군대를 내도록 하라.

- ① 견당사를 파견하였다.
- ② 돌궐에 화번공주를 보냈다.
- ③ 대월을 여러 차례 공격하였다.
- ④ 야마타이국의 국왕을 책봉하였다.
- ⑤ 타이완의 정씨 세력을 진압하였다.

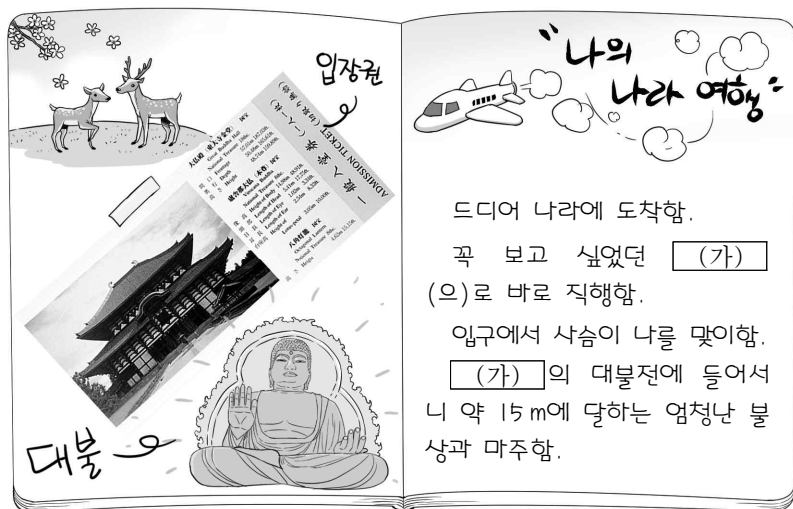
7. 밑줄 친 ㉠이 일어난 시기를 연표에서 옳게 고른 것은? [3점]

농민들을 이끌고 봉기를 일으킨 이자성은 봄에 시안에서 대순의 건국을 선포하였고, 더위가 시작되기도 전에 ㉠ 그의 군대는 베이징을 손에 넣었다. 반란군에 쫓기게 된 명의 승정제는 스스로 목을 댔다. 남쪽으로 피신한 황실과 관료들은 복왕을 황제로 추대하였다.

(가)	(나)	(다)	(라)	(마)
주원장, 대도 점령	토목(보)의 변발	임진왜란 발발	정묘호란 발발	삼번의 난 진압

- ① (가) ② (나) ③ (다) ④ (라) ⑤ (마)

8. (가) 사찰이 창건된 당시에 볼 수 있는 모습으로 가장 적절한 것은?



- ① 좌현왕에게 공격을 명하는 선우
- ② 남한산성을 공격하는 팔기의 기인
- ③ 한화 정책에 따라 성(姓)을 바꾸는 선비족
- ④ 동중서의 건의에 따라 태학을 설치하는 황제
- ⑤ 헤이조쿄에서 업무를 처리하는 태정관의 관리

9. 밑줄 친 '환란'이 끼친 영향으로 가장 적절한 것은? [3점]

앞서 올 4월 경상도 관찰사가 절차대로 왜적의 상황을 급히 보고하였고, 이미 관리를 보내 요동도사에 알렸다. 그 후 수많은 왜적이 부산과 동래 등을 함락하였고, 기세를 몰아 수도에 진입하여 나라의 창고와 백성들의 가축을 약탈하였다. 왜적이 작년 본국에 와서 누차 천조(天朝)를 침범하겠다고 위협하기에 변경의 장수들에게 명하여 의리에 의거하여 거절하게 하였다. 그로 인해 왜적이 원망하며 우리를 공격하여 결국 지금의 환란이 있게 되었다.

- ① 왕안석이 개혁을 추진하였다.
- ② 누르하치가 부족을 통합하였다.
- ③ 세종이 쓰시마 토벌을 단행하였다.
- ④ 효문제가 튀양으로 도읍을 옮겼다.
- ⑤ 아시카가 요시미쓰가 남북조 시대를 통일하였다.

10. (가) 막부 시기 동아시아 각국의 문화에 대한 설명으로 옳은 것은?

우키요에 특별전

초대의 글

우리 박물관에서는 (가) 시기의 조닌 문화를 대표하는 우키요에를 전시합니다. 특히 이번 전시회에서는 오려서 가지고 놀던 아동용 우키요에도 다수 전시할 예정입니다. 많은 관람 바랍니다.

일시: 2023. 00. 00. ~ 00. 00.
장소: 00 박물관 특별 전시실

- ① 한국-팔만대장경이 조판되었다.
- ② 한국-춘향가 등 판소리가 유행하였다.
- ③ 중국-경사 대학당이 설치되었다.
- ④ 중국-원강 석굴 사원이 조성되었다.
- ⑤ 일본-입당구법순례행기가 저술되었다.

11. 밑줄 친 '그'에 대한 설명으로 옳은 것은?

○ 그의 학문을 가볍게 보아서는 안 된다. 그가 저술한 『천주실의』 등의 서적을 보면 비록 우리 유학에 반드시 합치될지는 알지 못하겠으나, 도(道)에 나아가 도달한 바를 논한다면 역시 성인이라 할 만하다.
- 『돈와서학변』 -

○ 나는 일찍이 그가 저술한 『기하원본』을 구하였다. 이 책은 이미 전래가 되었으나 널리 읽혔는지는 알 수 없다. 이 책을 먼저 본 사람들은 수학의 이치를 크게 밝힌 책이며, 저자가 서양인이라 하여 소홀히 여기면 안 된다고 하였다.
- 『이재난고』 -

- ① 동방견문록을 남겼다.
- ② 제주도에 표착하였다.
- ③ 소현 세자와 교유하였다.
- ④ 원명원 설계에 참여하였다.
- ⑤ 곤여만국전도를 제작하였다.

12. 자료를 활용한 탐구 활동으로 가장 적절한 것은? [3점]

이전에는 청나라 사람들과 왜인들의 직접 교역이 거의 없어 왜인들은 은을 가지고 동래에 와서 중국산 물품을 구하였다. 그런 연유로 우리나라에서 유통되는 은은 대부분 일본산이었다. 그러나 청나라 사람들이 직접 나가사키로 가 왜인들과 교역하게 된 이후에는 동래를 오가는 왜인들이 크게 줄었다.

- ① 천계령이 끼친 영향을 알아본다.
- ② 장보고의 해상 교역 사례를 수집한다.
- ③ 정화의 항해가 단행된 배경을 파악한다.
- ④ 플라자 합의가 이루어진 계기를 조사한다.
- ⑤ 제1차 아편 전쟁의 전개 과정을 살펴본다.

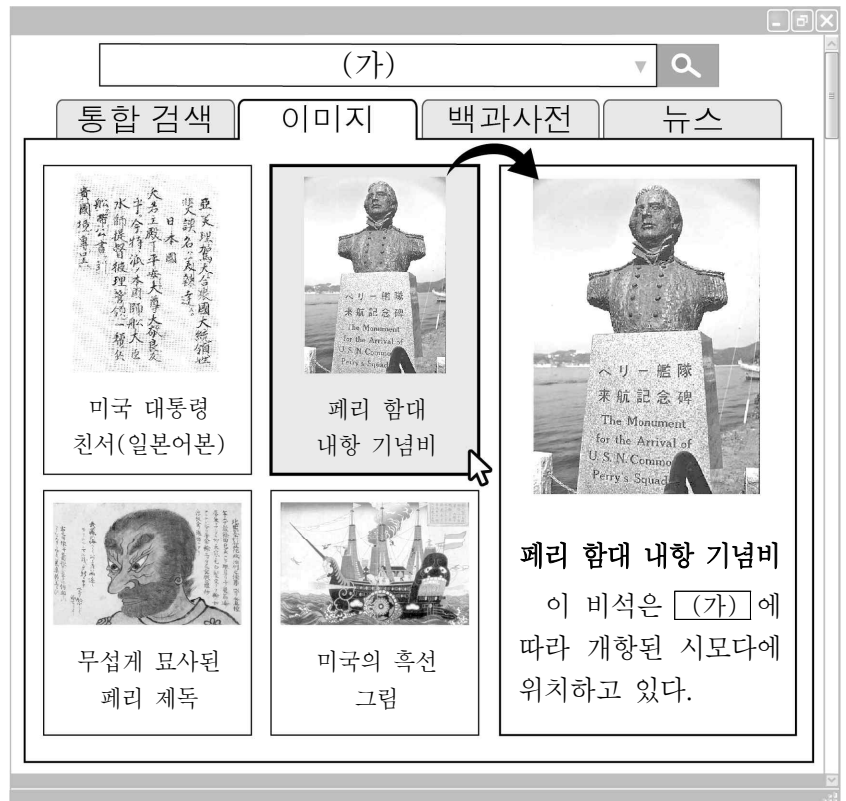
13. (가), (나) 시기 사이에 있었던 사실로 옳은 것은?

(가) 워싱턴에서 열린 개막 회의에서 의장으로 선출된 미국 국무 장관 휴즈는 놀랄 만한 제안을 하였다. 그 제안은 미국을 포함한 주요 국가의 주력함 감축 등 해군의 군비를 제한하는 협정을 체결하자는 것이었다.

(나) 국제 연맹 총회에 제출된 리튼 보고서에는 일본이 9개국 조약을 위반하였음을 지적하고, 중국 동북 지역을 비무장 지대로 할 것을 제안하는 내용 등이 포함되었다. 이 보고서는 총회에서 42대 1로 채택되었다.

- ① 운요호 사건이 일어났다.
- ② 일본이 만주 사변을 일으켰다.
- ③ 제2차 국공 합작이 이루어졌다.
- ④ 히로시마에 원자 폭탄이 투하되었다.
- ⑤ 샌프란시스코 강화 조약이 체결되었다.

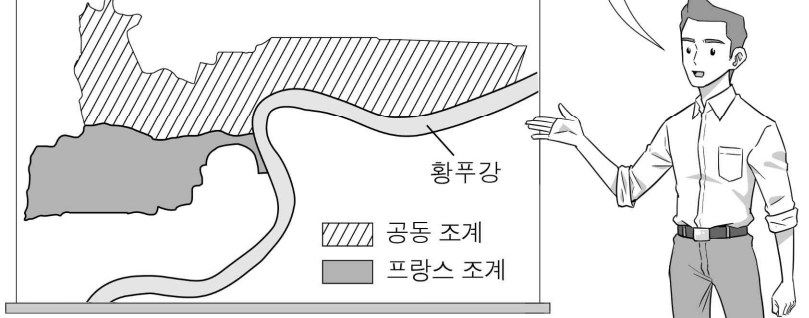
14. (가) 조약에 대한 설명으로 옳은 것은? [3점]



- ① 최혜국 대우를 규정하였다.
- ② 공행 무역의 폐지를 포함하였다.
- ③ 외국 군대의 주둔을 허용하였다.
- ④ 크리스티고 포교의 자유를 인정하였다.
- ⑤ 대한 제국의 외교권이 박탈되는 계기가 되었다.

15. 밑줄 친 '이 도시'에서 있었던 사실로 옳은 것은?

이 도시는 난징 조약에 따라 개항된 이후 열강의 조계가 설치되었습니다. 조계는 점차 확대되어 1914년경에는 지도와 같은 영역이 되었습니다. 조계에서는 외국인이 자치권을 행사하였기 때문에 한국의 독립운동가들은 이를 활용하여 이 도시의 프랑스 조계 안에 대한민국 임시 정부를 수립하였습니다.



- ① 청산리 전투가 벌어졌다.
- ② 한국 광복군이 창설되었다.
- ③ 루거우차오 사건이 발생하였다.
- ④ 긴자에 서양식 거리가 조성되었다.
- ⑤ 윤봉길이 홍콩 공원에서 폭탄을 투척하였다.

16. 자료에 나타난 혁명의 결과로 옳은 것은?

10월 10일
우창의 일부 신군이 숭빙쿤의 지휘 아래 무장봉기를 일으켰다. 그들은 찬동하지 않는 병사들을 살해하면서 무기고를 점령하였다.

10월 12일
봉기한 신군은 어제 군정부를 수립한 데 이어 오늘은 한커우까지 차지하였다. 이로써 우한 3진이 신군의 손에 넘어갔다.

- ① 신축 조약이 체결되었다.
- ② 독립 협회가 결성되었다.
- ③ 변법자강 운동이 전개되었다.
- ④ 쑨원이 임시 대통령에 취임하였다.
- ⑤ 민선 의원 설립 건백서가 제출되었다.

17. 밑줄 친 '헌법'에 대한 설명으로 옳은 것은? [3점]

화면은 '맥아더 노트'인데요, 이 문서가 끼친 영향에 대해 말씀해 주시기 바랍니다.

‘맥아더 노트’는 이후에 제정된 헌법에 큰 영향을 끼쳤습니다. 특히 자료에 표시된 부분이 군사력 보유를 금지한 헌법 9조에 반영되었습니다.

국가의 주권적 권리인 교전권을 포기한다.

- ① 총통 직선제를 명시하였다.
- ② 유신 체제의 바탕이 되었다.
- ③ 대한민국 국제의 영향을 받았다.
- ④ 제국 의회의 설립으로 이어졌다.
- ⑤ 천황을 상징적인 존재로 규정하였다.

18. 자료를 활용한 수업 주제로 가장 적절한 것은? [3점]

마오쩌둥 동지는 공(工), 농(農), 상(商), 학(學), 병(兵)을 하나로 결합한 인민공사를 창설하고, 이를 사회의 기본 단위로 삼아야 한다고 말했다. 공, 농, 상은 사람들의 물질생활이고, 학은 물질생활을 반영하는 정신생활이며, 병은 물질생활과 정신생활을 보위하기 위한 것이다.

- ① 합영법의 내용
- ② 3저 호황의 영향
- ③ 55년 체제의 성립
- ④ 대약진 운동의 추진
- ⑤ 도이머이 정책의 성과

19. (가) 전쟁 시기에 볼 수 있는 모습으로 가장 적절한 것은?

[3점]

00신문 1965년 00월 00일

전투 부대 1개 사단, 이달 내로 (가)에 파병
박정희 대통령 방미 때 미국과 합의

정부는 1개 사단 정도의 군대를 (가)에 파병할 계획을 세우고 있으며, 6월 중 국회가 동의할 것으로 희망한다고 정통한 소식통이 전했다. 이 같은 파병 계획은 박정희 대통령이 미국을 방문했을 때 합의된 것으로 알려졌다. 파병되는 군대는 주로 보병이며, 약간의 해병대가 포함될 것이라고 이 소식통은 전했다.

- ① 조선 의용대를 창설하는 김원봉
- ② 태평천국 수립을 선언하는 홍수전
- ③ 새로운 외교 방침을 발표하는 닉슨
- ④ 하얼빈역에서 저격당하는 이토 히로부미
- ⑤ 국민 혁명(북벌) 개시를 선언하는 장제스

20. (가) 전쟁에 대한 탐구 활동으로 가장 적절한 것은?

이것은 1910년 당시 야하타 제철소의 모습입니다. 동학 농민 운동 당시 일어난 (가)에서 승리한 일본은 청으로부터 받은 배상금을 제철소 건설에 활용하였습니다. 또한 이곳에서는 중일 전쟁 시기에 수많은 한국인과 중국인이 강제 노역에 동원되었습니다.

- ① 애치슨 선언의 내용을 살펴본다.
- ② 국공 내전의 전개 과정을 정리한다.
- ③ 난징 대학살 당시 참상을 조사한다.
- ④ 양무운동이 시작된 배경을 찾아본다.
- ⑤ 일본이 타이완을 차지하게 된 경위를 알아본다.

* 확인 사항

- 답안지의 해당란에 필요한 내용을 정확히 기입(표기)했는지 확인하십시오.