

# 사회탐구 영역(동아시아사)

제 4 교시

성명

수험 번호

3


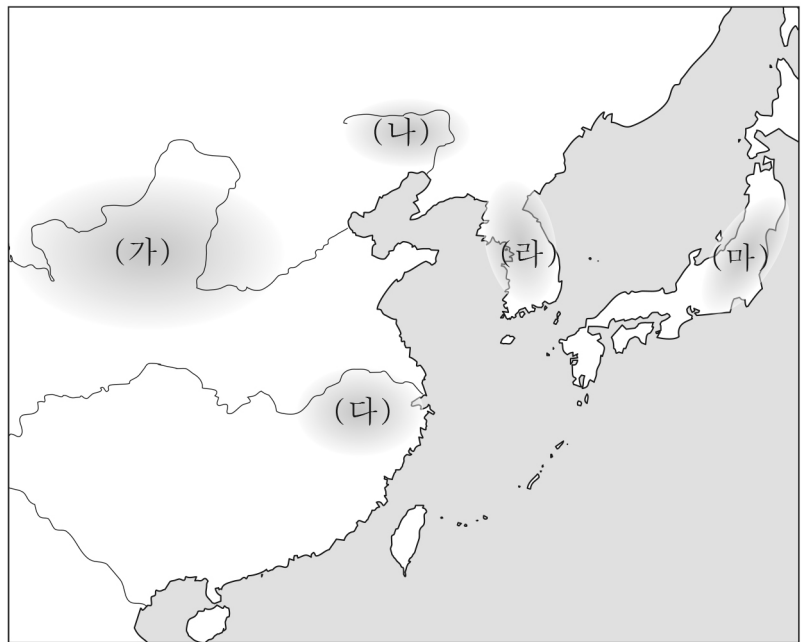
제 [ ] 선택

1

1. 밑줄 친 '이 지역'을 지도에서 옳게 고른 것은?

**【우표로 보는 동아시아 신석기 문화】**

우표 속의 채도는 이 지역에서 발달한 양사오 문화를 대표하는 유물이다. 이 지역에서 만들어진 채도의 표면에는 물고기, 사슴 등의 동물이 그려져 있는데, 이는 풍요와 번성을 기원하는 당시 사람들의 염원이 반영된 것으로 추정된다.

- ① (가)    ② (나)    ③ (다)    ④ (라)    ⑤ (마)

2. (가) 국가의 통치 제도에 대한 설명으로 옳은 것은?

- (가) 은/는 당에 학생을 자주 보내 예악과 제도를 배우게 하였다. 해동의 강성한 나라가 되어 옥저, 고구려, 부여 등의 옛 땅을 차지하였다.
- (가) 의 영역은 사방 5천 리이고, 5경 15부 62주를 두었다. 그 관제로 선조성, 중대성, 정당성과 충부, 인부, 의부, 지부, 예부, 신부 등이 있다.


- ① 독서삼품과를 실시하였다.  
 ② 좌현왕과 우현왕을 두었다.  
 ③ 교육 기관인 주자감을 설립하였다.  
 ④ 남면관제와 북면관제를 시행하였다.  
 ⑤ 행정을 총괄하는 태정관을 설치하였다.

3. (가) 황제에 대한 설명으로 옳은 것은?

이 시는 만리장성을 축조한 (가) 을/를 비판하고 있습니다. 중국을 통일하고 황제라는 칭호를 최초로 사용한 (가) 은/는 대규모 토목 공사를 벌여 백성들의 원성을 샀습니다.

장성(長城)

요순을 따르면 절로 태평한데  
 어찌 백성 괴롭히길 일삼았나.  
 집안에서 화가 일어남을 알지 못하고서  
 오랑캐 막고자 만리장성 쌓았다네.



- ① 남비엣을 정복하였다.  
 ② 팔기제를 시행하였다.  
 ③ 수도를 대도로 옮겼다.  
 ④ 분서갱유를 단행하였다.  
 ⑤ 정화의 함대를 파견하였다.

4. 밑줄 친 '이 전쟁'의 결과로 옳은 것은? [3점]



그림은 만주와 한반도를 둘러싼 두 나라의 갈등 속에 일본의 기습 공격으로 일어난 이 전쟁을 풍자한 것이다. 일본은 봉천 전투에서 승리하고, 동해 해전에서 발트 함대를 격파하였다. 이후 두 나라는 미국의 중재로 포츠머스 조약을 체결하고 이 전쟁을 종결하였다.

- ① 난징 대학살이 일어났다.  
 ② 일본이 류큐를 병합하였다.  
 ③ 닉슨 독트린이 발표되었다.  
 ④ 외국 군대의 베이징 주둔이 허용되었다.  
 ⑤ 일본이 뤼순, 다롄의 조차권을 차지하였다.

5. (가) 왕조 시기의 동아시아 상황으로 옳은 것은? [3점]

(가) 의 효문제는 수도를 뤼양으로 옮기고 호복을 금지하였다. 원비가 이를 따르려 하지 않았으나 그가 황실의 원로였으므로 효문제는 꾀박하지 않았다. ... (중략) ... 조회에 참석한 신하들이 모두 한족의 의관을 착용하였으나 원비만이 홀로 호복을 입고 있었다.

- ① 고려가 후삼국을 통일하였다.  
 ② 탕구트족이 서하를 건국하였다.  
 ③ 왜가 백강 전투에서 패배하였다.  
 ④ 명이 무로마치 막부와 감함 무역을 하였다.  
 ⑤ 고구려가 중국의 남북조와 각각 외교 관계를 맺었다.

## 2 (동아시아사)

## 사회탐구 영역


6. (가) 제국에 대한 설명으로 옳은 것은?

□(가)의 황제가 일본을 정벌하고자 홍차구에게 조서를 내려 합포에서 전함의 건조를 감독하게 하였다. 도원수 홀돈, 부원수 홍차구 등이 이끄는 □(가)의 군대와 도독사 김방경이 지휘하는 고려군이 일본을 공격하였다.

- ① 고조선을 멸망시켰다.
- ② 천호제를 시행하였다.
- ③ 송과 전연의 맹약을 맺었다.
- ④ 임안(항저우)을 수도로 하였다.
- ⑤ 타이완의 정씨 세력을 진압하였다.

7. 밑줄 친 '이 막부' 시기에 동아시아에서 볼 수 있는 모습으로 적절하지 않은 것은?

이 작품은 통신사 일행의 여정을 그린 「사로승구도」의 일부로, 이 막부의 쇼군인 도쿠가와 이에시게가 통신사 일행을 환대하는 모습이 묘사되어 있습니다. 조선이 일본에 파견한 통신사는 양국의 우호 관계를 유지하고 문화 교류를 확대하는 데 기여하였습니다.



- ① 한국-한글 소설을 읽고 있는 상인
- ② 한국-판소리 공연을 관람하는 농민
- ③ 중국-홍루몽을 집필하는 작가
- ④ 일본-다이호 율령을 반포하는 천황
- ⑤ 일본-데라코야에서 공부하는 학생

8. (가) 인물에 대한 설명으로 옳은 것은?



그림은 일본 천태종의 3대 좌주였던 □(가)의 초상화이다. 적산 법화원에 머물며 장보고 세력의 도움을 받은 □(가)은/는 중국 각지를 순례하고 불법을 연구하였다. 그가 중국에서 가져온 불경 등은 일본 불교 발전에 영향을 끼쳤다.

- ① 도다이사를 창건하였다.
- ② 왕오천축국전을 남겼다.
- ③ 쇼토쿠 태자의 스승이 되었다.
- ④ 입당구법순례행기를 저술하였다.
- ⑤ 참선을 중시하는 선종을 창시하였다.

9. 밑줄 친 '이 운동'에 대한 설명으로 옳은 것은? [3점]

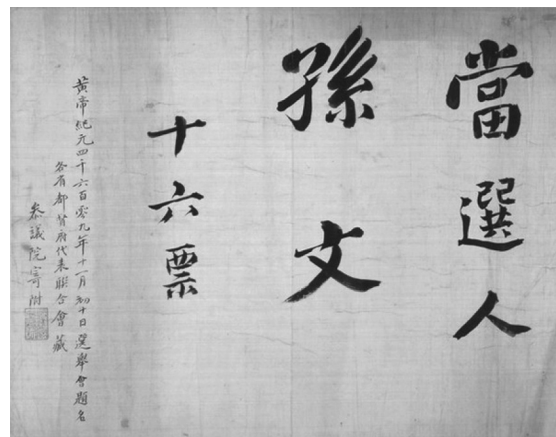
이것은 금릉 기기국 옛터에 있는 이홍장 동상입니다. 이홍장은 태평천국 운동을 진압하면서 서양식 무기의 우수성을 인식하였습니다. 그는 서양의 과학 기술을 받아들여 부국강병을 이루기 위해 이 운동을 추진하였습니다. 이 과정에서 그는 근대적 군수 공장인 금릉 기기국을 설립하였습니다.



- ① 8개국 연합군이 진압하였다.
- ② 중체서용을 기치로 내세웠다.
- ③ 일본의 21개조 요구 철회를 주장하였다.
- ④ 월슨이 제기한 민족 자결주의의 영향을 받았다.
- ⑤ 외교관의 베이징 주재가 인정되는 계기가 되었다.

10. 밑줄 친 '이 혁명'이 일어난 시기를 연표에서 옳게 고른 것은?

[3점]



이것은 쑨원의 임시 대총통 당선증이다. 우창에서 신군이 봉기하여 이 혁명이 시작되자 이에 호응한 각 성이 청으로부터 독립을 선언하였다. 이어 쑨원이 귀국하자 각 성 대표들은 난징에 모여 그를 임시 대총통으로 선출하였다. 중화민국 임시 대총통에 취임한 쑨원은 전제 정치를 타도하고 민생의 안정을 도모할 것을 주장하였다.

(가)	(나)	(다)	(라)	(마)
-----	-----	-----	-----	-----

운요호 청·일 전쟁 흥정 헌법 위싱턴 회의 조선 의용대 태평양 전쟁  
사건 발발 대강 반포 개최 창설 발발

- ① (가)    ② (나)    ③ (다)    ④ (라)    ⑤ (마)

11. 밑줄 친 '이 조약'에 대한 설명으로 옳은 것은? [3점]



이 부조에는 몰수한 아편을 폐기하는 장면이 새겨져 있다. 청은 영국의 아편 밀무역으로 인한 사회 문제가 심각해지자 광저우로 임칙서를 보내 아편을 몰수하고 단속을 강화하였다. 영국은 이를 빌미로 전쟁을 일으켰고, 전쟁에서 패한 청은 영국과 이 조약을 체결하여 광저우 등 5개 항구를 개항하였다.

- ① 홍콩 할양이 명시되었다.
- ② 수신사 파견의 배경이 되었다.
- ③ 삼국 간섭이 일어나는 계기가 되었다.
- ④ 크리스티교 포교의 자유를 허용하였다.
- ⑤ 산둥반도에 대한 일본의 이권을 인정하였다.

12. (가)에 대한 설명으로 옳은 것만을 <보기>에서 고른 것은? [3점]



이 조각상의 인물은 이와미 광산의 관리인으로 파견된 오쿠보 나가야스이다. 그는 여러 갱도를 개발하고, 조선에서 들여온 회취법 등을 활용하여 (가)의 생산량을 늘렸다. 이는 이와미 광산 번영의 기초가 되었다.

< 보 기 >

- ㄱ. 한국-중국의 비단 등을 구입하는 데 사용되었다.
- ㄴ. 중국-일조편법에서 세금 납부에 이용되었다.
- ㄷ. 중국-징더전의 주요 생산품으로 외국에 수출하였다.
- ㄹ. 일본-송으로부터 대량으로 수입하였다.

- ① ㄱ, ㄴ    ② ㄱ, ㄷ    ③ ㄴ, ㄷ    ④ ㄴ, ㄹ    ⑤ ㄷ, ㄹ

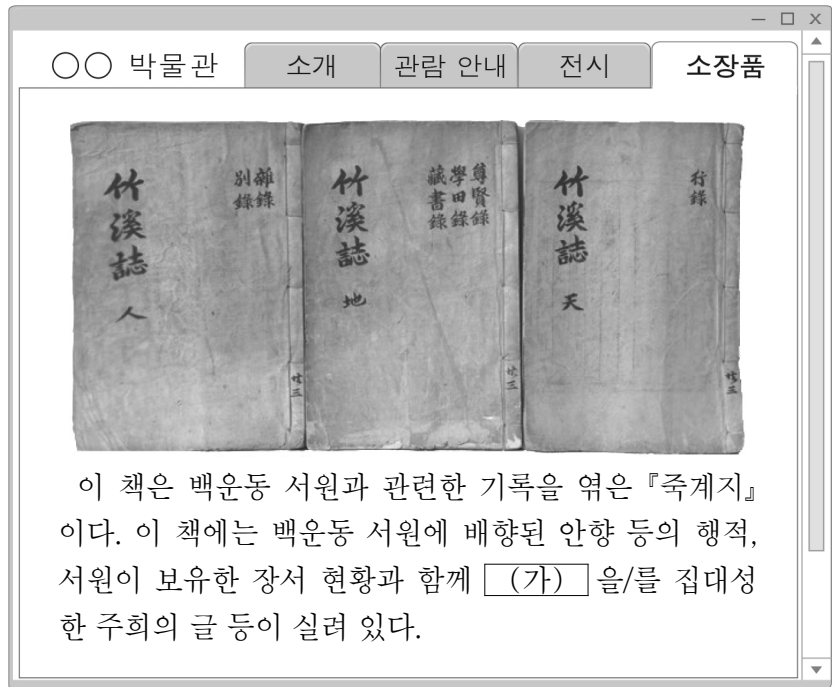
13. 다음 자료를 활용한 탐구 활동으로 가장 적절한 것은?

7월 7일에 발생한 루거우차오 사건을 계기로 일본은 중국에 대한 전면적인 침공을 개시하였다. ...(중략)... 일부 국민 정부의 인사들은 국민 정부의 힘만으로 일본을 쓰러트릴 수 있다고 생각하고 있다. 그러나 국민 정부의 단독 항전만으로는 일본을 중국에서 몰아낼 수 없다. 오직 전 민족적 항전에 의해서만 일본을 타도할 수 있다.

- ① 도이머이 정책의 성과를 파악한다.
- ② 애치슨 라인 발표의 영향을 찾아본다.
- ③ 텐안먼 사건의 전개 과정을 살펴본다.
- ④ 미·일 화친 조약의 내용을 분석한다.
- ⑤ 제2차 국·공 합작의 성립 배경을 알아본다.

14. (가) 유학 사상이 동아시아에 끼친 영향으로 가장 적절한 것은?

[3점]



이 책은 백운동 서원과 관련한 기록을 엮은 『죽계지』이다. 이 책에는 백운동 서원에 배향된 안향 등의 행적, 서원이 보유한 장서 현황과 함께 (가)을/를 집대성한 주희의 글 등이 실려 있다.

- ① 한국-골품제가 시행되었다.
- ② 중국-제자백가가 출현하였다.
- ③ 중국-대당서역기가 편찬되었다.
- ④ 일본-다이카 개신이 단행되었다.
- ⑤ 일본-사서오경왜훈이 저술되었다.

15. 다음 자료에 나타난 전쟁이 동아시아에 끼친 영향으로 적절한 것은?

왜적이 대거 쳐들어와 부산진과 동래성을 함락하고 우리 땅을 짓밟았다. 그러자 이순신은 수군을 이끌고 한산에서 왜적을 격퇴하였고, 김시민은 진주성을 방어하였다. ...(중략)... 권율이 후방에서 왜적을 공격하고, 이여송이 이끄는 명군과 조선군이 연합하여 평양성을 탈환하니 마침내 전세가 역전되었다.

- ① 조선에서 삼포 왜란이 일어났다.
- ② 베트남에서 대월사기가 편찬되었다.
- ③ 명에서 장거정이 개혁을 추진하였다.
- ④ 일본에서 도자기 문화가 발달하였다.
- ⑤ 일본에서 센고쿠 시대가 시작되었다.

## 4 (동아시아사)

# 사회탐구 영역

16. (가) 도시에서 있었던 사실로 옳은 것은?

영사관 경비대 대장에게

최근 일본 영사관에서 (가)에 있는 우리 조계에 대한민국 임시 정부 청사가 있다는 사실을 알려 왔다. ...(중략)... 만약 일본 당국이 한국인의 체포를 요청한다면 그 요구를 거절하기 어려울 것이다. 이에 대한민국 임시 정부 청사의 폐쇄를 결정 하였으니, 한국인에게 짐을 옮길 수 있는 며칠 간의 여유를 준 뒤 이 결정을 시행하기 바란다.

프랑스 총영사관 영사 직무 대리

- ① 데지마가 조성되었다.
- ② 경사 대학당이 세워졌다.
- ③ 초량 왜관이 설치되었다.
- ④ 아주 화친회가 창립되었다.
- ⑤ 윤봉길의 홍커우 공원 의거가 일어났다.

17. (가) 사건에 대한 설명으로 옳은 것은? [3점]

주자파(走資派)\*의 타도를 외치며 상경한 홍위병들이 텐안먼 광장에 집결하면서 (가)의 기운이 고조되었다. ...(중략)... 마오쩌둥을 추종하는 홍위병들은 구문화, 구사상, 구풍속, 구습관의 타도를 내세우며 사당과 불상 등을 파괴하였고, 집집마다 마오쩌둥의 초상화나 사진을 걸게 하였다.

\* 주자파: 자본주의 노선을 추구한다고 비판받았던 사람들

- ① 55년 체제의 성립에 영향을 주었다.
- ② 한국 광복군이 창설되는 계기가 되었다.
- ③ 시모노세키 조약이 체결되는 결과를 가져왔다.
- ④ 중국 공산당이 대장정을 시작하는 배경이 되었다.
- ⑤ 대약진 운동의 실패로 인한 정세 변화 속에서 일어났다.

18. (가) 왕조에 대한 설명으로 옳은 것은?

(가)의 황제가 이르기를 “역적 오삼계가 반란을 일으키니 원난, 구이저우 등이 혼란에 빠졌다. 오삼계가 스스로를 황제라 칭하고 반란의 기세가 날로 커지니, 짐이 하늘을 대신하여 그를 토벌하였다. 또한 그의 손자 오세번이 스스로 목을 내어놓아 변경이 편안해지니 근심이 사라졌다.”라고 하였다.

- ① 별무반을 조직하였다.
- ② 호라즘을 정복하였다.
- ③ 사고전서를 편찬하였다.
- ④ 조선과 기유약조를 체결하였다.
- ⑤ 베트남 북부에 안남 도호부를 설치하였다.

19. (가), (나) 시기 사이에 있었던 사실로 옳은 것은? [3점]

(가) 타이완의 중화민국 정부와 일본 정부는 평화 조약 비준 문서를 교환하고 공식 외교 관계를 맺었다. 이에 타이완 주재 일본 재외 사무소와 도쿄의 중화민국 대표부는 각각 대사관으로 승격되었다.

(나) 저우언라이 중화 인민 공화국 총리와 다나카 일본 총리는 베이징의 인민대회당에서 양국 간의 적대 관계 청산과 국교 정상화의 내용이 담긴 공동 성명을 발표하였다.

- ① 카이로 선언이 발표되었다.
- ② 한·일 기본 조약이 체결되었다.
- ③ 베트남 사회주의 공화국이 수립되었다.
- ④ 중국이 세계 무역 기구[WTO]에 가입하였다.
- ⑤ 극동 국제 군사 재판(도쿄 재판)이 개최되었다.

20. 밑줄 친 ‘이 전쟁’에 대한 설명으로 옳은 것은? [3점]

사진은 이 전쟁에 참전한 군인들이 함정을 타고 작전을 수행하는 장면입니다. 통킹만 사건을 빌미로 이 전쟁에 개입한 미국은 강, 늪지대에서도 신속하게 이동할 수 있는 이 함정을 도입하여 수색 작전 등에 활용하였습니다.



- ① 만주국이 수립되는 배경이 되었다.
- ② 미드웨이 해전으로 전세가 역전되었다.
- ③ 포츠담 선언이 발표되는 계기가 되었다.
- ④ 파리 평화 협정이 체결되는 결과를 낳았다.
- ⑤ 신헌법(평화 헌법)의 제정에 영향을 주었다.

### ※ 확인 사항

- 답안지의 해당란에 필요한 내용을 정확히 기입(표기)했는지 확인 하시오.