

목록

2023학년도(2022년) 고3 6월 생활과윤리_문제지	1
2023학년도(2022년) 고3 6월 윤리와사상_문제지	5
2023학년도(2022년) 고3 6월 한국지리_문제지	9
2023학년도(2022년) 고3 6월 세계지리_문제지	13
2023학년도(2022년) 고3 6월 동아시아사_문제지	17
2023학년도(2022년) 고3 6월 세계사_문제지	21
2023학년도(2022년) 고3 6월 경제_문제지	25
2023학년도(2022년) 고3 6월 정치와법_문제지	29
2023학년도(2022년) 고3 6월 사회문화_문제지	33

제 4 교시

사회탐구 영역(생활과 윤리)

성명

수험 번호

제 [] 선택

1. (가), (나) 윤리학의 주된 목표로 가장 적절한 것은?

(가) 윤리학은 도덕적 논의에서 사용되는 용어의 의미를 분석하고 도덕적 추론의 타당성을 검토하는 것을 근본 과제로 삼는다.
 (나) 윤리학은 도덕 원칙을 실제적인 삶의 문제에 적용하여 구체적인 행위 지침을 제공하는 것을 근본 과제로 삼는다.

- ① (가): 인간의 바람직한 삶의 방향을 제시하는 것이다.
- ② (가): 도덕적 현상에 대해 객관적으로 기술하는 것이다.
- ③ (나): 윤리학이 학문으로 성립할 수 있는지 연구하는 것이다.
- ④ (나): 현실의 윤리 문제에 대한 실천적 해결 방안을 모색하는 것이다.
- ⑤ (가), (나): 보편적인 도덕 원칙을 정립하는 것이다.

2. 갑, 을의 입장으로 가장 적절한 것은? [3점]

갑: 세 개의 갈대가 빈 땅에 서려고 할 때에 서로서로 의지하여야 설 수 있는 것과 같이, 식(識)도 정신과 물질을 인연(因緣)하여 생긴다.
 을: 옳다는 것으로 인해 그른 것이 있고, 그르다는 것으로 인해 옳은 것이 있다. 진인(眞人)은 대립적인 말에 사로잡히지 않고, 모든 대립을 넘어선 자연에 비추어 사유한다.

- ① 갑: 자아의식은 변하지 않는 실체임을 알아야 한다.
- ② 갑: 정신에는 집착해도 물질에는 집착해서는 안 된다.
- ③ 을: 자기중심적 고정 관념과 선입견에서 벗어나야 한다.
- ④ 을: 인(仁)을 실천하기 위해 사욕을 극복하고자 노력해야 한다.
- ⑤ 갑, 을: 내세를 위해 현세에서 도덕적 삶을 추구해야 한다.

3. 다음을 주장한 사상가의 입장에서 <사례> 속 A에게 제시할 조언으로 가장 적절한 것은? [3점]

너의 행위의 준칙이 보편적 법칙이 되기를 바랄 수 있도록 그렇게 행위하라.

<사 례>

사장 A가 돈을 빌리지 않으면 회사는 부도가 나고 직원도 실직하게 된다. A는 친구에게 돈을 빌리기 위해 갚지 못할 것을 알면서도, 돈을 반드시 갚겠다는 거짓 약속을 할지 고민하고 있다.

- ① 정직한 행위에 따르는 보상을 기대하고 행동하세요.
- ② 직원의 처지를 보고 느끼는 동정심에 따라 행동하세요.
- ③ 당신의 고통보다 친구의 고통이 크게 되지 않도록 행동하세요.
- ④ 거짓 약속을 해서라도 당신의 경제적 피해를 최소화하도록 행동하세요.
- ⑤ 모두가 거짓 약속을 시도한다면 과연 약속이란 것이 가능할지 판단하여 행동하세요.

4. 다음의 가상 대화에서 ㉠에 들어갈 주장으로 가장 적절한 것은?



- ① 죽은 후에 감각 능력이 없으므로 죽음을 두려워해야 합니다.
- ② 죽은 후에 고통을 겪지 않도록 죽음을 두려워하지 말아야 합니다.
- ③ 죽은 후에 고통을 겪을 수도 있으므로 죽음을 두려워해야 합니다.
- ④ 죽은 후에 고통을 겪을 수 없으므로 죽음을 두려워할 필요가 없습니다.
- ⑤ 죽은 후에 쾌락을 얻을 수도 있으므로 죽음을 두려워할 필요가 없습니다.

5. 다음 토론의 핵심 쟁점으로 가장 적절한 것은? [3점]

갑: 성관계가 사랑하는 사람 사이에 서로의 인격을 존중하면서 이루어진다면 도덕적으로 정당화됩니다. 이때 인격 존중이란 서로의 자율성을 보장하는 것입니다.
 을: 물론 사랑과 상호 인격 존중은 성관계에서 필수적입니다. 그러나 성관계는 출산과 양육에 대해 책임을 져야 하는 문제를 발생시킬 수 있기 때문에 부부간의 성관계만이 도덕적으로 정당화됩니다.
 갑: 성관계는 그와 같은 책임의 문제를 낳을 수도 있습니다. 하지만 그러한 문제를 낳지 않는 성관계도 얼마든지 가능합니다. 또한 결혼하지 않아도 그러한 책임을 충분히 감당할 수 있습니다.
 을: 아닙니다. 결혼하지 않은 상태에서는 그러한 책임을 지기 어려워 사회의 안정성이 위협받습니다. 부부 사이의 성관계는 안정된 가족 관계를 유지하는 데 도움이 됩니다.

- ① 자발적이지 않은 성관계는 정당화될 수 있는가?
- ② 성관계는 도덕적 가치 판단의 대상이 될 수 있는가?
- ③ 성관계가 정당화되기 위해서는 결혼이 반드시 요구되는가?
- ④ 자율성과 사랑은 성관계가 정당화되기 위한 전제 조건인가?
- ⑤ 성관계는 출산과 양육에 대한 책임 문제를 발생시킬 수 있는가?

2 (생활과 윤리)

사회탐구 영역

6. 갑, 을의 입장에 대한 적절한 설명만을 <보기>에서 고른 것은?

갑: 잠재적인 것은 현실적인 것과 동일한 가치를 갖는다. 인간 배아는 연속적인 발달 과정을 거쳐 성인이 될 잠재성을 갖기에 성인과 같은 도덕적 지위를 갖는다. 따라서 배아의 파괴를 수반하는 배아 복제는 유용하더라도 허용될 수 없다.
 을: 잠재적인 것은 현실적인 것과 다르다. 신체 기관이 형성되지 않은 인간 배아는 도덕적 지위를 전혀 갖지 않는다. 배아 복제는 인류에게 의료적 혜택을 줄 수 있기 때문에 이를 금지하는 것은 사회적 손실이다.

—<보 기>—

ㄱ. 갑: 인간 배아는 발달 단계에 따라 도덕적 지위가 달라진다.
 ㄴ. 을: 인간 배아는 단순한 세포 덩어리에 불과하다.
 ㄷ. 을: 인간 배아를 수단으로 대할 수 있는 경우가 있다.
 ㄹ. 갑, 을: 배아 복제 여부는 공리적 관점에서 결정해야 한다.

- ① ㄱ, ㄴ ② ㄱ, ㄷ ③ ㄴ, ㄷ ④ ㄴ, ㄹ ⑤ ㄷ, ㄹ

7. 다음을 주장한 사상가의 입장으로 적절하지 않은 것은? [3점]

부모님이 노쇠하고 집안이 가난하다는 것은 진실로 딱한 일이다. 그렇다고 자신의 딱한 처지를 벗어나고자 목민관이 되고자 하는 것은 올바른 일이 아니다. 천지의 공적 이치[公理]로 보면, 벼슬을 위해서 사람을 선발하는 것이지, 사람을 위해서 벼슬을 선택하는 경우는 없다. 만약 목민관에 임명되어 부임지에 갈 때에는 부유하더라도 검소한 차림이어야 하며, 관청의 재물이나 자산이 여유롭다 하더라도 절약할 수 있는 검소함을 지녀야 한다. 또한 고을의 선비들에게 학문을 권장하기 위해 한 수레의 책을 가져가는 것이 청렴한 관리의 자세이다.

- ① 목민관은 관할하는 관청의 재물을 절약해서 사용해야 한다.
 ② 가족의 생계를 위해 목민관의 관직을 맡는 것은 바람직하다.
 ③ 비싼 옷을 살 여유가 있더라도 목민관은 소비를 절제해야 한다.
 ④ 공과 사를 분명하게 구분하는 것은 목민관의 올바른 태도이다.
 ⑤ 목민관은 관할 지역의 학문 풍토를 조성하기 위해 노력해야 한다.

8. 다음을 주장한 사상가의 입장으로 적절한 것만을 <보기>에서 고른 것은?

한 곡의 음악은 시작할 때 여러 소리가 합해졌다가 각각의 소리가 풀려 나오며 조화를 이루고, 음이 분명하면서도 끊임 없이 이어져 완성된다. 이렇듯 음악은 여러 소리가 자기 소리를 내면서도 조화를 이루는 것이기에 배워 둘 만하다. 시가 순수한 마음을 불러일으키고 예의는 사람들을 인류에 맞게 살아가게 하며 음악은 궁극적으로 인격을 완성시킨다.

—<보 기>—

ㄱ. 음악은 개인의 도덕적 성품을 함양하기 위해 필요하다.
 ㄴ. 음악은 예의와 무관하게 심미적 가치만을 담아야 한다.
 ㄷ. 음악은 사람들이 서로 조화를 이루는 데 기여해야 한다.
 ㄹ. 음악은 사람들의 경제적 이득 여부에 따라 활용되어야 한다.

- ① ㄱ, ㄴ ② ㄱ, ㄷ ③ ㄴ, ㄷ ④ ㄴ, ㄹ ⑤ ㄷ, ㄹ

9. 갑, 을 사상가들의 입장으로 적절한 것만을 <보기>에서 있는 대로 고른 것은?

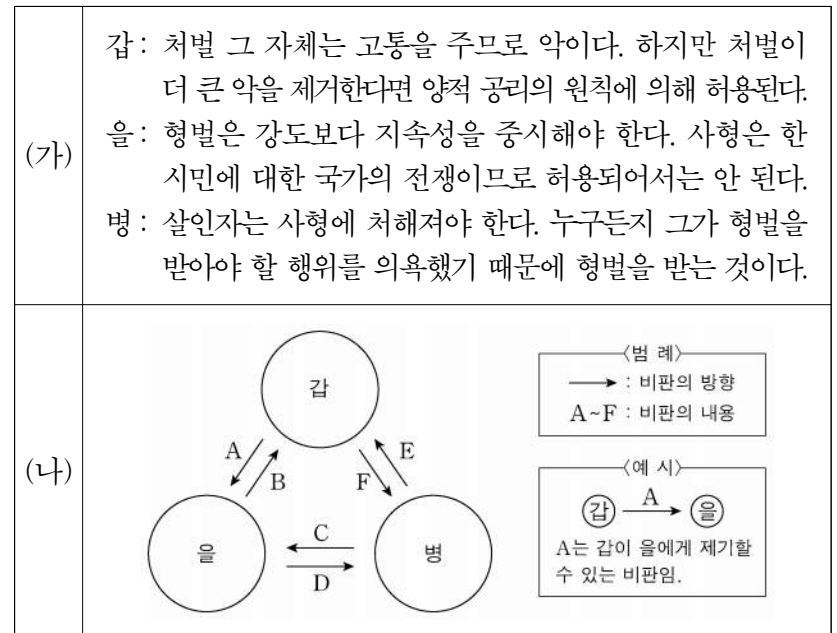
갑: 사람이 천부적으로 타고난 것이나 사회의 어떤 특정한 지위에 태어나는 것은 정의롭다거나 부정의하다고 할 수 없다. 이것은 단지 자연적 사실에 불과하다. 정의 여부가 문제되는 것은 제도가 그러한 사실들을 처리하는 방식이다.
 을: 정형적 분배 원리는 생산과 분배를 독립된 주체로 취급한다. 하지만 소유 권리론에 따르면 이들은 분리된 것이 아니다. 생산과 관련된 사람들의 과거 행위는 사물들에 대한 차별적인 소유 권리를 창조한다.

—<보 기>—

ㄱ. 갑: 차등의 원칙은 자연적 운의 도덕적 임의성을 처리하는 공정한 분배의 원칙이다.
 ㄴ. 갑: 최소 수혜자에게 이득이 된다면 천부적 재능으로 인한 소득 격차도 허용될 수 있다.
 ㄷ. 을: 역사적 원리에 따른 부의 불평등은 정당화될 수 있다.
 ㄹ. 갑, 을: 개인은 사회적 운의 결과물에 대해 정당한 자격을 갖지 않는다.

- ① ㄱ, ㄴ ② ㄱ, ㄹ ③ ㄷ, ㄹ
 ④ ㄱ, ㄴ, ㄷ ⑤ ㄴ, ㄷ, ㄹ

10. (가)의 갑, 을, 병 사상가들의 입장에서 서로에게 제기할 수 있는 비판을 (나) 그림으로 표현할 때, A~F에 해당하는 내용으로 가장 적절한 것은?



- ① A: 형벌을 통해 행위를 통제하고자 하는 대상은 범죄자에 국한되어야 함을 간과한다.
 ② B: 형벌의 종류와 크기는 사회적 파급 효과를 고려하여 정해야 함을 간과한다.
 ③ C, E: 형벌은 사회적 선을 촉진하기 위한 수단으로 가해질 수 없음을 간과한다.
 ④ D: 사형을 통해 지속적으로 공포 인상을 주어 범죄를 예방해야 함을 간과한다.
 ⑤ F: 형벌로부터 초래되는 해악은 형벌을 부과할 때 고려해야 할 사항이 아님을 간과한다.

11. 갑, 을 사상가들 중 적어도 한 사람이 부정의 대답을 할 질문으로 적절한 것만을 <보기>에서 고른 것은? [3점]

갑: 자연 상태에서 인간의 경쟁, 불신,功名심 때문에 분쟁이 발생한다. 이러한 전쟁 상태로부터 벗어나서 자연권을 보호하기 위해 개인들은 사회적 동의로 절대 권력을 수립한다.
 을: 자연 상태에서 개인들은 생명, 자유, 재산의 권리를 보호하기 위해 입법부를 구성하기로 합의한다. 그러나 입법부가 자연권을 보호하지 못하면 시민들은 신탁을 철회할 수 있다.

<보 기>

- ㄱ. 공권력이 형성된 이후에 자연권 보호는 개인만의 책임인가?
- ㄴ. 정부에 의한 시민의 재산권 침해는 정부 해체의 근거가 되는가?
- ㄷ. 국가의 권위에 복종해야 할 의무는 계약에 토대를 두는가?
- ㄹ. 인간은 자연 상태에서 이성의 능력을 발휘하여 계약을 하는가?

- ① ㄱ, ㄴ ② ㄱ, ㄷ ③ ㄴ, ㄷ ④ ㄴ, ㄹ ⑤ ㄷ, ㄹ

12. 갑, 을 사상가들의 입장으로 적절한 것만을 <보기>에서 있는 대로 고른 것은? [3점]

갑: 시민 불복종을 결심함에 있어서 우리는 결과론적 관점에서 불복종을 통해 중단시키고자 하는 악의 크기와 우리의 행위가 가져올 법에 대한 존중의 감소 가능성을 저울질해 봐야 한다.
 을: 시민 불복종은 공동체의 정의감에 호소하기에, 평등한 자유의 원칙에 대한 심한 위반이나 공정한 기회 균등의 원칙에 대한 현저한 위배에 국한되어야 한다.

<보 기>

- ㄱ. 갑: 시민 불복종은 불법 행위이지만 법치를 존중하는 행위이다.
- ㄴ. 을: 종교의 자유를 부정하는 법은 시민 불복종의 대상이 된다.
- ㄷ. 을: 부정의한 법을 변혁하고자 불가피하게 다른 법을 위반하는 시민 불복종은 정당화될 수 있다.
- ㄹ. 갑, 을: 다수결 원칙에 따라 민주적으로 제정된 법은 시민 불복종의 대상이 아니다.

- ① ㄱ, ㄴ ② ㄱ, ㄷ ③ ㄷ, ㄹ
- ④ ㄱ, ㄴ, ㄷ ⑤ ㄴ, ㄷ, ㄹ

13. 다음 글의 입장으로 적절하지 않은 것은?

산업 사회에서 유한계급은 사회적 명성의 측면에서 사회 구조의 정점에 위치하고 그들의 생활 양식은 사회의 평가 기준이 된다. 이 기준은 사회 구조의 가장 낮은 계층에 이르기까지 영향을 미친다. 각 계층에 속하는 사람들은 바로 위 계층에서 유행하는 생활 양식에 가까워지고자 온갖 노력을 기울이기 때문이다. 어떤 계급도, 즉 아무리 빈곤한 계급이라도 관례적인 과시적 소비를 전혀 하지 않을 수는 없다. 명성을 얻기 위해서는 과시적 소비를 할 수밖에 없으며, 과시적 소비를 하기 위해서는 부(富)가 있어야 한다.

- ① 과시적 소비로부터 완전히 자유로운 계층은 없다.
- ② 빈곤한 계층의 소비 행위는 사회적 명성과는 관련이 없다.
- ③ 산업 사회에서 명성을 얻기 위해서는 부를 필요로 한다.
- ④ 유한계급에게 과시적 소비는 명성을 획득하는 수단이다.
- ⑤ 사회에서 유행하는 생활 양식은 유한계급에 의해 주도된다.

14. 다음 글의 입장에서 ㉠에 대한 해결 방안으로 가장 적절한 것은?

우리가 효율성이 높은 인공지능 개발에만 주로 관심을 기울인 나머지, 인공지능이 행하는 혐오와 차별의 표현은 용인될 수 없는 사회적 문제로 대두되었다. 이 문제는 인공지능이 학습하는 데이터 자체의 비윤리성에 기인한다. 인공지능이 인간 수준의 윤리적 판단력을 갖추는 것은 불가능하므로 적절한 여과 과정을 거친 데이터를 인공지능에 제공해야 한다. 주목할 것은 그것의 비윤리적인 표현들이 우리의 일상 언어에 근거한다는 사실이다. 이 언어들은 인공지능에게는 숫자로 변환되는 전산 언어에 불과하지만, 그것들이 우리에게 다시 돌아올 때에는 ㉠ 윤리적 문제를 일으킬 수 있다.

- ① 인공지능의 데이터 처리 속도를 높이기 위한 기술을 개발해야 한다.
- ② 인공지능의 표현을 수용할 수 있는 관용적인 태도를 함양해야 한다.
- ③ 인간의 도덕적 검증을 거친 학습 데이터를 인공지능에 입력해야 한다.
- ④ 인간보다 뛰어난 도덕적 판단력을 지닌 인공지능을 개발해야 한다.
- ⑤ 인간 친화적인 인공지능 개발을 위해 일상 언어를 인공지능에 그대로 입력해야 한다.

15. (가)의 갑, 을 사상가들의 입장을 (나) 그림으로 탐구하고자 할 때, A~C에 들어갈 적절한 질문만을 <보기>에서 있는 대로 고른 것은? [3점]

(가)	<p>갑: 질서 정연한 사회들은 고통받는 사회의 구성원들이 자신들의 문제를 합당하게 관리할 수 있도록 도와야 한다. 즉, 그 사회가 제도와 문화를 개선하여 질서 정연한 사회가 되도록 도와야 한다.</p> <p>을: 풍요로운 사회의 부유한 사람들은 고통받는 전 세계 사람들을 위해 소득의 일부를 기부해야 한다. 고통을 감소시키고 쾌락을 증진하는 것은 인류의 의무이다.</p>
(나)	

<보 기>

- ㄱ. A: 원조의 목적은 인류 전체의 복지 증진이 아니라 정치 체제의 개선이어야 하는가?
- ㄴ. B: 원조의 목표를 달성하기 위해서는 국가 간 부의 재분배가 필수적인가?
- ㄷ. B: 원조 대상 국가에게 인권을 강조하는 것은 원조의 목적 실현을 저해하는가?
- ㄹ. C: 원조를 통해 방지할 해악보다 더 큰 희생이 발생한다면 원조는 중단될 수 있는가?

- ① ㄱ, ㄷ ② ㄱ, ㄹ ③ ㄴ, ㄷ
- ④ ㄱ, ㄴ, ㄹ ⑤ ㄴ, ㄷ, ㄹ

16. 다음 신문 칼럼의 입장으로 적절하지 않은 것은? [3점]

○○신문 ○○○○년 ○○월 ○○일

칼럼

정보 기술의 발달은 우리에게 인터넷과 사이버 공간을 선물로 안겨 주었다. 이에 대해 일부에서는 정부가 빅 데이터 기술을 활용하여 시민들을 감시하는 '판옵티콘' 사회를 우려하고 있다. 다른 한편에서는 사이버 공간이 현실 정치권력으로부터 완전히 독립된 '디지털 에덴동산'이 될 수 있다고 낙관한다. 하지만 사이버 공간은 인간 기술이 만든 또 하나의 현실 공간이다. 정부가 빅 데이터 기술을 활용하듯이, 시민들도 정보 기술을 통해 정부의 정책이나 행정을 감시할 수 있다. 또한 시·공간적 제약에서 해방되어 정치적으로 활동할 수 있는 시민의 힘도 증가한다. 이처럼 사이버 공간이 아테네의 아크로폴리스 역할을 담당함으로써 전자 민주주의의 꽃을 활짝 필 것이다. 이러한 민주주의는 시민들의 높은 정치의식과 민주적 토론 문화가 뒷받침되어야만 열매를 맺을 것이다.

- ① 전자 민주주의는 시민들의 적극적인 참여를 필요로 한다.
- ② 정보 기술의 발전은 직접 민주주의의 가능성을 높여 준다.
- ③ 사이버 공간은 새로운 소통의 장으로 정치 참여의 폭을 넓혀 준다.
- ④ 정보 기술은 정부와 시민이 상호 견제할 수 있는 힘을 제공한다.
- ⑤ 사이버 공간은 익명성으로 인해 법치로부터 벗어난 공간이다.

17. 다음을 주장한 사상가의 관점에서 볼 때 문화에 대해 취할 입장으로 적절한 것만을 <보기>에서 고른 것은? [3점]

- 이상적인 사회가 당장 가능할 것이라는 가정은 합리적이지 않다. 사회적 문제들을 점진적으로 개선하면서 더 좋은 사회로 나아가려는 태도가 중요하다.
- 인간 이성의 한계는 관용을 요청한다. 하지만 우리가 관용적이지 않은 사람들에게까지 무제한의 관용을 베푼다면, 관용적인 사람들은 파멸할 것이고 관용도 소멸할 것이다.

<보 기>

- ㄱ. 모든 문화는 고유성을 지니기에 용인되어야 한다.
- ㄴ. 자기 문화를 비판하는 것에 대해 열린 태도가 필요하다.
- ㄷ. 불관용적인 문화에 대해서는 관용하지 않을 권리가 있다.
- ㄹ. 어떤 문화가 바람직한지 여부를 판단하는 기준은 존재하지 않는다.

- ① ㄱ, ㄴ ② ㄱ, ㄷ ③ ㄴ, ㄷ ④ ㄴ, ㄹ ⑤ ㄷ, ㄹ

18. 다음을 주장한 사상가의 ㉠에 대한 입장으로 가장 적절한 것은?

현대 사회에서는 다양한 사회적 갈등이 발생한다. 이러한 갈등을 합리적으로 해결하기 위한 하나의 방안은 의사소통 이론을 바탕으로 상호 이해를 증진하기 위해 대화를 하는 것이다. 어떤 주장이 정당성을 갖기 위해서는 논증적인 대화인 ㉠에 참여한 당사자들이 합의에 도달해야 한다. 어떤 사안에 대해 당사자들이 합리적 근거를 제시하는 토론의 과정을 거치면서 주장의 정당성이 확보된다. 보편적인 합의에 도달하기 위해서는 시민들의 적극적인 참여에 의한 공론장이 활성화 되어야 한다.

- ① 오류 가능성을 내포한 주장을 제시해서는 안 된다.
- ② 개인적 선호나 욕구는 최대한 숨기고 발언해야 한다.
- ③ 참여자 다수의 동의로 규범의 정당성을 확보해야 한다.
- ④ 합의에 이른 주장에 대해서는 재논의를 허용해서는 안 된다.
- ⑤ 발언 기회는 합리적 논증 능력에 따라 차등 부여되어서는 안 된다.

19. (가)의 갑, 을, 병 사상가들의 입장을 (나) 그림으로 표현할 때, A~D에 해당하는 적절한 진술만을 <보기>에서 있는 대로 고른 것은?

(가)	<p>갑: 어떤 존재가 고통과 즐거움을 경험할 수 있는 능력이 있는지 없는지는 우리가 그 존재들의 이익에 관심을 가질지 여부를 판가름하는 유일한 경계가 된다.</p> <p>을: 동물은 비록 이성은 없을지라도 살아 있는 피조물임을 고려할 때, 동물을 폭력적으로 잔인하게 다루는 것은 인간 자신에 대한 의무를 거스르는 것이다.</p> <p>병: 대지 윤리는 인류의 역할을 토지 공동체의 정복자에서 평범한 구성원으로 변화시키며, 동료 구성원에 대한 존중을 필연적으로 수반한다.</p>
(나)	

<보 기>

- ㄱ. A: 동물에 대한 인간의 행위는 공리의 원리에 근거해야 한다.
- ㄴ. B: 모든 동물에게 인간과 동등한 도덕적 지위를 부여하는 것은 옳지 않다.
- ㄷ. C: 어떤 존재가 생명을 지닌 개체가 아니어도 도덕적 지위를 가질 수 있다.
- ㄹ. D: 쾌고 감수 능력의 보유 여부에 의해 개체의 도덕적 지위가 결정된다.

- ① ㄱ, ㄷ ② ㄱ, ㄹ ③ ㄴ, ㄹ
- ④ ㄱ, ㄴ, ㄷ ⑤ ㄴ, ㄷ, ㄹ

20. (가)의 입장에 비해 (나)의 입장이 갖는 상대적 특징을 그림의 ㉠~㉤ 중에서 고른 것은? [3점]

(가) 오직 국익에 도움이 되는지 여부를 기준으로 국가의 대외 정책의 좋고 나쁨이 결정된다. 힘의 논리를 바탕으로 한 국익 추구로 인하여 국제 분쟁이 발생하며, 평화는 힘의 균형을 통해 전쟁을 예방 또는 억지함으로써 달성될 수 있다.

(나) 국제 사회의 부정의는 국가들의 행동을 규제하는 국제기구나 국제적 규범을 통해 해결할 수 있다. 국제법은 국제 사회에서 매우 중요하며, 평화는 국가 간의 이성적 대화와 협력, 국제기구 등의 노력을 통해 달성될 수 있다.

- ① ㉠ ② ㉡ ③ ㉢ ④ ㉣ ⑤ ㉤

* 확인 사항

- 답안지의 해당란에 필요한 내용을 정확히 기입(표기)했는지 확인 하시오.

제 4 교시

사회탐구 영역 (윤리와 사상)

성명

수험 번호

제 [] 선택

윤리와 사상

1. 다음 가상 편지를 쓴 고대 서양 사상가가 강조하는 삶의 태도로 가장 적절한 것은?

○○님께

어떤 상황에도 동요하지 않는 마음의 평화로운 상태, 즉 부동심을 유지하기 위해서는 세상에서 일어나는 일들이 당신이 바라는 대로 일어나기를 요구해서는 안 됩니다. 오히려 일어나는 일들이 실제로 일어나는 대로 일어나기를 원해야 합니다.

... (중략) ...

우리가 어떤 일을 할 때 신과 인간이 공통으로 지니고 있는 본성, 즉 이성(logos)을 따르면 아무것도 두려울 것이 없습니다.

- ① 행복한 삶을 살기 위해 감각적인 쾌락을 추구해야 한다.
- ② 만물을 창조한 인격적 존재인 신과의 합일을 지향해야 한다.
- ③ 공리의 원리에 기초하여 최대 다수의 최대 행복을 실현해야 한다.
- ④ 자연을 지배하는 보편적 이성의 명령에 따라 운명에 순응해야 한다.
- ⑤ 인간은 만물의 척도이므로 객관적 진리가 없음을 깨달아야 한다.

2. 고대 서양 사상가 갑, 을의 입장으로 옳은 것만을 <보기>에서 있는 대로 고른 것은?

갑: 덕은 이성이 탁월하게 발휘되는 상태이다. 덕 가운데 어떤 것은 지적인 덕이라 부르며, 다른 어떤 것은 도덕적인 덕이라고 부른다. 철학적 지혜나 이해력, 실천적 지혜는 지적인 덕이요, 온화라든가 절제는 도덕적인 덕이다.

을: 쾌락은 마음의 혼란과 육체의 고통으로부터의 자유이다. 쾌락은 모든 가치를 평가하는 최고선이자 행복한 삶의 시작이고 끝이다. 아름다움과 탁월함도 우리에게 쾌락을 제공해 주지 못한다면 버려야 한다.

<보 기>

ㄱ. 갑: 실천적 지혜는 행동에 영향을 미칠 뿐 감정에는 영향을 미치지 못한다.

ㄴ. 갑: 도덕적인 덕은 영혼의 이성적인 부분에만 관계되고 습관에 의해 형성된다.

ㄷ. 을: 명예욕이 충족되지 않더라도 고통은 유발되지 않는다.

ㄹ. 갑, 을: 행복한 삶을 위해 이성의 능력을 발휘하는 것이 필수적이다.

- ① ㄱ, ㄴ ② ㄴ, ㄷ ③ ㄷ, ㄹ
- ④ ㄱ, ㄴ, ㄹ ⑤ ㄱ, ㄷ, ㄹ

3. 그림은 중국 유교 사상가 갑, 을의 가상 대화이다. 갑, 을의 입장으로 가장 적절한 것은?



- ① 갑: 사욕을 제거하여 행위 주체의 도덕성을 회복해야 한다.
- ② 갑: 성인(聖人)은 백성과 달리 불변하는 본성인 양지를 지닌다.
- ③ 을: 격물(格物)은 이치를 궁구하여 본연지성을 바로잡는 일이다.
- ④ 을: 먼저 알아야 실천할 수 있기에 앎[知]이 실천[行]보다 중요하다.
- ⑤ 갑, 을: 마음 바깥에 이치가 없고 마음 바깥에 사물이 없다.

4. 다음을 주장한 고대 동양 사상가의 입장으로 옳은 것은? [3점]

이것이 있기 때문에 저것이 있고, 이것이 일어나기 때문에 저것이 일어난다. 즉 무명(無明)을 조건[緣]으로 행(行)이 있고 행을 조건으로 식(識)이 있으며 식을 조건으로 정신과 물질[名色]이 있고 ... (중략) ... 생(生)을 조건으로 늙음, 죽음, 근심, 슬픔, 고통, 번뇌가 있다. 이와 같이 큰 괴로움의 무더기가 모인다.

- ① 영원한 본성을 가진 자아만이 독립적으로 존재할 수 있다.
- ② 무상(無常)한 것들 사이에는 어떤 관계도 존재하지 않는다.
- ③ 인연(因緣)에 의해 생성된 모든 현상은 더 이상 변화하지 않는다.
- ④ 오온(五蘊)으로 구성된 존재만이 고정되어 있음을 자각해야 한다.
- ⑤ 인간은 현상 세계의 모든 존재에 대한 집착에서 벗어나야 한다.

5. 다음을 주장한 중세 서양 사상가의 입장으로 옳은 것은? [3점]

이성적 피조물은 영원한 이성 안에 참여함으로써 적절한 행동과 목적에 대한 자연적 성향을 지닌다. 이성적 피조물 안에서 영원법의 참여가 바로 자연법이다. 자연법의 제1 원리는 “선을 행하고 악을 피하라.”라는 것이다. 이것은 자기 생명을 보존하려는 성향, 종족을 보존하려는 성향, 신에 대해 알고자 하는 성향, 사회적 삶을 영위하려는 성향에 의해 구체화된다.

- ① 자연법은 인간의 성향에 근거한다는 이유에서 가변적이다.
- ② 실정법과 자연법은 영원불변의 질서인 영원법에 근거해야 한다.
- ③ 신앙과 이성의 영역은 서로 구분되기 때문에 양립할 수 없다.
- ④ 인간의 궁극적 목적으로서 최고의 행복은 현세에서만 가능하다.
- ⑤ 인간이 마땅히 따라야 할 자연법은 이성으로 인식할 수 없다.

2 (윤리와 사상)

사회탐구 영역

[6~7] 갑, 을은 한국 유교 사상가들이다. 물음에 답하시오.

갑: 이(理)는 기(氣)를 주재하는 장수와 같으며, 기는 이의 주재를 받는 줄병과 같다. 사단(四端)은 이가 발하고 기가 따른 것이며, 칠정(七情)은 기가 발하고 이가 탄 것이다.
 을: 사단이다 칠정이다 말하는 것은 오로지 이만을 말하는 것과 이와 기를 아울러 말하는 것의 차이에 기인한다. 사단은 칠정을 겸할 수 없으나 칠정은 사단을 겸할 수 있다.

6. 갑, 을의 입장으로 옳은 것만을 <보기>에서 있는 대로 고른 것은? [3점]

<보 기>

ㄱ. 갑: 이는 순선하기에 기가 따르지 않아도 사단으로 드러난다.
 ㄴ. 갑: 사단은 선한 이치(理)이고 칠정은 선악이 섞인 감정이다.
 ㄷ. 을: 도덕 감정과 일반 감정은 동일한 연원에서 유래한다.
 ㄹ. 갑, 을: 마음과 몸을 주재하는 공부로서 경(敬)을 실천해야 한다.

- ① ㄱ, ㄴ ② ㄴ, ㄷ ③ ㄷ, ㄹ
 ④ ㄱ, ㄴ, ㄷ ⑤ ㄱ, ㄷ, ㄹ

7. 다음을 주장한 한국 사상가가 갑, 을 모두에게 제기할 수 있는 비판으로 가장 적절한 것은?

하늘[天]이 나에게 성(性)을 부여할 때 선(善)을 좋아하는 감정과 함께 선을 택할 수 있는 능력을 주었다. 사람의 성이 선을 행하기를 좋아함은 마치 물의 성이 아래로 흘러가기를 좋아하는 것과 같다. 하늘이 이 성을 부여하였으니, 온갖 탐욕과 음란과 학살을 행하더라도 이 성은 결코 변하지 않는다.

- ① 사덕(四德)은 성에 내재한 사단을 파악하는 단서임을 간과한다.
 ② 사덕이 형성되기 이전에는 사단이 존재하지 않음을 간과한다.
 ③ 형구(形龜)의 기호가 천부적으로 사단에 포함되어 있음을 간과한다.
 ④ 사덕은 선을 좋아하는 기호를 실천하여 형성되는 것임을 간과한다.
 ⑤ 영지(靈知)의 기호를 지닌 인간은 선을 행할 수밖에 없음을 간과한다.

8. 중국 불교 사상가 갑, 한국 불교 사상가 을의 입장으로 옳은 것은?

갑: 자기의 본래 마음을 아는 것이 본래의 성품을 보는 것이니, 깨달으면 원래 차별이 없고 바로 최상의 지혜를 이루게 된다. 그러므로 법(法)에는 단박에 깨달음만 있을 뿐 점차로 깨달음이 있을 수 없다.
 을: 자기의 본래 성품이 부처와 다르지 않음을 깨달았다 하더라도 습기(習氣)는 갑자기 버리기 어렵다. 얼음 연못이 전부 물인 것을 알지만 별의 기운을 빌려야 녹여지는 것처럼 깨달음을 바탕으로 훈습(薰習)하고 닦아야 한다.

- ① 갑: 경전 공부를 거치지 않고서는 본성의 자각에 이를 수 없다.
 ② 갑: 마음의 직관을 통해 중생에게 불성(佛性)이 있음을 알 수 있다.
 ③ 을: 마음이 아닌 오직 말과 글로만 가르침을 전달할 수 있다.
 ④ 을: 오랫동안 쌓아 온 습기를 제거한 후에만 단박에 깨칠 수 있다.
 ⑤ 갑, 을: 선정(定)과 지혜(慧)를 통해 부처의 깨달음을 얻을 수 있다.

9. 근대 서양 사상가 갑, 현대 서양 사상가 을의 입장으로 옳은 것은? [3점]

갑: 의무에 맞는 행위와 의무로부터 나온 행위 사이의 구별은 다음과 같은 점에 의거한다. 의무에 맞는 행위는 그 행위의 동기가 순전히 경향성일 때에도 가능하지만, 의무로부터 나온 행위는 오로지 도덕 법칙으로부터 비롯되는 것이다.
 을: 조건부 의무를 부여하는 근거가 있다. 예를 들면, 약속한 자와 약속받은 자, 부모와 자식, 친구와 친구의 관계가 조건부 의무를 부여한다. 그러나 조건부 의무 사이에 갈등이 발생하면 더 강한 의무가 우리의 실제 의무가 된다.

- ① 갑: 의무로부터 나온 행위는 결코 행복 증진에 기여하지 못한다.
 ② 갑: 의무로부터 나온 행위와 의무에 맞는 행위는 모두 자율적이다.
 ③ 을: 조건부 의무들은 서로 충돌하기 전까지는 실제 의무가 된다.
 ④ 을: 조건부 의무들이 충돌하는 상황이 달라지더라도 조건부 의무들 간의 우선순위는 불변한다.
 ⑤ 갑, 을: 인간이 따라야 할 절대적이고 단일한 옳은 의무가 존재한다.

10. (가)의 근대 한국 사상가 갑, 을, 병의 입장에서 서로에게 제기할 수 있는 비판을 (나) 그림으로 표현할 때, A~F에 해당하는 내용으로 가장 적절한 것은?

(가)	<p>갑: 강화(講和)가 이루어지면 사학(邪學)의 서적과 종교가 들어올 것이고, 사학이 온 나라에 퍼질 것이다. 이를 내버려 둔다면 예의는 시궁창에 빠지고 인간들은 금수가 될 것이니 사학을 배척해야[斥邪] 한다.</p> <p>을: 우리의 도는 무위이화(無爲而化)이다. 마음을 지키고 기운을 바르게 하고[守心正氣] 한울님의 성품을 거느리고 한울님의 가르침을 받으면, 자연스러운 가운데 조화가 나온다.</p> <p>병: 동양의 삼강과 오상, 효제충신은 오랑캐의 땅에서도 버릴 수 없는 도(道)이다. 예악과 형정, 복식과 기용은 수시로 변하는 기(器)이므로 서양의 것이라도 백성에게 이롭다면 사용할 수 있다.</p>
(나)	

- ① A: 만민 평등사상을 고취하여 외세에 대응해야 함을 간과한다.
 ② B, D: 고유 사상을 중심으로 모든 유교적 가치를 배척해야 함을 간과한다.
 ③ C: 사람이 곧 하늘임을 깨닫고 새 세상을 열어야 함을 간과한다.
 ④ E: 서양의 정신과 문물을 적극적으로 수용해야 함을 간과한다.
 ⑤ F: 성리학적 가치와 서양의 기술은 조화될 수 없음을 간과한다.

11. 그림의 강연자가 지지할 주장으로 가장 적절한 것은?

벌 같은 동물도 군집 생활을 합니다. 이에 비해 우리 인간은 고유한 언어 능력에 기초하여, 더 높은 차원의 공동체인 국가를 형성해 생활합니다. 인간은 본성적으로 국가에서 살도록 되어 있기 때문입니다. 모든 인간 공동체는 어떤 목적을 추구합니다. 국가는 인간의 생존을 위해 존재하지만 궁극적으로는 최고선을 위해 존속합니다. 누군가 국가를 떠나 홀로 자족하며 살 수 있다면 그는 신 혹은 야수일 것입니다.



- ① 인간 공동체들 중 국가만이 좋음을 추구할 수 있다.
- ② 인간의 물질적 자족을 위해 국가가 존재하는 경우는 없다.
- ③ 국가가 형성된 후에만 인간은 언어 능력을 발휘할 수 있다.
- ④ 국가는 인간 공동체의 최선의 단계로서 최고의 좋음을 추구한다.
- ⑤ 인간은 공동체를 형성하려는 본성이 없지만 행복의 실현을 위해 국가를 결성한다.

12. 고대 동양 사상이 갑은 긍정, 을은 부정의 대답을 할 질문으로 가장 적절한 것은? [3점]

갑: 왕자(王者)가 되려면 예(禮)를 높이고 현자(賢者)를 존중해야 한다. 신뢰를 받으면 패자(覇者)가 되며, 이익을 좋아하고 거짓을 일삼으면 위태로워진다. 성왕이 제정한 예로써 백성을 다스리면[禮治] 조화롭게 살 수 있다.

을: 왕도(王道)는 모든 사람이 산 사람을 봉양하고 죽은 사람을 장사 지냄에 유감이 없도록 하는 데에서 시작한다. 그리고 교육에 힘써 효제의 도리를 가르친다면 반백의 노인들이 거리에서 짐을 지는 경우는 없을 것이다.

- ① 인간은 사사로운 이익에 대한 욕망을 가지고 있는가?
- ② 악한 본성을 변화시켜 인간을 선하게 만들어야 하는가?
- ③ 통치자는 하늘이 부여한 예로써 백성을 교화시켜야 하는가?
- ④ 통치자는 백성을 위해 도덕적인 공동체를 지향해야 하는가?
- ⑤ 부모를 공경하고 사랑하는 것은 타고난 성(性)에 부합하는가?

13. 고대 동양 사상이 갑, 을의 입장에 대한 설명으로 옳은 것은? [3점]

갑: 세상에 규제가 많을수록 백성은 가난해지고, 백성에게 세련된 도구가 많을수록 나라는 혼란에 빠지게 된다. 최상의 선은 물과 같다. 물은 만물을 이롭게 하면서도 다투지 않고 모든 사람이 싫어하는 곳에 머문다.

을: 자기의 신체나 손발의 존재를 잊어버리고 눈이나 귀의 움직임을 멈추고 형체가 있는 육체를 떠나 분별 작용을 버린다면 도(道)와 한 몸을 이루어 두루 통하게 된다. 이것이 좌망(坐忘)이다. 도는 오로지 텅 빈 곳에 모이는 법이다.

- ① 갑은 하늘과 땅이 자연의 도를 따르기에 어질다고[仁] 본다.
- ② 갑은 언어로 표현할 수 있는 도가 영원한 도[常道]라고 본다.
- ③ 을은 사람은 타고난 능력과 본성에 따라 살아야 한다고 본다.
- ④ 을은 절대 자유에 도달하기 위해 분별적 지식을 쌓아야 한다고 본다.
- ⑤ 갑, 을은 인위에 얽매이지 않기 위해 하늘이 정해 준 예법을 따라야 한다고 본다.

14. 근대 서양 사상이 갑, 을이 공통으로 지지할 입장으로 적절한 것만을 <보기>에서 있는 대로 고른 것은? [3점]

갑: 쾌락의 총량과 고통의 총량을 합산해 보라. 차감한 값이 쾌락 쪽에 기운다면, 그것은 각 개인의 이익과 관련하여 전반적으로 행위의 좋은 경향을 제시하는 것이 될 것이다. 차감한 값이 고통 쪽에 기운다면, 전반적으로 행위의 나쁜 경향을 제시하는 것이 될 것이다.

을: 쾌락의 양과 질에 대해 똑같이 잘 알고, 그 둘을 똑같이 즐기고 음미하는 사람들이, 자신의 보다 높은 능력이 동원되어야 하는 특정한 삶의 방식을 훨씬 더 선호한다는 것은 부인할 수 없다. 짐승이 누리는 쾌락을 마음껏 즐기게 해 준다고 해서 짐승이 되겠다고 하는 사람은 없을 것이다.

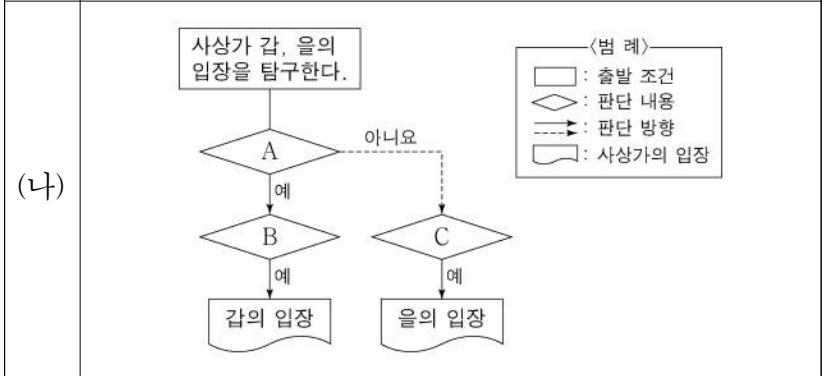
<보 기>

- ㄱ. 인간의 도덕적 의무는 유용성의 원리로부터 도출된다.
- ㄴ. 동기는 행위의 도덕적 가치를 평가하는 핵심 근거가 아니다.
- ㄷ. 교양 있는 사람은 누구든지 질적으로 고상한 쾌락을 선호한다.
- ㄹ. 개인의 사사로운 이익과 사회 전체의 이익은 모순될 수밖에 없다.

- ① ㄱ, ㄴ ② ㄴ, ㄷ ③ ㄷ, ㄹ
- ④ ㄱ, ㄴ, ㄹ ⑤ ㄱ, ㄷ, ㄹ

15. (가)의 사회사상이 갑, 을의 입장을 (나) 그림으로 탐구하고자 할 때, A~C에 들어갈 질문으로 옳은 것만을 <보기>에서 고른 것은?

(가) 갑: 어떤 개념이나 원칙을 근거로 삼아 불가침의 영역을 확보하든지 간에 자유는 언제나 ‘~로부터의 자유’이다. 내 활동이 간섭받지 않는 상태가 자유의 핵심이다.
을: 노예의 주인이 관대한 사람이라도 주인은 여전히 노예를 지배한다. 자유와 노예 상태를 대조하는 것은 자유가 불가침이 아닌 비지배에 있다고 보는 근거가 된다.



<보 기>

- ㄱ. A: 간섭받지 않을 영역과 자유의 영역은 비례하는가?
- ㄴ. A: 자의적 지배에 의한 간섭은 시민의 자유를 침해하는가?
- ㄷ. B: ‘~로부터의 자유’는 ‘~할 자유’에 의해 보장되는가?
- ㄹ. C: 시민의 자유를 보장하기 위해 법치(法治)가 필요한가?

- ① ㄱ, ㄷ ② ㄱ, ㄹ ③ ㄴ, ㄷ ④ ㄴ, ㄹ ⑤ ㄷ, ㄹ

4 (윤리와 사상)

사회탐구 영역

16. 고대 서양 사사가 갑, 사회사사가 을의 입장으로 옳은 것은?

갑: 이상 국가의 세 계층은 역할에 적합한 덕을 가지며, 선의 이데아에 대한 지혜를 갖춘 철인의 다스림을 받는다. 이 세 계층은 각자 역할을 충실히 수행하며 서로 조화를 이룬다.
 을: 이상 국가인 유토피아에서는 일하지 못하는 사람도 생계를 걱정할 일이 없다. 유토피아는 사치, 허영, 타락이 없으며 시민들은 덕과 정신적 쾌락을 추구한다.

- ① 갑: 방위자와 생산자는 모두 통치자의 지혜를 따라야 한다.
- ② 갑: 통치자는 후천적 교육이 아닌 선천적 소질에 따라 선발된다.
- ③ 을: 이상 국가는 경제적으로 풍족하지 않지만 평등을 보장한다.
- ④ 을: 이상 국가의 시민은 노동하지 않고 교육과 학문에 집중한다.
- ⑤ 갑, 을: 이상 국가에서는 일부 구성원의 사유 재산이 허용된다.

17. 근대 서양 사사가 갑, 을의 입장으로 옳은 것은? [3점]

갑: 이성으로 감정을 인식하는 것은 감정을 다스리는 가장 탁월한 방법이다. 모든 것은 신, 즉 자연의 본성으로부터 필연적으로 산출되며 우리가 인식할 수 없는 감정은 없다.
 을: 이성은 인간이 야수보다 우월하다는 주된 근거이지만, 어떤 행동이나 감정을 직접 유발하지 않는다. 이성은 감정의 노예이고 노예여야 하며, 감정에게 봉사하고 복종할 뿐이다.

- ① 갑: 인간은 자유 의지가 없지만 자유로운 삶을 살 수 있다.
- ② 갑: 신과 달리 인간은 필연적인 자연법칙에서 벗어날 수 없다.
- ③ 을: 선악은 쾌와 불쾌의 감정으로 느껴지는 객관적 실재이다.
- ④ 을: 이성은 선악 구별의 원천일 뿐 행위의 동기가 될 수 없다.
- ⑤ 갑, 을: 도덕적 판단과 행동의 근거는 이성이라기보다 감정이다.

18. 사회사사가 갑, 을의 입장으로 옳은 것은? [3점]

갑: 인간의 고유한 삶의 방식인 노동은 본래 창조적이고 자유로운 활동이어야 한다. 그런데 자본주의는 노동을 한낱 생존 수단으로 격하시킨다. 노동자는 상품만 생산하지 않고 노동자 자신을 일종의 상품으로 생산하는 것이다.
 을: 인간은 협력하지 않고 살 수 없다. 타인의 자비심이 아니라 자기에(self-love)에 대한 설득이 협력을 이끌어 내는 데 더 효과적이다. 우리가 식사를 하는 것은 푸줏간과 빵집 주인의 자비심이 아니라 그들의 자기에 때문이다.

- ① 갑: 노동자의 해방이 인류 보편의 해방으로 이어지지 않는다.
- ② 갑: 인간이 자유롭게 노동할 수 있는 이상 사회는 실현될 수 없다.
- ③ 을: 개인이 추구하는 이익들은 서로 자연스럽게 조화되지 않는다.
- ④ 을: 시장 경제 원리의 실현을 위해 국가의 역할을 최소화해야 한다.
- ⑤ 갑, 을: 사적 소유제로 인간 사회의 공동 이익을 증진해야 한다.

19. (가)의 사회사사가 갑, 을의 입장을 (나) 그림으로 표현할 때, A~C에 해당하는 진술로 적절한 것만을 <보기>에서 고른 것은? [3점]

(가)	갑: 사회 계약으로 모든 사람은 각자 신체와 힘을 일반 의지의 지도 아래에 맡긴다. 주권을 지도할 수 있는 것 또한 일반 의지뿐이다. 을: 사회 계약의 목적은 만인의 만인에 대한 전쟁 상태를 극복하는 것이다. 모든 사람은 사회 계약으로 성립된 리바이어던에게 복종해야 한다.
(나)	

<보 기>

ㄱ. A: 국가는 계약 주체들의 의지가 하나로 결합된 산물이다.
 ㄴ. B: 주권자는 법을 제정할 권한을 반드시 보유해야 한다.
 ㄷ. B: 인민의 동의가 국가 형성의 근거이자 주권의 근거이다.
 ㄹ. C: 자연 상태의 인간은 사회 계약을 통해 생명권을 보장받는다.

- ① ㄱ, ㄴ
- ② ㄱ, ㄷ
- ③ ㄴ, ㄷ
- ④ ㄴ, ㄹ
- ⑤ ㄷ, ㄹ

20. 현대 서양 사사가 갑, 을의 입장으로 옳은 것만을 <보기>에서 고른 것은?

갑: 절망은 죽음에 이르는 병이다. 자기에 대해 절망하고, 절망한 자신으로부터 탈피하려고 하는 것이 절망의 공식이다. 이러한 절망에서 벗어나기 위한 주체적 결단을 통해 무한한 실재성을 획득하게 될 것이다.
 을: 인간은 자유로우며 자유 그 자체이다. 바로 이것이 내가 인간은 자유롭도록 선고받았다는 말을 통해 표현하려는 것이다. 세상에 내던져진 이상 자신이 하는 모든 것에 대해서 책임이 있기 때문에 인간은 자유롭다.

<보 기>

ㄱ. 갑: 인간은 신의 존재 없이도 진정한 실존을 찾을 수 있다.
 ㄴ. 을: 인간의 본질은 주어진 것이 아니라 만들어 가는 것이다.
 ㄷ. 을: 인간은 자유를 선택할 때에만 비로소 자유를 부여받게 된다.
 ㄹ. 갑, 을: 인간의 불안은 참된 실존을 회복하는 계기가 될 수 있다.

- ① ㄱ, ㄴ
- ② ㄱ, ㄷ
- ③ ㄴ, ㄷ
- ④ ㄴ, ㄹ
- ⑤ ㄷ, ㄹ

* 확인 사항
 ○ 답안지의 해당란에 필요한 내용을 정확히 기입(표기)했는지 확인 하시오.

제 4 교시

사회탐구 영역 (한국지리)

성명

수험 번호

제 [] 선택

1. 다음 <조건>만을 고려하여 ○○ 시설의 입지를 선정하고자 할 때 가장 적절한 곳을 후보지 A~E에서 고른 것은?

<조 건>

- 평균 고도가 40m 이상인 지역을 선정함.
- 평균 경사도가 25° 이하인 지역을 선정함.
- 주거 지역 및 도로로부터 200m 이상 떨어진 지역을 선정함.
- 산림 보호 지역은 제외함.

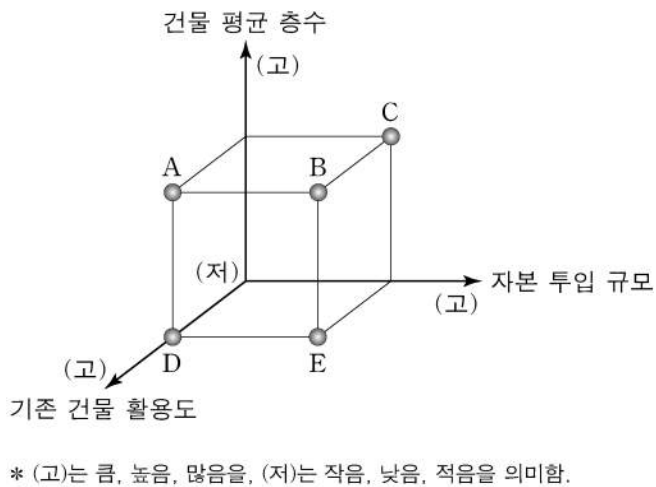


- ① A ② B ③ C ④ D ⑤ E

2. 다음 글은 도시 재개발의 사례이다. (나)에 대한 (가)의 상대적 특성을 그림의 A~E에서 고른 것은?

(가) ◇◇시 △△마을 일대는 낙후 지역이었다. 그러나 2010년 '마을 미술 프로젝트 사업'의 일환으로 벽화를 그리고 조형물을 설치하였다. 그 결과 과거의 모습을 살리면서 마을 경관이 개선되었다.

(나) □□시 ○○동 일대는 낙후 지역이었다. 그러나 2001년부터 '○○ 지구 재개발 사업'이 추진되어 기존의 달동네 지역은 전면 철거되었다. 그 결과 새로운 대규모 아파트 단지가 건설되었다.



- ① A ② B ③ C ④ D ⑤ E

3. 다음은 학생이 작성한 지리 탐구 보고서의 일부이다. (나) 계절과 비교한 (가) 계절의 상대적 특징으로 옳은 것은? (단, (가), (나)는 각각 겨울, 여름 중 하나임.)

○ 탐구 목표: 고전 문학 속 계절 특성 이해
○ 탐구 내용: 사미인곡(思美人曲)에서의 (가), (나) 계절 특성

계절	내용 및 현대어 풀이
(가)	乾乾坤坤이 閉塞塞食하야 白皚雪설이 혼 비친 제... 현대어 풀이 ⇒ 하늘과 땅이 추위에 얼어붙어 생기가 막히고 흰 눈으로 온통 덮여있을 때...
(나)	꽃 디고 새넛 나니 綠綠陰陰이 질렀는디... 현대어 풀이 ⇒ 꽃이 지고 새 잎이 나니 푸른 잎이 우거진 수풀이 땅에 무성한데...

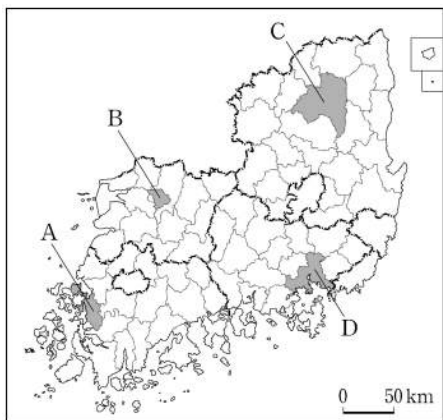
- ① 낮의 길이가 길다.
② 평균 상대 습도가 높다.
③ 한파 발생 일수가 많다.
④ 열대야 발생 일수가 많다.
⑤ 북서풍에 비해 남서풍이 주로 분다.

4. 다음은 답사 계획서의 일부이다. (가), (나) 지역을 지도의 A~D에서 고른 것은?

<답사 계획서>

- 기간: 20△△년 △△월 △일 ~ △일
- 답사 지역 및 주요 활동

답사 지역	(가)	(나)
주요 활동		
공공 기관 방문	○○도청 방문	□□도청 방문
전통 마을 탐방	슬로시티로 지정된 전통 한옥 마을 탐방	세계 문화유산으로 등재된 전통 마을 탐방
지역 축제 체험	세계 소리 축제 체험	국제 탈춤 페스티벌 체험



- | | | |
|---|-----|-----|
| | (가) | (나) |
| ① | A | B |
| ② | B | C |
| ③ | B | D |
| ④ | C | A |
| ⑤ | D | C |

2 (한국지리)

사회탐구 영역

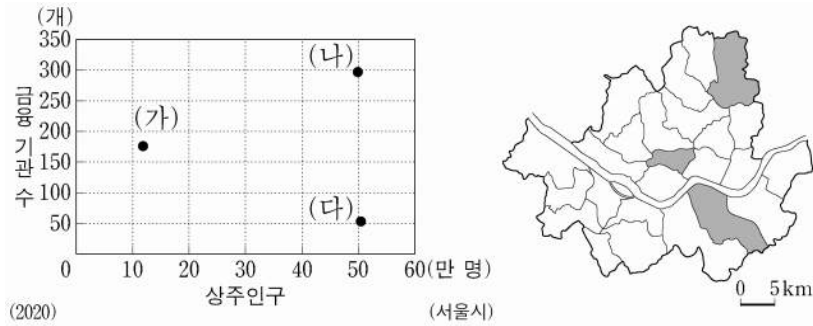
5. 표는 (가)~(다) 지역에 입지한 주요 시설의 현황을 나타낸 것이다. (가)~(다)에 해당하는 지역으로 옳은 것은?

시설 \ 지역	(가)	(나)	(다)
공항	○	○	○
항만	○	○	×
원자력 발전소	○	×	×

* '○'는 시설이 입지함, '×'는 시설이 입지하지 않음을 의미함.

- | | | | | | |
|------|-----|-----|------|-----|-----|
| (가) | (나) | (다) | (가) | (나) | (다) |
| ① 대구 | 부산 | 인천 | ② 대구 | 인천 | 부산 |
| ③ 부산 | 대구 | 인천 | ④ 부산 | 인천 | 대구 |
| ⑤ 인천 | 대구 | 부산 | | | |

6. 그래프는 지도에 표시된 세 구(區)의 특성을 나타낸 것이다. (가)~(다)에 대한 설명으로 옳은 것만을 <보기>에서 고른 것은?

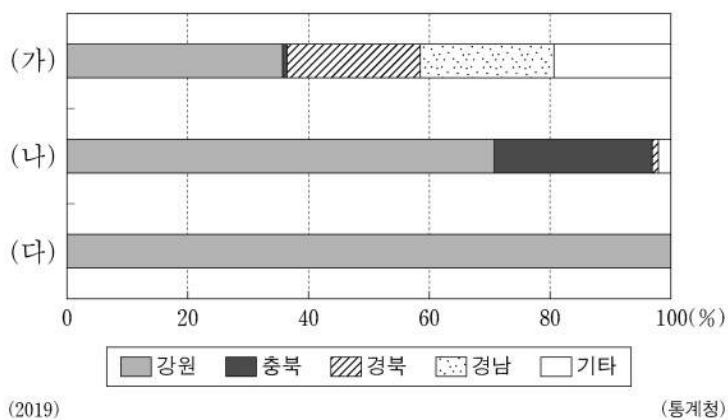


<보 기>

- ㄱ. (가)는 (나)보다 초등학교 수가 많다.
 ㄴ. (가)는 (나)보다 주간 인구 지수가 높다.
 ㄷ. (가)는 (다)보다 중심 업무 기능이 우세하다.
 ㄹ. (다)는 (나)보다 상업 지역의 평균 지가가 높다.

- ① ㄱ, ㄴ ② ㄱ, ㄷ ③ ㄴ, ㄷ ④ ㄴ, ㄹ ⑤ ㄷ, ㄹ

7. 그래프는 (가)~(다) 자원의 지역별 생산량 비율을 나타낸 것이다. (가)~(다)에 대한 설명으로 옳은 것은? (단, (가)~(다)는 각각 고령토, 석회석, 철광석 중 하나임.)

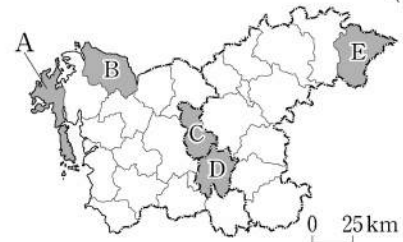


- ① (가)는 제철 공업의 주원료로 이용된다.
 ② (나)는 시멘트 공업의 주원료로 이용된다.
 ③ (가)는 (나)보다 연간 국내 생산량이 많다.
 ④ (나)는 (다)보다 수입 의존도가 높다.
 ⑤ (가)는 금속 광물, (나), (다)는 비금속 광물에 해당된다.

8. 다음 자료에서 설명하는 (가) 지역을 지도의 A~E에서 고른 것은? [3점]

- (가) 지역의 마스코트는 젊은 도시, 성장하는 도시 이미지를 부각시키기 위해 (가)의 어린 시절 모습을 형상화했어.
- (가) 지역의 유소년 부양비는 전국에서 가장 높은 수준이야.
- (가) 지역에는 국토의 균형 발전을 위해 새롭게 조성된 행정 중심 복합 도시가 있어.

<(가) 지역의 마스코트>



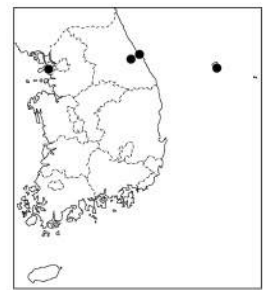
- ① A ② B ③ C ④ D ⑤ E

9. 표는 지도에 표시된 네 지역의 기후 값을 나타낸 것이다. (가)~(라) 지역에 대한 설명으로 옳은 것은? [3점]

구분	최난월 평균 기온 (°C)	강수 집중률(%)	
		여름 (6-8월)	겨울 (12-2월)
(가)	19.7	51.2	8.1
(나)	23.8	31.6	22.8
(다)	25.6	59.5	5.2
(라)	25.0	45.8	9.2

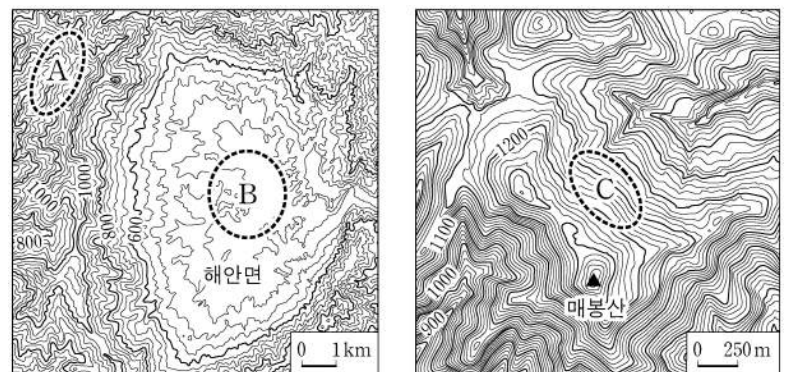
* 1991-2020의 평년값임.

(기상청)



- ① (가)의 전통 가옥에는 우데기가 설치되어 있다.
 ② (나)는 (가)보다 연 강수량이 많다.
 ③ (다)는 (나)보다 기온의 연교차가 크다.
 ④ (라)는 (가)보다 해발 고도가 높다.
 ⑤ (다)는 동해안, (라)는 서해안에 위치해 있다.

10. 지도의 A~C에 대한 설명으로 옳은 것만을 <보기>에서 고른 것은?



<보 기>

- ㄱ. A는 마그마가 분출하여 형성된 중 모양의 화산이다.
 ㄴ. C는 오랫동안 침식을 받아 평탄해진 곳이 융기한 지형이다.
 ㄷ. A의 기반암은 B의 기반암보다 풍화와 침식에 강하다.
 ㄹ. C는 B보다 충적층이 발달하여 벼농사에 유리하다.

- ① ㄱ, ㄴ ② ㄱ, ㄷ ③ ㄴ, ㄷ ④ ㄴ, ㄹ ⑤ ㄷ, ㄹ

11. 다음 글의 ㉠~㉣에 대한 설명으로 옳은 것은? [3점]

하천은 흐르면서 하천 바닥을 깎아 협곡을 만들기도 하고, 하천 양안을 깎아 물길을 바꾸기도 한다. ㉠감입 곡류 하천은 우리나라 하천의 중·상류 지역에 주로 발달해 있으며, 주변에는 과거의 하천 바닥이나 범람원이었던 ㉡계단 모양의 지형이 분포하기도 한다. 자유 곡류 하천은 하천의 중·하류 지역과 지류에서 주로 발달해 있으며, 하천 양안에는 ㉢자연 제방과 ㉣배후 습지로 이루어진 범람원이 발달하기도 한다. 하천의 하구 지역에서는 밀물과 썰물의 영향으로 수위가 주기적으로 오르내리는 ㉤감조 구간이 나타나기도 한다.

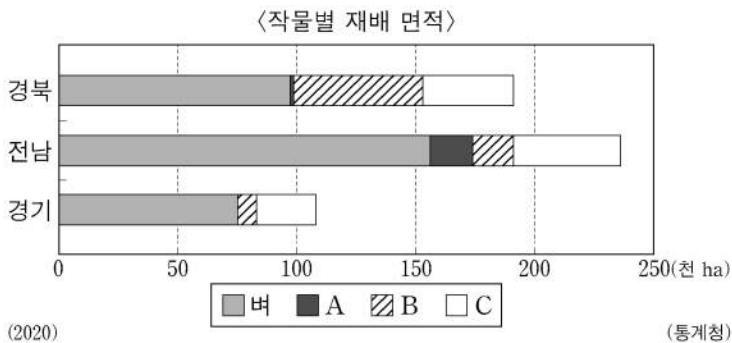
- ① ㉠은 자유 곡류 하천보다 유로 변경이 활발하다.
- ② ㉡의 퇴적층에는 둥근 자갈이나 모래가 분포한다.
- ③ ㉢은 황해보다 동해로 흘러드는 하천에서 길게 나타난다.
- ④ ㉣은 ㉣보다 범람에 의한 침수 가능성이 높다.
- ⑤ ㉤은 ㉤보다 퇴적 물질 중 점토질 구성 비율이 높다.

12. 그림의 A~C 지형에 대한 설명으로 옳은 것은? (단, A~C는 각각 석호, 파식대, 해식에 중 하나임.)



- ① A는 만보다 꽃에 주로 발달한다.
- ② B는 주로 조류의 퇴적 작용으로 형성되었다.
- ③ C의 물은 바닷물보다 염도가 높다.
- ④ A, C 모두 파랑의 작용으로 규모가 확대되고 있다.
- ⑤ B, C 모두 후빙기 해수면 상승 이전에 형성되었다.

13. 그래프의 A~C 작물에 대한 설명으로 옳은 것만을 <보기>에서 고른 것은? (단, A~C는 각각 과수, 맥류, 채소 중 하나임.) [3점]



〈보 기〉

ㄱ. A는 벼보다 국내 생산량이 많다.
 ㄴ. A는 B보다 벼의 그루같이 작물로 재배되는 비율이 높다.
 ㄷ. B는 C보다 경지 면적 대비 시설 재배 면적 비율이 높다.
 ㄹ. A는 맥류, B는 과수, C는 채소이다.

- ① ㄱ, ㄴ ② ㄱ, ㄷ ③ ㄴ, ㄷ ④ ㄴ, ㄹ ⑤ ㄷ, ㄹ

14. (가)~(다)에 해당하는 제조업으로 옳은 것은?

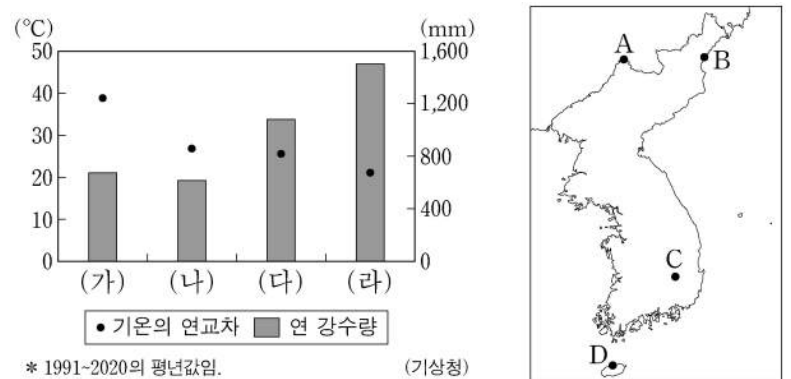
〈(가)~(다) 제조업 출하액 상위 5개 시·도〉

순위	제조업	(가)	(나)	(다)
1		경기	경북	경기
2		경북	전남	울산
3		대구	충남	충남
4		부산	울산	경남
5		서울	경기	광주

(2019) (통계청)
 * 종사자 규모 10인 이상 사업체를 대상으로 함.
 ** 섬유 제품 제조업에서 의복은 제외함.

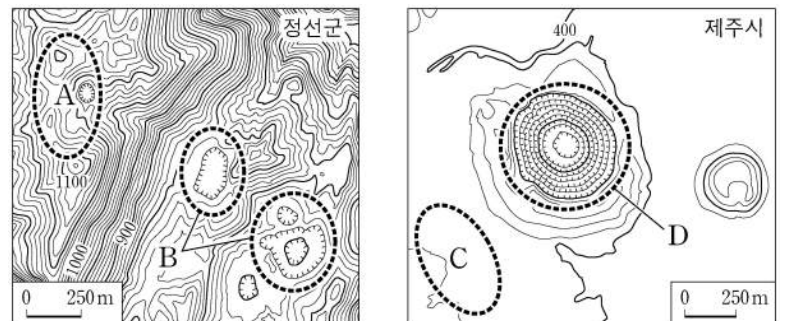
- | | (가) | (나) | (다) |
|---|------------|------------|------------|
| ① | 1차 금속 | 섬유 제품 | 자동차 및 트레일러 |
| ② | 1차 금속 | 자동차 및 트레일러 | 섬유 제품 |
| ③ | 섬유 제품 | 1차 금속 | 자동차 및 트레일러 |
| ④ | 섬유 제품 | 자동차 및 트레일러 | 1차 금속 |
| ⑤ | 자동차 및 트레일러 | 1차 금속 | 섬유 제품 |

15. 그래프는 (가)~(라)의 기후 특성을 나타낸 것이다. (가)~(라)에 해당하는 지역을 지도의 A~D에서 고른 것은? [3점]



- | | (가) | (나) | (다) | (라) |
|---|-----|-----|-----|-----|
| ① | A | B | C | D |
| ② | A | C | B | D |
| ③ | B | D | C | A |
| ④ | C | A | D | B |
| ⑤ | C | B | D | A |

16. 지도의 A~D에 대한 설명으로 옳은 것은? [3점]



- ① A에서는 회백색을 띠는 성대 토양이 주로 분포한다.
- ② B는 화구의 함몰로 형성된 칼데라이다.
- ③ C에서는 공룡 발자국 화석이 발견된다.
- ④ D는 두 개 이상의 돌리네가 합쳐진 우발라이다.
- ⑤ A의 기반암은 C의 기반암보다 형성 시기가 이른다.

4 (한국지리)

사회탐구 영역

17. 다음은 우리나라 영해에 대한 온라인 수업의 한 장면이다. 답글의 내용이 옳은 학생만을 고른 것은? [3점]

A~D에 대해 답글을 달아 보세요.

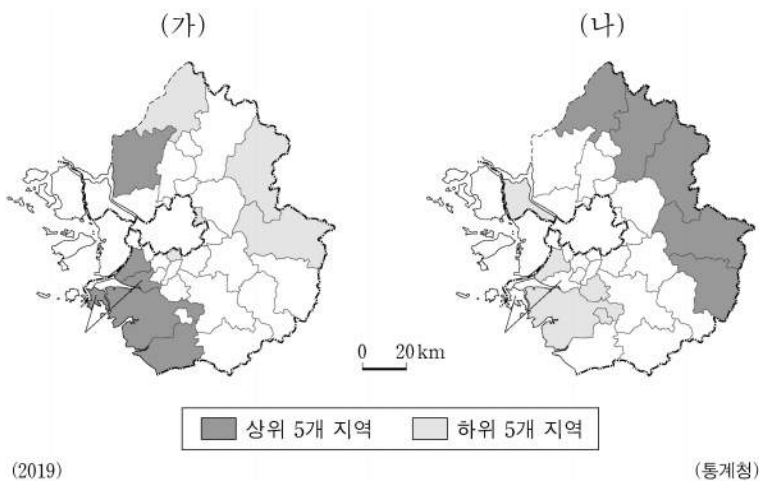
0 20km

○ 기점 --- 영해선 — C

갯: A에서는 사전 허가 없이 외국 국적 군함이 통행할 수 없어요.
 을: B로부터 바깥으로 200해리까지의 수역을 배타적 경제 수역이라 해요.
 병: C는 직선 기선이에요.
 정: D에서는 영해 설정 시 12해리를 적용해요.

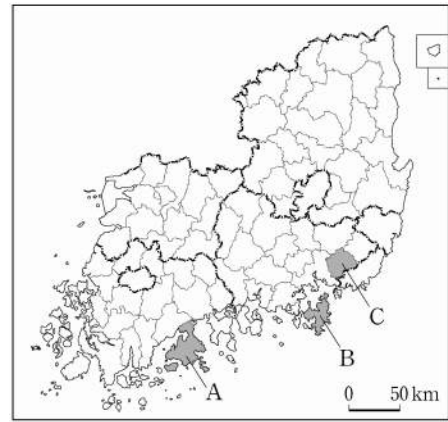
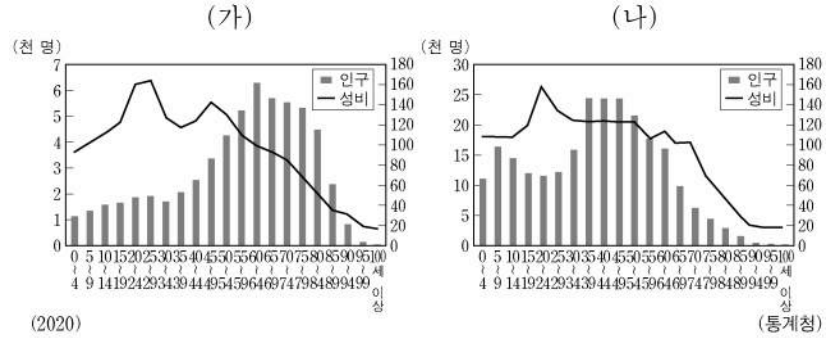
- ① 갯, 을 ② 갯, 병 ③ 을, 병 ④ 을, 정 ⑤ 병, 정

18. 지도는 (가), (나) 지표의 경기도 내 상위 및 하위 5개 시·군을 나타낸 것이다. (가), (나) 지표로 옳은 것은? [3점]



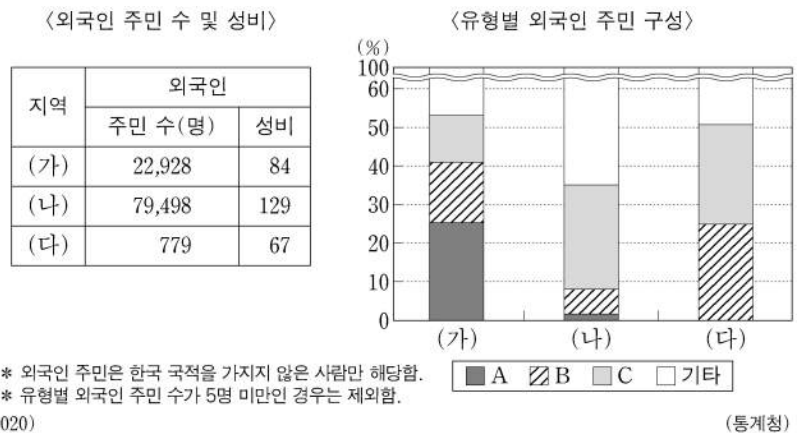
- (가) (나)
- ① 제조업 종사자 수 노령화 지수
 ② 노령화 지수 인구 밀도
 ③ 노령화 지수 총부양비
 ④ 인구 밀도 제조업 종사자 수
 ⑤ 총부양비 제조업 종사자 수

19. 그래프는 두 지역의 인구 특성을 나타낸 것이다. (가), (나)에 해당하는 지역을 지도의 A~C에서 고른 것은? [3점]



- (가) (나) (가) (나)
- ① A B ② B A
 ③ B C ④ C A
 ⑤ C B

20. 다음 자료는 (가)~(다) 지역의 외국인 주민 현황을 나타낸 것이다. 이에 대한 설명으로 옳은 것만을 <보기>에서 고른 것은? (단, (가)~(다)는 각각 대전, 안산, 예천 중 하나이며, A~C는 각각 결혼 이민자, 외국인 근로자, 유학생 중 하나임.) [3점]



<보 기>

ㄱ. 예천은 대전보다 외국인 주민의 성비가 높다.
 ㄴ. 안산은 대전보다 지역 내 외국인 주민 중 결혼 이민자 비율이 높다.
 ㄷ. 지역 내 외국인 주민 중 외국인 근로자 수는 안산>대전>예천 순으로 많다.
 ㄹ. A는 유학생, B는 결혼 이민자, C는 외국인 근로자이다.

- ① ㄱ, ㄴ ② ㄱ, ㄷ ③ ㄴ, ㄷ ④ ㄴ, ㄹ ⑤ ㄷ, ㄹ

* 확인 사항
 ○ 답안지의 해당란에 필요한 내용을 정확히 기입(표기)했는지 확인 하시오.

제 4 교시

사회탐구 영역(세계지리)

성명 수험 번호 - 제 [] 선택

1. (가), (나) 지도의 특징을 그림의 A~C에서 고른 것은?

(가)

(나)

중국 중심 세계관이 반영되어 있습니까? 예 → A, 아니요 ↓

경위선의 개념이 적용되어 있습니까? 예 → B, 아니요 ↓

C

	(가)	(나)
①	A	B
②	A	C
③	B	A
④	B	C
⑤	C	B

2. 다음은 지리 여행 블로그의 일부이다. ㉠~㉥에 대한 설명으로 옳지 않은 것은?

지리 여행 블로그

○월 △△일
사하라 사막 주변의 사헬 지대에 속한 작은 마을에 도착하니 어린아이들이 물을 얻기 위해 강바닥을 파헤치고 있었다. 이 지역은 급속한 ㉠ 사막화가 진행되고 있는 곳으로, 황폐해진 토지를 복구하기 위하여 ㉡ 그레이트 그린 월 프로젝트(Great Green Wall Project)가 시행되고 있다.

○월 □□일
테헤란에서 두 시간을 달려 소도시에 도착하였다. 거리를 한참 걷다가 ㉢ 바드기르가 있는 이슬람교 신자의 집을 방문하니 바깥과 달리 한결 시원했다. 마침 저녁 시간이라 ㉣ 전통 요리를 대접받았다. 집주인에 따르면 이 지역은 ㉤ 지하 관개 수로를 이용하여 물을 공급받는다고 한다.

- ① ㉠은 지속적인 가뭄과 과도한 방목이 주요 원인이다.
- ② ㉡의 주된 활동은 나무를 심어 숲을 조성하는 일이다.
- ③ ㉢은 실내 공기를 정화하고 온도를 조절하는 시설이다.
- ④ ㉣의 주재료로 돼지고기가 사용된다.
- ⑤ ㉤의 대표적인 예로는 카나트가 있다.

3. (가)~(라) 지형에 대한 설명으로 옳은 것은? [3점]

(가) 모레인

(나) 탑 카르스트

(다) 뷰트

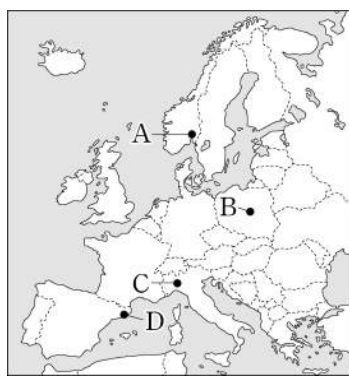
(라) 사구

- ① (가)는 빙하의 침식에 의해 형성된 지형이다.
- ② (나)는 용암이 굳어 형성된 급경사 지형이다.
- ③ (가)는 (라)보다 구성 물질의 분급이 불량하다.
- ④ (다)는 (나)보다 화학적 풍화 작용을 많이 받았다.
- ⑤ (다)와 (라)는 주로 퇴적 작용에 의해 형성된다.

4. 다음 글의 (가), (나) 도시를 지도의 A~D에서 고른 것은?

○ (가) 은/는 세계적인 패션 업체의 본사들이 입지한 패션 산업의 중심지로 알려져 있다. 이 도시가 속한 롬바르디아주를 비롯한 북부 지역은 남부 지역과 경제적 격차가 크다. 이러한 이유로 이탈리아 중앙 정부로부터 분리 독립 운동이 있었고, 이를 '파다니아 운동'이라고 부른다.

○ 에스파냐 프로 축구 리그에서 '엘 클라시코'는 (나) 와/과 마드리드를 연고로 하는 두 팀 간의 라이벌 경기를 말한다. 이는 단순히 스포츠를 넘어 두 지역 간 갈등의 역사를 반영하고 있다. (나) 이/가 속한 카탈루냐 지방은 고유한 언어와 문화를 가지고 있고, 다른 지역과 경제적 격차가 커서 분리 독립을 요구하고 있다.

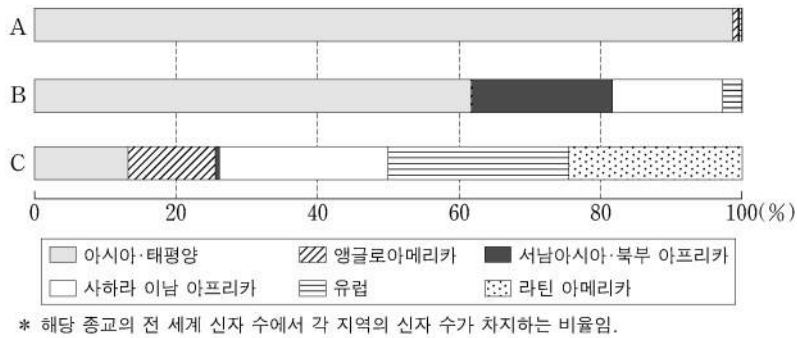


- | | (가) | (나) |
|---|-----|-----|
| ① | A | C |
| ② | B | A |
| ③ | B | D |
| ④ | C | A |
| ⑤ | C | D |

2 (세계지리)

사회탐구 영역

5. 그래프의 A~C 종교에 대한 설명으로 옳은 것은? (단, A~C는 각각 불교, 이슬람교, 크리스트교 중 하나임.) [3점]



- ① A는 민족 종교이다.
- ② B는 남부 아시아에서 기원한 종교이다.
- ③ C의 대표적인 종교 경관은 모스크이다.
- ④ A는 C보다 발생 시기가 이른다.
- ⑤ 전 세계 신자 수는 B>A>C 순으로 많다.

6. 다음 글의 ㉠~㉢에 대한 사례로 옳은 것만을 <보기>에서 있는 대로 고른 것은? [3점]

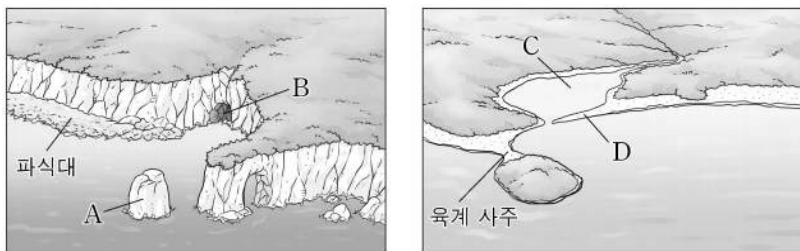
지리 정보의 구성 요소에는 ㉠공간 정보, 속성 정보, 관계 정보 등이 있다. 지리 정보의 수집 방법으로는 간접 조사와 직접 조사가 있으며, 최근에는 항공기나 인공위성을 이용한 ㉡원격 탐사 기술이 활용되고 있다. 지리 정보 시스템(GIS)은 다양한 방법으로 수집된 ㉢지리 정보를 컴퓨터로 분석하여 신속하고 합리적으로 문제를 해결하는 데 큰 도움을 준다. 최근 과학 기술의 발전과 인터넷의 확산으로 지리 정보 시스템은 공공 부문의 연구뿐만 아니라 ㉣일상생활에서도 널리 활용되고 있다.

<보 기>

- ㉠. ㉠ - 이집트 카이로의 인구 규모
- ㉡. ㉡ - 남극 대륙 빙하 면적의 변화 자료 수집
- ㉢. ㉢ - 멕시코시티 내의 자동차 공장 최적 입지 선정을 위한 중첩 분석
- ㉣. ㉣ - 영국 런던의 버스 운행 정보 시스템

- ① ㉠, ㉡ ② ㉠, ㉢ ③ ㉢, ㉣
- ④ ㉠, ㉡, ㉣ ⑤ ㉡, ㉢, ㉣

7. 그림은 유럽을 여행하면서 스케치한 해안 지형의 모식도이다. A~D 지형에 대한 설명으로 옳은 것만을 <보기>에서 고른 것은? (단, A~D는 각각 사주, 석호, 시 스택, 해식동 중 하나임.)

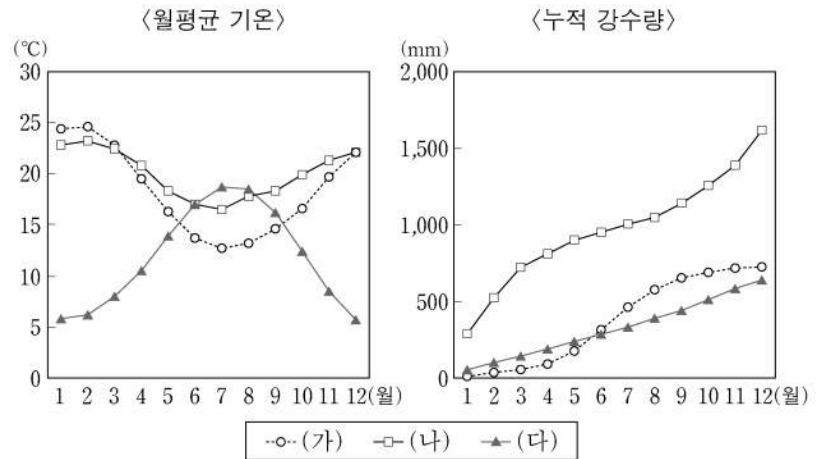


<보 기>

- ㉠. A는 조류의 퇴적 작용으로 형성된 지형이다.
- ㉡. B는 파랑의 차별 침식으로 형성된 지형이다.
- ㉢. C는 화산 폭발 후 물이 고여 형성된 호수이다.
- ㉣. D는 주로 모래가 퇴적되어 발달하였다.

- ① ㉠, ㉡ ② ㉠, ㉢ ③ ㉡, ㉢ ④ ㉡, ㉣ ⑤ ㉢, ㉣

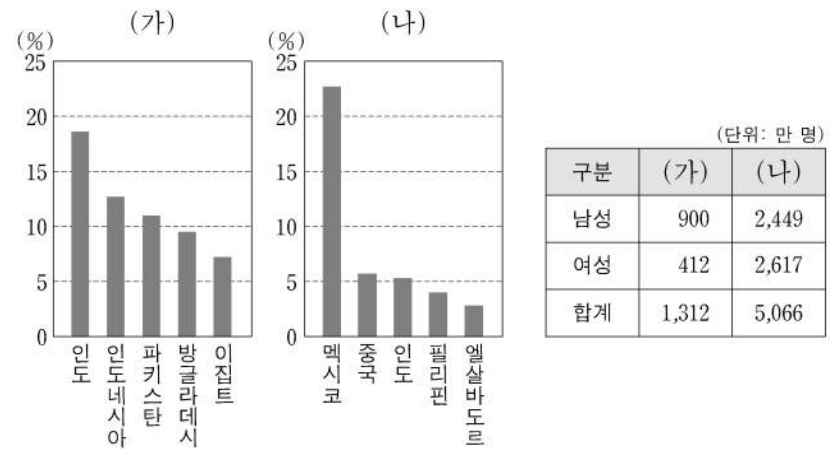
8. 그래프는 세 지역의 월평균 기온과 누적 강수량을 나타낸 것이다. (가)~(다) 지역에 대한 설명으로 옳은 것은? [3점]



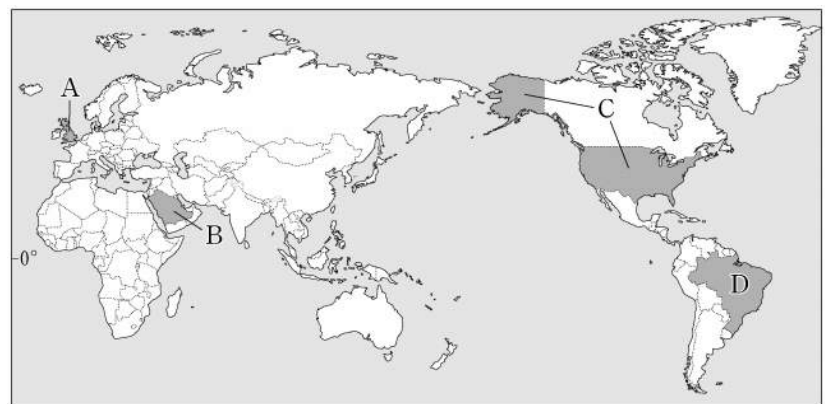
- ① (가)는 6~8월 강수량이 12~2월 강수량보다 많다.
- ② (나)에서는 플라야, 와디 등의 지형이 나타난다.
- ③ (다)에서는 벼농사가 활발하게 이루어진다.
- ④ (가)와 (나)는 모두 열대 기후에 해당한다.
- ⑤ (가)~(다) 중 두 지역은 북반구에 위치한다.

9. 다음 자료의 (가), (나)에 해당하는 국가를 지도의 A~D에서 고른 것은?

<각 국가에 거주하는 이주자의 출신 국가별 비율 및 성별 인구>

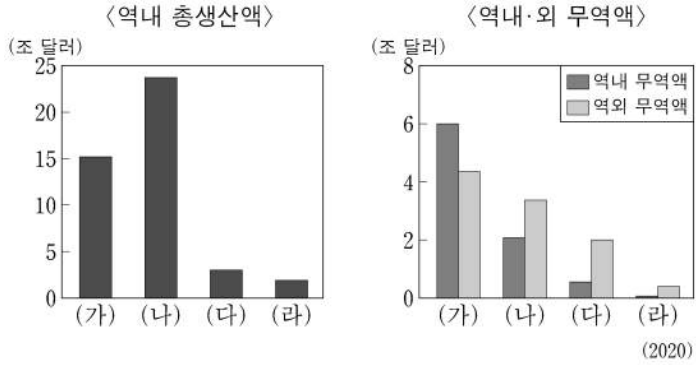


* 이주자의 출신 국가별 비율은 각각 상위 5개국만 표기함.
** 2019년에 조사된 자료임.



- | | | | |
|-----|-----|-----|-----|
| (가) | (나) | (가) | (나) |
| ① A | B | ② A | C |
| ③ A | D | ④ B | C |
| ⑤ B | D | | |

10. (가)~(라) 경제 블록에 대한 설명으로 옳은 것은? (단, (가)~(라)는 각각 남아메리카 공동 시장, 동남아시아 국가 연합, 미국·멕시코·캐나다 협정, 유럽 연합 중 하나임.)



- ① (가)는 북아메리카 자유 무역 협정을 개정한 경제 블록이다.
- ② (나)는 (가)보다 회원국 수가 많다.
- ③ (다)는 (가)~(라) 중 회원국의 총인구가 가장 많다.
- ④ (라)는 (가)~(라) 중 정치·경제적 통합 수준이 가장 높다.
- ⑤ 유럽 연합은 역내 무역액보다 역외 무역액이 많다.

11. 다음 글의 (가)~(라) 기후 지역에 대한 설명으로 옳은 것만을 <보기>에서 고른 것은? [3점]

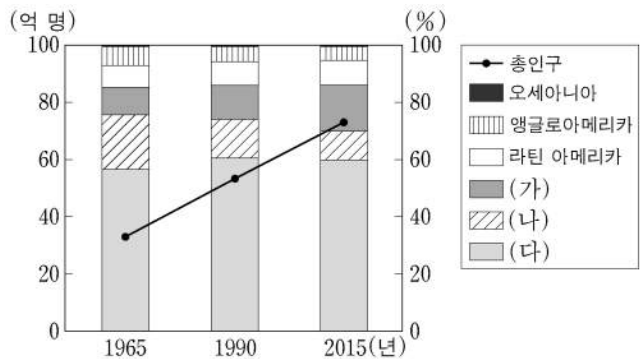
꺾쇠펜의 기후 구분에 따르면 냉대 기후는 최한월 평균 기온이 -3°C 미만이고 최난월 평균 기온이 10°C 이상인 기후로, 강수 특성에 따라 강수가 주로 여름에 집중되고 겨울이 건조한 (가), 강수가 연중 고른 (나) (으)로 구분된다. 한대 기후는 최한월 평균 기온이 10°C 미만인 기후로 최난월 평균 기온이 0°C 이상인 (다), 최한월 평균 기온이 0°C 미만인 (라) (으)로 구분된다.

<보 기>

ㄱ. (가)는 아시아에 비해 남아메리카에 넓게 분포한다.
 ㄴ. (나)에서는 타이가 지대가 나타난다.
 ㄷ. (다)에서는 다각형 모양의 구조토를 볼 수 있다.
 ㄹ. (라)에서는 여름에 솔리플럭션 현상이 자주 발생한다.

- ① ㄱ, ㄴ ② ㄱ, ㄷ ③ ㄴ, ㄷ ④ ㄴ, ㄹ ⑤ ㄷ, ㄹ

12. 그래프는 세계 총인구 추이와 총인구의 지역(대륙)별 비율을 나타낸 것이다. (가)~(다)에 대한 설명으로 옳은 것만을 <보기>에서 고른 것은?

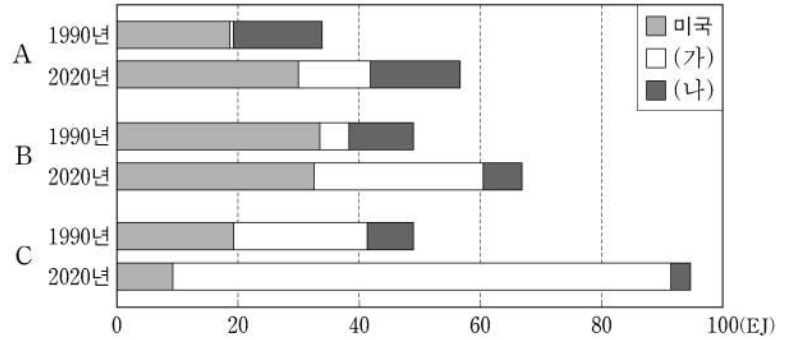


<보 기>

ㄱ. 2015년 (가)의 인구는 20억 명 이상이다.
 ㄴ. (다)에서 인구가 가장 많은 국가는 중국이다.
 ㄷ. (나)는 (가)보다 중위 연령이 높다.
 ㄹ. (다)는 (나)보다 1인당 평균 소득이 높다.

- ① ㄱ, ㄴ ② ㄱ, ㄷ ③ ㄴ, ㄷ ④ ㄴ, ㄹ ⑤ ㄷ, ㄹ

13. 그래프는 세 국가의 주요 화석 에너지 자원 A~C의 소비량 변화를 나타낸 것이다. 이에 대한 설명으로 옳은 것은? (단, (가), (나)는 각각 러시아, 중국 중 하나임.) [3점]



- ① A는 B보다 본격적으로 상용화된 시기가 이른다.
- ② B는 C보다 세계 1차 에너지 소비량에서 차지하는 비율이 높다.
- ③ C는 A보다 연소 시 대기 오염 물질의 배출량이 적다.
- ④ 중국은 러시아보다 1990년 천연가스 소비량이 많다.
- ⑤ 미국의 석탄 소비량은 1990년에 비해 2020년에 많다.

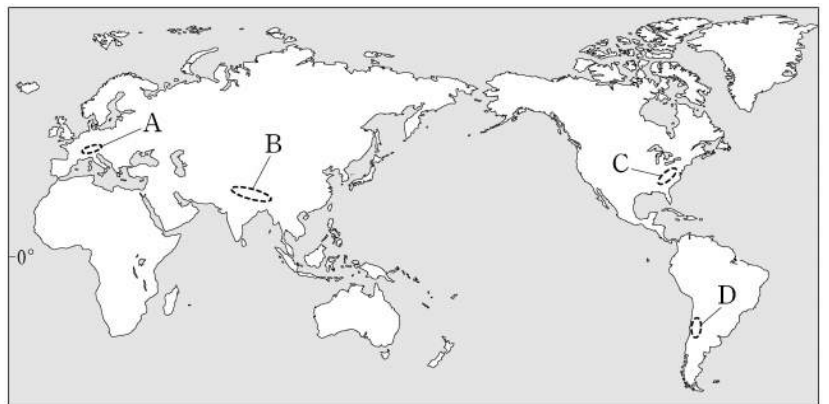
14. (가)~(라)에 대한 설명으로 옳은 것은? (단, (가)~(라)는 각각 나이지리아, 남아프리카 공화국, 브라질, 콜롬비아의 수도 중 하나임.)

<4개국 수도의 수리적 위치>

구분	(가)	(나)	(다)	(라)
위도	$4^{\circ} 34' \text{N}$	$9^{\circ} 05' \text{N}$	$15^{\circ} 41' \text{S}$	$25^{\circ} 44' \text{S}$
경도	$74^{\circ} 00' \text{W}$	$7^{\circ} 32' \text{E}$	$48^{\circ} 08' \text{W}$	$28^{\circ} 12' \text{E}$

- ① (가)는 내륙 개발을 위해 20세기에 조성된 계획 도시이다.
- ② (다)는 해당 국가의 수위 도시이다.
- ③ (라)는 아프리카 최대 인구 대국이자 산유국의 수도이다.
- ④ (나)는 (가)보다 연평균 기온이 높다.
- ⑤ (가)~(라) 중 영국 런던과 최단 거리의 도시는 (가)이다.

15. 지도의 A~D는 세계 주요 산맥의 일부이다. 이에 대한 설명으로 옳은 것만을 <보기>에서 고른 것은? [3점]



<보 기>

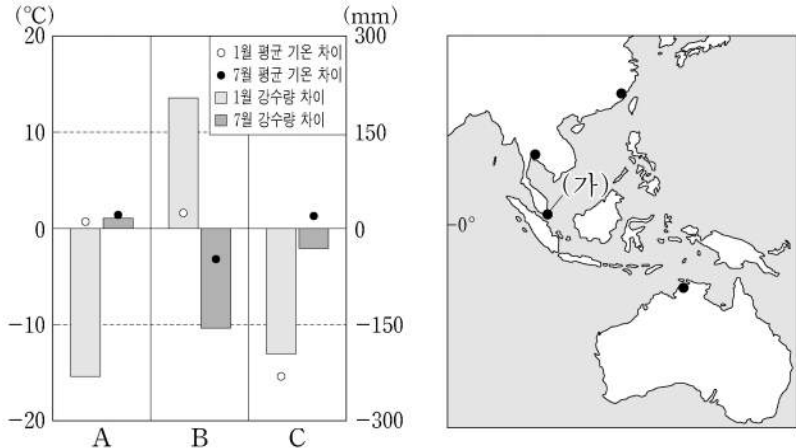
ㄱ. A는 C보다 산맥의 형성 시기가 늦다.
 ㄴ. B는 D보다 화산 활동이 활발하다.
 ㄷ. D는 C보다 평균 해발 고도가 높다.
 ㄹ. A와 B는 모두 대륙판과 해양판이 수렴하여 형성되었다.

- ① ㄱ, ㄴ ② ㄱ, ㄷ ③ ㄴ, ㄷ ④ ㄴ, ㄹ ⑤ ㄷ, ㄹ

4 (세계지리)

사회탐구 영역

16. 그래프는 A~C 지역과 (가) 지역 간의 기후 값 차이를 나타낸 것이다. 이에 대한 설명으로 옳은 것은? (단, A~C는 각각 지도에 표시된 세 지역 중 하나임.)



* 월평균 기온 차이 = 각 지역의 월평균 기온 - (가) 지역의 월평균 기온
 ** 월 강수량 차이 = 각 지역의 월 강수량 - (가) 지역의 월 강수량

- ① (가)는 B보다 적도 수렴대의 영향을 받는 기간이 짧다.
- ② A는 B보다 1월의 밤 길이가 길다.
- ③ B는 C보다 기온의 연교차가 크다.
- ④ C는 A보다 저위도에 위치한다.
- ⑤ 1월 강수량은 (가) > B > C > A 순으로 많다.

17. 표는 주요 식량 작물의 국가별 생산량을 나타낸 것이다. 이에 대한 설명으로 옳은 것만을 <보기>에서 고른 것은? (단, (가), (나)는 각각 밀, 쌀 중 하나임.) [3점]

(단위: 백만 톤)

(가)		(나)		옥수수	
국가	생산량	국가	생산량	국가	생산량
A	214	A	134	B	360
인도	178	인도	108	A	261
방글라데시	55	러시아	86	브라질	104
인도네시아	55	B	50	아르헨티나	58
베트남	43	캐나다	35	우크라이나	30

* 작물별 생산량 상위 5개국만 나타냄.

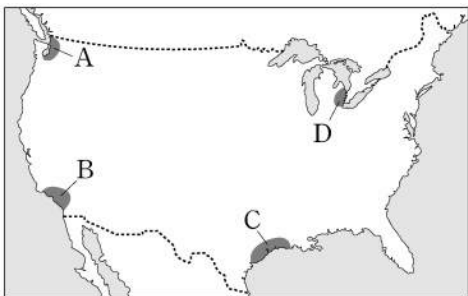
(2020)

<보 기>

ㄱ. (가)는 옥수수보다 가축의 사료로 이용되는 비율이 낮다.
 ㄴ. (나)는 (가)보다 국제 이동량이 많다.
 ㄷ. A는 B보다 옥수수의 수출량이 많다.
 ㄹ. A는 아메리카, B는 아시아에 위치한 국가이다.

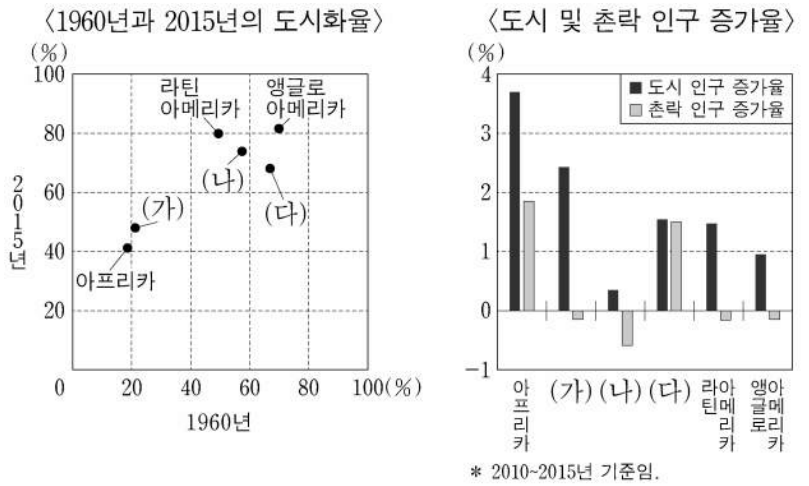
- ① ㄱ, ㄴ ② ㄱ, ㄷ ③ ㄴ, ㄷ ④ ㄴ, ㄹ ⑤ ㄷ, ㄹ

18. 지도의 A~D 산업 지역에 대한 설명으로 옳은 것은? [3점]



- ① A는 휴스턴을 중심으로 하는 석유 화학 공업 지역이다.
- ② B에는 디트로이트를 중심으로 자동차 산업이 발달하였다.
- ③ C에는 할리우드를 중심으로 영화 산업이 발달하였다.
- ④ D는 실리콘 벨리를 중심으로 하는 첨단 산업 지역이다.
- ⑤ D는 C보다 공업 발달의 역사가 오래되었다.

19. 그래프의 (가)~(다) 지역(대륙)에 대한 설명으로 옳은 것은?



- ① 2015년 (가)는 아프리카보다 도시 인구가 많다.
- ② (나)는 1960년 촌락 인구 비율이 가장 높다.
- ③ (다)에는 최상위 계층의 세계 도시가 위치한다.
- ④ (가)는 (나)보다 산업화의 시작 시기가 이른다.
- ⑤ 2010~2015년 도시 인구 증가율은 유럽이 오세아니아보다 높다.

20. 다음은 세계지리 온라인 학습의 한 장면이다. (가) 국가를 지도의 A~E에서 고른 것은? [3점]

온라인 교실

교사 화면 공유 중

※ (가) 국가의 지리적 특징을 답글로 달아 보세요.

자연환경과 인간 생활

답글(3)

- ↳ 화산회토가 쌓인 계단식 논에서 벼농사가 이루어짐.
- ↳ 나시고랭과 같은 볶음 음식 문화가 발달함.
- ↳ 커피, 카카오 등을 생산하는 플랜테이션 농업이 발달함.

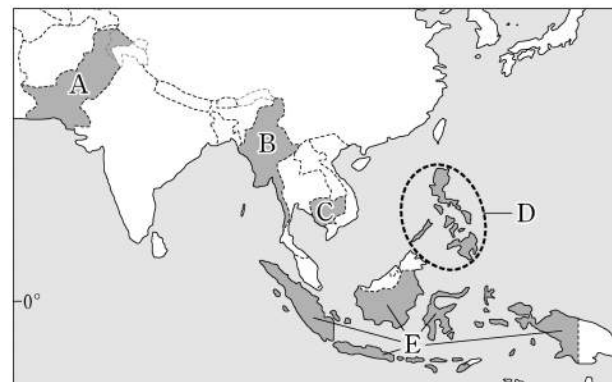
문화와 종교

답글(2)

- ↳ 주민 대다수가 이슬람교를 신봉하지만 문화와 종교의 다양성을 존중함.
- ↳ 옥야카르타에는 힌두교 사원인 프람바난, 불교 사원인 보로부두르, 이슬람 지도자인 술탄의 왕궁이 함께 나타남.

교사

모두 옳은 답글을 달았네요.



- ① A
- ② B
- ③ C
- ④ D
- ⑤ E

* 확인 사항

○ 답안지의 해당란에 필요한 내용을 정확히 기입(표기)했는지 확인 하시오.

제 4 교시

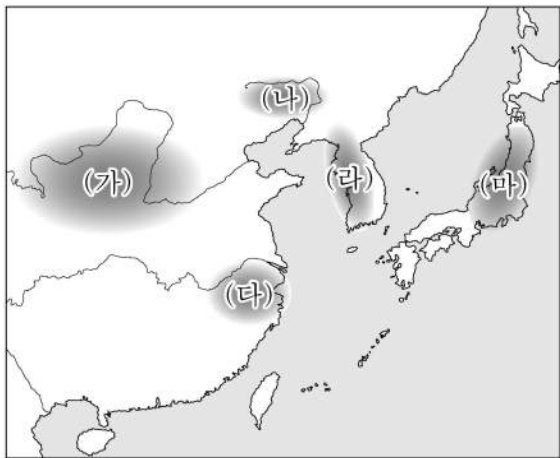
사회탐구 영역 (동아시아사)

성명

수험 번호

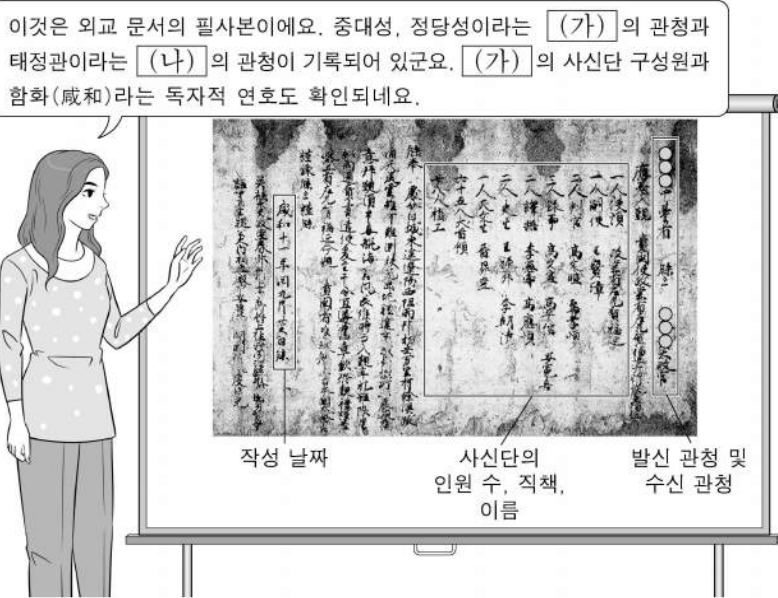
제 [] 선택

1. 밑줄 친 '이 지역'을 지도에서 옳게 고른 것은?



- ① (가) ② (나) ③ (다) ④ (라) ⑤ (마)

2. (가), (나) 국가의 통치 제도에 대한 설명으로 옳은 것만을 <보기>에서 고른 것은? [3점]



작성 날짜 사신단의 인원 수, 직책, 이름 발신 관청 및 수신 관청

<보 기>

- ㄱ. (가) - 남추밀원을 설치하였다.
- ㄴ. (가) - 유학 교육 기관으로 주자감을 설립하였다.
- ㄷ. (나) - 2관 8성의 중앙 관제를 운영하였다.
- ㄹ. (나) - 독서삼품과를 시행하여 관리 선발에 활용하였다.

- ① ㄱ, ㄴ ② ㄱ, ㄷ ③ ㄴ, ㄷ ④ ㄴ, ㄹ ⑤ ㄷ, ㄹ

3. 다음 자료를 활용한 탐구 주제로 가장 적절한 것은?

북방 민족은 사람의 도리를 배우려 하지 않고 중원의 변경에서 빈틈을 엿보았기 때문에 옛날부터 걱정거리였다. ... (중략) ... 태시 연간에 이르러 변경을 열어 북방 민족을 불러들였더니, ... (중략) ... 하늘의 뜻이 아직 건업(建鄴)에 이르지도 못했는데 진(晉)의 수도인 뤼양이 함락되어 백성들이 도탄에 빠지고 북방 민족의 죄악이 하늘까지 가득하였다.

- 『진서(晉書)』 -

- ① 부여족의 이주와 고구려 건국
- ② 위만 세력의 망명과 집권 과정
- ③ 가야인의 도왜와 스에키의 제작
- ④ 5호의 화북 진출과 한족의 남하
- ⑤ 낙랑 유민의 이동과 백제의 성장

4. (가), (나) 국가에 대한 설명으로 옳은 것은?



- ① (가) - 발해를 멸망시켰다.
- ② (가) - 대월을 공격하였다.
- ③ (가) - 맹안·모극제를 실시하였다.
- ④ (나) - (가)를 정복하였다.
- ⑤ (나) - 거란(요)과 전연에서 형제의 맹약을 맺었다.

5. (가) 왕조에 대한 설명으로 옳은 것은? [3점]

남북조를 통일한 그는 (가)의 사신을 맞이하여 소향삼배(燒香三拜)*하고 칙서를 수령하였다. 그는 답신 국서에서 스스로 신하임을 칭하였고, (가) (으)로 사신을 파견하였다. 사신이 지참한 국서를 받은 황제는 그를 일본 국왕에 정식으로 책봉하며 고명·관복·금인 등을 하사하였다.

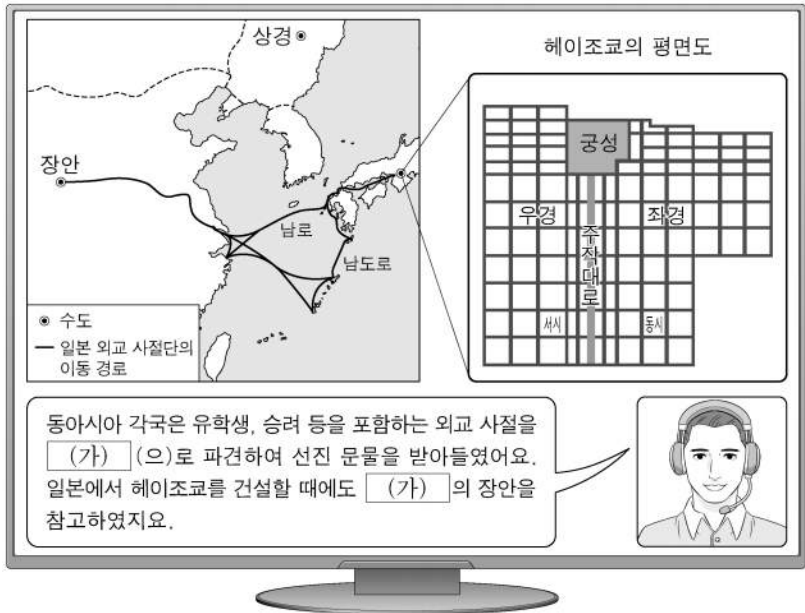
*소향삼배: 향을 피우고 세 번 절을 하는 의례

- ① 쓰시마를 정벌하였다.
- ② 토변에 화번공주를 보냈다.
- ③ 정화의 함대를 파견하였다.
- ④ 매카트니 사절단을 접견하였다.
- ⑤ 왜의 노국왕에게 금인을 내려 주었다.

2 (동아시아사)

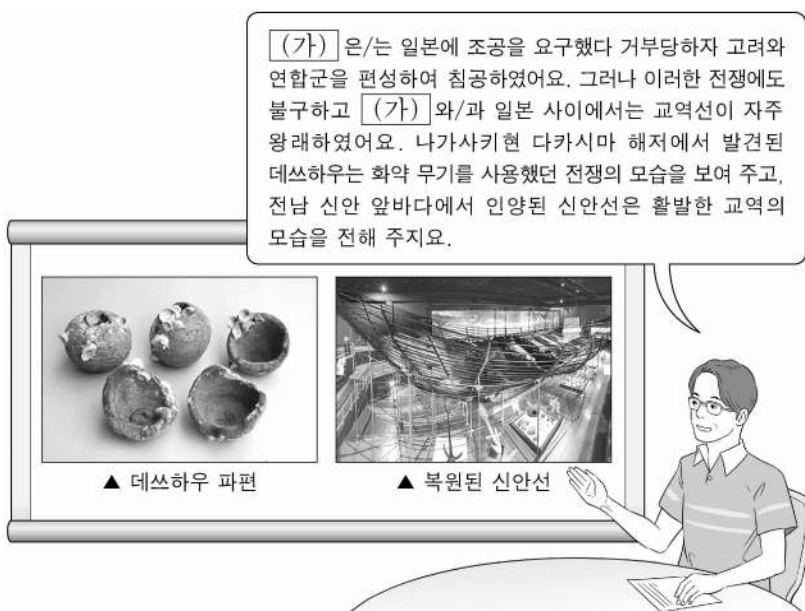
사회탐구 영역

6. (가) 왕조 시기에 볼 수 있는 모습으로 가장 적절한 것은?



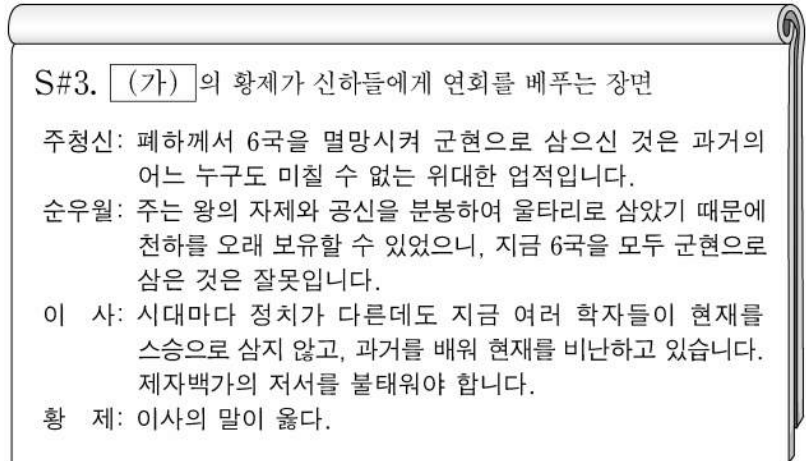
- ① 사서집주를 편찬하는 주희
- ② 일본에 계율을 전수하는 감진
- ③ 성리학을 연구하는 후지와라 세이카
- ④ 해체신서를 간행하는 스키타 겐파쿠
- ⑤ 유클리드의 기하학 서적을 번역하는 서광계

7. (가) 국가에 대한 설명으로 옳은 것은? [3점]



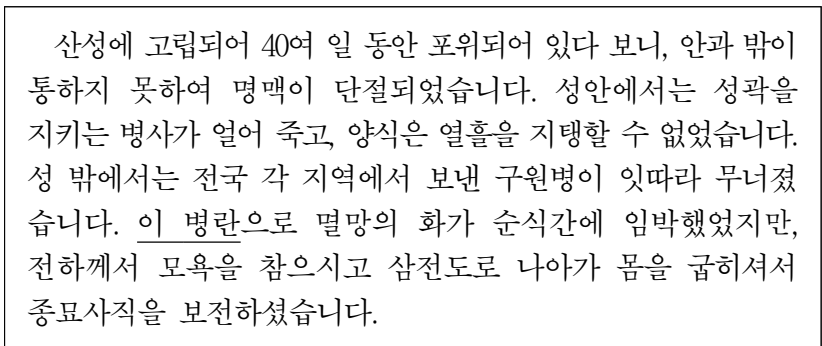
- ① 광둥 무역 체제를 구축하였다.
- ② 쩌훙다오 군대와 전투를 벌였다.
- ③ 데지마에 네덜란드 상관을 두었다.
- ④ 난징에서 베이징으로 수도를 옮겼다.
- ⑤ 베트남 북부에 안남 도호부를 설치하였다.

8. (가) 왕조에 대한 설명으로 옳은 것은? [3점]



- ① 고조선을 멸망시켰다.
- ② 만리장성을 축조하였다.
- ③ 3성 6부제를 운영하였다.
- ④ 다이카 개신을 단행하였다.
- ⑤ 장건을 서역에 파견하였다.

9. 밑줄 친 '이 병란' 이후 동아시아에서 있었던 사실로 옳은 것만을 <보기>에서 고른 것은?

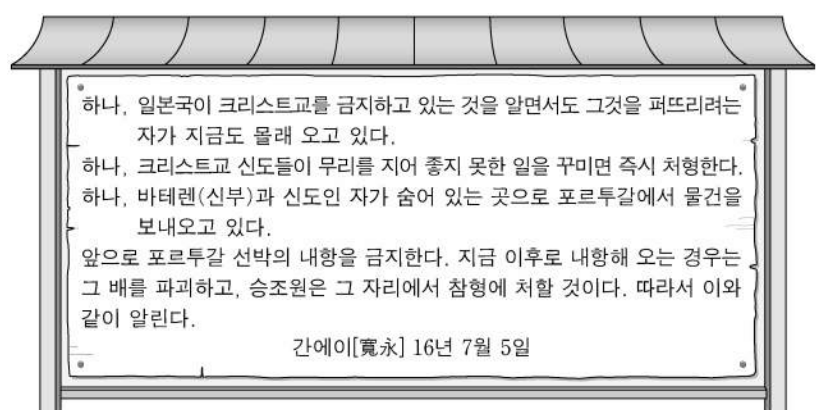


—<보 기>—

- ㄱ. 한국 - 효종이 복벌을 추진하였다.
- ㄴ. 중국 - 오삼계 등이 삼변의 난을 일으켰다.
- ㄷ. 중국 - 홍타이지가 국호를 청으로 바꾸었다.
- ㄹ. 일본 - 오다 노부나가 가 나가시노 전투에서 승리하였다.

- ① ㄱ, ㄴ ② ㄱ, ㄷ ③ ㄴ, ㄷ ④ ㄴ, ㄹ ⑤ ㄷ, ㄹ

10. 다음 명령을 내린 막부 시기 동아시아에서 있었던 사실로 옳은 것은? [3점]



- ① 윤관이 여진을 정벌하였다.
- ② 장거정이 일련의 개혁을 추진하였다.
- ③ 황제가 토목보에서 몽골의 포로가 되었다.
- ④ 정씨(정성공) 세력이 타이완에서 활동하였다.
- ⑤ 도요토미 히데요시가 센고쿠 시대를 통일하였다.

11. (가) 왕조 시기의 동아시아 문화에 대한 설명으로 옳지 않은 것은?

학생 1: 선생님, 동아시아에서 국가가 주도하여 대규모 편찬 사업을 진행한 사례가 있을까요?
 (가) 의 건륭제 시기에 편찬된 『사고전서』가 가장 대표적이지요.
 학생 2: 『사고전서』는 어떻게 구성되어 있나요?
 경(經), 사(史), 자(子), 집(集)의 4부로 이루어져 있어요.
 학생 3: 그럼 경, 사, 자, 집은 무슨 뜻인가요?
 경은 경전, 사는 역사, 자는 사상, 집은 문학을 의미해요.

- ① 한국 - 한글 소설이 유행하였다.
- ② 중국 - 경극이 성행하였다.
- ③ 중국 - 홍루몽이 저술되었다.
- ④ 일본 - 우키요에가 제작되었다.
- ⑤ 일본 - 가나 문자가 만들어졌다.

12. (가) 물품에 대한 설명으로 옳은 것만을 <보기>에서 고른 것은? [3점]

동남아시아로 진출한 에스파냐인들은 무역 거점으로 필리핀의 마닐라를 건설하였다. 그들은 매년 포토시 등지에서 생산한 다량의 (가) 을/를 갈레온선에 실어 아카폴코에서 마닐라로 가져왔다. 마닐라에서는 중국 상인들이 가져온 비단, 도자기 등과 (가) 의 교환이 이루어졌다. 이후 아카폴코로 회항하는 갈레온선에 실린 비단, 도자기 등은 아메리카를 거쳐 에스파냐 본국으로 유입되었다.

<보 기>
 ㄱ. 송에서 일본으로 대량 수출되었다.
 ㄴ. 청에서 세금 납부 수단으로 이용되었다.
 ㄷ. 일본이 회취법을 도입하여 생산량을 증대시켰다.
 ㄹ. 조선이 초량 왜관을 통해 수출한 주요 상품이었다.

- ① ㄱ, ㄴ ② ㄱ, ㄷ ③ ㄴ, ㄷ ④ ㄴ, ㄹ ⑤ ㄷ, ㄹ

13. 밑줄 친 '나'에 대한 설명으로 옳은 것은?

유촉(遺囑)
 소비에트 사회주의 공화국 연방(소련) 중앙 집행 위원회의 친애하는 동지들, 불치의 병으로 몸져 누운 지금, 나는 여러분을 생각하고, 또 우리 당과 우리 나라를 생각하고 있습니다. ... (중략) ... 내가 이 세상에 남기는 것은 내가 조직한 중국 국민당입니다. 나는 중국 국민당이 제국주의로부터 중국 및 그 밖의 다른 피침략국을 해방하는 역사적 과업을 완성하기 위해 소련과 협력해 왔습니다. ... (중략) ... 중국과 소련은 세계 피압박 민족의 자유를 위한 싸움에서 손을 잡고 함께 나아가 승리를 획득할 것입니다. 삼가 형제의 우의로써 여러분의 평안을 빕니다.

- ① 교육 척어를 공포하였다.
- ② 의화단 운동을 진압하였다.
- ③ 태평천국 운동을 주도하였다.
- ④ 제1차 국·공 합작을 추진하였다.
- ⑤ 한·중 민족 항일 대동맹을 결성하였다.

14. 밑줄 친 '신정부'의 정책으로 옳은 것만을 <보기>에서 고른 것은? [3점]



이것은 민견당吠(民犬黨吠)라는 제목의 삽화이다. 삽화는 신정부 인사들이 커다란 개로 상징되는 민권 운동가를 단속하려 하지만 역부족인 모습을 풍자하였다. 개의 꼬리에는 "R. OF THE P."라고 쓰여 있고, 뒤쪽으로는 개에게 갈채를 보내는 사람들이 묘사되어 있다. 의회 설립을 요구하는 민선 의원 설립 건백서의 제출로 민권 운동가들의 활동이 본격화되었다. 신정부는 이러한 활동을 탄압하면서도 이들의 요구를 일부 반영하여 헌법을 제정하였다.

* R. OF THE P. : RIGHT OF THE PEOPLE(민권)

<보 기>
 ㄱ. 미·일 화친 조약을 체결하였다.
 ㄴ. 베르사유 조약 조인을 거부하였다.
 ㄷ. 운요호 사건을 빌미로 조약을 맺었다.
 ㄹ. 징병제를 실시하여 군대를 정비하였다.

- ① ㄱ, ㄴ ② ㄱ, ㄷ ③ ㄴ, ㄷ ④ ㄴ, ㄹ ⑤ ㄷ, ㄹ

15. (가), (나) 성명이 발표된 시기 사이에 있었던 사실로 옳은 것은? [3점]

(가) 중화 인민 공화국 정부와 일본국 정부는 금일부터 외교 관계를 수립하기로 결정하였다. ... (중략) ... 중화 인민 공화국 정부는 중·일 양국 국민의 우호를 위하여 일본국에 대한 전쟁 배상의 청구를 포기하기로 선포한다.
 (나) 대한민국 정부와 중화 인민 공화국 정부는 양국 국민의 이익과 염원에 부응하여 금일 자로 상호 승인하고 대사급 외교 관계를 수립하기로 결정하였다. ... (중략) ... 양국 간의 수교가 한반도 정세의 완화와 안정, 그리고 아시아의 평화와 안정에 기여할 것이라고 확신한다.

- ① 6·25 전쟁이 발발하였다.
- ② 닉슨 독트린이 발표되었다.
- ③ 파리 평화 협정이 체결되었다.
- ④ 한·일 기본 조약이 맺어졌다.
- ⑤ 천수이볜이 총통으로 선출되었다.

4 (동아시아사)

사회탐구 영역

16. 밑줄 친 '이 전쟁' 시기에 볼 수 있는 모습으로 가장 적절한 것은? [3점]

○○일보 ○○○○년 △△월 □□일

한·중 두 민족이 통일 전선을 건립하자!

작년 12월 어느 날, '중국의 친구를 방문하다! -조선 의용대'라는 표제를 단 보도를 통해, 구이린에서 활동하고 있는 조선 의용대가 처음으로 일반 대중에게 소개되었다. 조선 의용대는 루거우차오 사건을 계기로 시작된 이 전쟁에 참가하여, 최후 승리를 쟁취하는 길만이 한국 독립을 쟁취할 수 있는 유일한 길임을 잘 알기 때문에 온갖 어려움 속에서도 활발한 공작 활동을 진행하고 있다. ... (중략) ... 조선 의용대가 '한·중 두 민족이 통일 전선을 건립하자!'라는 표어로 선전 공작을 진행한 뒤, 이 표어는 중국 동포들 사이에 출현한 외침이자 주장이 되었다.

- ① 5·4 운동에 참여하는 대학생
- ② 만주에 파견되는 리튼 조사단원
- ③ 의회에서 연설하는 자민당 소속 일본 총리
- ④ 풍도 해전의 발발 소식을 전하는 신문 기자
- ⑤ 난징에서 충칭으로 수도를 옮기는 국민당 정부 관리

17. (가) 사건에 대한 탐구 활동으로 가장 적절한 것은?

대약진 운동이 실패하고 자본주의 사상과 문화에 대한 투쟁이 가속화되었다. ... (중략) ... 마오쩌둥은 당시의 계급 정세 및 당과 국가의 정치 상황을 완전히 잘못 판단하고 (가) 을/를 전개하였다. 이로 인해 발생한 10년 동안의 내란은 당, 국가, 인민이 심각한 좌절을 겪고 손해를 보게 된 쓰라린 교훈을 남겼다. 중앙 정치국은 당과 인민의 의지에 따라 4인방을 단호히 처단하고 (가) 을/를 종결하였다.

- ① 홍위병의 활동을 조사한다.
- ② 양무운동의 배경을 파악한다.
- ③ 6월 민주 항쟁의 결과를 알아본다.
- ④ 55년 체제의 성립 과정을 분석한다.
- ⑤ 베트남 공화국 수립의 계기를 찾아본다.

18. 밑줄 친 ㉠, ㉡에 대한 설명으로 옳은 것은?


역사 속의 5월 3일

← 일본의 전후 처리 →

- 19△△년 이날은 일본의 주요 전쟁 범죄자를 처벌하기 위한 재판이 처음 열린 날이다. 약 2년 반 동안 진행된 ㉠이 재판에서 A급 전범 25명만이 실형을 선고받았다.
- 19□□년 이날은 6개월 전에 제정된 헌법이 시행된 날이다. 제1조에서 천황을 상징적인 존재로 규정한 ㉡이 헌법을 소개하기 위해 문부성에서는 책을 발행하였다.

- ① ㉠ - 미드웨이 해전이 발발하는 배경이 되었다.
- ② ㉠ - 워싱턴 체제가 성립되는 결과를 가져왔다.
- ③ ㉡ - 포츠담 선언의 발표에 영향을 주었다.
- ④ ㉡ - 일본 제국 의회가 설립되는 토대가 되었다.
- ⑤ ㉡ - 군사력 보유 금지에 대한 내용을 담고 있다.

19. (가) 도시에 대한 설명으로 옳은 것은?



사진은 인도에서 건너온 붉은 터번을 두른 시크교도 순포의 모습이다. 영국과의 조약에 따라 홍콩이 할양되고 개방된 5개 항구 중 가장 북쪽에 위치한 (가) 의 조계에서 이들이 활동하였다. 이들은 황푸강에 인접한 와이탄을 중심으로 한 (가) 의 조계에서 주로 치안을 유지하는 업무를 담당하였고, 서양인들이 직접 나서기 곤란한 일을 수행하였다.

- ① 금릉 기기국이 설립된 곳이다.
- ② 아주 화친회가 결성된 곳이다.
- ③ 대한민국 임시 정부가 수립된 곳이다.
- ④ 청·일 전쟁의 강화 조약이 체결된 곳이다.
- ⑤ 유럽과의 무역을 담당하는 공행이 설치된 곳이다.

20. (가), (나) 국가에 대한 설명으로 옳은 것만을 <보기>에서 고른 것은? [3점]

조약으로 보는 동아시아 각국의 개항

자료 1
제3조 시모다, 하코다테 외에 다음 항구를 개항한다. 가나가와, 나가사키, 니가타, 효고.
제6조 일본인에 대하여 범법 행위를 한 (가) 인은 그들의 영사 재판소에서 조사한 후 (가) 의 법으로 벌한다.

자료 2
제2조 프랑스인 등은 (나) 내에서 크리스티교를 믿을 수 있으며, (나) 인들도 크리스티교를 믿기 원하면 아무런 제약 없이 믿을 수 있다.
제5조 다낭, 바랏, 광옌의 세 항구를 개항하여 프랑스인 등이 자유롭게 상업 활동을 할 수 있게 한다.

<보 기>

- ㄱ. (가) - 애치슨 라인을 발표하였다.
- ㄴ. (가) - 청으로부터 타이완을 넘겨받았다.
- ㄷ. (나) - 영토의 일부를 할양하였다.
- ㄹ. (나) - 산둥 지역에서 누리던 이권을 일본에 빼앗겼다.

- ① ㄱ, ㄴ ② ㄱ, ㄷ ③ ㄴ, ㄷ ④ ㄴ, ㄹ ⑤ ㄷ, ㄹ

* 확인 사항

○ 답안지의 해당란에 필요한 내용을 정확히 기입(표기)했는지 확인 하시오.

제 4 교시

사회탐구 영역(세계사)

성명 수험 번호 - 제 [] 선택

1. (가) 지역의 고대 문명에 대한 설명으로 옳은 것은? [3점]



- ① 파피루스에 기록을 남겼다.
- ② 함무라비 법전을 편찬하였다.
- ③ 점을 친 내용을 갑골에 새겼다.
- ④ 크레타섬을 중심으로 발전하였다.
- ⑤ 하라파와 모헨조다로를 건설하였다.

2. (가) 왕조에서 있었던 사실로 옳은 것은? [3점]

황소의 난을 진압하는 데 이바지한 탁발사공은 황실의 성씨를 하사받고 절도사에 임명되었다. 이는 탕구트족이 성장하는 계기가 되었다. 한 세기가 넘게 지나 등장한 이원호는 탕구트족의 발전을 이끌었다. 이원호는 평소 아버지 이덕명에게 (가)에 대한 신하 노릇을 그만두자고 자주 말하였다. 하루는 이덕명이 “우리가 지금 비단옷을 입을 수 있는 것은 저들의 은혜 때문이다.”라고 하자, 이원호는 “저들과 달리 모피 옷을 입고 목축을 하는 것이 우리의 타고난 습성입니다. 비단옷 따위가 우리에게 무슨 의미가 있습니까?”라고 반문하였다. 오래지 않아 그는 스스로 황제를 칭하였고, 이후 탕구트족은 (가)을/를 군사적으로 압박하여 많은 물자를 세폐로 받기도 하였다.

- ① 수호전이 유행하였다.
- ② 조용조 제도가 실시되었다.
- ③ 왕안석의 신법이 추진되었다.
- ④ 원강·릉면 석굴 사원이 창건되었다.
- ⑤ 영제거, 한구 등 대운하가 건설되었다.

3. 밑줄 친 ‘이 폴리스’에 대한 설명으로 옳은 것은?

기원전 465년경에 강력한 지진이 이 폴리스를 덮쳐 많은 시민이 사망하였다. 이를 기회로 삼아 헤일로타이가 일제히 봉기하였고, 그중 일부는 이도메산에서 수년 간 저항한 끝에 자유를 쟁취하였다.

- 투키디데스, 『역사』 -

- ① 솔론이 개혁을 단행하였다.
- ② 파르테논 신전을 건축하였다.
- ③ 밀로의 비너스상을 만들었다.
- ④ 펠로폰네소스 동맹을 주도하였다.
- ⑤ 그리스인과 페르시아인의 혼인을 장려하였다.

4. (가) 황제의 재위 시기에 있었던 사실로 옳은 것은?



- ① 군국제가 시행되었다.
- ② 향거리선제가 도입되었다.
- ③ 진승·오광의 난이 발발하였다.
- ④ 균수법과 평준법이 실시되었다.
- ⑤ 흉노 세력이 북쪽으로 밀려났다.

5. (가) 인물에 대한 탐구 활동으로 가장 적절한 것은? [3점]

법학자이면서 걸출한 이مام이며 인도의 수석 법관인 가즈나위가 나에게 말하기를, 델리는 이슬람교도에 정복되었다고 한다. 나도 대사원의 벽면에 그렇게 쓰여 있는 것을 본 적이 있다. 또한 가즈나위는 (가)이가 이 도시를 수도로 삼은 첫 번째 이슬람 왕조를 열었다고 알려 주었다. 원래 (가)은/는 가즈니와 호라산의 왕인 무함마드 알 구르(고르)의 노예였다.

- 이븐 바투타, 『여행기』 -

- ① 사쿠타라의 내용을 분석한다.
- ② 타지마할이 조성된 목적을 살펴본다.
- ③ 쿠트브 미나르가 세워진 이유를 조사한다.
- ④ 데브시르메 제도가 실시된 결과를 파악한다.
- ⑤ 마라타 동맹의 반란이 일어나게 된 계기를 알아본다.

세계사

2 (세계사)

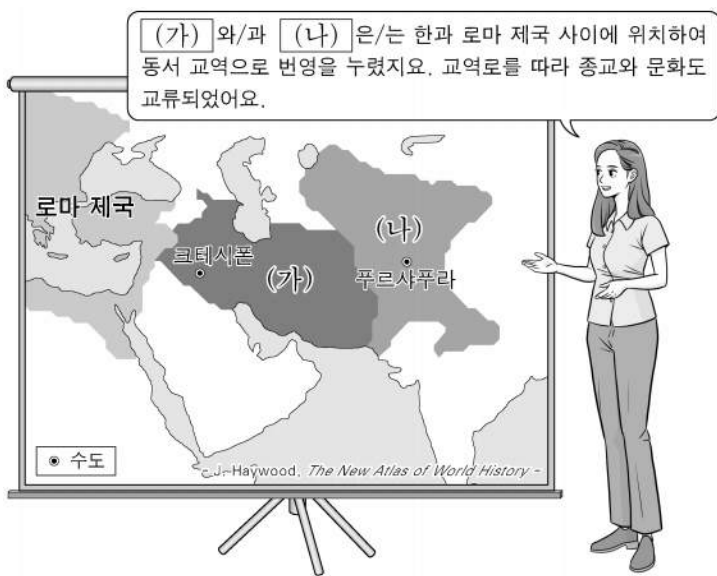
사회탐구 영역

6. (가) 왕조에 대한 설명으로 옳은 것은?

(가)의 유민(遺民) 중 일부는 메콩강 하류 지역에 정착하였다. 이 가운데 특기할 만한 사례로 3,000여 명이 함께 이주한 일이 있었다. 당시에 이들은 자신들이 이자성의 군대에 의해 멸망한 (가)의 병사였고 만주족에 대항하다 광둥에서 이곳으로 망명해 왔다고 주장하였다. 하지만 상당수는 근해에서 활동하던 해적이었다. 응우옌 정권은 이들을 비엔호아와 미토 지역에 살게 하며 영토 확장에 앞장세워 큰 효과를 보았다.

- ① 군기처를 설치하였다.
- ② 파스와 문자를 만들었다.
- ③ 9품중정제를 폐지하였다.
- ④ 만한 병용제를 시행하였다.
- ⑤ 북부 베트남을 점령하였다.

7. (가), (나) 왕조에 대한 설명으로 옳은 것만을 <보기>에서 고른 것은?



<보 기>

- ㄱ. (가) - 마니교가 등장하였다.
 ㄴ. (가) - 이란 계통의 유목민이 세웠다.
 ㄷ. (나) - 간다라 미술 양식이 발달하였다.
 ㄹ. (나) - 에프탈의 침략을 받아 쇠퇴하였다.

- ① ㄱ, ㄴ ② ㄱ, ㄷ ③ ㄴ, ㄷ ④ ㄴ, ㄹ ⑤ ㄷ, ㄹ

8. (가) 막부 시기에 있었던 사실로 옳은 것은? [3점]

명문 무사 가문 출신인 그는 고다이로 천황의 막부 토벌에 가담하였다. 두 차례에 걸친 원의 침입을 막느라 쇠퇴해진 막부는 더 이상 명맥을 잇지 못하였다. 얼마 후 그는 천황과 갈라서고 동생과 함께 교토를 중심으로 (가)을/를 새롭게 수립하였다. 그는 무가(武家)의 우두머리로서 (가)을/를 이끄는 한편 선종을 옹호하여 선승 무소 소세키를 후원하였고, 덴류지라는 사원을 건립하는 등 다양한 형태의 불교 활동을 추진하였다.

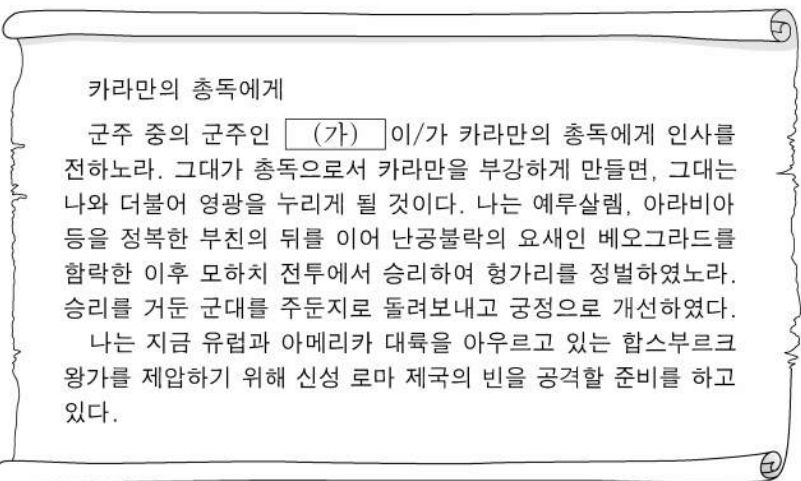
- ① 난학이 융성하였다.
- ② 견수사가 파견되었다.
- ③ 와카 문학이 등장하였다.
- ④ 감합 무역이 시행되었다.
- ⑤ 산킨코타이 제도가 실시되었다.

9. (가) 왕조에 대한 설명으로 옳은 것은? [3점]

(가)은/는 시아파의 도움을 받아 성립하였지만 점차 시아파를 탄압하였다. 수도를 동쪽의 바그다드로 옮긴 후에는 이슬람으로 개종한 페르시아인을 관료로 대거 발탁하여 중앙 집권 체제를 확립하였다. (가)에서 페르시아인들은 학문과 예술 분야에서도 역량을 발휘하였다. 그중 알 콰리즈미는 대수학, 기하학, 천문학 등에 능통하였으며 그리스 문헌 번역에도 힘썼다. '알고리즘(Algorism)'이라는 용어는 그의 이름에서 유래한 것이다.

- ① 이스마일 1세에 의해 건국되었다.
- ② 사산 왕조 페르시아를 정복하였다.
- ③ 몽골 세력의 침략을 받아 멸망하였다.
- ④ 크림 전쟁에서 승리하여 러시아의 남하를 막았다.
- ⑤ 투르·푸아티에 전투에서 프랑크 왕국에 패배하였다.

10. (가) 군주에 대한 설명으로 옳은 것은?



- ① 몽골 제국의 재건을 내세웠다.
- ② 콘스탄티노폴리스로 수도를 옮겼다.
- ③ 이집트의 맘루크 왕조를 정복하였다.
- ④ 탈라스 전투에서 당의 군대를 격퇴하였다.
- ⑤ 유럽 연합 함대를 물리쳐 동지중해를 장악하였다.

11. 밑줄 친 '저'에 대한 설명으로 옳은 것은? [3점]



- ① 예수회를 설립하여 선교 활동을 펼쳤다.
- ② 크리스티교 강요를 집필하여 예정설을 주장하였다.
- ③ 데카메론을 저술하여 타락한 사회상을 풍자하였다.
- ④ 우신예찬을 출판하여 성직자의 부패를 고발하였다.
- ⑤ 95개조 반박문을 발표하여 교회의 잘못을 비판하였다.

12. 밑줄 친 '이 제국'에 대한 설명으로 옳은 것은?



- ① 아도와 전투에서 승리하였다.
- ② 코르테스에 의해 정복되었다.
- ③ 포토시에서 은광을 개발하였다.
- ④ 아프리카에서 노예를 수입하였다.
- ⑤ 쿠스코에 태양 신전을 건설하였다.

13. (가) 국왕에 대한 설명으로 옳은 것은?



- ① 콜베르를 등용하였다.
- ② 무적함대를 격파하였다.
- ③ 폴란드를 분할 점령하였다.
- ④ 레판토 해전에서 승리하였다.
- ⑤ 슐레지엔 지역을 차지하였다.

14. (가)의 통일 운동에 대한 설명으로 옳은 것은? [3점]

베르디(G. Verdi)는 음악으로 민족의식을 고양하였다. 오페라 「나부코」 중 「히브리 노예들의 합창」에서 「잃어버린 조국, 아름다운 나의 조국」을 그리는 마음을 표현하여 열광적인 호응을 받았다. 당시 오스트리아의 간섭에 맞서 (가)의 통일을 추진하던 사르데냐의 국왕 비토리오 에마누엘레 2세의 이름과 별칭에서 머리글자를 따면 'V·E·R·D·I'가 되기 때문에, 「Viva Verdi(베르디 만세)」라는 문구가 통일 운동의 구호로도 사용되었다.

- ① 라인 연방이 결성되었다.
- ② 차티스트 운동이 전개되었다.
- ③ 가리발디가 시칠리아를 정복하였다.
- ④ 지식인들의 브나로드 운동이 벌어졌다.
- ⑤ 부르센샤프트(학생 조합) 운동이 일어났다.

15. (가) 정부에 대한 설명으로 옳은 것은? [3점]

노동자, 병사, 농민들에게!

임시 정부는 타도되었습니다. 임시 정부 각료 대다수가 이미 체포되었습니다. (가)은/는 모든 나라의 인민에게 민주적 강화를, 모든 전선에 휴전을 지체 없이 제안하겠습니다. (가)은/는 지주와 귀족, 수도원이 소유한 토지를 무상으로 양도받아 농민 위원회가 관할하게 하고, 군대를 철저히 민주화하여 병사의 권리를 지키겠습니다. 노동자 생산 관리를 확립하고 도시에는 곡물이, 농촌에는 생활필수품이 공급되도록 배려하고 러시아에 사는 모든 민족에게 진정한 자결권을 보장하겠습니다.


노동자, 병사, 농민들이여, 혁명의 운명이 여러분의 손에 달려 있습니다! 혁명 만세!

- ① 농노 해방령을 발표하였다.
- ② 포츠머스 조약을 체결하였다.
- ③ 피의 일요일 사건을 초래하였다.
- ④ 신경제 정책[NEP]을 시행하였다.
- ⑤ 독립 국가 연합[CIS]을 결성하였다.

4 (세계사)

사회탐구 영역

16. 밑줄 친 ㉠ 시기에 볼 수 있는 모습으로 가장 적절한 것은? [3점]




- ① 정한론을 제기하는 정치가
- ② 진주만 기습 공격에 참여하는 군인
- ③ 방공 협정 체결 소식을 전해 듣는 시민
- ④ 미일 수호 통상 조약 체결을 지켜보는 관리
- ⑤ 시모노세키 조약 내용을 보도하는 신문 기자

17. (가), (나) 국가에 대한 설명으로 옳은 것은?

식민 지배 야욕을 앞세운 유럽의 주요 국가들은 토지와 자원의 약탈을 정당화하기 위해 '책임감'을 내세웠다. 유럽 밖의 '야만인'에게 문명을 전파할 책임이 유럽인에게 있다는 것이다. 이른바 '백인의 짐'이라는 논리는 제국주의 정책을 뒷받침하는 명분이 되었다. 19세기 말 유럽 열강은 최대한 많은 아프리카 땅을 집어 삼키려는 광란의 경쟁에 뛰어들었다. (가) 은/는 이집트, 우간다 등을 점령하였다. (나) 은/는 알제리, 마다가스카르 등을 차지하였다. 리비아와 소말리아, 토고 등도 유럽 열강에 점령되었고, 20세기 초에는 아프리카 대륙 대부분이 유럽의 식민지로 전락하였다.

- ① (가) - 벵골 분할령을 발표하였다.
- ② (가) - 인도차이나 연방을 수립하였다.
- ③ (나) - 플라시 전투에서 승리하였다.
- ④ (나) - 헤레로족의 봉기를 진압하였다.
- ⑤ (가), (나) - 모로코에서 두 차례 대립하였다.

18. 밑줄 친 '나'에 대한 설명으로 옳은 것은?



- ① 인민 공사를 조직하였다.
- ② 시안 사건으로 감금되었다.
- ③ 중국 동맹회를 결성하였다.
- ④ 변법자강 운동을 추진하였다.
- ⑤ 황제 제도 부활을 시도하였다.

19. (가) 정권 시기에 있었던 사실로 옳은 것은?

(가) 은/는 사회주의자를 비롯한 정치적 반대자, 사회적 약자, 집시 등 여러 부류의 사람을 학살하였다. 그중에서도 유대인에 대한 만행은 전례 없이 참혹한 것이었다. 집권과 더불어 유대인 탄압의 수위를 높여 가던 (가) 은/는 전쟁 중에 결국 유대인 문제의 '최종 해결'에 착수하였다. 그것은 유대인의 절멸을 의미하였다. 이를 위해 유대인들을 아우슈비츠와 트레블링카 등 가스실이 구비된 수용소로 이송하였다. 많은 유대인이 도착 후 얼마 지나지 않아 학살되었고, 죽을 때까지 강제 노동에 시달린 사람도 있었다. 약 6백만 명에 달하는 유대인이 희생되었을 것으로 추정된다.

- ① 국제 연맹이 창설되었다.
- ② 카이로 회담이 성사되었다.
- ③ 파리 강화 회의가 개최되었다.
- ④ 뉘른베르크 전범 재판이 열렸다.
- ⑤ 파시스트당의 로마 진군이 단행되었다.

20. 밑줄 친 '이 회의'에 대한 설명으로 옳은 것은? [3점]

인도네시아에서 29개국 대표가 모여 국제회의를 열었다. 이 회의에 대표를 파견한 나라들은 문화적, 인종적으로 두드러진 공통점이 없지만 한 가지 점에서는 모두 일치하였다. 바로 제국주의 열강의 식민 통치를 겪었거나 그에 맞서는 반(反)식민주의 역사를 경험한 것이었다. 이들은 식민주의가 이제 군사적 침략과 영토 점령이라는 노골적인 방법이 아니라, 경제적·문화적 지배라는 형태로 바뀌어 여전히 강력한 힘을 발휘하고 있다는 데 의견을 같이하였다. 인도네시아 대통령 수카르노는 식민주의에 대한 적개심으로 각국 대표와 인민이 하나로 뭉쳐 저항해야 한다고 외쳤다.

- ① 비동맹 중립주의를 표방하였다.
- ② 냉전 체제 성립의 계기가 되었다.
- ③ 마스트리흐트 조약 체결로 이어졌다.
- ④ 경제 협력 기구인 코메콘을 결성하였다.
- ⑤ 전략 무기 제한 협정[SALT]을 체결하였다.

* 확인 사항
○ 답안지의 해당란에 필요한 내용을 정확히 기입(표기)했는지 확인 하시오.

제 4 교시

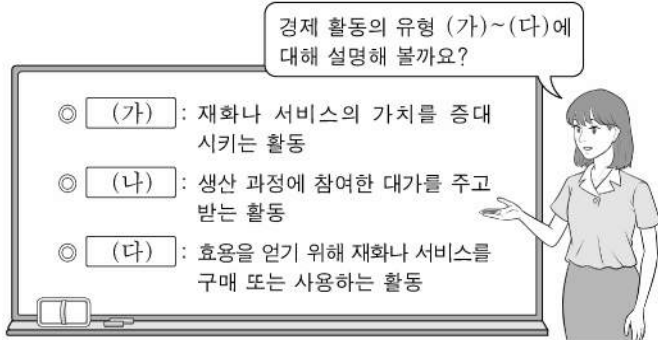
사회탐구 영역(경제)

성명

수험 번호

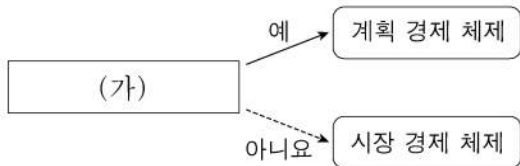
제 [] 선택

1. 교사의 질문에 대한 학생의 답변으로 옳은 것은?



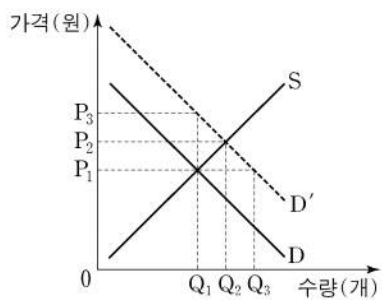
- (가)는 '생산'입니다.
- (나)는 저장, 운송, 판매 활동을 포함합니다.
- (다)의 사례로 '회사에서 노동자로 근무하면서 임금을 받는 것'을 들 수 있습니다.
- (다)를 주로 담당하는 경제 주체는 생산 요소 시장에서 수요자 역할을 합니다.
- (가)와 (나)는 모두 생산물 시장에서 이루어지는 활동입니다.

2. 그림은 질문에 따라 경제 체제를 구분한 것이다. (가)에 들어갈 수 있는 질문으로 옳은 것은?



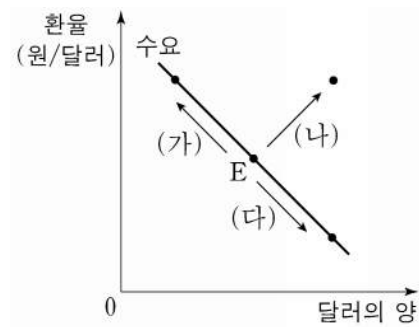
- '보이지 않는 손'의 기능을 중시합니까?
- 자원의 희소성에 의한 경제 문제가 발생합니까?
- 경제 주체의 사적 이윤 추구 활동이 보장됩니까?
- 경제 주체의 자유로운 경제적 의사 결정이 보장됩니까?
- 자원 배분 과정이 주로 정부의 결정과 통제에 의해 이루어집니까?

3. 그림은 외부 효과가 발생한 X재 시장 상황을 나타낸다. 이에 대한 분석 및 추론으로 옳은 것은? (단, D는 사적 편익만을 반영한 수요 곡선, D'은 사회적 편익을 반영한 수요 곡선을 나타낸다.) [3점]



- 시장 가격은 P_3 이다.
- 시장 거래량은 Q_3 이다.
- 사회적 최적 거래량은 Q_1 이다.
- 소비 측면에서 긍정적 외부 효과가 발생한 상황이다.
- 정부가 생산자에게 X재 1개당 P_1P_2 만큼의 세금을 부과하면 사회적 최적 거래량이 달성된다.

4. 그림은 우리나라 외환 시장 균형점 E의 변화 (가)~(다)를 나타낸다. 이에 대한 설명으로 옳은 것은? (단, (가)~(다) 각각의 변화는 수요와 공급 중 하나만의 변동에 의해 나타났으며, 외환 시장은 공급 법칙을 따른다.) [3점]



- (가)의 경우 달러화 대비 원화의 가치는 상승한다.
- 한국 기업의 대미 수출 증가는 (나)의 요인이다.
- 한국인의 미국 여행 증가는 (다)의 요인이다.
- (가)로 인해 한국 기업의 달러화 표시 외채 상환 부담이 증가한다.
- (다)로 인해 미국인의 한국 여행 경비 부담이 감소한다.

5. 그림은 형성 평가 활동지의 일부이다. 이에 대한 옳은 설명만을 <보기>에서 고른 것은?

형성 평가 활동지 성명: ○○○

○ 수업 내용: X재 시장에서 수요 또는 공급의 변화가 시장 균형을 어떻게 변동시키는지 단계별로 분석하는 과정

구분	내용
1단계	수요 또는 공급 중 ㉠ 무엇에 영향을 주는지 파악
2단계	㉡ 수요 또는 공급이 어떻게 변동하는지 파악
3단계	균형 가격과 균형 거래량의 변화 결과를 파악

○ 과제: 수업 내용에 맞게 다음 신문 기사를 분석해 보세요. 단, 커피 시장은 수요와 공급 법칙을 따릅니다.

점심 식사 후 커피는 당연한 수순, 사람들의 기호 변화

식사 후 커피를 마시는 사람이 늘어나면서 커피 시장에 큰 변화가 나타나고 있다.

○ 답안

단계	커피 시장의 수요에 영향	점수
1단계	커피 시장의 수요에 영향	3/3
2단계	㉢ 커피 시장의 수요 증가	
3단계	(가)	

<보 기>

㉠. X재의 생산 요소 가격이 변동하면 ㉠은 '공급'이다.
 ㉡. X재의 대체재 가격이 하락하면 ㉡은 '수요 증가'이다.
 ㉢. ㉢은 커피 시장의 수요 곡선을 오른쪽으로 이동시켜 나타낼 수 있다.
 ㉣. (가)에는 '커피 시장의 균형 가격 하락, 균형 거래량 감소'가 들어갈 수 있다.

- ① ㉠, ㉡ ② ㉠, ㉢ ③ ㉡, ㉢ ④ ㉡, ㉣ ⑤ ㉢, ㉣

경제

2 (경제)

사회탐구 영역

6. 다음 자료에 대한 분석 및 추론으로 옳은 것은? [3점]

갑은 자가용으로 사용하기 위해 승용차 모델 A~C 중 하나를 합리적으로 선택하여 구매하려고 한다. 표는 A~C의 가격과 갑의 선택으로 발생하는 편익을 나타낸다.

구분	A	B	C
가격(만 원)	3,000	㉠ 3,200	3,800
편익(만 원)	3,500	4,000	㉡ 4,500

- ① A 선택의 순편익이 가장 크다.
- ② B 선택의 암묵적 비용은 700만 원이다.
- ③ A 선택의 기회비용과 C 선택의 기회비용은 같다.
- ④ ㉠이 '3,000'으로 변동하면 A 선택의 암묵적 비용은 감소한다.
- ⑤ ㉡이 '4,700'으로 변동하여도 갑의 선택은 변함이 없다.

7. 다음 자료에 대한 분석 및 추론으로 옳은 것은? [3점]

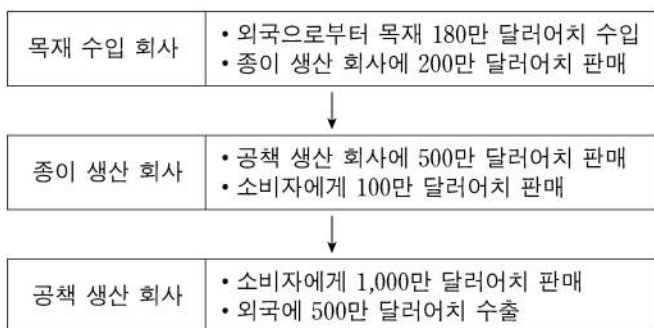
X재 시장은 소비자 갑과 을, 생산자 병과 정으로 구성된다. 표는 X재 1개 추가 소비에 따른 갑과 을의 최대 지불 용의 금액과 X재 1개 추가 생산에 따른 병과 정의 최소 요구 금액을 나타낸다. 단, X재는 시장 균형에서 거래된다.

(단위: 원)

구분		첫 번째	두 번째	세 번째	네 번째	다섯 번째
최대 지불 용의 금액	갑	80	70	60	50	40
	을	70	60	50	40	30
최소 요구 금액	병	50	60	70	80	90
	정	40	50	60	70	80

- ① 균형 가격은 70원이다.
- ② 갑의 소비자 잉여는 을의 2배이다.
- ③ 병의 생산자 잉여는 정의 3배이다.
- ④ 정부가 소비자에게 X재 1개당 20원의 보조금을 지급하면 을의 X재 소비량은 4개이다.
- ⑤ 정부가 생산자에게 X재 1개당 20원의 세금을 부과하면 균형 가격은 10원 상승한다.

8. 그림은 갑국에서 1년간 발생한 모든 생산 활동을 나타낸다. 이에 대한 분석으로 옳은 것은?



- ① 목재 수입액은 국내 총생산에 포함된다.
- ② 종이 생산 회사가 창출한 부가 가치는 400만 달러이다.
- ③ 공책 수출액 500만 달러는 국내 총생산에 포함되지 않는다.
- ④ 국내 중간재의 시장 가치 합은 500만 달러이다.
- ⑤ 국내 총생산은 1,500만 달러이다.

9. 그림은 갑이 자산 관리 앱에 기록한 5월 한 달간 모든 수입 및 지출을 나타낸다. 이에 대한 설명으로 옳은 것은?

날짜	항목	수입	지출
5월 4일	이동 통신 서비스 이용료		5만 원
5월 6일	복권 당첨 수령액	10만 원	
5월 17일	월급	300만 원	
5월 17일	대출 이자		20만 원
5월 23일	예금 이자	5만 원	
5월 25일	게임기 구입비		50만 원
5월 30일	양육 수당(5월분)	20만 원	

챗봇 분석 고객님! 5월에는 (가)

- ① 소비 지출은 75만 원이다.
- ② 사업 소득은 335만 원이다.
- ③ 재산 소득은 발생하지 않았다.
- ④ 경상 소득 중 생산 활동에 참여하지 않고 무상으로 얻는 소득은 20만 원이다.
- ⑤ (가)에 '경상 소득보다 비경상 소득이 많았군요!'가 들어가면 챗봇 분석의 내용이 적절하다.

10. 다음 자료에 대한 옳은 분석만을 <보기>에서 고른 것은? [3점]

게임 개발을 전문으로 하는 갑 기업은 1년 단기 프로젝트 수행을 위해 프로그래밍 업무를 담당할 신입 사원을 채용하려고 한다. 갑 기업에 취업하고자 하는 모든 지원자는 자신의 프로그래밍 능력을 알고 있으나, 갑 기업은 채용 과정에서 이를 알 수 없다. 이에 갑 기업은 프로그래밍 업무 관련 자격증 A를 새롭게 만들고, <표 1>과 같이 자격증 A의 유무에 따라 프로젝트의 보수를 차등적으로 적용하여 지원자를 채용하려고 한다. 지원자는 갑 기업에 지원할 때 <표 1>에 나타난 보수와 <표 2>에 나타난 취득 비용만을 고려하여 자격증 A의 취득 여부를 합리적으로 결정한다.

<표 1> 자격증 A의 유무에 따른 보수

구분	있음	없음
보수	㉠	3,500만 원

<표 2> 프로그래밍 능력에 따른 자격증 A의 취득 비용

구분	프로그래밍 능력이 우수한 지원자	프로그래밍 능력이 보통인 지원자
취득 비용	1,500만 원	2,500만 원

<보 기>

- ㉠. 갑 기업은 보수를 차등적으로 적용하여 정보 비대칭에 의해 발생하는 문제를 완화시킬 수 있다.
- ㉡. ㉠이 4,500만 원이면 프로그래밍 능력이 우수한 지원자는 자격증 A를 취득하지 않는다.
- ㉢. ㉠이 5,500만 원이면 프로그래밍 능력이 보통인 지원자는 자격증 A를 취득한다.
- ㉣. ㉠이 6,500만 원이면 프로그래밍 능력에 상관없이 모든 지원자는 자격증 A를 취득하지 않는다.

- ① ㉠, ㉡
- ② ㉠, ㉢
- ③ ㉡, ㉣
- ④ ㉢, ㉣
- ⑤ ㉢, ㉣

11. 그림은 갑국의 경제 뉴스이다. 2000년 대비 2020년 고용 관련 지표 변화에 대한 옳은 분석만을 <보기>에서 고른 것은?

2000년에 100만 명이었던 15세 이상 인구는 2020년에 10% 증가했습니다. 같은 기간 동안 경제 활동 인구는 25% 증가했고, 비경제 활동 인구는 50% 감소했습니다. 실업률은 2000년과 2020년 모두 10%를 기록했습니다.



<보 기>

- ㉠. 고용률은 상승하였다.
- ㉡. 취업자 수는 증가하였다.
- ㉢. 실업자 수는 변함이 없다.
- ㉣. 경제 활동 참가율은 하락하였다.

- ① ㉠, ㉡ ② ㉠, ㉢ ③ ㉡, ㉣ ④ ㉡, ㉣ ⑤ ㉢, ㉣

12. 표는 2021년 갑국, 을국, 병국의 경상 수지를 항목별로 나타낸다. 이에 대한 분석으로 옳은 것은? (단, 국제 거래는 갑국~병국 세 국가 사이에서만 이루어진다.)

(단위: 억 달러)

구분	갑국	을국	병국
상품 수지	40	-20	㉠
서비스 수지	-35	㉡	20
본원 소득 수지	㉢	10	-5
이전 소득 수지	5	-2	㉣

- ① ㉢은 ㉡보다 크다.
- ② ㉠과 ㉣의 합은 -15이다.
- ③ 갑국은 무상 원조를 포함하는 항목이 적자이다.
- ④ 을국은 지식 재산권 사용료를 포함하는 항목이 흑자이다.
- ⑤ 병국은 상품의 수출과 수입을 통한 외화 수취액이 지급액보다 많다.

13. 다음 대화에 대한 옳은 설명만을 <보기>에서 고른 것은? (단, 총수요 곡선은 우하향하고, 총공급 곡선은 우상향한다.)

앵커: 다음으로 A국과 B국의 경제 상황을 알아보기 위해 전문가 두 분을 모시고 이야기 나누어 보겠습니다. A국과 B국의 현재 상황은 어떤가요?

갑: A국은 경기 과열에 따른 물가 상승이 심각합니다.

을: B국은 물가 상승과 경기 침체가 함께 나타나고 있습니다.

앵커: 그러면 물가 안정을 위해 각국에서 어떤 정책이 필요한가요?

갑: A국에서는 _____ (가)

을: B국에서는 _____ (나)

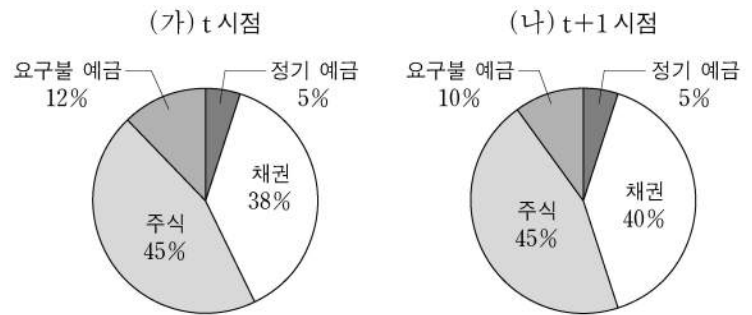
<보 기>

- ㉠. 갑은 A국에서 스태그플레이션이 발생하고 있다고 본다.
- ㉡. 을은 B국에서 나타나고 있는 물가 상승은 총공급 감소가 주요 원인이라고 본다.
- ㉢. (가)에는 '국공채 매각을 확대해야 합니다.'가 들어갈 수 있다.
- ㉣. (나)에는 '소득세율을 대폭 인하해야 합니다.'가 들어갈 수 있다.

- ① ㉠, ㉡ ② ㉠, ㉢ ③ ㉡, ㉣ ④ ㉡, ㉣ ⑤ ㉢, ㉣

14. 다음 자료에 대한 분석으로 옳은 것은? [3점]

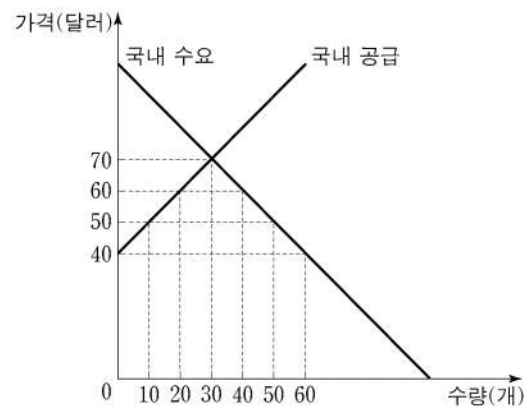
t 시점에 갑이 금융 자산 1,000만 원을 여러 금융 상품에 분산 투자한 결과, 일정 기간이 지난 t+1 시점에 금융 자산 가치가 1,300만 원이 되었다. (가)와 (나)는 각각 t 시점과 t+1 시점의 금융 자산 포트폴리오를 나타낸다. 단, t 시점부터 t+1 시점까지 추가적인 투자 활동은 없었다.



- ① (가)에서 저축성 예금에 투자한 금액은 170만 원이다.
- ② (가)에서 시세 차익을 기대할 수 있는 금융 상품의 비중은 50%이다.
- ③ (나)에서 이자 수익을 기대할 수 있는 금융 상품의 비중은 55%이다.
- ④ (나)에서 주주로서의 지위를 부여하는 금융 상품의 투자 수익은 140만 원이다.
- ⑤ (가)에 비해 (나)에서는 예금자 보호 제도의 적용을 받는 금융 상품의 비중이 증가하였다.

15. 밑줄 친 ㉠ 이후 X재 시장 상황에 대한 분석으로 옳은 것은? [3점]

그림은 갑국 X재 시장의 국내 수요와 국내 공급을 나타낸다. X재의 국제 가격은 40달러이며, 갑국 정부는 수입된 X재 1개당 10달러의 관세를 부과하고 있다. 최근 ㉠갑국 내 X재 생산 기술의 진보로 인해 X재 국내 생산자의 공급량이 모든 가격 수준에서 20개씩 증가하였다. 단, 갑국에서 생산된 X재는 모두 국내 시장에서 판매되며, 갑국은 X재를 국제 가격 수준에서 무제한 수입할 수 있다.



- ① X재 수입량은 10개이다.
- ② X재 국내 소비량은 20개이다.
- ③ X재 국내 생산량은 30개이다.
- ④ ㉠ 이전에 비해 국내 생산자 잉여는 감소한다.
- ⑤ ㉠ 이전에 비해 정부의 관세 수입은 증가한다.

4 (경제)

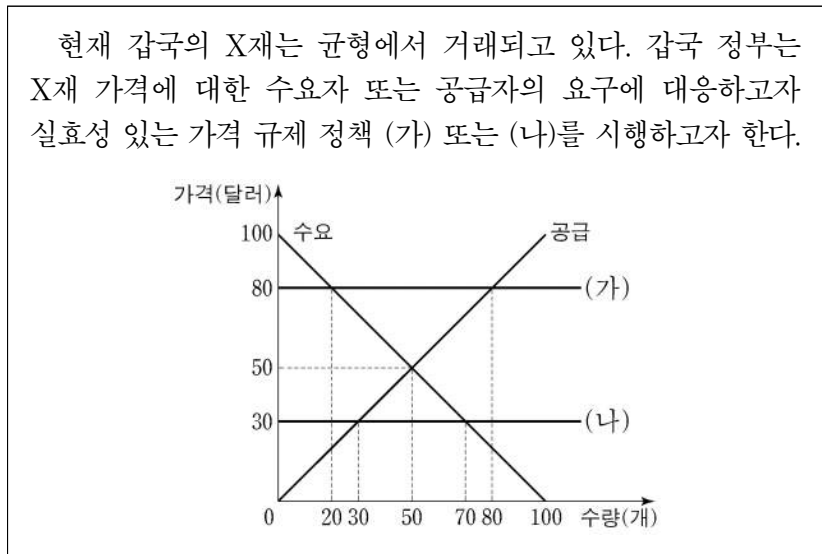
사회탐구 영역

16. 표는 갑국의 연도별 명목 GDP와 전년 대비 물가 상승률을 나타낸다. 이에 대한 분석으로 옳은 것은? (단, 기준 연도인 2018년의 실질 GDP는 100억 달러이고, 물가 수준은 GDP 디플레이터로 측정한다.) [3점]

구분	2019년	2020년	2021년
명목 GDP(억 달러)	121	110	110
물가 상승률(전년 대비, %)	10	-10	0

- ① 2019년의 실질 GDP는 110억 달러이다.
- ② 2019년의 전년 대비 명목 GDP 증가율은 10%이다.
- ③ 2020년의 경제 성장률은 음(-)의 값을 가진다.
- ④ 2021년의 물가 수준은 2019년과 같다.
- ⑤ 2021년의 실질 GDP는 2020년보다 크다.

17. 다음 자료에 대한 분석 및 추론으로 옳은 것은?



- ① (가)는 최고 가격제, (나)는 최저 가격제이다.
- ② (가)를 시행하면 60개의 초과 수요가 발생한다.
- ③ (가)를 시행하면 총잉여는 증가한다.
- ④ (나)를 시행하면 시장 거래량은 증가한다.
- ⑤ (나)를 시행하면 판매 수입은 1,600달러 감소한다.

18. 다음 자료에 대한 분석으로 옳은 것은? [3점]

표는 갑국과 을국에서 X재 1개 생산의 기회비용과 교역 후 X재와 Y재의 소비량을 나타낸다. X재와 Y재만을 생산할 수 있는 갑국과 을국은 비교 우위가 있는 재화 생산에만 특화하여 X재 1개당 Y재 1개의 교환 비율로 교역하였다. 단, 양국의 생산 가능 곡선은 직선이고, 노동만을 생산 요소로 사용하며 보유하고 있는 노동량은 60명으로 동일하다. 또한 생산된 재화는 전량 소비되고 교역은 거래 비용 없이 양국 간에만 이루어진다.

구분	X재 1개 생산의 기회비용	교역 후 소비량	
		X재	Y재
갑국	Y재 1.5개	6개	9개
을국	Y재 0.5개	14개	①

- ① 갑국은 X재와 Y재 생산에 모두 절대 우위를 갖는다.
- ② 갑국에서 X재 1개 생산에 필요한 노동량은 4명이다.
- ③ 을국의 Y재 최대 생산량은 10개이다.
- ④ Y재 1개 생산의 기회비용은 갑국이 을국보다 크다.
- ⑤ ①은 11개이다.

19. 다음 자료에 대한 분석 및 추론으로 옳은 것은? [3점]

시장에서 X재가 균형 가격 4만 달러에 거래되고 있다. A기업은 X재를 생산하기 위해 6만 달러인 기계가 X재의 생산량과 관계 없이 1대 있어야 한다. 또한 X재 생산 1개당 원료 1만 달러어치가 필요하며, 기계 작동을 위한 전력 요금은 X재 생산량에 따라 달라진다. 총비용은 기계 구입 비용과 원료 구입 비용, 전력 요금의 합이다. 표는 A기업의 X재 생산량에 따른 총비용을 나타낸다. 단, 생산된 X재는 모두 판매된다.

생산량(개)	1	2	3	4	5	6
총비용(만 달러)	8	10	12	15	18	24

- ① 생산량을 3개에서 4개로 늘리면 총수입은 6만 달러 증가한다.
- ② 생산량을 5개에서 6개로 늘리면 추가적으로 발생하는 전력 요금은 5만 달러이다.
- ③ 생산량을 1개씩 늘릴 때마다 추가적으로 발생하는 비용은 감소한다.
- ④ 생산량이 4개일 때 이윤이 극대화된다.
- ⑤ 기계 구입 비용이 5만 달러라면 이윤이 극대화되는 생산량은 달라진다.

20. 표는 t시점 및 1년 후인 t+1년 시점 갑, 을, 병의 투자 활동을 나타낸다. t+1년 시점 갑~병의 자산에 대한 옳은 분석 및 추론만을 <보기>에서 고른 것은? (단, 제시된 자산 외 다른 자산은 없고, 각 시점의 모든 거래는 해당 시점에서 동시에 이루어지며, 세금이나 수수료 등 거래 비용은 없다.)

구분	t시점	t+1년 시점
갑	1,000만 원을 연 이자율 5%의 1년 만기 정기 예금에 예치한다.	원리금을 전액 현금화한다.
을	1,000만 원을 달러화로 환전하여 연 이자율 2%의 1년 만기 외화 정기 예금에 예치한다.	원리금을 전액 원화로 환전해 현금화한다.
병	1,000만 원과 1년 만기 연 이자율 10%의 대출금 1,000만 원을 합해 총 2,000만 원을 국내 A 주식에 투자한다.	주식을 모두 매도해 현금화한 후 대출 원리금을 전액 상환한다.

* 원리금 = 원금 + 이자

<보 기>

- ㄱ. 갑의 자산은 1,050만 원이다.
- ㄴ. 원/달러 환율이 5% 상승하면 을의 자산은 1,020만 원보다 많다.
- ㄷ. 국내 A 주식 가격이 5% 하락하고 배당금이 100만 원 지급된다면 병의 자산은 1,000만 원이다.
- ㄹ. 원/달러 환율이 3% 하락한 반면, 국내 A 주식 가격이 5% 상승하고 배당금이 50만 원 지급된다면 을의 자산이 가장 많다.

- ① ㄱ, ㄴ ② ㄱ, ㄷ ③ ㄴ, ㄷ ④ ㄴ, ㄹ ⑤ ㄷ, ㄹ

* 확인 사항
○ 답안지의 해당란에 필요한 내용을 정확히 기입(표기)했는지 확인 하시오.

제 4 교시

사회탐구 영역 (정치와 법)

성명

수험 번호

제 [] 선택

1. 다음 자료에 대한 설명으로 옳은 것은?

교사: 정치를 바라보는 관점에는 A, B가 있습니다. A는 정치권력의 획득·유지·행사 과정과 관련된 국가 고유의 활동만을 정치라고 봅니다. B는 국가를 포함한 모든 사회 집단에서 나타나는 갈등을 조정하고 해결해 나가는 활동을 정치라고 봅니다.

학생: A에서는 정치로 보지 않는데 B에서는 정치로 보는 사례로 어떤 것이 있을까요?

교사: (가) 을/를 사례로 들 수 있습니다.

- ① A는 시민 단체 내의 의사 결정 과정을 정치로 본다.
- ② B는 대통령의 통치 행위를 정치로 보지 않는다.
- ③ A에 비해 B는 다원화된 현대 사회의 정치 현상을 설명하기에 용이하다.
- ④ B에 비해 A는 국가 성립 이전의 정치 현상을 설명하기에 용이하다.
- ⑤ (가)에는 '학급 문제를 해결하기 위한 학급 회의 과정'이 들어갈 수 없다.

2. 다음 자료에 대한 분석 및 추론으로 옳은 것은? (단, 갑국과 을국의 정부 형태는 각각 전형적인 대통령제와 의원 내각제 중 하나임.)

갑국의 정부 형태는 입법부와 행정부의 권력이 융합된 형태이며, 을국의 정부 형태는 입법부와 행정부의 권력이 분리된 형태이다. 갑국에서 행정부 수반의 소속 정당은 t 시기에 B 당, t+1 시기에 A 당이며, 을국에서 행정부 수반의 소속 정당은 t 시기, t+1 시기에 모두 b 당이다. 갑국과 을국의 시기에 따른 정당별 의회 의석률은 다음 표와 같다.

시기	갑국의 정당별 의회 의석률(%)			을국의 정당별 의회 의석률(%)		
	A 당	B 당	C 당	a 당	b 당	c 당
t	45	30	25	15	65	20
t+1	55	25	20	55	30	15

- ① 갑국에서는 국가 원수와 행정부 수반이 일치한다.
- ② 갑국과 달리 을국에서는 의회 의원이 각료를 겸직할 수 있다.
- ③ t+1 시기에 비해 t 시기에 갑국에서는 행정부 수반이 법률안 거부권을 행사할 가능성이 높았을 것이다.
- ④ t 시기에 비해 t+1 시기에 을국에서는 의회가 내각을 불신임할 가능성이 높을 것이다.
- ⑤ t+1 시기에 비해 t 시기에 을국에서는 행정부의 강력한 정책 추진이 용이했을 것이다.

3. 기본권 유형 A, B에 대한 설명으로 옳은 것은? (단, A와 B는 각각 자유권과 사회권 중 하나임.) [3점]

행복 추구권이 인간다운 생활을 국가에 의해 보장받을 권리인 A를 내용으로 하는 것이라는 주장이 있습니다. 그러나 행복 추구권은 행복을 추구하고 위해 필요한 금부를 국가에 적극적으로 요구할 수 있는 것을 내용으로 하는 것이 아닙니다. 행복 추구권은 국민이 행복을 추구하고 위해 활동을 국가 권력의 간섭 없이 자유롭게 할 수 있다는 B로서의 성격을 가진다고 보아야 합니다.

- ① B는 국가에 특정 행위를 요구할 수 있는 절차적 권리이다.
- ② A와 달리 B는 실질적 평등 실현에 기여하는 권리이다.
- ③ A와 달리 B는 다른 기본권 보장을 위한 수단적 권리이다.
- ④ B와 달리 A는 근대 입헌주의 헌법에서부터 보장된 권리이다.
- ⑤ A, B 모두 기본권 제한의 요건과 한계가 준수될 경우 법률로써 제한될 수 있는 권리이다.

4. 법치주의를 바라보는 갑, 을의 관점에 대한 설명으로 옳은 것은? [3점]

갑: 적법한 절차를 거쳐 제정된 법률이라도 그 내용이 인간의 존엄성과 실질적 정의에 합치되지 않는다면 그 법률에 따른 국가 권력 행사는 정당화되지 않는다고 생각합니다.

을: 저는 그렇게 생각하지 않습니다. 입법에 필요한 모든 합법적인 절차를 거쳐 제정된 법률이라면 그 법률에 의한 국가 권력 행사는 정당화된다고 생각합니다.

- ① 갑의 관점은 국민의 기본권 보장이라는 법치주의의 목적을 간과한다.
- ② 을의 관점은 통치의 형식적 합법성뿐만 아니라 실질적 정당성까지 확보해야 함을 강조한다.
- ③ 을의 관점과 달리 갑의 관점은 법률의 내용이 헌법에 부합하는지 여부를 심판할 수 있는 제도를 인정하지 않는다.
- ④ 갑의 관점, 을의 관점 모두 국가 권력의 자의적 행사를 방지하기 위해 통치자가 법의 구속을 받아야 한다고 본다.
- ⑤ 법치주의는 역사적으로 갑의 관점에서 을의 관점으로 변천해 왔다.

5. 다음 자료에 대한 설명으로 옳은 것은? (단, A와 B는 우리나라 지방 자치 단체 기관임.)

○ A는 지방 자치 단체를 대표하고, 지방 자치 단체의 사무와 법령에 따라 A에게 위임된 사무를 관리하고 집행한다.

○ B는 ㉠ 조례의 제정·개정 및 폐지 등을 의결한다. 조례안이 B에서 의결되면 B의 의장은 의결된 날로부터 일정한 기간 내에 A에게 이를 이송해야 한다.

- ① 주민에게는 ㉠의 청구권이 인정되지 않는다.
- ② A와 달리 B의 의원은 주민의 선거에 의해 선출된다.
- ③ B의 의장과 달리 A는 주민 소환의 대상에 해당하지 않는다.
- ④ B는 A가 편성한 지방 자치 단체의 예산안에 대한 의결권을 가진다.
- ⑤ A와 B는 수직적 권력 분립 관계에 있다.

2 (정치와 법)

사회탐구 영역

6. 우리나라 헌법의 기본 원리 A, B에 대한 설명으로 가장 적절한 것은? [3점]

우리 헌법은 “대통령은 조국의 평화적 통일을 위한 성실한 의무를 진다.”라고 규정하고 있다. 이는 남북 분단이라는 현실을 반영한 우리나라 헌법 특유의 원리인 A를 나타낸 것이다. 한편 우리 헌법은 “대통령은 필요하다고 인정할 때에는 외교·국방·통일 기타 국가 안위에 관한 중요 정책을 국민 투표에 붙일 수 있다.”라고 규정하여 통일과 관련된 중요 정책을 국민적 합의를 통하여 결정할 수 있도록 하고 있다. 이는 국가 의사를 최종 결정하는 최고 권력이 국민에게 있다는 B가 나타난 것이다.

- ① A는 직접 민주주의적 요소를 배제하고 대의제에 따른 국가 의사 결정을 강조한다.
- ② B의 실현 방안으로 ‘보통 선거 실시를 통한 국민의 참정권 보장’을 들 수 있다.
- ③ A와 달리 B는 헌법의 이념적 기초로서 법률 제정과 정책 결정의 방향을 제시한다.
- ④ B와 달리 A는 적정한 소득의 분배를 유지하기 위한 경제 규제 정책의 근거가 된다.
- ⑤ B와 달리 A는 문화 활동의 자유를 보장하고 문화를 계승·발전시키는 것을 국가의 의무라고 본다.

7. 다음 사례에 대한 법적 판단으로 옳은 것은? [3점]

갑에게는 자녀 을(18세), 병(14세)이 있다. 을은 A가 운영하는 커피 전문점에서 아르바이트를 하던 중 부주의로 손님 B에게 뜨거운 커피를 쏟아 화상을 입혔다. 한편 갑은 장기간 여행을 간 친구 C의 부탁으로 맡고 있던 C의 반려견을 데리고 혼자 산책하던 중, 갑의 부주의로 반려견이 행인 D를 물어서 D가 다쳤다. 그동안 집에 혼자 있던 병의 부주의로 인해 창틀에 있던 화분이 떨어져 지나가던 행인 E가 다쳤다.

- ① 을에게 책임 능력이 있는 경우 갑은 B에게 법정 감독 의무자로서의 특수 불법 행위 책임을 지지 않는다.
- ② 을과 A는 B에게 특수 불법 행위 책임을 진다.
- ③ A가 을의 사용자로서 모든 주의 의무를 다하였음을 입증한 경우에도 A는 B에게 불법 행위 책임을 진다.
- ④ D는 C가 아닌 갑에게는 특수 불법 행위 책임을 물을 수 없다.
- ⑤ 병에게 책임 능력이 있다라도 고의가 없었으므로 병은 E에게 불법 행위 책임을 지지 않는다.

8. 우리나라 헌법 기관 A~D에 대한 설명으로 옳은 것은?

A는 B의 후보자로 지명된 갑에 대한 인사 청문회를 실시한 후 갑에 대한 임명 동의안을 처리하였습니다. C가 갑을 B로 임명하면 갑은 C의 명을 받아 행정 각부를 통괄하게 됩니다. 한편 갑은 국가 세입·세출의 결산, 국가 및 법률이 정한 단체의 회계 검사를 담당하는 D의 장(長)을 지낸 바 있습니다.



- ① B는 긴급 재정·경제 명령 및 처분권을 가진다.
- ② D는 국가 예산안을 심의·확정하는 권한을 가진다.
- ③ A는 C가 체결한 조약에 대한 비준권을 가진다.
- ④ D는 B의 소속하에 있지만 업무의 독립성이 보장된다.
- ⑤ A는 B의 해임을 C에게 건의할 수 있다.

9. 다음 자료에 대한 설명으로 옳은 것은? [3점]

갑은 허위의 세금 계산서를 제출하였다는 범죄 사실로 공소 제기 되었고, 1심 법원으로부터 ‘벌금 20억 원에 처하고, 벌금을 납입하지 아니한 경우 400만 원을 1일로 환산한 기간 동안 노역장에 유치한다’는 판결을 선고받았다. 갑의 항소는 기각 되었고, 이에 갑은 상고하였다. 갑은 상고심 계속 중 ‘노역장 유치 기간의 하한을 정하도록 한 형법 ○○조항을 시행일 이후 최초 공소가 제기되는 경우부터 적용하도록 한 형법 부칙 □□조항이 헌법에 위반된다’며 A에 위헌 법률 심판 제청 신청을 하였다. 그러나 A는 이를 기각하였고 갑은 B에 (가) 을/를 청구하였다. B는 형법 ○○조항을 시행일 이후 최초 공소가 제기되는 경우부터 적용하도록 한 형법 부칙 □□조항은 헌법에 위반된다고 결정하였다.

- ① (가)는 ‘권리 구제형 헌법 소원 심판’이다.
- ② A는 명령·규칙의 위헌·위법성에 대한 최종 심사권을 가진다.
- ③ B는 노역장 유치 기간의 하한을 정하도록 한 형법 ○○조항이 헌법에 위반된다고 판단하였다.
- ④ A와 달리 B는 선거의 효력을 다투는 소송을 관할한다.
- ⑤ B가 정당의 해산을 심판하기 위해서는 A의 제소가 필요하다.

10. 다음 사례에 대한 법적 판단으로 옳은 것은?

갑(25세)은 을의 지갑을 절취하던 중 적발되어 사법 경찰관에게 쫓기다가 열쇠가 꽂힌 채 길거리에 주차된 병(20세)의 오토바이를 발견하였다. 갑은 체포를 면하기 위해 병의 오토바이를 절취해 타고 달아나려고 하였다. 병은 자신의 오토바이를 절취당하지 않기 위해 갑을 밀어 바닥에 넘어뜨렸고, 그 과정에서 갑에게 부득이하게 2주 정도의 치료를 요하는 상해를 입혔다. 갑은 현장에서 체포된 이후 구속되었고, 사건이 검찰에 송치된 후 불구속 상태에서 기소되었다. 갑은 1심 법원에서 징역형에 대해 일정 기간 형의 집행을 유예하는 판결을 선고받았으며, 갑의 고소 이후 불구속 상태에서 수사를 받던 병은 죄가 안 됨을 이유로 불기소 처분을 받았다.

- ① 갑에 대한 구속은 판사가 사전에 발부한 구속 영장에 의해서만 가능하다.
- ② 구속 영장 발부 전 갑에 대한 판사의 구속 전 피의자 심문은 갑의 신청을 전제로 한다.
- ③ 갑에 대한 1심 법원의 판결이 확정된 후 일정한 범행 없이 유예 기간이 경과하면 공소 제기가 없었던 것으로 간주된다.
- ④ 을은 갑의 범죄 행위로 인한 재산상 피해의 배상을 위해 국가에 일정 한도의 구조금 지급을 청구할 수 있다.
- ⑤ 검사는 병의 갑에 대한 상해 행위가 객관적 법질서에 위반되지만 비난 가능성이 없다고 판단하였다.

11. 밑줄 친 ㉠~㉢에 대한 옳은 설명만을 <보기>에서 고른 것은?

◇◇ 신문 ○○○○년 ○○월 ○○일

㉠ 선거를 앞두고 □□ 복지 정책에 대한 논의가 한창이다. 민간 전문가들로 구성된
 ㉡ △△ 학회에서는 포럼을 개최하여 □□ 복지 정책에 대하여 논의하였다. 그러나
 효과적인 정책 안이 마련되기 위해서는 더욱 다양한 ㉢ 정보 제공을 통한 여론 형성
 과정이 요구된다. 그리고 관계 부처에서 이러한 여론을 반영하여 □□ 복지 정책을
 결정·시행하면, ㉣ 그 결정·시행에 대한 다양한 평가가 나타날 것으로 보인다. 이후
 그 평가를 반영하여 □□ 복지 정책에 대한 수정·보완이 이루어질 것으로 예상된다.

<보 기>

ㄱ. ㉠에서 투표에 참여하는 것은 정치 과정에서 산출에 해당한다.
 ㄴ. ㉡은 정치 과정에서 정책 결정 기구에 해당한다.
 ㄷ. 언론은 정치 과정에서 ㉢의 역할을 할 수 있다.
 ㄹ. ㉣은 정치 과정에서 환류에 해당한다.

- ① ㄱ, ㄴ ② ㄱ, ㄷ ③ ㄴ, ㄷ ④ ㄴ, ㄹ ⑤ ㄷ, ㄹ

12. 국제 관계를 바라보는 관점 A, B에 대한 설명으로 옳은 것은? [3점]

A는 국제 관계를 긴장과 갈등의 상태로 본다. 이에 따르면 국가들은 자국의 이익만을 배타적으로 추구하므로 국제 사회에서 국가 간 불신과 갈등은 피할 수 없다고 본다. 그러므로 국가 간 관계는 힘의 논리에 의해 결정된다고 본다. 반면 B는 다양한 제도를 통하여 국제 관계에서 협력과 평화를 실현할 수 있다고 본다. 즉, 국가들은 이기적 욕망을 억제하고 국제 사회에서 공동의 이익을 달성할 수 있다고 본다.

- ① A는 국제 사회에서 국가 간 갈등을 보편적 선이나 윤리를 통해 해결해야 한다고 본다.
 ② B는 국제기구와 같은 국제 협력 체제를 통해 평화를 실현할 수 있다고 본다.
 ③ A와 달리 B는 국제 관계가 '만인의 만인에 대한 투쟁 상태'에 놓여 있다고 본다.
 ④ B와 달리 A는 국제 협약과 국제 관습법을 통해 국가 간 분쟁 해결이 가능하다고 본다.
 ⑤ A, B 모두 국제 사회에서 강제력을 행사할 수 있는 중앙 정부가 존재한다고 본다.

13. 다음 사례에 대한 법적 판단으로 옳은 것은?

사실혼 관계에 있던 갑과 을은 불화가 심해 혼인 신고는 하지 않았다. 이후 을은 병과 결혼을 하고 혼인 신고를 하였다. 그리고 을과 병 사이에서 A가 태어났고 5년 후 을과 병은 친구 정 의 자녀 B를 적법한 절차를 거쳐 친양자로 입양하였다. 을과 병은 A, B에 대해 공동으로 친권을 행사하였고, A가 21세, B가 17세일 때 을이 유언 없이 사망하였다.

- ① 을이 병과 결혼하기 전 갑과의 혼인 관계를 해소시키려면 법원의 허가를 받아야 한다.
 ② 친양자 입양 후 정과 B의 친족 관계는 종료되지 않는다.
 ③ 입양된 B는 을과 병의 혼인 중 출생자로 간주되므로 을의 사망 시 을의 재산을 상속받을 수 있다.
 ④ 을의 사망 시 갑은 을의 재산을 상속받을 수 있다.
 ⑤ 을의 사망 시 A와 B에 대한 친권은 병에게 있다.

14. (가)에 대한 옳은 설명만을 <보기>에서 있는 대로 고른 것은?

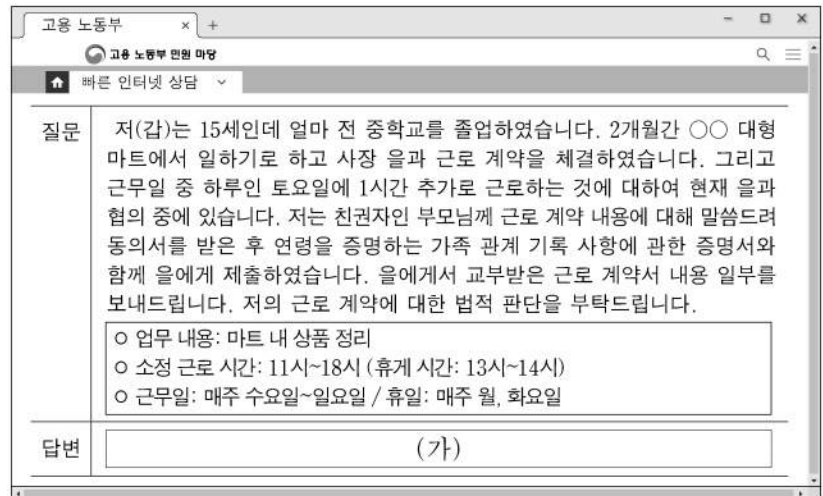
형법에 의한 형사 처벌은 일반 시민의 법익 보호를 위해 범죄인의 법익을 박탈하는 강력한 제재 수단에 해당한다. 이때 일반 시민의 법익 보호라는 기능을 위해 범죄인의 인권 보장이라는 기능이 무시될 수 있어 두 기능의 균형이 요구된다. 형법은 '범죄 피해자를 위한 법'의 성격도 가지고 있지만, '범죄인을 위한 법'이기도 하기 때문이다. 따라서 형법은 법정형을 넘어서는 형벌권 행사나 피고인에게 불리한 유추 해석을 금지하는 등 국가의 자의적인 형벌권 남용으로부터 범죄인의 인권을 보장하는 기능을 수행해야 하며 이를 위한 형법의 기본 원리가 (가)이다. 이 원리에 따르면 적정한 법률 없이는 범죄도 없고 형벌도 없다.

<보 기>

ㄱ. 범죄의 성립과 처벌은 행위 시의 법률에 의한다는 원칙이 포함된다.
 ㄴ. 의회에서 적법한 입법 절차에 따라 제정된 형식적 의미의 형법에만 적용된다.
 ㄷ. 형법의 보장적 기능보다 형법의 보호적 기능의 우위를 인정하는 근거가 된다.
 ㄹ. 법관에 의한 법의 해석·적용뿐 아니라 입법자에 의한 입법권 행사에도 적용되는 원리이다.

- ① ㄱ, ㄴ ② ㄱ, ㄷ ③ ㄴ, ㄷ
 ④ ㄱ, ㄷ, ㄹ ⑤ ㄴ, ㄷ, ㄹ

15. (가)에 들어갈 수 있는 내용으로 옳은 것은? [3점]



- ① 갑의 친권자가 갑의 근로 계약 체결을 대리하지 않았으므로 근로 기준법에 위배됩니다.
 ② 을이 갑을 근로자로 사용하기 위해서는 고용 노동부 장관이 발급한 취직 인허증이 필요합니다.
 ③ 갑은 연소 근로자로 일요일 근로가 원칙적으로 금지되므로 근무일을 변경해야 합니다.
 ④ 갑은 친권자의 동의를 얻어야 을에게 독자적으로 임금을 청구할 수 있습니다.
 ⑤ 갑이 을과 합의하여 토요일에 1시간 추가 근로를 하더라도 근로 기준법상 1일 법정 근로 시간을 초과하지 않습니다.

4 (정치와 법)

사회탐구 영역

16. 다음 사례에 대한 법적 판단으로 옳은 것은? [3점]

갑(17세)은 법정 대리인 을의 동의 없이 고가의 전동 키보드를 구입하는 계약을 병(34세)과 체결하였다. 또한 갑은 정(40세)의 가게에서 고가의 태블릿 PC를 구입하기 위해 ㉠을의 이름으로 된 동의를 정에게 제시하였고, 이를 믿은 정은 갑과 계약을 체결하였다.

- ① 병은 갑에게 계약의 취소 여부에 대한 확답을 촉구할 수 없다.
- ② 갑은 을의 동의 없이 단독으로 병과의 계약을 취소할 수 없다.
- ③ 병이 계약 체결 시 갑이 미성년자임을 알았더라도 을의 주인이 있을 때까지 병은 계약을 철회할 수 있다.
- ④ 갑이 ㉠을 위조한 경우라면, 을은 갑이 정과 체결한 계약을 취소할 수 있다.
- ⑤ ㉠이 유효한 동의서라면, 갑은 을의 동의가 있어야 정과의 계약을 취소할 수 있다.

17. 민법의 기본 원칙 A에 대한 옳은 설명만을 <보기>에서 고른 것은? [3점]

A는 19세기 서양 근대 민법이 제정되면서 정립된 것으로서 개인이 신분에 구애받지 않고 평등한 권리·의무의 주체로서 자유롭게 계약을 맺을 수 있다는 원칙이다. 하지만 산업 혁명 이후 불평등이 심화되면서, 사회 질서에 반하거나 현저히 불공정한 계약 문제가 발생하게 되어 A에 대한 수정·보완이 필요하게 되었다.

<보 기>

- ㄱ. 개인주의와 자유주의 사상에 기초하고 있다.
- ㄴ. 개인의 재산권은 공공복리에 적합하게 행사되어야 한다는 원칙이다.
- ㄷ. 경제적 강자가 경제적 약자에게 부당한 계약을 강제하는 수단으로 악용될 수 있다.
- ㄹ. 신의 성실의 원칙을 위반하여 공정성을 잃은 약관 조항은 무효로 해야 한다는 원칙이다.

- ① ㄱ, ㄴ ② ㄱ, ㄷ ③ ㄴ, ㄷ ④ ㄴ, ㄹ ⑤ ㄷ, ㄹ

18. 국제 연합의 주요 기관 A~C에 대한 설명으로 옳은 것은?

- A의 구성
 - 각기 다른 국적을 가진 15인의 재판관으로 구성됨.
 - 15인의 재판관은 B 및 C에서 선출되며 양 기관 모두에서 절대 다수표를 얻어야 함.
- B의 구성
 - 5개의 상임 이사국 및 10개의 비상임 이사국으로 구성됨.
 - 임기가 2년인 비상임 이사국은 지리적 배분 등을 고려하여 C에서 매년 5개국씩 선출되며, 연임은 불가함.

- ① A는 당사자의 동의를 얻은 경우 국제 사회에서 발생하는 개인 간의 분쟁에 대해 관할권을 가진다.
- ② B의 상임 이사국은 실질 사항이 아닌 절차 사항에 대하여 거부권을 가진다.
- ③ C는 모든 회원국이 참여하는 최고 의사 결정 기관이다.
- ④ B와 달리 C는 국제 평화와 안전 유지를 위해 군사적 개입을 결정할 수 있는 권한을 가진다.
- ⑤ C와 달리 B의 의사 결정 과정에서는 주권 평등의 원칙이 적용된다.

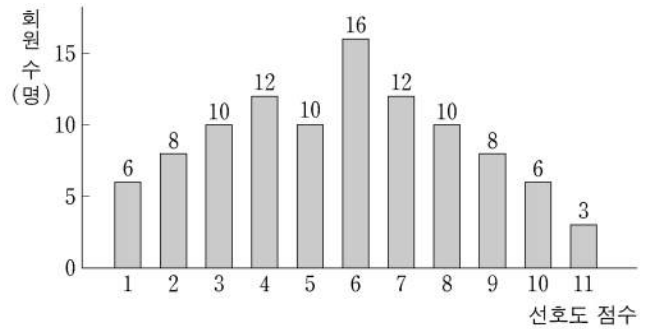
19. 정치 참여 집단 A~C에 대한 설명으로 옳은 것은? (단, A~C는 각각 정당, 이익 집단, 시민 단체 중 하나임.)

A는 B, C와 달리 정권 획득을 목적으로 한다. 또한 A는 특수한 이익을 추구하는 B의 다양한 이해관계를 조정·중재하는 역할을 한다. 한편 시민이 자발적으로 조직한 C는 공공의 이익 실현을 위해 집단 행동에 나서기도 한다.

- ① A는 행정부와 의회를 매개하는 역할을 수행한다.
- ② B는 정치적 중립을 본질적 특성으로 가진다.
- ③ A와 달리 C는 정치적 책임을 진다.
- ④ B와 달리 A는 정치 사회화 기능을 한다.
- ⑤ A와 달리 B, C는 정치권력을 감시하고 견제하는 기능을 한다.

20. 다음 자료에 대한 분석 및 추론으로 옳은 것은? [3점]

대표 선거를 앞둔 ○○ 단체는 환경 보호 정책에 대하여 논의 중이다. 이에 모든 회원 101명을 대상으로 환경 보호의 선호도(이하 '선호도'라 함)를 1~11의 점수로 구분해 조사하였다. 그 결과는 아래 그래프와 같으며 가로축은 선호도 점수, 세로축은 각 선호도 점수에 해당하는 회원 수를 나타낸다.



대표 선거에 회원 A~D가 출마를 고민 중이며 이들의 선호도 점수는 A는 4, B는 5, C는 7, D는 9이다. 한편, ○○ 단체는 대표 선거 제도로 <1안>과 <2안> 중 하나를 채택하려고 한다.

<1안> 가장 많은 표를 얻은 1인이 당선됨.
 <2안> 1차 투표에서 과반을 득표한 후보자가 당선되나, 과반 득표자가 없을 경우 득표수가 많은 상위 2인에 대해 결선 투표를 실시하여 최다 득표자 1인이 당선됨.

모든 회원은 출마한 후보자의 선호도 점수를 알고 있다. 선호도 점수가 동일한 집단의 각 회원은 자신과 선호도 점수 차이가 가장 작은 후보자에게 1표를 행사하며, 선호도 점수 차이가 가장 작은 후보자가 2명이라면 두 후보자는 해당 집단 전체 표의 절반씩을 얻는다. 단, 후보자는 자신에게 투표하며 결선 투표에 진출하지 못한 경우 결선 투표 시 자신과 선호도 점수 차이가 가장 작은 후보자에게 투표한다. 투표율은 100%이고, 무효표는 없으며 회원들의 선호도 점수는 변경되지 않는다.

- ① <1안>에 비해 <2안>의 선거 제도는 선거 비용 감소에 유리하다.
- ② <2안>에 비해 <1안>의 선거 제도는 당선자의 대표성을 높이는 데 유리하다.
- ③ A, B, D만 출마한다면 <1안>과 <2안>에서 당선자는 동일인이다.
- ④ A, C, D만 출마한다면 <2안>에서 결선 투표에 진출한 후보자 간 결선 투표 득표수 차이는 10보다 크다.
- ⑤ A, B, C, D 모두 출마한다면 <2안>에서 A가 당선된다.

* 확인 사항
 ○ 답안지의 해당란에 필요한 내용을 정확히 기입(표기)했는지 확인 하시오.

제 4 교시


사회탐구 영역(사회·문화)

성명

수험 번호

제 [] 선택

1. 밑줄 친 ㉠~㉣과 같은 현상의 일반적인 특징에 대한 설명으로 옳은 것은?



인상파 화가인 모네(C. Monet)는 빛에 의해 끊임없이 변화하는 나무와 꽃의 색깔, ㉠ 햇빛과 물빛의 조화를 담은 작품을 창작했다. 모네의 작품에 나타난 ㉡ 색채와 표현 방식의 변화는 그가 백내장에 걸렸음을 알 수 있는 실마리가 된다. 백내장에 걸리면 ㉢ 눈에서 렌즈 역할을 하는 수정체가 혼탁해져 사물이 흐리게 보이고, 더 진행되면 수정체가 노랗게 변한다. 이 경우 수정체에서 노란색의 보색인 남색 등은 차단되고, ㉣ 상대적으로 파장이 긴 노란색과 붉은색은 통과한다. 실제로 모네의 작품은 후기로 갈수록 노란색과 붉은색 계통이 주를 이루고 사물의 선과 면의 경계가 불분명한 특징이 나타난다.

- ① ㉠과 같은 현상은 ㉡과 같은 현상과 달리 개연성의 원리가 적용된다.
- ② ㉡과 같은 현상은 ㉢과 같은 현상과 달리 가치 함축적이다.
- ③ ㉢과 같은 현상은 ㉣과 같은 현상과 달리 인과 관계가 나타난다.
- ④ ㉣과 같은 현상은 ㉠과 같은 현상과 달리 보편성이 나타난다.
- ⑤ ㉡, ㉣과 같은 현상은 ㉠, ㉡과 같은 현상과 달리 경험적 자료로 연구할 수 있다.

2. 다음 자료에 대한 설명 및 추론으로 옳은 것은? [3점]

연구자 갑은 타인의 존재와 개인의 과업 수행 간의 관계에 대해 연구하고자 하였다. 그는 자신의 연구에 사용할 변수들을 선정하기 위해 두 개의 선행 연구 A, B를 검토하였다.

A에서는 타인의 존재가 과업 수행에 긍정적 영향을 미칠 것이라는 가설을 검증하기 위해, 사이클 선수들을 무작위로 두 집단으로 구분하여, ㉠ 한 집단은 각자 따로 출발하게 하고 ㉡ 다른 집단은 여러 명이 함께 출발하게 하였다. 그 결과 함께 달린 집단이 따로 달린 집단보다 더 좋은 기록을 냈다. B에서는 과업과 관련한 개인의 기본 역량이 높은 집단에서는 타인의 존재가 과업 수행에 긍정적 영향을 미치고, 과업과 관련한 개인의 기본 역량이 낮은 집단에서는 타인의 존재가 과업 수행에 부정적 영향을 미칠 것이라는 가설을 검증하였다. 이 연구에서는 무작위로 선발한 당구 동호인을 당구 실력이 높은 집단과 낮은 집단으로 구분한 뒤, 각자 당구 게임을 수행하게 하고 그 점수를 측정하였다. 다음으로 각 집단을 관찰자들이 보는 앞에서 이전과 같은 방식으로 동일한 당구 게임을 수행하도록 하고, 그 점수를 측정하였다. 측정 결과 ㉢ 실력이 높은 집단의 게임 수행 점수는 높아진 반면, ㉣ 실력이 낮은 집단의 게임 수행 점수는 낮아졌다.

갑은 A, B를 통해 타인의 존재가 개인의 과업 수행에 유의미한 영향을 미친다는 사실을 확인하였다. 갑은 A에서는 타인을 경쟁자로, B에서는 관찰자로 설정한 점, 그리고 B에서 개인의 기본 역량이 과업 수행에 영향을 미친다는 점에 주목하였다. 이를 통해 타인의 존재가 ㉤ 개인의 과업 수행에 미치는 영향을 다각적으로 설명하려면 ㉥ 타인의 역할과 과업 수행을 위한 행위자의 기본 역량을 변수로 활용하는 ㉦ 연구가 필요하다는 결론에 이르렀다.

- ① 갑은 실험법을 사용하여 자료를 수집하였다.
- ② 갑이 검토한 연구는 방법론적 일원론을 전제로 하여 수행되었다.
- ③ A에서 ㉠은 실험 집단, ㉡은 통제 집단이다.
- ④ ㉢과 ㉣ 간의 차이로 인해 B의 가설은 수용되었을 것이다.
- ⑤ ㉦에서 ㉥은 독립 변수, ㉦은 종속 변수이다.

3. 다음은 고등학생이 작성한 질문지 초안이다. 각 문항에 대한 검토 질문에 모두 옳게 응답한 학생은? [3점]

<배달 음식 이용 관련 설문 조사>

※ 배달 음식 이용 경험이 있는 사람만 응답해 주세요.

- ① 예전에 비해 배달 음식 주문 횟수는 어떻게 변했습니까?
① 증가했다 ② 감소했다 ③ 변함없다
- ② 지난 한 달 동안 배달 음식 주문 시 주로 사용한 방법은 무엇입니까?
① 모바일 배달 앱 ② 업체 홈페이지
- ③ 지난 한 달 동안 배달 음식을 주문한 횟수는 총 몇 회입니까?
① 5회 이하 ② 10회 이하 ③ 15회 이하 ④ 15회 초과
- ④ 일회용품 사용 급증으로 인한 생활 쓰레기 문제가 심각합니다. 배달 음식 포장에 사용되는 일회용품 사용 제한에 찬성하십니까?
① 찬성 ② 반대

각 문항에 대한 검토 질문	갑	을	병	정	무
①에서 질문의 의미가 명확한가?	×	○	×	○	×
②에서 응답 가능한 선택지가 모두 제시되었는가?	×	×	×	○	×
③에서 응답 선택지에 중복된 내용이 있는가?	×	×	○	○	○
④에서 질문이 특정한 응답을 유도하고 있는가?	○	×	×	×	○

(○: 예, ×: 아니오)

- ① 갑 ② 을 ③ 병 ④ 정 ⑤ 무

4. 일탈 이론 A~C에 대한 설명으로 옳은 것은? (단, A~C는 각각 머튼의 아노미 이론, 차별 교제 이론, 낙인 이론 중 하나임.)

A: 청소년이 그와 친밀한 비행 청소년 집단과 자주, 오래 어울리다 보면 그들로부터 범행 기술은 물론 법 위반에 대한 호의적인 가치나 태도 등을 비판 없이 받아들이고 결국에는 범죄를 저지르게 된다.

B: 청소년이 사소한 비행을 저질렀을 때 주위 사람들이 그에게 비행 청소년이라는 꼬리표를 붙이기도 한다. 이 경우 그 청소년은 스스로 부정적 정체성을 형성하게 되고 본격적으로 비행 활동에 가담하게 된다.

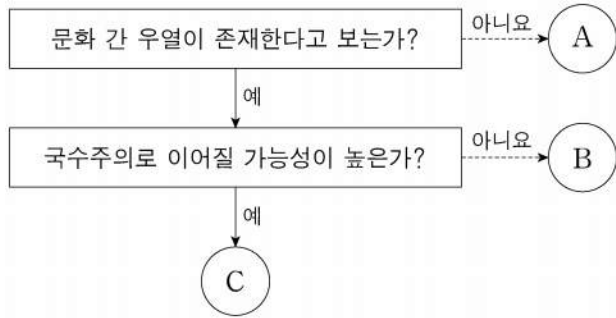
C: 경제적으로 열악한 청소년도 커다란 포부를 갖도록 사회화되지만 그와 같은 열망을 충족할 수 있는 교육과 취업의 기회는 상대적으로 적다. 이로 인해, 물질적 성공을 이룰 수만 있다면 그들은 불법적인 수단이라도 사용하게 된다.

- ① A는 사람들이 일탈 성향을 타고나는 것이 아니라 일탈 행동을 사회적으로 학습하여 일탈자가 되는 것이라고 본다.
- ② B는 일탈 행동을 예방하기 위해서는 일탈자와의 접촉을 차단하는 방법이 최선이라고 본다.
- ③ C는 하층 계층보다 중상층 계층의 범죄를 설명하기에 용이하다.
- ④ A는 B와 달리 일탈 행동에 따른 부정적 평판이 개인에 따라서 차별적으로 부여된다고 본다.
- ⑤ C는 B와 달리 일탈자에 대한 사회적 제재가 오히려 일탈 행동을 유발한다고 본다.

2 (사회 · 문화)

사회탐구 영역

5. 문화 이해의 태도 A~C에 대한 설명으로 옳은 것은? (단, A~C는 각각 자문화 중심주의, 문화 상대주의, 문화 상대주의 중 하나임.)



- ① A는 각 사회의 문화를 해당 사회의 맥락에서 바라본다.
- ② B는 자문화를 다른 사회에 이식하는 것을 당연시한다.
- ③ C는 모든 문화가 동등한 가치를 지닌다고 본다.
- ④ A는 B와 달리 특정 사회의 문화를 기준으로 타문화를 평가할 수 있다고 본다.
- ⑤ '문화 다양성 보존에 기여하는가?'라는 질문으로 A와 C를 구분할 수 없다.

6. 빈곤의 유형 A, B에 대한 설명으로 옳은 것은? (단, A, B는 각각 절대적 빈곤, 상대적 빈곤 중 하나임.) [3점]

A는 다른 사람들보다 자원이나 소득이 적어 한 사회의 평균적인 생활 수준에 미치지 못하는 상태를, B는 사람들의 최저 생활에 필요한 최소한의 자원이나 소득이 결핍된 상태를 의미한다.

- ① A는 실제 소득과 상관없이 개인이 체감하는 빈곤 상태를 말한다.
- ② B에 따른 빈곤선은 최저 생계 유지에 필요한 자원의 수준이 시대와 장소에 상관없이 동일하다는 전제하에 결정된다.
- ③ B는 A와 달리 소득 수준이 낮은 사회에서 나타난다.
- ④ A에 따른 빈곤선은 B에 따른 빈곤선과 달리 객관적 기준에 따라 정한다.
- ⑤ A에 따른 빈곤선을 적용하면 B에 해당하지 않는 가구도 빈곤 가구에 포함될 수 있다.

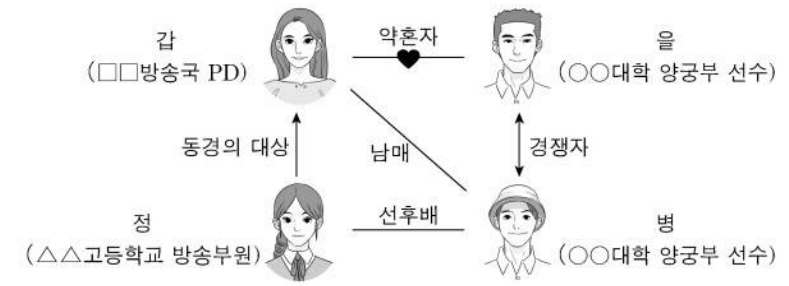
7. 사회적 소수자와 관련한 현상 A~E에 대한 설명으로 옳은 것은?

A: 갑국에서 인구 비중이 90%를 넘는 흑인은 경제, 사회, 정치 등 대부분의 영역에서 종속적인 위치에 처해 있다.
 B: 노인은 일반적으로 노동 생산성이 낮을 것이라는 편견으로 인해 고용상의 차별을 받기도 한다.
 C: 소수 민족 구성원이지만 한 사람보다 소수 민족 구성원이면서 장애가 있는 사람이 사회적 차별을 더 많이 받기도 한다.
 D: 최근에는 비정규직 노동자, 이주 노동자, 북한 이탈 주민 등 다양한 유형의 사회적 소수자가 등장하고 있다.
 E: 을국에서 을국 국교를 믿는 사람이 병국에서는 그 종교를 믿는다는 이유로 사회적 소수자가 되기도 한다.

- ① A는 사회적 소수자가 권력의 열세가 아닌 수적 열세라는 특성에 의해 규정된다는 점을 보여준다.
- ② B는 사회적 소수자에 대한 우대 정책이 역차별을 낳을 수 있음을 보여준다.
- ③ C는 한 개인이 여러 사회적 소수자 집단에 중첩되어 속할 수 있음을 보여준다.
- ④ D는 사회적 소수자가 후천적인 요인보다 생득적인 요인으로 결정됨을 보여준다.
- ⑤ E는 사회적 소수자에 대한 규정이 가변적이지 않고 고정적임을 보여준다.

8. 밑줄 친 ㉠~㉣에 대한 설명으로 옳은 것은? [3점]

〈드라마 '만점을 향해 싸라' 인물 관계도〉



〈6화 줄거리〉 과연 갑의 선택은?

〈5화〉에서 갑이 만드는 방송 프로그램을 참관하게 해 달라고 떼쓰는 정을 말리느라 고생했던 갑. 오늘은 또 어떤 고민을 하게 될까? 국가대표 최종 선발전에서 병을 이긴 을은 ㉠ 국가대표팀 선발 일정 때문에 미뤄두었던 웨딩 촬영을 하자고 하고, 병은 선발에서 ㉡ 탈락한 자신을 위로해 달라며 함께 가족 여행을 가자고 하는데, "하필이면 왜 같은 날 같은 시간인 거야!" 어떻게 해야 할지 ㉢ 고민에 빠진 갑!

한편 스포츠 프로그램을 기획하고 있는 ㉣ 방송국에서는 갑에게 을이 프로그램에 ㉤ 출연할 수 있도록 섭외하라고 한다. 자신과 가까운 사람들이 방송에 노출되는 것을 꺼리는 갑은 고민에 빠지는데...

- ① ㉠은 공식적 사회화 기관이다.
- ② ㉡은 갑의 역할 갈등이다.
- ③ ㉢은 공식 조직이자 자발적 결사체이다.
- ④ ㉣은 병의 역할에 대한 제재, ㉤은 을의 역할에 대한 보상이다.
- ⑤ 정은 방송부 활동은 ㉤ 입사를 위한 재사회화이다.

9. 다음 자료에 대한 분석으로 옳은 것은?

표는 연구자 갑이 A국 ○○기업 직원의 연봉 구간에 따른 성별 분포와 여성비를 조사한 것이다. 단, ○○기업의 연봉은 1구간에서 시작하며 근무 기간에 비례한다.

연봉 구간		구성 비율(%)		여성비
		여성	남성	
1구간	2만 달러 미만	13	5	1.61
2구간	2만 달러 이상 4만 달러 미만	57	32	1.10
3구간	4만 달러 이상 6만 달러 미만	18	29	0.38
4구간	6만 달러 이상 8만 달러 미만	7	15	0.29
5구간	8만 달러 이상	5	19	0.16
전체		100	100	0.62

* 여성비 = $\frac{\text{여성 수}}{\text{남성 수}}$

** 여성비는 소수점 셋째 자리에서 반올림한 수치임.

- ① 전체 여성 직원 수는 전체 직원 수의 62%이다.
- ② 1구간에 해당하는 남성 직원 수는 5구간에 해당하는 여성 직원 수보다 적다.
- ③ 4구간에 해당하는 남성 직원 수는 4구간에 해당하는 여성 직원 수보다 8% 많다.
- ④ 1구간에서 5구간으로 갈수록 각 구간의 여성 직원 수는 지속적으로 감소한다.
- ⑤ 1구간에서 5구간으로 갈수록 각 구간의 전체 직원 중 남성 직원이 차지하는 비율은 지속적으로 증가한다.

10. 다음 자료에 대한 설명으로 옳은 것은? (단, A~C는 각각 문화 동화, 문화 병존, 문화 융합 중 하나임.) [3점]

A, B, C는 문화 접변의 결과입니다. '북아메리카 원주민의 문화가 이주해 온 유럽인의 문화로 대체된 것'은 A의 사례이고, B는 C와 달리 서로 다른 사회의 문화 요소가 한 사회의 문화 체계 속에서 나란히 존재하는 현상입니다. 표의 질문을 통해 A, B, C를 비교해 봅시다.

질문 \ 문화 접변 결과	A	B	C
(가)	예	아니오	예
(나)	㉠	㉡	예
(다)	아니오	㉢	㉣

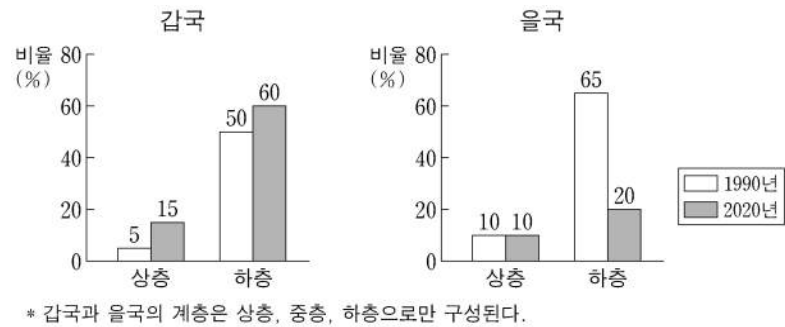
- ① C의 사례로는 '우리나라에서 양력설과 음력설을 모두 지내는 것'을 들 수 있다.
- ② A는 B, C와 달리 강제적 문화 접변에 의해 나타난다.
- ③ (가)에는 '자문화의 정체성 상실을 야기하는가?'가 들어갈 수 있다.
- ④ (나)에 '외재적 요인에 의해 나타난 문화 변동인가?'가 들어간다면, ㉠은 '예', ㉡은 '아니오'이다.
- ⑤ (다)에 '새로운 문화 요소가 만들어졌는가?'가 들어간다면, ㉢은 '아니오', ㉣은 '예'이다.

11. 하위문화의 사례 (가), (나)에 대한 설명으로 옳은 것은? [3점]

(가) 갑국의 A 집단은 현대 문명에 대한 저항의 표시로 자동차 대신 마차를 이용하거나 걸어 다닌다. 이들은 주류 사회의 가치를 전수하는 학교에 자녀를 보내지 않으며 자신들만의 신념에 따른 전통을 고수한다.
 (나) 을국의 젊은층에서는 중고 거래 플랫폼이 상용화되었다. 이들에게 플랫폼을 통한 중고 거래는 단순히 물건을 사고파는 것을 넘어 환경, 지역 사회와의 유대감 등 다양한 가치를 추구하는 행위로, 기성세대와 구별되는 새로운 행동 양식으로 자리 잡았다.

- ① (가)에서는 문화가 지나치게 상품화되는 경향이 나타난다.
- ② (가)에서는 하위문화가 기존의 주류 문화로 대체되는 과정이 나타난다.
- ③ (나)에서는 세대 문화가 전체 사회의 문화를 다양하게 하는 양상이 나타난다.
- ④ (나)에서는 주류 문화를 거부하며 새로운 가치를 추구하는 양상이 나타난다.
- ⑤ (가), (나)에서는 모두 비물질 문화의 변동 속도를 물질 문화의 변동 속도가 따라가지 못하는 현상이 나타난다.

12. 그림은 갑국과 을국의 시기별 계층 구성 비율을 나타낸다. 이에 대한 분석으로 옳은 것은?



- ① 갑국의 계층 구조는 피라미드형에서 모래시계형으로 변화하였다.
- ② 갑국은 을국과 달리 폐쇄적 계층 구조이다.
- ③ 갑국은 을국에 비해 상승 이동이 더 많이 나타났다.
- ④ 을국은 갑국과 달리 사회 안정성이 높은 계층 구조로 변화하였다.
- ⑤ 1990년 중층 대비 상층의 비는 갑국이 을국보다 크다.

13. 개인과 사회의 관계를 바라보는 관점 (가), (나)에 대한 옳은 설명만을 <보기>에서 고른 것은?

- (가) 사회는 그 자체로 고유한 성격을 가진다. 개인은 사회가 요구하는 행동 방식에 순응하면서 사회적 존재가 된다.
- (나) 개인은 자율적 존재이다. 사회는 다양한 개인의 행동 방식이 반영된 결과물일 뿐이다.

<보 기>

- ㄱ. (가)는 사회는 개인의 총합에 불과하다고 본다.
- ㄴ. (가)는 사회는 구성원들에게 외재성을 갖는다고 본다.
- ㄷ. (나)는 개인의 속성은 사회의 속성이 반영된 결과라고 본다.
- ㄹ. (나)는 사회 규범은 개인들이 옳다고 믿기에 존재한다고 본다.

- ① ㄱ, ㄴ ② ㄱ, ㄷ ③ ㄴ, ㄷ ④ ㄴ, ㄹ ⑤ ㄷ, ㄹ

14. A, B의 일반적인 특징에 대한 설명으로 옳은 것은? (단, A, B는 각각 산업 사회, 정보 사회 중 하나임.) [3점]

지식이 부가 가치를 창출하는 중요한 원천인 A에서는 가정에서도 고도화된 통신 기술이 널리 활용된다. 이를 통해 재택근무가 활성화되면서 가정은 생산과 노동의 중심이 되기도 한다. 반면, 주로 자본과 노동을 통해 부가 가치를 창출하는 B에서 가정은 직장과 공간적으로 분리된다. 직장은 생산과 노동의 공간, 가정은 휴식 공간으로 기능한다.

- ① A는 B에 비해 직업의 동질성 정도가 높다.
- ② A는 B에 비해 정보 확산의 시공간적 제약이 적다.
- ③ A는 B에 비해 사이버 범죄가 발생할 가능성이 낮다.
- ④ B는 A에 비해 다품종 소량 생산 방식의 비중이 높다.
- ⑤ B는 A에 비해 쌍방향 매체를 통한 정보 전달의 비중이 높다.

15. 다음 자료에 대한 분석으로 옳은 것은? (단, 갑국의 사회 보장 제도는 우리나라의 사회 보장 제도와 동일함.)

<자료 1> 갑국의 사회 보장 제도 A~C의 사례
 • A의 사례: 생활이 어려운 사람의 질병, 부상 등에 대해 급여 제공
 • B의 사례: 노령, 장애, 사망 시 본인 및 가족에게 연금 급여 실시
 • C의 사례: 일상생활과 사회 활동이 어려운 저소득층의 생활 안정을 위해 가사·간병 서비스 지원

<자료 2> 갑국의 사회 보장 제도 A~C의 시기별 수혜자 현황

제도	A		B		C	
	2015년	2020년	2015년	2020년	2015년	2020년
전체 인구 중 수혜자 비율(%)	12	18	48	48	24	36
수혜자 중 성별 비율(%)	여	남	여	남	여	남
	60	40	65	35	30	70
	여	남	여	남	여	남
	50	50	60	40		

- ① 최저 생활 보장을 목적으로 하는 제도의 경우, 2015년 전체 인구 중 수혜자 비율은 24%이다.
- ② 비금전적 지원을 원칙으로 하는 제도의 경우, 2015년 남성 수혜자 수는 갑국 인구의 12%이다.
- ③ 상호 부조의 원리를 바탕으로 하는 제도의 경우, 2015년 여성 수혜자 수와 2020년 여성 수혜자 수는 같다.
- ④ 2015년의 경우, 소득 재분배 효과가 가장 큰 제도의 수혜자 수는 의무 가입이 원칙인 제도의 수혜자 수의 4배이다.
- ⑤ 2020년의 경우, 공공 부조에 해당하는 제도의 남성 수혜자 수는 사회 보험에 해당하는 제도의 남성 수혜자 수의 절반이다.

4 (사회 · 문화)

사회탐구 영역

16. 다음 두 사례에 공통적으로 부각되어 있는 문화의 속성에 대한 옳은 진술만을 <보기>에서 고른 것은?

- 갑국 사람들은 □□빵을 번영과 풍요의 상징으로 여겨 이 빵을 만드는 방법을 대대로 전수하고 있다. 갑국에서는 □□빵을 칼로 자르는 행위가 불운을 가져온다고 믿으며, 이 빵을 버리거나 던지는 행위도 금기시된다.
- 을국 사람들은 평소 절제를 중시하여 식사조차도 즐거운 행위가 아닌 생명 유지를 위한 행위 정도로 여긴다. 그래서 을국에서는 먹고 싶은 것을 참거나 때때로 단식하는 것을 자랑스럽게 생각한다.

<보 기>

- ㄱ. 문화는 시간이 흐르면서 지속적으로 변화한다.
- ㄴ. 문화는 세대 간 전승을 통해 점차 복잡하고 풍부해진다.
- ㄷ. 문화는 한 사회 구성원 간 원활한 상호 작용의 토대가 된다.
- ㄹ. 문화는 특정 상황에서 상대방의 행동 방식을 예측하게 한다.

- ① ㄱ, ㄴ ② ㄱ, ㄷ ③ ㄴ, ㄷ ④ ㄴ, ㄹ ⑤ ㄷ, ㄹ

17. 다음 자료에 대한 설명으로 옳은 것은? (단, A, B는 각각 관료제, 탈관료제 중 하나임.) [3점]

수평적 의사 결정 방식의 확대, 탄력적인 조직 운영 등을 특징으로 하는 A는 환경 변화에 더 유연하게 대응할 수 있다는 점에서 B와 구분된다. B는 구성원의 권한과 책임을 분명히 하고 세분화된 업무 수행을 강조함으로써 대규모 조직을 효율적으로 운영할 수 있다는 평가를 받는다. 반면, 예상 밖의 문제가 발생했을 때에도 기존 조직의 틀 내에서 새로운 부서를 추가하는 식으로 문제를 해결하려 한다는 비판을 받는다. 한 사회학자는 B의 이러한 특징을 ㉠ 카멜리펀트(Camelephant)라고 표현하였는데, 이는 낙타와 코끼리를 합친 것처럼 느리고 둔하여 변화에 적절히 대응하지 못한다는 점을 지적한 것이다.

- ① A는 인간 소외 문제를 해결하기 위해 산업화 초기에 등장하였다.
- ② B는 목적 전치 현상을 해결하기에 용이하다.
- ③ A는 B에 비해 조직 구성원의 재량권 및 자율성이 낮다.
- ④ B는 A에 비해 연공서열에 따른 보상 체계를 중시한다.
- ⑤ ㉠의 문제는 조직 구성원의 위계적 서열을 강화함으로써 해결된다.

18. 사회 변동 이론 (가), (나)에 대한 옳은 설명만을 <보기>에서 고른 것은? (단, (가), (나)는 각각 진화론, 순환론 중 하나임.)

- (가) 인류의 역사는 발생, 성장, 정체, 해체의 과정을 거친다. 인류 문명의 발전에서 엘리트가 주도하는 혁신은 중요한 의미를 가지며, 대중이 이를 따르지 않을 경우 사회는 분열하고 문명은 쇠퇴한다. 역사는 문명의 흥망성쇠를 거듭하며 전개된다.
- (나) 인류의 역사는 생산 방식의 발전을 통해 사회의 궁극적 이상에 다가가는 과정이다. 낡은 생산 방식은 새로운 생산 방식으로 대체 되고, 이러한 전환은 점진적인 시대 발전을 이끌며 역사를 구성한다. 역사는 생산 방식의 진보와 문명의 발전이 누적된 결과이다.

<보 기>

- ㄱ. (가)는 미래의 사회 변동에 대한 역동적 대응이 곤란하다는 비판을 받는다.
- ㄴ. (나)는 사회가 미분화된 상태에서 분화된 상태로 변동한다고 본다.
- ㄷ. (가)는 (나)와 달리 사회 변동이 일정한 방향을 갖는다고 본다.
- ㄹ. (나)는 (가)와 달리 사회 변동이 동일한 과정을 주기적으로 반복한다고 본다.

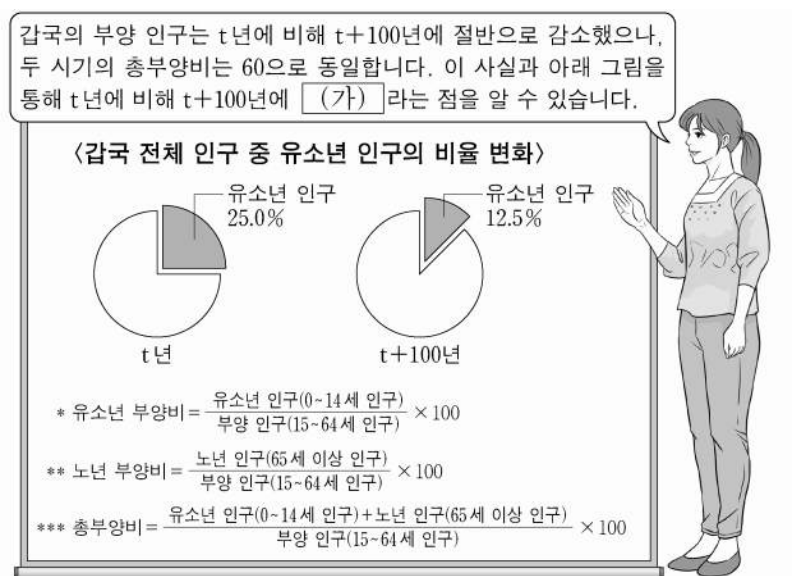
- ① ㄱ, ㄴ ② ㄱ, ㄷ ③ ㄴ, ㄷ ④ ㄴ, ㄹ ⑤ ㄷ, ㄹ

19. 사회 · 문화 현상을 바라보는 (가)~(다)의 관점에 대한 설명으로 옳은 것은? [3점]

- (가) 환경 문제는 사람들이 환경 오염을 사회 문제로 규정하면서 주요 관심사가 되었다. 오늘날 많은 환경 운동가, 학자, 언론인, 시민들이 환경 오염의 심각성을 지적하며 그에 대한 문제 의식과 대응 방안을 공유하고 있다. 이들은 ‘그린(Green)’, ‘에코(Eco)’, ‘재생’과 같은 표현을 친환경의 대명사처럼 인식하면서 환경 문제 해결을 위한 실천을 서로 독려하고 있다.
- (나) 환경 문제는 산업화를 위해 자연을 이용하는 과정에서 나타나는 일시적인 병리 현상이다. 산업화가 진행되면서 대기와 수질이 오염되면, 이로 인한 사회적 비용과 피해가 증가한다. 하지만 이러한 문제를 해결할 수 있는 환경 정화 기술이 개발됨으로써 결국 전체 사회는 다시 조화와 균형을 회복한다.
- (다) 환경 문제는 자본가 계급이 자신만의 이익을 극대화하는 과정에서 발생한다. 자본가 계급이 환경보다 경제적 이익을 우선하며 자신의 이윤 추구에만 몰두한 결과가 환경 오염으로 나타난다. 그로 인한 피해는 오롯이 노동자 계급의 몫이다. 이윤 추구에서 배제된 노동자 계급은 환경 문제에 대응할 마땅한 수단이 없기 때문이다.

- ① (가)의 관점은 사회의 각 부분이 상호 의존적 관계를 맺는다고 본다.
- ② (나)의 관점은 상황에 대한 주관적인 해석 과정을 중시한다.
- ③ (다)의 관점은 지배 집단과 피지배 집단 간 대립과 투쟁을 사회 변동의 원동력으로 본다.
- ④ (나)의 관점은 (다)의 관점과 달리 사회 질서와 안정의 중요성을 경시한다는 비판을 받는다.
- ⑤ (다)의 관점은 (가)의 관점과 달리 지배 집단의 이익을 대변하는 논리로 활용될 수 있다는 비판을 받는다.

20. 다음 자료에 대한 옳은 분석만을 <보기>에서 고른 것은? [3점]



<보 기>

- ㄱ. t년 대비 t+100년에 유소년 인구는 30% 감소하였다.
- ㄴ. t년의 노년 인구와 t+100년의 노년 인구는 동일하다.
- ㄷ. 유소년 인구와 노년 인구의 합이 전체 인구에서 차지하는 비율은 t년에 비해 t+100년이 높다.
- ㄹ. (가)에는 ‘유소년 부양비는 절반으로 감소하고, 노년 부양비는 2배가 되었다’가 들어갈 수 있다.

- ① ㄱ, ㄴ ② ㄱ, ㄷ ③ ㄴ, ㄷ ④ ㄴ, ㄹ ⑤ ㄷ, ㄹ

* 확인 사항

- 답안지의 해당란에 필요한 내용을 정확히 기입(표기)했는지 확인 하시오.