

제 4 교시

사회탐구 영역(세계지리)

성명 수험번호 3 제 [] 선택

1. 다음 자료를 토대로 하나의 국가를 선정하여 한류 문화 확산을 위한 홍보 기관을 설립하고자 한다. 조건에 적합한 국가를 지도의 A~E에서 고른 것은?

<조건>
항목별 점수는 다음과 같으며, 합계 점수가 가장 높은 국가를 선정함.

<선정 기준>

점수	항목	한류 동호회 수(개)	한국어능력시험 응시자 수(명)	인터넷 이용률(%)
1점		10 미만	80 미만	70 미만
2점		10 이상 15 미만	80 이상 120 미만	70 이상 80 미만
3점		15 이상	120 이상	80 이상

<한류 동호회 수>

단위: 개
10 미만
10 이상 15 미만
15 이상

<한국어능력시험 응시자 수>

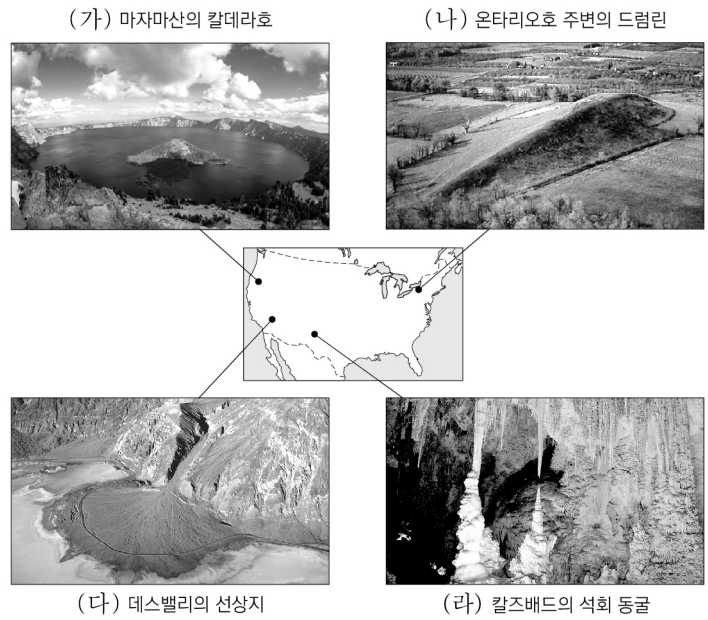
단위: 명
80 미만
80 이상 120 미만
120 이상

<인터넷 이용률>

단위: %
70 미만
70 이상 80 미만
80 이상

- ① A ② B ③ C ④ D ⑤ E

2. (가)~(라) 지형에 대한 설명으로 옳은 것만을 <보기>에서 고른 것은?

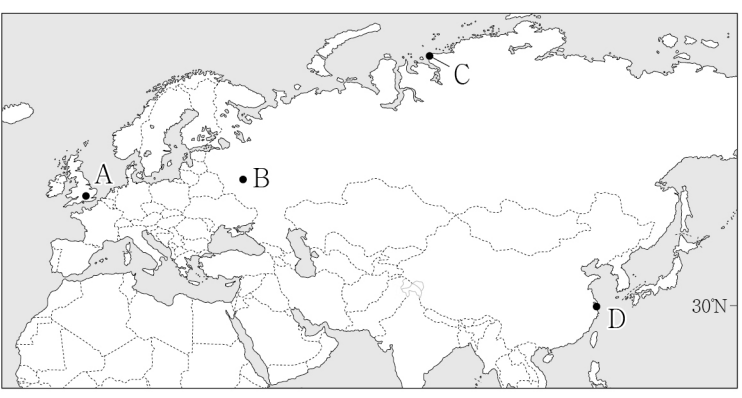


<보 기>

ㄱ. (가)는 화구가 함몰된 후 물이 고여 형성되었다.
 ㄴ. (나)를 통해 빙하의 이동 방향을 알 수 있다.
 ㄷ. (다)는 바람에 의해 운반된 물질이 퇴적되어 형성되었다.
 ㄹ. (라)는 화학적 풍화 작용보다 물리적 풍화 작용을 많이 받았다.

- ① ㄱ, ㄴ ② ㄱ, ㄷ ③ ㄴ, ㄷ ④ ㄴ, ㄹ ⑤ ㄷ, ㄹ

3. 지도의 A~D 지역에 대한 설명으로 옳은 것은?



- ① C는 연중 수백 미터 두께의 얼음으로 덮여 있다.
 ② A는 B보다 최한월 평균 기온이 낮다.
 ③ C는 B보다 연 강수량이 많다.
 ④ D는 A보다 계절풍의 영향을 많이 받는다.
 ⑤ B는 무수목 기후, D는 수목 기후이다.

4. 표는 세 작물의 지역(대륙)별 생산량을 나타낸 것이다. (가)~(다)에 대한 설명으로 옳은 것은? (단, (가)~(다)는 각각 밀, 쌀, 옥수수 중 하나이고, A, B는 각각 아시아, 유럽 중 하나임.)

지역(대륙)	(가)	(나)	(다)
A	123,945	4,067	255,019
B	365,306	676,610	347,921
아프리카	90,525	37,889	25,233
앵글로아메리카	373,815	10,322	84,874
라틴 아메리카	208,279	27,790	32,945
오세아니아	483	62	14,934

(단위: 천 톤)
(2020)

- ① (가)의 최대 생산국은 B에 위치한다.
 ② (나)의 기원지는 A에 위치한다.
 ③ (가)는 (나)보다 바이오 에탄올의 원료로 이용되는 비율이 높다.
 ④ (나)는 (다)보다 국제 이동량이 많다.
 ⑤ (다)는 (가)보다 단위 면적당 생산량이 많다.

5. 다음은 세계지리 수업 장면이다. 교사의 질문에 옳게 대답한 학생만을 고른 것은?

• 국가: (가)

• 위치: 인도차이나반도 동부

• 수도: 하노이

• 특징

- 동남아시아 국가 중에서 커피의 생산량이 가장 많음.
- 대표적 관광지로는 세계 자연 유산인 할롱 베이 있음.

(가) 국가의 주민 생활에 대해 발표해 볼까요?

갑

매년 우기가 시작될 때 송고란 축제가 열려요.

을

전통 음식으로는 쌀로 만든 국수인 퍼가 있어요.

병

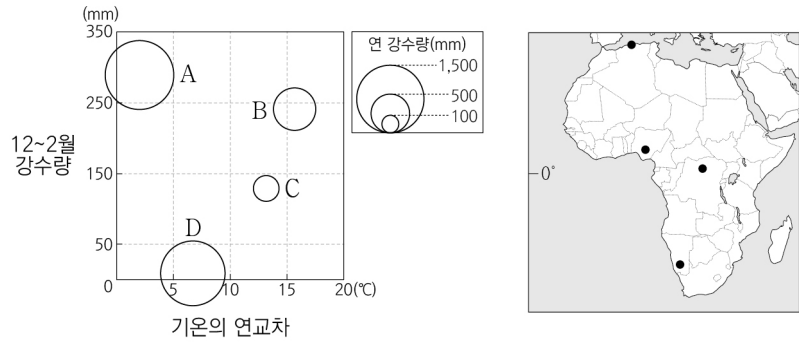
창이 작고 벽이 두꺼운 전통 가옥이 나타나요.

정

여성 전통 의복으로는 아오자이가 있어요.

- ① 갑, 을 ② 갑, 병 ③ 을, 병 ④ 을, 정 ⑤ 병, 정

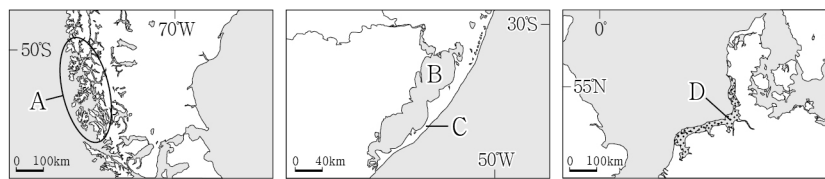
6. 그래프는 지도에 표시된 네 지역의 기후 특성을 나타낸 것이다. A~D 지역에 대한 설명으로 옳은 것은? [3점]



* 기온의 연교차와 12~2월 강수량은 원의 중심값임.

- ① A는 건기와 우기의 구분이 뚜렷하다.
- ② C는 연 증발량보다 연 강수량이 많다.
- ③ D는 기온의 일교차보다 연교차가 크다.
- ④ A는 B보다 연중 대류성 강수의 발생 빈도가 낮다.
- ⑤ B는 D보다 7월에 아열대 고압대의 영향을 많이 받는다.

7. A~D에 대한 설명으로 옳은 것만을 <보기>에서 고른 것은? (단, A~D는 각각 갯벌, 사주, 석호, 피오르 중 하나임.) [3점]



<보기>

- ㄱ. A는 U자곡이 침수되어 형성된 해안이다.
- ㄴ. B는 현재 해수면 높이가 유지되면 면적이 점차 확대된다.
- ㄷ. D는 조수 간만의 차가 큰 지역에서 주로 발달한다.
- ㄹ. C는 D보다 퇴적물 중 점토의 비율이 높다.

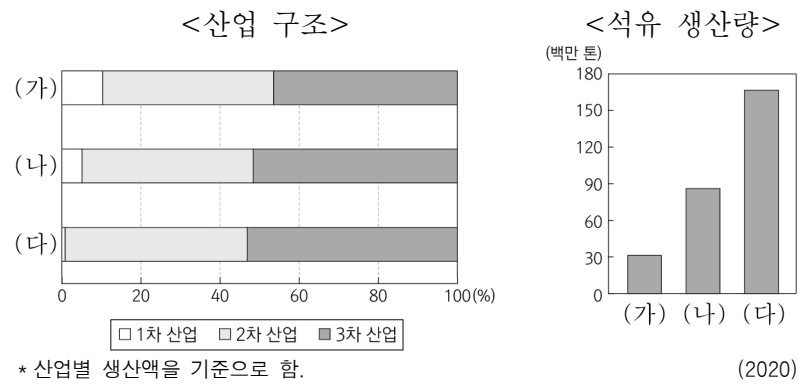
- ① ㄱ, ㄴ ② ㄱ, ㄷ ③ ㄴ, ㄷ ④ ㄴ, ㄹ ⑤ ㄷ, ㄹ

8. (가)~(다) 도시에 대한 설명으로 옳지 않은 것은?

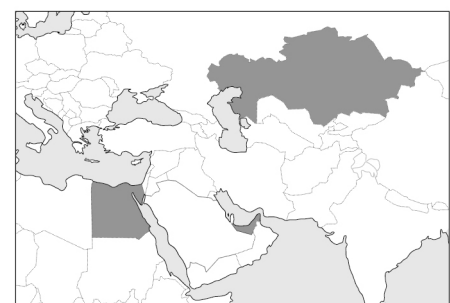
(가)	(나)	(다)
세계 경제의 중심이며 국제 연합(UN)의 본부가 위치한다. 자유의 여신상, 센트럴 파크 등이 유명하다.	세계 문화·예술의 중심지로 2024년 하계 올림픽이 개최될 예정이다. 도시의 상징으로는 에펠탑이 있다.	세계 3대 미항 중 하나이며 삼바 퍼레이드로 유명한 카니발이 열린다. 거대 예수상이 대표적인 랜드마크이다.

- ① (가)는 최상위 세계 도시에 해당한다.
- ② (나)는 해당 국가의 수도이다.
- ③ (다)에는 파벨라라 불리는 불량 주택 지구가 있다.
- ④ (가)는 (나)보다 도심과 주변 지역 간의 건물 높이 차이가 크다.
- ⑤ (나)는 (다)보다 도시 발달의 역사가 짧다.

9. 그래프는 지도에 표시된 세 국가의 특성을 나타낸 것이다. (가)~(다) 국가에 대한 설명으로 옳은 것만을 <보기>에서 고른 것은? [3점]



* 산업별 생산액을 기준으로 함.

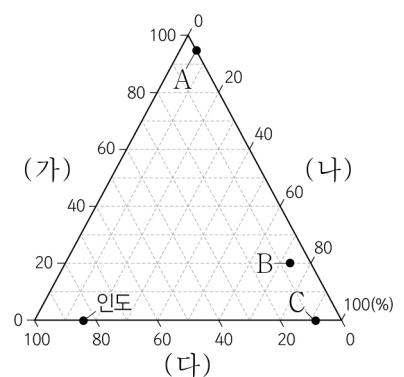


<보기>

- ㄱ. (가)는 걸프 협력 회의(GCC) 회원국이다.
- ㄴ. (나)는 카스피해 연안에 위치한 국가이다.
- ㄷ. (나)는 (다)보다 청장년층 인구의 유입이 많다.
- ㄹ. (다)는 (가)보다 1인당 국내 총생산(GDP)이 많다.

- ① ㄱ, ㄴ ② ㄱ, ㄷ ③ ㄴ, ㄷ ④ ㄴ, ㄹ ⑤ ㄷ, ㄹ

10. 그래프는 네 국가의 종교별 신자 수 비율을 나타낸 것이다. 이에 대한 설명으로 옳은 것은? (단, (가)~(다)는 각각 불교, 이슬람교, 힌두교 중 하나이고, A~C는 각각 말레이시아, 방글라데시, 타이 중 하나임.) [3점]

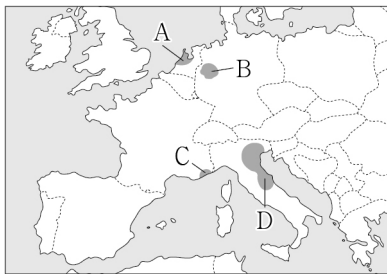


* 그래프의 점들은 국가별 (가)~(다) 종교의 신자 수 합을 100%로 한 종교별 비율을 나타냄.

- ① (다)의 대표적인 종교 경관은 모스크이다.
- ② (가)는 (나)보다 발생 시기가 이르다.
- ③ (나)와 (다)의 기원지는 모두 남부 아시아에 위치한다.
- ④ (다)는 (가)보다 전 세계 신자 수가 적다.
- ⑤ A는 타이, B는 방글라데시, C는 말레이시아이다.

11. (가), (나)에 해당하는 지역을 지도의 A~D에서 고른 것은?

(가) 자르 지방과 함께 풍부한 석탄을 중심으로 철강 산업이 발달했으나, 자원 고갈과 시설의 노후화로 쇠퇴한 지역이다. 도시 재생 사업을 통해 탄광 관련 시설을 박물관과 예술 공간 등으로 새롭게 조성하였다.
 (나) '지혜의 도시'라는 뜻의 이름을 가진 첨단 산업 지역으로, 칸과 니스에 인접해 있다. 정보 통신 및 생명 과학 분야의 기업, 대학, 연구소 등이 집중된 혁신 클러스터가 조성되면서 경제 성장과 과학 발전의 원동력이 되고 있다.



- (가) (나)
- ① A B
 - ② A C
 - ③ B C
 - ④ B D
 - ⑤ C D

12. 표의 (가)~(다)에 대한 설명으로 옳은 것만을 <보기>에서 고른 것은? (단, (가)~(다)는 각각 멕시코, 브라질, 아르헨티나의 수도 중 하나임.) [3점]

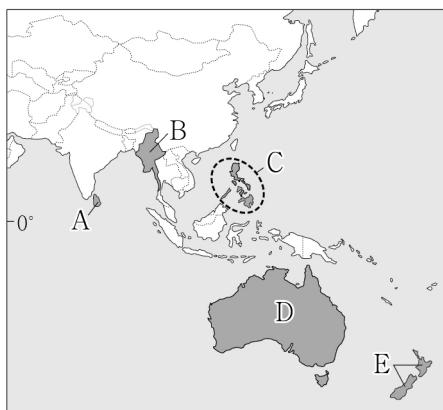
지리 정보	수도	(가)	(나)	(다)
기온의 연교차		13.7°C	3.8°C	5.4°C
해발 고도		25m	1,159m	2,309m
12월 1일 낮 길이		14시간 18분	13시간 1분	11시간 3분

<보 기>

- ㄱ. (가)는 유럽인들이 아스테카 문명의 도시를 파괴하고 건설한 도시이다.
- ㄴ. (나)는 내륙 개발을 위해 조성된 계획 도시이다.
- ㄷ. (다)는 해당 국가의 도시 중 인구 규모가 가장 크다.
- ㄹ. (가), (나)가 속한 국가들은 모두 에스파냐어를 공용어로 사용한다.

- ① ㄱ, ㄴ ② ㄱ, ㄷ ③ ㄴ, ㄷ ④ ㄴ, ㄹ ⑤ ㄷ, ㄹ

13. A~E 국가의 지역 갈등에 대한 설명으로 옳은 것은? [3점]



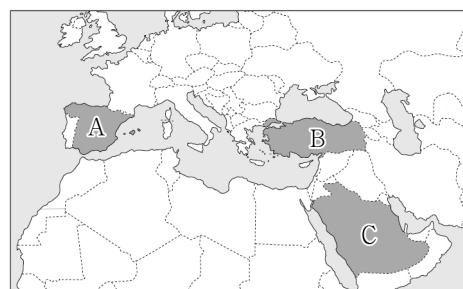
- ① A: 소수 민족인 티베트족이 분리 독립을 주장하고 있다.
- ② B: 로힝야족에 대한 탄압으로 대규모 난민이 발생하였다.
- ③ C: 불교도와 힌두교도 간 갈등으로 내전이 일어났다.
- ④ D: 이슬람교도인 모로족이 분리 독립을 요구하고 있다.
- ⑤ E: 원주민인 애버리지니가 토지 반환을 요구하고 있다.

14. 그래프는 세 국가에 거주하는 이주자의 출신 국가별 비율을 나타낸 것이다. (가)~(다)에 해당하는 국가를 지도의 A~C에서 고른 것은? [3점]



* 이주자의 출신 국가 상위 5개국 비율의 합을 100%로 함.

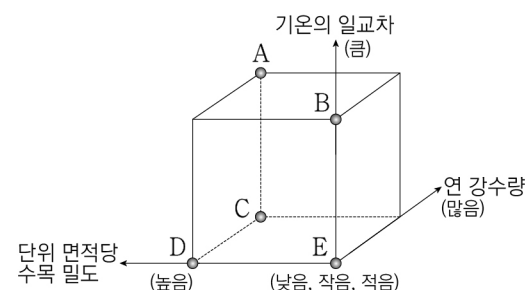
(2019)



- (가) (나) (다)
- ① A B C
 - ② A C B
 - ③ B A C
 - ④ B C A
 - ⑤ C B A

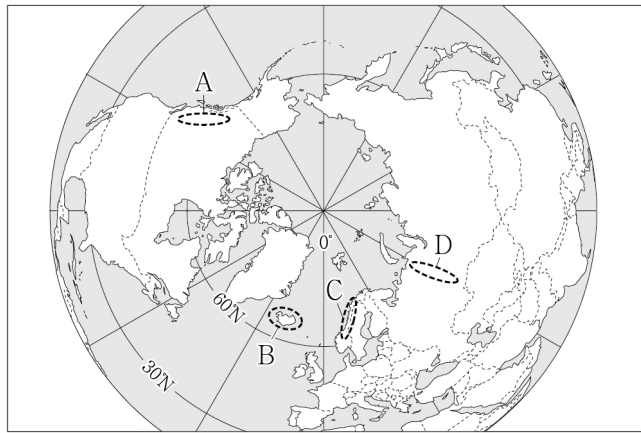
15. 다음 자료는 두 지역의 전통 음식을 소개한 것이다. (가)에 대한 (나)의 상대적 특징을 그림의 A~E에서 고른 것은?

지역	전통 음식 소개
(가)	카오팻은 밥에 해산물과 채소 등을 넣어 볶은 음식으로 '카오'는 쌀을, '팻'은 볶는 것을 의미한다. 무더운 날씨에 입맛을 돋우고자 다양한 맛의 향신료를 사용한다.
(나)	아에쉬는 '생명'이라는 뜻의 전통 빵이다. 건조하고 척박한 땅에서도 잘 자라는 밀을 소량의 물로 반죽하여 화덕에 구운 음식으로, 저장과 운반이 간편하다.



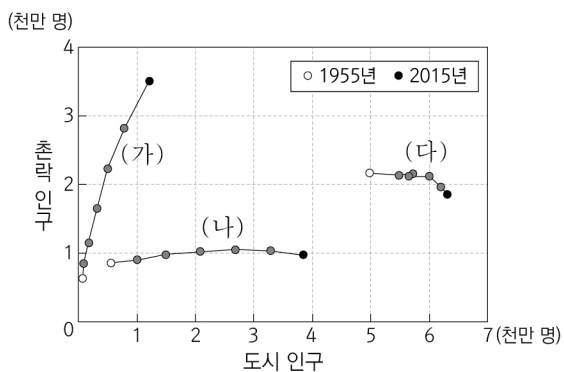
- ① A
- ② B
- ③ C
- ④ D
- ⑤ E

16. 지도에 표시된 A~D 지역에 대한 설명으로 옳은 것은? [3점]



- ① A에는 대륙판이 갈라지면서 만들어진 지구대가 분포한다.
- ② B는 대륙판과 해양판이 충돌하여 형성되었다.
- ③ C에는 두 판이 수평으로 어긋나 미끄러지는 경계가 나타난다.
- ④ A의 산지는 D의 산지보다 평균 해발 고도가 높다.
- ⑤ D는 B보다 화산 활동이 활발하다.

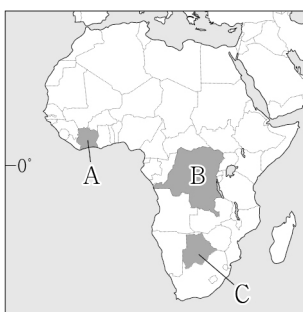
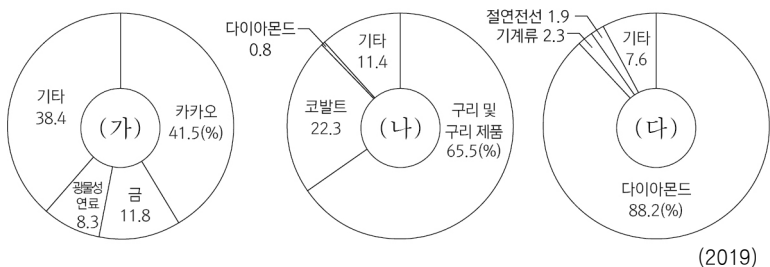
17. 그래프는 세 국가의 촌락 및 도시 인구의 변화를 나타낸 것이다. (가)~(다) 국가에 대한 설명으로 옳은 것은? (단, (가)~(다)는 각각 독일, 케냐, 콜롬비아 중 하나임.) [3점]



* ●는 1955년과 2015년 사이의 값을 10년 간격으로 나타낸 것임.

- ① (가)는 (다)보다 생산자 서비스업 종사자 비율이 높다.
- ② (나)는 (다)보다 산업화 시작 시기가 이르다.
- ③ 1955년 촌락 인구는 콜롬비아가 독일보다 많다.
- ④ 2015년 (가)는 도시화의 중착 단계에 해당한다.
- ⑤ 1955년~2015년 도시화율 증가 폭은 (나)가 가장 크다.

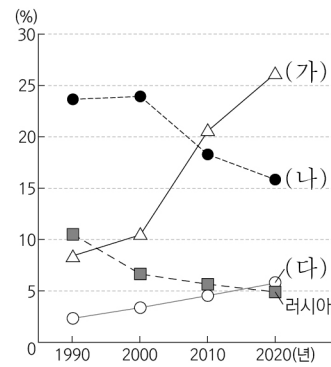
18. 그래프는 세 국가의 상품 수출액 비율을 나타낸 것이다. (가)~(다)에 해당하는 국가를 지도의 A~C에서 고른 것은?



- | | (가) | (나) | (다) |
|---|-----|-----|-----|
| ① | A | B | C |
| ② | A | C | B |
| ③ | B | A | C |
| ④ | B | C | A |
| ⑤ | C | A | B |

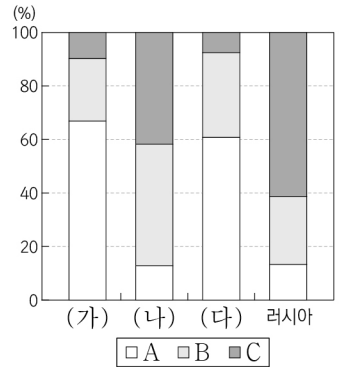
19. 그래프는 네 국가의 화석 에너지 소비 현황을 나타낸 것이다. 이에 대한 설명으로 옳은 것은? (단, (가)~(다)는 각각 미국, 인도, 중국 중 하나이고, A~C는 각각 석유, 석탄, 천연가스 중 하나임.) [3점]

<화석 에너지 소비 비율 변화>



* 전 세계 화석 에너지 소비량에서 차지하는 국가별 비율임.

<화석 에너지 소비 구조>



* 국가별 석유, 석탄, 천연가스 소비량의 합을 100%로 함. (2020)

- ① (가)는 A의 최대 생산국이다.
- ② A는 B보다 수송용으로 사용되는 비율이 높다.
- ③ B는 C보다 세계 1차 에너지 소비 구조에서 차지하는 비율이 낮다.
- ④ C는 A보다 연소 시 대기 오염 물질의 배출량이 많다.
- ⑤ 2020년 화석 에너지 소비량은 미국이 중국보다 많다.

20. (가), (나) 경제 블록에 대한 설명으로 옳은 것만을 <보기>에서 고른 것은?

구분	상징기	개요
(가)		벨기에의 브뤼셀에 본부를 두고 있는 경제 블록이다. 최근 브렉시트(Brexit)의 영향으로 국제적 위상에 타격을 입어 다른 회원국들도 탈퇴를 요구하는 여론이 형성되기도 하였다.
(나)		동남아시아 국가 간의 기술 및 자본 교류와 자원의 공동 개발을 추진하기 위해 결성되었다. 최근 한국, 중국, 일본, 오스트레일리아, 뉴질랜드와 함께 역내 포괄적경제동반자협정(RCEP)을 체결하였다.

- <보 기> —
- ㄱ. (가)는 회원국 간에 생산 요소의 자유로운 이동이 보장된다.
 - ㄴ. (나)는 단일 통화를 만들어 다수의 국가가 사용하고 있다.
 - ㄷ. (가)는 (나)보다 회원국 수가 많다.
 - ㄹ. (나)는 (가)보다 회원국 간의 정치적 통합 수준이 높다.

- ① ㄱ, ㄴ ② ㄱ, ㄷ ③ ㄴ, ㄷ ④ ㄴ, ㄹ ⑤ ㄷ, ㄹ

* 확인 사항
○ 답안지의 해당란에 필요한 내용을 정확히 기입(표기)했는지 확인 하시오.