

목록

| | |
|--------------------------|----|
| 01.10월_고3_사회(생활과윤리)..... | 1 |
| 02.10월_고3_사회(윤리와사상)..... | 5 |
| 03.10월_고3_사회(한국지리)..... | 9 |
| 04.10월_고3_사회(세계지리)..... | 13 |
| 05.10월_고3_사회(동아시아사)..... | 17 |
| 06.10월_고3_사회(세계사)..... | 21 |
| 07.10월_고3_사회(경제)..... | 25 |
| 08.10월_고3_사회(정치와법)..... | 29 |
| 09.10월_고3_사회(사회문화)..... | 33 |

제 4 교시

사회탐구 영역 (생활과 윤리)

성명 수험번호 3 제 () 선택

1. ㉠에 들어갈 진술로 가장 적절한 것은?

나는 윤리학이 도덕 원리를 탐구하여 ‘어떤 행위를 해야 한다’ 혹은 ‘어떤 성품을 가져야 한다’는 도덕적 표준의 제시를 목적으로 삼아야 한다고 본다. 그런데 어떤 사람은 윤리학이 경험적 연구를 바탕으로 도덕적 신념, 태도, 현상에 대한 객관적 기술을 목적으로 삼아야 한다고 주장한다. 나는 이러한 주장이 ㉠ 고 생각한다.

- ① 도덕적 문제 상황의 인과 관계를 설명해야 함을 간과한다
- ② 도덕적 담화의 논증이 타당한지를 검증해야 함을 강조한다
- ③ 행위의 도덕적 근거에 대한 이론을 정립해야 함을 강조한다
- ④ 특정 사회의 도덕 관습에 대한 실태 조사가 필요함을 간과한다
- ⑤ 도덕 규칙을 적용해 행위의 정당성을 검토해야 함을 간과한다

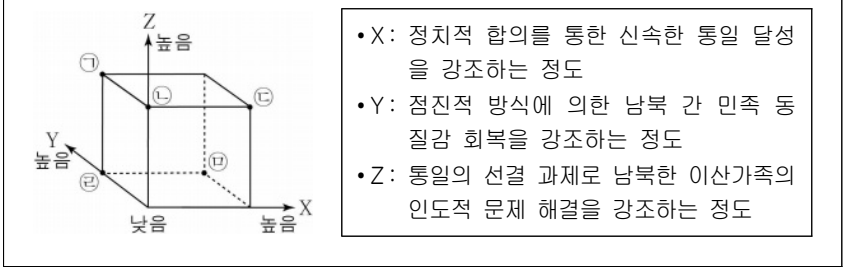
2. 갑, 을 사상가들의 입장으로 가장 적절한 것은? [3점]

갑: 국가의 목적은 개인의 안전 보장에 있다. 개인은 안전을 보장받기 위해 주권자에 복종해야 한다. 주권이 침해되면 전쟁 상태인 자연 상태보다 더 큰 재앙이 초래될 것이다.
 을: 국가의 주된 목적은 개인의 재산 보호에 있다. 절대 권력의 통치는 사회와 정부의 목적에 부합하지 못한다. 절대 권력을 위정자에게 넘겨주면 자연 상태보다 더 나빠진다.

- ① 갑: 개인의 생명과 자유는 주권을 분할해야 온전히 보장된다.
- ② 갑: 군주는 절대 권력을 지니므로 사회 계약을 파기할 수 있다.
- ③ 을: 개인과 국가는 상호 간 이익을 전제로 사회 계약을 맺는다.
- ④ 을: 입법권은 최고 권력이지만 공공선에 의해 제한될 수 있다.
- ⑤ 갑과 을: 사회 계약으로 자연 상태에서의 재산권이 보장된다.

3. (가)의 입장에 비해 (나)의 입장이 갖는 상대적 특징을 그림의 ㉠ ~ ㉤ 중에서 고른 것은?

(가) 통일은 남북 간 정치적 일괄 타결을 통해 조속히 이루어져야 한다. 점진적 교류를 통한 통일은 남북 간 이질감 해소에 기여할 수 있지만, 최우선 과제인 남북한 이산가족의 문제를 시급히 해결하는 데 한계가 있기 때문이다.
 (나) 통일은 남북 간 사회·문화적 협력을 통해 단계적으로 이루어져야 한다. 급진적 통일은 남북한 이산가족의 문제를 빨리 해결할 수 있지만, 최우선 과제인 남북 간 이질감 해소와 신뢰 회복에 한계가 있기 때문이다.



- ① ㉠ ② ㉡ ③ ㉢ ④ ㉣ ⑤ ㉤

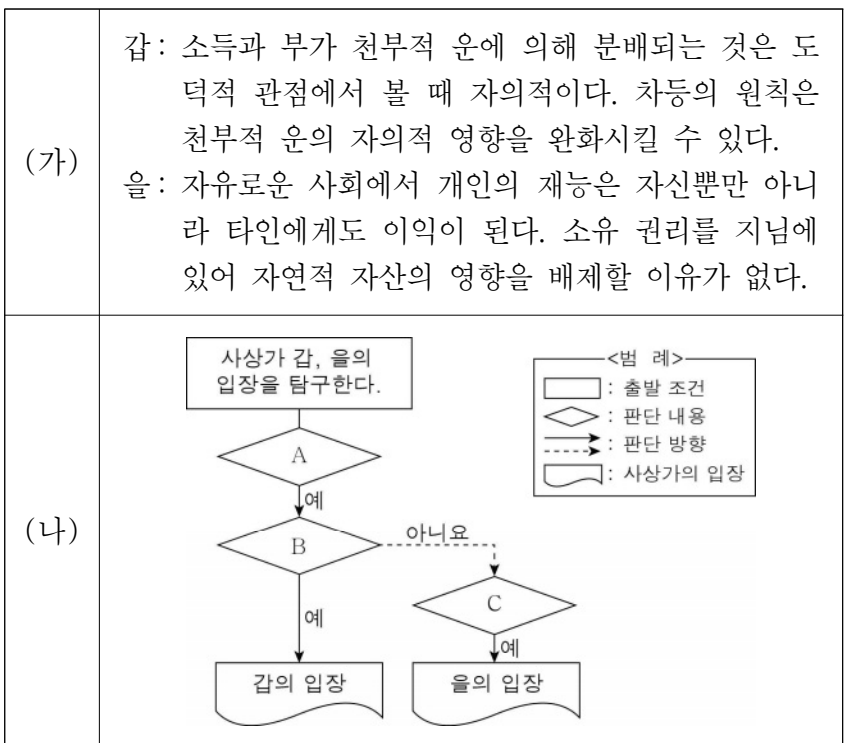
4. 갑, 을 사상가들의 입장으로 적절한 것만을 <보기>에서 고른 것은?

갑: 왕이 자기 나라의 이익을 생각하면 대부는 자기 집안의 이익을, 백성은 자기 몸의 이익을 생각한다. 위아래가 각자 자기 이익을 취하려 하면 나라는 위태로워진다. 왕은 이익이 아니라 인의(仁義)를 생각해야 한다.
 을: 인위적인 것을 멀리하고 분별적 지혜를 버리면 백성의 이익이 백배가 된다. 인을 끊고 의를 버리면 백성이 다시 효도하고 자애로워진다. 최상의 지도자는 백성이 단지 그의 존재만을 아는 지도자이다.

< 보 기 >
 ㄱ. 갑: 자신과 타인을 구분하지 않고 사랑[兼愛]해야 한다.
 ㄴ. 갑: 군주는 먼저 수기(修己)하고 백성을 교화해야 한다.
 ㄷ. 을: 이상적 삶을 위해 무지(無知)의 덕을 갖추어야 한다.
 ㄹ. 갑과 을: 백성은 성인(聖人)을 좇아 선악을 구별해야 한다.

- ① ㄱ, ㄴ ② ㄱ, ㄷ ③ ㄴ, ㄷ ④ ㄴ, ㄹ ⑤ ㄷ, ㄹ

5. (가)의 갑, 을 사상가들의 입장을 (나) 그림으로 탐구하고자 할 때, A ~ C에 들어갈 적절한 질문만을 <보기>에서 있는 대로 고른 것은? [3점]



< 보 기 >
 ㄱ. A: 자유롭게 양도된 재화도 재분배 대상이 될 수 있는가?
 ㄴ. B: 천부적 재능의 분포는 임의적이므로 부정의한가?
 ㄷ. B: 구성원들의 모든 이익은 공정한 기회균등의 원칙에 의해 평등하게 보장되는가?
 ㄹ. C: 최초 취득의 원칙이 적용되지 않아도 자연적 자산에 대한 개인의 배타적 권리는 인정되는가?

- ① ㄱ, ㄴ ② ㄱ, ㄷ ③ ㄴ, ㄷ
- ④ ㄱ, ㄷ, ㄹ ⑤ ㄴ, ㄷ, ㄹ

6. 갑, 을 사상가들의 입장으로 가장 적절한 것은?

갑: 현자는 삶으로부터 도피하려 하지도, 삶의 중단을 두려워하지도 않는다. 삶이 해를 주는 것도 아니고, 삶의 부재가 어떤 악으로 생각되지도 않기 때문이다. 현자는 단순히 긴 삶이 아니라 가장 즐거운 삶을 원한다.
 을: 영혼이 가장 잘 사유하는 때는 청각, 시각, 고통, 쾌감 등으로 주의가 산만해지지 않을 때이다. 우리가 어떤 사물에 대해 순수한 지식을 갖고자 한다면 몸에서 벗어나 영혼 자체로 사물 자체를 관찰해야 한다.

- ① 갑: 죽음에 대한 인식과 무관하게 죽음은 그 자체로 악이다.
- ② 갑: 죽음을 통해 고통의 부재로서의 쾌락이 비로소 실현된다.
- ③ 을: 죽음 이후에 영혼의 사유로는 참된 실재를 인식할 수 없다.
- ④ 을: 죽음으로 불완전한 세계에서 완전한 세계에 이를 수 있다.
- ⑤ 갑과 을: 영혼의 불멸성을 파악하면 죽음이 두렵지 않게 된다.

7. 다음을 주장한 사상가의 입장에서 <문제 상황> 속 A에게 제시할 조언으로 가장 적절한 것은?

공동체는 가공의 조직체이며 공동체의 이익은 그 구성원들의 이익의 총합이다. 어떤 행동이 공동체의 행복을 증가시키는 경향이 감소시키는 경향보다 클 경우, 이 행동은 공리의 원칙에 의해 승인된다.
 <문제 상황>
 A는 난치병 치료를 위해 배아 줄기세포를 연구하고 있다. A는 연구 과정에서 배아가 폐기되고, 난자 확보 과정에서 여성의 건강권이 침해되기 때문에 연구를 계속해야 할지 고민하고 있다.

- ① 연구 결과로 인한 사회적 손익을 계산해야 함을 명심하세요.
- ② 연구자가 지켜야 할 보편적 도덕 원리는 없음을 명심하세요.
- ③ 연구자의 동기가 연구의 도덕성 판단의 척도임을 명심하세요.
- ④ 연구자는 경향성이 아니라 선의지에 따라야 함을 명심하세요.
- ⑤ 연구는 사익의 총합보다 큰 공익을 지향해야 함을 명심하세요.

8. 갑, 을의 입장으로 가장 적절한 것은? [3점]

갑: 사랑이 결여된 성적 관계도 도덕적일 수 있다. 성적 관계를 통한 쾌락은 그 자체로 추구할 만한 가치를 지니기 때문이다. 따라서 자율성의 원칙과 해악 금지의 원칙을 전제로 한 성인들의 성적 관계는 도덕적으로 정당하다.
 을: 사랑이 결부된 성적 관계도 비도덕적일 수 있다. 성적 관계는 사회의 존속과 떼어 놓을 수 없는 관계에 놓여 있기 때문이다. 따라서 출산과 양육의 책임을 질 수 있는 혼인 관계에서 이루어지는 성적 관계만이 도덕적으로 정당하다.

- ① 갑: 성적 관계의 도덕성은 사랑의 결합 여부로 판명된다.
- ② 갑: 자발적 동의에 의한 성적 관계는 비도덕적일 수 없다.
- ③ 을: 인격적 가치를 존중하는 모든 성적 관계는 도덕적이다.
- ④ 을: 부부 사이의 성적 관계만이 도덕적 평가의 대상이 된다.
- ⑤ 갑과 을: 사랑이 결부된 성적 관계가 도덕적인 경우가 있다.

9. (가)의 갑, 을, 병 사상가들의 입장에서 서로에게 제기할 수 있는 비판을 (나) 그림으로 표현할 때, A~F에 해당하는 내용으로 가장 적절한 것은? [3점]

| | |
|-----|--|
| (가) | 갑: 범죄에 대한 가장 강력한 억제력은 살인자의 사형 장면에서 생겨나지 않는다. 그가 노동으로 속죄하는 것을 사람들이 오래 보는 것에서 생겨난다. 을: 오직 보복법만이 형벌의 질과 양을 명확하게 제시한다. 살인자에 대한 사형은 인간을 수단이나 물권의 대상으로 취급하는 것이 아니다. 병: 사회 계약의 목적은 계약자들의 생명을 보존하는 것이다. 살인하면 사형을 받겠다고 동의하는 것은 살인자에게 희생되고 싶지 않기 때문이다. |
| (나) | |

- ① A: 동등성의 원리에 따라 형벌의 종류와 정도가 결정됨을 간과한다.
- ② B: 사형은 살인자의 고통받는 인격을 자유롭게 해주는 형벌로 불의가 아님을 간과한다.
- ③ C와 E: 살인자에 대한 형벌은 시민의 공포심을 자극해야 정당화될 수 있음을 간과한다.
- ④ D: 형벌의 법칙은 공동체의 이익 증진을 전제로 하는 정언 명령임을 간과한다.
- ⑤ F: 형벌이 잔혹해질수록 범죄를 예방하는 효과가 증대됨을 간과한다.

10. 갑, 을 사상가들의 입장으로 가장 적절한 것은? [3점]

갑: 시민 불복종은 비록 법의 바깥 경계선에 있지만 법에 대한 충실성의 한계 내에서 법에 대한 불복종을 나타낸다. 법에 대한 충실성은 시민 불복종이 양심적이고 진지하며 공중의 정의감에 호소하기 위한 것임을 보여준다.
 을: 시민 불복종은 합법적인 수단이 실패했을 때 사용될 수 있는 적합한 수단이다. 우리는 시민 불복종을 통해 중단시키려고 하는 악의 크기와 시민 불복종이 가져올 법과 민주주의에 대한 존중심의 감소 정도를 저울질해 보아야 한다.

- ① 갑: 시민 불복종은 불의한 모든 법에 대해 이루어져야 한다.
- ② 갑: 시민 불복종의 최종 목적은 사회 체제의 근본적 변화이다.
- ③ 을: 시민 불복종은 헌법에 근거한 법에도 이루어질 수 있다.
- ④ 을: 시민 불복종은 다수를 위협하거나 강제하는 위법 행위이다.
- ⑤ 갑과 을: 시민 불복종은 원칙적으로 처벌 대상이 될 수 없다.

11. (가)의 갑, 을, 병 사상가들의 입장을 (나) 그림으로 표현할 때, A ~ D에 해당하는 적절한 진술만을 <보기>에서 있는 대로 고른 것은? [3점]

| | |
|-----|---|
| (가) | <p>갑: 모든 생명체는 생명 공동체의 일원이다. 모든 생명체는 자신을 보존하고 고유의 선을 추구하려는 목적론적 삶의 중심이다.</p> <p>을: 동물의 고통을 인간의 동일한 양의 고통과 동등하게 간주해야 한다. 고통을 느낄 수 있는 존재의 이익을 평등하게 고려해야 한다.</p> <p>병: 대지 윤리는 인류의 역할을 생명 공동체의 정복자에서 평범한 구성원이자 시민으로 변화시킨다. 인간은 생명 공동체 그 자체를 존중해야 한다.</p> |
| (나) | <p style="text-align: center;"><범례></p> <p>A: 갑만의 입장 B: 병만의 입장 C: 갑과 병만의 공통 입장 D: 갑, 을, 병의 공통 입장</p> |

< 보 기 >

ㄱ. A: 인간은 이성적 존재와 동식물에게만 신의 의무를 져야 한다.

ㄴ. B: 생태계의 선과 개체의 선은 동등한 가치를 지니지 않는다.

ㄷ. C: 생명이 있는 존재라면 종에 상관없이 도덕적으로 배려되어야 한다.

ㄹ. D: 동물에 대한 인간의 의무는 호혜성에서 비롯된 것이 아니다.

- ① ㄱ, ㄴ ② ㄴ, ㄹ ③ ㄷ, ㄹ
④ ㄱ, ㄴ, ㄷ ⑤ ㄱ, ㄷ, ㄹ

12. 다음을 주장한 사상가의 입장으로 적절한 것만을 <보기>에서 고른 것은?

○ 배우지 못해 무식한 수령은 겨우 한 고을을 얻기만 해도 자기 마음대로 행동하고 교만하며 사치해서 공금을 손 가는 대로 함부로 써 버린다.

○ 청렴한 사람은 청렴함을 편안히 여기고 지혜로운 사람은 청렴함을 이롭게 여긴다. 수령이 원하는 바가 청렴으로 도(道)를 얻는 것이라면 재물을 버리고 취하지 않아야 한다.

< 보 기 >

ㄱ. 목민관이 청렴을 실천하지 않으면 지혜롭지 못한 것이다.

ㄴ. 재정적 여유는 목민관의 자의적 공금 집행을 정당화한다.

ㄷ. 청렴은 인을 실현하려는 목민관의 욕구에서 비롯될 수 있다.

ㄹ. 목민관의 청렴은 자기 수양보다 외적 강제를 통해 실현된다.

- ① ㄱ, ㄴ ② ㄱ, ㄷ ③ ㄴ, ㄷ ④ ㄴ, ㄹ ⑤ ㄷ, ㄹ

13. 갑, 을 사상가들의 입장으로 가장 적절한 것은?

갑: 음악은 사람의 즐거움을 표현한 것이다. 하지만 사람의 타고난 성정(性情)으로 인해 즐거움이 도리에 맞지 않으면 혼란이 일어난다. 이러한 혼란을 싫어하여 옛 성왕은 아(雅)와 송(頌)의 음악을 제정한 것이다.

을: 음악을 비난하는 이유는 큰 종이나 북 같은 악기의 소리가 즐겁지 않아서가 아니다. 음악이 위로는 성왕의 일과 부합하지 아니하고, 아래로는 백성의 이익과 부합하지 않기 때문이다.

- ① 갑: 음악을 활용하여 백성의 감정을 바르게 인도할 수 있다.
② 갑: 음악이 도리에 맞으면 본성을 확충하는 데 도움이 된다.
③ 을: 음악은 백성에게 이로움이 아니라 의로움을 가져다준다.
④ 을: 음악은 재물을 낭비하게 하지만 생산 활동에 필수적이다.
⑤ 갑과 을: 음악은 나라를 다스리는 데 있어 중요한 수단이다.

14. 갑, 을 사상가들의 입장으로 가장 적절한 것은? [3점]

갑: 직접적 폭력, 구조적 폭력, 문화적 폭력에 대한 진단, 예측, 처방이 필요하다. 진정한 평화는 직접적 폭력뿐만 아니라 구조적 폭력, 문화적 폭력이 모두 사라져야 실현된다.

을: 이성이 전쟁을 탄핵하고 평화 상태를 의무로 부과해도 국가 간의 계약 없이는 영원한 평화가 보장될 수 없다. 모든 전쟁을 영원히 종식시키는 평화 연맹이 필요하다.

- ① 갑: 문화적 폭력으로 인해 비의도적 차별이 정당화될 수 있다.
② 갑: 평화적 수단과 과정으로는 진정한 평화를 실현할 수 없다.
③ 을: 평화를 위해 국가 간 계약을 주도할 세계 정부가 필요하다.
④ 을: 국가 간 적대 행위의 중단은 영원한 평화 상태를 보증한다.
⑤ 갑과 을: 국가 정치 체제는 평화 실현에 영향을 주지 않는다.

15. 그림의 강연자의 입장으로 가장 적절한 것은?

문명화된 현대 사회에서 유한계급의 생활 방식은 명성의 기준을 제공합니다. 이러한 기준은 최고 상류층 이하의 모든 계층이 따르고 싶은 기준이 됩니다. 유한계급이 명성을 획득하거나 유지하는 수단은 과시적 여가와 과시적 소비입니다. 과시적 여가와 과시적 소비의 공통적인 특징은 낭비로 볼 수 있습니다. 한편 과시적 여가와 과시적 소비는 경제 발전의 각기 다른 단계에서 편의성을 기준으로 각각 선호되었습니다.



- ① 유한계급은 사회적 명성과 무관하게 여가 생활을 즐긴다.
② 과시적 소비는 어떠한 기능도 하지 못하는 낭비일 뿐이다.
③ 유한계급의 경쟁적인 비교 성향은 과시적 소비로 나타난다.
④ 산업 사회가 발전하면 과시적 소비에 대한 욕망은 사라진다.
⑤ 현대 사회의 극빈층은 과시적 소비의 유혹으로부터 자유롭다.

16. 다음 신문 칼럼에서 강조하는 내용으로 가장 적절한 것은?

○○신문 ○○○○년 ○○월 ○○일
칼럼

최근 뉴 미디어에서 고인이 된 유명인을 디지털 기술로 복원한 광고가 활용되었다. 그런데 디지털 기술로 고인을 복원하여 광고에 이용하는 것은 당사자의 동의를 받지 않았을 뿐만 아니라 저작권을 침해할 수 있어 문제가 될 수 있다. 고인의 행동과 목소리를 단순히 따라하는 것은 저작권 침해로 보기 어렵다. 하지만 고인의 영상이나 음성으로 만들어진 저작물을 이용하여 고인을 디지털 기술로 복원하는 것은 저작권 침해에 해당할 수 있다. 이러한 이유로 저작권 보호를 위한 새로운 차원의 노력이 요구되고 있다.

- ① 고인의 행위에 대한 단순한 모방도 저작권 침해에 해당한다.
- ② 저작권을 내세워 저작물의 상업적 이용을 제약해서는 안 된다.
- ③ 디지털 기술의 발달에 따라 저작물을 공공재로 간주해야 한다.
- ④ 고인을 복원하는 행위는 저작자의 동의가 없을지라도 허용된다.
- ⑤ 디지털 기술로 발생하는 저작권 침해에 대한 대책이 필요하다.

17. 다음을 주장한 사상가가 긍정의 대답을 할 질문으로 가장 적절한 것은? [3점]

- 우리는 특정한 실험들을 금지하는 하나의 원칙을 발견하였다. 어떠한 경우에도 인간 전체의 실존과 본질이 도박행위의 담보가 되어서는 안 된다.
- 전쟁의 처참함을 알지 못하면서 평화를 찬양할 수 있는가? 우리가 실제로 무엇을 보호해야 하는가를 알기 위해서 희망보다는 공포를 논의의 대상으로 삼아야 한다.

- ① 생명을 지닌 모든 존재는 자연에 대한 책임을 져야 하는가?
- ② 인간은 자신이 의도한 결과에 한정하여 책임을 져야 하는가?
- ③ 어떠한 행위도 못하게 막는 공포가 책임의 본질적 속성인가?
- ④ 미래 예측의 불확실성으로 인해 책임의 윤리학이 요청되는가?
- ⑤ 인류 존속은 세대 간의 상호 책임에 근거한 윤리적 의무인가?

18. 다음을 주장한 사상가의 입장으로 적절한 것만을 <보기>에서 있는 대로 고른 것은? [3점]

종교적 인간은 절대적 실재, 즉 세계 안에서 자신을 현현(顯現)하는 성스러운 존재가 있다고 항상 믿는다. 그러나 비종교적 인간은 초월성을 거부하며 실재의 상대성을 인정한다. 심지어 성스러운 존재의 의미를 의심하는 데까지 나아가기도 한다.

< 보 기 >

- ㄱ. 종교적 인간에게 우주는 신성성의 여러 양태를 제시한다.
- ㄴ. 종교적 인간은 자연물 그 자체를 신으로 숭배하고자 한다.
- ㄷ. 비종교적 인간은 자기 자신과 세계를 탈신성화하고자 한다.

- ① ㄴ ② ㄷ ③ ㄱ, ㄴ ④ ㄱ, ㄷ ⑤ ㄱ, ㄴ, ㄷ

19. 다음 토론의 핵심 쟁점으로 가장 적절한 것은?

갑: 낙태죄에 대한 헌법 불합치 판결 이후에도 인공 임신 중절에 대한 윤리적 논쟁이 계속되고 있습니다. 태아는 이의를 지니지 않으므로 인공 임신 중절은 허용되어야 합니다.

을: 태아는 미래에 의식을 갖출 잠재적 존재이므로 이의를 지니지 않습니다. 하지만 태아는 인간 종(種)의 한 구성원으로 성인과 동등한 본래적 가치를 지니기 때문에 인공 임신 중절을 허용해서는 안 됩니다.

갑: 그렇지 않습니다. 태아는 성인과 달리 현재 의식을 갖추고 있지 않아 본래적 가치를 지니지 않습니다. 따라서 인공 임신 중절에 대한 성인의 자율권을 존중해야 합니다.

을: 아닙니다. 식물인간은 의식이 없지만 본래적 가치를 지니므로 보호됩니다. 마찬가지로 태아도 의식이 없지만 본래적 가치를 지니므로 보호되어야 합니다.

- ① 태아는 이의를 가진 존재이므로 보호받아야 할 대상인가?
- ② 태아는 장래에 의식을 지닐 수 있는 존재로 보아야 하는가?
- ③ 태아가 지닌 본래적 가치는 태아의 의식으로부터 비롯되는가?
- ④ 태아의 자율권은 인공 임신 중절을 금지하는 근거가 되는가?
- ⑤ 태아는 본래적 가치를 지니므로 인공 임신 중절은 부당한가?

20. 갑, 을 사상가들의 입장으로 적절한 것만을 <보기>에서 고른 것은? [3점]

갑: 원조의 목적은 절대 빈곤으로 인한 고통을 줄이는 것이다. 우리는 나쁜 일을 방지할 수 있는 힘을 가지고 있고, 그 일에 상응하는 도덕적 의미를 가진 다른 일이 희생되지 않는다면 그렇게 해야만 한다.

을: 원조의 목적은 고통받는 사회를 질서 정연한 사회가 되도록 돕는 것이다. 천연자원과 부가 빈약한 사회라도 그 사회의 정치적 전통, 법, 재산, 계급 구조가 적정 수준의 사회를 유지하게 하는 것이라면 질서 정연해질 수 있다.

< 보 기 >

- ㄱ. 갑: 국내 부조와 해외 원조를 의무로 규정하는 근거는 다르지 않다.
- ㄴ. 을: 원조 대상국의 복지 수준 향상은 원조의 결과일 수는 있어도 목적일 수는 없다.
- ㄷ. 을: 질서 정연한 사회의 기본 구조에 적용되는 모든 원칙이 해외 원조에도 적용되어야 한다.
- ㄹ. 갑과 을: 원조 주체의 자기 이익 고려는 해외 원조의 목적 달성을 저해한다.

- ① ㄱ, ㄴ ② ㄱ, ㄷ ③ ㄴ, ㄷ ④ ㄴ, ㄹ ⑤ ㄷ, ㄹ

* 확인 사항

- 답안지의 해당란에 필요한 내용을 정확히 기입(표기)했는지 확인하십시오.

제 4 교시

사회탐구 영역(윤리와 사상)

| | | | | | | | | | |
|----|--|------|--|--|--|---|--|--|----------|
| 성명 | | 수험번호 | | | | 3 | | | 제 () 선택 |
|----|--|------|--|--|--|---|--|--|----------|

윤리와 사상

1. 다음 대화에서 스승이 강조하는 삶의 태도로 가장 적절한 것은?



- ① 고통이 따르지 않는 쾌락을 누리기 위해 욕망을 절제한다.
- ② 개인의 평온한 생활보다는 공공의 안녕과 번영을 추구한다.
- ③ 죽음에 대한 불안으로부터 벗어나기 위해 신에게 귀의한다.
- ④ 현상계 너머에 존재하는 선의 이데아를 인식하고 모방한다.
- ⑤ 자연의 필연적 인과 질서를 파악하고 자신의 운명에 순응한다.

2. 고대 서양 사상가 갑, 을의 입장으로 옳은 것은?

갑: 인간은 아름답다고 여겨지는 대상을 감각 기관으로 지각할 수 있다. 하지만 아름다움 자체와 같이 독자적으로 존재하는 것은 이성의 사유에 의해서만 파악할 수 있다.
 을: 인간은 만물의 척도이다. 존재하는 것들에 대해서는 그것들이 존재한다는 척도이고, 존재하지 않는 것들에 대해서는 그것들이 존재하지 않는다는 척도이다.

- ① 갑: 누구나 철학적 탐구 없이 참된 실재를 파악할 수 있다.
- ② 갑: 모든 아름다운 것은 아름다움 자체에 의해 아름답게 된다.
- ③ 을: 각 개인은 좋고 나쁨을 판단하는 능력을 갖고 있지 않다.
- ④ 을: 인간에게 유익한 지식은 감각적 경험을 초월해야 획득된다.
- ⑤ 갑과 을: 절대적 진리는 존재하지만 타인에게 전달할 수 없다.

3. 사회사상가 갑, 을의 입장으로 가장 적절한 것은?

갑: 사회주의적 계획은 농업, 수공업 등에서의 사적 소유와 양립할 수 있다. 사회주의 정책의 목표는 완전 고용, 보다 높은 생산, 소득과 재산의 공평한 분배 등이다.
 을: 완전 고용은 자본주의가 추구해야 할 목표이다. 정부가 병에 지폐를 채워 묻은 뒤 사기업으로 하여금 다시 파내게 한다면 더 이상 실업은 존재하지 않을 것이다.

- ① 갑: 완전 고용은 필요를 고려한 분배와 공존할 수 없다.
- ② 갑: 완전 고용은 모든 생산 수단의 공유를 전제로 한다.
- ③ 을: 완전 고용을 위해 정부는 유효 수요를 창출해야 한다.
- ④ 을: 완전 고용은 시장에서의 모든 경쟁이 사라질 때 실현된다.
- ⑤ 갑과 을: 완전 고용은 투자의 사회화를 배제해야만 달성된다.

4. 근대 한국 사상가 갑, 을, 병의 입장에 대한 설명으로 옳지 않은 것은? [3점]

갑: 서양의 도(道) 역시 천도(天道)를 궁구하므로 도는 같은 것이나 천도에 이르는 길이 다르다. 나의 도는 한울님으로부터 받은 마음을 지키고 그 기운을 바르게 하면[守心正氣] 자연스럽게 이루어진다.
 을: 서양의 설(說)은 아버지와 군주를 부정하고 욕망의 표현을 장려한다. 서양인이 끼치는 손해를 알면 선(善)의 편에 서는 사람이 된다. 사덕과 오륜 외의 모든 것은 이단이고 사설(邪說)이다.
 병: 서양의 법(法)을 본받는 것을 서양의 교(敎)에 복종하는 것으로 보는 것은 도와 기(器)가 나누어짐을 모르는 것이다. 우리의 도를 능히 행한다면 저들의 기를 행하는 것은 쉽다.

- ① 갑은 누구에게나 한울님의 지기(至氣)가 내재해 있다고 본다.
- ② 을은 서양의 정신문명과 물질문명 모두를 버려야 한다고 본다.
- ③ 병은 효제충신(孝悌忠信)이 절대로 바뀔 수 없는 도라고 본다.
- ④ 을은 병과 달리 서학(西學)은 참된 도를 밝힐 수 없다고 본다.
- ⑤ 갑과 을은 경(敬) 수양이 이상 사회의 실현에 기여한다고 본다.

5. (가)의 중국 유교 사상가 갑, 을의 입장을 (나) 그림으로 표현할 때, A~C에 해당하는 진술로 옳은 것은? [3점]

(가)

갑: 사물과 사람이 생겨날 때 반드시 이치[理]를 부여받은 후에야 본성[性]이 생기고, 기(氣)를 부여받은 후에야 형체가 생긴다.
 을: 사물에서 지선(至善)을 찾는 것은 의(義)가 마음 밖에 있다고 본 것이다. 지선은 마음의 본체이다. 마음이 곧 이치이며 마음 밖에는 이치가 없다.

(나)

- ① A: 사물은 인간과 달리 탁하고 치우친 이치를 부여받는다.
- ② A: 격물(格物)으로써 앎이 지극해진 후에야 효를 행할 수 있다.
- ③ B: 군자는 소인과 달리 견문을 쌓아 온전한 양지를 획득한다.
- ④ C: 이치는 마음의 조리(條理)이며 마음에서 벗어날 수 없다.
- ⑤ C: 앎과 행함은 서로를 의지하므로[相須] 함께 나아가야 한다.

6. 사회사상가 갑, 을의 입장으로 적절한 것만을 <보기>에서 고른 것은? [3점]

갑: 공화주의 전통에서 자유인은 노예와 달리 타인의 자의적 권력에 종속되지 않는 사람이다. 이러한 규정에서 자유의 핵심이 비지배에 있음이 드러난다.
 을: 타인에 의해 개인의 자유 영역이 축소될 때 노예가 된다고 말할 수 있다. 어떤 원칙으로 불가침의 영역을 구획하든지 자유는 언제나 '~로부터의 자유'이다.

< 보 기 >

ㄱ. 갑: 지배 없는 간섭이 발생해도 비지배 자유가 가능하다.
 ㄴ. 을: 어떤 경우에도 평등을 위해 자유를 제한해서는 안 된다.
 ㄷ. 을: 불간섭 영역이 확대되면 개인의 자유 영역도 확대된다.
 ㄹ. 갑과 을: 법은 본질적으로 인간의 자유 실현을 방해한다.

- ① ㄱ, ㄴ ② ㄱ, ㄷ ③ ㄴ, ㄷ ④ ㄴ, ㄹ ⑤ ㄷ, ㄹ

7. 고대 서양 사상가 갑, 중세 서양 사상가 을, 현대 서양 사상가 병의 입장으로 옳은 것은?

갑: 인간의 본성에 어긋나는 일은 인간에게 결코 일어나지 않는다. 인간과 신의 공통된 본성인 이성에 따라 행위할 때 우리에게 두려운 것은 없다.
 을: 자연법은 이성적 피조물이 신의 영원법에 참여하는 것이다. 이성적 피조물은 영원한 이성에 참여함으로써 올바른 행위와 목적을 향한 자연적 성향을 가진다.
 병: 우리 각자는 총체적으로 자기 자신이 되고자 해야 한다. 즉 신 앞에 홀로 서서 그토록 큰 노력으로 그토록 큰 책임을 지면서 특정한 개별자가 되고자 해야 한다.

- ① 갑: 사건에 대한 판단을 바꾸기보다 사건 자체를 바꿔야 한다.
 ② 을: 인간은 만물과 공유하는 본성에 따른 선을 추구해야 한다.
 ③ 병: 도덕규범을 충실히 지킬 때 절망에서 완전하게 벗어난다.
 ④ 갑과 을: 인간과 신의 합일은 곧 인간과 자연의 합일을 뜻한다.
 ⑤ 을과 병: 절대자에 의존하지 않고 주체적으로 살아가야 한다.

8. 다음을 주장한 근대 서양 사상가의 입장으로 옳은 것만을 <보기>에서 있는 대로 고른 것은? [3점]

정의는 다른 이유가 아니라 공공의 이익을 향한 경향을 가지기 때문에 시인(是認)되는 것이 확실하다. 공감은 우리에게 공공의 이익에 대한 흥미를 일으키지 않는다면 공공의 이익은 우리와 무관한 것이 된다.

< 보 기 >

ㄱ. 모든 시인의 감정은 정의와 부정의를 구분하는 감정이다.
 ㄴ. 도덕적 구별은 행위와 성품 모두에 대해 이루어질 수 있다.
 ㄷ. 덕의 존재는 이성의 판단이 아닌 쾌락의 느낌으로 알려진다.

- ① ㄱ ② ㄷ ③ ㄱ, ㄴ ④ ㄴ, ㄷ ⑤ ㄱ, ㄴ, ㄷ

9. 다음을 주장한 고대 동양 사상가의 입장으로 옳은 것만을 <보기>에서 있는 대로 고른 것은?

'색(色)은 무상(無常)하다.'라고 관찰하면 그것은 바른 관찰이다. 바르게 관찰하면 싫어하여 떠날 마음이 생기고 기뻐하고 탐하는 마음이 없어진다. 이것이 마음의 해탈이다. '무상하다.'라고 관찰하는 것과 '그것은 괴로움[苦]이요, 내가 아니다[非我].'라고 관찰하는 것은 같은 것이다.

< 보 기 >

ㄱ. 괴로움은 만물에 집착하는 갈애(渴愛)로부터 발생한다.
 ㄴ. 괴로움은 삶의 실상이며 인(因)과 연(緣) 없이 생겨난다.
 ㄷ. 괴로움이 소멸되어야 비로소 오온(五蘊)이 무상하게 된다.
 ㄹ. 괴로움의 원인을 깨닫지 못하면 윤회(輪廻)를 끊을 수 없다.

- ① ㄱ, ㄴ ② ㄱ, ㄹ ③ ㄷ, ㄹ
 ④ ㄱ, ㄴ, ㄷ ⑤ ㄴ, ㄷ, ㄹ

10. (가)의 한국 유교 사상가 갑, 을, 병의 입장에서 서로에게 제기할 수 있는 비판을 (나) 그림으로 표현할 때, A~F에 해당하는 내용으로 가장 적절한 것은? [3점]

| | |
|-----|--|
| (가) | <p>갑: 기질지성(氣質之性)은 이(理)와 기(氣)가 섞인 것이지만 어찌 기만 가리켜 말하지 못하겠는가? 사단도 기가 있지만 이가 발한 것이라 말하고 칠정도 이가 있지만 기가 발한 것이라 말한다. 을: 기질지성은 이가 기 가운데 포함되어 있는 것이니, 기질지성과 본연지성(本然之性)은 결코 두 성(性)이 아니다. 성이 이미 하나인데 정(情)이 어찌 두 갈래의 근원이 있겠는가? 병: 기질지성이 기호(嗜好)로서 그 이름을 얻었으면 천명지성(天命之性)도 기호로서 그 의미를 찾아야 한다. 천명지성은 선을 좋아하고 악을 미워하며 의를 좋아하고 탐욕을 미워하는 것이다.</p> |
| (나) | |

- ① A: 사단은 칠정 중 순수하게 천리에서 나온 것임을 간과한다.
 ② B: 기는 작용성을 지니므로 이를 주재할 수 있음을 간과한다.
 ③ C: 인간의 본연지성과 동물의 본연지성이 상이함을 간과한다.
 ④ D와 F: 기질지성을 따르면 불선으로 흐르기 쉬움을 간과한다.
 ⑤ E: 탐욕에 따라 악행을 반복하면 천명지성이 변함을 간과한다.

11. 다음을 주장한 사회사상가의 입장으로 옳은 것만을 <보기>에서 있는 대로 고른 것은?

민주주의는 국민이 실제로 통치한다는 것을 의미하지 않고 자신을 통치할 정치가를 받아들이거나 거부할 기회를 갖는다는 것을 의미할 뿐이다. 민주주의에서 정치가는 국민의 표를 얻기 위해 자유롭게 경쟁할 수 있어야 한다.

< 보 기 >
ㄱ. 국민은 모든 정치적 문제에 대해 합리적 견해를 갖는다.
ㄴ. 민주주의는 정치가가 득표 경쟁을 하는 제도적 장치이다.
ㄷ. 국민의 주된 역할은 선거를 통해 정부를 수립하는 것이다.

- ① ㄱ ② ㄷ ③ ㄱ, ㄴ ④ ㄴ, ㄷ ⑤ ㄱ, ㄴ, ㄷ

12. 고대 동양 사상가 갑, 을의 입장으로 옳지 않은 것은?

갑: 본성[性]은 본래 소박한[朴] 자질이다. 본성이 없다면 작위[僞]가 가해질 곳이 없고 작위가 없다면 본성은 스스로 아름다울 수 없다. 본성과 작위가 합쳐진 후에야 성인(聖人)이란 이름이 이루어진다.
을: 본성이 선하다는 것은 사람이 타고난 정(情)만을 따르면 선하게 될 수 있다는 것을 뜻한다. 사람이 선하지 않게 되는 것은 타고난 자질의 잘못이 아니다. 누구나 사단(四端)을 가지고 있다.

- ① 갑: 인(仁)은 인간의 본성을 해치며 사회를 혼란스럽게 한다.
② 갑: 의(義)를 알 수 있는 능력을 바탕으로 성정을 바꿔야 한다.
③ 을: 예(禮)의 단(端)은 양보하고 공경하는 마음[辭讓之心]이다.
④ 을: 지(智)를 실현하려면 잃었던 마음[放心]을 되찾아야 한다.
⑤ 갑과 을: 도(道)에 따라 살기 위해 마음 수양에 힘써야 한다.

13. 중국 불교 사상가 갑, 한국 불교 사상가 을의 입장으로 가장 적절한 것은? [3점]

갑: 마음속에 선지식(善知識)이 있어 스스로 깨닫는 것이다. 미혹한 마음을 일으켜 망념으로 전도하면 선지식의 가르침도 소용없다. 참된 반야를 일으켜 관조하면 망념이 없어 지니 자성(自性)을 깨치면 단번에 불지(佛地)에 이른다.
을: 마음의 어지럽지 않음이 자성의 정(定)이며, 마음의 어리석지 않음이 자성의 혜(慧)이다. 이를 깨달아서 정과 혜가 둘이 아니게 되면, 그것은 단박에 깨친 사람이 정혜를 겸해 닦는 것이 된다.

- ① 갑: 중생의 마음과 부처의 마음은 본래 하나가 아닌 별개이다.
② 갑: 반야로써 망념을 제거해야 청정한 자성을 형성할 수 있다.
③ 을: 불성을 단박에 깨쳐도 곧바로 궁극적 경지에 이를 수 없다.
④ 을: 마음으로는 부처의 가르침에 대한 깨달음을 얻을 수 없다.
⑤ 갑과 을: 정혜는 모든 습기(習氣)를 단박에 제거하는 수행이다.

14. 고대 서양 사상가 갑, 을의 입장으로 옳은 것만을 <보기>에서 있는 대로 고른 것은? [3점]

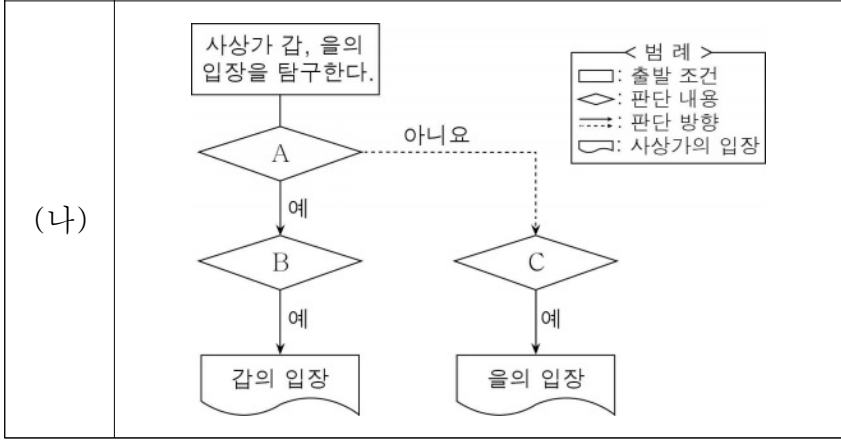
갑: 지식은 가장 강한 것이므로 쾌락과 다른 모든 것을 항상 이긴다. 사람이 쾌락과 고통, 즉 좋은 것과 나쁜 것의 선택과 관련하여 잘못을 범하는 것은 지식의 결핍 때문이다. 지식이 결핍된 사람은 쾌락에 압도될 수 있다.
을: 동일한 사람이 실천적 지혜가 있는 사람인 동시에 자제력 없는 사람일 수는 없다. 자신이 아는 바를 실행해야 실천적 지혜가 있는 사람이다. 자제력 없는 사람은 실행에 옮기는 사람이 아니다.

< 보 기 >
ㄱ. 갑: 선이 무엇인지 알고도 자발적으로 악을 행할 수는 없다.
ㄴ. 을: 타고난 실천적 지혜의 상실이 자제력 없음의 원인이다.
ㄷ. 을: 자제력 없는 사람은 선을 알더라도 악을 행할 수 있다.
ㄹ. 갑과 을: 덕을 갖추는 것은 행복 실현을 위해 필수적이다.

- ① ㄱ, ㄴ ② ㄴ, ㄷ ③ ㄷ, ㄹ
④ ㄱ, ㄴ, ㄹ ⑤ ㄱ, ㄷ, ㄹ

15. (가)의 사회사상가 갑, 을의 입장을 (나) 그림으로 탐구하고자 할 때, A ~ C에 들어갈 옳은 질문만을 <보기>에서 있는 대로 고른 것은? [3점]

(가) 갑: 전쟁 상태를 피하는 것은 국가를 결성하고 자연 상태를 떠나는 커다란 이유이다. 사람들은 재산 보호를 위해 최고의 통치 권력인 입법부가 제정한 법의 지배를 받는 것에 동의한다.
을: 전쟁 상태에서 모든 사람은 만물에 대한 권리를 지니므로 '내 것'과 '네 것'의 구별이 없다. 이러한 상태로부터 벗어나 국가를 결성할 가능성은 인간의 정념과 이성에 있다.



< 보 기 >
ㄱ. A: 소유권은 사회 계약이 유효할 때 비로소 발생하는가?
ㄴ. B: 공평한 재판관의 부재는 전쟁 상태를 초래할 수 있는가?
ㄷ. B: 개인은 사회 계약을 통해 자신의 처벌권을 포기하는가?
ㄹ. C: 시민의 자유는 공권력에 대한 공포와 양립할 수 있는가?

- ① ㄱ, ㄴ ② ㄱ, ㄷ ③ ㄴ, ㄹ
④ ㄱ, ㄷ, ㄹ ⑤ ㄴ, ㄷ, ㄹ

16. 그림의 강연자가 지지할 주장으로 가장 적절한 것은?

진리의 현금 가치는 무엇입니까? 즉 어떤 관념이 참이라고 할 때 그 참인 관념이 실제적으로 삶에 어떤 차이를 만들어 냅니까? 참된 관념은 우리가 정당화하고 검증할 수 있는 관념이고, 거짓된 관념은 그렇게 할 수 없는 관념입니다. 관념의 진리성은 그 관념에 내재하는 고정된 속성이 아니라 스스로를 진리이게 하는 진리화 과정입니다.



- ① 자명한 지식의 발견이 유용한 지식의 산출보다 중요하다.
- ② 확고부동한 진리는 모든 사람에게 동등한 가치를 갖는다.
- ③ 진리의 소유는 목적이 아니라 문제 해결을 위한 수단이다.
- ④ 참된 관념은 그 자체로 선하며 현금 가치와 무관한 것이다.
- ⑤ 관념의 진리성은 경험이 아닌 이성적 사유에 의해 발견된다.

17. 다음을 주장한 근대 서양 사상가의 입장에서 긍정의 대답을 할 질문만을 <보기>에서 고른 것은? [3점]

- 신 없이는 아무것도 존재할 수 없고 인식될 수 없기에, 그리고 우리가 신에 대한 명석판명한 관념을 갖지 않는 한 모든 것에 의문이 제기될 수 있기에 우리의 최고선은 신을 인식하는 것이다.
- 자신의 존재를 보존하려는 인간의 노력이 인간의 본질이다. 자신의 존재를 보존하는 데 도움이 되는 것은 선이다. 이성의 지도에 따라 살아가면서 생기는, 선을 행하려는 욕망이 도덕성이다.

< 보 기 >

ㄱ. 무한 실체인 신은 모든 유한 실체들의 내재적 원인인가?
 ㄴ. 자연 현상을 인식하는 만큼 신을 더 잘 인식하게 되는가?
 ㄷ. 인간의 본질은 욕망이 아닌 이성으로서 규정되어야 하는가?
 ㄹ. 신은 자기 본성의 필연성만을 따르므로 자유로운 존재인가?

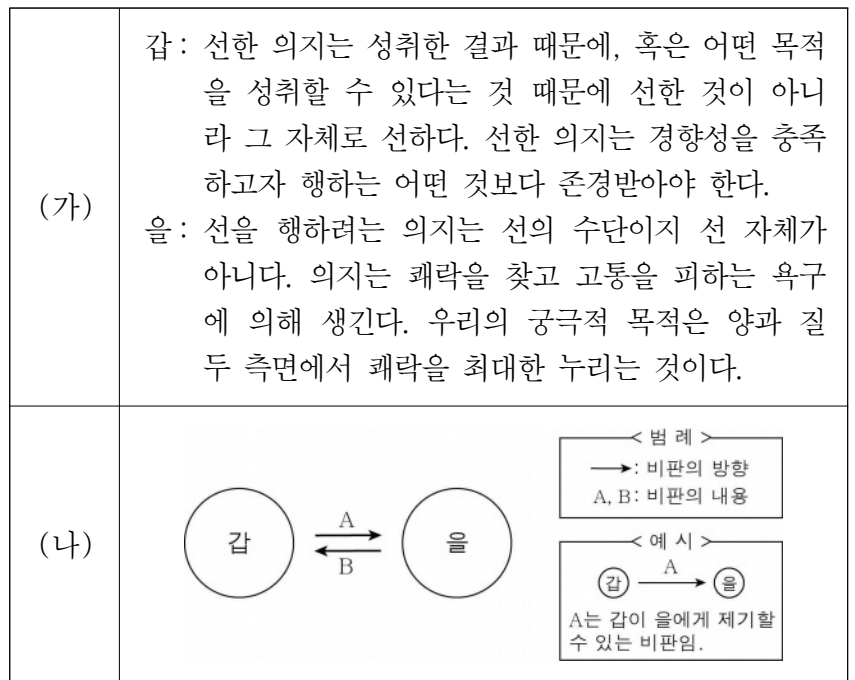
- ① ㄱ, ㄴ ② ㄱ, ㄷ ③ ㄴ, ㄷ ④ ㄴ, ㄹ ⑤ ㄷ, ㄹ

18. 다음을 주장한 고대 동양 사상가의 입장으로 가장 적절한 것은?

샘이 말라 물고기가 모두 땅 위에 드러났다. 서로 물기를 뿜어 주고 거품으로 적셔 도움을 주지만, 강이나 호수에서 서로를 잊고 사는 것이 더 좋다. 요임금을 칭송하고 결왕을 비난하지만, 두 사람을 잊고 도(道)에 동화되어 사는 것이 더 좋다. 도는 함이 없고[無爲] 형체가 없으며[無形] 스스로가 근본이다.

- ① 사유 활동을 멈추고 오감(五感)으로 도를 발견해야 한다.
- ② 인의를 벗어나 자연을 따르며 자유롭게 살아야[逍遙] 한다.
- ③ 마음을 깨끗하게 비워[心齋] 타고난 본성을 변화시켜야 한다.
- ④ 성인(聖人)이 제정한 예를 따르며 무위의 덕을 실현해야 한다.
- ⑤ 제물(齊物)의 관점에서 시비를 분별하고 인륜을 구현해야 한다.

19. (가)의 근대 서양 사상가 갑, 을의 입장에서 서로에게 제기할 수 있는 비판을 (나) 그림으로 표현할 때, A, B에 해당하는 내용으로 가장 적절한 것은? [3점]



- ① A: 어떤 감정도 도덕적 행위를 일으킬 수 없음을 간과한다.
- ② A: 개인의 자기희생이 그 자체로 선한 것은 아님을 간과한다.
- ③ A: 행복을 위한 행위는 모두 도덕적 가치가 없음을 간과한다.
- ④ B: 선한 의지를 갖춰야 행복을 누릴 자격이 있음을 간과한다.
- ⑤ B: 의지는 행위의 도덕성을 평가하는 근거가 아님을 간과한다.

20. 이상 사회에 대한 사회사상가 갑, 을의 입장으로 가장 적절한 것은?

갑: 유토피아의 사람들은 대부분 농사에 종사하며 10년마다 추첨을 통해 집을 바꾼다. 사유 재산이 없고 물품이 풍족하여 사람들이 허영심을 가지지 않는다.

을: 자유로운 인간들의 연합체가 계급 대립으로 얼룩진 부르주아 사회 대신에 나타난다. 이 연합체 안에서 노동은 생활을 위한 수단이자 삶의 기본적 욕구가 된다.

- ① 갑: 물질적 재화가 풍부하지만 사람들이 검소하게 살아간다.
- ② 갑: 법률과 제도는 없지만 사회 질서가 자율적으로 유지된다.
- ③ 을: 구성원들의 인간다운 삶이 국가에 의해 완전히 보장된다.
- ④ 을: 자본가와 노동자의 공동 노력으로 노동 소외가 사라진다.
- ⑤ 갑과 을: 생산 수단의 사적 소유로 생산력이 고도로 발전한다.

*** 확인 사항**

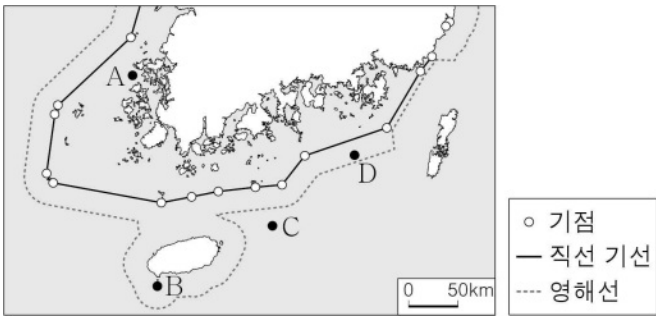
- 답안지의 해당란에 필요한 내용을 정확히 기입(표기)했는지 확인하시오.

제 4 교시

사회탐구 영역 (한국지리)

성명 수험번호 3 제 () 선택

1. 지도의 A~D에 대한 설명으로 옳은 것은?



- ① A에서 간척 사업이 이루어지면 영해의 범위는 확대된다.
- ② B에는 종합 해양 과학 기지가 건설되어 있다.
- ③ C는 한·일 중간 수역에 위치한다.
- ④ D는 직선 기선으로부터 12해리 이내에 위치한다.
- ⑤ A~D의 수직 상공은 모두 우리나라의 영공이다.

2. 다음은 한국지리 온라인 수업 장면의 일부이다. 답글의 내용이 옳은 학생을 고른 것은? [3점]

한국지리 온라인 수업 x +

교사: 지도의 A~E 지역에 대해 답글을 달아 볼까요?
 갑: A에는 경원선 철도의 종착역이 있어요.
 을: B에는 우리나라에서 해발 고도가 가장 높은 산이 있어요.
 병: C에는 북한 최초의 경제특구(경제 무역 지대)가 있어요.
 정: D에는 북한에서 인구가 가장 많은 도시가 있어요.
 무: E에는 서해 갑문이 건설되어 있어요.

- ① 갑 ② 을 ③ 병 ④ 정 ⑤ 무

3. 다음 글의 ㉠~㉣에 대한 설명으로 옳은 것만을 <보기>에서 고른 것은? [3점]

『난장이가 쏘아 올린 작은 공』은 ㉠급속한 도시화가 나타난 ㉡1970년대를 배경으로 하고 있다. 작품에서는 도시 재개발로 터전을 잃은 가족의 이야기를 통해 ㉢철거 재개발 방식의 어두운 면을 묘사하였다. 이후 원거주민의 재정착률을 높일 수 있는 ㉣수복 재개발 방식에 대한 사회적 관심이 높아졌다.

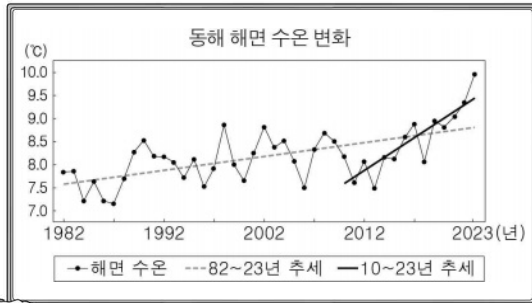
< 보 기 >

㉠. ㉠으로 인해 주택 부족, 교통 혼잡 등의 문제가 발생하였다.
 ㉡. ㉡ 시기에 개발 제한 구역이 처음 지정되었다.
 ㉢. ㉢은 ㉣보다 기존 건물의 활용도가 높다.
 ㉣. ㉣은 ㉢보다 재개발에 투입되는 자본의 규모가 크다.

- ① ㉠, ㉡ ② ㉠, ㉢ ③ ㉡, ㉢
- ④ ㉡, ㉣ ⑤ ㉢, ㉣

4. 다음 자료의 (가) 현상이 지속될 경우 우리나라에서 나타날 변화에 대한 추론으로 옳은 것은?

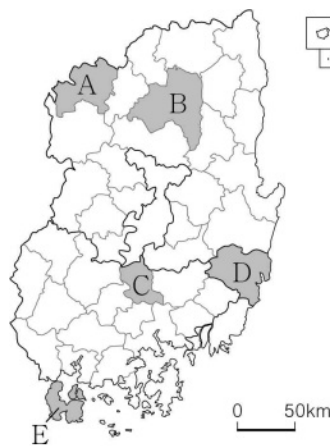
올해 봄철 동해 평균 해면 수온이 최근 40년 중 가장 높은 수치였다면 어떨까요?
 네. 특히, 최근 10여 년간 해면 수온의 상승이 가파르게 나타나고 있는데요. 이러한 변화의 주요 원인은 (가) 현상이 꼽힙니다.



- ① 한강의 결빙 일수가 감소할 것이다.
- ② 굴의 재배 북한계선이 남하할 것이다.
- ③ 개마고원의 냉대림 분포 면적이 넓어질 것이다.
- ④ 치악산에서 단풍이 드는 시기가 빨라질 것이다.
- ⑤ 대구의 열대야와 열대일 발생 일수가 감소할 것이다.

5. 다음 자료의 (가)~(다) 지역을 지도의 A~E에서 고른 것은?



| (가) | (나) | (다) |
|--|--|---|
| | | |
| <출사동이> | <우포따오기> | <해울이> |
| 영남 관문 도시의 마스코트로 과거 시험에 급제한 선비가 웃으며 조령을 넘어오는 모습을 표현함. | 람사르 습지인 우포늪이 위치한 지역의 마스코트로 환경 보전의 중심 지역임을 상징하는 따오기를 표현함. | 자동차, 조선 공업 등이 발달한 도시의 마스코트로 지역의 역사와 문화를 대표하는 고래를 표현함. |



- | | | | |
|---|-----|-----|-----|
| | (가) | (나) | (다) |
| ① | A | B | E |
| ② | A | C | D |
| ③ | B | C | D |
| ④ | B | D | E |
| ⑤ | C | E | A |

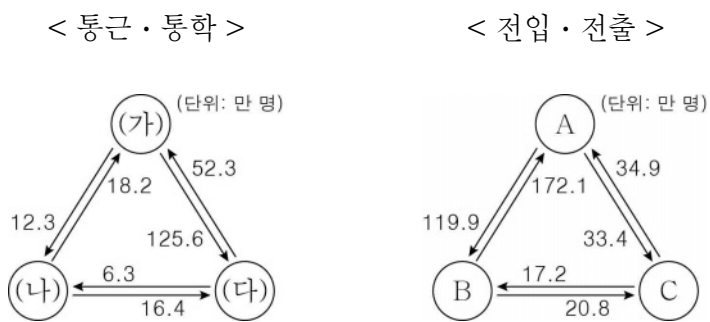
한국지리

6. 다음 자료는 두 지역의 축제를 나타낸 것이다. (가), (나)의 기 후 특징에 대한 설명으로 옳은 것은? (단, (가), (나)는 각각 겨울, 여름 중 하나임.)

| | | |
|--------|---|---|
| 개최 시기 | (가) | (나) |
| 축제 포스터 |  |  |

- ① (가)에는 서고동저형의 기압 배치가 전형적으로 나타난다.
- ② (나)에는 장마와 열대 저기압에 의해 피해가 발생한다.
- ③ (가)는 (나)보다 상대 습도가 높다.
- ④ (가)는 (나)보다 평균 풍속이 빠르다.
- ⑤ (나)는 (가)보다 남북 간의 기온 차이가 작다.

7. 다음 자료는 수도권 의 시·도 간 인구 이동 특성을 나타낸 것이다. 이에 대한 설명으로 옳은 것은? (단, (가)~(다), A~C는 각각 경기, 서울, 인천 중 하나임.) [3점]



* 통근·통학 인구 이동은 2020년 평균치이며, 전입·전출 인구 이동은 2018~2022년 합계임.

- ① (가)는 주간 인구가 상주인구보다 많다.
- ② (다)는 전입 인구가 전출 인구보다 많다.
- ③ (가)는 (나)보다 외국인 근로자 수가 많다.
- ④ A는 B보다 통근·통학 순 유입이 많다.
- ⑤ C는 B보다 인구 밀도가 높다.

8. 다음 글의 ㉠~㉣에 대한 설명으로 옳지 않은 것은? [3점]

㉠ 낮은 합계 출산율이 지속되면서 저출산 문제가 큰 사회적 이슈로 떠오르고 있다. ㉡ 저출산 현상의 원인 분석, 정부의 다양한 정책적 지원이 이루어지고 있지만, 상황은 반전되지 않고 있다. 또한, 기대 수명의 증가 등으로 ㉢ 노년층 인구 비율이 증가하면서 고령화 문제에 대응하는 정책의 필요성이 강조되고 있다. ㉣ 저출산·고령화 현상은 정주 여건의 차이로 인해 지역별로 다른 양상을 보이며, ㉤ 인구 분포의 공간적 불평등을 심화시킨다.

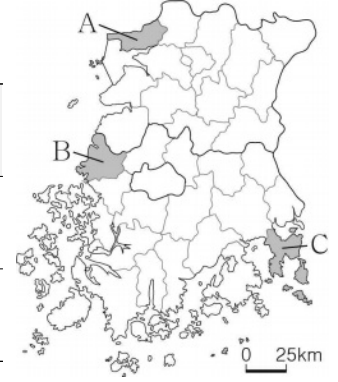
- ① ㉠은 장기적으로 생산 가능 인구나 총인구 감소를 초래한다.
- ② ㉡으로 자녀 양육 비용 증가, 고용 불안 등이 있다.
- ③ ㉢은 세종이 전남보다 높게 나타난다.
- ④ ㉣이 지속되면 노령화 지수는 증가한다.
- ⑤ ㉤의 사례로 수도권과 비수도권 간의 인구 격차가 있다.

9. 다음 자료는 소규모 테마형 교육 여행 안내문의 일부이다. (가)~(다)에 들어갈 가장 적절한 탐구 활동을 <보기>에서 고른 것은?

< 소규모 테마형 교육 여행 안내 >

학부모님 안녕하십니까? 우리 학교는 세 모듬으로 나누어 호남권으로 소규모 테마형 교육 여행을 가고자 합니다. 모듬별 여행 지역과 탐구 활동 내용을 확인하시길 바랍니다.

| | | | |
|-------|-------|-------|-------|
| | ○○ 모듬 | △△ 모듬 | □□ 모듬 |
| 여행 지역 | A | B | C |
| 탐구 활동 | (가) | (나) | (다) |

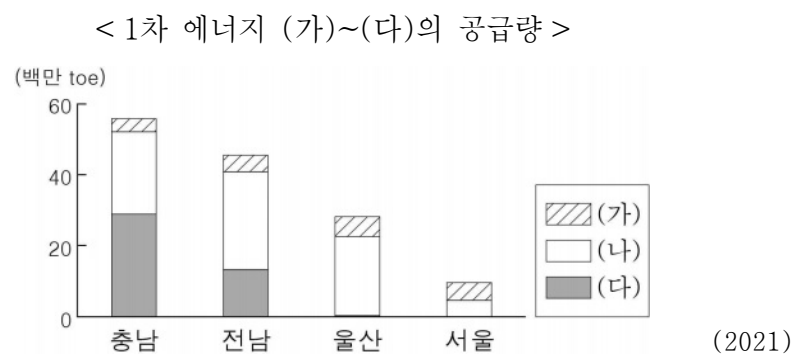


< 보 기 >

ㄱ. 우리나라에서 가장 긴 방조제 및 뜬다리 부두 탐방
 ㄴ. 원자력 발전소 견학 및 지역 특산물인 굴비 맛보기
 ㄷ. 대규모 석유 화학 단지 견학 및 엑스포 해양 공원 방문

- | | | | | | | | |
|---|-----|-----|-----|---|-----|-----|-----|
| | (가) | (나) | (다) | | (가) | (나) | (다) |
| ① | ㄱ | ㄴ | ㄷ | ② | ㄱ | ㄷ | ㄴ |
| ③ | ㄴ | ㄱ | ㄷ | ④ | ㄷ | ㄱ | ㄴ |
| ⑤ | ㄷ | ㄴ | ㄱ | | | | |

10. 그래프에 대한 설명으로 옳은 것만을 <보기>에서 있는 대로 고른 것은? (단, (가)~(다)는 각각 석유, 석탄, 천연가스 중 하나임.) [3점]

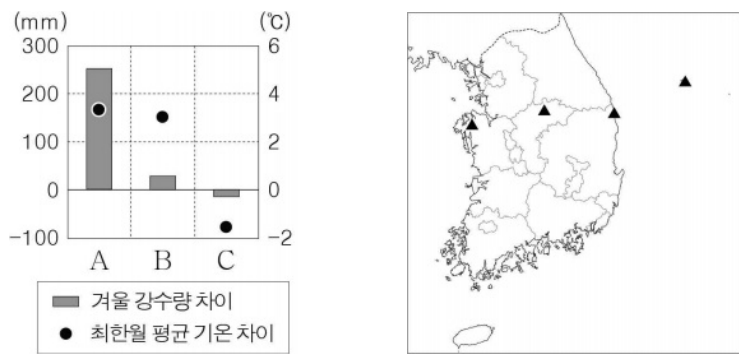


< 보 기 >

ㄱ. (가)는 (다)보다 발전 시 대기 오염 물질 배출량이 많다.
 ㄴ. (나)는 (가)보다 상용화된 시기가 이르다.
 ㄷ. (다)는 (나)보다 수송용으로 이용되는 비율이 높다.
 ㄹ. 우리나라 1차 에너지 소비량에서 차지하는 비율은 (나) > (다) > (가) 순으로 높다.

- | | | |
|-----------|-----------|--------|
| ① ㄱ, ㄴ | ② ㄱ, ㄷ | ③ ㄴ, ㄹ |
| ④ ㄱ, ㄷ, ㄹ | ⑤ ㄴ, ㄷ, ㄹ | |

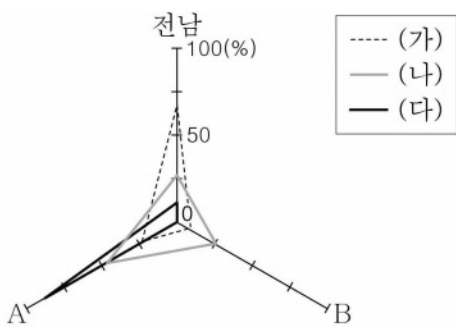
11. 그래프는 A~C 지역과 (가) 지역 간의 기후 값 차이를 나타낸 것이다. 이에 대한 설명으로 옳은 것은? (단, A~C, (가)는 각각 지도에 표시된 네 지역 중 하나임.) [3점]



* 기후 값 차이 = 해당 지역의 기후 값 - (가) 지역의 기후 값
 ** 1991 ~ 2020년의 평년값임.

- ① (가)는 네 지역 중 일출 시각이 가장 이르다.
- ② A는 겨울 강수량이 여름 강수량보다 많다.
- ③ B는 C보다 여름 강수 집중률이 높다.
- ④ C는 A보다 무상 기간이 길다.
- ⑤ (가)는 B보다 기온의 연교차가 크다.

12. 그래프는 재생 에너지원별 세 지역의 발전량 비율을 나타낸 것이다. (가)~(다) 에너지에 대한 설명으로 옳은 것은? (단, (가)~(다)는 각각 수력, 태양광, 풍력 중 하나이고, A, B는 각각 강원, 제주 중 하나임.) [3점]

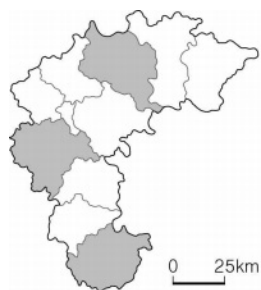


* 발전 양식별 세 지역의 발전량 합을 100%로 함.
 ** 수력은 양수식을 제외함.
 (2021)

- ① (가)는 유량이 풍부하고 낙차가 큰 지역이 발전에 유리하다.
- ② (가)는 (나)보다 낮과 밤의 발전량 차이가 작다.
- ③ (나)는 (다)보다 제주에서의 발전량이 적다.
- ④ (다)는 (가)보다 우리나라에서 상용화된 시기가 이르다.
- ⑤ (가)~(다) 중 전국 발전량은 (나)가 가장 많다.

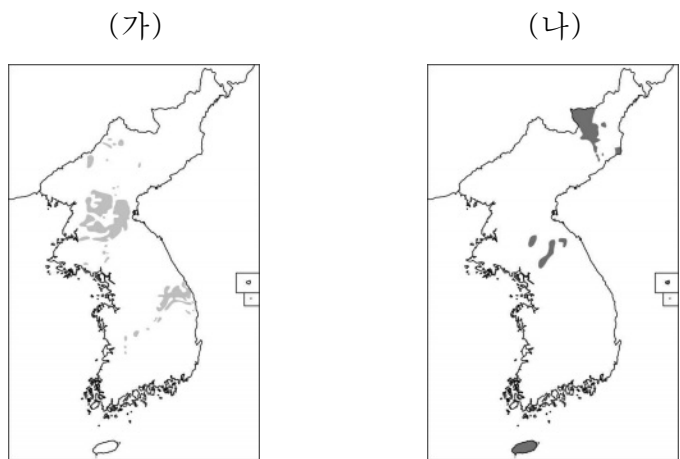
13. 표는 지도에 표시된 세 지역의 유형별 의료 기관 수를 나타낸 것이다. 이에 대한 설명으로 옳은 것은? (단, A~C는 각각 병원, 의원, 종합병원 중 하나임.)

| 지역 | 의료 기관 (단위: 개) | | |
|-----|---------------|----|-----|
| | A | B | C |
| (가) | 6 | 24 | 518 |
| (나) | 2 | 4 | 128 |
| (다) | 0 | 1 | 26 |



- ① (나)는 (가)보다 총인구가 많다.
- ② (다)는 (나)보다 중심지 기능이 다양하다.
- ③ (가), (다)는 모두 충청도라는 지명 유래가 된 지역이다.
- ④ A는 B보다 서비스를 제공하는 공간적 범위가 넓다.
- ⑤ C는 B보다 의료 기관당 일일 평균 방문 환자 수가 많다.

14. 지도는 (가), (나) 암석의 분포 지역을 나타낸 것이다. 이에 대해 옳게 설명한 내용에만 있는 대로 ○ 표시한 학생을 고른 것은? (단, (가), (나)는 각각 석회암, 신생대 화산암 중 하나임.)



| 내용 | 학생 | | | | |
|--|----|---|---|---|---|
| | 갑 | 을 | 병 | 정 | 무 |
| (가)의 용식 작용으로 형성된 동굴에는 중유석, 석순 등이 발달한다. | ○ | ○ | ○ | | ○ |
| (나)는 마그마가 분출한 후 굳어져 형성되었다. | ○ | | ○ | ○ | ○ |
| (나)는 (가)보다 형성 시기가 이르다. | | ○ | ○ | ○ | |
| (가), (나) 분포 지역은 밭보다 논이 면적 비율이 높다. | ○ | | | ○ | |

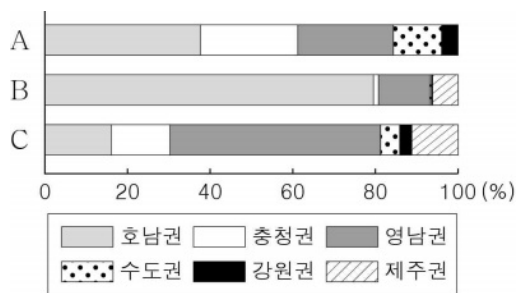
- ① 갑 ② 을 ③ 병 ④ 정 ⑤ 무

15. 다음 <조건>을 모두 만족하는 (가)~(다) 작물을 그래프의 A~C에서 고른 것은? (단, (가)~(다)는 각각 과수, 맥류, 벼(쌀) 중 하나임.) [3점]

< 조 건 >

- (가)는 (나)보다 국내 자급률이 높다.
- (나)는 (다)보다 전국 생산량에서 제주권이 차지하는 비율이 높다.
- (가)~(다) 중 (가)는 전국 재배 면적이 가장 넓다.

<(가)~(다) 작물의 권역별 재배 면적 비율>



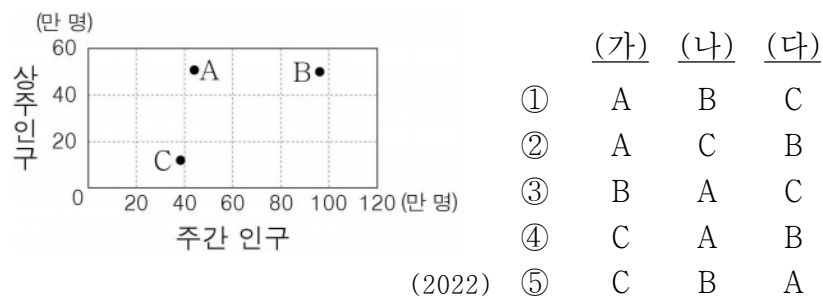
(가) (나) (다)

- ① A B C
- ② A C B
- ③ B A C
- ④ B C A
- ⑤ C A B


* 노지 재배 면적 기준임. (2022)

16. 다음 자료는 서울의 세 구(區)에 대한 설명이다. (가)~(다)를 그래프의 A~C에서 고른 것은? [3점]

- (가)는 서울의 동북부에 있는 구(區)로, 1980년대에 대규모 아파트 단지를 건설하면서 인구가 급증하였으며 법정동이 5개뿐이지만 행정동은 현재 19개에 달한다.
- (나)는 서울의 동남부에 있는 구(區)로, 1960년대에 서울의 부도심으로 계획되어 대규모 주택 단지와 상업·업무 시설이 조성되었다.
- (다)는 서울의 중심부에 있는 구(區)로, 은행 본점, 시청 등의 중추 관리 기능이 집중되어 있으며 여러 지하철 노선이 통과하는 교통의 요충지이다.



17. 사진의 A~D 지형에 대한 설명으로 옳은 것은? (단, A~D는 각각 갯벌, 사빈, 석호, 암석 해안 중 하나임.)



- ① A는 시간이 지남에 따라 면적이 점차 확대된다.
- ② B는 주로 조류의 퇴적 작용으로 형성된다.
- ③ C는 파랑 에너지가 분산되는 만에 잘 발달한다.
- ④ D는 동해안보다 서해안에 넓게 분포한다.
- ⑤ D는 B보다 퇴적 물질의 평균 입자 크기가 크다.

18. 다음 자료의 ㉠~㉣에 대한 설명으로 옳은 것은?

| | |
|------------------|---|
| ㉠ ○○○산 (1,947 m) | 산 정상부에 ㉡ 백록담이 있고, 독특한 화산 지형의 가치를 인정받아 세계 자연 유산으로 등재됨. |
| ㉢ △△산 (1,708 m) | 수많은 고개와 대청봉, 울산바위 등의 명소가 있으며 국립공원 및 생물권 보전 지역으로 지정됨. |
| ㉣ ◎◎산 (1,915 m) | 영호남의 경계에 위치하며 천왕봉을 주봉으로 거대한 산악군을 이루고 국립공원 제1호로 지정됨. |

- ① ㉠은 중생대 이전에 형성되었다.
- ② ㉡은 분화구의 함몰로 형성된 칼데라호이다.
- ③ ㉢이 속한 산맥은 1차 산맥에 해당한다.
- ④ ㉣의 주된 기반암은 시멘트 공업의 주원료로 이용된다.
- ⑤ ㉠은 ㉣보다 고위도에 위치한다.

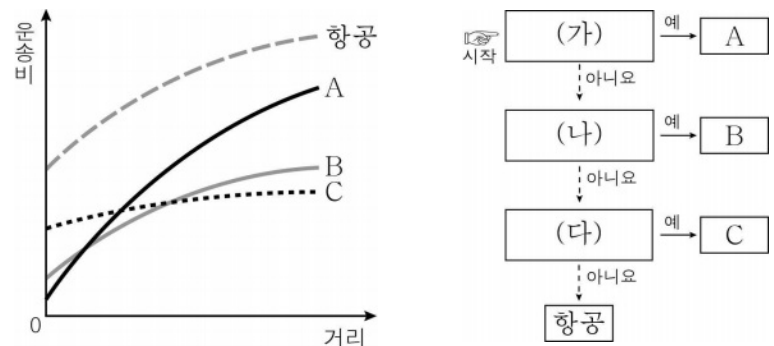
19. 다음은 한국지리 수업 장면의 일부이다. ㉠~㉣에 대한 설명으로 옳지 않은 것은?

교사: 도시화에 따른 △△시 □□동의 변화를 ㉠ 지역 조사 순서에 맞춰 탐구해볼까요?
 갑: 조사 지역으로 선정된 ㉢ △△시 □□동의 위치를 찾아보고, 과거와 현재의 경관 변화를 ㉡ 항공 사진과 인터넷 지도를 이용하여 조사하겠습니다.
 을: 도시화로 인한 지역의 인구 변화를 살펴보고, 지역 변화에 대한 ㉣ 주민들의 인식을 조사하겠습니다.
 병: 수집한 지리 정보를 정리해 그래프와 ㉣ 통계 지도로 표현하고 보고서로 작성하겠습니다.

- ① ㉠은 지리 정보를 수집하고 분석해 지역성을 파악하는 활동이다.
- ② ㉡은 지리 정보의 유형 중 공간 정보에 해당한다.
- ③ ㉢은 지역 조사 과정 중 실내 조사에 해당한다.
- ④ ㉣은 주로 원격 탐사를 통해 수집한다.
- ⑤ 단계 구분도, 도형 표현도, 유선도는 ㉣에 해당한다.

20. 다음 자료는 교통수단의 특성을 나타낸 것이다. 이에 대한 설명으로 옳은 것만을 <보기>에서 고른 것은? (단, A~C는 각각 도로, 철도, 해운 중 하나임.) [3점]

< 교통수단별 운송비 구조 >



< 보 기 >

- ㄱ. (가)에는 “기종점 비용이 가장 저렴합니까?”가 들어갈 수 있다.
- ㄴ. (나)에는 “평균 운행 속도가 가장 빠릅니까?”가 들어갈 수 있다.
- ㄷ. (다)에는 “국제 화물 수송 분담률이 가장 높습니까?”가 들어갈 수 있다.
- ㄹ. A~C 중 주행 비용 증가율은 C가 가장 높다.

- ① ㄱ, ㄴ ② ㄱ, ㄷ ③ ㄴ, ㄷ
- ④ ㄴ, ㄹ ⑤ ㄷ, ㄹ

* 확인 사항

- 답안지의 해당란에 필요한 내용을 정확히 기입(표기)했는지 확인하십시오.

제 4 교시

사회탐구 영역 (세계지리)

| | | | | | | | | | | |
|----|--|------|--|--|--|---|--|--|--|----------|
| 성명 | | 수험번호 | | | | 3 | | | | 제 () 선택 |
|----|--|------|--|--|--|---|--|--|--|----------|

1. 표는 (가), (나) 국가의 지리 정보를 나타낸 것이다. 이에 대한 설명으로 옳은 것은?

| 구분 | (가) | (나) |
|---------------------|--------------------|-----------------|
| 국토의 모양과 ㉠ 수리적 위치 | | |
| 수도 | A | B |
| ㉡ 인구(백만 명) | 64.5 | 33.7 |
| 연관 검색어 | 루브르 박물관, 보르도 와인 | 마추픽추, 잉카의 후예 |


(2021)

- ① (가)는 (나)보다 국가 내 에스파냐어 사용자 비율이 높다.
- ② (나)는 (가)보다 인구 밀도가 높다.
- ③ A는 B보다 7월의 낮 길이가 길다.
- ④ ㉠은 속성 정보에 해당한다.
- ⑤ ㉡은 원격 탐사를 통해서 수집된 정보이다.


2. 다음 자료의 (가)~(다) 종교에 대한 설명으로 옳은 것은? (단, (가)~(다)는 각각 불교, 이슬람교, 힌두교 중 하나임.)

<인도에서 만날 수 있는 종교 경관>


- 타지마할은 무굴 제국의 황제가 왕비의 죽음을 추모하기 위해 세운 건축물이다. 돛형 지붕과 첨탑, 아라베스크 장식은 **(가)**의 문화적 특징이 반영된 건축 양식이다.
- 바라나시에 있는 갠지스강은 **(나)**의 대표적인 성지이다. 신자들은 이 강에서 목욕을 하며 기도 의식을 행하면 죄를 씻을 수 있다고 믿는다.
- 부다가야에 있는 마하보디 사원은 **(다)**의 창시자가 깨달음을 얻은 장소이다. 윤회 사상을 중시하며 자비와 해탈을 강조하는 이 종교는 동남아시아 및 동아시아 일대로 전파되었다.



<타지마할>



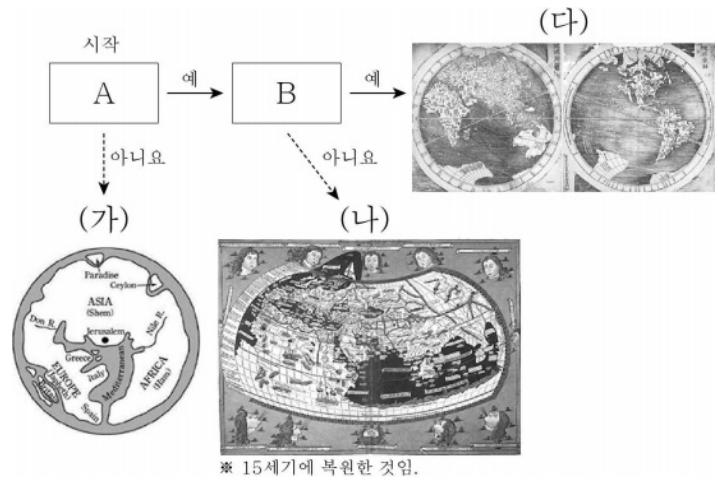
<갠지스강>



<마하보디 사원>

- ① (가)는 돼지고기를 금기시한다.
- ② (나)는 유일신교이다.
- ③ (가)는 (다)보다 발생 시기가 이른다.
- ④ (나)는 보편 종교, (다)는 민족 종교이다.
- ⑤ 전 세계 신자 수는 (다) > (나) > (가) 순으로 많다.

3. 다음 자료는 (가)~(다) 지도를 A, B 기준에 따라 분류한 것이다. 이에 대한 설명으로 옳지 않은 것은?



- ① A에는 '지구 구체설(球體說)을 토대로 제작되었습니까?'가 들어갈 수 있다.
- ② B에는 '아메리카 대륙이 표현되어 있습니까?'가 들어갈 수 있다.
- ③ (가)는 지도의 위쪽이 북쪽이다.
- ④ (가)는 (다)보다 종교적 세계관이 뚜렷하게 반영되어 있다.
- ⑤ (다)는 (나)보다 최초로 제작된 시기가 늦다.

4. 다음 자료는 여행 후 작성한 온라인 게시물이다. (가), (나) 지역에서 나타나는 기후를 그래프의 A~D에서 고른 것은? (단, A~D는 각각 건조 기후, 냉대 기후, 열대 기후, 온대 기후 중 하나임.) [3점]

(가)

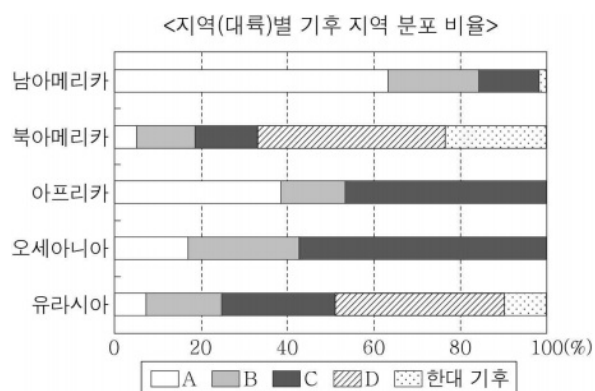


사막에 피어난 꽃을 형상화한 초고층 빌딩에서 쇼핑을 마치고 낙타 체험을 하러 갔어요.
#부르즈_할리파 #낙타_체험

(나)

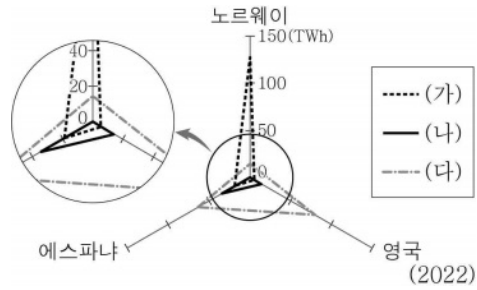


이슬비가 내리는 날, 유람선을 타고 가며 강변의 시계탑을 배경으로 기념 사진을 남겼어요.
#빅_벤 #템스강



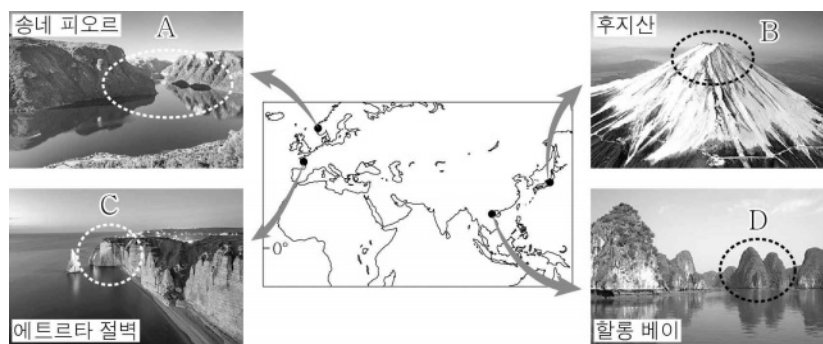
- | | | |
|---|-----|-----|
| | (가) | (나) |
| ① | A | B |
| ② | A | C |
| ③ | C | B |
| ④ | C | D |
| ⑤ | D | A |

5. 그래프는 세 국가의 (가)~(다) 재생 에너지 발전량을 나타낸 것이다. (가)~(다)에 해당하는 재생 에너지로 옳은 것은? [3점]



- | | (가) | (나) | (다) |
|---|--------|--------|--------|
| ① | 수력 | 태양광(열) | 풍력 |
| ② | 수력 | 풍력 | 태양광(열) |
| ③ | 태양광(열) | 수력 | 풍력 |
| ④ | 풍력 | 태양광(열) | 수력 |
| ⑤ | 풍력 | 수력 | 태양광(열) |


6. 다음 자료의 A~D 지형에 대한 설명으로 옳은 것만을 <보기>에서 고른 것은?



- < 보 기 >
- ㄱ. A는 V자곡이 침수되어 형성되었다.
 - ㄴ. B는 성층 화산체의 일부이다.
 - ㄷ. C는 곳보다 만에서 주로 발달한다.
 - ㄹ. D의 주요 기반암은 석회암이다.

- ① ㄱ, ㄴ ② ㄱ, ㄷ ③ ㄴ, ㄷ ④ ㄴ, ㄹ ⑤ ㄷ, ㄹ

7. 그래프는 세 국가에 거주하는 국제 이주자의 출신 국가별 비율을 나타낸 것이다. (가)~(다) 국가에 대한 설명으로 옳은 것은? (단, (가)~(다)는 각각 미국, 아랍 에미리트, 프랑스 중 하나임.) [3점]



- * 2020년에 조사된 자료임.
- ① (가)에 거주하는 국제 이주자는 남성보다 여성이 많다.
 - ② (다)는 유럽에 위치한다.
 - ③ (가)는 (나)보다 국가 내 이슬람교 신자의 비율이 높다.
 - ④ (가)는 (다)보다 총인구가 많다.
 - ⑤ 라틴 아메리카로부터 유입된 인구는 (나)가 (다)보다 많다.

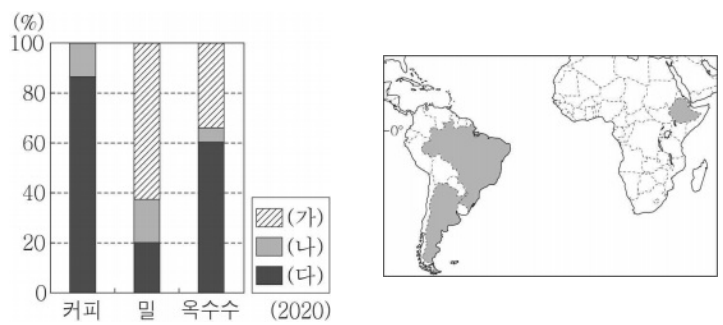
8. 다음 글의 ㉠~㉣에 대한 설명으로 옳은 것만을 <보기>에서 있는 대로 고른 것은? [3점]

유럽 통합의 노력에도 불구하고 유럽 내 개별 국가에서는 문화적 차이와 경제적 상황에 따른 갈등이 곳곳에 남아 있다. ㉠은/는 ㉡어를 주로 사용하는 플랑드르 지역과 프랑스어를 주로 사용하는 왈로니아 지역의 갈등이 나타나는 국가이다. 이탈리아 북부의 ㉢파다니아 지역에서는 분리 독립을 요구하는 움직임이 나타나고 있다.

- < 보 기 >
- ㄱ. ㉡에는 유럽 연합(EU) 본부가 있다.
 - ㄴ. ㉢은 이탈리아의 남부 지역보다 경제적 수준이 높다.
 - ㄷ. ㉠과 ㉡ 간에는 생산 요소의 자유로운 이동이 보장된다.

- ① ㄱ ② ㄴ ③ ㄷ ④ ㄱ, ㄴ ⑤ ㄴ, ㄷ

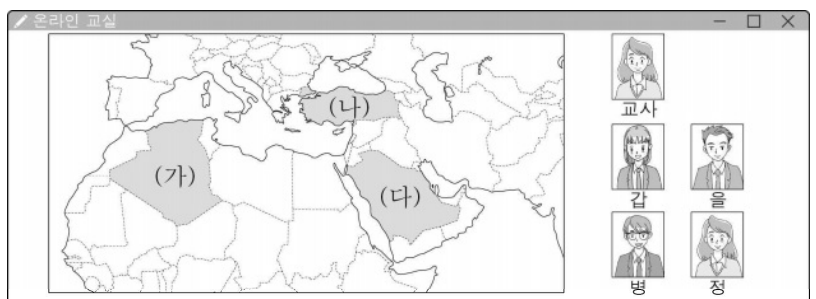
9. 그래프는 세 작물의 국가별 생산량 비율을 나타낸 것이다. (가)~(다) 국가에 대한 설명으로 옳은 것은? (단, (가)~(다)는 각각 지도에 표시된 세 국가 중 하나임.) [3점]



* 각 작물별 세 국가의 생산량 합을 100%로 함.

- ① (가)는 (다)보다 열대림의 면적이 넓다.
- ② (나)는 (가)보다 도시화율이 높다.
- ③ (나)는 (다)보다 소 사육 두수가 많다.
- ④ (다)는 (나)보다 철광석 생산량이 많다.
- ⑤ (가)와 (나)는 모두 대서양과 접해 있다.

10. 다음은 세계지리 수업 장면의 일부이다. 교사의 질문에 옳게 대답한 학생만을 고른 것은?



교사: 지도의 (가)~(다) 국가에 대해 발표해 볼까요?
 갑: (가)는 걸프 협력 회의의 회원국이에요.
 을: (나)에는 아시아와 유럽을 잇는 도시인 이스탄불이 있어요.
 병: (다)의 이슬람교 신자는 수니파보다 시아파가 많아요.
 정: (다)는 (나)보다 석유 매장량이 많아요.

- ① 갑, 을 ② 갑, 병 ③ 을, 병 ④ 을, 정 ⑤ 병, 정

11. 다음 자료의 (가), (나) 도시에 대한 설명으로 옳은 것만을 <보기>에서 고른 것은? [3점]

| (가) | (나) |
|---|---|
| | |
| <ul style="list-style-type: none"> ○ 허드슨강 하구에 자리하고 있으며 자유의 여신상으로 유명함. ○ 맨해튼의 중심에는 시민들의 휴식 공간인 센트럴 파크가 있음. | <ul style="list-style-type: none"> ○ 라플라타강 하구에 자리하고 있으며 탱고가 시작된 곳으로 유명함. ○ 에스파냐로부터 독립을 이끈 역사적 혁명이 일어났던 장소인 마요 광장이 있음. |

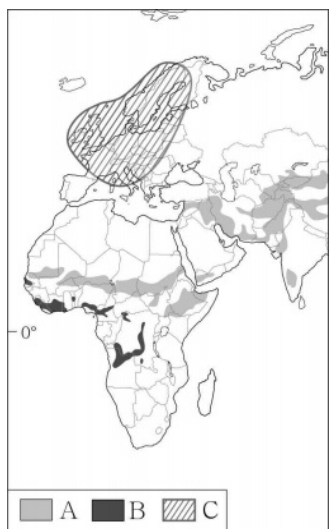
< 보 기 >

ㄱ. (가)에는 국제 연합(UN) 본부가 있다.
 ㄴ. (나)가 속한 국가에서는 종주 도시화 현상이 나타난다.
 ㄷ. (나)는 (가)보다 세계 금융시장에 미치는 영향력이 크다.
 ㄹ. (가), (나)는 모두 해당 국가의 수도이다.

- ① ㄱ, ㄴ ② ㄱ, ㄷ ③ ㄴ, ㄷ ④ ㄴ, ㄹ ⑤ ㄷ, ㄹ

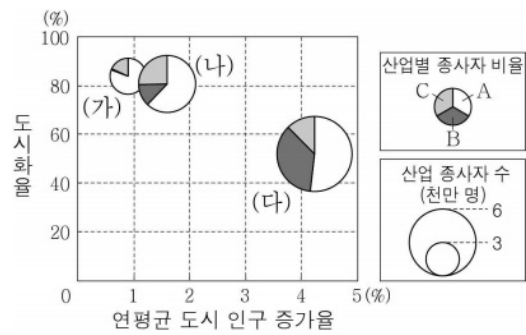
12. 다음 자료의 (가), (나)와 같은 환경 문제가 주로 나타나는 지역을 지도의 A~C에서 고른 것은? (단, (가), (나)는 각각 사막화, 산성비, 열대림 파괴 중 하나임.)

○ 몽골에서는 극심한 가뭄과 과도한 유목 등으로 **(가)**의 피해 지역이 확대되고 있다. 호수와 샘이 사라지고 초지가 감소하여 가축들의 먹이가 줄어들었다. 결국 대를 이어 살아온 유목민의 삶의 터전까지 위협받게 되었다.
 ○ 보르네오에 서식하는 오랑우탄은 개체 수가 크게 감소하여 심각한 멸종 위기종으로 지정되었다. 오랑우탄 개체 수 감소는 삼림 벌채, 팜유 농장 개발 등으로 인한 **(나)**가 주요 원인으로 지적되고 있다.



- | | | |
|---|-----|-----|
| | (가) | (나) |
| ① | A | B |
| ② | A | C |
| ③ | B | A |
| ④ | B | C |
| ⑤ | C | B |

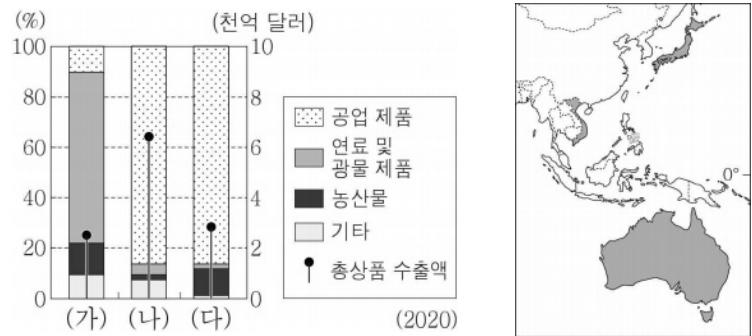
13. 그래프에 대한 설명으로 옳은 것은? (단, (가)~(다)는 각각 나이지리아, 멕시코, 영국 중 하나이고, A~C는 각각 1차 산업, 2차 산업, 3차 산업 중 하나임.) [3점]



* 연평균 도시 인구 증가율과 도시화율은 원그래프의 가운데 값임.
 ** 연평균 도시 인구 증가율은 2015~2020년, 도시화율과 산업별 종사자 비율 및 산업 종사자 수는 2020년 기준임.

- ① (가)에는 '마킬라도라'가 발달하였다.
 ② (나)는 촌락 인구가 도시 인구보다 많다.
 ③ (다)에는 최상위 세계 도시가 위치해 있다.
 ④ A는 3차 산업, B는 1차 산업이다.
 ⑤ 멕시코는 나이지리아보다 1차 산업 종사자 수가 많다.

14. 그래프는 지도에 표시된 세 국가의 상품별 수출 구조를 나타낸 것이다. (가)~(다) 국가에 대한 설명으로 옳은 것은? [3점]



- ① (가)는 (나)보다 제조업 종사자 수가 많다.
 ② (가)는 (다)보다 1인당 국내 총생산이 많다.
 ③ (나)는 (다)보다 청소년층 인구 비율이 높다.
 ④ (다)는 (나)보다 공업 제품의 수출액이 많다.
 ⑤ (가)~(다) 중 크리스마스 신자 비율은 (나)가 가장 높다.

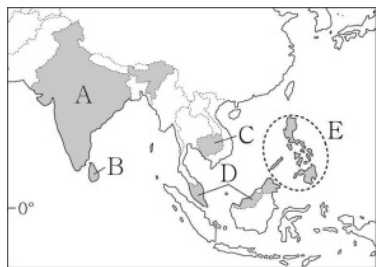
15. 다음 자료의 (가)~(다) 산맥과 관련된 설명으로 옳은 것은?

(가) 세계에서 가장 긴 산맥으로 알려져 있다. 이 산맥에서 발원하는 아마존강은 대서양으로 흘러든다. 라마와 알파카는 산지 주민들이 기르는 중요한 가축이다.
 (나) 세계에서 해발 고도가 가장 높은 산이 있는 산맥이다. 이 산맥에서 발원하는 갠지스강은 인도양으로 흘러든다. 야크는 산지 주민들에게 털과 고기를 제공한다.
 (다) 오세아니아에서 가장 긴 산맥이다. 이 산맥에서 발원하는 머리·달링강은 광활한 분지를 지나 남쪽 바다로 흘러든다. 산지의 주변에는 캥거루, 코알라 등이 서식한다.

- ① (가)는 대륙판과 대륙판의 충돌로 형성되었다.
 ② (나)는 알프스-히말라야 조산대에 속한다.
 ③ (가)는 (다)보다 산지 주변에 석탄의 매장량이 많다.
 ④ (나)는 (가)보다 화산 활동이 활발하다.
 ⑤ (나)는 (다)보다 형성 시기가 이른다.

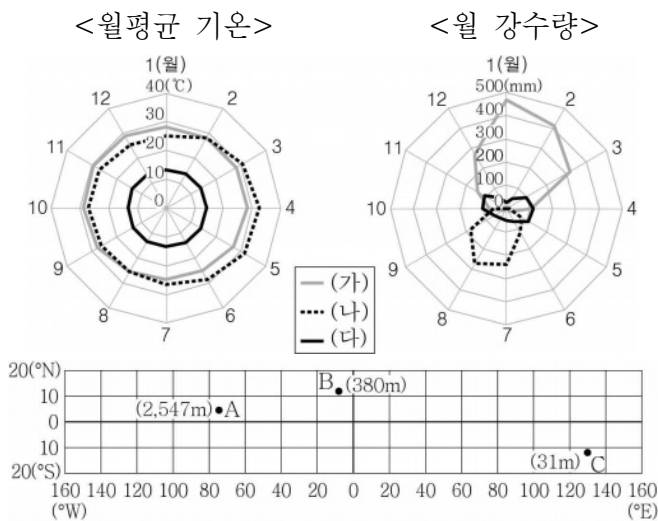
16. 다음 자료의 (가) 국가를 지도의 A~E에서 고른 것은?

(가)에서는 과거 에스파냐 식민 지배의 영향으로 크리스티교 신자의 비율이 높아 이와 관련된 종교 경관을 많이 볼 수 있다. 그중에서 '지진 바로크양식'은 지각이 불안정한 자연환경의 영향을 받은 독특한 건축 양식이다. 큰 버팀목과 위로 갈수록 얇고 가벼워지는 벽, 본당과 분리된 낮고 튼튼한 종탑 등은 이 건축 양식의 특징이다.



- ① A
- ② B
- ③ C
- ④ D
- ⑤ E

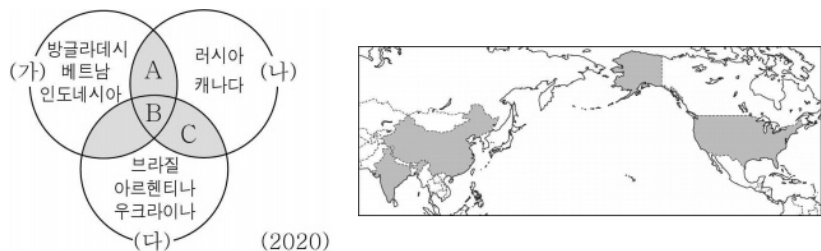
17. 그래프의 (가)~(다) 지역을 경위선망의 A~C에서 고른 것은?



* ()안의 숫자는 관측 지점의 해발 고도임.

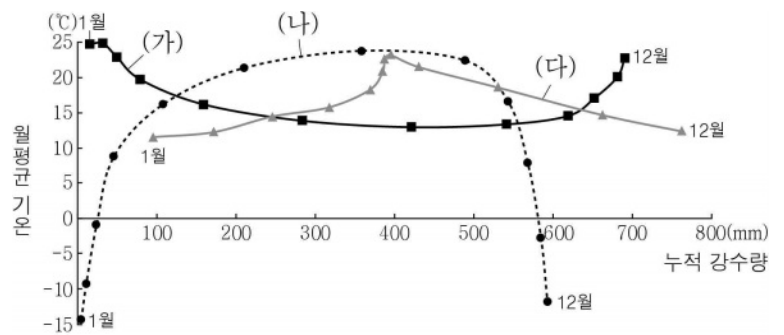
- | | | | | | | | |
|---|-----|-----|-----|---|-----|-----|-----|
| | (가) | (나) | (다) | | (가) | (나) | (다) |
| ① | A | B | C | ② | A | C | B |
| ③ | B | C | A | ④ | C | A | B |
| ⑤ | C | B | A | | | | |

18. 다음 자료는 세계 3대 식량 작물 (가)~(다)의 생산량 상위 5개국을 나타낸 것이다. 이에 대한 설명으로 옳은 것은? (단, A~C는 각각 지도에 표시된 세 국가 중 하나임.) [3점]

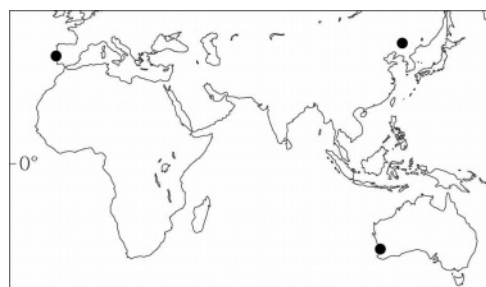


- ① (다)는 주로 논에서 재배된다.
- ② (나)는 (가)보다 세계 총 재배 면적이 넓다.
- ③ (가)~(다) 중 가축의 사료로 이용되는 양은 (가)가 가장 많다.
- ④ B는 A보다 (가)의 수출량이 많다.
- ⑤ C는 (다)보다 (나)를 많이 생산한다.

19. 그래프는 지도에 표시된 세 지역의 월평균 기온과 누적 강수량을 나타낸 것이다. (가)~(다) 지역에 대한 설명으로 옳은 것은? [3점]



* 누적 강수량은 1월부터 해당 월까지의 강수량을 합한 값임.



- ① (가)는 (나)보다 여름 강수 집중률이 높다.
- ② (다)는 (가)보다 7월에 아열대 고압대의 영향을 크게 받는다.
- ③ (다)는 (나)보다 기온의 연교차가 크다.
- ④ (가)는 북반구, (나)와 (다)는 남반구에 위치한다.
- ⑤ (가)~(다) 중 북회귀선과의 최단 거리는 (가)가 가장 짧다.

20. 다음 자료는 두 국가의 인구 정책에 관한 것이다. (가), (나) 국가에 대한 설명으로 옳은 것만을 <보기>에서 고른 것은? (단, (가), (나)는 각각 독일, 이집트 중 하나임.)

(가) 자녀가 두 명 이하인 기혼 여성에게 매년 지원금을 적립하여 45세가 되면 누적된 금액을 지급할 계획이다. 하지만 셋째 아이를 출산한 여성의 경우 누적 금액을 청구할 권리를 잃게 된다.

(나) 18세 이하의 모든 자녀에게 아동 수당을 지원하는데 넷째 이상의 자녀부터는 더 높은 금액을 지급한다. 이와 더불어 노동력 감소에 대응하기 위해 적극적인 이민자 유입 정책을 실시하고 있다.

< 보 기 >

- ㄱ. (가)는 노년 부양비가 유소년 부양비보다 높다.
- ㄴ. (나)는 유출 인구가 유입 인구보다 많다.
- ㄷ. (가)는 (나)보다 인구의 자연 증가율이 높다.
- ㄹ. (나)는 (가)보다 시간당 평균 임금 수준이 높다.

- ① ㄱ, ㄴ ② ㄱ, ㄷ ③ ㄴ, ㄷ ④ ㄴ, ㄹ ⑤ ㄷ, ㄹ

* 확인 사항


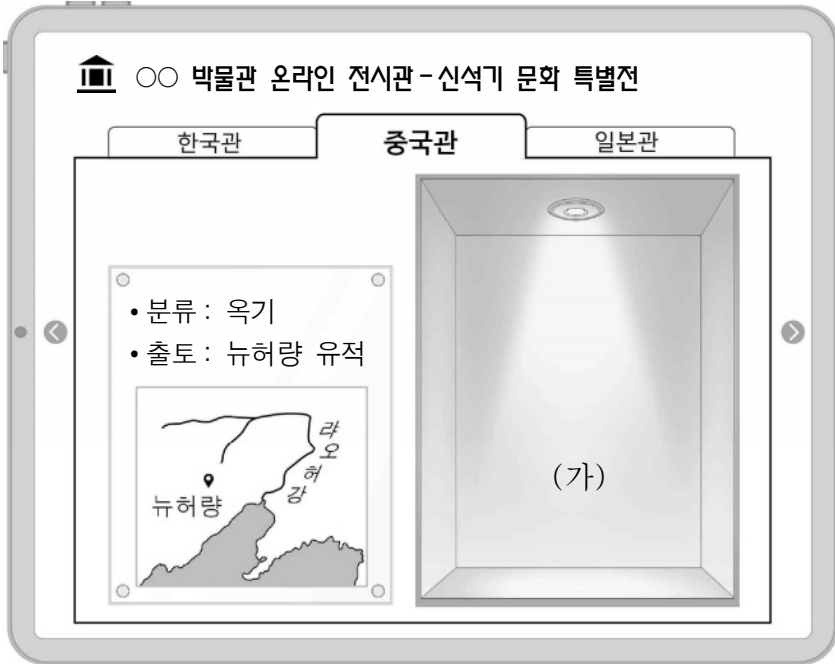
- 답안지의 해당란에 필요한 내용을 정확히 기입(표기)했는지 확인하십시오.

제 4 교시

사회탐구 영역(동아시아사)

| | | | | | | | | | | |
|----|--|------|--|--|--|---|--|--|--|----------|
| 성명 | | 수험번호 | | | | 3 | | | | 제 () 선택 |
|----|--|------|--|--|--|---|--|--|--|----------|

1. (가)에 들어갈 문화유산으로 가장 적절한 것은?



2. 자료에 나타난 왕조 시기의 동아시아 상황으로 옳은 것은?

-역사극 시나리오-

S# 3 황제의 명령

황제: 이제 조정에서 30세 이하의 사람들은 선비어 대신 중원의 언어만 사용토록 하시오.

신하: 굳이 우리의 언어를 고쳐 새로운 말로 바꿀 필요가 있겠습니까?

황제: 끝까지 나의 뜻을 거스른다면 작위를 낮추고 관직에서 내칠 것이오.

신하: (관을 벗고) 사죄드립니다. 벌을 주시오소서!

- ① 한국 - 위만이 준왕을 몰아내고 집권하였다.
- ② 한국 - 청해진이 동아시아 무역의 거점이 되었다.
- ③ 중국 - 왕안석이 신법을 추진하였다.
- ④ 중국 - 북조가 한족 왕조인 남조와 대립하였다.
- ⑤ 일본 - 소가씨 세력이 정변으로 축출되었다.

3. (가) 인물에 대한 설명으로 옳은 것은? [3점]

동아시아사 Q&A

질문 (가)에 대해서 알려주세요.

답변

(가)은/는 스이코 여왕을 대신해서 태자의 지위로 섭정을 하며 국가 체제를 정비하였습니다. 이 과정에서 불교를 적극적으로 활용하였고, 그 결과 아스카 지역을 중심으로 불교문화가 발달하였습니다. 이 지역의 호류사 5층 목탑도 그가 세웠다고 알려져 있습니다.

- ① 선종을 창시하였다.
- ② 혜자를 스승으로 삼았다.
- ③ 도다이사에서 계율을 전하였다.
- ④ 불국사와 석굴암을 조성하였다.
- ⑤ 입당구법순례행기를 저술하였다.

4. 밑줄 친 '선대 황제'에 대한 설명으로 옳은 것은?

선대 황제께서는 6국을 멸하고 천하를 합병하시지 않았던가. 천하를 평정하신 다음에는 사방의 오랑캐들을 물리쳐 변방을 안정시키셨고, 아방궁을 지어 권위를 높이려 하셨다. 그런데 짐이 이세(二世) 황제로 즉위한 이래로 도적들이 곳곳에서 일어나고 있는데도 그대들은 막지 못하였다. 그럼에도 선대 황제께서 일으킨 아방궁의 공사마저 중단하려 하니 이는 충성을 다하지 못 하는 것이다.

- ① 남비엣을 정복하였다.
- ② 졸본을 수도로 삼았다.
- ③ 히미코 여왕을 책봉하였다.
- ④ 5대 10국의 혼란을 수습하였다.
- ⑤ 흉노 견제를 위해 만리장성을 쌓았다.

5. (가) 국가의 통치 체제에 대한 설명으로 옳은 것은? [3점]

운중은 수(隋)의 의성 공주가 살던 곳으로, 힐리가한이 망한 이후에 이정이 돌궐의 수백 명을 그곳에 옮겨 살게 하였으며 그들 중 하나를 우두머리로 삼았다. ... (중략) ... 백성들이 늘어나 융성해지자 (가)의 황제가 운중부를 선우도호부라 하고 친왕 중 하나인 은왕(殷王) 옥륜을 선우도호로 삼았다.

- ① 문하성에서 정책을 심의하였다.
- ② 남면관제와 북면관제를 운영하였다.
- ③ 관리 선발에 독서삼품과를 활용하였다.
- ④ 제사를 담당하는 신기관을 설치하였다.
- ⑤ 정당성 아래에 좌사정과 우사정을 두었다.

동아시아사

6. (가) 막부 시기에 볼 수 있는 모습으로 가장 적절한 것은?



이 그림은 (가) 막부 시기에 하카타에서 벌어진 전투를 묘사한 장면 중 일부이다. 그림에서 말을 탄 다케자키 스에나가에 밀려 퇴각하는 몽골군은 서로 다른 피부색을 가지고 있다. 이는 다양한 지역의 사람들로 구성된 당시 몽골군의 특성을 잘 보여주는 것이다.

- ① 천공개물을 읽는 지식인
- ② 조카마치에 거주하는 무사
- ③ 에도로 향하는 통신사 일행
- ④ 송의 동전으로 물건을 구매하는 상인
- ⑤ 일본 사절단이 가져온 감함을 확인하는 관리

7. (가) 국가에 대한 설명으로 옳은 것은? [3점]

대업 9년 양제가 또다시 친히 (가) 정벌에 나섰다. 라오허강을 건넌 뒤 우문술 등에게 명하여 평양으로 진격하게 하였다. 또한 왕인공에게는 부여성을 경유하여 신성으로 진군하도록 하니, 적의 기세가 위축되었다. 이때 예부상서 양현감이 뤼양에서 반란을 일으켰다는 보고가 오자, 양제는 크게 두려워하여 군사를 이끌고 돌아갔다. ... (중략) ... 양제가 또다시 정벌을 계획하였으나 때마침 천하가 어지러워져 끝내 실현하지 못하였다.

- ① 백등산 전투에서 승리하였다.
- ② 탕롱에 침입한 몽골군을 격퇴하였다.
- ③ 왜구의 근거지인 쓰시마를 정벌하였다.
- ④ 한사군의 하나인 낙랑군을 축출하였다.
- ⑤ 백강 입구에서 나당 연합군과 충돌하였다.

8. (가) 국가에 대한 설명으로 옳은 것은?

황제가 제천 의식을 마치고 경령궁에서 전례(典禮)를 행하고 있을 때, (가)이/가 군사를 일으켜 도성을 포위했다는 소식을 들었다. 황제는 조서를 내려 상황(上皇)이라 칭하고 아들에게 제위를 선양하였다. 이듬해 (가)이/가 도성을 격파하고 두 황제를 사로잡아 북쪽으로 갔다. 송주에 있어 화를 피한 조구가 황제로 즉위하였고, 이후 창장강 이남의 임안을 수도로 삼았다.

- ① 팔기제를 운영하였다.
- ② 고려와 군신 관계를 맺었다.
- ③ 베이징에 연행사를 파견하였다.
- ④ 호라즘을 정복하고 비단길을 장악하였다.
- ⑤ 다이호 율령을 반포하여 체제를 정비하였다.

9. 밑줄 친 '이 회의'에 대한 설명으로 옳은 것은?

주일 미국 대사 찰스 워렌이 다음과 같은 성명을 발표하였다. “이 회의의 결과 결정된 영일 동맹의 소멸, 4국 조약의 출현, 산둥 문제의 해결과 더불어 중국의 주권 및 영토 보존 약속 등은 동아시아 형세에 안정을 가져올 것이다. 이로써 미국과 일본 사이에 있었던 시기와 의심, 위험은 사라질 것으로 생각한다.”

- ① 5·4 운동 발생에 영향을 주었다.
- ② 한국의 독립을 최초로 약속하였다.
- ③ 열강의 해군 군비 축소를 결정하였다.
- ④ 삼국 간섭이 일어나는 배경이 되었다.
- ⑤ 일본이 국제 연맹을 탈퇴하는 결과를 낳았다.

10. 자료에 나타난 황제에 대한 설명으로 옳은 것은? [3점]

올해 저들이 갑자기 새로운 절차를 만들어서, 나가사키로 간 우리 배에 신패를 발급하여 교역을 허가하였다고 합니다. 이것은 저들이 우리를 통제하는 것이니 잘못된 것입니다.

짐이 해금을 풀어 연해 백성들에게 통상을 허락한 이후, 배를 타고 나가는 우리 백성들이 늘어나 저들이 점차 곤궁해져서 그런 것이니 계속하게 하라.



- ① 매카트니 사절단을 접견하였다.
- ② 조선과 기유약조를 체결하였다.
- ③ 여진을 정벌하기 위해 별무반을 조직하였다.
- ④ 오삼계 등이 일으킨 삼번의 난을 진압하였다.
- ⑤ 동남아시아 등지로 정화의 함대를 파견하였다.

11. (가) 국가에 대한 설명으로 옳은 것은? [3점]

(가)은/는 섬나라인데 푸젠으로부터 동북방에 있다. 멀리 떨어져 있으나 우리 왕조가 천명을 받아 천하를 다스리게 된 후 조공을 보내왔다. 이에 조정에서는 중산왕(中山王)으로 책봉하고 조공하는 것을 윤택하였다. 이후 (가)의 사신들은 나하의 슈리성에서 출발하여 먼저 푸젠에 닿은 다음 자금성으로 왔다.

- ① 조선에 동남아시아산 향료를 판매하였다.
- ② 바타비아를 거점으로 일본에 진출하였다.
- ③ 책문에서 개시와 후시 무역을 실시하였다.
- ④ 므라카를 점령하고 마카오 거주권을 얻었다.
- ⑤ 마닐라를 건설하고 갈레온 무역을 전개하였다.

12. 자료를 활용한 탐구 활동으로 가장 적절한 것은?

일본의 타이완 침공으로 위기감이 높아진 조정 내에서 해방(海防) 문제가 중요한 의제로 떠올랐다. 근대적 해군 건설이 결정되었고 이홍장에게 일체의 권한이 부여되었다. 그는 영국과 독일 등으로부터 초용, 양위, 정원, 진원 등의 선박을 구매하였다. 이후 이 선박들은 북양 함대의 주력이 되었다.

- ① 임칙서가 아편을 단속한 배경을 조사한다.
- ② 산킨코타이 제도가 시행된 목적을 살펴본다.
- ③ 베이징에 공사관이 설치된 계기를 찾아본다.
- ④ 김옥균 등이 주도한 정변의 과정을 정리한다.
- ⑤ 중체서용의 방식으로 전개된 운동을 알아본다.


13. (가), (나) 시기 사이에 볼 수 있는 모습으로 가장 적절한 것은? [3점]

(가) 임금이 도성에서 충주 전투의 패전 소식을 듣고 대신들과 파천할 계획을 논의하였다. 대신들은 임금에게 평양으로 거처를 옮기고 만력제에게 군사를 청해 회복을 도모해야 한다고 아뢰었다.

(나) 도원수 권율을 통해 할지(割地)·구혼(求婚) 등의 일곱 가지 강화 협상 조건이 알려졌다. 임금은 대신들을 만난 자리에서 대책을 물으며, 명군이 남쪽으로 밀려난 적들에 대한 공격을 꺼리고 있다고 한탄하였다.

- ① 사르후에서 투항하는 강홍립
- ② 가도에 머무르고 있는 모문룡
- ③ 벽제관에서 전투를 벌이는 이여송
- ④ 농민군을 이끌고 베이징에 입성하는 이자성
- ⑤ 나가시노에서 조총 부대를 지휘하는 오다 노부나가

14. (가) 도시에서 있었던 사실로 옳은 것은?



▲ (가)의 신바시역 ▲ 요코하마역

사진 속 건물은 1872년 일본에서 최초로 개통된 철도의 출발지 (가)의 신바시역과 도착지 요코하마역의 역사(驛舍)이다. 형태가 동일한 두 역사는 리처드 브리젠스에 의해 설계되었다. 그는 메이지 초기 다양한 서양식 건축물을 설계하는 데 참여하였다.

- ① 아주 화친회가 결성되었다.
- ② 경사 대학당이 설립되었다.
- ③ 영국 상인이 신보를 발행하였다.
- ④ 대한민국 임시 정부가 세워졌다.
- ⑤ 인공 섬인 데지마가 조성되었다.

15. (가)에 들어갈 내용으로 가장 적절한 것은? [3점]

이 곡은 만주에서 전개된 항일 무장 투쟁을 독려하기 위해 지어졌어요. 가사의 '구일팔 큰 사변'은 류타오후 사건을 계기로 일본 관동군이 만주 일대를 점령한 사변을 의미합니다. 이후 일제의 침략에 대응하기 위해 (가)

혁 명 가

동북삼성민중들아 기억하느냐


구 - 일팔큰사변이 일어난뒤에

만 - 주의큰별판에 벌어진싸움

강도일제타도하는 삼십만대군

- ① 우창에서 신군이 봉기하였어요.
- ② 일본 반제 동맹이 결성되었어요.
- ③ 제1차 국공 합작이 성립되었어요.
- ④ 민족 유일당 운동으로 신간회가 창립되었어요.
- ⑤ 조선 혁명군이 중국군과 함께 연합 작전을 펼쳤어요.

16. 밑줄 친 '조약'에 대한 설명으로 옳은 것은? [3점]



이 그림은 일본이 개항 이후 최초로 미국에 파견한 사절단이 백악관에서 열린 환영회에 참석한 장면을 묘사한 것이다. 이 사절단은 뷰캐넌 대통령을 만나 영사 재판권 등을 명시한 조약의 비준서를 교환하였고, 워싱턴, 필라델피아, 뉴욕 등에서 근대 문물을 시찰한 후 귀국하였다.

- ① 일부 영토의 할양을 명시하였다.
- ② 나가사키 등의 개항을 규정하였다.
- ③ 페리 함대의 무력시위로 체결되었다.
- ④ 조선이 자주 독립국임을 확인하였다.
- ⑤ 공행 무역이 폐지되는 결과를 낳았다.

17. 밑줄 친 ‘이 시기’의 동아시아 문화에 대한 설명으로 옳은 것만을 <보기>에서 고른 것은?



왼쪽은 씨름 장면을 그린 김홍도의 풍속화(일부)이고, 오른쪽은 스모 경기를 그린 가쓰시카 호쿠사이의 우키요에(일부)이다. 두 그림이 그려진 이 시기에는 동아시아에서 농민이나 조닌 등이 경제력에 힘입어 문화를 향유하는 계층으로 성장하였다. 이러한 변화 속에서 두 그림처럼 그들의 일상생활이나 여가 활동과 관련된 그림이 많이 제작되었다.

- < 보 기 > —
- ㄱ. 한국 - 제왕운기가 저술되었다.
 - ㄴ. 중국 - 경극이 베이징에서 유행하였다.
 - ㄷ. 일본 - 데라코야가 확산되었다.
 - ㄹ. 일본 - 한자를 변형한 가나가 만들어졌다.

- ① ㄱ, ㄴ ② ㄱ, ㄷ ③ ㄴ, ㄷ ④ ㄴ, ㄹ ⑤ ㄷ, ㄹ

18. (가) 조약에 대한 설명으로 옳은 것은? [3점]

< 강화 조약으로 보는 전후 처리 >

| | |
|--|---|
| <p>베르사유 조약</p> <p>제231조 독일과 그 동맹국의 침략으로 인한 전쟁 결과로 연합국 및 연합국 국민이 입은 모든 손실과 손해를 유발한 것에 대해 독일과 그 동맹국의 책임을 독일은 수락하고 연합국 정부는 이를 확인한다.</p> | <p>(가)</p> <p>제14조 일본이 생존 가능한 경제를 유지하면서 ... (중략)... 다른 의무들을 이행하기에는 일본의 자원이 현재 충분하지 않다는 것 또한 사실이다.</p> |
|--|---|



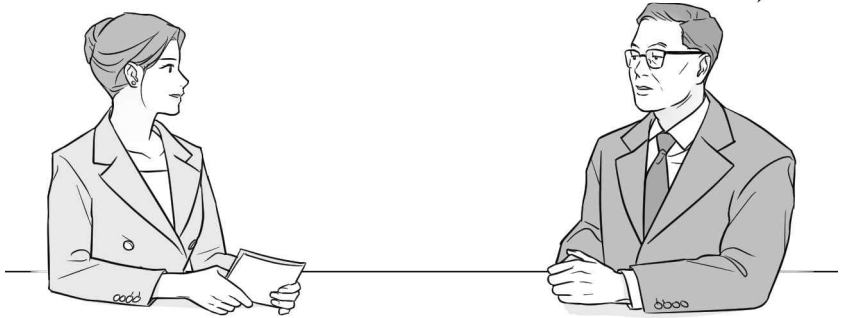
제1차 세계 대전 종결 이후에 체결된 베르사유 조약에서는 전쟁을 일으킨 국가의 책임을 명시하였습니다. 그에 비해 태평양 전쟁 종결 이후 체결된 (가)은/는 전범국의 주권 회복에 초점이 맞추어져 있었습니다.

- ① 신헌법(평화 헌법) 제정에 기여하였다.
- ② 미일 안보 조약과 같은 날에 조인되었다.
- ③ 소련이 대일전에 참전하는 계기가 되었다.
- ④ 극동 국제 군사 재판의 개최 근거가 되었다.
- ⑤ 북위 17도선을 경계로 한 남북 분할을 규정하였다.

19. 밑줄 친 ‘정부’ 시기에 동아시아에서 있었던 사실로 옳은 것은? [3점]

미국의 요청에 따라 정부에서 결정한 전투 병력 파병에 대해 야당 대표로서 어떻게 생각하십니까?

파병으로 휴전선에 긴장 상태가 조성되고 북한의 책동이 심화되면 아시아에 전선이 두 군데 생길 수 있습니다. 이럴 경우 미국 측에는 이중 부담이 되고, 우리의 안보에도 문제가 될 수 있습니다. 지난해 일어난 6·3 시위로 여전히 국내 상황이 여의치 않으니 더욱 신중히 결정해야 합니다.



- ① 6월 민주 항쟁이 일어났다.
- ② 미중 공동 성명이 발표되었다.
- ③ 천수이볜이 총통에 당선되었다.
- ④ 중화 인민 공화국이 수립되었다.
- ⑤ 비자민당 연립 정권이 구성되었다.

20. 자료를 활용한 탐구 주제로 가장 적절한 것은?

우리가 추진하고 있는 정책의 핵심은 4개 부문 현대화입니다. 이를 위해 우리는 국영 기업의 자율 경영을 허용하였고 외국 자본과 기술을 유치하고 있습니다. 그러나 현대화를 성공하기 위해서는 대외 정책의 변화도 함께 구축해야 합니다. 우리가 추진 중인 현대화를 실현할 수 있도록 평화로운 국제 환경을 구축해야만 합니다.

- ① 거품 경제의 붕괴 과정
- ② 천리마 운동의 시행 배경
- ③ 도이머이 정책의 추진 결과
- ④ 플라자 합의의 주요 결정 사항
- ⑤ 덩샤오핑의 개혁·개방 정책 내용

*** 확인 사항**

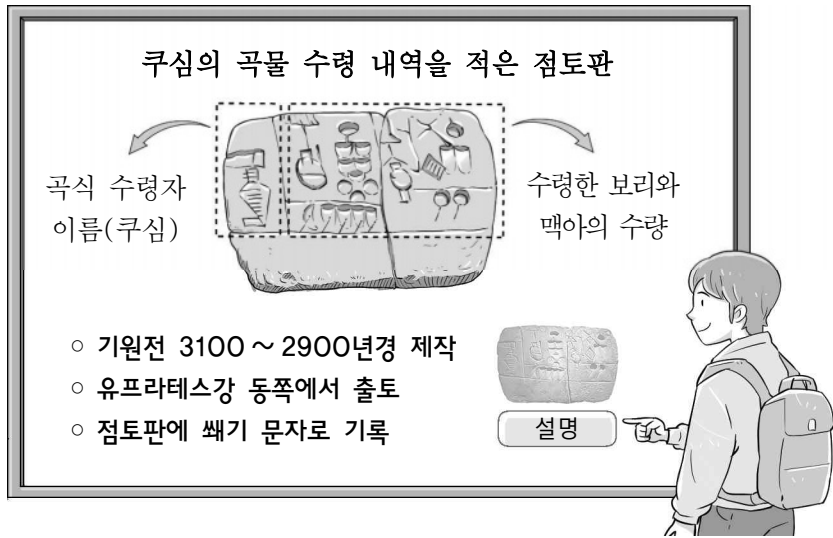
○ 답안지의 해당란에 필요한 내용을 정확히 기입(표기)했는지 확인하십시오.

제 4 교시

사회탐구 영역(세계사)

성명 수험번호 3 제 () 선택

1. 다음 유물을 남긴 문명에 대한 설명으로 옳은 것은?



- ① 은허 유적을 남겼다.
- ② 파르테논 신전을 세웠다.
- ③ 사자의 서를 제작하였다.
- ④ 모헨조다로를 건설하였다.
- ⑤ 태음력과 60진법을 사용하였다.

2. (가), (나)에 들어갈 내용으로 옳은 것만을 <보기>에서 고른 것은? [3점]

< 세계사 수행 평가 안내 >

1. 과제 : 세계사 시간에 배운 인물 2명을 골라 공통점과 차이점 쓰기

2. 작성 예시

| | | |
|-------|---|--|
| 선정 인물 | ○○○, △△△ | |
| 공통점 | · 이민족 타도를 내걸고 봉기함. · 난징을 점령한 후 새 국가의 수도로 삼음. | |
| 차이점 | ○○○ | · 어린도책과 부역항채 등을 통해 왕조의 재정 기반을 마련함. · <input type="text"/> (가) |
| | △△△ | · 천조전무 제도 등을 시행하며 세력을 확장함. · <input type="text"/> (나) |

- < 보 기 >
- ㄱ. (가) - 전례 문제로 인해 일부 선교사를 추방함.
 - ㄴ. (가) - 전통문화의 부흥을 내세우며 육류를 반포함.
 - ㄷ. (나) - 크리스티교 신앙을 바탕으로 상제회를 조직함.
 - ㄹ. (나) - 사고전서 간행 등 대규모 편찬 사업에 착수함.

- ① ㄱ, ㄴ ② ㄱ, ㄷ ③ ㄴ, ㄷ ④ ㄴ, ㄹ ⑤ ㄷ, ㄹ

3. (가) 도시에 대한 학생의 발표 내용으로 가장 적절한 것은?

[3점]

천하를 차지한 유방은 주(周)의 수도였던 뤼양을 수도로 삼고자 하였다. 하지만 일부 신하들은 이에 반대하여 진(秦)의 옛 근거지 일대가 수도로 적합하다고 주장하였다. 흉노를 몰아내면 초원의 목축 이익을 얻을 수 있고, 제후들이 변란을 일으켜도 쉽게 수비할 수 있다는 이유에서였다. 이에 유방은 (가) 을/를 수도로 정하였다.

- ① 명의 영락제가 자금성을 건설하였어요.
- ② 북위의 효문제가 평성에서 천도한 곳이에요.
- ③ 당나라 때 조로아스터교 사원이 세워졌어요.
- ④ 거란이 차지한 만리장성 이남 지역에 속하였어요.
- ⑤ 제1차 아편 전쟁의 결과 청이 개항한 곳 중 하나예요.

4. (가) 왕조에 대한 설명으로 옳은 것은?

왼쪽은 (가) 이가 정복한 이집트에서 출토된 원통형 인장이고, 오른쪽은 인장을 굴러 찍은 모습입니다. 이 인장에는 (가) 의 전성기를 이끈 다리우스 1세가 사자에게 화살을 쏘는 모습이 묘사되어 있고, '나는 위대한 왕, 다리우스다.'라고 적혀 있습니다.



- ① 쿠산 왕조와 교역하였다.
- ② 군관구제와 둔전병제를 실시하였다.
- ③ 카르타고 등의 식민 도시를 건설하였다.
- ④ 수도 니네베에 왕립 도서관을 건립하였다.
- ⑤ 왕의 눈이라 불리는 감찰관을 파견하였다.

5. 밑줄 친 '막부'에 대한 설명으로 옳은 것은?

나는 막부와 각 번의 요청에 따라 화약 제조에 대한 일본어 설명문을 만들기로 마음먹었다. ...(중략)... 원료 처리법에 대한 일본어 설명문은 완성되었지만 다른 부분은 네덜란드어로만 작성이 된 상태였다. 급한 대로 원료 처리법 설명문만 데지마에 도착한 아노쓰번의 가신에게 전달하도록 하였다.

- ① 나라에 도다이사를 창건하였다.
- ② 산킨코타이 제도를 실시하였다.
- ③ 원의 두 차례 침입을 막아내었다.
- ④ 중원 왕조와 감함 무역을 전개하였다.
- ⑤ 유학생이 포함된 견수사를 파견하였다.

세계사

6. 밑줄 친 '이 제국'에 대한 설명으로 옳은 것은? [3점]



화폐 속 인물은 미마르 시난이라는 유명한 건축가이다. 그는 이 제국의 예니체리 부대에서 활약하던 중 술탄이만 1세에게 발탁되어 모스크와 궁전, 교량 등 수백 개의 건축물을 지었다. 화폐 속 건축물은 그가 자신의 최고 걸작으로 여긴 셀리미예 모스크로, 유네스코 세계 유산으로 지정되었다.

- ① 이베리아반도를 차지하였다.
- ② 우즈베크인에 의해 멸망하였다.
- ③ 조로아스터교를 국교로 삼았다.
- ④ 콘스탄티노폴리스를 정복하였다.
- ⑤ 탈라스에서 당의 군대를 격파하였다.

7. (가) 제국의 문화에 대한 설명으로 옳은 것은? [3점]

(가)의 역대 황제

| | | | |
|----|----|----|----|
| 3대 | 4대 | 5대 | 6대 |
|----|----|----|----|

자한기르
(재위 1605 ~ 1627)

- 아그라에서 황제로 즉위
- 수라트 항구 등지에서 영국 동인도 회사의 무역 허가
- 선대 황제 아크바르의 정복 활동을 계승하여 데칸고원 이남으로 진출 시도

- ① 산치 대탑이 건설되었다.
- ② 간다라 양식이 등장하였다.
- ③ 우르두어가 널리 사용되었다.
- ④ 쿠티브 미나르가 건립되었다.
- ⑤ 아잔타 석굴 사원이 착공되었다.

8. 밑줄 친 '우리 왕조'에서 볼 수 있는 모습으로 가장 적절한 것은?

개회 연간의 북벌은 잘못이다. 몽골이 성장하여 북방의 정세가 변화하는 틈을 타 우리 왕조는 옛 영토를 되찾기 위해 북벌에 나섰으나 실패하였다. 또한 북벌 등에 필요한 비용을 마련하기 위해 새로 발행한 화자의 수가 1억 4천만 판에 달하여 화자의 가치는 크게 하락하였다.

- ① 고구마를 재배하는 농민
- ② 성리학을 공부하는 지식인
- ③ 군기처의 설치를 명령하는 황제
- ④ 평화와 함께 항해를 준비하는 군인
- ⑤ 관할 지역의 인재를 추천하는 중정관

9. 밑줄 친 '폐하'에 대한 설명으로 옳은 것은? [3점]

아바스 왕조의 칼리프가 우리 프랑크인의 위대한 지배자인 폐하께 경의를 표하며 이 코끼리를 선물했다는군.

우리 폐하께서 2년 전 교황 레오 3세로부터 서로마 황제의 관을 받는 영광을 누리시더니, 이제는 그 위세가 동방 이교도의 나라에 까지 미치고 있군.

- ① 알렉산드리아를 건설하였다.
- ② 니케아 공의회를 소집하였다.
- ③ 제2차 삼두 정치를 이끌었다.
- ④ 카롤루스 르네상스를 일으켰다.
- ⑤ 유스티니아누스 법전을 편찬하였다.

10. 밑줄 친 '그'에 대한 설명으로 옳은 것은?

그는 민주 정치의 기틀을 다지는 개혁을 단행하였다. 먼저 아테네 전체를 도시, 내륙, 해안 3개의 지역으로 나누고 각 지역을 다시 10개의 구역으로 나누었다. 이어 3개의 지역에서 1개씩의 구역을 뽑고, 이를 한데 묶어 부족으로 재편성하였다. 이런 방법으로 총 10개의 부족이 만들어졌다. 그리고 각 부족에서 50명씩 추첨하여 500인 평의회를 구성하였다. 이로써 혈연 중심의 부족제는 거주지 중심으로 개편되었다.

- ① 도편 추방제를 마련하였다.
- ② 밀라노 칙령을 발표하였다.
- ③ 악티움 해전에서 승리하였다.
- ④ 성 소피아 성당을 건립하였다.
- ⑤ 농지법과 곡물법을 제정하였다.

11. (가) 국가의 대외 관계에 대한 설명으로 옳은 것은? [3점]

1485년 (가)의 국왕 주앙 2세에게 콜럼버스가 찾아와 아시아 항해 사업을 제안하였으나, 수학자 등으로 구성된 특별 위원회는 이를 기각하였다. 그러나 국왕은 이 제안의 가능성을 별도로 시험하는 한편, 바르톨로메우 디아스의 항해를 지원하였다. 1488년 바르톨로메우 디아스가 아프리카 남단의 희망봉을 발견하고 (가) (으)로 귀환하자 국왕은 콜럼버스의 계획을 더는 고려하지 않았다.

- ① 크림 전쟁을 일으켰다.
- ② 빈 체제를 주도하였다.
- ③ 대륙 봉쇄령을 발표하였다.
- ④ 아스테카 제국을 정복하였다.
- ⑤ 마카오를 무역의 거점으로 삼았다.

12. 다음 조서가 반포된 배경으로 가장 적절한 것은?

민군(民軍)이 거사하여 각 성이 호응하니 중국이 들끓었다. 이에 위안스카이에게 민군 대표와 논의하여 정체(政體)를 정하도록 특명을 내렸다. 하지만 시일이 지나도 확실한 답을 내리지 못한 채 지금에 이르렀다. ...(중략)... 대세를 보고 민심을 살펴 공화 정체로 정하였다. 이제 나라는 안정되고 만주족을 비롯한 모든 인민은 하나의 중화민국으로 합쳐질 것이며, 나(황태후)와 황제는 물러날 것이다.

- ① 신해혁명이 일어났다.
- ② 만주국 수립이 선포되었다.
- ③ 대약진 운동이 전개되었다.
- ④ 중국 국민당이 결성되었다.
- ⑤ 제1차 국공 합작이 성립되었다.

13. 밑줄 친 '이 기간'에 있었던 사실로 옳은 것은?

유감스럽게도 저는 제 임기를 마치지 못하고 대통령직에서 물러납니다. 그러나 과거 5년 반 동안 대통령으로 봉사할 수 있는 기회를 주신 국민께 감사하는 마음을 가지고 떠납니다. 이 기간은 우리 미국과 세계사에서 매우 중요한 시간이었습니다. ...(중략)... 우리는 미국 역사상 가장 길었던 전쟁인 베트남 전쟁에서 손을 뗐습니다. ...(중략)... 우리는 4반세기 가량 미국과 중화 인민 공화국 사이를 가로막던 빗장을 열었습니다.

- ① 닉슨 독트린이 발표되었다.
- ② 포츠머스 조약이 체결되었다.
- ③ 대륙 횡단 철도가 개통되었다.
- ④ 제1차 비동맹 회의가 개최되었다.
- ⑤ 뉘른베르크에서 전범 재판이 열렸다.

14. (가) 국가에 대한 설명으로 옳은 것은? [3점]



그림은 프랑스에서 발행한 엽서에 그려진 것이다. 양복 차림인 프랑스의 총리와 군복 차림인 (가)의 황제가 '모로코'라고 적힌 가방을 서로 낚으려 하고 있다. 당시 프랑스가 모로코에 대한 영향력을 확대하자 뒤늦게 식민지 경쟁에 뛰어든 (가)은/는 모로코의 영토 보전과 문호 개방을 주장하며 프랑스를 견제하였다.

- ① 3국 동맹을 결성하였다.
- ② 쿠바를 보호국으로 삼았다.
- ③ 아프리카 종단 정책을 추진하였다.
- ④ 청과 네르친스크 조약을 체결하였다.
- ⑤ 플라시 전투에서 영국에 패배하였다.

15. (가) 지역에서 전개된 민족 운동으로 옳은 것은? [3점]

세계사신문

지중해와 홍해를 연결하는 운하가 개통되다

1869년 11월 17일 (가)의 포트사이드에서 수에즈 운하의 개통식이 열렸다. 개통식에는 오스트리아·헝가리 제국의 황제, 프랑스의 황후, 프로이센과 러시아의 대공 등 유력 인사들이 대거 참석하여 운하에 대한 유럽의 높은 관심을 보여 주었다.

이 운하의 개통으로 유럽에서 인도까지 가는 시간이 크게 단축되고, 무역량도 급증할 것으로 기대된다. 하지만 공사비를 마련하기 위해 막대한 외채를 끌어왔기에 앞으로 재정에 큰 부담이 될 것으로 보인다. (가)을/를 다스리는 총독이 이 문제를 어떻게 해결할 것인지 주목할 필요가 있다.

- ① 브라흐마 사마지 운동이 전개되었다.
- ② 아라비 파샤가 반영 운동을 이끌었다.
- ③ 판보이쩌우가 동유 운동을 추진하였다.
- ④ 콜카타 대회에서 4대 강령이 채택되었다.
- ⑤ 호세 리살이 에스파냐인과의 동등한 대우를 요구하였다.

16. (가) 기구에 대한 설명으로 옳은 것은?

(가) 창설 당시 제1차 세계 대전의 연합국과 중립국 등은 가입할 수 있었지만 패전국인 독일, 볼셰비키가 지배하는 러시아 등 일부 국가는 가입이 배제되었다. 한편 이 기구의 창설을 제안한 윌슨 대통령은 정작 자국의 가입을 이루지 못하였는데, 자칫 유럽의 분쟁에 휘말릴 수 있다는 점 등을 이유로 의회가 가입에 동의하지 않았기 때문이다.

- ① 평화 10원칙을 발표하였다.
- ② 브레턴우즈 체제를 성립시켰다.
- ③ 마스트리흐트 조약에 의해 출범하였다.
- ④ 북대서양 조약 기구[NATO]와 대립하였다.
- ⑤ 국제 분쟁을 억제할 무력을 갖추지 못하였다.

17. 다음 법령이 발표된 시기를 연표에서 옳게 고른 것은? [3점]

제1조 지금부터 적군이 공화국의 영토에서 물러날 때까지 모든 프랑스인은 영구히 군대의 징집 대상이다.
 제5조 공안 위원회는 모든 종류의 무기를 제조할 수단을 즉시 마련할 책임이 있다.
 제6조 법의 집행을 위하여 파견된 의원들은 공안 위원회와 협력한다.

| (가) | (나) | (다) | (라) | (마) |
|------------|----------|----------|------------|-----------|
| 바스티유 감옥 습격 | 국민 공회 구성 | 통령 정부 수립 | 나폴레옹 황제 즉위 | 위털루 전투 발발 |

- ① (가) ② (나) ③ (다) ④ (라) ⑤ (마)

18. 밑줄 친 '그'의 집권 시기에 있었던 사실로 옳은 것만을 <보기>에서 고른 것은? [3점]

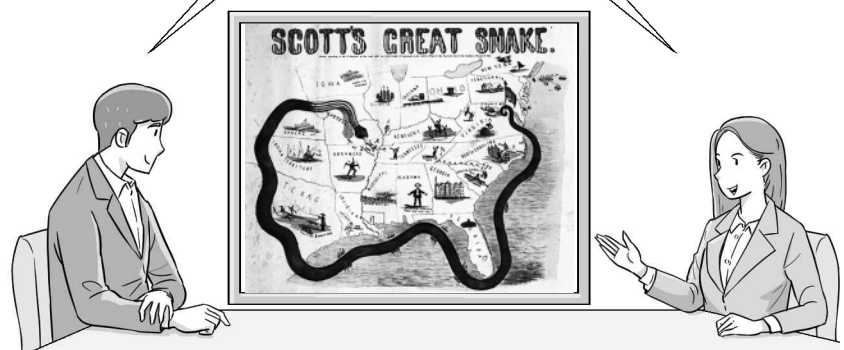
그가 총리로 지명되었다는 소식을 듣고 많은 사람은 일자가 늘어나고 생활이 좀 더 나아지기를 기대하였다. 그렇지만 베르사유 조약을 무시하고 전쟁 배상금의 지급도 중단하겠다는 그의 발언에 전쟁이 일어날지 모른다는 두려움을 느끼는 사람도 있었다. 특히 독일의 유대인들은 근심에 휩싸였다. 새로운 총리가 이끄는 나치당이 유대인들을 적대시하여 독일 내의 모든 공적인 활동에서 몰아내려 한다는 것은 공공연한 비밀이었기 때문이다.

< 보 기 >
 ㄱ. 트루먼 독트린이 발표되었다.
 ㄴ. 독소 불가침 조약이 체결되었다.
 ㄷ. 무솔리니가 로마 진군을 단행하였다.
 ㄹ. 드골이 영국에 망명 정부를 수립하였다.

- ① ㄱ, ㄴ ② ㄱ, ㄷ ③ ㄴ, ㄷ ④ ㄴ, ㄹ ⑤ ㄷ, ㄹ

19. 밑줄 친 '전쟁' 중에 있었던 사실로 옳은 것은?

미국의 남부를 아나콘다가 둘러싸고 있는 그림이네요. 이 그림에 대해 설명해 주시겠어요?
 이 그림은 남부가 연방에서 탈퇴한 이후 벌어진 전쟁 당시 북부 윈필드 스콧 장군의 계획을 풍자한 것입니다. 바다를 봉쇄하여 남부를 고립시키고자 하는 의도가 드러나 있습니다.



- ① 먼로 선언이 공포되었다.
- ② 뉴딜 정책이 시행되었다.
- ③ 미드웨이 해전이 벌어졌다.
- ④ 보스턴 차 사건이 발생하였다.
- ⑤ 노예 해방 선언이 발표되었다.

20. 밑줄 친 ㉠의 배경에 대한 탐구 활동으로 가장 적절한 것은?

역사 사전

자유 노조 검색 초기화

정식 명칭은 솔리다르노시치(Solidarność)로, 연대라는 의미이다. 독립 자유 노동조합 연대라고도 한다. 1980년 레흐 바웬사의 주도로 창립되어 정부의 갖은 탄압에도 불구하고 폴란드의 민주화 운동을 이끌었다. 이후 ㉠ 동유럽에 민주화 바람이 불자 1989년 자유 노조 대표는 정부와 협상에 나섰다. 이 협상의 결과 자유 총선이 실시되어 자유 노조가 승리하였고, 이듬해 바웬사가 폴란드 대통령에 당선되었다.

- ① 마셜 계획의 내용을 살펴본다.
- ② 쿠바 미사일 위기의 원인을 분석한다.
- ③ 베를린 봉쇄 당시의 국제 정세를 조사한다.
- ④ 소련의 개혁·개방 정책이 끼친 영향을 알아본다.
- ⑤ 세계 무역 기구[WTO]의 출범에 따른 변화를 찾아본다.

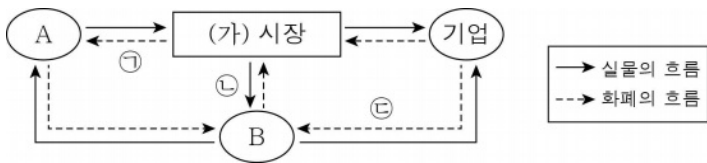
* 확인 사항
 ○ 답안지의 해당란에 필요한 내용을 정확히 기입(표기)했는지 확인하십시오.

제 4 교시

사회탐구 영역(경제)


성명 수험번호 3 제 () 선택

1. 그림은 국민 경제 순환의 일부를 나타낸다. 이에 대한 설명으로 옳은 것은? (단, A, B는 각각 가계, 정부 중 하나임.)



- ① 가계의 소비 지출은 ㉠에 해당한다.
- ② 공공재는 ㉡에 해당한다.
- ③ 법인세는 ㉢에 해당한다.
- ④ (가) 시장에서 생산물의 가격과 수량이 결정된다.
- ⑤ B는 A와 달리 효용 극대화를 추구한다.

2. 경제 체제 A, B에 대한 설명으로 옳은 것은? (단, A, B는 각각 계획 경제 체제와 시장 경제 체제 중 하나임.)



- ① A에서는 민간 경제 주체의 자유로운 경쟁을 강조한다.
- ② B에서는 생산 수단의 사적 소유를 보장한다.
- ③ A에서는 B와 달리 경제 문제 해결 과정에서 형평성을 중시한다.
- ④ B에서는 A와 달리 경제적 유인 체계를 중시한다.
- ⑤ B에서는 A와 달리 자원의 희소성에 따른 경제 문제가 발생하지 않는다.

3. 다음 자료에 대한 옳은 설명만을 <보기>에서 고른 것은?

○ 일용직 건설 노동자 갑은 작년까지만 해도 일감이 많아서 꾸준히 일을 하였다. 그러나 지금은 불황으로 인해 연락 오는 곳이 없어서 다른 일자리를 알아보고 있다.
○ 최근 무인 발권기, 로봇 등의 도입이 서비스업 전반으로 확산되면서 일자리가 대폭 줄어들었다. 이로 인해 극장 매표소에서 근무하다가 해고된 을은 재취업을 시도 중이다.

- < 보 기 >
- ㄱ. 갑은 자발적 실업 상태에 있다.
 - ㄴ. 을은 경기 호황기에도 나타날 수 있는 실업 상태에 있다.
 - ㄷ. 갑, 을 모두 경제 활동 인구에 해당한다.
 - ㄹ. 갑은 구조적 실업, 을은 마찰적 실업 상태에 있다.

- ① ㄱ, ㄴ ② ㄱ, ㄷ ③ ㄴ, ㄷ ④ ㄴ, ㄹ ⑤ ㄷ, ㄹ

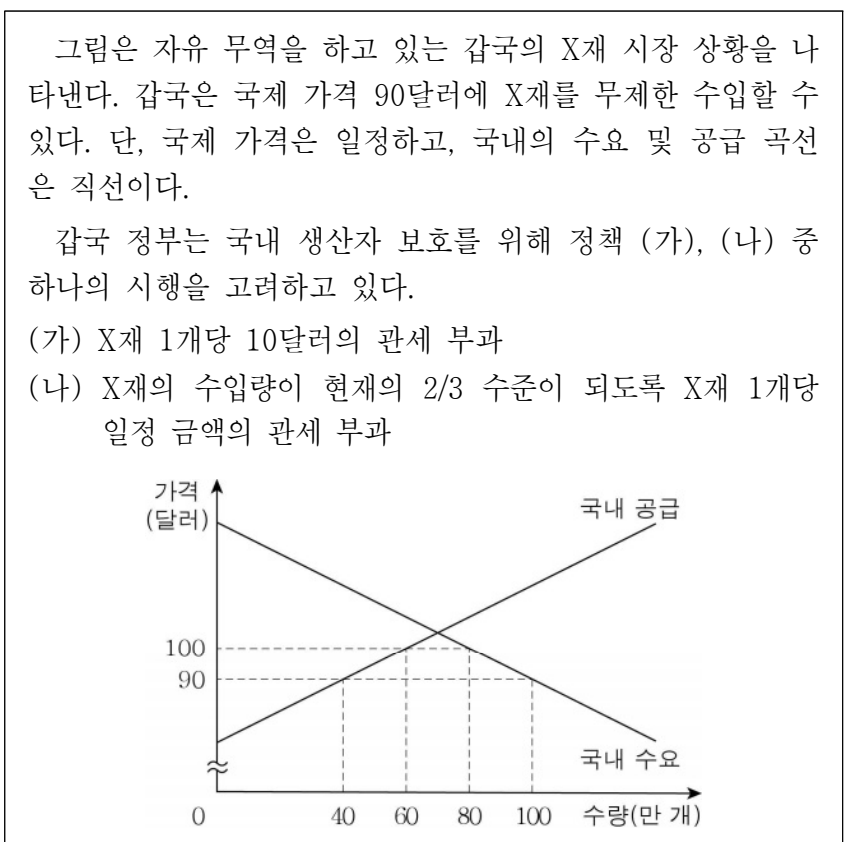
4. 다음 자료에 대한 설명으로 옳은 것은? [3점]

표는 X재 1개에 대한 소비자 갑~정, 생산자 A~D의 최소 요구 금액을 표시한 것이다. 단, X재 시장 참여자는 갑~정, A~D가 전부이며, 모든 시장 참여자는 거래가 이루어질 경우 X재 1개씩만 거래한다.

| | | | | |
|----------------|-----|-----|-----|-----|
| 소비자 | 갑 | 을 | 병 | 정 |
| 최대 지불 용의 금액(원) | 300 | 400 | 500 | 600 |
| 생산자 | A | B | C | D |
| 최소 요구 금액(원) | 400 | 500 | 600 | 700 |

- ① X재 균형 가격은 500원, 균형 거래량은 3개이다.
- ② X재 가격이 500원일 때 총잉여는 200원이다.
- ③ X재 가격이 600원일 때 초과 공급량은 1개이다.
- ④ X재 가격이 600원일 때 D는 B와 달리 거래에 참여한다.
- ⑤ X재 가격이 400원일 때 거래에 참여하는 소비자는 갑과 을이다.

5. 다음 자료에 대한 옳은 설명만을 <보기>에서 고른 것은? [3점]



- < 보 기 >
- ㄱ. 정부의 관세 수입은 (가)의 경우와 (나)의 경우가 같다.
 - ㄴ. 국내 소비자 잉여는 (가)의 경우가 (나)의 경우보다 작다.
 - ㄷ. 국내 소비량은 (나)의 경우가 (가)의 경우보다 적다.
 - ㄹ. 국내 생산자의 판매 수입은 (나)의 경우가 (가)의 경우보다 크다.

- ① ㄱ, ㄴ ② ㄱ, ㄷ ③ ㄴ, ㄷ ④ ㄴ, ㄹ ⑤ ㄷ, ㄹ

경제

6. 다음 대화의 갑, 을이 지지할 경제 안정화 정책의 내용으로 옳은 것은?

갑: 현재 물가가 매우 높은 상황입니다. 물가 안정을 위해 중앙은행이 나서서 통화량을 조절해야 합니다.
 을: 물가 안정이라는 정책 목표에는 동의하지만, 현실적으로는 재정 정책을 시행해야 한다고 생각합니다.

- | | |
|-------------|-----------|
| 갑 | 을 |
| ① 지급 준비율 인상 | 국공채 매입 |
| ② 기준 금리 인상 | 소득세율 인상 |
| ③ 정부 지출 축소 | 기준 금리 인상 |
| ④ 소득세율 인하 | 지급 준비율 인하 |
| ⑤ 국공채 매입 | 정부 지출 축소 |

7. 표는 갑국, 을국의 국민 경제 지표를 나타낸다. 갑국과 을국의 수치가 동일한 지표만을 <보기>에서 있는 대로 고른 것은? (단, 기준 연도인 2020년의 실질 GDP는 갑국, 을국 모두 100억 달러이며, 물가 수준은 GDP 디플레이터로 측정함.) [3점]

(전년 대비, 단위: %)

| 구분 | | 2021년 | 2022년 |
|--------|----|-------|-------|
| 경제 성장률 | 갑국 | 0 | 10 |
| | 을국 | 20 | -10 |
| 물가 상승률 | 갑국 | 10 | -10 |
| | 을국 | -10 | 10 |

- < 보 기 >
- ㄱ. 2021년 명목 GDP
 ㄴ. 2022년 실질 GDP
 ㄷ. 2022년 GDP 디플레이터

- ① ㄱ ② ㄷ ③ ㄱ, ㄴ ④ ㄴ, ㄷ ⑤ ㄱ, ㄴ, ㄷ

8. 다음 자료에서 과제에 대한 답이 모두 옳은 학생은?

○ 과제: 고용 지표에 대한 진술이 맞으면 '○', 틀리면 '×'로 표시하시오.

| 진술 | 학생의 답 | | | | |
|--|-------|---|---|---|---|
| | 갑 | 을 | 병 | 정 | 무 |
| 실업자가 없고 고용률이 70%이면 경제 활동 참가율은 70%이다. | × | × | ○ | ○ | ○ |
| 경제 활동 참가율이 80%, 고용률이 40%이면 실업률은 40%이다. | × | ○ | × | ○ | × |
| 실업률과 실업자 수를 알면 비경제 활동 인구를 산출할 수 있다. | ○ | × | ○ | × | × |

- ① 갑 ② 을 ③ 병 ④ 정 ⑤ 무

9. 다음 자료에 대한 옳은 설명만을 <보기>에서 고른 것은? [3점]

갑은 자신이 보유한 현금 1,000만 원을 A~C 회사 주식에 모두 투자하였다. 보유한 현금의 20%로는 A 회사 주식을, 나머지 현금으로는 B 회사 주식과 C 회사 주식을 매수하였다. B 회사 주식 매수량은 3주이다. 갑은 일정 기간 후 매도 시점에 보유한 주식을 전량 매도할 계획이다. 매도 시점에 예상되는 상황은 (가), (나) 중 하나이다. 표는 갑의 주식 투자 손익 계산을 위한 정보를 나타낸다.

| 구분 | 주식 1주 가격(만 원) | | |
|---------|---------------|--------|--------|
| | 매수 시점 | 매도 시점 | |
| | | 상황 (가) | 상황 (나) |
| A 회사 주식 | 20 | 25 | 10 |
| B 회사 주식 | 100 | 110 | 95 |
| C 회사 주식 | 50 | 45 | 60 |

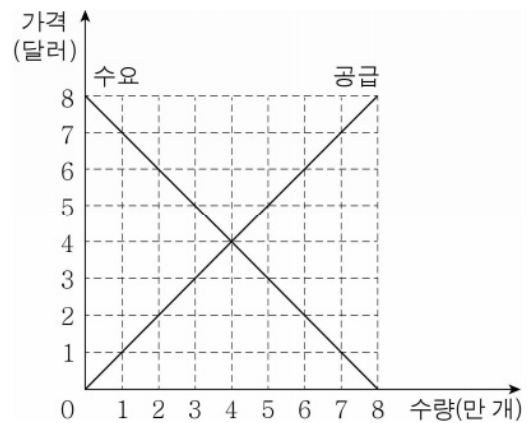
* 주식의 수를 세는 단위는 '주(株)'이며, 매매는 1주 단위로 이루어짐.
 ** 세금이나 수수료 등 거래 비용은 없고, 손익 계산 시 제시된 자료 외에는 고려하지 않음.

- < 보 기 >
- ㄱ. (가)에서 갑의 이익은 10만 원이다.
 ㄴ. (가)와 달리 (나)에서 갑은 손실을 본다.
 ㄷ. 갑의 A 회사 주식 매수량과 C 회사 주식 매수량은 같다.
 ㄹ. 갑의 투자 금액 중에서 B 회사 주식에 투자한 금액의 비중이 가장 높다.

- ① ㄱ, ㄴ ② ㄱ, ㄷ ③ ㄴ, ㄷ ④ ㄴ, ㄹ ⑤ ㄷ, ㄹ

10. 다음 자료에 대한 분석으로 옳은 것은? [3점]

그림은 갑국 X재 시장의 수요와 공급을 나타낸다. 갑국 정부는 정책 (가), (나)를 고려 중이다. 단, X재 시장의 수요 및 공급 곡선은 직선이다.



- (가) X재 소비자에게 1개당 2달러의 보조금을 지급한다.
 (나) X재 생산자에게 1개당 2달러의 보조금을 지급한다.

- ① (가)는 생산자 잉여를 감소시킨다.
 ② (가)는 균형 거래량을 2만 개 증가시킨다.
 ③ (나)의 경우 정부가 지급하는 보조금 총액은 8만 달러이다.
 ④ (가)와 (나)를 함께 시행하면 균형 가격은 3달러가 된다.
 ⑤ 정부가 소비자에게 지급하는 보조금 총액은 (가)와 (나)를 함께 시행할 때가 (가)만 시행할 때보다 크다.

11. 다음 대화에 대한 옳은 설명만을 <보기>에서 고른 것은?

교사: 외부 효과 중 생산 측면에서 발생한 □(가)에 대해 설명해 보세요.
 갑: 사회적 비용이 사적 비용보다 큼니다.
 을: 사회적 최적 거래량보다 적게 거래됩니다.
 병: 해결 방안으로 생산자에 대한 과세를 들 수 있습니다.
 교사: 두 명은 맞게, ㉠ 한 명은 틀리게 설명했어요.

< 보 기 >

ㄱ. ㉠은 갑이다.
 ㄴ. (가)는 외부 불경제이다.
 ㄷ. (가)의 사례로 전염성 질병의 예방 접종을 들 수 있다.
 ㄹ. (가)가 발생한 시장에서 시장 가격은 사회적 최적 가격보다 낮다.

- ① ㄱ, ㄴ ② ㄱ, ㄷ ③ ㄴ, ㄷ ④ ㄴ, ㄹ ⑤ ㄷ, ㄹ

12. 다음 자료는 t년 한 해 동안 갑국에서 발생한 모든 경제 활동을 나타낸다. 이에 대한 분석으로 옳은 것은? [3점]

목재 생산과 가구 제작으로 유명한 갑국은 ㉠가구 제작용 기계를 외국에서 1만 달러어치 수입하였고, 목재 생산을 위해 ㉡을국 노동자를 고용하여 임금으로 3만 달러를 지급하였다. ㉢생산된 목재 중 일부는 해외에 2만 달러어치 수출하였고 나머지는 가구 제작에 사용하였다. 갑국에서 생산된 가구는 모두 최종재로 판매되었고, 금액은 총 10만 달러이다. 이 중 절반은 ㉣병국에 수출하여 벌어들인 금액이다.

- ① ㉠은 갑국의 t년 지출 국민 소득 중 소비 지출에 해당한다.
 ② ㉡은 을국의 t년 국내 총생산에 포함된다.
 ③ ㉢은 갑국의 t년 국내 총생산에 포함되지 않는다.
 ④ ㉣은 병국의 t년 순수출을 증가시킨다.
 ⑤ 갑국의 t년 국내 총생산은 12만 달러이다.

13. 표는 갑국의 연도별 경상 수지를 항목별로 나타낸다. 이에 대한 분석으로 옳은 것은? (단, 2022년의 경상 수지 흑자 규모는 2021년에 비해 20% 증가함.)

(단위: 억 달러)

| 구분 | 상품 수지 | 서비스 수지 | 본원 소득 수지 | (가) |
|-------|-------|--------|----------|-----|
| 2021년 | 50 | 20 | ㉠ | 15 |
| 2022년 | 80 | 30 | -10 | 20 |

- ① ㉠은 '5'이다.
 ② 차관 도입액이 포함되는 항목은 (가)이다.
 ③ 해외 무상 원조액이 포함되는 항목은 2022년에 적자이다.
 ④ 지식 재산권 사용료가 포함되는 항목은 2021년과 2022년 모두 흑자이다.
 ⑤ 해외 주식 투자에 따른 배당금이 포함되는 항목은 2022년에 외화 유입액이 유출액보다 많다.

14. 다음 자료에 대한 분석으로 옳은 것은? [3점]

A 기업은 비자동화 방식으로 X재를 생산하고 있다. 표는 한 달간 X재 각 생산량 수준에서의 생산직 노동 고용량을 나타낸다. 생산직 노동자 1명당 월 급여는 300만 원이다.

| 생산량(개) | 1 | 2 | 3 | 4 | 5 | 6 |
|---------------|---|---|---|---|---|----|
| 생산직 노동 고용량(명) | 2 | 3 | 4 | 6 | 8 | 11 |

한편, A 기업은 자동화 생산 방식에서의 전환을 고려하고 있다. 생산직 노동자를 전부 대체할 수 있는 자동화 장비의 임차료는 월 1,500만 원이다. 자동화 장비는 운용 인력이 필요하며, 생산량이 3개 이하일 경우 1명, 4개 이상일 경우 2명을 고용해야 한다. 장비 운용 인력 1명당 월 급여는 500만 원이다. 단, X재 시장 가격은 500만 원으로 일정하고, X재는 최대 6개까지 생산할 수 있으며, 생산된 X재는 전량 판매된다. 제시된 비용 이외의 비용은 없다.

- ① 비자동화 방식의 경우 이윤이 극대화되는 생산량은 4개이다.
 ② 자동화 방식의 경우 생산량이 4개 이상이면 이윤이 발생한다.
 ③ 자동화 방식의 경우 생산량 증가에 따라 총비용은 지속적으로 증가한다.
 ④ 생산량이 5개일 때 총비용은 비자동화 방식의 경우가 자동화 방식보다 크다.
 ⑤ 자동화 방식으로 달성 가능한 월 최대 이윤과 비자동화 방식으로 달성 가능한 월 최대 이윤의 차이는 200만 원이다.

15. 다음 자료에 대한 옳은 설명만을 <보기>에서 고른 것은? (단, A~C는 각각 정기 예금, 주식, 채권 중 하나임.)

< 형성 평가 >

3학년 ○반 ○○○

[문제] 금융 상품 A~C의 일반적인 특징에 관한 질문에 '예' 또는 '아니요'로 답하시오. (단, 맞으면 1점, 틀리면 0점임.)

| 질문 | 답변 | 점수 |
|-------------------------------------|-----|----|
| A는 배당 수익을 기대할 수 있는 금융 상품인가? | 예 | 1점 |
| B는 C와 달리 예금자 보호 제도의 적용을 받는 금융 상품인가? | 아니요 | 0점 |
| (가) | 예 | 1점 |

< 보 기 >

ㄱ. A는 발행자의 입장에서 부채에 해당한다.
 ㄴ. A는 B에 비해 안전성이 낮다.
 ㄷ. B는 C와 달리 이자 수익을 기대할 수 있다.
 ㄹ. (가)에는 'A와 C는 모두 시세 차익을 기대할 수 있는 금융 상품인가?'가 들어갈 수 있다.

- ① ㄱ, ㄴ ② ㄱ, ㄷ ③ ㄴ, ㄷ ④ ㄴ, ㄹ ⑤ ㄷ, ㄹ

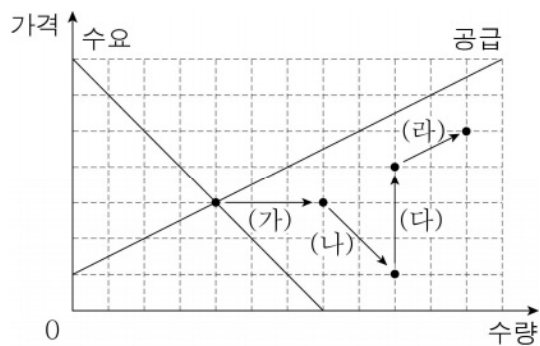
16. 다음 자료에 대한 분석으로 옳은 것은?

갑은 만두, 김밥 중 하나를 선택하려고 한다. 갑이 만두로 얻는 편익은 8천 원, 김밥으로 얻는 편익은 5천 원이다. 만두 가격은 4천 원이고, 김밥 가격은 (가), (나) 중 하나이다.

| | | |
|----|------|------|
| 구분 | (가) | (나) |
| 가격 | 2천 원 | 3천 원 |

- ① (가)의 경우 김밥 선택의 순편익은 3천 원이다.
- ② (가)의 경우 김밥 선택의 암목적 비용은 2천 원이다.
- ③ (나)의 경우 만두 선택의 기회비용은 6천 원이다.
- ④ 만두 선택의 순편익은 (가)의 경우가 (나)의 경우보다 크다.
- ⑤ (가), (나)의 경우 모두 기회비용은 김밥 선택이 만두 선택보다 크다.

17. 그림은 X재 시장에서 균형점의 순차적 이동을 나타낸다. 이에 대한 분석 및 추론으로 옳은 것은? [3점]



- ① 소비자의 선호가 증가하고 원자재 가격이 상승할 경우 (가)가 나타날 수 있다.
- ② 대체재 가격이 하락하면 (나)가 나타날 수 있다.
- ③ 보완재 가격이 상승하고 생산비가 감소할 경우 (다)가 나타날 수 있다.
- ④ (가), (다)와 달리 (나), (라)는 수요와 공급 중 한 가지만 변동할 때 나타날 수 있다.
- ⑤ (가)~(라) 이동 중 공급의 감소는 나타나지 않는다.

18. 다음 자료에 대한 분석으로 옳은 것은?

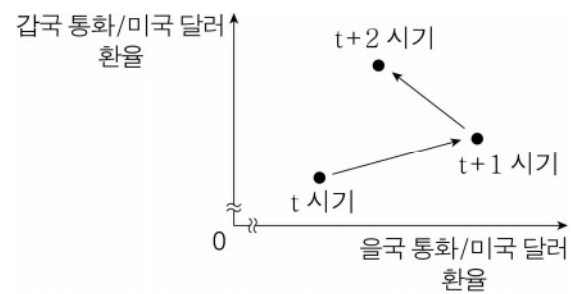
표는 갑의 9월 수입 및 지출 항목별 금액의 비중을 나타낸다. 갑의 월급은 300만 원이며, 비소비 지출은 60만 원이다.

| 수입 | | 지출 | |
|--------|-------|--------|-------|
| 항목 | 비중(%) | 항목 | 비중(%) |
| 월급 | 50 | 식료품비 | 50 |
| 건물 임대료 | 30 | 대출 이자 | 20 |
| 복권 당첨금 | 10 | 이동 통신비 | 10 |
| 주식 배당금 | 10 | 사회 보험료 | 20 |

* 처분 가능 소득 = 소득 - 비소비 지출

- ① 수입은 지출의 4배이다.
- ② 이전 소득은 60만 원이다.
- ③ 재산 소득은 180만 원이다.
- ④ 비경상 소득은 30만 원이다.
- ⑤ 처분 가능 소득은 240만 원이다.

19. 그림은 외환 시장에서의 환율 변화를 나타낸다. 이에 대한 옳은 설명만을 <보기>에서 고른 것은? (단, 환율 변동 이외의 다른 조건은 고려하지 않음.) [3점]



< 보 기 >

- ㄱ. t+1 시기에 갑국 국민의 미국 여행 경비 부담은 t 시기에 비해 감소한다.
- ㄴ. t+1 시기에 을국 기업의 미국 달러 표시 외채 상환 부담은 t 시기에 비해 증가한다.
- ㄷ. t+2 시기에 미국 시장에서 갑국산 상품의 가격 경쟁력은 t+1 시기에 비해 하락한다.
- ㄹ. t+2 시기에 을국에 유학 중인 자녀에게 학비를 송금하는 미국 학부모의 부담은 t+1 시기에 비해 증가한다.

- ① ㄱ, ㄴ ② ㄱ, ㄷ ③ ㄴ, ㄷ ④ ㄴ, ㄹ ⑤ ㄷ, ㄹ

20. 다음 자료에 대한 옳은 분석 및 추론만을 <보기>에서 고른 것은? [3점]

갑국, 을국은 X재와 Y재만을 직선인 생산 가능 곡선상에서 생산한다. 갑국 대 을국의 X재 최대 생산량의 비는 3:5이고, Y재 최대 생산량의 비는 4:5이다. 표는 교역 전 을국의 X재와 Y재의 생산 조합 중 두 가지를 나타낸다.

| | |
|-------|------------------|
| 구분 | (X재 생산량, Y재 생산량) |
| 생산 조합 | (60개, 20개) |
| | (40개, 30개) |

양국은 비교 우위가 있는 재화만을 생산하여 양국 모두 이익이 발생하는 교환 비율에 따라 교역하기로 하였다. 단, 교역은 거래 비용 없이 양국 간에만 이루어지고, 생산된 재화는 모두 소비된다.

< 보 기 >

- ㄱ. 갑국의 X재 1개 생산의 기회비용은 Y재 2/3개이다.
- ㄴ. 갑국은 X재 20개와 Y재 30개를 동시에 생산할 수 있다.
- ㄷ. 을국에서 X재 1개 소비의 기회비용은 교역 전보다 교역 후에 증가한다.
- ㄹ. X재와 Y재의 양국 간 교환 비율이 3:1이면 갑국은 교역하려고 하지 않을 것이다.

- ① ㄱ, ㄴ ② ㄱ, ㄷ ③ ㄴ, ㄷ ④ ㄴ, ㄹ ⑤ ㄷ, ㄹ

* 확인 사항

- 답안지의 해당란에 필요한 내용을 정확히 기입(표기)했는지 확인하십시오.

제 4 교시

사회탐구 영역(정치와 법)

| | | | | | | | | | |
|----|--|------|--|--|--|---|--|--|----------|
| 성명 | | 수험번호 | | | | 3 | | | 제 () 선택 |
|----|--|------|--|--|--|---|--|--|----------|

1. 다음 자료에 대한 설명으로 옳은 것은?

교사: 정치를 바라보는 관점 A, B에 대해 설명해 볼까요?
 갑: A는 정치권력의 획득·유지·행사와 관련된 국가 고유의 활동만을 정치로 봅니다. 따라서 (가)는 정치로 볼 수 있습니다.
 을: B는 국가를 포함한 모든 사회 집단에서 갈등을 조정하고 해결하는 활동을 정치로 봅니다. 이에 부합하는 사례로 학급 회장을 선출하는 과정을 들 수 있습니다.
 교사: 갑, 을 모두 각 관점에 대해 옳게 설명했네요.

- ① A는 국가 성립 이전의 정치 현상을 설명하기에 적합하다.
- ② B는 국가의 정치 현상이 다른 사회 집단의 정치 현상과 본질적으로 다르다고 본다.
- ③ B는 A와 달리 다원화된 현대 사회의 정치 현상을 설명하기에 적합하다.
- ④ A, B는 모두 회사에서 구성원들이 성과급 지급 기준을 정하는 과정을 정치로 본다.
- ⑤ (가)에 '국회의 국정 감사권 행사'가 들어갈 수 없다.

2. 다음 자료에 대한 설명으로 옳은 것은? [3점]

< 수행 평가 >

그림에서 가로, 세로, 대각선 방향으로 연속된 3글자의 기본권 유형 4가지를 찾아 쓰고, 각 기본권 유형의 특징을 서술하시오. (기본권 유형과 그 특징이 모두 옳은 경우에만 1점씩 부여하며, 총점은 4점임.)

| | | | |
|---|---|---|---|
| 청 | 등 | 사 | 자 |
| 평 | 구 | 회 | 참 |
| 자 | 유 | 권 | 정 |
| 권 | 유 | 사 | 권 |

| | |
|--------|---------------------------|
| 기본권 유형 | 특징 |
| 청구권 | (가) |
| A | 가장 최근에 등장한 기본권이다. |
| B | (나) |
| C | 정치 과정에 참여할 수 있는 능동적 권리이다. |
| 채점 결과 | 4점 |

- ① A는 B와 달리 헌법에 열거되지 않아도 보장받을 수 있는 권리이다.
- ② B는 C와 달리 적극적 권리이다.
- ③ C는 A와 달리 국가의 존재를 전제로 하는 권리이다.
- ④ (가)에 '다른 기본권 보장을 위한 수단적 권리이다.'가 들어갈 수 있다.
- ⑤ (나)에 '다른 기본권 보장의 전제가 되는 기본권이다.'가 들어갈 수 있다.

3. 밑줄 친 ㉠~㉣에 대한 설명으로 옳은 것은?

| | |
|--|--|
| △△일보 0000년 00월 00일 ㉠ 집행 유예 기간에 또 음주 운전, ㉡ 도로 교통법에 의해 ㉢ 징역형으로 엄하게 처벌 | □□신문 0000년 00월 00일 상습적으로 동물을 학대한 자에게 ㉣ 보호 관찰 처분, 전문가들은 ㉤ 치료 감호 처분의 필요성 주장 |
|--|--|

- ① ㉠은 무죄 취지로 형의 집행을 일정 기간 유예하는 것이다.
- ② ㉡은 형식적 의미의 형법에 해당하는 법률이다.
- ③ ㉢은 노역이 부과되지 않는 자유형이다.
- ④ ㉣은 ㉤과 달리 보안 처분에 해당한다.
- ⑤ ㉣, ㉤은 모두 형벌과 함께 부과될 수 있다.

4. 밑줄 친 ㉠~㉣에 대한 설명으로 옳은 것은? [3점]

갑, 을이 병을 폭행하였고 이 사건에 대한 수사가 개시되었다. ㉠ 갑은 구속 수사를, 을은 불구속 수사를 받았고 검사는 갑, 을 모두를 ㉡ 기소하였다. ㉢ 1심 법원은 갑에게 징역 6개월을 선고하였지만, 을의 행위는 강요된 행위라는 이유로 을에게 ㉣ 무죄를 선고하였다. 이후 항소심을 담당할 지방 법원에서 ㉤ 갑은 징역 1년을 선고받아 형이 확정되었고 을은 원심 판결이 확정되었다.

- ① ㉠으로 보아 갑은 을과 달리 구속 전 피의자 심문을 받았다.
- ② ㉡으로 인한 형사 재판의 당사자는 검사, 갑, 을, 병이다.
- ③ ㉢은 지방 법원 합의부이다.
- ④ ㉣의 이유는 을의 책임이 조각되기 때문이다.
- ⑤ ㉤ 이후 을은 갑과 달리 형사 보상을 청구할 수 있다.

5. 민법의 기본 원칙 A~C에 대한 옳은 설명만을 <보기>에서 있는 대로 고른 것은?

- 가해자의 고의나 과실이 없는 경우에도 일정한 요건이 충족되면 A에 따라 손해에 대한 배상 책임이 인정된다.
- B에 따르면 개인의 사유 재산에 대한 사적 지배를 인정하고 국가나 다른 개인이 이를 침해하거나 제한할 수 없다.
- 계약의 내용이 사회 질서에 반하거나 현저히 공정하지 못한 경우에는 C에 따라 법적 효력이 인정되지 않는다.

— < 보 기 > —

ㄱ. 공작물의 점유자 책임에 A가 적용된다.
 ㄴ. B에 따르면 개인의 소유권은 절대적 권리로 인식된다.
 ㄷ. C는 B와 달리 개인주의와 자유주의가 이념적 기반이다.

- ① ㄱ ② ㄴ ③ ㄱ, ㄷ ④ ㄴ, ㄷ ⑤ ㄱ, ㄴ, ㄷ

정치와 법

6. 법치주의의 유형 A, B에 대한 설명으로 옳은 것은? (단, A, B는 각각 형식적 법치주의, 실질적 법치주의 중 하나임.)

○○법의 주요 내용

행정부가 법률을 의결할 수 있고, 행정부가 의결하는 법률에는 헌법과는 다른 규정을 둘 수 있다.

교사: 갑국에서 의회가 제정한 ○○법에 따라 통치가 이루어지는 것은 법치주의에 부합할까요?

갑: ○○법은 목적과 내용이 헌법 이념에 부합하지 않으므로 이 법에 따른 통치는 A에 부합하지 않습니다.

을: B에 따르면 적법한 절차를 거쳐 제정된 ○○법에 따른 통치는 정당합니다.

- ① B는 독재 정치를 정당화하는 논리로 악용될 수 있다.
- ② A는 B와 달리 인치(人治)를 부정한다.
- ③ A는 B와 달리 통치의 합법성을 중시한다.
- ④ B는 A와 달리 위헌 법률 심사제의 필요성을 강조한다.
- ⑤ A, B는 모두 법률로써 국민의 자유와 권리를 제한할 수 없다고 본다.

7. 밑줄 친 ㉠~㉣에 대한 설명으로 옳은 것은? [3점]

㉠ 갑과 을은 법률혼 상태에서 A를 낳았으나 을이 가정소홀하여 갑과 을은 ㉡ 협의상 이혼을 하였다. 이후 갑은 병을 만나 혼인 신고를 하였고, ㉢ 병은 A를 친양자로 입양하였다. 어느 날 갑과 병은 A와 함께 여행을 떠났는데 교통사고로 ㉣ 병이 먼저 사망하고 이후 ㉤ A도 사망하면서 갑만 생존하였다. 사고 당시 병과 A는 모두 채무 없이 각자 재산을 가지고 있었고 유언을 남기지 않았다.

- ① ㉠ 이후 갑, 을과 A 사이의 친자 관계 형성을 위해 인지 절차가 필요하다.
- ② 갑과 을은 ㉡의 과정에서 이혼 조정 절차를 거쳤다.
- ③ ㉢에도 불구하고 A에 대한 을의 친권은 유지된다.
- ④ ㉣ 직후 갑, A는 모두 병의 재산에 대한 법정 상속인이다.
- ⑤ ㉤ 직후 갑, 을은 모두 A의 재산에 대한 법정 상속인이다.

8. A~C에 대한 설명으로 옳은 것은? (단, A~C는 각각 정당, 이익 집단, 시민 단체 중 하나에 해당하는 집단임.)

- 환경 보호 단체인 A는 생태계가 훼손된다며 ○○도의 케이블카 설치 계획에 반대하는 활동을 전개하고 있다.
- 상인들로 구성된 단체인 B는 케이블카가 설치되면 상권이 활성화되므로 케이블카 설치에 찬성한다고 발표했다.
- ○○도지사 선거에서 C는 A와 B의 입장을 최대한 수용하는 방안을 공약으로 내세운 후보자를 공천하였다.

- ① A는 C와 달리 정부와 의회를 매개한다.
- ② B는 A와 달리 사익보다 공익을 중시한다.
- ③ C는 B와 달리 정치적 책임을 진다.
- ④ A, B는 C와 달리 정치 과정에서 투입 기능을 수행한다.
- ⑤ B, C는 A와 달리 대의제의 한계를 보완한다.

9. 다음 자료에 대한 옳은 설명만을 <보기>에서 있는 대로 고른 것은? [3점]

| 사건 내용 | 법원의 판결 내용 |
|---|--------------------------------------|
| 미성년자인 A는 B 소유의 차량에 낙서하여 차량을 훼손하였다. B는 A의 법정 감독 의무자인 C에게 손해 배상을 요구하였다. | C는 특수 불법 행위 책임을 지므로 B에게 손해 배상을 해야 함. |
| D가 운영하는 식당에서 아르바이트를 하던 E(21세)는 뜨거운 물을 쏟아 손님 F에게 상해를 입혔다. F는 D에게 손해 배상을 요구하였다. | (가) |

< 보 기 >

- ㄱ. 법원은 A에게 책임 능력이 없다고 판단했다.
- ㄴ. C는 감독 의무를 게을리하지 않았음을 증명했다.
- ㄷ. E의 행위가 불법 행위로 성립하지 않으면, (가)에 'D는 사용자의 배상 책임을 지므로 F에게 손해 배상을 해야 함.'이 들어갈 수 있다.
- ㄹ. E의 행위가 불법 행위로 성립하고 (가)에 'D는 사용자의 배상 책임을 지지 않음.'이 들어가면, F는 E에게 손해 배상을 요구할 수 있다.

- ① ㄱ, ㄴ ② ㄱ, ㄹ ③ ㄴ, ㄷ
- ④ ㄱ, ㄷ, ㄹ ⑤ ㄴ, ㄷ, ㄹ

10. 다음 자료에 대한 설명으로 옳지 않은 것은? (단, A, B는 각각 전형적인 대통령제와 의원 내각제 중 하나임.) [3점]

<자료 1> 전형적인 정부 형태 A, B 구분

| 구분 | A | B |
|-----------------------|---|---|
| 행정부 수반을 국민이 직접 선출하는가? | ㉠ | ㉡ |

<자료 2> ○○국의 시기별 정부 형태와 정당별 의석률

| 시기 | | t대 | t+1대 |
|--------|----|----|------|
| 정부 형태 | | A | B |
| 의석률(%) | 갑당 | 40 | 10 |
| | 을당 | 25 | 60 |
| | 병당 | 35 | 30 |

- ① ㉠이 '예', ㉡이 '아니요'이면, A는 B와 달리 행정부 수반의 법률안 거부권이 인정된다.
- ② ㉠이 '아니요', ㉡이 '예'이면, B는 A와 달리 의회 의원이 각료를 겸직할 수 없다.
- ③ t대에 국가 원수와 행정부 수반이 다른 인물이라면, ㉠은 '아니요', ㉡은 '예'이다.
- ④ t+1대에 행정부의 법률안 제출권이 인정된다면, t+1대와 달리 t대에는 여소야대 현상이 나타난다.
- ⑤ A가 의원 내각제이고 t대, t+1대 모두에서 을당이 여당이라면, t대, t+1대 모두에서 행정부 수반은 을당 소속이다.

11. 다음 자료에 대한 설명으로 옳은 것은? [3점]

갑~병은 모두 휴대 전화 판매업자 A(35세)와 고가의 휴대 전화를 구매하는 계약을 체결하였다. 표는 휴대 전화 구매 계약 체결 당시 갑~병의 상황을 나타낸 것이다. 단, 갑~병은 모두 17세이고 부모가 법정 대리인이다.

| 구분 | 갑 | 을 | 병 |
|------------------------------------|---|---|---|
| 부모가 동의하여 계약을 체결하였는가? | ○ | × | × |
| 거래 당시 미성년자임을 A가 알았는가? | ○ | ○ | ○ |
| 부모의 동의서를 위조하여 A가 이를 믿고 계약을 체결하였는가? | × | × | ○ |

(○: 예, ×: 아니요)

- ① 갑은 병과 달리 계약을 취소할 수 있다.
- ② A는 을에게 계약 체결의 의사 표시를 철회할 수 있다.
- ③ 을의 부모는 갑의 부모와 달리 계약을 취소할 수 있다.
- ④ A는 을의 부모에게 확답을 촉구할 권리를 행사할 수 없다.
- ⑤ 병과 A가 체결한 계약은 부모의 동의서가 위조되었으므로 무효이다.

12. 다음 자료에 대한 설명으로 옳은 것은? (단, A~C는 각각 국민 주권주의, 국제 평화주의, 문화 국가의 원리 중 하나임.)

< 서술형 문제 >

우리나라 헌법의 기본 원리 A의 실현 방안을 한 가지만 서술하시오.

| 구분 | 답안 내용 | 교사의 평가 |
|----|-------------------------------------|-------------------|
| 갑 | 국제법 존중 및 상호주의 원칙에 따라 외국인의 지위를 보장한다. | B의 실현 방안임. |
| 을 | 전통문화의 계승·발전과 민족 문화의 창달을 위해 노력한다. | C의 실현 방안임. |
| 병 | (가) | 정답임. |

- ① (가)에 '국민 투표제를 시행한다.'가 들어갈 수 있다.
- ② A는 현대 복지 국가 헌법에서부터 강조된 원리이다.
- ③ B의 실현 방안으로 '국가의 평생 교육 진흥'을 들 수 있다.
- ④ C에 따라 침략적 전쟁을 부인한다.
- ⑤ '재외 국민의 선거권 보장'은 A가 아닌 B의 실현 방안이다.

13. 우리나라 헌법 기관 A~D에 대한 설명으로 옳은 것은?

- 정부는 목적이나 활동이 민주적 기본 질서에 위배되는 정당의 해산을 A에 제소할 수 있다.
- 상고심을 담당하는 B의 장(長)은 C의 동의를 얻어 D가 임명한다.

- ① A는 탄핵 심판을 담당한다.
- ② C는 국가의 세입·세출에 대한 결산 검사권을 가진다.
- ③ D는 정당에 소속할 수 없다.
- ④ A의 재판관 중 3인은 B의 장(長)이 임명한다.
- ⑤ C는 B의 장(長)의 해임을 D에게 건의할 수 있다.

14. 표는 근로 기준법과 관련한 질문 (가), (나)로 근로자 갑, 을을 구분한 것이다. 이에 대한 옳은 설명만을 <보기>에서 고른 것은? (단, 중학교를 졸업한 갑, 을의 연령은 각각 17세, 20세 중 하나임.) [3점]

| 구분 | 갑 | 을 |
|-----|-----|-----|
| (가) | 아니요 | 예 |
| (나) | 예 | 아니요 |

< 보 기 >

- ㄱ. (가)에 '임금을 단독으로 청구할 수 있는가?'가 들어갈 수 없다.
- ㄴ. (가)에 '근로 계약 시 친권자 또는 후견인의 동의를 얻어야 하는가?'가 들어가면, 갑은 17세이다.
- ㄷ. (나)에 '연장 근로 시간이 1일 1시간을 초과할 수 있는가?'가 들어가면, 을은 17세이다.
- ㄹ. (가)에 '연장 근로를 제외하고 1일 7시간을 초과하여 근로할 수 있는가?'가 들어가면, (나)에 '고용 노동부 장관이 발급한 취직 인허증이 있어야 근로가 가능한가?'가 들어갈 수 있다.

- ① ㄱ, ㄴ ② ㄱ, ㄷ ③ ㄴ, ㄷ ④ ㄴ, ㄹ ⑤ ㄷ, ㄹ

15. 밑줄 친 ㉠~㉣에 대한 옳은 설명만을 <보기>에서 있는 대로 고른 것은?

갑은 공기업 직원이 공직 선거 후보자 선출을 위한 정당 내의 경선 운동에 참여하는 것을 금지하는 공직 선거법 위반 혐의로 기소되었다. 재판 중에 갑은 공직 선거법 해당 조항에 대한 ㉠ 위헌 법률 심판 제청을 법원에 신청하였다. 법원이 ㉡ 위헌 법률 심판 제청 신청을 기각하자, 갑은 헌법 재판소에 직접 ㉢ 헌법 소원 심판을 청구하였다. 헌법 재판소는 공기업 직원의 정당 내 경선 운동을 일률적으로 금지·처벌하는 것은 정치적 표현의 자유를 과도하게 제한한다는 이유로 심판 대상 조항에 대해 ㉣ 위헌 결정을 내렸다.

< 보 기 >

- ㄱ. ㉠은 재판 당사자의 신청 없이 법원이 직권으로도 할 수 있다.
- ㄴ. ㉡이 받아들여지더라도 갑은 ㉢을 청구할 수 있다.
- ㄷ. ㉢은 위헌 심사형 헌법 소원 심판이다.
- ㄹ. ㉣로 인해 심판 대상 조항은 효력을 상실한다.

- ① ㄱ, ㄴ ② ㄱ, ㄹ ③ ㄴ, ㄷ
- ④ ㄱ, ㄷ, ㄹ ⑤ ㄴ, ㄷ, ㄹ

16. 다음 자료에 대한 옳은 설명만을 <보기>에서 고른 것은?

[3점]

노동조합 활동을 이유로 ○○회사에서 해고된 갑이 부당 노동 행위 구제 재심 신청을 A에 하였는데, A가 이를 기각했다.



A의 재심 판정에 불복한 갑이 B에 제기한 소송에서, B는 ○○회사가 갑을 해고한 것은 부당 노동 행위라고 판단했다.

< 보 기 >

- ㄱ. 지방 노동 위원회는 갑의 해고에 대해 부당 노동 행위라고 판단했다.
- ㄴ. ○○회사의 노동조합도 갑의 해고에 대한 구제를 지방 노동 위원회에 신청할 수 있었다.
- ㄷ. A는 갑의 해고에 대해 근로 3권을 침해한 행위가 아니라고 판단했다.
- ㄹ. 갑은 ○○회사를 상대로 B에 행정 소송을 제기했다.

- ① ㄱ, ㄴ ② ㄱ, ㄷ ③ ㄴ, ㄷ ④ ㄴ, ㄹ ⑤ ㄷ, ㄹ

17. 국제 관계를 바라보는 갑, 을의 관점에 대한 설명으로 옳은 것은?

갑: 각국은 배타적으로 자국의 이익을 실현하려 하므로 전쟁을 피하기 위해서는 힘의 균형이 이루어져야 합니다.
 을: 국가들은 국제 사회의 규범을 준수하고 상호 협력함으로써 공동선과 평화를 실현할 수 있습니다.

- ① 갑의 관점은 집단 안보 체제를 통한 평화 실현을 중시한다.
- ② 을의 관점은 국제 사회를 '만인에 대한 만인의 투쟁 상태'로 본다.
- ③ 갑의 관점은 을의 관점과 달리 국제법과 국제 기구의 역할을 강조한다.
- ④ 을의 관점은 갑의 관점과 달리 개별 국가의 이익과 국제 사회 전체의 이익이 조화될 수 있다고 본다.
- ⑤ 갑의 관점, 을의 관점은 모두 국제 사회에서 강제력을 행사할 수 있는 중앙 정부가 존재한다고 본다.

18. 밑줄 친 ㉠~㉣에 대한 설명으로 옳은 것은?

㉠○○군 ㉡□□읍 주민 자치회는 주민 자치 센터에서 주민 총회를 개최했다. 주민 총회에서는 ○○군청 소관 부서의 ㉢예산 검토를 거친 7건의 주민 제안 사업의 시행이 결정되었다. 주민 총회에 참석한 ㉣○○군수와 ㉤○○군 의회 의장은 주민 제안 사업을 최대한 지원하겠다고 약속하였다.

- ① ㉠은 광역 자치 단체, ㉡은 기초 자치 단체이다.
- ② ㉢의 심의·확정권은 ㉣이 행사한다.
- ③ ㉤의 지역구 의원은 소선거구제로 선출된다.
- ④ ㉤의 구성원은 ㉣과 달리 주민 소환의 대상이 될 수 있다.
- ⑤ 지방 자치 단체에서 ㉣은 집행 기관, ㉤은 의결 기관이다.

19. 국제 연합의 주요 기관 A, B에 대한 설명으로 옳은 것은? [3점]

A에서 실시한 선거에서 투표에 참여한 192개 회원국 중 3분의 2 이상이 찬성하여 우리나라는 국제 연합의 실질적 의사 결정 기관인 B의 비상임 이사국으로 선출되었다.

- ① A의 의결 방식에는 힘의 논리가 반영되어 있다.
- ② B의 모든 이사국은 임기가 2년이다.
- ③ A는 B와 달리 국제 평화를 위해 군대를 파견할 수 있다.
- ④ B는 A와 달리 표결 시 1국 1표주의가 적용된다.
- ⑤ A, B는 모두 국제 사법 재판소 재판관의 선출권을 가진다.

20. 다음 자료에 대한 분석으로 옳은 것은? [3점]

○○국 의회는 단순 다수제로 선출되는 지역구 의원 6명으로만 구성된다. 표는 최근 의회 의원 선거 결과이다.

| 선거구 | 유권자 수(명) | 투표율 (%) | 후보자 득표율(%) | | | |
|-----|----------|---------|------------|----|----|----|
| | | | A당 | B당 | C당 | D당 |
| I | 100 | 80 | 45 | 20 | 20 | 15 |
| II | 200 | 80 | 15 | 50 | 30 | 5 |
| III | 100 | 80 | 50 | 10 | 30 | 10 |
| IV | 200 | 100 | 10 | 55 | 25 | 10 |
| V | 100 | 100 | 20 | 30 | 40 | 10 |
| VI | 200 | 100 | 45 | 25 | 20 | 10 |

* 무소속 후보자와 무효표는 없음.

○○국은 선거 제도를 개편하고자 한다. 지역구 의원은 현행과 같은 방식으로 6명을 선출하고, 비례 대표 의원은 갑 권역(I~III 선거구)에서 4명, 을 권역(IV~VI 선거구)에서 5명을 권역별로 다음과 같은 방식에 따라 선출한다. 개편안에 대한 선거 결과 판단은 최근 선거 결과를 기준으로 한다.

비례 대표 의석은 권역별 비례 대표 의석수(갑 권역 4석, 을 권역 5석)에 의석 할당 정당의 득표 비율을 곱하여 산출된 수의 정수(整數)만큼 각 의석 할당 정당에 배분하고 잔여 의석은 소수점 이하의 수가 큰 순서대로 각 의석 할당 정당에 1석씩 배분한다. 의석 할당 정당의 득표 비율은 각 의석 할당 정당의 득표수를 모든 의석 할당 정당의 득표수 합으로 나눈 값이다. 단, 의석 할당 정당은 권역별 유효 투표 총수의 10% 이상을 득표하여야 한다.

- ① 개편안의 경우 의회 의원 당선자 수는 B당이 C당의 3배이다.
- ② 개편안의 경우 D당은 갑 권역, 을 권역 모두에서 비례 대표 의석을 배분받는다.
- ③ 개편안의 경우 지역구 의원 선거의 후보자 중 3명이 각 지역구 유권자의 50% 이상 지지로 당선된다.
- ④ 현행과 달리 개편안에서 A당은 과소 대표된다.
- ⑤ 현행보다 개편안의 의석률이 낮은 정당은 A당뿐이다.

* 확인 사항

○ 답안지의 해당란에 필요한 내용을 정확히 기입(표기)했는지 확인하십시오.

제 4 교시

사회탐구 영역(사회·문화)

성명 수험번호 3 제 () 선택

1. 밑줄 친 ㉠~㉣과 같은 현상의 일반적인 특징에 대한 설명으로 옳은 것은?

지구 온난화로 ㉠ 개화 시기가 빨라지고 있다는 연구 결과가 발표되었다. 연구 팀은 농작물의 개화 시기와 꿀벌의 활동 시기가 맞지 않아 ㉡ 농작물의 꽃가루받이가 위협받고 있다고 지적하였다. 사람이 꿀벌 대신 꽃가루받이를 하는 경우가 많아지면서 ㉢ 농작물의 생산 비용이 증가하고 있다.

- ① ㉠과 같은 현상은 ㉡과 같은 현상과 달리 가치 함축적이다.
- ② ㉠과 같은 현상은 ㉢과 같은 현상에 비해 인과 관계가 명확하다.
- ③ ㉡과 같은 현상은 ㉢과 같은 현상과 달리 보편성과 특수성이 공존한다.
- ④ ㉢과 같은 현상은 ㉠과 같은 현상과 달리 경험적 자료로 연구할 수 있다.
- ⑤ ㉠과 같은 현상은 ㉡, ㉢과 같은 현상과 달리 확률의 원리가 작용한다.

2. 다음 사회 변동 방향을 바라보는 이론에 대한 옳은 설명만을 <보기>에서 고른 것은?

사회가 겪을 수 있는 위기는 지속적으로 이어지는 발전 과정에서 나타나는 일시적인 현상일 뿐이다. 이러한 위기를 극복하면서 사회는 보다 발전되고 분화된 사회로 나아간다.

- < 보 기 >
- ㄱ. 서구 사회가 가장 진보한 사회임을 전제로 한다.
 - ㄴ. 사회 변동이 일정한 방향성을 가지고 있다고 본다.
 - ㄷ. 사회가 주기적으로 동일한 과정을 반복하며 변동한다고 본다.
 - ㄹ. 사회 변동에 작용하는 인간의 영향력을 과소평가한다는 비판을 받는다.

3. 밑줄 친 ㉠~㉣에 대한 설명으로 옳은 것은?

판소리의 매력에 빠진 외국인 갑은 다니던 회사에서 ㉠ 한국 전통 음악 동호회를 만들었고, 한국 유학을 ㉡ 고민하게 되었다. 결국 갑은 ㉢ 회사를 그만두고 한국으로 와 ㉣ ○○ 대학교에서 판소리를 공부하였다. △△대학원 진학 후에는 판소리를 주제로 훌륭한 논문을 써 ㉤ 우수 논문상을 받았다.

- ① ㉡은 갑의 역할 갈등이다.
- ② ㉠은 ㉢과 달리 결합 자체를 목적으로 하는 사회 집단이다.
- ③ ㉢과 ㉣은 모두 공식적 사회화 기관이다.
- ④ ㉤은 ㉣의 구성원으로서 갑의 역할 행동에 대한 보상이다.
- ⑤ ㉢, ㉣은 ㉠과 달리 공식적 규범을 통한 구성원 통제가 일반적이다.

4. 다음 자료에 대한 설명으로 옳은 것은? (단, A와 B는 각각 산업 사회와 정보 사회 중 하나임.) [3점]

○ 과제: 제시된 비교 기준에 따라 A와 B를 비교할 때, 상대적으로 '강함(높음)'으로 평가되는 사회의 스티커를 떼어 답란에 붙이시오.

스티커

A: ●●●● B: ★★★★★

○ 학생 값이 붙인 스티커와 교사의 평가

| 비교 기준 | 답란 | 교사의 평가 |
|---------------|----|--------|
| 가정과 일터의 결합 정도 | ● | 오(☹)답 |
| (가) | ★ | 오(☹)답 |
| 쌍방향 매체의 활용 비중 | ㉠ | 정(☺)답 |
| (나) | ● | 정(☺)답 |

- ① ㉠은 '●'이다.
- ② (가)에 '지식 서비스 산업 종사자의 비중'이 들어갈 수 있다.
- ③ (나)에 '소품종 대량 생산 방식의 비중'이 들어갈 수 있다.
- ④ A는 B에 비해 사회 변동의 속도가 빠르다.
- ⑤ B는 A에 비해 정보 제공자와 수용자 간의 구분이 명확하다.

5. 다음 자료에 대한 옳은 설명만을 <보기>에서 있는 대로 고른 것은? (단, A와 B는 각각 관료제와 탈관료제 중 하나임.) [3점]

(가)~(라)는 사회 조직 형태인 A와 B를 비교한 진술인데, 네 개의 진술 중 두 개는 옳고, 두 개는 옳지 않다.

(가) (나) (다) (라)

| | | | |
|------------------------------|-------------------------|---------------------------|---|
| A가 B보다 업무의 전문화 및 세분화 정도가 높다. | A가 B보다 성과에 따른 보상을 중시한다. | B가 A보다 구성원의 재량권 보장을 중시한다. | ㉠ |
|------------------------------|-------------------------|---------------------------|---|

- < 보 기 >
- ㄱ. (가)가 옳은 진술이면, A가 B보다 환경 변화에 대한 신속한 대응에 유리하다.
 - ㄴ. (나)가 옳은 진술이면, ㉠에 'B가 A보다 업무 수행 과정에 대한 예측 가능성이 높다.'가 들어갈 수 있다.
 - ㄷ. B가 하향식 의사 결정 방식이 지배적이면, (다)와 (라)는 모두 옳은 진술이다.

- ① ㄱ
- ② ㄴ
- ③ ㄱ, ㄷ
- ④ ㄴ, ㄷ
- ⑤ ㄱ, ㄴ, ㄷ

6. 다음 글에 부각되어 있는 문화의 속성만을 <보기>에서 고른 것은?

이앙기 등 농기계를 이용한 농법이 기존 농법을 대체하면서 갑국 농촌도 크게 변화하였다. 요즘 갑국 농촌에서는 주민들이 함께 새참을 먹고 모를 심는 문화가 사라졌다. 주민들 간에 서로 도울 일이 없어지면서 공동체 의식도 약해졌다.

- < 보 기 > —
- ㄱ. 문화는 세대 간 전승을 통해 더욱 풍부해진다.
 - ㄴ. 문화는 그 형태나 의미가 고정된 생활 양식이 아니다.
 - ㄷ. 문화는 후천적인 학습에 의해 향유되는 생활 양식이다.
 - ㄹ. 한 사회의 문화를 구성하는 요소들은 상호 유기적으로 결합되어 있다.

- ① ㄱ, ㄴ ② ㄱ, ㄷ ③ ㄴ, ㄷ ④ ㄴ, ㄹ ⑤ ㄷ, ㄹ

7. 밑줄 친 ㉠~㉣에 대한 설명으로 옳은 것은?

갑국에는 ㉠ 지역 문화, 세대 문화 등 다양한 ㉡ 하위문화가 존재한다. 최근 갑국에서는 ㉢ 주류 문화와 성격이 다른 ㉣ 청년 세대 문화가 주목받고 있다. 갑국의 청년 세대는 기성세대와 달리 어릴 때부터 ㉤ 디지털 기술을 접하여 소셜 미디어 활용 능력이 뛰어나고, ㉥ 개성을 중시하는 가치관이 강하다.

- ① ㉠에서 '문화'는 좁은 의미로 사용되었다.
- ② ㉢은 ㉡의 총합이다.
- ③ ㉣은 갑국의 문화 다양성 증진에 기여한다.
- ④ ㉤을 향유하는 사람은 ㉥을 향유하지 않는다.
- ⑤ ㉢과 ㉣은 모두 비물질문화이다.

8. 다음 자료에 대한 분석으로 옳은 것은? [3점]

갑국의 계층은 각각 상층, 중층, 하층 중 하나인 A~C로만 구분된다. 자녀 세대에서 A와 B에는 모두 세대 간 하강 이동한 자녀가 존재하고, A와 C에는 모두 세대 간 상승 이동한 자녀가 존재한다. 표는 갑국의 세대별 계층 구성 비율을 나타낸 것이다.

(단위: %)

| 구분 | A | B | C |
|-------|----|----|----|
| 부모 세대 | 50 | 30 | 20 |
| 자녀 세대 | 15 | 60 | 25 |

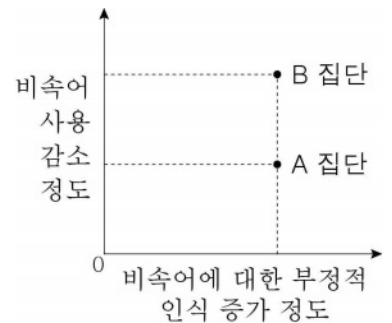
- ① 하층 비율은 부모 세대가 자녀 세대보다 높다.
- ② 중층 비율 대비 상층 비율은 자녀 세대가 부모 세대보다 크다.
- ③ A에 속한 부모의 자녀가 세대 간 상승 이동하면 B에 속하게 된다.
- ④ B에 속한 부모의 자녀가 C에 속하게 되는 것은 세대 간 하강 이동의 결과이다.
- ⑤ 자녀 세대의 계층 구조가 부모 세대의 계층 구조보다 사회 통합의 실현에 유리하다.

9. 다음 자료에 대한 설명으로 옳은 것은? [3점]

갑은 ㉠ 청소년의 비속어 사용이 증가하고 있고, 특히 고등학생이 가장 심각하다는 기사를 접하였다. 이에 갑은 비속어 사용 예방 프로그램인 ㉡ ○○ 프로그램의 수강 기간이 고등학생의 비속어에 대한 인식과 비속어 사용 정도에 미치는 영향을 연구하기로 하였다. 갑이 세운 가설은 다음과 같다.

- <가설 1> ○○ 프로그램을 장기간 수강한 고등학생이 단기간 수강한 고등학생에 비해 비속어에 대한 부정적 인식이 더 강해질 것이다.
- <가설 2> ○○ 프로그램을 장기간 수강한 고등학생이 단기간 수강한 고등학생에 비해 비속어를 덜 사용하게 될 것이다.

갑은 ㉢ 고등학생 100명을 모집한 후 50명씩 A, B 집단에 배정하였다. 두 집단의 비속어에 대한 인식과 비속어 사용 정도가 동일함을 확인한 후, A 집단은 1개월 동안 ○○ 프로그램을 수강하게 하고, B 집단은 6개월 동안 ○○ 프로그램을 수강하게 하였다. 이후 ㉣ 검사를 사용하여 비속어에 대한 인식과 비속어 사용 정도를 측정하였다. 오른쪽 그림은 자료 분석 결과를 나타낸 것이고, 분석 결과는 통계적으로 유의미하다.



- ① ㉠은 모집단, ㉢은 표본이다.
- ② ㉡은 ㉢과 달리 연구자의 가치 중립이 요구되는 단계이다.
- ③ A 집단은 통제 집단, B 집단은 실험 집단이다.
- ④ 독립 변인은 ○○ 프로그램 수강 여부이다.
- ⑤ <가설 1>은 기각되고, <가설 2>는 수용된다.

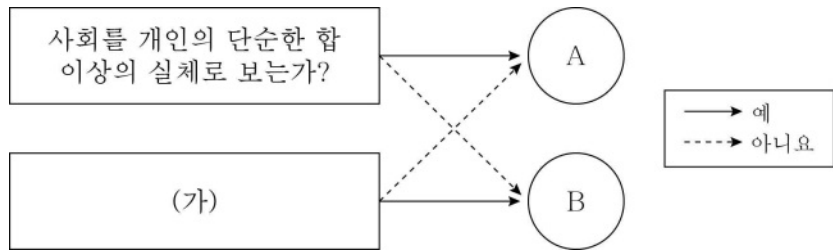
10. 다음 자료의 A~C에 대한 설명으로 옳은 것은? (단, A~C는 각각 문화 상대주의, 문화 상대주의, 자문화 중심주의 중 하나임.) [3점]

표는 문화 이해의 태도 A~C에 대한 질문과 갑, 을의 응답 및 교사의 채점 결과를 나타낸 것이다. 교사는 질문별로 채점하고, 각 질문에 대해 '예'로 답할 수 있는 태도만을 모두 적은 경우 1점, 그렇지 않은 경우 0점을 부여한다.

| 질문 | 응답 | |
|----------------------|------|------|
| | 갑 | 을 |
| 문화의 다양성 보존에 기여하는가? | A | B |
| 문화를 우열 평가의 대상으로 보는가? | A, C | A, C |
| 자기 문화가 가장 우수하다고 믿는가? | C | B, C |
| 교사의 채점 결과 | 2점 | 2점 |

- ① A는 문화 상대주의이다.
- ② B는 제3자의 입장에서 문화를 이해하고자 한다.
- ③ A는 C와 달리 자기 문화의 정체성 보존에 유리하다.
- ④ B는 A와 달리 선진 문물의 수용에 적극적이다.
- ⑤ C는 B와 달리 문화 제국주의로 이어질 수 있다.

11. 그림은 질문을 통해 개인과 사회의 관계를 바라보는 관점 A, B를 구분한 것이다. 이에 대한 설명으로 옳은 것은?



- ① A는 사회 문제의 해결 방안으로 제도 개선보다 의식 개선을 중시한다.
- ② B는 사회가 개인에 대하여 외재성을 갖는다고 본다.
- ③ A는 B와 달리 사회의 특성이 구성원들의 특성으로 환원될 수 있다고 본다.
- ④ B는 A와 달리 사회 전체의 이익이 개인별 이익의 총합에 불과하다고 본다.
- ⑤ (가)에 '사회가 개인의 자유와 권리를 보장하기 위한 수단이라고 보는가?'가 들어갈 수 없다.

12. 밑줄 친 ㉠, ㉡에 대한 설명으로 옳은 것은?

○ 갑국의 시민 단체들은 3년 전부터 ㉠오랜 기간 이어져 온 조혼 풍습을 금지하는 법의 제정을 요구하는 활동을 하고 있다.

○ 을국에서는 20년 전 농산물 수입을 허용한 이후 농촌이 몰락하자 3년 전부터 농민 단체들이 농촌 경제 활성화를 위해 ㉡농산물 수입 금지를 요구하는 활동을 하고 있다.

- ① ㉠은 ㉡과 달리 체계적인 조직을 바탕으로 한다.
- ② ㉠은 ㉡과 달리 활동을 정당화하는 신념을 바탕으로 한다.
- ③ ㉡은 ㉠과 달리 집단 간 갈등을 초래할 우려가 있다.
- ④ ㉡은 ㉠과 달리 특정 집단만의 이익을 추구하므로 사회 운동이 아니다.
- ⑤ ㉠과 ㉡은 모두 사회의 변화를 목적으로 한다.

13. 갑국, 을국에 대한 옳은 설명만을 <보기>에서 고른 것은? [3점]

갑국 사람들은 얇은 빵에 볶은 채소를 싸서 먹는 음식인 A를 즐겼는데, 이것이 을국의 대표 음식인 B의 유래이다. 갑국을 정복한 을국은 갑국에 을국의 문화를 이식하려 하였으나 실패하였다. 오히려 을국 사람들이 갑국에서 살게 되면서 갑국 문화의 영향을 받았다. 을국 사람들이 갑국 사람들로부터 A의 조리법을 배워 본국으로 돌아온 후, 을국 음식 문화에 적용함으로써 을국에서 B가 등장한 것이 그 예이다.

- < 보 기 >
- ㄱ. 갑국에서 발견으로 인한 문화 변동이 나타났다.
 - ㄴ. 을국에서 직접 전파로 인한 문화 변동이 나타났다.
 - ㄷ. 을국에서 문화 융합을 통해 새로운 음식 문화가 나타났다.
 - ㄹ. 갑국에서는 을국과 달리 강제적 문화 접변이 나타났다.

- ① ㄱ, ㄴ ② ㄱ, ㄷ ③ ㄴ, ㄷ ④ ㄴ, ㄹ ⑤ ㄷ, ㄹ

14. 다음 자료에 대한 설명으로 옳은 것은? (단, A~C는 각각 낙인 이론, 차별 교제 이론, 머튼의 아노미 이론 중 하나임.) [3점]

교사: 일탈 이론 A~C에 대해 설명해 보세요.
 갑: B는 일탈 행동이 학습의 결과임을 강조합니다.
 을: A와 B는 모두 사회 구조적 측면에서 일탈 행동의 원인을 설명합니다.
 병: C는 A와 달리 일탈 행동을 규정하는 객관적인 기준이 있다고 봅니다.
 정: _____ (가)
 교사: ㉠한 사람만 제외하고 모두 옳게 설명했습니다.

- ① ㉠은 갑이다.
- ② A는 일탈 행동이 그 행동에 대한 사회적 반응이 아니라 그 행동의 속성에 의해 규정된다고 본다.
- ③ B는 일탈 행동의 기술과 달리 일탈 행동에 대한 우호적인 가치관은 학습되지 않는다고 본다.
- ④ C는 문화적 목표와 제도적 수단 간의 괴리를 일탈 행동의 원인으로 본다.
- ⑤ (가)에 'A, C는 B와 달리 개인이 타인과의 상호 작용을 통해 일탈자가 되어가는 과정에 주목합니다.'가 들어갈 수 있다.

15. 다음 자료에 대한 분석으로 옳은 것은? [3점]

갑국 전체 근로자 월평균 임금은 2000년에 3,800달러이고, 2020년에 4,800달러이다. 표는 갑국 근로자 집단별 월평균 임금 갭을 나타낸 것이다. 단, 각 연도에 연령대별 남성 근로자 수가 모두 같고, 연령대별 여성 근로자 수도 모두 같다. (단위: 달러)

| 연령대 | 2000년 | | 2020년 | |
|--------|-------|--------|-------|------|
| | 남성 | 여성 | 남성 | 여성 |
| 20대 이하 | -800 | -1,300 | -800 | -800 |
| 30대 | -300 | -500 | -300 | -600 |
| 40대 | 700 | -100 | 700 | 200 |
| 50대 이상 | 1,200 | 700 | 1,200 | 400 |
| 전체 | 200 | -300 | 200 | -200 |

* 갑국 근로자 집단별 월평균 임금 갭(달러) = 해당 근로자 집단 월평균 임금 - 갑국 전체 근로자 월평균 임금

- ① 2000년에 월 임금 총액은 20대 이하 남성 근로자와 50대 이상 여성 근로자가 같다.
- ② 2020년에 월평균 임금은 30대 남성 근로자가 40대 여성 근로자보다 크다.
- ③ 30대 근로자의 성별 월평균 임금의 차이는 2000년이 2020년보다 크다.
- ④ 2000년 대비 2020년에 40대 근로자의 월평균 임금 증가율은 남성이 여성보다 크다.
- ⑤ 연령대별 근로자의 성별 월평균 임금의 차이는 2000년과 2020년 모두 50대 이상이 가장 크다.

16. 자료 수집 방법 A~C의 일반적인 특징에 대한 설명으로 옳은 것은? (단, A~C는 각각 면접법, 질문지법, 참여 관찰법 중 하나임.)

우리나라의 노인 문제에 관하여 갑은 A, 을은 B, 병은 C를 사용해 자료를 수집했다. 갑, 을은 병과 달리 연구 대상자와의 언어적 상호 작용이 필수적인 방법을 사용했고, 을은 갑, 병과 달리 통계 분석에 적합한 자료를 수집했다.

- ① A는 C와 달리 문맹자를 대상으로 한 자료 수집이 용이하다.
- ② B는 A와 달리 연구자와 연구 대상자 간의 정서적 유대 관계의 형성이 중요하다.
- ③ C는 B와 달리 실제성이 높은 자료를 수집하는 데 적합하다.
- ④ B는 A, C와 달리 방법론적 이원론에 기초한 연구에서 주로 사용된다.
- ⑤ A, B는 C에 비해 자료 해석 시 연구자의 편견이 개입될 우려가 크다.

17. 다음 자료에 대한 설명으로 옳은 것은?

갑국에서 소득이 최저 생계비 미만인 가구는 ㉠ 절대적 빈곤 가구로, 소득이 중위 소득의 50% 미만인 가구는 ㉡ 상대적 빈곤 가구로 분류된다. 2022년에 갑국에서 소득이 중위 소득의 50% 이상인 가구의 수는 전체 가구 중 80%이고, 소득이 최저 생계비 미만인 가구 수의 10배이다. 단, 갑국에서 모든 가구의 구성원 수는 같다.

- ① ㉠은 ㉡과 달리 객관적인 기준에 의해 규정된다.
- ② ㉡은 ㉠과 달리 한 사회의 소득 분포를 고려하여 규정된다.
- ③ ㉠과 ㉡은 모두 소득 불평등이 전혀 없는 사회에서는 나타나지 않는다.
- ④ 2022년에 갑국에서 전체 가구 중 상대적 빈곤 가구의 비율은 8%이다.
- ⑤ 2022년에 갑국에서 전체 빈곤 가구 중 절대적 빈곤 가구의 비율은 50%보다 높다.

18. 사회·문화 현상을 바라보는 갑~병의 관점에 대한 설명으로 옳은 것은? (단, 갑~병의 관점은 각각 갈등론, 기능론, 상징적 상호 작용론 중 하나임.)

갑: 친환경 경영은 우리 사회 전체의 필요에 의해 나타나는 현상으로서 우리 사회의 지속 가능한 발전에 기여합니다.
 을: 소비자들이 친환경 경영에 큰 가치를 부여하고, 기업 경영자들이 이에 부응하면서 친환경 경영이 퍼지고 있습니다.
 병: 친환경 경영은 모두에게 도움이 되는 것처럼 보이지만 실제로는 지배 집단의 기득권 유지 수단일 뿐입니다.

- ① 갑의 관점은 사회 각 부분 간의 상호 의존 관계를 강조한다.
- ② 을의 관점은 대립과 갈등을 사회의 본질적 속성으로 본다.
- ③ 병의 관점은 개인이 사회 구조에 대해 자율성을 가진 존재라고 본다.
- ④ 을의 관점은 갑의 관점과 달리 사회 구조적 측면에서 사회·문화 현상을 바라본다.
- ⑤ 병의 관점은 을의 관점과 달리 사회를 유기체로 간주한다.

19. 다음 자료의 갑 지역에 대한 분석으로 옳은 것은? [3점]

- 우리나라의 사회 보장 제도
 A: 노령, 장애, 사망 시 본인 또는 유족에게 노령 연금, 장애 연금, 유족 연금 등을 지급하여 생활 안정을 보장하는 제도
 B: 65세 이상 노인 중 소득이 일정 수준 이하인 노인에게 연금을 지급하여 생활 안정을 지원하는 제도
- 우리나라 갑 지역의 A, B 수급자 비율 분석

(단위: %)

| 구분 | 2020년 | 2021년 |
|--------------------|-------|-------|
| A의 수급자 중 B의 수급자 비율 | 20 | 35 |
| B의 수급자 중 A의 수급자 비율 | 25 | 28 |

* 갑 지역 인구는 100만 명으로 일정하고, 갑 지역 인구 중 상호 부조의 원리에 기초한 제도의 수급자 비율은 2020년과 2021년이 20%로 같음.

- ① 2020년에 수익자 부담의 원칙을 적용하는 제도의 수급자가 그렇지 않은 제도의 수급자보다 적다.
- ② 2021년에 의무 가입의 원칙을 적용하는 제도의 수급자가 그렇지 않은 제도의 수급자보다 많다.
- ③ 2020년에 사후 처방적 성격이 강한 제도의 수급자가 사전 예방적 성격이 강한 제도의 수급자보다 4만 명 많다.
- ④ 2020년 대비 2021년에 선별적 복지 이념에 기초한 제도의 수급자에만 해당하는 사람의 증가율은 50%이다.
- ⑤ 2020년 대비 2021년에 공공 부조에 해당하는 제도의 수급자에만 해당하는 사람과 달리 사회 보험에 해당하는 제도의 수급자에만 해당하는 사람은 증가하였다.

20. 다음 자료에 대한 분석으로 옳은 것은? [3점]

표는 갑국의 인구 관련 지표를 나타낸 것이다. t년 대비 t+50년에 총인구 증가율은 200%이다.

| 구분 | 총부양비 | 노령화 지수 |
|-------|------|--------|
| t년 | 100 | 25 |
| t+50년 | 50 | 100 |

- * 총부양비 = 유소년 부양비 + 노년 부양비
- * 유소년 부양비 = $\frac{\text{유소년 인구}(0 \sim 14\text{세 인구})}{\text{부양 인구}(15 \sim 64\text{세 인구})} \times 100$
- * 노년 부양비 = $\frac{\text{노년 인구}(65\text{세 이상 인구})}{\text{부양 인구}(15 \sim 64\text{세 인구})} \times 100$
- * 노령화 지수 = $\frac{\text{노년 인구}(65\text{세 이상 인구})}{\text{유소년 인구}(0 \sim 14\text{세 인구})} \times 100$

- ① 부양 인구는 t+50년이 t년의 4배이다.
- ② 유소년 인구는 t+50년이 t년보다 적다.
- ③ 유소년 부양비는 t년이 t+50년보다 작다.
- ④ 노년 인구 대비 부양 인구는 t+50년이 t년보다 크다.
- ⑤ t+50년에는 t년과 달리 총인구 중 노년 인구의 비율이 20%보다 높다.

* 확인 사항

- 답안지의 해당란에 필요한 내용을 정확히 기입(표기)했는지 확인하시오.