

목록

01.3월_고3_사회(생활과윤리).....	1
02.3월_고3_사회(윤리와사상).....	5
03.3월_고3_사회(한국지리).....	9
04.3월_고3_사회(세계지리).....	13
05.3월_고3_사회(동아시아사).....	17
06.3월_고3_사회(세계사).....	21
07.3월_고3_사회(경제).....	25
08.3월_고3_사회(정치와법).....	29
09.3월_고3_사회(사회문화).....	33

제 4 교시

사회탐구 영역 (생활과 윤리)

성명		수험번호					3			제 [ ] 선택
----	--	------	--	--	--	--	---	--	--	----------

1. (가), (나) 윤리학의 핵심 과제로 가장 적절한 것은?

(가) 윤리학은 개인의 생활 및 사회 구조 속에 존재하는 도덕 현상의 인과 관계에 대한 경험적 지식을 가치 중립적으로 기술하는 데 주력해야 한다.  
 (나) 윤리학은 타당한 도덕 원리를 바탕으로 생명, 정보, 환경 등 다양한 영역의 도덕 문제에 적용 가능한 실천적 대안을 모색하는 데 주력해야 한다.

- ① (가): 삶의 방향 정립을 위한 도덕 원리를 탐구하는 것이다.
- ② (가): 윤리학이 학문으로서 성립 가능한지를 검토하는 것이다.
- ③ (나): 도덕 명제를 구성하는 개념의 의미를 분석하는 것이다.
- ④ (나): 도덕 문제 해결을 위한 구체적 지침을 제공하는 것이다.
- ⑤ (가)와 (나): 도덕 추론의 과정이 타당한지를 논증하는 것이다.

2. 갑, 을 사상가들의 입장으로 적절한 것만을 <보기>에서 고른 것은?

갑: 모든 좋고 나쁨은 감각에 달려 있다. 우리가 존재하는 동안 죽음은 우리와 함께 있지 않으며, 죽음이 오면 이미 우리는 존재하지 않기에 죽음은 우리에게 아무것도 아니다.  
 을: 중생은 탐욕, 성냄, 어리석음으로 인해 생로병사의 고통에서 벗어날 수 없다. 그러므로 수행을 통해 삼독(三毒)을 끊어내면 해탈의 경지에 이르게 된다.

< 보 기 >  
 ㄱ. 갑: 자신의 죽음을 경험할 수 있다고 생각해서는 안 된다.  
 ㄴ. 을: 중생은 열반에 이르러야 다음 생의 행복을 보장받는다.  
 ㄷ. 을: 불멸(不滅)을 갈망하는 인간에게는 생사가 반복된다.  
 ㄹ. 갑과 을: 인간의 영혼은 죽음 이후에도 사라지지 않는다.

- ① ㄱ, ㄴ    ② ㄱ, ㄷ    ③ ㄴ, ㄷ    ④ ㄴ, ㄹ    ⑤ ㄷ, ㄹ

3. 다음을 주장한 사상가의 입장으로 가장 적절한 것은? [3점]

국가는 국가 자신을 제외하고는 어느 누구에 의해서도 명령이나 지배를 받지 않는다. 한 국가를 다른 국가에 병합시킨다면, 그것은 도덕적 인격체로서의 국가의 지위를 파괴하는 것이며 국가를 물건으로 간주하는 것이다. 평화 연맹은 국가의 권력에 대한 어떤 지배를 목표로 하지 않는다. 이 연맹은 국가 자체의 자유를 지속시키고 보호하며, 별다른 이유가 없는 한 다른 국가들의 자유를 보호하고 지속시킬 뿐이다.

- ① 모든 국가는 이방인에 대한 환대권을 무조건 보장해야 한다.
- ② 국가 간 평화 조약으로 국제 사회의 영원한 평화가 보장된다.
- ③ 영구 평화 실현을 위해서는 어떠한 전쟁도 허용되면 안 된다.
- ④ 국가 간 평화 보장을 위해서는 법적 근거가 마련되어야 한다.
- ⑤ 국가의 주권은 평화를 지향하는 국제 연맹에 양도되어야 한다.

4. 다음을 주장한 사상가의 입장으로 적절한 것만을 <보기>에서 있는 대로 고른 것은? [3점]

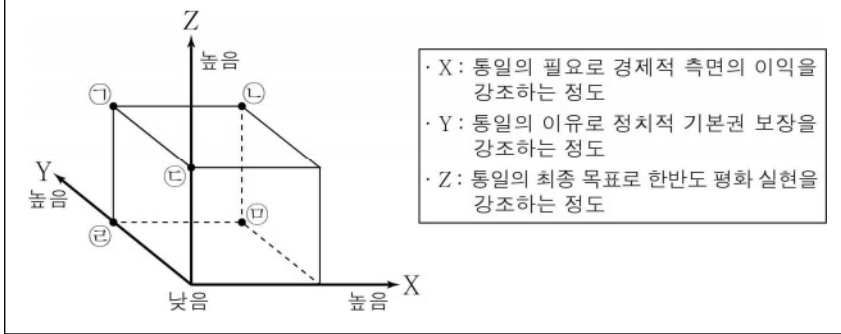
시민 불복종을 통해서 우리는 공동 사회의 다수자가 갖는 정의감을 나타내게 되고, 자유롭고 평등한 사람들 사이에서 사회 협동체의 원칙이 존중되지 않고 있음을 선언하게 된다. 시민 불복종은 신중하고 양심적인 정치적 신념의 표현인 청원의 한 형태이기에 은밀히 혹은 비밀리에 행해지는 것이 아니라 공개 석상에서 이루어진다.

< 보 기 >  
 ㄱ. 시민 불복종은 항의의 대상이 되는 법을 위반할 때만 정당화된다.  
 ㄴ. 정치 체제의 효율성을 위해 시민 불복종에 대한 제약이 있을 수 있다.  
 ㄷ. 정의의 원칙과 일치하는 종교적 신념은 시민 불복종의 근거가 될 수 있다.  
 ㄹ. 시민의 평등한 기본적 자유를 현저하게 침해한 정책은 시민 불복종의 대상이 된다.

- ① ㄱ, ㄴ    ② ㄱ, ㄷ    ③ ㄴ, ㄹ
- ④ ㄱ, ㄷ, ㄹ    ⑤ ㄴ, ㄷ, ㄹ

5. (가)의 입장에 비해 (나)의 입장이 갖는 상대적 특징을 그림의 ㉠~㉤ 중에서 고른 것은?

(가) 한반도에서 전쟁 위험이 해소되어야 하는 가장 주요한 이유는 경제적 이익의 증진이다. 분단으로 인한 전쟁 위험은 남북한 주민의 정치적 자유를 제한할 수도 있다. 하지만 소모적인 군사비 지출과 같은 문제가 분단의 더욱 큰 폐해다. 따라서 통일의 궁극적 목표는 한반도의 경제적 번영이다.  
 (나) 한반도에서 전쟁 위험이 해소되어야 하는 가장 주요한 이유는 적극적 평화의 실현이다. 분단으로 인한 전쟁 위험은 남북한의 경제에 부정적 영향을 끼칠 수도 있다. 하지만 남북한 주민의 정치적 자유를 억압하는 구조적 폭력이 지속되는 것이 분단의 더욱 큰 폐해다. 따라서 통일의 궁극적 목표는 한반도 내 모든 폭력의 제거다.



- ① ㉠    ② ㉡    ③ ㉢    ④ ㉣    ⑤ ㉤

6. 갑, 을 사상가들 모두가 긍정의 대답을 할 질문으로 가장 적절한 것은?

갑: 옳음으로 말미암아 그릇됨이 있고, 그릇됨으로 말미암아 옳음이 있다. 성인(聖人)은 이쪽과 저쪽의 구분에 의거하지 않고 하늘[天]에 비추어 생각한다.  
 을: 군자(君子)가 인(仁)을 떠나면 어찌 군자라는 이름을 이룰 수 있겠는가. 군자는 밥을 먹는 동안에도 인을 떠나지 않으니, 다급한 상황에서도 반드시 인에 머문다.

- ① 마음의 수양을 통해 도(道)를 따르며 살아가야 하는가?
- ② 인위적인 규범에서 벗어나 무위의 삶을 추구해야 하는가?
- ③ 차별 없는 사랑[兼愛]을 인의 출발점으로 삼아야 하는가?
- ④ 시비선악을 분별하고 자연의 질서에 순응하며 살아야 하는가?
- ⑤ 성인이 제정한 예를 바탕으로 만물을 평등하게 대해야 하는가?

7. 갑, 을 사상가들의 입장으로 적절한 것만을 <보기>에서 고른 것은? [3점]

갑: 이익 평등 고려의 원칙에 따르면 어떤 공동체의 구성원이냐가 원조의 의무에 결정적인 차이점을 만들어 낸다는 견해는 도덕적으로 정당화되기 어렵다.  
 을: 고통받는 사회가 질서 정연한 사회의 구성원이 되어 원조의 목적이 달성되면, 정의로운 제도들을 지속하는 데 필요한 것을 넘어서는 요구는 정당화되기 어렵다.

< 보 기 >

- ㄱ. 갑: 국내 부조가 해외 원조보다 우선되어야 하는 경우는 존재하지 않는다.
- ㄴ. 을: 해외 원조의 목적 달성은 원조 대상국의 기근 해소에 도움이 될 수 있다.
- ㄷ. 을: 질서 정연한 사회를 규제하는 모든 정의 원칙을 해외 원조에 적용해야 한다.
- ㄹ. 갑과 을: 해외 원조는 원조 대상국의 정치적 상황에 따라 중단될 수 있다.

- ① ㄱ, ㄴ    ② ㄱ, ㄷ    ③ ㄴ, ㄷ    ④ ㄴ, ㄹ    ⑤ ㄷ, ㄹ

8. 다음을 주장한 사상가의 입장으로 가장 적절한 것은?

담론 윤리의 중요한 특징은 다음과 같다. 담론 과정에 적절하게 기여하는 한 아무도 배제되지 않는다. 그리고 모든 참여자는 담론 과정에 기여할 수 있는 똑같은 기회를 부여받는다. 또한, 의사소통은 외적 강제와 내적 강제로부터 자유로워야 한다.

- ① 담론을 거쳐 도출된 결론에 대해서는 재논의가 허용될 수 없다.
- ② 담론의 과정에서 참여자는 사적인 욕구를 표현해서는 안 된다.
- ③ 담론 참여자는 다수결의 원칙을 통해 타당한 규범에 도달한다.
- ④ 담론을 통해 합의를 이루지 못한 경우에만 강제력이 요청된다.
- ⑤ 담론 참여자는 상호 주관적 합의를 통해 갈등을 해결해야 한다.

9. ㉠에 들어갈 진술로 가장 적절한 것은? [3점]

나는 성적 쾌락 추구 그 자체가 성적 관계의 목적이 될 수 있다고 생각한다. 따라서 성숙한 성인(成人)들이 상호 동의하고, 타인에게 해를 끼치지 않는다면 그러한 성적 관계는 도덕적으로 정당화될 수 있다. 그런데 어떤 사람들은 사랑으로 결합된 부부 사이에서 출산과 양육을 목적으로 한 성적 관계만이 도덕적으로 정당화된다고 주장한다. 나는 이러한 주장이 ㉠고 생각한다.

- ① 쾌락을 위한 성적 관계는 도덕적 평가 대상이 아님을 간과한다
- ② 자발적 성적 관계에는 어떤 책임도 부과되지 않음을 간과한다
- ③ 생식적 가치 존중 없이 성적 관계 정당화가 가능함을 간과한다
- ④ 성적 관계의 정당화에 인격적 가치 존중이 필요함을 간과한다
- ⑤ 사랑하는 사이의 성적 관계도 비도덕적일 수 있음을 간과한다

10. (가)의 갑, 을, 병 사상가들의 입장을 (나) 그림으로 표현할 때, A ~ D에 해당하는 적절한 진술만을 <보기>에서 있는 대로 고른 것은? [3점]

(가)	<p>갑: 동물에 관한 한, 우리는 직접적 의무가 없다. 동물과 관련한 우리의 의무는 단지 인간에 대한 간접적인 의무일 따름이다.                  을: 목적론적 삶의 중심이라면 어떤 존재도 다른 존재보다 더 가치 있다고 간주되지 않는다. 동식물의 선의 실현도 그 자체로 가치 있다고 간주된다.                  병: 삶의 주체에는 단순히 의식을 갖는다는 것 이상이 포함된다. 삶의 주체는 동등한 본래적 가치를 지니며 존중의 태도로 처우받을 권리를 공유한다.</p>
(나)	<p style="text-align: right;">&lt;범례&gt;                  A: 갑만의 입장                  B: 갑과 을만의 공통 입장                  C: 을과 병만의 공통 입장                  D: 갑, 을, 병의 공통 입장</p>

- < 보 기 >
- ㄱ. A: 목적 그 자체가 될 수 있는 존재라면 도덕 행위자로 간주해야 한다.
  - ㄴ. B: 쾌고 감수 능력은 도덕적 지위 여부를 결정하는 기준에 해당하지 않는다.
  - ㄷ. C: 인간의 가치 평가에서 독립하여 가치를 지닌 존재의 이용은 해악보다 이익이 크다면 정당화된다.
  - ㄹ. D: 생명을 지니고 있는 개체만이 의무의 대상이 될 수 있다.

- ① ㄱ, ㄴ    ② ㄱ, ㄷ    ③ ㄷ, ㄹ
- ④ ㄱ, ㄴ, ㄹ    ⑤ ㄴ, ㄷ, ㄹ

11. 다음을 주장한 사상가의 입장으로 적절하지 않은 것은? [3점]

전통 윤리학의 모든 도덕적 명령은 행위의 직접적인 영역에 제한되어 있었다. 그러나 현대 기술이 산출한 행위들의 규모와 대상 및 결과는 너무 새로운 것이기에 전통 윤리의 틀로는 더 이상 파악할 수 없다. 우리의 행위가 가지는 새로운 종류의 본성은 새로운 책임 윤리를 요청한다.

- ① 현세대는 인류가 미래에도 존속할 수 있도록 노력해야 한다.
- ② 과학 기술에 대한 공포는 윤리적 책임의 범위를 축소시킨다.
- ③ 현세대에게는 미래 세대에 대한 일방적인 윤리적 책임이 있다.
- ④ 인간이 책임져야 할 대상에는 비이성적 존재가 포함될 수 있다.
- ⑤ 인간의 책임질 수 있는 능력에서 책임져야 할 의무가 비롯된다.

12. 다음을 주장한 사상가의 입장에서 <문제 상황> 속 A에게 제시할 조언으로 가장 적절한 것은?

이성적인 존재는 자기 자신뿐만 아니라 다른 모든 이성적인 존재를 결코 단순히 수단으로만 대우해서는 안 되고, 언제나 동시에 목적 그 자체로 대우해야 한다.

<문제 상황>

고등학교 A는 세뱃돈으로 무선 이어폰을 동생에게 사주기 위해 약속을 지킬지, 평소 후원하는 단체로부터 받은 감사편지에 감동하여 추가로 기부할지 고민 중이다.

- ① 인간이 마땅히 따라야 할 의무를 동기로 삼아 행위하세요.
- ② 어떤 대안이 최선의 결과를 낳을지를 계산하여 행위하세요.
- ③ 자신의 주변 사람들로부터 인정받을 수 있도록 행위하세요.
- ④ 지적인 덕과 품성적 덕을 갖춘 사람을 본받아서 행위하세요.
- ⑤ 자신의 선택에 따른 쾌락의 질적 차이를 고려하여 행위하세요.

13. 갑, 을 사상가들의 입장으로 적절한 것만을 <보기>에서 있는 대로 고른 것은?

갑: 우리 각자는 공동으로 자신의 인격과 모든 힘을 일반 의지의 최고 지도 아래에 둔다. 그리고 우리는 단체로서 각 구성원을 전체의 분리 불가능한 부분으로 받아들인다.

을: 자연 상태는 비교적 평화로우나 공평무사한 재판관이 없는 상태다. 이 상태에서 각자가 모두 자연법의 집행권을 포기하고 그것을 공동체에게 위탁하는 곳에서만 정치 사회가 존재하게 된다.

< 보 기 >

- ㄱ. 갑: 일반 의지는 언제나 올바르며 공공의 선을 지향한다.
- ㄴ. 을: 재산에 대한 권리는 사회 계약에 의해서만 형성된다.
- ㄷ. 갑과 을: 계약 참여자들의 만장일치의 동의로 사회 계약이 성립한다.

- ① ㄱ      ② ㄴ      ③ ㄱ, ㄷ      ④ ㄴ, ㄷ      ⑤ ㄱ, ㄴ, ㄷ

14. 갑, 을 사상가들의 입장으로 가장 적절한 것은?

대인(大人)의 일이 있고 소인(小人)의 일이 있습니다. 남에게 다스려지는 자는 남을 먹여주고 남을 다스리는 자는 남에게 얻어먹는 것이 천하의 공통된 의리[義]입니다.



사람마다 국가 안에서 자신의 천성에 가장 어울리는 한 가지 일을 해야 합니다. 국가의 세 계층이 자신의 일을 하고 남의 일에 간섭하지 않는 것이 정의(正義)입니다.



- ① 갑: 대인과 소인은 모두 생산을 위한 육체노동에 힘써야 한다.
- ② 갑: 통치자와 백성의 직분은 구분이 되면서도 상호 보완적이다.
- ③ 을: 정의로운 국가에서는 수호자의 재산 축적을 허용해야 한다.
- ④ 을: 계층 간 역할 교환을 바탕으로 사회 질서를 유지해야 한다.
- ⑤ 갑과 을: 모든 구성원에게 동일한 직무가 주어질 때 정의로운 국가가 완성된다.

15. (가)의 사상가 갑, 을의 입장을 (나) 그림으로 탐구하고자 할 때, A~C에 들어갈 적절한 질문만을 <보기>에서 있는 대로 고른 것은? [3점]

(가)	<p>갑: 공정으로서의 정의에 있어서 평등한 원초적 입장의 당사자들은 자신이 선이라고 생각하는 것을 증진시킨다. 이들은 모든 당사자들이 받아들일 수 있는 원칙에 합의하게 된다.</p> <p>을: 소유권적 정의론에서 한 사람의 소유물은 취득, 이전, 시정의 원리에 의해 권리를 부여받았으면 정당한 것이다. 각 개인의 소유물이 정당하다면 소유물의 전체 집합도 정당하다.</p>
(나)	<p>사상가 갑, 을의 입장을 탐구한다.</p> <p>&lt;법 레&gt;        □ : 출발 조건        ◇ : 판단 내용        → : 판단 방향        ◡ : 사상가의 입장</p>

< 보 기 >

- ㄱ. A: 사회 전체의 이익을 최대화하는 것이 최우선의 분배 원칙이 되어야 하는가?
- ㄴ. B: 정의로운 사회의 시민은 타인의 복리에 관심을 가져야 하는가?
- ㄷ. B: 정의의 원칙을 채택할 때 공정한 분배 결과에 대한 독립적 기준이 필수적으로 요구되는가?
- ㄹ. C: 자유롭게 이전받은 배타적 소유권도 제한될 수 있는가?

- ① ㄱ, ㄴ      ② ㄱ, ㄷ      ③ ㄴ, ㄹ
- ④ ㄱ, ㄷ, ㄹ      ⑤ ㄴ, ㄷ, ㄹ

16. 갑, 을 사상가들의 입장으로 가장 적절한 것은? [3점]

갑: 좋은 리듬은 좋은 품성을 갖게 한다. 반면에 나쁜 리듬은 나쁜 성격을 닮게 한다. 쾌락을 담아낸 예술 작품 속에서 자란 젊은이들은 자신도 모르게 나쁜 것을 형성한다.  
 을: 예술가는 아름다운 것을 창조하는 사람이다. 예술가는 윤리적 동정심을 갖지 않는다. 예술가에게 윤리적 동정심은 용서받을 수 없는 매너리즘이다.

- ① 갑: 미를 추구하는 예술 활동은 선의 추구를 지양해야 한다.
- ② 갑: 예술가의 자유를 보장할수록 예술을 통해 선이 증진된다.
- ③ 을: 도덕적 삶은 예술가가 다루는 소재에서 제외되어야 한다.
- ④ 을: 예술 활동에서의 도덕성 추구는 작품의 독창성을 저해한다.
- ⑤ 갑과 을: 예술은 작품을 통해 도덕적 본보기를 제공해야 한다.

17. 갑, 을 사상가들의 입장으로 적절한 것만을 <보기>에서 있는 대로 고른 것은? [3점]

갑: 사회 계약의 산물인 법은 오로지 '최대 다수가 공유하는 최대 행복'을 목표로 해야 한다. 사형은 잔혹한 형벌로 공공의 선에 유용하지 않으므로 부당하다.  
 을: 사회 계약에 사형이 포함될 수 없다는 것은 법의 왜곡이다. 살인했거나 살인에 참여했던 자는 사형에 처해야 한다. 응보법만이 형벌의 질과 양을 정할 수 있다.

< 보 기 >

ㄱ. 갑: 형벌의 목적은 시민의 유사한 범죄를 예방하는 것이다.  
 ㄴ. 갑: 종신 노역형은 시민뿐만 아니라 범죄자의 이익을 위해서도 집행되어야 한다.  
 ㄷ. 을: 사형은 살인범의 범죄 행위에 대해 보복하는 것이다.  
 ㄹ. 갑과 을: 형벌로 인한 공익이 형벌의 해악보다 커야 한다.

- ① ㄱ, ㄷ                      ② ㄱ, ㄹ                      ③ ㄴ, ㄹ
- ④ ㄱ, ㄴ, ㄷ                ⑤ ㄴ, ㄷ, ㄹ

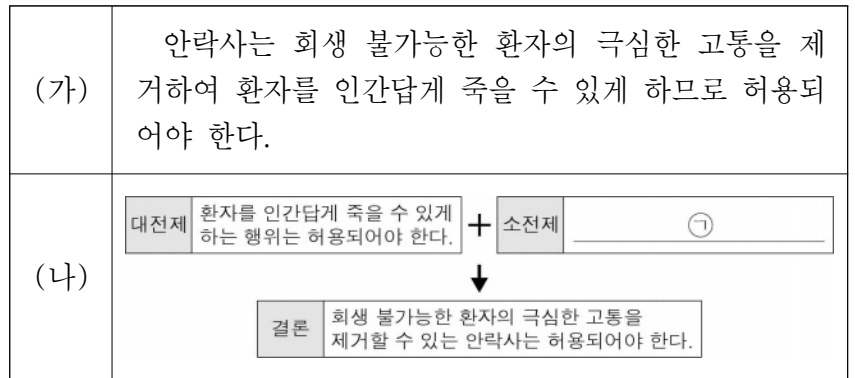
18. 그림의 강연자가 지지할 입장으로 가장 적절한 것은?

여가는 문화 산업이 제공하는 획일적 생산물로 채워집니다. 소비자의 욕구는 문화 산업에 의해 이미 결정된 것입니다. 문화 산업은 무미건조한 행복을 흥미 있는 것으로 보이게 만들며, 대중이 즐긴다는 것은 무엇인가에 대해 더 이상 생각하지 않는다는 것이 됩니다. 자본주의적 생산은 소비자가 자신들에게 제공된 것을 받아들이도록 묶어 놓습니다. 오늘날 문화 산업은 규격품을 만들듯이 인간을 재 생산하려 듭니다.



- ① 문화 산업은 대중이 주체적으로 소유할 수 있도록 도와준다.
- ② 문화 산업은 현실의 모습을 있는 그대로 반영하려 노력한다.
- ③ 문화 산업은 고유성을 지닌 상품 생산을 주된 목표로 삼는다.
- ④ 문화 산업은 생산자가 아닌 소비자의 욕구에 기반해 확산된다.
- ⑤ 문화 산업은 체제의 지배 이념을 정당화하는 도구로 기능한다.

19. (가)의 주장을 (나) 그림으로 나타낼 때, ㉠에 대한 반론의 근거로 가장 적절한 것은? [3점]



- ① 안락사는 환자의 삶의 질을 고려하여 허용될 수 있다.
- ② 안락사는 환자가 지닌 자기 결정권을 존중하는 행위이다.
- ③ 안락사는 환자의 인간 존엄성을 유지하기 위한 방법이다.
- ④ 안락사는 환자의 고통 없이 죽을 수 있는 권리를 보장한다.
- ⑤ 안락사는 환자가 가진 생명권을 침해하는 인위적 죽음이다.

20. 다음 토론의 핵심 쟁점으로 가장 적절한 것은?

갑: 글쓰기 수행 평가를 채점하는 인공 지능 교사(AI 교사) 도입에 대해 찬성합니다. 왜냐하면 자동화된 채점으로 업무의 효율성이 높아지기 때문입니다.  
 을: 효율성 차원에서는 AI 교사 도입을 찬성하지만, 채점의 공정성 문제가 먼저 해결되어야 합니다. 왜냐하면 어떤 알고리즘으로 채점하느냐에 따라 채점 결과가 달라지기 때문입니다.  
 갑: 아닙니다. AI 교사는 일률적으로 평가할 수 있는 채점 알고리즘을 채택해 적용하므로 채점의 공정성 문제는 발생하지 않습니다. 오히려 다양한 채점 알고리즘 적용으로 글쓰기가 다양해지는 효과를 얻을 수 있습니다.  
 을: AI 교사의 도입으로 평가 기준이 일률적으로 적용될 수 있지만 평가 기준 자체가 편향적이어서 공정성 문제는 해결되지 않습니다. 더욱이 특정 알고리즘에 대비하다 보면 글쓰기가 정형화되면서 다양한 글쓰기가 위축됩니다.

- ① AI 교사는 일률적인 평가 기준을 적용할 수 있는가?
- ② AI 교사 도입은 채점의 공정성을 담보할 수 있는가?
- ③ AI 교사 도입은 학생들의 글쓰기에 영향을 끼치는가?
- ④ AI 교사 도입으로 수행 평가 채점 시간이 줄어드는가?
- ⑤ AI 교사 도입에 있어 효율성은 고려되어야 할 조건인가?

\* 확인 사항  
 ○ 답안지의 해당란에 필요한 내용을 정확히 기입(표기)했는지 확인하십시오.

제 4 교시

사회탐구 영역(윤리와 사상)

성명		수험번호				3			제 ( ) 선택
----	--	------	--	--	--	---	--	--	----------

윤리와 사상

1. 다음 가상 편지를 쓴 고대 동양 사상가가 강조한 삶의 태도로 가장 적절한 것은?

○○에게

오늘은 관직을 수행하려는 자네에게 조언을 하려 하네. 천하란 신묘하여 인위로는 다스릴 수 없다네. 인위로 다스리는 자는 천하를 망치고 인위에 집착하는 자는 천하를 잃게 되네. 그래서 성인(聖人)은 “내가 무위(無爲)하므로 백성이 저절로 선하게 되고 내가 일을 벌여 놓지 않으므로 백성이 저절로 부유하게 된다.”라고 말했다네.

- ① 일체의 번거가 소멸된 이상적 경지[涅槃]로 중생을 인도한다.
- ② 문명의 이기를 적극적으로 활용하여 천하의 이익을 도모한다.
- ③ 어떤 일이든 왜곡이나 조작 없이 자연의 순리에 따라 처리한다.
- ④ 성현이 제정한 예(禮)를 익혀 자신의 타고난 성품을 교정한다.
- ⑤ 감각적 경험에 근거하여 사물을 인식하고 선과 악을 분별한다.

2. 다음을 주장한 고대 동양 사상가의 입장으로 옳은 것은?

하늘[天]이 준 벼슬이 있고 사람이 주는 벼슬이 있다. 인의충신(仁義忠信)은 하늘이 준 벼슬이다. 공(公), 경(卿), 대부(大夫)는 사람이 주는 벼슬이다. 사람이 주는 벼슬을 얻고 하늘이 준 벼슬을 팽개치면, 사람이 주는 벼슬도 잃게 된다.

- ① 인의보다는 상벌로써 다스릴 때 왕도(王道)가 실현된다.
- ② 의로운 일을 반복함으로써 양지와 양능을 형성해야 한다.
- ③ 대인과 소인은 모두 남을 측은히 여기는 마음을 타고난다.
- ④ 군주는 천명(天命)을 부여받은 존재이므로 교체될 수 없다.
- ⑤ 일반 백성은 향산(恒産) 없이 향심(恒心)을 유지할 수 있다.

3. (가)를 주장한 고대 서양 사상가의 입장에서 볼 때, (나)의 ㉠에 들어갈 진술로 가장 적절한 것은?

(가)	국가의 구성원은 통치자, 방위자, 생산자 세 계층으로 나뉜다. 이들은 타고난 성향에 따라 자신에게 맞는 한 가지 일을 담당하며 다른 계층의 일에 참견하지 않고, 모두 절제를 갖추어 서로 반목하지 않는다.
(나)	학생: 이상 사회의 특징은 무엇입니까? 교사: _____ ㉠

- ① 구성원의 합의로 만들어진 선의 이데아에 따라 통치됩니다.
- ② 구성원은 자유롭게 자신의 계층과 직업을 고를 수 있습니다.
- ③ 각 계층은 개인적 이익을 추구하지 않고 재산을 공유합니다.
- ④ 각 계층은 자신의 덕을 발휘하며 서로 조화를 이루고 있습니다.
- ⑤ 통치자의 정치권력으로부터 철학이 완전히 분리되어 있습니다.

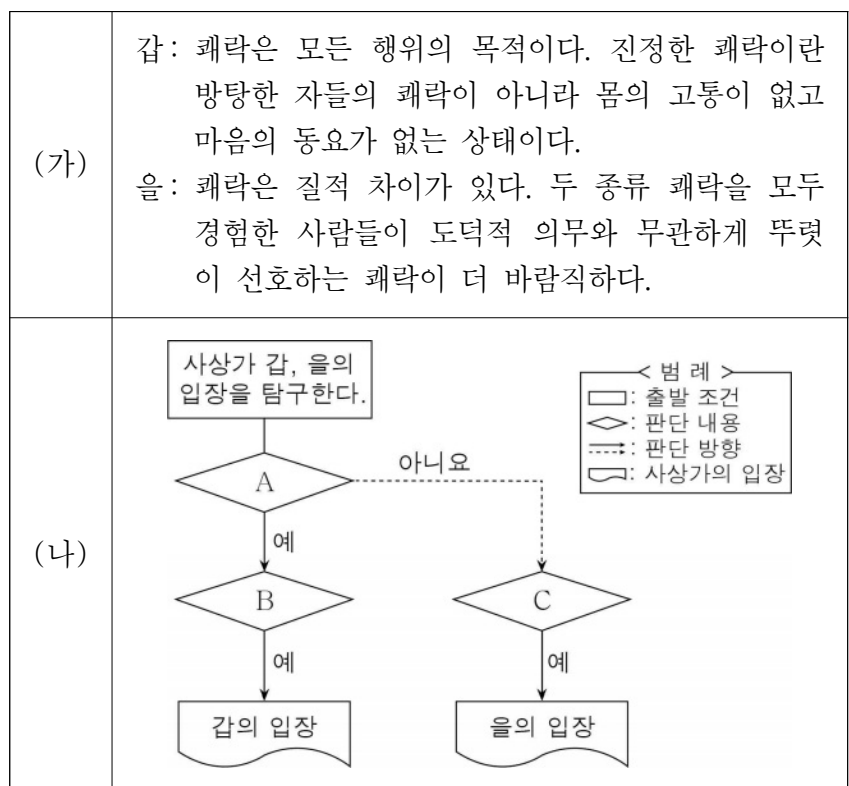
4. 다음을 주장한 현대 서양 사상가의 입장으로 옳은 것만을 <보기>에서 있는 대로 고른 것은? [3점]

삶이란 인간과 환경의 조화가 깨지고 다시 회복되는 리듬으로 이루어진다. 인간이 저항과 갈등을 극복하여 이전보다 더 나은 상태로 나아갈 때 삶은 성장한다. 성장 자체가 도덕의 유일한 목적이다.

- < 보 기 >
- ㄱ. 지식의 오류 가능성을 부정하고 지성을 발휘해야 한다.
  - ㄴ. 도덕은 문제 상황을 해결하기 위한 도구로 활용될 수 있다.
  - ㄷ. 실제적으로 유용한 결과를 산출하는 지식은 가치를 갖는다.
  - ㄹ. 인간이 성장하는 데 기여한 이론은 영원불변의 진리가 된다.

- ① ㄱ, ㄴ                      ② ㄴ, ㄷ                      ③ ㄷ, ㄹ
- ④ ㄱ, ㄴ, ㄹ                  ⑤ ㄱ, ㄷ, ㄹ

5. (가)의 서양 사상가 갑, 을의 입장을 (나) 그림으로 탐구하고자 할 때, A ~ C에 들어갈 옳은 질문만을 <보기>에서 있는 대로 고른 것은? [3점]



- < 보 기 >
- ㄱ. A: 개인의 쾌락보다 사회 전체의 쾌락을 추구해야 하는가?
  - ㄴ. B: 진정한 쾌락은 사려 깊은 삶을 살 때 누릴 수 있는가?
  - ㄷ. B: 평정심에 이르기 위해 공적인 활동을 멀리해야 하는가?
  - ㄹ. C: 지적 쾌락은 단순한 감각적 쾌락보다 더 가치가 있는가?

- ① ㄱ, ㄴ                      ② ㄱ, ㄷ                      ③ ㄷ, ㄹ
- ④ ㄱ, ㄴ, ㄹ                  ⑤ ㄴ, ㄷ, ㄹ

6. 한국 불교 사상이자 갑, 을의 입장으로 옳지 않은 것은? [3점]

갑: 진여문은 더러움과 깨끗함이 통한 모습이고 생멸문은 더러움과 깨끗함이 별도로 드러난 모습이다. 두 문[二門]은 다르지만 서로 배척하는 것이 없고, 서로 분리되지 않는다. 이를 곧 일심(一心)이라 한다.  
 을: 돈오와 점수의 두 문은 모든 성인(聖人)이 밟아 온 길이다. 과거의 성인도 먼저 깨달은 뒤에 닦았고, 그 닦음에 의해 증득(證得)하지 않음이 없었다. 해탈은 깨달음에 의지해서 닦고 익혀야 도달할 수 있다.

- ① 갑: 모든 존재와 현상은 마음[心]이 만들어 내는 것이다.
- ② 갑: 각 종파의 이론을 하나인 근원에 따라 회통해야 한다.
- ③ 을: 돈오는 습기(習氣)가 쌓여 있는 상태에서도 가능하다.
- ④ 을: 깨달음의 완성을 위한 수행에 경전 공부는 필요하지 않다.
- ⑤ 갑과 을: 자신을 위한 수행과 중생 구제는 결국 다르지 않다.

7. 근대 서양 사상이자 갑, 을의 입장으로 옳은 것만을 <보기>에서 고른 것은? [3점]

갑: 행위의 도덕성은 행위의 결과에 대한 사랑으로부터 행위가 일어나는 데 있지 않고, 오직 의무로부터, 즉 도덕 법칙을 위해서만 행위가 일어나는 데 있다.  
 을: 행위와 품성이 유덕하다거나 악덕하다고 말하는 이유는 우리가 행위와 품성을 바라볼 때 특별한 종류의 쾌락이나 불편을 느끼기 때문이다.

< 보 기 >

- ㄱ. 갑: 보편화 가능한 준칙에 맞는 모든 행위는 도덕적이다.
- ㄴ. 갑: 도덕 법칙은 자율적 인간에게 의무로 부과될 수 없다.
- ㄷ. 을: 선과 악은 감정으로 구별되지만 객관적 실재는 아니다.
- ㄹ. 갑과 을: 이성과 감정은 모두 도덕적 행위에 기여할 수 있다.

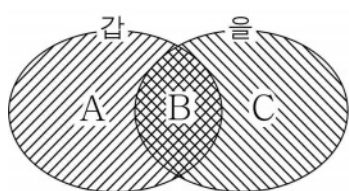
- ① ㄱ, ㄴ    ② ㄱ, ㄷ    ③ ㄴ, ㄷ    ④ ㄴ, ㄹ    ⑤ ㄷ, ㄹ

8. 고대 서양 사상이자 갑, 중세 서양 사상이자 을의 입장으로 가장 적절한 것은?

갑: 자연법은 명령을 통해 의무를 부여하고 금지를 통해 악을 피하게 하는 올바른 이성이다. 인간과 신의 최초 결속은 인간과 신에게 존재하는 이성의 토대에서 이루어진다.  
 을: 자연법은 영원법에 대한 이성적 피조물의 참여이다. 이성적 피조물은 영원한 이성을 분유(分有)하고 이를 통해 마땅한 행동과 목적을 향한 자연적 성향을 갖는다.

- ① 갑: 마음의 평온함을 위해 비이성적 정념에도 순응해야 한다.
- ② 갑: 세계 시민으로서의 삶에서 벗어나 자연에 은둔해야 한다.
- ③ 을: 선을 행하고 악을 피하려면 자연적 성향을 배제해야 한다.
- ④ 을: 인간은 신앙을 갖지 않아도 자연적 성향을 파악할 수 있다.
- ⑤ 갑과 을: 참된 행복은 이성에 따른 삶만으로도 성취될 수 있다.

9. (가)의 고대 동양 사상이자 갑, 을의 입장을 (나) 그림으로 표현할 때, A ~ C에 해당하는 옳은 진술만을 <보기>에서 고른 것은? [3점]

(가)	갑: 대인(大人)은 사람을 해치지 않지만 어둠[仁]과 은혜[恩]를 소중히 여기지도 않는다. 옳고 그름도, 크고 작음도 분별할 수 없음을 알고 있으므로 명성이 들리지 않고 덕으로 칭송될 수 없다. 을: 사람은 나면서부터 모두 소인(小人)이므로, 스승이 없고 예법이 없다면 오직 사사로운 이익밖에는 보지 못한다. 따라서 수양을 거듭하여 본성을 변화시킨 뒤에야 덕을 완성할 수 있다.
(나)	 <div style="border: 1px solid black; padding: 5px; margin-left: 20px;">                     &lt;범례&gt;                      A: 갑만의 입장                      B: 갑, 을의 공통 입장                      C: 을만의 입장                 </div>

< 보 기 >

- ㄱ. A: 인의(仁義)는 사회 혼란의 발생 원인이다.
- ㄴ. B: 예(禮)는 인위적으로 제정된 사회 규범이다.
- ㄷ. C: 성인(聖人)이 되기 위한 수양법이 존재한다.
- ㄹ. C: 사욕을 극복하고 타고난 덕을 회복해야 한다.

- ① ㄱ, ㄴ    ② ㄱ, ㄷ    ③ ㄴ, ㄷ    ④ ㄴ, ㄹ    ⑤ ㄷ, ㄹ

10. 그림은 서술형 평가 문제와 학생 답안이다. 학생 답안의 ㉠ ~ ㉡ 중 옳지 않은 것은?

서술형 평가

● 문제 : 한국 사상이자 갑, 을의 입장을 비교하여 서술하십시오.

갑: 서학(西學)보다 사람의 마음을 심하게 해치는 이단(異端)은 없다. 서양 오랑캐보다 국가에 재앙을 심하게 주는 오랑캐는 없다.  
 을: 양학(洋學)은 우리의 도(道)와 같은 듯하나 다르다. 마음을 지키고 기운을 바르게 하여 한울님의 가르침을 받으면 조화가 저절로 이루어진다.

● 학생 답안

갑, 을의 입장을 비교해 보면, 갑은 ㉠ 성리학적 신분 질서를 지켜야 한다고 보았고, ㉡ 백성의 이익을 위해 서양의 과학 기술을 수용해야 한다고 주장하였다. 이에 비해 을은 ㉢ 남녀뿐만 아니라 노소(老少)의 차별도 철폐해야 한다고 보았고, ㉣ 백성을 이롭게 하는 후천 개혁을 이루어야 한다고 주장하였다. 한편 갑, 을은 모두 ㉤ 참된 도로써 국난을 극복해야 한다고 강조하였다.

- ① ㉠    ② ㉡    ③ ㉢    ④ ㉣    ⑤ ㉤

11. 다음을 주장한 고대 서양 사상가의 입장으로 가장 적절한 것은? [3점]

감정과 행위에 있어서 악덕은 한편으로는 마땅히 있어야 할 것에 모자라고 다른 한편으로는 지나친 반면, 탁월성은 중간을 발견하고 선택한다. 탁월성은 본질을 말하는 정의(定義)를 따르자면 중용이지만, 최선의 것과 잘 해냄의 관점을 따르자면 극단이다.


- ① 이성을 발휘하면 덕과 악덕 사이의 중용을 발견할 수 있다.
② 용기는 항상 무모함과 비겁함의 양극단 사이에 있는 덕이다.
③ 이론적 학습과 탐구만으로는 어떠한 탁월성도 갖출 수 없다.
④ 선에 대한 앎을 갖춘 사람은 자발적으로 악을 행할 수 없다.
⑤ 모든 행위는 모자람과 지나침이라는 두 악덕의 상태를 갖는다.

12. 현대 서양 사상가 갑, 을의 입장으로 옳은 것은?

갑: 불안은 자유의 가능성이다. 이것이나 저것이나를 선택해야 하는 상황에서 가능성은 불안으로 개인을 압도하지만, 개인은 신앙을 결단함으로써 불안을 극복할 수 있다. 불안은 신앙에 의해 구원의 징검다리가 된다.
을: 불안은 자유와 책임을 의식할 때 느껴진다. 자유롭도록 선고받은 인간은 자신을 선택함과 동시에 인류 전체를 선택하는 입법자이며, 결코 자신의 깊은 책임감으로부터 벗어날 수 없다.

- ① 갑: 윤리적 삶을 사는 것만으로 참된 실존을 회복할 수 있다.
② 갑: 실존적 상황에서 신과 하나가 되어도 절망에 이를 수 있다.
③ 을: 자기 삶을 주체적으로 선택하고 전적으로 책임져야 한다.
④ 을: 이성적 사유를 통해 자신의 타고난 본질을 깨달아야 한다.
⑤ 갑과 을: 객관적 진리에 의존하여 모든 불안을 극복해야 한다.

13. 그림은 고대 서양 사상가 갑, 을의 가상 대화이다. 갑, 을의 입장으로 옳은 것만을 <보기>에서 고른 것은?



< 보 기 >
ㄱ. 갑: 사물의 가치는 각자에게 각자의 경험에 의해 결정된다.
ㄴ. 을: 절대적 진리는 존재하지만 인간은 인식할 수 없다.
ㄷ. 을: 덕을 아는 사람은 곧 유덕하고 행복한 사람이다.
ㄹ. 갑과 을: 인간과 사회는 진리 탐구의 대상이 아니다.

- ① ㄱ, ㄴ ② ㄱ, ㄷ ③ ㄴ, ㄷ ④ ㄴ, ㄹ ⑤ ㄷ, ㄹ

14. 중국 유교 사상가 갑, 을의 입장으로 옳은 것만을 <보기>에서 고른 것은? [3점]

갑: 이(理)는 오직 하나일 뿐이다. 도리는 같은데 직분이 다르기 때문에 군신에게는 인(仁)과 경(敬)의 이가 있고, 부자(父子)에게는 자(慈)와 효(孝)의 이가 있다. 모든 사물도 이를 갖는데 그 적용은 서로 다르다.
을: 이는 마음의 조리(條理)이다. 이가 임금에게 발현되면 충(忠)이 되고, 부모에게 발현되면 효가 된다. 나의 마음에서 발현되지 않는 것이 없으니, 세상에 어찌 마음 밖의 일이 존재하고 마음 밖의 이가 존재하겠는가.

< 보 기 >
ㄱ. 갑: 사물의 이치를 탐구해야 마음속 앎[知]이 확충된다.
ㄴ. 을: 양지를 사물에 실현하면 사물은 이치를 얻게 된다.
ㄷ. 을: 효를 행하려면 먼저 효의 이치를 배우고 익혀야 한다.
ㄹ. 갑과 을: 격물은 마음의 바르지 못함을 바로잡는 것이다.

- ① ㄱ, ㄴ ② ㄱ, ㄷ ③ ㄴ, ㄷ ④ ㄴ, ㄹ ⑤ ㄷ, ㄹ

15. (가)의 한국 사상가 갑, 을, 병의 입장에서 서로에게 제기할 수 있는 비판을 (나) 그림으로 표현할 때, A~E에 해당하는 내용으로 가장 적절한 것은? [3점]

(가)
갑: 하늘의 달은 진짜 달이고 물속의 달은 그림자일 뿐이다. 성(性)이 기(氣) 가운데 있는 것은 물속의 달과 같으니, 기를 겸하여 말하고자 한다면 이미 성의 본연이 아니다.
을: 그릇이 움직일 때 물이 움직이는 것은 기가 발할 때 이(理)가 타는 것이다. 그러나 물이 스스로 움직이지 못하는 것은 이는 무위(無爲)이며 기는 유위(有爲)인 것과 같다.
병: 별이 여왕별을 호위하는 것을 충(忠)이라 하지 않는다. 별은 정해진 마음[定心]을 따랐을 뿐이기 때문이다. 반면 사람은 자주지권(自主之權)을 부여받아 선을 행하고자 하면 선을 행할 수 있다.
(나)
Diagram showing three circles: 갑 (top), 을 (bottom left), 병 (bottom right).
Arrows: A (from 甲 to 乙), B (from 乙 to 甲), C (from 乙 to 丙), D (from 丙 to 乙), E (from 丙 to 甲).
Legend: <범례> -> 비판의 방향, A~E: 비판의 내용.
<예시>: 甲 -A-> 乙, A는 갑이 을에게 제기할 수 있는 비판임.

- ① A: 인(仁)은 기질이 섞이지 않은 이(理) 자체임을 간과한다.
② B: 인은 그 주된 바[所主]가 기에 있는 정(情)임을 간과한다.
③ C: 인은 마음에 있는 성이 아니라 마음의 기호임을 간과한다.
④ D: 인은 인간의 기질지성에 포함되어 있는 덕임을 간과한다.
⑤ E: 인은 자주지권의 발휘를 가능하게 하는 근본임을 간과한다.



16. 고대 동양 사상가 갑, 현대 사회사상가 을의 입장으로 옳은 것은?

갑: 대국이 소국을 공격하고 강자가 약자를 강탈하는 것은 천하의 큰 해악이다. 이러한 해악의 근원은 차별하여 서로 미워하는 것에 있다. 서로 사랑하고 이익을 나누는 것 [兼相愛 交相利]으로 서로 미워하는 것을 대신해야 한다.  
 을: 부국과 빈국 사이의 무역은 한쪽이 다른 쪽보다 훨씬 더 많이 갖는 착취로 표현할 수 있다. 착취는 일종의 구조적 폭력이고 직접적 폭력으로 이어지며 주류 이론이 떠받치는 문화적 폭력에 의해 유지된다.

- ① 갑: 자국 백성의 이익을 위한 침략 전쟁은 의로운 전쟁이다.
- ② 갑: 사랑은 친소(親疏)에 따라 분별적으로 실천되어야 한다.
- ③ 을: 문화적 폭력은 국가 간 경제적 착취를 정당화할 수 있다.
- ④ 을: 모든 폭력은 구조적 폭력에서 비롯되며 무한히 재생산된다.
- ⑤ 갑과 을: 약소국을 보호하기 위한 무력 사용은 항상 허용된다.

17. 다음을 주장한 고대 동양 사상가의 입장에서 긍정의 대답을 할 질문으로 옳은 것은?

계(戒)를 닦아 선정[定]을 얻고 선정을 닦아 지혜[慧]를 얻어 해탈하면 탐욕이라는 번뇌, 존재에 대한 번뇌, 진리를 알지 못해 생겨난 번뇌가 없어지게 된다. 해탈을 얻어 청정한 행[梵行]이 확고해지면 다시는 다음 생(生)을 받지 않는다.

- ① 중생이 겪는 고통은 원인과 조건 없이도 생겨나는가?
- ② 중생이 번뇌를 끊고 해탈하면 더 좋은 생으로 윤회하는가?
- ③ 중생의 자아가 불변의 실체임을 아는 것이 곧 깨달음인가?
- ④ 중생의 삶은 본래 고통이 아님을 지혜로써 파악해야 하는가?
- ⑤ 중생은 연기법에 따라 오온이 잠시 모였다 흩어지는 존재인가?

18. 다음을 주장한 근대 서양 사상가의 입장으로 옳은 것만을 <보기>에서 있는 대로 고른 것은? [3점]

인간이 사물을 실재하는 것으로 파악하는 두 가지 방식이 있다. 하나는 사물을 일정한 시간과 장소에 관련지어 파악하는 것이고, 다른 하나는 사물을 신 안에 있고 신의 본성의 필연성에서 발생한다고 파악하는 것이다. 후자의 방식으로 우리의 정신과 신체를 파악하면 필연적으로 신을 인식하게 되며, 정신이 신 안에 있고 신에 의해 인식된다는 것을 알게 된다.

< 보 기 >  
 ㄱ. 신 없이는 어떤 것도 존재할 수 없고 인식될 수 없다.  
 ㄴ. 신은 무한 양태이며 모든 유한 양태의 내재적 원인이다.  
 ㄷ. 정신은 신체와 달리 자연의 인과 법칙으로부터 자유롭다.

- ① ㄱ      ② ㄴ      ③ ㄱ, ㄴ      ④ ㄱ, ㄷ      ⑤ ㄴ, ㄷ

19. (가)의 사회사상가 갑, 을의 입장에서 서로에게 제기할 수 있는 비판을 (나) 그림으로 표현할 때, A, B에 해당하는 내용으로 가장 적절한 것은? [3점]

(가)	<p>갑: 주권자의 직무는 인민의 안전을 획득하는 것이다. 안전이란 생명의 보존뿐만 아니라 다수의 사람들이 신의(信義) 계약을 통해 세운 하나의 인격인 리바이어던에서 누리는 생활상의 만족이다.</p> <p>을: 주권은 양도가 불가능한 것과 같은 이유로 분할될 수 없다. 의지는 일반적이거나 일반적이지 않거나 둘 중 하나이다. 일반 의지는 선포되어 주권 행위가 되며 법을 만든다.</p>
(나)	<p>Legend: &lt; 법례 &gt; →: 비판의 방향, A, B: 비판의 내용                  &lt; 예시 &gt; (갑) → (을) A는 갑이 을에게 제기할 수 있는 비판임.</p>

- ① A: 주권자는 스스로에 의해서만 대표될 수 있음을 간과한다.
- ② A: 주권자의 권력은 인민에 의해 철회될 수 있음을 간과한다.
- ③ B: 주권자는 법을 제정할 권리를 보유할 수 없음을 간과한다.
- ④ B: 주권자에게는 사회 계약 준수의 의무가 없음을 간과한다.
- ⑤ B: 주권은 사회 계약의 당사자인 인민에게 있음을 간과한다.

20. (가), (나)는 사회사상이다. (가)의 입장에 비해 (나)의 입장이 갖는 상대적 특징을 그림의 ㉠~㉤ 중에서 고른 것은?

(가) 정치권력은 한 계급이 다른 계급을 억압하기 위해 조직한 힘이다. 프롤레타리아 계급이 부르주아 계급에 대항하는 혁명을 통해 낡은 생산관계와 계급이 소멸되면, 결국 공권력은 정치적 성격을 잃어버리게 될 것이다.

(나) 정치권력이 한곳으로 집중되면 그 권력은 노예제와 구별하기 어려울 정도의 종속 상태를 만들어 낸다. 경제적 자유주의가 추구하는 경쟁 체제는 권력의 분권화를 통해 한 사람의 권력을 최소화하는 유일한 체제이다.

- X: 시장을 통한 분배의 효율성을 중시하는 정도
- Y: 개인 간의 자유로운 경쟁을 중시하는 정도
- Z: 생산 수단의 공유화를 중시하는 정도

- ① ㉠      ② ㉡      ③ ㉢      ④ ㉣      ⑤ ㉤

\* 확인 사항  
 ○ 답안지의 해당란에 필요한 내용을 정확히 기입(표기)했는지 확인하십시오.

제 4 교시

사회탐구 영역 (한국지리)

성명		수험번호				3			제 ( ) 선택
----	--	------	--	--	--	---	--	--	----------



1. 다음 글의 (가), (나) 섬에 대한 설명으로 옳은 것은?

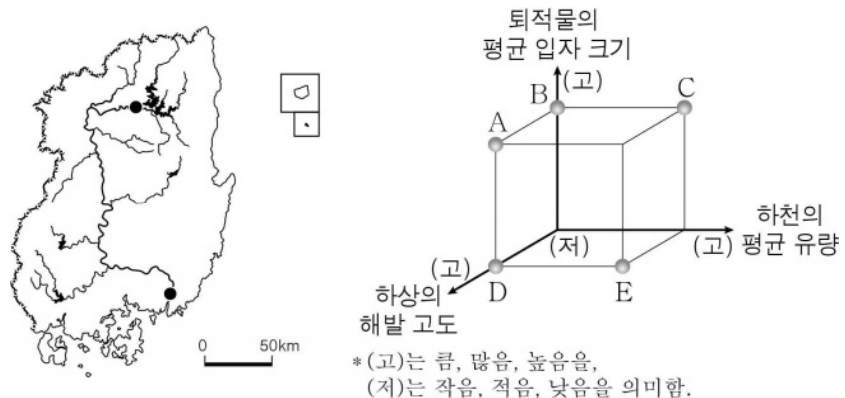
(가) 동도와 서도 및 89개의 부속 도서로 이루어진 이곳은 돌섬이란 뜻의 '독섬'에서 이름이 유래하였다. 대한민국 영토임을 알리는 글자가 바위에 새겨져 있으며, 날씨가 맑은 날에는 가장 가까운 유인도인 울릉도에서 이곳을 육안으로 볼 수 있다.

(나) 대한민국 최서남단 표지석이 있는 이곳은 '가히 사람이 살 만한 곳'에서 이름이 유래하였다. 목포 여객선 터미널에서 출발하는 배로 수 시간 내에 도달할 수 있으며, 해양 수산부는 우리 바다의 영역적 가치를 알리기 위해 이곳을 2023년 '올해의 섬'으로 선정하였다.

- ① (가)는 영해 설정에 직선 기선을 적용한다.
- ② (나)의 주변 12해리 수역은 모두 내수(內水)에 해당한다.
- ③ (가)는 (나)보다 최한월 평균 기온이 높다.
- ④ (나)는 (가)보다 일출 시각이 늦다.
- ⑤ (가), (나)는 모두 최종 빙기에 육지와 연결되어 있었다.

2. 다음 자료는 지도의 하천에 표시된 두 지점에 있는 다리에 관한 것이다. (가) 지점에 대한 (나) 지점의 상대적 특성을 그림의 A~E에서 고른 것은?

지점	(가)	(나)
다리		
다리의 특징	○○ 대교는 길이 약 1,596 m, 최대 폭 약 30 m의 콘크리트 다리이다. 왕복 6차선 도로와 도보 통행로가 있다.	△△교는 길이 약 387 m, 폭 약 3.6 m의 목조 다리이다. 야경을 즐기며 산책하기 좋은 다리로 유명하다.

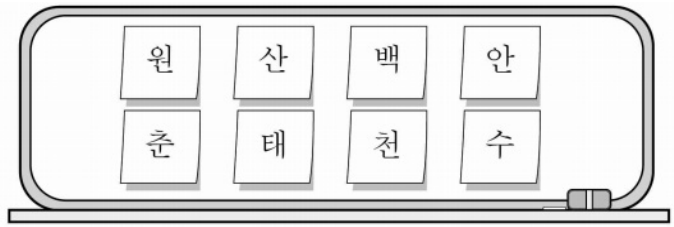


- ① A      ② B      ③ C      ④ D      ⑤ E

3. 다음은 수도권과 강원 지방을 주제로 한 수업의 일부이다. (가)에 들어갈 내용으로 옳은 것은?

교사: <도시 알아보기>에 제시된 특징에 해당하는 도시 이름을 칠판에서 차례대로 떼어 내세요.

- <도시 알아보기>
- □□시: 강원특별자치도 도청 소재지임. 막국수·닭갈비 축제, 마임 축제 등이 개최됨.
  - △△시: 석탄 산업 합리화 정책으로 석탄 생산량이 감소함. 용연동굴, 석탄 박물관 등의 관광지가 있음.
  - ○○시: 경기도 도청 소재지이자 특례시임. 정조가 주민의 거주 공간 마련 등을 이유로 축성한 세계 문화유산이 있음.



교사: 칠판에 남은 글자로 도시 이름을 만들어 보세요. 이 도시의 특징은 무엇일까요?

학생: \_\_\_\_\_ (가)

- ① 슬로 시티로 지정된 마을이 있습니다.
- ② 수도권 1기 신도시가 조성되어 있습니다.
- ③ 우리나라 최초의 조력 발전소가 있습니다.
- ④ 동계 올림픽이 개최되었던 경기장이 있습니다.
- ⑤ 기업 도시와 혁신 도시가 모두 조성되어 있습니다.

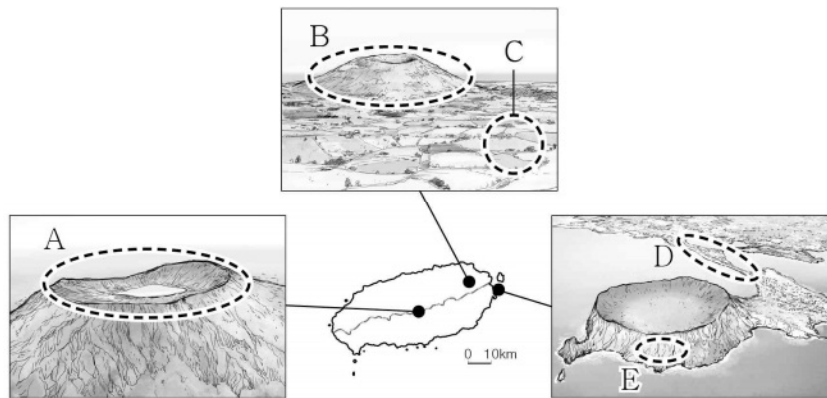
4. 다음 글의 (가), (나)에 대한 설명으로 옳은 것만을 <보기>에서 고른 것은? (단, (가), (나)는 각각 겨울과 여름 중 하나임.) [3점]

전통적으로 우리나라는 1년을 24절기로 구분하고 이를 농사의 기준으로 삼았다. 예를 들어 망종(芒種)은 곡식의 종자를 뿌리기에 적당한 시기라는 뜻으로 모내기에 알맞은 때이다. 망종 이후의 하지(夏至), 소서(小暑), 대서(大暑) 등은 농작물의 생장이 활발한 □(가)과 관련된 절기에 해당한다. 상강(霜降)은 서리가 내리는 시기라는 뜻으로 추수를 마무리하는 때이다. 상강이 지나고 들어서는 입동(立冬), 소설(小雪), 대설(大雪), 동지(冬至) 등이 □(나)과 관련된 절기에 해당한다.

- < 보 기 >
- ㄱ. (가)에는 서고동저형의 기압 배치가 자주 나타난다.
  - ㄴ. (나)에는 강한 일사에 의한 대류성 강수가 자주 발생한다.
  - ㄷ. (가)는 (나)보다 하루 중 낮 길이가 길다.
  - ㄹ. (나)는 (가)보다 남북 간의 기온 차이가 크다.

- ① ㄱ, ㄴ    ② ㄱ, ㄷ    ③ ㄴ, ㄷ    ④ ㄴ, ㄹ    ⑤ ㄷ, ㄹ

5. 다음 자료의 A~E에 대한 설명으로 옳은 것은?



- ① A는 화구의 함몰로 형성된 칼데라이다.
- ② B는 '오름' 등으로 불린다.
- ③ C에는 붉은색의 석회암 풍화토가 넓게 분포한다.
- ④ D는 주로 조류의 퇴적 작용으로 형성된다.
- ⑤ E는 시간이 지남에 따라 바다 쪽으로 성장한다.

6. 표는 세 도시의 시기별 A~C 기상 현상 발생 일수를 나타낸 것이다. 이에 대한 설명으로 옳은 것은? (단, A~C는 각각 열대야, 한파, 황사 중 하나임.) [3점]

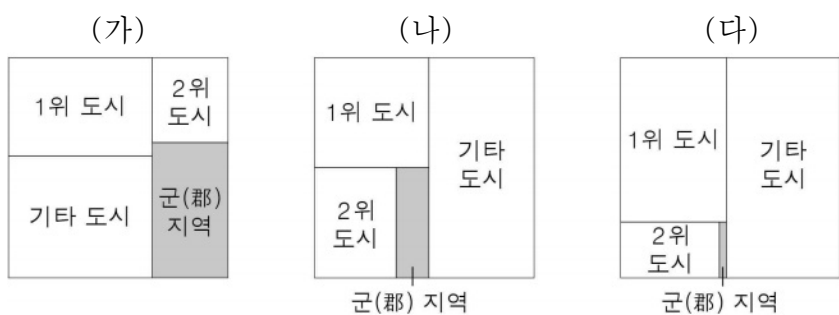
(단위: 일)

구분	3~5월			6~8월			9~11월			12~2월		
	A	B	C	A	B	C	A	B	C	A	B	C
부산	0	4.3	0	0	0	16.3	0	0.4	0.8	0.1	0.7	0
대전	0	5.7	0	0	0	10.7	0	0.4	0.1	2.6	1.1	0
인천	0	6.8	0	0	0	9.2	0	0.7	0	1.8	1.2	0

\* 1991~2020년의 평년값임.

- ① A는 주로 북태평양 기단의 영향에 의해 발생한다.
- ② B는 수도권 계량기 동파 등의 피해를 발생시킨다.
- ③ A는 C보다 난방용 에너지 소비량의 급증을 유발한다.
- ④ C는 B보다 호흡기 및 안과 질환을 많이 일으킨다.
- ⑤ 인천은 대전보다 한파 일수가 많다.

7. 그래프는 세 권역의 인구 규모에 따른 도시 및 군(郡) 지역 인구 비율을 나타낸 것이다. (가)~(다) 권역에 대한 설명으로 옳은 것은? (단, (가)~(다)는 각각 수도권, 영남권, 호남권 중 하나임.) [3점]

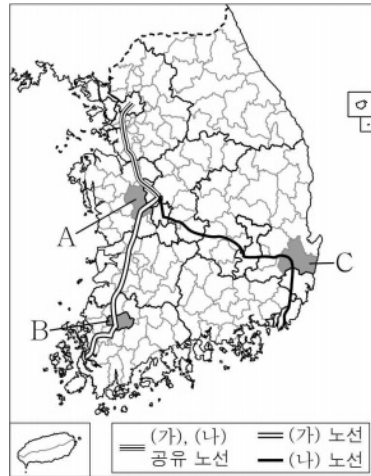


\* 해당 권역 총인구에서 지역별 인구가 차지하는 비율을 면적 크기로 나타낸 것임.

\*\* 기타 도시는 인구 규모 1, 2위 도시를 제외한 도시임. (2022)

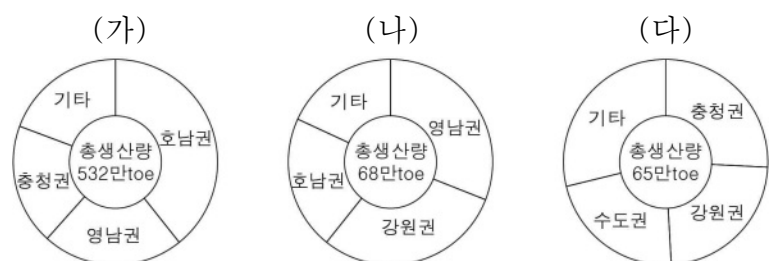
- ① (다)는 광역시가 3개이다.
- ② (가)의 1위 도시는 (다)의 1위 도시보다 인구가 많다.
- ③ (나)는 (가)보다 지역 내 총생산이 많다.
- ④ (가)는 영남권, (나)는 수도권, (다)는 호남권이다.
- ⑤ (가)~(다) 중 (나)의 총인구가 가장 많다.

8. 지도는 (가), (나) 고속 철도 노선의 일부와 A~C 지역을 표시한 것이다. 이에 대한 설명으로 옳은 것은? [3점]



- ① (가)는 (나)보다 일평균 이용객 수가 많다.
- ② (가)와 (나)의 분기역은 평택에 있다.
- ③ A는 도(道) 이름의 유래가 된 지역이다.
- ④ B에는 원자력 발전소가 있다.
- ⑤ C에는 세계 문화유산에 등재된 역사 마을이 있다.

9. 그래프는 (가)~(다) 재생 에너지의 권역별 생산 현황을 나타낸 것이다. 이에 대한 설명으로 옳은 것만을 <보기>에서 고른 것은? (단, (가)~(다)는 각각 수력, 태양광, 풍력 중 하나임.)



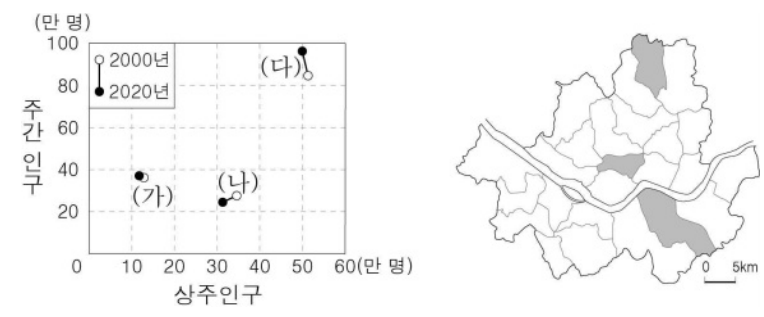
\* 수력은 양수식을 제외함.  
\*\* 생산량 상위 3개 권역만 표시함. (2021)

< 보 기 >

ㄱ. (다)는 겨울보다 여름에 발전량이 많다.  
 ㄴ. (가)는 (다)보다 상용화된 시기가 이른다.  
 ㄷ. (나)는 (가)보다 발전 시 소음이 많이 발생한다.  
 ㄹ. 충청권의 재생 에너지 생산량은 태양광보다 수력이 많다.

- ① ㄱ, ㄴ    ② ㄱ, ㄷ    ③ ㄴ, ㄷ    ④ ㄴ, ㄹ    ⑤ ㄷ, ㄹ

10. 그래프는 지도에 표시된 세 구(區)의 상주인구 및 주간 인구 변화를 나타낸 것이다. (가)~(다) 지역에 대한 설명으로 옳은 것만을 <보기>에서 고른 것은? [3점]

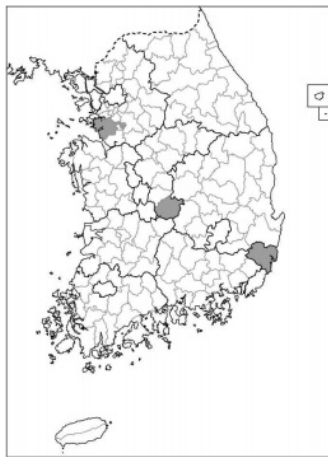
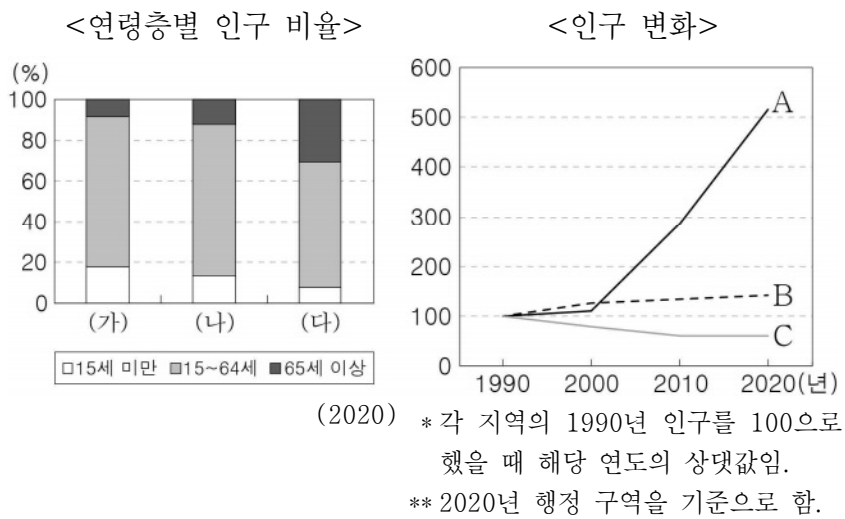


< 보 기 >

ㄱ. (가)는 (나)보다 상업지의 평균 지가가 높다.  
 ㄴ. (나)는 (가)보다 출근 시간대에 순 유출 인구가 많다.  
 ㄷ. (다)는 (가)보다 시가지의 형성 시기가 이른다.  
 ㄹ. (나), (다)는 모두 2000년보다 2020년에 주간 인구 지수가 낮다.

- ① ㄱ, ㄴ    ② ㄱ, ㄷ    ③ ㄴ, ㄷ    ④ ㄴ, ㄹ    ⑤ ㄷ, ㄹ

11. 그래프는 지도에 표시된 세 지역의 인구 특성을 나타낸 것이다. (가)~(다)에 해당하는 지역을 A~C에서 고른 것은? [3점]



- |   | (가) | (나) | (다) |
|---|-----|-----|-----|
| ① | A   | B   | C   |
| ② | A   | C   | B   |
| ③ | B   | A   | C   |
| ④ | B   | C   | A   |
| ⑤ | C   | B   | A   |

12. 다음은 학생이 작성한 지역 조사 보고서의 일부이다. ㉠~㉣에 대한 설명으로 옳은 것은?

1. 주제 : ㉠ 지역의 과거와 현재  
2. 조사 방법 및 분석 내용  
가. ㉠ 문헌 분석을 통한 과거의 지역 이해

㉠ 은/는 노령 아래의 도회지로서 북쪽에는 금성산이 있고, 남쪽으로는 영산강에 닿아 있다. ... (중략) ... 서남쪽으로는 강과 바다를 통해 물자를 실어 나르는 이로움이 있어서, 광주와 아울러 이름난 고을이라고 일컫는다.  
- 이중환, 『택리지』 -

○ 가거지의 조건 중 ㉡에 해당하는 내용을 확인함.  
나. ㉢ 위성 사진 분석을 통한 지역의 변화 탐색

<2008년>                      <2021년>

○ 혁신 도시 조성 전후 토지 이용의 변화 비교  
→ 혁신 도시 조성 후 ㉣.

- ① ㉠은 영동 지방에 속한다.
- ② ㉡은 '인심(人心)'이다.
- ③ ㉢에는 '경지율이 감소함'이 들어갈 수 있다.
- ④ ㉡과 ㉢은 주로 야외 조사 단계에서 이용된다.
- ⑤ ㉢은 ㉡보다 지리 정보 수집에 도입된 시기가 이른다.

13. 다음 글에서 설명하는 지역을 지도의 A~E에서 고른 것은?

조선 시대 이 지역의 중심지였던 강경은 금강을 활용한 내륙 수운의 요충지로 가장 번성했던 시장 중 하나였다. 현재 이 지역은 특산물인 딸기를 활용한 '먹보딸기'와 국방 도시로서의 강인함을 표현한 '육군병장'을 주요 캐릭터로 활용하여 지역의 이미지를 나타내고 있다.

- ① A      ② B      ③ C      ④ D      ⑤ E

14. 다음 글의 ㉠~㉣에 대한 설명으로 옳은 것만을 <보기>에서 있는 대로 고른 것은?

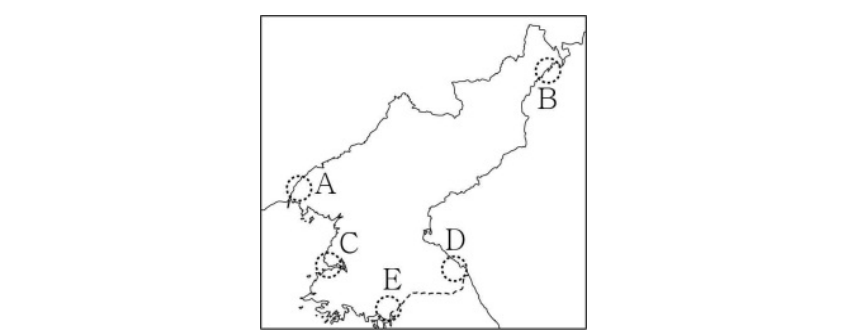
행정 구역 개편은 국토 공간의 효율적인 활용을 위하여 ㉠ 새로운 행정 구역의 설치나 여러 행정 구역의 통합 등의 형태로 이루어진다. 예를 들어 ㉡ 경북 달성군과 경북 군위군은 ㉢ 대구광역시의 행정 구역에 통합되었다. 과거 달성군이 통합된 사례는 중앙 정부 주도로 추진된 측면이 강하다면 최근 군위군이 통합된 사례는 ㉣ 지방 자치 단체 간 합의에 의해 추진된 경우에 가깝다.

< 보 기 >

㉠. ㉠의 사례로 세종특별자치시의 출범이 있다.  
㉡. 독도는 행정 구역상 ㉡에 속한다.  
㉢. ㉢은 군위군과 통합된 이후 노년층 인구 비율이 증가하였다.  
㉣. ㉣은 성장 거점 개발 방식의 주요 특징이다.

- ① ㉠, ㉡                      ② ㉡, ㉣                      ③ ㉢, ㉣
- ④ ㉠, ㉡, ㉣                  ⑤ ㉠, ㉢, ㉣

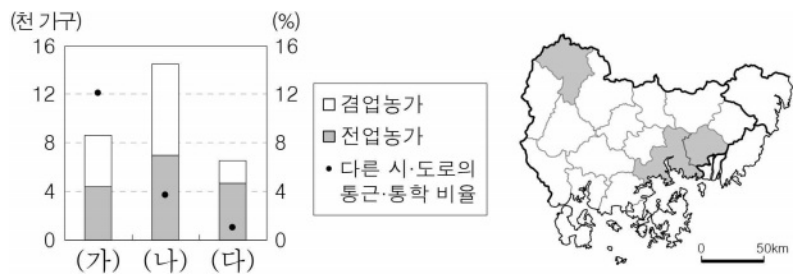
15. 지도의 A~E 지역에 대한 옳은 내용에만 있는 대로 ○ 표시한 학생을 고른 것은?



내용	학생				
	갑	을	병	정	무
A에는 경의선 철도의 종착역이 있다.	○		○		○
C에는 서해 갑문이 있다.		○		○	○
E에는 북한 최초의 경제 특구가 있다.	○			○	
B, D는 모두 관동 지방에 속한다.	○	○	○		

- ① 갑      ② 을      ③ 병      ④ 정      ⑤ 무

16. 그래프는 지도에 표시된 세 지역의 다른 시·도로의 통근·통학 비율과 농가 수를 나타낸 것이다. (가)~(다)에 대한 설명으로 옳은 것은? [3점]



\* 다른 시·도로의 통근·통학 비율은 각 지역의 통근·통학 인구에서 경남 외 다른 시·도로 통근·통학하는 인구가 차지하는 비율임. (2020)

- ① (가)는 (다)보다 지역 내 주택 유형 중 아파트 비율이 높다.
- ② (다)는 (가)보다 부산으로 연결되는 버스 운행 횟수가 많다.
- ③ (다)는 (나)보다 제조업 출하액이 많다.
- ④ (가)는 군(郡), (나)와 (다)는 시(市)이다.
- ⑤ (가)~(다) 중 지역 내 1차 산업 취업자 비율은 (나)가 가장 높다.

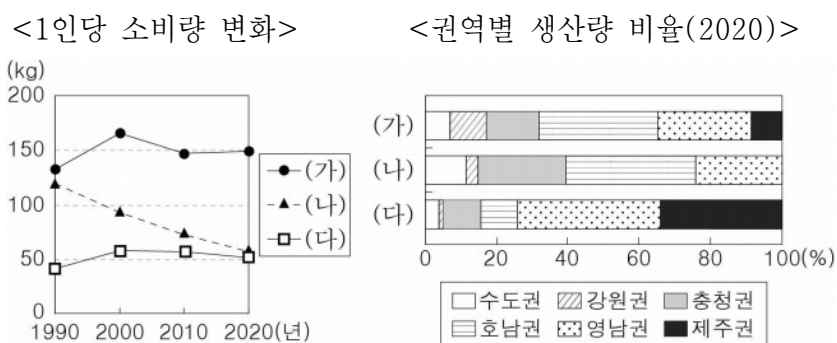
17. 다음 자료의 (가)~(다) 암석에 대한 설명으로 옳은 것은? (단, (가)~(다)는 각각 석회암, 중생대 퇴적암, 화강암 중 하나임.)

답사 사진전



- ① (가)는 주로 호수에서 퇴적된 육성층에 분포한다.
- ② (나)는 마그마가 관입하여 형성되었다.
- ③ (다)는 주로 시멘트 공업의 원료로 이용된다.
- ④ (가)는 (나)보다 형성 시기가 이르다.
- ⑤ (가), (다)는 모두 퇴적암에 해당한다.

18. 그래프는 세 작물의 특성을 나타낸 것이다. 이에 대한 설명으로 옳은 것만을 <보기>에서 고른 것은? (단, (가)~(다)는 각각 과실, 쌀, 채소 중 하나임.) [3점]



- < 보 기 >
- ㄱ. (가)는 주로 논보다 밭에서 재배된다.
  - ㄴ. (나)는 쌀, (다)는 과실이다.
  - ㄷ. 과실의 1인당 소비량은 1990년이 2020년보다 많다.
  - ㄹ. 쌀의 권역별 생산량 비율이 가장 높은 곳은 영남권이다.

- ① ㄱ, ㄴ    ② ㄱ, ㄷ    ③ ㄴ, ㄷ    ④ ㄴ, ㄹ    ⑤ ㄷ, ㄹ

19. 그래프는 지도에 표시된 세 지역의 외국인 주민의 수를 유형별로 나타낸 것이다. (가)~(다) 지역에 대한 설명으로 옳은 것만을 <보기>에서 고른 것은? [3점]



\* 한국 국적을 가지지 않은 외국인만 고려함. (2021)

- < 보 기 >
- ㄱ. (나)는 (다)보다 노령화 지수가 높다.
  - ㄴ. (다)는 (가)보다 지역 내 농가 인구 비율이 높다.
  - ㄷ. (가)와 (나)는 행정 구역의 경계가 접해 있다.
  - ㄹ. 전남은 경남보다 결혼 이민자가 많다.

- ① ㄱ, ㄴ    ② ㄱ, ㄷ    ③ ㄴ, ㄷ    ④ ㄴ, ㄹ    ⑤ ㄷ, ㄹ

20. 그래프에 대한 설명으로 옳은 것은? (단, (가)~(다)는 각각 섬유 제품(의복 제외), 자동차 및 트레일러, 전자 부품·컴퓨터·영상·음향 및 통신 장비 제조업 중 하나이며, A, B는 각각 경북과 충남 중 하나임.) [3점]

<(가)~(다)의 시·도별 출하액 비율>



\* 종사자 규모 10인 이상 사업체를 대상으로 함.  
 \*\* 출하액 상위 3개 시·도만 표시함. (2021)

- ① (나)는 최종 제품 생산에 많은 부품이 필요한 종합 조립 공업이다.
- ② (가)는 (나)보다 우리나라 공업화를 주도한 시기가 이르다.
- ③ (다)는 (가)보다 대체로 최종 제품이 무겁고 부피가 크다.
- ④ A는 충남, B는 경북이다.
- ⑤ B는 (나) 출하액이 (다) 출하액보다 많다.

\* 확인 사항

○ 답안지의 해당란에 필요한 내용을 정확히 기입(표기)했는지 확인하십시오.

제 4 교시

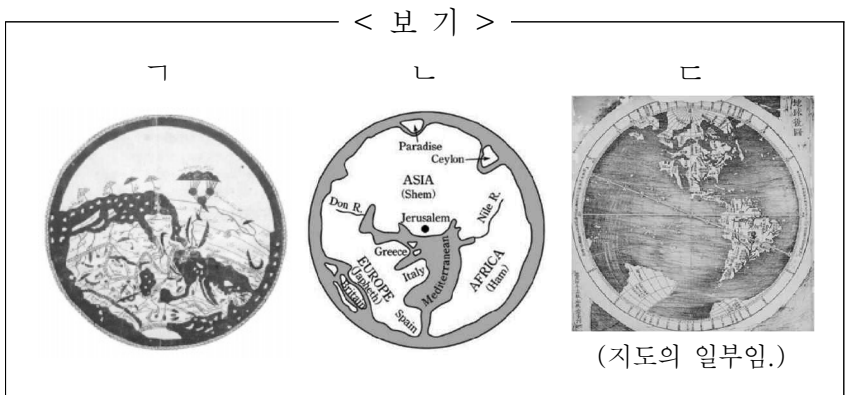
사회탐구 영역 (세계지리)

성명		수험번호				3			제 ( ) 선택
----	--	------	--	--	--	---	--	--	----------

1. 다음은 수행 평가 정답지의 일부이다. (가)~(다) 지도를 <보기>에서 고른 것은? [3점]

※ 수행 평가 정답표: (가)~(다) 지도에 대한 옳은 설명에만 '✓' 표시함.

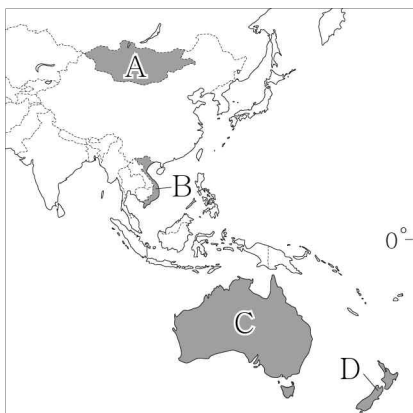
구분	(가)	(나)	(다)
지도의 위쪽이 남쪽임.			✓
종교적 세계관이 반영됨.		✓	✓
아메리카 대륙이 표현됨.	✓		



- |   |     |     |     |   |     |     |     |
|---|-----|-----|-----|---|-----|-----|-----|
|   | (가) | (나) | (다) |   | (가) | (나) | (다) |
| ① | ㄱ   | ㄴ   | ㄷ   | ② | ㄴ   | ㄱ   | ㄷ   |
| ③ | ㄴ   | ㄷ   | ㄱ   | ④ | ㄷ   | ㄱ   | ㄴ   |
| ⑤ | ㄷ   | ㄴ   | ㄱ   |   |     |     |     |

2. (가), (나) 국가를 지도의 A~D에서 고른 것은?

(가)		지폐에는 직물 공장에서 일하는 노동자의 모습이 그려져 있다. 메콩강 유역을 중심으로 벼농사가 발달한 농업 국가였지만, 최근 급속한 공업의 발달로 빠르게 경제가 성장하고 있다.
(나)		지폐에는 원주민인 마오리족 출신 정치가 아피라나 응가타의 초상이 그려져 있다. 이 국가의 다수인 유럽계 주민이 마오리족을 차별하였으나, 최근에는 마오리족의 전통문화를 보호하는 등 적극적인 공존의 모습이 나타나고 있다.



- |   |     |     |
|---|-----|-----|
|   | (가) | (나) |
| ① | A   | C   |
| ② | A   | D   |
| ③ | B   | C   |
| ④ | B   | D   |
| ⑤ | C   | B   |

3. 다음은 수업 장면의 일부이다. 교사의 질문에 대한 학생의 대답으로 옳은 것은? [3점]

(가), (나)는 각각 영화 장면 속에 나타난 빙하 지형 경관과 건조 지형 경관 중 하나입니다. 이에 대해 설명해 볼까요?

<영화 장면 속 지형 경관>

(가) (나)

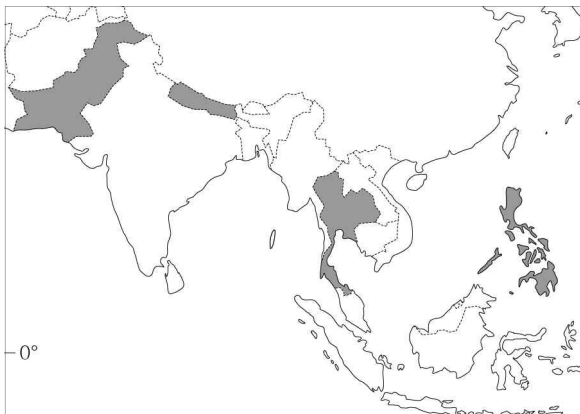
- ① 갑: (가)에서는 바람의 퇴적으로 형성된 바르한을 볼 수 있어요.
- ② 을: (가)가 발달하는 지역은 대체로 물리적 풍화 작용보다 화학적 풍화 작용이 우세해요.
- ③ 병: (나)에서는 빙하의 침식으로 형성된 호른을 볼 수 있어요.
- ④ 정: (나)에서는 암석의 차별적 풍화와 침식으로 형성된 메사나 뷰트를 볼 수 있어요.
- ⑤ 무: (가), (나)는 모두 식생 밀도가 높은 편이에요.

4. (가), (나) 도시에 대한 설명으로 옳은 것은? [3점]

도시	주요 랜드마크와 도심부 도로망
(가)	 월스트리트 황소상 (40°42'N, 74°00'W)
(나)	 개선문 (48°52'N, 2°17'E)

- ① (나)에는 국제 연합[UN] 본부가 있다.
- ② (가)는 (나)보다 도심과 주변 지역 간의 건물 높이 차이가 크다.
- ③ (나)는 (가)보다 도시 발달의 역사가 짧다.
- ④ (가)는 유럽, (나)는 아메리카에 위치한다.
- ⑤ (가), (나)는 모두 해당 국가의 수도이다.

5. A~C 종교에 대한 설명으로 옳은 것만을 <보기>에서 고른 것은? (단, A~C는 각각 불교, 이슬람교, 힌두교 중 하나임.) [3점]



구분	(가)	(나)	(다)	(라)
1위	A	B	C	크리스트교
2위	C	A	B	B
3위	B	크리스트교	크리스트교	토속 종교

\* (가)~(라)는 각각 지도에 표시된 국가 중 하나이며, 각 국가 내 신자 수 상위 3개 종교를 나타냄.

< 보 기 >

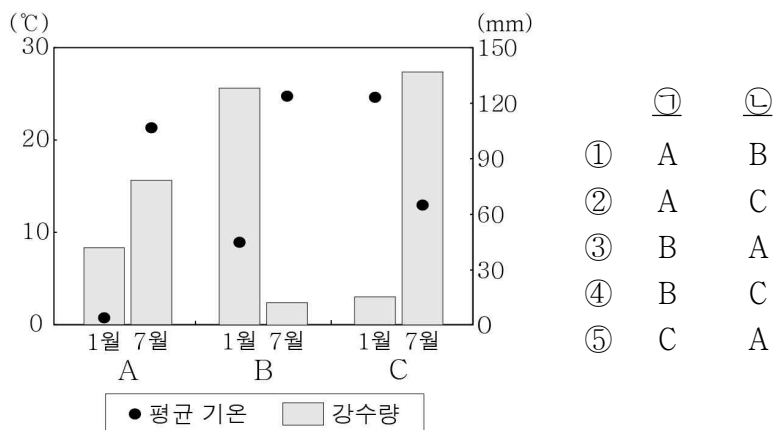
ㄱ. A는 다신교이다.  
 ㄴ. B의 기원지는 (라)에 있다.  
 ㄷ. B는 C보다 발생 시기가 늦다.  
 ㄹ. C는 A보다 세계 신자 수가 많다.

- ① ㄱ, ㄴ    ② ㄱ, ㄷ    ③ ㄴ, ㄷ    ④ ㄴ, ㄹ    ⑤ ㄷ, ㄹ

6. 다음 글의 ㉠, ㉡ 지역의 기후 특색을 그래프의 A~C에서 고른 것은?

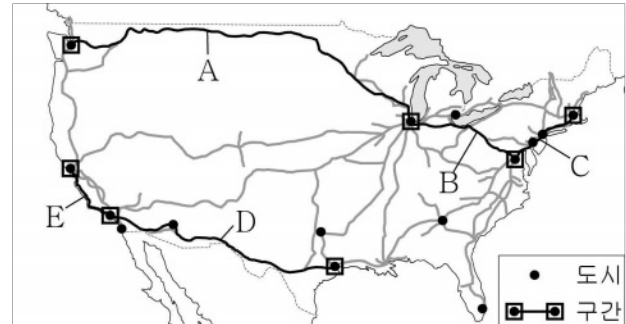
가곡은 지역에 따라 다양한 음악적 특색을 보인다. 예를 들어 남부 유럽 가곡의 멜로디는 열정적이고 즉흥적이며, 가사는 자연을 찬미하는 노래들이 많은 편이다. 반면에 북서부 유럽 가곡의 가사는 원작 시에 충실하며, 멜로디 자체가 담백한 노래들이 많은 편이다.

어떤 이는 각 지역의 음악풍을 기후 특색과 연관 짓기도 한다. ㉠ 이탈리아 나폴리를 대표하는 가곡인 「오 솔레 미오」는 정열적이고 밝은 분위기를 풍기고, ㉡ 오스트리아 빈에서 활동한 슈베르트의 「마왕」은 음산하고 우울한 분위기를 풍긴다.



- ㉠    ㉡
- ① A    B  
 ② A    C  
 ③ B    A  
 ④ B    C  
 ⑤ C    A

7. 지도는 미국의 주요 철도망을 나타낸 것이다. A~E 각 구간을 여행하면서 관찰할 수 있는 모습으로 옳지 않은 것은?



\* 미국 내 도시 인구 상위 15위까지 나타냄. (2020)

- ① A: 고기 습곡 산지인 애플래치아산맥  
 ② B: 변화한 러스트 벨트의 산업 단지  
 ③ C: 거대 도시가 연속된 메갈로폴리스  
 ④ D: 건조 지역의 황량한 사막  
 ⑤ E: 첨단 산업 클러스터인 실리콘 벨리

8. 다음 글의 ㉠~㉤에 대한 설명으로 옳지 않은 것은? [3점]

카르스트는 라틴어 '카르수스'에서 기원하였으며, 지역에 따라 '크라스', '카르스트' 등으로 변화하였다. 슬로베니아 크라스 지방의 ㉠ 황량한 돌투성이 땅은 카르스트 지형으로 유명하며, 주민들은 들판의 ㉡ 흙폭 파인 와지 등을 개간하여 ㉢ 농경지로 만들었다. 카르스트 지형이 발달한 마다가스카르의 칭기 국립공원에는 ㉣ 지하 동굴이 많으며 ㉤ 뽕족이 솟은 칼날 모양의 바위가 커다란 무리를 지은 모습이 장관이다.

- ① ㉠은 지표수가 풍부하다.  
 ② ㉡은 주로 빗물이나 지하수의 용해 및 침식으로 형성되었다.  
 ③ ㉢의 기반암은 주로 석회암이다.  
 ④ ㉣의 내부에는 중유석, 석순 등이 잘 발달한다.  
 ⑤ ㉤은 차별적 풍화와 침식으로 기반암이 드러난 것이다.


9. 다음 글의 ㉠~㉤에 대한 설명으로 옳은 것은?

2023년 12월 유엔 기후 변화 협약 당사국 총회에서 ㉠ 화석 연료 중심의 에너지 소비 구조에서 벗어날 것을 촉구하는 합의문을 채택했다. 또한 ㉡ 파리 협정 이후 지구의 온도 상승을 1.5°C 이내로 억제하기 위한 각 국가의 2050 탄소 중립 이행 정도를 평가하고 그 중요성을 재확인했다. 이를 실현하기 위해 '2030년까지 재생 에너지 용량 3배 확충 및 에너지 효율 2배 증대', '탄소 포집 및 ㉢ 원자력 활용' 등을 합의문에 명시하였다. 하지만 ㉣ 재생 에너지 생산량 확충에 대한 명확한 목표가 제시되지 않았고, ㉤ 석탄 화력 발전에 대해 더 강력한 퇴출 의지를 담지 못한 점은 한계로 지적된다.

- ① ㉠은 ㉡보다 고갈 가능성이 낮다.  
 ② ㉡은 기후 변화 문제에 대응하기 위한 협정이다.  
 ③ ㉢은 발전소 건설을 위한 입지 제약이 적은 편이다.  
 ④ ㉣ 중 전 세계 발전에 가장 많이 사용되는 것은 지열이다.  
 ⑤ ㉤은 석유 화력 발전보다 세계의 발전량이 적다.

10. 다음 자료의 (가)~(다) 국가에 대한 설명으로 옳은 것만을 <보기>에서 고른 것은? [3점]

- (가) 은/는 우리나라가 최초로 자유 무역 협정을 체결한 나라이다. 세계에서 가장 건조하다고 알려진 아타카마 사막이 있다.
- (나) 은/는 세계에서 석유 매장량이 가장 많다. 불안정한 정치 상황과 심각한 물가 상승으로 최근 많은 인구가 국외로 유출되었다.
- (다) 의 국민은 포르투갈어를 주로 사용한다. 국토 균형 개발을 위해 수도를 해안에서 내륙으로 이전하였다.



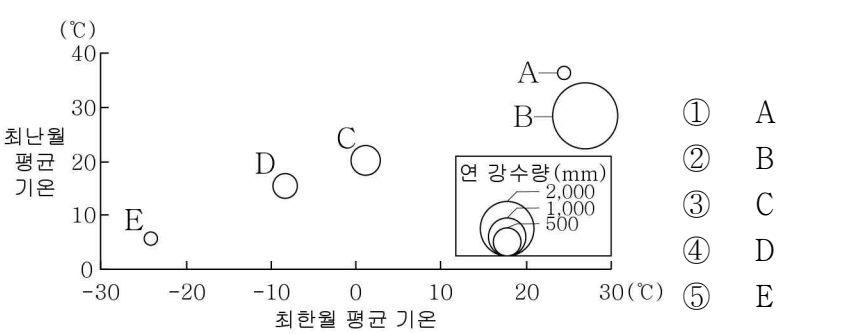
< 보 기 >

ㄱ. (나)는 태평양에 맞닿아 있다.  
 ㄴ. (다)에는 '파벨라'라는 불량 주택 지구가 있다.  
 ㄷ. (가)는 (나)보다 구리 생산량이 많다.  
 ㄹ. (나)는 (다)보다 옥수수 생산량이 많다.

- ① ㄱ, ㄴ    ② ㄱ, ㄷ    ③ ㄴ, ㄷ    ④ ㄴ, ㄹ    ⑤ ㄷ, ㄹ

11. 다음 자료는 여행기의 일부이다. (가)의 기후 특색을 그래프의 A~E에서 고른 것은?

(가) 지역이 더울 줄은 예상했지만 상상 이상이였다. 4월인데도 사람들은 대부분 반팔, 반바지 차림이었다. 상록 활엽수가 뻗뻗하게 들어선 숲길을 걷는 트래킹 체험 중에 소나기가 20~30분쯤 세차게 내리더니 언제 내렸냐는 듯 다시 맑아졌다.

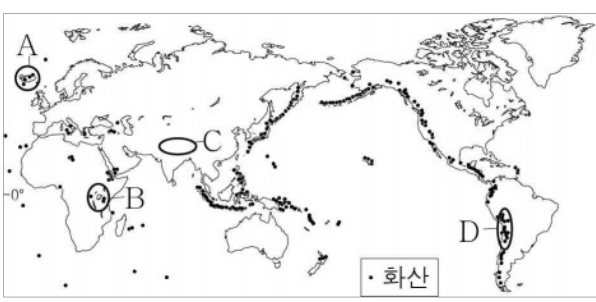


\* 평균 기온은 원의 중심값임.

12. 다음 글의 (가), (나) 지역을 지도의 A~D에서 고른 것은?

(가) 중앙 해령이 수면 위로 드러나 있는 곳으로 화산 활동이 활발하다. 2023년 12월에도 길이가 3.5 km에 달하는 지각의 틈으로 붉은 용암이 분출하였다.

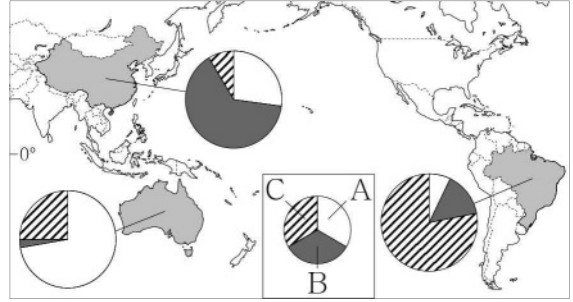
(나) 대륙 지각 내부의 틈이 계속 벌어지면서 길이가 수천 km에 달하는 거대한 협곡이 형성된 곳으로 화산 활동이 활발하다. 골짜기 곳곳에 기다란 모양의 호수가 많다.



(가) (나)

① A B  
 ② A D  
 ③ B C  
 ④ B D  
 ⑤ C B

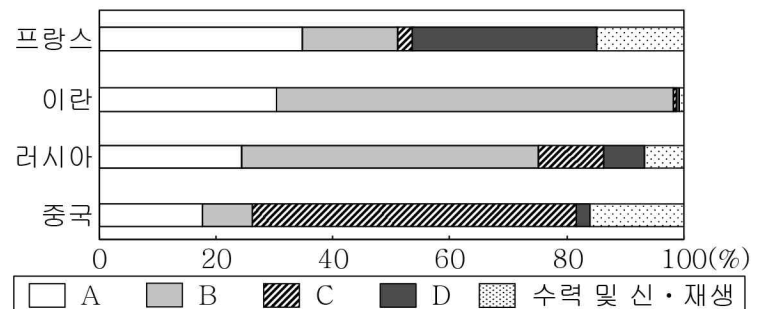
13. 그래프는 지도에 표시된 세 국가의 가축 사육 두수 비율을 나타낸 것이다. 이에 대한 설명으로 옳은 것은? (단, A~C는 각각 돼지, 소, 양 중 하나임.)



\* 각 국가별 세 가축의 합을 100%로 함. (2022)

- ① A는 이슬람 문화권에서 식용을 금기시한다.
- ② B는 주로 모직 공업의 원료 생산을 위해 사육된다.
- ③ C는 신대륙에서 주로 유목의 형태로 사육된다.
- ④ A는 B보다 세계 육류 생산량이 많다.
- ⑤ C는 A보다 세계 사육 두수가 많다.

14. 그래프는 각 국가의 1차 에너지 소비량 비율을 나타낸 것이다. A~D에 대한 설명으로 옳은 것은? (단, A~D는 각각 석유, 석탄, 원자력, 천연가스 중 하나임.) [3점]



(2022)

- ① A는 산업 혁명 초기의 주요 에너지 자원이었다.
- ② B는 대부분 수송용으로 이용된다.
- ③ D는 신생대 제3기층에 주로 매장되어 있다.
- ④ B는 C보다 연소 시 대기 오염 물질의 배출량이 적다.
- ⑤ C는 A보다 세계 1차 에너지 소비 구조에서 차지하는 비율이 높다.

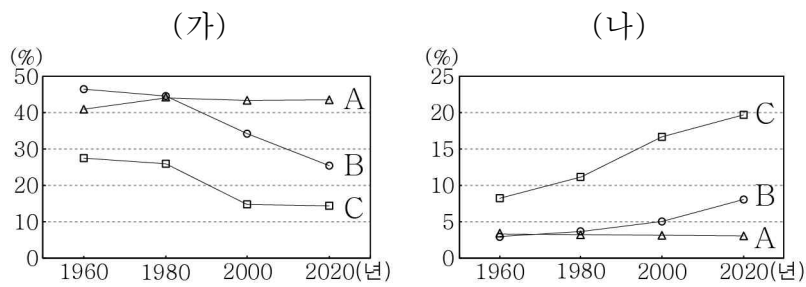
15. 다음 글의 ㉠~㉣에 대한 설명으로 옳은 것은?

오늘날 사회, 경제, 문화 등 각 부문에서 국가 간 인적·물적 자원이 자유롭게 이동하며 ㉠ 세계가 하나로 통합되는 현상이 나타나고 있다. 한편으로는 ㉡ 다른 곳과 차별화된 그 지역만의 고유한 정체성을 강조하는 흐름도 나타나는데, 이를 위한 전략으로는 ㉢ 지리적 표시제, ㉣ 장소 마케팅 등이 있다. 장소 마케팅의 대표적 사례로는 여러 스포츠·문화 행사를 유치하거나 'I♥NY', 'Seoul, My Soul'처럼 ㉤ 지역 브랜드를 개발하는 것이 있다.

- ① ㉠으로 국경의 의미와 역할이 강화되고 있다.
- ② ㉡은 세계화를 의미한다.
- ③ ㉢은 자국 내에서만 법적 보호를 받는다.
- ④ ㉣은 지역 문화의 고유성을 약화시킨다.
- ⑤ ㉤은 지역성의 변화에 따라 변경될 수 있다.



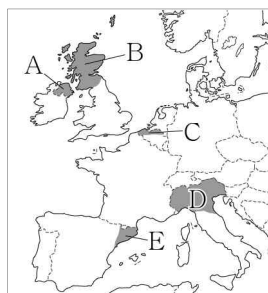
16. 그래프는 세 국가의 연령층별 인구 비율 변화를 나타낸 것이다. 이에 대한 설명으로 옳은 것은? (단, (가), (나)는 각각 노년층, 유소년층 인구 비율 중 하나이며, A~C는 각각 나이지리아, 멕시코, 에스파냐 중 하나임.) [3점]



- ① (가)는 유소년층 인구 비율, (나)는 노년층 인구 비율이다.
- ② 1960년 노령화 지수는 A가 C보다 높다.
- ③ 2020년 청장년층 인구 비율은 A가 B보다 높다.
- ④ 1인당 국내 총생산은 B가 C보다 많다.
- ⑤ 기대 수명은 A~C 중 B가 가장 길다.

17. 다음 자료의 (가) 지역을 지도의 A~E에서 고른 것은?

록 밴드 유투(U2)의 노래 「Sunday, Bloody Sunday」는 1972년 (가)에서 발생한 '피의 일요일' 사건을 다루고 있다. 전통적으로 가톨릭교를 믿는 (가)의 주민들이 개신교 국가인 영국과 갈등을 빚으며 독립을 주장하였다. 표면적으로는 분쟁이 종결되었으나 갈등의 씨앗은 여전히 남아 있다.



- ① A
- ② B
- ③ C
- ④ D
- ⑤ E

18. 다음은 기후와 관련한 십자말풀이이다. (가)에 들어갈 내용으로 옳은 것은?

	a ㉠		
	㉡		b
㉢	도		

<가로 열쇠>

- ㉠ 기후 요인의 하나이며 일정한 방향으로 흐르는 바닷물의 흐름
- ㉡ 열대 지방에서 습기와 해충을 막기 위해 바닥 지면에서 띄운 전통 가옥
- ㉢ 적도를 기준으로 지구를 남북으로 나눈 척도. 이에 따라 태양 고도각이 달라짐.

<세로 열쇠>

㉣ \_\_\_\_\_ (가)

㉤ 오랫동안 계속하여 비가 내리지 않아 물이 부족한 현상

- ① 산지에서 바람이 불어 올라가는 쪽의 사면
- ② 연중 적도 수렴대의 영향을 받는 열대 기후
- ③ 이동식 가옥으로, 나무·가죽·천 등을 이용하여 만들.
- ④ 해수면으로부터의 높이로 이것이 높아질수록 기온이 낮아짐.
- ⑤ 대륙과 해양의 비열 차이로 계절에 따라 풍향이 바뀌는 바람

19. 다음 자료의 (가)~(다) 국가에 대한 설명으로 옳은 것만을 <보기>에서 고른 것은? [3점]

카슈미르 주민 대다수는 이슬람교 신자이다. 1947년 영국으로부터 (가)와/과 파키스탄이 분리 독립할 때 힌두교 신자인 이 지역의 지도자가 카슈미르 지역의 (가) 편입을 선언하고, 이에 주민들이 저항하면서 갈등이 시작되었다. (나)의 신타리즈족은 주로 불교를 믿는 데 반해 (가) (으)로부터 유입해 온 타밀족은 주로 힌두교를 믿으므로, 문화적 배경이 다른 두 민족(인종) 간 갈등이 나타났다. 한편 방글라데시와 인접한 (다) 서부 라카인주에 거주하는 로힝야족은 종교의 차이로 (다) 정부의 탄압을 받고 있다.

< 보 기 >

- ㄱ. (가)는 2024년 현재 세계에서 인구가 가장 많다.
- ㄴ. (나)는 동남아시아 지역에 있다.
- ㄷ. (나)는 (다)보다 차(茶) 수출량이 많다.
- ㄹ. (다)는 (가)보다 국토 면적이 넓다.

- ① ㄱ, ㄴ    ② ㄱ, ㄷ    ③ ㄴ, ㄷ    ④ ㄴ, ㄹ    ⑤ ㄷ, ㄹ

20. 다음 자료의 ㉠~㉣에 대한 설명으로 옳지 않은 것은? [3점]

세계가 ㉠ 서남아시아 지역 곳곳의 분쟁에 주목하고 있다. 2011년 북아프리카 '아랍의 봄'과 함께 시작된 시리아의 내전은 ㉡ 시아파와 수니파의 대결 구도로 장기화되고 있다. 시리아 정부는 시아파 중심이지만 반군인 무슬림 형제단은 수니파가 주도하고 있다. 2023년에는 ㉢ 팔레스타인 가자 지구를 통치하는 하마스가 이스라엘을 급습한 이후 이스라엘군이 팔레스타인 가자 지구를 폭격하고 진입하면서 전면전이 일어났다. 이에 따라 ㉣ 이집트는 가자 지구 쪽 국경을 통제하였다. 한편 예멘 정부를 상대로 내전을 벌여 온 시아파 무장 단체 후티 반군도 이스라엘을 비난하며 ㉤ 홍해를 지나는 화물선을 공격하여 국제 해상 운송망에 큰 영향을 주고 있다.

- ① ㉠은 국제 유가에 큰 영향을 미친다.
- ② ㉡은 이슬람교의 종파이다.
- ③ ㉢의 근본 원인은 그리스도교와 유대교의 갈등이다.
- ④ ㉣은 대규모 난민 유입을 막기 위해서이다.
- ⑤ ㉤으로 아시아와 유럽 간의 해운 비용이 상승하였다.

**\* 확인 사항**

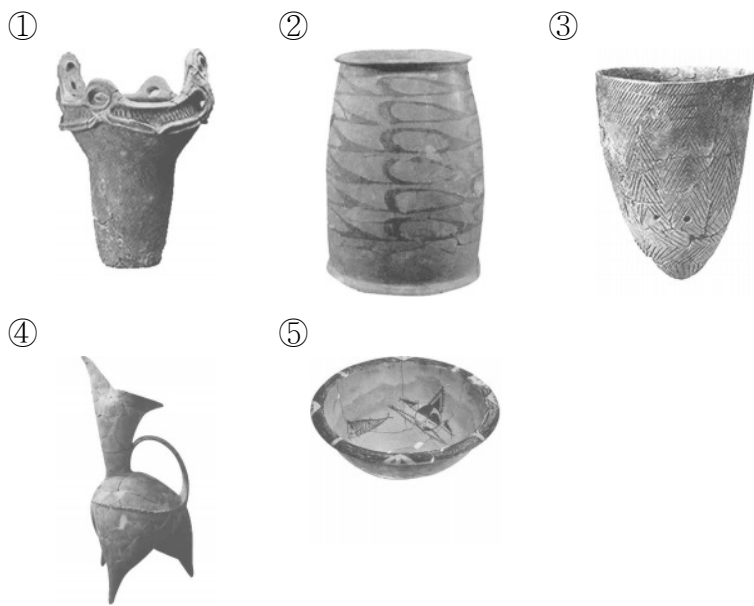
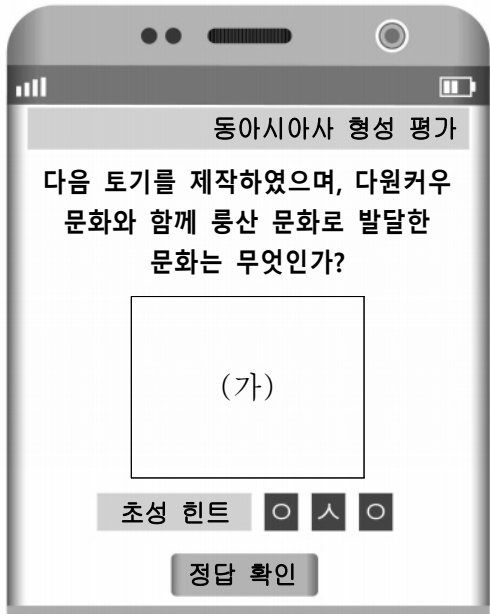
- 답안지의 해당란에 필요한 내용을 정확히 기입(표기)했는지 확인하시오.

제 4 교시


사회탐구 영역(동아시아사)

성명		수험번호				3				제 ( ) 선택
----	--	------	--	--	--	---	--	--	--	----------

1. (가)에 들어갈 문화유산으로 옳은 것은?



2. (가)에 들어갈 내용으로 가장 적절한 것은?



- ① 야율아보기의 부족 통합
- ② 쇼토쿠 태자의 불교 진흥
- ③ 위만의 이주와 집권 과정
- ④ 북위 효문제의 한화 정책
- ⑤ 한 무제의 통치 체제 정비

3. 밑줄 친 '황제'에 대한 설명으로 옳은 것은?

6국을 무너뜨리고 천하를 차지한 황제는 흉노를 공격하려 하였다. 이사가 아뢰기를 “흉노는 성곽에 살지도 않고 옮겨 다니는 것이 새와 같아서 제압하기가 어렵습니다.”라고 반대하였다. 하지만 황제는 군대를 보내 흉노를 공격하여 황허강 북쪽으로 몰아내었다.

- ① 분서갱유를 단행하였다.
- ② 삼번의 난을 진압하였다.
- ③ 정화의 함대를 파견하였다.
- ④ 고조선을 공격하여 무너뜨렸다.
- ⑤ 히미코에게 친위왜왕의 칭호를 주었다.

4. (가) 국가에 대한 설명으로 옳은 것은? [3점]

○ (가)의 황제가 거란(요)의 법을 폐지하고 세금을 줄이며 맹안과 모극을 설치하라는 조서를 내렸다.  
○ (가)이/가 화북으로 세력을 확대하자 고려는 거란(요)의 연호를 폐지하였다.

- ① 남비엣을 멸망시켰다.
- ② 사고전서를 편찬하였다.
- ③ 백강 전투에 참여하였다.
- ④ 고유 문자를 사용하였다.
- ⑤ 안남 도호부를 설치하였다.

5. 밑줄 친 '귀국'에서 볼 수 있는 모습으로 가장 적절한 것은?

[3점]

정당성 좌윤 등 일행 105인을 사신으로 파견합니다. 귀국은 동쪽으로 멀리 있어, 우리 발해와 거리가 만 리나 됩니다. 하지만 태양이 동쪽으로 떠서 비추면 갈 수 있는 바다의 길이 드러납니다. 양국 간의 관계를 두터이 하고자 사신을 보내고 이를 귀국의 태정관에 문서로 알립니다.

- ① 성균관에서 공부하는 유생
- ② 선우의 명령을 받드는 좌현왕
- ③ 제사를 지내는 신기관의 관리
- ④ 독서삼품과를 준비하는 국학의 학생
- ⑤ 어사대에 관리 감찰을 지시하는 황제

동아시아사

6. 밑줄 친 '황제'의 재위 시기에 있었던 사실로 옳은 것은? [3점]

- 황제가 고려에서 건조한 선박을 동원하여 일본을 정벌하  
라 명하였다. 그리고 장수 혼도 등에게 군대를 통솔하게  
하였다.
- 황제가 일본 정벌군을 돌아오게 하였다. 적들의 저항에 부  
딛히고 폭풍우에 휩쓸린 탓에 살아남아 고려에 도착한 몽  
골군과 고려군이 열에 한둘에 불과하였다.

- ① 남송이 멸망하였다.
- ② 지정은제가 실시되었다.
- ③ 오닌의 난이 발생하였다.
- ④ 전연의 맹약이 체결되었다.
- ⑤ 곤여만국전도가 제작되었다.

7. (가) 국가에 대한 설명으로 옳은 것은? [3점]

<p>840년 8월 23일 예불을 마치고 주작대로 동쪽에 위치한 종교 담당 관청을 찾아갔다. (가) 의 수도 장안에서 불법을 배우기 위해 스승을 만나 고자 한다는 내용의 글을 제출하였다.</p>	<p>845년 9월 22일 신라인 이신혜는 우리 일본에서 8년을 머물다가 장보고와 함께 (가) (으)로 왔다. 지금은 법화 원에서 우리 일행과 함께 살면서 통역 등을 도와주 고 있다.</p>
--	--

- ① 전 왕조를 공격하였다.
- ② 장건을 대월지에 파견하였다.
- ③ 금에 은 등의 물품을 보냈다.
- ④ 일본과 감합 무역을 전개하였다.
- ⑤ 신라와 함께 고구려를 멸망시켰다.

8. (가) 유학 경향에 대한 설명으로 옳은 것은?

그는 일찍이 주희가 저술한 『사서집주』를 공부하였으나 이후 육경과 공자·맹자의 글을 읽으며 주희가 말하는 이(理), 성(性) 등의 뜻이 육경과는 크게 다르다는 것을 깨달았다. 왜냐하면 육경에서는 “이(理)가 모든 사물 속에 있다.”라고 하는데, 주희의 학설을 따르는 (가) 학자들은 “사람이 태어날 때 받은 이(理)가 성(性)이므로, 성(性)이 곧 이(理)다.”라고 하였기 때문이다.

- ① 다이카 개신에 영향을 주었다.
- ② 수행을 통한 해탈을 추구하였다.
- ③ 서원과 향약을 통해 확산되었다.
- ④ 심즉리와 지행합일을 주장하였다.
- ⑤ 한 무제 때 관학으로 채택되었다.

9. (가) 전쟁 중에 있었던 사실로 옳은 것은?

[문학으로 읽는 동아시아사]

국치비가(國恥悲歌)

조정을 바라보니 무신들이 많기도 하구나.  
어렵고 치욕스러운 화친\*은 누구를 위해 한 것인가?  
슬프다. ...(중략)...

구중궁궐 달 밝은 밤에 우리 임금의 근심이 정말 많으리니  
멀리 오랑캐 땅의 왕자\*\*를 잊을쏘나.  
그 외에도 억만창생 백성들을 못내 걱정하시느구나.

\* 국왕이 삼전도에서 적에 항복하여 군신 관계를 맺은 일을 의미함.  
\*\* 적의 수도 심양에 인질로 잡혀간 소현세자와 봉림대군을 의미함.

작품 해설: 조선 후기 이정환이 남긴 시조로, (가) (으)로 인해 국가적 치욕을 당한 사대부의 비분강개한 심정이 담겨 있다.

- ① 삼별초가 대몽 항쟁을 전개하였다.
- ② 강홍립이 후금의 군대에 항복하였다.
- ③ 조·명 연합군이 평양성을 탈환하였다.
- ④ 조선군이 남한산성에서 청군과 맞섰다.
- ⑤ 서희가 거란(요) 장수와 외교 담판을 벌였다.

10. (가), (나) 국가에 대한 설명으로 옳은 것은? [3점]

- 동아시아 도시 탐방 -

**닝보에 남겨진 국제 무역의 흔적을 찾아서**

**고려사행관**


(가) 이가 설치한 고려 사신의 숙소. 설치된 지 약 10년 만에 고려가 금과 군신 관계를 맺은 후 고려 사신의 방문이 줄어들며 점차 유명무실해짐.

**과사관**

아라비아 상인들이 머물던 민간의 여관. 바닷길을 통한 원거리 교역이 활발하였음을 알 수 있음.

**시막사**

해상 무역을 담당하던 관청. (나) 을 /를 세운 홍무제가 해금 정책을 시행하면서 기능이 중지됨.



- ① (가) - 별무반을 편성하였다.
- ② (가) - 토변에 화변공주를 보냈다.
- ③ (나) - 북로남왜의 어려움을 겪었다.
- ④ (나) - 산킨코타이 제도를 실시하였다.
- ⑤ (가), (나) - 자국 상선에 슈인장을 발급하였다.

11. (가) 국가에 대한 설명으로 옳은 것은? [3점]

이것은 (가)의 화가 빌렘 칼프가 중국 도자기를 소재로 그린 정물화입니다. (가)은/는 17세기부터 바타비아, 나가사키 등을 거점으로 삼아 중국제 도자기를 유럽에 대량으로 실어 날랐습니다.



- ① 일본의 난학 발전에 영향을 끼쳤다.
- ② 청에 매카트니 사절단을 파견하였다.
- ③ 마카오를 근거지로 명과 교류하였다.
- ④ 마닐라를 갈레온 무역의 거점으로 삼았다.
- ⑤ 프랑스, 독일과 함께 삼국 간섭을 일으켰다.

12. 밑줄 친 '막부' 시기의 동아시아 문화로 옳은 것은?

요즘 스모 열기가 뜨거워. 막부의 쇼군께서 관람하신 뒤로 더욱 인기가 많아졌어.

맞아. 인기 스모 선수의 초상화는 우키요에로 제작되어 날개 돋친 듯이 팔리더군.



- ① 한국 - 판소리와 탈춤이 유행하였다.
- ② 중국 - 경사 대학당이 건립되었다.
- ③ 중국 - 현장이 대당서역기를 남겼다.
- ④ 일본 - 도다이사가 창건되었다.
- ⑤ 일본 - 긴자에 서양식 거리가 조성되었다.

13. 자료가 작성된 시기를 연표에서 옳게 고른 것은? [3점]

3일 전, 이 나라의 헌법이 공포되었습니다. 이는 천황이 헌법 제정 및 의회 개설을 공개적으로 약속한 지 거의 8년 만의 일입니다. 그날 저는 미국 정부를 대표하여 근대적 입헌제도가 마련된 것을 축하하였습니다. 이에 천황은 동아시아에서 처음으로 제정된 이 헌법이 새로운 정치 풍토를 만들고, 양국 간 우호를 돈독하게 하는 계기가 될 것이라고 답변하였습니다.

(가)	(나)	(다)	(라)	(마)
미일 화친 조약 체결	메이지 정부 수립	일본 제국 의회 설립	을사조약 강제 체결	워싱턴 회의 개최
중일 전쟁 발발				

① (가)    ② (나)    ③ (다)    ④ (라)    ⑤ (마)

14. 밑줄 친 '전쟁'에 대한 설명으로 옳은 것은? [3점]

자료는 청의 황제가 임칙서에게 보낸 글입니다. 이를 통해 황제는 전쟁이 일어난 원인을 임칙서의 탓으로 돌리고 있음을 알 수 있습니다.

밖으로 오랑캐와의 통상을 단절하려 하였으나 그렇게 되지 않았고, 안으로 아편과 관련된 죄인들을 체포하였으나 아편 역시 일소되지 않았다. ...(중략)... 그대의 노력이 도움 되지 않았을 뿐 아니라 도리어 전쟁을 유발하였으니, 짐이 어찌 실망을 억누를 수 있겠는가.



- ① 포츠머스 조약의 체결로 종결되었다.
- ② 공행 무역이 폐지되는 계기가 되었다.
- ③ 미드웨이 해전으로 전세가 역전되었다.
- ④ 동학 농민 운동의 전개 과정에서 발발하였다.
- ⑤ 외국 군대가 베이징에 주둔하는 결과를 가져왔다.

15. (가) 군사 조직에 대한 설명으로 옳은 것만을 <보기>에서 고른 것은?

문화재 검색

(가) 총사령부 성립 전례식 서명문

○ 분류 : 등록 문화재  
○ 지정(등록)일 : 2021.10.13.  
○ 소재지 : 독립기념관  
○ 제작 연도 : 1940년

이 문화재는 중국 충칭 가릉빈관에서 개최된 대한민국 임시 정부 산하의 (가) 총사령부 성립 전례식에 참석한 인사들이 남긴 서명문이다. 이 행사에는 다수의 중국 국민당 고위 인사와 서양 외교 사절 등이 참석하였다. 이를 통해 대한민국 임시 정부가 중국 국민당을 비롯한 국제 사회의 협조 속에 군대 창설을 준비하였음을 알 수 있다.

- < 보 기 >
- ㄱ. 국내 진공 작전을 계획하였다.
  - ㄴ. 조선 의용대의 일부를 편입시켰다.
  - ㄷ. 군벌 타도를 목표로 북벌을 단행하였다.
  - ㄹ. 파리 평화 협정으로 베트남에서 철수하였다.

- ① ㄱ, ㄴ                      ② ㄱ, ㄷ                      ③ ㄴ, ㄷ
- ④ ㄴ, ㄹ                      ⑤ ㄷ, ㄹ

16. (가) 도시에 대한 학생의 발표로 가장 적절한 것은? [3점]

**동아시아사 신문** ○○○○년 △△월 □□일

---

일본 최초의 철도 개통

어제 오전, 도쿄와 (가) 을/를 잇는 철도의 개통식이 개최되었다. 천황은 일행과 함께 도쿄 신바시역에 준비된 특별 기차에 탑승하였고, 약 1시간 뒤 종착지인 (가) 역에 도착하여 개통식에 참석하였다. 이때 그는 기차가 민생의 편리와 국가 경제 발전에 유용하다는 취지의 조칙을 내렸다. 이는 철도 부설에 대한 반대 여론을 가라앉히기 위한 선언으로 해석된다.

- ① 원자 폭탄이 투하된 곳입니다.
- ② 아주 화친회가 창립된 곳입니다.
- ③ 영국 상인이 신보를 창간한 곳입니다.
- ④ 북촌의 부인들이 여권통문을 발표한 곳입니다.
- ⑤ 미일 수호 통상 조약의 결과 개항된 곳입니다.

17. (가)에 들어갈 내용으로 가장 적절한 것은?

의화단 운동이 끼친 영향 중 하나는 혁명 세력의 급성장이 다. 의화단 운동의 결과 체결된 신축 조약으로 청 조정의 무능이 드러난 상황에서 청을 타도하고 공화정을 세우자는 혁명파의 주장이 자연스럽게 민간에 확산하였다. 청 조정은 뒤늦게 입헌 군주제를 도입하는 등 개혁을 추진하였으나 민심의 지지를 받기 어려웠다. 결국 재정 확보를 위한 조정의 철도 국유화 조치에 대해 반발이 커지면서 (가)

- ① 5·4 운동이 일어났다.
- ② 우창에서 신군이 봉기하였다.
- ③ 중국 공산당이 대장정을 감행하였다.
- ④ 독립 협회가 만민 공동회를 개최하였다.
- ⑤ 하급 무사들이 존왕양이 운동을 전개하였다.

18. 밑줄 친 '이 조약'에 대한 설명으로 옳은 것은? [3점]

오늘날 일본은 공산주의의 위협을 받고 있습니다. 이 조약의 발효로 연합국 최고 사령부의 점령이 종료되면 일본에 군사적 공백이 생길 것입니다. 따라서 새로운 안전 보장 대책을 모색해야 합니다.



- ① 영일 동맹의 폐기를 명시하였다.
- ② 6·25 전쟁이 전개되는 중에 체결되었다.
- ③ 홍콩이 영국에 할양되는 결과를 가져왔다.
- ④ 이와쿠라 사절단의 파견에 영향을 끼쳤다.
- ⑤ 일본과 타이완의 국교가 단절되는 원인이 되었다.

19. 자료에 나타난 운동이 끼친 영향으로 가장 적절한 것은?

우리 땅도 전부 인민공사 명의로 재분배되고, 집 앞에 손바닥만 한 자유 경작지만 남았네. 며칠 되지도 않아서 집에 있는 술까지 인민공사가 다 가져갈 줄을 누가 알았겠나. 들어보니 강철을 만들기 위해서라는군.

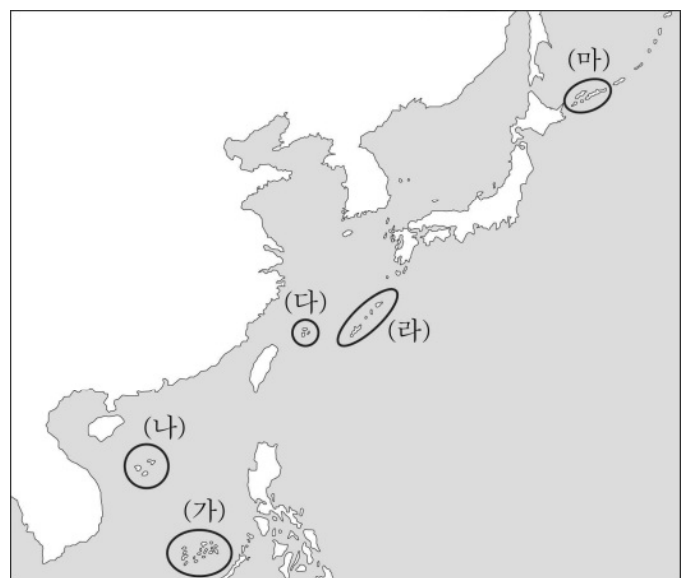
- ① 천수이벤이 총통에 선출되었다.
- ② 이승만이 대통령직에서 사임하였다.
- ③ 장제스가 타이완에 계엄령을 내렸다.
- ④ 마오쩌둥의 권력 기반이 약화되었다.
- ⑤ 호소카와가 이끄는 비자민당 연립 내각이 수립되었다.

20. 밑줄 친 '이 지역'을 지도에서 옳게 고른 것은?

○○고등학교

프로젝트형 봉사 활동 보고서

활동명	동아시아 평화 공존 캠페인		
학년 - 반	3 - 1	이름	○○○
활동 기간	2024.3.11. ~ 2024.3.28. 총 ( 5 )시간		
활동 영역	캠페인 활동		
주요 활동 내용			
<p>이 지역을 둘러싼 세 나라의 갈등을 다룬 신문 기사를 활용하여 동아시아 평화 공존을 촉구하는 짧은 영상을 만들고 누리소통망[SNS]에 게시하였다.</p> <p style="text-align: center;">&lt;활용한 신문 기사의 제목&gt;</p> <ul style="list-style-type: none"> <li>· 타이완, '영유권 수호' 무력 불사(○○○신문)</li> <li>· 중국, 군사 조치 가능성 검토(○○○○신문)</li> <li>· 일본, 접근하는 타국 선박 실력 저지(○○일보)</li> </ul>			



- ① (가)    ② (나)    ③ (다)    ④ (라)    ⑤ (마)

**\* 확인 사항**  
○ 답안지의 해당란에 필요한 내용을 정확히 기입(표기)했는지 확인하십시오.

제 4 교시

사회탐구 영역(세계사)

성명		수험번호					3			제 ( ) 선택
----	--	------	--	--	--	--	---	--	--	----------

1. 다음 유물을 남긴 문명에 대한 설명으로 옳은 것은?



- ① 은허 유적을 남겼다.
- ② 지구라트를 축조하였다.
- ③ 사자의 서를 제작하였다.
- ④ 올림피아 제전을 개최하였다.
- ⑤ 하라파와 모헨조다로를 건설하였다.

2. (가) 왕조에서 볼 수 있는 모습으로 가장 적절한 것은? [3점]

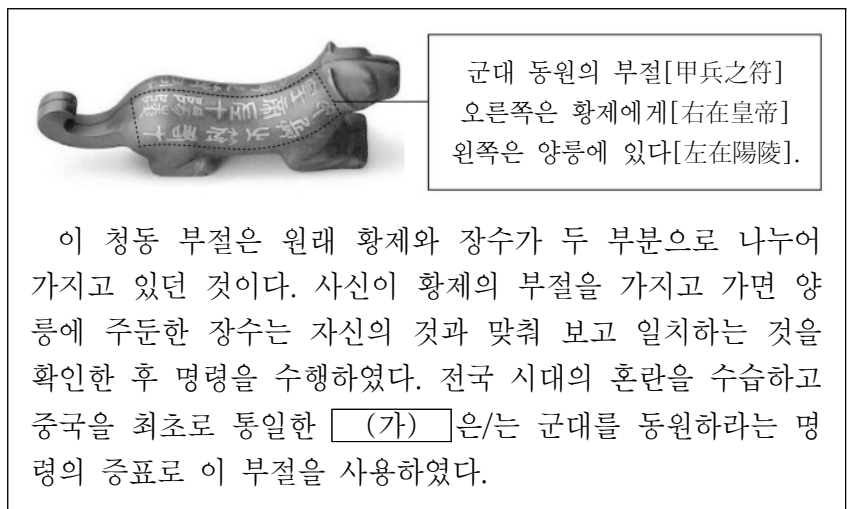
문학으로 만나는 세계사

구중궁궐에 연기와 먼지가 피어오르니  
수천수만의 수레와 기병이 서남쪽을 향하여 달아났네.  
화려한 깃발 흔들리며 가다 서다 하더니  
도성 문에서 서쪽으로 나가 백여 리밖에 못 나갔네.  
황제의 군대가 발걸음 떼지 않아 어쩔 수 없이  
아름다운 여인이 말 앞에서 죽었다네.

[해설] 이 시는 백거이가 지은 「장한가」의 일부로, 양귀비를 잃은 현종의 회한을 표현하고 있다. (가)의 절도사 안녹산이 반란을 일으키자 양귀비는 현종과 함께 피란 가던 도중에 죽음을 맞았다.

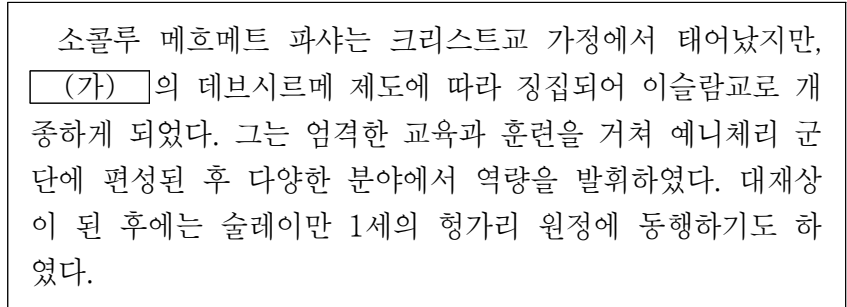
- ① 당삼채를 굽는 도공
- ② 홍루몽을 읽는 신사
- ③ 성리학을 공부하는 사대부
- ④ 수시력 편찬에 참여하는 관리
- ⑤ 곤여만국전도를 제작하는 선교사

3. (가) 황제의 재위 시기에 있었던 사실로 옳은 것은?



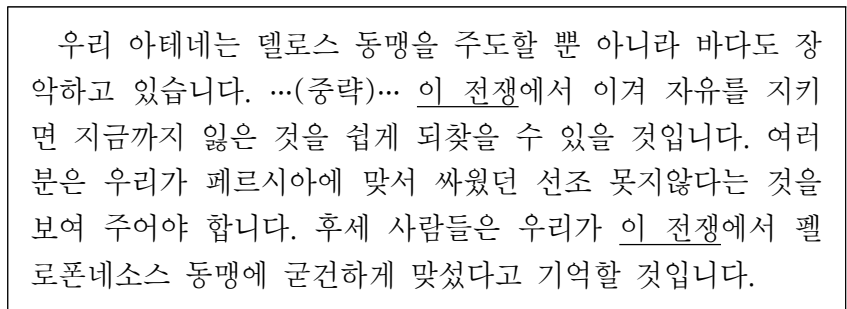
- ① 만리장성이 축조되었다.
- ② 맹안 모극제가 실시되었다.
- ③ 장건이 대월지에 파견되었다.
- ④ 통제거 등 대운하가 건설되었다.
- ⑤ 9품중정제로 관리가 선발되었다.

4. (가) 제국에 대한 설명으로 옳은 것은? [3점]



- ① 티마르제를 실시하였다.
- ② 카스트제를 확립하였다.
- ③ 쿠티브 미나르를 건설하였다.
- ④ 투르·푸아티에 전투에서 승리하였다.
- ⑤ 탈라스 전투에서 당의 군대를 격퇴하였다.


5. 밑줄 친 '이 전쟁'의 결과로 옳은 것은?



- ① 베르딩 조약이 체결되었다.
- ② 라티퐁디움 경영이 확대되었다.
- ③ 아테네가 해상 제국으로 발전하였다.
- ④ 스파르타가 그리스 세계의 패권을 차지하였다.
- ⑤ 옥타비아누스가 아우구스투스라는 칭호를 받았다.

세계사

6. (가) 왕조에 대한 설명으로 옳은 것은? [3점]



이것은 이집트에서 출토된 유물로, 가운데 앉아 있는 아누비스 신에게 오른쪽의 파라오 복장을 한 다리우스 1세가 제물을 바치는 모습이 나타나 있다. (가)의 다리우스 1세는 이집트를 속주로 두어 총독을 파견하고, '왕의 귀'라고 불리는 감찰관을 보내어 총독을 감독하였다.

- ① 티무르에 의해 건국되었다.
- ② 콘스탄티노폴리스를 함락하였다.
- ③ 포에니 전쟁에서 승리를 거두었다.
- ④ 유스티니아누스 법전을 편찬하였다.
- ⑤ 페르세폴리스를 수도로 건설하였다.

7. 밑줄 친 '황제'에 대한 설명으로 옳은 것은? [3점]

군주는 안팎의 구별 없이 천하의 가운데에 서서 사해의 만민을 안정시키고 한결같이 인(仁)으로 살피, 가까운 것은 돈독하게 하고 먼 것을 받아들인다고 하였다. ... (중략) ... 황제가 정사 태감인 정화, 왕경홍, 후현 등에게 여러 차례 명하여 구이(九夷)와 팔만(八蠻)의 길을 여시고 칙서와 예물을 하사하였다. 황제의 교화는 맑고, 두루 베풀은 끝이 없었다.

- 『성사승람』 -

- ① 고조선을 정복하였다.
- ② 군기처를 설치하였다.
- ③ 자금성을 건설하였다.
- ④ 사고전서를 편찬하였다.
- ⑤ 삼변의 난을 진압하였다.

8. 밑줄 친 '이 제국'의 문화에 대한 설명으로 옳은 것은?

이 제국의 아크바르 황제는 라지푸트족 공주와의 결혼을 통해 군사 동맹을 강화한 이후 힌두교도에게 징수하던 순례세를 폐지하였다. 이듬해 황제는 비이슬람교도에게 부과했던 지즈야를 폐지하였다. 이러한 종교적인 관용 정책은 이후 그가 이슬람교와 힌두교, 시크교 등을 초월하는 신앙을 제시하는 것으로 발전하였다.

- ① 자이나교가 출현하였다.
- ② 타지마할이 건축되었다.
- ③ 보로부두르가 축조되었다.
- ④ 간다라 미술 양식이 등장하였다.
- ⑤ 아잔타 석굴 사원이 착공되었다.

9. (가) 막부 시기에 있었던 사실로 옳은 것은?




오늘 만들 음식은 일본의 전통 조림 음식인 츠쿠다니입니다. 이 음식은 쇼군 직할지에 위치한 츠쿠다시마섬의 어부들이 잡어를 짬짬하게 졸여 먹었던 것에서 유래했다고 하는데요. 산킨코타이 제도로 (가)의 소재지에 왔던 다이묘들이 지방 영지로 돌아갈 때 오래 보관할 수 있는 이 음식을 가져가면서 전국에 알려지게 되었다고 합니다.

- ① 도다이사가 창건되었다.
- ② 원이 두 차례 침략하였다.
- ③ 견당사 파견이 중지되었다.
- ④ 다이카 개신이 단행되었다.
- ⑤ 인공 섬인 테지마가 조성되었다.

10. 밑줄 친 '이 혁명'에 대한 설명으로 옳은 것은? [3점]

이달의 개봉 영화



**레볼루션**

이 영화는 제1차 세계 대전 중 러시아에서 일어난 이 혁명의 과정을 다룬 작품입니다. 전쟁 중단을 요구하던 볼셰비키가 이 혁명으로 임시 정부를 타도하고 소비에트 정부를 수립하는 격동의 역사를 만나볼 수 있습니다.

- ① 글라스노스트를 표방하였다.
- ② 레닌의 주도 아래 전개되었다.
- ③ 인클로저 운동에 영향을 주었다.
- ④ 권리 장전의 승인을 이끌어 내었다.
- ⑤ 보스턴 차 사건을 배경으로 일어났다.

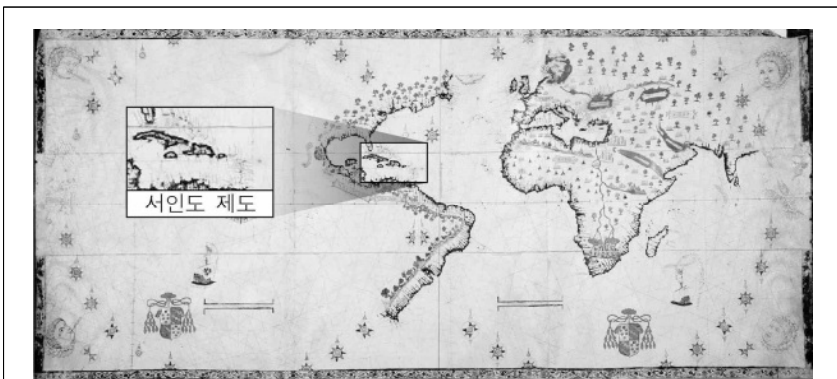
11. (가) 인물에 대한 설명으로 옳은 것은?



이 판화는 제후들의 지지를 받고 서 있는 (가)의 모습과 무너질 듯 위태롭게 앉아있는 교황 레오 10세의 모습을 대비하여 표현하였다. (가)은/는 신앙의 근거를 오직 성서라고 주장하면서 「95개조 반박문」을 발표하고 교황과 대립하였다.

- ① 우신예찬을 저술하였다.
- ② 신학대전을 집필하였다.
- ③ 예수회 설립을 주도하였다.
- ④ 영국 국교회를 확립하였다.
- ⑤ 교회의 면벌부 판매를 비판하였다.

12. (가) 국가에 대한 설명으로 옳은 것은? [3점]



이것은 콜럼버스의 항해 후 알게 된 서인도 제도 등의 지리 정보를 반영하여 (가)이/가 제작한 세계 지도이다. (가)은/는 콜럼버스의 항해 등을 후원하며 대서양 연안의 지리 정보를 지속적으로 수집하고, 이를 바탕으로 라틴 아메리카 일대에서 식민지를 넓혀나갔다.

- ① 하와이를 자국 영토로 편입하였다.
- ② 데카브리스트의 봉기를 진압하였다.
- ③ 콜베르를 앞세워 중상주의 정책을 펼쳤다.
- ④ 아스텍아 제국과 잉카 제국을 멸망시켰다.
- ⑤ 무적함대를 격파하고 동인도 회사를 설립하였다.

13. (가)에 들어갈 내용으로 가장 적절한 것은? [3점]



바스티유 광장 중앙에 있는 이 기념비는 자유주의자와 파리 시민 등이 일으킨 혁명을 기념하며 세운 것입니다. 이 혁명으로 의회를 해산하고 언론을 탄압하던 샤를 10세가 쫓겨나고, (가)

- ① 크롬웰이 호국경에 취임하였습니다.
- ② 루이 필리프가 왕으로 추대되었습니다.
- ③ 연방주의에 입각한 헌법이 제정되었습니다.
- ④ 인간과 시민의 권리 선언이 발표되었습니다.
- ⑤ 메리와 윌리엄이 공동 왕으로 즉위하였습니다.

14. 자료를 활용한 탐구 활동으로 가장 적절한 것은? [3점]

의장은 조시 홀에서 열린 대규모 회의에서 스와데시 운동을 지지하는 학생들의 행동이 정당하다고 말하였다. 또한 스와데시 운동을 지지하는 학생들을 처벌하고 교수를 해임한 콜라푸르 학교 당국의 행동을 비난하였다. 회의에 참가한 학생 사바르카르는 동포들에게 영국을 포함한 외국 상품의 구매를 삼갈 것을 강력히 촉구하였다.

- ① 탄지마트의 주요 내용을 분석한다.
- ② 헤지라가 일어난 배경을 살펴본다.
- ③ 콜카타 대학의 4대 강령을 조사한다.
- ④ 청년 튀르크당의 결성 계기를 파악한다.
- ⑤ 5·4 운동 당시 제기된 주장을 알아본다.

15. 자료가 작성된 배경으로 가장 적절한 것은?

대청 황제 퇴위 후 우대 조건에 관한 사항

제1관 대청 황제는 퇴위 후에도 존호를 그대로 유지한다. 중화민국은 대청 황제를 외국 군주의 예로 대한다.  
...(중략)...

제3관 대청 황제는 퇴위 후 잠시 궁성에 거처하다가 훗날 이 화원으로 옮긴다. 궁인들은 그대로 부릴 수 있다.


제4관 대청 황제가 퇴위한 후 종사와 능묘는 영원히 보존할 것이며, 중화민국은 위병을 배치하여 보호한다.

- ① 만주국이 수립되었다.
- ② 신해혁명이 발생하였다.
- ③ 청일 전쟁이 발발하였다.
- ④ 난징 조약이 체결되었다.
- ⑤ 태평천국 운동이 일어났다.



16. (가) 국가에 대한 설명으로 옳은 것은? [3점]

그림은 『이브닝 익스프레스』에 실린 풍자화입니다. 불도그로 표현된 (가) 이/가 ‘파쇼다’라고 적혀 있는 뼈다귀를 담은 밥그릇에 앞발을 집어넣고 있고, 푸들로 표현된 프랑스가 이를 지켜보는 상황을 묘사하고 있습니다. 아프리카에서 (가) 은/는 중단 정책을, 프랑스는 횡단 정책을 추진하다가 파쇼다에서 충돌하였습니다.



- ① 플라시 전투에서 승리하였다.
- ② 인도차이나 연방을 조직하였다.
- ③ 무제한 잠수함 작전을 전개하였다.
- ④ 청과 네르친스크 조약을 체결하였다.
- ⑤ 페리 제독의 함대를 일본에 파견하였다.

17. 밑줄 친 ‘국왕’에 대한 설명으로 옳은 것은? [3점]

교황 스테파누스 2세는 롬바르드족의 위협과 비잔티움 제국 황제와의 성상 파괴를 둘러싼 갈등 등으로 어려움을 겪고 있었다. 이 상황을 타개하기 위해 그는 프랑크 왕국으로 행차하여 국왕에게 세례를 주고 왕위의 정통성을 확인시켜 주었다. 국왕은 이에 대한 보답으로 군대를 보내 롬바르드족을 물리치고 라벤나 지역을 점령하여 교황에게 기증하였다. 이 땅은 교황령의 시초가 되었다.

- ① 상수시 궁전을 축조하였다.
- ② 악티움 해전에서 승리하였다.
- ③ 카롤루스 왕조를 개창하였다.
- ④ 성 소피아 성당을 건립하였다.
- ⑤ 교황으로부터 서로마 황제의 관을 받았다.

18. 자료를 활용한 탐구 주제로 가장 적절한 것은?

반동 회의 폐막 연설에서 네루는 다음과 같이 말하였다. “세계 전체가 양 진영으로 나뉘는다면 그 결과는 어떻겠습니까? 피할 수 없는 결과는 아마 전쟁일 것입니다. 그렇기에 냉전의 어느 진영에도 속하지 않는 비동맹 지역을 줄이는 행위는 위험하며, 전쟁으로 가는 길을 의미합니다.”

- ① 빈 체제의 붕괴
- ② 전체주의의 등장
- ③ 제3 세계의 형성
- ④ 국제 연맹의 창설
- ⑤ 산업 혁명의 배경

19. 다음 지령이 내려진 시기를 연표에서 옳게 고른 것은?

지령 제1호

공격일: 1900년 9월 1일  
공격 시각: 오전 4시 45분

서부에서는 교전 개시의 책임을 전적으로 영국과 프랑스에 지우는 것이 중요하다. 당분간 사소한 국경 침범에는 국지적인 조치로 대응해야 한다. ... (중략) ... 영국과의 전투를 수행할 때에는 공군을 이용하여 영국의 해상 보급과 군수 산업, 프랑스로의 병력 수송을 교란할 준비를 한다.

아돌프 히틀러

(가)	(나)	(다)	(라)	(마)
러일 전쟁 발발	사라예보 사건 발생	베르사유 조약 체결	대공황 발생	국제 연합 창설
① (가)	② (나)	③ (다)	④ (라)	⑤ (마)

20. (가) 사건에 대한 설명으로 옳은 것은?

세계사 신문

장칭, 재판에 회부되다

지난 20일 중국 베이징 최고 인민 법원에서 장칭에 대한 재판이 열렸다. 그녀는 홍위병을 동원하여 (가) 에 앞장서고, 류사오치 등 실용주의자들과 수많은 예술인을 억압한 혐의로 재판을 받았다. 그러나 그녀는 자신에게 제기된 모든 혐의를 일관되게 부인하였다.

- ① 마오쩌둥의 주도로 추진되었다.
- ② 중국 공산당의 대장정 중에 전개되었다.
- ③ 철도 국유화 조치에 반발하여 시작되었다.
- ④ 제2차 국공 합작이 이루어지는 배경이 되었다.
- ⑤ 인민 공사를 설립하여 생산성 향상을 꾀하였다.

**\* 확인 사항**

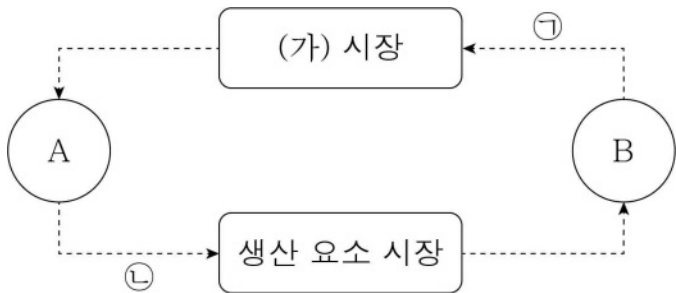
- 답안지의 해당란에 필요한 내용을 정확히 기입(표기)했는지 확인하십시오.

제 4 교시

사회탐구 영역(경제)

성명		수험번호					3				제 ( ) 선택
----	--	------	--	--	--	--	---	--	--	--	----------

1. 그림은 화폐의 흐름으로 나타낸 민간 부문의 경제 순환이다. 이에 대한 설명으로 옳은 것은? (단, A, B는 각각 가게, 기업 중 하나임.)



- ㉠ 노동은 (가) 시장에서 거래된다.
- ㉡ A는 생산 요소 시장에서 공급자이다.
- ㉢ B는 효용 극대화를 추구한다.
- ㉣ 은행에 저축하여 받은 이자는 ㉠에 해당한다.
- ㉤ 도서 구입을 위한 소비 지출은 ㉡에 해당한다.

2. 표는 값이 보유한 모든 금융 자산의 상품별 현황을 나타낸다. 이에 대한 설명으로 옳은 것은?

구분	㉠ 요구불 예금	㉡ 주식	㉢ 채권
금액(만 원)	500	300	200

- ㉠ ㉠은 배당 수익을 기대할 수 있다.
- ㉡ ㉢은 예금자 보호 제도의 적용을 받는다.
- ㉢ ㉡은 ㉢과 달리 시세 차익을 기대할 수 있다.
- ㉣ 만기가 있는 상품의 총액은 500만 원이다.
- ㉤ 이자 수익을 기대할 수 있는 상품의 총액은 700만 원이다.

3. 다음 자료에 대한 분석으로 옳은 것은? [3점]

표는 갑국의 X재 가격별 공급량과 수요량의 일부를 나타낸다. 현재 X재는 시장 균형에서 거래되고 있으며, 갑국 정부는 X재 소비자를 보호하기 위해 ㉠ X재 시장에 가격 상한을 2만 원으로 설정하는 가격 규제 정책을 시행하려고 한다. 단, X재의 수요와 공급 곡선은 모두 직선이며, 가격 규제 정책이 시행될 경우 암시장은 형성되지 않는다.

가격(만 원)	1	2	3	4	5
공급량(개)	5	10	15	20	25
수요량(개)	25	20	15	10	5

- ㉠ 현재 균형 거래량은 30개이다.
- ㉡ ㉠을 시행하면 판매 수입은 40만 원이 된다.
- ㉢ ㉠을 시행하면 10개의 초과 수요가 발생한다.
- ㉣ ㉠을 시행하면 공급량은 ㉠의 시행 이전보다 5개 증가한다.
- ㉤ ㉠을 시행하면 생산자 잉여는 ㉠의 시행 이전보다 증가한다.

4. 다음 자료는 형성 평가에 대한 학생의 답안과 교사의 채점 결과이다. 이에 대한 옳은 설명만을 <보기>에서 고른 것은? (단, A는 수요 견인 인플레이션 또는 비용 인상 인플레이션 중 하나임.)

이름: ○○○

A의 발생 요인을 4가지 쓰시오. (단, 총수요 곡선은 우하향하며 총공급 곡선은 우상향함.)

**학생의 답안**

- ㉠ 순수출 증가
- ㉡ 생산비 상승
- 투자 지출 증가
- (가)

채점 기준	학생이 쓴 발생 요인 1개당 맞으면 1점, 틀리면 0점임.	점수	3점
-------	----------------------------------	----	----

< 보 기 >

㉠ A는 수요 견인 인플레이션이다.

㉡ (가)에는 '소비 지출 증가'가 들어갈 수 있다.

㉢ A는 화폐 구매력의 증가 요인이다.

㉣ ㉠은 ㉡과 달리 실질 GDP의 감소 요인이다.

- ㉠ ㉠, ㉡    ㉡ ㉠, ㉢    ㉢ ㉡, ㉣    ㉣ ㉡, ㉣    ㉤ ㉢, ㉣

5. 표는 미국 달러화 대비 원화 가치의 전년 대비 변동률을 나타낸다. 이에 대한 설명으로 옳은 것은? (단, 환율 변동 이외의 다른 조건은 고려하지 않음.) [3점]

구분	t년	t+1년	t+2년
미국 달러화 대비 원화 가치의 변동률(%)	5	3	-4

- ㉠ t년에 미국에서 유학 중인 자녀를 둔 한국 학부모의 학비 부담은 전년에 비해 증가하였다.
- ㉡ t+1년에 한국 기업의 미국 달러화 표시 외채 상환 부담은 전년에 비해 감소하였다.
- ㉢ t+1년에 미국으로 수출하는 한국 상품의 달러화 표시 가격은 전년에 비해 하락하였다.
- ㉣ t+2년에 미국인의 한국 여행 경비 부담은 전년에 비해 증가하였다.
- ㉤ t+2년에 미국에서 부품을 수입하는 한국 기업의 대금 지급 부담은 전년에 비해 감소하였다.

경제

6. 다음 자료에 대한 분석으로 옳은 것은?

표는 ㉠ X재의 공급 감소에 따른 Y재와 Z재의 시장 균형 변화를 나타낸다. 단, Y, Z재는 X재의 연관재이고, Y재와 Z재는 독립재이며, X ~ Z재는 모두 수요와 공급 법칙을 따른다.

구분	Y재	Z재
균형 가격	(가)	상승
균형 거래량	감소	(나)

- ① (가)는 '상승', (나)는 '증가'이다.
- ② X재의 생산 기술 발달은 ㉠의 요인이다.
- ③ ㉠으로 인해 X재의 균형 가격은 하락한다.
- ④ ㉠으로 인해 Y재의 판매 수입은 감소한다.
- ⑤ Z재는 X재의 보완재이다.

7. 다음 자료에 대한 분석으로 옳은 것은? [3점]

표는 갑국의 연도별 실질 GDP를 분배 측면과 지출 측면에서 각각 항목별로 나타낸 것이다.

<분배 측면> (단위: 억 달러)			<지출 측면> (단위: 억 달러)		
구분	t년	t+1년	구분	t년	t+1년
임금	㉠	110	소비 지출	200	210
이자	70	90	(가)	70	㉡
지대	100	120	정부 지출	80	90
이윤	120	100	순수출	50	60

- ① 기업의 생산 설비 확대는 (가)의 감소 요인이다.
- ② ㉠은 ㉡의 2배이다.
- ③ t+1년의 경제 성장률은 4%이다.
- ④ t+1년의 수출액은 t년에 비해 10억 달러 증가하였다.
- ⑤ 실질 GDP에서 소비 지출이 차지하는 비율은 t년과 t+1년이 동일하다.

8. 다음 자료에 대한 분석으로 옳은 것은? [3점]

표는 2023년 갑국의 경상 수지 항목별 수취액과 지급액을 나타낸다. 단, 국제 거래는 갑국과 을국 간에만 이루어진다. (단위: 억 달러)

구분	상품 수지	서비스 수지	본원 소득 수지	이전 소득 수지
수취액	80	60	10	15
지급액	100	30	20	5

- ① 갑국은 해외 무상 원조액이 포함되는 항목이 적자이다.
- ② 갑국은 해외 투자에 따른 배당금이 포함되는 항목이 흑자이다.
- ③ 을국은 지식 재산권 사용료가 포함되는 항목이 적자이다.
- ④ 을국은 상품의 수출과 수입을 통한 외화 지급액이 수취액보다 많다.
- ⑤ 을국의 경상 수지는 을국의 통화량 증가 요인이다.

9. 다음 자료는 경제 퀴즈에 대한 학생들의 답변과 교사의 채점 결과이다. 이에 대한 설명으로 옳은 것은? (단, A, B는 각각 계획 경제 체제와 시장 경제 체제 중 하나임.)

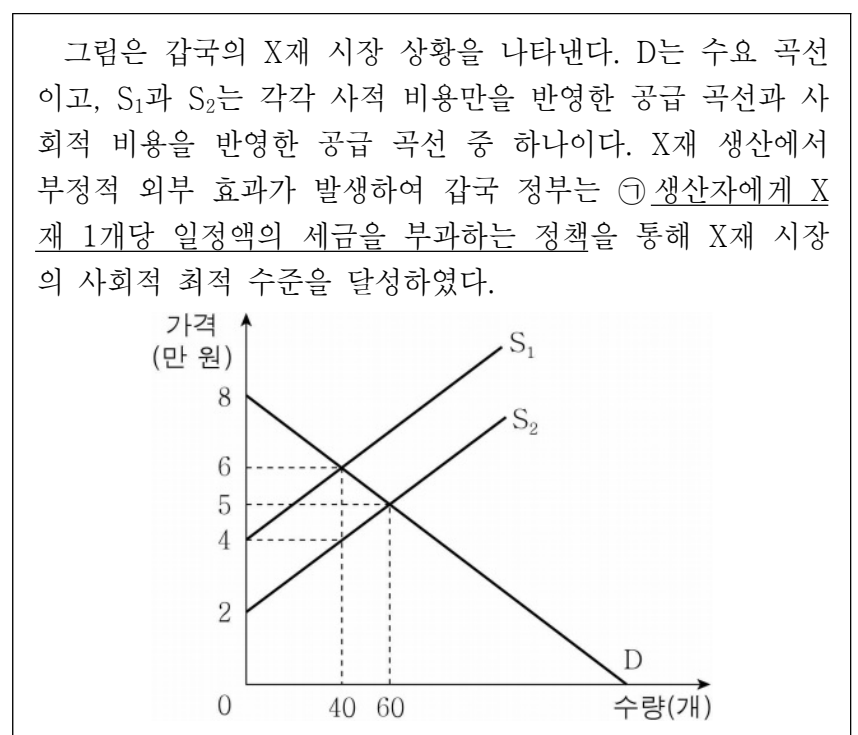
경제 퀴즈

※ 경제 체제 A, B의 특징에 관한 질문에 '예' 또는 '아니요'로 답하시오. (단, 질문 1개당 맞으면 1점, 틀리면 0점임.)

질문	답변	
	갑	을
A에서는 '보이지 않는 손'의 기능을 중시하는가?	예	아니요
A에서는 B와 달리 희소성에 따른 경제 문제가 발생하는가?	예	(가)
B에서는 A에 비해 경제 활동에서 경제적 유인을 강조하는가?	아니요	아니요
점수	2점	1점

- ① (가)는 '아니요'이다.
- ② A에서는 개별 경제 주체의 자유로운 경제 활동을 중시한다.
- ③ B에서는 원칙적으로 생산 수단의 사적 소유를 보장한다.
- ④ A에서는 B에 비해 경제 문제 해결 과정에서 형평성을 중시한다.
- ⑤ A와 B에서는 모두 자원 배분의 비효율성이 나타나지 않는다.

10. 다음 자료에 대한 옳은 분석만을 <보기>에서 고른 것은? [3점]



- < 보기 >
- ㄱ. ㉠ 실시 이전에는 사적 비용이 사회적 비용보다 크다.
  - ㄴ. ㉠ 실시 이전의 시장 판매 수입은 300만 원이다.
  - ㄷ. ㉠ 실시로 인해 소비자 잉여는 감소하였다.
  - ㄹ. ㉠ 실시로 인한 정부의 조세 수입은 120만 원이다.

- ① ㄱ, ㄴ    ② ㄱ, ㄷ    ③ ㄴ, ㄷ    ④ ㄴ, ㄹ    ⑤ ㄷ, ㄹ

11. 다음 자료에 대한 옳은 설명만을 <보기>에서 고른 것은?

밤길을 비추는 ㉠가로등은 이용자가 늘어나도 밝기가 약해지지 않으며, 비용을 부담하지 않은 사람도 이용할 수 있다. 그로 인해 사람들은 가로등을 누군가가 먼저 설치해 주기를 기다린다.

- < 보 기 >
- ㄱ. ㉠은 경합성을 갖는다.
  - ㄴ. ㉠은 배제성을 갖지 않는다.
  - ㄷ. ㉠의 이용에서 무임승차 문제가 발생한다.
  - ㄹ. ㉠의 생산을 시장에 맡기면 사회에서 필요한 양보다 과다 공급된다.

- ① ㄱ, ㄴ    ② ㄱ, ㄷ    ③ ㄴ, ㄷ    ④ ㄴ, ㄹ    ⑤ ㄷ, ㄹ

12. 다음 자료에 대한 설명으로 옳은 것은?

갑은 휴대 전화 A, B 중 하나를 합리적으로 선택하여 구매하려고 한다. 표는 A, B의 가격과 갑의 선택에 따라 발생하는 편익 및 암묵적 비용을 나타낸다. 단, 제시된 자료 외에 다른 조건은 고려하지 않는다.

(단위: 만 원)

구분	A	B
가격	110	100
편익	200	(가)
㉠ 암묵적 비용	150	90

- ① (가)는 190이다.
- ② ㉠은 합리적 선택을 위해 고려해서는 안 된다.
- ③ B 선택의 기회비용은 A 선택의 기회비용보다 크다.
- ④ 갑은 A를 선택할 것이다.
- ⑤ B의 가격이 130만 원이 되어도 갑의 선택에는 변함이 없다.

13. 다음 자료에 대한 분석으로 옳은 것은? [3점]

표는 A 기업의 X재 생산에 관한 자료이다. 단, A 기업은 X재를 1개 단위로 5개까지만 생산할 수 있고, 생산된 X재는 일정한 시장 가격에 모두 판매된다.

생산량(개)	1	2	3	4	5
총비용(달러)	60	90	150	240	360
총수입 대비 이윤의 비율(%)	40	㉠	㉡	40	28

- ① X재의 시장 가격은 200달러이다.
- ② ㉠은 ㉡보다 작다.
- ③ 생산량이 4개일 때 총수입이 가장 크다.
- ④ A 기업이 얻을 수 있는 가장 큰 이윤은 160달러이다.
- ⑤ 생산량을 3개에서 4개로 늘릴 때 추가적으로 얻는 수입과 추가적으로 발생하는 비용은 같다.

14. 다음 자료에 대한 분석으로 옳은 것은?

표는 갑의 2월 전체 수입의 항목별 금액 및 2월 전체 지출의 항목별 구성 비율을 나타낸 것이다.

<2월 수입>		<2월 지출>	
항목	금액(만 원)	항목	비율(%)
월급	300	식료품비	60
주식 배당금	60	의류비	20
복권 당첨금	40	사회 보험료	20

\* 처분 가능 소득 = 소득 - 비소비 지출

- ① 근로 소득은 재산 소득의 3배이다.
- ② 수입에서 이전 소득이 차지하는 비율은 10%이다.
- ③ 수입에서 근로 소득이 차지하는 비율은 지출에서 소비 지출이 차지하는 비율보다 높다.
- ④ 식료품비가 120만 원이라면 처분 가능 소득은 360만 원이다.
- ⑤ 재산 소득이 비소비 지출과 같다면 소비 지출은 300만 원이다.

15. 다음 자료에 대한 설명으로 옳은 것은? [3점]

게임 참가자 갑~병은 각각 '경기 과열 시 물가 안정' 또는 '경기 침체 시 경기 부양'을 정책 목표로 배정받고, 4장(A~D)으로 구성된 카드 1세트씩을 받았다.

A	B	C	D
국공채 매각	정부 지출 증가	지급 준비율 인하	소득세율 인상

참가자들은 게임 규칙 및 점수 부여 방법을 확인하고 카드를 2장씩 제시했다.

게임 규칙 및 점수 부여 방법	
○ 게임 규칙:	카드 2장을 제시한다.
○ 점수 부여 방법:	제시한 카드가 배정받은 정책 목표에 부합하는 내용일 경우 카드 1장당 1점씩 부여한다.

갑~병이 각각 배정받은 정책 목표와 제시한 카드는 다음과 같다.

구분	갑	을	병
배정받은 정책 목표	물가 안정	경기 부양	(가)
제시한 카드	A, ㉠	B, ㉡	D, ㉢

- ① 갑이 획득한 점수의 합은 ㉠이 D인 경우 1점이다.
- ② 을이 획득한 점수의 합은 ㉡이 A인 경우 2점이다.
- ③ (가)가 '물가 안정'인 경우 병이 최대로 획득할 수 있는 점수의 합은 1점이다.
- ④ (가)가 '경기 부양'이고 ㉠, ㉢이 모두 B인 경우 획득한 점수의 합은 갑이 병보다 높다.
- ⑤ ㉠~㉢이 모두 C인 경우 획득한 점수의 합은 을이 가장 높다.

16. (가)~(다)는 갑국의 노동 시장 균형에 영향을 주는 요인이다. 이에 대한 옳은 설명만을 <보기>에서 고른 것은? (단, 노동은 수요와 공급 법칙을 따름.)

- (가) 노동을 대체하는 생산 설비의 증대
- (나) 외국인 노동자의 갑국 내 유입 증가
- (다) 낙관적인 경기 전망으로 인한 기업의 구인 활동 확대

- < 보 기 >
- ㄱ. (가)는 노동 공급의 감소 요인이다.
  - ㄴ. (다)는 노동 수요의 증가 요인이다.
  - ㄷ. (가)와 (나)가 동시에 발생할 경우 균형 임금이 상승한다.
  - ㄹ. (나)와 (다)가 동시에 발생할 경우 균형 고용량이 증가한다.

- ① ㄱ, ㄴ    ② ㄱ, ㄷ    ③ ㄴ, ㄷ    ④ ㄴ, ㄹ    ⑤ ㄷ, ㄹ

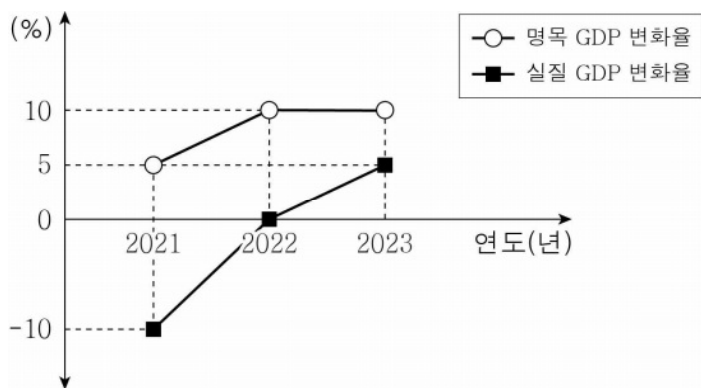
17. 표는 갑국의 연도별 고용 관련 자료를 나타낸다. 이에 대한 옳은 분석만을 <보기>에서 고른 것은? (단, 갑국의 15세 이상 인구와 경제 활동 참가율은 변함이 없음.) [3점]

구분	t년	t+1년
실업자 수 대비 취업자 수의 비	2	5
고용률(%)	40	㉠

- < 보 기 >
- ㄱ. ㉠은 50이다.
  - ㄴ. 실업자 수는 t년이 t+1년의 2배이다.
  - ㄷ. 비경제 활동 인구는 t년이 t+1년보다 많다.
  - ㄹ. 경제 활동 인구에서 취업자가 차지하는 비율은 t년이 t+1년보다 높다.

- ① ㄱ, ㄴ    ② ㄱ, ㄷ    ③ ㄴ, ㄷ    ④ ㄴ, ㄹ    ⑤ ㄷ, ㄹ

18. 그림은 갑국의 연도별 전년 대비 경제 지표 변화율을 나타낸다. 이에 대한 옳은 분석만을 <보기>에서 고른 것은? (단, 기준 연도는 2021년이며, 물가 수준은 GDP 디플레이터로 측정함.)

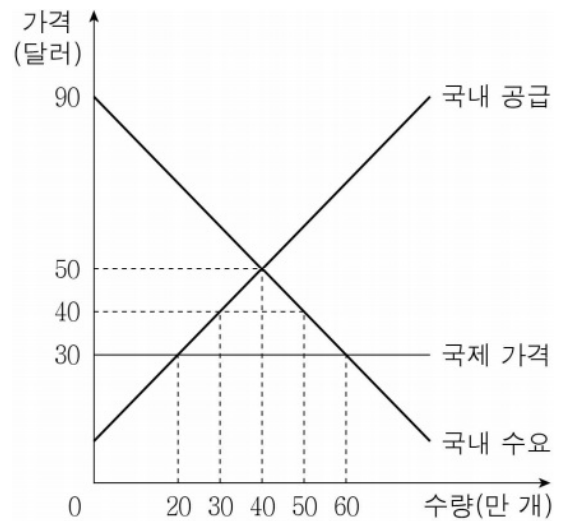


- < 보 기 >
- ㄱ. 2021년에는 명목 GDP가 실질 GDP보다 크다.
  - ㄴ. 2022년의 경제 성장률은 양(+)의 값이다.
  - ㄷ. 물가 수준은 2022년이 2021년보다 높다.
  - ㄹ. 전년 대비 명목 GDP 증가액은 2023년이 2022년보다 많다.

- ① ㄱ, ㄴ    ② ㄱ, ㄷ    ③ ㄴ, ㄷ    ④ ㄴ, ㄹ    ⑤ ㄷ, ㄹ

19. 다음 자료에 대한 분석으로 옳은 것은? [3점]

그림은 t기에 자유 무역을 하고 있던 갑국의 X재 시장을 나타낸다. 갑국은 국제 가격 30달러에 X재를 무제한 수입할 수 있다. t+1기에 갑국 정부는 국내 생산자를 보호하기 위해 수입되는 X재 1개당 10달러의 관세를 부과하였다. 단, 갑국에서 생산된 X재는 전량 국내 시장에서 판매되고, 국제 가격은 변함이 없으며, 국내 수요와 국내 공급은 변동이 없다.



- ① t기에 X재 수입량은 20만 개이다.
- ② t+1기에 X재 국내 소비량은 50만 개이다.
- ③ t+1기에 갑국 정부의 X재 관세 수입은 400만 달러이다.
- ④ X재 국내 소비자 잉여는 t+1기가 t기보다 크다.
- ⑤ X재 국내 생산자의 판매 수입은 t+1기가 t기보다 적다.

20. 다음 자료에 대한 옳은 분석만을 <보기>에서 고른 것은? [3점]

직선인 생산 가능 곡선상에서 X재와 Y재만을 생산하던 갑국과 을국은 비교 우위가 있는 재화만을 생산하여 일정한 교환 비율에 따라 교역하였다. 표는 갑국의 교역 전후에 관한 자료이다. 단, 양국이 보유한 생산 요소의 양은 같고, 생산된 재화는 모두 소비된다. 교역은 거래 비용 없이 양국 간에만 이루어지고, 양국은 이득이 발생할 때만 무역에 참여한다.

구분	X재 1개 소비의 기회비용	소비량(개)	
		X재	Y재
교역 전	Y재 2개	15	50
교역 후	Y재 1개	20	㉠

- < 보 기 >
- ㄱ. ㉠은 60이다.
  - ㄴ. 갑국은 Y재 생산에 비교 우위가 있다.
  - ㄷ. 갑국은 X재 30개와 Y재 25개를 동시에 생산할 수 있다.
  - ㄹ. 을국의 Y재 1개 생산의 기회비용은 X재 1/2개보다 작다.

- ① ㄱ, ㄴ    ② ㄱ, ㄷ    ③ ㄴ, ㄷ    ④ ㄴ, ㄹ    ⑤ ㄷ, ㄹ

**\* 확인 사항**

- 답안지의 해당란에 필요한 내용을 정확히 기입(표기)했는지 확인하십시오.

제 4 교시

사회탐구 영역(정치와 법)

성명		수험번호				3				제 ( ) 선택
----	--	------	--	--	--	---	--	--	--	----------

1. 정치를 바라보는 갑, 을의 관점에 대한 설명으로 옳은 것은?



- ① 갑의 관점은 정부의 예산안 편성 활동을 정치로 보지 않는다.
- ② 을의 관점은 국가 형성 이전의 정치 현상을 설명하기에 적합하다.
- ③ 갑의 관점은 을과 달리 다원화된 현대 사회의 정치 현상을 설명하기에 적합하다.
- ④ 을의 관점은 갑과 달리 정치를 통해 사회적 갈등을 해결할 수 있다고 본다.
- ⑤ 갑, 을의 관점 모두 국회의 입법 활동을 정치로 보지 않는다.

2. 우리나라 지방 자치 단체의 기관 A, B에 대한 옳은 설명만을 <보기>에서 있는 대로 고른 것은?

○○시의 주민들은 지역 경제 활성화를 위해 A에게 지역 내 폐기물 처리장 유치를 제안하였고, 지방 자치 단체 간 경쟁을 통해 ○○시가 최종적으로 폐기물 처리장을 유치하였다. 이후 ○○시의 A는 관련 예산안을 편성하였고, 편성 후 제출된 예산안을 B에서 심의·의결하였다.

- < 보 기 >
- ㄱ. A는 지방 자치 단체를 대표하고 지방 행정 사무를 총괄한다.
  - ㄴ. B는 집행 기관으로서 법령의 범위 안에서 조례를 제정하고 집행한다.
  - ㄷ. A는 B의 구성원과 달리 주민 소환의 대상이 아니다.
  - ㄹ. B는 지방 자치 단체의 사무 전반에 대한 감사·조사권으로 A를 견제할 수 있다.

- ① ㄱ, ㄷ                      ② ㄱ, ㄹ                      ③ ㄴ, ㄷ
- ④ ㄱ, ㄴ, ㄹ                ⑤ ㄴ, ㄷ, ㄹ

3. 우리나라 헌법 기관 A~D에 대한 설명으로 옳은 것은? [3점]

○○ 방송 □월 □일 편성 계획		
시간	프로그램명	주요 내용
14:30	정치 토론	A의 일반 사면권 행사, 무엇이 쟁점인가?
15:30	중계방송	국가의 세입·세출 결산을 검사하는 B를 대상으로 C가 실시하는 국정 감사 중계
19:00	생활과 법	△△ 사건 상고심, D에서 원심 확정

- ① A는 국가 예산안을 심의하고 확정한다.
- ② D는 국가 기관 상호 간 권한 쟁의 심판을 담당한다.
- ③ A는 D의 장(長)에 대한 임명권을 가진다.
- ④ B는 C의 동의를 얻어 국무 위원을 해임할 수 있다.
- ⑤ B는 A의 직속 기관이며, A의 구체적 지시에 따라 모든 업무를 수행한다.

4. 법치주의의 유형 A, B에 대한 설명으로 옳은 것은?

A는 의회가 적법한 절차를 거쳐 법률을 제정하기만 하면 그 법률의 목적이나 내용의 정당성 여부는 문제가 되지 않는다고 보아 개인의 자유와 권리를 탄압하는 ‘법률적 불법’이 나타날 우려가 있다. 반면, B는 법률의 목적과 내용도 정의에 합치할 것을 요구하며 법률이 개인의 자유와 권리를 탄압하는 ‘법률적 불법’을 허용하지 않는다.

- ① A는 통치의 형식적 합법성과 실질적 정당성을 모두 요구한다.
- ② B는 독재 권력을 정당화하는 수단이 될 우려가 크다.
- ③ A는 B와 달리 위헌 법률 심사제를 중요시한다.
- ④ B는 A와 달리 통치의 합법성을 중요시한다.
- ⑤ A, B 모두 개인의 기본권 제한은 법률에 근거해야 한다고 본다.

5. 표는 질문을 통해 기본권 유형 A~C를 구분한 것이다. 이에 대한 설명으로 옳은 것은? (단, A~C는 각각 사회적, 자유권, 청구권 중 하나임.)

질문	A	B	C
소극적 성격의 권리인가?	아니요	예	아니요
(가)	예	아니요	아니요
기본권 보장을 위한 기본권인가?	㉠	㉡	아니요

- ① ㉠은 ‘아니요’, ㉡은 ‘예’이다.
- ② (가)에는 ‘헌법에 열거되지 않아도 보장되는 포괄적 성격의 권리인가?’가 들어갈 수 있다.
- ③ A는 다른 기본권 보장의 전제가 되는 본질적 권리이다.
- ④ B는 인간다운 삶의 보장을 국가에 요구할 수 있는 권리이다.
- ⑤ C의 예로 ‘교육을 받을 권리’를 들 수 있다.

정치와 법

6. 국제법의 법원(法源) A~C에 대한 설명으로 옳은 것은? (단, A~C는 각각 조약, 국제 관습법, 법의 일반 원칙 중 하나임.)

‘일반적으로 성문화된 형식으로 존재하는가?’라는 질문을 통해 A와 B를 구분할 수 없고, ‘국제 사회에서 반복되는 관행이 법적 확신을 얻어 효력을 가지게 되었는가?’라는 질문을 통해 B와 C를 구분할 수 있다.

- ① A의 예로 ‘신의 성실의 원칙’을 들 수 있다.
- ② 우리나라의 경우 B의 비준 동의권은 국회에 있다.
- ③ 국제기구는 C의 체결 당사자가 될 수 없다.
- ④ B는 A, C와 달리 별도의 체결 절차를 요구하지 않는다.
- ⑤ C는 A, B와 달리 국제 사회에서 포괄적 구속력을 갖는다.

7. 민법의 기본 원칙 A에 부합하는 진술로 가장 적절한 것은?

○○ 영상 기획사 대표 갑은 최근 큰 인기를 얻고 있는 콘텐츠 크리에이터 을과 계약을 맺었다. 그런데 통상적인 계약과 달리 이계약은 수익금 배분 비율이 콘텐츠 크리에이터에게 매우 불리할 뿐 아니라, 계약 해지 시 을의 콘텐츠 제작 활동을 수년 간 금지하는 독소 조항도 포함하고 있었다. 이런 계약에 경험이 없던 을은 뒤늦게 이 계약이 자신에게 일방적으로 불리하다는 것을 깨닫고 갑을 상대로 소를 제기하였다. 법원은 을의 주장을 받아들여 해당 계약이 민법의 기본 원칙 A에 위배되어 무효라고 판결했다.

- ① 개인의 소유권 행사는 공공의 이익에 부합해야 한다.
- ② 현저하게 공정성을 잃은 계약의 효력은 인정되지 않는다.
- ③ 계약 등의 법률 행위는 개인의 자유로운 의사에 맡겨야 한다.
- ④ 타인에게 손해를 입힌 사람은 고의 또는 과실이 인정되는 경우에만 손해 배상 책임을 진다.
- ⑤ 고의나 과실이 없더라도 타인에게 피해를 준 경우 일정한 요건에 따라 손해 배상 책임을 져야 한다.

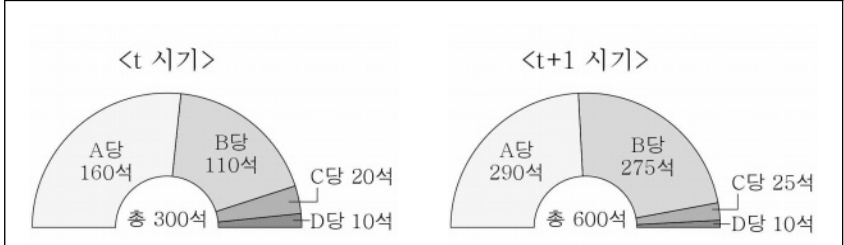
8. 다음 자료에 대한 법적 판단으로 옳은 것은? [3점]

갑(18세)과 을(20세)은 갑이 을에게 500만 원이 넘는 고가의 오토바이를 사겠다고 청약하고 을은 이를 승낙하는 내용이 담긴 문자 메시지를 주고받았다. 그리고 다음 날 갑은 계약금 50만 원을 을의 계좌로 송금하였다.

구분		계약 당시 갑은 법정 대리인 부모의 동의를 받았는가?	
		예	아니요
계약 당시 을은 갑의 나이를 알았는가?	예	(가)	(나)
	아니요	(다)	(라)

- ① 갑과 을의 계약은 계약금이 을의 계좌로 송금된 때 성립한다.
- ② (가)의 경우 갑과 갑의 부모는 계약을 취소할 수 있다.
- ③ (나)의 경우 을은 갑의 부모에게 계약 취소 여부에 대한 확답을 촉구할 수 있다.
- ④ (라)의 경우 을은 계약 체결의 의사 표시를 철회할 수 없다.
- ⑤ (나), (라)의 경우에는 (가), (다)와 달리 계약의 효력이 발생하지 않는다.

9. 그림은 갑국 의회의 시기별 의석수 분포를 나타낸다. 이에 대한 옳은 분석만을 <보기>에서 고른 것은? [3점]



- \* t 시기와 t+1 시기의 정부 형태는 서로 다르며, 각각 전형적인 대통령제와 전형적인 의원 내각제 중 하나에 해당한다.
- \* t 시기의 의석 분포는 의회 의원을 선출하는 선거와 행정부 수반을 선출하는 선거를 동시에 각각 실시한 결과이다.
- \* 행정부 수반의 소속 정당은 t 시기에는 B당, t+1 시기에는 A당이다.

< 보 기 >

- ㄱ. t 시기에는 여소야대 현상이 나타난다.
- ㄴ. t+1 시기에 A당은 C당이 아닌 D당과 연합하여 연립 내각을 구성한다.
- ㄷ. t 시기에는 t+1 시기와 달리 의회 의원이 행정부 각료를 겸직할 수 없다.
- ㄹ. t 시기와 t+1 시기의 D당 의석률은 동일하다.

- ① ㄱ, ㄴ    ② ㄱ, ㄷ    ③ ㄴ, ㄷ    ④ ㄴ, ㄹ    ⑤ ㄷ, ㄹ

10. 다음 자료에 대한 법적 판단으로 옳은 것은? [3점]

(가) 2010년, A(37세)와 B(32세)는 ㉠ 혼인 신고를 함.



(나) 2012년, A와 B는 자녀 C를 낳음.



(다) 2020년, A와 B는 D의 자녀 E(1세)를 ㉡ 친양자로 입양함.



(라) 2023년, B가 부정(不貞) 행위를 하여 A의 청구로 재판상 이혼을 함. A가 C를, B가 E를 양육하기로 함.



(마) 2024년, E와 단둘이 살던 B는 유언 없이 교통사고로 ㉢ 사망하였으며, 사망 당시 채무 없이 7억 원의 재산을 남김.

- ① ㉠으로 인해 A와 B 사이에 사실혼 관계가 형성된다.
- ② ㉡으로 인해 D와 E의 친족 관계는 종료된다.
- ③ ㉢으로 인한 E의 법정 상속액은 2억 원이다.
- ④ (나)에서 A와 C 사이의 친자 관계가 형성되기 위해서는 인지 절차가 필요하다.
- ⑤ (라)에서 B는 A와 달리 재산 분할 청구권을 행사할 수 없다.

11. 다음 자료에 대한 설명으로 옳은 것은?

최근 ㉠ 언론을 통해 (가) 반려 동물 중 맹견으로 인한 피해가 잇따르고 있어 대책이 필요하다는 뉴스가 수차례 보도되었고, (나) 시민들은 이러한 피해를 방지할 수 있는 법률이나 규제의 신설이 필요하다는 의견을 집회 등을 통해 표출하였다. 이러한 여론을 반영하여 (다) 의회에서 ○○법이 제정되었고 ㉡ 행정부는 관련 시행 규칙을 만들어 시행하였다. 맹견을 키우고 있는 ㉢ 일부 시민들은 ○○법에 불만을 표출하였지만, ㉣ 수의사 협회 등은 필요한 조치라고 환영하였다.

- ① ㉠은 ㉢과 달리 정치 참여 주체가 아니다.
- ② ㉡은 의회와 달리 정책 결정 기구에 해당한다.
- ③ ㉢은 ㉣과 달리 정치 과정에서 '환류'에 참여하였다.
- ④ (나)는 (가)와 달리 정치 과정에서 '투입'에 해당한다.
- ⑤ (다)는 정치 과정에서 '산출'에 해당한다.

12. 밑줄 친 ㉠~㉣에 대한 옳은 설명만을 <보기>에서 고른 것은? [3점]

갑은 자신에게 피해를 준 사람의 신상을 인터넷에 공개하고자 하였으나, 명예 훼손과 관련한 ㉠ 형법 제307조 제1항으로 인해 포기할 수밖에 없었다. 이에 갑은 해당 조항이 자신의 기본권을 침해한다고 판단하여 ㉡ 헌법 재판소에 ㉢ 헌법 소원 심판을 청구하였다. 헌법 재판소는 해당 조항은 목적의 정당성, 수단의 적합성, 침해의 최소성, 법익의 균형성이 모두 인정되므로 헌법에 위배되지 않는다고 ㉣ 기각 결정을 내렸다.

< 보 기 >

㉠. ㉠은 개인 간의 사적 생활 관계를 규율하는 법이다.  
 ㉡. ㉡의 재판관은 9명이며, 모두 대통령이 임명한다.  
 ㉢. ㉢은 권리 구제형 헌법 소원 심판이다.  
 ㉣. 갑은 ㉣에 불복하여 재항고할 수 있다.

- ① ㉠, ㉡    ② ㉠, ㉢    ③ ㉡, ㉢    ④ ㉡, ㉣    ⑤ ㉢, ㉣

13. 다음 사례에 대한 옳은 법적 판단만을 <보기>에서 고른 것은? [3점]

(가) A사는 회사의 경영상 어려움을 이유로 근로자 갑에게 해고 대상자임을 구두로 통지하고 다음 날 해고하였다.  
 (나) B사에 근무하는 을은 노동조합에 가입하였다는 이유로 승진 대상에서 제외되는 등 인사상 불이익을 받았다.

< 보 기 >

㉠. 갑은 노동 위원회를 거치지 않고 법원에 소송을 제기할 수 있다.  
 ㉡. 을은 B사를 상대로 행정 소송을 제기할 수 있다.  
 ㉢. (가)와 달리 (나)는 부당 노동 행위 사례에 해당한다.  
 ㉣. (나)와 달리 (가)에서는 노동조합이 구제 신청을 할 수 있다.

- ① ㉠, ㉡    ② ㉠, ㉢    ③ ㉡, ㉢    ④ ㉡, ㉣    ⑤ ㉢, ㉣

14. 밑줄 친 ㉠~㉣의 적법성 여부에 대해 모두 옳게 판단한 학생은? [3점]

**<근로 계약서>**

사용자 A와 근로자 B(18세)는 다음과 같이 근로 계약을 체결한다.

1. 계약 기간: 2024년 1월 1일부터 2024년 2월 29일까지
2. 근무 장소: ○○ 편의점
3. 업무 내용: 매장 청소 및 물건 판매
4. 근로 시간 / 근무일
  - ㉠ 10시 ~ 19시(휴게 시간: 13시 ~ 14시)/매주 월 ~ 금
  - (주휴일: 토요일)
5. 임금
  - ㉡ 시급 9,500원(1월), 10,000원(2월)
  - ㉢ B의 통장에 매월 2회(15일, 29일) 입금

\* 2024년 법정 최저 임금은 시간당 9,860원임.

<학생들의 판단>

(○: 적법함, ×: 적법하지 않음)

구분	갑	을	병	정	무
㉠	○	×	○	×	○
㉡	×	○	×	×	○
㉢	○	×	×	○	○

- ① 갑    ② 을    ③ 병    ④ 정    ⑤ 무

15. 다음 사례에 대한 옳은 설명만을 <보기>에서 있는 대로 고른 것은? [3점]

(가) 갑은 자신의 방에 들어온 절도범을 골프채로 수차례 폭행하였고, 절도범은 뇌사 상태에 빠졌다가 사망하였다. 과실치사죄로 기소된 갑은 정당방위였다고 주장하였으나 법원은 갑의 폭행은 공격 의사가 압도적이며 사회 통념상 상당성을 갖추었다고 볼 수 없다고 정당방위를 인정하지 않았다.  
 (나) 차기 지방 선거에 입후보할 의사가 있던 을은 여론 조사 비용 명목의 돈을 ○○신문사에 제공하였다. 공직 선거법 위반으로 기소된 을은 언론의 보도 내용에 신경을 써야 하는 상황에서 신문사의 강요를 피할 수 없었다며 무죄를 주장하였으나 법원은 형법 제12조의 강요된 행위로 볼 수 없다고 보았다.

< 보 기 >

㉠. (가)에서 법원은 갑의 행위가 위법하다고 보았다.  
 ㉡. (나)에서 법원은 을에게 책임 조각 사유가 있는지를 판단하였다.  
 ㉢. 갑의 행위는 을의 행위와 달리 범죄의 구성 요건에 해당하지 않는다.  
 ㉣. 법원은 갑, 을 모두 손해 배상 책임이 없다고 판단하였다.

- ① ㉠, ㉡    ② ㉠, ㉢    ③ ㉡, ㉣
- ④ ㉠, ㉡, ㉢    ⑤ ㉡, ㉢, ㉣



16. 국제 연합의 주요 기관 A~C에 대한 설명으로 옳은 것은?

A는 창설 75주년을 맞아 A의 판례 및 소송 절차, 역사 등의 내용이 담긴 기념 출판물을 발행하였다. 이와 관련하여 국제 연합의 모든 회원국으로 구성된 B에서는 A의 판결 집행 실효성을 높일 방안을 모색하여야 한다는 의견이 제기되었다. 한편, 국제 평화와 안전 유지의 책임을 맡은 기관 C에서는 ‘○○국 제재 결의안’이 10개국의 찬성에도 불구하고 갑국의 반대로 부결되었다.

- ① A는 국적이 모두 다른 재판관으로 구성된다.
- ② B에서는 분담금에 따라 의결권이 회원국에 차등 배분된다.
- ③ 갑국은 C의 비상임 이사국이다.
- ④ A는 B와 달리 판결에 불복하는 당사국을 직접 제재할 수 있다.
- ⑤ C는 B와 달리 A의 재판관을 선출하는 권한을 가진다.

17. 다음 사례에 대한 옳은 법적 판단만을 <보기>에서 고른 것은?

[3점]

A(7세)는 부모가 한눈을 판 사이에 아파트 옥상으로 올라가 갖고 놀던 장난감을 아파트 아래로 떨어뜨렸다. 그때 지나가던 B는 A가 떨어뜨린 장난감을 맞고 쓰러져 전치 6주의 골절상을 입게 되었다. 한편, C가 운영하는 식당에서 아르바이트를 하던 D(20세)는 오토바이로 음식을 배달하던 중 횡단보도를 건너던 E를 치어 다치게 하였다.

< 보 기 >

- ㄱ. A와 A의 부모는 공동 불법 행위자의 책임을 진다.
- ㄴ. B는 A의 부모에게 특수 불법 행위에 따른 손해 배상을 청구할 수 있다.
- ㄷ. D의 불법 행위 책임이 인정되지 않으면, C가 E에게 손해를 배상해야 한다.
- ㄹ. D의 불법 행위 책임이 인정되더라도, C는 D의 선임 및 그 사무 감독에 상당한 주의를 다하였음을 증명하면 손해 배상 책임을 면할 수 있다.

- ① ㄱ, ㄴ    ② ㄱ, ㄷ    ③ ㄴ, ㄷ    ④ ㄴ, ㄹ    ⑤ ㄷ, ㄹ

18. 우리나라 헌법의 기본 원리 A, B에 대한 설명으로 옳은 것은?

기본 원리	관련 헌법 조문	실현 방안 예시
A	국가는 전통문화의 계승·발전과 민족 문화의 창달에 노력하여야 한다.	(가)
B	(나)	최저 임금제

- ① (가)에는 ‘개발도상국에 대한 원조 확대’가 들어갈 수 있다.
- ② (나)에는 ‘모든 국민은 거주·이전의 자유를 가진다.’가 들어갈 수 있다.
- ③ A는 주권이 국민에게 있다는 원리이다.
- ④ B의 실현을 위해 국가는 경제에 관한 규제와 조정을 할 수 있다.
- ⑤ B는 A와 달리 근대 입헌주의의 헌법에서부터 강조되었다.

19. 밑줄 친 ㉠~㉣에 대한 설명으로 옳은 것은?

갑은 ○○죄 혐의로 ㉠ 체포되어 구속 상태로 기소되었고, 1심은 ㉡ 국민 참여 재판으로 진행되었다. 이 재판에서 ㉢ 징역 1년을 선고받은 갑은 항소하였다. 법원은 항소심에서 갑에게 ㉣ 형의 선고를 유예하였고 ㉣ 판결이 확정되었다.

- ① ㉠을 위한 영장은 검사가 발부한다.
- ② ㉡에서 배심원의 평결은 법원을 구속한다.
- ③ ㉢은 노역이 부과되지 않는 자유형이다.
- ④ ㉣은 유죄 취지의 판결이다.
- ⑤ ㉣ 이후 갑은 형사 보상을 청구할 수 있다.

20. 다음 자료에 대한 옳은 설명만을 <보기>에서 고른 것은?

[3점]

갑국 의회의 의원 정수(定數)는 140명(지역구 의원 100명, 비례 대표 의원 40명)이다. 지역구 의원은 각 선거구에서 2명씩 단순 다수 대표제 방식으로 선출하며, 비례 대표 의석은 아래의 ㉠ 값에서 정수(整數)만큼을 각 정당에 먼저 배분하고 잔여 의석은 ㉠ 값에서 소수점 이하의 수가 큰 순서대로 각 정당에 1석씩 배분한다. 단, 소수점 이하의 수가 같아 경쟁이 될 경우는 추첨한다.

㉠ 전체 비례 대표 의석수(40석) × 각 정당의 정당 투표 득표율(%)

아래 표는 갑국의 최근 의회 의원 선거 결과이다. 갑국에는 A당~D당만 존재하고 투표율은 100%이며 무효표 및 무소속 의원은 없다.

구분	A당	B당	C당	D당
지역구 의석수(석)	32	45	13	10
정당 투표 득표율(%)	40	35	7	18

다음번 지역구 의원 선거에서는 아래의 개편안이 실행된다.

선거구 수를 두 배로 늘리고 각 선거구에서 1명씩 선출하되, 결선 투표제 방식으로 진행하여 득표율 50%를 넘는 후보자가 당선되도록 한다.

< 보 기 >

- ㄱ. 최근 선거에서 A당과 B당은 모두 과대 대표되었다.
- ㄴ. 최근 선거에서 C당은 3석의 비례 대표 의석을 배분받았다.
- ㄷ. 개편안의 지역구 의원 당선자 결정 방식은 사표가 발생하지 않아 당선자의 대표성을 높일 수 있다.
- ㄹ. 최근 지역구 의원 선거는 개편안과 달리 ‘동일 선거구 내 당선자 간 득표율 차이로 표의 등가성 문제가 발생할 수 있는 선거구제’를 채택하였다.

- ① ㄱ, ㄴ    ② ㄱ, ㄷ    ③ ㄴ, ㄷ    ④ ㄴ, ㄹ    ⑤ ㄷ, ㄹ

\* 확인 사항

- 답안지의 해당란에 필요한 내용을 정확히 기입(표기)했는지 확인하십시오.

제 4 교시

사회탐구 영역(사회·문화)

성명		수험번호				3				제 ( ) 선택
----	--	------	--	--	--	---	--	--	--	----------

1. 밑줄 친 ㉠~㉣과 같은 현상의 일반적인 특징에 대한 설명으로 옳은 것은?

기후 위기가 심화되면서 ㉠바람이 가지는 운동 에너지를 이용하여 전력을 생산하는 풍력 발전이 다시 주목받고 있다. 바람은 고기압 지역에서 저기압 지역으로 부는데 ㉡기압 차가 클수록 바람의 세기는 강해진다. 바람이 강하게 부는 곳에서는 풍력 발전이 매우 효과적인 전력 생산 방법이다. 풍력 발전은 온실 가스 발생을 줄이고, 줄지어 늘어선 풍력 발전기는 ㉢관광 자원으로 활용되기도 한다.

- ① ㉠과 같은 현상은 ㉡과 같은 현상과 달리 가치 함축적이다.
- ② ㉡과 같은 현상은 ㉢과 같은 현상과 달리 확률의 원리가 적용된다.
- ③ ㉢과 같은 현상은 ㉠과 같은 현상과 달리 인과 관계가 불분명하다.
- ④ ㉢과 같은 현상은 ㉡과 같은 현상과 달리 존재 범칙의 지배를 받는다.
- ⑤ ㉠, ㉢과 같은 현상은 ㉡과 같은 현상과 달리 보편성이 나타난다.

2. 다음 자료에 대한 설명으로 옳은 것은? [3점]

갑은 신입 사원의 목표 지향성이 직무 만족도에 미치는 영향을 파악하기 위해 연구를 진행하였다. 갑은 ㉠목표 지향성에 대한 다른 연구자들의 선행 연구를 검토한 후, 목표 지향성을 자신의 업무 능력 향상에 중점을 두는 ㉡학습 목표 지향성과 과업 달성에 중점을 두는 ㉢수행 목표 지향성으로 나누고 다음과 같은 가설을 설정하였다.

<가설 1> 학습 목표 지향성이 높을수록 직무 만족도가 높을 것이다.  
 <가설 2> 수행 목표 지향성이 높을수록 직무 만족도가 높을 것이다.

갑은 무작위로 선정한 ㉣신입 사원 1,000명을 대상으로 학습 목표 지향성, 수행 목표 지향성, 직무 만족도를 지수화하여 측정하였다. 수집한 자료를 분석한 결과 학습 목표 지향성이 높을수록 직무 만족도가 통계적으로 유의미하게 높았고, 수행 목표 지향성은 직무 만족도에 통계적으로 유의미한 영향을 미치지 않았다.

- ① 갑의 연구는 방법론적 이원론을 전제로 한다.
- ② ㉠은 갑의 연구에서 1차 자료에 해당한다.
- ③ ㉡은 독립 변인, ㉢은 종속 변인이다.
- ④ ㉣은 모집단이다.
- ⑤ <가설 1>은 <가설 2>와 달리 수용되었다.

3. 빈곤의 유형 A, B에 대한 설명으로 옳은 것은? (단, A, B는 각각 절대적 빈곤, 상대적 빈곤 중 하나임.) [3점]

A는 최소한의 생활을 유지하는 데 필요한 소득을 기준으로 빈곤 여부를 판단한다. 그러나 최소한의 생활 수준을 정하기가 어렵다는 비판이 제기되면서, 전체 국민의 소득 분포를 고려하여 빈곤 여부를 판단하는 B가 등장하였다.

- ① A를 판단하는 소득 기준은 모든 사회에서 동일하다.
- ② A에 해당하는 사람은 모두 B에 해당한다.
- ③ A는 B와 달리 소득 수준이 높은 국가에서는 나타나지 않는다.
- ④ B는 A와 달리 상대적 박탈감의 원인이 된다.
- ⑤ A와 B 모두 우리나라에서는 객관화된 기준을 적용하여 파악한다.

4. 다음 글에 나타난 사회 변동의 방향을 바라보는 관점에 대한 옳은 설명만을 <보기>에서 고른 것은?

사회는 각 부분이 명료하게 구분되지 않는 초기 생명체와 같은 '단순 사회'에서 각 부분의 기능이 서로 대체될 수 없게 분화된 생명체와 같은 '복잡 사회'로 발전한다.

— < 보 기 > —

- ㄱ. 사회 변동을 사회 발전과 동일시한다.
- ㄴ. 서구 중심적 사고라는 비판을 받는다.
- ㄷ. 운명론적 관점에서 사회 변동을 설명한다.
- ㄹ. 사회 변동을 동일한 과정의 주기적 반복으로 설명한다.

- ① ㄱ, ㄴ    ② ㄱ, ㄷ    ③ ㄴ, ㄷ    ④ ㄴ, ㄹ    ⑤ ㄷ, ㄹ

5. 자료 수집 방법 A~C의 일반적인 특징에 대한 설명으로 옳은 것은? (단, A~C는 각각 면접법, 실험법, 질문지법 중 하나임.)

고등학생 갑~병은 SNS 중독에 관한 서로 다른 연구에 연구 대상으로 참여하였다. 갑은 A만을 사용한 연구에서 학업 스트레스와 SNS 이용 빈도 등에 관한 구조화된 문항에 응답하였다. 을은 B만을 사용한 연구에서 연구자와 직접 만나 대화하며 SNS를 하면서 얻는 위안, SNS를 하지 못할 때 느끼는 감정 등에 대해 솔직하게 이야기하였다. 병은 C만을 사용한 연구에서 연구자가 진행한 집단 상담 프로그램에 참여하였으며 집단 상담 프로그램 참여 전과 후에 각각 SNS 중독 지수를 측정하는 검사를 받았다.

- ① A는 B에 비해 다수를 대상으로 한 자료 수집에 유리하다.
- ② B는 A와 달리 변인 간의 관계를 파악하는 연구에 주로 사용된다.
- ③ B는 C에 비해 자료 수집 상황에 대한 통제 수준이 높다.
- ④ C는 A와 달리 양적 자료 수집에 주로 사용된다.
- ⑤ C는 B에 비해 연구자의 주관적 가치가 개입될 가능성이 높다.

6. 사회·문화 현상을 바라보는 갑~병의 관점에 대한 설명으로 옳은 것은? (단, 갑~병의 관점은 각각 기능론, 갈등론, 상징적 상호 작용론 중 하나임.)

사회자: 사회화란 무엇인가요?

갑: 전체 사회 구성원이 합의한 가치와 규범을 내면화하는 과정입니다.

을: 기존의 권력 구조를 재생산하기 위하여 지배 집단에 유리한 가치와 규범을 전수하는 과정입니다.

병: 개인이 자신에 대한 타인의 평가나 기대를 해석하여 능동적으로 자아를 형성하는 과정입니다.

- 갑의 관점은 개인의 행동이 상황 정의에 기초하여 이루어진다고 본다.
- 을의 관점은 지배 집단과 피지배 집단 간 갈등이 사회 발전의 원동력이라고 본다.
- 병의 관점은 사회의 각 부분이 상호 의존적 관계를 맺는다고 본다.
- 을의 관점은 갑의 관점과 달리 기득권층의 이익을 옹호하는 비판을 받는다.
- 병의 관점은 갑의 관점과 달리 사회 구조가 개인에게 미치는 영향을 중시한다.

7. A~C에 대한 설명으로 옳은 것은? (단, A~C는 각각 뒤르켐의 아노미 이론, 차별 교제 이론, 낙인 이론 중 하나임.) [3점]

표는 일탈 이론 A~C의 관점에서 청소년들의 온라인 도박이 증가하는 원인을 설명한 것이다.

이론	설명
A	온라인 도박을 하는 사람들과 접촉하면서 온라인 도박을 정당화하는 가치관을 학습하기 때문이다.
B	정보 사회로 급속하게 변화하는 과정에서 온라인 도박을 통제하는 사회 규범이 정립되지 않았기 때문이다.
C	온라인 도박을 한 청소년이 주변 사람들로부터 비난받은 결과, 부정적 자아가 형성되어 온라인 도박을 반복하기 때문이다.

- A는 차별적인 사회적 제재를 일탈 행동의 원인으로 본다.
- B는 일탈 행동에 대한 대책으로 문화적 목표를 달성할 수 있는 제도화된 기회의 확대를 중시한다.
- C는 1차적 일탈이 2차적 일탈로 이어지는 과정에 주목한다.
- A는 C와 달리 타인과의 상호 작용이 일탈 행동에 미치는 영향에 주목한다.
- B는 C와 달리 일탈 행동을 규정하는 객관적 기준이 없다고 본다.

8. 밑줄 친 ㉠~㉤에 대한 설명으로 옳은 것은? [3점]

대학 시절 창업을 꿈꾸었던 갑은 ㉠ 어머니의 권유에 따라 ㉡ A 회사에 입사하였다. 갑은 업무 능력을 인정받아 작년에 ㉢ '올해의 우수 사원상'을 수상하고 ㉣ 과장으로 승진하였다. 하지만 사업을 하는 ㉤ 대학교 동창을 만날 때마다 ㉥ 회사를 그만두고 창업할지에 대한 고민을 털어놓곤 한다.

- ㉡은 2차 집단이자 자발적 결사체이다.
- ㉢은 갑의 역할에 대한 보상이다.
- ㉣은 ㉠과 달리 성취 지위이다.
- ㉤은 이익 사회이자 2차적 사회화 기관이다.
- ㉥은 갑의 역할 갈등이다.

9. 사회적 소수자와 관련한 다음 두 사례를 종합하여 도출할 수 있는 결론으로 가장 적절한 것은?

- 갑국에서는 민속 음악인들이 과거에는 직업을 이유로 차별받았으나 오늘날에는 대중의 사랑과 존경을 받고 있다.
- 을국에서는 병국 출신 유학생들이 병국 국교를 믿는다는 이유로 병국에서와 달리 차별을 받고 있다.

- 사회적 소수자는 신체적 특징에 의해 규정된다.
- 사회적 소수자 우대 정책은 역차별을 초래할 수 있다.
- 개인은 여러 사회적 소수자 집단에 중첩되어 속할 수 있다.
- 사회적 소수자에 대한 차별을 없애려면 제도적 노력이 필요하다.
- 사회적 소수자를 규정하는 기준은 시대와 장소에 따라 달라질 수 있다.

10. 다음 자료에 나타난 갑국의 상황에 대한 분석으로 옳은 것은? [3점]

표는 갑국에서 부모 세대와 자녀 세대 간 계층 이동의 결과로 형성된 자녀 세대의 계층 구조를 나타낸 것이다. 부모 세대에서 부부의 계층은 동일하고, 모든 부모의 자녀는 1명씩이다. 계층은 A, B, C로만 구분되고, A~C는 각각 상층, 중층, 하층 중 하나이다.

A	B	C
○○○ⓂⓂⓂ	○○●●●●●	○○ⓂⓂⓂⓂⓂ●●

\* 동그라미(○, Ⓜ, ●)는 사람의 수를 나타낸 것이며, 동그라미 한 개가 나타내는 사람의 수는 동일함.  
\* ○는 계층 대물림을 받은 사람, Ⓜ는 세대 간 상승 이동을 한 사람, ●는 세대 간 하강 이동을 한 사람을 나타냄.

- 폐쇄적 계층 구조를 가지고 있다.
- 자녀 세대의 계층 구조는 피라미드형이다.
- 부모 세대에서 하층 인구의 비율은 50% 이상이다.
- 자녀 세대의 계층에서 계층 대물림을 받은 사람의 수는 상층이 가장 많다.
- 부모 세대의 계층 구조가 자녀 세대의 계층 구조보다 사회 통합에 유리하다.

11. 다음 자료에 대한 설명으로 옳은 것은? (단, A~C는 각각 주류 문화, 하위문화, 반문화 중 하나임.) [3점]

A와 B를 구분할 수 있는 질문	<ul style="list-style-type: none"> <li>○ 한 사회 내에서 특정 집단의 구성원들만 공유하는 문화인가?</li> <li>○ 한 사회의 지배적 가치와 규범에 저항하거나 대립하는 문화인가?</li> </ul>
B와 C를 구분할 수 있는 질문	<ul style="list-style-type: none"> <li>○ 한 사회 내에서 구성원들이 전반적으로 공유하는 문화인가?</li> <li>○ <input type="text"/> (가)</li> </ul>

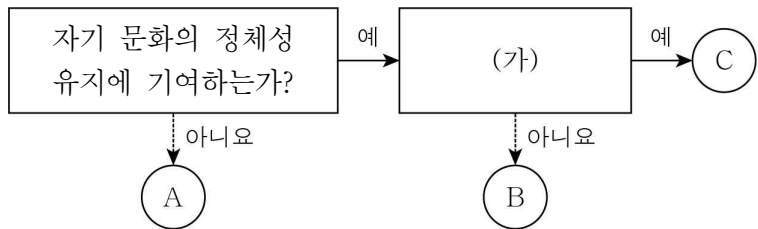
- ① A를 향유하는 사람은 B를 향유하지 않는다.
- ② B는 C와 달리 전체 사회의 문화 다양성 증가에 기여한다.
- ③ C가 아닌 A는 존재하지 않는다.
- ④ B는 A와 C의 총합으로 구성된다.
- ⑤ (가)에는 '시대와 사회에 따라 상대적으로 규정되는가?'가 들어갈 수 있다.

12. 밑줄 친 ㉠, ㉡에 대한 설명으로 가장 적절한 것은?

<ul style="list-style-type: none"> <li>○ 갑국에서는 일상 속 외래어 사용을 줄이기 위해 시민 단체를 중심으로 ㉠ <u>고유어 되살리기 운동</u>이 활발히 전개되고 있다.</li> <li>○ 을국에서는 글자를 읽지 못하여 어려움을 겪는 사람들을 돕기 위해 대학생 봉사 단체를 중심으로 ㉡ <u>문맹 퇴치 운동</u>이 꾸준히 전개되고 있다.</li> </ul>
---

- ① ㉠은 사회 체제의 근본적 변혁을 목적으로 한다.
- ② ㉡은 과거의 사회 질서로 되돌아가려는 사회 운동이다.
- ③ ㉠은 ㉡과 달리 사회적 약자를 보호하려는 사회 운동이다.
- ④ ㉡은 ㉠과 달리 활동을 정당화하는 신념을 바탕으로 한다.
- ⑤ ㉠과 ㉡ 모두 사회의 변화를 목적으로 하는 사회 운동이다.

13. 그림은 문화 이해 태도 A~C를 구분한 것이다. 이에 대한 설명으로 옳은 것은? (단, A~C는 각각 자문화 중심주의, 문화 상대주의, 문화 상대주의 중 하나임.) [3점]



- ① A는 모든 문화가 동등한 가치를 가지고 있다고 본다.
- ② B가 문화를 평가가 아닌 이해의 대상으로 보는 태도라면, (가)에는 '문화 다양성 보존에 기여하는가?'가 들어갈 수 있다.
- ③ C가 자문화를 타문화보다 우월하다고 보는 태도라면, (가)에는 '국수주의로 나아갈 우려가 있는가?'가 들어갈 수 있다.
- ④ (가)에는 '문화 간 우열을 평가할 수 있다고 보는가?'가 들어갈 수 없다.
- ⑤ (가)에 '각 사회의 문화를 해당 사회의 맥락에서 바라보는가?'가 들어간다면, C는 B에 비해 타문화와의 마찰을 초래할 가능성이 높다.

14. 밑줄 친 ㉠~㉣에 대한 옳은 설명만을 <보기>에서 있는 대로 고른 것은?

우리나라에는 돌잡이라는 ㉠ 생일 문화가 있다. 아이의 첫 생일을 축하하는 자리에 여러 가지 물건을 놓고 아이가 무엇을 잡는지에 따라 아이의 장래를 짐작해 보는 것이다. 예를 들어 ㉡ 우리나라 사람들은 아이가 명주실을 잡으면 건강하게 오래 살 것이라고 여긴다. 한편 ㉢ 시대에 따라 돌잡이 물품의 구성이 달라진다. ㉣ 돌잡이 물품의 구성은 경제 발전 수준, 성공에 대한 사회적 인식 등의 영향을 받는다.

< 보기 >

- ㉠. ㉠의 '문화'는 좁은 의미로 사용되었다.
- ㉡. ㉡은 문화가 한 사회의 구성원 다수가 공통적으로 가지고 있는 생활 양식임을 보여 준다.
- ㉢. ㉢은 문화가 고정된 것이 아니라 시간이 흐르면서 변화하는 것임을 보여 준다.
- ㉣. ㉣은 문화가 여러 요소들이 유기적으로 연결된 하나로서의 총체임을 보여 준다.

- ① ㉠, ㉡                      ② ㉠, ㉢                      ③ ㉢, ㉣
- ④ ㉠, ㉡, ㉣                ⑤ ㉡, ㉢, ㉣

15. 다음 자료에 대한 분석으로 옳은 것은? [3점]

갑국, 을국의 사회 보장 제도는 우리나라의 사회 보장 제도와 동일하다. A와 B 모두 금전적 지원을 원칙으로 하며, A는 사전 예방적 성격이 강한 제도이고, B는 사후 처방적 성격이 강한 제도이다. 표는 갑국과 을국의 전체 인구 중 A, B 수급자의 비율을 나타낸 것이다. 전체 인구는 갑국이 을국의 2배이다.

구분	갑국	을국
A 수급자	5	10
B 수급자	7	6
A와 B의 중복 수급자	3	4

- ① A는 공공 부조에 해당하는 제도이고, B는 사회 보험에 해당하는 제도이다.
- ② A와 B 중 하나 이상의 혜택을 받는 수급자 수는 갑국이 을국의 1.5배이다.
- ③ 갑국에서 강제 가입 원칙이 적용되는 제도의 혜택만 받는 수급자 수는 A와 B의 중복 수급자 수보다 많다.
- ④ 을국에서 수혜자 비용 부담 원칙이 적용되는 제도의 수급자 수는 A와 B의 중복 수급자 수의 1.5배이다.
- ⑤ 갑국은 을국과 달리 상호 부조의 원리를 바탕으로 하는 제도의 수급자 수가 정부 재정으로 비용을 전액 충당하는 것을 원칙으로 하는 제도의 수급자 수보다 많다.

16. 다음 사례에 나타난 문화 변동에 대한 설명으로 옳은 것은?

갑국에서는 갑국의 ○○ 회사가 최초로 고안한 소매점 운영 방식인 A가 널리 활용되고 있다. 을국의 □□ 회사는 갑국에 직원을 파견하여 배워 온 A를 을국의 기존 소매점 운영 방식에 접목하여 새로운 소매점 운영 방식 B를 개발하였다. 을국에서는 B가 적용된 소매점을 흔히 볼 수 있다. 을국의 □□ 회사는 병국에 진출하였는데, B가 적용된 □□ 회사의 소매점은 병국의 전통 방식으로 운영되는 소매점과 함께 병국 사람들이 선호하는 소매점 중 하나로 자리 잡았다.

- ① 갑국에서는 발견으로 인한 문화 변동이 나타났다.
- ② 을국에서는 직접 전파로 인한 문화 변동이 나타났다.
- ③ 을국에서는 병국에서와 달리 문화 변동 이후 자기 문화의 정체성이 상실되었다.
- ④ 병국에서는 을국에서와 달리 자발적 문화 접변이 나타났다.
- ⑤ 갑국과 을국에서는 문화 융합, 병국에서는 문화 병존이 나타났다.

17. A, B의 일반적인 특징에 대한 옳은 설명만을 <보기>에서 고른 것은? (단, A, B는 각각 관료제, 탈관료제 중 하나임.)

조직 운영의 유연성에 대한 요구가 높아지면서 많은 기업들이 기존의 A를 B로 대체하고 있다. 외부 환경이나 과업에 따라 자유롭게 구성되고 해체되는 조직은 B에 해당한다.

< 보 기 >

- ㄱ. A는 B와 달리 조직 운영의 효율성을 추구한다.
- ㄴ. A는 B에 비해 연공서열에 따른 보상을 중시한다.
- ㄷ. B는 A에 비해 의사 결정 권한의 분산 정도가 크다.
- ㄹ. B는 A와 달리 하향식 의사 결정 방식이 지배적이다.

- ① ㄱ, ㄴ    ② ㄱ, ㄷ    ③ ㄴ, ㄷ    ④ ㄴ, ㄹ    ⑤ ㄷ, ㄹ

18. 다음 글에서 개인과 사회의 관계를 바라보는 필자의 관점에 대한 옳은 설명만을 <보기>에서 고른 것은?

우리 사회에서 디지털 기기의 활용이 확대되는 것은 개인이 편리함을 추구하기 때문이라는 주장이 있다. 하지만 이러한 주장은 개인의 사고와 행동이 개인의 외부에 존재하는 실체인 사회에 의해 구속된다는 점을 간과한 것이다. 개인이 디지털 기기에 의존하게 만드는 사회 구조에 주목해야 한다.

< 보 기 >

- ㄱ. 개인은 사회 속에서만 존재의 의미를 갖는다고 본다.
- ㄴ. 사회 규범은 개인들이 옳다고 믿기에 존재한다고 본다.
- ㄷ. 사회의 특성을 개인의 특성으로 환원할 수 없다고 본다.
- ㄹ. 사회는 개인의 이익을 실현하는 도구에 불과하다고 본다.

- ① ㄱ, ㄴ    ② ㄱ, ㄷ    ③ ㄴ, ㄷ    ④ ㄴ, ㄹ    ⑤ ㄷ, ㄹ

19. 다음 자료에 대한 설명으로 옳은 것은? (단, A, B는 각각 산업 사회, 정보 사회 중 하나임.) [3점]

표는 A, B를 비교하는 질문과 그에 대한 갑, 을의 응답을 나타낸 것이다. 옳은 응답의 개수는 을이 갑보다 많다.

질문	응답	
	갑	을
A는 B에 비해 가정과 일터의 결합 정도가 높은가?	예	아니요
B는 A에 비해 소품종 대량 생산의 비중이 높은가?	아니요	㉠
(가)	예	예

- ① ㉠은 '예'이다.
- ② A는 B에 비해 사회의 다원화 정도가 높다.
- ③ B는 A에 비해 전자 상거래의 비중이 낮다.
- ④ (가)에 'A는 B에 비해 사회 구성원 간 비대면 접촉 비중이 높은가?'가 들어간다면, 갑의 응답 중 옳은 것은 1개이다.
- ⑤ (가)에 'B는 A에 비해 정보의 생산자와 소비자 간 구분이 명확한가?'가 들어간다면, 을의 응답 중 옳은 것은 3개이다.

20. 다음 자료에 대한 분석으로 옳은 것은? [3점]

표는 갑국의 노년 부양비와 노령화 지수를 나타낸 것이다. 갑국의 부양 인구는 t년에 A 지역과 B 지역이 같고, t+50년에 B 지역이 A 지역의 3배이다. 갑국은 A, B 지역으로만 구성되며, 갑국의 전체 인구는 t년과 t+50년이 동일하다.

구분	t년		t+50년	
	A 지역	B 지역	A 지역	B 지역
노년 부양비	75	25	250	50
노령화 지수	100	20	500	100

\* 유소년 부양비 =  $\frac{\text{유소년 인구}(0 \sim 14\text{세 인구})}{\text{부양 인구}(15 \sim 64\text{세 인구})} \times 100$

\* 노년 부양비 =  $\frac{\text{노년 인구}(65\text{세 이상 인구})}{\text{부양 인구}(15 \sim 64\text{세 인구})} \times 100$

\* 노령화 지수 =  $\frac{\text{노년 인구}(65\text{세 이상 인구})}{\text{유소년 인구}(0 \sim 14\text{세 인구})} \times 100$

- ① t년에 갑국의 노령화 지수는 60이다.
- ② t+50년에 갑국의 노년 부양비는 100이다.
- ③ 갑국의 유소년 부양비는 t+50년이 t년보다 크다.
- ④ A 지역의 부양 인구는 t년과 t+50년이 동일하다.
- ⑤ B 지역의 유소년 인구는 t+50년이 t년보다 많다.

\* 확인 사항  
○ 답안지의 해당란에 필요한 내용을 정확히 기입(표기)했는지 확인하십시오.