

목록

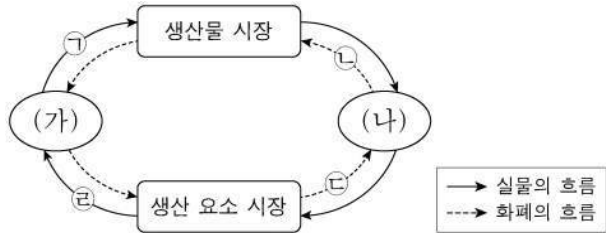
2024-고3-9월-모의고사-경제-문제.....	1
2024-고3-9월-모의고사-동아시아사-문제.....	5
2024-고3-9월-모의고사-정치와법-문제.....	9
2024-고3-9월-모의고사-한국지리-문제.....	13
2024-고3-9월-모의고사-세계지리-문제.....	17
2024-고3-9월-모의고사-윤리와사상-문제.....	21
2024-고3-9월-모의고사-생활과윤리-문제.....	25
2024-고3-9월-모의고사-세계사-문제.....	29
2024-고3-9월-모의고사-사회문화-문제.....	33

제 4 교시

사회탐구 영역(경제)

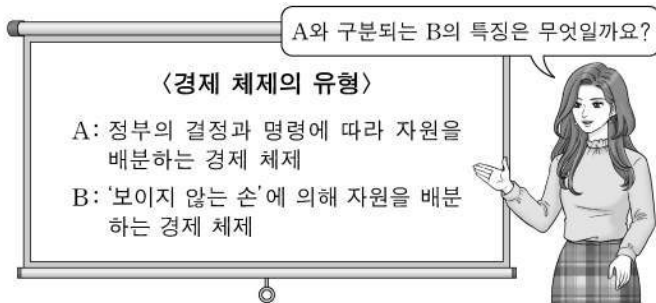
성명  수험 번호 ----- 제 ( ) 선택

1. 그림은 민간 경제의 순환을 나타낸다. 이에 대한 설명으로 옳은 것은? (단, (가), (나)는 각각 가계와 기업 중 하나임.)



- ① ㉠은 소비 지출에 해당한다.
- ② ㉡은 이윤 극대화를 위해 행해진다.
- ③ ㉢은 생산 측면의 국민 소득을 나타낸다.
- ④ ㉣은 재화와 서비스 구매에 해당한다.
- ⑤ 생산 요소 시장에서 (가)는 수요자, (나)는 공급자이다.

2. 그림은 경제 체제에 대한 수업 장면이다. 교사의 질문에 옳게 응답한 학생은? (단, A, B는 각각 시장 경제 체제와 계획 경제 체제 중 하나임.)



- ① 갑: 정부가 생산물의 종류와 수량을 통제합니다.
- ② 을: 자유로운 경쟁을 통한 이윤 추구를 보장합니다.
- ③ 병: 자원의 희소성에 따른 경제 문제가 발생합니다.
- ④ 정: 원칙적으로 생산 수단의 사적 소유를 인정하지 않습니다.
- ⑤ 무: 경제 문제 해결에 있어 효율성보다 형평성을 강조합니다.

3. (가)에 들어갈 수 있는 내용으로 가장 적절한 것은?

교사: 지난 시간에 배웠던 (가)의 사례를 발표해 보도록 합시다.  
 갑: ◇◇기업은 환경 보전을 위해 원료 사용부터 상품 제조, 판매 과정까지 재활용이 가능한 소재를 최대한 활용하고 있습니다.  
 을: ○○기업은 상품 생산 과정에서 발생하는 탄소 배출량을 감축하고 오염 물질을 정화하기 위해 노력하고 있습니다.  
 병: △△기업은 소외 계층 지원과 같은 사회 공헌 확대와 사내 청렴 문화 정착을 위한 윤리 경영을 선언하고 이를 실천하고 있습니다.  
 교사: 모두 옳게 발표했군요.

- ① 기업가 정신
- ② 규모의 경제 실현
- ③ 기업의 사회적 책임
- ④ 근로자의 권익 보호
- ⑤ 사회 기반 시설 구축

4. 밑줄 친 ㉠~㉣에 대한 설명으로 옳은 것은? (단, 제시된 내용 이외의 다른 조건은 고려하지 않음.) [3점]



- ① ㉠은 ㉢ 선택의 암묵적 비용이다.
- ② ㉡ 선택의 명시적 비용은 3억 원이다.
- ③ ㉡ 선택의 순편익은 양(+)의 값이다.
- ④ ㉢ 선택의 명시적 비용은 암묵적 비용보다 크다.
- ⑤ ㉣ 선택의 기회비용은 ㉡ 선택의 기회비용보다 크다.

5. 다음 자료에 대한 옳은 분석만을 <보기>에서 고른 것은? [3점]

표는 소비 측면에서만 외부 효과가 발생하고 있는 X재, Y재의 시장 상황과 이에 대한 정부의 개선 방안을 나타낸다. 단, X재, Y재는 모두 수요와 공급 법칙을 따른다.

구분	X재 시장	Y재 시장
시장 거래량	1 초과	1 미만
사회적 최적 거래량	1 초과	1 미만
개선 방안	(가)	(나)

<보 기>

- ㄱ. X재 시장에서는 외부 불경제가 나타난다.
- ㄴ. Y재 시장에서는 사회적 최적 수준에서의 가격이 시장 가격보다 높다.
- ㄷ. (가)에는 X재 시장의 사적 편익을 증가시키는 정책이 들어갈 수 있다.
- ㄹ. (나)에는 'Y재 소비에 대한 세금 부과'가 들어갈 수 있다.

- ① ㄱ, ㄴ
- ② ㄱ, ㄷ
- ③ ㄴ, ㄷ
- ④ ㄴ, ㄹ
- ⑤ ㄷ, ㄹ

경제

## 2 (경제)

## 사회탐구 영역

6. 다음 자료에 대한 옳은 분석만을 <보기>에서 고른 것은? [3점]

표는 A, B기업의 X재 생산량에 따른 총수입 대비 이윤의 비율을 나타낸다. 단, A, B기업은 각각 X재를 1개 단위로 4개 까지만 생산할 수 있고, 생산된 X재는 개당 시장 가격 20만 원에 모두 판매된다.

생산량(개)		1	2	3	4
총수입 대비 이윤의 비율(%)	A기업	5	20	30	20
	B기업	10	30	40	30

<보 기>

- ㄱ. A기업이 이윤을 극대화하는 생산량은 3개이다.  
 ㄴ. B기업이 얻을 수 있는 가장 큰 이윤은 24만 원이다.  
 ㄷ. 모든 생산량에서 총비용은 A기업이 B기업보다 작다.  
 ㄹ. 모든 생산량에서 판매 수입은 B기업이 A기업보다 크다.

- ① ㄱ, ㄴ    ② ㄱ, ㄷ    ③ ㄴ, ㄷ    ④ ㄴ, ㄹ    ⑤ ㄷ, ㄹ

7. 표는 수요 견인 인플레이션과 비용 인상 인플레이션의 특징을 파악하기 위한 질문과 학생의 답변을 나타낸다. 두 유형 중 한 유형의 특징에 대해 일관되게 응답한 학생은? (단, 총수요 곡선은 우하향하고, 총공급 곡선은 우상향함.)

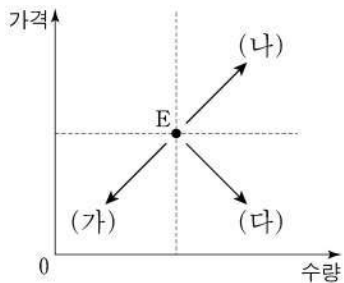
(○: 예, ×: 아니요)

질문	학생				
	갑	을	병	정	무
실질 GDP 감소를 수반합니까?	○	×	×	○	×
총수요의 증가로 인해 발생합니까?	×	○	○	×	×
주로 경기 호황과 함께 나타납니까?	×	×	○	×	○
스태그플레이션을 초래할 수 있습니까?	○	×	○	×	×

- ① 갑    ② 을    ③ 병    ④ 정    ⑤ 무

8. 다음 자료에 대한 옳은 설명만을 <보기>에서 고른 것은? [3점]

그림은 X재 시장의 균형점 E에서 (가)~(다)로의 이동을 나타낸다. X재와 Y재는 대체 관계이고, X재와 Z재는 보완 관계이며, Y재와 Z재는 서로 관계가 없다. 단, X재~Z재는 모두 수요와 공급 법칙을 따르며, 수요와 공급 곡선은 모두 직선이다.



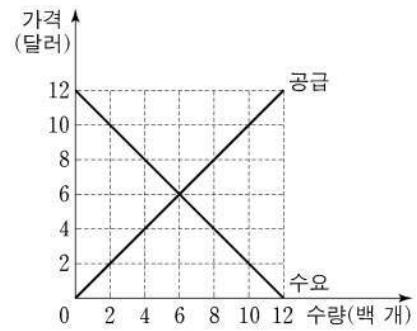
<보 기>

- ㄱ. X재의 생산에 대한 보조금 지급은 (나)로 이동하는 요인이 된다.  
 ㄴ. Y재의 공급 증가는 (가)로 이동하는 요인이 된다.  
 ㄷ. Z재의 가격 상승은 (다)로 이동하는 요인이 된다.  
 ㄹ. Z재의 생산 비용 하락은 (나)로 이동하는 요인이 된다.

- ① ㄱ, ㄴ    ② ㄱ, ㄷ    ③ ㄴ, ㄷ    ④ ㄴ, ㄹ    ⑤ ㄷ, ㄹ

9. 다음 자료에 대한 분석으로 옳은 것은? [3점]

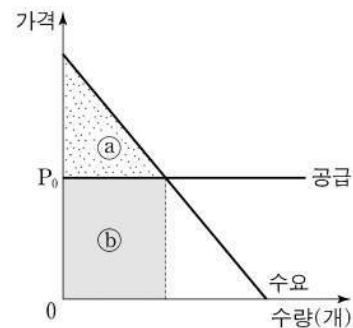
그림은 t기의 갑국 X재 시장 상황을 나타낸다. t+1기에 X재 시장에서는 생산 비용 증가로 모든 가격 수준에서 ① 공급량이 400개씩 감소하였다. 이러한 상황에서 갑국 정부는 X재 시장 가격이 지나치게 높다고 판단하여 t기 균형 가격에서 ② 최고 가격제를 시행하고자 한다.



- ① ①으로 인해 균형 가격은 10달러가 된다.  
 ② ①으로 인해 판매 수입은 1,200달러가 된다.  
 ③ ②으로 인해 200개의 초과 수요가 발생한다.  
 ④ ②으로 인해 생산자 잉여는 200달러 감소한다.  
 ⑤ ②으로 인해 소비 지출액은 2,000달러 감소한다.

10. 다음 자료에 대한 분석으로 옳은 것은?

다국적 제약 회사 A사는 난치병 치료에 탁월한 효과를 지닌 ○○신약을 출시하였다. A사는 이 약을 국가별 소득 수준과 무관하게 모든 나라에 국제 가격  $P_0$  수준에서 무제한 공급한다. 그림은 A사가 ○○신약을 직접 공급하는 갑국의 시장 상황을 나타낸다.



갑국에서는 비싼 약값 때문에 약을 구매하지 못하는 환자를 위해 ① 소비자에게 ○○신약 1개당 S만큼 보조금을 지원해야 한다는 주장과 A사의 과도한 이윤 획득을 비판하며 ② A사에 ○○신약 1개당 T만큼의 조세를 부과해야 한다는 주장이 제기되고 있다.

- ① (a)는 소비자 잉여, (b)는 생산자 잉여이다.  
 ② ①이 시행되더라도 거래량은 변함이 없다.  
 ③ ②이 시행되면 부과된 T만큼 가격이 상승한다.  
 ④ ②이 시행되더라도 소비자 잉여는 변함이 없다.  
 ⑤ ①과 ② 모두 총잉여를 증가시킨다.

11. 표는 갑국의 연도별 물가 상승률과 명목 이자율을 나타낸다. 이에 대한 옳은 분석만을 <보기>에서 고른 것은?

(단위: %)

구분	2020년	2021년	2022년
물가 상승률	-1	2	4
명목 이자율	2	4	3

\* 실질 이자율 = 명목 이자율 - 물가 상승률

<보 기>

- ㄱ. 2021년에 명목 이자율은 전년 대비 2% 상승하였다.  
 ㄴ. 2022년에는 예금보다 현금을 보유하는 것이 유리하다.  
 ㄷ. 연초에 1년 만기 정기 예금에 동일한 금액을 예치한 경우 만기 시 원리금의 실질 구매력은 2021년이 2022년보다 높다.  
 ㄹ. 실질 이자율은 지속적으로 하락하였다.

- ① ㄱ, ㄴ    ② ㄱ, ㄷ    ③ ㄴ, ㄷ    ④ ㄴ, ㄹ    ⑤ ㄷ, ㄹ

12. 그림은 경제 수업의 일부이다. 이에 대한 설명으로 옳은 것은? (단, A~C는 각각 정기 예금, 주식, 채권 중 하나임.)

교사: 금융 상품 A-C의 일반적인 특징에 대해 말해 볼까요?  
 학생 A: A, C는 B와 달리 이자 수익을 기대할 수 있습니다.  
 학생 B: C는 A, B에 비해 안전성이 높습니다.  
 학생 C: (가)  
 교사: 모든 학생이 옳게 대답했네요.

- ① B는 배당 수익을 기대할 수 있다.  
 ② C는 시세 차익을 기대할 수 있다.  
 ③ A는 B와 달리 시장에서 거래된다.  
 ④ B는 A와 달리 만기가 존재한다.  
 ⑤ (가)에는 'A는 B, C와 달리 예금자 보호 제도의 적용을 받습니다.'가 들어갈 수 있다.

13. 다음 자료에 대한 분석으로 옳은 것은? [3점]

표는 갑국의 연도별 명목 GDP를 지출 측면에서 항목별로 나타낸다. t+1년의 경제 성장률은 0%이고, GDP 디플레이터는 110이다. 단, 물가 수준은 GDP 디플레이터로 측정하며, 기준 연도는 t년이다.

(단위: 억 달러)

구분	t년	t+1년
(가)	50	50
투자 지출	20	24
정부 지출	20	㉠
순수출	10	11

- ① 공무원에게 지급하는 월급은 (가)에 포함된다.  
 ② ㉠은 t년 순수출의 2배이다.  
 ③ t+1년의 실질 GDP는 110억 달러이다.  
 ④ t년 대비 t+1년에 명목 GDP 증가율과 물가 상승률은 같다.  
 ⑤ 가계의 소비 지출이 포함되는 항목은 t년 대비 t+1년에 20% 증가하였다.

14. 다음 자료에 대한 분석 및 추론으로 옳은 것은? [3점]

**경제 탐구 학습지**

○주제: 비교 우위에 따른 무역 원리의 이해  
 ○학습 목표: 비교 우위에 따른 양국의 무역 조건과 이득을 탐색한다.  
 ○조건: 갑국과 을국은 X재와 Y재만을 직선인 생산 가능 곡선상에서 생산한다. 양국은 비교 우위가 있는 재화만을 생산하여 양국 모두 이득이 발생하는 경우에만 교역한다. 생산 요소는 노동뿐이고, 임금은 자국 통화로 지급한다. 교역은 양국 간에만 이루어지며, 교역에 따른 거래 비용은 없다. 갑국과 을국의 각 재화 1개 생산의 비용은 표와 같다.

구분	갑국	을국
X재	6달러	1유로
Y재	4달러	2유로

○탐구 절차:  
 [1단계] 각 재화 1개 생산의 기회비용 확인하기  
 [2단계] 각국의 비교 우위 재화 확인하기  
 [3단계] 양국 모두 이득이 되는 교환 범위 탐색하기  
 [4단계] 교역의 이득 확인하기

- ① 갑국의 Y재 1개 생산의 기회비용은 X재 3/2개이다.  
 ② 갑국은 X재, 을국은 Y재 생산에 비교 우위가 있다.  
 ③ X재 1개와 Y재 1개를 교환하는 조건이라면 을국은 교역에 참여하지 않을 것이다.  
 ④ 양국 모두 이득이 되는 교환 범위는 X재 1개당 Y재 1/2개 초과, 3/2개 미만이다.  
 ⑤ 양국 간 교역이 이루어지면 교역 이전에 비해 갑국은 Y재, 을국은 X재 소비의 기회비용이 감소한다.

15. 다음 자료에 대한 분석으로 옳은 것은?

표는 갑국의 월별 15세 이상 인구 중 취업자, 실업자, 비경제 활동 인구의 비율을 나타낸다. 예를 들어, 15세 이상 인구 중 1월에 취업자였으나 2월에 실업자로 변동한 사람의 비율은 5%이다. 단, 갑국의 1월 실업률은 20%이고, 1월에 실업자였던 사람 중 2월에 비경제 활동 인구가 된 사람의 비율은 60%이다. 또한 15세 이상 인구는 변함이 없다.

(단위: %)

구분	2월		
	취업자	실업자	비경제 활동 인구
1월	취업자	50	5
	실업자	㉠	
	비경제 활동 인구	7	12

\*음영 처리( )는 해당 내용을 표기하지 않은 것임.

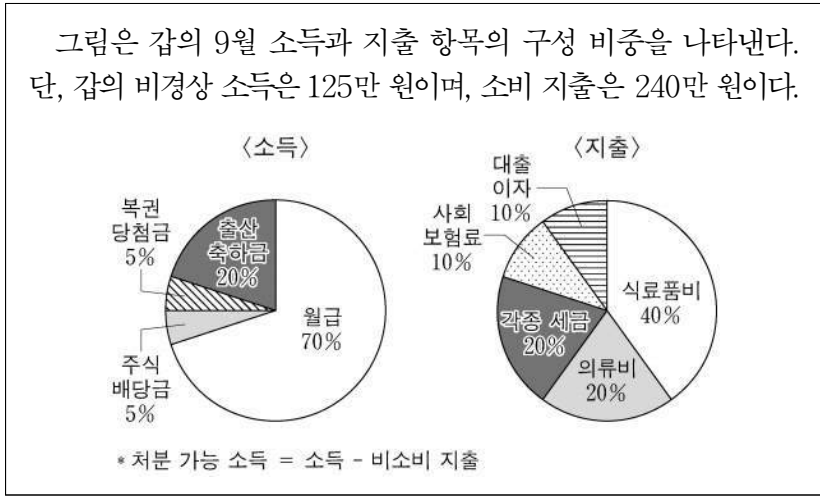
- ① ㉠은 7이다.  
 ② 실업률은 2월이 1월보다 높다.  
 ③ 2월의 고용률은 55% 미만이다.  
 ④ 경제 활동 참가율은 1월이 2월보다 높다.  
 ⑤ 1월에 비경제 활동 인구였던 사람 중 2월에 취업자가 된 사람의 비율은 7%이다.



# 4 (경제)

# 사회탐구 영역

16. 다음 자료에 대한 분석으로 옳은 것은?



- ① 재산 소득은 20만 원이다.
- ② 경상 소득은 350만 원이다.
- ③ 처분 가능 소득은 380만 원이다.
- ④ 근로 소득은 비소비 지출의 2배이다.
- ⑤ 전체 소득에서 전체 지출이 차지하는 비중은 80%이다.

17. 다음 자료에 대한 분석으로 옳은 것은? [3점]

표는 2022년 갑국과 을국의 경상 수지 항목별 수취액과 지급액을 나타낸다. 단, 국제 거래는 갑국의 통화인 달러화로 양국 간에만 이루어지며, 을국의 경상 수지는 5억 달러 흑자이다. (단위: 억 달러)

구분	수취액		지급액	
	갑국	을국	갑국	을국
상품 수지	200		180	
서비스 수지		70		
본원 소득 수지		50		40
이전 소득 수지	10		5	

\* 음영 처리( )는 해당 내용을 표기하지 않은 것임.

- ① 상품 수지는 을국의 통화량 증가 요인이다.
- ② 투자에 따른 배당금을 포함하는 항목은 갑국이 10억 달러 흑자이다.
- ③ 특허권 사용료를 포함하는 항목의 을국 지급액은 50억 달러이다.
- ④ 무상 원조가 포함되는 항목은 달러화 대비 을국 통화 가치의 상승 요인이다.
- ⑤ 을국과의 경상 거래에서 갑국의 수취액 총액은 305억 달러이다.

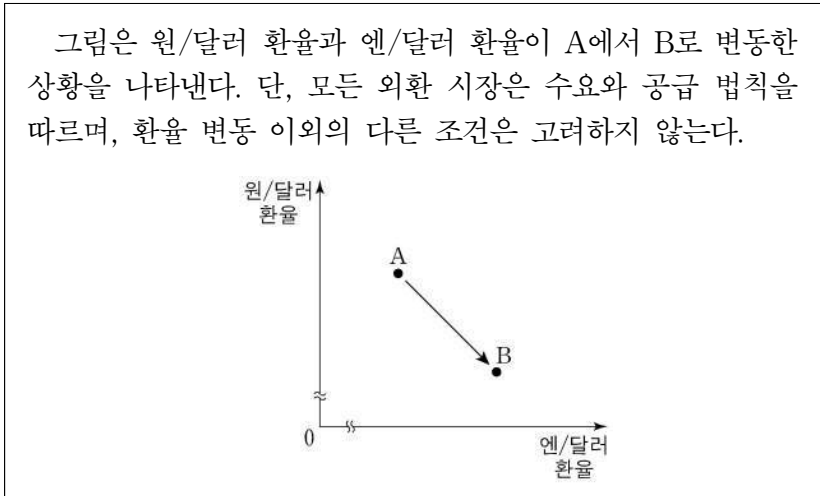
18. 밑줄 친 ㉠~㉣에 대한 설명으로 옳은 것은? (단, 총수요 곡선은 우하향하고, 총공급 곡선은 우상향함.)



국제적으로 가중되는 곡물 및 에너지 공급 부족으로 인해 A국에서 급격한 ㉠인플레이션이 발생하였습니다. 이러한 인플레이션을 억제하기 위해 A국 중앙은행은 다양한 ㉡통화 정책을 시행하고 있습니다. 그러나 A국은 강력한 통화 정책 시행 시 나타날 수 있는 ㉢경제 변수들의 변화로 인해 앞으로 ㉣큰 경제적 대가를 치르게 될 것을 염려하고 있습니다.

- ① ㉠으로 인해 채권자가 채무자보다 유리해진다.
- ② ㉡의 하나로 세율 인상을 들 수 있다.
- ③ ㉡의 하나로 국공채 매입을 들 수 있다.
- ④ ㉢의 사례로 실업률 상승을 들 수 있다.
- ⑤ ㉣의 사례로 부동산 가격 폭등을 들 수 있다.

19. 다음 자료에 대한 분석 및 추론으로 옳은 것은? [3점]



- ① 원/달러 환율의 변동 요인으로 원/달러 외환 시장에서 달러화의 공급 감소를 들 수 있다.
- ② 엔/달러 환율의 변동 요인으로 엔/달러 외환 시장에서 달러화의 수요 감소를 들 수 있다.
- ③ 한국에서 수입하는 미국산 상품의 원화 표시 가격은 상승할 것이다.
- ④ 일본을 여행하고자 하는 미국인의 여행 비용 부담은 증가할 것이다.
- ⑤ 미국 시장에서 일본 기업과 경쟁하는 한국 기업의 수출품 가격 경쟁력은 하락할 것이다.

20. 다음 자료에 대한 분석으로 옳은 것은? [3점]

표는 갑국의 무역 전 X재의 가격별 수요량과 초과 수요량을 나타낸다. 갑국은 현재 국제 가격 30달러로 X재를 수입하고 있다. 갑국 정부는 국내 생산자를 보호하기 위해 정책 (가), (나) 중 하나를 시행하려고 한다. 단, 갑국에서 X재의 수요와 공급 곡선은 모두 직선이며, 수요와 공급의 변동 요인으로 제시된 정책 이외의 요인은 고려하지 않는다. 또한 국제 가격은 정책 시행 후에도 변하지 않는다.

구분	수요량	초과 수요량
20달러	120개	100개
50달러	90개	40개

- (가) 수입되는 X재 1개당 관세 10달러 부과  
(나) 국내 생산자에게 X재 1개당 보조금 20달러 지급

- ① (가)의 경우 관세 수입은 700달러이다.
- ② (나)의 경우 수입량은 50개이다.
- ③ (나)의 경우 정부가 지급하는 보조금 총액은 800달러이다.
- ④ (가)의 경우 국내 생산량은 (나)보다 10개 적다.
- ⑤ (나)의 경우 소비자 잉여는 (가)보다 1,100달러 크다.

\* 확인 사항

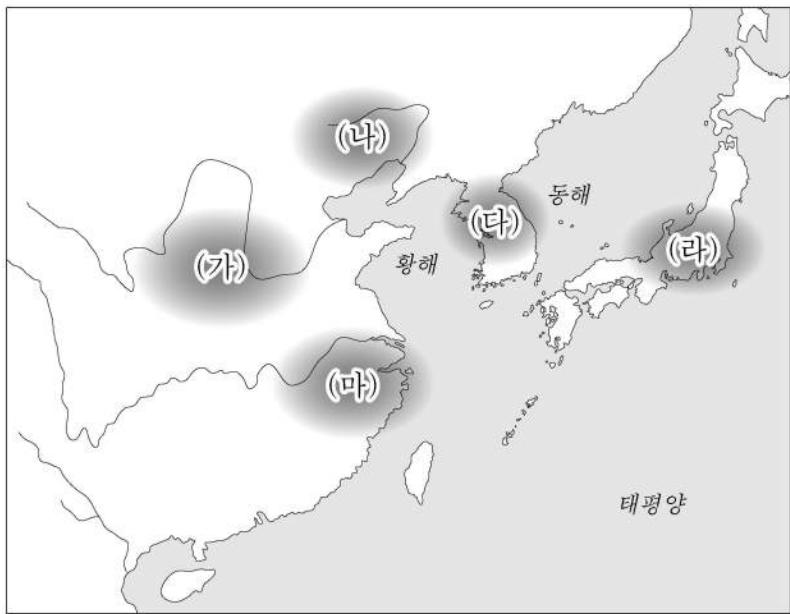
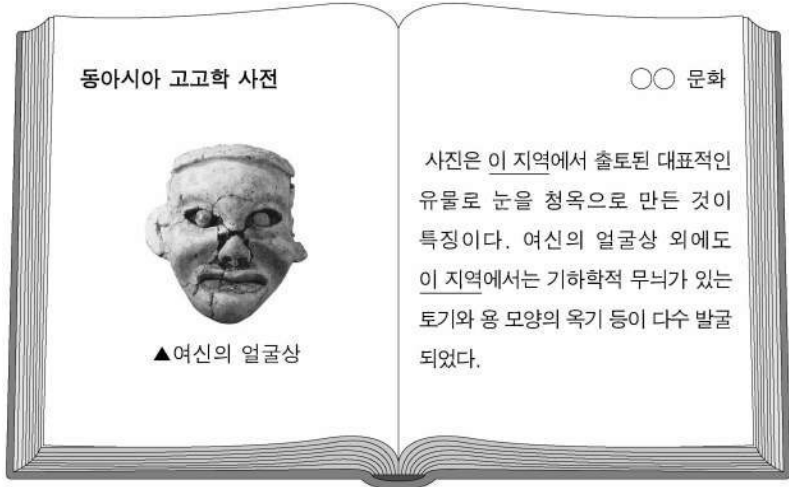
○ 답안지의 해당란에 필요한 내용을 정확히 기입(표기)했는지 확인 하시오.

제 4 교시

사회탐구 영역 (동아시아사)

성명  수험 번호  -  제 ( ) 선택

1. 밑줄 친 '이 지역'을 지도에서 옳게 고른 것은?



- ① (가)    ② (나)    ③ (다)    ④ (라)    ⑤ (마)

2. (가) 국가에 대한 설명으로 옳은 것은? [3점]

S#2. (가)의 황제가 신하와 대화하고 있는 장면

신 하: 수도 뤼양에서 죽은 북방 사람의 장례 문제를 황제께 여쭙니다.  
 황 제: 뤼양으로 옮겨 온 북방 사람이 죽으면 옛 수도인 평성등으로 운구하지 못하게 하고, 뤼양 북쪽에 있는 망산에 안장하도록 하라.  
 신 하: 뜻을 따르겠습니다. 그리고 조정에서 아직도 북방의 언어를 사용하는 관리가 있다고 합니다.  
 황 제: 조정에서 한어를 사용하지 않는 자는 관직에서 파면시키도록 하라.  
 신 하: 말씀을 따르도록 하겠습니다.

- ① 남북조를 통일하였다.  
 ② 맹안·모극제를 시행하였다.  
 ③ 북면관·남면관제를 실시하였다.  
 ④ 발해와 조공·책봉 관계를 맺었다.  
 ⑤ 5호 16국 시대의 분열을 수습하였다.

3. (가) 군주에 대한 설명으로 옳은 것은?

신(臣)은 변변치 못한 재능이지만 힘을 다하여 법령을 받들고 몰래 사신을 보내 제후들을 설득했습니다. 조용히 군비를 갖추고 정치와 교육을 정비하였으며 전사에게 벼슬을 주고 공신을 존중하여 그들의 작위와 봉록을 높였습니다. 이렇게 한 결과 신은 (가)을/를 도와 한을 위협하고 위를 약화시켰으며 연과 조를 격파하고 제와 초를 평정하였습니다. 마침내 여섯 나라를 병합하여 통일하는 데 공을 세웠습니다.

- ① 분서갱유를 단행하였다.  
 ② 다이카 개신을 일으켰다.  
 ③ 장건을 서역에 파견하였다.  
 ④ 준왕을 몰아내고 집권하였다.  
 ⑤ 항우와의 전쟁에서 승리하였다.

4. 밑줄 친 '전쟁' 중에 동아시아에서 볼 수 있는 모습으로 가장 적절한 것은? [3점]

건봉 3년 5월에 유우상(劉右相)이 와서 우리의 병마를 징발하여 함께 평양성으로 갔는데, 나도 한성주(漢城州)에 가서 병마를 사열하였습니다. 이때 우리 병사는 이미 5년 전에 백강에서 왜의 수군을 격퇴한 적이 있는 중국의 군대와 함께 평양성 일대에 모였습니다. 우리의 웅맹한 기병들이 먼저 성문으로 들어가 마침내 적의 수도를 격파하고 큰 공을 세우게 되었습니다. 이에 우리 병사는 "전쟁을 시작한 이래 9년 만에 평양성을 함락하여 마침내 두 나라를 차례로 평정하였습니다. 우리의 오랜 숙원이 오늘에야 이루어졌습니다."라고 말하였습니다.

- ① 고조선을 정벌하는 한의 군대  
 ② 발해를 침공하는 거란(요)의 군대  
 ③ 일본 원정을 떠나는 고려·몽골 연합군  
 ④ 일본군과 전투를 벌이는 조·명 연합군  
 ⑤ 백제의 도움을 공격하는 나·당 연합군

5. (가) 인물에 대한 설명으로 옳은 것은?

교수님께서 최근 연구하시고 있는 동아시아 불교에 대해 말씀해 주세요.

제가 연구하고 있는 (가)은/는 장보고가 세운 적산 법화원에 머물면서 많은 도움을 받았고, 장보고에게 감사의 편지를 보냈습니다. 이 연구를 통해 신라인이 그 당시 동아시아 해상 교역을 주도하였다는 것도 알게 되었습니다.

- ① 도다이사를 창건하였다.  
 ② 왕오천축국전을 집필하였다.  
 ③ 쇼토쿠 태자의 스승이 되었다.  
 ④ 입당구법순례행기를 저술하였다.  
 ⑤ 신라에서 불교 대중화에 앞장섰다.

동아시아사



## 2 (동아시아사)

## 사회탐구 영역

6. (가), (나) 시기 사이에 동아시아에서 있었던 사실로 옳은 것은? [3점]

(가) 왕이 모문룡의 부하를 만나 말하였다. “과인이 며칠 전 임금의 자리에 오른 것은 폐위된 임금이 재조의 은혜를 저버렸기 때문이요. 그는 모문룡 장군의 의로운 명성이 하늘에 미쳤는데도, 장군의 간절한 요청을 하나도 들어주지 않았소.”

(나) 황제가 조서를 보내 다음과 같이 말하였다. “전쟁의 책임을 엄히 꾸짖노니, 너희가 기존에 맺었던 형제의 맹약을 저버려서 군대가 이곳까지 오게 되었노라. 지금 너희들이 살고자 한다면 조선의 왕은 성에서 나와 항복하길 바란다.”

- ① 삼번의 난이 일어났다.
- ② 나가시노 전투가 벌어졌다.
- ③ 흥타이지가 국호를 청으로 고쳤다.
- ④ 강홍립이 사르후 전투에 출전하였다.
- ⑤ 이자성의 농민군이 베이징을 점령하였다.

7. (가) 인물에 대한 설명으로 옳은 것은?



- ① 성리학을 집대성하였다.
- ② 백운동 서원을 건립하였다.
- ③ 사서오경왜훈을 저술하였다.
- ④ 심즉리와 지행합일을 주장하였다.
- ⑤ 주자감에서 유교 경전을 가르쳤다.

8. 밑줄 친 ‘조치’에 대한 탐구 활동으로 가장 적절한 것은?

신이 동남 연해 지역에 내려갔는데, 고향에 돌아온 백성들이 모여들어서 환호하였습니다. 그들은 “황제께서 외국과의 무역 금지를 해제하는 조치를 내리시니, 드디어 수십 년간 겪은 고통에서 벗어날 수 있게 되었습니다. 이제 반청 세력이 평정되어 바닷길이 열리니, 생업으로 복귀할 수 있게 되었습니다.” 라고 하였습니다.

- ① 대동법이 시작된 계기를 조사한다.
- ② 정화의 함대를 파견한 목적을 살펴본다.
- ③ 장거정의 개혁안에 담긴 내용을 분석한다.
- ④ 막부가 실패를 발급하게 된 배경을 알아본다.
- ⑤ 조선이 쓰시마섬 토벌을 단행한 이유를 파악한다.

9. (가) 왕조 시기의 동아시아 상황으로 옳은 것만을 <보기>에서 고른 것은? [3점]

이것은 (가) 왕조의 황제가 저술한 『대의각미록』의 일부분입니다. 표시된 부분에서 황제는 천명을 받들어 천하를 다스리게 되었다는 자신감을 드러내고, 중화와 이민족을 차별하지 않고 다스리겠다는 강한 의지를 표명하였습니다.



<보 기>

- ㄱ. 한국 - 삼포(3포) 왜란이 발생하였다.
- ㄴ. 중국 - 마제은을 화폐로 사용하였다.
- ㄷ. 일본 - 도요토미 히데요시가 토지 조사를 실시하였다.
- ㄹ. 일본 - 덴메이 연간의 기근으로 인구 성장이 정체되었다.

- ① ㄱ, ㄴ    ② ㄱ, ㄷ    ③ ㄴ, ㄷ    ④ ㄴ, ㄹ    ⑤ ㄷ, ㄹ

10. 밑줄 친 ‘신정부’에 대한 설명으로 옳은 것은? [3점]

다음 그림은 신정부의 하급 관리가 새로 시행된 징병제, 학제 등과 관련된 많은 업무에 어찌할지 모르는 모습을 풍자한 것입니다. 신정부가 사민평등을 실현하기 위한 개혁 조치도 단행한 결과, 이전의 신분과 관계 없이 관리 선발에 지원할 수 있게 되었습니다.



- ① 금릉 기기국을 설치하였다.
- ② 흥정 헌법 대강을 반포하였다.
- ③ 산킨코타이 제도를 실시하였다.
- ④ 대일본 제국 헌법을 제정하였다.
- ⑤ 베르사유 조약의 조인을 거부하였다.

11. (가), (나) 국가에 대한 설명으로 옳은 것만을 <보기>에서 고른 것은? [3점]

이번에는 세페 때문에 온 것이 아니오. 우리는 (가)의 공격에 힘든 상황이오. (가)은/는 이미 여러 나라를 멸망시켰고, 서하도 멸망시켰소. 이제 우리 금이 망하면 귀국 (나)도 위험할 것이니 우리와 연합해서 이 위기를 극복하는 것이 어떠하겠소.

창장강 너머 먼 길까지 무슨 일로 오셨소?

<보 기>

ㄱ. (가) - 호라즘을 정복하였다.  
 ㄴ. (나) - 임안(항저우)을 수도로 삼았다.  
 ㄷ. (나) - 토번에 화번공주를 파견하였다.  
 ㄹ. (가)와 (나) - 전연에서 형제의 맹약을 맺었다.

- ① ㄱ, ㄴ    ② ㄱ, ㄷ    ③ ㄴ, ㄷ    ④ ㄴ, ㄹ    ⑤ ㄷ, ㄹ

12. (가), (나) 국가에 대한 설명으로 옳은 것만을 <보기>에서 고른 것은?

물라카 총독이 바라본 중국 정세

우리의 물라카 총독에 따르면, 우리가 점령하기 전까지 물라카로부터 조공을 받았던 (가)을/를 정복하는 일이 그리 힘들지 않을 것이라고 한다. 그는 몇 년 전 이슬람 왕국 물라카를 병합한 우리 (나)(이)라면 함포를 실은 범선 10척만으로도 해안선의 일부는 충분히 장악할 수 있다고 단언하였다.

<보 기>

ㄱ. (가) - 일본과 감함 무역을 전개하였다.  
 ㄴ. (가) - 매카트니 사절단의 통상 요구를 거절하였다.  
 ㄷ. (나) - (가)의 생사를 나가사키에서 판매하였다.  
 ㄹ. (나) - 바타비아를 거점으로 삼아 데지마에서 교역하였다.

- ① ㄱ, ㄴ    ② ㄱ, ㄷ    ③ ㄴ, ㄷ    ④ ㄴ, ㄹ    ⑤ ㄷ, ㄹ


13. 밑줄 친 '이 왕조' 시기의 동아시아 문화에 대한 설명으로 옳지 않은 것은?

우표로 보는 동아시아 문화

이것은 소설 『홍루몽』의 한 장면에서 주인공 가보옥이 여러 일을 겪은 후 세속을 떠나 출가하는 장면을 담은 우표이다. 『홍루몽』은 만주족이 지배하던 이 왕조 시기에 창작되었으며 몰락하는 상류 사회의 모습을 사실적으로 묘사하였다.

- ① 한국 - 한글 소설이 유행하였다.  
 ② 중국 - 고중학이 발전하였다.  
 ③ 중국 - 원강 석굴의 대불이 조성되었다.  
 ④ 일본 - 가부키가 성행하였다.  
 ⑤ 일본 - 해체신서가 간행되었다.

14. 밑줄 친 ㉠, ㉡ 조약이 체결된 시기 사이에 있었던 사실로 옳은 것은? [3점]



이 그림은 동인도 함대 사령관 페리가 막부에게 개항을 요구하는 대통령의 친서와 함께 선물한 증기 기관차 모형을 그린 것이다. 그는 막부 관리들 앞에서 100미터 정도의 원형 철로를 설치하고 주행을 시연하였다. 이는 선진 문명을 보여주어 자신의 요구를 관철시키기 위한 의도였다. 한편 막부는 홍콩 할양을 규정한 ㉠ 조약이 체결되었다는 소식을 듣고 서양의 침략에 대비하고 있었다. 하지만 그는 막부를 압박하여 마침내 영문 ㉡ 조약에 서명하였고, 네덜란드어·한문·일본어로 작성된 조약문을 막부와 교환하였다.

- ① 니가타를 개항하는 조약이 체결되었다.  
 ② 중체서용을 기치로 양무운동이 추진되었다.  
 ③ 강화 해협을 불법 침입한 운요호 사건이 일어났다.  
 ④ 에로호 사건을 빌미로 제2차 아편 전쟁이 발발하였다.  
 ⑤ 토지 균분과 남녀평등을 내세운 태평천국 운동이 전개되었다.

15. (가) 조약에 대한 설명으로 옳은 것만을 <보기>에서 고른 것은? [3점]

○ 중국이 (가)에서 제외된 것은 매우 유감스러운 일이다. 중국은 일본의 침략으로 심각하게 고통을 받았다. 그러나 중국에서 벌어진 내전으로 인해 연합국은 중국 국민을 대표하는 정부가 존재한다는 것에 대해 의견의 일치를 보지 못했다.

○ 일본과의 장기간에 걸친 가혹한 전쟁을 치렀던 중국인은 중대한 손해를 입었다. 그 때문에 중국인의 유일한 대표자로서 중화 인민 공화국 정부는 (가)에서 제외되어서는 안 되는 일이다.

<보 기>

ㄱ. 6·25 전쟁 중에 체결되었다.  
 ㄴ. 일본의 주권 회복에 관한 조항을 담았다.  
 ㄷ. 신헌법(평화 헌법)의 제정에 영향을 끼쳤다.  
 ㄹ. 국제 연합[UN]이 창설되는 계기가 되었다.

- ① ㄱ, ㄴ    ② ㄱ, ㄷ    ③ ㄴ, ㄷ    ④ ㄴ, ㄹ    ⑤ ㄷ, ㄹ



# 4 (동아시아사)

# 사회탐구 영역

16. (가) 도시에 대한 설명으로 옳은 것만을 <보기>에서 있는 대로 고른 것은? [3점]

**동아시아사 신문** ○○○○년 △△월 □□일

**중화민국 수립 선포!!!**

청 정부의 신정(新政)이 여전히 전제 군주제를 유지하는 등 한계를 드러낸 상황에서 쑨원이 이끄는 중국 (혁명) 동맹회의 이념이 확산되고 있었다. 게다가 청 정부의 철도 국유화 조치에 항거하는 운동이 쓰촨 지역을 중심으로 일어났다. 이러한 혼란 속에서 작년 10월에 후베이성 우창에서 신군이 봉기하였고, 이에 각 성이 호응하였다. 마침내 오늘 (가)에서 임시 대통령에 취임한 쑨원이 중화민국의 수립을 선포하였다.

< 보 기 >

ㄱ. 고소변화도의 배경이 되었던 곳이다.  
 ㄴ. 장제스가 국민 정부의 수도로 삼았던 곳이다.  
 ㄷ. 유럽 상인과의 무역을 담당하는 공행이 설치된 곳이다.

- ① ㄱ      ② ㄴ      ③ ㄱ, ㄷ      ④ ㄴ, ㄷ      ⑤ ㄱ, ㄴ, ㄷ

17. (가) 군대에 대한 설명으로 옳은 것은?

중국 한커우(한구)\*에서 조직된 (가)의 임무 중 하나는 후방 교란 및 일본군 포로 심문이었다. 부대원은 일본군 포로에게 일제가 왜 중국을 침략하고 중국은 왜 항전하는지, 조선 민족은 해방을 위해 어떻게 투쟁하는지, 그리고 제국주의의 암흑상과 미래의 광명 등을 알려 주었다. 그 결과 일본군 포로들은 이들과 함께 중국의 항전에 참가하여 한·중·일 민족의 적인 일본 제국주의 소멸에 적극 나섰다. (가)의 일부는 화북으로 이동하여 조선 의용군을 조직하였다.

\* 한커우(한구): 우한에 속하는 지역

- ① 과달카날 전투에 참전하였다.  
 ② 제1차 국·공 합작에 참여하였다.  
 ③ 봉오동 전투에서 일본군에 승리하였다.  
 ④ 대한민국 임시 정부에 의해 창설되었다.  
 ⑤ 한국 광복군에 대원의 일부가 합류하였다.

18. (가), (나) 시기 사이에 동아시아에서 있었던 사실로 옳은 것은?

(가) 제6차 전당 대회에서는 자본주의적인 기업과 외국 투자 유치의 필요성을 인정한 '쇄신' 정책이 채택되었다. 이로써 베트남은 공식적으로 대담한 경제 개혁의 첫걸음을 떼게 되었다.

(나) 제79대 내각 총리에 일본신당 대표인 호소카와 모리히로가 지명되었다. 새로운 내각도 곧 구성될 것으로 보인다. 이로써 자민당 정권이 막을 내리고 비자민당 연립 정권이 출범하게 되었다.

- ① 대약진 운동이 추진되었다.  
 ② 개성 공단 사업이 시행되었다.  
 ③ 한국과 중국이 국교를 체결하였다.  
 ④ 민진당의 천수이볜이 총통에 당선되었다.  
 ⑤ 미·일 안보 조약 개정에 반대하는 안보 투쟁이 전개되었다.

19. ㉠~㉣ 시기 사이에 동아시아에서 볼 수 있는 모습으로 가장 적절한 것은? [3점]

<어느 영국 학자의 여행기>

①~④은 여행 순서

- ① 경인선 개통식을 구경하는 학생  
 ② 태양력 시행을 포고하는 중국 관리  
 ③ 신보(申報) 창간을 알리는 영국 언론인  
 ④ 도쿄 대학의 개교식 초청장을 받은 학자  
 ⑤ 교육입국 조서의 발표를 듣는 정부 관리

20. 밑줄 친 '이 전쟁'에 대한 설명으로 옳은 것은?

○ 이 전쟁에서 미국의 공격은 갈수록 거세지고 일본이 강력한 후방 기지로서 침략에 더욱더 협력하고 있는 지금, 일본의 반전 운동은 극도로 저조하다. ... (중략) ... 우리는 반전의 논리와 행동을 끈질기게 추구하고자 통킹만 사건으로 확대된 미군 군사 행동의 중지, 미군의 철수와 민족 자결의 관철, 일본 정부의 침략 협력 반대라는 세 가지 슬로건을 공통의 입장으로 삼았다.

○ 적어도 이 전쟁을 반대하는 자라면 사이공 정권에 항거하여 일어난 학생의 투쟁을 과격한 행동이라고 하지는 않을 것이다. 그러나 야마자키 군의 죽음에 대해 정부는 책임이 없다는 듯이 자국 학생의 피투성이 모습을 폭도라며 규탄하고 있다. ... (중략) ... 더 이상 고립된 학생에게 빗발치는 경찰봉의 비를 맞게 하지 말고 그 비를 모든 반전 주의자가 맞자.

- ① 파리 평화 협정이 체결되는 계기가 되었다.  
 ② 타이완과 일본의 국교 수립에 영향을 끼쳤다.  
 ③ 극동 국제 군사 재판이 열리는 결과를 낳았다.  
 ④ 자위대의 전신인 경찰 예비대 창설의 원인이 되었다.  
 ⑤ 연합국 최고 사령부(SCAP/GHQ)의 주도하에 전개되었다.

\* 확인 사항

○ 답안지의 해당란에 필요한 내용을 정확히 기입(표기)했는지 확인 하시오.

제 4 교시

사회탐구 영역 (정치와 법)

성명 [ ] 수험 번호 [ ] 제 [ ] 선택

1. 정치를 바라보는 갑의 관점에 대한 설명으로 옳은 것은?



정치를 정치권력의 획득과 유지를 위한 국가의 고유한 활동만으로 한정하여 생각한다면 정치의 본질을 설명하는 데 한계가 있습니다. 정치는 서로 대립적인 이해관계를 조정하고 적절한 수준의 타협점을 찾아가는 과정으로, 국가를 포함한 모든 사회 집단에서 나타나기 때문입니다.

- 1. 국가라는 정치 주체에 국한하여 정치의 의미를 규정한다.
2. 다원화된 현대 사회의 정치 현상을 설명하기에 적합하지 않다.
3. 국회가 국가 예산안을 심의·확정하는 과정을 정치로 보지 않는다.
4. 국가가 형성되기 이전의 정치 현상에 대해 설명할 수 없다는 한계를 가진다.
5. 국가와 국가 이외의 다양한 사회 집단에서 나타나는 정치 현상은 본질적으로 다르지 않다고 본다.

2. 법치주의 유형 A, B에 대한 설명으로 옳은 것은? [3점]

최형 법정주의는 "법률이 없으면 범죄도 없고 형벌도 없다."라는 종래의 의미에서 "적정한 법률이 없으면 범죄도 없고 형벌도 없다."라는 현대적 의미로 발전하였다. 이는 법에 의한 통치뿐만 아니라 법률의 목적과 내용도 정의에 부합해야 함을 강조하는 A의 영향을 받은 것이다. 역사적으로는 합법적 절차에 따라 제정된 법률만 있으면 법률의 목적이나 내용과 관계없이 그에 따른 국가 권력 행사가 정당화된다고 보는 B로 인해 형법의 보장적 기능이 충분히 수행되지 못한 것에 대한 반성에 기인한다.

- 1. A는 범죄와 형벌 사이에 적절한 균형이 유지되어야 함을 요구한다.
2. B는 법익 보호라는 형법의 보호적 기능을 인정하지 않는다.
3. A와 달리 B는 입법자의 자의로부터 국민의 자유와 권리를 보장한다.
4. B와 달리 A는 위헌 법률 심사제의 필요성을 간과한다.
5. A와 B 모두 법률에 근거해서도 기본권을 제한할 수 없다고 본다.

3. 기본권 유형 A, B에 대한 설명으로 옳은 것은?

A는 국가 권력에 의해 침해되지 않음으로써 보장되는 소극적인 성격을 가지고 있기 때문에 사적 영역에 대한 국가 개입의 배제가 요구된다. 이에 반해 실질적 평등의 실현을 목적으로 하는 B는 국가의 적극적 급부와 배려를 통해 비로소 보장될 수 있기 때문에 오히려 국가의 개입을 필요로 한다.

- 1. A는 헌법에 열거되지 않더라도 보장되는 포괄적 권리이다.
2. B는 국민이 국가 기관의 형성에 참여할 수 있는 권리이다.
3. A와 달리 B는 인간의 존엄과 가치를 보장하기 위한 권리이다.
4. B와 달리 A는 자본주의의 문제점을 해결하는 과정에서 등장한 권리이다.
5. A와 B 모두 다른 기본권을 보장하기 위한 수단적 권리이다.

4. 우리나라 헌법의 기본 원리 A, B에 대한 설명으로 옳은 것은?



재외 국민과 관련하여 우리나라 헌법의 기본 원리가 실현된 사례를 들고 그 이유를 말해 볼까요?

대통령 선거에서 재외 국민의 투표권을 보장하는 것을 들 수 있습니다. 이는 국가 의사를 최종 결정하는 최고 권력이 국민에게 있다는 원리인 A를 실현하는 사례이기 때문입니다.

해외에서 사고에 처한 재외 국민이 자력으로 이를 수습할 경제적 능력이 없는 경우에 생명·신체 및 재산의 보호에 드는 비용을 국가가 지원하는 것을 들 수 있습니다. 이는 국민의 인간다운 생활 보장을 위해 국가가 적극적인 역할을 해야 한다는 원리인 B를 실현하는 사례이기 때문입니다.

- 1. A는 상호주의 원칙에 따라 외국인의 지위를 보장하는 근거가 된다.
2. B는 적정한 소득 분배를 목적으로 하는 국가의 경제 규제와 조정의 근거가 된다.
3. A와 달리 B의 실현 방안으로 국민의 정치적 의사 형성을 위한 집회·결사의 자유 보장을 들 수 있다.
4. B와 달리 A는 헌법의 이념적 기초로서 법률 제정과 정책 결정의 방향을 제시한다.
5. A와 B 모두 근대 입헌주의 헌법에서부터 강조되기 시작한 원리이다.

5. 갑국과 을국의 정부 형태에 대한 설명으로 옳은 것은? (단, 갑국과 을국의 정부 형태는 각각 전형적인 대통령제와 의원 내각제 중 하나임.) [3점]

- 갑국에서는 지난 몇 차례 의회 의원 선거에서 의회 내 과반 의석을 차지하는 정당이 나타나지 않았고, 의회 내 정치 세력들은 국민의 의사와는 상관없이 자신들의 이익에 따라 이합집산을 거듭하였다. 이 과정에서 빈번한 의회 해산과 행정부 수반의 교체로 국민들의 정치적 불신감이 높아지고 있다.
○ 을국에서는 최근 의회 의원 선거 결과 행정부 수반의 소속 정당과 의회 내 과반 의석을 차지한 정당이 불일치하게 되었다. 의회가 법률안 제출권을 독점하고 있고 행정부 수반이 법률안 거부권을 가진 상황에서 행정부와 의회 간 정치적 대립이 나타날 가능성이 커졌다.

- 1. 갑국의 정부 형태에서는 행정부가 입법부에 정치적 책임을 지지 않는다.
2. 을국의 정부 형태에서는 행정부 수반과 국가 원수가 동일인이다.
3. 갑국과 달리 을국의 정부 형태에서는 의회 의원이 각료를 겸직할 수 있다.
4. 을국과 달리 갑국의 정부 형태에서는 행정부와 입법부 간 엄격한 권력 분립이 이루어진다.
5. 갑국과 을국의 정부 형태 모두에서 국민이 직접 행정부 수반을 선출한다.



## 2 (정치와 법)

## 사회탐구 영역

6. 주민 참여 제도 (가)~(다)에 대한 옳은 설명만을 <보기>에서 고른 것은?

제도	해당 사례
(가)	○○군 하수 처리장에서 발생하는 악취로 주민 생활의 불편이 가중되고 있다. ○○군 주민들은 하수 처리장 악취 방지를 위한 조례 제정을 청구하기 위해 주민들의 서명을 받기 시작했다.
(나)	△△시장은 쓰레기 소각장 건설이 주민들의 반대에 부딪히자 쓰레기 소각장 건설 여부를 주민 투표로 결정하기로 했다. 주민 투표에서 주민들의 과반수가 반대하여 쓰레기 소각장 건설은 무산되었다.
(다)	□□도 의회 지역구 의원 A는 대규모 산업 단지 유치 과정에서 비리에 연루되었다는 이유로 주민 투표를 통해 임기 중에 해임되었다.

<보 기>

- ㉠. (가)에 필요한 요건을 갖추어 주민이 조례안을 청구하면 지방 자치 단체장이 해당 조례안을 심의·의결한다.  
 ㉡. (다)의 대상에는 지방 자치 단체를 대표하고 사무를 총괄하는 지방 자치 단체의 기관이 포함된다.  
 ㉢. (다)와 달리 (나)는 주민이 지방 자치 단체장의 권한 행사를 견제하는 제도이다.  
 ㉣. (가)와 (나) 모두 지방 자치 단체의 정책 결정 과정에 주민이 직접 참여할 수 있는 수단이다.

- ① ㉠, ㉡    ② ㉠, ㉢    ③ ㉡, ㉢    ④ ㉡, ㉣    ⑤ ㉢, ㉣

7. 형사 제재 A, B에 대한 옳은 설명만을 <보기>에서 있는 대로 고른 것은? [3점]

A는 범죄에 대한 법률상의 효과로서 국가가 범죄자에게 공권력을 행사하여 부과하는 처벌을 의미하며, 본질적으로 행위자가 저지른 과거의 불법에 대한 책임을 전제로 부과된다. B는 행위자의 장래 위험성에 근거하여, 범죄자의 개선을 통해 재범을 예방하고 사회 질서를 보호하기 위해 A를 대체 또는 보완하여 부과되는 자유의 박탈과 제한 등의 처분을 뜻한다.

<보 기>

- ㉠. A에 해당하는 구류는 정해진 노역을 부과하지 않는다.  
 ㉡. 형의 선고와 동시에 판결로써 형의 집행을 유예하는 경우 B에 해당하는 보호 관찰이 부과될 수 있다.  
 ㉢. B와 달리 A는 법률과 적법한 절차에 의하지 않고는 부과될 수 없다.

- ① ㉠    ② ㉡    ③ ㉠, ㉡    ④ ㉡, ㉢    ⑤ ㉠, ㉡, ㉢

8. 우리나라 헌법 기관 A~F에 대한 설명으로 옳은 것은? [3점]

A는 헌법에 규정된 주요 국가 기관 구성에 관한 권한 행사 시 B의 동의, C의 장(長)의 제청, D의 제청 등의 견제를 받는다. A는 E를 임명할 때 C의 장(長)의 제청을, 국무 위원 임명 시 D의 제청을 받아야 한다. 또한 헌법은 C의 장(長), F의 장(長), D, E 임명에 대한 동의권을 B에게 부여하여 A의 권한 행사를 견제하면서 각 기관에 간접적으로나마 민주적 정당성을 부여하고자 하였다. 한편, A와 B, 그리고 C의 장(長)이 F의 구성에 참여하도록 하여 헌법 재판을 담당하는 F가 헌법 수호 기관으로서 정치적 중립성을 확보하도록 하였다.

- ① A는 B에게 임시회 집회를 요구하여 국정 감사를 실시한다.  
 ② B는 A의 발의로 제안된 헌법 개정안에 대한 의결권을 가진다.  
 ③ C는 A 선거의 효력을 다투는 선거 소송 사건에 대한 상고심을 관할한다.  
 ④ D는 국무 회의의 부의장으로 국무 위원을 겸직할 수 있다.  
 ⑤ E는 F의 탄핵 결정 이외에는 파면되지 않는다.

9. 다음 자료에 대한 설명으로 옳은 것은? [3점]

○○시장은 대기 오염 물질 배출 시설 설치가 금지된 지역에 배출 시설을 설치 및 운영하였다는 이유로 갑에게 배출 시설에 대한 폐쇄 명령을 내렸다. 이에 갑은 폐쇄 명령의 취소를 구하는 소를 제기하였으나 기각되자 항소하였다. 이후 갑은 항소심 계속 중 폐쇄 명령의 근거가 되는 해당 법률 조항이 자신의 재산권을 침해한다며 A에 (가) 제청 신청을 하였으나 A가 갑의 신청을 기각하자, 갑은 B에 (나) 을/를 청구하였다. 이에 B는 해당 법률 조항이 국민 건강이나 환경에 관한 위해를 예방하려는 입법 목적 달성을 위한 적합한 수단이고 침해의 최소성을 갖추지 못하였다고 보기 어려우며, 해당 법률 조항을 통해 달성하고자 하는 공익이 배출 시설 설치·사용자가 입게 되는 손해에 비해 작다고 할 수 없다고 판단하였다.

- ① A는 1심 법원의 결정·명령에 대한 항소 사건을 심판한다.  
 ② B의 결정으로 갑의 배출 시설에 대한 폐쇄 명령은 취소된다.  
 ③ B와 달리 A는 명령·규칙의 위헌·위법성에 대한 최종 심사권을 가진다.  
 ④ A는 직권으로 B에 (나)를 청구할 수 없다.  
 ⑤ (가)와 달리 (나)는 법률의 위헌 여부가 재판의 전제가 된 경우에 이루어진다.

10. 다음 사례에 대한 법적 판단으로 옳은 것은?

△△기업의 직원 갑은 잦은 지각과 무단결근 등 불성실한 근무 태도를 이유로 사용자 을로부터 해고 통보를 받았다. 이에 갑은 정당한 해고의 요건을 갖추지 못한 해고일 뿐 아니라 자신이 소속된 △△기업 노동조합의 쟁의 행위 참가를 이유로 자신을 해고한 것이라고 주장하며 ○○지방 노동 위원회에 구제 신청을 하였다. 다음은 갑의 구제 신청에 대한 ○○지방 노동 위원회의 판정 요지이다.

- 갑의 불성실한 근무 태도가 징계 사유에 해당하지만 해고 사유에는 해당하지 않음.  
 ○ 갑에 대한 해고는 쟁의 행위 참가를 이유로 불이익을 준 행위에 해당하지 않음.

○○지방 노동 위원회의 판정에 불복한 갑과 을은 적법한 절차를 거쳐 중앙 노동 위원회에 재심을 신청하였다.

- ① 갑과 달리 △△기업 노동조합은 ○○지방 노동 위원회의 부당 노동 행위 구제 절차에서 신청인이 될 수 없다.  
 ② ○○지방 노동 위원회는 갑에 대한 해고가 부당 노동 행위에 해당한다고 판단하였다.  
 ③ 중앙 노동 위원회가 ○○지방 노동 위원회의 판정을 취소한다면, 갑에 대한 해고가 부당 해고에 해당하나 부당 노동 행위에 해당하지 않는다고 판정한 것이다.  
 ④ 중앙 노동 위원회가 갑의 재심 신청을 기각한다면, 갑은 재심 판정에 불복하여 행정 소송을 제기할 수 없다.  
 ⑤ 중앙 노동 위원회가 을의 재심 신청을 인용하더라도, 갑은 을을 상대로 해고의 효력을 다투는 소를 제기할 수 있다.



11. 민법의 기본 원칙 A, B에 대한 옳은 설명만을 <보기>에서 있는 대로 고른 것은? [3점]

A는 당사자의 자율적인 판단에 기초한 합의에 대해서는 원칙적으로 국가나 법질서가 개입하거나 간섭하지 않을 것을 요구한다. 하지만 소수의 독점 자본가가 소유권의 불가침성과 A를 이용하여 자신의 활동 영역을 확장함으로써 생산 수단의 소유가 소수에게 집중되어 사회가 양극화되는 문제가 발생하였다. 이에 절대적 권리로 인정되던 소유권이 시대와 사회의 경제적 질서를 반영하여 제한을 받게 되었다. 그리하여 소유권의 사회적 구속성과 그에 부과된 의무를 강조하는 B가 등장하게 되었다.

<보 기>

- ㄱ. A는 법률관계 형성에 있어 당사자가 자유롭고 평등한 주체라는 것을 전제로 성립된 원칙이다.
- ㄴ. 최저 임금의 적용을 받는 근로자의 근로 계약 중 최저 임금액에 미치지 못하는 금액을 임금으로 정한 부분은 무효라는 법률 규정은 A에 근거한다.
- ㄷ. B에 따라 소유권을 제한하더라도 사유 재산제가 부정되는 것은 아니다.
- ㄹ. 개발 제한 구역 내에서 건물 신축을 제한하는 법률 규정은 B에 근거한다.

- ① ㄱ, ㄴ                      ② ㄱ, ㄹ                      ③ ㄴ, ㄷ
- ④ ㄱ, ㄷ, ㄹ                ⑤ ㄴ, ㄷ, ㄹ

12. 다음 자료에 대한 법적 판단으로 옳은 것은? [3점]

표는 폭행 혐의로 기소된 사건 (가)~(마)의 공판 과정에서 제시된 변호인의 주장이며, 법원은 이를 받아들여 각 사건에 대해 무죄 판결을 선고하였다.

사건	변호인의 주장
(가)	갑의 폭행은 적법한 체포 과정에서 도망가는 현행범을 제압하기 위해 이루어진 것임.
(나)	을의 폭행은 자신의 신체에 대한 현재의 부당한 침해를 방위하기 위한 것으로서 상당한 이유가 있는 경우에 해당함.
(다)	병이 피해자를 폭행할 당시 병의 나이가 13세 11개월에 불과함.
(라)	정의 폭행은 심신 장애로 인하여 사물을 변별할 능력이 없는 상태에서 이루어진 것임.
(마)	무는 자신에 대한 저항할 수 없는 폭력에 의하여 강요된 상태에서 타인을 폭행한 것임.

- ① (가)에서 법원은 갑의 행위가 구성 요건에 해당하지 않는다고 판단하였다.
- ② (나)에서 법원은 을의 행위가 구성 요건에 해당하고 위법성이 인정되지만 책임이 조각된다고 판단하였다.
- ③ (다)에서 변호인은 병의 행위가 법질서 전체의 관점에서 위법하지 않다고 주장하였다.
- ④ (라)에서 변호인은 행위자에 대한 법적 비난 가능성이 없음을 주장하였다.
- ⑤ (마)에서 변호인은 무의 행위가 구성 요건에 해당하지만 자구행위로 보아야 한다고 주장하였다.

13. 다음 사례에 대한 법적 판단으로 옳은 것은?

갑은 을 소유의 상가를 임차하여 세탁소를 운영하고 있다. A는 면접을 위해 친구 B의 양복을 빌려 입은 후 갑에게 세탁을 맡겼다. 갑은 세탁소 내부의 수도관에서 누수가 발생하여 이미 수개월 전 을에게 수리를 요청하였고 을이 수리를 약속하였지만, 이후 을은 갑의 수차례 요청에도 아무런 이유 없이 수리를 계속 미뤄 왔다. 결국 수도관 파열로 갑의 세탁 시설이 침수되어 갑이 세탁물을 옮기고 있는데, 이를 보고 갑을 도와주던 갑의 중학생 아들 병이 실수로 표백제를 쏟아 B의 양복이 변색되었다. 한편 양복을 찾으러 온 A가 파열된 수도관에서 뿜어져 나온 물에 미끄러져 큰 부상을 입었다.

- ① 갑은 B에게 양복의 변색에 따른 피해에 대해 채무 불이행 책임을 진다.
- ② 을은 갑에게 수도관 수리 의무의 위반에 따른 채무 불이행 책임을 지지 않는다.
- ③ 갑이 세탁 시설 피해 방지에 필요한 주의를 기울이지 않은 경우, 을은 갑에게 공작물 소유자로서 특수 불법 행위 책임을 진다.
- ④ 병이 B에게 일반 불법 행위 책임을 지는 경우, 갑은 B에게 법정 감독 의무자로서 특수 불법 행위 책임을 진다.
- ⑤ A의 부상에 대해 갑이 A에게 특수 불법 행위 책임을 지더라도, 을이 A에게 특수 불법 행위 책임을 면하는 것은 아니다.

[14~15] 다음 사례를 읽고 물음에 답하시오.

법률상 혼인한 갑과 을 사이에서 태어난 A는 중학교 1학년 여름 방학에 용돈으로 마트에서 게임기를 구매하였다. 한편 병은 사실혼 관계에서 자신이 낳은 B를 양육하고 있었다. B는 중학교 졸업을 앞두고 ○○자전거 대리점(사장 정에서 아르바이트를 하려고 정에게 가족 관계 기록 사항에 관한 증명서를 제출하였지만, 정은 연령을 이유로 B와의 근로 계약 체결을 거부하였다. 그 자리에서 B는 평소 원했던 고가의 한정판 자전거를 보고 정에게 구매 의사를 거듭 밝혔고 정은 고민 끝에 B와 그 자전거를 매매하는 계약을 체결하였다. 평소 성격 차이가 심했던 갑과 을은 이혼 숙려 기간을 거쳐 적법한 절차에 따라 이혼하였고, A에 대한 친권과 양육권은 갑이 갖게 되었다. 얼마 후 갑과 병은 법률상 혼인을 하였고 병이 적법한 절차를 거쳐 A를 친양자로 입양하였다. 갑과 병의 혼인을 반대하던 B는 친권자 병으로부터 독립하기를 원하였으나 병의 반대로 독립할 수 없었다. 이후 갑과 병은 미성년자 C를 적법한 절차를 거쳐 친양자가 아닌 양자로 입양하였고, C는 입양된 후 고가의 자전거를 조건 없이 증정하는 정의 ○○자전거 대리점 경품 행사에 당첨되었다.

14. 위의 사례에 나타난 계약 관계에 대한 법적 판단으로 옳은 것은?

- ① 갑은 A가 미성년자임을 이유로 A의 구매 계약을 취소할 수 있다.
- ② C가 당첨된 고가의 자전거를 수령하기 위해서는 갑 또는 병의 동의가 필요하다.
- ③ 정은 B의 매매 계약에 대한 병의 추인 여부와 상관없이 계약 체결의 의사 표시를 철회할 수 없다.
- ④ 갑과 병의 혼인 후 정은 갑에게 B와의 매매 계약의 취소 여부에 대한 확답을 촉구할 수 있다.
- ⑤ 정과 B의 매매 계약이 유효하게 확정된 경우, 병은 정에게 자전거 매매 대금의 지급 의무를 진다.

15. 위의 사례에 나타난 가족 관계에 대한 법적 판단으로 옳은 것은? [3점]

- ① 갑과 을의 이혼은 법원의 이혼 의사 확인 시 그 효력이 발생한다.
- ② 병이 A를 입양한 이후에도 을은 A에 대한 면접 교섭권을 가진다.
- ③ 갑과 병의 혼인 후 갑이 사망한 경우, B는 갑의 상속인이 될 수 없다.
- ④ C와 달리 A의 입양 시 가정 법원의 허가가 요구된다.
- ⑤ C가 경품 행사에 당첨될 당시, C와 달리 A는 병의 친생자와 같은 지위를 가진다.

# 4 (정치와 법)

# 사회탐구 영역

16. A~D에 대한 설명으로 옳은 것은? (단, A~D는 각각 정당, 이익 집단, 시민 단체, 언론 중 하나임.)

우리 ○○단체는 여행업계 종사자들의 특수 이익을 실현하기 위해 조직된 A입니다. 소속 회원들의 이익을 증진하기 위해 어떤 노력을 해야 할까요?

공직 선거에 후보자를 공천하는 B의 공약에 대해 적극적으로 우리의 의견을 표명해야 합니다.

공익 실현을 목적으로 시민들이 자발적으로 조직한 C와 연대하여 우리의 이익 추구가 공익과 충돌한다는 우려를 불식시킬 필요가 있습니다.

사회 현상에 대해 취재 등의 방법으로 정보를 제공하는 D가 우리 단체에 대해 보도한 기사를 비판적 시각으로 분석해 보아야 합니다.

- ① A와 달리 B는 정치 과정에서 투입 기능을 한다.
- ② B와 달리 C는 행정부와 의회를 매개하는 역할을 한다.
- ③ C와 달리 A는 대의제의 한계를 보완하는 기능을 한다.
- ④ A, B와 달리 D는 사회 구성원에게 정치적 지식을 습득하게 한다.
- ⑤ A, C, D와 달리 B는 정권 획득을 목적으로 조직된 집단이다.

17. 다음 사례에 대한 법적 판단으로 옳은 것은? [3점]

갑은 주차된 을의 차량 유리창을 부순 후 그 안에 있던 스마트폰을 훔쳐 달아나던 중 순찰 중인 경찰관 병에게 발각되었다. 병이 계속 쫓아오자 갑은 체포를 면하기 위하여 병에게 폭행을 가하였지만 결국 체포되었다. 이후 검사는 구속 영장을 발부받아 갑을 구금한 상태에서 수사를 진행하여 공소를 제기하였다. 1심 법원은 갑에 대하여 징역 1년 6월에 집행 유예 2년을 선고하였고, 소송의 당사자 모두 항소하지 않아 판결이 확정되었다.

- ① 검사가 구속 영장 실질 심사를 청구하면 판사가 갑을 직접 대면하여 갑의 구속 여부를 결정한다.
- ② 갑은 공판 절차가 진행되는 도중에 구속 적부 심사를 청구할 수 없다.
- ③ 을은 갑의 범죄 행위로 인한 재산상 피해의 배상을 받기 위해 국가에 일정 한도의 구조금 지급을 청구할 수 있다.
- ④ 형이 확정된 후 갑이 2년 동안 범죄를 저지르지 않으면 면소된 것으로 간주된다.
- ⑤ 병이 갑에게 배상 명령을 신청하면 별도의 민사 소송을 제기할 필요가 없다.

18. 국제 관계를 바라보는 갑, 을의 관점에 대한 설명으로 옳은 것은?

갑: 국제 사회에서 국가는 생존과 안보의 위협에 노출되어 있으며, 국제 사회는 전쟁의 가능성이 항상 존재하는 정글과 같다. 이러한 정글에서 살아남기 위해 개별 국가는 자신을 스스로 지킬 수 있어야 한다.  
 을: 국제 사회에서 국가는 항상 생존과 안보의 위협에 노출되어 있는 것은 아니다. 국가는 공동의 이익을 달성하기 위해 협력할 수 있는 합리성을 가지고 있으며, 국제 사회를 정글이 아니라 평화를 가꿀 수 있는 정원으로 만들 수 있다.

- ① 갑의 관점은 개별 국가가 자국의 이익을 극대화하는 것을 국제 규범으로 억제할 수 있다고 본다.
- ② 을의 관점은 국제 분쟁의 해결을 위해 국가 간 협력과 공동 대응을 강조한다.
- ③ 갑과 달리 을의 관점은 국제 관계를 설명할 때 힘의 논리에 초점을 맞춘다.
- ④ 을과 달리 갑의 관점은 국제 평화의 실현을 위해 국제기구의 역할을 중요시한다.
- ⑤ 갑과 을의 관점 모두 국제 질서를 유지하는 강제력 있는 중앙 정부가 국제 사회에 존재한다고 본다.

19. 국제법의 법원(法源) A, B에 대한 설명으로 옳은 것은?

A는 국제 사회에서 일관되게 지속된 관행이 축적되고 이에 대한 법적 확신이 형성되어 성립된다. A의 성립에 있어 법적 확신이 필수적 요건이지만, 이를 밝히는 것은 쉬운 일이 아니다. 이에 국제법 주체 상호 간의 명시적 합의인 B의 체결을 위한 교섭 과정에서 나타난 개별 국가의 입장이나 국제기구가 채택한 결의 내용 등이 법적 확신을 입증하기 위한 자료로 활용되고 있다.

- ① 우리나라에서 A는 일반적으로 승인된 국제 법규에 해당한다.
- ② 국제법 주체로 인정되는 개인은 B의 체결 당사자가 될 수 있다.
- ③ B를 위반한 국제기구라도 해당 국제기구의 동의를 얻어야 국제 사법 재판소가 재판 관할권을 행사할 수 있다.
- ④ A와 달리 B는 원칙적으로 국제 사회에서 모든 국가에 대해 보편적 효력을 가진다.
- ⑤ A와 B 모두 우리나라에서는 대통령의 비준이 있어야 국내법과 같은 효력을 가진다.

20. (가)에 들어갈 수 있는 옳은 내용만을 <보기>에서 있는 대로 고른 것은? [3점]

우리나라의 선거 제도를 이해하기 위해 갑국의 선거 제도 개편안을 살펴볼려 합니다. 현재 갑국 의회는 지역구 의원으로만 구성되며, 80개의 선거구에서 선거구별로 최대 득표한 후보자가 의회 의원으로 선출됩니다. 또한 갑국 대통령은 국민의 직접 선거를 통해 선출되며, 선거에서 최대 득표한 후보자가 당선됩니다. 갑국에서는 의회 의석을 확보한 5개 정당 중 특정 정당이 의회 내 과반 의석을 차지하고 있으며, 의회 의원 선거와 대통령 선거 모두에서 사표가 많이 발생한다는 지적이 있습니다. <자료1>은 갑국 의회 의원 선거 제도 개편안이고, <자료2>는 갑국 대통령 선거 제도 개편안입니다. 이에 대해 분석해 볼까요?

<자료1> 갑국 의회 의원 선거 제도 개편안

- 의회 의원 정수(定數) 80명과 유권자 1인이 1표를 행사하는 방식은 유지하지만, 선거구를 20개로 축소하고 각 정당이 선거구별로 최대 2인까지 후보자로 공천할 수 있도록 함. 선거구별로 같은 수의 의회 의원을 득표순으로 선출함.
- 선거구 간 인구 편차의 허용 기준을 현재의 전국 선거구 평균 인구수 기준 '상하 33% 인구 편차'에서 '상하 20% 인구 편차'로 변경함.

<자료2> 갑국 대통령 선거 제도 개편안

당선을 위한 조건으로 유효 투표 총수의 과반 득표라는 제한을 둬, 1차 투표에서 이 조건을 충족시킨 후보자가 있으면 당선자로 확정하고, 당선자가 없을 경우 1위와 2위 득표자만을 상대로 2차 투표를 실시함.

(가)

<보 기>

ㄱ. 갑국의 개편안에는 의회 의원 선거에서 선거구 간 '표의 등가성'이 강화되는 내용이 포함되어 있습니다.  
 ㄴ. 갑국의 의회 의원 선거에서 현행과 달리 개편안은 특정 정당이 의회 의석의 50%를 차지할 수 없도록 제한합니다.  
 ㄷ. 갑국 의회 의원 선거 제도 개편안의 선거구제는 우리나라 지역구 광역 의회 의원 선거의 선거구제와 동일합니다.  
 ㄹ. 갑국의 개편안 적용 시 대통령 선거에서 전체 유권자 과반의 표를 얻지 못한 후보자의 당선 가능성을 배제할 수 없습니다.

- ① ㄱ, ㄷ                      ② ㄱ, ㄹ                      ③ ㄴ, ㄷ
- ④ ㄱ, ㄴ, ㄹ                ⑤ ㄴ, ㄷ, ㄹ

\* 확인 사항  
 ○ 답안지의 해당란에 필요한 내용을 정확히 기입(표기)했는지 확인 하시오.



제 4 교시

사회탐구 영역 (한국지리)

성명

수험 번호

제 ( ) 선택

1. 다음 글의 ㉠~㉣에 대한 설명으로 옳은 것은? (단, ㉠, ㉡, ㉢은 각각 금강산, 지리산, 한라산 중 하나임.)

세상에서는 금강산을 봉래산, 지리산을 방장산, 한라산을 영주산으로 여기니 이른바 삼신산이다.

○ ㉠은 ㉡ 흙이 두텁게 쌓인 산으로 토질이 비옥하므로 온 산 어디나 사람이 살기에 알맞다. 높은 산봉우리의 땅에 기장이나 조를 뿌려도 어디든 무성하게 잘 자란다.

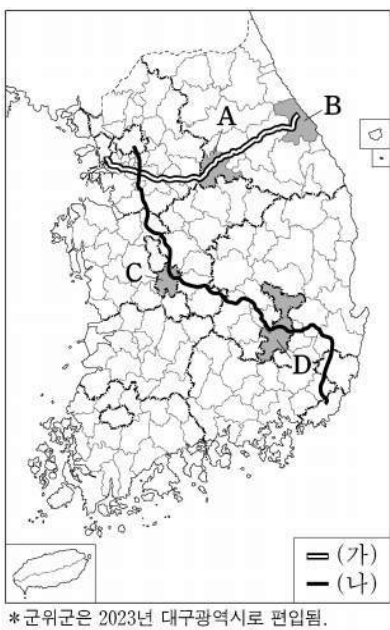
○ ㉢은 순전히 바위로 된 봉우리와 골짜기, 냇물, 폭포로 이루어졌다. 만 길의 고개와 백 길의 연못까지 전체 바탕이 하나의 바윗덩어리이니 천하에 둘도 없는 산이다.

○ ㉣ 정상부에는 큰 못이 있어 사람들이 시끄럽게 떠들어 대면 갑자기 구름과 안개가 크게 일어난다.

- 이중환, 『택리지』 -

- ① ㉠으로 분류되는 사례로 북한산이 있다.
- ② ㉢의 기반암은 모든 침식 분지의 배후 산지를 이룬다.
- ③ ㉡에는 백두산의 천지처럼 화구가 함몰되어 형성된 움푹한 와지가 발달해 있다.
- ④ ㉠의 기반암은 ㉢의 기반암보다 형성 시기가 이르다.
- ⑤ ㉢과 ㉣은 마그마가 지표로 분출하여 형성되었다.

2. 지도는 (가), (나) 고속 국도 노선과 A~D 도시를 표시한 것이다. 이에 대한 설명으로 옳은 것만을 <보기>에서 있는 대로 고른 것은?

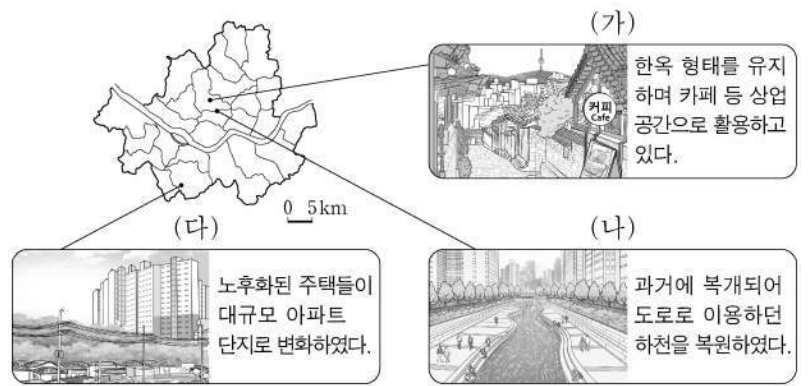


<보 기>

ㄱ. (가)는 동계 올림픽 개최 지역을 지나간다.  
 ㄴ. A와 D에는 모두 지하철역이 위치한다.  
 ㄷ. B와 C에는 모두 공공 기관이 이전한 혁신 도시가 있다.

- ① ㄱ      ② ㄴ      ③ ㄱ, ㄷ      ④ ㄴ, ㄷ      ⑤ ㄱ, ㄴ, ㄷ

3. 다음 자료는 세 지역의 개발 사례이다. (가)~(다)에 대한 설명으로 옳은 것만을 <보기>에서 고른 것은?



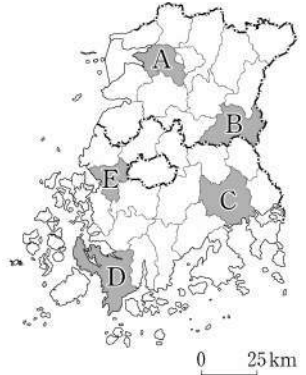
<보 기>

ㄱ. (나)의 개발로 하천 주변 휴식 공간이 증가하였다.  
 ㄴ. (다)의 개발은 보존 재개발의 사례이다.  
 ㄷ. (가)의 개발은 (다)의 개발보다 기존 건물의 활용도가 높다.  
 ㄹ. (가)~(다)의 개발은 모두 지역 주민 주도로 이루어졌다.

- ① ㄱ, ㄴ      ② ㄱ, ㄷ      ③ ㄴ, ㄷ      ④ ㄴ, ㄹ      ⑤ ㄷ, ㄹ

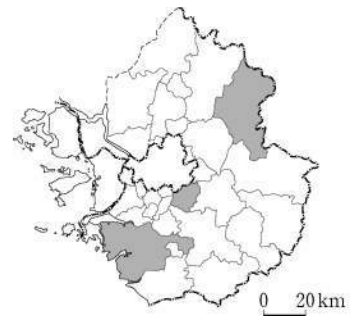
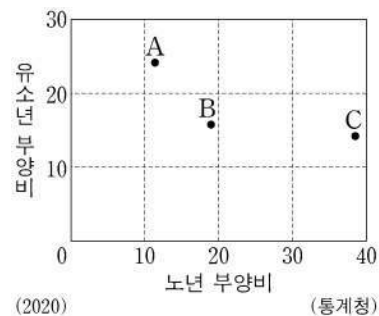
4. 다음 자료는 어느 학생의 호남권 답사 일정이다. 일정에 따라 답사 지역을 지도의 A~E에서 순서대로 고른 것은? [3점]

일정	주요 활동
1일 차	춘향전의 배경이 되는 광한루와 주변 지역 탐방
2일 차	람사르 협약 등록 습지와 국가 정원 견학
3일 차	나비 축제가 열렸던 하천 주변 유채꽃밭과 나비곤충생태관 방문



- ① A→B→D      ② A→C→E      ③ B→C→E
- ④ B→E→D      ⑤ C→D→A

5. 그래프는 지도에 표시된 세 지역의 인구 특성을 나타낸 것이다. A~C 지역에 대한 설명으로 옳은 것은? [3점]



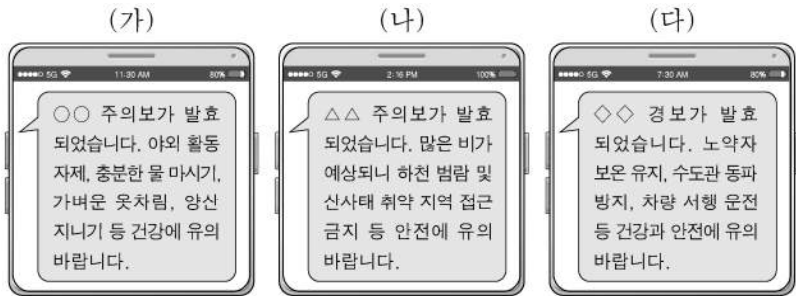
- ① A는 B보다 서울로 통근·통학하는 인구 비율이 높다.
- ② A는 C보다 청장년층 인구 비율이 낮다.
- ③ B는 A보다 성비가 높다.
- ④ C는 A보다 인구 밀도가 높다.
- ⑤ C는 B보다 노령화 지수가 높다.



## 2 (한국지리)

## 사회탐구 영역

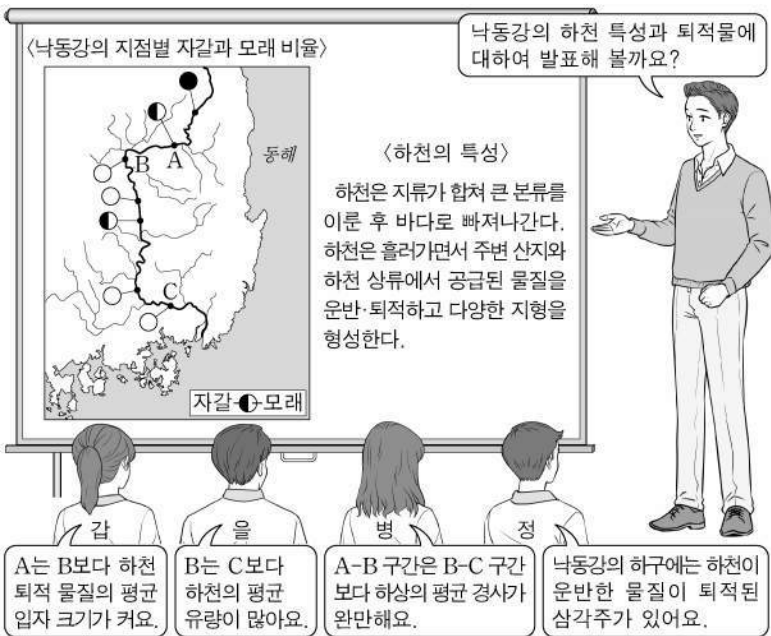
6. 다음은 세 자연재해에 관한 재난 안전 문자 내용이다. (가)~(다)에 대한 설명으로 옳은 것만을 <보기>에서 고른 것은? (단, (가)~(다)는 각각 폭염, 한파, 호우 중 하나임.)



<보 기>  
 가. (가)는 난방용 전력 소비량을 증가시킨다.  
 나. (나)는 강한 일사로 인한 대류성 강수가 나타날 때 주로 발생한다.  
 다. (다)는 시베리아 기단이 한반도에 강하게 영향을 미칠 때 주로 발생한다.  
 리. (나)는 강수, (다)는 기온과 관련된 재해이다.

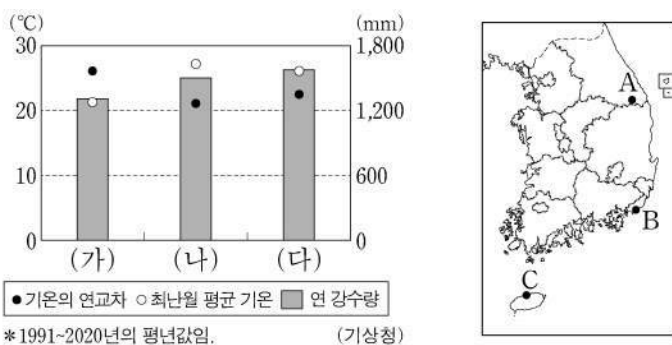
- ① 가, 나    ② 가, 다    ③ 나, 다    ④ 나, 리    ⑤ 다, 리

7. 다음은 하천 지형에 대한 수업 장면의 일부이다. 교사의 질문에 옳게 답한 학생만을 있는 대로 고른 것은? [3점]



- ① 갑, 병    ② 갑, 정    ③ 을, 정  
 ④ 갑, 을, 병    ⑤ 을, 병, 정

8. 그래프는 (가)~(다) 지역의 기후 특성을 나타낸 것이다. 이에 해당하는 지역을 지도의 A~C에서 고른 것은? [3점]



- ① (가) A, (나) B, (다) C    ② (가) A, (나) C, (다) B  
 ③ (가) B, (나) A, (다) C    ④ (가) B, (나) C, (다) A  
 ⑤ (가) C, (나) A, (다) B

9. 다음 글은 강원도 세 지역의 농산물에 대한 것이다. (가)~(다)에 대한 설명으로 옳은 것은? (단, (가)~(다)는 각각 배추, 쌀, 옥수수 중 하나임.)

- 철원군은 철원 평야에서 냉해에 강하고 재배 기간이 짧은 품종으로 (가) 을/를 생산한다. 한탄강 물을 이용하여 생산한 (가) 을/를 지리적 표시제 농산물로 등록하였다.
- 홍천군은 산지가 많아 (나) 재배 농가가 많다. 홍천의 (나) 은/는 단맛이 풍부하고 껍질이 얇아 씹는 맛이 부드러워 인기가 많으며, 지리적 표시제 농산물로 등록되었다.
- 평창군은 해발 고도가 높고 기온이 낮아 여름철 (다) 재배에 유리하다. 고위 평탄면에서 재배되는 (다) 은/는 다른 지역과 출하 시기가 달라 시장 경쟁력이 높다.

- ① (가)의 생산량이 가장 많은 도(道)는 경북이다.  
 ② (나)는 밭보다 논에서 주로 재배된다.  
 ③ (다)는 노지 재배 비율보다 시설 재배 비율이 높다.  
 ④ (가)는 (나)보다 국내 식량 자급률이 높다.  
 ⑤ (다)는 (가)보다 우리나라에서 재배되는 면적이 넓다.

10. 다음 자료는 북한의 주요 도시와 철도에 대한 학생의 발표 내용이다. (가)~(라)에 대한 설명으로 옳은 것만을 <보기>에서 고른 것은? (단, (가)~(라)는 각각 지도에 표시된 네 지역 중 하나임.) [3점]

- 갑: 북한 최대 도시인 (가) 에서 항구 도시인 (나) (으)로 이어진 평남선을 이와 유사한 서울-인천 간 경인선과 비교하며 철도가 도시 발달에 미친 영향을 조사했습니다.
- 을: 중국 단둥과 마주하고 있는 국경 도시 (다) 은/는 현재 평의선의 종점으로, 베를린 올림픽에 참가한 손기정 선수가 경유하며 이곳에 남긴 흔적을 조사했습니다.
- 병: 항구 도시 (라) 은/는 러시아와 국제 철도로 연결되는 평라선의 종점으로, 항만과 철도가 이 지역의 변화에 끼친 영향을 조사했습니다.

<보 기>  
 가. (다)는 압록강 철교를 통해 중국과 연결된다.  
 나. (나)는 (가)의 외항이며 서해 갑문이 있다.  
 다. (다)에는 (라)보다 먼저 지정된 경제특구가 있다.  
 리. 분단 이전의 경의선 철도는 (가)와 (라)를 경유했다.

- ① 가, 나    ② 가, 다    ③ 나, 다    ④ 나, 리    ⑤ 다, 리

11. 다음은 지형 단원 온라인 수업 장면의 일부이다. 교사의 질문에 옳지 않게 답한 학생은?

울돌목 일대의 과거 지도입니다. A~E에 대하여 발표해 볼까요?

▶ 갑: A는 최후 빙기에 육지의 일부였습니다.  
 ▶ 을: B는 파랑의 침식 작용으로 형성되었습니다.  
 ▶ 병: E섬은 사주로 육지와 연결된 육계도였습니다.  
 ▶ 정: D는 A보다 간척지로 개발하기 용이합니다.  
 ▶ 무: A에서 C로 흐르는 조류는 A보다 C에서 평균 유속이 빠릅니다.

- ① 갑    ② 을    ③ 병    ④ 정    ⑤ 무

12. 다음은 우리나라 공업에 대한 퀴즈의 일부이다. A 도시 제조업의 업종별 출하액 비율 그래프로 옳은 것은? [3점]


※ (가)~(다)에서 설명하는 도시를 지도에서 찾아 하나씩 지운 후 남은 도시 A를 쓰시오. (단, (가)~(다)와 A는 각각 지도에 표시된 도시 중 하나임.)

(가) 이 지역은 2004년 제철소가 입지하면서 철강 및 금속 공업이 발달하였고, 2012년에 시로 승격하였다.

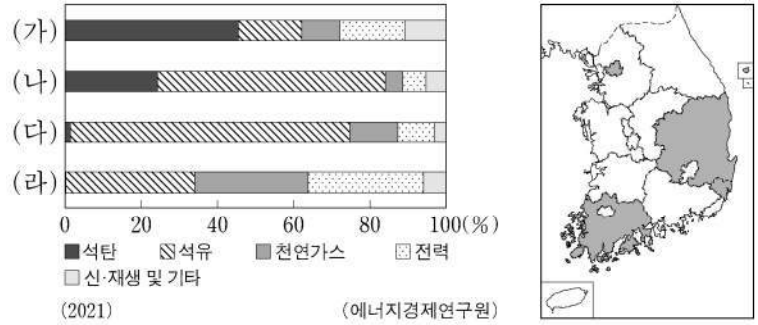
(나) 이 지역은 고생대 조선 누층군에 매장된 석회석을 활용한 원료 지향 공업이 발달하여 지역의 주된 산업이 되었다.

(다) 이 지역에는 울산과 여수에 이어 세 번째로 조성된 석유 화학 단지가 입지하여 공업 도시로 발달하였다.

정답: (가)~(다) 도시를 지운 후 남은 도시는  이다.

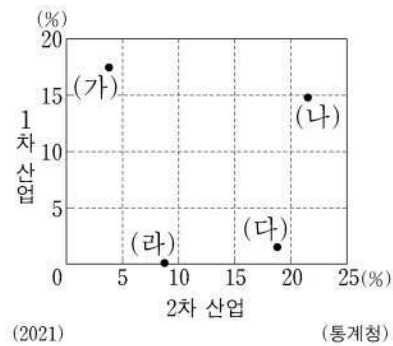


13. 그래프는 지도에 표시된 네 지역의 최종 에너지 소비량 비율을 나타낸 것이다. (가)~(라) 지역에 대한 설명으로 옳은 것은? [3점]



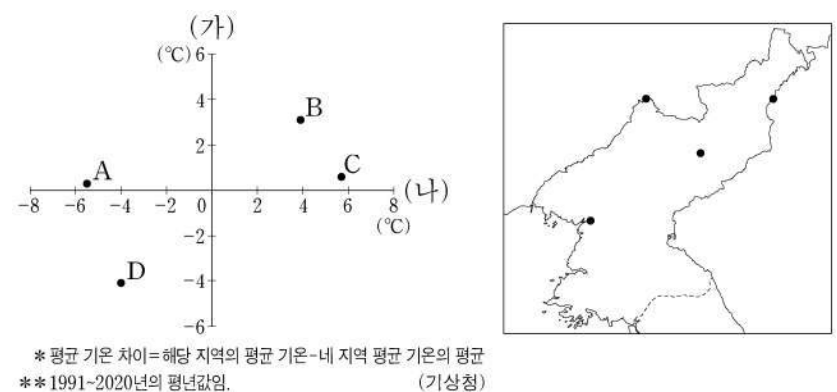
- ① 경북은 석유 소비량이 석탄 소비량보다 많다.  
 ② 천연가스의 지역 내 소비 비율은 울산이 서울보다 높다.  
 ③ 석유의 지역 내 소비 비율은 전남이 다른 세 지역보다 높다.  
 ④ (가)와 (나)에는 대규모 제철소가 입지해 있다.  
 ⑤ (나)와 (다)는 행정 구역 경계가 접해 있다.

14. 그래프는 네 지역의 산업별 취업자 수 비율을 나타낸 것이다. (가)~(라) 지역에 대한 설명으로 옳은 것은? (단, (가)~(라)는 각각 경기, 서울, 제주, 충남 중 하나임.)



- ① (가)는 제주, (나)는 경기이다.  
 ② (가)는 (나)보다 지역 내 3차 산업 취업자 수 비율이 낮다.  
 ③ (나)는 (다)보다 제조업 출하액이 많다.  
 ④ (다)는 (라)보다 전문, 과학 및 기술 서비스업체 수가 많다.  
 ⑤ (가)~(라) 중 1인당 지역 내 총생산은 (나)가 가장 많다.

15. 그래프는 지도에 표시된 네 지역의 (가), (나) 시기 평균 기온 차이를 나타낸 것이다. A~D 지역에 대한 설명으로 옳은 것은? (단, (가), (나)는 각각 1월, 8월 중 하나임.) [3점]



- ① A는 D보다 기온의 연교차가 작다.  
 ② B는 C보다 1월 평균 기온이 높다.  
 ③ C는 B보다 연 강수량이 많다.  
 ④ D는 A보다 해발 고도가 높다.  
 ⑤ B는 관북 지방, C는 관서 지방에 위치한다.



# 4 (한국지리)

# 사회탐구 영역

16. 다음 글의 ㉠~㉢에 대한 설명으로 옳은 것만을 <보기>에서 고른 것은?

세계 자연 유산인 거문 오름 용암 동굴계는 ㉠ 만장굴, 김녕굴, 당처물 동굴 등 크고 작은 동굴들로 이루어져 있다. 이 중 당처물 동굴은 ㉡ 용암 동굴이지만 내부에는 ㉢ 석회 동굴에서 나타나는 지형이 발달하고 있다. 이 동굴에는 조개껍질이 부서져 만들어진 모래가 바람에 날려 동굴 위에 쌓인 후, 빗물에 ㉡ 용식되어 용암 동굴 내부로 흘러들어 형성된 중유석, 석순 등이 나타난다.

<보 기>  
 가. ㉠ 주변에는 붉은색의 석회암 풍화토가 나타난다.  
 나. ㉡은 흐르는 용암 표면과 내부의 냉각 속도 차이로 형성된다.  
 다. ㉢이 가장 많이 분포하는 지역은 제주도이다.  
 리. ㉢은 화학적 풍화에 해당한다.

- ① 가, 나    ② 가, 다    ③ 나, 다    ④ 나, 리    ⑤ 다, 리

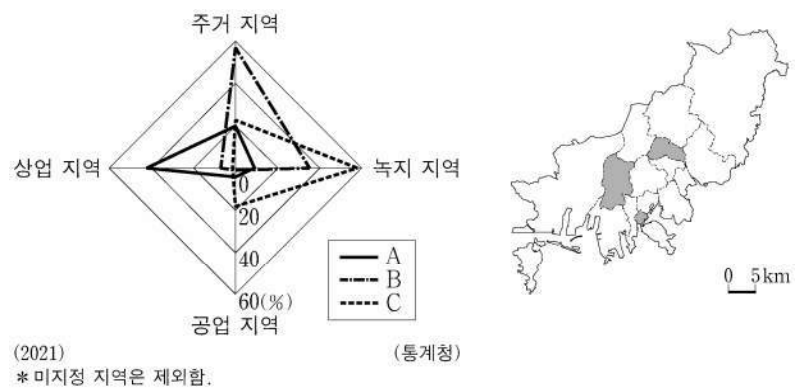
17. 다음은 우리나라 인구에 대한 신문 기사의 일부이다. ㉠~㉢에 대한 설명으로 옳은 것만을 <보기>에서 고른 것은? [3점]

□□ 신문    2020년 ○○월 ○○일  
**“거주 외국인 200만 명 돌파”**  
 최근 내국인의 인구 감소가 예견되는 상황에서 국내에 거주하는 외국인은 200만 명을 돌파했다. 외국인을 유형별로 살펴보면 ㉠ 외국인 근로자와 외국 국적 동포가 전체 외국인 주민의 약 47%를 차지하며, 이어 ㉡ 결혼 이민자, 유학생 등의 순이다. 외국인은 경기도 ㉢ 안산시, 수원시 등에 많이 거주하고, …(중략)… 결혼 이민자의 비율이 높은 일부 지역은 ㉣ 합계 출산율이 높아 인구 문제에 시사점을 준다.

<보 기>  
 가. ㉠은 경남이 전남보다 많다.  
 나. ㉡은 우리나라 전체에서 시 지역보다 군 지역에 많이 거주한다.  
 다. ㉢에는 외국인 근로자가 결혼 이민자보다 많다.  
 리. 2020년 기준 우리나라의 ㉣은 현재 인구를 유지할 수 있는 기준인 2.1명보다 높다.

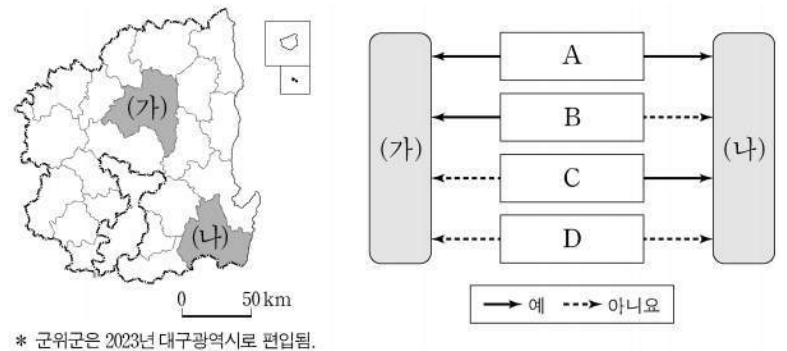
- ① 가, 나    ② 가, 다    ③ 나, 다    ④ 나, 리    ⑤ 다, 리

18. 그래프는 지도에 표시된 부산광역시 세 구(區)의 용도별 토지 이용 비율을 나타낸 것이다. A~C 지역에 대한 설명으로 옳은 것은? [3점]



- ① B는 바다와 인접하고 있다.  
 ② A는 B보다 주간 인구 지수가 높다.  
 ③ A는 C보다 상주인구가 많다.  
 ④ B는 C보다 제조업 사업체 수가 많다.  
 ⑤ C는 A보다 전체 사업체 수 중 금융 및 보험업의 비율이 높다.

19. 지도에 표시된 (가), (나) 지역의 특징을 그림과 같이 표현할 때, A~D의 내용으로 옳은 것만을 <보기>에서 고른 것은?



<보 기>  
 가. A - 세계 문화유산으로 등재된 역사 마을이 있나요?  
 나. B - 원자력 발전소가 위치하고 있나요?  
 다. C - ‘경상도’ 지명의 유래가 된 도시인가요?  
 리. D - 도청 소재지에 해당하나요?

- ① 가, 나    ② 가, 다    ③ 나, 다    ④ 나, 리    ⑤ 다, 리

20. 다음 자료는 수행 평가 내용에 대한 학생 답변과 교사의 채점 결과이다. 이에 대한 설명으로 옳은 것만을 <보기>에서 고른 것은?

◎ 우리나라 영역과 배타적 경제 수역에 대한 내용이 맞으면 ‘예’, 틀리면 ‘아니요’로 답하십시오. (단, 모든 행위는 국가 간 사전 허가가 없었음.)

내용	답변	
	갑	을
영공은 A와 B의 수직 상공이다.	예	예
우리나라 B는 모든 수역에서 기선으로부터 12해리까지이다.	아니요	예
(가)	㉠	아니요
(나)	㉡	예
점수	4점	2점

\*교사는 각 답변이 옳으면 1점, 틀리면 0점을 줌.

<보 기>  
 가. (가)가 ‘이어도는 우리나라의 A에 포함된다.’이면, ㉡은 ‘예’이다.  
 나. (나)가 ‘C에서는 타국의 인공 섬 설치에 보장된다.’이면, ㉠은 ‘아니요’이다.  
 다. ㉠이 ‘예’이면, (나)에는 ‘제주도는 직선 기선을 설정하기 위한 기점 중 하나이다.’가 들어갈 수 있다.  
 리. ㉡이 ‘아니요’이면, (가)에는 ‘우리나라 A의 최남단은 해남 땅끝 마을이다.’가 들어갈 수 있다.

- ① 가, 나    ② 가, 다    ③ 나, 다    ④ 나, 리    ⑤ 다, 리

\* 확인 사항  
 ○ 답안지의 해당란에 필요한 내용을 정확히 기입(표기)했는지 확인하십시오.




제 4 교시

사회탐구 영역(세계지리)

성명  수험번호 ---- 제 [ ] 선택

1. (가), (나) 지도에 대한 설명으로 옳은 것만을 <보기>에서 고른 것은? (단, (가), (나)는 각각 대명혼일도, 지구전후도 중 하나임.) [3점]



<보 기>  
 ㄱ. (가)에는 중국 중심의 세계관이 표현되어 있다.  
 ㄴ. (나)는 우리나라에서 제작되었다.  
 ㄷ. (가)는 (나)보다 제작 시기가 늦다.  
 ㄹ. (가)와 (나)에는 모두 아프리카 대륙이 표현되어 있다.

- ① ㄱ, ㄴ    ② ㄱ, ㄷ    ③ ㄴ, ㄷ    ④ ㄴ, ㄹ    ⑤ ㄷ, ㄹ

2. 다음 글의 ㉠~㉣에 대한 설명으로 옳은 것만을 <보기>에서 있는 대로 고른 것은?

아프리카에서는 상품 작물을 재배하는 ㉠ 플랜테이션이 운영되고 있다. 대표적인 상품 작물로는 코트디부아르와 가나의 ㉡ 카카오, 케냐의 ㉢ 차(茶), 에티오피아의 커피 등이 있다.

<보 기>  
 ㄱ. ㉠은 주로 대규모 자본과 값싼 노동력으로 운영된다.  
 ㄴ. ㉡의 주요 수출국은 북부 아프리카에 위치한다.  
 ㄷ. ㉢의 최대 생산 대륙은 아시아이다.

- ① ㄱ                      ② ㄴ                      ③ ㄱ, ㄷ  
 ④ ㄴ, ㄷ                ⑤ ㄱ, ㄴ, ㄷ

3. (가), (나) 도시에 대한 설명으로 옳은 것은?

구분	(가)	(나)
경·위도	73°56'W, 40°44'N	151°13'E, 33°52'S
도시 상징물	 ○○○ 여신상은 오른손으로 햇불을 치켜들고 왼손에는 자유의 선언을 상징하는 책을 들고 있다.	 ◇◇◇ 하우스는 바람에 부푼 여러 돛을 연상시키는 건축물로 극장과 음악당을 갖추고 있다.

- ① (가)에서 가장 많이 사용되는 언어는 독일어이다.  
 ② (나)에는 국제 연합(UN)의 본부가 있다.  
 ③ (가)는 (나)보다 세계 도시 체계에서 계층이 높다.  
 ④ (나)는 (가)보다 2024년이 늦게 시작된다.  
 ⑤ (가)와 (나)는 모두 해당 국가의 수도이다.

4. 다음 자료를 고려하여 가족 보건 센터 건립을 지원하고자 한다. 조건에 적합한 국가만을 지도의 A~E에서 고른 것은?

<조건> 항목별 배점 기준은 다음과 같으며, 합계 점수가 높은 상위 2개 국가만을 선정함.

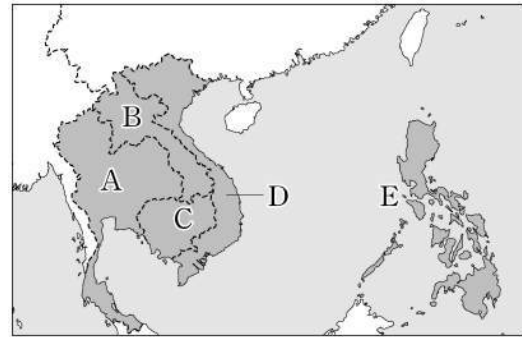
<배점 기준>

구분	1인당 국내 총생산(달러)	합계 출산율(명)	영아 사망률(‰)
1점	2,000 이상	1.5 미만	20 미만
2점	1,500~2,000 미만	1.5~2.1 미만	20~30 미만
3점	1,500 미만	2.1 이상	30 이상

<국가 정보>

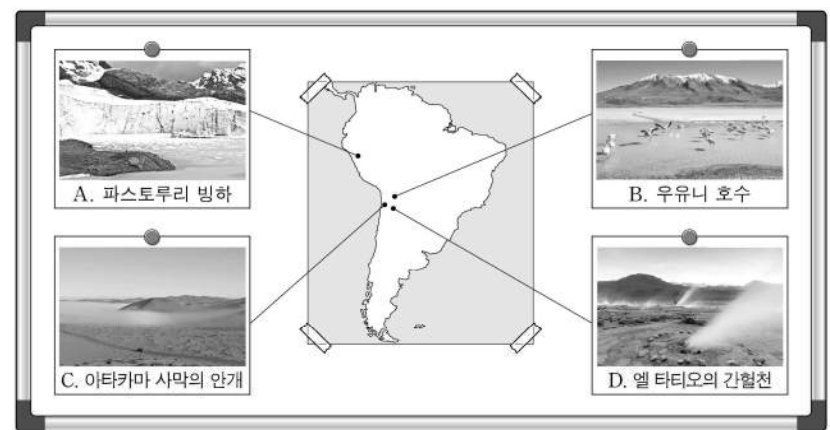
구분	1인당 국내 총생산(달러)	합계 출산율(명)	영아 사망률(‰)
라오스	2,496	2.5	34.4
베트남	3,753	1.9	16.3
캄보디아	1,680	2.3	20.8
타이	7,227	1.3	7.1
필리핀	3,576	2.8	21.5

(2021)



- ① A, B    ② A, E    ③ B, C    ④ C, D    ⑤ D, E

5. 다음 자료는 남부 아메리카 여행 중 촬영한 사진들이다. A~D에 대한 설명으로 옳은 것만을 <보기>에서 고른 것은?



<보 기>

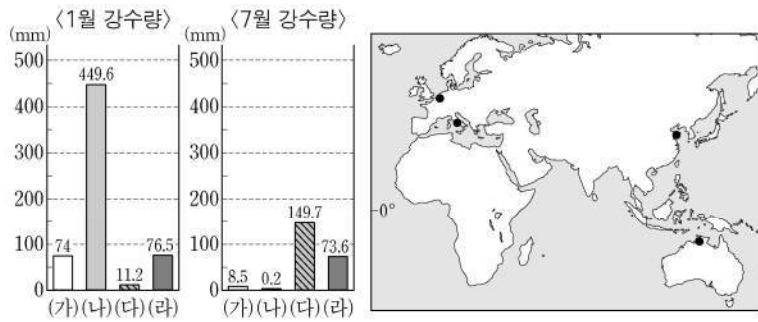
- ㄱ. A의 분포 고도 하한선은 현재보다 빙기에 더 높았다.  
 ㄴ. B는 지하수의 지표 유출로 인해 형성된 오아시스이다.  
 ㄷ. C는 한류의 영향으로 자주 발생한다.  
 ㄹ. D는 신기 습곡 산지의 화산대에 위치한다.

- ① ㄱ, ㄴ    ② ㄱ, ㄷ    ③ ㄴ, ㄷ    ④ ㄴ, ㄹ    ⑤ ㄷ, ㄹ

## 2 (세계지리)

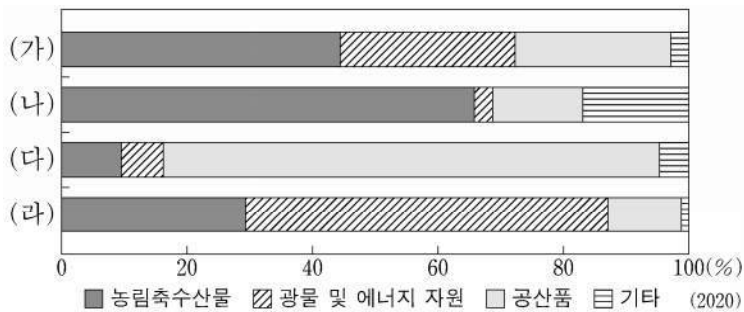
## 사회탐구 영역

6. 그래프는 지도에 표시된 네 지역의 1월과 7월 강수량을 나타낸 것이다. (가)~(라) 지역에 대한 설명으로 옳은 것은? [3점]



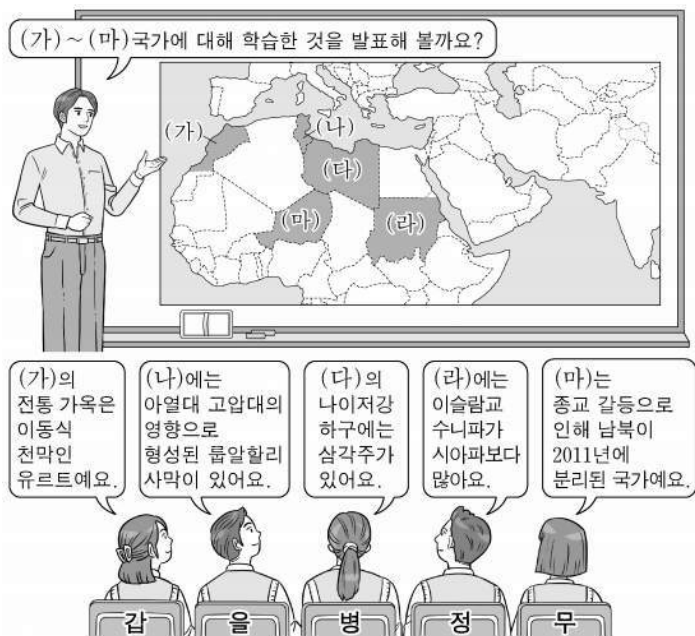
- ① (가)는 (다)보다 동계 강수 집중률이 낮다.
- ② (가)는 (라)보다 북회귀선에서 멀다.
- ③ (나)는 (다)보다 연평균 기온이 낮다.
- ④ (다)는 (라)보다 최한월 평균 기온이 높다.
- ⑤ (라)는 (나)보다 1월의 낮 길이가 짧다.

7. 그래프는 중·남부 아메리카 네 국가의 품목별 수출액 비율을 나타낸 것이다. (가)~(라) 국가에 대한 설명으로 옳지 않은 것은? (단, (가)~(라)는 각각 멕시코, 브라질, 아르헨티나, 칠레 중 하나임.)



- ① (가)는 (라)보다 철광석 생산량이 많다.
- ② (나)는 (라)보다 국토 면적이 넓다.
- ③ (가)는 남·북반구에 걸쳐 있고, (다)는 북반구에 위치한다.
- ④ (나)와 (다)는 모두 중주 도시화 현상이 나타난다.
- ⑤ (가)와 (나)는 모두 (라)와 국경을 접하고 있다.

8. 다음 자료는 세계지리 학습 장면의 일부이다. 교사의 질문에 옳게 답한 학생은? [3점]



- ① 갑
- ② 을
- ③ 병
- ④ 정
- ⑤ 무

9. 다음 자료는 세계의 지역 분쟁과 관련된 기사의 일부이다. A, B 국가에 대한 설명으로 옳은 것만을 <보기>에서 있는 대로 고른 것은?

△△ 신문 2023년 ○○월 ○○일

**A**, 카슈미르서 G20 사전 행사

2023년 주요 20개국(G20) 정상 회의 의장국인 **A**이/가 파키스탄과 영토 분쟁을 겪고 있는 카슈미르 지역에서 G20 사전 행사를 개최하자 중국이 행사 참석을 거부하고 나섰다.

□□ 일보 2023년 ○○월 ○○일

로힝야족 대표단, 처음으로 **B** 방문 예정

**B**의 소수 민족 로힝야족이 탄압을 피해 인접국으로 건너가 머물고 있다. 로힝야족 대표단이 이번 주말 **B**을/를 방문하기로 해 관심을 끌고 있다.

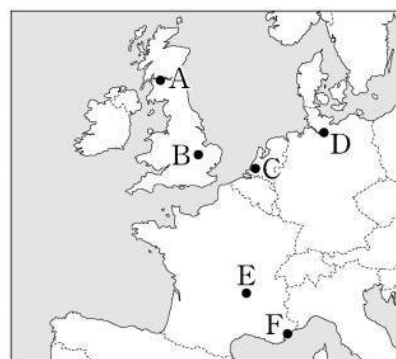
<보 기>

- ㄱ. B는 타이보다 쌀 수출량이 적다.
- ㄴ. B는 동남아시아 국가 연합(ASEAN) 회원국이 아니다.
- ㄷ. A는 B와 국경을 접하고 있다.

- ① ㄱ
- ② ㄷ
- ③ ㄱ, ㄴ
- ④ ㄱ, ㄷ
- ⑤ ㄴ, ㄷ

10. 다음 글의 (가)~(다)에 해당하는 지역을 지도의 A~F에서 고른 것은? [3점]

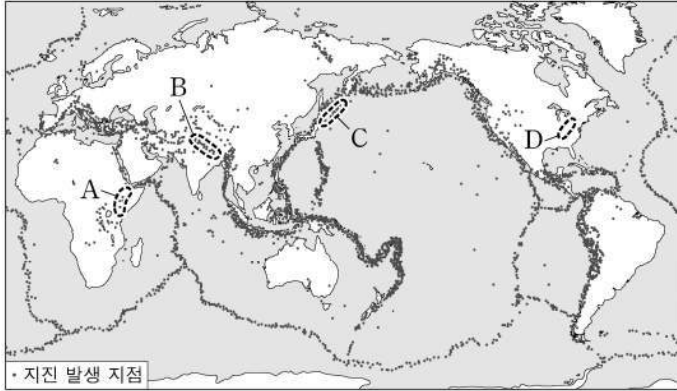
- (가) 은/는 주변 산지의 석탄, 철광석을 바탕으로 조선, 제철업 등이 크게 발달했으나 중공업의 쇠퇴로 위기를 겪은 이후, 에든버러와 함께 실리콘 글렌의 중심지가 되었다.
- (나) 은/는 라인강 하구에 있는 대규모 항구 도시로 원유를 정제한 각종 유류와 석유 화학 제품을 수출하기에 유리한 여건을 갖춘 석유 화학 클러스터를 조성하였다.
- (다) 은/는 칸, 니스 등 세계적 휴양 도시 인근에 있으며, 약 50년 전부터 개발되기 시작해 현재 정보 통신 산업, 생명 과학 산업 등이 집중된 첨단 산업 지역으로 변모하였다.



- |   | (가) | (나) | (다) |
|---|-----|-----|-----|
| ① | A   | C   | F   |
| ② | A   | D   | E   |
| ③ | B   | C   | E   |
| ④ | B   | C   | F   |
| ⑤ | B   | D   | F   |

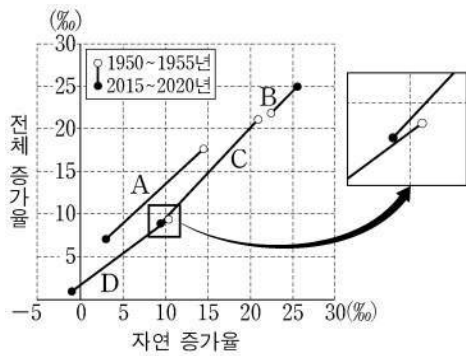


11. 지도는 세계의 지진 발생 지점을 나타낸 것이다. 이에 대한 설명으로 옳지 않은 것은? [3점]



- ① 지진 발생 지점은 판의 경계와 대체로 일치한다.
- ② A에는 대륙 내부에서 판이 갈라지며 형성된 지구대가 있다.
- ③ B에서는 두 판이 충돌하여 마그마의 분출이 빈번하다.
- ④ C에는 해양판과 대륙판이 만나는 수렴 경계가 있다.
- ⑤ D에는 고생대 조산 운동으로 형성된 산지가 분포한다.

12. 그래프는 네 지역(대륙)의 인구 증가율을 나타낸 것이다. 이에 대한 설명으로 옳지 않은 것은? (단, A~D는 각각 아시아, 아프리카, 유럽, 북부 아메리카 중 하나임.) [3점]



- ① A는 2015~2020년 출생자 수가 사망자 수보다 많다.
- ② B의 전체 증가율이 커진 것은 자연적 증감이 주 원인이다.
- ③ D는 2015~2020년에 유출 인구가 유입 인구보다 많다.
- ④ C는 A보다 총인구가 많다.
- ⑤ 2015~2020년 중위 연령은 D>A>C>B 순으로 높다.

13. 다음 자료는 환경 관련 뉴스의 일부이다. ㉠, ㉡과 관련된 국제 환경 협약/협정으로 옳은 것은?

○ 다국적 기업인 A사는 재생 에너지로만 부품을 제조할 것을 납품 업체에 요구하고 있습니다. 이는 영국의 한 NGO 단체가 만든 RE100 클럽에 A사가 가입하면서 나타난 현상인데, ㉠ 온실가스를 감축하려는 국제 사회의 노력에 세계적인 기업들이 동참해 가는 모습입니다. □□ 뉴스 ○○○ 기자

○ B 정부는 지난해 하반기부터 자국으로 수입된 폐기물을 수출국으로 돌려보내고 있습니다. 더 이상 세계의 쓰레기통 역할을 하지 않겠다는 것입니다. B 정부는 ㉡ 폐플라스틱을 비롯한 유해 폐기물의 국가 간 이동을 규제하고 있음에도 불구하고 선진국들이 이를 어기고 있다며 반발하고 있습니다. ◇◇ 뉴스 △△△ 기자

- ㉠                      ㉡
- ① 파리 협정          바젤 협약
- ② 파리 협정          람사르 협약
- ③ 람사르 협약        파리 협정
- ④ 람사르 협약        제네바 협약
- ⑤ 제네바 협약        바젤 협약

14. 다음 글은 세 국가의 1차 에너지 자원에 대한 설명이다. (가)~(라)에 대한 설명으로 옳은 것은? [3점]

○ 아랍 에미리트는 풍부하게 매장된 (가)의 수출을 통해 막대한 자금을 축적하고, 이를 관광 및 금융 산업에 투자하고 있다. (가)은/는 천연가스와 함께 신생대 제3기층 배사 구조에 매장되어 있는 경우가 많다.

○ 중국은 (나)의 세계 최대 생산국으로 전 세계 생산량의 절반 정도를 차지한다. 그러나 최근 경제가 발전하면서 국내 수요를 감당하지 못해 많은 양을 수입하고 있다.

○ ‘얼음과 불의 땅’으로 불리는 아이슬란드는 신·재생 에너지 생산에 천혜의 자연환경을 갖추고 있다. 섬의 곳곳에 나타나는 화산 활동은 (다) 발전에, 빙하와 용빙수는 (라) 발전에 유리한 환경을 제공한다.

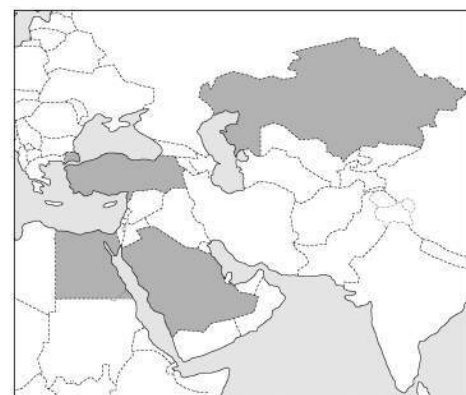
- ① (가)는 냉동 액화 기술의 발달로 소비량이 급증하였다.
- ② (나)는 전체 사용량 중 산업용보다 수송용으로 사용되는 비중이 높다.
- ③ (다) 발전은 스위스의 신·재생 에너지 발전량 중 가장 높은 비율을 차지한다.
- ④ (라) 발전은 노르웨이의 전체 발전량 중 가장 높은 비율을 차지한다.
- ⑤ 전 세계에서 (다) 발전량은 뉴질랜드, (라) 발전량은 러시아가 가장 많다.

15. 표는 지도에 표시된 네 국가의 지리 정보를 나타낸 것이다. (가)~(라) 국가에 대한 설명으로 옳지 않은 것은?

구분	인구 밀도(명/km <sup>2</sup> )	1차 산업 비율(%)	국내 총생산(억 달러)
(가)	109.3	7.5	7,201
(나)	7.0	5.8	1,711
(다)	108.0	12.1	3,693
(라)	16.7	2.6	7,001

\* 1차 산업 비율은 국내 총생산 기준임.

(2020)



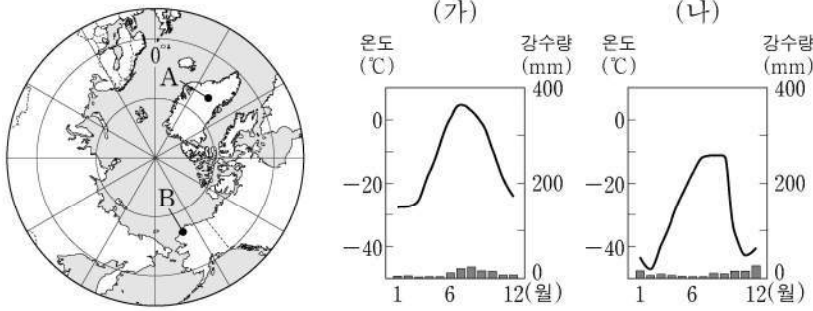
- ① (가)에는 자연 경관을 활용한 관광지인 파묵칼레가 있다.
- ② (나)는 광물 및 에너지 자원의 수입이 수출보다 많다.
- ③ (다)는 남부 지역이 북부 지역보다 인구가 희박하다.
- ④ (라)는 석유 수출국 기구(OPEC)의 회원국이다.
- ⑤ (다)는 (라)보다 총인구가 많다.



# 4 (세계지리)

# 사회탐구 영역

16. 그래프는 지도에 표시된 A, B 지역의 기후 특성을 나타낸 것이다. 이에 대한 설명으로 옳은 것만을 <보기>에서 고른 것은? (단, 기후는 쾨펜의 2차 구분을 기준으로 함.)



<보 기>  
 가. A의 기후 그래프는 (가)이다.  
 나. A의 기후에서는 여름에 작은 풀과 이끼류 등이 자란다.  
 다. B의 기후에서는 A의 기후보다 활동층의 발달이 뚜렷하다.  
 리. B가 속하는 기후의 분포 면적은 남반구보다 북반구에서 더 넓다.

- ① 가, 나    ② 가, 다    ③ 나, 다    ④ 나, 리    ⑤ 다, 리

17. 다음은 세계지리 온라인 수업 장면이다. 교사의 질문에 옳게 답한 학생만을 고른 것은? [3점]

교사: A-D 도시의 특성에 맞는 조사 주제로 적절한 것을 발표해 볼까요?

갑: A의 항공 산업 발전 과정을 조사하겠습니다.	나: B에 있는 실리콘 밸리의 첨단 산업에 대해 조사하겠습니다.	다: C가 속한 메갈로폴리스의 범위와 교통망을 조사하겠습니다.	정: D에 있는 남부 최대의 석유 화학 단지를 조사하겠습니다.
-----------------------------	-------------------------------------	------------------------------------	------------------------------------

- ① 갑, 을    ② 갑, 병    ③ 을, 병  
 ④ 을, 정    ⑤ 병, 정

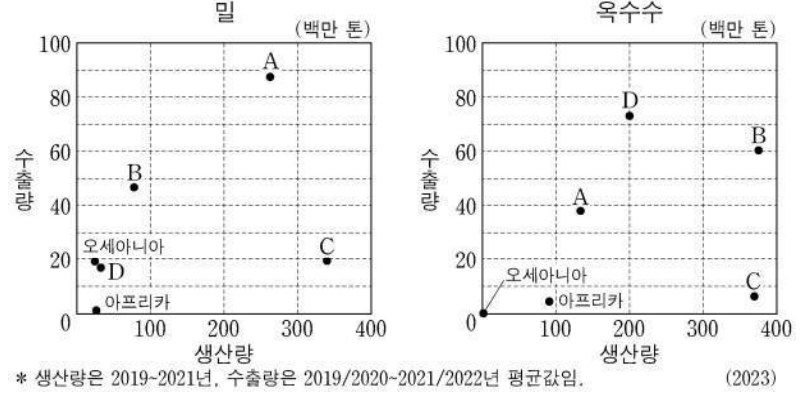
18. 다음은 필리핀 ○○ 국립 공원의 안내 자료이다. ㉠~㉤에 대한 설명으로 옳은 것만을 <보기>에서 고른 것은? [3점]

○○ 국립 공원은 넓은 석회암 지대의 지하를 흐르는 강이 바다로 이어지면서 극적인 카르스트 경관을 보여 줍니다. 전체 동굴 중 ㉠지하강의 길이는 8.2km에 달하고, 그중 바다로부터 수 km 구간은 배를 타고 ㉡석순, ㉢종유석 등 다양한 동굴 경관을 관찰할 수 있습니다. 또한 공원 지역은 ㉣석회암 풍화토, 담수 늪, 열대림, 맹그로브 등이 나타나 동·식물의 서식지로서 중요한 역할을 합니다.

<보 기>  
 가. ㉠은 용식 작용에 의해 형성된 지하 공간에 물이 차서 흐르는 것이다.  
 나. ㉡은 천장에 늘어선 고드름 모양의 지형이다.  
 다. ㉢은 물에 용해된 탄산 칼슘이 조금씩 침전하며 형성된다.  
 리. ㉣은 주로 검은색을 띠고 있다.

- ① 가, 나    ② 가, 다    ③ 나, 다    ④ 나, 리    ⑤ 다, 리

19. 그래프는 밀, 옥수수의 지역(대륙)별 생산량 및 수출량을 나타낸 것이다. 이에 대한 설명으로 옳지 않은 것은? (단, A~D는 각각 아시아, 유럽, 북부 아메리카, 중·남부 아메리카 중 하나임.)



- \* 생산량은 2019-2021년, 수출량은 2019/2020-2021/2022년 평균값임. (2023)  
 ① 밀의 기원지는 C에 위치한다.  
 ② 옥수수 생산량은 아시아가 중·남부 아메리카보다 많다.  
 ③ 밀과 옥수수 각각의 수출량은 모두 유럽이 아시아보다 많다.  
 ④ 유럽의 밀의 생산량 대비 수출량 비율은 북부 아메리카의 밀의 생산량 대비 수출량 비율보다 높다.  
 ⑤ 중·남부 아메리카는 밀의 생산량 대비 수출량 비율이 옥수수의 생산량 대비 수출량 비율보다 높다.

20. 다음 자료의 (가)~(다)에 해당하는 종교로 옳은 것은? [3점]

스리랑카의 국장으로 (가)의 창시자인 석가모니의 가르침을 국장	파키스탄의 국장으로 (나)를 상징하는 녹색의 초승달과 별을 국장의	포르투갈의 국장으로 (다)를 상징하는 십자형 배열의 방패를 중앙에 표현함. 국장의
윗부분에 수레바퀴 모양으로 표현함. 아래의 그릇에는 버 이삭이 들어 있음.	윗부분에 표현함. 방패 모양은 목화, 차, 보리 등을 표현하고 있음.	테두리는 월계수 나무의 가지임.

\* 국장: 한 나라를 상징하는 공식적인 부호나 휘장을 통틀어 이르는 말.

- |         |       |       |
|---------|-------|-------|
| (가)     | (나)   | (다)   |
| ① 불교    | 이슬람교  | 크리스트교 |
| ② 불교    | 크리스트교 | 힌두교   |
| ③ 이슬람교  | 불교    | 힌두교   |
| ④ 이슬람교  | 힌두교   | 크리스트교 |
| ⑤ 크리스트교 | 불교    | 이슬람교  |

\* 확인 사항  
 ○ 답안지의 해당란에 필요한 내용을 정확히 기입(표기)했는지 확인 하시오.

제 4 교시

사회탐구 영역(윤리와 사상)

성명  수험 번호 ---- 제 ( ) 선택

윤리와 사상

1. 다음 가상 대화의 스승이 강조하는 삶의 태도로 가장 적절한 것은?

- ① 자연을 법칙 삼아 도(道)를 따르는 소박한 삶을 살아야 한다.
- ② 충(忠)과 서(恕)를 실천함으로써 인(仁)을 완성해 나가야 한다.
- ③ 사사로운 욕망을 이기고 예(禮)를 회복하는 삶을 살아야 한다.
- ④ 만물이 상호 의존한다는 사실을 깨쳐 자비(慈悲)를 실천해야 한다.
- ⑤ 의로운 일을 꾸준히 쌓아[集義] 도덕적 삶을 실현해 나가야 한다.

2. 사회사상가 갑, 을의 입장으로 옳은 것은? [3점]

갑: 자연 상태에서 인간은 만인에 대한 만인의 전쟁 상태에 있기 때문에 오직 자기 이성의 지배만 받을 뿐이며, 적으로부터 자기의 생명을 지키는 데 도움이 되지 않는 일은 하지 않을 것이다.

을: 사람들이 비교적 평화로운 자연 상태를 떠나 사회에 들어가는 것은 그들의 재산을 평온하고 안전하게 향유하기 위함이며, 법률은 이를 달성하기 위한 주요한 도구와 수단으로 사회에서 확립된 것이다.

- ① 갑: 자기 보존을 위해 권리를 양도함은 정의 발생의 원천이다.
- ② 갑: 주권자는 시민들과 맺은 사회 계약을 준수할 의무가 있다.
- ③ 을: 시민은 자연법 준수의 의무로부터 벗어난 자유를 누린다.
- ④ 을: 입법부는 신탁(信託)된 권력이 아니므로 교체가 가능하다.
- ⑤ 갑과 을: 개인의 모든 권리는 사회 계약의 성립과 동시에 부여된다.

3. 근대 한국 사상가 갑, 을이 모두 긍정의 대답을 할 질문으로 가장 적절한 것은?

갑: 서양의 도적을 물리치기 위해서는 선비들을 모아 정학(正學)을 연구하여 밝히며, 간사한 소인을 제거하고 도적과 통하는 자를 막아 탐욕을 용납하지 않아야 한다.

을: 서양의 학(學)은 한울님을 위한 학문이 아니다. 우리 동방의 학은 내 안의 한울님을 모시는 것이니, 항상 마음을 지키고[守心] 기운을 바르게 해야 한다.

- ① 모든 규범을 버리고 오로지 마음속 한울님을 모셔야 하는가?
- ② 사회가 변하더라도 효제(孝悌)의 정신은 지켜 나가야 하는가?
- ③ 서양의 종교를 배격하고 신분 귀천의 위계를 유지해야 하는가?
- ④ 남녀의 차별이 사라진 평등한 사회를 실현[開闢]해야 하는가?
- ⑤ 유교적 가치를 바탕으로 서양의 과학 기술을 수용해야 하는가?

4. 다음을 주장한 근대 서양 사상가의 입장으로 옳은 것은? [3점]

신은 정신적인 것으로서 그리고 물리적인 것으로서 파악될 수 있다. 자연 안의 모든 것들은 신적 본성의 필연성에 의해 존재하도록 결정되어 있고, 또한 특정한 방식으로 작용을 산출하도록 결정되어 있다.

- ① 인간은 자연의 인과 법칙의 지배에서 벗어날 수 있다.
- ② 자연 안에서 오직 인간만이 자기 보존을 위해 노력한다.
- ③ 인간은 신 없이는 존재할 수도 스스로를 파악할 수도 없다.
- ④ 인간은 자신이 처한 감정의 지배 상태에서부터 해방될 수 없다.
- ⑤ 신에 대한 직관적 인식은 인간에게 정신적 만족을 줄 수 없다.

5. 그림의 강연자가 지지할 주장으로 가장 적절한 것은?

여러분이 우리의 방법을 따른다면, 우주의 수수께끼에 대한 형이상학적 해명을 마무리 짓는 그 어떤 명칭도 찾아볼 수 없을 것입니다. 이를테면, '신', '이성', '에너지' 등과 같은 것들입니다. 여러분은 각각의 명칭으로부터 실제적인 '현금 가치'를 끄집어내야 합니다. 그리고 그 명칭이 여러분 경험의 흐름 안에서 작동하도록 안착시켜야 합니다. 결국 이론은 도구일 뿐 수수께끼에 대한 최종적 답변은 되지 않습니다.

- ① 이론들은 문제 해결과 무관하게 진리로 인식되어야 한다.
- ② 신학 교리는 형이상학적 해명 없이도 현금 가치를 지닐 수 있다.
- ③ 자연 과학적 개념은 활용될 때보다 이해될 때 더 가치가 있다.
- ④ 관념들은 경험적 증명을 통과하지 않아도 가치를 지닐 수 있다.
- ⑤ 도덕적 지식은 도구적 가치를 산출하지 못해도 유용성을 지닌다.



## 2 (윤리와 사상)

## 사회탐구 영역

6. (가)를 주장한 한국 유교 사상가의 입장에서 볼 때, (나)의 퍼즐 속 세로 낱말 (A)에 대한 설명으로 가장 적절한 것은?

(가)	<p>사람은 선을 좋아하고 악을 부끄럽게 여기는 성(性)을 하늘로부터 부여받았다. 그러므로 옳지 못한 재물을 받지 않으면 마음이 떳떳하여 즐겁고, 잘못된 줄 알고도 그것을 받으면 부끄러움을 느끼게 된다.</p>																								
(나)	<table border="1" style="margin: 0 auto;"> <tr><td></td><td></td><td></td><td></td><td></td><td></td></tr> <tr><td></td><td></td><td>(A)</td><td></td><td></td><td></td></tr> <tr><td></td><td>(B)</td><td></td><td></td><td></td><td></td></tr> <tr><td></td><td></td><td></td><td></td><td></td><td></td></tr> </table> <p>[가로 열쇠] (A): 불교에서 말하는 네 가지 성스러운 진리 (B): 도가 사상의 근간이 되는 경전으로 『노자』라고도 불리는 책</p> <p>[세로 열쇠] (A): ……개념</p>									(A)					(B)										
		(A)																							
	(B)																								

- ① 인간의 도덕적 본성과 감정을 통괄하는 것이다.
- ② 인간과 동물이 모두 지니고 있는 생리적 욕구이다.
- ③ 사단(四端)을 자주적으로 실천하여 형성되는 것이다.
- ④ 인의예지를 확충함으로써 생겨나는 순선한 마음이다.
- ⑤ 하늘로부터 부여받은 천리(天理)로서의 도덕적 본성이다.

7. (가)의 고대 동양 사상가 갑, 을의 입장을 (나) 그림으로 탐구하고자 할 때, A~C에 들어갈 적절한 질문만을 <보기>에서 고른 것은? [3점]

(가)	<p>갑: 군자는 소인과 달리 그 본래 선한 마음을 잃지 않아 생명이 죽어가는 모습을 차마 보지 못한다. 그래서 짐승들이 고통받거나 죽어가는 곳을 멀리한다.</p> <p>을: 군자는 본래 소인과 마찬가지로 영예와 이익을 좋아하고 치욕과 손해를 싫어하는 이기적 본성을 갖는다. 하지만 이 본성에 따르지 않고 도리[道]를 추구한다.</p>
(나)	<div style="display: flex; justify-content: space-between;"> <div style="border: 1px solid black; padding: 5px;"> <p>사상가 갑, 을의 입장을 탐구한다.</p> <pre>         graph TD             Start[사상가 갑, 을의 입장을 탐구한다.] --&gt; A{A}             A -- "아니요" --&gt; C{C}             A -- "예" --&gt; B{B}             B -- "예" --&gt; G[갑의 입장]             C -- "예" --&gt; E[을의 입장]             </pre> </div> <div style="border: 1px solid black; padding: 5px;"> <p>&lt;범례&gt;</p> <ul style="list-style-type: none"> <li>□ : 출발 조건</li> <li>◇ : 판단 내용</li> <li>→ : 판단 방향</li> <li>○ : 사상가의 입장</li> </ul> </div> </div>

- <보 기>
- ㄱ. A: 타고난 본성에 따른 행동일지라도 악할 수 있는가?
  - ㄴ. B: 백성도 차마 어찌하지 못하는 마음을 지니고 있는가?
  - ㄷ. C: 사회적 재화의 공정한 분배는 예(禮)로써 가능한가?
  - ㄹ. C: 누구나 하늘이 부여한 예를 배우면 교화될 수 있는가?

- ① ㄱ, ㄴ    ② ㄱ, ㄷ    ③ ㄴ, ㄷ    ④ ㄴ, ㄹ    ⑤ ㄷ, ㄹ

8. 고대 동양 사상가 갑, 현대 사회사상가 을의 입장으로 옳은 것만을 <보기>에서 있는 대로 고른 것은? [3점]

<p>갑: 다투지 않는[不爭] 덕은 하늘의 도[天道]에 부합한다. 훌륭한 무사는 무력을 앞세우지 않고, 적을 잘 이기는 사람은 맞서 싸우지 않는다. 이처럼 성인(聖人)의 도는 일은 하되 다투지 않는 것이다.</p> <p>을: 평화는 폭력을 줄이고 예방하는 것과 관련이 있다. 진정한 평화의 실현을 위해서는 직접적 폭력이 제거된 소극적 평화를 넘어 구조적·문화적 폭력까지 제거된 적극적 평화가 중요하다.</p>
--

- <보 기>
- ㄱ. 갑: 전쟁은 무위(無爲)와 무욕(無欲)을 거스르는 행위이다.
  - ㄴ. 을: 문화적 폭력은 직접적 폭력이 지닌 부당성을 은폐한다.
  - ㄷ. 갑과 을: 진정한 평화는 무력이 없는 상태만으로도 달성된다.

- ① ㄱ    ② ㄷ    ③ ㄱ, ㄴ    ④ ㄴ, ㄷ    ⑤ ㄱ, ㄴ, ㄷ

9. 고대 서양 사상가 갑, 을의 입장으로 옳은 것은?

<p>갑: 돈과 명성만을 돌보면서 자기 자신의 영혼을 돌보고 있다고 주장하는 아테네인이 있다면 나는 죽을 때까지 묻고 검토하고 논박할 것이다. 덕을 가지고 있지 않으면서도 그런 주장을 한다면, 그는 가장 중요한 것을 가장 하찮게 여기는 것이다.</p> <p>을: 쾌락은 행복의 시작이고 끝이다. 쾌락의 시작은 지혜다. 지혜는 지혜롭고 정의롭게 살지 않고서는 즐겁게 사는 것은 불가능하다고, 또 역으로, 즐겁게 살지 않고서는 지혜롭고 정의롭게 사는 것은 불가능하다고 가르친다.</p>
---

- ① 갑: 도덕적 진리의 탐구가 도덕성 함양에 필수는 아니다.
- ② 갑: 하나의 덕은 하나의 정의(定義)만으로 규정될 수 없다.
- ③ 을: 몸의 고통이 있어도 영혼의 고통이 없다면 참된 쾌락이다.
- ④ 을: 모든 쾌락은 그 자체로 좋으므로 선택될 만한 가치를 지닌다.
- ⑤ 갑과 을: 행복해지려면 유덕해야 하고 유덕하면 행복해진다.

10. 고대 서양 사상가 갑, 중세 서양 사상가 을의 입장으로 옳은 것만을 <보기>에서 고른 것은? [3점]

<p>갑: 자연과 일치하는 삶이 곧 목적이다. 이것은 덕에 따르는 삶과 동일하다. 덕에 따르는 삶은, 우주를 주재하고 있는 자의 의지에 정신을 일치시키면서 모든 각각의 일을 행하는 삶이다.</p> <p>을: 목적은 좋음의 성격을 지닌다. 좋음은 이성을 위한 원칙의 근거가 된다. 따라서 자연법의 첫째 계율은 “좋음을 행하고 나쁨을 피하라.”가 된다. 자연법의 여러 계율들의 질서는 여러 자연적 성향들의 질서와 상응한다.</p>
--

- <보 기>
- ㄱ. 갑: 유덕한 자일지라도 사건들의 우연적 진행을 바랄 수 있다.
  - ㄴ. 갑: 유덕한 자는 자신이 아닌 타인의 행복만 바랄 뿐이다.
  - ㄷ. 을: 인간의 선들 중에는 동물이 목적으로 삼는 것도 있다.
  - ㄹ. 갑과 을: 이성적인 것과 자연적인 것은 별개의 것이 아니다.

- ① ㄱ, ㄴ    ② ㄱ, ㄷ    ③ ㄴ, ㄷ    ④ ㄴ, ㄹ    ⑤ ㄷ, ㄹ

11. (가)의 사회사상가 갑, 을, 병의 입장에서 서로에게 제기할 수 있는 비판을 (나) 그림으로 표현할 때, A~F에 해당하는 내용으로 가장 적절한 것은? [3점]

(가)	<p>갑: 유효 수요의 창출을 통해 시장의 실패를 극복할 필요가 있으며, 이를 위한 중앙 통제는 전통적인 정부 기능의 확대를 가져올 것이다.</p> <p>을: 사회주의 계획 경제는 자유가 아닌 노예의 길이다. 그러나 자유 경쟁 시스템은 큰 부를 이루려는 누군가의 시도를 아무도 금지할 수 없는 유일한 시스템이다.</p> <p>병: 자본주의적 사적 소유는 한 계급의 다른 계급들에 대한 착취를 기반으로 하는 생산품의 제조와 획득의 최종적이고 가장 완성된 표현이다.</p>
(나)	

- ① A: 투자의 사회화가 정부 실패의 해법이 아닌 원인임을 간과한다.
- ② B와 E: 실업은 시장의 결합에서 파생되는 문제임을 간과한다.
- ③ C: 계급 간 대립 관계에서는 착취가 발생할 수 없음을 간과한다.
- ④ D: 재화의 이상적 분배는 경쟁의 효율적 작동에 있음을 간과한다.
- ⑤ F: 개인의 자유 실현과 사유 재산제가 양립할 수 없음을 간과한다.

12. 그림은 서술형 평가 문제와 학생 답안이다. 학생 답안의 ㉠~㉥ 중 옳지 않은 것은?

**서술형 평가**

㉠ 문제: 근대 서양 사상가 갑, 을의 입장을 서술하시오.

갑: 동정심으로부터 나온 행위는 칭찬과 격려를 받을 만하지만 존중받을 만한 것은 못 된다. 왜냐하면 동정심으로부터 나온 행위는 의무로부터 행하는 윤리적 내용이 결여되어 있기 때문이다.

을: 공감은 인간 본성의 가장 강력한 원리이고, 아름다움에 대한 우리의 취향에 지대한 영향을 미치며, 덕들에 대한 우리의 도덕적 소감을 산출한다. 그러므로 공감은 도덕적 구별의 주요 원천이다.

㉡ 학생 답안

갑은 동정심에 근거한 행위는 ㉠ 명예에 대한 경향성과 같은 인간의 경향성에서 비롯된 행위에 불과하기 때문에, 비록 ㉡ 의무에 맞는 행위라 할지라도 참된 윤리적 가치가 없다고 보았다. 한편, 을은 공감이 ㉢ 타인의 행복과 불행에 함께 느낄 수 있도록 만들어 주며, 이러한 능력으로 인해 ㉣ 우리는 우리와 교류가 있는 모든 사람에게 유용한 것에 쾌감을 느끼게 된다고 보았다. 그리고 갑과 을은 모두 ㉤ 이성이 그 자체로 도덕적 행위의 원천이 될 수 없다고 보았다.

- ① ㉠      ② ㉡      ③ ㉢      ④ ㉣      ⑤ ㉤

13. 중국 유교 사상가 갑, 을의 입장으로 옳지 않은 것은? [3점]

갑: 꽃을 보지 않았을 때 나의 마음[心]은 꽃과 함께 적막하지만, 꽃을 보면 그 꽃의 색깔이 마음에서 일시에 명백해지니, 꽃이 마음 밖에 있지 않음을 알 수 있다.

을: 마음이 발(發)하지 않았을 때 본성은 오히려 형체와 그림자가 없는 듯하지만, 이미 발하면 밖으로 드러난 감정으로 인해 그 본성이 마음에 있음을 알 수 있다.

- ① 갑: 도덕적 실천과 분리된 도덕적 앎은 참된 앎이 아니다.
- ② 갑: 양지를 발휘하여 인욕을 제거하고 천리를 실현해야 한다.
- ③ 을: 이치는 본성에 내재한 원리이지만 마음에 실재하지는 않는다.
- ④ 을: 경중(輕重)을 따질 경우 도덕적 실천이 앎보다 중요하다.
- ⑤ 갑과 을: 격물(格物) 공부를 통해 도덕적 앎을 완성해야 한다.

14. 현대 사회사상가 갑, 을의 입장으로 옳은 것만을 <보기>에서 고른 것은?

갑: 자유는 한 사람이 다른 사람의 간섭을 받지 않고 행동할 수 있는 영역을 의미하며 ‘~로부터의 자유’로 표현된다. 따라서 나의 활동에 어느 누군가가 개입하여 간섭하지 않는 만큼 나는 자유롭다.

을: 자유는 노예 상태의 반대이다. 주인의 간섭이 없다고 해도 노예가 여전히 주인에게 지배당하고 있는 것처럼 타인의 자의적 의지에 노출되고 타인의 처분에 따라 살아가는 것은 중대한 해악이다.

<보 기>

ㄱ. 갑: 시민의 덕성 함양을 위한 국가의 강제는 간섭에 속한다.  
 ㄴ. 갑: 불간섭의 영역이 축소될수록 자유의 영역은 확대된다.  
 ㄷ. 을: 법이 자의적 의지의 도구가 될 때 시민은 자유롭지 못하다.  
 ㄹ. 갑과 을: 진정한 자유는 자기 자신의 주인이 되는 것이다.

- ① ㄱ, ㄴ      ② ㄱ, ㄷ      ③ ㄴ, ㄷ      ④ ㄴ, ㄹ      ⑤ ㄷ, ㄹ

15. 한국 불교 사상가 갑, 을의 입장으로 옳은 것만을 <보기>에서 있는 대로 고른 것은?

갑: 교(敎)는 밖의 문자에서 깨달음을 구하는 것이고, 선(禪)은 안의 마음을 밝히는 것이다. 교와 선은 서로 떠나지 않으니 참된 수행은 정(定)과 혜(慧)를 두루 갖추는 것이다.

을: 먼저 곧장 깨친다는 것[頓悟]은 마치 해가 썩하고 비추듯이 모든 법(法)을 단번에 밝게 하는 것과 같고, 이후 닦는다는 것은 마치 거울을 닦아서 차츰 빛나게 하는 것과 같다.

<보 기>

ㄱ. 갑: 깨달음을 위해 교와 관(觀)을 함께 닦아야 한다.  
 ㄴ. 을: 모든 현상은 마음 밖의 진리에 의해서 일어난다.  
 ㄷ. 을: 습기(習氣)를 없애기 위해 정과 혜로써 수행해야 한다.  
 ㄹ. 갑과 을: 자신의 깨달음과 함께 중생 구제에 힘써야 한다.

- ① ㄱ, ㄴ      ② ㄱ, ㄷ      ③ ㄴ, ㄹ
- ④ ㄱ, ㄷ, ㄹ      ⑤ ㄴ, ㄷ, ㄹ



# 4 (윤리와 사상)

# 사회탐구 영역

16. 갑, 을은 한국 유교 사상가들이다. 을의 입장에서 갑의 입장에 대해 제기할 수 있는 비판으로 가장 적절한 것은? [3점]

갑: 사단은 이(理)가 발하여 기(氣)가 따르니 본래 순선하여 악이 없다. 칠정은 기가 발한 것인데, 기가 발하여 치우치면 바른 상태를 유지하지 못하여 불선(不善)으로 흐른다.  
 을: 사단은 칠정 중에서 선한 것만을 별도로 지칭할 뿐이다. 칠정은 사단을 이미 포함하고 있으니, 사단은 칠정이 아니라거나 칠정은 사단이 아니라고 말할 수 없다.

- ① 사단과 칠정은 모두 성(性)이 발하여 생기는 감정임을 간과한다.
- ② 이는 무위(無爲)하므로 발할 수도 주재할 수도 없음을 간과한다.
- ③ 칠정은 기가 발할 때 이가 타서[乘] 표출된 감정임을 간과한다.
- ④ 사단은 이가 맑은 기를 타서 드러난 순선한 감정임을 간과한다.
- ⑤ 기가 발하지 않아도 선한 감정이 드러날 수 있음을 간과한다.

17. 다음을 주장한 고대 서양 사상가의 입장으로 옳은 것은? [3점]

행복이 덕에 따르는 영혼의 활동이라면, 행복은 최고의 덕에 따라야 할 것이다. 최고의 덕은 영혼의 부분들 중 최고의 부분, 즉 '지성'이라 불리는 부분이 가지는 덕이다. 이 부분은 영혼의 다른 이성적 부분과 같지 않다. 지성이 상대하는 대상은 신적이고 불멸하는 것이라는 점에서 삶의 대상들 중 최고이다. 지성의 덕을 발휘하는 활동을 '관조'라고 부른다. 따라서 덕에 따르는 영혼의 활동들 중 관조적 활동이 최고의 행복이다.

- ① 품성적 덕에 따르는 행복이 최고의 행복이다.
- ② 행복은 인간의 이성이 목표로 삼는 유일한 선이다.
- ③ 감정을 담당하는 영혼의 부분은 언제나 이성을 따른다.
- ④ 덕을 발휘하지 못해도 덕의 소유 자체가 행복일 수 있다.
- ⑤ 진리를 탐구하는 지혜는 좋음을 사유하는 지혜와 구분된다.

18. 다음을 주장한 고대 동양 사상가의 입장으로 옳은 것만을 <보기>에서 고른 것은?

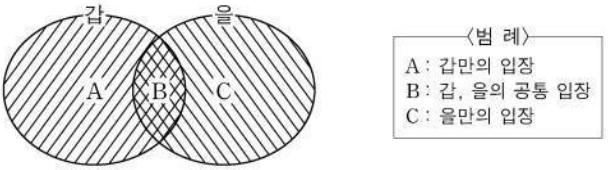
만일 천지 본연의 올바름[正]에 올라타고서 기운의 변화를 다스려 무한한 세계에서 노니는 사람이 된다면 어떤 것에 의지할 필요가 있겠는가? 그러므로 지극한 사람은 자기중심적 사유에서 벗어나고[無己], 신령스러운 사람은 공적을 내세움이 없고[無功], 성인(聖人)은 세속적 명예에 개의치 않고[無名] 살아간다.

<보 기>

ㄱ. 심재(心齋)로써 정신적 자유의 경지에서 노닐어야 한다.  
 ㄴ. 어떠한 얽매임도 없이 자기 자신마저도 잊어야[忘] 한다.  
 ㄷ. 세속을 벗어나 천명(天命)을 도덕성의 원천으로 삼아야 한다.  
 ㄹ. 참된 지혜로써 만물의 우열을 판별하고 명예를 버려야 한다.

- ① ㄱ, ㄴ    ② ㄱ, ㄷ    ③ ㄴ, ㄷ    ④ ㄴ, ㄹ    ⑤ ㄷ, ㄹ

19. (가)의 고대 서양 사상가 갑, 을의 입장을 (나) 그림으로 표현할 때, A~C에 해당하는 적절한 진술만을 <보기>에서 있는 대로 고른 것은?

(가)	갑: 정의는 강자의 이익이다. 지배자들은 자기에게 이익이 되는 것을 법으로 정한 다음, 이 법을 정의로운 것으로서 공표하고서는, 위반한 자는 정의롭지 못한 행위를 한 자로 처벌한다. 을: 국가의 각 계층이 자신의 일만 해야 한다는 원칙은 정의의 흐릿한 윤곽일 뿐 참된 정의는 아니다. 정의는 자기 자신과 관련되며, 자신 안의 이성, 기개, 욕구가 남의 일 하는 것을 허용하지 않는다.
(나)	

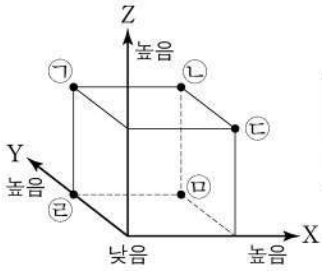
<보 기>

ㄱ. A: 국가의 정의는 누가 지배자가 되느냐에 달려 있다.  
 ㄴ. A: 피지배자의 부당한 행위는 그 자신에게 이로울 수 있다.  
 ㄷ. B: 처벌에 대한 두려움은 정의로운 행위의 동기가 될 수 없다.  
 ㄹ. C: 개인의 정의는 외적 규범보다 영혼의 내적 상태와 관련된다.

- ① ㄱ, ㄷ
- ② ㄴ, ㄹ
- ③ ㄷ, ㄹ
- ④ ㄱ, ㄴ, ㄷ
- ⑤ ㄱ, ㄴ, ㄹ

20. 갑, 을은 근대 서양 사상가들이다. 갑의 입장에 비해 을의 입장이 갖는 상대적 특징을 그림의 ㉠~㉣ 중에서 고른 것은? [3점]

갑: 자연은 인류를 고통과 쾌락이라는 두 군주의 지배하에 두었다. 쾌락과 고통의 양은 강도, 지속성, 확실성, 근접성 등 일곱 가지 기준에 따라 측정할 수 있다.  
 을: 어떤 종류의 쾌락이 다른 종류의 쾌락보다 더 바람직하고 가치 있다는 사실을 인정하는 것은 공리의 원리와 양립할 수 있다. 쾌락을 평가할 때 양뿐만 아니라 질도 고려해야 한다.



- X: 쾌락에 질적 위계가 있음을 강조하는 정도
- Y: 쾌락 추구자의 내적 교양을 강조하는 정도
- Z: 쾌락에 양적 차이만 있음을 강조하는 정도

- ① ㉠
- ② ㉡
- ③ ㉢
- ④ ㉣
- ⑤ ㉣

\* 확인 사항  
 ○ 답안지의 해당란에 필요한 내용을 정확히 기입(표기)했는지 확인 하시오.

제 4 교시

사회탐구 영역(생활과 윤리)

성명  수험 번호 ----- 제 ( ) 선택

1. (가), (나) 윤리학의 핵심 과제로 가장 적절한 것은?

(가) 윤리학은 ‘옳다’, ‘그르다’와 같은 도덕적 용어의 의미를 분석하고 도덕 판단이 정당화될 수 있는 추론의 규칙을 검토하는 데 주력해야 한다.  
 (나) 윤리학은 인공 임신 중절, 소수 집단 우대 정책 등과 같은 우리 삶의 다양한 문제에 윤리 이론을 적용하여 실천적인 지침을 제공하는 데 주력해야 한다.

- ① (가): 도덕 현상을 가치 평가 없이 객관적으로 서술하는 것이다.
- ② (가): 도덕적 행위의 근거가 되는 도덕 원리를 정립하는 것이다.
- ③ (나): 윤리학의 학문적 성립 가능성을 논리적으로 탐구하는 것이다.
- ④ (나): 구체적인 윤리 문제에 대한 해결 방안을 모색하는 것이다.
- ⑤ (가)와 (나): 보편타당한 도덕규범의 체계를 수립하는 것이다.

2. 다음을 주장한 사상가의 입장에서 <문제 상황> 속 A에게 제시할 조언으로 가장 적절한 것은?

도덕성은 행위가 의지의 자율과 맺는 관계이다. 의지의 준칙이 자율성의 법칙과 필연적으로 조화를 이룰 때, 그 의지는 단적으로 선한 의지가 된다.  
 <문제 상황>  
 평소 함께 식사하던 친구가 급식실에 늦게 도착한 A에게 자신의 앞에 서라고 권했다. A는 새치기를 할지 질서를 지켜야 할지 고민하고 있다.

- ① 친구들 사이에서 더 인정받을 수 있는 행위를 선택하세요.
- ② 구체적인 상황을 고려하여 중용에 따른 행위를 선택하세요.
- ③ 친구와 함께하고자 하는 마음이 이끄는 행위를 선택하세요.
- ④ 가능한 행위 중에서 의무로부터 비롯된 행위를 선택하세요.
- ⑤ 더 많은 쾌락을 가져올 것으로 예상되는 행위를 선택하세요.

3. 갑, 을 사상가들의 입장으로 가장 적절한 것은? [3점]

갑: 사람이 이 세상에 태어나는 것은 때[時]를 만났기 때문이고 어찌다가 세상을 떠나는 것은 순리[順]이기 때문이다. 따라서 편안한 마음으로 때를 그대로 받아들이고 순리를 따른다면 슬픔이나 기쁨이 들어올 틈이 없다.  
 을: 삶은 내가 원하는 바이지만 이보다 더 원하는 것[義]이 있기에 구차하게 살고자 하지 않는다. 또한 죽음은 내가 싫어하는 바이지만 이보다 더 싫은 것[不義]이 있기에 환란으로 죽더라도 피하지 않는다.

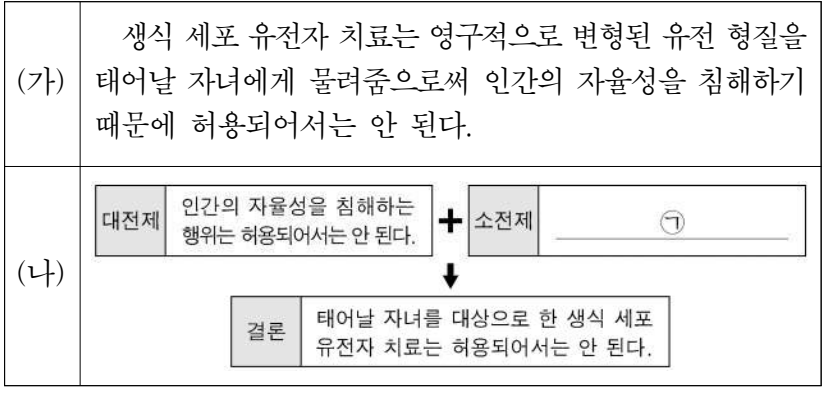
- ① 갑: 죽음을 거부하면서 도덕을 실천하는 삶을 추구해야 한다.
- ② 갑: 삶과 죽음은 낮과 밤처럼 순환하므로 초연하게 대해야 한다.
- ③ 을: 죽음 이후의 새로운 삶을 받지 않도록 열반에 도달해야 한다.
- ④ 을: 삶과 죽음을 서로 차별하지 말고 동등하게 수용해야 한다.
- ⑤ 갑과 을: 삶과 죽음은 슬퍼하거나 기뻐해야 할 대상이 아니다.

4. 다음 토론의 핵심 쟁점으로 가장 적절한 것은?

갑: 얼굴을 식별하여 본인임을 인증하는 안면 인식 기술은 비밀번호나 디지털 인증서보다 본인 확인 절차가 간단하고 편리하기에 활용 범위를 확대할 필요가 있습니다.  
 을: 동의합니다. 하지만 안면 인식 기술에 고도화된 인공 지능을 결합한 안면 인식 인공 지능 기술의 개발에는 반대합니다. 왜냐하면 이 기술은 안면 데이터를 대량으로 학습하고 식별하여 사생활 침해의 위험이 크기 때문입니다.  
 갑: 아닙니다. 안면 인식 인공 지능 기술을 테러와 같은 범죄를 예방하기 위한 경우에만 제한적으로 활용한다면, 사생활 침해를 최소화할 수 있으므로 이 기술의 개발을 허용해야 합니다.  
 을: 그렇지 않습니다. 안면 인식 인공 지능 기술을 활용하는 것은 테러 예방에 도움이 되겠지만, 결국 불특정 다수의 얼굴을 판독한다는 것을 의미하므로 이 기술을 개발해서는 안 됩니다.

- ① 안면 인식 기술을 전면적으로 금지해야 하는가?
- ② 안면 인식 인공 지능 기술은 사생활을 침해할 수 있는가?
- ③ 안면 인식 기술의 활용은 일상생활에 도움을 줄 수 있는가?
- ④ 안면 인식 인공 지능 기술은 테러 예방에 기여할 수 있는가?
- ⑤ 안면 인식 기술과 고도화된 인공 지능의 결합을 허용해야 하는가?

5. (가)의 주장을 (나) 그림으로 나타낼 때, ㉠에 대한 반론의 근거로 가장 적절한 것은? [3점]



- ① 치료 목적으로 유전자에 개입하는 행위는 허용될 수 없다.
- ② 유전자 치료는 태어날 자녀를 수단으로만 취급하는 것이다.
- ③ 고가의 치료비로 유전자 치료 기회의 차별이 발생할 수 있다.
- ④ 태어날 자녀는 자신의 유전 질환을 치료하는 것에 동의할 것이다.
- ⑤ 부모가 결정한 유전자 치료는 태어날 자녀의 자율성을 침해한다.



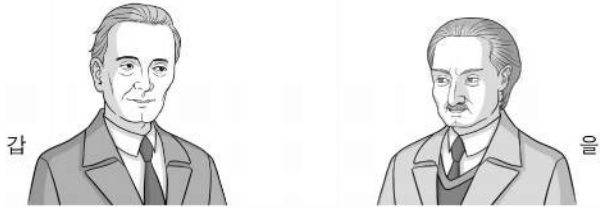
## 2 (생활과 윤리)

## 사회탐구 영역

6. 갑, 을 사상가들의 입장으로 가장 적절한 것은?

기술은 행복과 불행 모두에 기여할 수 있으나 그 자체로는 중립적입니다. 기술은 수단일 뿐이지 그 자체로는 선도 아니고 악도 아닙니다.

기술을 긍정하건 부정하건 우리는 기술에 붙들려 있습니다. 최악의 경우는 기술을 중립적인 것으로 고찰할 때이며, 이 경우 우리는 무방비 상태로 기술에 내맡겨집니다.



- ① 갑: 기술은 인간이 설정한 목적의 실현을 위한 공허한 힘이다.
- ② 갑: 기술의 활용 방안은 인간의 결정으로부터 독립적일 수 있다.
- ③ 을: 기술은 가치 판단으로부터 자유롭기 때문에 통제되어야 한다.
- ④ 을: 기술은 인간이 자연과 관계 맺는 방식을 변화시킬 수 없다.
- ⑤ 갑과 을: 기술은 인간의 개입이 없을 때에도 해악이 될 수 있다.

7. 다음을 주장한 사상가의 입장으로 가장 적절한 것은? [3점]

시민 불복종은 정치 체제의 합법성을 인정하고 받아들이는 시민들에 의해서만 행해진다. 이때, 시민 불복종 행위가 항의의 대상이 되고 있는 바로 그 법을 위반하라는 요구를 하지는 않는다. 그것은 사람들이 직접적인 시민 불복종이라 부르는 것뿐만 아니라 간접적인 시민 불복종이라 부르는 것까지도 고려하고 있다. 때로는 부정의하다고 간주되는 법이나 정책도 어기지 말아야 할 강력한 이유가 있다.

- ① 시민 불복종은 정치 체제의 효율성을 이유로 제한될 수 있다.
- ② 시민 불복종이 성립되지 않는 사회가 정의로운 사회일 수는 없다.
- ③ 안정적인 체제에서는 시민 불복종 행위에 대해 처벌하지 않는다.
- ④ 공적 심의를 거친 정책이 시민 불복종의 대상이 될 수는 없다.
- ⑤ 시민 불복종은 다수결의 원칙에 대한 반대를 표하는 정치 행위이다.

8. (가), (나) 사상의 입장으로 가장 적절한 것은?

(가) 인위적인 것[人]으로 자연적인 것[天]을 없애지 말아야 한다. 사람은 소, 양, 돼지 등의 고기를 먹지만 시슴은 풀을 먹고 지내는 뱀을 먹고 올빼미는 쥐를 좋다고 먹는다. 이 넷 중 어느 쪽도 음식 맛을 바르게 안다고 할 수 없다.

(나) 예(禮)가 아니면 말하지도 보지도 듣지도 행동하지도 말아야 한다. 군자는 음식 빛깔이 나쁜 것, 제대로 요리되지 않은 것, 제철 음식이 아닌 것은 먹지 않는다. 또한 음식을 자른 모양이 반듯하지 않거나 간이 맞지 않아도 먹지 않는다.

- ① (가): 음식에 대한 욕구를 제거하여 자연과 조화를 이루어야 한다.
- ② (가): 적절한 음식을 섭취하여 인간다움과 의로움을 실현해야 한다.
- ③ (나): 음식의 상태를 고려하여 먹는 것은 인격 수양의 일환이다.
- ④ (나): 음식을 섭취하는 목적은 육체적 생명의 보존에 국한된다.
- ⑤ (가)와 (나): 사회적 규범에 따라 음식을 올바르게 먹어야 한다.

9. 갑, 을 사상가들의 입장으로 적절한 것만을 <보기>에서 있는 대로 고른 것은? [3점]

갑: 법은 개개인의 특수 의사의 총체인 일반 의사를 대표한다. 그런데 자신의 생명을 빼앗을 권능을 타인에게 기꺼이 양도하는 자는 없다. 그러므로 사형은 사회 계약에 포함될 수 없다.

을: 사회 계약에 사형이 포함될 수 없다는 이유로 모든 사형의 부적법성을 주장하는 것은 궤변이고 법의 왜곡이다. 형벌은 오직 범죄자가 범죄를 저질렀기 때문에 행해지는 것이며, 형벌의 법칙은 하나의 정언 명령이다.

<보 기>

ㄱ. 갑: 범죄 억제력은 형벌의 강도가 아니라 지속도에서 나온다.  
 ㄴ. 갑: 종신 노역형은 범죄자보다 시민들에게 더 큰 공포를 준다.  
 ㄷ. 을: 형벌 자체는 범죄자의 존엄성을 실현하기 위한 필요악이다.  
 ㄹ. 갑과 을: 사형을 오직 본보기로 집행하는 것은 부당하다.

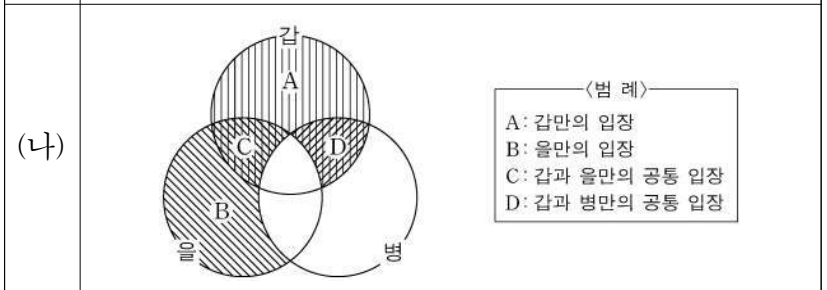
- ① ㄱ, ㄴ
- ② ㄱ, ㄷ
- ③ ㄴ, ㄹ
- ④ ㄱ, ㄷ, ㄹ
- ⑤ ㄴ, ㄷ, ㄹ

10. (가)의 갑, 을, 병 사상가들의 입장을 (나) 그림으로 표현할 때, A~D에 해당하는 적절한 진술만을 <보기>에서 있는 대로 고른 것은? [3점]

(가) 갑: 살아 있는 동물이나 식물은 목적론적 삶의 중심으로서, 인간이 고유한 선을 지닌 것과 동일한 의미로 각자의 고유한 선을 지니고 있다.

을: 대지 윤리는 인류의 역할을 대지 공동체의 정복자에서 그것의 평범한 구성원으로 변화시키며, 공동체 자체에 대한 존중을 필연적으로 수반한다.

병: 동물 학대가 인간 학대로 이어질 수 있다는 이유로, 우리가 동물에게 친절해야 한다는 주장은 전적으로 종 차별주의적 입장을 표명한 것이다.



<보 기>

ㄱ. A: 생명을 지닌 존재가 아니라면 도덕적 지위를 지닐 수 없다.  
 ㄴ. B: 개체에게 생명 공동체와 동등한 가치를 부여할 수는 없다.  
 ㄷ. C: 인간은 본질적으로 식물보다 우월한 존재라고 할 수 없다.  
 ㄹ. D: 자연 자체의 선은 개체의 희생을 정당화하는 근거가 아니다.

- ① ㄱ, ㄴ
- ② ㄱ, ㄷ
- ③ ㄷ, ㄹ
- ④ ㄱ, ㄴ, ㄹ
- ⑤ ㄴ, ㄷ, ㄹ

11. 갑, 을 사상가들의 입장으로 적절한 것만을 <보기>에서 있는 대로 고른 것은? [3점]

갑: 최상의 선은 물과 같다. 물은 만물을 이롭게 하면서도 다투지 않고, 사람들이 싫어하는 낮은 곳에 머문다. 물은 도(道)에 가깝고 무엇과도 다투지 않으므로 허물이 없다.  
 을: 두 단의 갈대 중 하나를 치우면 다른 하나도 넘어지듯, 이것이 없으면 저것이 없고 이것이 일어나면 저것도 일어난다. 이 법(法)은 내가 만든 것도 다른 사람이 만든 것도 아니다.

<보 기>  
 가. 갑: 인의(仁義)의 강조는 사회 혼란의 원인이 될 수 있다.  
 나. 을: 끊임없이 변화하는 세계에서 영원한 실체를 찾아야 한다.  
 다. 을: 집착과 번뇌의 제거를 위한 수행이 반드시 필요하다.  
 라. 갑과 을: 차별하는 마음을 버려야 진리를 깨달을 수 있다.

- ① 가, 나                      ② 가, 다                      ③ 나, 라
- ④ 가, 다, 라                ⑤ 나, 다, 라

12. 다음 가상 편지를 쓴 사상가의 입장으로 가장 적절한 것은?

○○에게  
 지난 편지에서 자네는 요즘 만나는 이성 친구를 진정한 사랑의 대상으로 여겨도 되는지 물었지. 내 생각은 이러하네. 자네는 사랑이 영혼의 힘이자 활동이라는 사실을 잘 모르는 것 같더군. 사랑은 상대의 성장과 행복에 대한 갈망이고 보호, 존경, 책임, 이해를 의미하네. 사랑은 능동적인 활동으로 인간의 고립을 극복하게 하면서도 각자의 특성을 유지할 수 있게 하는 힘이라네. 단지 적절한 사랑의 대상을 찾지만 한다고 해서 사랑이 완성되는 것은 아니라네. 그것은 그림을 그리는 방법을 배우지 않은 채 좋은 대상을 고르는 것만으로 아름다운 그림이 저절로 그려지지 않는 것과 같네. 세상에 노력 없이 얻어지는 것은 없는 법이네. 사랑도 그렇다네. 우선 제대로 사랑하는 방법을 배워야 하네. ... (후략)

- ① 참된 사랑은 사랑의 대상과 하나가 될 때 느끼는 영속적 감정이다.
- ② 참된 사랑의 궁극적 목적은 자신이 사랑할 대상을 찾아내는 일이다.
- ③ 참된 사랑은 자신의 관점에서 이해한 상대의 입장을 따르는 것이다.
- ④ 참된 사랑은 수동적 감정으로서 자신의 의지와 무관하게 다가온다.
- ⑤ 참된 사랑은 삶의 기술처럼 학습과 노력으로 계발되는 기술이다.

13. 다음을 주장한 사상가의 입장으로 적절한 것만을 <보기>에서 있는 대로 고른 것은? [3점]

사람들은 자연법 집행을 둘러싼 분쟁이 발생하는 자연 상태에서 벗어나고자, 그들이 자연 상태에서 가졌던 평등, 자유 및 집행권을 입법부가 처리할 수 있도록 사회의 수중에 양도한다. 이에 대한 명시적 동의는 그들을 공통된 법률의 지배하에 둬으로써 사회의 완전한 구성원으로 만든다.

<보 기>  
 가. 국가에 양도하지 않은 시민의 권리는 보장될 수 없다.  
 나. 입법부를 폐지할 수 있는 최고의 권력은 시민에게 있다.  
 다. 자연 상태에서 분쟁은 공통된 자연법의 부재로 인해 발생한다.

- ① 나                      ② 다                      ③ 가, 나                      ④ 가, 다                      ⑤ 가, 나, 다

14. 갑, 을 사상가들의 입장으로 적절한 것만을 <보기>에서 있는 대로 고른 것은? [3점]

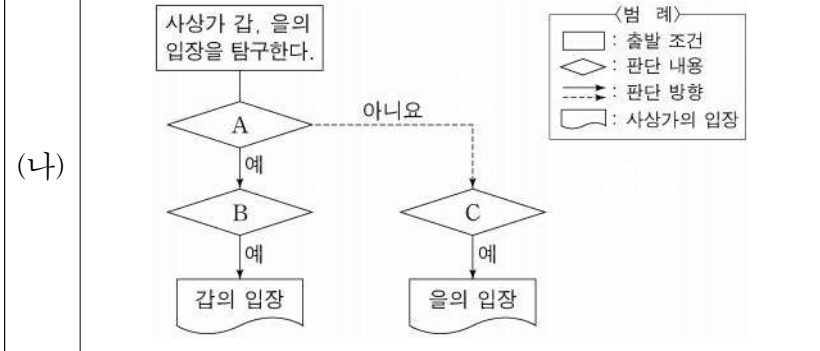
갑: 천하를 두루 이롭게 함은 직분(分)과 예의(義)로부터 나온다. 사람이 무리를 이루어 살되 역할에 따른 구분이 없으면 다투게 되고, 다투면 나라가 혼란해져 편히 살 수 없게 된다. 따라서 사람은 잠시도 예의를 버릴 수 없다.  
 을: 사회를 이루는 세 계층은 각자 타고난 성향에 따라 한 가지 일에 배치되어야 한다. 그리고 자신이 맡은 일에서 탁월함을 발휘하여 서로 조화를 이루어야 한다. 만약 서로의 일에 간섭한다면 사회에 해악을 끼치게 된다.

<보 기>  
 가. 갑: 군주가 나라를 다스리려면 모든 직분에 통달해야 한다.  
 나. 갑: 사회 구성원의 직분을 나누는 도덕적 기준이 존재한다.  
 다. 을: 세 계층이 각자의 직분에 충실해야 정의가 실현될 수 있다.  
 라. 갑과 을: 직분의 구분은 공동체 이익 증진에 도움이 된다.

- ① 가, 나                      ② 가, 다                      ③ 나, 라
- ④ 가, 다, 라                ⑤ 나, 다, 라

15. (가)의 갑, 을 사상가들의 입장을 (나) 그림으로 탐구하고자 할 때, A~C에 들어갈 적절한 질문만을 <보기>에서 있는 대로 고른 것은?

(가)  
 갑: 차등의 원칙은 사회적 협동을 위한 기본 원칙이다. 이 원칙은 천부적 재능을 가진 사람들이 불우한 사람들을 돕는 한에서 각자의 자질을 사용하게 한다.  
 을: 차등의 원칙은 정의를 위한 공정한 기반을 제시하지 못한다. 개인의 천부적 재능과 이로부터 나오는 것에 대한 소유 권리는 그 개인에게 있다.



<보 기>  
 가. A: 개인의 소유권을 침해하지 않는 과세 정책이 가능한가?  
 나. B: 차등의 원칙은 더 큰 재능의 소유자에게 유익할 수 있는가?  
 다. B: 재산의 평등한 분배가 정의 원칙에 의해 허용될 수 있는가?  
 라. C: 국가는 자유롭게 체결된 계약의 이행을 강제할 수 있는가?

- ① 가, 나                      ② 가, 다                      ③ 나, 라
- ④ 가, 다, 라                ⑤ 나, 다, 라



# 4 (생활과 윤리)

# 사회탐구 영역

16. 그림의 강연자가 지지할 입장으로 가장 적절한 것은? [3점]

성스러움이 세속적인 것과는 전혀 다른 그 무엇으로서 자신을 드러내어 보여 주기 때문에, 인간은 성스러움을 알 수 있습니다. 성스러움이 드러나는 것을 가리키는 말이 성현(聖顯)입니다. 성스러운 나무, 성스러운 돌은 정확히 그것이 성현이기 때문에, 그것이 더 이상 돌이나 나무가 아니라 성스러운 것을 보여 주는 존재가 되기 때문에 숭배를 받는 것입니다. 종교의 역사란 가장 원시적인 것에서부터 가장 고도로 발달된 것에 이르기까지 다수의 성현으로 이루어져 있다고 말할 수 있습니다. 종교적 인간이 성스러운 존재들에 의지하여 안정과 평화를 추구해 온 것은 자연스러운 일입니다. 심지어 비종교적 인간도 종교적 의례나 신화에 영향을 받기 때문에 자신도 모르는 사이에 종교적으로 행동합니다.



- ① 성스러움과 속됨은 서로 양립할 수 있지만 조화될 수는 없다.
- ② 종교적 인간은 성스러움을 만들어 내어 마음의 안정을 찾는다.
- ③ 종교의 역사는 성스러운 실재의 단 한번 드러남으로 이루어진다.
- ④ 돌이나 나무는 그 자체로 성스럽기 때문에 숭배의 대상이 된다.
- ⑤ 성스러움을 믿지 않는 인간이라도 은연중에 종교적으로 행동한다.

17. 갑, 을 사상가들의 입장으로 적절한 것만을 <보기>에서 고른 것은?

갑: 어진 사람은 천하의 이익[利]을 일으키고 천하의 해[害]를 없앴을 법도로 삼는다. 그는 자기 눈에 아름답고 귀에 즐겁고 몸에 편안함을 위해 일하지 않는다. 옛 성왕(聖王)은 귀에 즐거워도 백성의 이익에 맞지 않아 음악을 즐기지 않았다.  
 을: 군자는 도(道)를 터득함을 즐기지만 소인은 욕망[欲]의 채움을 즐긴다. 도로 욕망을 통제하면 즐거우면서도 어지럽지 않게 된다. 옛 성왕은 우아한 음악[雅頌]을 제정하고 이끌어 사람들이 즐거우면서도 어지럽지 않게 하였다.

<보 기>

ㄱ. 갑: 분별적 사랑을 실천하기 위해 음악을 활용해야 한다.  
 ㄴ. 을: 예법에 맞게 음악을 만들어 백성의 화합을 도모해야 한다.  
 ㄷ. 을: 군자와 소인은 신분이 달라도 음악을 더불어 향유해야 한다.  
 ㄹ. 갑과 을: 어진 사람은 인격 도야를 위해서만 음악을 즐겨야 한다.

- ① ㄱ, ㄴ    ② ㄱ, ㄷ    ③ ㄴ, ㄷ    ④ ㄴ, ㄹ    ⑤ ㄷ, ㄹ

18. 갑, 을 사상가들의 입장으로 가장 적절한 것은? [3점]

갑: 원조 대상자의 이익을 고려하는 데 인종은 아무런 상관이 없다. 중요한 것은 이익 자체이다. 이익 평등 고려의 원칙에 따라 빈곤으로 고통받는 사람들에게 원조를 해야 한다.  
 을: 원조의 목적은 고통받는 사회가 자신들의 문제를 합당하게 관리할 수 있을 때까지 도와, 결과적으로 그 사회가 질서 정연한 만민의 사회의 구성원이 되도록 하는 것이다.

- ① 갑: 원조는 보편적인 의무이지만 조건부적으로 시행될 수 있다.
- ② 갑: 원조 결정 시 원조 주체의 이익을 고려하는 것은 허용될 수 없다.
- ③ 을: 원조의 차단점 설정은 원조 대상의 정치적 자율성을 침해한다.
- ④ 을: 고통받는 사회의 기본 제도 개선을 위한 원조는 허용될 수 없다.
- ⑤ 갑과 을: 고통받는 빈곤국의 복지 향상이 원조의 최종 목적이다.

19. 다음을 주장한 사상가의 입장에서 <문제 상황> 속 A에게 제시할 조언으로 가장 적절한 것은?

모든 경계가 무한하지만 모두 일심(一心) 안에 들어간다. 부처의 지혜는 모습을 떠나 마음의 원천으로 돌아가고, 지혜와 일심이 온전히 같아져 둘이 없다. 따라서 지극히 공정한 부처의 뜻을 토대로 여러 주장을 조화롭게 융합[和諍]해야 한다.

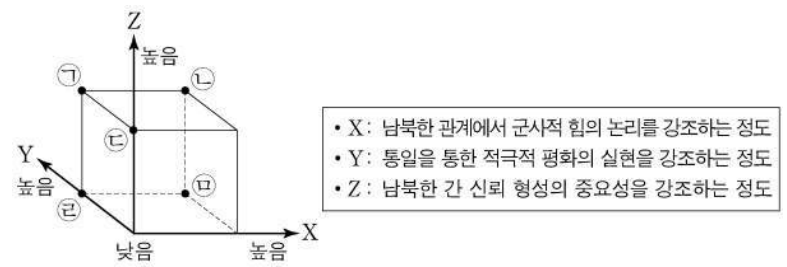
<문제 상황>

학급 회장인 A는 축제에서 학급 부스 운영 방안을 어떻게 결정해야 할지 고민하고 있다. 학급 친구들이 사진관, 오락실, 분식집 등 서로 다른 방안을 내세워 각자의 주장을 굽히지 않고 갈등하고 있기 때문이다.

- ① 옳고 그름을 가려 자신만의 입장을 정당화하도록 토론하세요.
- ② 각 주장이 타당할 수 있음을 인정하고 친구들과 의견을 조율하세요.
- ③ 모든 의견을 통합할 수 없으므로 회장의 직권으로 결정하세요.
- ④ 다른 학급의 사례에 따라 운영 방안을 결정하도록 유도하세요.
- ⑤ 모두 편협한 주장이므로 친구들 다수의 동의를 기초로 판단하세요.

20. (가)의 입장에 비해 (나)의 입장이 갖는 상대적 특징을 그림의 ㉠~㉣ 중에서 고른 것은?

(가) 북한은 우리의 안보를 위협하는 경계의 대상이다. 따라서 북한보다 우월한 군사력과 강력한 군사 동맹을 바탕으로 전쟁을 억지해야 한다. 이를 통해 국민의 생명과 재산을 보호하고 평화를 실현할 수 있을 뿐만 아니라 통일로 나아가는 기초를 마련할 수 있다.  
 (나) 북한은 우리와 함께 평화 통일을 실현해야 할 협력의 상대이다. 따라서 한반도 평화를 위해서는 군사적 경쟁보다는 활발한 남북 대화와 교류를 통해 상호 불신을 해소하고, 더 나아가 통일을 이룸으로써 분단으로 인한 구조적·문화적 폭력까지 제거해야 한다.



- ① ㉠    ② ㉡    ③ ㉢    ④ ㉣    ⑤ ㉣

\* 확인 사항  
 ○ 답안지의 해당란에 필요한 내용을 정확히 기입(표기)했는지 확인 하시오.

제 4 교시

사회탐구 영역(세계사)

성명

수험 번호

제 ( ) 선택

1. (가) 문명에 대한 설명으로 옳은 것은? [3점]

이것은 점토를 구워 만든 벽돌로, 티그리스강과 유프라테스강 사이에서 발달한 (가)의 고대 도시 니푸르에서 발견되었습니다. 이 유물에는 '우르의 왕이자 수메르와 아카드의 왕인 우르남무가 엔릴을 섬기는 사원을 건축하였다.'라는 내용이 썬기 문자로 기록되어 있습니다.



- ① 파르테논 신전을 건립하였다.
- ② 기자에 스팅크스를 축조하였다.
- ③ 태음력과 60진법을 사용하였다.
- ④ 하라파 등 계획도시를 건설하였다.
- ⑤ 점을 친 내용을 갑골에 기록하였다.

2. (가) 도시 국가에 대한 설명으로 옳은 것은? [3점]

사료로 보는 세계사

전하는 바에 따르면, 글을 모르는 어떤 사람이 (가)의 광장에서 마주친 아리스티데스에게 도기 조각을 건네면서 '아리스티데스'라고 써 주기를 요청하였다. 아리스티데스가 이유를 묻자, "나는 그가 누군지도 모르지만, 다들 그를 정의로운 사람이라고 추켜세우는 것이 싫습니다."라는 대답이 돌아왔다. 아리스티데스는 아무 대꾸 없이 자신의 이름을 도기 조각에 써서 돌려주었다.

해설 아리스티데스는 '정의로운 사람'으로 불렸으나, 그를 시기한 사람들에 의해 추방되었다. 그러나 얼마 뒤 페르시아가 침공하자 시민들이 그를 돌아오게 하였다. 전쟁 이후에 그는 (가)이/가에게 해 연안 국가들과 결성한 델로스 동맹의 맹주가 되어 해상 제국으로 발전하는 데 크게 기여하였다. 이 사례는 참주의 출현을 방지하려던 제도가 취지와 다르게 운영되기도 하였음을 보여 준다.

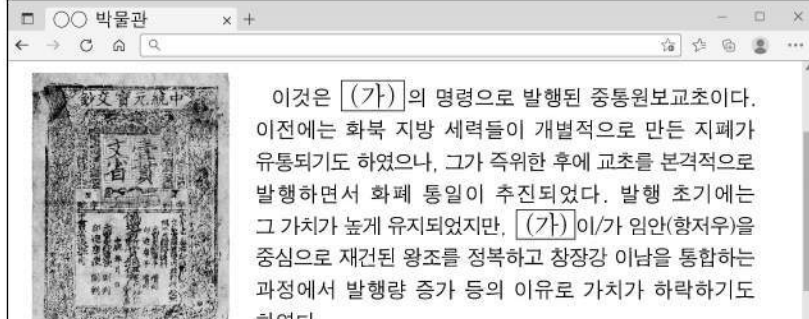
- ① 500인 평의회를 운영하였다.
- ② 스파르타쿠스의 난을 진압하였다.
- ③ 펠로폰네소스 전쟁에서 승리하였다.
- ④ 원형 경기장인 콜로세움을 건축하였다.
- ⑤ 북아프리카 등지에 알렉산드리아를 건설하였다.

3. 밑줄 친 '이 나라'에 대한 설명으로 옳은 것은?

홍노를 공격하려던 이 나라는 대월지가 홍노에게 근거지를 빼앗겨서 원한을 품고 있다는 소문을 접하고, 대월지에 사신을 보내 협력을 구하려 하였다. 대월지로 가려면 반드시 홍노의 땅을 지나야만 하였으므로 위험을 감수하며 사신으로 갈 관리가 필요하였다. 이에 장군이 지원하여 대월지에 사신으로 가게 되었다.

- ① 육유를 반포하였다.
- ② 수시력을 제작하였다.
- ③ 오경정의를 편찬하였다.
- ④ 9품중정제를 폐지하였다.
- ⑤ 향거리선제를 시행하였다.


4. (가) 황제의 통치 시기에 있었던 사실로 옳은 것은?



이것은 (가)의 명령으로 발행된 중통원보교초이다. 이전에는 화북 지방 세력들이 개별적으로 만든 지폐가 유통되기도 하였으나, 그가 즉위한 후에 교초를 본격적으로 발행하면서 화폐 통일이 추진되었다. 발행 초기에는 그 가치가 높게 유지되었지만, (가)이/가 임안(항저우)을 중심으로 재건된 왕조를 정복하고 장강강 이남을 통합하는 과정에서 발행량 증가 등의 이유로 가치가 하락하기도 하였다.

- ① 서하가 건국되었다.
- ② 수도가 대도로 옮겨졌다.
- ③ 만한 병용제가 채택되었다.
- ④ 아구다가 부족을 통합하였다.
- ⑤ 테무친이 칸으로 추대되었다.

5. 밑줄 친 '이 왕조'에 대한 설명으로 옳은 것은?



이 장신구는 에데사 전투에서 발레리아누스를 포로로 사로잡아 큰 승리를 거두었던 샤푸르 1세의 모습을 담고 있다. 샤푸르 1세는 파르티아를 멸망시킨 아르다시르 1세의 아들로 왕위를 이어받아 이 왕조의 전성기를 이루었다.

- ① 크테시폰을 수도로 삼았다.
- ② 티무르 왕조를 무너뜨렸다.
- ③ 우르두어를 널리 사용하였다.
- ④ 아프간족의 침입으로 쇠퇴하였다.
- ⑤ 키루스 2세 때 원통에 칙령을 새겨 반포하였다.

세계사



## 2 (세계사)

## 사회탐구 영역


6. (가)에 들어갈 내용으로 가장 적절한 것은? [3점]

이 자료는 갑옷을 입고 말을 탄 영웅이 왕세자 샤를을 만나는 모습을 표현한 것입니다. 이 영웅은 적에게 봉쇄되었던 오를레앙의 포위를 뚫었고, 왕세자가 랭스에서 왕으로 즉위할 수 있도록 도왔습니다. 결국 샤를은 왕위 계승권과 플랑드르 지방에 대한 지배권을 돌려싸고 약 한 세기 동안 지속된 전쟁을 승리로 이끌었습니다. 이 전쟁이 벌어진 기간에 유럽에서는 (가)



- ① 앙리 4세가 낭트 칙령을 반포하였습니다.
- ② 교황과 황제가 보름스 협약을 맺었습니다.
- ③ 로마와 아비뇽에서 교황이 각각 선출되었습니다.
- ④ 라틴 제국이 콘스탄티노폴리스에서 수립되었습니다.
- ⑤ 교황 우르바누스 2세가 클레르몽 공의회를 개최하였습니다.

7. 밑줄 친 '막부' 시기에 있었던 사실로 옳은 것은?



자료는 네덜란드 동인도 회사 상관장 일행의 행렬을 묘사한 것이다. 네덜란드 상관에서 의사로 일하던 엔겔베르트 캠퍼는 이 여정에 두 차례나 참여하여 막부의 소군을 알현하였다. 그는 자신이 경험한 내용 등을 정리해 두었고, 이 자료는 디드로 등이 주도하여 편찬한 『백과전서』에 반영되는 등 당대 유럽 지식인 사회에 영향을 끼쳤다.

- ① 조닌층이 성장하였다.
- ② 헤이조쿄가 건설되었다.
- ③ 오키나와현이 설치되었다.
- ④ 다이카 개신이 추진되었다.
- ⑤ 이와쿠라 사절단이 파견되었다.

8. (가) 국가에 대한 설명으로 옳은 것은? [3점]

○○○에게  
내가 먼 항해를 통해 역사적인 첫발을 내딛고 고국으로 돌아온 지도 벌써 수년이 지났네. 사람들은 내가 유럽인 중에서 아프리카 남단의 희망봉을 돌아 향신료가 풍부한 나라로 가는 항로를 처음 개척했다고 칭송하고 있어. 돌이켜 보면 항해 중에 흥미로운 일이 많았지. 캘리컷(코지코드) 부근 해역에서 육지로 선원 한 명을 보냈는데 그가 유럽 언어를 구사하는 튀니스 출신 이슬람교도를 배로 데려왔어. 나는 조국 (가)와/과 멀리 떨어진 이국에서 익숙한 언어를 듣고 크게 놀랐다네. 지중해의 이슬람교도들이 이미 상업 활동을 벌이고 있던 그곳에 우리는 그제서야 갈 수 있었던 것이지.

- ① 하와이 제도를 차지하였다.
- ② 캄보디아를 식민 지배하였다.
- ③ 호르무즈, 마카오를 교역 거점으로 삼았다.
- ④ 벵골 지역을 동서로 나누는 분할령을 발표하였다.
- ⑤ 리비아를 중심으로 북아프리카 식민지를 건설하였다.

9. 다음 자료에 나타난 국왕의 재위 시기에 있었던 사실로 옳은 것은?

우리는 종교와 자유를 수호하기 위해 국왕과 전쟁을 벌여 승리하였습니다. 지난 세월 자의적 과세를 일삼던 국왕은 자신의 권력을 위해 죄 없는 사람들이 피를 흘리게 하였고, 여기에 왕당파가 동조하면서 우리의 종교와 자유는 위협받았습니다. 내전 중에도 우리는 평화를 위한 제안을 여러 차례 하였으나 국왕은 이를 거부하였습니다. 신과 신에게 충직한 자들을 위하는 마음으로 우리는 결국 국왕을 처형하였고 영국에서 왕정을 무너뜨렸습니다.

- ① 권리 청원이 제출되었다.
- ② 크롬웰이 항해법을 공포하였다.
- ③ 심사법과 인신 보호법이 제정되었다.
- ④ 북아메리카 식민지에 인지세가 부과되었다.
- ⑤ 통일법이 반포되어 영국 국교회가 확립되었다.

10. 밑줄 친 '우리 나라'에 대한 설명으로 옳은 것은? [3점]

동료 의원 여러분  
최근 전쟁의 결과로 체결된 조약이 상원에서 승인되었습니다. 영국왕의 인도 제국 통치를 경험한 바 있는 키플링은 이 중요한 시기에 '백인의 짐'을 발표하여 우리의 승리가 문명화의 임무를 수행할 기회라고 평가하였습니다. 하지만 우리 나라가 이번 전쟁을 통해 얻은 마닐라 일대와 괌 등의 현지인들은 우리의 법과 제도를 원하지도 않고 수용할 마음도 없어 보입니다. 왜 우리는 우리 문명을 강요하는 데 혈안이 되어 있습니까? 단지 소수의 돈벌이를 위해 그들을 압박하는 것일 뿐입니다.

- ① 마다가스카르를 식민지로 삼았다.
- ② 주룽반도의 일부 지역을 할양받았다.
- ③ 중앙아프리카 지역의 콩고를 지배하였다.
- ④ 일본으로부터 최혜국 대우를 인정받았다.
- ⑤ 아도와 전투에서 메넬리크 2세의 군대에 패배하였다.

11. (가) 황제에 대한 설명으로 옳은 것은?

이 건물은 황제가 하늘에 제사를 지내던 천단에 있는 기년전입니다. 천단은 (가)이/가 수도를 옮기는 과정에서 자금성과 함께 조성되었고, 다음 왕조에서도 계속 사용되었습니다. 천단의 중심 건물인 기년전은 재건축 과정에서 처음 모습과는 달리 오늘날과 같은 원형의 건물이 되었습니다. 원형의 구조는 하늘이 둥글다는 관념을 표현한 것이고, 청색 기와는 하늘의 빛깔을 나타낸 것입니다.




- ① 군기처를 설치하였다.
- ② 사고전서를 편찬하였다.
- ③ 삼번의 난을 진압하였다.
- ④ 재상 제도를 폐지하였다.
- ⑤ 정화의 함대를 파견하였다.

12. (가), (나) 국가에 대한 설명으로 옳은 것은? [3점]

이 그림은 과거 툴롱에 정착했던 우리 (가) 함대의 모습을 묘사한 것이요. 흥해 연안 일대로 세력을 확장한 우리 병사들이 카이로 등지를 장악하여 맘루크 왕조를 무너뜨렸지요. 한편 프랑수아 1세는 피레네산맥 너머 남쪽의 왕국 (나)을/를 압박하고자 이곳에 함대가 주둔하는 것을 허락했지요.

그리스도 당시 프랑수아 1세는 툴롱의 성당에서 우리 함대의 선원들이 매일 다섯 번씩 예배하고, 교역 활동을 벌이는 것을 허용하는 등 파격적으로 후원했다고 하오. 반면 아우구스부르크 회의가 맺어진 지 십여 년이나 지난 오늘날에도 (나)의 국왕은 네덜란드 지역을 통치하면서 가톨릭 강요 정책을 펼쳐 격렬한 저항에 직면해 있다고 하오.



- ① (가) - 알자스·로렌 지방을 병합하였다.
- ② (가) - 사보이(사부아) 등을 프랑스에 할양하였다.
- ③ (나) - 오스트리아와의 전쟁을 통해 술레지엔을 장악하였다.
- ④ (나) - 이집트를 보호국으로 삼고 수에즈 운하를 차지하였다.
- ⑤ (가)와 (나) - 지중해 해상권을 둘러싸고 레판토에서 격돌하였다.

13. 밑줄 친 ㉠, ㉡ 사이의 관계에 대한 설명으로 옳은 것은?

○○○ 대사님께  
일본 군부는 인도차이나반도에 대한 침략 의도를 노골적으로 드러내고 있습니다. 이런 상황에서 ㉠우리 나라에 수립된 ㉡이 나라 망명 정부는 인도차이나반도에 대한 실질적 지배권을 여전히 주장하고 있습니다. 만일 우리 정부가 이러한 주장에 동조한다면, 일본은 우리가 망명 정부와 결탁하여 자신들을 더욱 강하게 압박하려 한다고 여길 것입니다. 일본 측에 군사적 도발의 빌미를 제공하지 않기 위해서는 전략적 대응이 필요합니다. 우리는 망명 정부를 무조건적으로 지지하기보다는 폐탕이 이끄는 정부에 우호적 입장을 잠정적으로 표명하는 것이 향후 우리의 국익과 전략에 부합할 것으로 판단됩니다.  
참사관 ○○

- ① 미드웨이 해전에서 격돌하였다.
- ② 소련 등과 함께 독일을 분할 점령하였다.
- ③ 전략 무기 제한 협정[SALT]을 체결하였다.
- ④ 알타 회담에 참여하여 전후 처리를 논의하였다.
- ⑤ 방공 협정을 체결하여 추축국 동맹을 결성하였다.

14. (가) 왕조에 대한 설명으로 옳은 것은? [3점]

교황 레오 3세를 만나고 아헨으로 돌아가던 황제는 자신이 수년 전 (가) (으)로 보냈던 사절단이 큰 선물을 가지고 귀환하고 있다는 소식을 들었다. 그의 나라는 지중해 동부의 크리스티교 제국과 갈등하는 한편 다마스쿠스의 궁정에서 축출된 세력이 이베리아반도에 수립한 나라와도 대립하는 상황에서 (가) 와/과의 협력을 모색하기 위해 사절단을 파견 하였던 것이다. (가) 의 영토는 서쪽으로 북아프리카 일대에서 동쪽으로 카불 너머까지 이르렀고, 수도는 알 만수르가 원형의 계획도시로 조성하였으며 '세계의 시장'이라 불렸다. 사절단은 코끼리를 포함하여 각종 진귀한 물품을 가지고 이듬해 아헨의 궁정에 도착하였다.

- ① 발칸반도 대부분을 지배하였다.
- ② 이스마일 1세에 의해 수립되었다.
- ③ 코르도바를 중심으로 발전하였다.
- ④ 홀라구에 의해 수도가 점령되었다.
- ⑤ 우즈베크인의 침공으로 멸망하였다.

15. (가) 인물에 대한 설명으로 옳은 것은?

나는 대통령을 보좌하여 중국을 방문하였다. 저우언라이의 환대를 받았고, 이후 나는 (가) 와/과의 정상 회담장에 배석할 수 있는 기회를 얻었다. ... (중략) ... 국민당 군을 몰아내고 텐안먼 위에서 새로운 공화국의 수립을 선포한 (가) 은/는 최고 실권자로서 토지 개혁과 각종 국유화 정책을 단행한 바 있다. ... (중략) ... 정상 회담에서 그는 구체적인 정책을 논의하기보다 주요 사안에 대한 자신의 입장을 큰 틀에서 설명 하였다. 이번 회담은 향후 양국 간의 첨예한 쟁점을 유연하게 논의할 수 있는 계기이자, 미국과 중국 간의 국교 수립을 위한 소중한 첫걸음이 되었다.

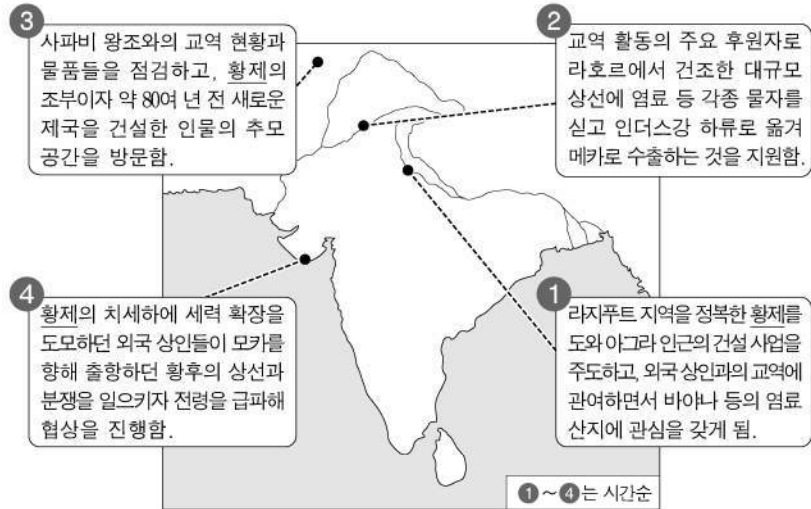
- ① 민보 발간사를 통해 삼민주의를 내세웠다.
- ② 혁명파를 탄압하고 황제 제도 부활에 나섰다.
- ③ 경제특구를 설치하는 등 개혁과 개방을 추진하였다.
- ④ 군벌 타도를 위한 북벌에 나서 국민 혁명을 완수하였다.
- ⑤ 인민 공사 설립을 통한 중국식 사회주의 건설을 추진하였다.



# 4 (세계사)

# 사회탐구 영역

16. 밑줄 친 '황제'의 재위 시기에 볼 수 있는 모습으로 가장 적절한 것은?



〈라지푸트 출신 황후의 주요 행적〉

- ① 마라타 동맹의 반란에 가담하는 부족
- ② 지즈야 폐지 조치를 환영하는 비이슬람교도
- ③ 고르(구르) 왕조를 정벌하기 위해 출정하는 병사
- ④ 데칸고원을 넘어 남인도 대부분을 정복하는 장군
- ⑤ 몸타즈 마할을 추모하는 묘당 건설에 동원되는 인부

17. (가), (나)가 작성된 시기 사이에 있었던 사실로 옳은 것은? [3점]

(가) 소중한 벗에게  
이곳은 혁명의 열기로 가득합니다. 라틴 아메리카에서 활약하였던 혁명가가 혁혁한 전과를 올리고 있습니다. 시칠리아섬을 평정한 그는 의용대를 이끌고 나폴리를 향해 출정할 준비를 갖추고 있습니다. 나는 팔레르모에서 그를 만나 통합의 열의를 확인하고 최근 우리 미국의 정세 변화에 관해 많은 의견을 나누었습니다. 그의 이런 활약이 남북간의 심각한 분열로 치닫고 있는 우리 나라에 시사하는 바가 매우 크다고 생각합니다.  
헨리

(나) 장군님께  
귀하께서 우리 연방 정부를 위해 참전해 주신다면, 노예 해방을 염원하는 수많은 이탈리아인들이 함께할 것이라 기대됩니다. 남부 여러 주의 탈퇴로 촉발된 참혹한 내전으로 지난 1년여 간 고통받았던 우리 미국인들은 환호할 것입니다. 그리고 많은 사람들은 '이탈리아의 워싱턴'이라 불리는 당신의 지휘 아래에서 북부군의 대열에 합류하는 것을 큰 영광으로 여길 것입니다.  
미 외교관

- ① 루이 필리프가 퇴위하였다.
- ② 이탈리아 왕국이 수립되었다.
- ③ 미국에서 대륙 횡단 철도가 개통되었다.
- ④ 영국에서 제1차 선거법 개정이 이루어졌다.
- ⑤ 빌헬름 1세가 독일 제국의 성립을 선포하였다.

18. 밑줄 친 '봉기'에 대한 설명으로 옳은 것은?

차르는 봉기를 일으킨 반란 세력을 진압하여 질서를 회복한다는 명분으로 군대를 보내 영국, 프랑스 등과 함께 연합군을 이루어 무고한 민간인들을 학살하였다. ... (중략) ... 독일 제국주의 세력에 침탈당한 산둥성에서 시작된 봉기는 화북 일대로 확산하여 수도의 외국 공사관 등을 공격 대상으로 삼았다. 그들은 왜 유럽인들과 유럽 문명을 공격하는가? 겉으로는 크리스티교 확산을 내세우며 속으로는 이익을 침탈하는 유럽의 자본가들을 그들이 어찌 증오하지 않을 수 있겠는가?

- ① 5·4 운동의 영향으로 일어났다.
- ② 제1차 국공 합작이 성사되는 배경이 되었다.
- ③ 백련교 계통의 단체를 중심으로 전개되었다.
- ④ 러시아가 연해주를 획득하는 결과를 가져왔다.
- ⑤ 영국과 청이 난징 조약을 체결하는 계기가 되었다.

19. 밑줄 친 ㉠ 시기에 볼 수 있는 모습으로 가장 적절한 것은? [3점]

발신: ○○○ 외무 장관  
수신: 협상국 측 관계자

상트페테르부르크에서 노동자와 병사들이 제정을 무너뜨린 이후 수립된 임시 정부는 올해 4월 9일 ㉠ 지난 3년 동안 전개된 전쟁에 대한 입장을 발표하였습니다. 내용은 다음과 같습니다.

동맹국 측은 최근 우리 사이에 불화를 일으키려고 애쓰며, 본 임시 정부가 자신들과 평화 조약을 체결할 것이라고 주장하지만 그것은 터무니없는 소문에 불과합니다. 본 정부는 전쟁 승리를 위해 협상국과의 공동 투쟁을 지속할 것임을 선언합니다.

- ① 터키 공화국 수립을 선포하는 정치인
- ② 타이완 할양 등을 규정한 조약에 서명하는 청 대표
- ③ 레닌에게 신경제 정책[NEP] 추진 현황을 보고하는 관리
- ④ 오스트리아·헝가리 제국과의 전투를 지휘하는 세르비아 장교
- ⑤ 단체 교섭권 등을 보장한 와그너법 통과 소식에 기뻐하는 노동자

20. 밑줄 친 ㉡ 시기에 있었던 사실로 옳지 않은 것은? [3점]

세계사 신문 ○○○○년 ○○월 ○○일

베를린 장벽이 무너지다

동독은 이달 9일 베를린 장벽을 포함한 모든 국경 초소를 통해 서독 및 서베를린으로 상시적 출국이 가능하다고 발표함으로써 개방 정책을 단행하였다. 베를린 장벽은 동독이 동·서 베를린 사이의 통행을 제한하면서 세워지기 시작하였다. 이후 동·서 베를린을 갈라놓았던 베를린 장벽은 ㉡ 지난 28년간 고립과 분단의 상징으로 여겨졌다.

- ① 닉슨 독트린이 발표되었다.
- ② 쿠바 미사일 위기가 일어났다.
- ③ 유럽 공동체[EC]가 결성되었다.
- ④ 동남아시아 국가 연합[ASEAN]이 설립되었다.
- ⑤ 평화 10원칙을 채택한 반동 회의가 개최되었다.

\* 확인 사항  
○ 답안지의 해당란에 필요한 내용을 정확히 기입(표기)했는지 확인 하시오.

제 4 교시

사회탐구 영역(사회·문화)

성명

수험 번호

제 ( ) 선택

1. 밑줄 친 ㉠~㉣과 같은 현상의 일반적인 특징에 대한 설명으로 옳은 것은?

‘람사르 데이’는 ㉠습지의 중요성을 널리 홍보하기 위해 마련한 행사이다. 참가자들은 ㉡습지에 버려진 비닐과 플라스틱을 재활용해 만든 옷을 입고 행사에 참여한다. 습지 보존이 중요한 이유는 ㉢습지가 생태계를 보호하는 역할을 하기 때문이다. 플랑크톤과 유기 물질이 풍부한 ㉣습지는 각종 오염 물질을 정화한다. 그뿐만 아니라 ㉤습지는 기후 위기의 요인 중 하나인 탄소 증가를 억제하는 역할도 한다.

- ① ㉠과 같은 현상은 불가치적이다.
- ② ㉡과 같은 현상은 존재 법칙이 적용된다.
- ③ ㉢과 같은 현상은 확실성의 원리가 적용된다.
- ④ ㉣과 같은 현상은 인과 관계가 불분명하다.
- ⑤ ㉤과 같은 현상은 보편성과 특수성이 공존한다.

2. A~C에 대한 설명으로 옳은 것은? (단, A~C는 각각 주류 문화, 하위문화, 반문화 중 하나임.)

유일신을 숭배하는 □□교를 오랜 기간 국교(國敎)로 유지하고 있는 갑국에 조상신을 숭배하는 ○○교가 유입되었다. 갑국에서 ○○교는 처음에는 일부 집단만이 공유한 A였다. 그런데 ○○교 신자들이 갑국의 B인 □□교가 숭배하는 유일신을 부정하면서 ○○교는 C의 성격을 가지게 되었다.

- ① A는 B와 달리 시대에 따라 상대적으로 규정된다.
- ② B는 C와 달리 문화 다양성 증가에 기여한다.
- ③ C는 A, B와 한 사회에서 공존할 수 없다.
- ④ A, B는 C와 달리 해당 문화를 향유하는 구성원의 정체성 강화에 기여한다.
- ⑤ C는 A에 해당하지만, A가 B에 해당하는 것은 아니다.

3. 다음 연구에 대한 설명으로 옳은 것은? [3점]

연구자 갑은 집단 간 경쟁이 자신이 속한 집단 구성원에 대한 긍정적 평가를 증가시킬 것이라고 예상하며 연구를 진행하였다. 갑은 서로 모르는 사이의 청소년을 연구 참여자로 모집한 후 무작위로 네 모둠으로 구분하였다. 모둠 A와 모둠 B는 숲 체험 활동을 하였고, 모둠 C는 모둠 A의, 모둠 D는 모둠 B의 활동을 관리하였다. 1일 차에 모둠 A와 모둠 B는 서로의 존재를 알지 못하는 상태에서 주어진 과업을 독립적으로 수행하였다. 갑은 2일 차에 모둠 A와 모둠 B에게 경쟁 모둠의 존재를 알리고, 과업을 먼저 해결하는 모둠에게만 별도의 상품을 제공한다고 공지하였다. 한편 모둠 C와 모둠 D는 자신이 관리하는 모둠 A와 모둠 B가 과업 수행 중 나눈 대화에 나타난 칭찬과 비난의 횟수를 관찰하여 일자별로 기록하였다. 갑이 ㉠모둠 C와 모둠 D가 관찰하며 기록한 자료를 분석한 결과, 모둠 A와 모둠 B 모두에서 1일 차 대비 2일 차에 소속 모둠원에 대한 ㉡칭찬 횟수는 증가하였고, ㉢비난 횟수는 감소하였다.

- ① 갑은 양적 연구 방법과 질적 연구 방법을 모두 활용하였다.
- ② 모둠 A와 B는 실험 집단이고, 모둠 C와 D는 통제 집단이다.
- ③ 1일 차와 2일 차 모두 독립 변수에 대한 처치가 이루어졌다.
- ④ ㉠은 갑의 연구에서 1차 자료에 해당한다.
- ⑤ ㉢은 ㉡과 달리 종속 변수에 대한 조작적 정의이다.

4. 밑줄 친 ㉠~㉣을 연구 윤리 측면에서 적절하게 평가한 것만을 <보기>에서 고른 것은?

연구자 갑은 설문 조사 참여에 동의한 노인들을 대상으로 노인 문제에 관한 연구를 진행하였다. 갑은 조사에 앞서 ㉠연구 대상자가 응답 중단을 요청할 경우 즉각 조사가 중단된다고 설명하였다. 갑은 실제로 조사 진행 중 응답 중단을 요청하는 노인들에 대해 조사를 중단하고 ㉡해당 답변 자료를 폐기하였다. 노인들이 연구 목적을 알게 되면 연구에 영향을 미친다고 판단한 갑은 ㉢연구 결과를 발표한 후에도 연구 대상자에게 연구 목적을 알리지 않았다. 갑은 자신이 발표한 연구 논문에 관심을 가진 □□기업이 연구 자료를 요청하자, 연구비 지원을 받는 대가로 ㉣연구 대상자의 개인 정보를 삭제하고 나머지 모든 연구 자료를 제공하였다.

—<보 기>—

㉠. ㉠은 연구 대상자의 자발적 참여를 보장한 것이므로 연구 윤리에 위배되지 않는다.

㉡. ㉡은 연구 자료 조작이라고 볼 수 없으므로 연구 윤리에 위배되지 않는다.

㉢. ㉢은 연구 자료의 객관성을 보장하기 위한 것이므로 연구 윤리에 위배되지 않는다.

㉣. ㉣은 연구 대상자의 익명성을 보장한 것이므로 연구 윤리에 위배되지 않는다.

- ① ㉠, ㉡    ② ㉠, ㉢    ③ ㉡, ㉢    ④ ㉡, ㉣    ⑤ ㉢, ㉣

5. 다음 자료에 대한 옳은 설명만을 <보기>에서 있는 대로 고른 것은? [3점]

[서술형 평가] 다음 글에 제시된 빈곤의 유형 A에 대한 옳은 설명을 4가지 쓰시오.

일반적으로 빈곤은 인간의 기본적 욕구와 관련된 물질적 결핍이 만성적으로 지속되는 경제적 상태를 의미한다. 실령 인간으로서 최소 생활 유지에 필요한 자원이나 소득이 확보된 상태라 해도 사회의 전반적 소득 수준과 비교하여 소득 수준이 낮은 상태 역시 빈곤으로 분류된다. 이런 유형의 빈곤을 A라 한다.

[학생의 답안과 교사의 채점 결과]

답안	채점 결과
우리나라에서는 객관화된 기준을 적용하여 파악한다.	㉠
(가)	○
(나)	×
소득 수준이 높은 국가에서는 나타나지 않는다.	㉡

(○: 맞음, ×: 틀림)

—<보 기>—

㉠. ㉠과 ㉡에 해당하는 채점 결과는 동일하다.

㉡. (가)에는 ‘우리나라에서는 최저 생계비를 기준으로 빈곤선이 결정된다.’가 들어갈 수 있다.

㉢. (나)에는 ‘개인이 주관적으로 빈곤하다고 인식하는 상태를 의미한다.’가 들어갈 수 있다.

- ① ㉠    ② ㉡    ③ ㉠, ㉡    ④ ㉡, ㉢    ⑤ ㉠, ㉡, ㉢



## 2 (사회·문화)

## 사회탐구 영역

6. 다음 자료에 대한 설명으로 옳은 것은?

○ 학생별로 서로 다르게 한 가지씩 배정받은 각 문화의 속성이 부각되는 사례를 작성하세요.

학생	문화의 속성	해당 속성이 부각된 사례
갑	㉠	외국인 유학생이 한국의 젓가락 사용법을 익혀 일상생활에서 사용하고 있다.
을	㉡	A 지역의 모든 사람들은 특정 기간에 신들이 임무를 교대한다고 믿기 때문에 그 기간을 신성하게 여기는 마음을 가지고 있다.
병	변동성	(가)
정	축적성	(나)
무	전체성	(다)

갑, 을, 정만 옳은 사례를 제시했고, 병은 ㉠, 무는 ㉡에 해당하는 사례를 제시했어요.

- ㉠은 문화가 세대 간 전승을 통해 더욱 복잡하고 풍부해지는 것임을 의미한다.
- ㉡은 문화가 여러 요소들이 상호 유기적으로 연관되어 나타나는 것임을 의미한다.
- (가)에는 '내비게이션 등장 이후 운전할 때 종이 지도로 길을 찾는 사람들은 거의 사라졌다.'가 들어갈 수 있다.
- (나)에는 '예전에는 혈액형으로 성향을 파악했지만, 요즘은 성격 검사 결과를 통해 성향을 파악하는 것을 즐긴다.'가 들어갈 수 있다.
- (다)에는 '팬클럽마다 좋아하는 연예인을 상징하는 색깔을 정하고 그 색깔을 응원에 활용한다.'가 들어갈 수 있다.

7. 다음 자료에 대한 설명으로 옳은 것은? [3점]

취업 특강 개설을 위한 재학생 대상 사전 조사  
(A 대학교 취업 상담 센터)

↳ 갑: 취업 상담 센터가 주관하는 취업 특강을 교내 독서 모임에서 함께 활동하고 있는 을과 들었음. 이번에는 총동창회의 주최로 ○○기업에서 진행되는 취업 특강에 참여할 예정임. □□시민 단체에서 활동하고 있는 병이 추천해 준 자격증 취득을 위한 특강 개설 여부가 궁금함.

↳ 을: □□시민 단체에서 함께 활동하고 있는 후배와 여름 방학에 △△방송사가 주관하는 직업 체험 활동에 참가할 예정이라 취업 특강 참석이 어려움. 언론인이 되고 싶어 하는 학생들을 위해 방송인 협회의 특강 개최를 취업 상담 센터에 건의하고 싶음.

↳ 병: 고등학교 선배가 운영하는 대안 학교에서 수업 보조 강사로 함께 활동하고 있는 갑이 ○○기업에서 진행되는 취업 특강에 같이 가자고 함. 졸업 후 대학원 진학도 고민 중이라 참석 여부를 고심하고 있음.

- 갑이 작성한 내용에 나타난 공식 조직의 개수는 을이 작성한 내용에 나타난 2차적 사회화 기관의 개수보다 많다.
- 을이 작성한 내용에 나타난 자발적 결사체의 개수는 을이 속해 있는 자발적 결사체의 개수와 같다.
- 병이 속해 있는 공식적 사회화 기관의 개수는 갑이 속해 있는 공식적 사회화 기관의 개수보다 많다.
- 갑과 병이 함께 속해 있는 2차 집단의 개수는 병이 속해 있는 비공식적 사회화 기관의 개수보다 적다.
- 갑과 을이 함께 속해 있는 비공식 조직은 없지만 을과 병이 함께 속해 있는 이익 사회는 있다.

8. 사회 변동 이론 (가), (나)에 대한 설명으로 옳은 것은? (단, (가), (나)는 각각 순환론, 진화론 중 하나임.) [3점]

- (가) 인간의 성장처럼 사회도 성장해 나간다. 하지만 인간이 성장을 멈추고 노화가 진행되듯, 사회도 일정한 한계점을 지나면 성장의 그래프는 꺾이기 마련이다. 다만 이미 사라져 버린 사회들의 경험을 참고하여 해체에 이르기까지의 생존 기간을 늘릴 수 있을 뿐이다.
- (나) 사회는 본질적으로 과거의 유산을 토대로 하여 더 나은 상태로 나아간다. 인간은 기존의 지식을 바탕으로 새로운 아이디어와 기술을 창출해 혁신을 이어 가고 있기 때문이다. 이러한 과정에서 사회는 항상 성장의 발걸음을 이어 왔으며 앞으로도 그럴 것이다.

- (가)는 미래의 사회 변동에 대한 역동적 대응이 곤란하다는 비판을 받는다.
- (나)는 사회 변동이 항상 발전을 의미하는 것은 아니라고 본다.
- (가)는 (나)와 달리 서구 사회가 가장 진보한 사회임을 전제한다.
- (나)는 (가)와 달리 사회가 주기적으로 동일한 과정을 반복하며 변동한다고 본다.
- (가)는 단기적 사회 변동을, (나)는 장기적 사회 변동을 설명하기에 적합하다.

9. 일탈 이론 A~C에 대한 설명으로 옳은 것은? (단, A~C는 각각 머튼의 아노미 이론, 차별 교제 이론, 낙인 이론 중 하나임.)

일탈 이론 A, B, C의 사례로 일탈을 저지른 갑, 을, 병의 진술을 살펴 보았다. 각각의 진술에 나타난 가장 두드러진 특징은 다음과 같다. 갑은 문화적 목표를 이루기 위한 합법적 수단이 부족했던 적이 한번도 없었다. 을은 일탈자들과 어울리거나 그들의 행동을 따라 하려고 했던 적이 한번도 없었다. 병은 여러 사회 규범을 위반했음에도 비난이나 제재를 받았던 적이 한번도 없었다. 이러한 특징을 바탕으로 갑, 을, 병에게 서로 다른 일탈 이론을 적용해 보면 갑의 일탈은 A나 B, 을의 일탈은 B나 C, 병의 일탈은 A나 C로 설명하는 것이 타당하다.

- A는 일탈에 대한 대책으로 제도화된 기회의 확대를 중시한다.
- B는 타인과의 상호 작용을 통한 일탈의 학습 과정에 주목한다.
- C는 정상 집단과의 교류를 일탈의 해결 방안으로 제시한다.
- B는 A, C와 달리 일탈을 규정하는 객관적 기준이 없다고 본다.
- C는 A, B와 달리 일탈에 대한 대책으로 사회 규범의 통제력 강화를 강조한다.

10. 다음 자료에 대한 설명으로 옳은 것은? [3점]

(가)는 자료 수집 방법 A, B, C의 공통점과 차이점을 알아보기 위한 질문이다. (가)에 대한 '예', '아니오'의 응답을 통해 A와 B를 구분할 수 있지만, B와 C를 구분할 수 없다. 단, A~C는 각각 질문지법, 면접법, 참여 관찰법 중 하나이다.

- A가 질문지법이라면, (가)에는 '주로 질적 자료를 수집할 때 활용합니까?'가 들어갈 수 없다.
- A가 면접법이라면, (가)에는 '언어나 문자로 의사소통할 수 없는 대상으로부터 자료 수집이 가능합니까?'가 들어갈 수 있다.
- C가 참여 관찰법이라면, (가)에는 '자료 수집 과정에서 연구 대상자의 응답이 필수적입니까?'가 들어갈 수 없다.
- C가 질문지법이라면, (가)에는 '자료 수집 과정에서 표준화·구조화된 도구의 사용이 필수적입니까?'가 들어갈 수 있다.
- (가)에 '문맹자에게 사용하기 어렵습니까?'가 들어간다면, B는 주로 방법론적 일원론을 전제로 한 연구에 활용된다.

11. 다음 자료에 대한 옳은 분석만을 <보기>에서 고른 것은? [3점]

표는 갑국~병국의 계층 구성 비율을 나타낸 것이다. 모래시계형 계층 구조에서는 A의 비율이 가장 낮다. 단, 갑국~병국의 계층 구조는 각각 피라미드형, 다이아몬드형, 모래시계형 중 하나이다. (단위: %)

구분	갑국	을국	병국
A	30	20	50
B	20	30	20
C	50	50	30

\* 계층은 A, B, C로만 구분되며, A~C는 각각 상층, 중층, 하층 중 하나임.

<보 기>

ㄱ. 갑국은 병국과 달리 폐쇄적 계층 구조가 나타난다.  
 ㄴ. 병국의 계층 구조는 을국의 계층 구조에 비해 사회 안정성이 높다.  
 ㄷ. 갑국과 병국은 모두 해당 국가에서 상층 인구가 가장 적다.  
 ㄹ. 을국의 계층 구조는 갑국, 병국의 계층 구조와 달리 주로 근대 이후의 산업 사회에서 나타난다.

- ① ㄱ, ㄴ    ② ㄱ, ㄷ    ③ ㄴ, ㄷ    ④ ㄴ, ㄹ    ⑤ ㄷ, ㄹ

12. 갑~병의 문화 이해 태도에 대한 설명으로 옳은 것은?

여행 가서 B국 피자를 먹어 본 이후로 □□ 피자는 쳐다 보지도 않아요. 우리 나라에서 피자를 만드는 사람들은 B국의 정통 피자 조리법을 그대로 따라야 합니다.

□□ 피자는 피자의 본고장인 우리 나라 피자라 비교하면 식재료와 맛이 너무 달라 피자라고 볼 수 없습니다. 저는 이 음식에 피자라는 이름을 붙이는 것조차 불쾌합니다.

□□ 피자는 A국 고유의 식재료로 국민들의 입맛에 맞춰 만든 피자입니다. 그 나라의 상황에 맞게 만들어진 음식이므로 그 자체로 존중받아야 합니다.

A국의 □□ 피자에 대해 어떻게 생각하십니까?

진행자    A국 국민 갑    B국 국민 을    C국 국민 병

- ① 갑의 태도는 선진 문물 수용에 소극적이라는 비판을 받는다.  
 ② 을의 태도는 문화 제국주의로 변질될 수 있다는 비판을 받는다.  
 ③ 병의 태도는 특정 문화를 기준으로 타 문화를 평가한다는 비판을 받는다.  
 ④ 갑의 태도는 을의 태도와 달리 타 문화와의 마찰을 일으킬 수 있다는 비판을 받는다.  
 ⑤ 을의 태도는 병의 태도와 달리 자기 문화의 정체성을 상실할 수 있다는 비판을 받는다.

13. 다음 사례에 나타난 문화 변동에 대한 설명으로 옳은 것은? [3점]

A국 영화인들은 영화 산업이 발달한 B국 영화인에게 영화 제작 기법 및 특수 효과 기술을 배워 왔다. 그 후 A국에서 자국의 전통적 정서와 B국의 특수 효과 기술이 섞인 새로운 영화 장르가 탄생했다. 한편, B국 어업인들이 조업 활동 중 C국 어업인이 끓여 준 라면을 먹게 되면서 B국에 C국 라면이 처음 전해졌다. 이후 B국 요리사가 C국 라면에 자국의 전통 소스를 가미해 국물이 없는 비빔 라면을 개발하였다. B국의 비빔 라면 조리 방식은 인터넷을 통해 C국 젊은이들에게까지 확산되었다.

- ① A국에서는 B국과 달리 문화 융합이 나타났다.  
 ② B국에서는 A국과 달리 문화 접변이 나타났다.  
 ③ B국에서는 C국과 달리 문화 공존이 나타났다.  
 ④ A국에서는 직접 전파, B국에서는 간접 전파가 나타났다.  
 ⑤ A국~C국에서는 모두 물질 문화의 전파가 나타났다.

14. (가)~(라)에 대한 옳은 설명만을 <보기>에서 고른 것은?

- (가) □□ 환경 단체는 탄소 중립 실현을 위해 대중교통 이용하기, 플라스틱 사용 줄이기, 불필요한 이메일 삭제하기 등 다양한 캠페인 활동을 꾸준히 하고 있다.  
 (나) 국민 가수로 칭송받던 인기 연예인이 음주 운전 차량에 치여 사망하자, 추모를 위해 사고 현장에 모인 사람들이 헌화와 함께 음주 운전 처벌 강화를 요구하는 메모를 남겼다.  
 (다) 오랜 전통에 따라 여성 운전 금지법이 시행되고 있던 △△국에서 시민 운동가 출신의 대통령 후보가 여성 권리 신장을 위해 이 법을 폐지하겠다는 선거 공약을 내세웠다.  
 (라) ○○ 노동조합은 정부의 연금 개시 연령 상향 정책에 대해 퇴직 후 연금 수령 시작 시기가 늦어져 경제적 어려움을 겪을 수 있다며 반대하는 서명을 받고 있다.

<보 기>

ㄱ. (가)는 뚜렷한 목표와 방법을 제시하고 지속적으로 활동을 수행하였다는 점에서 사회 운동이라 볼 수 있다.  
 ㄴ. (나)는 조직적이지 않은 군중이 일시적으로 모인 것이라는 점에서 사회 운동이라 볼 수 없다.  
 ㄷ. (다)는 기존 사회의 부조리를 해소하고 개혁을 추구하였다는 점에서 사회 운동이라 볼 수 있다.  
 ㄹ. (라)는 특정 집단의 이익만을 추구한다는 점에서 사회 운동이라 볼 수 없다.

- ① ㄱ, ㄴ    ② ㄱ, ㄷ    ③ ㄴ, ㄷ    ④ ㄴ, ㄹ    ⑤ ㄷ, ㄹ

15. 다음 자료에 대한 옳은 분석만을 <보기>에서 고른 것은?

<자료 1> 갑국의 사회 보장 제도

(가) 65세 이상 노인 중 소득 인정액이 일정 수준 이하인 사람에게 생활 안정에 필요한 연금을 지급하는 제도  
 (나) 노령, 사망, 장애 등으로 인한 소득 상실을 보전하고 기본적인 생활을 지원하기 위해 가입자와 고용주 등이 부담해서 마련한 기금을 통해 연금 급여를 지급하는 제도

<자료 2> 갑국의 성별·시기별 (가), (나) 제도의 수급자 수 (단위: 만 명)

성별	시기	t년	t+30년
남성	(가)	15	30
	(나)	60	80
여성	(가)	45	60
	(나)	40	80

\* 갑국의 사회 보장 제도는 우리나라의 사회 보장 제도와 동일함.  
 \*\* t년과 t+30년 모두 갑국의 남녀 인구는 각각 1,000만 명임.

<보 기>

ㄱ. t년에 수급자에 대한 부정적 낙인이 발생할 수 있는 제도의 남성 수급자 수는 여성 수급자 수의 3배이다.  
 ㄴ. t년에 비해 t+30년에 수혜자 비용 부담 원칙이 적용되는 제도의 수급자 수는 60만 명 증가하였다.  
 ㄷ. t년에 상호 부조의 원리가 적용되는 제도의 수급자 중 남성 수급자 비율은 t+30년에 강제 가입의 원칙이 적용되는 제도의 수급자 중 여성 수급자 비율보다 높다.  
 ㄹ. t년에 갑국 인구 중 사전 예방적 성격이 강한 제도의 수급자 비율은 t+30년에 갑국 인구 중 사후 처방적 성격이 강한 제도의 수급자 비율보다 낮다.

- ① ㄱ, ㄴ    ② ㄱ, ㄷ    ③ ㄴ, ㄷ    ④ ㄴ, ㄹ    ⑤ ㄷ, ㄹ



# 4 (사회 · 문화)

# 사회탐구 영역

16. 다음 글에서 도출할 수 있는 정보 사회의 문제점으로 가장 적절한 것은? [3점]

인터넷에 대한 의존도가 높아지면서 일상의 변화가 일어나고 있다. 온라인을 통해 금융 업무나 음식 주문과 같은 일을 비대면으로 간편하게 처리하는 사람이 늘고 있는 반면, 온라인을 활용한 삶의 편의성으로부터 소외된 사람도 있다. 정보 사회에서 사회 구성원은 정보 통신 기기의 구매 능력 정도, 유용하고 신뢰할 수 있는 고급 정보에 대한 비용 지불 능력 정도, 소프트웨어 기술 습득 능력 정도, 정보 서비스의 활용 능력 정도 등에 따라 디지털 환경에 빠르게 적응하는 사람과 뒤처지는 사람으로 구분된다. 정보가 부가 가치 창출의 원천인 정보 사회에서 이러한 현상은 심각한 사회 문제로 대두되고 있다.

- ① 정보 생산자의 신뢰성 문제가 나타나고 있다.
- ② 정보화 과정에서 문화 지체 현상이 나타나고 있다.
- ③ 비대면 관계의 증가로 인한 인간 소외 현상이 나타나고 있다.
- ④ 정보 격차로 인한 새로운 사회 불평등 현상이 나타나고 있다.
- ⑤ 정보 통신 기기의 과다 사용으로 인한 병리 현상이 나타나고 있다.

17. A, B의 일반적인 특징에 대한 옳은 설명만을 <보기>에서 고른 것은? (단, A, B는 각각 관료제, 탈관료제 중 하나임.)

너희들이 다니는 회사 중에 어디로 이직할지 고민 중이야.

갑: 병이 다니는 회사는 업무 처리 절차나 규칙이 문서로 정해져 있어서 자신이 할 일이 명확하고, 주어진 업무만 수행하면 시간이 갈수록 급여가 높아져서 참 좋아 보여.

을: 나는 을이 다니는 회사가 업적과 성과에 따라 연봉이 결정되고, 업무 처리 절차보다는 구성원의 자율성과 창의성을 중시하는 점이 부러워.

병: 을이 다니는 회사는 A의 특성이, 병이 다니는 회사는 B의 특성이 강하게 나타나는구나.

<보 기>

ㄱ. A는 B에 비해 업무 수행의 안정성을 확보하기가 용이하다.  
 ㄴ. A는 B에 비해 외부 환경 변화에 대한 유연한 대처가 용이하다.  
 ㄷ. B는 A에 비해 목적 전치 현상이 나타날 가능성이 낮다.  
 ㄹ. A는 의사 결정의 분권화, B는 업무 수행의 분업화가 강조된다.

- ① ㄱ, ㄴ    ② ㄱ, ㄷ    ③ ㄴ, ㄷ    ④ ㄴ, ㄹ    ⑤ ㄷ, ㄹ

18. 다음 글에 나타난 개인과 사회의 관계를 바라보는 관점에 대한 옳은 설명만을 <보기>에서 고른 것은?

사회학의 지적 관심은 사회적 사실에 있다. 사회적 사실은 단순히 개인적 사실을 모아 놓은 것과는 근본적으로 다른 성격을 지닌 고유한 대상이다. 법, 관습, 종교 생활, 화폐 체계와 같은 사회적 사실은 개인적 사실만을 통해서는 발견될 수 없다.

<보 기>

ㄱ. 사회를 개인의 외부에 존재하는 독자적인 실체로 본다.  
 ㄴ. 사회는 개인의 이익을 실현하기 위한 수단이라고 본다.  
 ㄷ. 사회의 특성이 개인의 특성으로 환원될 수 없다고 본다.  
 ㄹ. 사회는 개인의 자율적인 의지에 의해 만들어진다고 본다.

- ① ㄱ, ㄴ    ② ㄱ, ㄷ    ③ ㄴ, ㄷ    ④ ㄴ, ㄹ    ⑤ ㄷ, ㄹ

19. 다음은 사회 · 문화 현상을 바라보는 관점 A~C를 구분하는 질문에 대한 학생의 답변과 교사의 채점 결과이다. 이에 대한 설명으로 옳은 것은? (단, A~C는 각각 기능론, 갈등론, 상징적 상호 작용론 중 하나임.) [3점]

질문	답변		
	갑	을	병
A는 B와 달리 지배 집단과 피지배 집단 간 갈등이 사회 발전의 원동력이라고 보는가?	아니요	아니요	예
A, C는 B와 달리 개인의 행위를 강제하는 사회 구조를 중시하는가?	예	아니요	예
(가)	예	아니요	아니요
(나)	예	아니요	예
채점 결과	3점	2점	3점

\* 교사는 질문별로 채점하고, 질문당 옳은 답변을 쓴 경우는 1점, 틀린 답변을 쓴 경우는 0점을 부여함.

- ① A는 C와 달리 사회가 본질적으로 변동을 지향한다고 본다.
- ② B는 A와 달리 다양한 사회 제도의 상호 의존 관계에 주목한다.
- ③ C는 B와 달리 인간이 상황 정의에 기초하여 행동한다고 본다.
- ④ (가)에는 'B는 A와 달리 행위자의 능동성을 중시하는가?'가 들어갈 수 있다.
- ⑤ (나)에는 'A는 C와 달리 기득권층의 이익을 대변한다는 비판을 받는가?'가 들어갈 수 있다.

20. 다음 자료에 대한 분석으로 옳은 것은? [3점]

표는 갑국과 을국의 인구 구성 변화를 나타낸 것이다. A~C는 각각 전체 인구에서 유소년 인구, 부양 인구, 노년 인구가 차지하는 비율 중 하나이다. 갑국에서 t년의 유소년 부양비는 50이다. t년 대비 t+50년에 갑국의 유소년 인구는 10% 감소하였고, 을국의 유소년 인구는 20% 감소하였다. 단, t년에 갑국과 을국의 전체 인구는 동일하다.

구분	갑국		을국	
	t년	t+50년	t년	t+50년
$\frac{B+C}{A}$	$\frac{2}{3}$	1	$\frac{7}{13}$	1
$\frac{B}{C}$	$\frac{1}{3}$	$\frac{2}{3}$	$\frac{1}{6}$	$\frac{2}{3}$

\* 유소년 부양비 =  $\frac{\text{유소년 인구}(0\sim 14\text{세 인구})}{\text{부양 인구}(15\sim 64\text{세 인구})} \times 100$

\*\* 노년 부양비 =  $\frac{\text{노년 인구}(65\text{세 이상 인구})}{\text{부양 인구}(15\sim 64\text{세 인구})} \times 100$

\*\*\* 전체 인구 중 65세 이상 인구가 차지하는 비율이 20% 이상인 사회를 초고령 사회라고 함.

- ① t년에 노년 부양비는 갑국이 을국의 2배이다.
- ② t+50년에 유소년 인구는 갑국과 을국이 동일하다.
- ③ t+50년에 을국은 갑국과 달리 초고령 사회이다.
- ④ t년에서 t+50년 사이에 을국에서는 갑국과 달리 저출산 · 고령화 현상이 나타났다.
- ⑤ t년에 부양 인구는 을국이 갑국보다 많고, t+50년에 부양 인구는 갑국이 을국보다 많다.

\* 확인 사항  
 ○ 답안지의 해당란에 필요한 내용을 정확히 기입(표기)했는지 확인 하시오.